

إكسبو 2020 EXPO
دبي، الإمارات العربية المتحدة
DUBAI, UNITED ARAB EMIRATES

الدراسات الاجتماعية سلسلة سلامة

أوراق عمل

ثمار الاتحاد - أحب عادات جدي

الإمارات عروس الخليج

الصف : الثاني

المعلمة : دعاء علي محسن





مدينة الشارقة
للخدمات الإنسانية
Sharjah City for Humanitarian Services

المادة: الدراسات الاجتماعية

مدرسة الأمل للصم

التاريخ: / /

الصف:

الاسم:

هيا صغاري نلون ونتعلم

أم
القيوين

عجمان

الفجيرة

الشارقة

رأس
الخيمة

أبو ظبي

دبي

كم إمارة تزيّن
بلادنا الجميلة
يا صغار؟



المادة: الدراسات الاجتماعية

مدرسة الأمل للصحف

التاريخ: / /

الصف:

الاسم:

صل بين الصورة والمفهوم الصحيح



مدرسة

معلم

الكتاتيب

مطوع

المادة: الدراسات الاجتماعية

مدرسة الأمل للصم

التاريخ: / /

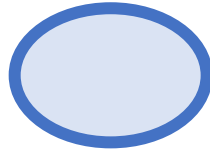
الصف:

الاسم:

السؤال الأول:

ضع علامة (صح) أمام العبارة الصحيحة ، وعلامة (خطأ) أمام العبارة غير الصحيحة :

نظام الكتاتيب مستمر إلي يومنا الحاضر



السؤال الثاني: ألون علم بلادي بألوانه الجميلة



مدينة الشارقة
للخدمات الإنسانية
Sharjah City for Humanitarian Services

مدرسة الأمل للصم

الاسم:

المادة: الدراسات الاجتماعية

الصف:

التاريخ: / /

السؤال الأول:

1- من الذي كان يدرس الطلاب في الماضي



1 - المطوع

2- المعلم

3- الطيار

2- ما اسم المكان الذي يدرسون فيه الطلاب في الماضي



1 - المدرسة

2- الكتاتيب

3- الماضي

3- ما المواد التي كانوا يدرسونها في الماضي

1 - القرآن

2- العلوم

3- الموسيقى

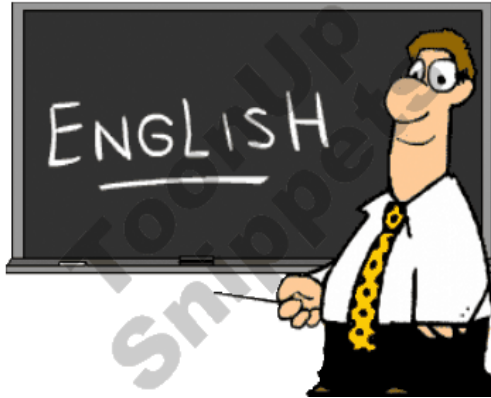


4 - ما اسم المكان الذي يدرسون فيه الطلاب في الحاضر



- 1 - الكتاب
- 2- المدرسة
- 3- السيارة

5- من الذي يدرس الطلاب في الحاضر



- 1 - المطوع
- 2- المعلم
- 3- الطيار

6 - ما المواد التي كانوا يدرسونها في الحاضر



- 1 - القرآن
- 2- العلوم
- 3- اللغة العربية

7- التبدل والتغير من حال إلى حال



- 1 - التطور
- 2- العلوم
- 3- الماضي

8- جمع (المهنة) العمل الذي يتخذه الفرد لكسب العيش



1 - التطور

2- الرسم

3- المهن



9 - الترابط والتماسك بالاتحاد

1- الوحدة

2 - العمل

3- الوظيفة

صل كل مفردة من مفردات الدرس بمعناها الصحيح

والازدهار التقدم والرقي

الوحدة

الترابط والتماسك والاتحاد

التطور

مكان صغير لتعلم الصبيان القراءة والكتابة
وتحفيظ القرآن

المهن

العمل الذي يتخذه الفرد لكسب العيش

الكتاتيب

المادة: الدراسات الاجتماعية

مدرسة الأمل للصم

التاريخ: / /

الصف:

الاسم:

السؤال الأول: الآن يا صغار نحوظ على الإجابة الصحيحة:

مؤسس دولة الإمارات العربية المتحدة هو.....



الشيخ راشد بن سعيد – رحمه الله



الشيخ زايد بن سلطان - رحمه الله

السؤال الثاني: أبحث عن مهن أجدادنا القديما و لونها بالون الأخضر.



المادة: الدراسات الاجتماعية

مدرسة الأمل للصم

التاريخ: / /

الصف:

الاسم:

السؤال الأول:

1- من الوظائف التي عملت بها المرأة في الماضي



1- الخياطة

2- الغزل

3- النول

2- من الوظائف التي عملت بها المرأة في الماضي



1- جمع الحطب

2- صيد السمك

3- الغوص علي اللؤلؤ

3- من الوظائف التي عملت بها المرأة في الماضي



1- طحن الحبوب

2- التلي

3- سعف النخيل

المادة: الدراسات الاجتماعية

مدرسة الأمل للصم

التاريخ: / /

الصف:

الاسم:

السؤال الأول:

1- من الوظائف التي عملت بها المرأة في الماضي



1- الخياطة

2 - الغزل

3- جلب الماء من الآبار

2- من الوظائف التي عملت بها المرأة في الماضي



1- جمع الحطب

2 - تعليم الأبناء القرآن

3- الغوص علي اللؤلؤ

3- من الوظائف التي عملت بها المرأة في الماضي



1- تربية الأبناء

2 - التلي

3- سعف النخيل

المادة: الدراسات الاجتماعية

مدرسة الأمل للصم

التاريخ: / /

الصف:

الاسم:

السؤال الأول :



1- من الوظائف التي عملت بها المرأة في الماضي

1- التلي

2 - الغزل

3- جلب الماء من الآبار



2- من الوظائف التي عملت بها المرأة في الماضي

1- التلي

2 - الغزل

3- رعاية الماشية



2- من الوظائف التي عملت بها المرأة في الماضي

1- التلي

2 - رعاية الماشية

3- صيد الأسماك

السؤال الأول:



1- ما اسم المهنة التي كان يعمل بها أهل البحر في الماضي

1- صناعة السفن

2- رعاية الماشية

3- صيد الأسماك

2- عمل أجدادنا في صناعة



1- دبس التمر

2- رعاية الماشية

3- صيد الأسماك



3- ما اسم المهنة التي كان يعمل بها أهل البحر في الماضي

1- صناعة السفن

2- رعاية الماشية

3- الغوص علي اللؤلؤ

4- عمل أجدادنا في صناعة



1- صناعة الفخار

2- رعاية الماشية

3- صيد الأسماك

المادة: الدراسات الاجتماعية

مدرسة الأمل للصم

التاريخ: / /

الصف:

الاسم:

السؤال الأول:

1- عمل أجدادنا في صناعة



1- صناعة السفن

2 - رعاية الماشية

3- صيد الأسماك

2- عمل أجدادنا في مهنة



1- الرعي

2 - الغوص علي اللؤلؤ

3- صيد الأسماك

3- عمل أجدادنا في



1- زراعة النخيل

2 - رعاية الماشية

3- صيد الأسماك

4- عمل أجدادنا في



1- التلي

2 - التجارة

3- صيد الأسماك

المادة: الدراسات الاجتماعية

مدرسة الأمل للصم

التاريخ: / /

الصف:

الاسم:

السؤال الأول:

1- كَيْفَ كَانَتْ الْمِهْنُ فِي الْمَاضِي؟

أ- شاقَّةً وَمُتْعِبَةً

ب- بَسْهَلَةً وَمُرِيحَةً

ج- تَكْثِيرَةً وَمُتَنَوِّعَةً

2- عَلَامَ تَدُلُّ الْعِبَارَةُ الْآتِيَةُ: «أَدَّتِ الْمَرْأَةُ أَنْوَارًا مُهِمَّةً إِلَى جَانِبِ الرَّجُلِ

أ - المشاركة

ب - السيطرة

ج - الحاجة


3- ما الدَّلِيلُ عَلَى تَطَوُّرِ التَّعْلِيمِ فِي الْحَاضِرِ؟

أ - يَدْرُسُ الطَّلَبَةُ الْقُرْآنَ وَالْحِسَابَ


ب - يَسْتَعْتِدُّمُ الطَّلَبَةُ الْحَاسِبَ الْآلِيَّ

ج - يَدْرُسُ الطَّلَبَةُ عِنْدَ «المَطْوَعِ»


ضع علامة  أمام العبارة الصحيحة، وعلامة  أمام العبارة غير صحيحة




أ. نِظَامُ الكِتَابِيَبِ مُسْتَمِرٌّ إِلَى يَوْمِنَا الحَاضِرِ .




ب. كَانَتِ المَرَأَةُ فِي المَاضِي تَعْمَلُ فِي المِهْنِ اليَدَوِيَّةِ .



ت. المُواطِنُ يُشَارِكُ فِي تَطْوِيرِ الدَّوْلَةِ وَبِنَاءِ العَدِ .



ث. عَمِلَ أَجْدَادُنَا فِي صِنَاعَةِ دِبْسِ التَّمْرِ .



ج. انْتَشَرَتْ مَحَالُّ الخِيَاطَةِ فِي المَاضِي .

المادة: الدراسات الاجتماعية

مدرسة الأمل للصم

التاريخ: / /

الصف:

الاسم:

السؤال الأول:

1- من الدول المجاورة لدولة الامارات...

مصر وقطر

السعودية وعمان



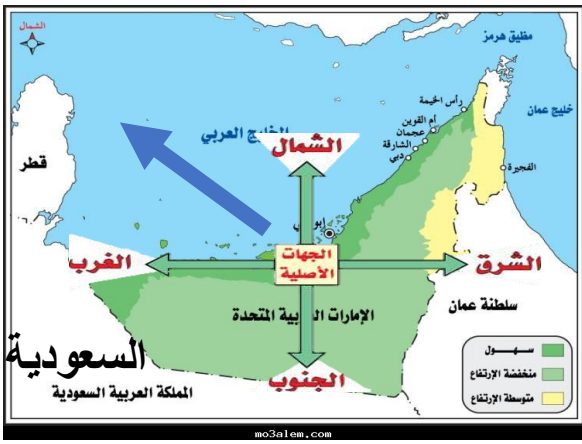
2- ما الدولة التي تشترك مع الإمارات في الحدود الغربية والجنوبية؟

سلطنة عمان

المملكة العربية السعودية



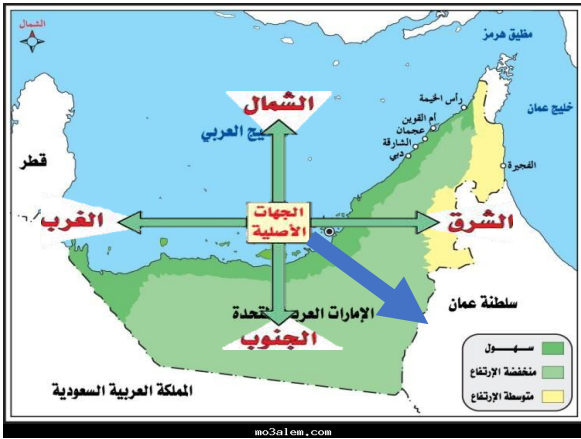
3- تقع دولة قطر بالنسبة إلى دولة الإمارات في ؟



شمال شرق

شمال غرب

4 - تطل دولة الإمارات من جهة الشرق على سلطنة



عمان

قطر

5- مامعني قولنا تقع دولة الإمارات العربية المتحدة في قلب العالم ؟



موقع دولة الإمارات موقع مهم وإستراتيجي

موقع دولة الإمارات قريب من أهم دول

موقع دولة الإمارات أهم موقع في العالم

6 - علي أي خليج تطل دولة الإمارات العربية المتحدة ؟



بحر عمان

الخليج العربي

الخليج العربي وبحر عمان

7 - تطل دولة الإمارات علي مسطحين مائيين هماو.....



الخليج العربي وبحر عمان

الخليج العربي وبحر العرب

8- موقع دولة الامارات بالنسبة لشبه الجزيرة العربية



الشرق

الغرب

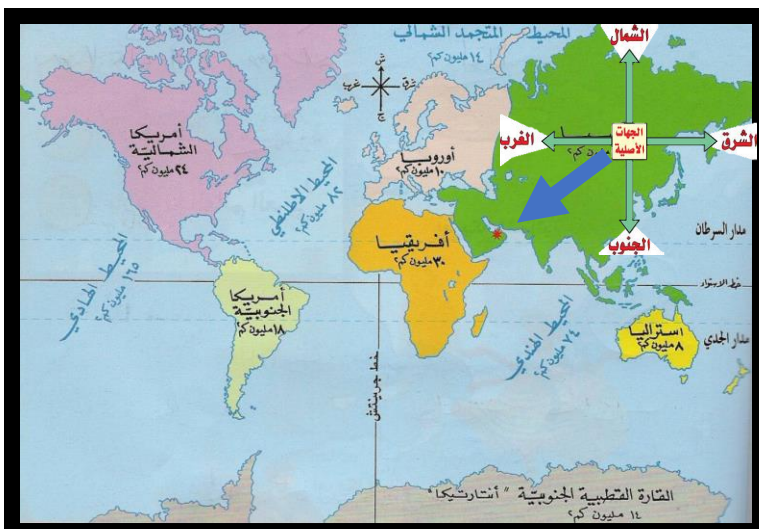
9- موقع دولة الامارات بالنسبة للوطن العربي



الشرق

الغرب

10- موقع دولة الامارات بالنسبة لخريطة العالم



الجنوب شرقي

الجنوب غربي

10- تقع دولة الإمارات في قارة

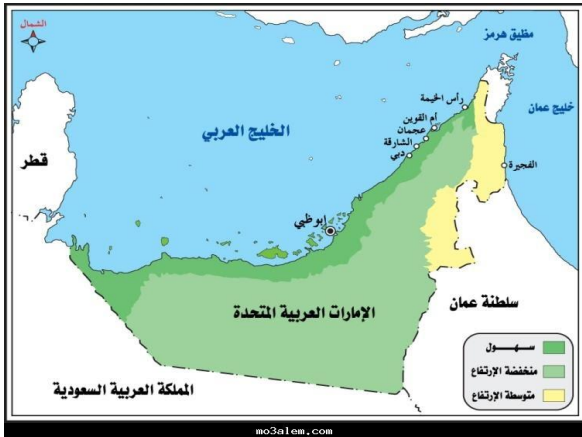


آسيا

أفريقيا

أوروبا

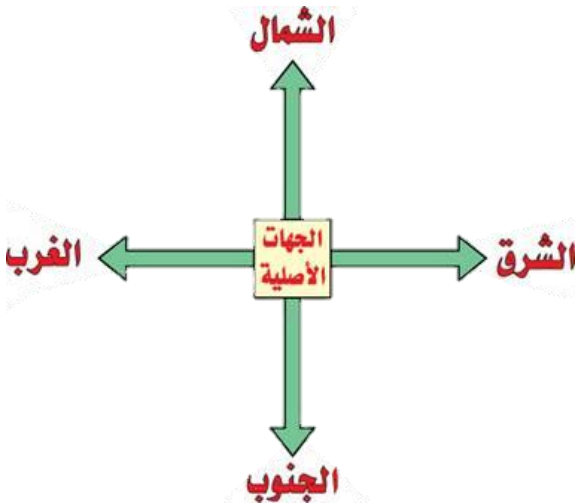
11- تتكون دولة الإمارات العربية المتحدة من سبع إمارات



صح

خطأ

12- الجهات الاصلية اربعة هي شمال وجنوب وشرق وغرب



صح


خطأ

13- عدد الجزر الاماراتية في الخليج العربي

أكثر من 1000 جزيرة

أكثر من 200 جزيرة

14- علام يدل هذا المستطيل في الخريطة




دليل المعلم

مفتاح الخريطة

رسم الخريطة

15- رموز أو ألوان توضع في أسفل الخريطة وتقدم معلومات محددة




مفتاح الخريطة

الخريطة

الحدود

16- اكتب دلالات الرموز في مفتاح الخريطة:



17- علام يدل الخط الأحمر في الخريطة ؟

العواصم

المدن

الحدود السياسية

18- خطوط وهمية حددها الإنسان ، ورسمت لتفصل بين الدول

العواصم

الحدود السياسية

المدن

صل بين المفهوم و التعريف:

الخريطة

خطوط وهمية حددها الإنسان،
ورسمت لتفصل بين الدول

الموقع الجغرافي

رموز أو ألوان توضع في أسفل
الخريطة ، وتقدم معلومات محددة

الحدود السياسية

رسم تخطيطي يوضح سطح الأرض
، أو جزءا من سطح الأرض

الدول المجاورة

المكان الذي تقع فيه دولة أو بيت
أو مدينة أو أي معلم من المعالم

المكان الذي تقع فيه دولة أو مدينة أو بيت أو أي معلم من المعالم



الحدود

الخريطة

الموقع الجغرافي

19- الأبنية التي تشتهر بها وتميزها عن غيرها من المدن ، مثل برج خليفة في مدينة دبي



معالم المدينة

السياحة

20- هي العاصمة وأكبر إمارة بين الإمارات



أبو ظبي

دبي

21- كم عدد الإمارات؟

8

7

9

22- تسمى العين بالمنطقة الشرقية ؟



تقع شرق أبوظبي

تقع شرق أم القيوين

23- بما تسمى مدينة العين ؟

المنطقة الشرقية

المنطقة الشمالية



24- يقع برج خليفة في إمارة ؟

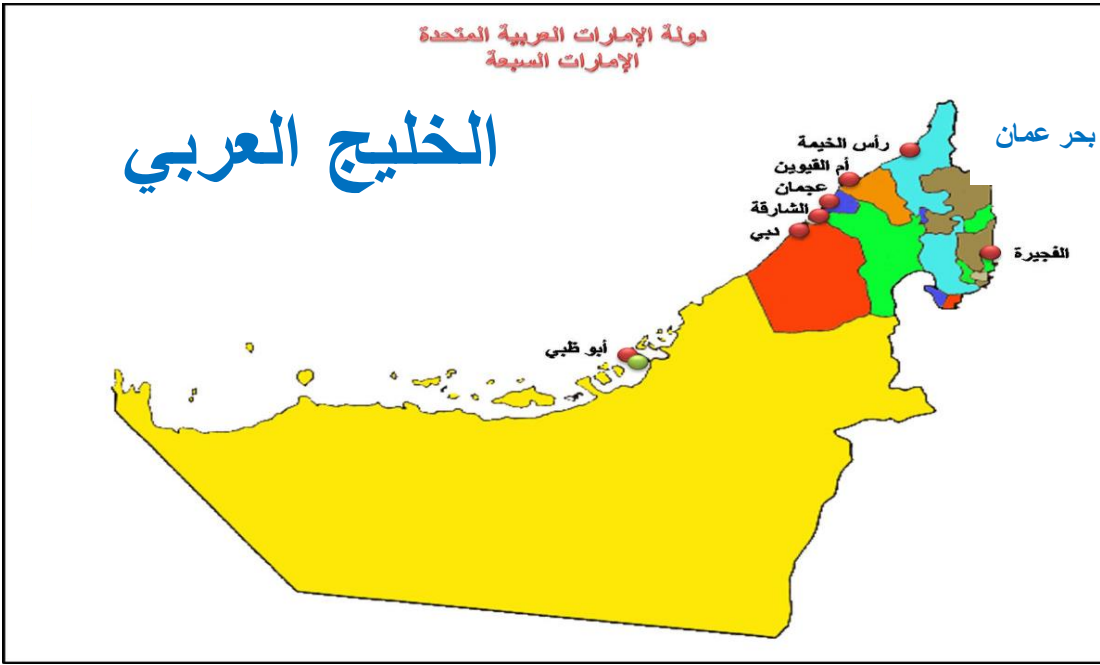
دبي

الشارقة

عجمان



25- ماالإمارة التي لها شواطئ تطل على الخليج العربي وبحر عمان معا ؟

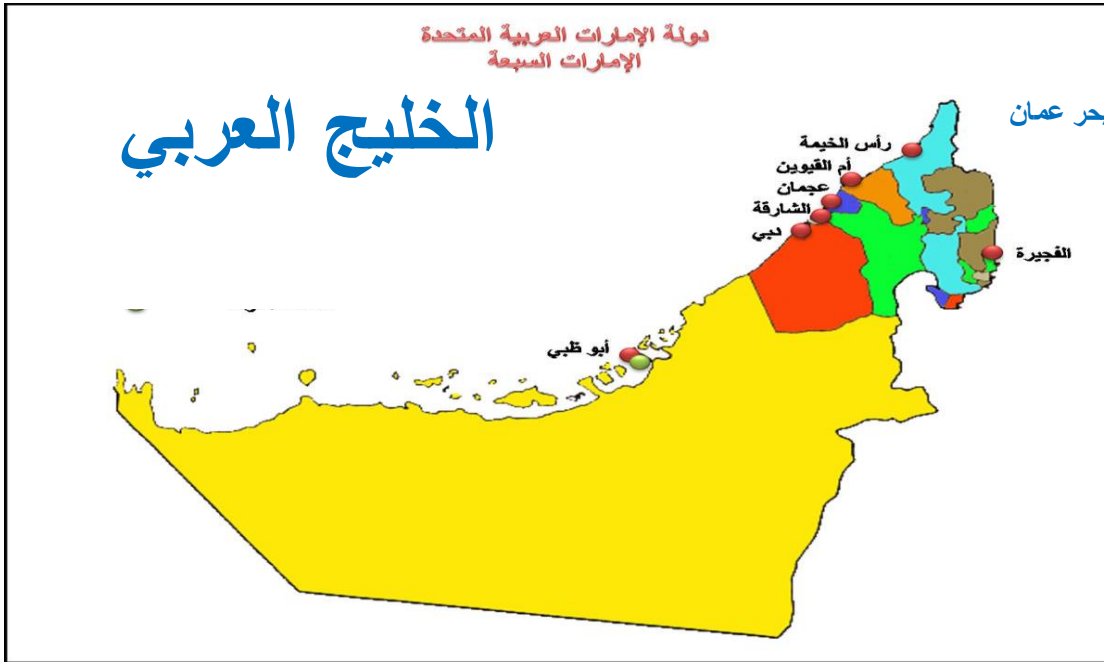


الشارقة

عجمان

دبي

26- ماالإمارة التي تطل علي مسطحين مائيين في دولة الإمارات ؟



الشارقة

عجمان

دبي

27- تسمى الشارقة وعجمان وأم القيوين ورأس الخيمة والفجيرة بالإمارات الشمالية؟



تقع في الشمال

تقع في الشرق

28- بما تمتاز إمارة الشارقة؟

الاقتصاد

التجارة

الثقافة

29- بما تتميز إمارة عجمان؟

بجبالها الصلبة

بموقعها الجغرافي

بمساحتها الواسعة



30- أي الإمارات تعد الأصغر مساحة ؟



الشارقة

عجمان

دبي

31- تسمى الشارقة وعجمان وأم القيوين ورأس الخيمة والفجيرة بالإمارات الشمالية ؟



لأنها تقع في جهة

32- يوجد بها جبل جيس إمارة



أبو ظبي

رأس الخيمة

33- تطل علي بحر عمان



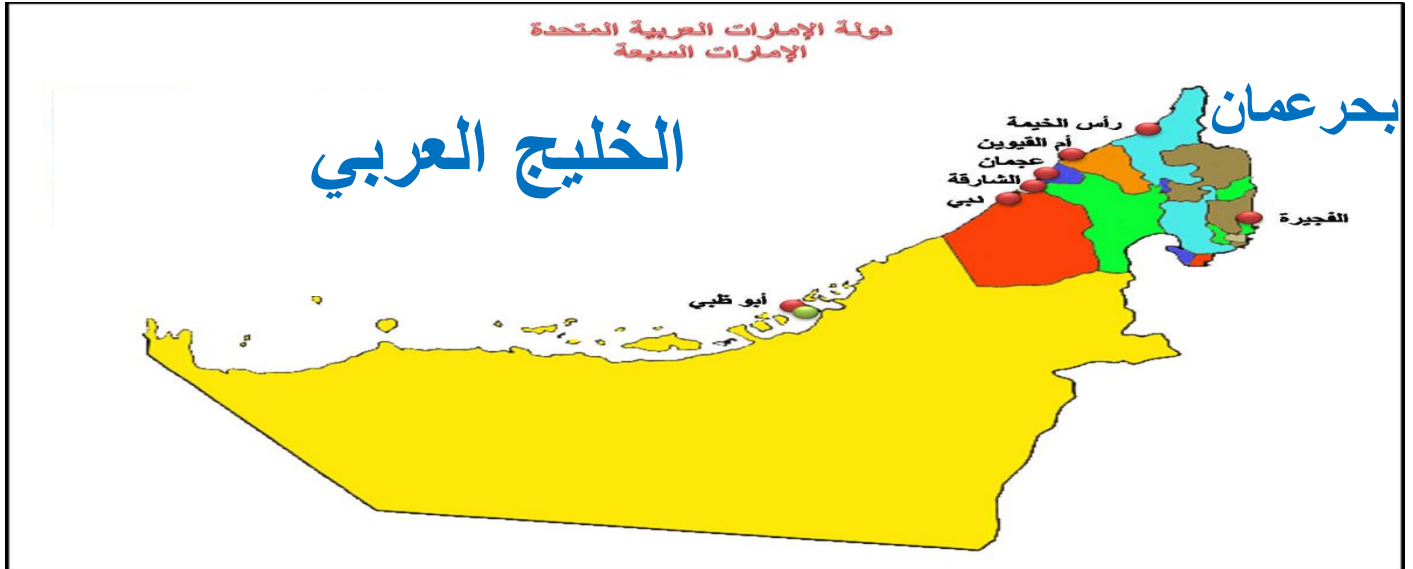
أبو ظبي

رأس الخيمة

الفجيرة

34- علل لما يأتي :

لإمارة الفجيرة أهمية إستراتيجية بالنسبة لدولة الإمارات ؟



تقع علي بحر عمان

تقع علي الخليج العربي

35 - كم عدد الإمارات التي تطل علي الخليج العربي ؟



ست إمارات

سبع إمارات

خمس إمارات

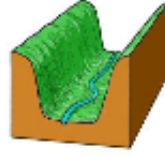
36 - ما الإمارة التي تعد مركز الصناعات النفطية ؟



أبوظبي

رأس الخيمة

الفجيرة



36 - ماهو (وادي حام)؟



طريق تجاري ، يقع في إمارة أم القيوين

طريق تجاري ، يقع في إمارة الفجيرة

طريق تجاري ، يقع في إمارة الشارقة

37- في إي إمارة هذه الصورة ؟



أم القيوين

الشارقة

عجمان

38- أذكر سببين يجعلان جزر الإمارات مناطق ذات أهمية كبيرة ؟



.....-1

.....-2

المادة: الدراسات الاجتماعية

التاريخ: / /

الصف:

الاسم:

صل الصورة بالمفهوم الصحيح



أبو ظبي



دبي



الشارقة



عجمان

المادة: الدراسات الاجتماعية

مدرسة الأمل للصم

التاريخ: / /

الصف:

الاسم:

صل الصورة بالمفهوم الصحيح



أم القيوين



رأس الخيمة



الفجيرة

صل الصورة بالكلمة المناسبة :



أبو ظبي



دبي

الشارقة



عجمان

أم القيوين



رأس الخيمة

الفجيرة



المادة: الدراسات الاجتماعية

مدرسة الأمل للصم

التاريخ: / /

الصف:

الاسم:

السؤال الأول:

1- زهبة العروس تسمى ويدعي إليه المقربون من أهل العريسين



الخطار

المكسار

2- في يوم الزفاف تؤدي رقصات و.....



الرزفة والعيالة

اليولة والعيالة

3- في ليلة الحناء ترتدي العروس

الثوب الأحمر

الثوب الأخضر



المادة: الدراسات الاجتماعية

مدرسة الأمل للصم

التاريخ: / /

الصف:

الاسم:

السؤال الثاني



4 - التزيين من العادات والتقاليد الإماراتية؟

الحناء

طلاء الأظافر

5 - كانت الأعراس قديما تقام؟

في الصالات

في الحي (الفريج)



6 - تحتفل الأسر بليلة النصف من شهر شعبان وتسمى

حق الليلة

قرقيعان

جميع ما ذكر



7- من العادات والتقاليد الإماراتية

الأكلات الشعبية

الألعاب الشعبية

الذهب والفضة



8- الشيء الذي يستخدمونه قديماً كمفرش للطعام ومصنوع من الخوص



المفرش

السرود

9 - تتميز الأكلات الشعبية الإماراتية بتنوعها ، ومنها ما يقدم في المناسبات مثل.....و.....

الهريس والقيمت

المحشي ورق العنب



10- حسن استقبال الضيف وإكرامه ، يعلمني أبي باستمرار آداب

الضيافة

البخل



11- يسمى الضيوف في اللهجة الإماراتية خاطروجمعها



الضيف

المسافر

خاطر

12- من أبرز عادات الضيافة الإماراتية تقديم القهوة أو



المحشي

الفواله

الفول

13-الراسخة، الثابتة، ذات الأساس القوي البرقع من العادات الأصيلة عند جداتنا



الضيافة

السنع

الأصيلة

14- كل ما اعتاد الناس عليه من (فكرة – سلوك طيب ...)
وقاموا بتكراره




السنع


العادات والتقاليد

الأصيلة


ضع علامة ✓ أمام العبارة الصحيحة، وعلامة ✗ أمام العبارة غير صحيحة




1- اعتمد أجدادنا في الماضي علي الطعام المعلب




2- حلت الوجبات السريعة محل الأطباق التراثية



3- تقديم الذبائح للضيف عادة قديمة متجددة



4- كانت الأعراس في الماضي تقام في صالة كبيرة



5- في الماضي كان العرس الإماراتي يستمر أياما متتالية

وضح الفرق بين الأعراس في الماضي ، والأعراس في الوقت الحاضر ، مستفيدا من الصور الآتية :



.....

.....

.....



.....

.....

.....

