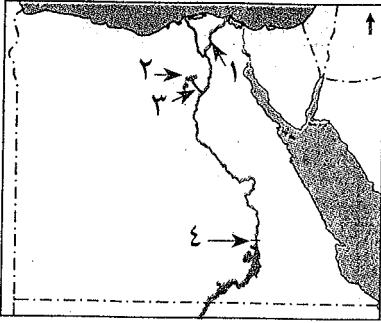


ثالثاً نماذج اختبارات وردت بموقع وزارة التربية والتعليم على الفصل الدراسي الأول

الاختبار الأول

أولاً الجغرافيا



أ أمامك خريطة صماء لمصر ، اكتب ما تدل عليه الأرقام :

- ١ - فرع
٢ - منخفض
٣ - ترعة بحر
٤ - السد

ب ما المقصود بالمفاهيم التالية ؟ :

- ١ - العشوائيات .
٢ - السهل الفيضي .
٣ - الهجرة .

أ اكتب كلمة (صح) أمام العبارة الصحيحة ، وكلمة (خطأ) أمام العبارة غير الصحيحة مع التصويب :

- ١ - أدى تنوع البيئات المصرية إلى تنوع الثروات الطبيعية بها . ()
٢ - تعتمد الزراعة في الساحل الشمالي على مياه النيل . ()
٣ - صناعة الألومنيوم من الصناعات الهندسية . ()
٤ - تضم محافظة الفيوم بعض المعالم السياحية مثل بحيرة قارون . ()

ب ما النتائج المترتبة على ؟ : ١ - هجرة السكان من الريف إلى المدن . ٢ - تجريف التربة الزراعية .

ثانياً التاريخ

أ اختر الإجابة الصحيحة مما بين القوسين :

- ١ - تسبب الدولة العثمانية لمؤسسها
(محمد الفاتح - بايزيد الثاني - سليم الأول - عثمان بن أرطغرل)
٢ - انتصر العثمانيون على المماليك في معركة عام ١٥١٦ م .
(الريدانية - مرج دابق - ديو البحرية - شبراخيت)
٣ - تم عقد اتفاقية العريش عام ١٨٠٠ م بين العثمانيين والقائد
(مينو - نابليون - كليبر - نلسون)
٤ - اندلعت ثورة القاهرة الثانية من حى
(بولاق - الأزهر - عين شمس - المطرية)
٥ - قام السلطان بترحيل أمهر الصناع والحرفيين إلى الآستانة .
(محمد الفاتح - سليم الأول - عثمان بن أرطغرل - سليمان خان)

ب ماذا كان سيحدث إذا ؟ : ١ - لم يقف زعماء الشعب بجانب (محمد على) في بداية حكمه .

٢ - نجحت حملة فريزر في تحقيق أهدافها .

أ بم تفسر ؟ :

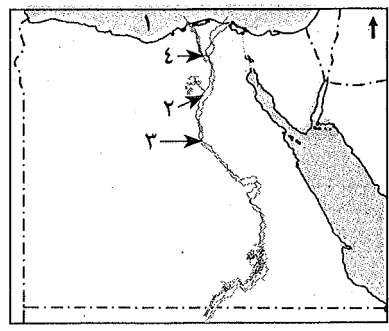
- ١ - قيام ثورة القاهرة الأولى .
٢ - ضعف وانهيار الدولة المملوكية .
٣ - قيام محمد على بمذبحة القلعة .
٤ - تدهور الحياة الفنية أثناء الحكم العثماني .

ب اكتب ما تشير إليه العبارات الآتية :

- ١ - استيلاء دولة على دولة أخرى قهراً .
٢ - فرق عسكرية من هيئات الحكم العثماني من مهامها الدفاع عن البلاد .

الاختبار الثاني

أولاً الجغرافيا



١ أمامك خريطة صماء لمصر ، اكتب ما تدل عليه الأرقام :

- ١ - البحر
- ٢ - ترعة بحر
- ٣ - قناتر
- ٤ - فرع

٢ ما المقصود بالمفاهيم التالية ؟ :

- ١ - ترعة .
- ٢ - الصناعة البسيطة .
- ٣ - مصرف .

٣ بم تفسر ؟ :

١ - ندرة النباتات الطبيعية في البيئة الزراعية .

٢ - تنوع البيئات المصرية .

٣ - اهتمام الدولة بإنشاء وزارة للشؤون البيئية .

٤ اكتب كلمة (صح) أمام العبارة الصحيحة ، وكلمة (خطأ) أمام العبارة غير الصحيحة مع التصويب :

- ١ - يتصل منخفض الفيوم بنهر النيل عن طريق ترعة السلام . ()
- ٢ - تشجع الدولة على تقليل استخدام الأسمدة الكيماوية في تسميد التربة . ()
- ٣ - يراعى عند بناء المصانع اتجاهات الرياح . ()

ثانياً التاريخ

٥ أكمل العبارات التالية بكلمات مناسبة :

- ١ - تألفت هيئات الحكم المحلية في مصر أثناء الحكم العثماني من هيئات .
- ٢ - تدهورت الحالة لمصر بعد اكتشاف طريق رأس الرجاء الصالح .
- ٣ - احتلت الحملة الفرنسية وهي في طريقها إلى مصر جزيرة مالطة و
- ٤ - زرع محمد على أشجار لتربية دودة القز .
- ٥ - استثنى الشيخ من أحكام الإعدام التي صدرت ضد بعض مشايخ الأزهر .

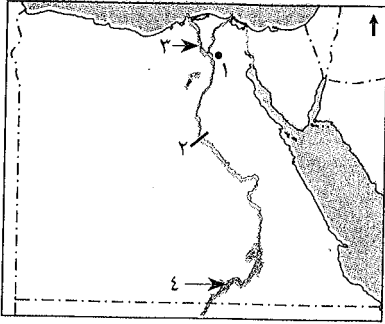
٦ رتب الأحداث التاريخية الآتية من القديم إلى الحديث :

- ١ - نهاية حكم محمد على .
- ٢ - الحملة الفرنسية على مصر .
- ٣ - مذبحه القلعة .
- ٤ - اتفاقية العريش .
- ٥ - موقعة أبي قير البحرية .



الاختبار الثالث

أولاً الجغرافيا



١ أمامك خريطة صماء لمصر ، اكتب ما تدل عليه الأرقام :

- ١ - مدينة
٢ - قناة
٣ - فرع
٤ - بحيرة

ب أمامك مجموعة من عوامل قيام الصناعة ، صنّفها إلى عوامل طبيعية وبشرية :

- ١ - رأس المال .
٢ - الموقع الجغرافي .
٣ - المواد الخام .
٤ - الخبرة الفنية .

١ أكمل العبارات التالية بكلمات مناسبة :

- ١ - يقصد بالأمية عدم معرفة القراءة و
٢ - تعتمد الزراعة في الواحات على مياه الآبار و

ب بم تفسر ؟ :

- ١ - إنشاء الدولة لوزارة البيئة .
٢ - يعد منخفض الفيوم بيئة زراعية رغم وقوعه في الصحراء الغربية .
٣ - كثرة المشكلات الصحية التي تعاني منها البيئة الزراعية .

ثانياً التاريخ

١ اختر الإجابة الصحيحة مما بين القوسين :

- ١ - تولى المماليك حكم مصر عقب انهيار الدولة
(العثمانية - الأيوبية - الفاطمية - الصقوية)
٢ - قام الشاب السوري سليمان الحلبي بقتل القائد الفرنسي
(نابليون - كليبر - مينو - نلسون)
٣ - تم فتح القسطنطينية عام ١٤٥٣م في عهد السلطان
(سليم الأول - محمد الثاني - بايزيد الثاني - عثمان بن أرطغرل)
٤ - أصبحت مصر ولاية عثمانية بعد موقعة عام ١٥١٧م .
(مرج دابق - أبي قير - شبراحيت - الريدانية)
٥ - انفرد محمد علي بحكم مصر وبدأ يتفرغ لتنفيذ سياسته بعد تخلصه من
(الزعامة الشعبية - المماليك - العثمانيين - الفرنسيين)
٦ - أرسل محمد علي حملة لبلاد الحجاز بقيادة ابنه
(إبراهيم - مراد بك - طوسون - عمر مكرم)



ب ماذا كان سيحدث إذا ؟ :

- ١ - لم يتم اكتشاف طريق رأس الرجاء الصالح عام ١٤٩٨ م .
- ٢ - اهتمت الدولة العثمانية بالعلوم العقلية والرياضيات والطبيعة .

١ اكتب كلمة (صح) أمام العبارة الصحيحة ، وكلمة (خطأ) أمام العبارة غير الصحيحة مع التصويب :

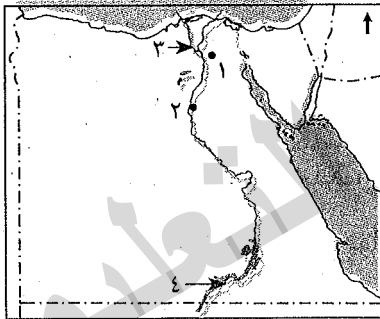
- ١ - ظلت الأوضاع الاقتصادية بمصر أثناء الحكم العثماني في تدهور حتى مجيء الحملة الفرنسية . ()
- ٢ - بعد مذبحة القلعة فر الباقون من المماليك إلى ليبيا . ()
- ٣ - تألفت هيئات الحكم العثماني بمصر من خمس هيئات . ()
- ٤ - يعد إلغاء ديوان القاهرة وإنشاء ديوان آخر من نتائج ثورة القاهرة الثانية . ()

ب بم تفسر ؟ :

- ١ - تعد النتائج العلمية والثقافية للحملة الفرنسية من أبرز وأعظم النتائج .
- ٢ - ازدهار دولة المماليك في مصر والشام .
- ٣ - فشل الحملة الإنجليزية على مصر عام ١٨٠٧ م .

الاختبار الرابع

أولاً المخرافيا



١ أمامك خريطة صماء لمصر ، اكتب ما تدل عليه الأرقام :

- ١ - مدينة
- ٢ - منطقة زراعية فيضية
- ٣ - فرع
- ٤ - بحيرة

ب بم تفسر ؟ :

- ١ - تناقص مساحة الأرض الزراعية في السنوات الأخيرة بمصر .
- ٢ - اهتمام الدولة بالتعليم الفنى الصناعى .

١ اكتب كلمة (صح) أمام العبارة الصحيحة ، وكلمة (خطأ) أمام العبارة غير الصحيحة مع التصويب :

- ١ - أنشأت الدولة المناطق الصناعية لزيادة الصادرات المصرية . ()
- ٢ - استنزاف الموارد الطبيعية من مشكلات البيئة الصناعية . ()
- ٣ - يتركز سكان البيئة الزراعية في المحافظات القريبة من نهر النيل . ()
- ٤ - من أهم الحبوب الغذائية في مصر القمح والقطن والأرز . ()
- ٥ - حفر الخشب والسجاد من الصناعات الكيماوية . ()
- ٦ - رأس المال من العوامل البشرية في قيام الصناعة . ()

ب قارن بين : سكان البيئة الزراعية وسكان البيئة الصناعية من حيث العادات والتقاليد الإيجابية .

العادات الإيجابية لسكان البيئة الزراعية	العادات الإيجابية لسكان البيئة الصناعية



ثانياً التاريخ

اختر الإجابة الصحيحة مما بين القوسين :

١ - كان نظام الحكم العثماني في مصر قائماً على النظام
(الحزبي - الاستبدادي - الديمقراطي - الطبقي)

٢ - نجح الفرنسيون في احتلال الإسكندرية بعد مقاومة حاكمها
(محمد كريم - عمر مكرم - الشيخ السادات - عبد الله الشرقاوي)

٣ - تصارع الإنجليز والعثمانيون والمماليك على السلطة بعد رحيل الحملة الفرنسية على مصر وتناسوا
قوة
(الشعب المصري - محمد علي - السلطان العثماني - علي بك الكبير)

٤ - كان يتم جلب بواسطة التجار ويشترتهم السلاطين والأمراء .
(السناجق - الحرفيين - المماليك - الملتزمين)

ب اكتب كلمة (صح) أمام العبارة الصحيحة ، وكلمة (خطأ) أمام العبارة غير الصحيحة مع التصويب :

- ١ - قام السلطان العثماني محمد الثاني بنقل أمهر الصناعات إلى الأستانة . ()
- ٢ - كانت معركة مرج دابق هي الحد الفاصل لنهاية دولة المماليك . ()
- ٣ - أدخل الخديو إسماعيل محاصيل زراعية جديدة إلى مصر . ()

ب اكتب المفهوم الذي تشير إليه العبارات الآتية :

- ١ - استيلاء دولة على دولة أخرى قهراً .
 - ٢ - تجهيز الجيش وتوجيهه لأهداف حربية .
 - ٣ - حركة شعبية تهدف إلى التغيير الجذري والشامل والمنظم للأوضاع السياسية والاقتصادية في المجتمع .
 - ٤ - غلمان تم جلبهم بواسطة التجار وتولوا حكم مصر عقب انهيار الدولة الأيوبية .
- ب قارن بين :

ثورة القاهرة الأولى وثورة القاهرة الثانية من خلال ما يلي :

ثورة القاهرة الثانية

ثورة القاهرة الأولى

القائد الفرنسي

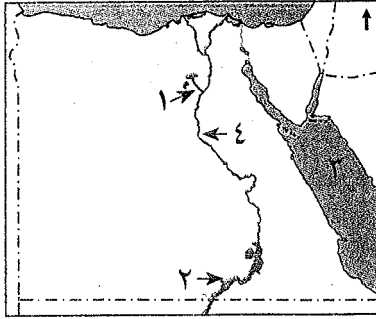
مركز الثورة

النتائج



الاختبار الخامس

أولاً الجغرافيا



أمامك خريطة صماء لمصر ، اكتب ما تدل عليه الأرقام التالية :

- ١ - ترعة
- ٢ - بحيرة
- ٣ - البحر
- ٤ - نهر

ب اكتب المفهوم الجغرافى :

- ١ - البطالة .
- ٢ - البيئة الصناعية .
- ٣ - النشاط الزراعى .

أ اختر الإجابة الصحيحة مما بين القوسين :

- ١ - تمدنا البيئة بالمعادن . (الزراعية - الصناعية - الصحراوية - الساحلية)
- ٢ - من الخصائص الاقتصادية لسكان البيئة الزراعية
- (الأمية - انخفاض مستوى الدخل - التمسك بالأرض - التعاون)
- ٣ - من المواد الخام الحيوانية
- (القطن - الجلود - الألومنيوم - الرخام)
- ٤ - من الصناعات الكيماوية صناعة
- (الحديد والصلب - السيارات - الأدوية - الرخام)

ب ما النتائج المترتبة على ؟ :

- ١ - إلقاء المخلفات السائلة للمصانع فى المجارى المائية .
- ٢ - هجرة سكان الريف إلى البيئة الصناعية .
- ٣ - إزالة الطبقة السطحية الخصبة للتربة .

ثانياً التاريخ

أ صل من المجموعة (أ) بما يناسبها من المجموعة (ب) :

- ١ - المماليك
- ٢ - محمد الفاتح
- ٣ - عمر مكرم
- ٤ - نلسون
- ٥ - الشيخ السادات

- تم تحطيم الأسطول الفرنسى فى موقعة أبى قير البحرية على يد القائد الإنجليزي
- دعم تولية محمد على حكم مصر عام ١٨٠٥م المشايخ وعلماء مصر بزعامته
- تم فتح القسطنطينية عاصمة الدولة البيزنطية عام ١٤٥٣م على يد السلطان
- دبر محمد على فى مارس عام ١٨١١م مكيدة للقضاء على

ب بم تفسر ؟ :

- ١ - إرسال فرنسا حملتها على مصر عام ١٧٩٨م .
- ٢ - قيام ثورة القاهرة الثانية مارس ١٨٠٠م .
- ٣ - ازدهار دولة المماليك وتمتعها بالشراء الاقتصادى .



١ اكتب كلمة (صح) أمام العبارة الصحيحة ، وكلمة (خطأ) أمام العبارة غير الصحيحة مع التصويب :

- ١ - تولى الجنرال مينوق قيادة الحملة بعد مقتل كليبر . ()
 ٢ - ازدهرت الحياة الفنية من عمارة وفنون وآثار في عهد الدولة العثمانية . ()
 ٣ - أصبحت مصر ولاية عثمانية في عام ١٥١٧ م . ()
 ٤ - حكم نابليون على ستة من مشايخ الأزهر بالإعدام ، كان منهم الشيخ السادات . ()

ب ما النتائج المترتبة على ؟

- ١ - الحملة الفرنسية على مصر من الناحية السياسية .
 ٢ - اهتمام محمد على بالتنظيم الإداري لمصر .
 ٣ - سياسة محمد على الخارجية التوسعية .

الاختبار السادس

أولاً الجغرافيا

١ أمامك خريطة صماء لمصر ، اكتب ما تدل عليه الأرقام :

- ١ - البحر
 ٢ - القناطر
 ٣ - منطقة زراعية
 ٤ - الصحراء

ب ماذا يحدث إذا لم ؟

- ١ - يتم إلقاء مخلفات المصانع السائلة في المجارى المائية ونهر النيل .
 ٢ - تنوع البيئات المصرية .

ج اكتب المفهوم الجغرافى : ١ - السد . ٢ - البيئة الصناعية .

١ أكمل العبارات بكلمات مناسبة :

- ١ - تعتمد الزراعة في الساحل الشمالى على مياه الأمطار
 ٢ - ترتفع نسبة في تربة وادى النيل والدلتا .
 ٣ - يعاني سكان البيئة الزراعية من عدة مشكلات منها الأمية و
 ٤ - ظهرت المناطق على أطراف المدن الكبرى نتيجة زيادة الهجرة الداخلية .
 ٥ - تتعدد العوامل البشرية لقيام الصناعة منها النقل والمواصلات ورأس المال و

ب ما النتائج المترتبة على ؟

- ١ - الزواج المبكر للإناث .
 ٢ - انتشار المناطق السياحية في البيئة الزراعية .
 ٣ - توسع الدولة في إنشاء المناطق الصناعية .

ثانياً التاريخ

١ أكمل العبارات بكلمات مناسبة :

- ١ - أصبحت مصر ولاية منذ عام ١٥١٧ م .
 ٢ - كان من مهام الوالى العثمانى إرسال المفروض على البلاد .
 ٣ - دخل الفرنسيون مدينة القاهرة بعد معركة
 ٤ - عقد مينو مع ممثل الجيش الإنجليزي اتفاقية لخروج الجيش من مصر .



ب اكتب ما تشير إليه كل عبارة من العبارات التالية :

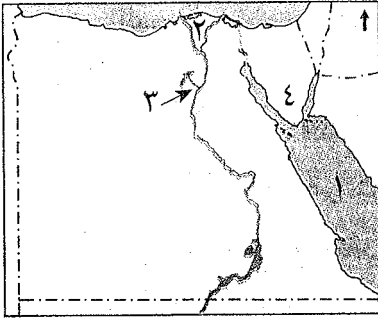
- ١ - حركة شعبية شاملة تهدف إلى التغيير الجذري الشامل والمنظم لأوضاع المجتمع .
- ٢ - إقليم يحكمه أجنبي يتوطنه أو يكتفى باستغلاله عسكرياً أو اقتصادياً .
- ٣ - تجهيز الجيش وتوجيهه لأهداف حربية .

أ ما النتائج المترتبة على ؟ :

- ١ - الحملة الفرنسية على مصر من الناحية السياسية .
 - ٢ - إدخال محمد على أنواعاً جديدة من القطن في مصر .
 - ٣ - ازدهار الزراعة والصناعة في عهد محمد على .
- ب اذكر : سببين من الأسباب المعلنة للحملة الفرنسية على مصر ١٧٩٨ م .

الاختبار السابع

أولاً الجغرافيا



أ أمامك خريطة صماء لمصر ، اكتب ما تدل عليه الأرقام :

- ١ - البحر
- ٢ - منطقة زراعية
- ٣ - ترعة
- ٤ - شبه جزيرة

ب « تعاني البيئة الصناعية في مصر العديد من المشكلات »

ففي ضوء هذه العبارة أجب :

- ١ - ما أهم مشكلات البيئة الصناعية ؟
- ٢ - ما جهود الدولة لحل هذه المشكلات ؟

أ صل من المجموعة (أ) بما يناسبها من المجموعة (ب) :

أ

- انتقال الأفراد من مكان إلى آخر .
- صناعات تعتمد على الآلات الحديثة ويقبل فيها الاعتماد على الأيدي العاملة .
- سهل يتكون نتيجة التربة الطينية التي ينقلها نهر النيل من منابعه .
- إزالة الطبقة السطحية من تربة الأراضي الزراعية .

ب

- سهل فيضي
- هجرة
- تجريف التربة
- صناعات حديثة
- بيئة صناعية

ب بم تفسر ؟ :

- ١ - إقامة الدولة عددًا من مشروعات الري على مجرى نهر النيل .
- ٢ - تنوع البيئات المصرية .
- ٣ - أهمية رأس المال في البيئة الصناعية .

ثانياً التاريخ

صحح العبارات التالية :

- ١ - قام محمد على بنفى عمر مكرم إلى الإسكندرية .
- ٢ - تسبب الدولة المملوكية إلى مؤسسها عثمان بن أرطغرل .
- ٣ - عقد كليبر مع الإنجليز معاهدة العريش ١٨٠٠ م .
- ٤ - تولى المماليك حكم مصر وبلاد الشام عقب انهيار الدولة الفاطمية .



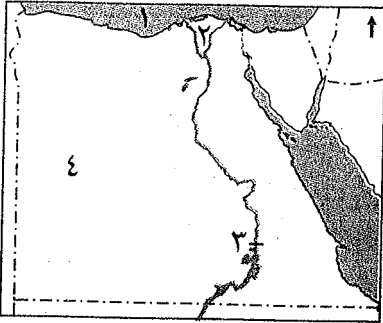
أكمل العبارات الآتية بكلمات مناسبة :

- ١ - استثنى الشيخ من أحكام الإعدام التي صدرت ضد بعض مشايخ الأزهر .
 - ٢ - جاء الكفاح والجهاد ضد الحملة الإنجليزية عام ١٨٠٧م على يد أبناء مدينة
- ب - بم تفسر ؟ :

- ١ - تخلص محمد علي من المماليك في مذبحه القلعة عام ١٨١١م .
- ٢ - قيام ثورة القاهرة الثانية .
- ٣ - تطلع المماليك إلى الاستئثار بحكم مصر بعد جلاء الحملة الفرنسية .

الاختبار الثامن

أولاً الجغرافيا



أ - أمامك خريطة صماء لمصر ، اكتب ما تدل عليه الأرقام :

- ١ - البحر
- ٢ - منطقة زراعية
- ٣ - السد
- ٤ - الصحراء

ب - أكمل العبارات التالية بكلمات مناسبة :

- ١ - تسهم الصناعة في الدخل القومي المصري .
- ٢ - طلب السكان المحليين للمنتجات الصناعية المصرية يقصد به السوق
- ٣ - يزدهر النشاط في البيئة الزراعية ومنها منطقة آثار تل بسطة بالشرقية .
- ٤ - تتميز البيئة الزراعية بـ سطحها في الوادي والدلتا .
- ٥ - يجب بناء المصانع بعيداً عن المناطق
- ٦ - يعاني سكان البيئة الزراعية من بعض المشكلات مثل : الأمية و

ج - صوب ما تحته خط :

- ١ - مصادر الطاقة من العوامل البشرية في قيام الصناعة .
- ٢ - يتجه عدد كبير من المهاجرين نحو المناطق الزراعية .
- ٣ - تتميز تربة الوادي والدلتا بأنها تربة رملية .
- ٤ - تنتشر المناطق الحضرية على أطراف المدن الصناعية نتيجة الهجرة .
- ٥ - تعد صناعة الجلود من الصناعات الحرفية .

ب - بم تفسر ؟ :

- ١ - اهتمام الدولة بالتوسع في إنشاء المزارع السمكية .
- ٢ - أهمية وسائل النقل في البيئة الصناعية .
- ٣ - تلوث الماء في المجارى المائية في نهر النيل .

ثانياً التاريخ

أ - اختر الإجابة الصحيحة مما بين القوسين :

- ١ - اهتم محمد علي بإرسال البعثات إلى الخارج وخاصة إلى
(إنجلترا - فرنسا - إسبانيا - إيطاليا)
- ٢ - تحطم الأسطول الفرنسي في موقعة أبي قير البحرية على يد قائد الأسطول الإنجليزي
(كليبر - بونابرت - مينو - نلسون)



٢ - تخلص محمد علي من فى مذبحه القلعة .

(الزعامة الشعبية - الإنجليز - المماليك - الجنود الألبان)

٤ - أصدر السلطان العثمانى فرماناً بضم حكم لمحمد على سنة ١٨٤١ م .

(السودان - الحجاز - اليونان - ليبيا)

ب بم تفسر ؟ :

١ - اهتمام محمد على بالجيش .

٢ - تكتمت الحكومة الفرنسية أخبار حملتها على مصر عام ١٧٩٨ م .

ح ماذا كان سيحدث إذا : لم تفقد فرنسا مستعمراتها فى حروبها مع إنجلترا ؟

أ اكتب المفهوم الذى تشير إليه العبارات الآتية :

١ - طريق بحرى يدور حول قارة إفريقيا من جهتي الغرب والجنوب .

٢ - نائب السلطان العثمانى فى الولاية ومقره القلعة .

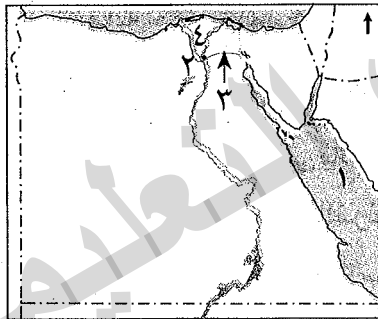
٣ - استيلاء دولة على دولة أخرى قهراً .

٤ - حركة شعبية شاملة تهدف إلى التغيير الجذرى والشامل للنظم السياسية والأوضاع الاقتصادية والاجتماعية فى مصر .

ب برهن على صحة العبارات الآتية تاريخياً :

١ - كان موقف الفرنسيين فى ثورة القاهرة الأولى الشدة والعنف ضد الثوار .

٢ - تصدى كليبر للثوار فى ثورة القاهرة الثانية .



الاختبار التاسع

أولاً الجغرافيا

أ امامك خريطة صماء لمصر ، اكتب ما تدل عليه الأرقام التالية :

١ - البحر ٢ - القناطر

٣ - ترعة ٤ - منطقة زراعية

ب اكتب كلمة (صح) امام العبارة الصحيحة ، وكلمة (خطأ) امام العبارة غير الصحيحة مع التصويب :

١ - يتركز سكان البيئة الزراعية فى المحافظات القريبة من نهر النيل . ()

٢ - الحديد والمنجنيز من المواد الخام المعدنية اللازمة للزراعة . ()

٣ - حفر الخشب والفخار من الصناعات اليدوية . ()

ح ماذا يحدث إذا : توسعت الدولة فى إنشاء المزارع ؟

أ أكمل العبارات التالية بكلمات مناسبة :

١ - تعتمد الزراعة فى على المياه الجوفية .

٢ - ترتفع نسبة فى تربة وادى النيل والدلتا .

٣ - قامت الدولة بحفر ترعة لرى أراضى غرب الدلتا .

٤ - تواجه الصناعة فى مصر عدة مشكلات منها التكلفة الزائدة لمصادر

٥ - توفر البيئة الساحلية الثروات



ب ما النتائج المترتبة على ؟

- ١ - الزواج المبكر للإناث .
- ٢ - انتشار المناطق السياحية في البيئة الزراعية .
- ٣ - توسع الدولة في إنشاء المناطق الصناعية .

ثانياً التاريخ

أ اختر الإجابة الصحيحة مما بين القوسين :

- ١ - تولى القيادة العامة لحملة الحجاز عام ١٨١١ م .
(محمد علي - إبراهيم باشا - طوسون باشا - خورشيد باشا)
- ٢ - بعد ثورة القاهرة الأولى ألغى نابليون ديوان
(الإسكندرية - القاهرة - النواب - الجيزة)
- ٣ - اكتشاف حجر رشيد من أبرز النتائج
(العلمية - الحربية - السياسية - الاجتماعية)
- ٤ - فتح العثمانيون مدينة القسطنطينية عاصمة الدولة عام ١٤٥٣ م .
(التركية - الرومانية - الإنجليزية - البيزنطية)
- ٥ - نجح الأسطول الإنجليزي في هزيمة الأسطول الفرنسي في معركة عام ١٧٩٨ م .
(أبي قير البحرية - ديو البحرية - أبي قير البرية - إمبابية)

ب رتب الأحداث التاريخية من الأقدم إلى الأحدث :

- (نهاية حكم محمد علي - ثورة القاهرة الأولى - الحملة الفرنسية على مصر - موقعة أبي قير البحرية)

أ أكمل العبارات التالية بكلمات مناسبة :

- ١ - أعاد محمد علي بلاد الشام والجزيرة العربية إلى سيطرة السلطان العثماني بعد معاهدة
- ٢ - أبحرت الحملة الفرنسية من ميناء طولون واستولت على جزيرة عام ١٧٩٨ م .
- ٣ - أنشأ محمد علي ترسانة لصناعة السفن بـ
- ٤ - قاوم أهالي الحملة الفرنسية بقيادة محمد كريم .

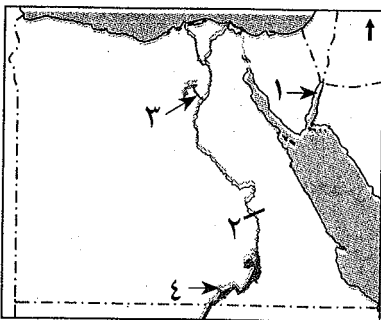
ب ماذا كان سيحدث إذا ؟

- ١ - رحبت الحكومة الإنجليزية بعقد اتفاقية العريش ١٨٠٠ م .
- ٢ - اهتم العثمانيون بالتعليم والثقافة .
- ٣ - نجحت حملة فريزر على مصر ١٨٠٧ م .

الاختبار العاشر

أولاً الجغرافيا

أ أمامك خريطة صماء لمصر ، اكتب ما تدل عليه الأرقام :



- ١ - خليج
- ٢ - قناطر
- ٣ - ترعة
- ٤ - بحيرة



ب ما المقصود بـ ؟ :

- ١ - بيئة صناعية . ٢ - البطالة . ٣ - القناطر . ٤ - تجريف التربة .

أ أكمل العبارات التالية بكلمات مناسبة :

- ١ - التعاون واحترام الكبير من الخصائص لسكان البيئة الزراعية .
-
- ٢ - يعد الرخام من المواد الخام اللازمة للصناعة .
-
- ٣ - يترتب على الهجرة الداخلية ارتفاع نسبة بالمدن .
-
- ٤ - يتصل منخفض بنهر النيل عن طريق ترعة بحر يوسف .

ب ما النتائج المترتبة على : الهجرة من الريف إلى المدن ؟

ثانياً التاريخ

أ أكمل العبارات التالية بكلمات مناسبة :

- ١ - أنشأ محمد علي المطبعة الأميرية في
-
- ٢ - حدثت مواجهة بين الفرنسيين والمماليك في شبراخيت و
-
- ٣ - تحطم الأسطول في موقعة أبي قير البحرية عام ١٧٩٨ م .
-
- ٤ - عزل محمد علي الشيخ عبد الله الشرقاوى من

ب بم تفسر ؟ :

- ١ - ضعف وانهيار دولة المماليك . ٢ - ازدهار التجارة في عهد محمد علي .

ح قارن بين : ثورة القاهرة الأولى وثورة القاهرة الثانية من حيث (قائلها - أسبابها - نتائجها) .

أ إلى من تنسب الأعمال الآتية ؟ :

- ١ - نجح في إقامة إمبراطورية امتدت إلى مديريةية خط الاستواء .
-
- ٢ - قاد الحملة الإنجليزية على مصر عام ١٨٠٧ م .

ب اكتب كلمة (صح) أمام العبارة الصحيحة ، وكلمة (خطأ) أمام العبارة غير الصحيحة مع التصويب :

- ١ - كان نظام الحكم العثماني عادلاً . ()
-
- ٢ - أعطى سعيد باشا امتياز حضر قنات السويس للمهندس البريطاني ديلسيبيس . ()
-
- ٣ - تزعم عمر مكرم المقاومة المصرية ضد الحملة الفرنسية في الإسكندرية . ()
-
- ٤ - فر المماليك الباقون من مذبحه القلعة إلى السودان . ()

ح « كانت مصر وما تزال الصخرة التي تتحطم عليها آمال الطفلة وأحلام الطامعين »

في ضوء العبارة السابقة ، أجب عما يأتي :

- ١ - ما النتائج المترتبة على سياسة محمد علي الخارجية التوسعية ؟
-
- ٢ - برهن على فشل الحملة الفرنسية من الوجهة الحربية .



يجيب عنها
التلميذ

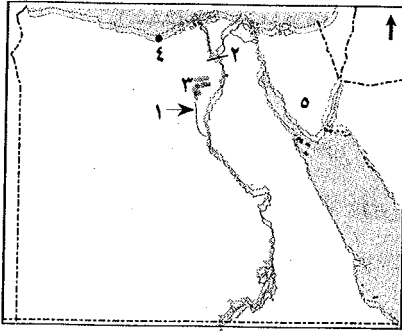
امتحانات بعض الإدارات التعليمية بالمحافظات المختلفة لعام ٢٠١٩م

رابعاً

(*) تم التعديل وفقاً لتعديلات كتاب الوزارة ٢٠٢٠م

محافظة القاهرة إدارة الزيتون التعليمية

أولاً : الجغرافيا



أ. أمامك خريطة صماء لمصر ، اكتب مدلول الأرقام الموقعة عليها :

- ١- ترعة
٢- قناطر
٣- منخفض
٤- محافظة
٥- شبه جزيرة

ب. اكتب المصطلح المناسب لكل من :

- ١- المناطق التي بُنيت بدون تخطيط وعادة ما تظهر على أطراف المدن .
٢- تحول المادة الخام إلى سلع ومنتجات لسد احتياجات السكان .
٣- إزالة الطبقة السطحية من التربة مما يؤدي إلى تدهورها .

أ. اكتب كلمة (صح) أمام العبارة الصحيحة ، وكلمة (خطأ) أمام العبارة غير الصحيحة :

- ١- توجد آثار تل بسطة بمحافظة الشرقية .
٢- تم تهجير سكان النوبة بعد بناء السد العالي .
٣- من المشكلات التي تواجه الصناعة في مصر التهرب الجمركي .
٤- رأس المال من العوامل الطبيعية لقيام الصناعة .
٥- تحتاج الصناعات الحديثة إلى أيدٍ عاملة كثيرة .

ب. بم تفسر ؟

- ١- تنوع البيئات المصرية .
٢- اهتمام الدولة بإنشاء المناطق الصناعية .

ثانياً : التاريخ

أ. أكمل العبارات الآتية بكلمات مناسبة :

- ١- تم فتح القسطنطينية في عهد السلطان عام ١٤٥٢م .
٢- أصبحت مصر ولاية عثمانية بعد معركة
٣- من الأسباب المعلنة للحملة الفرنسية تأديب وتحطيم قواتهم .
٤- أنشأ محمد علي ترسانة لبناء السفن في مدينة
٥- خرجت ثورة القاهرة الثانية من حي حيث توجد مخازن التموين الفرنسي .
٦- ظهرت بسالة أهالي رشيد في حملة عام ١٨٠٧م .

ب. رتب الأحداث التالية من القديم للحديث :

- (تولية محمد علي حكم مصر - قيادة مينو للحملة الفرنسية - مذبحه القلعة - رحيل الفرنسيين عن مصر)



اختر الإجابة الصحيحة مما بين القوسين :

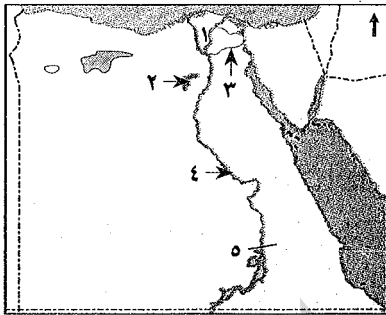
- ١ - تولى المماليك الحكم عقب انهيار الدولة (الفاطمية - الأيوبية - العباسية - الأموية)
- ٢ - يتكون الديوان من كبار (ضباط الحامية - الموظفين - العلماء والأعيان - كل ما سبق)
- ٣ - أبحرت الحملة الفرنسية من ميناء (نويبع - السويس - طولون - دمياط)
- ٤ - تحطم الأسطول الفرنسي فى موقعة (ديو - عكا - أبى قير البحرية - شبراخيت)
- ٥ - أقام محمد على معاملى فى الوجه القبلى لإنتاج (الحديد - السكر - الملابس - السفن)

ب ما النتائج المترتبة على ؟

- ١ - الحملة الفرنسية على مصر من الناحية العلمية والثقافية .
- ٢ - سياسة محمد على التوسعية .

٢ محافظة الجيزة إدارة الهرم التعليمية

أولاً : الجغرافيا



أمامك خريطة صماء لمصر ، اكتب مدلول الأرقام الموقعة عليها :

- ١ - منطقة زراعية ٢ - منخفض
- ٢ - ترعة ٤ - القناطر
- ٥ - السد

ب بم تفسر ؟

- ١ - تنوع البيئات المصرية .
- ٢ - ندرة النبات الطبيعى فى البيئة الزراعية .
- ٣ - أهمية رأس المال للصناعة .

اختر الإجابة الصحيحة مما بين القوسين :

- ١ - توجد الزراعة المطرية فى (الوادى - الدلتا - الساحل الشمالى - الواحات)
- ٢ - من الخصائص الاقتصادية لسكان البيئة الزراعية (الأمية - البطالة - التعاون - الزواج المبكر)
- ٣ - من العوامل الطبيعية لقيام الصناعة (المناخ - رأس المال - السوق - الأيدى العاملة)
- ٤ - توفر البيئة الزراعية للبيئة الصناعية (الآلات - المواد الخام - الأسمدة - الأدوات)
- ٥ - من الصناعات البسيطة (الفخار - السجاد اليدوى - حلج القطن - قمر الخشب)

ب اذكر رأيك فى : ١ - البناء على الأرض الزراعية . ٢ - اهتمام الدولة بالتعليم الفنى والصناعى .

ثانياً : التاريخ

١ لمن تنسب الأعمال الآتية ؟

- ١ - قام بترحيل أمهر الصناع والحرفيين إلى الآستانة . (.....)
- ٢ - حاكم مدينة الإسكندرية وزعيم مقاومة الحملة الفرنسية بها . (.....)



٣ - قائد الحملة الإنجليزية إلى مصر عام ١٨٠٧ م . (.....)

٤ - اهتم بالتعليم وإنشاء المدارس التجهيزية والعليا . (.....)

ب قارن بين : ثورة القاهرة الأولى والثانية ، من حيث مركزها وأسبابها .

وجه المقارنة	ثورة القاهرة الأولى	ثورة القاهرة الثانية
مركزها
أسبابها

١ اكتب كلمة (صح) أمام العبارة الصحيحة ، وكلمة (خطأ) أمام العبارة غير الصحيحة :

١ - تدهورت أحوال المماليك بعد اكتشاف طريق رأس الرجاء الصالح . ()

٢ - تألفت هيئات الحكم العثماني في مصر من ثلاث قوى . ()

٣ - فشلت حملة نابليون على بلاد الشام . ()

٤ - تخلص محمد علي من المماليك في مذبحه القلعة . ()

ب ما النتائج المترتبة على ؟

١ - الحكم العثماني لمصر .

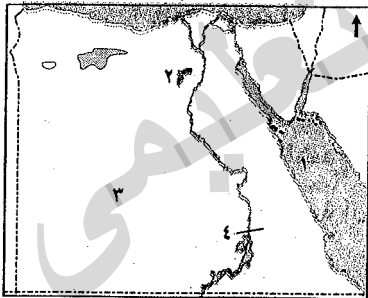
٢ - معركة أبي قير البحرية .

٣ - سياسة محمد علي الخارجية التوسعية .

إدارة غرب التعليمية

٣ محافظة الإسكندرية

أولاً : الجغرافيا



١ أمامك خريطة صماء لمصر ، اكتب مدلول الأرقام الموقعة عليها :

١ - البحر ٢ - منخفض ٣ - الصحراء ٤ - السد

ب ما النتائج المترتبة على ؟

١ - اتصال منخفض الفيوم بنهر النيل عن طريق بحر يوسف .

٢ - توافر رأس المال لقيام الصناعة .

١ صوب ما تحته خط :

١ - تعتمد الزراعة في الساحل الشمالي على المياه الجوفية .

٢ - يعد البنجر من محاصيل المنسوجات .

٣ - من أنواع الصناعات الحرفية بالبيئة الزراعية صناعة السيارات .

٤ - السوق الخارجية يقصد بها طلب السكان المحليين للمنتجات الصناعية .

ب بم تفسر ؟

١ - تراجع المساحات الزراعية في مصر .

٢ - يجب مراعاة اتجاه الرياح عند بناء المصانع .



ثانياً : التاريخ

١ اكتب كلمة (صواب) أمام العبارة الصحيحة، وكلمة (خطأ) أمام العبارة غير الصحيحة :

- ١ - انتهت موقعة مرج دابق بامتداد النفوذ العثماني في بلاد الشام . ()
- ٢ - اهتم العثمانيون بالعلوم العقلية . ()
- ٣ - من الأسباب الحقيقية للحملة الفرنسية تهديد مصالح إنجلترا في الهند . ()
- ٤ - تم نفي السيد عمر مكرم إلى مدينة دمياط . ()

ب ماذا كان سيحدث إذا لم ؟:

- ١ - يكتشف البرتغاليون طريق رأس الرجاء الصالح .
- ٢ - يهتم محمد علي بمشروعات الري .

١ إلى من تنسب الأعمال الآتية ؟:

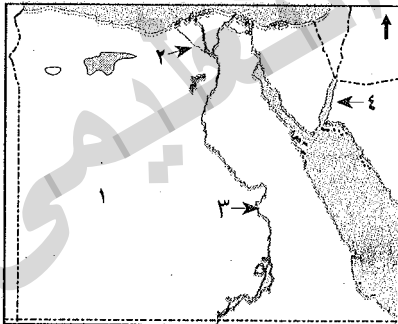
- ١ - قام بترحيل أمهر الصناع والحرفيين إلى الآستانة . ()
- ٢ - دمر حى بولاق بالمدافع وفرض الضرائب على المصريين . ()
- ٣ - أعطى امتياز حفر قناة السويس للمهندس الفرنسي ديليسيس . ()

ب برهن على صحة العبارات الآتية :

- ١ - للحملة الفرنسية على مصر نتائج علمية مهمة .
- ٢ - انتصرت الإرادة الشعبية المصرية انتصاراً رائعاً عام ١٨٠٥م .

٤ محافظة القليوبية إدارة طوخ التعليمية

أولاً : الجغرافيا



١ أمامك خريطة صماء لمصر ، اكتب مدلول الأرقام الموقعة عليها :

- ١ - الصحراء
- ٢ - ترعة غرب الدلتا
- ٣ - قناطر
- ٤ - خليج

ب ماذا يحدث إذا ؟:

- ١ - تم إلقاء المخلفات السائلة للمصانع في المجارى المائية ونهر النيل .
- ٢ - لم تتنوع البيئات المصرية .

١ أكمل العبارات الآتية بما يناسبها من كلمات :

- ١ - تعتمد الزراعة في على مياه الأمطار الشتوية .
- ٢ - من العوامل البشرية لقيام الصناعة
- ٣ - ترتفع نسبة في تربة وادى النيل والدلتا .
- ٤ - صناعة الأسمدة والأدوية من الصناعات

ب ما العلاقة بين : الهجرة من الريف إلى المدينة وزيادة التلوث البيئى ؟



ثانياً : التاريخ

١ اكتب كلمة (صح) أمام العبارة الصحيحة ، وكلمة (خطأ) أمام العبارة غير الصحيحة :

- () ١ - فر المماليك إلى الصعيد بعد هزيمتهم في معركتي شبراخيت وإمبابة .
() ٢ - تقلصت مشروعات محمد علي الإصلاحية نتيجة معاهدة الجلاء عام ١٨٤٠ م .
() ٣ - حُرم المصريون من خيارات بلادهم في ظل الحكم العثماني .
() ٤ - ضعفت الروح المعنوية للجنود الفرنسيين بعد معركة أبي قير البحرية .
() ٥ - اندلعت ثورة القاهرة الأولى في أكتوبر ١٧٩٨ م .

ب ما النتائج المترتبة على ؟:

- ١ - الحملة الفرنسية على مصر من الناحية السياسية .
٢ - إدخال محمد علي أنواعاً جديدة من القطن في مصر .
٣ - ازدهار الصناعة في مصر في عهد محمد علي .

١ ب م تفسر ؟:

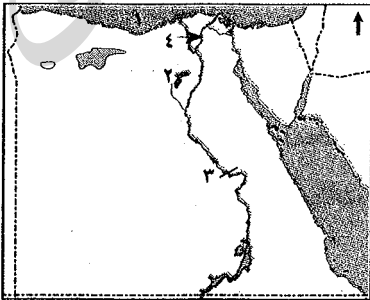
- ١ - فشل الحملة الفرنسية على الشام .
٢ - ثورة القاهرة الثانية .
٣ - استثناء الشيخ السادات من الحكم بالإعدام بعد ثورة القاهرة الأولى .
٤ - اجتماع زعماء الشعب والعلماء بدار المحكمة عام ١٧٩٨ م .

ب إلى من تنسب الأعمال الآتية ؟:

- ١ - قام بقتل القائد الفرنسي كليبر .
٢ - أقام إمبراطورية مصرية امتدت إلى مديرية خط الاستواء .
٣ - قام بفتح القسطنطينية عاصمة الدولة البيزنطية عام ١٤٥٣ م .

٥ محافظة المنوفية إدارة بركة السبع التعليمية

أولاً : الجغرافيا



١ أمامك خريطة صماء لمصر ، اكتب مدلول الأرقام الموقعة عليها :

- ١ - البحر
٢ - ترعة
٣ - قناطر
٤ - فرع

ب ما المقصود بكل من ؟:

- ١ - السهل الفيضي .
٢ - الاستنزاف .

١ أكمل العبارات الآتية بكلمات مناسبة :

- ★ ١ - تظهر على أطراف المدن وهي بنيت دون تخطيط .
٢ - لزيادة الإنتاج السمكي تم إنشاء
٣ - الصابون من الصناعات بينما الحديد والصلب من الصناعات
٤ - التكلفة الزائدة لمصادر الطاقة من مشكلات



ب بم تفسر ؟:

- ١ - تعاني البيئة الزراعية من مشكلات صرف زراعى .
- ٢ - ارتفاع معدل الزيادة السكانية الطبيعية فى البيئة الزراعية .
- ٣ - الاهتمام بتطوير الصناعة وتعديل خطوط الإنتاج .

ثانياً : التاريخ

ا اكتب كلمة (صواب) أمام العبارة الصحيحة، وكلمة (خطأ) أمام العبارة غير الصحيحة :

- ١ - حرم المصريون من خيارات بلادهم فى ظل الحكم العثمانى . ()
- ٢ - أبحرت الحملة الفرنسية من ميناء طولون بفرنسا إلى جزيرة كريت . ()
- ٣ - تولى سعيد باشا حكم مصر ١٨٦٣ م . ()
- ٤ - أرسلت إنجلترا حملتها على مصر بقيادة فريزر عام ١٨٠٧ م . ()

ب ما النتائج المترتبة على ؟ :

- ١ - ارتباط مصر بنظم الإدارة العثمانية منذ أن وقعت تحت النفوذ العثمانى .
- ٢ - فرض إنجلترا وفرنسا معاهدة لندن ١٨٤٠ م على محمد على .

ا اختر الإجابة الصحيحة مما بين القوسين :

- ١ - تولى المماليك حكم مصر والشام عقب انهيار الدولة
(العثمانية - الأيوبية - الفاطمية - الفرنسية)
- ٢ - تم إلغاء ديوان القاهرة بعد
(أبى قير البحرية - اتفاقية العريش - ثورة القاهرة الأولى - مذبحة المماليك)
- ٣ - تصارع الإنجليز والمماليك والعثمانيون على حكم مصر وتنافسوا قوة
(محمد على - السلطان العثمانى - الشعب المصرى - سعيد باشا)

ب « قامت فرنسا بإعداد حملة على مصر واعتبرت الحكومة الفرنسية أمر هذه الحملة سراً... » .

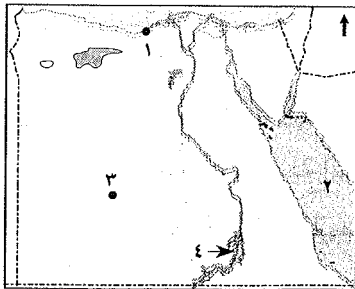
فى ضوء هذه العبارة ، وضح :

- ١ - لماذا تم تجهيز الحملة سراً ؟
- ٢ - برهن على فشل الحملة من الناحية الحربية .
- ٣ - بم تفسر : لم تحقق الحملة الفرنسية أهدافها ؟

٦ إدارة نفسى التعليمية

محافظة الغربية

أولاً : الجغرافيا



ا أمامك خريطة صماء لمصر ، اكتب مدلول الأرقام الموقعة عليها :

- ١ - بيئة
- ٢ - البحر
- ٣ - الصحراء
- ٤ - بحيرة

ب ما النتائج المترتبة على ؟:

- ١ - هجرة سكان الريف إلى البيئة الصناعية .
- ٢ - إنشاء المزارع السمكية .



١ اكتب كلمة (صح) أمام العبارة الصحيحة ، وكلمة (خطأ) أمام العبارة غير الصحيحة :

- ١ - تنوع الصناعات بتنوع المواد الخام . ()
- ٢ - تنمو النباتات الطبيعية في البيئة الزراعية . ()
- ٣ - يتصل منخفض الفيوم عن طريق بحر يوسف بنهر النيل . ()
- ٤ - من العادات الاجتماعية في البيئة الزراعية تفضيل الذكور عن الإناث . ()
- ٥ - تنتشر الصناعات الحرفية في البيئة الزراعية ومنها صناعة السيارات . ()

ب اكتب المصطلح العلمي لكل مما يلي :

- ١ - إزالة الطبقة السطحية من التربة مما يؤدي إلى تدهورها . (.....)
- ٢ - يقصد بها الأفراد الذين هم في سن العمل ولا يعملون . (.....)
- ٣ - الإفراط وسوء استخدام الموارد الطبيعية بشكل يؤدي إلى نفادها . (.....)
- ٤ - بناء هندسى يشيد على الأنهار لتجنب أخطار الفيضانات . (.....)
- ٥ - عدم معرفة الإنسان القراءة والكتابة . (.....)

ثانياً : التاريخ

١ اختر الإجابة الصحيحة مما بين القوسين :

- ١ - أرسل محمد على البعثات الخارجية التعليمية لدولة (قطر - فرنسا - ألمانيا - روسيا)
- ٢ - أرسل السلطان العثماني أمهر الصناع إلى (الشام - الأستانة - قولة - السودان)
- ٣ - أبحرت الحملة الفرنسية من ميناء بجنوب فرنسا عام ١٨٩٨ م .
- (رشيد - الإسكندرية - طولون - دمياط)
- ٤ - نشأت الدولة أواخر القرن الثالث عشر الميلادي .
- (المملوكية - العثمانية - التركية - الفرنسية)
- ٥ - ساهمت الزعامة الشعبية في تولية محمد على بقيادة
- (عمر مكرم - محمد كريم - خورشيد باشا - فريزر)

ب بم تفسر ؟

- ١ - تكتم الفرنسيين نبأ إعداد الحملة على مصر .
- ٢ - ازدهار دولة المماليك في مصر والشام .

١ اكتب كلمة (صح) أمام العبارة الصحيحة ، وكلمة (خطأ) أمام العبارة غير الصحيحة :

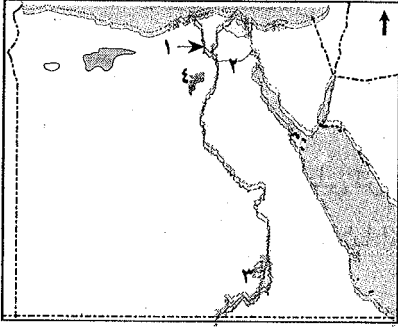
- ١ - دخل العثمانيون القاهرة بعد هزيمة المماليك في معركة الريدانية . ()
- ٢ - اندلعت ثورة القاهرة الثانية من حي العباسية . ()
- ٣ - نشطت الصناعة والتجارة أثناء الحكم العثماني لمصر . ()
- ٤ - فشلت الحملة الفرنسية في تحقيق أهدافها الحربية . ()
- ٥ - دبر محمد على مذبحه القلعة للقضاء على العثمانيين ١٨١١ م . ()

ب ما المقصود بكل من ؟

- ١ - ثورة .
- ٢ - احتلال .

٧ محافظة الدقهلية إدارة السبلاويين التعليمية

أولاً : الجغرافيا



أمامك خريطة صماء لمصر , اكتب مدلول الأرقام الموقعة عليها : ↑

- ١ - فرع
٢ - ترعة
٣ - بحيرة
٤ - منخفض

ب بم تفسر ؟

- ١ - تنوع البيئات المصرية .
٢ - معدل الزيادة السكانية الطبيعية فى البيئة الزراعية أعلى من المناطق الحضرية .
٣ - اهتمام الدولة بالتعليم الفنى والصناعى .

أ اكتب كلمة (صواب) أمام العبارة الصحيحة ، وكلمة (خطأ) أمام العبارة غير الصحيحة :

- ١ - تتميز أراضي الدلتا بوجود تضاريس مرتفعة . ()
٢ - احترام الكبير والتعاون من العادات الإيجابية فى البيئة الزراعية . ()
٣ - تضم محافظة الفيوم معالم سياحية متعددة مثل آثار تل بسطة . ()
٤ - يجب عند إقامة المصانع مراعاة اتجاهات الرياح . ()
٥ - قامت الدولة بإنشاء وزارة الزراعة لإصدار القوانين لحماية البيئة من الأخطار . ()
٦ - من الصناعات الكيماائية الأسمدة والصابون . ()

ب ما المقصود بكل من ؟ : ١ - تجريف التربة . ٢ - الاستنزاف .

ثانياً : التاريخ

أ اختر الإجابة الصحيحة مما بين القوسين :

- ١ - فتحت القسطنطينية فى عهد السلطان
(عثمان بن أرطغرل - محمد الثانى - طومان باى - بايزيد الثانى)
٢ - اكتشف طريق رأس الرجاء الصالح ١٤٩٨ م .
(الفصريون - المماليك - البرتغاليون - الإنجليز)
٣ - الدفاع عن البلاد كانت مهمة
(الديوان - السناجق - العلماء - الحامية العثمانية)
٤ - اقتصر التعليم فى الأزهر على حفظ القرآن الكريم ودروس الفقه و
(الرياضيات - التشريع - الكيمياء - الطبيعة)
٥ - عقد القائد اتفاقية العريش مع العثمانيين .
(ديزيه - مينو - نلسون - كايبر)
٦ - أدخل محمد على إلى مصر أنواعاً جديدة من
(القطن - الأرز - الذرة - الفول)

ب ما النتائج المترتبة على : سياسة محمد على الخارجية التوسعية ؟



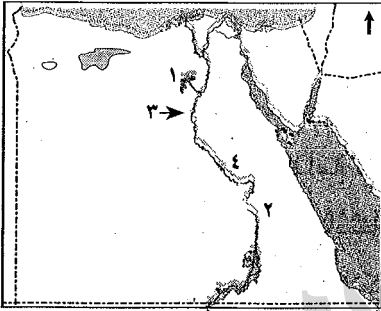
أ. صوب ما تحته خط في العبارات الآتية :

- ١ - تولى المماليك حكم مصر عقب انهيار الدولة الفاطمية .
 - ٢ - قام السلطان عبد الحميد بترحيل أمهر الصناعات إلى الآستانة .
 - ٣ - اندلعت ثورة القاهرة الثانية في حي إمبابية .
 - ٤ - تم نفي نقيب الأشراف عبد الله الشرقاوي إلى دمياط .
 - ٥ - أنشأ محمد علي ترسانة لصناعة السفن بالسويس .
 - ٦ - أعطى عياض باشا امتياز خفر قناة السويس للمهندس الفرنسي ديليبس .
- ب « كشف الاحتلال الفرنسي عن أطماعه الحقيقية مما أدى إلى إيقاظ الروح الوطنية في مصر .. »
في ضوء العبارة .. أجب عما يأتي :

- ١ - ما المقصود بالاحتلال ؟
- ٢ - اذكر الأسباب الحقيقية للحملة الفرنسية على مصر .

٨ محافظة كفر الشيخ إدارة قلين التعليمية

أولاً : الجغرافيا



أ. املات خريطة صماء لمصر ، اكتب مدلول الأرقام الموقعة عليها :

- ١ - منخفض
- ٢ - قنطرة
- ٣ - ترعة
- ٤ - قنطرة

ب. بم تفسر ؟

- ١ - قلة عدد السكان في وادي النيل مقارنة بعدد السكان في الدلتا .
- ٢ - إنشاء الدولة لوزارة البيئة .

أ. أكمل الجمل الآتية بكلمات مناسبة :

- ١ - الأرض في منخفض الفيوم على شكل
- ٢ - تندر النباتات الطبيعية في البيئة الزراعية بسبب الكثافة
- ٣ - تتنوع الصناعات الحرفية في البيئة الزراعية وفقاً لتنوع
- ٤ - تواجه البيئة الصناعية بعض المشكلات منها التهرب
- ٥ - تهدف الدولة من إنشاء المناطق الصناعية إلى زيادة

ب. ما المقصود بكل من ؟ ١ - الترعة . ٢ - البطالة .

ثانياً : التاريخ

أ. أكمل الجمل الآتية بكلمات مناسبة :

- ١ - دارت معركة الريدانية عند صحراء
- ٢ - أبحرت الحملة الفرنسية من ميناء جنوب فرنسا .
- ٣ - اتخذ المصريون من مركزاً للمقاومة أثناء ثورة القاهرة الأولى .
- ٤ - اجتمع زعماء الشعب بدار وقرروا عزل خورشيد باشا .



ب بم تفسر ؟:

- ١ - تدهور الأحوال الاقتصادية لمصر في عهد الدولة العثمانية .
- ٢ - فشل الحملة الفرنسية في فتح عكا .

ا اكتب كلمة (صح) أمام العبارة الصحيحة، وكلمة (خطأ) أمام العبارة غير الصحيحة :

- ١ - كانت مصر قبل مجيء العثمانيين تحت حكم الدولة الأيوبية . ()
- ٢ - ازدهرت دولة المماليك في مصر والشام بسبب موقعها الجغرافي . ()
- ٣ - قام سليمان الحلبي بقتل كليبر . ()
- ٤ - نجحت حملة فريرز ١٨٠٧م في الاستيلاء على مصر . ()
- ٥ - استطاع سعيد باشا إقامة إمبراطورية مصرية امتدت إلى مديريةية خط الاستواء . ()

ب ما النتائج المترتبة على ؟:

- ١ - التقدم الصناعي والزراعي في عهد محمد علي .
- ٢ - معاهدة لندن ١٨٤٠م .

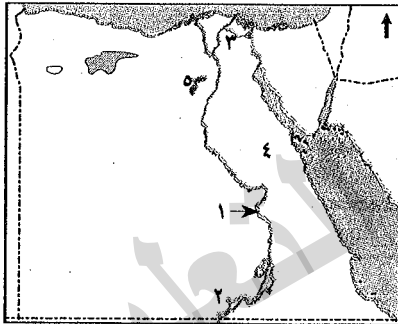
إدارة إدكو التعليمية

محافظة البحيرة

٩

أولاً : الجغرافيا

ا امامك خريطة صماء لمصر، اكتب مدلول الأرقام الموقعة عليها :



- ١ - قناطر
- ٢ - بحيرة
- ٣ - أحد مصايد الأسماك في البيئة الزراعية: فرع
- ٤ - الصحراء
- ٥ - منخفض

ب بم تفسر ؟:

- ١ - تهدف الدولة إلى إنشاء المناطق الصناعية .
- ٢ - ارتفاع معدل النمو السكاني في المناطق الريفية .
- ٣ - يجب عند إقامة المصانع مراعاة اتجاه الرياح .

ا أكمل العبارات الآتية بما يناسبها من كلمات :

- ١ - تل بسطة من أهم المناطق السياحية الموجودة في محافظة
- ٢ - تعتبر صناعة من الصناعات البسيطة .
- ٣ - تقوم الزراعة في الساحل الشمالي على مياه
- ٤ - توفر البيئة الصناعية للبيئة الزراعية .
- ٥ - الخصائص الاقتصادية للبيئة الزراعية تتمثل في

ب عرف كلاً من :

- ١ - الصناعة .
- ٢ - تجريف التربة .
- ٣ - الاستنزاف .

- ٢ - الانفتاح على العالم الخارجى يشجع الاستثمار فى الصناعة .
٤ - تساهم الصناعة فى ارتفاع المستوى الاجتماعى والتعليمى .

ب ما النتائج المترتبة على ما يلى ؟ :

- ١ - الزحف العمرانى على الأراضى الزراعية .
٢ - إنشاء الدولة للمناطق الصناعية .
٣ - انبعاث الأبخرة والغازات المتصاعدة من مداخن المصانع .

ح اذكر المصطلح العلمى الذى تشير إليه كل عبارة :

- ١ - إزالة الطبقة السطحية من التربة مما يؤدى إلى تدهور إنتاجها .
٢ - سوء استخدام الموارد الطبيعية بشكل يؤدى إلى نفادها .
٣ - المناطق التى تقوم فيها الصناعة ويعمل معظم سكانها بالصناعة .

ثانياً : التاريخ

أ اختر الإجابة الصحيحة مما بين القوسين :

- ١ - فتحت القسطنطينية عاصمة الدولة البيزنطية فى عهد السلطان
(سليم الأول - محمد الثانى - طومان باى - بايزيد الثانى)
٢ - تولى المماليك حكم البلاد عقب انهيار الدولة
(الفاطمية - الأموية - العباسية - الأيوبية)
٣ - من أسباب الحملة الفرنسية إقامة مستعمرة فى الشرق مركزها
(الشام - مصر - السودان - اليمن)
٤ - أنشأ محمد على ترسانة بحرية لبناء السفن فى
(بورسعيد - السويس - الإسكندرية - دمياط)

ب بم تفسر ؟ :

- ١ - ضعف وانهيار الدولة المملوكية . ٢ - تقدم القوات العثمانية نحو القاهرة بعد اتفاقية العريش .
٣ - فشل حملة نابليون على الشام فبراير ١٧٩٩ م .

أ اكتب كلمة (صح) أمام العبارة الصحيحة ، وكلمة (خطأ) أمام العبارة غير الصحيحة :

- ١ - فرضت الدولة العثمانية سيطرتها على مصر عام ١٥١٧ م .
٢ - نشطت التجارة وازدهرت الصناعة أثناء الحكم العثمانى لمصر .
٣ - نجح الأسطول الإنجليزى فى تحطيم الأسطول الفرنسى عند أبى قير البحرية .
٤ - قام (محمد على) بنفى (عمر مكرم) خارج البلاد .

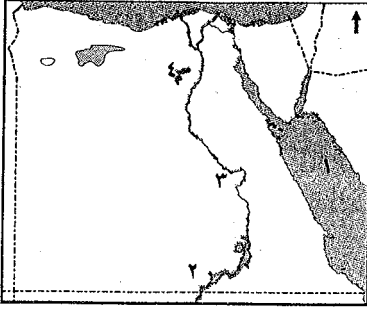
ب ما النتائج المترتبة على ما يلى ؟ :

- ١ - ترحيل السلطان سليم الأول أمهر الصناع والحرفيين إلى الآستانة .
٢ - الحملة الفرنسية من الناحية الحربية . ٣ - اهتمام محمد على بالتنظيم الإدارى .
٤ - وقوع مصر تحت النفوذ العثمانى .



١١ محافظة السويس إدارة جنوب السويس التعليمية

أولاً : الجغرافيا



أمامك خريطة صماء لمصر حدد مدلول الأرقام الموقعة عليها :

- ١ - البحر
٢ - وادى
٣ - بحيرة
٤ - منخفض

ب اختر الإجابة الصحيحة مما بين القوسين :

١ - قناة يتم حفرها عند منسوب أقل من منسوب الترع والأرض الزراعية

(التربة - المصرف - القناطر - السد)

٢ - تعد صناعة العطور من الصناعات (الكيماوية - الكهربائية - المعدنية - الغذائية)

ج اذكر المصطلح العلمي الذي تشير إليه كل عبارة :

١ - انتقال الأفراد من مكان إلى مكان داخل أو خارج حدود الدولة . (.....)

٢ - صناعة لتقليل حجم ووزن المواد الخام وتحتاج لعدد كبير من العمال . (.....)

د اكتب كلمة (صح) أمام العبارة الصحيحة وكلمة (خطأ) أمام العبارة غير الصحيحة :

١ - الزواج المبكر من العادات الإيجابية لسكان البيئة الزراعية . ()

٢ - يعتمد نشاط صيد الأسماك في البيئة الزراعية على نهر النيل والترع . ()

٣ - الانفتاح على العالم الخارجى يشجع على الاستثمار فى مجال الصناعة . ()

٤ - السوق من العوامل الطبيعية لقيام الصناعة . ()

٥ - الاستنزاف يعنى تقليل الاستهلاك والاستخدام الأمثل للموارد . ()

هـ بم تفسر ؟

١ - قلة عدد السكان فى وادى النيل عن الدلتا . ٢ - الاهتمام بالتعليم الفنى والصناعى .

ثانياً : التاريخ

أ أكمل العبارات الآتية بكلمات مناسبة :

١ - اقتصر التعليم فى مصر أثناء الحكم العثمانى على حفظ ودروس الفقه والتشريع .

٢ - كان يدعو الديوان للانعقاد فى الولايات العثمانية .

٣ - من الأسباب المعلنة للحملة الفرنسية تأديب

٤ - قسم البلاد إلى سبع مديريات .

ب صوب ما تحته خط من الكلمات :

١ - تولى المماليك حكم مصر عقب انهيار الدولة الفاطمية .

٢ - نفى محمد على عمر مكرم خارج البلاد .

ج ما النتائج المترتبة على ؟

١ - اكتشاف طريق رأس الرجاء الصالح .

٢ - سياسة محمد على الخارجية والتوسعية .



اختر الإجابة الصحيحة مما بين القوسين :

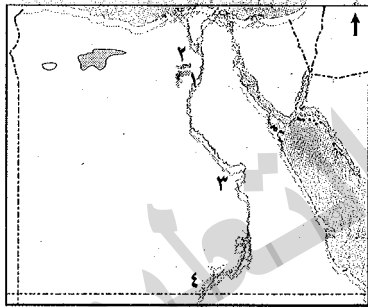
- ١ - هُزمت الجيوش المملوكية ١٥١٧م عند
(الريدانية - مرج دابق - جالديران - ديو البحرية)
- ٢ - قاد الحملة الفرنسية على مصر
(مينو - نابليون بونابرت - كليبر - نلسون)
- ٣ - اجتمع زعماء الشعب في دار المحكمة وقرروا عزل
(محمد على - خورشيد باشا - إبراهيم باشا - طوسون باشا)
- ٤ - وصلت الحملة الفرنسية ميناء في يوليو ١٧٨٩م .
(دمياط - الإسكندرية - رشيد - بورسعيد)

ب لمن تنسب الأعمال الآتية ؟:

- ١ - قام بترحيل أمهر الصناعات والحرفيين من مصر إلى الأستانة .
(.....)
- ٢ - تولى قيادة الحملة الفرنسية في مصر بعد مقتل كليبر .
(.....)
- ٣ - تخلص من المماليك في مذبح القلعة .
(.....)

١٢ محافظة دمياط إدارة دمياط التعليمية

أولاً : الجغرافيا



أمامك خريطة صماء لمصر حدد مدلول الأرقام الموقعة عليها :

- ١ - منطقة زراعية
- ٢ - ترعة توجد غرب الدلتا
- ٣ - قناطر
- ٤ - بحيرة

ب اكتب نتيجة مترتبة واحدة على ما يأتي :

- ١ - تنوع البيئات المصرية .
- ٢ - كثافة النشاط الزراعي في البيئة الزراعية .
- ٣ - المشكلات الاقتصادية في البيئة الزراعية .
- ٤ - إنشاء الدولة وزارة للبيئة .

ج صف عوامل قيام الصناعة إلى عوامل طبيعية وبشرية حسب الجدول :

(السوق - المواد الخام - رأس المال - الموقع الجغرافي)

عوامل بشرية	عوامل طبيعية
.....
.....



ب اكتب كلمة (صح) أمام العبارة الصحيحة وكلمة (خطأ) أمام العبارة غير الصحيحة :

- () ١ - لا توجد حدود فاصلة بين البيئات المصرية .
() ٢ - التلوث البيئي من المشكلات السكانية بالبيئة الزراعية .
() ٣ - توجد السواقي وعين السيليين في محافظة الشرقية .
() ٤ - من خصائص سكان البيئة الصناعية المشاركة في النقابات العمالية .

ثانياً : التاريخ

أ صوب ما فوق الخط مما يأتي :

- ١ - طريق رأس الرجاء الصالح اكتشفه المماليك .
٢ - هُزمت الجيوش المملوكية سنة ١٥١٧م عند مرج دابق .
٣ - عقد اتفاقية العريش مع العثمانيين القائد مينو .
٤ - نفي محمد علي عمر مكرم إلى الصفيد .

ب انسب كل عمل من الأعمال الأتية لصاحبه :

- (.....) ١ - فتح القسطنطينية عاصمة الدولة البيزنطية .
(.....) ٢ - قتل كليبر في يونيو سنة ١٨٠٠م .
(.....) ٣ - أعطى امتياز حفر قناة السويس للمهندس ديليسبس .

أ اختر الإجابة الصحيحة مما بين القوسين :

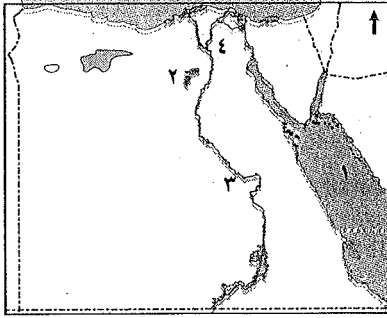
- ١ - لفتت الحملة الفرنسية أنظار العالم الغربي لمصر وموقعها الجغرافي من النتائج
(الحربية - السياسية - العلمية - الثقافية)
٢ - من الأسباب المعلنة للحملة الفرنسية لحماية التجار الفرنسيين من ظلم
(العثمانيين - الإنجليز - البرتغال - المماليك)
٣ - أرسلت إنجلترا حملة إلى مصر سنة ١٨٠٧م بقيادة (فريزر - نابليون - نلسون - مينو)
٤ - أقام محمد علي معامل السكر في (الوجه البحري - الوجه القبلي - الدلتا - الفيوم)

ب اكتب سبباً واحداً لكل مما يأتي :

- ١ - تدهور الحياة الاقتصادية في مصر أثناء الحكم العثماني .
٢ - ثورة القاهرة الثانية .
٣ - اهتمام محمد علي بالتنظيم الإداري .

١٢ محافظة الإسماعيلية إدارة الإسماعيلية التعليمية

أولاً : الجغرافيا



أ) أمامك خريطة صماء لمصر ، اكتب مدلول الأرقام الموقعة عليها :

- ١ - البحر
 ٢ - منخفض
 ٣ - منطقة صناعية
 ٤ - القناطر

ب) اكتب ما تشير إليه العبارة :

- ★ ١ - مناطق بنيت بدون تخطيط وعادة ما تظهر على أطراف المدن .
 ٢ - زراعة الأرض وإنتاج المحاصيل الزراعية وتربية الحيوان .
 ٣ - تحويل المادة الخام إلى سلع ومنتجات لسد احتياجات السكان .
 ٤ - طلب السكان المحليين للمنتجات المصرية .

١) اكتب كلمة (صح) أمام العبارة الصحيحة وكلمة (خطأ) أمام العبارة غير الصحيحة :

- ١ - استنزاف الموارد الطبيعية من مشكلات البيئة الصناعية .
 ٢ - يقل سكان البيئة الزراعية في المحافظات القريبة من نهر النيل .
 ٣ - شجعت الدولة استخدام الأسمدة الكيماوية في تسميد التربة .
 ٤ - تمدنا البيئة الصحراوية بالمعادن المختلفة .

ب) بم تفسر ؟

- ١ - إنشاء الدولة وزارة البيئة .
 ٢ - تناقص مساحة الأراضى الزراعية .
 ٣ - اهتمام الدولة بالمناطق الصناعية .

ثانياً : التاريخ

١) اختر الإجابة الصحيحة مما بين القوسين :

- ١ - تخلص (محمد على) من الزعامة الشعبية بنفى عمر مكرم إلى
 (الإسكندرية - دمياط - رشيد - الصعيد)
 ٢ - كان يتم جلب بواسطة التجار ويشترتهم السلاطين .
 (السناجق - الحرفيين - الأيوبيين - المماليك)
 ٢ - اهتم محمد على بتحقيق الاكتفاء الذاتى وطبق نظام
 (الالتزام - الاحتكار - الإصلاح - الدواوين)
 ٤ - أبحرت الحملة الفرنسية من ميناء بجنوب فرنسا مايو ١٧٩٨ م .
 (الإسكندرية - مرسيلا - طولون - ليون)



ب ا إلى من تنسب الأعمال التالية ؟

- ١ - القائد الذي عقد اتفاقية جلاء الحملة الفرنسية مع ممثل الجيش الإنجليزي . (.....)
- ٢ - نائب السلطان العثماني في الولاية ومقره القلعة . (.....)
- ٣ - أنشأ المطبعة الأميرية في بولاق . (.....)
- ٤ - كون إمبراطورية مصرية امتدت حتى مديرية خط الاستواء . (.....)

ب ا اعمل العبارات التالية بكلمات مناسبة :

- ١ - كان مركز ثورة القاهرة الثانية حى
- ٢ - استطاع السلطان سليم الأول هزيمة المماليك بالشام فى معركة
- ٣ - جاء الكفاح والجهاد ضد الحملة الإنجليزية ١٨٠٧م على يد أبناء مدينة
- ٤ - كان يتكون من كبار الضباط والموظفين والعلماء ويراقب الوالى .

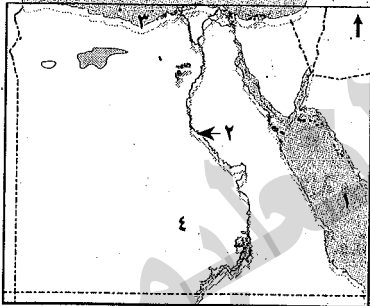
ب ا اذكر النتيجة المترتبة على :

- ١ - اكتشاف البرتغاليين طريق رأس الرجاء الصالح ١٤٩٨م .
- ٢ - إدخال محمد على أنواعًا جديدة من القطن .
- ٣ - اكتشاف حجر رشيد .

١٤ محافظة الفيوم ادارة الفيوم التعليمية

أولًا : الجغرافيا

ب ا امامك خريطة صماء لمصر حدد مدلول الأرقام الموقعة عليها :



- ١ - البحر
- ٢ - نهر
- ٣ - البحر
- ٤ - الصحراء

ب ا بم تفسر ؟

- ١ - أهمية وسائل النقل والمواصلات فى الصناعة .
- ٢ - ندرة النباتات الطبيعية فى البيئة الزراعية .

ب ا اكتب المصطلح الذى تدل عليه كل عبارة مما يأتى :

- ١ - الأفراد الذين فى سن العمل ولا يعملون . (.....)
- ٢ - المناطق التى تقوم فيها الصناعة ويعمل معظم سكانها بالصناعة . (.....)
- ٣ - حاجز مائى بغرض رفع منسوب المياه لتوزيعها فى الترع المتفرعة أمامها . *
- ٤ - عدم معرفة القراءة والكتابة . (.....)

ب ا صف الصناعات التالية حسب الجدول الأتى :

(أجهزة السيارات - حفظ وتعليب الفاكهة - صناعة الألومنيوم)

صناعات غذائية	صناعات معدنية	صناعات هندسية وكهربية
.....



ثانياً : التاريخ

أ) أكمل العبارات التالية :

- ١ - أنشأ محمد على ترسانة لبناء السفن فى
- ٢ - تحطم الأسطول الفرنسى فى موقعة
- ٣ - أصبحت مصر ولاية عثمانية بعد معركة
- ٤ - أرسلت إنجلترا حملة على مصر عام ١٨٠٧م بقيادة

ب) ما النتائج المترتبة على ؟ :

- ١ - اكتشاف طريق رأس الرجاء الصالح ١٤٩٨م .
- ٢ - ثورة القاهرة الأولى .

أ) اكتب المفهوم أو المصطلح التاريخى الذى تشير إليه العبارة :

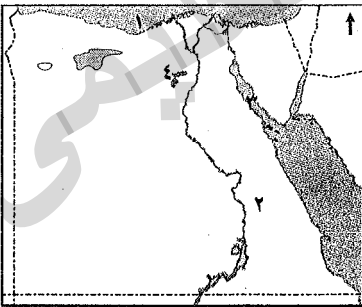
- ١ - أعطى امتياز حفر قناة السويس للمهندس الفرنسى ديليسيس . (.....)
- ٢ - قام بفتح القسطنطينية ١٤٥٣م واتخذها عاصمة . (.....)
- ٣ - قائد الأسطول الإنجليزى فى معركة أبى قير البحرية . (.....)
- ٤ - قاد الحملة الفرنسية بعد مقتل كليبر . (.....)

ب) (اعتبرت الحكومة الفرنسية أمر نابليون على مصر سراً) فى ضوء هذه العبارة وضح :

- ١ - ما اسم الميناء الذى أبحرت منه الحملة ؟
- ٢ - ما الأسباب المعلنة لمجىء الحملة ؟

١٥ محافظة بنى سويف إدارة بنى سويف التعليمية

أولاً : الجغرافيا



أ) أمامك خريطة صماء لمصر حدد مدلول الأرقام الموقعة عليها :

- ١ - البحر
- ٢ - قناطر
- ٣ - خليج
- ٤ - منطقة زراعة فيضية

ب) اكتب ما تشير إليه العبارات التالية :

- ١ - إزالة الطبقة السطحية الخصبة من التربة مما يؤدي إلى تدهور الأراضى الزراعية . (.....)
- ٢ - قناة يتم حفرها عند منسوب أقل من منسوب الترعى يتم بها صرف المياه الزائدة عن حاجة الأراضى الزراعية . (.....)
- ٣ - انتقال الأفراد من مكان إلى آخر . (.....)
- ٤ - سهل يتكون من التربة الطينية التى يأتى بها نهر النيل من منابعه . (.....)



١ اختر الإجابة الصحيحة مما بين القوسين :

- ١ - يتصل منخفض الفيوم بالنيل عن طريق
(بحر يوسف - ترعة الإبراهيمية - ترعة الإسماعيلية - النوبارية)
- ٢ - من العادات السلبية في البيئة الزراعية
(التعاون - احترام الكبير - التزاور فيما بينهم - زيادة الإنجاب)
- ٣ - تقوم الزراعة على مياه الأمطار في مصر .
(شرق - غرب - جنوب - شمال)
- ٤ - من الصناعات البسيطة
(السيارات - تصنيع الجلود - الفخار - صناعة الآلات)

ب بم تفسر ؟ :

- ١ - أهمية رأس المال في الصناعة .
- ٢ - تنوع البيئات المصرية .

ثانياً : التاريخ

١ اكتب كلمة (صح) أمام العبارة الصحيحة وكلمة (خطأ) أمام العبارة غير الصحيحة :

- ١ - لم يعلم بأمر الحملة الفرنسية على مصر إلا قائدها كليبر . ()
- ٢ - تسبب الدولة العثمانية إلى مؤسسها السلطان (محمد الفاتح) . ()
- ٣ - فرضت الدولة العثمانية سيطرتها على مصر عام ١٥١٦ م . ()
- ٤ - أنشأ (محمد علي) قصر الجوهرة بالقلعة . ()

ب ما النتائج المترتبة على ؟ :

- ١ - الحملة الفرنسية من الناحية العلمية .
- ٢ - معركة الريدانية ١٥١٧ م .

١ أكمل العبارات التالية :

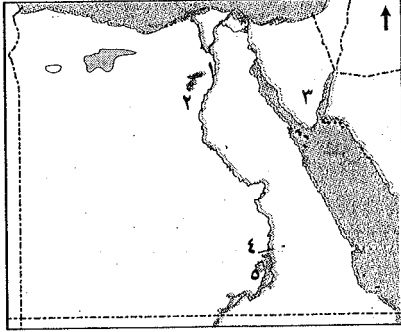
- ١ - نجحت الحملة الفرنسية في إضعاف قوة ونفوذ
- ٢ - كانت حملة على مصر عام ١٨٠٧ م .
- ٣ - تأثرت أوضاع مصر الاقتصادية بعد اكتشاف طريق
- ٤ - قاوم حاكم الإسكندرية الحملة الفرنسية .

ب رتب الأحداث الآتية من الأقدم إلى الأحدث :

- (ثورة القاهرة الثانية - اتفاقية العريش - معركة إمبابة)

١٦ محافظة المنيا إدارة المنيا التعليمية

أولاً : الجغرافيا



أ امامك خريطة صماء لمصر حدد مدلول الأرقام الموقعة عليها :

- ١ - القناطر
- ٢ - منخفض
- ٣ - شبه جزيرة
- ٤ - السد
- ٥ - بحيرة

ب اكتب ما تشير إليه كل عبارة من العبارات الآتية :

- ١ - سهل يتكون على جانبي النهر نتيجة الرواسب الطينية . (.....
- ٢ - بناء هندسى يشيد على الأنهار لتجنب أخطار الفيضانات . (.....
- ٣ - إزالة الطبقة السطحية من التربة مما يؤدي إلى تدهورها . (.....

أكمل العبارات الآتية مما بين القوسين :

(الفيوم - النوبارية - الحرفية - سوداء - بيضاء - الدلتا - الواحات)

- ١ - توجد الزراعة المروية بمياه النيل بمصر فى
- ٢ - تتميز التربة الطينية بأنها خصبة و اللون .
- ٣ - تعتمد الصناعة على العمل اليدوى وتحتاج إلى رأس مال قليل .
- ٤ - توجد ترعة غرب الدلتا .
- ٥ - عين السيليين من المعالم السياحية فى محافظة

ب بم تفسر ؟

- ١ - تناقص الأراضى الزراعية بمصر .
- ٢ - أهمية البيئة الصناعية .

ثانياً : التاريخ

اكتب كلمة (صح) أمام العبارة الصحيحة وكلمة (خطأ) أمام العبارة غير الصحيحة :

- ١ - استطاع سليم الأول هزيمة المماليك فى مصر والشام . ()
- ٢ - ازدهرت النواحي العلمية والثقافية فى ظل الحكم العثمانى . ()
- ٣ - جاءت الحملة الفرنسية على مصر بحجة تأديب العثمانيين . ()
- ٤ - اكتشف البريطانيون طريق رأس الرجاء الصالح . ()
- ٥ - دبر (محمد على) فى مارس ١٨١١م مكيده للقضاء على المماليك . ()



ب صل من العمود (أ) بما يناسبه من العمود (ب) :

ب

١ - كليبر
٢ - طوسون باشا
٣ - سعيد باشا
٤ - الوالى

أ

- كانت مدة حكمه تتراوح بين عام وثلاثة أعوام
- أعطى امتياز حفر قناة السويس للمهندس ديليسبس
- عندما عجز عن إخماد ثورة القاهرة الثانية دمر حى بولاق

اختر الإجابة الصحيحة مما بين القوسين :

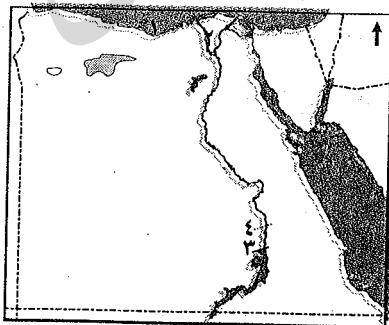
- ١ - أصبحت مصر ولاية عثمانية عام ١٥١٧م بعد موقعة
(ديو البحرية - جالديران - أبى قير البحرية - الريدانية)
- ٢ - قام الأسطول الإنجليزي بتحطيم الأسطول الفرنسى فى موقعة
(ديو البحرية - مرج دابق - أبى قير البحرية - أبى قير البرية)
- ٣ - أرسلت بريطانيا حملة إلى مصر فى مارس ١٩٠٧م بقيادة
(فريزر - كرومر - مينو - ديليسبس)
- ٤ - اهتم (محمد على) بالتعليم فأرسل بعثات إلى الخارج وخاصة إلى دولة
(إنجلترا - إيطاليا - إسبانيا - فرنسا)

ب رتب الأحداث التاريخية التالية من القديم إلى الحديث :

(موقعة شبراخت - معاهدة لندن - موقعة مرج دابق)

١٧ محافظة أسيوط إدارة متفوط التعليمية

أولًا : الجغرافيا



أمامك خريطة صماء لمصر حدد مدلول الأرقام الموقعة عليها :

- ١ - البحر
- ٢ - منطقة زراعة فيضية
- ٣ - السد
- ٤ - قناطر

ب اكتب ما تشير إليه العبارات التالية :

- * ١ - قناة مائية يتم حفرها لتوصيل المياه من نهر النيل لرى الأراضى الزراعية . (.....)
- ٢ - إزالة الطبقة السطحية من التربة مما يؤدي إلى تدهور إنتاجها . (.....)

١ اختر الإجابة الصحيحة مما بين القوسين :

- ١ - صناعة الأسمدة والأدوية من الصناعات (الكيماوية - الهندسية - المعدنية - الغذائية)
 ٢ - من العادات السلبية فى البيئة الزراعية
 (احترام الكبير - التعاون - التزاور فيما بينهم - زيادة الإنجاب)
 ٣ - من المواد الخام الحيوانية (القطن - الجلود - الحديد - الرخام)
 ٤ - من العوامل الطبيعية لقيام الصناعة (رأس المال - الأيدى العاملة - السوق - الموقع الجغرافى)

ب بم تفسر ؟

- ١ - تناقص مساحة الأراضى الزراعية فى مصر .
 ٢ - اهتمام الدولة بالتعليم الفنى والصناعى .

ثانياً : التاريخ
١ اكتب كلمة (صح) أمام العبارة الصحيحة وكلمة (خطأ) أمام العبارة غير الصحيحة :

- ١ - كان نظام الحكم العثمانى لمضراً عادلاً . ()
 ٢ - كان للزعامة الشعبية والعلماء دور فى تولية محمد على حكم مصر . ()
 ٣ - اكتشف البريطانيون طريق رأس الرجاء الصالح . ()
 ٤ - ضمت الحملة الفرنسية على مصر مجموعة من العلماء والرسامين والكتاب . ()

ب ما المقصود بالمفاهيم الآتية ؟

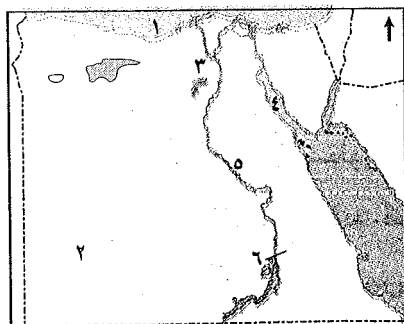
- ١ - الحملة .
 ٢ - العثمانيين .

١ أكمل العبارات التالية بكلمة مناسبة :

- ١ - أنشأ محمد على ترسانة لبناء السفن فى مدينة
 ٢ - تخلص محمد على من المماليك فى سنة ١٨١١م .
 ٢ - تولى القائد قيادة الحملة الفرنسية بعد مقتل كليبر .
 ٤ - الذى أعطى امتياز حفر قناة السويس للمهندس الفرنسى ديلسييس هو

ب ما النتائج المترتبة على ؟

- ١ - موقعة أبى قير البحرية عام ١٧٩٨م .
 ٢ - ثورة القاهرة الثانية مارس ١٨٠٠م .

١٨ محافظة سوهاج إدارة جھينة التعليمية
محافظة سوهاج
أولاً : الجغرافيا

١ أمامك خريطة صماء لمصر حدد مدلول الأرقام الموقعة عليها :

- ١ - البحر
 ٢ - منخفض
 ٣ - خليج
 ٤ - خليج
 ٥ - نهر
 ٦ - السد

ب بم تفسر : انخفاض نسبة الأمية فى البيئة الصناعية ؟



١ اكتب كلمة (صواب) أمام العبارة الصحيحة ، وكلمة (خطأ) أمام العبارة غير الصحيحة :

- () ١ - تحتاج الصناعة لتوافر الأيدي العاملة والمهارة الفنية المدربة .
- () ٢ - يزيد عدد سكان البيئة الزراعية كلما اقتربنا من الصحارى .
- () ٣ - صناعة السجاد اليدوى من الصناعات الغذائية .
- () ٤ - المناخ من العوامل الطبيعية لقيام الصناعة .
- () ٥ - من العادات الإيجابية بالبيئة الزراعية التعاون واحترام الكبير .

ب ما النتائج المترتبة على ؟:

- ١ - الإسراف فى استخدام مياه الري .
- ٢ - هجرة سكان الريف إلى البيئة الصناعية .

ثانياً : التاريخ

١ اختر الإجابة الصحيحة مما بين القوسين :

- ١ - فتح السلطان مدينة القسطنطينية عاصمة الدولة البيزنطية .
(سليم الأول - محمد الفاتح - بايزيد الثانى - عثمان)
- ٢ - اكتشف طريق رأس الرجاء الصالح . (الفرنسيون - الإنجليز - البرتغاليون - المماليك)
- ٣ - كان مقر الحكومة المركزية فى عهد محمد على فى
(القاهرة - الجيزة - الإسكندرية - الريدانية)
- ٤ - وصلت الحملة الفرنسية ميناء فى يوليو ١٧٩٨ م .
(دمياط - الإسكندرية - بورسعيد - طولون)

ب ماذا يقصد بالمفاهيم التاريخية التالية ؟:

- ١ - حملة .
- ٢ - الحامية العسكرية .

١ أكمل العبارات الآتية بكلمات مناسبة:

- ١ - نتج عن أنظمة الحكم والإدارة العثمانية تدهور
- ٢ - قاوم حاكم الإسكندرية الحملة الفرنسية .
- ٣ - أعدم نابليون ستة من زعماء ثورة القاهرة الأولى باستثناء
- ٤ - جاءت حملة على مصر عام ١٨٠٧ م .
- ٥ - تحطم الأسطول الفرنسى فى معركة البحرية .

ب اكتب ما تشير إليه كل عبارة مما يأتى:

- ١ - انتقال الأفراد من مكان لآخر داخل أو خارج حدود الدولة .
(.....)
- ٢ - بناء هندسى يشيد على النهر لتجنب أخطار الفيضانات والجفاف .
(.....)