

❖ ما المقود بـ جغرافية السكان ؟

- العلم الذي يهتم بدراسة حجم السكان وخصائصهم من حيث البنى العمرية والنوعية والاقتصادية والاجتماعية ونمو السكان وتوزيعهم

❖ ما خصائص جغرافية السكان ؟

- بنية السكان المتمثلة في البنية النوعية والعمرية والاقتصادية والاجتماعية

- نمو السكان ويشمل المواليد والوفيات والهجرة

- توزيع السكان والكثافة السكانية

❖ ما هي مصادر دراسة السكان ؟

- التعداد

- الإحصاءات الحيوية وسجلات الهجرة

❖ ما المقصود بالتعداد ؟

- العملية الشاملة لحصر الأفراد والتعرف على

حالتهم الاقتصادية والاجتماعية في الدولة وفي زمن معين

❖ ما مدة التعداد السكاني ؟

- يجرى التعداد السكاني على فترات منتظمة (كل عشر سنوات أو خمس سنوات)

❖ متى تم إجراء أول تعداد سكاني شامل في السلطنة؟

- تم أول تعداد في سلطنة عمان عام 1993م ثم التعداد الثاني عام 2003م ثم التعداد الثالث 2010م

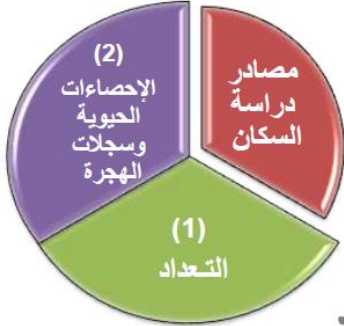
❖ على ماذا تشمل الإحصاءات الحيوية وسجلات الهجرة؟

- الإحصاءات الحيوية وتحتوي على (سجلات المواليد - سجلات الوفيات - حالات الزواج والطلاق)

- سجلات الهجرة وهي حصر لأعداد المهاجرين من الدولة وإليها

❖ عرف الإنفجار السكاني ؟

- زيادة أعداد السكان بصورة كبيرة تفوق الزيادة في الموارد الطبيعية



❖ ما أهمية دراسة السكان؟

- متابعة الزيادة المطردة في أعداد السكان ومراقبة ما يعرف بالانفجار السكاني
- إيجاد الحلول المناسبة لمشكلة ندرة الموارد اللازمة لسد احتياجات الأعداد المتزايدة من السكان من جراء الانفجار السكاني
- دراسة السكان و تزويد الدولة ببيانات مهمة للأغراض التنموية المتعددة

❖ ناقش التوزيع الجغرافي للسكان؟

- المناطق التي يتركز فيها السكان والمناطق التي يقل فيها عدد السكان

❖ كم إجمالي عدد سكان السلطنة حسب نتائج تعداد عام 1993م؟

- 2340815 نسمة

❖ ما أكبر محافظات السلطنة من حيث عدد السكان؟

- الباطنة

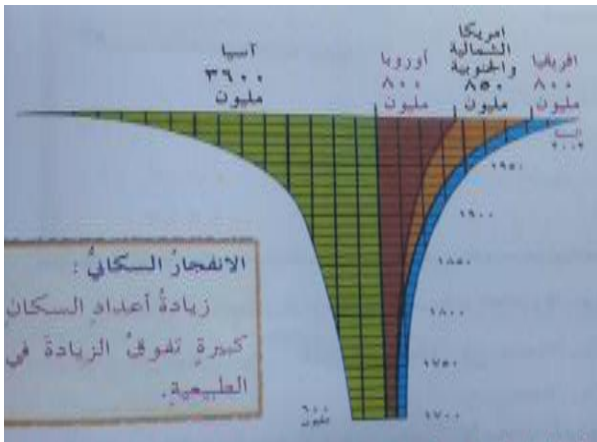
❖ ادرس الشكل و اجب عن ما يلي :-

1- دلالة الشكل المخروطي

- يدل الشكل على تطور نمو السكاني في العالم خلال الفترة من القرن الثامن عش وحتر عام 2002م

2- أكبر قارة في عدد السكان واصغرها؟

- أكبر قرات العالم حسب بيانات الشكل المخروطي هي قارة آسيا واصغر القارات أوروبا وأفريقيا



❖ فسر العلاقة بين الانفجار السكاني وندرة الموارد؟

- يؤدي الانفجار السكاني إلى الضغط على الموارد المتاحة وبالتالي زيادة استهلاكها مما يؤدي إلى ندرتها

❖ فسر العلاقة بين دراسة السكان والمشاريع التنموية في الدولة؟

- تسهم دراسة السكان في توفير البيانات الخاصة بالسكان والتي تساعد المختصين والمسؤولين في الدولة على وضع الخطط التنموية المختلفة لتوفير الخدمات لكافة أفراد المجتمع من حيث توفير المستشفيات والمدارس والمأكل والمشرب

❖ بم تفسر :- شهد العالم تحولا تاريخيا في القرن الثامن عشر؟

- شهد العالم انفجار سكاني هائلا منذ أوائل القرن عشر إذ كان عدد سكان العالم 600 مليون نسمة عام 1700م ووصل عددهم لـ 6 مليارات نسمة تقريبا في عام 2002م

- ❖ في رايك متى تتحول الزيادة السكانية في أي دولة من دول العالم إلى مشكلة سكانية
- في حالة زيادة عدد السكان بصورة تفوق حجم الموارد والخدمات في الدولة
- ❖ قدم اقتراحين للحد من خطورة مشكلة الانفجار السكاني في العالم
- نشر الوعي بخطورة الانفجار السكاني
- التقليل من معدلات النمو السكاني في دول العالم
- ❖ اي المصادر التالية (التعداد والاحصاءات الحيوية وسجلات الهجرة) اكثر دقة في الحصول على المعلومات المتعلقة بالسكان؟ اكتب بعض الادلة التي تدعم رأيك؟
- التعداد السكاني يعد أكثر دقة في الحصول على المعلومات المتعلقة بالسكان حيث أنه يشمل جميع مفردات المجتمع وقت التعداد
- ❖ ما المؤسسات الحكومية التي يمكن اللجوء إليها في ولايتك للحصول على بيانات عن السكان؟
- المدارس والمستشفيات

بنية السكان

الدرس الثاني

❖ ما المقصود بـ بنية السكان؟

- دراسة خصائص السكان في المجتمع من حيث العمر والنوع والنشاط الاقتصادي والاجتماعي

❖ ما هي العوامل التي تؤثر في بنية السكان؟

- المواليد - الوفيات - الهجرة

❖ ما أهمية دراسة بنية السكان؟

- تساعد على فهم النمو السكاني
- تسهم في دراسة الأوضاع الاقتصادية والاجتماعية

❖ ما المقصود بـ البنية العمرية؟

- ويقصد بها دراسة السكان حسب فئاتهم العمرية المختلفة

❖ ما هي الخصائص السكانية المتضمنة؟

- العمر - النوع - الحالة الاجتماعية - الحالة الاقتصادية

❖ ما الفئات العمرية للسكان؟

- صغار السن:-

- أقل من 15 سنة

- فئة غير منتجة

- متوسط السن :-

- ما بين (15 - 65) سنة

- فئة منتجة واكثر قدرة

- كبار السن:-

- 65 سنة فأكثر

- فئة قليلة الإنتاج

❖ ما المقصود بـ نسبة الإعالة؟

- يقصد بها الأفراد العاملين إلى الأفراد غير العاملين (فئتي صغار السن وكبار السن)

- نسبة الإعالة = $\frac{\text{عدد السكان المعالين (غير العاملين)}}{\text{عدد السكان العاملين}} \times 100$

احسب نسبة الإعالة لسلطنة عمان إذا علمت أنه حسب تعداد عام 2003م بلغ عدد صغار السن (790013 نسمة) في حين بلغ عدد متوسطي السن (1487344 نسمة) وكان عدد كبار السن (61485 نسمة)

$$\text{نسبة الإعالة} = \frac{\text{عدد السكان المعالين (غير العاملين)}}{\text{عدد السكان العاملين}} \times 100$$

$$\text{نسبة الإعالة} = \frac{790013 + 61485}{1487344} \times 100 = 57.3\%$$

ما المقصود بـ البنية النوعية؟

نسبة عدد الذكور لى الإناث في المجتمع

$$\text{نسبة النوع} = \frac{\text{عدد الذكور}}{\text{عدد الإناث}} \times 100$$

اذكر العوامل التي تؤثر على نسبة النوع في المجتمعات؟

- التفاوت في معدلات الهجرة حيث تزيد الهجرة بين الذكور
- تباين معدل الوفيات بين الذكور والإناث
- الأخطاء في البيانات التي تشملها التعداد مثل التقص في تسجيل عدد الإناث

الحروب التي تؤدي إلى زيادة في وفيات الذكور

قم بحساب نسبة النوع لسلطنة عمان إذا علمت أنه طبقا لتعداد 2010م بلغ عدد الذكور العمانيين (990.590 نسمة) وبلغ عدد الإناث العمانيات (966.746 نسمة)؟

$$\text{نسبة النوع} = \frac{990.590}{966.746} \times 100 = 102 : 100$$

اذكر انواع الأهرامات السكانية؟

الهرم السكاني ذو القاعدة العريضة

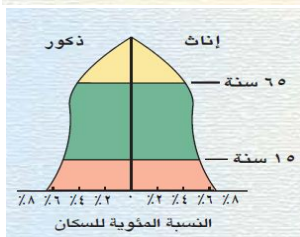
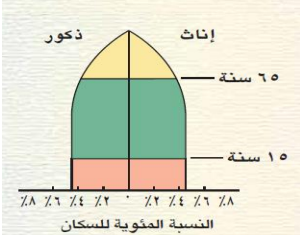
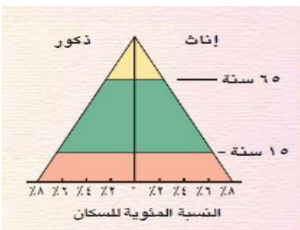
يمثل المجتمع الفتى حيث تزيد فيه نسبة صغار السن بنحو 50%

الهرم ذو القاعدة المتوسطة

يمثل المجتمع الذي تزيد فيه نسبة متوسطي السن

الهرم ذو القاعدة الضيقة

يمثل المجتمع المسن وفيه تنخفض نسبة صغار السن وتزيد فيه نسبة كبار السن



❖ ما المقصود بـ البنية الاقتصادية؟

- يقصد بها ملامح النشاط الاقتصادي في المجتمع وارتباطها بظروف البيئة الجغرافية

❖ ما أهمية دراسة البنية الاقتصادية؟

- معرفة القوى العاملة النشطة والقوى غير العاملة
- تحديد الأنشطة الاقتصادية المختلفة في المجتمع

❖ ما هي اقسام القوى البشرية في المجتمع؟

- القوى العاملة النشطة أو المنتجة اقتصاديا والباحثين عن العمل
- القوى غير العاملة وتشمل الأطفال وكبار السن

❖ ما المقصود بـ السكان ذو النشاط الاقتصادي؟

- هم الأفراد الذين يشتركون في انتاج السلع الاقتصادية وتقديم الخدمات للمجتمع

❖ ما المقصود بـ القوى العاملة؟

- هم الأفراد في سن العمل من الذكور والإناث سواء أكانة عاملين أم باحثين عن عمل

❖ ما المقصود بـ البنية الإجتماعية؟

- دراسة الخصائص الإجتماعية للسكان في المجتمع من حيث الحالة الزوجية والمستوى العلمي وحجم الأسرة

❖ ما أنواع الأسر في المجتمع؟

- الأسرة الممتدة (الكبيرة) :- وهي الأسرة التي تتكون من الأب والأم والأولاد والجد والجددة



- الأسرة الصغيرة (البسيطة) :- وهي الأسرة التي تتكون من الأب والأم والأطفال



❖ ما المقصود بالهرم السكاني ؟

- عبارة عن رسم بياني يبين توزيع السكان من حيث النوع والعمر

❖ ما أهمية دراسة الهرم السكاني؟

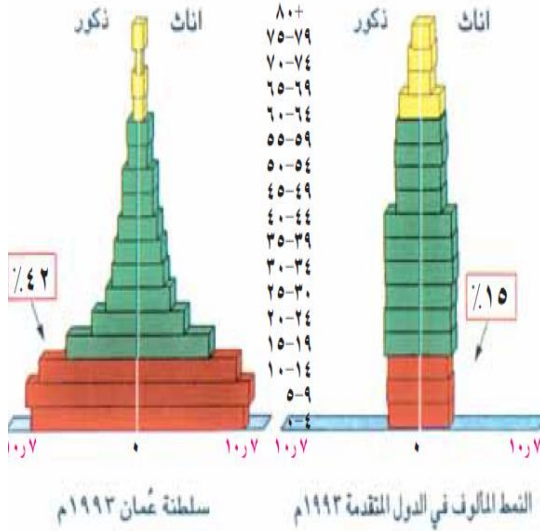
- يغطي صورة واقعية لخصائص سكان أي مجتمع ويعادل مجموع الفئات العمرية والنوعية في الهرم السكاني (100%) من السكان

❖ ما أهمية معرفة المعلومات المتعلقة بالإعالة؟

- معرفة القوة الاقتصادية في المجتمع
- تحديد أعداد الباحثين عن العمل

- ❖ ما العلاقة بين الحروب ونسبة النوع في المجتمعات؟
- تتأثر نسبة النوع في المجتمعات بعوامل عدة أهمها الحرب التي تؤدي لزيادة في الوفيات الذكور

❖ أنظر إلى الشكل واجب عن الاسئلة التالية:



- 1- ما نسبة صغار السن في سلطنة عمان؟
- نسبة صغار السن في سلطنة عمان 42%
- 2- قارن هذه النسبة بمثلها في الدول المتقدمة؟
- تزيد نسبة صغار السن في سلطنة عمان عن مثلها في العالم البالغة 15%
- 3- ما نوع الهرم السكاني في سلطنة عمان؟
- ذو قاعدة عريضة

الدرس الثالث

النمو السكاني

❖ ما المقصود بالنمو السكاني ؟

- التطور الحاصل في أعداد السكان نتيجة الزيادة الطبيعية (المواليد - الوفيات) والهجرة
- ما المقصود بالمواليد؟
- هم الأطفال الذين ولدوا أحياء في السنة ويتم حساب المواليد بعدة طرق منها (معدل المواليد الخام)

$$\text{معدل المواليد الخام} = \frac{\text{عدد المواليد الأحياء}}{\text{عدد السكان في منتصف العام}} \times 1000$$

❖ ما هي اسباب اختلاف معدلات المواليد في العالم؟

- الأوضاع الاقتصادية والاجتماعية حيث :-
 - تقل معدلات المواليد في المجتمعات الصناعية حيث الاعتماد على الآلات في الصناعة
 - ترتفع معدلات المواليد في المجتمعات الزراعية نظر لحاجة الأسر في ذلك المجتمعات للأيدي العاملة في الزراعة
- الأوضاع الثقافية :-

➤ ترتفع معدلات المواليد في المجتمعات الأقل تعليماً وثقافة نظراً لعدم إدراكها لخطورة المشكلة بينما تقل معدلات المواليد في المجتمعات الأكثر تعليماً وثقافة

❖ في أي المناطق ترتفع معدل الوفيات ؟

- تختلف معدل الوفيات من مجتمع لآخر حيث ترتفع في المجتمعات النامية عن المجتمعات المتقدمة

❖ ما هي اسباب الوفيات في العالم ؟

- العوامل الطبيعية :- كالزلازل والبراكين والاعاصير والجفاف والامراض والمجاعات
- العوامل البشرية :- وحوادث المرورية والحروب
- كيف يتم حساب معدل الوفيات الخام ؟

$$\text{معدل المواليد الخام} = \frac{\text{عدد الوفيات}}{\text{عدد السكان في منتصف العام}} \times 1000$$

- ❖ لماذا يعتبر معدل وفيات الرضع من أهم معدلات الوفيات؟
- لأنه أحد المؤشرات المهمة في قياس المستوى الصحي للمجتمع لا سيما بالنسبة للطفولة والامومة فانخفاض المعدل يدل على التقدم الصحي والإجتماعي للمجتمع
- ما المقصود بأمد الحياة ؟
- عدد السنوات التي يتوقع أن يعيشها الفرد
- ❖ بم تفسر يقل أمد الحياة في الدول النامية وترتفع في الدول المتقدمة؟
- يقل أمد الحياة في الدول النامية لانها تفتقر لشبكة الخدمات العامة والمياه النقية والكهرباء والخدمات الصحية بينما يرتفع في الدول المتقدمة اقتصاديا واجتماعيا نظرا لارتفاع مستوى المعيشة وتوافر الخدمات الصحية لمواطنيها
- ❖ ما هي عوامل المؤثرة في أمد الحياه في سلطنة عمان؟
- اسباب ارتفاع أمد الحياة في سلطنة عمان (ارتفاع مستوى الدخل وارتفاع مستوى المعيشة - توفير الخدمات الصحية في السلطنة)
- ❖ ما المقصود بزيادة الطبيعية؟
- الفرق بين أعداد المواليد والوفيات للسكان في مجتمع ما في فترة محددة
- ❖ ماذا نعني بزيادة طبيعية موجبة وبزيادة طبيعية سالبة؟
- زيادة طبيعية موجبة:- يكون فيه عدد المواليد أكبر من عدد الوفيات
- زيادة طبيعية سالبة:- يكون فيه عدد الواليد أقل من عدد الوفيات
- ❖ تتفاوت الزيادة الطبيعية من دولة لأخر. حسب العوامل المؤثر في ذلك في الواليد والوفيات . اذكر هذه العوامل
- المعيشة ودخل الفرد
- توافر الخدمات الصحية
- ❖ ما العلاقة بين أمد الحياة والخدمات الصحية؟
- علاقة طردية ، كلما تطورت الخدمات الصحية في الدولة ارتفع أمد الحياه ، و يقل أمد الحياه كلما تدنت الخدمات الصحية المقدمة في الدولة
- ❖ عرف الهجرة ؟
- انتقال السكان من مكان إلى آخر مع تغير محل الإقامة ولو لفترة محددة
- ❖ ما هي أنواع الهجرة؟
- من حيث المكان :- داخلية - خارجية
- من حيث مدة الإقامة:- دائمة - مؤقتة
- من حيث الرغبة:- اختيارية - اجبارية

❖ ما هي الاسباب الاساسية التي تؤدي إلى الهجرة؟

- لتوافر عوامل الجذب للسكان من مكان لآخر مثل

- فرص العمل بأجور مرتفعة
- توافر خدمات تعليمية واجتماعية وصحية
- مستوى افضل معيشيا

❖ ما هي جهود السلطنة لحد من الهجرة من الريف إلى المدينة؟

- إقامة مشاريع التنمية والاقتصادية والاجتماعية والصحية في مختلف المحافظات

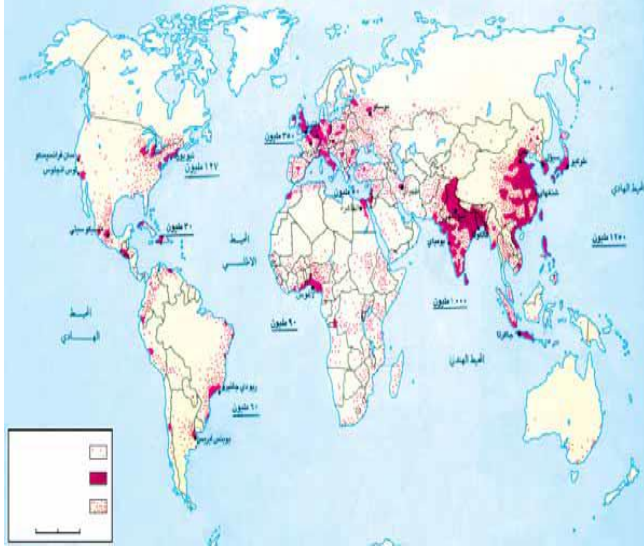
❖ ماذا يقصد بعوامل الجذب؟

- هي العوامل التي تشجع السكان على الإنتقال من مكان لآخر



الكثافة السكانية

الدرس الرابع



أعط وصف جغرافيا لتوزيع سكان العالم
كما تلاحظه في الخريطة؟

- يتوزع سكان العالم على سطح الأرض
بشكل غير متساو، فنجد مناطق
يزدحم فيها السكان ومناطق يقل
فيها عدد السكان

اذكر بعض المناطق التي يزدحم فيها
السكان؟

- جنوب شرق آسيا - جنوب آسيا غرب
أوروبا - شرق الولايات المتحدة
الأمريكية

اكتب المناطق التي يقل فيها عدد السكان؟

- شمال آسيا (سهول سبيريا) - أستراليا - كندا وألاسكا - شمال أوروبا -
الصحراء الكبرى بأفريقيا

أي القارات العالم تتميز بتركيز سكاني كبير. ولماذا؟

- قارة آسيا - بسبب زيادة عدد السكان في القارة

ما هي العوامل المؤثرة في توزيع السكان؟

- العوامل الطبيعية:-

✓ المناخ

✓ التضاريس

✓ المسطحات المائية

✓ الموارد الطبيعية

- العوامل البشرية:-

✓ الأنشطة الاقتصادية

✓ الهجرة

✓ وسائل النقل

بم تفسر ارتفاع الكثافة السكانية في شبه القارة الهندية؟

- بسبب غزارة الامطار

تقل الكثافة السكانية في المناطق الصحراوية. بم تفسر ذلك؟

- بسبب الجفاف

- ❖ بم تفسر يفضل السكان العيش في المناطق السهلية والبعد عن المناطق الجبلية والصحراوية؟
- بسبب سهولة الوصول إليها وملاءمتها لبناء المساكن وقيام الزراعة
- ❖ اذكر اهم سهل يعتبر من اكبر المناطق في العالم ازداحاما بالسكان؟
- نعد السهول النهرية من أكبر مناطق العالم ازدحاما كما هو في سهل نهر النيل في مصر
- ❖ بم تفسر يميل السكان للتركز في المناطق الساحلية؟
- بسبب اعتدال المناخ وتوافر الثروات البحرية
- ❖ ما هي أهم الموارد الطبيعية التي تؤثر في توزيع السكاني ؟
- البترول أو الغاز الطبيعي
- ❖ اوجد العلاقة بين توزيع السكان والعوامل التالية:

العلاقة	العوامل المؤثرة في توزيع السكان
هناك علاقة طردية بين ارتفاع التركيز السكاني و المناطق ذات الحرارة المعتدلة و المرتفعة في معدلات تساقط الأمطار	المناخ
تزيد التركيز السكان في المناطق السهلية وبشكل خاص على السهول النهرية و يقل التركيز السكاني في المناطق الجبلية	التضاريس
يتركز السكان في المناطق المشرفة على المسطحات المائية عن المناطق الداخلية التي لا تشرف عليها المسطحات المائية	المسطحات المائية
تركز السكان في المناطق الغنية بالموارد الطبيعية بينما تقل في المناطق الفقيرة بالموارد الطبيعية	الموارد الطبيعية
يتركز السكان في المناطق التي يتركز بها الحرفة السائدة و الخدمات بينما يقل عدد السكان في المناطق التي يقل فيها ظهور الحرفة السائدة و الخدمات	الأنشطة الاقتصادية
يتركز السكان في المناطق التي تتوفر فيها وسائل النقل و الطرق و يقل في المناطق التي يقل فيها ازدهار وسائل النقل و الطرق	وسائل النقل

❖ عرف الكثافة السكانية؟

- عدد السكان ف الكيلو متر المربع الواحد
- الكثافة السكانية = $\frac{\text{جملة عدد السكان في منطقة ما (نسمة)}}{\text{المساحة الكلية للمنطقة (كم2)}}$

❖ اكمل ما يلي :-

- 1- القرة التي تضم أكبر عدد من السكان هي قارة آسيا
- 2- يعيش معظم سكان العالم في مساحة من الارض تعادل 10%
- 3- يمثل سكان العالم القديم من جملة سكان العالم نحو ثلاث ارباع
- 4- غالبية سكان العالم يتركزون في نصف الكرة الشمالي
- 5- تصف المناطق المزدحمة بالسكان بأنها مناطق ذات كثافة سكانية عالية
- 6- المناطق قليلة السكان توصف بأنها ذات كثافة سكانية منخفضة

عرف المشكلة السكانية؟

- زيادة أعداد السكان بصورة تفوق الموارد الطبيعية المتاحة في منطقة ما أو في العالم بشكل عام و هو ما يؤدي إلى تدني مستوى المعيشة و انتشار الفقر و سوء التغذية

ماذا ينتج عن المشكلة السكانية؟

- تدني مستوى المعيشة
- انتشار الفقر
- سوء التغذية

حدد ابعاد المشكلة السكانية مع شرح كلا منها بايجاز؟

- النمو السكاني السريع ويقصد به ارتفاع معدل النمو السكاني بفعل تأثير عوامل إجتماعية وإقتصادية ويظهر هذا النمو السريع في المجتمعات الفقيرة مما يؤدي إلى ظهور العديد من المشكلات منها الضغط على الخدمات الإجتماعية في قطاعات عدة كالتعليم والتوظيف وظهور مايعرف بالبطالة
- التوزيع السكاني حيث يوجد تباين كبير في توزيع السكان سواء على مستوى قارات العالم او بين الدول في القارة الواحدة مما يؤدي الى الضغط على الموارد الطبيعية في المناطق كثيفة السكان
- خصائص السكان وتتمثل في المستوى التعليمي والصحي والثقافي والقدرة المهنية للأفراد في المجتمع فاذا كان الأفراد أقل تعليماً وثقافة ظهرت المشكلة السكانية

ماذا يقصد بالنمو السكاني السريع؟

- يقصد به ارتفاع معدل النمو بفعل تأثير عوامل اجتماعية واقتصادية

ماذا يترتب على ارتفاع النمو السكاني السريع ؟

- ظهور العديد من المشكلات ومن أبرزها الضغط على الخدمات الاجتماعية في قطاعات عديدة كالتعليم والتوظيف وظهور البطالة

ما العلاقة بين توزيع السكاني وظهور المشكلة السكانية؟

- يتضح من دراسة التوزيع السكاني وجود اختلاف كبير في توزيع السكان سواء أكان مستوى قارات العالم أو داخل القارة الواحدة مما أدى إلى الضغط على الموارد الطبيعية في المناطق كثيفة السكان

❖ ناقش العبارة التالية: "تظهر المشكلة السكانية كلما كان الإنسان أقل تعليماً وثقافة" ؟

- حيث يكون الفر الأقل تعليماً وثقافة أقل وعياً وإدراكاً بخطورة زيادة معدلات الانجاب وأثرها الكبير على الفرد وعلى المجتمع بما يساهم في زيادة أثر المشكلة السكانية

❖ أوجد العلاقة بين أبعاد المشكلة السكانية (النمو السكاني ، السريع ، التوزيع السكاني ، خصائص السكان) والمشكلة السكانية ؟

العلاقة مع المشكلة السكانية	أبعاد المشكلة السكانية
هناك علاقة طردية بين النمو السكاني السريع في المجتمعات الفقيرة و ظهور المشكلة السكانية المتمثل في زيادة الضغط على الخدمات و كالتعليم و التوظيف	النمو السكاني السريع
هناك علاقة طردية بين الكثافة السكانية و المشكلة السكانية	التوزيع السكاني
كلما تدني مستوى الخصائص السكانية المتمثل في (المستوى التعليمي و الصحي ، الثقافي و القدرة المهنية للأفراد المجتمع) كلما أسهم في ظهور المشكلة السكانية	خصائص السكان

❖ ما هي العلاقة بين حجم السكان والموارد الطبيعية؟

- يزداد عدد السكان في المناطق الغنية بالموارد الطبيعية والعكس صحيح ، كما في مناطق تواجد البترول والغاز الطبيعي

❖ ما هي أقسام الموارد الطبيعية ؟

- موارد متجددة :- موارد تتجدد بشكل طبيعي وقابلة للاستخدام عدة مرات (الماء - الهواء - التربة)
- موارد غير متجددة :- موارد لا تتجدد بسبب طبيعة تكونها (النفط - الغاز الطبيعي - المعادن)

❖ فسر تآثر الموارد الطبيعية بزيادة عدد السكان؟

- تتأثر الموارد الطبيعية سلبياً بزيادة عدد السكان حيث تشكل الزيادة السكانية ضغطاً على الموارد المتجددة واستنزافاً للموارد غير المتجددة فتضعف قدرة هذه الموارد على تلبية الاحتياجات السكانية المتزايدة

❖ ما الفرق بين مشكلة الغذاء و مشكلة الجوع و سوء التغذية ؟

- مشكلة الغذاء: حدوث نقص واضح في كمية الغذاء و نوعيته عن المعدلات المقبولة

- مشكلة الجوع: نقص كمية الغذاء عن الحد الأدنى المقبول

- سوء التغذية: افتقار الغذاء للعناصر الغذائية المطلوبة للجسم

❖ للنمو السكاني السريع آثار سلبية في تحقيق الرفاهية الاجتماعية والإقتصادية " أذكر المشكلات الناتجة عنه؟

- مشكلة الغذاء
- مشكلة التدهور البيئي
- مشكلة التلوث

❖ ما المقصود بمشكلة الغذاء؟

- حدوث نقص واضح في كمية الغذاء ونوعيته عن المعدلات المقبولة

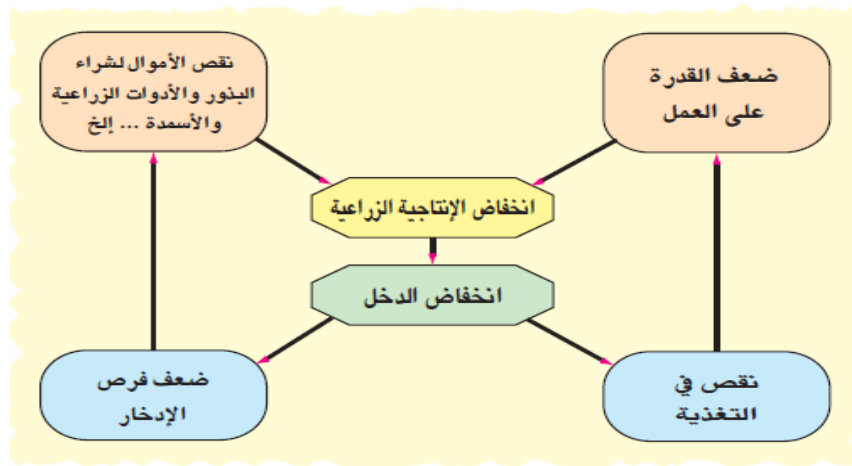
❖ ماهي مظاهر مشكلة الغذاء؟

- إنتشار الامراض - ارتفاع معدلات وفيات الأطفال - تكرار حدوث المجاعات - تزايد حجم الموارد الغذائية المستوردة - استخدام الغذاء سلاحا في أيدي الدول الكبرى ظهور ما يسمى بحلقة الفقر

❖ "للنقص الغذائي العالمي أسباب عديدة " أذكرها

- ارتفاع مستوى المعيشة في بعض الدول
- الزيادة السكانية الكبيرة والسريعة
- التقنيات الزراعية التقليدية البدائية
- السلوكيات الغذائية وقلة الوعي الغذائي
- الظروف الإقتصادية والسياسية
- الفاقد الغذائي نتيجة الحشرات والأمراض
- التقلبات المناخية
- التلوث البيئي

❖ وضع خريطة ذهنية لحلقة الفقر؟



❖ ما المقصود بالتدهور البيئي؟

- حدوث خلل في النظام البيئي نتيجة تزايد أعداد السكان وزيادة الاستهلاك

❖ **دلل على حجم التدهور البيئي في كل من الدول النامية والدول المتقدمة؟**

- أكبر تهديد للبيئة البحرية يتركز في الدول الصناعية
- تهديد الاراضي الزراعية والحياه النباتية الطبيعية يتركز في الدول النامي



❖ **ما المقصود بمشكلة التلوث؟**

- زيادة النفايات في البيئة لدرجة لا تتمكن الطبيعة من تحليلها أو امتصاصها

❖ **ما هي نتائج التلوث؟**

- تدهور صحة الانسان
- حدوث التغيرات المناخية
- اختلال التوازن الطبيعي
- التأثير على إنتاج الغذاء

❖ **علل ما يلي :-**

1-تظهر المشكلة السكانية بصورة كبيرة في المجتمعات الفقيرة؟

- حيث أن النمو السكاني في المجتمعات الفقيرة يفوق معدلات التطور الاجتماعي والاقتصادي

2-تخصيص الامم المتحدة يوما خاصا للغذاء العالمي؟

- تعميق الوعي بخطورة المشكلة الغذائية

3-ظهور البطالة في المجتمعات الفقيرة؟

- لان النمو السكاني فيها لا يوازي التطور الاجتماعي والاقتصادي فيؤدي لعدد من المشكلات ومن أبرزها البطالة