

نموذج أول امتحان اللغة العربية الصف الثالث الأساسي الفصل الأول

الفهم القرائي + النشيد : ٤٠ درجة

عروسُ السَّاحِلِ السُّوريِّ، وأمُّ الغاباتِ الطَّبِيعِيَّةِ، تمتدُّ من ساحِلِ البحرِ إلى أعالي الجبالِ مكوَّنةً غاباتٍ تسحرُّ العقولَ ومن أهمَّها غاباتُ الفرنلقِ والشُّوحِ وأمُّ الطُّيورِ وتُعدُّ الأغنى في الوطنِ العربيِّ بالتنوُّعِ النَّباتيِّ.

- ١ - ما اسم المدينة التي تحدث عنها النص ؟ **اللاذقية**
 - ٢ - عدد الغابات الموجودة فيها ؟ **الفرنلقِ ، الشُّوحِ ، أمُّ الطُّيورِ**
 - ٣ - ضع عنواناً مناسباً للنص ؟ **طبيعتنا الجميلة**
 - ٤ - استخرج من النص :
- كلمة تدل على جمع : **الغابات** ، كلمة تبدأ بلام قمرية : **الوطن**
مفرد الطيور : **الطير** ، كلمة تحوي حرف مشدد : **الطبيعة**
كلمة تحوي همزة قطع : **إلى** ، كلمة تنتهي بتاء مربوطة : **مكونة**
أختار الإجابة الصحيحة :

- جمع كلمة كنيسة (معبد - كنائس - مسجد)
- الأماكن التي ذكرت في دمشق (قاسيون - فلسطين - المغرب)
- ضد كلمة الكسل (التعب - النوم - النشاط)
- من آثار تدمر (قوس النصر - المرج - النواعير)
- الذهب الأسود هو (القطن - النفط - القمح)

نماذج امتحان الصف الثالث الأساسي الفصل الأول ٢٠١٩ - ٢٠٢٠ م

- يحيط بمدينة دمشق (جبلان - نهران - غوطتان)

أكتب المقطع الأول من نشيد الفيحاء :

دمشقُ ... ويمتدُّ فينا الحنين

فَمِنْ قاسيونَ

إلى الغوطتينِ

إلى قلعةٍ عُمَرُها المجدُ

والياسمين

أملأ الفراغ بالكلمة المناسبة :

- مرادف الأَبصار الأَنْظار

- ضد الجهل العلم

- مفرد الينابيع الينبوع

- جمع المسافة المسافات

أميز (الحقيقة من الرأي من الخيال) :

- اللادِّقِيَّةُ عروسُ السَّاحِلِ السُّوريِّ خيال

- دمشق أجمل البلدان رأي

- غذاء العنكبوت فرائس تضر بالإنسان حقيقة

- أنا حبة القمح خيال

أقرأ العبارتين ثم أملأ الجدول بما يناسبه : ص ٩٥

- تدخل حبة الرَّمْلِ إلى المحارة، فيتشكّل اللؤلؤ.

- تهبُّ حبة القمح نفسها للأرض، فتخرج منها سنبلَةٌ خضراء.

السبب	النتيجة
تدخل حبة الرَّمْلِ إلى المحارة	فيتشكّل اللؤلؤ
تهبُّ حبة القمح نفسها للأرض	فتخرج منها سنبلَةٌ خضراء

ضع علامات الترقيم المناسبة في الفراغ (. - ، - : - ! - ؟)

قال المعلم : تشتهر الجمهورية العربية السورية بزراعة الزيتون ، فهي شجرة

عظيمة ومباركة . ما أروع خلق الله !

أعبر كتابياً : ٦٠ درجة

أكتبُ عبارةً على نمطِ العبارةِ الآتية: ص ٩٣

- تسبحُ النُّجومُ في السَّماءِ فتُثيرُ الأرضَ.

- تسبح الغيوم الماطرة في السماء فينزل المطر .

أعيدُ ترتيبَ الجملِ الآتيةِ لأحصلَ على فقرةٍ مُترابطةٍ، أتحدّثُ فيها عن

سوقِ الحميديةِ في دمشق. ص ١٠٧

١. فما أجملُهُ من سوقٍ لا يُنسى!

٢. وقد تزَيَّنَ جانبا الشَّارعِ المسقوفِ فيه بِمَحالِّ تجاريَّةٍ كأنَّها أشجارُ
سِنديانٍ مُعَمَّرةٌ.

٣. فيه العديدُ منَ المباني العريقةِ.

٤. فهو من أقدمِ الأسواقِ المسقوفةِ في العالمِ.

٥. زُرْتُ معَ أمِّي سوقَ الحميديةِ في دمشق.

أرتبُ العباراتِ الآتيةِ للحصولِ على فقرةٍ مترابطةٍ، ثمَّ أكتبُها معَ مراعاةِ

علاماتِ الترقيمِ ، وأضعُ عنواناً مناسباً لها. ١٢٨

١. تُستخرجُ من ثمارها الزُّيوتُ.

٢. تدخلُ في صناعةِ الصَّابونِ.

٣. تشتهرُ الجمهوريةُ العربيَّةُ السُّوريَّةُ بزراعةِ الزَّيتونِ.

٤. فهي شجرةٌ عظيمةٌ ومباركةٌ.

نماذج امتحان الصف الثالث الأساسي الفصل الأول ٢٠١٩ - ٢٠٢٠ م

أكتب فقرة أصف فيها عالم الفضاء وأسراره العجيبة :

إن الكون مليء بمخلوقات الله تعالى فالإنسان يسعى إلى اكتشاف عالم الفضاء المليء بالأسرار العجيبة . فيدرس الكواكب كالمريخ والمشتري ، ويدرسون القمر والنجم ويحاول حل ألغازها ، فتبارك الله أحسن الخالقين .

المعلم
سامر إبراهيم جنوب

أنمي لغتي : ٤٠ درجة

كانَ الفلاحُ مسعودٌ عائداً إلى بيته وهو يغني مسروراً ولما اقترب من الغابةِ تذكرَ أن يجمعَ الحطبَ فتسلقَ شجرةً ضخمةً ولكنه لم يكُدْ يضربُ ضربةً حتى انفلتت الفأس من يده وغاصت في قاعِ النهر .

١ . استخراج من النص وأملاً الجدول بالمطلوب :

فاعل	مضارع	حرف	مضارع	حرف	اسم	حرف	فعل
	مجزوم	جزم	منصوب	نص	جرور	جر	ماض
الفأس	يكُدْ	لم	يجمعَ	أن	الغابة	من	تسلقَ

٢ . ضع الحرف المناسب مع ضبط الكلمة التي بعده :

- عليك **أن** تحترمَ والديك .
- **لا** تقطفْ أزهار الحديقة .
- ابتعد **عن** مصاحبةِ الأشرار .
- رمل الشاطئ **كالذهب** .

٣ . أختار الإجابة الصحيحة :

- الفعل المضارع عمل يحدث في الزمن :
- الماضي ، المستقبل فقط ، الحاضر والمستقبل
- حركة الفاعل هي : الضمة ، الكسرة ، الفتحة
- اسمي الاسم الذي يقع عليه فعل الفاعل :

اسم مجرور ، فعل ، مفعول به

- الفعل المضارع المجزوم يسبق ب : لن ، عن ، لم

٤. أدخل حرف الجازم المناسب على الجملة واضبط الفعل

بالشكل : يرفعُ صوتُ التلفاز

لم يرفعُ صوت التلفاز

٥. أكتب المسمى لكل من الأحرف التالية :

لم - لا : حروف الجزم

من - إلى - على : حروف الجر المنفصلة

أن - لن - كي : حروف النصب

ب - ك - ل : حروف الجر المتصلة

٦. أعرب ماتحته خط : زارَ التلاميذُ السَّاحلَ السوري

لم يحضرُ غيثٌ إلى المدرسةِ

زارَ : فعل ماضٍ مبني على الفتحة الظاهرة على آخره .

التلاميذُ : فاعل مرفوع وعلامة رفعه الضمة الظاهرة على آخره.

لم : حرف جزم ونفي .

يحضرُ : فعل مضارع مجزوم وعلامة جزمه السكون الظاهرة على آخره .

إلى : حرف جر منفصل .

المدرسةِ : اسم مجرور وعلامة جره الكسرة الظاهرة على آخره .

الإملاء : ٤٠ درجة

النحلة حشرة نافعة ويعيش النحل في الجبال والشجائر والخلايا التي يعدها الناس له يخرج النحل إلى الحقول والحدايق ويمتص رحيق الأزهار ثم يخرج منه بطونه عسلًا حلواً شهياً فيه شفاء للناس .

استخرج من النص :

كلمة تبدأ بهمزة وصل : **الجبال**

كلمة تنتهي بتنوين ضم **حشرة**

كلمة تبدأ بلام شمسية **النحل**

كلمة تنتهي بتنوين نصب **حلواً**

ضع خطأً تحت الإجابة الصحيحة :

- الهمزة بكلمة (رائعة) كتبت على (ألف - نبرة - واو)

- كلمة تحوي همزة وصل (استعمال - أكل - إحسان)

- كلمة ضوئية - شواطئنا كتبت الهمزة

(أول الكلمة - وسط الكلمة - آخر الكلمة)

- الهمزة بكلمة شؤون كتبت على (ألف - واو - ياء)

أكمل الكلمات بالهمزة :

سأل مؤمن رأس سؤال

نص الإملاء :

٢٠ درجة

الخط :

أكتب بخط الرقعة العبارة الآتية منتبهاً لحجم الحروف.

قالت الحكمة أناس أقدم مدن العالم عمرها سبعة آلاف عام

أكتب الفقرة الآتية بخط الرقعة منتبهاً لرسم حرف (ف - ق).

اللاذنية تنوع فيها الألوان والأشجار

انتهت الأسئلة

مع تمنياتي لكم بالتوفيق والنجاح

نموذج امتحان العلوم الصف الثالث الأساسي الفصل الأول

س ١ - أملأ الفراغ بالكلمة المناسبة :

- مناطق النّموّ في النبات هي نهاية الجذر ونهاية **الساق**
- نموّ النبات هو زيادة في و.....
- **الانتاش** هو نمو جنين النبات وإعطاء نبات جديد .
- للثمار أنواع ثمرة **بسيطة** وثمره **مركبة** .
- تنتقل البذور بعدة طرائق منها **الرياح** .
- زيادة الوزن والطول هو **النمو** .
- يستعمل الكأس المدرجة لقياس حجم **السوائل** .
- من شروك الانتاش أن تكون البذور **حية** و **سليمة** .
- القوة الكهربائية من الأجسام المشحونة تكون قوة تجاذب أو **تنافر** .

س ٢ - أختار الإجابة الصحيحة :

- ينقصُ البذورَ المهشّمةَ (ساق ، سويقة ، جذر)
- تنتشرُ بذورُ نباتِ الهندباءِ البرّسيّ عن طريق (الماء ، الإنسان ، الرياح)
- يموتُ رُشيمُ البذرة عندما نضعه في (ماء بارد ، ماء عاديّ ، ماء ساخن)
- الجسمين المشحونين بشحنتين كهربائيتين : (مختلفتين ، متماثلتين ، غريبتين)
- تعطي الكاس المدرّجة نتائج : (دقيقة ، غير دقيقة ، فارغة)
- تُستعملُ الربيعَةُ ذاتُ النابضِ لقياس :

نماذج امتحان الصف الثالث الأساسي الفصل الأول ٢٠١٩ - ٢٠٢٠ م

(ثقل المادّة ، حجم المادّة ، كتلة المادّة)

- واحدة قياس الحرارة هي : (كيلوغرام ، نيوتن ، سيلسيزيوم C)

- للبذور نوعان : (آحادية الفلقة ، آحادية وثنائية الفلقة ، ثنائية فقط)

س٣- أضع إشارة صح (✓) في نهاية العبارة الصحيحة وإشارة غلط

(X) في نهاية العبارة المغلوطة فيها وصحح العبارة الخاطئة :

- بذورُ النباتاتِ جميعها متشابهةٌ باللون (X) **مختلفة**

- تنمو البادرةُ فتبدأُ البراعمُ بالظهور تدريجياً لتُعطِيَ الأزهارَ (✓)

- الجسمانِ المشحونانِ بشحنة موجبة يتنافرانِ (✓)

- من الشروط التي لا تتعلق بالبذور الحرارة المناسبة (✓)

- التين من الثمار البسيطة (X) **المركبة** .

- كتلة الجسم على سطح القمر تنقص (X) **ثابتة**

س٤- من أنا ؟

- ثمرة يؤكل لبها فقط **البطيخ** .

- نبات بذوره ثنائية الفلقة **الفول** .

- أنا قوة كهربائية ناجمة عن التأثير المتبادل بين شحنة موجبة وشحنة سالبة

كهرباء ساكنة

- واحدة قياس الكتلة لجسم ما **الكيلوغرام** .

نماذج امتحان الصف الثالث الأساسي الفصل الأول ٢٠١٩ - ٢٠٢٠ م

س٥- أصلُ بخطِّ العبارة في العمود الأول بما يناسبها في العمود

الثاني:

العمود الثاني

العمود الأول

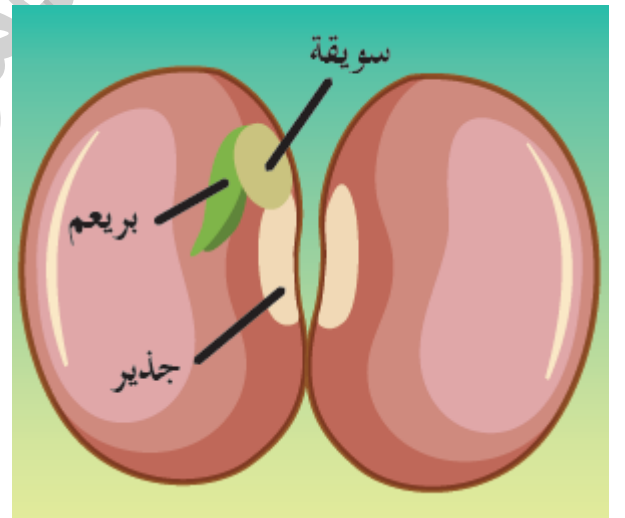
أحد أقسام الرشيم (الجنين النباتي) ينمو باتجاه الأسفل ساق

تنمو سويقة جنين النبات لتصبح الجذير

يُعدُّ الجذير والسويقة والبرعم أقسام بذرة

الرشيم (الجنين النباتي) يوجد داخل بعض الثمار

س٦- أكتب المسميات على الرسم :



انتهت الأسئلة

مع تمنياتي لكم بالتوفيق والنجاح

نموذج امتحان التربية الدينية الإسلامية الصف الثالث الأساسي الفصل

الأول

س ١ - أملأ الفراغات لأتمم السورة الكريمة ص ٣٥

بسم الله الرحمن الرحيم

سَبِّحِ اسْمَ رَبِّكَ الْأَعْلَى { ١ } الَّذِي خَلَقَ فَسَوَّى { ٢ } وَالَّذِي قَدَّرَ
فَهَدَى { ٣ } وَالَّذِي أَخْرَجَ الْمَرْعَى { ٤ } فَجَعَلَهُ غُثَاءً أَحْوَى { ٥ } سَنُقْرُوكَ فَلَا
تَنْسَى { ٦ } إِلَّا مَا شَاءَ اللَّهُ إِنَّهُ يَعْلَمُ الْجَهْرَ وَمَا يَخْفَى { ٧ } صدق الله العظيم

س ٢ - أختار الإجابة الصحيحة :

- غثاءً أحوى: المرجح الأخضر - يابساً مائلاً إلى السواد - الشجر المثمر
ص ٥٠

- الحِلْمُ هو: الغضبُ والتَّهَوُّرُ - الخوفُ والقلقُ - الهدوءُ والاتِّزانُ ص ٥٠
- أوَّلُ آيةٍ نزلتَ على النَّبيِّ صَلَّى اللهُ عَلَيْهِ وَسَلَّمَ مِنْ سُوْرَةٍ: ص ٢٨
الفاتحة - المدثر - العلق

- مِنْ مَكَارِمِ الْأَخْلَاقِ: الْأَمَانَةُ - الْكَذِبُ - الشَّجَاعَةُ
- نِظَافَةُ الْإِنْسَانِ الشَّخْصِيَّةُ تُكْسِبُهُ:

الثِّقَّةُ بِالنَّفْسِ - كِرَاهِيَةُ النَّاسِ - مَحَبَّةُ اللَّهِ تَعَالَى

- مِنْ الْأَعْمَالِ النَّافِعَةِ: التَّجَارَةُ - الْعِلْمُ وَالتَّعَلُّمُ - الْغِشُّ

س٣ - أصل بما يناسب :

لا تغضبُ

تقديس الله تعالى

(إنه يعلم الجهر وما يخفى)

خلق الله الكون باتقان

(الذي خلق فسوى)

الله تعالى يعلم السر والعلن

(سبح اسم ربك الأعلى)

حافظ على هدوءك واتزانك

س٤ - أكمل مايلي :

- من فوائد الحلم ١ - نشر المحبة ، ٢ - احترام الآخرين .

- من صفات السيدة خديجة ١ - الحكمة ، ٢ - المكانة العالية

- من فوائد الشجاعة ١ - يحبه الله ، ٢ - يحب الناس

س٥ - أكمل الحديث النبوي الشريف : ص ٤٨

كان رسول الله ﷺ **أَحْسَنَ النَّاسِ وَ أَجْوَدَ النَّاسِ وَ أَشْجَعَ النَّاسِ**

س٦ - ضع √ أو × و صحح العبارة الخاطئة :

- خلق الشجاعة من الصفات الحميدة (√)

- الحلم أن يتصف الإنسان بالغضب والتسرع (×) **بالهدوء والاتزان**

- أول من آمن برسالة النبي ﷺ من النساء خديجة بنت خويلد (√)

- يدل الحلم على ضعف الشخصية والثقة بالنفس (×) **قوة الشخصية**

س٧ - صنف في الجدول :

من حيث	إنسان يتصف بالحلم	إنسان يتصف بالغضب
الشخصية	قوي الشخصية	ضعيف الشخصية
الثقة بالنفس	ثقتة بنفسه عالية	ليس لديه ثقة بنفسه

انتهت الأسئلة

مع تمنياتي لكم بالتوفيق والنجاح

نموذج امتحان الدراسات الاجتماعية الصف الثالث الأساسي الفصل

الأول

السؤال الأول : أملأ الجدول بالحقِّ والواجبِ المناسبين : ص ٥٣

من واجبي أن	من حقِّي أن
	أعيشُ مع أسرةٍ مُحبَّةٍ مُهمَّةٍ بي
أحترمُ رأيَ الآخرين	
	أعيشُ في وطنٍ آمنٍ

السؤال الثاني : أملأ الفراغات التالية :

- من فوائد البحر و..... و.....
- أنا نجمُ قلبِ العقربِ لونهُ وهو في مرحلة ص ٧٤
- الشخصُ الذي يشتري الخبزَ ويستهلكهُ نسَمِيهِ ص ٦٠
- الشخصُ الذي يزرعُ وينتجُ القمحَ نسَمِيهِ
- الشخصُ الذي يصنعُ وينتجُ الخبزَ نسَمِيهِ
- كوكبنا اسمه وترتيبه في المجموعة الشمسيَّة ص ٧٢

- الخدمات نوعان **عامة** و **خاصة** .

- المادة الأولية لصناعة الجبن هي **الحليب**

- **المستهلك** هو الذي يشتري ما يحتاجه .

السؤال الثالث : ضع إشارة (✓) أو (×) جانب العبارات التالية :

- تقدم المشفى خدمة التعليم ()

- بانياس من المدن الواقعة على البحر ()

- تتألف المجموعة الشمسية من ثمانية كواكب () ص ٧٢

- تستمد كواكب المجموعة الشمسية الإضاءة والحرارة من القمر () ص

٧٢

السؤال الرابع : اختر الإجابة الصحيحة :

- نوع المسكن في الريف (خيمة ، بيوت ، أبراج)

- الفلاح الذي يزرع القمح وينتجه يدعى (مستهلك ، معلم ، منتج)

- جزيرة أرواد تقع مقابل شاطئ (طرطوس ، تدمر ، دمشق)

- المادة الأولية للسكر هي (القطن ، الشوندر السكري ، حليب)

- يعمل سكان المدينة في (الزراعة ، التجارة ، تربية الحيوانات)

- من الخدمات الخاصة (المحاكم ، المراكز الصحية ، المشافي الخاصة)

- من الواجبات (حق اللعب ، الاهتمام بدروسي ، التعلم)

- المادة الأساسية التي يراد تحويلها تسمى (البعيدة ، الأولية ، البسيطة)

- الناس الذين لا يستطيعون ممارسة حياتهم بشكل طبيعي

(ذوي احتياجات خاصة ، عاديون ، ماهرون)

السؤال الخامس : ما الكلمة التي لا تنتمي إلى كلّ مجموعة من

الكلمات الآتية مبيّناً السبب؟ ص ٦٨

(تربية الدواجن، الصنّاعة، زراعة الزيتون، تربية النحل)

.....

(حماة، اللاذقية، معلولا، دير الزور).....

السؤال السادس : تحدث عن سكان المدينة من حيث (العمل ونوع

المسكن واسم مدينة سورية)

السؤال السابع : اذكر خدمتين موجودتين في حينا؟

السؤال الثامن : فسر اختلاف ألوان النجوم في الليل؟

السؤال التاسع : أصل بما يناسب :

- الشخص الذي يزرع وينتج أسميه

مستهلك

- الشخص الذي يشتري الخبر أسميه

منتج

- من الخدمات العامة

الواجبات

- الأمور التي يجب على الإنسان

فعلها تجاه نفسه والآخرين

الحدائق العامة

نماذج امتحان الصف الثالث الأساسي الفصل الأول ٢٠١٩ - ٢٠٢٠ م

السؤال العاشر : عدد اثنين من الحقوق ؟

السؤال الحادي عشر : صنف في الجدول

المدارس - المراكز الصحية - المكتبات - مركز الشرطة

الثقافية	خدمات الأمن	تعليمية	خدمات صحية
المكتبات	مركز الشرطة	المدارس	المراكز الصحية

انتهت الأسئلة

مع تمنياتي لكم بالتوفيق والنجاح

نموذج امتحان الرياضيات الصف الثالث الأساسي الفصل الأول

س١ - أوجد ناتج ما يلي :

$$..... = 8054 + 7689 , = 2697 + 4321$$

$$..... = 1052 - 6725 , = 5760 - 7000$$

$$..... = 7254 - 9486 , = 7845 + 2436$$

س٢ - أختار الإجابة الصحيحة :

- لها بداية ونهاية (مستقيم ، قطعة مستقيمة ، نصف مستقيم)
- أثر رأس القلم على الورق (الخط المنكسر ، النقطة ، نصف مستقيم)
- مستقيمان يشكلان أربع زوايا طبوقة (متوازيان ، متقاطعان ، متعامدان)
- المكعب هو (شكل هندسي ، مربع ، مجسم)

س٣ - أملأ الفراغ بالكلمة المناسبة :

- المستقيمان **المتوازيان** لا يلتقيان مهما امتدا.
- المستقيمان اللذان يشتركان بنقطة واحدة هما **المتقاطعان**.
- **الزاوية** هي التقاء نصفي مستقيمين .
- للمكعب **٦** سطوح .

نماذج امتحان الصف الثالث الأساسي الفصل الأول ٢٠١٩ - ٢٠٢٠ م

س٤ - أملأ الفراغ بالعامل المناسب :

$$٢٥ = ٥ \times ٥ , ١٦ = ٤ \times ٤ , ٢٧ = ٣ \times ٩ , ٢٤ = ٣ \times ٨$$

س٥ - أحسب ناتج الضرب :

$$١٨ = ٣ \times ٦ , ١٤ = ٢ \times ٧ , ٣٦ = ٤ \times ٩ , ٢٠ = ٥ \times ٤$$

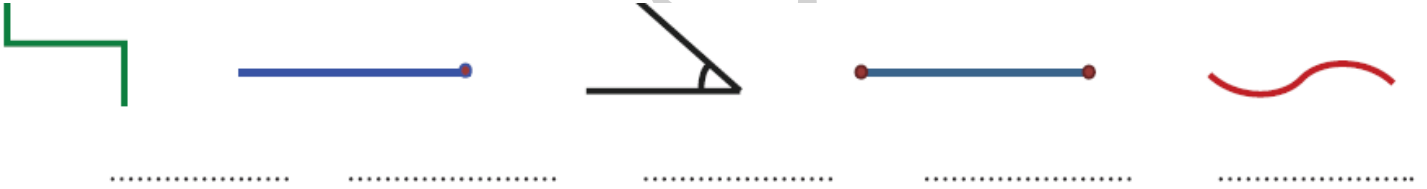
س٦ - استبدل بعارة الجمع المتكرر عبارة ضرب مناسبة :

$$٣٦ = ٩ \times ٤ = ٩ + ٩ + ٩ + ٩$$

$$١٠ = ٢ \times ٥ = ٢ + ٢ + ٢ + ٢ + ٢$$

$$١٤ = ٧ \times ٢ = ٧ + ٧$$

س٧ - أكتب أسماء الأشكال الآتية :



س٨ - أملأ الجدول مستعيناً بصور المجسمات :

عدد الرؤوس	عدد السطوح	المجسم
	٤	

س٩ - أكمل النمط الآتي بالرسم :



س١٠ - حل المسائل التالية :

- عدد ساعات العمل اليومي لعامل ٨ ساعات كم ساعة يعمل العامل

في ٥ أيام ؟

الحل : $٨ \times ٥ = ٤٠$ ساعة يعمل العامل في ٥ أيام .

- زار مدينة الملاهي في أول أيام العيد ٢٦١١ طفلاً وزارها في اليوم الثاني

١٣٩٥ طفلاً . كم طفلاً زار مدينة الملاهي في اليومين ؟

الحل : $٢٦١١ + ١٣٩٥ = ٤٠٠٦$ طفلاً

انتهت الأسئلة

مع تمنياتي لكم بالتوفيق والنجاح

نموذج ثاني امتحان أنمي لغتي والإملاء الصف الثالث الأساسي الفصل

الأول

س ١ - اختر الإجابة الصحيحة لكل مما يلي :

- حركة الفعل الماضي (الفتحة - الضمة - السكون)
- حركة فعل الأمر (السكون - الفتحة - الضمة)
- حركة الفاعل (الضمة - الفتحة - الكسرة)
- يدلُّ على من قام بالفعل (المفعول به - الفاعل)
- يدل على من وقع عليه فعل الفاعل (الفاعل - المفعول به - الفعل)
- يأتي بعد حرف الجر (اسم المجرور - فاعل - اسم منصوب)
- الفعل المضارع بعد لم و لا حركته (الفتحة - السكون)
- اسمي الهمزة التي تأتي وسط الكلمة (أولية - متوسطة - وصل)
- الهمزة في كلمة فؤوس (متوسطة - قطع - وصل)
- الهمزة في كلمة اشرب (قطع - وصل)
- الهمزة في كلمة أحمد (قطع - وصل)
- الهمزة في كلمة الكتاب (وصل - قطع)
- الفاعل في جملة (استخرج العمال النفط) هو (العمال - النفط)
- التقط السائح الصور

تدل كلمة (الصور) في الجملة السابقة على

(الفعل - الفاعل - المفعول به)

- يزرعُ الفلاحُ القمحَ

تدل كلمة (القمح) في الجملة السابقة على

(الفعل - من قام بالفعل - من وقع عليه الفعل)

س٢- أضع الحركة المناسبة على آخر كل كلمة من الجمل الآتية :

- يزينُ الياسمينُ دمشقَ

- يزرعُ الفلاحُ القمحَ

- اصطادَ الطفلُ السمكةَ

- احذرُ قنديل البحر يا زياد

س٣- أكمل الفراغات الآتية :

- أحرف الجر هي إلى - عن - على - من - الباء - اللام - الكاف -

في

- أحرف العطف هي و- أو - ثمَّ

- أحرف النصب هي أن - لن - كي

- أحرف الجزم هي لم - لا

- كلمة تحوي همزة وصل ارسَمَ - المدرسة - المقعد

- كلمة تحوي همزة قطع أسعد - أحمد

- كلمة تحوي همزة متوسطة على نبرة نائر

نماذج امتحان الصف الثالث الأساسي الفصل الأول ٢٠١٩ - ٢٠٢٠ م

- كلمة تحوي همزة متوسطة على واو **كؤوس**
- كلمة تحوي همزة متوسطة على ألف **سأل**
- يقدمُ فعل مضارع الفعل الماضي منه **قدم** الفعل الأمر منه **قدم**
- س٤- أملأ الجدول بما يناسبه :
- تصمّد دمشقُ في وجهِ الأعداء
- حطَّ الحمامُ على الأرضِ
- ابتعدُ عن رفاقِ السوء

الفعل	نوعه	حركته	حرف الجر	اسم المجرور	حركته
تصمّد	مضارع	الضمة	في	وجهِ	الكسرة
حطَّ	ماضي	الفتحة	على	الأرضِ	الكسرة
ابتعدُ	أمر	السكون	عن	رفاقِ	الكسرة

س٥- أضع الكلمة المناسبة في الفراغ واضبطها بالشكل :

- عادَ **عامرُ**
- يلتقطُ **يوسفُ** الصّورَ
- غرّدَ **العصفورُ**
- شمَّ الولدُ **الزّهرة**
- كرّمَ الوطنُ **العمال**
- يرددُ التّلاميذُ **الأنشودة**

نماذج امتحان الصف الثالث الأساسي الفصل الأول ٢٠١٩ - ٢٠٢٠ م

س٦ - أدخل تنوين الرفع ثم النصب ثم الجر على الكلمات التالية :

الكتاب كتاب - كتاباً - كتابٍ ، المدرسة مدرسة - مدرسة - مدرسة

القلم قلم - قلم - قلماً ، البيت بيتاً - بيت - بيت

الدفتري دفتر - دفتر - دفتر

س٧ - أحلل الجمل الآتية وفق الجدول

- باع الرجل المحصول

- يزرع الفلاح الحقل

- شمّ الولد الزهرة

الفاعل	زمنه	الضمة	المفعول به	حركته	الضمة
الرجل	ماضي	الضمة	المحصول	الفتحة	الضمة
الفلاح	مضارع	الضمة	الحقل	الفتحة	الضمة
الولد	أمر	الضمة	الزهرة	الفتحة	الضمة

انتهت الأسئلة

مع تمنياتي لكم بالتوفيق والنجاح

نموذج ثاني امتحان رياضيات الصف الثالث الأساسي الفصل الأول

(١) أكمل الفراغات الآتية :

١- المربع له أضلاع متساوية ، وفيه كل ضلعين متساويان

و..... وكل ضلعين متجاورين

٢- المثلث له أضلاع و زوايا

٣- شكل ليس له بداية وليس له نهاية نسميه ومن خصائص

المستقيمان المتوازيان أنهما

٤- خط التناظر هو خط شاقولي يقسم الشكل إلى طبوقين

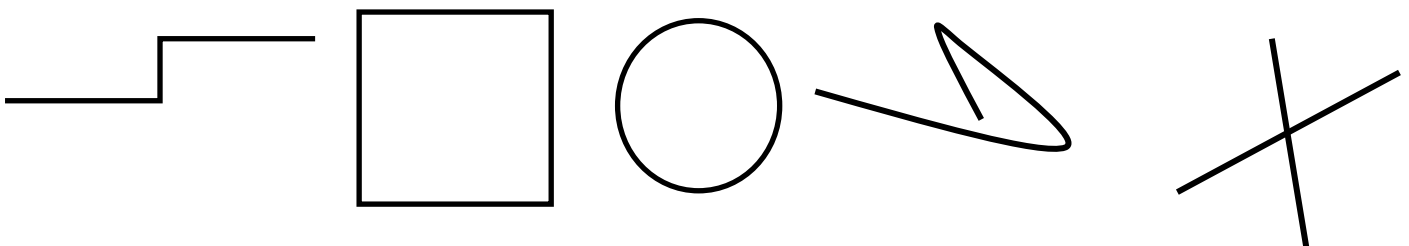
٥- شكل له بداية وليس له نهاية نسميه

(٢) أوجد ناتج ما يلي :

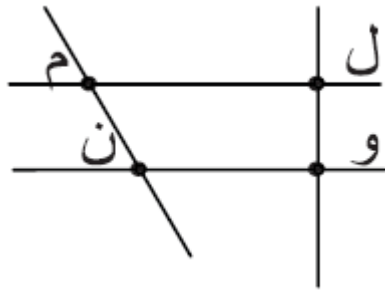
$$..... = 1023 + 63021, = 1023 - 6726,$$

	$4 \square \square 6$	5008	2504
	$\square 9 5 \square +$	$3668+$	$3725+$
	$6 2 6 9$		

(٣) أذكر أسماء الأشكال الآتية :



٤) لا حظ الشكل ثم أكتب حالة وخصائص المستقيمت :



المستقيمان	الحالة	الخصائص
(ل م) و (ل و)		
(ون) و (ل م)		

٥) اختر الإجابة الصحيحة :

المكعب له 	٤ سطوح	٦ سطوح	٥ سطوح
للكرة 	٣ أحرف	٤ أحرف	ليس لها أحرف
متوازي المستطيلات له 	١٢ حرفاً	١٣ حرفاً	١٤ حرفاً

٦) أوجد ناتج الضرب :

..... = ٢ × ٦ ، = ٢ × ٩ ، = ٢ × ٣
 = ٢ × ٨ ، = ٢ × ٧ ، = ٢ × ٥

٧) حل المسألة التالية :

تبلغ سرعة الحصان ٧٠٠ م في الساعة وسرعة الغزال ٩٠٠٠ م في الساعة

أيهما أبطأ ؟ الحل :

كم تزيد سرعة الغزال عن سرعة الحصان ؟

انتهت الأسئلة

مع تمنياتي لكم بالتوفيق والنجاح