

نماذج امتحان الصف الرابع الأساسي الفصل الأول ٢٠١٩-٢٠٢٠ م

امتحان الفهم القرائي وأعبر كتابياً الصف الرابع الأساسي الفصل الأول

أولاً : الفهم القرائي : (٤٠) درجة

١- أذكر أضداد الكلمات الآتية : / ١٢ درجة /

سقيم : صحيح ص ٧٨ ، كسول : نشيط ، الفرح : الحزن

بطيء : سريع ص ٩٨ ، نائم : مستيقظ ، الأخيرة : الأولى

٢- استبعد الكلمة الغريبة مما بين القوسين : / ٤ درجات /

(النحلة، الشهد، الحرير، العسل) ص ٧٨

(أمنح، أرعى، أقدم، أعطي)

٣- أصنف الجمل التالية وفق النموذج : / ١٢ درجة /

١. يغزل الموج لها من فضة أساوره ص ٨٥

٢. تطير الفراشة من زهرة إلى أخرى .

٣. ذهب الفلاح إلى البستان .

| الواقع | الخيال |
|---|------------------------------|
| تطير الفراشة من زهرة إلى أخرى . ذهب الفلاح إلى البستان . | يغزل الموج لها من فضة أساوره |

نماذج امتحان الصف الرابع الأساسي الفصل الأول ٢٠١٩-٢٠٢٠ م

٤- أفسر معنى الكلمات التي تحتها خط في الجمل الآتية : / ٦

درجات /

- شاهدَ الطّفلُ نَحْلَةً. رأى

- قرية عائمة في البحر طافية ص ٨٦

٥- أحول الجموع التالية إلى مفرد : / ٦ درجات /

النوارس ← النورس

المصانع ← المصنع

الشوارع ← الشارع

اللوحات ← اللوح

المقاعد ← المقعد

الأبواب ← الباب

ثانياً : أعبر كتابياً : / ٦٠ درجة /

أكتب أربعة أسطر عن أتحدث فيها عن أهمية التعاون في إنجاز أي عمل يعود

بالنفع على الجميع ص ٨٣

انتهت الأسئلة

مع تمنياتي لكم بالتوفيق والنجاح

نماذج امتحان الصف الرابع الأساسي الفصل الأول ٢٠١٩-٢٠٢٠ م

امتحان أنمي لغتي وإملاء وخط الصف الرابع الأساسي الفصل الأول

أولاً : أنمي لغتي : / ٤٠ درجة /

١- أكمل وفق النموذج : / ٨ درجات /

ما أعظم العلم! ما أروع الربيع! ص ٩٧

ما أجمل السماء! ما أجمل الشمس! ما أروع البحر!

هل تحب الرياضة؟ هل تحب الرسم؟

هل كتبت الدرس؟ هل تقرأ الدرس؟

٢- أصغ الأسئلة المناسبة للإجابات الآتية : / ١٢ درجة / ص ٨٩

١- يسافر الناس بالباخرة كيف يسافر الناس؟

٢- شرب الطفل الحليب ماذا شرب الطفل؟

٣- يذهب التلاميذ إلى المدرسة صباحاً. متى يذهب التلاميذ إلى المدرسة؟

٤- ذهبت الباهرة في رحلة طويلة. أين ذهبت الباهرة؟

٥- قال الأطفال: تحيا الباهرة. ماذا قال الأطفال؟

٦- أتناول الطعام في الساعة السادسة. متى تناول الطعام؟

٣- أحول الجمل الآتية إلى صيغة الجمع : / ١٢ درجة /

١. النحلة عاملة نشيطة النحل عاملات نشيطات ص ٨١

٢. المزارع نشيط المزارعون نشيطون

٣. يعمل العمل بنشاط يعمل العمال بنشاط

٤. ذهب التلميذ على المدرسة ذهب التلاميذ إلى المدرسة

نماذج امتحان الصف الرابع الأساسي الفصل الأول ٢٠١٩-٢٠٢٠ م

٥. تطيرُ الطائرةُ في السماءِ تطير الطائرات في السماء

٦. تتقنُ المهندسةُ عملها تتقن المهندسات عملها

٤- رابعاً : اختار مما يلي الأدوات التي تناسب الاستفهام : / ٤ درجات

/ ص ٨٩

كـ ، هذه ، أو ، ماذا ، ثم ، أين ، متى ، أما ، أنا

٥- أضع صح أو خطأ في نهاية العبارات التالية : / ٤ درجات /

١- علامة جمع المذكر السالم الياء والنون أو الواو والنون خطأ

٢- علامة جمع المؤنث السالم النون صح

٣- علامة جمع التكسير كل المجموع ما عدا جمع المذكر السالم وجمع المؤنث

السالم صح

٤- أسمى الأسلوب الذي يبدأ بأداة استفهام أسلوب تعجب خطأ

ثانياً : الإملاء : / ٤٠ درجة /

تصِفُ مملكةُ النحلِ بالتنظيمِ والدقةِ، ففي الصِّباحِ الباكرِ ترى النحلَ الشيطانيَّ منتشرةً في الحقولِ، متعاونةً فيما بينها لجمعِ رحيقِ الزهورِ، فتصنعُ منه عسلاً شهياً يكونُ غذاءً ودواءً للإنسانِ. ص ٧٩

١- أخرج من النص السابق الكلمات التي تنتهي بتاء مربوطة أو

مبسوطة ؟ / ١٢ درجة /

مملكة ، الدقة ، النحل ، النشيطات ، منتشرة ، متعاونة ، الزهورات

نماذج امتحان الصف الرابع الأساسي الفصل الأول ٢٠١٩-٢٠٢٠ م

٢- أضع الهمزة المناسبة في الفراغ : / ٨ درجات /

سائرة ، مائدة ، سؤال ، رئيس ، ماء ، دوائر ، قراءة ، بر

٣- نص الإملاء : / ٢٠ درجة / ص ٩٣

هل تعلمون يا أصدقائي بوجود ساعةٍ داخل أجسامنا؟! لكنّها ليست كالتّي تعرفونها ، وهي تنظّم كلّ أوقات حياتنا، وتحدّد ساعات الدّراسة والعمل والتفكير والنوم.

ثالثاً : الخط : / ٢٠ درجة /

١- ارسم بخط الرقعة أشكال حرفي (ع ، غ) / ١٠ درجات /

ع - ع - ع - ع

غ - غ - غ - غ

٢- أكتب الجمل التالية بخط الرقعة متبهاً لموقع الأحرف من السطر :

/ ١٠ درجات /

في البحر تغدو جنّة تملؤها الرّوائع ص ٨٥

تناول طارق الطّعام بانتظام بضبط ساعة البيولوجيّة

انتهت الأسئلة

مع تمنياتي لكم بالتوفيق والنجاح

نماذج امتحان الصف الرابع الأساسي الفصل الأول ٢٠١٩-٢٠٢٠ م

نموذج أول امتحان العلوم الصف الرابع الأساسي الفصل الأول الوحدة الثانية

والثالثة من ص ٦٢ حتى ص ١٢٥

١- عرف ما يلي : العنصر ص ٧٣ ، التكاثر ص ١٠١ ، دورة الماء ص

١٢٢

العنصر هو مادة لا يمكن تفكيكها إلى عناصر أخرى مختلفة بخصائصها عن هذا العنصر.

التكاثر هو الزيادة العددية لأفراد النوع .

دورة الماء هي انتقال الماء من الأرض إلى السحب ومن السحب إلى الأرض مجدداً.

٢- ما وظيفة كل مما يلي : المخ ص ٦٤ ، المحلول ص ٩٢ ،

المخ مسؤول عن الحس والحركة، التذكر، التفكير .

المحلول هو خليط يبدو كمادة واحدة، لكنه يتألف من عدة مواد.

٣- املأ الفراغات الآتية بالكلمة المناسبة :

أ- لتحضير المحلول الملحي، نضيف الملح الصلب إلى الماء السائل ونحركهما

جيداً. ص ٩٣

ب- بازدياد كمية المذيب **تزداد** سرعة الذوبان. ص ٩٣

ت- تفيد طاقة الرياح في تحريك القارب الشراعي. ص ١٢٣

ث- المرحلة الأولى من مراحل دورة الماء في الطبيعة هي انتقال الماء من الرض

إلى السحب . ص ١٢٣

٤- أصحّ الكلمات التي تحتها خط: ص ٧١

- تنشأ الأعصاب الدماغية من النخاع الشوكي. الشوكية

- تتشابه الأعصاب في منشئها. لا تتشابه

- الأعصاب الحركية تنقل أوامر الحركة من العضلات إلى الدماغ. من المخ إلى

العضلات

٥- اختر الإجابة الصحيحة لكلّ ممّا يأتي:

١. تتوزع الأعصاب الدماغية في: ص ٧١

أ) اليدين ب) الرأس ج) الساقين د) العنق

٢. من أمثلة المحاليل: ص ٩٣

أ) الرمل والماء ب) عصير الفواكه ج) الماء والزيت

٣. المذيب في محلول الشوكولا والحليب هو: ص ٩٣

أ) الحليب ب) الشوكولا ج) الحليب والشوكولا

٤. المصدر الرئيسي لمعظم الطاقات على سطح الأرض: ص ١١٥

أ) القمر ب) الشمس ج) الماء د) الرياح

٦- أعطي تفسيراً علمياً لكلّ ممّا يأتي:

١. يفضل ممارسة لعبة الشطرنج.

لأنها تنمي العقل وتعلمني التفكير بهدوء

٢. الذرة معتدلة كهربائياً. لأنها لا تملك شحنة كهربائية

٧- أضع إشارة (✓) أمام العبارة الصحيحة وإشارة (×) أمام العبارة

الغلط و صحح الغلط :

١. يمكن تفكيك العنصر . (×) لا يمكن ص ٧٥
٢. يتكوّن الماء من عنصرين. (✓) ص ٧٥
٣. شحنة الذرة سالبة . (×) ص ٨١
٤. الجزيء أصغر من الذرة . (×) الذرة هي أصغر ص ٨١
٥. تحصل صغار النمر على غذائها بنفسها . (×) برضاعة من الأم ص ١٠٤
٦. تتكاثر السلحفاة بالبيوض. (✓) ص ١٠٤
٧. طاقة الشمس طاقة غير متجدّدة . (×) متجددة ص ١١٥
٨. يقوم النبات بعملية التركيب الضوئي نهاراً ولا يحتاج لضوء الشم (×)
يحتاج لضوء الشمس ص ١١٥

انتهت الأسئلة

مع تمنياتي لكم بالتوفيق والنجاح

نماذج امتحان الصف الرابع الأساسي الفصل الأول ٢٠١٩-٢٠٢٠ م

نموذج ثاني امتحان العلوم الصف الرابع الأساسي الفصل الأول الوحدة الثانية

والثالثة من ص ٦٢ حتى ص ١٢٥

١- عرف ما يلي : الجهاز العصبي ص ٦٢ ، الذرة ص ٧٧ ، الرياح ص

١٢٢

الجهاز العصبي هو الجهاز الذي يشرف على جميع الوظائف التي يقوم بها الجسم وينظم العمل فيما بينها.

الذرة هي أصغر جزء من المادة يحمل نفس صفات العنصر.

الرياح هي تيارات هوائية تنشأ نتيجة اختلاف درجة الحرارة بين منطقتين على سطح الأرض .

٢- ما وظيفة المخيخ ص ٦٤

المخيخ مسؤول عن التوازن في الجسم.

٣- املأ الفراغات الآتية بالكلمة المناسبة :

أ- في المحلول السكري، المذيب هو الماء والمذاب هو السكر . ص ٩٣

ب- خليطٌ يبدو كمادة واحدة، لكنه يتألف من عدة مواد يُسمى الخليط

المتجانس . ص ٩٣

ت- تنشأ الرياح نتيجة اختلاف درجة حرارة بين منطقتين على سطح الأرض.

ص ١٢٣

٤- اختر الإجابة الصحيحة لكل مما يأتي :

١. تتوزع الأعصاب الشوكية في: ص ٧١
أ) أنحاء الرأس والجسم ب) أنحاء الجسم عدا الرأس
ج) بعض أنحاء الجسم د) الرأس فقط
 ٢. المذاب في محلول الماء والملح هو: ص ٩٣
أ) الماء ب) الملح ج) الماء والملح معاً
 ٣. نسمي المادة التي تذوب عند تحضير المحلول: ص ٩٣
أ) مذيب ب) مذاب ج) مذيب ومذاب
 ٤. الشمس تزودنا بالطاقة: ص ١١٥
أ) الكيميائية ب) الضوئية ج) الميكانيكية د) الكهربائية
- ٥- أعطي تفسيراً علمياً :

١. ينبغي عدم الإكثار من شرب المنبهات. ص ٩٤

لأنها تضر الجهاز العصبي .

٦- أضع إشارة (√) أمام العبارة الصحيحة وإشارة (×) أمام العبارة الغلط و صحح الغلط :

١. تتشابه صفات العناصر في المادة . (√) ص ٧٥
٢. العنصر هو مادة يمكن تفكيكها إلى أجزاء أصغر . (×) لا يمكن تفكيكها ص ٧٥
٣. الذرة تحمل صفات العنصر . (√) ص ٨١
٤. تتكاثر جميع الحيوانات بالولادة . (×) بعض ص ١٠٤
٥. يسمى صغير الكلب جرواً . (√) ص ١٠٤
٦. ترضع الأفعى صغارها الحليب . (×) تعتمد على نفسها ص ١٠٤
٧. الخلايا الشمسية تولد طاقة حركية في السيارات الكهربائية (√) ص ١٠٤
٨. للشمس طاقة ضوئية فقط . (×) حرارية وضوئية ص ١١٥
٩. طاقة الشمس صديقة للبيئة . (√) ص ١١٥

انتهت الأسئلة

مع تمنياتي لكم بالتوفيق والنجاح

نماذج امتحان الصف الرابع الأساسي الفصل الأول ٢٠١٩-٢٠٢٠ م

نموذج ثالث امتحان العلوم الصف الرابع الأساسي الفصل الأول الوحدة

الثانية والثالثة من ص ٦٢ حتى ص ١٢٥

١- عرف ما يلي : التكاثر ، الانقراض (٤ درجات)

التكاثر هو الزيادة العددية لأفراد النوع. ص ١٠١

الانقراض هو التناقص المستمر في أعداد أفراد النوع الواحد من الكائنات

الحية دون تعويض حتى موت كل أفراد النوع. ص ١٠٧

٢- اختر الإجابة الصحيحة لكل مما يأتي : (١٠ درجات)

أ- تتوزع الأعصاب الدماغية في: ص ٧١

أ) اليدين ب) الرأس ج) الساقين د) العنق

ب- من أمثلة المحاليل: ص ٩٣

أ) الرمل والماء ب) عصير الفواكه ج) الماء والزيت

ت- نسمي المادة التي تذوب عند تحضير المحلول:

أ) مذيب ب) مذاب ج) مذيب ومذاب

ث- من الحيوانات المهددة بالانقراض :

وحيد القرن - الأفعى - الأبقار

ج- من الحيوانات التي تتكاثر بالولادة :

الأغنام - الدجاج - الضفادع

نماذج امتحان الصف الرابع الأساسي الفصل الأول ٢٠١٩-٢٠٢٠ م

٣- املأ الفراغات بالكلمات المناسبة (الرضاعة - تغير الموطن -

التلوث والأمراض - الحرارة - ضوئية) (١٠ درجات)

١- من اسباب انقراض الحيوانات **تغير الموطن و التلوث والأمراض**

٢- يتغذى بعض صغار الحيوانات عن طريق **الرضاعة** من الأم

٣- تزداد سرعة الدوبان بزيادة درجة **الحرارة** .

٤- للشمس طاقة **ضوئية** يحتاجها النبات للقيام بعملية التركيب الضوئي .

٤- أضع (صح) أمام العبارة و (خطأ) أمام العبارة الخطأ : (١٠ درجات)

١- تختلف الأعصاب في منشئها صح

٢- يمكن فصل مكونات العنصر خطأ

٣- شحنة الذرة سالبة خطأ

٤- تتكاثر السلحفاة بالبيوض صح

٥- الشمس مفيدة في عملية التركيب الضوئي صح

٥- أصل بين العبارة وما يناسبها فيما يلي : (٦ درجات)

الصيد الجائر يسبب ديسم

صغير الدب يسمى انقراض الحيوانات

صغير النمل يسمى در

انتهت الأسئلة

مع تمنياتي لكم بالتوفيق والنجاح

امتحان الرياضيات الصف الرابع الأساسي الفصل الأول

أولاً : اختر الإجابة الصحيحة : (٤ درجات)

١- ناتج قسمة $18 \div 3$ هو العدد : (٤ ، ٢٤ ، ٦)

٢- الأعداد العائدة للحقيقة ($20 \div 5 = 4$) هي :

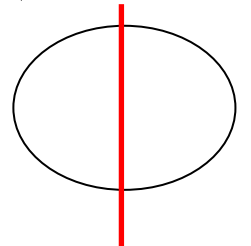
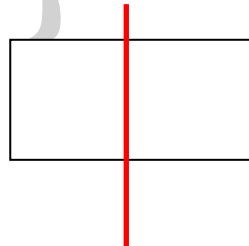
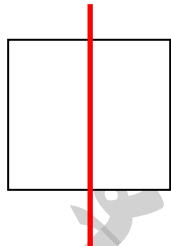
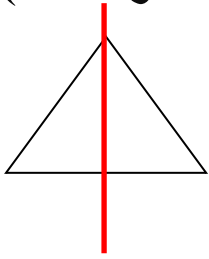
(٤ ، ٥ ، ٧) ، (٤ ، ٥ ، ٢٠) ، (٥ ، ٣ ، ١٥)

٣- من مضاعفات العدد ١٠ : (٢٠ ، ٥ ، ٣)

٤- ناتج ضرب (3×400) هو :

(١٢٠٠ ، ١٢٠٠٠ ، ١٢٠٠٠٠)

ثانياً : ارسم خط التناظر لكل من الأشكال الآتية : (٤ درجات)



ثالثاً : ارسم مستطيل طوله ٥ سم وعرضه ٢ سم بواسطة المسطرة)

الطول 5 سم

(درجتان)



العرض 2 سم

نماذج امتحان الصف الرابع الأساسي الفصل الأول ٢٠١٩-٢٠٢٠ م

رابعاً : أحسب ناتج ما يلي: (١٨ درجة)

$$٥ = ٩ \div ٤٥ , ٤٠٠ = ٤ \div ١٦٠٠ , ٣٠٠ = ٨ \div ٢٤٠٠$$

$$٥ = ٧ \div ٣٥ , ٩ = ٢ \div ١٨ , ١٠٠٠٠٠ = ٢٠٠٠٠ \times ٥$$

$$٣٦ = ٤ \times ٩ , ٤٢٠ = ٦٠ \times ٧ , ١٢٠٠ = ٤٠٠ \times ٣$$

خامساً : استعمل توزيع الضرب على الجمع لإيجاد ناتج ما يلي :
(١٢ درجة)

$$١٦ = ٦ + ١٠ = (٣ \times ٢) + (٥ \times ٢) = (٣ + ٥) \times ٢$$

$$٣٠ = ١٠ + ٢٠ = (٢ \times ٥) + (٤ \times ٥) = (٢ + ٤) \times ٥$$

$$٧٠ = ٤٢ + ٢٨ = (٦ \times ٧) + (٤ \times ٧) = (٦ + ٤) \times ٧$$

$$٦٤ = ١٦ + ٤٨ = (٢ \times ٨) + (٦ \times ٨) = (٢ + ٦) \times ٨$$

$$٦٣ = ٤٥ + ١٨ = (٥ \times ٩) + (٢ \times ٩) = (٥ + ٢) \times ٩$$

$$٤٥ = ١٠ + ٣٥ = (٥ \times ٢) + (٥ \times ٧) = ٥ \times (٢ + ٧)$$

انتهت الأسئلة

مع تمنياتي لكم بالتوفيق والنجاح

نموذج أول امتحان التربية الدينية الاسلامية الصف الرابع الأساسي

الفصل الأول

بسم الله الرحمن الرحيم

١- أكمل الآية الكريمة : " أَلَمْ تَرَ كَيْفَ ضَرَبَ اللَّهُ مَثَلًا.....

لَعَلَّهُمْ يَتَذَكَّرُونَ " ص ٢٨ (٦ درجات)

أَلَمْ تَرَ كَيْفَ ضَرَبَ اللَّهُ مَثَلًا كَلِمَةً طَيِّبَةً كَشَجَرَةٍ طَيِّبَةٍ أَصْلُهَا ثَابِتٌ وَفَرْعُهَا فِي السَّمَاءِ * تُؤْتِي أُكْلَهَا كُلَّ حِينٍ بِإِذْنِ رَبِّهَا وَيَضْرِبُ اللَّهُ الْأَمْثَالَ لِلنَّاسِ لَعَلَّهُمْ يَتَذَكَّرُونَ

صدق الله العظيم

٢- اختر الإجابة الصحيحة : (٨ درجات)

١- من فوائد الكلام الطيب : ص ٢٦

أ- محبة الناس ، ب- كره الناس ، ج- العدوانية

٢- نصلي في اليوم والليلة :

أ- ٥ صلوات ، ب- ٦ صلوات ، ج- ٩ صلوات

٣- من مكارم الأخلاق :

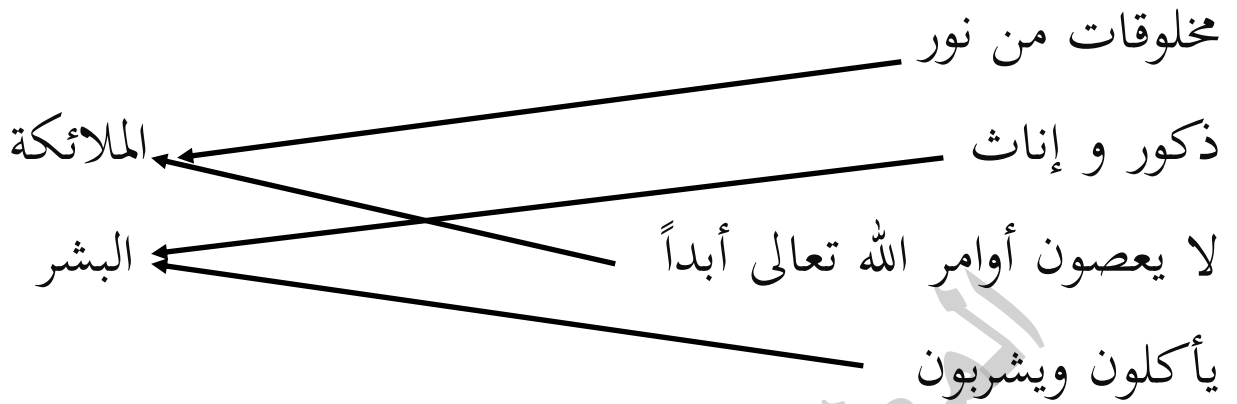
أ- إكرام الضيف ، ب- البغض ، ج- الحقد

٤- كلمة إيتاء تعني :

أ- إعطاء ، ب- إصغاء ، ج- ارتباط

٣- أصل كل مخلوق إلى صفاته المناسبة : ص ٣٩ (٨ درجات

(



٤- أضع (صح) أمام العبارة الصحيحة و (خطأ) أمام العبارة الخطأ

(٨ درجات) :

- ١- عليّ أن أقتدي بصفات الرسول ﷺ صح
- ٢- مجموع الركعات في اليوم والليلة ١٧ ركعة صح
- ٣- شبه الله تعالى الكلمة الطيبة بالشجرة الخبيثة خطأ
- ٤- من مضار الكلمة الخبيثة ظهور العداوة بين الناس خطأ

٥- املأ الفراغات بالكلمة المناسبة (الفجر - عدم - المواعيد -

الصبر - وحده) (١٠ درجات)

١- الصيام هو **عدم** تناول الطعام والشراب وجميع المفطرات من طلوع **الفجر** إلى غروب الشمس .

٢- للصيام فوائد عديدة فهو يعود الإنسان **الصبر** ويعلمه الدقة في **المواعيد** .

٣- شهادة أن لا إله إلا الله وأنا محمداً رسول الله ﷺ أن تصدق بقلبك أن الله تعالى **وحده** لا شريك له .

انتهت الأسئلة

مع تمنياتي لكم بالتوفيق والنجاح

نماذج امتحان الصف الرابع الأساسي الفصل الأول ٢٠١٩-٢٠٢٠ م

نموذج ثاني امتحان التربية الدينية الاسلامية الصف الرابع الأساسي الفصل الأول

١- املأ الفراغات الآتية بالكلمة المناسبة :

أ- قال رسول الله ﷺ الْمُؤْمِنُ لِلْمُؤْمِنِ كَالْبُنْيَانِ يَشُدُّ بَعْضُهُ بَعْضاً ص ٦٠

ب- من أسس التعاون **المحبة** و **احترام رأي الآخر** . ص ٦٣

ت- الكتاب السماوي المنزل على سيدنا داوود عليه السلام هو **الزبور** ص ٦٢

٢- اختر الإجابة الصحيحة لكل مما يأتي:

أ- قد أفلح من زكاها نقصد بها الرفق ب : ص ٤٨

الأسرة - المجتمع - النفس

ب- من ثمرات التعامل برفق : ص ٤٨

حسن الخلق - فساد الأخلاق - البغض والحقد

ت- قال تعالى : " اهدنا الصراط المستقيم " : الهدف من الرسالة هو : ص ٥٣

عبادة الله وحده - تأكيد الأخلاق الحميدة - إرشاد الناس إلى طريق الخير

٣- أضع إشارة (✓) أمام العبارة الصحيحة وإشارة (×) أمام العبارة

الغلط وصحح الغلط :

أ- الكتاب السماوي الذي نزل على سيدنا إبراهيم عليه السلام هو التوراة

ص ٥٤ (×) الكتاب السماوي الذي نزل على سيدنا إبراهيم عليه

السلام هو الصحف

ب- ضد الرفق هو العنف (✓) ص ٤٦

ت- من أركان الإيمان : الإيمان بالرسول (✓) ص ٥٥

نماذج امتحان الصف الرابع الأساسي الفصل الأول ٢٠١٩-٢٠٢٠ م

ث- اختارت السيدة خديجة رضي الله عنها الذهاب مع النبي صلى الله عليه وسلم إلى ورقة بن نوفل لأنه كان على شريعة نبي الله عيسى عليه السلام (٧) ص ٥٢

٤- أكمل ما يلي :

أ- التعاون هو شكل من أشكال المساعدة التي يقدمها الناس بعضهم لبعض من أجل الوصول إلى هدف معين. ص ٥٧

ب- الرفق هو لين القول والفعل واختيار الطريقة اللطيفة في التعامل مع الآخرين والأخذ بمكارم الأخلاق والابتعاد عن العنف ص ٤٦

ت- قال تعالى وَتَعَاوَنُوا عَلَى الْبِرِّ وَالتَّقْوَى وَلَا تَعَاوَنُوا عَلَى الْإِثْمِ وَالْعُدْوَانِ ص ٥٨

٥- أذكر ثلاثة من فوائد التعاون ؟ ص ٦١

١. زيادة المحبة بين الناس

٢. السرعة في إنجاز العمل

٣. اختصار الوقت والجهد

انتهت الأسئلة

مع تمنياتي لكم بالتوفيق والنجاح

امتحان الرياضيات الصف الرابع الأساسي الفصل الأول

أولاً : أحسب ناتج كل مما يلي :

$$٤٥ = ٥ \times ٩ , ٨ = ٤ \div ٣٢ , ٩ = ٧ \div ٦٣ , ٧٢ = ٨ \times ٩$$

| | | |
|-------------|-------------|---------|
| ٩ ٨ ٧ ٦ ٥ | ٥ ٠ ٠ ٢ ١ | ٩ ٠ ٨ |
| ٥ ٤ ٣ ٢ ٠ - | ٢ ٨ ٧ ٥ ٣ + | ٧ × |
| ٤ ٤ ٤ ٤ ٥ | ٨ ٨ ٧ ٧ ٤ | ٦ ٣ ٥ ٦ |
| ٨ ٦ ٧ ٤ ٣ | ٥ ٠ ٠ ٠ ٠ | ٦ ٥ ٨ |
| ٥ ٤ ٣ ٢ ٥ - | ٢ ٤ ٥ ٦ ٠ + | ٩ × |
| ٣ ٢ ٤ ١ ٨ | ٧ ٤ ٥ ٦ ٠ | ٥ ٩ ٢ ٢ |

ثانياً : أحسب ناتج الضرب مستعملاً توزيع الضرب على الجمع :

$$(٣ \times ٩) + (٥ \times ٩) = (٣ + ٥) \times ٩$$

$$٧٢ = ٢٧ + ٤٥ =$$

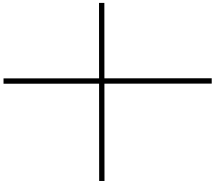
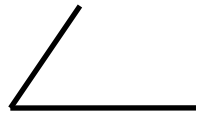
$$(٤ \times ٥) + (٣ \times ٥) = (٤ + ٣) \times ٥$$

$$٣٥ = ٢٠ + ١٥ =$$

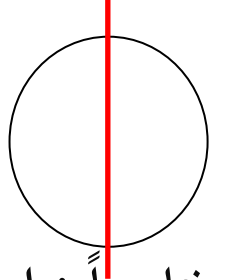
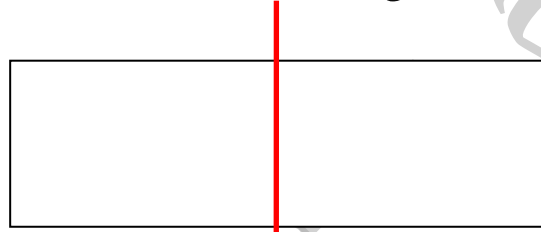
$$(٤ \times ٨) + (٥ \times ٨) = (٤ + ٥) \times ٨$$

$$٧٢ = ٣٢ + ٤٠ =$$

ثالثاً : أكمل ما يلي :

| الشكل | عدد الزوايا القائمة | عدد الزوايا المنفرجة | عدد الزوايا الحادة |
|---|---------------------|----------------------|--------------------|
|  | ٤ | ٠ | ٠ |
|  | ١ | ٠ | ٢ |

رابعاً : ارسم خط التناظر لكل من الأشكال التالية :



خامساً : ارسم مستطيلاً طوله ٥ سم وعرضه ٣ سم وأذكر عدد زواياه وعدد أضلاعه أ

ب



عدد زواياه الأربعة قائمة هي : أ ، ب ، ج ، د ، عدد أضلاعه أربعة وهي

القطع المستقيمة : [أب] ، [ج د] ، [أ ج] ، [ب د]

انتهت الأسئلة

مع تمنياتي لكم بالتوفيق والنجاح

امتحان الموسيقى الصف الرابع الأساسي الفصل الأول

أولاً : أكتب المقطع الأول من نشيد من بلدي ؟ / ١٠ درجات /

المستقبل الواعد

وأنا أحمل أملاً أجمل

أت من صوت المستقبل

الأمم الواعد قد أقبل

ستقول الدنيا لمحيي

آتٍ آتٍ آتٍ من صوت المستقبل

/ ١٠ درجات /

ثانياً : أملأ الفراغات بالكلمة المناسبة :

أ- آلة نفخية مصنوعة من القصب المجوف وعدد من الثقوب هي **آلة الناي** .

ب- آلة الكر يلفون تصدر لحناً نعزف عليها بواسطة **المطارق** .

/ ١٠ درجات /

ثالثاً : اختر الإجابة الصحيحة :

أ- قوس الوصل الزمني يصل بين :

(درجتين موسيقيتين مختلفتين ، درجتين موسيقيتين متماثلتين لحنياً ، درجة وسكتة)

ب- موقع درجة (فا) على المدرج الموسيقي :

(على الخط الأول ، على الخط الثاني ، في الفراغ الأول)

/ ١٠ درجات /

رابعاً : عرف المدرج الموسيقي

المدرج الموسيقي هو عبارة عن خمس خطوط أفقية متساوية ومتوازية تحصر بينها أربع فراغات وعلى

يسارها مفتاح الصول تدون الدرجات الموسيقية من الأسفل إلى الأعلى ومن اليسار إلى اليمين .

انتهت الأسئلة

مع تمنياتي لكم بالتوفيق والنجاح

نماذج امتحان الصف الرابع الأساسي الفصل الأول ٢٠١٩-٢٠٢٠ م

امتحان الدراسات الاجتماعية الصف الرابع الأساسي الفصل الأول

١- املأ الفراغات بالكلمات التالية (الوطن العربي - افريقيا - آسيا

- تركيا - العراق - الحسكة - المدرسة) (١٤ درجة)

أ- تقع سورية في نصف الكرة الأرضية وهي جزء من **الوطن العربي** الذي

يمتد على مساحة من قارتي **آسيا و افريقيا** .

ب- يحد سورية من جهة الشمال **تركيا** ومن جهة الشرق **العراق** .

ت- من الحقوق التي يجب أن أحصل عليها هي الذهاب إلى **المدرسة** .

ث- مدينة سورية تقع على نهر الخابور في **الحسكة** .

٢- اختر الإجابة الصحيحة : (١٠ درجات)

أ- تعد كثافة السكان مرتفعة في المنطقة

الساحلية - الشرقية - الداخلية

ب- تعد زيادة عدد السكان بسبب

الولادات - الوفيات - كثرة الأمراض

ت- يقابل بيت اللوح قديماً في يومنا هذا: المدرسة - المعلم = الدفاتر

ث- خدمات مجانية تقدمها الدولة : الشرطة - الهاتف - الكهرباء

ج- مدينة ساحلية وميناء سوريا الأول على البحر المتوسط هي

اللاذقية - حلب - دمشق

٣- أضع (صح) أمام العبارة الصحيحة و (خطأ) أمام العبارة الخطأ
(٨ درجات)

أ- عامل النظافة إنساناً كسولاً ولا يسعى لنظافة بيته ومدينته خطأ

ب- المدينة الاقتصادية الأولى في سورية وتقع في الشمال هي حلب صح

ت- من الخدمات المأجورة التي تقدمها الدولة الكهرباء صح

ث- من وسائل الإعلام في يومنا التلفاز والانترنت صح

٤- أصل كل عبارة من العمود الأول مع ما يناسبها في العمود الثاني:

(٨ درجات)

| | |
|----------------|---------------------------------------|
| اسم البرنامج | الفائدة منه |
| عالم الحيوانات | معرفة فائدة المدرسة وفائدة الذهاب لها |
| مدرستي | إنّ وطني سوريا أجمل بلدان العالم |
| موطني | التعرّف إلى الحيوانات وحياتها |
| النشرة الجوية | التعرّف إلى أخبار الطقس |

انتهت الأسئلة

مع تمنياتي لكم بالتوفيق والنجاح