

# مذكرات الطارق

الصف الخامس الابتدائي

سؤال وإجابة الوحدة الأولى

أ / طارق رمضان

**السؤال الأول: ضع كلمة (صح) أمام العبارة الصحيحة وكلمة (خطأ) أمام العبارة الخاطئة**

- ١- تقع مصر وسط قارات العالم الجديد (خطأ) القديم
- ٢- تقع مصر شمال غرب قارة أفريقيا (خطأ) شمال شرق
- ٣- الموقع الفلكى هو موقع المكان بالنسبة ليايس والماء (خطأ) الموقع الجغرافى
- ٤- رسم العلماء خطوط الطول ودوائر العرض لتحديد الأماكن بدقة على سطح الأرض (صح)
- ٥- خطوط الطول أنصاف خطوط رأسية تبدأ من القطب الشمالى وتنتهى عند القطب الجنوبى (خطأ) دوائر
- ٦- خط الطول الرئيسى يتمثل فى خط الإستواء (خطأ) جرينتش
- ٧- يتم خط جرينتش الأرض إلى شمال وجنوب (خطأ) خط الإستواء
- ٨- تمر دائرة السرطان فى شمال مصر (خطأ) جنوب مصر
- ٩- تستخدم دوائر العرض فى تحديد التوقيت على سطح الأرض (خطأ) خطوط الطول
- ١٠- تقع مصر فى إحدى قارات العالم الجديد (خطأ) القديم
- ١١- تستخدم دوائر العرض فى التعرف على أحوال المناخ (صح)
- ١٢- تمثل دائرة ٢٣.٥ شمالاً دائرة السرطان (صح)
- ١٣- دوائر العرض دوائر رأسية تحيط بالكرة الأرضية (خطأ) أفقية
- ١٤- تستخدم خطوط الطول فى تحديد مواقع الأماكن شرقاً وغرباً (صح)
- ١٥- تمثل دائرة صفر خط جرينتش (خطأ) دائرة الإستواء
- ١٦- يقع معظم مصر فى الإقليم المعتدل (خطأ) الصحراوى الحار
- ١٧- تبلغ مساحة مصر مليون كم٢ (صح)
- ١٨- تقع مصر إلى الغرب من البحر الأحمر (صح)
- ١٩- تقع مصر إلى الجنوب من البحر المتوسط (صح)
- ٢٠- ساعد موقع مصر على سهولة الإتصال بالعالم تجارياً وحضارياً (صح)
- ٢١- اقتصرت أهمية موقع مصر على التواصل التجارى مع دول العالم (خطأ) التجارى والحضارى

- ٢٢- تدور الأرض حول نفسها مرة كل ٢٤ ساعة (صح)
- ٢٣- يبلغ فرق التوقيت بين كل خط طول وآخر ٥ دقائق (خطأ) ٤
- ٢٤- الموقع الجغرافي هو الموقع بالنسبة لليابس والماء (صح)
- ٢٥- خطوط الطول أنصاف دوائر حقيقية تبدأ من القطب الشمالي وتنتهي عند القطب الجنوبي (خطأ) وهمية
- ٢٦- دائرة ( صفر ) تمثل خط الطول الرئيسي جرينتش (خطأ) الإستواء
- ٢٧- تستخدم دوائر العرض لتحديد موقع الأماكن شرقاً وغرباً (خطأ) خطوط الطول
- ٢٨- دوائر العرض دوائر أفقية متساوية أكبرها دائرة الإستواء (خطأ) غير متساوية
- ٢٩- تقع مصر بأكملها في نصف الكرة الشمالي (صح)
- ٣٠- تقع مصر بأكملها في نصف الكرة الشرقي (صح)
- ٣٢- تقع معظم مصر في الإقليم المعتدل (خطأ) الصحراوي الحار
- ٣٣- تقسم دائرة الاستواء الكرة الأرضية إلى نصفين متساويين شمالاً وجنوباً. (صح)
- ٣٤- تحتاج إلى معرفة خطوط الطول ودوائر العرض لتحديد الموقع الفلكي لمحافظةك. (صح)
- ٣٥- يمر مدار السرطان شمال مصر. (خطأ) جنوب مصر
- ٣٦- تقع مصر شمال غرب إفريقيا، وهي ملتقى قارات العالم القديم. (خطأ) شمال شرق
- ٣٧- ساهم افتتاح قناة السويس للملاحة في زيادة أهمية الموقع الجغرافي لمصر. (صح)
- ٣٨- تطل مصر من الغرب على البحر المتوسط ومن الشرق على البحر الأحمر. (خطأ)
- ٣٩- لكل دولة موقعان موقع جغرافي وآخر فلكي. (صح)
- ٤٠- تشرق الشمس في مدينة بورسعيد قبل مدينة السلوم. (صح)
- ٤١- تفيد دوائر العرض في تحديد الزمن ومعرفة فروق التوقيت. (خطأ)
- ٤٢- يتشابه خط جرينتش ودائرة الاستواء في أن درجتها (صفر). (صح)
- ٤٣- تبلغ مساحة مصر حوالي مليون كيلومتر مربع تقريباً. (صح)
- ٤٤- تفيد دوائر العرض في تعرف أحوال المناخ. (صح)
- ٤٥- تمتد خطوط الطول بين القطب الشمالي والقطب الجنوبي. (صح)

## السؤال الثاني : إكتب سبباً لما يلي ( فسر )

١- رسم العلماء خطوط الطول ودوائر العرض على الخرائط ؟

لتحديد الموقع بدقة على سطح الأرض

٢- لخط الطول جرينتش أهمية ؟

يقسم الكرة الأرضية لقسمين شرقي وغربي

٣- أهمية خطوط الطول ؟

١- تحديد الموقع على سطح الأرض شرقاً وغرباً ٢- تحديد الزمن ومعرفة فروق التوقيت بين الأماكن

٤- أهمية دوائر العرض

١- تحديد مواقع الأماكن شمال الكرة الأرضية أو جنوبها

٢- التعرف على أحوال المناخ من حيث ( الحرارة - الرياح - الأمطار )

٣- تقسيم الأرض إلى أقاليم مناخية

٥- تشرق الشمس على الأماكن الواقعة شرق خط جرينتش قبل الأماكن الواقعة غرب خط جرينتش

بسبب دوران الأرض حول نفسها أمام الشمس مرة كل ٢٤ ساعة

٦- وقوع معظم الأراضي المصرية في الإقليم الصحراوي الحار

إمتداد مصر بين دائرتي عرض ٢٢ و ٣٦.٣٦ شمالاً

٧- أهمية الموقع الجغرافي والفلكي لمصر

أ - تحديد موقع مصر بدقة على سطح الأرض      ب - تحديد الزمن      ٣- التعرف على مناخ مصر

## السؤال الثالث : إكتب المصطلح العلمي

١- إقليم مناخي يمثل معظم مساحة مصر ( الصحراوي الحار )

٢- إقليم مناخي يتمثل في الأجزاء الشمالية لمصر ( البحر المتوسط )

٣- موقع المكان بالنسبة لليابس والماء ( الموقع الجغرافي )

٤- موقع المكان بالنسبة لخطوط الطول ودوائر العرض ( الموقع الفلكي )

٥- خط طول رئيسي ودرجة صفر ( خط جرينتش )

٦- خط طول رئيسي يقسم الكرة الأرضية لصفين شرقي وغربي ( خط جرينتش )

- ٧- دائرة عرض رئيسية تقسم الأرض إلى نصف شمالي ونصف جنوبي ( دائرة الإستواء )
- ٨- دائرة عرض رئيسية درجتها ٢٣.٥ جنوباً ( الجدى )
- ٩- دائرة عرض رئيسية درجتها ٢٣.٥ شمالاً ( السرطان )
- ١٠- البحر الذى تقع مصر غربه ( البحر الأحمر )
- ١١- بحر يحد مصر من الشمال ( البحر المتوسط )
- ١٢- قارة آسيا وأفريقيا وأوربا ( قارات العالم القديم )

### السؤال الرابع: ما الأثر الناتج عن ( ما النتائج المترتبة على ما يلي )

١- دوران الأرض حول نفسها أمام الشمس كل ٢٤ ساعة

تشرق الشمس على الأماكن الواقعة شرق خط جرينتش قبل الأماكن الواقعة غرب خط جرينتش

٢- رسم العلماء خطوط الطول ودوائر العرض على الخرائط والمجسمات

تحديد مواقع الأماكن بدقة على سطح الأرض

٣- موقع مصر الفلكي ( أو : موقع مصر بين دائرتي عرض ٢٢ و ٣١.٣٦ شمالاً )

وقوع معظم الأراضي المصرية ضمن الإقليم الصحراوي الحار ما عدا الأراضي الشمالية على سواحل البحر المتوسط تقع ضمن الإقليم المعتدل

### السؤال الخامس: إختار الإجابة الصحيحة مما بين الأقواس

١- الموقع الفلكي هو موقع المكان بالنسبة .....

( لخطوط الطول فقط - لدوائر العرض فقط - لخطوط الطول ودوائر العرض - لليابس والماء )

٢- خطوط الطول خطوط ..... ( أفقية - أفقية وهمية - رأسية حقيقية - رأسية وهمية )

٣- تستخدم فى تحديد الزمن وفروق التوقيت بين الأماكن .....

( خطوط الطول - دوائر العرض وخطوط الطول - دوائر العرض - شبكة الإحداثيات )

٤- تكبر دوائر العرض كلما إتجهنا .....

( جنوب دائرة الإستواء - شمال دائرة الإستواء - جنوب مدار السرطان - نحو دائرة الإستواء )

٥- دائرة عرض ٢٣.٥ شمالاً تمثل دائرة ..... ( الجدى - الإستواء - السرطان - القطب الشمالي )

٦- دائرة عرض ٢٣.٥ جنوباً تمثل دائرة ..... ( جرينتش - السرطان - الإستواء - الجدى )

٧- تفيد دوائر العرض فى تحديد .....

( مواقع الأماكن - أحوال المناخ - الأقاليم المناخية - كل ما سبق )

٨- دائرة العرض الرئيسية التى تمر فى جنوب مصر ..... ( الجدى - الإستواء - السرطان - القطب الشمالى )

٩- الإقليم الذى يمثل الأراضى الشمالية لمصر ..... ( الصحراوى الحار - الإقليم المعتدل - الإستوائى - الموسمى )

١٠- تدور الأرض حول ..... مرة كل ٢٤ ساعة ( الشمس - القمر - نفسها - المجرة )

١١- يبلغ فرق التوقيت بين كل خط طول والآخر ..... ( ٣ دقائق - دقيقة - ٤ دقائق - ٥ دقائق )

١٢- زادت أهمية موقع مصر بعد حفر ..... ( قناة سيزوستريس - ترعة السلام - ترعة الإسماعيلية - قناة السويس )

١٣- يقسم خط جرينتش الكرة الأرضية إلى نصفين متساويين .....

( شرقى وشمالى - غربى وجنوبى - شمالى وجنوبى - شرقى وغربى )

١٤- تقع معظم الأراضى المصرية ضمن الإقليم .....

(الصحراوى الحار - الموسمى - الإستوائى - المعتدل )

١٥ - أي من المدن المصرية التالية تغرب عنها الشمس أولاً ..... ( رفح - بورسعيد - كفر الشيخ - السلوم )

١٦ - دائرة العرض الرئيسية هي ..... (دائرة الاستواء - مدار السرطان - مدار الجدي - القطب الجنوبي)

١٧- أي من دوائر العرض التالية تمر داخل الأراضى المصرية .....

(الاستواء - مدار السرطان - جرينتش - مدار الجدي)

١٨- تساعد خطوط الطول في تحديد ..... (درجة الحرارة - الرياح - كمية الأمطار - الزمن)

١٩ - تقع مصر بين خطي طول ٢٥ و ٣٧ .....

(شرق جرينتش - شمال مدار الجدي - غرب جرينتش- جنوب دائرة الاستواء)

## س٦ صوب ما تحته خط

١ - خط الطول الرئيسي هو خط الاستواء. السرطان

٢ - قارات العالم القديم هي قارات آسيا وإفريقيا وأستراليا. أوروبا

٣ - دائرة العرض الرئيسية التي توجد جنوب دائرة الاستواء هي مدار السرطان. الجدى

٤ - دائرة العرض التي تمر في جنوب الأراضى المصرية هي مدار الجدي السرطان

## س ٧ حدد أوجة التشابه والإختلاف بين كلاً من

١- دائرة الإستواء وخط جرينتش

خط جرينتش	دائرة الإستواء	
تستخدم في تحديد مواقع الأماكن		أوجة التشابه
١- تحديد موقع المكان شرقاً وغرباً ٢- معرفة الزمن	١- تحديد موقع المكان شمالاً وجنوباً ٢- معرفة أحوال المناخ	أوجة الإختلاف

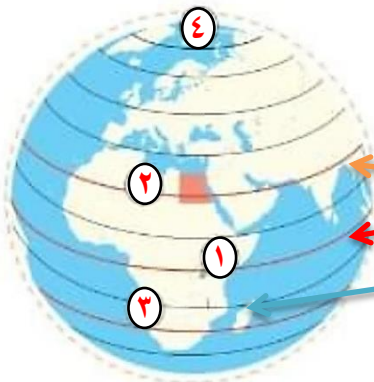
٢- خطوط الطول ودوائر العرض

خطوط الطول	دوائر العرض	
تستخدم في تحديد مواقع الأماكن		أوجة التشابه
١- تحديد موقع المكان شرقاً وغرباً ٢- معرفة الزمن	١- تحديد موقع المكان شمالاً وجنوباً ٢- معرفة أحوال المناخ	أوجة الإختلاف

٣- مدار السرطان ومدار الجدى

مدار الجدى	مدار السرطان	
الإثنين دوائر عرض		أوجة التشابه
يثع في نصف الكرة الجنوبي	يقع في نصف الكرة الشمالى	أوجة الإختلاف

س ٨ صل كل كلمة بمكانها المناسب على الشكل

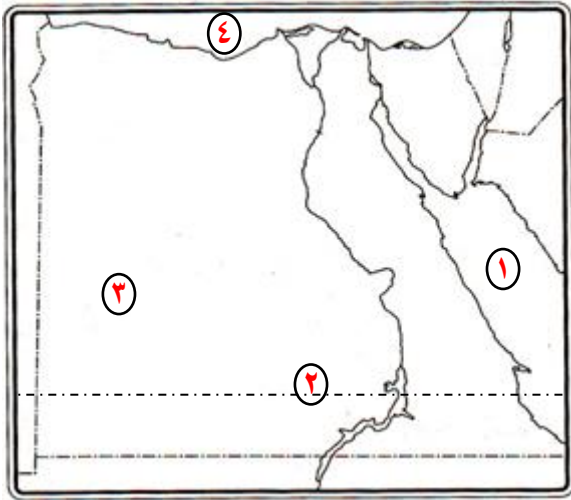


أ- دائرة الإستواء

ب - مدار الجدى

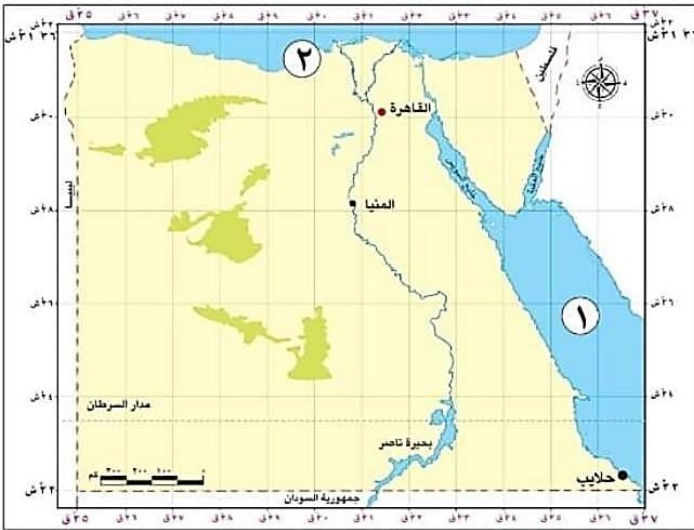
ج - مدار السرطان

س ٩ : أكمل مدلول الخريطة التالية



- ١- البحر المتوسط يمثل رقم ..... ٤ .....
- ٢- رقم ( ٢ ) يمثل دائرة عرض ..... السرطان .....
- ٣- البحر الأحمر مثل رقم ..... ١ .....
- ٤- الإقليم الصحراوي الحار يمثله رقم ..... ٣ .....

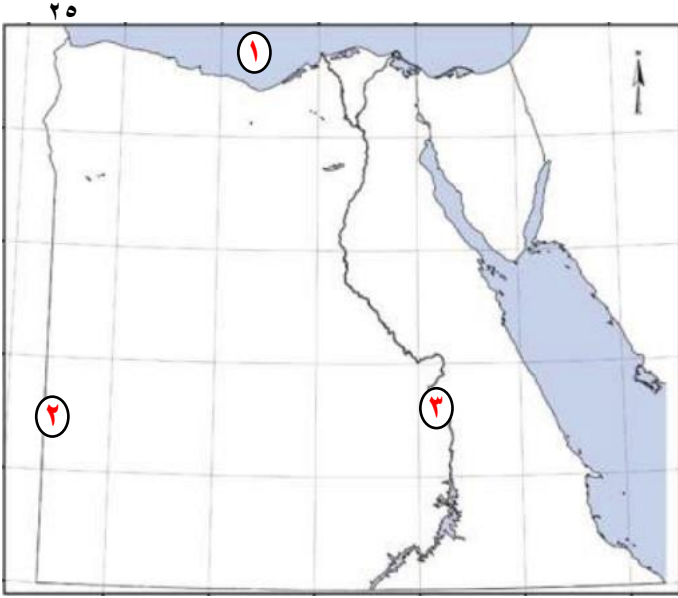
س ١٠ لاحظ الخريطة ثم أجب :



- ١- البحر ..... الأحمر .....
- ٢- ساحل البحر ..... المتوسط .....
- ٣- يلتقى مدار السرطان من خط طول ٣٢ بالقرب من بحيرة ..... ناصر .....
- ٤- إختار : تفصل دائرة عرض ٢٢ بين مصر ودولة .....  
( ليبيا - السودان - الأردن - السعودية )

٥- أوجد موقع كل من المدن التالية بالنسبة لمدار السرطان .....

- أ - المنيا ..... شمال ..... ب- حلايب ..... جنوب ..... ج - القاهرة ..... شمال .....



## س ١١ لاحظ الخريطة ثم أجب :

- ١- البحر .....المتوسط....
- ٢- صوب ما تحته خط : يقع خط طول ٢٥ شرق جرينتش  
**شرق مصر ( غرب )**
- ٣- تقع المدينة رقم ( ٣ ) فى الإقليم .....**الصحراوى**.....

العراق  
فج  
الدراسات الاجتماعية

## سؤال وإجابة

## قصة نشأة الحضارة المصرية القديمة

## س ١ أكمل العبارات التالية :

- ١- تعد ..... **القرية الفرعونية** ..... متحفاً مفتوحاً يعرض ملامح الحضارة المصرية القديمة
- ٢- يعتبر الدكتور ..... **حسن رجب** ..... صاحب فكرة إنشاء القرية الفرعونية
- ٣- عاش المصرى القديم فى بداية حياته فوق ... **الهضاب** ... وعند حلول ... **الجفاف** ... نزل إلى وادى النيل
- ٣- عند نزول المصرى إلى الوادى بنى بيوته من ... **الطوب اللبن** .....
- ٤- عاش المصرى القديم فوق الهضاب داخل ..... **الكهوف** .....
- ٥- تكونت الأقاليم من إتحاد ..... **القرى** ..... و ..... **المدن** .....
- ٦- عند حلول ..... **الجفاف** ... نزل المصرى القديم إلى وادى النيل
- ٧- تمثلت عاصمة مملكة الشمال فى مدينة ... **بوتو** ... أما مملكة الجنوب مدينة ... **نخب** .....
- ٨- كان لون تاج مملكة الشمال ..... **احمر** ..... و مملكة الجنوب ..... **أبيض** .....
- ٩- استطاع الملك ..... **نعرمر** ..... توحيد مصر عام ٣٢٠٠ ق م
- ١٠- كانت عاصمة اول وحدة لمصر مدينة ... **أون** ..... وثانى وحدة عاصمتها ..... **منف** .....
- ١١- أسس أول أسرة فرعونية فى تاريخ مصر الملك ..... **مينا** .....
- ١٢- الموقع الحالى لمدينة أون هو ..... **عين شمس أو المطرية** .....
- ١٣- الموقع الحالى لمدينة طيبة هو ..... **الأقصر** .....
- ١٤- أطلق على عصر الدولة الحديثة عصر ... **المجد الحربى** ... بينما عصر الدولة الوسطى عصر ..... **الرخاء الإقتصادى** .....
- ١٥- أطلق على عصر الدولة القديمة عصر ..... **بناء الأهرام** .....
- ١٦- من العوامل الطبيعية التى ساعدت على قيام الحضارة المصرية القديمة ... **نهر النيل** ... و ... **الموقع** .....
- و ..... **المناخ** ..... و ... **الثروة المعدنية** .....
- ١٧- من العوامل البشرية لقيام الحضارة المصرية القديمة ... **الجيش** ... و ... **الوحدة** ...
- و ... **كفاح الشعب المصرى** .....

- ١٨- ساعد .... **المناخ** ... على تنوع المحاصيل الزراعية في مصر
- ١٩- ساعد .... **نهر النيل** .... على استقرار المصري القديم وتعلم الزراعة
- ٢٠- ساعد تنوع .... **الثروة المعدنية** .... على تنوع الصناعات في مصر القديمة
- ٢١- استطاع الملك تحتمس الثالث الانتصار على الأعداء في معركة ..... **مجدو** ....

## س٢ ضع كلمة ( صح ) أمام العبارة الصحيحة وكلمة ( خطأ ) أمام العبارة الخاطئة

- ١- نشأت قرى من تجمع مجموعه من المدن ( خطأ )
- ٢- تكونت الأقاليم من تجمع القرى والمدن ( صح )
- ٣- ظهرت القرى في مص القديمة وتبعتها المدن ( صح )
- ٤- تعد القرية الفرعونية متحفاً مفتوحاً يعرض ملامح الحضارة المصرية ( صح )
- ٥- تقع القرية الفرعونية بمحافظة القاهرة على الضفة الغربية للنيل ( خطأ ) الجيزة
- ٦- عاش الإنسان المصري القديم حياة تنقل فوق الهضاب ( صح )
- ٧- سكن المصري القديم بيوتاً من الطوب اللبن فوق الهضاب ( خطأ ) الكهف
- ٨- عمل المصري القديم بصيد الحيوانات بعد نزولة إلى الوادى ( خطأ ) الزراعة وتربية الحيوان
- ٩- حلول الجفاف كان سبباً في نزول المصري القديم إلى وادى النيل ( صح )
- ١٠- تكونت الأقاليم من تجمع القرى فقط ( خطأ ) القرى والمدن
- ١١- كان لكل إقليم حاكم وعاصمة وجيش ( صح )
- ١٢- كانت عاصمة للملكة الشمال مدينة ( نخب ) ( خطأ ) بوتو
- ١٣- كان تاج مملكة الشمال باللون الأحمر ( صح )
- ١٤- ثعبان الكوبرى كان يمثل معبود مملكة الجنوب ( خطأ ) أنثى النسر
- ١٥- كانت عاصمة مملكة الجنوب مدينة بوتو ( خطأ ) نخب
- ١٦- أول وحدة سياسية لمصر كانت ٤٢٤٢ ق م ( صح )
- ١٧- أول أسرة فرعونية في تاريخ مصر كانت عام ٣٢٠٠ ق م ( صح )
- ١٨- كانت ( منف ) او عاصمة لمصر الموحدة ( خطأ ) أون هليوبوليس
- ١٩- استمرت ونجحت وحدة البلاد ٤٢٤٢ ق م ( خطأ ) فشلت سريعاً

- ٢٠- استطاعت مملكة الجنوب ٤٢٤٢ ق م من توحيد مصر ( خطأ ) مملكة الشمال
- ٢١- كانت الملك ( نعمر ) حاكم بمملكة الجنوب ( صح )
- ٢٢- كان الملك نعمر ملك مدينة طيبة ( صح )
- ٢٣- بعد توحيد البلاد ٣٢٠٠ ق م لبس الملك مينا تاج مملكة الشمال فقط لإرضائهم ( خطأ ) التاج المزدوج
- ٢٤- سبقت مدينة منف كعاصمة لمصر قبل مدينة أون ( خطأ ) أون ثم منف
- ٢٥- تمثل مدينة طيبة مدينة الأصر حالياً ( صح )
- ٢٦- قسم المؤرخون تاريخ القدماء المصريين إلى ٣ عصور ( خطأ ) أربع عصور
- ٢٧- أطلق على عصر الدولة الحديثة عصر الرخاء الإقتصادي ( خطأ ) المجد الحربي
- ٢٨- أطلق على عصر الدولة القديمة عصر بناء الأهرامات ( صح )
- ٢٩- أطلق على عصر الدولة الوسطى عصر الرخاء الإقتصادي ( صح )
- ٣٠- بدأ العصر العتيق بتوحيد الملك مينا للبلاد ٣٢٠٠ ق م ( صح )
- ٣١- بدأ العصر العتيق بتوحيد نعمر للبلاد ٤٢٤٢ ق م ( خطأ ) ٣٢٠٠ ق م
- ٣٢- إهتم ملوك عصر الدولة الحديثة بإقامة الأهرامات ( خطأ ) الدولة القديمة
- ٣٣- إهتم ملوك الدولة الوسطى بإقامة المشروعات في عديد من المجالات ( صح )
- ٣٤- تميز العصر العتيق بالإستقرار ( صح )
- ٣٥- تبع عصر الدولة الوسطى فترة ضعف ( صح )
- ٣٦- يعتبر الجيش من العوامل الطبيعية التي ساعدت على قيام الحضارة المصرية القديمة ( خطأ ) بشرية
- ٣٧- يعتبر موقع مصر عاملاً بشرياً ساعد على قيام الحضارة المصرية القديمة ( خطأ ) طبيعياً
- ٣٨- قدس المصري القديم نهر النيل بإعتبارة الحياة ( صح )
- ٣٩- ساعد وجود نهر النيل على إستقرار المصري القديم فوق الهضاب ( خطأ ) حول النهر أو الوادي
- ٤٠- ساعد موقع مصر المتميز على نشاط التجارة ( صح )
- ٤١- ساعد تنوع المناخ في مصر على تنوع المحاصيل الزراعية ( صح )
- ٤٢- ساعد تنوع المناخ في مصر على الحفاظ علا الآثار ( صح )
- ٤٣- تلتزم الدولة بحماية نهر النيل ( صح )
- ٤٤- ساعد تنوع الثروة المعدنية على بناء الأهرامات والتماثيل ( صح )
- ٤٥- الجيش المصري ثانی الجيوش التي عرفتها البشرية ( خطأ ) أول الجيوش

- ٤٦- أصبح لمصر جيش موحد بعد توحيد مينا للبلاد (صح)
- ٤٧- خاض الملك نعرمر معركة مجدو وانتصر فيها (خطأ) تحتس الثالث
- ٤٨- كون الملك مينا أول إمبراطورية فى التاريخ (خطأ) تحتس الثالث
- ٤٩- تميز الجيش المصرى بالقيم الأخلاقية فى التعامل مع المدنيين (صح)
- ٥٠- ظهرت الحكومة المركزية لترعى مصالح الحكام (خطأ) مصالح الشعب
- ٥١- كفاح المصرى كان من العوامل الطبيعية لقيام الحضارى المصرية (خطأ) البشرية

### س٣ ما الأثر الناتج عن أو ما النتائج المترتبة على

- ١- حدوث الجفاف فى العصر القديمة ؟ نزول المصرى القديم إلى وادى النيل وعرف الزراعة
- ٢- تجمع البيوت مع بعضها البعض ؟ نشأت القرى
- ٣- اتحاد القرى والمدن ؟ نشأة الأقاليم
- ٤- إنشاء حسن رجب للقرية الفرعونية ؟ أصبحت متحفاً مفتوحاً لملاح الحضارة المصرية القديمة
- ٥- توحيد الملك مينا للبلاد ؟
- جعل ( منف ) عاصم للبلاد - أنشأ أول جيش موحد - لبس التاج المزدوج - أسس الأسرة الأولى
- ٦- أول وحدة لمصر ٤٢٤٢ ق م ؟ أصبحت ( أون ) أول عاصمة لمصر الموحدة
- ٧- إهتمام ملوك الدولة القديمة ببناء الأهرامات ؟ أطلق على هذا العصر ( عصر بناء الأهرام )
- ٨- إهتمام ملوك الدولة الوسطى بإقامة المشروعات فى عديد من المجالات ؟
- أطلق على هذا العصر ( عصر الرخاء الإقتصادى )
- ٩- إهتمام ملوك الدولة الحديثة بالتوسع خارج حدود دولته ؟ أطلق على هذا العصر ( عصر المجد الحربى )
- ١٠- حريان نهر النيل فى مصر ؟
- أ ( استقرار المصرى القديم ب ) تعلم الزراعة ج ( قيام الحضارة المصرية
- ١١- موقع مصر الجغرافى المتميز ؟ قيام الحضارة المصرية - نشاط التجارة
- ١٢- تنوع مناخ مصر ؟ تنوع المحاصيل الزراعية - المحافظة على الأثار - قيام الحضارة المصرية
- ١٣- تنوع الثروات المعدنية فى مصر ؟ بناء الأهرامات والتمائيل - تقدم الصناعة - قيام الحضارة المصرية
- ١٤- إقامة حكومة مركزية فى مصر ؟ رعاية مصالح الشعب

## س؛ إكتب ما تشير إليه العبارة

- ١- صاحب فكرة إنشاء القرية الفرعونية ( **دكتور حسن رجب** )
- ٢- المحافظة التي توجد بها القرية الفرعونية ( **الجيزة** )
- ٣- كان يسكن بداخلها المصري القديم فوق الهضاب ( **الكهوف** )
- ٤- عند حدوثه نزل المصري القديم إلى الوادي ( **الجفاف** )
- ٥- الحرفة التي عمل بها المصري القديم فوق الهضاب ( **جمع الثمار وصيد الحيوانات** )
- ٦- الحرفة التي عمل بها المصري القديم عند نزوله إلى وادي النيل ( **الزراعة وتربية الحيوانات** )
- ٧- تكونت من اتحاد القرى ( **المدن** )
- ٨- تكونت من اتحاد القرى والمدن ( **الأقاليم** )
- ٩- عاصمة مملكة الشمال ( **بوتو** )
- ١٠- عاصمة مملكة الجنوب ( **نخب** )
- ١١- شعار مملكة الشمال ( **نبات البردى** )
- ١٢- شعار مملكة الجنوب ( **زهرة اللوتس** )
- ١٣- لون تاج مملكة الشمال ( **أحمر** )
- ١٤- لون تاج مملكة الجنوب ( **أبيض** )
- ١٥- المدينة التي خرج منها الملك نعرمر ( **طيبة** )
- ١٦- المملكة التي وحدت مصر ٤٢٤٢ ق م ( **مملكة الشمال** )
- ١٧- عاصمة مصر ٤٢٤٢ ق م ( **أون** )
- ١٨- عاصمة مصر ٣٢٠٠ ق م ( **منف** )
- ١٩- الموقع الحالي لمدينة طيبة ( **الأقصر** )
- ٢٠- أسس أول أسرة فرعونية ( **نعرمر أو مينا** )
- ٢١- إسم أطلق على العصر الذي بدأ بتوحيد مينا للبلاد ( **العصر العتيق** )
- ٢٢- إسم أطلق على عصر الدولة القديمة ( **عصر بناء الأهرامات** )
- ٢٣- إسم أطلق على عصر الدولة الوسطى ( **عصر الرخاء الإقتصادي** )
- ٢٤- إسم أطلق على عصر الدولة الحديثة ( **عصر المجد الحربي** )

- ٢٥- عصر إهتم ملوكة بإقامة المشروعات فى العديد من المجالات ( عصر الرخاء الإقتصادى )
- ٢٦- أسس أول إمبراطورية فى التاريخ ( تحتمس الثالث )
- ٢٧- عصر يبدأ بتوحيد البلاد ٣٢٠٠ ق م ( العصر العتيق )
- ٢٨- عامل طبيعى ساعد على قيام الحضارة المصرية وإستقرار المصرى القديم ( نهر النيل )
- ٢٩- عامل بشرى ساعد على قيام الحضارة المصرية والدفاع عن البلاد ( الجيش )
- ٣٠- عامل طبيعى ساعد على قيام الحضارة المصرية وتنوع المحاصيل الزراعية ( المناخ )
- ٣١- عامل طبيعى ساعد على قيام الحضارة المصرية والمحافظة على الآثار ( المناخ )
- ٣٢- معركة إنتصر فيها تحتمس الثالث على الأعداء ( مجدو )

## س٥ ما العلاقة بين

### ١- الجفاف والزراعة ؟

عند حدوث الجفاف نزل المصرى القديم إلى وادى النيل ومارس الزراعة

### ٢- المناخ - والمحاصيل الزراعية فى مصر القديمة ؟

تنوع المناخ أدى إلى تنوع الحاصل

### ٣- المعادن وقيام الحضارة المصرية القديمة ؟

ساعدت تنوع الثروة المعدنية على قيام المصرى القديم بصناعة أدواته والحلى وبناء الأهرامات والمعابد والتمائيل

### ٤- الجيش المصرى - وأول إمبراطورية فى التاريخ

بفضل الجيش المصرى إستطاع الملك تحتمس الثالث تكوين أول إمبراطورية فى التاريخ

## س٦ إذكر السبب - بم تفسر

١- نزول المصرى القديم إلى وادى النيل وهجرته من الهضاب ؟ بسبب حدوث الجفاف على الهضاب

٢- تسمية عصر بناء الأهرام بهذا الإسم ؟

نسبة للأهرامات الضخمة التى شيدها ملوك هذا العصر

٣- تسميه عصر الدولة الوسطى بالرخاء الإقتصادى ؟ لأن الملوك إهتموا بإقامة مشروعات فى عديد من المجالات

#### ٤- تسمية عصر الدولة الحديثة بعصر المجد الحربي؟

لأن ملوك هذا العصر إهتموا بالتوسع خارج حدود الدولة ودخلوا العديد من المعارك التي انتصروا فيها

#### ٥- تكون الأقاليم؟ بسبب اتحاد القرى والمدن

#### ٦- أهمية موقع مصر الجغرافي بالنسبة للحضارة المصرية القديمة؟

ساعد على تواصل مصر مع غيرها من الدول وتقد التجارة

#### ٧- أهمية تهر النيل بالنسبة للقدماء المصريين؟ ساعد على قيام الزراعة - وإستقرار المصري القديم

#### ٨- أهمية القرية الفرعونية للسياحة؟ لأنها عبارة عن متحف يضم أشخاصاً حقيقيين يرتدون ملابس فرعونية ويجسدون الحياة المصرية القديمة

#### ٩- قيام الحضارة المصرية القديمة؟ بسبب توافر عدة عوامل:

أ) طبيعية: مثل نهر النيل - الموقع الجغرافي المتميز - مناخ مصر - الثروات المعدنية

ب) بشرية: الجيش القوى - الوحدة - الحكومة المركزية - كفاح المصريين

#### ١٠- اتسمت حياة المصري القديم بالتنقل والترحال

لأنه كان يتنقل فوق الهضاب من أجل جمع الثمار وصيد الحيوانات وكان يسكن الكهوف

### س ٧ إكمل الجدول التالي

المعبود	الشعار	لون التاج	العاصمة	
ثعبان الكوبرى	البردى	أحمر	بوتو	مملكة الشمال
أنثى النسر	زهرة اللوتس	أبيض	نخب	مملكة الجنوب

الشخصية	العمل
الملك نعرمر	١- قام بتوحيد البلاد ٣٢٠٠ ق م
تحتمس الثالث	٢- قام بالانتصار على الأعداء فى معركة مجدو
دكتور حسن رجب	٣- صاحب فكرة إنشاء القرية الفرعونية
تحتمس الثالث	٤- أقام أول إمبراطورية فى التاريخ

## س إكمل الشكل التالى

### قسم المؤرخون تاريخ القدماء المصريين إلى

عصر الدولة الحديثة

عصر الدولة .....

عصر الدولة القديمة

العصر .....

### عوامل قيام الحضارة المصرية القديمة

عوامل بشرية

..... ١-

الوحدة -٢

..... ٣-

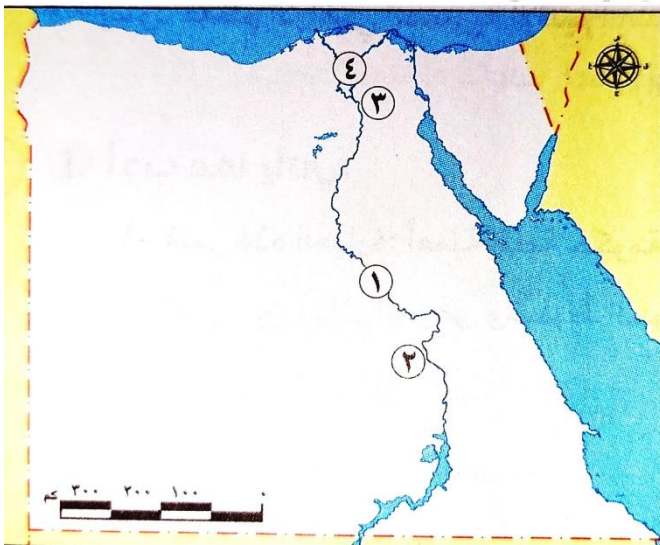
عوامل طبيعية

..... ٤-

المناخ -٣

..... ٢-

نهر النيل -١

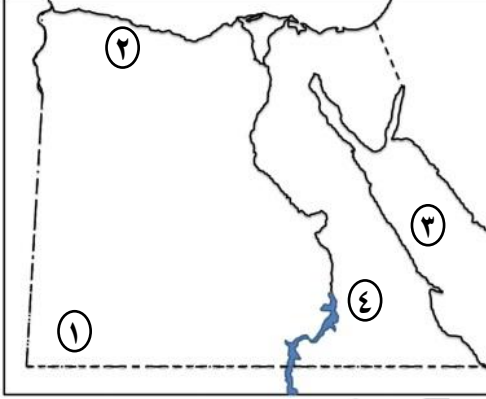


### س ٨ لاحظ الخريطة ثم أجب

- ١- نهر ..... النيل.....
- ٢- مدينة خرج منها الملك مينا ..... طيبة.....
- ٣- عاصمة مصر أثناء الوحدة الأولى  
عام ٤٢٤٢ ق م ..... أون .....
- ٤- مملكة .. الشمال.....

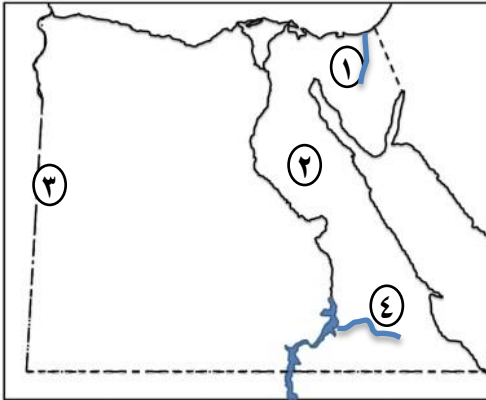
## مظاهر سطح بلدى

## س ١ وضح مدلول الأرقام على الخريطة التالية :



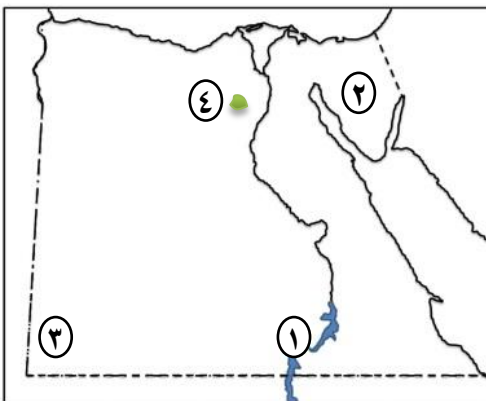
- ١- يمثل رقم ... ٤... هضبة العباددة
- ٢- يمثل رقم ... ٢... هضبة مرمريكا
- ٣- يمثل رقم ... ٣... البحر الأحمر
- ٤- يمثل رقم ... ١... هضبة الجلف الكبير

## س ٢ وضح مدلول الأرقام على الخريطة التالية :



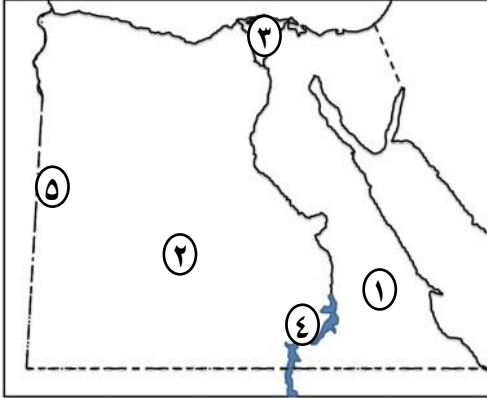
- ١- يمثل رقم ... ٤... وادى العلاقى
- ٢- يمثل رقم ... ١... وادى العريش
- ٣- يمثل رقم ... ٢... هضبة المعازة
- ٤- يمثل رقم ... ٣... بحر الرمال العظيم

## س ٣ وضح مدلول الأرقام على الخريطة التالية :



- ١- بحيرة ناصر
- ٢- هضبة التية
- ٣- جبل العوينات
- ٤- منخفض الفيوم

## س؛ وضع مدلول الأرقام على الخريطة التالية :



- ١- الصحراء ..... الشرقية ....
- ٢- الصحراء ..... الغربية ....
- ٣- منطقة زراعية ..... الدلتا ....
- ٤- بحيرة ..... ناصر ....
- ٥- بحر ..... الرمال العظيم ...

## س ه أكمل العبارات التالية :

- ١- يعتبر .. **الوادي والدلتا والفيوم** ..... أصغر الوحدات التضاريسية في مصر
- ٢- يعبر سبب نشأة الوادي والدلتا والفيوم هو ..... **التعريه المائية** .....
- ٣- ..... **الدلتا** ..... عبارة عن رواسب فيضية تكونت عند مصب نهر النيل
- ٤- تبدو الدلتا على شكل ..... **مثلث** ..... وتكونت عند ..... **مصب** ..... نهر النيل
- ٥- تنقسم مصر إلى ..... **٤** ..... أقسام تضاريسية تشمل ..... **الوادي والدلتا والفيوم** ..... و ..... **الصحراء الشرقية** ..... و ..... **الصحراء الغربية** ..... و ..... **سيناء** .....
- ٦- ..... **الصحراء الشرقية والغربية** ..... تمثل ٩٥% من مساحة مصر
- ٧- تعتبر ..... **الصحراء الغربية** ..... أكبر الأقاليم التضاريسية في مصر
- ٨- يمتد نهر النيل في مصر من ..... **الجنوب** ..... إلى ..... **الشمال** ..... ويصب في ..... **البحر المتوسط** .....
- ٩- ينبع نهر النيل من بحيرة ..... **فيكتوريا** ..... وسط قارة ..... **أفريقيا** .....
- ١٠- يقع منخفض الفيوم ..... **جنوب غرب** ..... القاهرة
- ١١- تروى أراضي الفيوم بمياة نهر النيل عن طريق ترعة ..... **بحر يوسف** .....
- ١٢- يقع منخفض الفيوم في الصحراء ..... **الغربية** .....
- ١٣- تمثل الصحراء الغربية ..... **ثلثي** ..... مساحة مصر
- ١٤- من الهضاب الممتدة في جنوب مصر هضبة ..... **الجلف الكبير** .....
- ١٥- يمتد جبل العوينات وهضبة الجلف الكبير في الصحراء ..... **الغربية** .....

- ١٦- تكونت منخفضات الصحراء الغربية نتيجة التعرية ..... **الهوائية والمائية** .....
- ١٧- تكونت واحة سيوة والبحرية والفرافرة نتيجة ..... **التعريه الهوائية والمائية** .....
- ١٨- يتركز السكان فى منخفضات الصحراء الغربية نتيجة إنتشار ..... **الزراعة والتعدين** ....
- ١٩- يمتد بحر ..... **الرمال العظيم** ..... بين مصر وليبيا
- ٢٠- من منخفضات الصحراء الغربية ... **سيوة** ... و ..... **البحرية** ..... و ..... **الفرافرة** ..... و ..... **الداخلة** ..... و ..... **الخارجة** .....
- ٢١- توجد هضبة ..... **مرمرىكا** ..... شمال الصحراء الغربية
- ٢٢- الصحراء ..... **الشرقية** ..... صحراء جبلية هضبية
- ٢٣- تكونت جبال البحر الأحمر نتيجة ..... **حركات إنكسارية** ..... أصابت الصخور الصلبة
- ٢٤- يعتبر جبل ..... **الشايب البنات** ..... أعلى جبال البحر الأحمر
- ٢٥- من هضاب الصحراء الشرقية هضبة ..... **العبادة** ..... وهضبة ..... **المعازة** .....
- ٢٦- ..... **الأودية الجافة** ..... مدارى مائية كانت تملؤها المياة قديماً ثم جفت
- ٢٧- من الأودية المنتشرة بالصحراء الشرقية وادى ..... **العلاقى** .....
- ٢٨- يوجد جبل موسى فى ..... **جنوب** ..... سيناء
- ٢٩- من جبال جنوب سيناء جبل ..... **سانت كاترين** ..... و ..... **موسى** .....
- ٣٠- توجد هضبة ..... **التية** ... فى وسط سيناء
- ٣١- ينحدر وادى العريش نحو ..... **الشمال** ..... ليصب فى ..... **البحر المتوسط** .....
- ٣٢- من أودية شبة جزيرة سيناء وادى ... **العريش** ..... ووادى ..... **فيران** .....
- ٣٣- تبدو الصحراء الغربية على شكل ..... **مستطيل** .....

## س٦ ضع كلمة ( صح ) أمام العبارة الصحيحة وكلمة ( خطأ ) أمام العبارة الخاطئة

- ١- تتكون مصر من ٣ أقسام تضاريسية ( خطأ ) أربعة
- ٢- تبدو الدلتا على شكل مثلث ( صح )
- ٣- تكونت الدلتا من الرواسب الساحلية عند مصب نهر النيل ( خطأ ) الفيضية
- ٤- تكونت الدلتا من الرواسب الفيضية التى تكونت عند منبع النيل ( خطأ ) مصب

- ٥- تمتد الصحراء الشرقية غرب البحر الأحمر (صح)
- ٦- تمتد الصحراء الغربية شرق ليبيا (صح)
- ٧- يمتد وادى النيل من الشمال إلى الجنوب (خطأ) من الجنوب إلى الشمال
- ٨- يعتبر الوادى والدلتا والفيوم أكبر الأقاليم التضاريسية فى مصر (خطأ) أصغر
- ٩- تعتبر الصحراء الشرقية أكبر الأقاليم التضاريسية فى مصر (خطأ)
- ١٠- توجد بحيرة ناصر فى جنوب وادى النيل بمصر (صح)
- ١١- يوجد منخفض الفيوم جنوب شرق القاهرة (خطأ) جنوب غرب القاهرة
- ١٢- توجد القاهرة شمال شرق الفيوم (صح)
- ١٣- يتصل منخفض الفيوم بنهر النيل عن طريق ترعة بحر يوسف (صح)
- ١٤- يعتبر نهر النيل أكل أنهار العالم (صح)
- ١٥- يختلف منخفض الفيوم عن باقى المنخفضات الصحراوية بترتبة الخصبة (صح)
- ١٦- تمتد هضبة العبادة بالصحراء الغربية (خطأ) الصحراء الشرقية
- ١٧- توجد هضبة الجلف الكبير فى جنوب الصحراء الشرقية (خطأ) جنوب الصحراء الغربية
- ١٨- يوجد هضبة الجلف الكبير شرق هضبة العبادة (خطأ) غرب
- ١٩- يمتد جبل العوينات فى شمال مصر (خطأ) جنوب
- ٢٠- يمتد منخفض الفيوم فى الصحراء الشرقية (خطأ) الغربية
- ٢١- توجد منخفضات الداخلة والخارجة فى الصحراء الشرقية (خطأ) الغربية
- ٢٢- يمتد بحر الرمال العظيم بين مصر وليبيا (صح)
- ٢٣- يقع بحر الرمال العظيم شرق مصر (خطأ) غرب
- ٢٤- توجد هضبة مرمريكا جنوب مصر (خطأ) شمال
- ٢٥- قيام الزراعة والتعدين من أسباب تركيز السكان فى منخفضات الصحراء الغربية (صح)
- ٢٦- تعتبر الصحراء الشرقية صحراء جبلية هضبية (صح)
- ٢٧- تكونت جبال البحر الأحمر نتيجة لحركات التوائية (خطأ) إنكسارية
- ٢٨- تمتد جبال البحر الأحمر شرق الصحراء الشرقية (صح)
- ٢٩- يوجد جبل الشايب البنات بالصحراء الغربية (خطأ) الصحراء الشرقية
- ٣٠- تفتقر الصحراء الشرقية للمعادن (خطأ) غنية بالمعادن
- ٣١- يتميز جنوب سيناء بوعورة التضاريس (صح)
- ٣٢- توجد هضبة النية فى شمال سيناء (خطأ) وسط

- ٣٣- يوجد جبل موسى وسانت كاترين في شمال سيناء ( خطأ ) جنوب
- ٣٤- ينحدر وادي العريش من الشمال إلى الجنوب ( خطأ ) من الجنوب إلى الشمال
- ٣٥- يوجد وادي فيران في الصحراء الشرقية ( خطأ ) سيناء
- ٣٦- أراضي منخفض الفيوم خصبة لأنها تتصل بنهر النيل عن طريق ترعة بحر يوسف. ( صح )
- ٣٧- تتميز الصحراء الغربية عن الصحراء الشرقية بانتشار المنخفضات. ( صح )
- ٣٨- ينقسم سطح مصر إلى خمس وحدات تضاريسية. ( خطأ )
- ٣٩- ينبع نهر النيل من جنوب إفريقيا. ( خطأ )
- ٤٠- يمر نهر النيل بإحدى عشرة دولة آسيوية. ( خطأ )
- ٤١- يجري في دلتا النيل حاليا فرعان هما دمياط شرقا ورشيد جنوبا. ( صح )
- ٤٢- تكونت منخفضات الصحراء الغربية نتيجة التعرية الهوائية والمائية. ( صح )
- تنتشر الأودية الجافة في الصحراء الشرقية وشبه جزيرة سيناء. ( صح )
- ٤٤- تأخذ دلتا نهر النيل شكل مثلث قاعدته عند البحر المتوسط ورأسه شمال غرب طنطا. ( خطأ )
- ٤٥- تكونت جبال البحر الأحمر بالصحراء الشرقية نتيجة لحركات انكسارية. ( صح )
- ٤٦- كانت الأودية الجافة مجار تملؤها المياه قديما ولكنها جفت. ( صح )
- ٤٧- تقع هضبة مارمريكا في الصحراء الشرقية. ( خطأ )
- ٤٨- تعد شبه جزيرة سيناء أصغر الوحدات التضاريسية الكبرى في مصر. ( صح )
- ٤٩- الجزء الجنوبي من شبه جزيرة سيناء أكثر وعورة من بقية أجزائها. ( صح )
- ٥٠- أعلى القمم الجبلية في جبال البحر الأحمر هي قمة جبل شايب البنات. ( صح )

## س٧ ما الأثر الناتج عن أو ما النتائج المترتبة على

### ١- إتصال منخفض الفيوم بترعة بحر يوسف ؟

أصبح يختلف عن باقي المنخفضات الصحراوية وترتبة خصبة

### ٢- تعرض الصحراء الغربية لعمليات التعرية الهوائية والمائية ؟

تكون منخفضات مثل سيوة والبحرية والفرافرة والداخلية والخارجة

### ٣- تعرض الصخور الصلبة بالصحراء الشرقية لحركات إنكسارية .

تكون سلسلة جبال البحر الأحمر

## س ٨ إكتب ما تشير إليه العبارة

- ١- أصغر الوحدات التضاريسية في مصر ( الودى والدلتا والفيوم )
- ٢- سبب تشكيل وتكوين الودى والدلتا والفيوم ( التعرية المائية )
- ٣- رواسب فيضية تكونت عند مصب نهر النيل على شكل مثلث ( الدلتا )
- ٤- أكبر الأقاليم التضاريسية في مصر ( الصحراء الغربية )
- ٥- بحيرة عذبة تمتد في جنوب مصر ( بحيرة ناصر )
- ٦- الترعة التي تصل مياة نهر النيل إلى منخفض الفيوم ( ترعة بحر يوسف )
- ٧- البحيرة التي ينبع منها نهر النيل ( بحيرة فيكتوريا )
- ٨- منخفض في جنوب غرب القاهرة ( الفيوم )
- ٩- بحر يمتد بين مصر وليبيا ( بحر الرمال العظيم )
- ١٠- هضبة في شمال الصحراء الغربية ( مرميكا )
- ١١- جبال تكونت في بسبب حركات إنكسارية ( جبال البحر الأحمر )
- ١٢- من هضاب الصحراء الغربية ( مرميكا - الجلف الكبير )
- ١٣- من هضاب الصحراء الشرقية ( العباددة - المعازة )
- ١٤- أعلى جبال البحر الأحمر ( الشايب البنات )
- ١٥- أحد أودية سيناء ( العريش - فيران )
- ١٦- أحد أودية الصحراء الشرقية ( وادى العلاقى )

## س ٩ ما العلاقة بين

- ١- الحركات الإنكسارية - جبال البحر الأحمر  
أدت الحركات الإنكسارية لتكون جبال البحر الأحمر
- ٢- ترعة بحر يوسف - منخفض الفيوم  
إتصال منخفض الفيوم بترعة بحر يوسف أدى لخصوبة تربته
- ٣- التعدين والزراعة في منخفضات الصحراء الغربية - والسكان  
نتيجة إنتشار الزراعة والتعدين في منخفضات الصحراء الغربية أصبحت مأهولة بالسكان

## س ١٠ إذكر السبب - بم تفسر

١- تكونت الدلتا؟ بسبب الرواسب الفيضية لنهر النيل

٢- خصوبة التربة في منخفض الفيوم؟ لإتصاله بنهر النيل عن طريق ترعة بحر يوسف

٣- إختلاف منخفض الفيوم عن باقي المنخفضات الصحراوية؟ لإتصاله بنهر النيل عن طريق ترعة بحر يوسف

٤- تكون منخفضات الصحراء الغربية؟ بسبب التعرية الهوائية والمائية

٥- منخفضات الصحراء الغربية مأهولة بالسكان؟ بسبب التعدين والزراعة

٦- تعد الصحراء الغربية أكبر الوحدات التضاريسية في مصر؟ لأنها تمثل ثلثي مساحة مصر

## س ١١ إكمل الشكل التالي

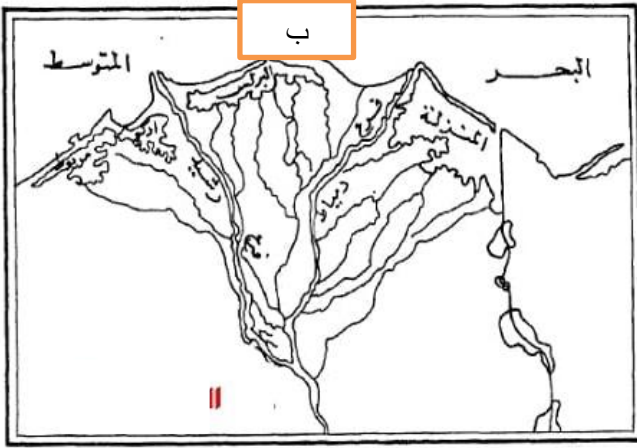
### أقسام تضاريس مصر



## س ١٢ أنسب المظاهر التضاريسية التالية إلى الوحدة التضاريسية التي تنتمي إليها

المظاهر التضاريسية	الوحدة التضاريسية	المظاهر التضاريسية	الوحدة التضاريسية
١- بحيرة ناصر	وادي النيل	٢- جبل شايب البنات	الصحراء الشرقية
٣- منخفض الفيوم	الوادي والدلتا	٤- هضبة الجلف الكبير	الصحراء الغربية
٥- هضبة التية	سيناء	٦- هضبة العبادة	الصحراء الشرقية
٧- وادي العلاقي	الصحراء الشرقية	٨- وادي العريش	سيناء
٩- جبل سانت كاترين	سيناء	١٠- فرع دمياط	الدلتا

س ١٣ أمامك خريطتان : الأولى لنهر النيل قديماً و الثانية لدلتا نهر النيل حديثاً



١- حدد أى الخريطتين أقدم : الخريطة ( أ ) أم ( ب )

الإجابة : الخريطة ( أ ) هي الأقدم

٢- اشرح التغيرات التي طرأت على منطقة الدلتا بمرور الزمن بالإستناد إلى النقاط التالية :

فروع نهر النيل - مساحات الأراضي الزراعية - مساحة البحيرات الساحلية

١- فروع نهر النيل	كان للدلتا العديد من الفروع وأصبحت فرعين حالياً
٢- مساحات الأراضي الزراعية	إنكشئت مساحة الأراضي
٣- مساحة البحيرات الساحلية	إنكشئت مساحة البحيرات

س ١٣ اختر الإجابة الصحيحة مما بين القوسين

- ١- ينبع نهر النيل من ..... ( بحيرة ناصر - فرع دمياط - بحيرة فيكتوريا - فرع رشيد )
- ٢- تتحدر الصحراء الغربية من الجنوب إلى الشمال وتبدو على شكل ..... ( مثلث - مربع - دائرة - مستطيل )
- ٣- تتركز معظم الأراضي الزراعية المصرية في .... ( وادي النيل - دلتا النيل - منخفض الفيوم - الواحات البحرية )
- ٤- يريد أحد السائحين زيارة منابع النيل لذا فإنك تنصحه بزيارة دولة ..... ( نيجيريا - إثيوبيا - غانا - السنغال )
- ٥- إحدى أشهر الهضاب في شبة جزيرة سيناء هضبة ..... ( المعازة - الجلف - العباددة - التية )
- ٦- أحد الأودية الجافة بشبة جزيرة سيناء هو وادي ..... ( العريش - قنا - العلاقى - دجلة )
- ٧- إحدى الهضاب التي تقع شمال الصحراء الغربية هي هضبة ..... ( الجلف الكبير - العباددة - التية - مارمريكا )

٨- الوحدة التضاريسية التي تنتمي إليها منخفضا الداخلة والخارجة هي .....

( **الصحراء الغربية** - منخفض الفيوم - الصحراء الشرقية - دلتا النيل )

٩- يصب نهر النيل في البحر ..... ( الأحمر - **المتوسط** - الكاريبي - الميت )

١٠- يتصل منخفض الفيوم بنهر النيل عن طريق ترعة ..... ( الإسماعيلية - السوهاجية - **بحر يوسف** - الإبراهيمية )

١١- إذا توجهت إلى جنوب الصحراء الغربية فيمكنك مشاهدته جبل .....

( شايب البنات - سانت كاترين - **العوينات** - الحلال )

١٢- تكونت جبال البحر الأحمر نتيجة .....

( التعرية المائية - التعرية الهوائية - الحركات الإلتوائية - **الحركات الإنكسارية** )

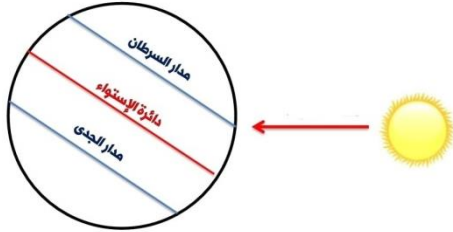
العلماء  
فج  
الدراسات الاجتماعية

## مناخ بلدى

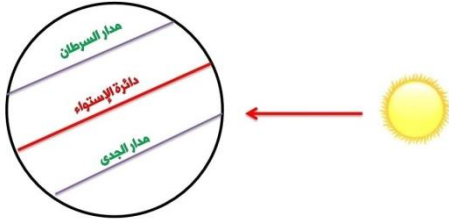
## س ١ أكمل العبارات التالية :

- ١- من العوامل المؤثرة فى مناخ مصر .... **القرب أو البعد من المسطحات المائية** .... و .... **مظاهر السطح** ... و .... **الموقع الفلكى** .....
- ٢- المناطق القريبة من البحر المتوسط والأحمر تكون درجة حرارتها .... **معتدلة** ....
- ٣- قد تتكون الثلوج على قمم الجبال فى فصل ..... **الشتاء** ... كما على جبل كاترين و موسى
- ٤- يقع معظم مساحة مصر فى الإقليم ..... **الصحراوى الحار** .... ماعدا الأجزاء الشمالية فى إقليم ..... **البحر المتوسط** .....
- ٥- يمتد الإقليم الصحراوى الحار بين دائرتى ..... **١٨ - ٣٠ شمالاً** .....
- ٦- يمتاز الإقليم الصحراوى الحار بمناخ شديد الحرارة فى فصل ..... **الصيف** .... وخاصة ... **بالنهار** ...
- ٧- يمتد إقليم البحر المتوسط بين دائرتى عرض ..... **٣٠ - ٤٠** ..... شمالاً
- ٨- تتعامد الشمس على مدار ..... **السرطان** .... فى فصل الصيف فى مصر فترتفع درجة الحرارة فى ..... **جنوب** ..... مصر
- ٩- يمر مدار السرطان فى ..... **جنوب** ..... مصر
- ١٠- يمثل أشهر الصيف فى مصر ..... **يونيو - يوليو - أغسطس** .....
- ١١- يمثل أشهر الخريف فى مصر ..... **سبتمبر - أكتوبر - نوفمبر** .....
- ١٢- يمثل أشهر الشتاء فى مصر ..... **ديسمبر - يناير - فبراير** .....
- ١٣- يمثل أشهر الربيع فى مصر ..... **مارس - إبريل - مايو** .....
- ١٤- عند تهامد الشمس على دائرة الإستواء يصبح فصل ..... **الربيع** .... أو ... **الخريف** ... فى مصر
- ١٥- فى فصل الخريف فى مصر تتعامد الشمس على دائرة ..... **الإستواء** .....
- ١٦- الشكل التالى يمثل فصل  .....

١٨- الشكل المقابل يمثل فصل .....**الصيف**..... في مصر



١٩- الشكل المقابل يمثل فصل .....**الشتاء**..... في مصر



٢٠- يمثل شهر أكتوبر أحد شهور فصل .....**الخريف**..... في مصر

٢١- عند تعامد الشمس على مدار الجدى يتمثل فصل .....**الشتاء**..... في مصر

٢٢- تهب على مصر رياح .....**الخماسين**..... خلال فصل الربيع

٢٣- يحدث تلف لبعض المحاصيل الزراعية خلال فصل .....**الربيع**..... بسبب رياح الخماسين

٢٤- تنتمى الأجزاء الشمالية في مصر لإقليم .....**البحر المتوسط**.....

## س٢ اذكر سبباً لما يلي ( بم تفسر )

١- إعتدال الحرارة في المناطق المطلة على البحر الأحمر والمتوسط عن المناطق الداخلية

لأن نسيم البحر يلطف من درجات الحرارة

٢- تكون الثلوج على جبل سانت كاترين شتاءً؟ لأن الحرارة تنخفض في المناطق المرتفعة

٣- تقع معظم مصر في الإقليم الصحراوي الحار

بسبب موقعها الفلكي بين دائرتي عرض ٢٢ - ٣٦.٣١ شمالاً

٤- وقوع الأجزاء الشمالية لمصر ضمن إقليم البحر المتوسط

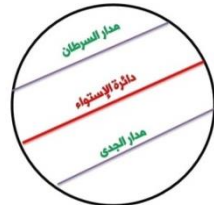
بسبب موقعها الفلكي بين دائرتي عرض ٢٢ - ٣٦.٣١ شمالاً

٥- لا يعد فصل الصيف أفضل فصول السنة في مصر

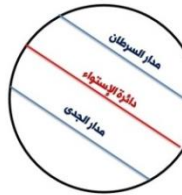
بسبب رياح الخماسين المحملة بالأتربة والتي تسبب إصابة الإنسان بالأمراض وكذلك تلف المحاصيل الزراعية

## س ٣ ضع كلمه ( صح ) أمام العبارة ( الخاطئة )

- ١- تختلف خصائص مناخ مصر من فصل إلى آخر ( صح )
- ٢- تعدل درجة الحرارة في المناطق القريبة من البحر المتوسط والأحمر ( صح )
- ٣- تنخفض درجة الحرارة في الوديان والمناطق المنخفضة عن المناطق المرتفعة ( خطأ ) ترتفع
- ٤- تتكون الثلوج على قمم جبل سانت كاترين وموسى خلال فصل الشتاء ( صح )
- ٥- أدى الموقع الجغرافي لمصر في وقوع معظمها في الإقليم الصحراوي ( خطأ ) الموقع الفلكي
- ٦- تنتمي الأجزاء الشمالية لمصر إلى إقليم البحر المتوسط ( صح )
- ٧- يمتد الإقليم الصحراوي الحار بين دائرتي عرض ١٨ - ٣٠ شمالاً ( صح )
- ٨- يمتد إقليم البحر المتوسط بين دائرتي عرض ٣٠ - ٤٠ شمالاً ( صح )
- ٩- تدور الأرض حول الشمس مرة كل ٣٥٦ وربع يوم ( خطأ ) ٣٦٥ وربع يوم
- ١٠- يحدث فصل الصيف في مصر مع تعامد الشمس على مدار الجدى ( خطأ ) السرطان
- ١١- يحدث فصل الشتاء في نصف الكرة الشمالي عند تعامد الشمس على مدار السرطان ( خطأ ) الجدى
- ١٢- يحدث فصل الربيع في مصر عند تعامد الشمس على دائرة الإستواء ( صح )



١٣- الشكل التالي يمثل فصل الصيف في مصر



١٤- الشكل التالي يمثل فصل الصيف في مصر



١٥- الشكل التالي يمثل فصل الربيع في مصر

١٦- خلال فصل الخريف ترتفع درجة الحرارة في مصر ( خطأ ) تنخفض

١٧- عند تعامد أشعة الشمس على دائرة السرطان يكون فصل الخريف في مصر ( خطأ )

- ١٨- يأتي في مصر فصل الخريف بعد فصل الصيف (صح)
- ١٩- يمثل فصول الخريف في مصر ديسمبر- أكتوبر- نوفمبر (خطأ)
- ٢٠- عند تعامد الشمس على مدار السرطان يكون فصل الصيف في مصر (صح)
- ٢١- يمثل شهر يونيو فصل الشتاء في مصر (خطأ)
- ٢٢- تتعامد أشعة الشمس خلال شهر أغسطس على مدار السرطان (صح)
- ٢٣- عند حدوث فصل الصيف في مصر ترتفع درجة الحرارة في الأجزاء الشمالية عن الجنوبية (خطأ)
- ٢٤- يمثل فصل الصيف في مصر في شهر يونيو - يوليو - نوفمبر (خطأ)
- ٢٥- تتعامد الشمس على مدار الجدي في مصر خلال فصل الصيف (خطأ)
- ٢٦- تتكون الثلوج على قمة سانت كاترين بسبب عامل الارتفاع. (صح)
- ٢٧- يأتي فصل الشتاء في مصر عندما تتعامد الشمس على مدار السرطان. (خطأ)
- ٢٨- تهب رياح الخماسين على مصر في فصل الخريف. (خطأ)
- ٢٩- يؤثر عامل الارتفاع في مظاهر السطح على المناخ وبخاصة عنصري الأمطار والحرارة. (صح)
- ٣٠- يسود الجو البارد شتاء في المناطق الداخلية والمرتفعة. (صح)
- ٣١- تدور الأرض حول الشمس مرة كل شهر. (خطأ)
- ٣٢- تتعامد الشمس على دائرة الاستواء مرتين كل ٣٦٥ يوما وربع. (صح)
- ٣٣- تسقط الأمطار شتاء على مدن بورسعيد والإسكندرية لأنها تقع في إقليم البحر المتوسط. (صح)
- ٣٤- تتشابه الدورتان اليومية والسنوية للأرض من حيث النتائج. (خطأ)
- ٣٥- تقع معظم مساحة مصر ضمن الإقليم الصحراوي الحار نتيجة موقع مصر الفلكي. (صح)
- ٣٦- يعتبر الخريف فصلا انتقاليا بين الصيف والشتاء. (صح)
- ٣٧- تتشابه درجات الحرارة في مدينتي الأقصر ومرسى مطروح في فصل الصيف (خطأ)
- ٣٨- ترتفع درجة الحرارة في الإسكندرية طوال العام. (خطأ)
- ٣٩- تتكون الثلوج على قمة جبل سانت كاترين شتاء. (صح)
- ٤٠- تقع معظم أراضي مصر ضمن الإقليم البارد. (خطأ)

- ٤١ - يؤدي دوران الأرض حول نفسها إلى تعاقب فصول السنة الأربعة . (خطأ)
- ٤٢ - شهر ديسمبر أحد شهور الصيف (خطأ) الشتاء
- ٤٣ - يكون الليل أطول من النهار في فصل الشتاء . (صح)
- ٤٤ - قد تصل درجة الحرارة إلى صفر في محافظة المنيا شتاء . (صح)
- ٤٥ - تتساوى ساعات الليل والنهار في فصل الصيف . (خطأ)
- ٤٦ - يحدث الخريف في مصر عندما تتعامد الشمس على مدار الجدي . (خطأ)
- ٤٧ - قد تسقط الثلوج على جبل سانت كاترين شتاء . (صح)
- ٤٨ - تهب رياح الخماسين على مصر في فصل الربيع (صح)
- ٤٩ - تعدل درجة الحرارة في المناطق المطلة على البحر المتوسط طوال العام (صح)
- ٥٠ - ترتفع درجة الحرارة في الوديان عن المناطق المرتفعة و الجبال (صح)
- ٥١ - تتراكم الثلوج فوق جبل العوينات و خاصة في فصل الشتاء (خطأ)
- ٥٢ - يتميز الإقليم الصحراوي بانخفاض الحرارة صيفا و ارتفاعها شتاءً (خطأ)
- ٥٣ - تقع المناطق الشمالية في مصر ضمن الإقليم الصحراوي الحار (خطأ)
- ٥٤ - يتميز إقليم البحر المتوسط باعتدال الحرارة و ندرة الأمطار (خطأ)
- ٥٥ - تتعاقب الفصول الأربعة بسبب دوران الأرض حول الشمس مرة كل ٣٦٥ يوم وربع (صح)
- ٥٦ - يكون فصل الصيف في مصر في شهر يونيو حيث تتعامد الشمس على دائرة الاستواء (خطأ)
- ٥٧ - قد تسقط الأمطار على جبال البحر الأحمر و شبه جزيرة سيناء في فصل الخريف (صح)
- ٥٨ - تتلف المحاصيل الزراعية بسبب رياح الخماسين في فصل الشتاء (خطأ) الربيع
- ٥٩ - يقصر النهار و يطول الليل في فصل الشتاء في مصر (صح)
- ٦٠ - تُسبب رياح الخماسين إصابة الإنسان بأمراض الجهاز التنفسي (صح)
- ٦١ - تتساوى ساعات الليل و النهار في فصلي الصيف و الشتاء (خطأ)
- ٦٢ - تقع مدينة العلمين ضمن إقليم البحر المتوسط (صح)

## س ، اكتب ما تشير إليه كل عبارة

- ١- دوران الأرض حول الشمس مرة كل ٣٦٥ يوم **الدورة السنوية للأرض**
- ٢- دوران الأرض حول نفسها مرة كل ٢٤ ساعة **الدورة اليومية**
- ٣- فصل يبدأ في مصر حينما تتعامد الشمس على مدار الجدي **الشتاء**
- ٤- فصل تهب فيه رياح الخماسين **الربيع**
- ٥- إقليم مناخي تقع فيه معظم الأراضي المصرية **الإقليم الصحراوي الحار**
- ٦- إقليم مناخي تقع فيه مدينة الإسكندرية **إقليم البحر المتوسط**

## س ه ما الأثر الناتج عن

- ١- وقوع مصر بين دائرتي عرض ٢٢ - ٣٦.٣١ ؟ أو موقع مصر الفلكي ؟  
وقوع معظم مصر في الإقليم الصحراوي الحار - ماعدا الأجزاء الشمالية في إقليم البحر المتوسط
- ٢- وقوع معظم أراضي مصر في الإقليم الصحراوي الحار  
ويتميز بأنه ١- شديد الحرارة **صيفا** وبخاصة أثناء النهار  
٢- وشديد البرودة **شتاء** وبخاصة أثناء الليل
- ٣- دوران كوكب الأرض يدور حول الشمس مرة كل ٣٦٥ يوما وربيع يوم ؟  
تعاقب فصول السنة الأربعة ( **الصيف** ثم **الخريف** ثم **الشتاء** ثم **الربيع** )
- ٤- تعامد الشمس على مدار السرطان ؟  
يكون فصل الصيف في نصف الكرة الشمالي وترتفع الحرارة خاصة في جنوب مصر
- ٥- تعامد أشعة الشمس دائرة الإستواء خلال شهر سبتمبر أو أكتوبر أو نوفمبر ؟  
حدوث فصل الخريف في مصر وانخفاض درجة الحرارة ونشاط الرياح - وقد تسقط الأمطار
- ٦- تعامد أشعة الشمس على دائرة الجدي ؟  
حدوث فصل الشتاء في مصر وانخفاض درجة الحرارة

## ٧- حركة الرياح خلال فصل الربيع ؟

حدوث رياح الخماسين والتي تسبب إصابة الإنسان ببعض الأمراض مثل أمراض الجهاز التنفسي - وكذلك تلف المحاصيل الزراعية.

### س٦ ما العلاقة بين كلاً من

#### ١- تعامد أشعة الشمس على مدار السرطان والمناخ في مصر

عند تعامد أشعة الشمس على السرطان - ترتفع الحرارة في مصر خاصة في الجنوب

#### ٢- تعامد أشعة الشمس على دائرة الإستواء والمناخ في مصر

يعتدل المناخ في مصر ويكون فصل الربيع أو الخريف

#### ٣- تعامد أشعة الشمس على دائرة الجدى والمناخ في مصر

ويسود جو بارد وبخاصة فوق المناطق الجبلية العالية والمناطق الداخلية

#### ٤- تعامد أشعة الشمس على دائرة الجدى و - درجات الحرارة في مصر ؟

عند تعامد أشعة الشمس على دائرة الجدى تنخفض درجة الحرارة في مصر

#### ٥- تعامد أشعة الشمس على السرطان - ودرجة الحرارة في مصر ؟

عند تعامد أشعة الشمس على السرطان - ترتفع الحرارة في مصر خاصة في الجنوب

### س٧ بم تفسر

#### ١- إعتدال الحرارة في المناطق المظلة على البحر المتوسط والأحمر عن المناطق الداخلية ؟

لأن نسيم البحر يلطف من درجات الحرارة

#### ٢- وقوع معظم الأراضي المصرية في الإقليم الصحراوي الحار : بسبب الموقع الفلكي لمصر

#### ٣- لا يعد فصل الربيع أفضل فصول السنة في مصر

لهبوب رياح الخماسين المحملة بالأتربة والتي تسبب إصابة الإنسان بالأمراض وكذلك تلف المحاصيل الزراعية

#### ٤- تسجيل مدينة أسوان أعلى درجة حرارة في مصر صيفاً ؟ بسبب قربها من مدار السرطان

## ٥- خطورة رياح الخماسين التي تهب على مصر فصل الصيف .

لأنها تتسبب فى اصابة الإنسان ببعض أمراض الجهاز التنفسى - وتلف المحاصيل

## ٦- إعتدال درجة الحرارة صيفاً فى مدينة مرسى مطروح

بسبب نسيم البحر الذى يعمل على تلطيف الحرارة لأنها تقع ضمن اقليم البحر المتوسط

## ٧- تكون الثلوج فوق قمة جبل سانت كاترين : بسبب شدة ارتفاعه

## ٨- انخفاض درجة الحرارة فى مصر شتاءً : لتعامد الشمس على مدار الجدى

## ٩- تعاقب فصول السنة فى مصر . بسبب دوران الأرض حول الشمس مرة كل ٣٦٥ وربع يوم

## ١٠- اعتدال المناخ فى المناطق القريبة من البحرين الأحمر والمتوسط فى مصر

بسبب نسيم البحر الذى يعمل على تلطيف الحرارة

## ١١- اختلاف المناخ بين مدينتى المنيا ومرسى مطروح

مرسى مطروح توجد على البحر المتوسط فتعتدل بها درجة الحرارة

أما المنيا تبعد عن البحر فتتخفف بها الحرارة دون الصفر فى فصل الشتاء

## ١٢- تتساوى ساعات الليل والنهار فى فصلى الربيع والخريف . لتعامد الشمس على دائرة الإستواء

## س ٨ إختر الإجابة الصحيحة مما بين القوسين

١- عند تعامد الشمس على دائرة الإستواء يكون فصل ..... فى مصر

( الربيع أو الخريف - الشتاء - الصيف - لا توجد إجابة صحيحة )

٢- يمثل أحد أشهر الخريف فى مصر شهر ..... ( مارس - يوليو - ديسمبر - سبتمبر )

٣- عند تعامد الشمس على مدار السرطان تكون أكثر مناطق مصر ارتفاعاً فى درجة الحرارة هى الأجزاء .....

( الشمالية - الجنوبية - الشرقية - الشمالية الغربية )

٤- تتعامد أشعة الشمس على مدار السرطان خلال شهر ..... ( مارس - فبراير - أغسطس - نوفمبر )

٥- يقع معظم مساحة مصر فى .....

( إقليم البحر المتوسط - الإقليم الصحراوى - الإقليم الموسمى - الإقليم المعتدل )

٦- تنتمى الأجزاء الشمالية لمصر لإقليم ..... ( الصحراوى - المدارى - البحر المتوسط - الموسمى )

٧- يمثل شهر يوليو فى مصر أحد شهور فصل ..... ( الصيف - الشتاء - الربيع - الخريف )

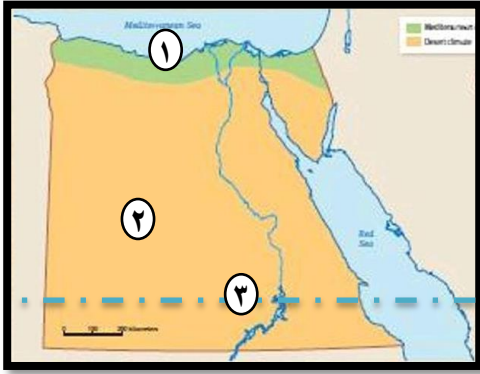
- ٨- يمثل شهر سبتمبر في مصر أحد شهور فصل .....
- ٩- يمثل شهر أكتوبر في مصر أحد شهور فصل .....
- ١٠- يمثل شهر نوفمبر في مصر أحد شهور فصل .....
- ١١- يمثل شهر ديسمبر في مصر أحد شهور فصل .....
- ١٢- يمثل شهر يناير في مصر أحد شهور فصل .....
- ١٣- يمثل شهر فبراير في مصر أحد شهور فصل .....
- ١٤- يمثل شهر مارس في مصر أحد شهور فصل .....
- ١٥- يمثل شهر إبريل في مصر أحد شهور فصل .....
- ١٦- يمثل شهر مايو في مصر أحد شهور فصل .....
- ١٧- من العوامل المؤثرة في مناخ مصر .....
- (الموقع الفلكي - القرب أو البعد عن المسطحات المائية - مظاهر السطح - كل ما سبق)
- ١٨- قد تقترب الحرارة إلى درجة صفر في محافظات ..... شتاءً ( أسوان - بورسعيد - القاهرة - المنيا )
- ١٩- تتكون الثلوج على قمم الجبال وخاصة في فصل ..... (الشتاء - الربيع - الصيف - الخريف)
- ٢٠- تقع معظم الأراضي المصرية ضمن الإقليم الصحراوي ماعدا الأجزاء .....
- (الجنوبية - الغربية - الشرقية - الشمالية)
- ٢١- تقع معظم الأراضي المصرية ضمن الإقليم الصحراوي الحار نتيجة .....
- (موقعها الفلكي - مظاهر السطح - القرب أو البعد عن المسطحات المائية - كل ما سبق)
- ٢٢- تسقط الأمطار في مصر في ..... ( الصيف - طوال العام - الشتاء - الربيع )
- ٢٣- يكون فصل الصيف في نصف الكرة الشمال حينما تتعامد الشمس على .....
- (دائرة الاستواء - مدار الجدي - مدار السرطان - الدائرة القطبية الشمالية)
- ٢٤- يطول النهار و يقصر الليل في مصر في شهر .....
- ( مارس - ديسمبر - فبراير - يوليو )
- ٢٥- تتعامد الشمس على مدار الجدي فيكون فصل .....
- (الصيف - الخريف - الشتاء - الربيع)
- ٢٦- من الشهور التي تنشط فيها رياح الخماسين شهر .....
- (مارس - ديسمبر - فبراير - يوليو)
- ٢٧- تتعامد أشعة الشمس على خط الاستواء في فصلي .....
- (الربيع و الخريف - الربيع و الشتاء - الخريف و الصيف - الصيف و الشتاء)

- ٢٨- سقوط الثلوج على جبل سانت كاترين يساعد على تنشيط ..... ( الزراعة - الصناعة - التعدين - السياحة )
- ٢٩- يفضل فى شهر أغسطس زيارة مدينة ..... ( الأقصر - أسوان - العلمين - قنا )
- ٣٠- إذا أردت القيام بجولة سياحية فى مدينة الأقصر فأفضل شهر للزيارة هو ..... ( يونيو - يوليو - أغسطس - نوفمبر )
- ٣١- تتعامد الشمس على دائرة الإستواء فى فصلى ..... ( الصيف والربيع - الربيع والخريف - الخريف والشتاء - الصيف والشتاء )
- ٣٢- المدينة التى تقع ضمن إقليم المناخ الصحراوى الحار هى ..... ( العريش - الإسكندرية - سوهاج - مطروح )
- ٣٣- المدينة التى تقع ضمن إقليم مناخ البحر المتوسط هى ..... ( الغردقة - سوهاج - الجيزة - السلوم )
- ٣٤- فصل مناخى يحدث فى مصر عندما تتعامد أشعة الشمس على مدار الجدى هو فصل ..... ( الصيف - الشتاء - الربيع - الخريف )
- ٣٥- إذا خرجت فى رحلة شتوية إلى سيناء ووصلت إلى أعلى ارتفاع لقمة جبل سانت كاترين فإنك سوف تلاحظ ..... ( ندرة الأمطار - كثرة السيول - تكون الثلوج - ارتفاع الحرارة )

## س ٩ أكمل الجدول التالى

الفصل	الصيف فى مصر	الخريف فى مصر	الشتاء فى مصر	الربيع فى مصر
نتعامد أشعة الشمس				
الشهور				

## س ١٠ وضح مدول الأرقام على الخريطة



١- يمثل رقم ..... ٢ ..... الإقليم الصحراوي

٢- يمثل رقم ..... ١ ..... إقليم البحر المتوسط

٣- يمثل رقم ..... ٣ ..... دائرة السرطان

## س ١١ أكمل الجدول التالي

الشكل التالي	يمثل فصل ..... الشتاء ..... في مصر
	يمثل فصل ..... الصيف ..... في مصر
	يمثل فصل .. الربيع أو الخريف .... في مصر

## س ١٢ أكمل العبارات التالية

- ١- تعادل درجات الحرارة في المناطق المطلة على ..... البحر المتوسط .....
- ٢- من أهم العوامل المؤثرة في مناخ مصر ..... مظاهر السطح ..... و ..... القرب أو البعد عن المسطحات المائية ..... و ..... الموقع الفلكي .....
- ٣- المناطق المرتفعة ..... تنخفض بها ..... درجات الحرارة
- ٤- تقع الأطراف الشمالية من مصر ضمن إقليم ..... البحر المتوسط .....

- ٥- يتميز الإقليم الصحراوي بارتفاع الحرارة في فصل **الصيف**.....
- ٦- تسقط الأمطار على إقليم **البحر المتوسط**..... شتاء في مصر
- ٧- يسمى دوران الأرض حول نفسها مرة كل ٢٤ ساعة باسم **الدورة اليومية**.....
- ٨- من النتائج المترتبة على دوران الأرض حول الشمس حدوث **الفصول الأربعة**.....
- ٩- يحدث فصل الصيف في مصر عندما تتعامد الشمس على **السرطان**.....
- ١٠- يعد شهر **سبتمبر - أكتوبر - نوفمبر**..... أحد شهور فصل الخريف بمصر
- ١١- تتساوى ساعات الليل و النهار مع فصلي **الربيع**..... و **الخريف**.....
- ١٢- تقترب درجات الحرارة من الصفر المنوي في محافظة المنيا في فصل **الشتاء**.....
- ١٣- تهب على مصر رياح الخماسين في فصل **الربيع**.....
- ١٤- تؤثر رياح **الخماسين**..... سلباً على الإنسان والمحاصيل الزراعية
- ١٥- ترتفع درجة الحرارة في أسوان صيفا لقربها من مدار **السرطان**.....

### س ١٣ صنف الشهور الأتية حسب الفصول التي تنتمي إليها

( إبريل - أغسطس - ديسمبر - نوفمبر )

فصل الصيف	فصل الخريف	فصل الشتاء	فصل الربيع
أغسطس	نوفمبر	ديسمبر	إبريل

### س ١٤ إنسب المدن الأتية إلى الإقليم المناخي الذي تنتمي إليه

( العريش - السلوم - أسوان - أسيوط )

إقليم البحر المتوسط	الإقليم الصحراوي الحار
العريش - السلوم	أسوان - أسيوط

## س ١٥ حدد المدينة التي لا تنتمي إلى المجموعه

- ١- مطروح - سوهاج - دمياط - السلوم ← مطروح  
٢- قنا- بنى سويف - سيوة - بورسعيد ← بورسعيد  
٣- الفيوم - العريش - العلمين - السلوم ← الفيوم

## س ١٦ ماذا كان يحدث إذا

- ١- لم تحدث الدورة السنوية للأرض : لم تتعاقب فصول السنة الأربعة  
٢- لم يمر مدار السرطان في مصر : ترتفع الحرارة في جنوب مصر في فصل الصيف  
٣- تعامدت أشعة الشمس على مدار الجدى في شهور ( يونيو - يوليو - أغسطس )

تصبح هذه الشهور هي فصل الشتاء في مصر وتنخفض الحرارة وتسقط الأمطار

## س ١٧ اكتب ما تشير إليه العبارة

- ١- دوران الأرض حول الشمس مرة كل ٣٦٥ وربع يوم ← الدورة السنوية  
٢- دروان الأرض حول نفسها مرة كل ٢٤ ساعة ← الدورة اليومية  
٣- فصل يبدأ في مصر حينما تتعامد الشمس على مدار الجدى ← الشتاء  
٤- فصل تهب فيه رياح الخماسين ← فصل الربيع  
٥- إقليم مناخى تقع فيه معظم الأراضى المصرية ← الصحراوى الحار  
٦- إقليم مناخى تقع فيه مدينة الإسكندرية ← إقليم البحر المتوسط

## النباتات الطبيعية والحيوانات البرية فى بلدى

## س١ أكمل العبارات التالية

- ١- إستخدم المصريون القدماء النباتات الطبيعية منذ القدم فى صناعة ..... **الأدوية** ..... و ..... **العطور** ...
- ٢- التنوع البيولوجى هو ..... **تنوع الحياة النباتية والحيوانية على سطح الأرض** .....
- ٣- يوجد فى مصر حوالى عدد ..... **٢٣٠٠** ... نوع من النباتات الطبيعية
- ٤- النبات الطبيعى هو ..... **النبات الذى ينمو تلقائياً دون تدخل من الإنسان فى زراعتها** ....
- ٥- من البرديات الفرعونية التى إحتوت على وصفات طبيه برديية ..... **هيرست** ..... و برديية ... **إبيرس** .....
- ٦- ترجع برديية هيرست وإبيرس الطبية لعهد الملك ..... **أمنحتب الأول** .....
- ٧- تنمو أشجار ..... **الكافور** ..... و ..... **التوت** ..... و ..... **الجميز** ..... على شواطئ الترع والمصارف
- ٨- من النباتات المائية التى تنمو على جوانب الترع والمصارف ..... **البوص** .....
- ٩- من الحيوانات البرية التى تنمو بالقرب من الوادى والدلتا ..... **الذئب** ..... و ..... **الثعالب** ...
- ١٠- من الطيور التى تنتشر بالقرب من الوادى والدلتا طائر ..... **أبو قردان** ...
- ١١- من النباتات الصحراوية التى تنمو فى مصر ..... **الصبار** ..... و ..... **التين الشوكى** ..... و ..... **الخرع** ...
- ١٢- من الحيوانات التى تعيش فى الصحراء وتحمل الجوع والعطش ..... **الجمل** ..... و ..... **اليربوع** .....
- ١٣- يعتبر ..... **الغزال** ..... من الحيوانات سريعة الجرى وتعيش فى الصحراء
- ١٤- تنمو بعض النباتات على الساحل الشمالى للبحر المتوسط مثل ..... **التين** ..... و ..... **الزيتون** .....
- ١٥- المحمية الطبيعية هى ..... **مساحة من الأرض أو المياه بما تضمه من نباتات أو حيوانات أو أسماك ذات قيمة ثقافية أو علمية أو سياحية أو جمالية** .....

١٦- توجد محمية ..... **جبل علبة** ..... فى محافظة البحر الأحمر

١٧- توجد محمية ..... **الجلف الكبير** ..... فى محافظة الصحراء الغربية

١٨- توجد محمية ..... **الزرانيق** ..... فى محافظة شمال سيناء

١٩- توجد محمية الزرانيق شرق بحيرة ..... **البردويل** .....

٢٠- من نباتات محمية الزرانيق ..... **العادر المعمر ( الشيخ )** .....

٢١- من الحيوانات المهددة بالإنقراض في مصر .... **الفهد المصري** .... و .... **الغزال** .... و .... **السلحفاة البرية** و .... **النمر النمساوي** .....

٢٢- من طيور محمية الزرانيق .... **البعج** .... و .... **البط** ... و .... **أبو قردان** .....

## س ٢ بم تفسر

١- **تتميز مصر بالتنوع البيولوجي؟**

لأن مصر تمتلك ثروة نباتية وحيوانية متنوعة ذات قيمة إقتصادية عالمية

٢- **أهمية النباتات الطبيعية عند الفراعنة؟** إستخدموها في الطب والعلاج

٣- **تنوع النباتات الطبيعية في مصر**

١- تنوع المناخ ٢- توفر موارد المياه ٣- تنوع النباتات المصرية

٤- **نموالنباتات الطبيعية في الوادي والدلتا والفيوم؟** بسبب توفر المياه العذبة والترية الخصبة

٥- **النباتات الصحراوية تمتاز بطول جذورها؟** لتصل للمياه الجوفية

٦- **أهمية النباتات الحولية؟** تصلح كمراعى للحيوانات

٧- **تنمو أشجار التين والزيتون على ساحل البحر المتوسط؟** بسبب سقوط الأمطار الشتوية

٨- **أهمية النباتات الطبيعية**

أ ( يستخدمها البدو في الغذاء ب ( الأدوية والعطور ج ( مزارات سياحية

٩- **أهمية محمية الزرانيق؟**

تعد محطة لرحلة الطيور المهاجرة من أوروبا وآسيا في طريقها إلى أفريقيا

١٠- **أهمية المحميات الطبيعية؟**

حماية النباتات الطبيعية والحيوانات والطيور البرية والأسماك من الإنقراض

١١- **يتعرض التنوع البيولوجي في مصر لكثير من الأخطار**

بسبب ندرة المياه - تير المناخ - الصيد الجائر - إزالة النباتات الطبيعية - التلوث

١٢- **ندرة الحيوانات البرية والنباتات الطبيعية في الصحارى المصرية**

بسبب ندرة الأمطار - ارتفاع درجة الحرارة خاصة في الصيف

## س ٣ ضع كلمة ( صح ) أمام العبارة الصحيحة وكلمة ( خطأ ) أمام العبارة الخاطئة

- ١- إستخدم المصريون منذ القدم النباتات الطبيعية فى الصناعة ( صح )
- ٢- تتميز مصر بالتنوع البيولوجى النباتى و الحيوانى ( صح )
- ٣- يقتصر التنوع البيولوجى فى مصر على التنوع النباتى ( خطأ ) النباتى والحيوانى
- ٤- النبات الطبيعى هو الذى ينمو بتدخل من الإنسان ( خطأ ) بدون تدخل
- ٥- برديس هيرست بردية فرعونية تحتوى على كثير من وصفات الصعام ( خطأ ) وصفات طبية
- ٦- بردية إبيرس من البرديات الطبية للفراعنة ( صح )
- ٧- ترجع بردية إبيرس لعهد الملك أمنمحات الأول ( خطأ ) أمنحتب الأول
- ٨- ترجع بردية هيرست لعهد الملك أمنحتب الأول أحد ملوك الدولة الوسطى ( خطأ ) الدولة الحديثة
- ٩- تنوع البيئات فى مصر أدى لتنوع النباتات الطبيعية بها ( صح )
- ١٠- تنمو نباتات الحلفا على ضفاف الترعى والمصارف ( صح )
- ١١- تنتشر بعض الحيوانات البرية بالقرب من الودى والدلتا ( صح )
- ١٢- الصحارى المصرية غنية بالنبات الطبيعى ( خطأ ) فقيرة
- ١٣- تمد النباتات الصحراوية جزورها لتصل للمياه الجوفية ( صح )
- ١٤- الصبار والتين الشوكى من النباتات التى لا تتحمل الجفاف ( خطأ ) تتحمل
- ١٥- اليربوع من الحيوانات التى تعيش فى الودى والدلتا ( خطأ ) فى الصحراء
- ١٦- اليربوع من الحيوانات التى تتحمل الجوع والعطش ( صح )
- ١٧- تنمو أشجار التين والزيتون على ساحل البحر المتوسط حيث الأمطار الصيفية ( خطأ ) الشتوية
- ١٨- تستخدم بعض النباتات الطبيعية كغذاء للحيوانات ( صح )
- ١٩- تدخل بعض النباتات الطبيعية فى صناعة مستحضرات التجميل
- ٢٠- توجد محمية جبل علبه فى سيناء ( خطأ ) فى محافظة البحر الأحمر
- ٢١- توجد محمية الزرانيق فى الدلتا ( خطأ ) فى سيناء
- ٢٢- توجد محمية الزرانيق إلى الغرب من بحيرة البردويل ( خطأ ) شرق
- ٢٣- تعتبر محمية الجلف الكبير من محميات الصحراء الشرقية ( خطأ ) الغربية
- ٢٤- تم إنشاء المحميات لحماية الحيوانات من الإنقراض ( صح )

- ٢٥ - استخدم المصريون القدماء النباتات الطبيعية في العلاج وصناعة ( صح )
- ٢٦ - تسمح الدولة بالصيد البري في مناطق المحميات الطبيعية. ( خطأ )
- ٢٧ - ينمو نبات الحلفا بالقرب من الترع والمصارف. ( صح )
- ٢٨ - أقامت الدولة محميات طبيعية لحماية النباتات الطبيعية والحيوانات البرية من الانقراض ( صح )
- ٢٩ - يعد نبات البوص من النباتات المائية التي تنمو في وادي النيل والدلتا. ( صح )
- ٣٠ - تنمو أشجار الكافور في الدلتا ووادي النيل ومنخفض الفيوم. ( صح )
- ٣١ - تعد أشجار الجميز من أشهر النباتات الطبيعية في الصحراء الغربية. ( خطأ )
- ٣٢ - تنتشر النباتات الحولية بالقرب من وادي النيل. ( صح )
- ٣٣ - تحتوي بردية هيرست على العديد من الوصفات الطبية. ( صح )
- ٣٤ - الصبار من النباتات الصحراوية التي تتحمل الجفاف. ( صح )
- ٣٥ - يعد الفهد المصري من الحيوانات المهددة بالانقراض. ( صح )
- ٣٦ - تعيش بعض الذئاب والثعالب بالقرب من الوادي والدلتا. ( خطأ )
- ٣٧ - تنمو بعض النباتات الطبيعية بالساحل الشمالي نتيجة سقوط الأمطار الشتوية. ( صح )
- ٣٨ - يعد التين الشوكي من النباتات الطبيعية المنتشرة في الصحاري المصرية. ( صح )
- ٣٩ - توجد محمية جبل علبة في محافظة الفيوم. ( خطأ )
- ٤٠ - ترجع بردية إبيرس الطبية إلى عهد الملك مينا. ( خطأ )
- ٤١ - أمثلة النباتات التي استخدمها قدماء المصريين في الطب والعلاج الخروع والزعفران. ( صح )
- ٤٢ - من أسباب تنوع النباتات الطبيعية في مصر تنوع المناخ. ( صح )
- ٤٣ - من النباتات الطبيعية في الوادي والدلتا نبات الحلفا. ( صح )
- ٤٤ - من أمثلة الطيور البرية التي تنتشر بالصحاري المصرية طائر أبو قردان .
- ٤٥ - تتميز النباتات الطبيعية في الصحاري المصرية بقدرتها على تحمل الجفاف والحرارة المرتفعة. ( صح )
- ٤٦ - يعتبر التين الشوكي من النباتات الطبيعية في الوادي والدلتا. ( خطأ )
- ٤٧ - تصلح النباتات الحولية لرعي الحيوانات بالساحل الشمالي لمصر ( صح )
- ٤٨ - توجد محمية نبق في محافظة البحر الأحمر. ( خطأ )
- ٤٩ - توجد الصحراء البيضاء في محافظة الوادي الجديد ( صح )

- ١- أحد الحيوانات التي تتحمل العطش وتعيش بالصحارى المصرية ..... ( **الجمل** - البقر - الجاموس - الفيل )
- ٢- طائر برى يعيش بالقرب من وادى النيل والدلتا ..... ( الحمام الزاجل - البلشون - **أبو قردان** - البجع )
- ٣- أحد المصادر الأولية التي ترجع لعصر الملك أمنحتب الأول وبها العديد من الصفات الطبية هي .....  
( **بردية إبيرس** - حجر رشيد - لوحة نارمر - أهرامات الجيزة )
- ٤- تنمو على ساحل البحر المتوسط أشجار .....  
( **الزيتون** - الصبار - التوت - الكافور )
- ٥- أحد النباتات التي تنمو فى البيئة الصحراوية وتتحمل الجفاف نبات ..... ( اللوز - الجميز - البوص - **الخروع** )
- ٦- ترجع بردية هيرست الطبية إلى عصر الملك ..... ( مينا - خوفو - **أمنحتب الأول** - أمنمحات الثالث )
- ٧- إذا توجهت لزيارة محافظة الوادى الجديد فى الصحراء الغربية فسوف تجد نبات .....  
( اللوز - **الصبار** - البوص - التوت )
- ٨- ينتشر فى شمال محافظة مطروح بعض النباتات الطبيعية ومنها ..... ( المانجروف - **التين** - النخيل - الكافور )
- ٩- من أنواع النباتات الطبيعية التى تستخدم فى العلاج وصناعة العطور .....  
( الياسمين - الخروع - الزعفران - **كل ما سبق** )
- ١٠- من الأشجار التى تنمو على شواطئ الترع والمصارف بالوادى والدلتا .....  
( **التين الشوكى** - الزيتون - الكافور - النخيل )
- ١١- من الحيوانات البرية التى تعيش فى الصحارى المصرية ..... ( **الغزال** - الجاموس - الفيلة )
- ١٢- تنمو أشجار التين والزيتون واللوز فى .....  
( **الصحراء الغربية - الصحراء الشرقية - الدلتا - الساحل الشمالى لمصر** )
- ١٣- توجد محمية جبل علبه فى محافظة .....  
( شمال سيناء - جنوب سيناء - القاهرة - **البحر الأحمر** )
- ١٤- من أهم الحيوانات البرية المهددة بالإنقراض فى مصر .....  
( الزرافة - الأغنام - **السلحفاة البرية** - الحمار الوحشى )
- ١٥- من الأخطار التى تهدد الحياة البرية فى مصر .....  
( ندرة المياه - تغير المناخ - الصيد الجائر - **كل ما سبق** )

## س٥ ما النتائج المترتبة على :

١- إزالة مساحات كبيرة من النباتات الطبيعية لزراعة المحاصيل الغذائية

أدى إلى تهديد التنوع البيولوجى على أرض مصر

٢- ندرة المياه فى المناطق الصحراوية : ندرة النبات الطبيعى - ظهور نباتات طبيعية تتحمل الجفاف والحرارة

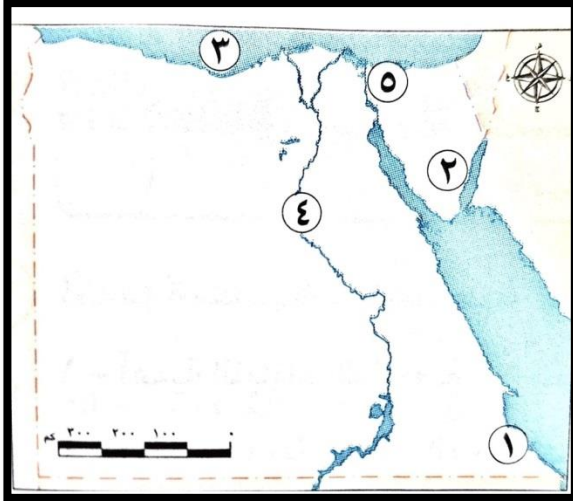
٣- تنوع المناخ فى مصر : تنوع النباتات الطبيعية - التنوع البيولوجى

## س٦ صنف النباتات الطبيعية التالية بحسب الجدول التالى

نبات الحلفا - النخيل - التين الشوكى - الزيتون - الخروع - اللوز - الكافور - الجميز

الساحل الشمالى	الصحارى	دلتا النيل
الزيتون - اللوز	النخيل - التين الشوكى	نبات الحلفا الكافور الجميز

## س٧ لاحظ الخريطة ثم أجب :



١- محمية ..... جبل علبه

٢- محمية ..... نبق

٣- البحر ..... المتوسط

٤- نهر ..... النيل

٥- يشير رقم ( ٥ ) إلى محمية الزرانيق (صح) صواب أم خطأ

## س٨ فى أى المناطق تنمو النباتات التالية

١- الصبار      ٢- الحلفا      ٣- اللوز      ٤- الزيتون      ٥- الكافور      ٦- التين الشوكى

١- الصبار	٢- الحلفا	٣- اللوز	٤- الزيتون	٥- الكافور	٦- التين الشوكى
الصحراء	الدلتا والوادي	الساحل الشمالى	الساحل الشمالى	الدلتا والوادي	الصحراء

**١- الملك أمحتب الأول - والبرديات المصرية**

تم وضع بريدية هيرست وإيبرس فى عهد أمحتب الأول

**٢- وجود جذور طويلة لبعض النباتات الصحراوية والمياة الجوفية**

الجذور الطويلة تجعل انبات يمدھا فى باطن الأرض للحصول على المياة الجوفية

**٣- النباتات الحولية والرعى :** تستخدم النباتات الحولية فى رعى الحيوانات

**٤- النباتات الطبيعية والسياحة :**

بعض المناطق التى توجد بها نباتات طبيعية تعتبر مزاراً سياحياً تجذب السياح

الطريق  
فج  
الدراسات الاجتماعية

## التغيرات المناخية وأثرها على بلدى

## س١ ضع كلمة ( صح ) أمام العبارة الصحيحة وكلمة ( خطأ ) أمام العبارة الخاطئة

- ١ - تساقط الثلوج على مدينة الإسكندرية يشير إلى وجود مشكلات يواجهها مناخ مصر . **صح**
- ٢ - فصل الصيف في مصر أصبح حاراً أكثر من المعتاد . **صح**
- ٣ - صناعة الحديد والأسمنت من أسباب التغير المناخي في مصر **صح**
- ٤ - زيادة انبعاث غاز ثاني أكسيد الكربون والأوزون يسبب ارتفاع درجة حرارة سطح الأرض . **صح**
- ٥ - لا تتأثر المياه العذبة بالتغيرات المناخية . **خطأ**
- ٦ - تنتشر النباتات الطبيعية والكانات الحية نتيجة التغيرات المناخية . **خطأ**
- ٧- تقوم الدولة بتدوير المياه العذبة وتحلية مياه البحر لمواجهة تأثيرات التغير المناخي **صح**
- ٨- استخدام وسائل النقل للوقود الحفري يقلل من تأثيرات التغير المناخي **خطأ**
- ٩- التغير المناخي له تأثير على الفرد والمجتمع . **صح**
- ١٠- تستضيف مصر مؤتمر الأمم المتحدة للتغير المناخي في شرم الشيخ في نوفمبر ٢٠٢٢ م . **صح**
- ١١ - يعد حرق الوقود الأحفوري أحد العوامل البشرية المؤدية للتغير المناخي. **صح**
- ١٢ - يظهر مرض الملاريا لعدة أسباب منها التغير المناخي. **صح**
- ١٣ - تمثل الانفجارات البركانية أحد العوامل البشرية المؤدية للتغير المناخي. **خطأ**
- ١٤ - يؤثر التغير المناخي سلبيًا على السياحة في محافظة البحر الأحمر. **صح**
- ١٥ - التوسع في استخدام الطاقة النظيفة أحد أسباب التغيرات المناخية. **خطأ**
- ١٦ - تساقطت الثلوج على مدينتي الإسكندرية والغردقة أثناء فصل الشتاء عام ٢٠٢٢م. **صح**
- ١٧ - يعتبر التلوث من العوامل البشرية المؤدية إلى التغير المناخي. **خطأ**
- ١٨ - تعد تحلية مياه البحر من الجهود المصرية لمواجهة تأثيرات التغيرات المناخية. **صح**
- ١٩ - يتوقع العلماء أن تتسبب التغيرات المناخية في انقراض بعض النباتات الطبيعية. **صح**
- ٢٠ - قد تؤدي التغيرات المناخية إلى تآكل السواحل الشمالية في مصر. **صح**
- ٢١ - تساعد صناعة الحديد وصناعة الأسمت على الحد من التغيرات المناخية. **خطأ**
- ٢٢ - يزيد الإنتاج الزراعي نتيجة للتغيرات المناخية. **خطأ**

- ٢٣ - إزالة الغابات تقلل من تأثيرات التغيرات المناخية. **خطأ**
- ٢٤ - أطلقت الحكومة المصرية استراتيجية وطنية لمواجهة تغير المناخ **صح**
- ٢٥ - فصل الشتاء في مصر أصبح حاراً أكثر من المعتاد بسبب التغير المناخي **خطأ**
- ٢٦ - الإفراط في استخدام المبيدات والأسمدة الكيماوية يسبب التغير المناخي **صح**
- ٢٧ - زيادة انبعاثات غاز الأوكسجين والنيتروجين تسبب ارتفاع درجة حرارة الأرض بمرور الوقت **خطأ**
- ٢٨ - يرجع التغير المناخي بشكل رئيسي إلى الأنشطة البشرية فقط **خطأ**
- ٢٩ - الانفجارات البركانية من العوامل البشرية التي تؤدي لتغير المناخ **خطأ**
- ٣٠ - تؤثر التغيرات المناخية سلباً على صحة الإنسان والإنتاج الزراعي **صح**
- ٣١ - تتعرض أنواع كثيرة من النباتات الطبيعية والكانات الحية للانقراض بسبب التغير المناخي **صح**
- ٣٢ - تخزين مياه السيول وتدوير المياه العذبة من الإجراءات الضرورية لمواجهة تأثير التغير المناخي **صح**

## س٢ اكتب تفسيراً لكلاً مما يلي

### ١ - تعاني دول العالم من مشكلة التغيرات المناخية .

بسبب العوامل البشرية مثل : حرق الوقود الأحفوري - صناعة الأسمنت والحديد - التلوث - إزالة الغابات  
العوامل الطبيعية : البراكين

### ٢ - تؤثر التغيرات المناخية على مجالات الحياة المختلفة في مصر .

أ ( تؤثر على صحة الإنسان ب ) اتكماش الأراضي الزراعية  
ج ( تدهور التربة د ) ارتفاع منسوب البحر هـ ) موت الشعاب المرجانية

### ٣ - يؤثر ارتفاع منسوب البحار سلباً على السواحل الشمالية في مصر .

حيث يؤدي إلى تآكل الشواطئ الشمالية

### ٤ - قيام مصر بالتوسع في استخدام النقل المستدام . ؟ لمواجهة تأثيرات التغير المناخي

### ٥ - تساقط الثلوج على محافظة الإسكندرية في شتاء عام ٢٠٢٢ م .

بسبب تأثير التغير المناخي على فصل الشتاء

## س٣ اختر الإجابة الصحيحة مما بين القوسين

- ١- أحد الأسباب الطبيعية للتغيرات المناخية .....  
( حرق الوقود الأحفوري - **الانفجارات البركانية** - زيادة معدلات التلوث - إزالة الغابات )
- ٢- أحد الأسباب البشرية للتغيرات المناخية .....  
( **صناعة الحديد** - الزلازل الأرضية - الانفجارات البركانية - الشوق الأرضية )
- ٣- أحد الأساليب التي تستخدمها الدولة لمواجهة التغيرات المناخية .....  
( استيراد الوقود الأحفوري - **استخدام النقل المستدام** - بناء مصانع الأسمت - بناء مصانع الحديد )
- ٤- أحد الأنشطة الصناعية التي تتسبب في تغيير المناخ صناعة ..... ( الملابس - البطاريات - الأحذية - **الأسمت** )
- ٥- ارتفاع منسوب البحر يؤثر سلباً على الأراضي الزراعية في شمال .....  
( **دلتا النيل** - وادي النيل - منخفض الفيوم - الصحراء الشرقية )
- ٦- تواجه الدولة التغيرات المناخية عن طريق .....  
( استخدام المبيدات الحشرية - **تخزين مياه السيول** - إنتاج الأسمدة الكيماوية - بناء مصانع الحديد )
- ٧- أحد العوامل البشرية التي تؤثر في تغيير المناخ ..... ( **إزالة الغابات** - الانفجارات البركانية - الزلازل - السيول )
- ٨- تتساقط الثلوج على قمة جبل ..... في شبة جزيرة سيناء  
( العوينات - شايب البنات - **سانت كاترين** - علبة )
- ٩- "الاختلافات والتحويلات في الأحوال المناخية مثل درجة الحرارة والأمطار" يقصد به .....  
( **السيول** - الجفاف - الفيضان - **التغير المناخي** )
- ١٠- يرجع التغير المناخي بشكل رئيسي إلى .....  
( حرق الوقود الحفري - إزالة الغابات - الأنشطة الصناعية - **كل ما سبق** )
- ١١- من العوامل الطبيعية التي تؤدي للتغير المناخي .....  
( **الانفجارات البركانية** - استخدام المبيدات - الأسمدة الكيماوية - صناعة الحديد والأسمت )
- ١٢- قد يصاب الإنسان بمرض الملاريا نتيجة ..... ( الزلازل - البراكين - **السيول** - تساقط الثلوج )
- ١٣- يؤدي التغير المناخي إلى ندرة المياه العذبة نتيجة .....  
( الفيضانات - **زيادة التبخر** - السيول - تساقط الثلوج )

## س : إكتب نتيجة واحدة ترتبت على كل

### ١- تبذل الدولة جهوداً كبيرة لمواجهة التغيرات المناخية.

مواجهة تأثيرات التغير المناخي

٢- موت وضعف الشعب المرجانية نتيجة التغيرات المناخية. تؤثر سلباً على السياحة

٣- ارتفاع منسوب مياه البحر المتوسط. تآكل السواحل الشمالية خاصة الدلتا

### ٤- زيادة معدلات التغيرات المناخية.

- أ ( ارتفاع منسوب البحر ) إنكماش مساحة الأراضي الزراعية ج ( إنقراض النباتات الطبيعية والحيوانات  
د ( تؤثر على صحة الإنسان هـ ) موت الشعب المرجانية

## س هـ دال على صحة العبارة

### ١- تزيد الأنشطة البشرية من حدة التغيرات المناخية

- أ ( حرق الوقود الأحفوري ب ) صناعة الأسمنت والحديد ج ( زيادة التلوث  
د ( إزالة الغابات هـ ) الإفراط في استخدام المبيدات والأسمدة

### ٢- تشجع مصر الجهود الدولية لمواجهة التغيرات المناخية

استضافت مصر ( مؤتمر الأمم المتحدة للتغير المناخي ) في شرم الشيخ ٢٠٢٢

### ٣- تقوم الدولة بالعديد من الجهود لمواجهة التغيرات المناخية في مصر

- أ ( استخدام وسائل النقل المستدامة ب ) تخزين مياه السيوب  
ج ( تحلية مياه البحر د ) إعادة تدوير المياه العذبة  
هـ ( أطلقت الحكومة ( الإستراتيجية الوطنية لتغير المناخ في مصر ٢٠٥٠ )