



جمهورية مصر العربية
وزارة التربية والتعليم

دليل تقويم الطالب

الدراسات الإجتماعية

جغرافية العالم

وتاريخ مصر الحديث



الصف الثالث الإعدادي

الفصل الدراسي الأول

٢٠١٦/٢٠١٧ م

جمهورية مصر العربية
وزارة التربية والتعليم
قطاع الكتب

دليل تقويم الطالب
في مادة

الدراسات الاجتماعية للمف الثالث الإعدادي

"جغرافية العالم وتاريخ مصر الحديث"
الفصل الدراسي الأول

حقوق الطبع محفوظة للوزارة
طبعة ٢٠١٦ - ٢٠١٧

لجنة الإعداد

أ.د.م/ أسماء محمد عبد الحلیم معاذ
أستاذ باحث مساعد بالمركز القومي لامتحانات والتقويم التربوي

د/ رضا شعبان عبد السلام
باحث مساعد بالمركز لامتحانات والتقويم التربوي

د/ حنان إبراهيم الدسوقي
أخصائي ثالث بالمركز

أ / وليد سيد سالم محمد
رئيس قسم تاريخ بمكتب المستشار

مراجعة

أ / سمير محمود الشرقاوي

مستشار الدراسات الاجتماعية

أ.د / علي جودة محمد عبد الوهاب

أستاذ المناهج وطرق التدريس

كلية التربية - جامعة بنها

أ.د. هبة الله عدلي
رئيس قسم تطوير الامتحانات
بالمركز القومي لامتحانات
والتقويم التربوي

أ.د/ مجدي محمد محمود أمين
مدير المركز القومي لامتحانات
والتقويم التربوي

٢٠١٦ - ٢٠١٧ م

بِسْمِ اللَّهِ الرَّحْمَنِ الرَّحِيمِ

تقديم:

أبنائي الأعزاء الطلاب والطالبات: إن وزارة التربية والتعليم تعمل ضمن المنظومة العالمية، من أجل مواجهة ما تفرضه علينا العولمة من تحديات وتوسع في نفس الوقت للاستفادة مما يتيح لنا من فرص وإمكانات.. لذلك فقد تفاعلت مصر مع المنظمات والهيئات العالمية في مبادراتها المختلفة نحو دعم التنمية المستدامة.

ونحن ندرك تماما أن العملية التعليمية والسياسات التي تستهدف تطويرها، وما يترتب على ذلك من نتائج، موضوع يشغل اهتمام كل بيت وكل أسرة في مصر، ولوزارة التربية والتعليم دور فاعل في دعم جهود تطوير التعليم والمشاركة في تحقيق هدف مصر القومي، سعيا للوصول إلى تعليم عالي الجودة في شتى مراحله.

إن تطوير المناهج وطرق التدريس يمثلان التحدي الحقيقي أمامنا، لإحداث نقلة نوعية في نظام التعليم المصري، لذلك فإننا نسعى لتطوير مناهج التعليم وطرق التدريس تطويرا شاملا وفق خطة مدروسة للانتقال من نموذج تربوي تقليدي قائم على الحفظ والتلقين إلى نموذج تربوي حديث يدعم التفكير الناقد وينمي قدرة التلاميذ على حل المشكلات.

ودعما لهذا التوجه حرصت على تكليف المركز القومي للامتحانات والتقويم التربوي بإعداد أدلة تقويم الطالب بهدف تقديم نماذج متنوعة من الأسئلة والاختبارات التحصيلية للتدريب عليها، ولتتمكنوا من خلالها من الوقوف على مدى استيعابكم لجوانب المادة الدراسية المختلفة، وقد روعي في إعدادها أن تتضمن مختلف نوعيات الأسئلة المطابقة لمواصفات الورقة الامتحانية، وتدرجها في الاعتماد على المستويات المعرفية المختلفة حتى يستفيد منها الطالب والمعلم.

وختاما أبنائي الأعزاء الطلاب والطالبات: تعلموا أن الدولة تعي مسئوليتها إزاء قضية تطوير التعليم وإصلاح المؤسسة التعليمية.. والارتفاع بمكانتها، وتنتطح إلى أن يقف المجتمع بأسره مؤيدا لأهدافها.. مساندا لتبعاتها.. كي نحقق هدفنا القومي في إحداث تطوير إيجابي حقيقي في نظامنا التعليمي ومؤسساتنا التعليمية..

وزير التربية والتعليم

رئيس مجلس إدارة المركز

القومي للامتحانات والتقويم التربوي

أ.د/ الهادي الشربيني

الوحدة الأولى : الجغرافية الطبيعية للعالم

أهداف الوحدة

فى نهاية الوحدة ينبغى أن يكون الطالب قادر على أن:

١. يحدد المقصود ببعض المفاهيم الجغرافية (موقع - إقليم مناخي - هضبة).
٢. يستنتج موقع القارات الفلكي والجغرافي.
٣. يقارن بين الأقاليم المناخية من حيث الموقع والخصائص المناخية.
٤. يحدد على الخريطة قارات العالم والمحيطات.
٥. يقارن بين قارات العالم من حيث الموقع والمساحة.
٦. يفسر كثرة الموانئ الطبيعية بقارة أوروبا.
٧. يحدد النتائج التى ترتبت على وقوع القارة القطبية الجنوبية على القطب الجنوبي.
٨. يستنتج العلاقة بين كل من تعاريج السواحل الأوربية وإنشاء الموانئ.
٩. يستنتج بعض مظاهر التضاريس بالقارات من الخريطة.
١٠. يوقع على الخريطة بعض الأقاليم المناخية.
١١. يفسر تسمية هضبة التبت بسقف العالم.
١٢. يفسر سبب ضيق السهول الساحلية فى أفريقيا.
١٣. يقارن بين الجبال فى كل من قارة أوروبا وقارة أمريكا الشمالية.
١٤. يقارن بين السهول فى كل من قارة أفريقيا وقارة استراليا.
١٥. يفسر العلاقة بين المناخ وكل من الموقع الفلكي والجغرافي والتضاريس.
١٦. يصنف النباتات حسب الإقليم المناخي الذى تنمى إليه.
١٧. يفسر تتدرج حشائش السافانا فى الطول.
١٨. يبدى رأيه فى إزالة الغابات لزراعة المحاصيل الزراعية.

الاختبار القبلى

السؤال الأول: ما المقصود بـ : الموقع الفلكى و الموقع الجغرافى؟

السؤال الثانى: صوب ما تحته خط:

- ١ . يبلغ قارات العالم تسع قارات.
- ٢ . أكبر المحيطات مساحة المحيط الهندي .
- ٣ . أكبر القارات مساحة قارة أفريقيا.
- ٤ . تمر دائرة الإستواء بشمال أفريقيا.

السؤال الثالث: بم تفسر.....؟

١ . ندرة السكان بالقارة القطبية الجنوبية

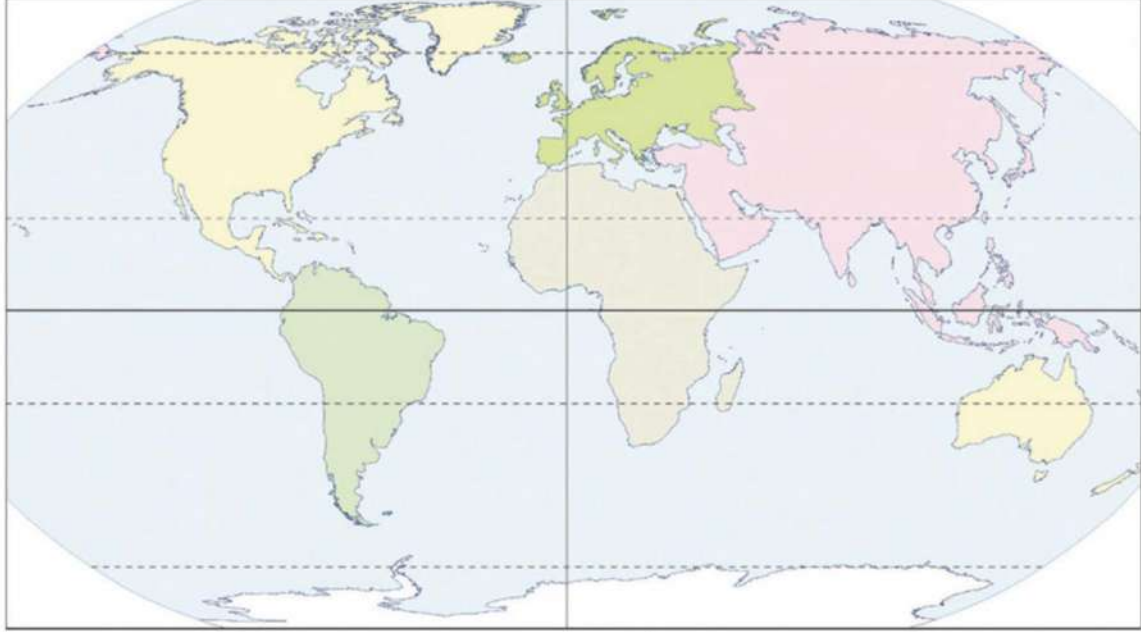
السؤال الرابع: أكمل العبارات الآتية بكلمات مناسبة:-

- ١ . تنقسم التضاريس إلى و و
- ٢ . أكبر القارات مساحة.....
- ٣ . أصغر القارات مساحة

الوحدة الأولى : الجغرافية الطبيعية للعالم

السؤال الأول :

أمامك خريطة صماء للعالم سجل عليها أسماء القارات والمحيطات ثم رتب في الجدول الذي يليها القارات والمحيطات حسب مساحتها



الترتيب	القارات	المحيطات
الأول		
الثاني		
الثالث		
الرابع		
الخامس		
السادس		
السابع		

السؤال الثاني: أكمل العبارات الآتية بكلمات مناسبة:

١. تبلغ مساحة الكرة الأرضية نحو ... ملايين كم^٢
٢. أكبر قارات العالم مساحة قارة
٣. تمتد قارة آسيا بين خطى طول و
٤. تمتد قارة آسيا بين دائرتي عرض و
٥. أكبر المحيطات من حيث المساحة
٦. أكبر دول قارة أمريكا الشمالية من حيث المساحة
٧. يوجد في قارة آسيا أشباه جزر كثيرة مثل و

السؤال الثالث: قارن بين قارات العالم القديم مستعينا بالجدول التالي:

أوجه المقارنة	آسيا	أفريقيا	أوروبا
المساحة
الموقع الجغرافي
الموقع الفلكي

السؤال الرابع: ضع علامة (√) أمام العبارة الصحيحة وعلامة (×) أمام العبارة غير الصحيحة مع التصويب.

١. تمتد قارة آسيا نحو ٧٠ درجة عرضية ()
٢. أصغر قارات العالم مساحة قارة استراليا ()
٣. من الدول الجزرية دولة اليابان ودولة الفلبين ()
٤. تمتد قارة أوروبا بين دائرتي عرض ٣٦ ° شمالا و ٧١ ° شمالا ()
٥. أكبر قارات العالم مساحة قارة أمريكا الشمالية ()

السؤال الخامس: بم تفسر....؟

١. كثرة الموانئ الطبيعية في قارة أوروبا

السؤال السادس: اختر الإجابة الصحيحة من بين القوسين

١. أكبر قارات العالم مساحة قارة
(آسيا - أفريقيا - أمريكا الشمالية - استراليا)
٢. أصغر قارات العالم مساحة قارة.....
(أمريكا الجنوبية - أنتاركتيكا - استراليا - أمريكا الجنوبية)
٣. يحد قارة أمريكا الشمالية غرباً المحيط.....
(الهادي - الأطلنطي - القطبي - الهندي)
٤. تمتد قارة.....بين دائرتي عرض ١٢ ° شمالاً و ٥٦ ° جنوباً
(أمريكا الجنوبية - أمريكا الجنوبية - استراليا - آسيا)
٥. يحد قارة أمريكا الجنوبية شرقاً المحيط.....
(الهادي - الهندي - الأطلنطي - القطبي)

السؤال السابع

أختر قارة من قارات العالم ثم اجمع عنها معلومات مصورة مستعينا بشبكة الإنترنت ولخصها في بحث لا يتجاوز خمس صفحات. (نشاط)

السؤال الثامن: تعاون مع زملائك في رسم خريطة مكبرة للعالم على ورق مقوى وسجل عليها البيانات (أسماء القارات والمحيطات).

السؤال التاسع: ماذا يحدث إذا كانت سواحل أوروبا مستقيمة ؟

السؤال العاشر: اكتب ما تشير إليه العبارة.

١. دول تتكون من جزيرة أو أكثر وقد تكون جزء من جزيرة.
٢. رابع قارة من حيث المساحة، وتبدو على شكل مثلث وتمتد أطرافها الجنوبية بالقرب من الدائرة القطبية الجنوبية.
٣. قارة متجمدة غير مأهولة بالسكان تقع أقصى جنوب الكرة الأرضية.
٤. قارة تبدو في شكل شبه جزيرة وكأنها امتداد لقارة آسيا.

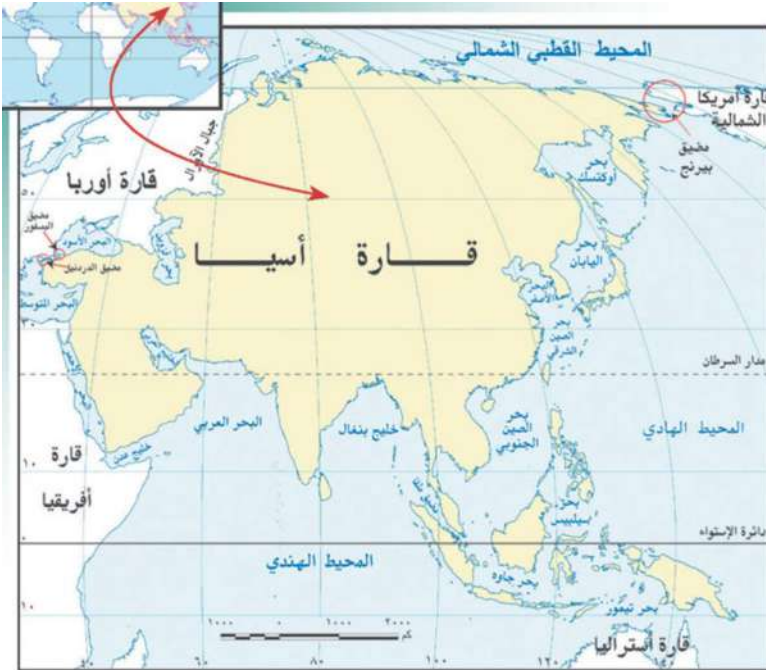
السؤال الحادي عشر: ما النتائج المترتبة على.....؟

١. كثرة التعاريف في سواحل أوربا
٢. وقوع القارة القطبية الجنوبية على القطب الجنوبي

السؤال الثاني عشر: اختر من العمود (أ) ما يناسبه من العمود (ب)

المجموعة (ب)	المجموعة (أ)
(أ) أوربا	١. قارة بها أكبر بحر مغلق في العالم وتتميز بكثرة الجزر وأشباه الجزر
(ب) أمريكا الشمالية	٢. قارة تتميز بكثرة تعاريفها وتبدو في شكل شبه جزيرة غير منتظمة الشكل
(ج) أمريكا الجنوبية	٣. تعد رابع قارات العالم من حيث المساحة وتبدو في شكل مثلث تمتد أطرافها الجنوبية بالقرب من الدائرة القطبية
(د) أفريقيا	٤. يحدها البحر المتوسط من الشمال وتقل بها الجزر وأهمها جزيرة مدغشقر
(هـ) استراليا	
(و) آسيا	

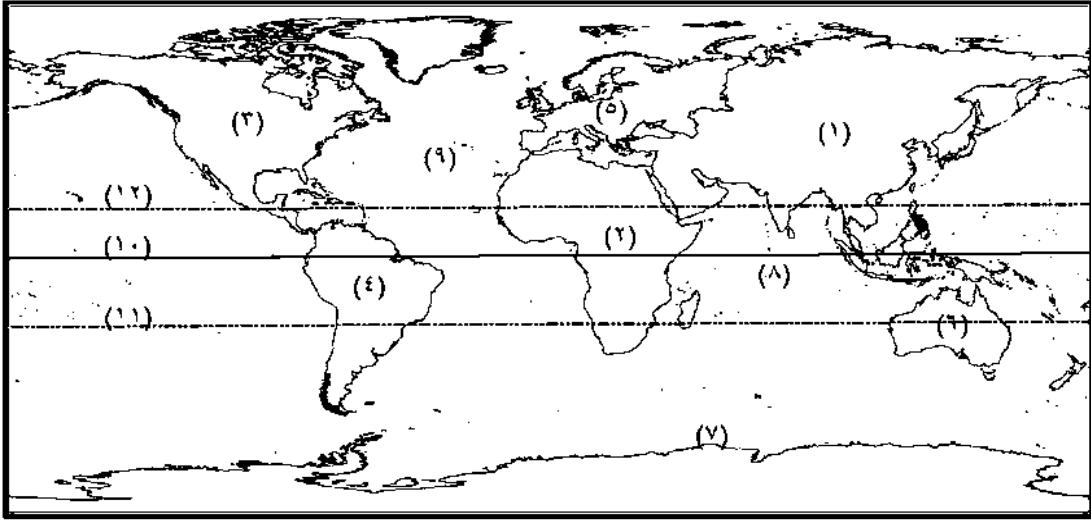
السؤال الثالث عشر: لاحظ خريطة قارة آسيا التي أمامك ثم أكمل ما يلي:



١. أهم دوائر العرض التي تمر بهاو.....
٢. يفصلها عن قارة أوربا جبال
٣. يفصلها عن قارة أفريقيا شبه جزيرة سيناء والبحر ومضيق
٤. يحدها من الشمال المحيط ومن

جهة الجنوب المحيط.....ومن الغرب المحيط

السؤال الرابع عشر : اكتب مدلول الأرقام بالخريطة التالية



- ١- قارة
- ٢- قارة
- ٣- قارة
- ٤- قارة
- ٥- قارة
- ٦- قارة
- ٧- قارة
- ٨- المحيط
- ٩- المحيط
- ١٠- دائرة
- ١١- مدار
- ١٢- مدار

السؤال الخامس عشر: أعد كتابة العبارات الآتية بعد تصويبها:-

١. تمتد جبال أطلس شمال غرب آسيا.
٢. يسود قارة أفريقيا المظهر الجبلي.
٣. سهل كلنشو في ليبيا من السهول الفيضية.
٤. تعد جبال روكي أعلى جبال قارة أمريكا الجنوبية.
٥. تحصر جبال أطلس بينها هضبة بتاجونيا.
٦. تمتد السهول الساحلية في أوروبا باتجاه عام من الشمال للجنوب.

السؤال السادس عشر : فكر وصل كل نهر بالمصب المناسب له

نهر أوب	نهر لابلاتا	نهر الجانج	نهر الفولجا	نهر السند
المحيط الهندي	المحيط الأطلنطي	بحر قزوين	خليج البنغال	المحيط القطبي

السؤال السابع عشر: أكمل العبارات الآتية بكلمات مناسبة:

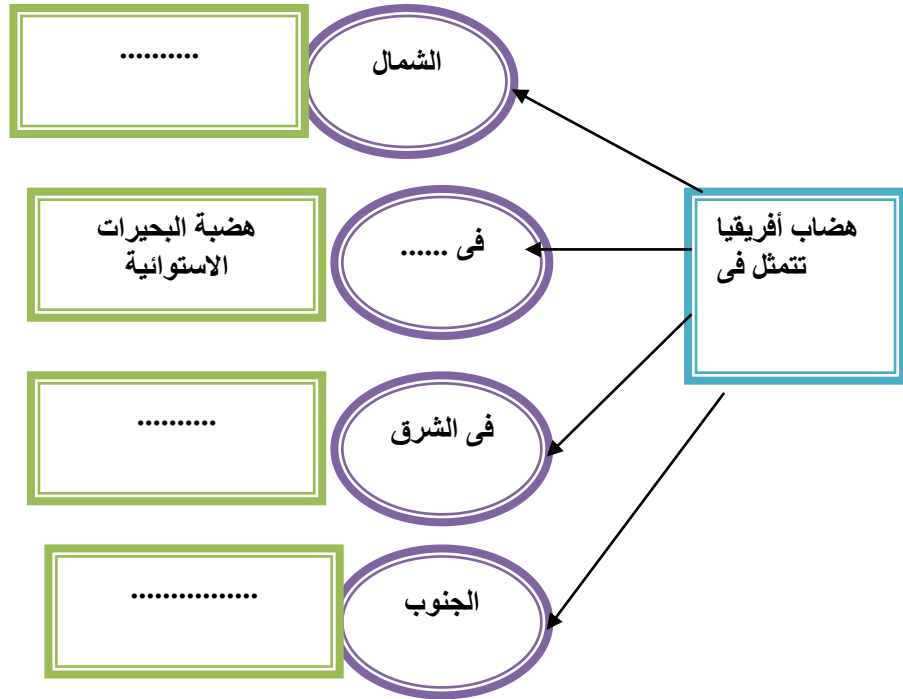
١. تقع جبال أطلس شمال غرب قارة
٢. من السهول الفيضية في أفريقيا سهول و
٣. من أكبر هضاب أمريكا الجنوبية وأكثرها ارتفاعا هضبة
٤. تمتد غرب قارة أمريكا الجنوبية سلاسل جبلية تعرف باسم
٥. يعد نهر أطول أنهار أوروبا

السؤال الثامن عشر:

قارن بين السهول في قارة أفريقيا وقارة استراليا باستخدام الجدول التالي:

أوجه المقارنة	قارة أفريقيا	قارة استراليا
السهول الساحلية		
السهول الفيضية		
السهول الصحراوية		

السؤال التاسع عشر: أكمل الشكل التخطيطي التالي



السؤال العشرون: بم تفسر؟

١. ضيق السهول الساحلية في أفريقيا.

٢. تسمية هضبة التبت بسقف العالم.

٥. تمتد سلاسل جبال الألب فى قارة

(آسيا - استراليا - أوربا - أمريكا الشمالية)

٦. تمتد هضبة الدكن فى وسط

(الصين - الهند - تركيا - فرنسا)

٧. يمتد السهل الأوربي العظيم من المحيط الأطلنطي غربا حتى جبال.....شرقاً

(زاجروس - الألب - الهميالايا - الأورال)

السؤال الثالث والعشرون: أكتب المفهوم الجغرافي الذي يدل على كل عبارة مما يلى:

١. الأرض التى يجرى داخلها النهر وروافده أو تنحدر مياهه إليه ويحده من الخارج خط

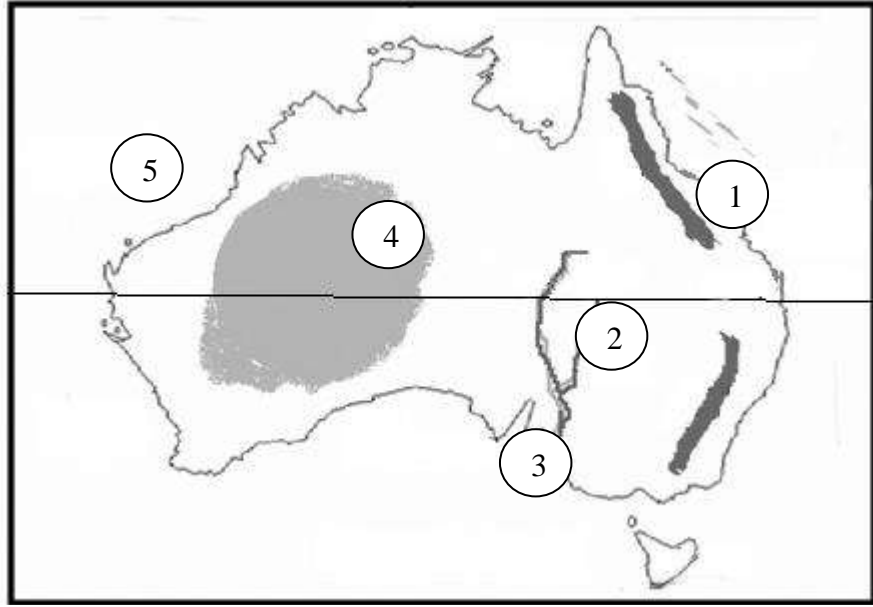
وهى يعرف بخط تقسيم المياه (.....)

٢. أكبر هضاب آسيا وأعلى هضاب العالم وتعرف بسقف العالم (.....)

السؤال الرابع والعشرون:- قارن بين كل من الجبال فى قارة أوربا وقارة أمريكا الشمالية

أمريكا الشمالية	قارة أوربا	أوجه المقارنة
.....	الامتداد
.....	الأمثلة

السؤال الخامس والعشرون: اكتب مدلول الأرقام بالخريطة التالية



١- جبال

٢- نهر

٣- الخليج

٤- الهضبة

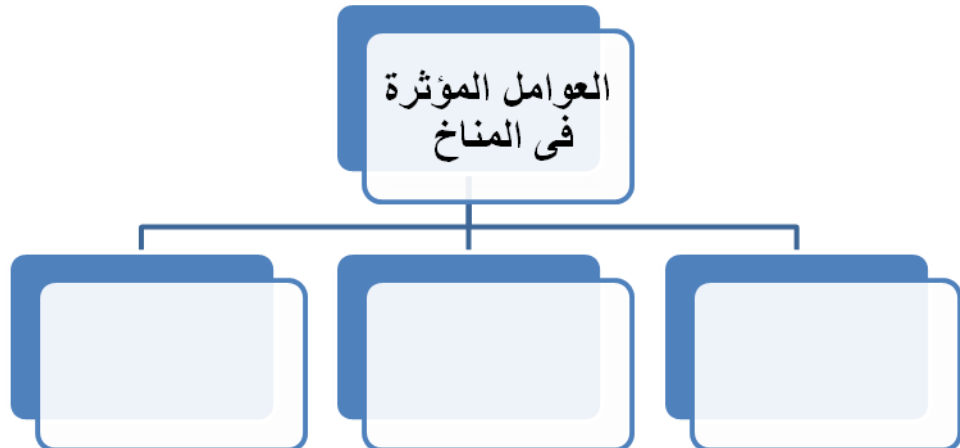
٥- المحيط

السؤال السادس والعشرون: ما المقصود بكل من :

١. الإقليم المناخي

٢. حشائش السافانا

السؤال السابع والعشرون: أكمل الشكل التالي :



السؤال الثامن والعشرون: بم تفسر.....؟

١. تنوع الأقاليم المناخية فى العالم.

٢. وجود الجليد فوق قمم الجبال فى المناطق الاستوائية والمدارية.

٣. نمو الغابات الاستوائية فى الإقليم الاستوائي.

٤. تسمية الغابات النفضية بهذا الاسم.

٥. تنوع الحياة النباتية فوق الجبال

السؤال التاسع والعشرون: أكمل العبارات الآتية بكلمات مناسبة:-

١. يقع حوض الكونغو فى نطاق إقليم المناخ

٢. تنمو الغابات المدارية فى إقليم المناخ

٣. من النباتات التى تنمو بالإقليم الموسمى و

٤. تمتد الأقاليم المعتدلة الدفيئة فيما بين دائرتى عرض..... و

٥. تنمو فى مناخ البحر المتوسط حشائش التى تستغل كمراعى طبيعية.

السؤال الثلاثون: صنف النباتات التالية حسب الإقليم المناخي الذى تنتمي إليه:

حشائش السافانا - الغابات النفضية - الغابات المخروطية - الإستبس

الإقليم المدارى الحار	إقليم مناخ غرب أوروبا	المناخ المعتدل شرق القارات	إقليم البحر المتوسط	إقليم مناخ التندرا
.....
.....
.....

السؤال الحادي و الثلاثون: اختر الإجابة الصحيحة من بين القوسين: _

١. الإقليم المناخى الذى يسود المناطق القطبية المتجمدة ويتميز بالصيف القصير والشتاء الطويل شديد البرودة إقليم مناخ

(البحر المتوسط - التندرا - غرب أوربا - الصحارى المعتدلة)

٢. تنمو حشائش الإستبس إقليم

(المعتدل شرق القارات - المناخ الموسمى - مناخ البحر المتوسط - المناخ القارى البارد)

٣. من النباتات التى تنمو فى إقليم مناخ غرب القارات الغابات

(النفضية - الاستوائية -المدارية - المخروطية)

٤. يقع إقليم المناخ القارى البارد فيما بين دائرتي عرض 45° - 60° شمالاً فى

(غرب القارات - داخل القارات - شرق القارات - وسط القارات)

السؤال الثاني والثلاثون: قارن بين كل من الإقليم المناخ المدارى الحار ومناخ الصحارى المعتدلة مستعينا بالجدول التالى:

أوجه المقارنة	الإقليم المناخ المدارى الحار	مناخ الصحارى المعتدلة
الموقع
الخصائص المناخية
الخصائص النباتية

السؤال الثالث والثلاثون: اكتب كلمة (صح) أمام العبارة الصحيحة وكلمة (خطأ) أمام العبارة غير الصحيحة مع التصويب.

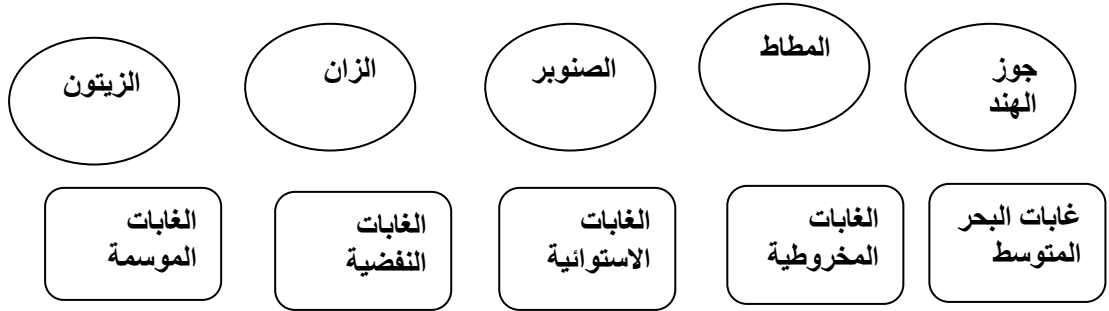
١. يقع حوض الأمازون وهضبة جيانا ضمن مناخ الإقليم البارد ()

٢. يمتد الإقليم المدارى الحار بين دائرتي عرض 10° - 15° شمال وجنوب دائرة

الإستواء ()

٣. حشائش الإستبس من النباتات التي تنمو في إقليم المناخ المدارى ()
٤. يقع الساحل الأوسط في شيلي ضمن مناخ البحر المتوسط ()
٥. جنوب غرب استراليا يقع ضمن إقليم مناخ الصحارى المعتدلة ()
٦. تنمو حشائش التندرا في الإقليم المعتدل البارد ()
٧. تعد حشائش السافانا من مناطق الرعى في الرئيسة في العالم ()

السؤال الرابع و الثلاثون: فكر وصل كل نوع من الأشجار بالإقليم المناخي الذي ينتمي له



السؤال الخامس و الثلاثون: أكتب المصطلح الجغرافى لكل مما يلى

١. إقليم مناخى يقع فى مناطق واسعة شمال وجنوب الإقليم الإستوائى عند دائرتى عرض ١٠° -

١٥° شمال وجنوب الإستواء ويتميز بصيف حار ممطر وشتاء جاف وتنمو به الغابات

المدارية وحشائش السافانا (.....)

٢. إقليم مناخى يقع فى العروض المعتدلة داخل القارات بين دائرتى عرض ٣٠° - ٤٥° شمال

وجنوب دائرة الاستواء ويتميز بقلّة الأمطار فى الصيف وشدة البرودة والجفاف فى الشتاء

(.....)

٣. إقليم مناخى يعرف بالإقليم الصينى ويتعرض لعواصف مدارية مثل التيفون (.....)

٤. الإقليم المناخى الذى يسود المناطق القطبية المتجمدة ويتميز بالصيف القصير والشتاء

الطويل شديد البرودة مع تساقط الثلوج (.....)

٥. إقليم مناخى يقع فى العروض المعتدلة غرب القارات ما بين دائرتى عرض 30° - 45° شمال

وجنوب دائرة الإستواء ويتميز بالجفاف وارتفاع درجة الحرارة خلال شهور الصيف والأمطار

والدفء خلال فصل الشتاء. (.....)

السؤال السادس والثلاثون: صنف المناطق التالية حسب الإقليم المناخى الذى تنتمى له

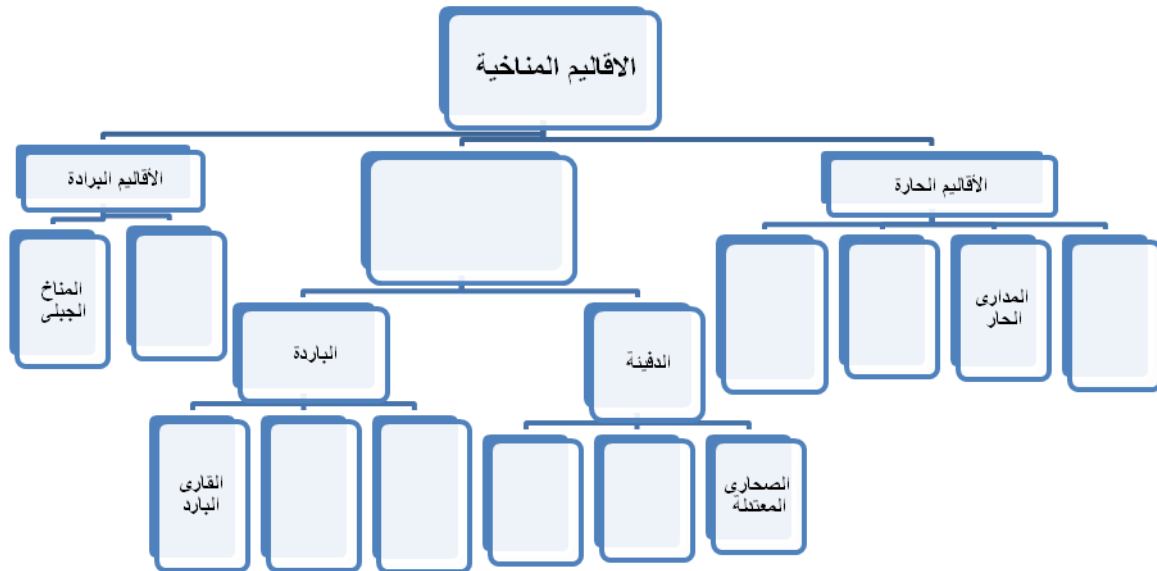
شبه الجزيرة العربية - جزر إندونيسيا - شمال استراليا - وسط آسيا - سواحل الشام -

شمال كندا - بريطانيا - جنوب شرق أمريكا الشمالية

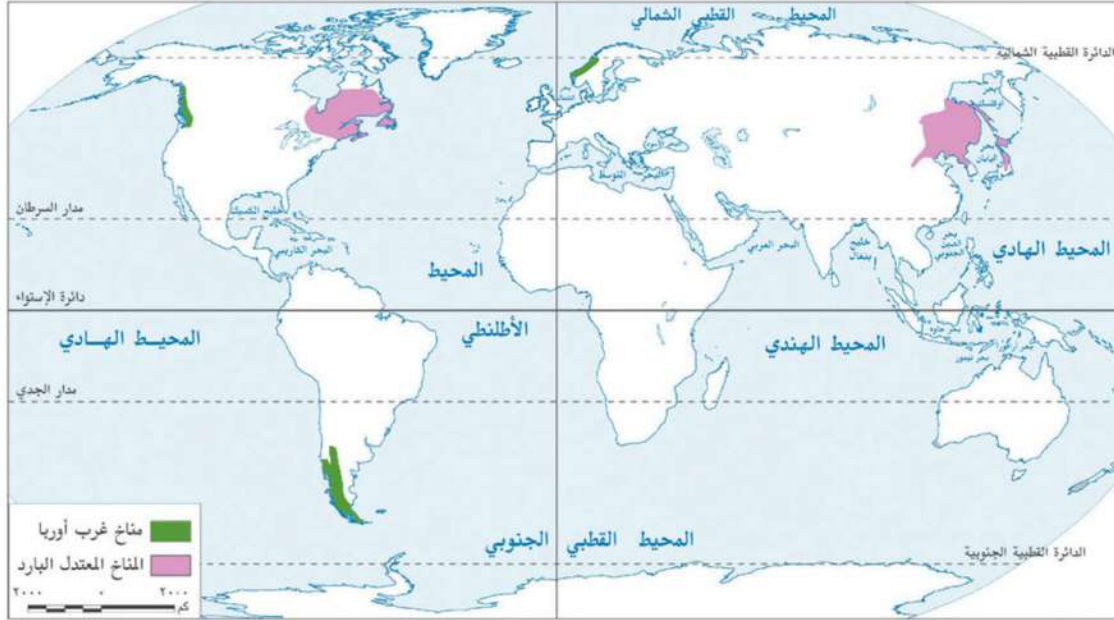
الإقليم	إقليم مناخ	إقليم	إقليم البحر	إقليم الصحارى	المدارى	الإستوائى وشبهها	المناخ الصحراوي
الصينى	غرب أوربا	التندرا	المتوسط	المعتدلة	الحار	لاستوائى	وشبه الصحراوي

السؤال السابع و الثلاثون: ما رأيك فى إزالة الغابات للتوسع فى زراعة المحاصيل

لسؤال الثامن و الثلاثون: أكمل الشكل التالي



السؤال التاسع و الثلاثون: أمامك خريطة لتوزيع نوعين من الأقاليم المناخية اكتب اسم كل نوع على الخريطة ثم قارن بينهما في الجدول التالي



..... مناخ مناخ	أوجه المقارنة
.....	الموقع
.....	الخصائص المناخية
.....	الخصائص النباتية

التدريبات العامة على الوحدة الأولى

السؤال الأول: ضع علامة (✓) أمام العبارة الصحيحة وعلامة (×) أمام العبارة غير الصحيحة مع التصويب:

١. أكبر دول قارة أمريكا الجنوبية من حيث المساحة دولة كندا ()
٢. تقترب قارة أفريقيا من قارة آسيا عند جزيرة صقلية ومضيق جبل طارق ()
٣. من النباتات الصحراوية أشجار النخيل ()
٤. تنمو الغابات النفضية في مناخ إقليم البحر المتوسط ()
٥. تتدرج حشائش الإستبس في الطول كلما ابتعدنا عن دائرة الإستواء ()

السؤال الثاني: أكمل العبارات الآتية بكلمات مناسبة:

١. أعلى قمة جبلية في العالم قمة
٢. تبلغ نسبة القارات نحو % من مساحة الكرة الأرضية
٣. تقترب قارة أفريقيا من قارة آسيا عند مضيق
٤. تتميز قارة آسيا بكثرة الجزر القريبة من سواحلها مثل و
٥. أصغر قارات العالم مساحة قارة.....
٦. من النباتات التي تنمو في إقليم مناخ التندرا.....
٧. يقع جنوب شرق أمريكا الشمالية ضمن نطاق المناخ

السؤال الثالث: بم تفسر

١. قارة أنتاركتيكا غير مأهولة بالسكان.
٢. ضيق السهول الساحلية بأمريكا الجنوبية في الغرب.
٣. تعرف هضبة التبت بسقف العالم.
٤. تنمو الأشجار الموسمية في شمال قارة استراليا.

السؤال الرابع: ما المقصود بكل من.....؟

١. حوض النهر.
٢. الدول الجزرية.
٣. الإقليم المناخى.

السؤال الخامس: اختر الإجابة الصحيحة مما بين القوسين:-

١. من أشهر جبال قارة استراليا جبال.

(الحاجز الكبير - روكى - الأبلش - الانديز)

٢. تفصل جبال بين قارتى أوروبا وآسيا

(دراكنزبرج - الألب - روكى - الأورال)

٣. توجد أوسع السهول النهرية فى العالم بقارة

(استراليا - أفريقيا - آسيا - أمريكا الجنوبية)

٤. تقع هضبة المكسيك فى قارة

(أفريقيا - أمريكا الشمالية - أوروبا - استراليا)

٥. يصب نهر مرى ودارلنج فى

(المحيط الهادى - بحر أرافورا - الخليج الاسترالي الكبير - المحيط الأطلنطى)

السؤال السادس: اذكر مثالا لكل مظهر من مظاهر التضاريس التالية فى القارات بالجدول

الظاهرة	قارة أفريقيا	قارة أوروبا	قارة أمريكا الشمالية
الجبال
الهضاب
الأنهار

السؤال السابع: ما العلاقة بين تعاريج السواحل وقيام الموانئ؟

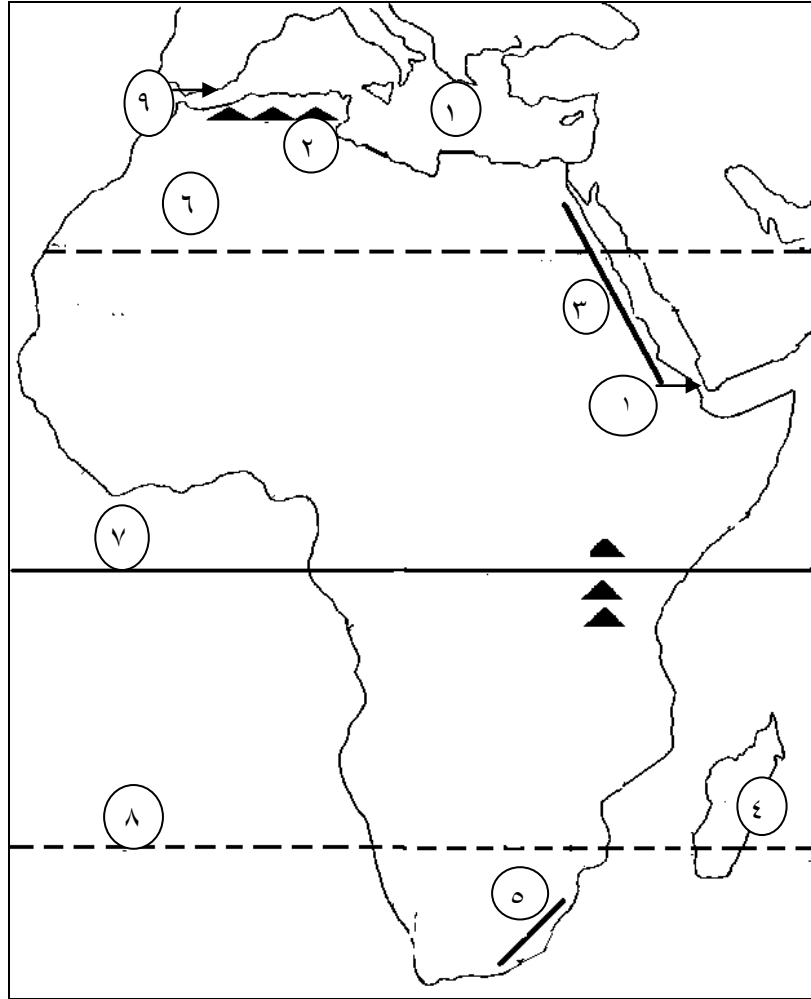
السؤال الثامن: اختر من العمود (أ) ما يناسبه من العمود (ب)

العمود (ب)	العمود (أ)
(أ) الهندي	١. أكبر المحيطات من حيث المساحة المحيط
(ب) قزوين	٢. أصغر المحيطات من حيث المساحة المحيط
(ج) الأطلنطي	٣. من البحار المفتوحة التي تتصل بالمحيطات البحر
(د) الهادي	
(هـ) المحيط القطبي الجنوبي	
(و) المتوسط	
(ي) القطبي الشمالي	

السؤال التاسع: قارن بين كل من إقليم مناخ غرب أوروبا ومناخ البحر المتوسط مستعينا بالجدول التالي

أوجه المقارنة	مناخ غرب أوروبا	مناخ البحر المتوسط
الموقع
الخصائص المناخية
الخصائص النباتية

السؤال العاشر: اكتب مدلول الأرقام على الخريطة

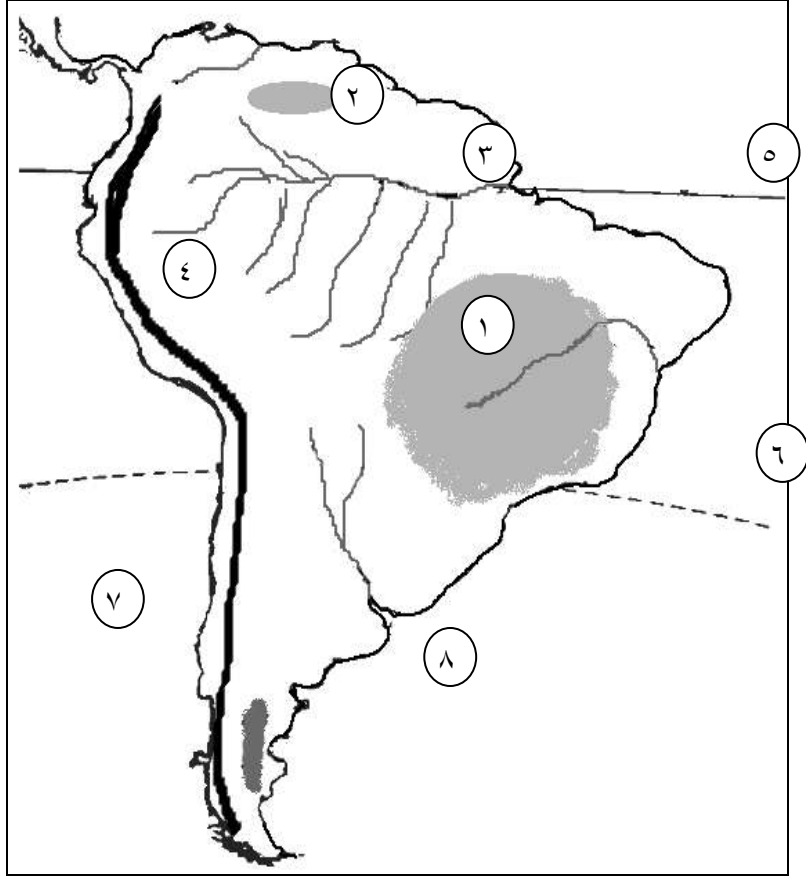


- ١- البحر
- ٢- جبال
- ٣- جبال
- ٤- جزيرة
- ٥- جبال
- ٦- مدار
- ٧- دائرة
- ٨- مدار
- ٩- مضيق
- ١٠- مضيق

اختبار الوحدة الأولي

السؤال الأول: اكتب مدلول الأرقام على الخريطة

- ١ - هضبة
- ٢ - هضبة
- ٣ - نهر
- ٤ - جبال
- ٥ - دائرة
- ٦ - مدار
- ٧ - المحيط
- ٨ - المحيط



السؤال الثاني: اكتب المصطلح الجغرافي الذي تدل عليه كل عبارة مما يلي :

١. إقليم مناخي يشغل المنحدرات العليا للمناطق الجبلية في العالم ويسوده مناخ شديد البرودة
(.....)
٢. أحد القارات وتعد جزيرة كبيرة يحيط بها الماء من جميع الجهات
(.....)
٣. أكبر بحر مغلق في العالم
(.....)

السؤال الثالث: أكمل العبارات التالية بكلمات مناسبة:-

١. من أشهر هضاب قارة أفريقيا هضبة و هضبة
٢. تمر الدائرة القطبية الشمالية بقارة آسيا وقارة..... وقارة.....

السؤال الرابع: ما أوجه الشبه والاختلاف بين كل من :

إقليم مناخ البحر المتوسط وإقليم المناخ المعتدل شرق القارات

وجه المقارنة	إقليم مناخ البحر المتوسط	إقليم المناخ المعتدل شرق القارات
أوجه الشبه
أوجه الاختلاف

السؤال الخامس: بم تفسر؟

1. ضيق السهول الساحلية في شرق استراليا.
2. تتدرج حشائش السافانا في الطول.
3. يتميز حوض الأمازون بارتفاع درجة الحرارة طول العام وسقوط الأمطار.

السؤال السادس: اختر الإجابة الصحيحة مما بين الأقواس

1. حوض الكنغو وحوض الأمازون يقعا ضمن نطاق إقليم
- (المناخ الإستوائي - المناخ الموسمي - المعتدل شرق القارات - القارى البارد)
2. من أهم جزر في قارة أفريقيا جزر
- (مدغشقر - تسمانيا - الفلبين - هاواى)
3. من النباتات التي تنمو في إقليم مناخ البحر المتوسط
- (الغابات المدارية - الإستبس - الغابات المدارية - السافانا).
4. تمتد في شمال غرب أفريقيا جبال
- (البحر الاحمر - أطلس - كينيا - الأورال)
5. تمتد في جنوب آسيا جزر
- (نيوزيلندا - إندونيسيا - القمر - هاواى)

السؤال السابع: ضع علامة (✓) أمام العبارة الصحيحة وعلامة (×) أمام العبارة غير الصحيحة مع التصويت:

١. تبلغ مساحة اليابس نحو ٢٩,٣ % ()
٢. تقع جبال دراكنزبرج أقصى الجنوب الشرقى لقارة آسيا ()
٣. تقع هضاب غرب أمريكا الشمالية ضمن إقليم الصحارى المعتدلة ()
٤. تنمو حشائش السافانا فى إقليم المناخ الإستوائى ()
٥. يعد نهر الدانوب أطول أنهار قارة أوروبا ()

الوحدة الثانية : جغرافية سكان العالم

من المتوقع بعد انتهاء التلميذ من دراسة الوحدة الثانية: جغرافية سكان العالم أن يكون قادرا علي أن :

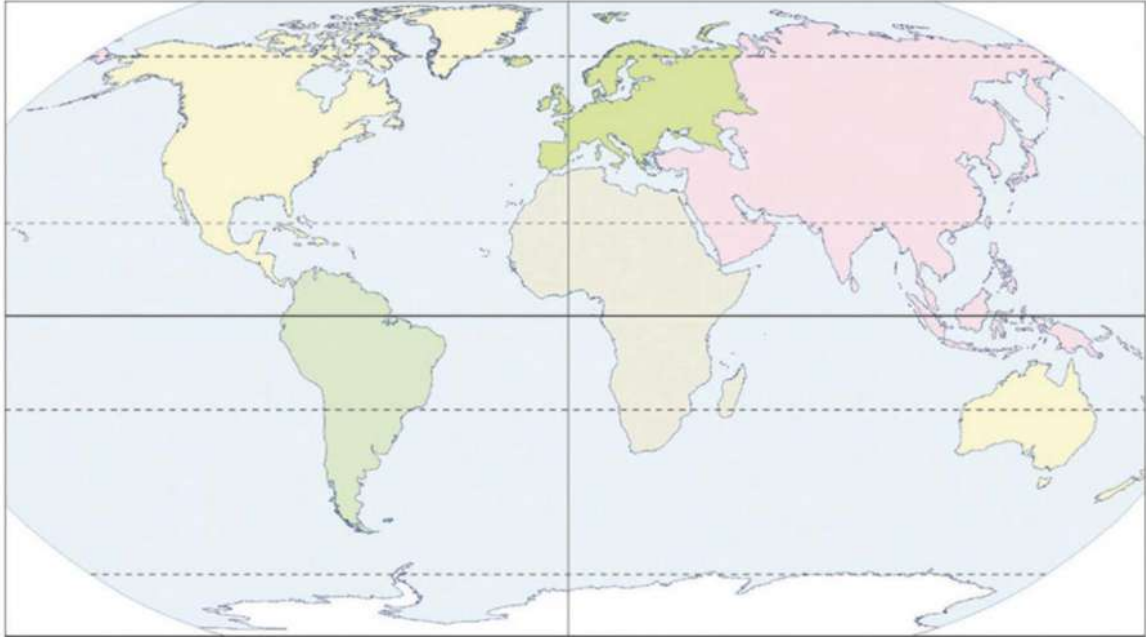
- ١- يحدد مفهوم السلالة.
- ٢- يحدد السلالات البشرية الرئيسية في العالم.
- ٣- يوزع السلالات البشرية الرئيسية في العالم علي خريطة صماء.
- ٤- يوزع السكان علي خريطة كل قارة.
- ٥- يحدد أماكن التركيز السكاني بكل قارة.
- ٦- يحلل الرسوم البيانية الخاصة بالسكان.
- ٧- يفسر أسباب اختلاف توزيع السكان من قارة لأخرى.
- ٨- يفسر أسباب اختلاف توزيع السكان من منطقة لأخرى.
- ٩- يحدد الخصائص الديموجرافية لسكان العالم.
- ١٠- يفسر أسباب اختلاف معدلات المواليد والوفيات من دولة لأخرى.
- ١١- يستخلص النتائج المترتبة علي ارتفاع نسبة فئة صغار السن في الدول النامية.
- ١٢- يقارن بين الدول النامية والمتقدمة من حيث الحالة التعليمية والصحية.
- ١٣- يفسر العلاقة بين عادات وتقاليد وخصائص السكان .
- ١٤- يحدد الخصائص الاقتصادية لسكان العالم.
- ١٥- يفسر الأشكال البيانية المرتبطة بالسكان ويحللها.

الوحدة الثانية : جغرافية سكان العالم

س ١ : أكمل العبارات الآتية بما يناسبها:

- ١- انتشر الإنسان في قارات العالم أواخر عصر
- ٢- السلالة هي مجموعة بشرية
- ٣- تختلف السلالات في عدة أشياء منها و
- ٤- تتميز السلالة السوداء (الزنجية) بعدة صفات منها و و

س ٢ : أمامك خريطة صماء للعالم ، وضح عليها : توزيع السلالات البشرية الرئيسية



س ٣ : ضع علامة (✓) صح أمام العبارة الصحيحة وعلامة (x) أمام العبارة غير الصحيحة فيما يأتي :

- ١- يمثل الزنوج نحو ٧٥% من إجمالي عدد سكان العالم . ()
- ٢- يعيش معظم الزنوج بالقرب من الدائرة القطبية الجنوبية. ()
- ٣- تمثل السلالة الصفراء (المغولية) نحو ٤٠% من إجمالي سكان العالم. ()
- ٤- تمثل السلالة الصفراء غالبية سكان قارة أمريكا الشمالية. ()

س ٤: اختر الإجابة الصحيحة من بين ا،ب،ج،د لتكمل بها العبارات الآتية:

١- تتركز السلالة الصفراء في قارة

أ- أفريقيا ب- آسيا

ج- أوربا د- أمريكا الجنوبية

٢- ينتمي سكان حوض البحر المتوسط للسلالة

أ- السودان ب- الصفراء

ج- القوقازية د- النيليون الحاميون

٣- ينتمي معظم سكان شمال أوربا للسلالة

أ- السودان ب- الصفراء

ج- القوقازية د- الأسكيمو

٤- ينتمي نحو نصف عدد سكان العالم للسلالة

أ- السودان ب- الصفراء

ج- القوقازية د- البحر متوسطة

٥- من المناطق التي يوجد بها سلالة نقية

أ- غابات حوض الكونغو ب- نهر النيل

ج- وسط أوربا د- وسط أمريكا الشمالية

س ٥: اكتب مقالا من عشرة أسطر توضح فيه أثر الهجرة علي السلالات في العالم .

س ٦: اختر الإجابة الصحيحة من بين ا،ب،ج،د لتكمل بها العبارات الآتية:

١- ترتفع كثافة السكان في جزيرة جاوة بسبب

أ- اعتدال المناخ ب- كثرة الأنهار

ج- تنوع فرص العمل د- خصوبة التربة

٢- تنخفض الكثافة السكانية في سيبيريا بسبب

أ- وجود الجبال ب- انخفاضها عن مستوي سطح البحر

ج- قسوة المناخ د- وعورة السطح

٣- من المشكلات التي تعاني منها المناطق ذات الكثافة العالية مشكلة...

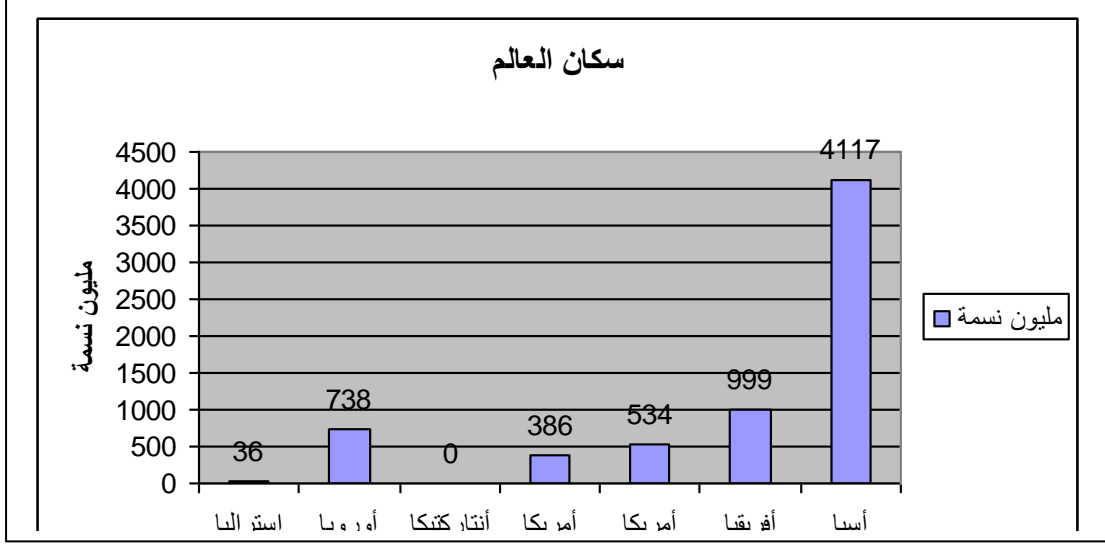
أ- الهجرة غير الشرعية ب- ارتفاع دخل الفرد

ج- تنوع الغذاء د- ارتفاع مستوي المعيشة

س ٧: ادرس الرسم البياني التالي ووضح الآتي

١- أكثر قارات العالم اكتظاظا بالسكان

٢- أقل قارات العالم سكانا قارة.....



س ٨: اختر الإجابة الصحيحة من بين أ، ب، ج، د لتكمل بها العبارات الآتية:

١- يتركز السكان في السهول الفيضية بسبب.....

أ- كثرة الأمطار

ب- كثرة الغابات

ج- خصوبة التربة

د- وفرة المياه

٢- يتركز السكان في المدن الكبرى بسبب وفرة

أ- الأمطار

ب- الخدمات

ج- مياه الشرب

د- السهول الخصبة

٣- من النتائج المترتبة علي زيادة السكان في قارة آسيا

أ- انخفاض مستوى الدخل

ب- الاعتماد علي الزراعة

ج- ارتفاع مستوى الدخل

د- كثرة الحروب

٤- من المناطق الصحراوية التي يقل بها عدد السكان في آسيا

أ- جنوب شرق آسيا

ب- جنوب غرب آسيا

ج- جزر اندونيسيا

د- جزر اليابان

٥- من المناطق ذات الكثافة السكانية العالية في أفريقيا

أ- المناطق الاستوائية

ب- صحراء الصومال

ج- صحراء كلهاري

د- سواحل البحر المتوسط

س ٩ : بم تفسر....؟

- ١- قلة عدد السكان في منطقتي جبال البحر الأحمر وهضبة الأحجار.
- ٢- ارتفاع كثافة السكان في كينيا.

س ١٠ : ما أسباب كل من.....؟

- ١- كثرة السكان في السهل الأوربي العظيم.
- ٢- قلة السكان في شمال أوربا.
- ٣- التركيز السكاني في مناطق غرب أوربا.
- ٤- الكثافة السكانية المتوسطة في دول شرق أوربا.

س ١١ : اختر الإجابة الصحيحة من بين ا،ب،ج،د لتكمل بها العبارات الآتية:

- ١- يتركز السكان في الساحل الشمالي الشرقي للولايات المتحدة بسبب.....
 - أ- الزراعة
 - ب- وجود البحيرات العظمي
 - ج- الموارد الاقتصادية
 - د- السهول الزراعية
- ٢- يتركز السكان في منطقة البحيرات العظمي بسبب.....
 - أ- الزراعة
 - ب- الصناعة
 - ج- التجارة
 - د- أعمال الخدمات
- ٣- ترتفع الكثافة السكانية في ولاية كاليفورنيا بسبب.....
 - أ- الزراعة
 - ب- الصناعة
 - ج- التجارة
 - د- أعمال الخدمات
- ٤- ترتفع الكثافة السكانية في ولايات الوسط بالولايات المتحدة بسبب.....
 - أ- الزراعة
 - ب- الصناعة
 - ج- التجارة
 - د- أعمال الخدمات
- ٥- يقل السكان في شمال كندا بسبب.....
 - أ- الارتفاعات الشاهقة
 - ب- وعورة السطح
 - ج- قلة الموارد
 - د- قسوة المناخ

س ١٢ : أكمل العبارات الآتية بما يناسبها:

- ١- يتركز السكان في الأرجنتين في
- ٢- يتركز السكان في البرازيل في
- ٣- تنخفض الكثافة السكانية بأمريكا الجنوبية فيو.....
- ٤- يعيش نحو ٥٠% من سكان أمريكا الجنوبية في دولة

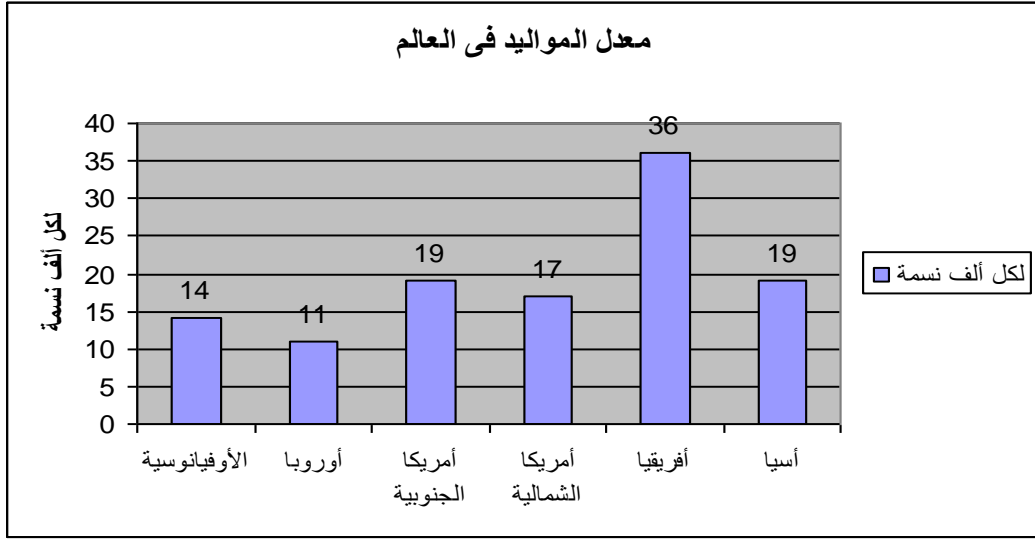
س ١٣: "يعيش نحو ٣٦ مليون نسمة في استراليا والجزر المجاورة لها"

في ضوء هذه العبارة وضح:

- ١- أماكن تركيز السكان في استراليا.
- ٢- الأماكن التي ينخفض بها التركيز السكاني باستراليا.

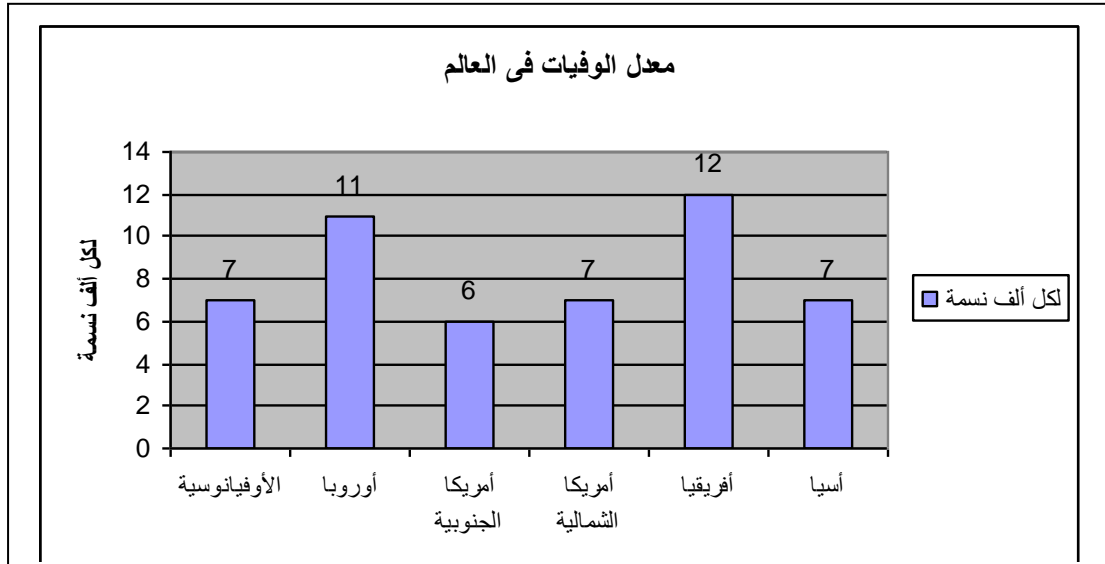
س ١٤: أدرس الرسم البياني التالي، ثم وضح :

- ١- أكثر قارات العالم في معدلات المواليد.
- ٢- أسباب ارتفاع معدلات المواليد.
- ٣- أقل قارات العالم في معدلات المواليد.



س ١٥: أدرس الرسم البياني التالي ، ثم وضح:

- ١- أكثر قارات العالم في معدلات الوفيات .
- ٢- أسباب ارتفاع معدلات الوفيات .
- ٣- أقل قارات العالم في معدلات الوفيات .
- ٤- أسباب انخفاض معدل الوفيات.



س ١٦ : أكمل العبارات الآتية بما يناسبها:

- ١- الزيادة الطبيعية هي
- ٢- من الآثار المترتبة علي ارتفاع فئة صغار السنو.....
- ٣- تصل نسبة المتعلمين في الدول المتقدمة إلي% .
- ٤- من الدول ذات الرعاية الطبية الفائقةو.....
- ٥- من الدول ذات الرعاية الطبية المرتفعةو.....
- ٦- من الدول ذات الرعاية الطبية المنخفضةو.....

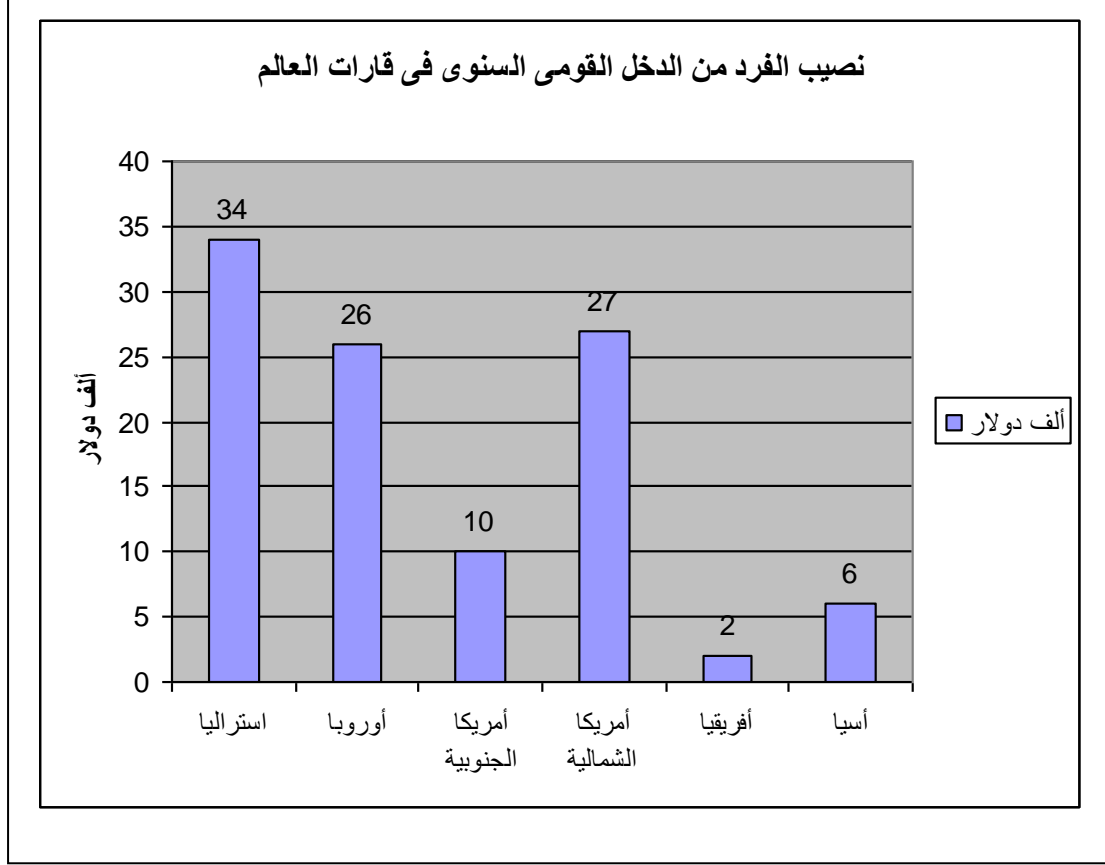
س ١٧ : اختر الإجابة الصحيحة من بين ا،ب،ج،د لتكمل بها العبارات الآتية:

- ١- يعتبر معدل الزيادة السكانية في مصر معدل
أ- منخفض
ب- مرتفع
ج- معقول
د- يتفق مع المعدلات العالمية
- ٢- تؤدي الحروب والكوارث إلي ارتفاع
أ- مستوي المعيشة
ب- معدل المواليد
ج- معدل الوفيات
د- نسبة الجرائم
- ٣- من الدول التي يرتفع بها نسبة البالغون
أ- ليبيا
ب- ألمانيا
ج- السعودية
د- السودان
- ٤- من الدول التي ترتفع بها نسبة كبار السن
أ- الدول النامية
ب- دول جنوب شرق آسيا
ج- دول جنوب أفريقيا
د- الدول المتقدمة

س١٨: "ادرس الرسم البياني التالي ثم وضح

١- أعلى قارة من حيث مستوى الدخل.

٢- أقل قارة من حيث مستوى الدخل.



١- من الدول ذات الدخل الاقتصادي المرتفع

٢- من الدول ذات الدخل الاقتصادي فوق المتوسط

٣- من الدول ذات الدخل الاقتصادي أقل من المتوسط

٤- من الدول ذات الدخل الاقتصادي المنخفض

٥- يقصد بقوة العمل

الوحدة الثالثة مصر فى تحت الحكم العثمانى

اهداف الوحدة

فى نهاية هذه الوحدة يتوقع ان يكون التلميذ قادراً على أن :-

- يتعرف أسباب دخول العثمانيين مصر .
- يتعرف أسباب ونتائج هزيمة الجيوش المملوكية.
- يتعرف ملامح الحكم العثمانى لمصر .
- يحدد أسباب الحملة الفرنسية على مصر .
- يحدد أحداث الحملة الفرنسية على مصر والشام ونتائجها .
- يوضح دور المقاومة فى فشل الحملة الفرنسية على مصر والشام .
- يستخلص نتائج الحملة الفرنسية .
- يتعرف دور الشعب المصرى فى تولية (محمد على) .
- يتعرف جهود (محمد على) فى بناء مصر الحديثة .
- يحدد أسباب حروب (محمد على) ونتائجها .
- يقدر جهود المصريين فى مقاومة الاحتلال .
- يقدر جهود (محمد على) فى بناء مصر الحديثة .

اختبار قبلي

س ١: أكمل العبارات الآتية بكلمات مناسبة :-

١. ضعفت دولة المماليك بعد اكتشاف طريق
٢. يدور طريق رأس الرجاء الصالح حول قارة
٣. من نتائج الحملة الفرنسية اكتشاف حجر
٤. كان قائدا للحملة الفرنسية على مصر.
٥. تولى (محمد على) حكم مصر نزولاً على إرادة

س ٢: ضع علامة (√) إمام العبارة الصحيحة أو (×) أمام العبارة غير الصحيحة مع

تصويب الخطأ:

١. كانت سلطة الوالي في مصر مقيدة ()
٢. عانت مصر من العزلة في العهد العثماني ()
٣. كانت الحملة الفرنسية حملة عسكرية فقط ()
٤. خاض (محمد على) عدة حروب أثناء حكمه لمصر ()

س ٣: اختر الإجابة الصحيحة مما بين الأقواس...

- ١- تحطم الأسطول المصري في موقعة ديو البحرية على يد
(البرتغاليين - الصفويين - العثمانيين - المماليك).
- ٢- استخدم العثمانيون في جمع الضرائب نظام
(الانتفاع - الاحتكار - الالتزام - الاقتراض)
- ٣- اقتصر التعليم في الأزهر على العلوم أثناء الحكم العثماني.
(العقلية - الرياضية - الشريعة - العلمية)
- ٤- استعان به (محمد على) للتدريس في المدارس العليا
(الكولونيل سيف - كلوت بك - رفاة الطهطاوي - عبد الله الشرقاوي).

الدرس الأول مصر بين المماليك والعثمانيين

س ١: أكمل العبارات الآتية بكلمات مناسبة :-

١. قامت دولة المماليك في،.....،.....
٢. اصطدم سليم الأول في بداية القرن السادس عشر مع الدولة في إيران.
٣. بدأ العثمانيون توجيه أنظارهم نحو الشرق العربي في أوائل القرن الميلادي
٤. أصبحت مصر ولاية عثمانية عام ١٥١٧ م بعد معركة
٥. قسم السلطان العثمانيالسلطة في مصر إلى أربعة هيئات هي.....و.....و.....و.....
٦. تمكن سليم الأول من هزيمة الصفويين في معركة.....
٧. التقى العثمانيون بجيوش عند الريدانية.
٨. زادت قوةعلى سلطة الوالي في القرن ١٨م.
٩. خضعت مصر للحكم العثماني نحو قرون متتالية.
١٠. تحالف على بك الكبير مع ظاهر العمر ضد
١١. طبق العثمانيون نظام الالتزام في مجال
١٢. اقتصر التعليم في مصر في عهد العثمانيين على

س ٢: ضع علامة (✓) أمام العبارة الصحيحة و (x) أمام العبارة غير الصحيحة مع التصويب:

- ١- اتجه السلطان عثمان بن ارطغرل للشرق مع بداية القرن السادس عشر ()
- ٢- تعرضت دولة المماليك لتدهور اقتصادي نتيجة اكتشاف طريق رأس الرجاء الصالح ()
- ٣- انتهى الصدام بين الدولة الصفوية والعثمانية بهزيمة سليم الأول ()
- ٤- هزمت جيوش طومان باى في موقعة مرج دابق ()
- ٥- استولى سليم الأول على إمارة ذي القادر المملوكية ()
- ٦- سيطر الأجانب على التجارة في مصر في العهد العثماني ()

س ٣: اختر الإجابة الصحيحة مما بين الأقواس.

١. انتصر سليم الأول على الصفويين فى معركة.....
(ديو البحرية - الريدانية - جالديران - مرج دابق).
٢. الدولة الصفوية دوله إسلامية كانت متاخمة ل.....
(إيران - العراق - المغرب - تونس).
٣. تشكلت الطبقة الوسطى زمن العثمانيين من
(العلماء - الأتراك - الفلاحين - اليونانيين).
٤. تولى منصب شيخ البلد بعد على بك الكبير
(طومان باى - محمد ابو الذهب - ظاهر العمر - رفاة الطهطاوى).
٥. تحالف على بك الكبير مع الشيخ ظاهر العمر حاكم
(جنوب الشام - العراق - اليمن - سوريا).
٦. من البلاد التي أخضعها على بك الكبير لحكمه
(الخليج العربى - العراق - الحجاز - الصومال)

س ٤ . اذكر عملاً واحداً للشخصيات الآتية

الشخصية	أهم الأعمال
سليم الأول	
على بك الكبير	
محمد بك أبو الذهب	
طومان باى	
قنصوة الغورى	

س ٥: ما النتائج المترتبة على

١. إعدام نابليون حامية يافا.
٢. فشل اتفاقية العريش.
٣. ثورة القاهرة الثانية.
٤. رغبة مينو فى البقاء فى مصر.
٥. العثور على حجر رشيد.

٦. مذبحه يافا البشرية.

٧. ادرك كليبر استحالة بقاء القوات الفرنسية في مصر بعد رحيل نابليون الي فرنسا.

س ٦ : بم تفسر

١. نجحت الدولة العثمانية في إقامة إمبراطورية آسيوية أوروبية.
٢. التدهور الاقتصادي لدولة المماليك .
٣. ضعف القوة العسكرية للمماليك.
٤. اتجاه سليم الأول بفتوحاته نحو الشرق.
٥. رغبة السلطان سليم الأول في الاستيلاء على أراضي الحجاز.
٦. هزيمة الجيوش المملوكية ضد العثمانيين.
٧. تحول مصر في العصر العثماني إلى ولاية بعيدة عن المؤثرات الحضارية الحديثة في أوروبا.
٨. نجاح العثمانيين في فرض سيطرتهم على العالم العربي.
٩. أصيب العالم العربي في العصر العثماني بالجدب العلمي.
١٠. سوء حالة الفلاح المصري في العصر العثماني.
١١. تدهور الزراعة في مصر في العصر العثماني.
١٢. تدهور الصناعة في مصر في العصر العثماني.
١٣. تدهور التجارة الداخلية في العصر العثماني.
١٤. اهتزاز مكانة الأزهر العلمية في العصر العثماني.
١٥. انتشار والخرافات والجهل في العصر العثماني.
١٦. حمل نظام الحكم العثماني في ثنياه عوامل ضعفه.
١٧. فشل حركة على بك الكبير.

س ٧: ماذا يحدث إذا.....؟

١. انتصر طومان باي في معركة الريدانية .
٢. فشل السلطان سليم الأول في هزيمة الدولة الصفوية .
٣. فشل البرتغاليون في اكتشاف طريق رأس الرجاء الصالح .
٤. لم تقع مصر تحت سيطرة العثمانيين .
٥. فشل سليم الأول في السيطرة على شبه الجزيرة العربية .

٦. سادت روح الابتكار فى العلم والأدب أثناء الحكم العثماني .
٧. لم ينحاز محمد بك أبو الذهب للسلطان العثماني ضد قائده على بك الكبير.
٨. اتجه سليم الأول فى توسعته نحو الغرب الأوربي.
٩. لم يفرض العثمانيون العزلة على مصر والعالم العربي خلال فترة حكمهم .
١٠. لم يتم نقل الصناعات المهرة فى مصر إلى عاصمة الدولة العثمانية .

س٨: دلل على صحة العبارة التالية تاريخياً :-

١. ضعف القوة العسكرية لدولة المماليك.
٢. ظهرت حركة على بك الكبير نتيجة لضعف الدولة العثمانية.
٣. كان لمعركة الريدانية أثر كبير فى تاريخ مصر.
٤. كان البرتغاليون عاملاً مهماً فى تدهور أحوال دولة المماليك.
٥. ساءت الأحوال الاقتصادية فى مصر أثناء الحكم العثماني.
٦. نجح العثمانيون فى السيطرة على العالم العربي فى آسيا .
٧. حمل نظام الحكم العثماني فى ثنياه عوامل ضعفه.
٨. كان حكم العثمانيين جامداً راکداً.
٩. اتسمت الحياة الفكرية والثقافية أثناء الحكم العثماني بالجمود والتخلف .

س٩: لمن تنسب الأعمال الآتية.....؟

١. اكتشاف طريق رأس الرجاء الصالح (.....)
٢. دولة مركزها إيران وعاصمتها تبريز (.....)
٣. الموقعة التى انتصر فيها العثمانيون على الدولة الصفوية (.....)
٤. المعركة التى هزم فيها المماليك من البرتغاليين (.....)
٥. السلطان المملوكى الذى رفض الوقوف إلى جانب العثمانيين فى حربهم ضد الصفويين (.....)
٦. استولى على إمارة القادر المملوكية (.....)
٧. موقعة انتصر فيها سليم الأول على الغورى ١٥١٦م (.....)
٨. موقعة انتصر فيها سليم الأول على طومان باى ١٥١٧م (.....)
٩. نائب السلطان العثماني فى مصر ورئيس السلطة التنفيذية (.....)
١٠. مقر الوالى العثماني فى مصر (.....)

١١. قام بحركة استقلالية بمصر عن الدولة العثمانية (.....)
١٢. حليف على بك الكبير فى حركته الاستقلالية (.....)
١٣. قائد جيش على بك الكبير الذى خان سيده (.....)

س ١٠: رتب الأحداث التالية ترتيباً تنازلياً من القديم للحديث

١- (موقعة مرج دابق- اكتشاف طريق رأس الرجاء الصالح - موقعة جالديران- موقعة ديو البحرية).

.....
.....
.....

٢- (موقعه الريدانيه - موقعة ديو البحرية - حركة على بك الكبير).

.....
.....
.....

الدرس الثاني
الحملة الفرنسية (١٧٩٨م - ١٨٠١م)

س ١: أكمل العبارات الآتية بكلمات مناسبة:

١. كان هو أول قائد للحملة الفرنسية.
٢. خرجت الحملة الفرنسية من ميناء
٣. توجهت الحملة الفرنسية إلى مدينة على البحر المتوسط.
٤. تولى التصدي للحملة الفرنسية فى الإسكندرية.
٥. كان قائد المماليك فى معركة إمبابة.
٦. أخفقت القوات الفرنسية فى إخضاع أهالي
٧. كان قائد المصريين فى ثورة القاهرة الثانية.
٨. فشلت الحملة الفرنسية على الشام بسبب صمود أهالي عكا بقيادة
٩. انخفضت الروح المعنوية لجنود الحملة الفرنسية بعد
١٠. أبرزت الحملة الفرنسية أهمية موقع مصر خاصة بالنسبة ل
١١. تم التعرف على أسرار الحضارة المصرية بمساعدة
١٢. أرسلت إنجلترا أسطولاً حربياً إلى أبى قير ١٨٠١ لإخراج
١٣. اكتشف الضابط حجر رشيد ١٧٩٩م.

س ٢: ضع علامة (✓) أمام العبارة الصحيحة و (x) أمام العبارة غير الصحيحة مع التصويب:

- ١- تعد الحملة الفرنسية على مصر والشام جزءاً من التنافس الاستعماري بين إنجلترا وفرنسا. ()
- ٢- اصطحب الجيش الفرنسي مجموعة من العلماء فى مختلف العلوم لدراسة أحوال مصر. ()
- ٣- واجه أهالي الإسكندرية الحملة الفرنسية بزعامة محمد كريم. ()
- ٤- استخدم المماليك المدافع والمعدات الحديثة فى مواجهة القوات الفرنسية. ()
- ٥- من نتائج الحملة الفرنسية فتح أسواق لمصر فى بلاد البحر الأحمر. ()
- ٦- عاد نابليون إلى فرنسا سرا بعد معركة أبى قير البرية ١٧٩٩م. ()
- ٧- نجح الفرنسيون فى إخضاع الصعيد لسيطرتهم. ()
- ٨- تدهورت أحوال التجارة الخارجية أثناء الحملة الفرنسية. ()
- ٩- زادت كراهية المصريين لنابليون بعد ثورة القاهرة الأولى. ()
- ١٠- سهلت مذبحه يافا البشرية على نابليون الاستيلاء على عكا. ()

س٣: أختَر الإجابة الصحيحة مما بين الأقواس:-

- ١- وجهت الحملة الفرنسية أنظار انجلترا إلى أهمية.....
(الآثار المصرية - موقع مصر - موارد مصر - الموانئ المصرية).
- ٢- استطاع العالم الفرنسي شامبليون.....
(فك رموز الكتابة المصرية- وضع كتاب وصف مصر - تنظيم أمور الحكم- دراسة توصيل البحرين)
- ٣- قتل سليمان الحلبي القائد.....
(مينو - كليبر - نابليون - بوشار).
- ٤- تولى قيادة أهل الإسكندرية ضد الفرنسيين.....
(عمر مكرم - عبد الله الشراوي - محمد كريم - علي بك الكبير).
- ٥- خرجت الحملة الفرنسية من ميناء بفرنسا
(مالطة - كريت - طولون - مرسليليا).
- ٦- تم إنشاء المحاجر الصحية في
(القاهرة- عكا- العريش - الإسكندرية)
- ٧- ضاع أمل فرنسا في بسط السيطرة على البحر المتوسط بعد
(رحيل نابليون - فشل اقتحام عكا - معركة أبو قير البحرية- معركة أبي قير البحرية).
- ٨- كان مقر ثورة القاهرة الأولي.....
(حى بولاق - الجامع الأزهر - إمبابة - القلعة).
- ٩- ارتكب الفرنسيين جريمة بشعة في.....
(عكا - غزة - يافا- حيفا).
- ١٠- غادر نابليون مصر بعد معركة
(أبو قير البحرية - شبراخيت - أبو قير البرية- إمبابة).
- ١١- اشتدت ثورة القاهرة الثانية خاصة فى حى
(بولاق - الأزهر - شبرا - إمبابة).
- ١٢- تفاوض مع العثمانيين للجلء عن مصر القائد.....
(كليبر - مينو - نابليون - نلسون).
- ١٣- قتل كليبر على يد.....
(نابليون - سليمان الحلبي - نلسون - مينو)

س ٤ : بم تفسر :

- ١ . اصطحاب نابليون العلماء إلى مصر .
- ٢ . حمل نابليون معه مطبعه عربية وأخرى فرنسية .
- ٣ . هزيمة المماليك أمام الفرنسيين في كثير من المعارك .
- ٤ . فشل القوات الفرنسية في إخضاع أهالي الصعيد .
- ٥ . قيام المصريين بثورة القاهرة الأولى .
- ٦ . الحملة الفرنسية على الشام .
- ٧ . عودة نابليون إلى فرنسا .
- ٨ . عقد اتفاقية العريش بين كليبر والدولة العثمانية .
- ٩ . فشل اتفاقية العريش .
- ١٠ . قيام المصريين بثورة القاهرة الثانية .
- ١١ . لم تكن الحملة الفرنسية على مصر مجرد حملة للغزو والاحتلال .
- ١٢ . فشل مشروع توصيل البحرين الأحمر والمتوسط .
- ١٣ . يعتبر كتاب وصف مصر أول موسوعة حديثة عن مصر .
- ١٤ . انشأ نابليون الديوان العام ودواوين الأقاليم وديوان القاهرة .

س ٥ : أيد صحة العبارات الآتية :

- ١ . أيقظت الحملة الفرنسية الروح القومية لدى المصريين .
- ٢ . يعتبر كتاب وصف مصر أول موسوعة حديثة عن مصر .
- ٣ . لم تكن الحملة الفرنسية على مصر مجرد حملة للغزو والاحتلال .

س ٦ :- أكمل بيانات الجدول التالي :-

م	اسم الشخصية	العبرة الدالة علي صاحب الشخصية
١	تزعم أهالي الإسكندرية في مواجهة الحملة الفرنسية حيث كان حاكما لها واعدم رميا بالرصاص .
٢	فر الي الصعيد بعد هزيمة قوات المماليك في معركة إمبابة .
٣	هرب ومعة الوالي العثماني الي الشام بعد هزيمة المماليك في معركة امبابة
٤	نلسون
٥	نابليون
٦	نائب نابليون الذي قاد الحملة بعد رحيلة سرا الي فرنسا عام ١٧٩٩ م .
٧	زعيم ثورة القاهرة الثانية الذي كان مركزها حي بولاق ونقيب الاشراف
٨	احد طلاب الأزهر الشريف وقد استطاع قتل كليبر في ١٤ يونية عام ١٨٠٠م
٩	مينو
١٠	ضابط فرنسي من ضابط الحملة الفرنسية اكتشف حجر رشيد عام ١٧٩٩م
١١	احمد باشا الجزائر

س ٧: ماذا يحدث إذا.....؟

١. تحطم الأسطول الانجليزي في موقعة أبي قير البحرية .
٢. انتصر مراد بك في موقعة إمبابة .
٣. خرجت الحملة الفرنسية علانية من ميناء طولون .
٤. نجحت ثورة القاهرة الأولى .
٥. لم يتم تأليف كتاب وصف مصر .
٦. لم تعارض إنجلترا معاهدة العريش .
٧. نجح نابليون في فتح عكا .
٨. كانت الدولة العثمانية قوية في فترة الحملة الفرنسية .
٩. اقتصرت الحملة الفرنسية على العسكريين فقط.

س ٨: ما المقصود بكل من

١. مقاومة .

٢. جلاء .

س ٩: لمن تنسب الأعمال الآتية.....؟

١. قاد الحملة الفرنسية إلى مصر (.....)
٢. ميناء أبحرت منه الحملة الفرنسية (.....)
٣. حاكم الإسكندرية الذي قاوم الحملة الفرنسية وتم القبض عليه حتى أعدموه (.....)
٤. أول المعارك التي خاضها المماليك ضد الفرنسيين (.....)
٥. موقعة تحطم فيها الأسطول الفرنسي على يد الأسطول الانجليزي (.....)
٦. القائد الانجليزي الذي حطم الأسطول الفرنسي في أبي قير (.....)
٧. مركز ثورة القاهرة الأولى (.....)
٨. جريمة بشعة ارتكبتها نابليون في الشام (.....)
٩. حاكم عكا الذي قاوم الحملة الفرنسية (.....)
١٠. ساعدت أهالي عكا بالمؤن والسلاح (.....)
١١. موقعة انتصر فيها نابليون على العثمانيين (.....)
١٢. قاد الحملة الفرنسية بعد نابليون (.....)
١٣. اتفاقية عقدت بين الفرنسيين والعثمانيين (.....)
١٤. رفضت اتفاقية العريش وطلبت استسلام الفرنسيين (.....)
١٥. قاد ثورة القاهرة الثانية ضد الفرنسيين (.....)
١٦. مركز ثورة القاهرة الثاني (.....)
١٧. شاب سورى قام بقتل كليبر (.....)
١٨. قاد الحملة الفرنسية بعد كليبر (.....)
١٩. ضابط فرنسى عثر على حجر رشيد (.....)
٢٠. قام بإنشاء الدواوين في مصر (.....)

س ١٠ : قارن بين كل من:

المقارنة	الحملة الفرنسية على مصر	الحملة الفرنسية على الشام
الأسباب
النتائج

س ١١ : رتب الأحداث التالية ترتيبا تنازليا من الأقدم إلى الأحدث:-

١- (موقعة أبى قير البحرية - اتفاقية العريش - ثورة القاهرة الثانية - الحملة الفرنسية على الشام).

.....
.....

٢- (رحيل الحملة الفرنسية - موقعة إمبابة - موقعة أبى قير البرية - ثورة القاهرة الأولى).

.....
.....

الدرس الثالث
ثورة الشعب المصري وتولية (محمد على)

س ١: ضع علامة (√) أمام العبارة الصحيحة و (x) أمام العبارة غير الصحيحة مع التصويب:

- ١- كانت بريطانيا تطمع فى السيطرة على مصر لمواردها الاقتصادية ()
- ٢- قاوم المصريون حملة فريزر فى الإسكندرية ()
- ٣- وضع زعماء الشعب قاعدة للحكم بالشورى عند تعيين (محمد على) ()
- ٤- تخلص (محمد على) من المماليك فى مذبحه يافا عام ١٨١١م. ()
- ٥- نجح (محمد على) من التخلص من الزعامة الشعبية بنفى عمر مكرم إلى دمياط ()

س ٢: اختر الإجابة الصحيحة مما بين الأقواس

- ١- اختار الشعب المصري (محمد على) واليا بعد عزل الوالي
(عمر مكرم - خورشيد - محمد الألفى - البرديسى).
- ٢- كانت انجلترا تسعى لتوليه زعيم المماليك بدلا من (محمد على).
(محمد بك الألفى - خورشيد - عمر مكرم - خورشيد باشا).
- ٣- انفرد (محمد على) بحكم مصر تماما بعد
(فرمان ١٨٠٦ - فشل حملة فريزر - نفى عمر مكرم - مذبحه القلعة).
- ٤- قاوم الشعب المصر حملة فريزر عام ١٨٠٧م فى
(الشرقية - الصعيد - الإسكندرية - رشيد والحماد)
- ٥- ظهر (محمد على) أمام الشعب المصرى كرجل عادل إثناء
(ثورة مارس ١٨٠٤م - حملة فريزر - محاولة نقل - موقعة أبي قير البرية).
- ٦- حاولت بريطانيا بسط نفوذها على مصر حتى تطمئن لمصالحها
(العسكرية - الاقتصادية - السياسية - الاجتماعية).

س ٣: أكتب ما تشير إليه العبارات الآتية

١. مدينة ولد بها (محمد على) (.....)
٢. تم عزله وتعيين (محمد على) والياً على مصر (.....)
٣. أرادت بريطانيا عزل (محمد على) وتعيينه والياً على مصر (.....)
٤. ولاية نقل السلطان (محمد على) اليها (.....)

٥. نفاه (محمد على) إلى دمياط (.....)
٦. قام بها (محمد على) للتخلص من المماليك (.....)

س ٤: بم تفسر

١. اختيار زعماء الشعب (محمد على) والياً على مصر .
٢. واجهت مصر فتره عصيبة بعد جلاء الحملة الفرنسية عنها.
٣. اجتماع زعماء الشعب في بيت القاضي.
٤. رغبة بريطانيا في الاحتفاظ بنفوذها في مصر بعد خروجها عام ١٨٠٣م.
٥. ثورة الشعب المصري في مارس ١٨٠٤م.
٦. نجاح (محمد على) في كسب الشعب وثقة الزعماء.
٧. يعتبر يوم ١٣ مايو ١٨٠٥م يوماً مهماً في تاريخ مصر.
٨. لم تقبل بريطانيا بسهولة تولية (محمد على).
٩. تخلص محمد على من المماليك.
١٠. فشل حملة فريزر.
١١. قضاء (محمد على) على الزعامة الشعبية .
١٢. عزل (محمد على) عمر مكرم من نقابة الإشراف ونفيه الى دمياط.
١٣. حرص (محمد على) على حرمان المماليك من تولى المناصب الرفيعة في البلاد

س ٥: ماذا يحدث إذا.....؟

١. أحسن خورشيد باشا معاملة الشعب المصري.
٢. استطاع المماليك الهروب من القلعة في مارس ١٨١١م .
٣. فشل (محمد على) في التخلص من المماليك.
٤. حققت حملة فريزر ١٨٠٧م، الأهداف التي جاءت من أجلها.
٥. رفض السلطان العثماني قرار زعماء الشعب المصري في ١٣ مايو ١٨٠٥م.
٦. لم يتخذ (محمد على) إجراءات للانفراد بالحكم.
٧. فشلت الزعامة الشعبية في الوقوف بجانب (محمد على).

الدرس الرابع
(محمد على) وبناء مصر الحديثة

س ١: أكمل العبارات الآتية بكلمات مناسبة فيما يلي:-

- ١- ألغى (محمد على) نظام
- ٢- نظم (محمد على) الاقتصاد المصري على أساس.....
- ٣- أنشأ (محمد على) المصانع الحكومية مثل مصنع.....،.....،.....
- ٤- من الشخصيات العلمية البارزة فى عهد (محمد على) و
- ٥- أنشأ (محمد على) المطبعة الأميرية فى وأصدر صحيفة
- ٦- أنشئت أول مدرسة عسكرية فى مدينة
- ٧- تحطم الأسطول المصري فى معركة عام ١٨٢٧م مما أدى لانسحاب (محمد على) من
- ٨- وصلت دولة (محمد على) لأقصى اتساع لها بعد حروب

س ٢: ضع علامة (√) أمام العبارة الصحيحة علامة (x) أمام العبارة غير الصحيحة مع التصويب:

- ١- ارتفعت مكانة مصر دوليا بعد حروب اليونان ()
- ٢- وقفت الدول الأوروبية على الحياد فى الصراع بين (محمد على) والسلطان العثماني ()
- ٣- وصل عدد الدواوين فى عهد (محمد على) باشا تسعة دواوين ()
- ٤- عهد (محمد على) إلى ضم السودان من أجل التوسع فى إمبراطورية مصر ()
- ٥- كان التعليم أهم اصطلاحات (محمد على) ()
- ٦- اعتمد (محمد على) فى البداية على المصريين فى إعداد الجيش المصري ()

س ٣: اختر الإجابة الصحيحة مما بين القوسين

- ١- من القوى الاجتماعية التى انتهت نفوذها فى عهد (محمد على)
(الأعيان - البدو - علماء الأزهر - الأتراك)
- ٢- بعد سياسة الاحتكار ظهرت طبقة كقوة اجتماعية مستقرة
(التجار - المماليك - البدو - الرعاة)
- ٣- استعان (محمد على) ب للتدريس فى المدارس العليا
(الكولونيل سيف - كلوت بك - رفاة الطهطاوي - الظاهر عمر)
- ٤- طهر (محمد على) البحر من القرصنة.

(المتوسط-الأحمر-قزوين -الأسود)

٥- أول حروب (محمد على) الخارجية فى.....

(السودان-شبه الجزيرة العربية- اليونان - سوريا)

٦- تحطم الأسطول المصري فى نافرين على يد.....

(الأسطول العثماني - الدول الأوربية - ثوار المورة -الوهابيين)

٧- طبق (محمد على) الاحتكار بهدف منافسة الدول الأوربية فى مجال.....

(التجارة - الزراعة - الصناعة- الفنون)

س ٤ : أكتب ما تشير إليه العبارات الآتية:

١. تقوم الحكومة بتحديد نوع الغلات و المصنوعات وتحديد أثمان شرائها و بيعها فى

السوق (.....)

٢. قام بتطهير البحر الأحمر من القرصنة

(.....)

٣. ظهروا كقوة اجتماعية مستقرة فى عهد (محمد على)

(.....)

٤. أحد الأساتذة الأجانب الذي استعان به (محمد على)

(.....)

٥. أنشأ المطبعة الأميرية ببولاق

(.....)

٦. أحد الضباط الأوروبيين الذي استعان بهم (محمد على)

(.....)

٧. أول الحروب التي خاضها (محمد على) بناء على طلب السلطان العثماني

(.....)

٨. حركة قامت فى شبه الجزيرة العربية هددت نفوذ الدولة العثمانية

(.....)

٩. طالبوا باستقلال اليونان عن الدولة العثمانية

(.....)

١٠. موقعة تحطم فيها الأسطول المصري عام ١٨٢٨م

(.....)

١١. جزيرة ضمها (محمد على) إلى حكمه بعد حروب اليونان

(.....)

١٢. عاصمة السودان أنشأها (محمد على)

(.....)

س ٥ : بم تفسر:

١. مبادرة (محمد على) بإجراء اصطلاحات شملت جوانب الحياة .

٢. اتجاه (محمد على) الى بناء قوة عسكرية .

٣. تطبيق (محمد على) نظام الاحتكار .

٤. استخدام (محمد على) أساليب زراعية حديثة.

٥. إنشاء (محمد على) القناطر الخيرية .

٦. اهتمام (محمد على) بتحسين الزراعة.

٧. إقامة (محمد على) مصانع حكومية.
٨. إرسال (محمد على) بعثات تعليمية للخارج .
٩. ازدهار التجارة في عهد (محمد على).
١٠. ازدهار النقل والمواصلات في عهد (محمد على) .
١١. أثرت سياسة (محمد على) الاقتصادية في تشكيل القوى الاجتماعية في مصر.
١٢. نشطت التجارة الداخلية والخارجية في عهد (محمد على).
١٣. اهتمام (محمد على) بالتعليم.
١٤. أنشأ (محمد على) مدرسة حربية في أسوان.
١٥. أنشأ (محمد على) مدارس المشاة والمدفعية والفرسان.
١٦. إنشاء (محمد على) ترسانة بولاق والإسكندرية .
١٧. أنشأ (محمد على) ترسانة في القلعة.
١٨. أثرت سياسة (محمد على) الاقتصادية في تشكيل وبناء القوى الاجتماعية.
١٩. إحضار (محمد على) للكونيل سيف.
٢٠. عدم اعتماد (محمد على) على فرق الألبان.
٢١. إنشاء (محمد على) للقلاع والترسانات.
٢٢. حروب (محمد على) في الجزيرة العربية.
٢٣. حروب (محمد على) في اليونان.
٢٤. تحطيم الأسطول المصري في موقعة نفاين .
٢٥. ارتفاع مكانة مصر الدولية بعد حرب اليونان.
٢٦. اهتمام (محمد على) بضم السودان.
٢٧. توتر العلاقات بين (محمد على) السلطان العثماني .
٢٨. عقد معاهدة لندن ١٨٤٠م.

س٦: ما النتائج المترتبة على:

١. اتجاه (محمد على) لبناء قوة عسكرية نظامية.
٢. وقوف (محمد على) بجانب الأهالي في الثورة في ٨ مارس ١٨٠٤م.
٣. إنشاء (محمد على) المطبعة الأميرية في بولاق.
٤. قيام (محمد على) بتجنيد المصريين .
٥. اهتمام (محمد على) بالتصنيع الحربي.
٦. إصدار (محمد على) اللائحة الجديدة عام ١٨٣٧م.

٧. حروب (محمد على) فى الجزيرة العربية.

٨. حروب (محمد على) فى السودان.

٩. حروب (محمد على) فى الشام .

س٧: ماذا يحدث إذا؟

١. لم تقف الدول الأوربية ضد (محمد على) فى نزاعه مع السلطان العثماني .
٢. لم يتحطم الأسطول المصري فى نافرين .
٣. لم يطبق (محمد على) نظام الاحتكار على التجارة .
٤. لم يقيم (محمد على) بإرسال البعثات العلمية للخارج .
٥. لم يقبل (محمد على) شروط معاهدة لندن الدولية ١٨٤٠م .
٦. لم ينشأ (محمد على) المطبعة الأميرية .
٧. لم يهتم (محمد على) بالأسطول والجيش .

س٨: دلل على صحة العبارات الآتية:

١. لجأ (محمد على) إلى سياسة زراعية هدفها زيادة الإنتاج الزراعي.
٢. اهتم (محمد على) بوسائل النقل والمواصلات
٣. تحديث (محمد على) الأسطول.
٤. تطوير وتحديث (محمد على) للإنتاج الصناعي.
٥. شهدت مصر نهضة تعليمية فى عصر (محمد على).
٦. كان لسياسة (محمد على) الاقتصادية أثرها فى تشكيل وبناء القوى الاجتماعية.
٧. كانت نتائج حرب المورة لصالح (محمد على).

س٩: ما المقصود بكلا من :

١. الاحتكار.

س ١٠: قارن بين حروب الجزيرة العربية والسودان واليونان والشام من حيث أسبابها ونتائجها

وجه المقارنة	حروب الجزيرة العربية	حروب السودان	حروب اليونان	حروب الشام
الأسباب
النتائج

س ١١: [نظم (محمد على) الاقتصاد المصري فى الزراعة والصناعة والتجارة على أساس

الاحتكار] فى ضوء هذه العبارة وضح...

- ١- أسباب اعتماد (محمد على) على نظام الاحتكار فى الزراعة والصناعة والتجارة؟
- ٢- كيف طبق (محمد على) نظام الاحتكار فى التجارة؟
- ٣- ما رأيك فى نظام الاحتكار الذى اتبعه (محمد على) فى التجارة والزراعة والصناعة؟

س ١٢: (أدرك (محمد على) ان بناء القوة العسكرية هى الدعامة الأساسية لتحقيق أهدافه

وبناء الدولة الحديثة) فى ضوء هذه العبارة وضح.....

- ١- أسباب عدم اعتماد (محمد على) على الجنود الألبان فى الجيش.
- ٢- من وجهة نظركلماذا اهتم (محمد على) ببناء القوة العسكرية المصرية؟
- ٣- وضح الحروب التى خاضها (محمد على)؟

التدريبات العامة على الوحدة الثالثة

س ١: ضع علامة (√) أو علامة (×) أمام كل عبارة مما يلي :

- ١- أصيب العالم العربي في العصر العثماني بالجمود ()
- ٢- تعد الحملة الفرنسية على مصر والشام جزء من الصراع الاستعماري بين إنجلترا وفرنسا ()
- ٣- واجه أهالي الإسكندرية الحملة الفرنسية بزعامة السيد محمد كريم ()
- ٤- استخدم المماليك المدافع والمعدات الحديثة في مواجهة القوات الفرنسية ()
- ٥- قضت موقعة أبي قير البحرية على أمال فرنسا في السيطرة على سواحل البحر المتوسط ()
- ٦- استطاعت القوات الفرنسية إخضاع أهالي الصعيد ()
- ٧- ولد (محمد على) في بلدة قولة في اليونان ()
- ٨- تم اختيار (محمد على) واليا على مصر بعد عزل خورشيد باشا ()
- ٩- تنكر (محمد على) للزعامة الشعبية لرغبته في الانفراد بحكم مصر ()
- ١٠- نفى (محمد على) الزعيم محمد كريم إلى دمياط عام ١٨٠٩م ()
- ١١- تخلص (محمد على) من المماليك في مذبح القلعة عام ١٨١١م ()
- ١٢- تولى (محمد على) حكم مصر بإرادة الشعب قبل موافقة السلطان ()
- ١٣- قام (محمد على) بخلع السيد عمر مكرم من نقابة الأشراف ()
- ١٤- أثرت سياسة (محمد على) الاقتصادية في تشكيل وبناء القوى الاجتماعية ()
- ١٥- زاد نفوذ علماء الأزهر والقيادات الشعبية في عهد (محمد على) ()
- ١٦- أنشأ (محمد على) المدارس الحديثة مثل المدارس الحربية المختلفة ()
- ١٧- اهتم (محمد على) بترجمة الكتب من اللغة العربية إلى اللغات الأوروبية ()
- ١٨- أدرك (محمد على) أن بناء القوة العسكرية هي الدعامة الأساسية لتحقيق أهدافه ()
- ١٩- أنشأ (محمد على) ترسانة بحرية في أسوان لصناعة السفن ()
- ٢٠- دخل (محمد على) حروب الشام بناء على طلب السلطان العثماني ()
- ٢١- هدفت حروب اليونان القضاء على الحركة الوهابية ()

س ٢: أكمل ما يأتي :

- ١- اتجه سليم الأول مع بداية القرن السادس عشر في فتوحاته نحو
- ٢- اتجه السلطان سليم الأول في توسعته نحو الشرق واصطدم بدولتي

- ٣- استطاع السلطان العثماني هزيمة الصفويين فى موقعة عام
١٥١٤م
- ٤- تدهورت دولة المماليك بعد اكتشاف طريق عام ١٤٩٨ م
- ٥- تحطم الأسطول المملوكي فى موقعة عام ١٥٠٩م
- ٦- استطاع السلطان العثماني هزيمة السلطان المملوكي
فى موقعة عام ١٥١٦م
- ٧- أبحرت قوات الحملة الفرنسية من ميناء سرا
- ٨- اصطحب نابليون مجموعة من لدراسة أحوال مصر من جميع النواحي
- ٩- دخل نابليون بونابرت القاهرة فى يوليو ١٧٩٨م بعد أن أمن على
.....
- ١٠- أغرق الأسطول البريطاني بقيادة الأسطول فى معركة
- ١١- اتبع أبناء الصعيد حرب لمقاومة قوات الحملة الفرنسية
- ١٢- عاد نابليون سرا إلى فرنسا وترك قيادة الحملة فى مصر لنائبه
- ١٣- بعد أن أدرك كليبر استحالة بقاء الحملة فى مصر تفاوض مع وعقد
معاهدة عام ١٨٠٠م
- ١٤- من أعمال علماء الحملة الفرنسية فى مصر تأليف كتاب والعثور على
.....
- ١٥- اكتشف حجر رشيد الضابط الفرنسي
- ١٦- تصارع على حكم مصر بعد خروج الحملة الفرنسية و..... و.....
- ١٧- قرر زعماء الشعب المصري عزل الوالي العثماني فأصدر السلطان العثماني فرمانا
بعزل وتثبيتت واليا على مصر
- ١٨- نظم (محمد على) الاقتصاد المصري على أساس
- ١٩- أنشأ (محمد على) مصانع و..... و.....
- ٢٠- اهتم (محمد على) بإصلاح الموانئ وخاصة ميناء
- ٢١- أدت سياسة (محمد على) إلى انتهاء نفوذ كهيئة حاكمة
- ٢٢- تحطم الأسطول المصري فى موقعة عام ١٨٢٧م
- ٢٣- أضطر (محمد على) إلى قبول شروط معاهدة عام ١٨٤٠م

س ٣ : بم تفسر :

١. تدهور دولة المماليك مع بداية القرن السادس عشر الميلادي.

٢. تدهور الزراعة في مصر في عهد الدولة العثمانية.
٣. هزيمة المماليك أمام العثمانيين في مصر والشام.
٤. ظهور حركة على بك الكبير في مصر.
٥. فشل حركة على بك الكبير.
٦. كساد التجارة الداخلية والخارجية في مصر في العصر العثماني.
٧. مجئ الحملة الفرنسية على مصر ١٧٩٨م.
٨. اصطحاب نابليون لمجموعة من العلماء في حملته على مصر.
٩. هزيمة المماليك في أكثر من موقعة أمام الفرنسيين.
١٠. كانت موقعة أبو قير البحرية نقطة تحول مهمة بالنسبة للحملة الفرنسية في مصر.
١١. فشل القوات الفرنسية في السيطرة على الصعيد.
١٢. قيام ثورة القاهرة الأولى عام ١٧٩٨م.
١٣. فشل نابليون في دخول عكا.
١٤. عودة نابليون الى فرنسا سراً.
١٥. كانت وجهة نظر كليبر استحالة بقاء الحملة الفرنسية في مصر.
١٦. لم يتم تنفيذ اتفاقية العريش يناير ١٨٠٠م.
١٧. الحملة الفرنسية على مصر بداية الاستعمار الأوروبي.
١٨. فرمان السلطان العثماني بنقل (محمد على) عام ١٨٠٦م.
١٩. إرسال إنجلترا حملة فريزر على مصر عام ١٨٠٧م.
٢٠. إصرار (محمد على) للقضاء على الزعامة الشعبية.
٢١. نشاط التجارة الداخلية والخارجية في عهد (محمد على).
٢٢. اهتمام (محمد على) بالتعليم.
٢٣. اهتمام (محمد على) ببناء القوة العسكرية.
٢٤. حروب (محمد على) في شبه الجزيرة العربية .
٢٥. دخول (محمد على) حروب اليونان.
٢٦. تدخل الدول الأوروبية أمام انتصارات (محمد على) على السلطان العثماني.

س ٤ : ما النتائج المترتبة علي...؟

- ١- اكتشاف البرتغاليين طريق رأس الرجاء الصالح.
- ٢- هزيمة الصفويين أمام السلطان العثماني سليم الأول عام ١٥١٤م.
- ٣- هزيمة المماليك في موقعة الريدانية سنة ١٥١٧م.

- ٤- إهمال العثمانيين للحياة الفكرية والثقافية في مصر .
- ٥- موقعة ديو البحرية ١٥٠٩م .
- ٦- انحياز محمد أبو الذهب للسلطان العثماني ضد قائده على بك الكبير .
- ٧- تزويد الحملة الفرنسية بمجموعة من العلماء .
- ٨- حصار الأسطول الانجليزي لشواطئ مصر الشمالية أثناء الحملة الفرنسية .
- ٩- ثورة القاهرة الأولى ١٧٩٨ م .
- ١٠- قيام نابليون بارتكاب مذبحه يافا البشرية .
- ١١- رفض الإنجليز اتفاقية العريش ١٨٠٠م .
- ١٢- ثورة القاهرة الثانية مارس ١٨٠٠م .
- ١٣- عثور الفرنسيين على حجر رشيد .
- ١٤- انضمام (محمد على) للعلماء والمشايخ عام ١٨٠٤م .
- ١٥- تدهور العلاقة بين انجلترا والسلطان العثماني عام ١٨٠٧م .
- ١٦- مذبحه القلعة مارس ١٨١١م .
- ١٧- إنشاء المطبعة الأميرية ببولاق .
- ١٨- ضم (محمد على) للسودان .
- ١٩- دخول (محمد على) حروب اليونان .
- ٢٠- تفاوض (محمد على) مع القوى الأوروبية .
- ٢١- انتصارات (محمد على) وتهديده للسلطان العثماني .

س ٥ : اكتب ما تشير إليه العبارات التالية :

- ٢- المعركة التي هزم فيها طومان باى أمام العثمانيين
 - ٣- وجهت أنظار الدول الأوروبية إلى أهمية موقع مصر الجغرافى
 - ٥- المدينة التي قام (محمد على) بنفي عمر مكرم إليها ١٨٠٩م
 - ٦- عمل قام به (محمد على) سنة ١٨١١م مما ساعده على الانفراد بالسلطة
 - ٩- رفضت اتفاقية العريش التي عقدها كليبر مع الدولة العثمانية
 - ١٠- أمر سلطاني يصدره السلطان العثماني واجب التنفيذ
- س ٦ : ماذا يحدث إذا؟

١. لم تتحول تجارة الشرق إلى رأس الرجاء الصالح
٢. انهزمت القوات العثمانية فى موقعة مرج دابق
٣. انتصر طومان باى فى معركة الريدانية عام ١٥١٧م

- ٤- نجحت حركة على بك الكبير
٥- لم يطبق نظام الالتزام فى مصر
٦- انتصر الأسطول الفرنسى على الأسطول الإنجليزى فى موقعة أبى قير البحرية
٧- نجح نابليون فى دخول عكا
س ٧ : وضح :

- ١- الحالة الاجتماعية لمصر تحت الحكم العثمانى
٢- موقف كليبر من الحملة الفرنسية بعد رحيل نابليون
٣- النتائج العلمية للحملة الفرنسية على مصر
٤- دور الشعب المصرى فى تولية (محمد على) الحكم

س ٨ : ما رأيك فى؟

- ١- موقف (محمد على) من الزعامة الشعبية
٢- الاحتكار فى عصر (محمد على) والاحتكار حالياً
٣- مظاهر اهتمام (محمد على) بالزراعة
٤- اثر سياسة (محمد على) الاقتصادية فى بناء القوى الاجتماعية
٥- إجراءات (محمد على) لتنظيم الإدارة
٦- شروط معاهدة لندن ١٨٤٠م

س ٩: رتب الأحداث التالية ترتيباً من القديم للحديث

- ١- (موقعة مرج دابق- اكتشاف طريق راس الرجاء الصالح - موقعة جالديران-رحيل الحملة الفرنسية من مصر- موقعة أبى قير البرية - ثورة القاهرة الأولى).
- ٢- (موقعة الريدانية - موقعة ديو البحرية- مجيء الحملة الفرنسية- حركة على بك الكبير -موقعة أبى قير البحرية - اتفاقية العريش - ثورة القاهرة الثانية - الحملة الفرنسية على الشام)

امتحان على الوحدة الثالثة

س ١: أكمل العبارات الآتية بكلمات مناسبة:-

- ١- تحالف على بك الكبير مع ظاهر العمر والى
- ٢- انتهى حكم المماليك على مصر عام ١٥١٧م بعد معركة
- ٣- أبحرت قوات الحملة الفرنسية من ميناء سرًا .
- ٤- نظم (محمد علي) الاقتصاد المصري على أساس

س ٢: ضع علامة (✓) أمام العبارة الصحيحة أو (x) أمام العبارة غير الصحيحة مع التصويب:

- ١- عانت الدولة العثمانية من الضعف لظروف داخلية ()
- ٢- استخدم المماليك المدافع والمعدات الحديثة في مواجهة القوات الفرنسية ()
- ٣- أنشأ (محمد علي) المدارس الحديثة ومنها المدارس الحربية المختلفة ()
- ٤- اهتم (محمد علي) بترجمة كتب العلوم من اللغة العربية إلى اللغات الأوربية ()

س ٣ : بم تفسر:

- ١- تدهور أحوال مصر قبل الحكم العثماني؟
- ٢- فشل حركة على بك الكبير؟
- ٣- قيام ثورة القاهرة الأولى؟
- ٤- ثورة الشعب المصري في ٨ مارس ١٨٠٤م.

س ٤: ما النتائج المترتبة على :-

- ١- موقعة ديو البحرية ١٥٠٩م؟
- ٢- فك رموز حجر رشيد؟
- ٣- ثورة القاهرة الأولى؟

س ٥: صحح ما تحته خط فيما يلي:-

- ١- هزم البرتغاليون الصفويين فى موقعه ديو البحرية عام ١٥٠٩م.
- ٢- تولى نابليون أمر الحملة الفرنسية فى سبتمبر عام ١٨٠٠م
- ٣- اهتم (محمد على) بتأسيس ترسانة فى السويس لصناعة السفن.

س ٦: (لم تكن الحملة الفرنسية على مصر مجرد حملة عسكرية تقليدية للغزو والاحتلال حيث تركت الحملة الفرنسية اثارا بعيدة المدى وعميقة الأثر) فى ضوء ما درست وضح

وجهة نظرك فى النتائج الإدارية والعلمية والسياسية التى استفاد منها الشعب المصرى من الحملة الفرنسية على مصر؟

.....

.....

.....

.....

س ٧: ما المقصود بكلا من :

١- الاحتكار

الوحدة الرابعة

مصر والزحف الاستعماري ومحاولات التحرر الوطني

أهداف الوحدة الرابعة

فى نهاية دراسة الوحدة يتوقع أن يكون التلميذ قادراً على أن:

- ١- يوضح المظاهر الإصلاحية لخلفاء (محمد على) .
- ٢- يستنتج أسباب ازدياد التدخل الأجنبي فى مصر .
- ٣- يذكر أسباب الثورة العربية .
- ٤- يحدد المراحل التى مرت بها الثورة العربية .
- ٥- يرسم خريطة خط سير الاحتلال البريطاني فى مصر .
- ٦- يقدر جهود أحمد عرابى ورفاقه ، ومصطفى كامل ومحمد فريد فى مقاومة الاحتلال الأجنبي .
- ٧- يستنتج أسباب تصريح ٢٨ فبراير ١٩٢٢ م .
- ٨- يقدر دور الشعب المصري وزعمائه فى أحداث ثورة ١٩١٩ م .
- ٩- يقدر أهمية معاهدة ١٩٣٦م، كخطوة نحو الاستقلال التام .
- ١٠- يوضح أحداث الفترة التاريخية منذ ١٩١٤م، حتى قيام ثورة ٢٣ يوليو ١٩٥٢ م .
- ١١- يعطى تعريفاً صحيحاً للمفاهيم والمصطلحات الواردة بالوحدة .

اختبار قبلى

السؤال الأول : أكمل العبارات الآتية بما يناسبها من كلمات:

- ١- أول من تولى حكم مصر بعد وفاة (محمد على)
- ٢- نجح فى الحصول على امتياز حفر قناة السويس من
- ٣- من أهم أسباب الثورة العربية ازدياد
- ٤- تم نفي أحمد عرابي إلى جزيرة
- ٥- تزعم الحركة الوطنية أواخر القرن ال ١٩ م وأسس جريدة اللواء عام ١٩٠٠ م.

٦- عقدت إنجلترا وفرنسا عام ١٩٠٤ م

٧- تزعم ثورة ١٩١٩م ونفى لجزيرة

السؤال الثاني : لمن تنسب الأعمال الآتية ؟.....

١- أنشأ قصر عابدين ودار الأوبرا .

٢- تولى زعامة الحزب الوطنى بعد وفاة مصطفى كامل .

٣- وقع معاهدة مع إنجلترا في أغسطس ١٩٣٦م .

السؤال الثالث :أختر الأجابة من بين الأقواس

١- عرضت مصر قضية جلاء القوات البريطانية علي عام ١٩٤٧م .

(الأمانة العامة - محكمة العدل الدولية - مجلس الأمن - مجلس الوصاية)

٢- بدأت الأزمة المالية فى مصر فى عهد :

(عباس باشا الأول - الخديوي إسماعيل - الخديوي توفيق - سعيد باشا)

٣- عقد ممثلو الدول العظمى مؤتمراً عام ١٨٨٢م للنظر فى المسألة المصرية هو مؤتمر:

(لندن - الآستانة - باريس - برلين)

٤- من شروط معاهدة ١٩٣٦م مساعدة إنجلترا لمصر لدخول :

(مجلس الأمن - الأمم المتحدة - الجمعية العامة - عصبة الأمم)

الدرس الأول

خلفاء (محمد على) وازدياد النفوذ الأجنبي

السؤال الأول : أكمل العبارات الآتية بما يناسبها من كلمات:

- ١- فى عهد عباس باشا الأول بدأ إنشاء أول خط حديدي بين و
- ٢- فى أغسطس عام ١٨٥٨م أصدر سعيد باشا
- ٣- منح سعيد باشا المهندس الفرنسي امتياز حفر قناة السويس .
- ٤- فى عهد الخديوي إسماعيل تم حفر العديد من الترعى كان أهمها ترعة
- ٥- توسع الخديوي إسماعيل فى إنشاء مصانع السكر فى الوجه
- ٦- كانت تنظر فى الجرائم التى يرتكبها الأجانب ضد المصريين .
- ٧- فى مايو ١٨٧٦م أصدر الخديوي إسماعيل مرسومًا بإنشاء

السؤال الثاني : اكتب كلمة (صح) أمام العبارة الصحيحة و كلمة (خطأ) أمام العبارة غير

الصحيحة مع التصويب :

- ١- أصبحت الخدمة العسكرية اجبارية للجميع فى عهد عباس باشا الأول. ()
- ٢- عقد سعيد باشا أول قرض مع أحد البنوك البريطانية عام ١٨٦٢م. ()
- ٣- توسع إسماعيل فى إنشاء مصانع النسيج فى الوجه القبلى. ()
- ٤- كان الهدف من إنشاء المحاكم المختلطة الحد من مساوىء المحاكم القنصلية فى مصر ()
- ٥- تم عزل الخديوي إسماعيل وتولية ابنه توفيق فى يونيو ١٨٧٩ م . ()
- ٦- كانت شروط الامتياز الثاني لقناة السويس لصالح مصر . ()

السؤال الثالث: بم تفسر؟

- ١- تدهور التعليم في عهد عباس باشا .
- ٢- إجحاف شروط امتياز حفر قناة السويس لمصر .
- ٣- توجيه الخديوي إسماعيل لحملات حربية إلى الأقاليم الاستوائية في أفريقيا
- ٤- صدور فرمان من السلطان العثماني بخلع إسماعيل وتولية ابنه توفيق حكم مصر

السؤال الرابع : ما النتائج المترتبة على.....؟

- ١- إصدار سعيد باشا اللائحة السعدية في أغسطس عام ١٨٥٨م.
- ٢- الامتيازات الأجنبية في مصر .
- ٣- إنشاء المحاكم المختلطة .
- ٤- إسراف الخديوي إسماعيل في الاقتراض من البيوت المالية الأوربية.

السؤال الخامس: إلى من تنسب الأعمال الآتية :

١. توقفت حركة النهضة التي ظهرت في عصر (محمد علي) في عهده. (.....)
٢. إنشأ في عهده دار الكتب ومصلحة الإحصاء والمساحة. (.....)
٣. تولى حكم مصر بعد عزل الخديوي إسماعيل في يونيه ١٨٧٩م (.....)
٤. أنشأ خطاً حديدياً من القاهرة إلي السويس . (.....)
٥. منحه سعيد باشا عقد امتياز لحفر قناة السويس. (.....)
٦. تولى أول وزارة مسئولة بها وزيران أجنبيان في مصر . (.....)

السؤال السادس : أكتب ما تشير إليه كل عبارة من العبارات الآتية:

- ١- تسهيلات منحها الدولة العثمانية لرعايا بعض الدول الأوروبية . (.....)
- ٢- محاكم من اختصاصاتها النظر فى الجرائم التى يرتكبها الأجانب ضد المصريين والحكومة المصرية نفسها . (.....)
- ٣- من اختصاصها الفصل فى القضايا المدنية بين المصريين والأجانب (.....)
- ٤- كان بمثابة خزانة فرعية للخزانة المصرية تتولى تسليم المبالغ المخصصة للديون من المصالح المختلفة والإشراف على تسديد الديون لأصحابها. (.....)

السؤال السابع : ماذا يحدث إذا لم ؟

- ١- يصدر سعيد باشا اللائحة السعيدية .
- ٢- يتوسع الخديوي إسماعيل فى سياسة الاقتراض.
- ٣- يساند إسماعيل الحركة الوطنية ضد التدخل الأجنبي فى مصر.

السؤال الثامن : برهن تاريخيا على صحة العبارات الآتية:

- ١- بذل سعيد باشا جهدا كبيرا للنهوض بالجيش .
- ٢- شهد عصر الخديوي إسماعيل نهضة عمرانية واسعة .
- ٣- اعتبر عهد الخديوي إسماعيل عهد الإصلاح النيابي .

الدرس الثاني الحركة الوطنية والثورة العربية

السؤال الأول: أكمل العبارات الآتية بما يناسبها من كلمات :

- ١- وضع الخديوي توفيق نفسه تحت حماية إنجلترا وفرنسا وذلك بإسناد الوزارة إلى
- ٢- بعد عزل عثمان رفاقي أصبح وزيراً للجهادية .
- ٣- طالب عرابي وزملائه بإقالة ناظر الجهادية
- ٤- أعلنت إنجلترا وفرنسا في المذكرة المشتركة الثانية رغبتهما في إقالة وزارة
- ٥- عقد ممثلو الدول العظمى للنظر في المسألة المصرية مؤتمر
- ٦- أنشأ العرابيون استحكامات بعد انسحابهم من الإسكندرية عند مدينة
- ٧- شهد ميدان القتال في معركة التل الكبير بطولات مصرية مثل الضابط الذي صمد واستشهد هو ومعظم رجاله.
- ٨- اعتقل زعماء الثورة العربية والضباط وغيرهم ، ما عدا خطيب الثورة
- ٩- حكم على عرابي وقادة الثورة بالاعدام وتم تخفيف الحكم بالنفى المؤبد لجزيرة بالهند .
- ١٠- الاستيلاء علي أرض الغير بالقوة يطلق عليه..... .

السؤال الثاني : أكتب كلمة (صح) أمام العبارة الصحيحة وكلمة (خطأ) أمام العبارة غير الصحيحة مع التصويب :

- ١- أعاد الخديو توفيق العمل باللائحة الأساسية لمجلس النواب . ()
- ٢- أرسلت إنجلترا وفرنسا المذكرة المشتركة الأولى لتقوية مركز الخديوي في مواجهة الحركة الوطنية . ()
- ٣- تم تعيين أحمد عرابي رئيساً للوزارة في فبراير ١٨٨٢ م . ()

- ٤- أعاد الخديوي توفيق نظام المراقبة الثنائية مما أدى إلي زيادة التدخل الأجنبي في شئون البلاد ()
- ٥- تحرك رجال الجيش إلى قصر النيل واخرجوا عرابي وزملائه بالقوة في منتصف يناير ١٨٨١م. ()
- ٦- ترتب على المذكرة المشتركة الأولى استقالة وزارة البارودي . ()
- ٧- منع دليسيبس سفن الأسطول البريطاني من عبور قناة السويس . ()
- ٨- ساعدت الظروف الدولية على فشل الثورة العرابية . ()
- ٩- استشهد الضابط محمد عبيد ومعظم رجاله في معركة التل الكبير. ()
- ١٠- ضرب الأسطول الفرنسي الإسكندرية في يوليو عام ١٨٨٢ م . ()
- ١١- انتصر عرابي علي الإنجليز في معركة كفر الدوار . ()

السؤال الثالث : اختر الإجابة الصحيحة من بين الأقواس :

- ١- ازداد التدخل الأجنبي في بداية عهد الخديوي توفيق بسبب
- (إعادة المراقبة الثنائية - رفضه للدستور - تشكيل وزارة رياض باشا - كل ما سبق)
- ٢- عُين أحمد عرابي وزيراً للجهادية في وزارة
- (رياض- شريف- البارودي - عثمان رفي)
- ٣- طالب عرابي وزملائه بعزل ناظر الجهادية
- (البارودي - عمر لطفى - محمود فهمي - عثمان رفي)
- ٤- تشكلت وزارة الثورة في فبراير ١٨٨٢م برئاسة
- (شريف- البارودي - رياض - أحمد عرابي)
- ٥- قرر أعضاء مؤتمر الأستانة ١٨٨٢ م إرسال قوات لحفظ الأمن والنظام في مصر من
- (إنجلترا - فرنسا - تركيا - روسيا)
- ٦- دخل الإنجليز القاهرة بعد معركة
- (كفر الدوار - القصاصين - التل الكبير - الإسكندرية)

السؤال الرابع : أكتب ما تشير إليه العبارات الآتية :

- ١- الاستيلاء على أرض الغير بالقوة. (.....)
- ٢- الجزيرة التي نفى إليها العربيين خارج البلاد. (.....)
- ٣- قام بتشكيل وزارة جديدة عقب حوادث الإسكندرية يونيو ١٨٨٢م. (.....)
- ٤- عُين وزيراً للجهادية والبحرية في وزارة البارودي . (.....)

السؤال الخامس: قارن بين :

المذكرة المشتركة الأولى والمذكرة المشتركة الثانية من حيث النتائج.

السؤال السادس : بم تفسر ... ؟

- ١- قيام الثورة العربية.
- ٢- عقد مؤتمر الآستانة ١٨٨٢م.
- ٣- هزيمة العربيين في معركة التل الكبير.
- ٤- فشل الثورة العربية رغم صدق أهدافها.

السؤال السابع : ما النتائج المترتبة على ... ؟

- ١- حادثة قصر النيل عام ١٨٨١ م .
- ٢- المظاهرة العسكرية في ميدان عابدين ٩سبتمبر ١٨٨١م .
- ٣- إصدار السلطان العثماني مرسوم عصيان عرابي في سبتمبر ١٨٨٢م.

السؤال الثامن : ماذا يحدث اذا ؟

- ١- لم يعلن السلطان العثماني عصيان عرابي.
- ٢- انتصر عرابي في معركة التل الكبير.

الدرس الثالث الكفاح الوطنى ضد الاحتلال البريطانى

السؤال الأول : أكمل العبارات الآتية بما يناسبها من كلمات :

- ١- بعد الاحتلال البريطانى أصبحت السلطة الفعلية فى مصر فى يد..... .
- ٢- ألغى الاحتلال البريطانى مجلس النواب وأنشأ مجالس صورية مثل
و..... ثم
- ٣- قاد الزعيم الحركة الوطنية أواخر القرن التاسع عشر الميلادى.
- ٤- طالب مصطفى كامل بـ و..... .
- ٥- تخلت فرنسا عن مساندة مصطفى كامل عقب عقد مع إنجلترا عام ١٩٠٤ م .
- ٦- خلف مصطفى كامل فى زعامة الحزب الوطنى
- ٧- طالب محمد فريد بضرورة إنشاء نقابات
- ٨- أعلن مصطفى كامل تأسيس الحزب رسمياً عام ١٩٠٧ م .

السؤال الثانى : أكتب كلمة (صح) أمام العبارة الصحيحة أو كلمة (خطأ) أمام العبارة غير الصحيحة مع التصويب :

- ١- أنشأ الاحتلال البريطانى جيش مصري قليل العدد يرأسه قائد إنجليزي. ()
- ٢- فرضت سلطات الاحتلال البريطانى سياسية اقتصادية تهدف إلى النهوض بأحوال مصر ()
- ٣- أصدر مصطفى كامل جريدة الأهرام عام ١٩٠٠ م . ()
- ٤- رفض مصطفى كامل اتفاقية الحكم الثنائى للسودان عام ١٨٩٩ م . ()
- ٥- دعا محمد فريد أن يكون التعليم إلزامياً وبالمجان فى المرحلة الابتدائية. ()
- ٦- أسس أحمد لطفى السيد الحزب الوطنى . ()

السؤال الثالث : إلى من تنسب الأعمال الآتية :

- ١- استنقال نتيجة تنديد مصطفى كامل بحادثة دنشواى فى الصحف العالمية. (.....)
- ٢- الخديوي الذي تحول عن مؤازرة الحركة الوطنية إلى موالاتة الاحتلال البريطاني. (.....)
- ٣- نجح بتأييد من الرأي العام في إجبار الحكومة المصرية لدعوة مجلس شوري القوانين لمناقشة مد امتياز قناة السويس ٤٠ عام أخرى. (.....)
- ٤- دعا إلي رفض اتفاقية الحكم الثنائي للسودان . (.....)
- ٥- دعا إلي إنشاء نقابات للعمال ومدارس الشعب الليلية. (.....)

السؤال الرابع : بم تفسر ... ؟

- ١- اتصال مصطفى كامل بالقوى الخارجية .
- ٢- تخلى فرنسا عن مساندة مصطفى كامل منذ عام ١٩٠٤م .
- ٣- تولى محمد فريد رئاسة الحزب الوطنى فى ظروف صعبة .
- ٤- فشل مشروع مد امتياز قناة السويس أربعين سنة أخرى .

السؤال الخامس : أيد بالأدلة التاريخية صحة العبارات الآتية :

- ١- أصبحت السلطة الفعلية فى مصر بعد احتلالها فى يد الإنجليز.
- ٢- فرضت سلطة الاحتلال البريطاني سياسة اقتصادية تخدم مصالحها الاقتصادية .

السؤال السادس : ما النتائج المترتبة على.....؟

- ١- الاتفاق الودى بين إنجلترا وفرنسا ١٩٠٤م.
- ٢- تنديد مصطفى كامل بحادثة دنشواى عام ١٩٠٦م.

الدرس الرابع مصر من الحماية البريطانية حتى ثورة يوليو ١٩٥٢م

السؤال الأول : اختر الإجابة الصحيحة من بين الأقواس :

- ١- عزلت الحكومة البريطانية السير (المندوب السامي البريطاني) وعينت الجنرال اللنبي بعد ثورة ١٩١٩م . (ونجت - كرومر - كتشنر - مايلز)
- ٢- شكل أول وزارة برلمانية (وزارة الشعب) فى تاريخ مصر (عبد الخالق ثروت - سعد زغول - عدلى يكن - إسماعيل صدقى)
- ٣- فى مارس ١٩١٩م تم القبض على سعد زغول ونفيه إلى جزيرة : (مالطة - سيشل - صقلية - قبرص)
- ٤- عارض الشعب المصرى دستور ١٩٣٠م مما أضر الملك لإعادة العمل بدستور ١٩٢٣م. (حسين كامل - فاروق - فؤاد - عباس حلمى)
- ٥- عرضت قضية جلاء القوات البريطانية عن مصر فى عام ١٩٤٧م على (الأمانة العامة - مجلس الأمن - مجلس الوصايا - محكمة العدل الدولية)

السؤال الثانى : أكتب كلمة (صح) أمام العبارة الصحيحة وكلمة (خطأ) أمام العبارة غير الصحيحة مع التصويب:

- ١-طالب الوفد المصرى برئاسة سعد زغول بإلغاء الأحكام العرفية . ()
- ٢-نفى سعد زغول فى مارس عام ١٩١٩م إلى جزيرة سيشل . ()
- ٣-رحب الوفد المصرى بما توصل إليها بمؤتمر الصلح بباريس. ()
- ٤-أكد دستور ١٩٢٣م أن الامة المصرية هى مصدر السلطات . ()
- ٥-ألغى مصطفى النحاس دستور ١٩٢٣م وأصدر دستور ١٩٣٠م الذى زادت فيه سلطات الملك. ()
- ٦-وقع الوفد المصرى برئاسة مصطفى النحاس معاهدة ١٩٣٦م مع إنجلترا . ()

- ٧- عاد الجيش المصرى إلى السودان تنفيذًا لمعاهدة ١٩٣٦ م . ()
- ٨- أعلن حسين سرى إلغاء معاهدة ١٩٣٦ م فى أكتوبر ١٩٥١ م. ()
- ٩- وقع حادث قصر النيل فى ٢٦ يناير ١٩٥٢ م . ()

السؤال الثالث : إلى من تنسب الأعمال الآتية:

- ١- رأس وفد مصر فى المفاوضات مع بريطانيا لعقد معاهدة ١٩٣٦ م . (.....)
- ٢- رئيس أمريكى أعلن مبدأ حق الشعوب فى تقرير مصيرها . (.....)
- ٣- ازداد نفوذ القصر منذ اعتلائه عرش مصر . (.....)
- ٤- أفتتح فى عهده أول برلمان لمصر فى مارس ١٩٢٤ م . (.....)
- ٥- تولى الوزارة بعد إستقالة وزارة الشعب عقب مقتل السير لى سناك . (.....)
- ٦- وزارة شكلت لجنة ممن ثلاثين عضوا لإعداد الدستور الذى عرف بدستور ١٩٢٣ م

(.....)

- ٧- قام بإلغاء معاهدة ١٩٣٦ م واطلق الحرية للشعب للنضال المسلح ضد بريطانيا فى القناة .

(.....)

- ٨- تولى رئاسة الحكومة المصرية بعد حادث ٤ فبراير ١٩٤٢ م . (.....)

السؤال الرابع: أكتب ما تشير إليه كل عبارة من العبارات الآتية .

- ١- جزيرة نفى إليها سعد زغلول ورفاقه عام ١٩١٩ م . (.....)
- ٢- دستور رفضه الشعب المصرى مما أدى لإعادة العمل بدستور ١٩٢٣ م. (.....)
- ٣- منظمة دولية انضمت إليها مصر بعد عقد معاهدة ١٩٣٦ م . (.....)
- ٤- مؤتمر عقد عام ١٩٣٧ م تخلصت مصر بمقتضاه من الامتيازات الأجنبية .

(.....)

٥- هيئة تابعة للأمم المتحدة عرضت عليها قضية استقلال مصر عام ١٩٤٧م.

(.....)

٦- دستور أعطي الملك فؤاد المزيد من السلطات وأهدر سلطة الأمة وحقوقها .

(.....)

السؤال الخامس : أيد تاريخيا صحة العبارات الآتية :

١- كانت ثورة ١٩١٩م ثورة شعبية شاملة.

٢- خيب مؤتمر الصلح بباريس بعد الحرب العالمية الأولى آمال المصريين فى الاستقلال .

٣- لم يحقق تصريح ٢٨ فبراير ١٩٢٢م استقلال مصر الكامل .

٤- حققت معاهدة ١٩٣٦م بعض المزايا لمصر .

٥- فى ٤ فبراير ١٩٤٢م شهدت مصر تدخل بريطانيا فى شئونها الداخلية .

السؤال السادس : ما النتائج المترتبة على.....؟

١- فشل مفاوضات عدلى / كيرزون عام ١٩٢١م .

٢- مقتل السير لى ستاك القائد العام للجيش المصري فى السودان عام ١٩٢٤م.

٣- إلغاء مصطفى النحاس معاهدة ١٩٣٦م .

السؤال السابع: بم تفسر ... ؟

١- قيام ثورة ١٩١٩م .

٢- معارضة الشعب المصري دستور عام ١٩٣٠م .

٣- عدم إثراء الحياة النيابية فى مصر بتعدد الأحزاب عقب دستور ١٩٢٣م

٤- يوم ٢٥ يناير من كل عام عيداً للشرطة .

النموذج الأول

السؤال الأول : (أ) اختر الإجابة الصحيحة من بين الأقواس :

- ١- كان حفر ترعة شرط من شروط حفر قناة السويس .
(الإبراهيمية- النوبارية - المحمودية- الإسماعيلية)
- ٢- أرسلت بريطانيا في ديسمبر ١٨٧٥م بعثة برئاسة
(ونجت - ملنر - كيف- اللنبى)
- ٣- عقد ممثلو الدول العظمى مؤتمرا عام ١٨٨٢م للنظر في المسألة المصرية في مدينة
(لندن - باريس - برلين - الأستانة)
- ٤- أعلن مصطفى كامل رسمياً عام ١٩٠٧م تأسيس الحزب :
(المصري- الوطنى - الجمهوري - الدستوري)

(ب) بم تفسر ؟.....؟

- ١- إرسال إنجلترا وفرنسا المذكرة المشتركة الأولى في يناير ١٨٨٢م.
- ٢- استقالة أول وزارة برلمانية فى نوفمبر ١٩٢٤م.

(ج) ماذا يحدث إذا ؟.....؟

- ١- استمر الخديوي عباس حلمي الثاني فى تأييد الحركة الوطنية؟
- ٢- لم يتوسع الخديوي إسماعيل فى سياسة الاقتراض.

السؤال الثانى ؟.....؟

(أ) ضع علامة (√) أمام العبارة الصحيحة وعلامة (x) أمام العبارة غير الصحيحة مع التصويب :

- ١- أكد دستور عام ١٩٢٣م أن الأمة هى مصدر السلطات. ()
- ٢- فى مايو عام ١٨٧٦م أصدر الخديوي إسماعيل مرسوم إنشاء المراقبة الثنائية. ()
- ٣- طالب محمد فريد بجعل التعليم إلزامى وبالمجان فى المرحلة الابتدائية. ()
- ٤- أعتقل زعماء الثورة العربية ما عدا الشيخ محمد عبده خطيب الثورة. ()

(ب) ما النتائج المترتبة على ؟.....؟

- ١- تولى محمود سامى البارودى رئاسة الوزراء عقب استقالة شريف باشا .
- ٢- اندلاع الحرب العالمية الأولى بالنسبة لمصر عام ١٩١٤م .

(النموذج الثانى)

السؤال الأول :

(أ) - أكمل العبارات الآتية بما يناسبها :

- ١- أنشأ عربى استحکامات عند مدينة بعد انسحابه من الإسكندرية .
- ٢- ظهر اهتمام مصطفى كامل بنشر التعليم فى إنشاء عام ١٩٠٨ م .
- ٣- فى وزارة نوبار المختلطة تولى وزير فرنسى وزارة
- ٤- تم إلغاء فى مؤتمر مونترى ١٩٣٧ م .

(ب) - ما النتائج المترتبة على؟

- ١- انشأ المحاكم القنصلية .
- ٢- إصدار تصريح ٢٨ فبراير ١٩٢٢ م .

(ج) رتب الأحداث التاريخية من الأقدم للأحدث:

- المذكرة المشتركة الأولى .
- إلغاء معاهدة ١٩٣٦ م .
- اتفاقية الحكم الثنائى للسودان .
- اللائحة السعيدية .

السؤال الثانى :

(أ) أيد بالأدلة التاريخية:

- ١- عمل الخديوي توفيق منذ بداية حكمه على الرضوخ للنفوذ الأجنبي .
- ٢- توحدت جميع فئات الشعب المصرى خلال ثورة ١٩١٩ م.

(ب) صوب الكلمات التى تحتها خط .

- ١- تحول الخديوي توفيق من مؤازرة الحركة الوطنية إلى موالة الاحتلال .
- ٢- نتيجة فشل المفاوضات مع كيرزون وزير خارجية بريطانيا استقالة وزارة إسماعيل صدقى .

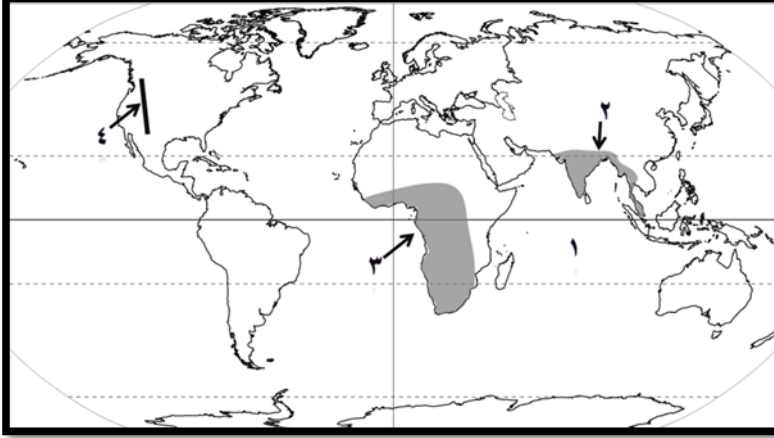
٣- أسس سعد زغلول جريدة اللواء عام ١٩٠٠ م .

٤- أدت حادثة قصر النيل ١٨٨١م إلى تعيين عثمان رفقى وزيرا للحربية .

الاختبار الأول

أولاً : الجغرافيا

س ١ : (أ) أمامك خريطة صماء للعالم اكتب مدلول الأرقام الموقعة عليها:



١ . المحيط

٢ . إقليم مناخي

٣ . السلالة السائدة بالمنطقة

٤ . سلاسل جبال

(ب) بم تفسر :

١- ضيق السهول الساحلية في شرق استراليا.

٢- تركيز السكان في منطقة البحيرات العظمي بالولايات المتحدة الأمريكية.

٣- ارتفاع نسبة المتعلمين في مصر بنسبة ٦٥% .

س ٢ - (أ) ما النتائج المترتبة علي :

١- التقدم الصناعي في أوروبا. ٢- تعرج السهول الساحلية بقارة أوروبا.

(ب) اكتب كلمة (صح) أو كلمة (خطأ) أمام العبارات الآتية :

١- توجد في أمريكا الجنوبية أوسع سهول نهريّة في العالم وهي سهول لابلاتا. ()

٢- الصنوبر والشربين والبلوط أنواع من الأشجار المخروطية. ()

٣- يرجع انتشار الإنسان في قارات العالم الي أواخر عصر البلايستوسين ()

٤- تنتمي جماعة التجوس في سيبيريا إلي السلالة الزنجية . ()

٥- الصين وأوكرانيا من الدول ذات المستوي الاقتصادي الأقل من المتوسط . ()

ثانيا : التاريخ

س ٣ (أ) أختَر الإجابة الصحيحة مما بين الأقواس :

- ١- انتصر العثمانيون بقيادة سليم الأول علي الصفويين في معركة :
(مرج دابق -الريدانية-جالديران- ديو البحرية)
 - ٢- أصدر الخديوي إسماعيل مرسوماً بتأليف عام ١٨٧٨ م .
(صندوق الدين - المراقبة الثنائية - المحاكم المختلطة - الوزارة المختلطة)
 - ٣- اسند الخديوي توفيق أمر تشكيل أول وزارة بعد مظاهرة عابدين ٩ سبتمبر ١٨٨١م الي :
(نوبار باشا - رياض باشا - عثمان رفاقي - شريف باشا)
 - ٤- أرسلت إنجلترا وفرنسا في مايو ١٨٨٢م تطالبان فيها بإقالة وزارة البارودي وإبعاد عرابي وزملائه خارج البلاد .
(لجنة التحقيق الأوربية - بعثة كيف - المذكرة المشتركة الأولى - المذكرة المشتركة الثانية)
- (ب) أيد بالأدلة التاريخية:

- ١- كان لدستور ١٩٢٣م العديد من المزايا.
 - ٢- تأثرت مصر تحت الحكم العثماني بالجمود والركود.
 - ٣- عمل الخديوي توفيق علي الرضوخ للنفوذ الأجنبي حتى يحافظ علي عرشه .
 - ٤- اهتم (محمد علي) بالنقل والمواصلات .
- (ج) قارن بين أحوال التعليم في مصر أثناء حكم إسماعيل وأحوال التعليم في مصر تحت الاحتلال البريطاني).

س ٤ : (أ) " بدأت الحركة الوطنية نتيجة لتغلغل النفوذ الأجنبي في مصر ماليا واقتصاديا وسياسيا"علي ضوء العبارة السابقة وضح ما يلي ؟

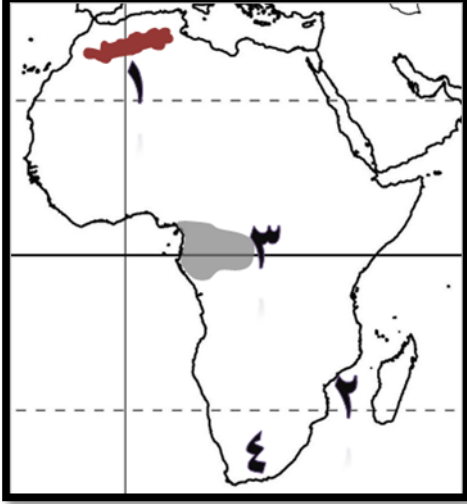
- ١- موقف الزعيم محمد فريد من مشروع مد امتياز قناة السويس.
 - ٢- عوامل قيام ثورة ١٩١٩م.
 - ٣- أهم مطالب الجيش والأمة التي طالب بها عرابي في مظاهرة سبتمبر ١٨٨١م.
- (ب) رتب الاحداث التاريخية الآتية من القديم الي الحديث :

- ١-إنشاء صندوق الدين.
- ٢- تأسيس مجلس شوري النواب.
- ٣- مذبحه يافا البشرية.
- ٤- موقعة نفاين .

الاختبار الثاني

أولا : الجغرافيا

س ١ : (أ) أمامك خريطة لقارة إفريقيا أكتب مدلول الأرقام الموقعة عليها :



- ١- جبال
- ٢- مضيق
- ٣- المناخ
- ٤- صحراء

(ب) بم تفسر ... ؟

١. وجود الجليد فوق قمم الجبال العالية في المناطق الاستوائية والمدارية.

٢. تشابه المناخ في الإقليم المعتدل البارد مع مناخ إقليم غرب أوروبا.

٣. تركز السكان في منطقة البحيرات العظمى بالولايات المتحدة الأمريكية.

(ج) أذكر المصطلح الجغرافي لما يأتي :

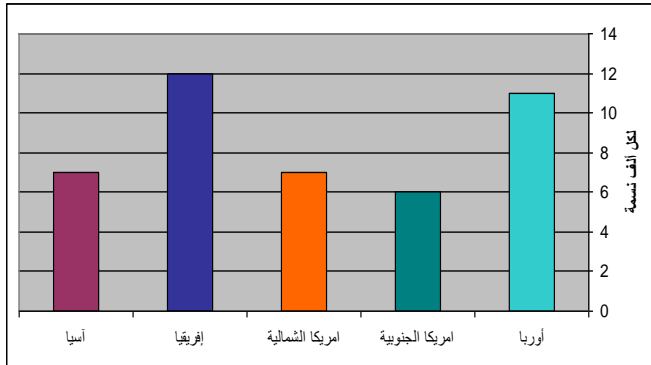
١- الدول التي تتكون من جزيرة أو أكثر.

٢- منطقة انتقالية بين المناخ الاستوائي والمناخ الصحراوي.

س ٢ : (أ) من خلال الرسم البياني يوضح معدل الوفيات في العالم عام ٢٠١٤م الذي أمامك

أجب علي ما يلي :

١- رتب قارات العالم ترتيبا تصاعديا من حيث معدل الوفيات .



٢- ما العوامل المؤثرة علي تزايد

معدلات الوفيات في العالم .

٣- فسر ازدياد عدد الوفيات

في أوروبا .

٤- لماذا انخفضت معدلات

الوفيات في مصر.

(ب) قارن بين كلا ما يأتي :

• توزيع سكان إفريقيا في كلا من سواحل البحر المتوسط والمناطق الاستوائية.

(ج) ما النتائج المترتبة علي :

١- كثرة تعاريج سواحل قارة أوروبا .

٢- اقتراب جبال الحاجز الكبير من المحيط الهادي .

ثانيا: التاريخ

س ٣ : (أ) اختر الإجابة الصحيحة من بين الأقواس :

١- تعرضت دولة المماليك الي التدهور الاقتصادي بعد تحول طرق التجارة علي أيدي :

(العثمانيين - البرتغاليين - الصفويين - الإنجليز)

٢- اعتقلته القوات الفرنسية وتم إعدامه في سبتمبر ١٧٩٨ م :

(مراد بك - إبراهيم بك - عمر مكرم - محمد كريم)

٣- قرر زعماء الشعب في اجتماعهم ببيت القاضي عام ١٨٠٥ م عزل :

(محمد علي - عمر مكرم - خورشيد باشا - محمد كريم)

٤- أسس (محمد علي) ترسانتين لصناعة السفن احدهما في الإسكندرية والثانية في :

(الأزكية - بولاق - السويس - عابدين)

٥- شكل أول وزارة برلمانية عرفت بـ (وزارة الشعب) عام ١٩٢٤ م :

(أحمد عرابي - مصطفى كامل - سعد زغول - محمد فريد)

٦- اهتم بإصلاح أحوال الفلاحين فأصدر اللائحة السعيدية عام ١٨٥٨ م :

(سعيد - إسماعيل - توفيق - عباس)

(ب) قارن بين ؟تصريح ٢٨ فبراير ١٩٢٢م ومعاهدة ١٩٣٦م : من حيث مزايا كل منهما.

س ٤: (أ) أعد كتابة العبارات الآتية بعد تصحيح ما تحته خط :

١- تحالف علي بك الكبير مع محمد بك أبو الدهب بعد استقلاله عن الدولة العثمانية عام

١٧٦٨م.

٢- نجح مشروع (محمد علي) بضم السودان الي الوصول الي الأقاليم الاستوائية في عصر

عباس باشا

٣- استغل الزعيم محمد فريد حادثة دنشواي للتنديد بالاحتلال البريطاني علي مصر .

- ٤- أدت حادثة قصر النيل ١٨٨١ م الي تعيين عثمان رفقي وزيراً للجهادية .
- ٥- نتيجة فشل المفاوضات مع كيرزون وزير خارجية بريطانية استقالت وزارة إسماعيل صدقي.

٦- منح الخدوي توفيق امتيازاً ستغلال قناه السويس لمدة ٩٩ عاماً الي فرديناند دليسبس.

(ب) ما المقصود بما يلي :١- فرمان .

٢- محاكم مختلطة.

(ج) ماذا يحدث اذا؟

١- نجح مينو في الاستمرار بالإقامة في مصر .

٢- لم تقرض الدول الأوروبية معاهدة لندن ١٨٤٠م علي (محمد علي).

الاختبار الثالث

أولاً : الجغرافيا

س ١ : (أ) أمامك خريطة صماء لقارة أمريكا الجنوبية اكتب في كراسة إجابتك مدلول الأرقام



التالية :

- ١- جبال
- ٢- هضبة
- ٣- اقليم مناخي
- ٤- المحيط
- ٥- نهر
- ٦- دائرة عرض

(ب) ما المقصود بكلاً من :

١- التركيب العمري للسكان. الديموجرافية

(ج) أكمل العبارات الآتية:

- ١- يوجد الإقليم الصحراوي الحار في جميع القارات عدا قارة
- ٢- أغلب سكان قارة إفريقيا ينتمون للسلالة
- ٣- تعتبر أشجار الصفصاف من أشجار غابات
- ٤- يصب نهر اليانغتسي في المحيط
- ٥- أعلى نصيب للفرد في العالم يوجد في قارة

س ٢ (أ) أختار الإجابة الصحيحة من بين الأقواس وأكتب العبارة كاملة بورقة إجابتك :

١- من أقسام السلالة الصفراء(الأقزام - البانتو - الاسكيمو - المجموعة النوردية)

٢- تقع في أقصى الجنوب الشرقي في قارة إفريقيا جبال.....

(أطلس - البحر الأحمر - الجون -دراكنزبرج)

٣- أكبر الهضاب في قارة أمريكا الشمالية دولة : (جيانا- البرازيل - بتاجونيا - المكسيك)

٤- تسقط الأمطار طوال العام في الإقليم: (الاستوائي - الصيني - غرب أوروبا - كل ما سبق)

(ب) أكتب كلمة (صح) أمام العبارة الصحيحة وكلمة (خطأ) أمام العبارة غير الصحيحة مع

التصويب:

- ١- تفصل جبال أورال بين قارتي آسيا وإفريقيا. ()
- ٢- قارة إفريقيا أعلى القارات في معدل الوفيات. ()
- ٣- تقع الغابات الاستوائية في قارة آسيا وإفريقيا وأستراليا. ()

(ج) بم تفسر ؟

- ١- كثرة الموانئ الطبيعية بقارة أوربا . ٢- عدم وجود سلالات بشرية نقية في العالم.

ثانيا : التاريخ

س ٣ : (أ) إلي من تنسب هذه الأعمال؟

- ١- حاكم الإسكندرية الذي تصدى للقوات الفرنسية عام ١٧٩٨ م. ()
- ٢- اكتشف حجر رشيد في يوليو ١٧٩٩ م . ()
- ٣- قدم استقالته بسبب إصرار مجلس النواب علي النظر في الميزانية. ()
- ٤- تولي رئاسة حزب الوفد بعد وفاة سعد زغلول. ()

(ب) اختر الإجابة الصحيحة مما بين الأقواس :

- ١- أبحرت الحملة الفرنسية المتجهة سراً إلي مصر من ميناء.....
(مرسيليا-جنوه-البندقية- طولون)
- ٢- قامت ثورة القاهرة الثانية في عهد القائد الفرنسي.....
(سيف - مينو-كليبير - نابليون)
- ٣- تخلص (محمد علي) في مذبحه القلعة من.....
(المماليك - العثمانيين - الإنجليز - الفرنسيين)

٤- تم إنشاء دار الرصد بالعباسية ودار الكتب في عهد :

(محمد علي - محمد سعيد باشا - عباس الأول - الخديوي إسماعيل)

(ج) ماذا يحدث اذا؟

١- ظل محمد بك أبو الذهب علي ولائه لعلي بك الكبير .

٢- اقتضت الحملة الفرنسية علي العسكريين فقط .

س ٤ (أ) أكتب كلمة (صح) أمام العبارة الصحيحة وكلمة (خطأ) أمام العبارة غير الصحيحة مع

التصويب:

١. تدهورت دولة المماليك اقتصاديا نتيجة لاكتشاف الفرنسيين طريق رأس رجاء الصالح. ()

٢. أيقظت الحملة الفرنسية الروح القومية لدي المصريين. ()

٣. أصدر السلطان العثماني فرمانا بعزل (محمد علي) وتولية خورشيد باشا حاكما علي مصر

في يوليو ١٨٠٥ م . ()

٤. أهتم سعيد باشا بإصلاح أحوال الفلاحين وأصدر في أغسطس ١٨٥٨م اللائحة السعيدية. ()

(ب) بم تفسر ؟

١. مجيء الحملة الفرنسية الي مصر ١٧٩٨ م .

٢. ازدهار الزراعة في مصر في عهد (محمد علي).

٣. فشل الثورة العرابية.

٤. ساعدت تحركات مصطفى كامل الداخلية في تقدم الحركة الوطنية.

(ج) ما رأيك في ؟

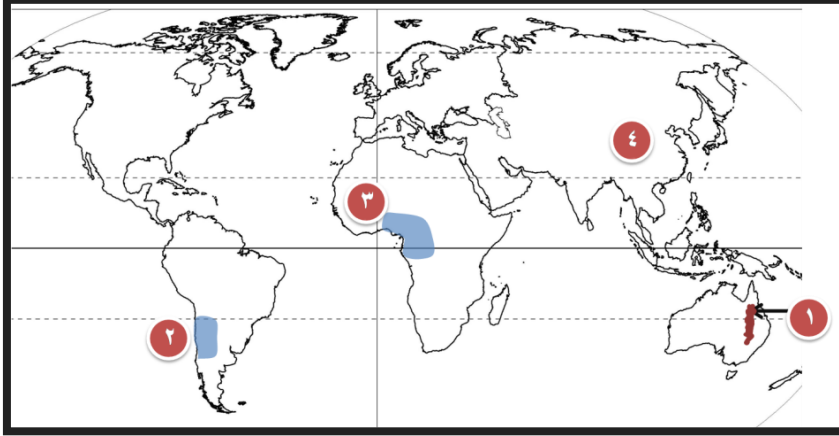
١- تخلص (محمد علي) من المماليك في مذبحه القلعة.

٢- وقوف الشعب المصري يدا واحدة في ثورة ١٩١٩م.

الاختبار الرابع

اولا : الجغرافيا

س ١: (أ) أمامك خريطة صماء للعالم اكتب مدلول الارقام الموقعة عليه:



١. جبال.....
٢. اقليم مناخي ...
٣. اقليم نباتي
٤. سلالة بشرية

(ب) أعد كتابه العبارات الآتية بعد تصوب ما بها من خطأ :

١. يتميز إقليم المناخ الصيني بسقوط الأمطار طوال العام ويتعرض أحيانا لعواصف مدارية مثل الهيريكين.
٢. تنمو حشائش الأستبس في العروض المعتدلة وتعرف بحشائش البراري في أوروبا .
٣. تتركز السلالة الزنجية قرب دائرة الاستواء في أمريكا الجنوبية حوالي ٧٠% من سكان القارة .

(ج) بم تفسر ... ؟

١. أهمية الموقع الجغرافي لمصر بالنسبة للعالم.
٢. أثر التضاريس علي المناخ.
٣. ارتفاع معدلات المواليد في قارة أفريقيا.

س ٢ : (أ) أختَر الإجابة الصحيحة مما بين الأقواس وأكمل بها الفراغات في العبارات الآتية:

١- نهر يصب مياهه في بحر قزوين وهو أطول أنهار أوربا هو نهر

(السين - الدانوب - الفولجا - الراين)

٢- من أشجار الغابات المخروطية أشجار

(الصنوبر - الزان - الصفصاف - الصندل)

٣- يتركز السكان في المدن الكبرى بسبب وفره

(فرص العمل - الخدمات المتنوعة - المناطق الصناعية -المناخ المعتدل)

٤- يوجد أعلى نصيب للفرد من الدخل في قارة.....

(أوربا -الأوقيانوسية-إفريقيا -أمريكا الشمالية)

(ب) قارن بين :

١. غابات إقليم البحر المتوسط وغابات الإقليم الصيني من حيث : الموقع الفلكي - أهم

النباتات .

٢. إقليم المناخ الاستوائي وإقليم المناخ المداري الحار من حيث: الموقع الجغرافي-

الخصائص المناخية.

(ج) ما النتائج المترتبة علي ما يأتي؟

١- تساوي معدلات المواليد مع معدلات الوفيات في قارة أوربا .

٢- وجود جبال الأنديز علي الساحل الغربي من قارة أمريكا الجنوبية .

ثانيا : التاريخ

س ٣: (أ) أكتب كلمة (صح) أمام العبارة الصحيحة وكلمة (خطأ) أمام العبارة الغير صحيحة مع

التصويب:

١. ارتفعت مكانة الأزهر العلمية إبان الحكم العثماني لمصر. ()
٢. نجح نابليون في حملته علي الشام عام ١٧٩٩ م . ()
٣. ظهور البدو في مصر كقوي اجتماعية مستقرة بعد تطبيق نظام الالتزام العثماني. ()
٤. قبلت الحكومة المصرية في يوليو ١٨٨٢م الإنذار الذي أرسله قائد الأسطول البريطاني بتسليم حصون مدينة الإسكندرية. ()
٥. طالب محمد فريد بإنشاء مجلس نيابي له سلطات واسعة . ()

(ب) رتب الأحداث الآتية ترتيبا تنازليا من الأحدث إلي الأقدم :

- ١- حركة علي بك الكبير .
- ٢- معركة التل الكبير .
- ٣- لجنة التحقيق الأوربية .
- ٤- تخلص (محمد علي) من الزعامة الشعبية.

(ج) ما العلاقة بين ؟

١. الكشوف الجغرافية (طريق رأس الرجاء الصالح) والمماليك .
٢. الحرب العالمية الأولى وثورته ١٩١٩ م في مصر .

س ٤: (أ) صوب ما تحته خط في العبارات التالية :

- ١- كانت المراقبة الثنائية بمثابة خزنة فرعية للخزانة المصرية .
- ٢- من مطالب مظاهرة عابدين ٩ سبتمبر ١٨٨١م اسقاط وزارة شريف باشا المستبدة.
- ٣- دعا مصطفى كامل أن يكون التعليم إلزاميا وبالمجان في المرحلة الابتدائية .
- ٤- شكل عدلي يكن أول وزارة برلمانية في يناير ١٩٢٤ م .

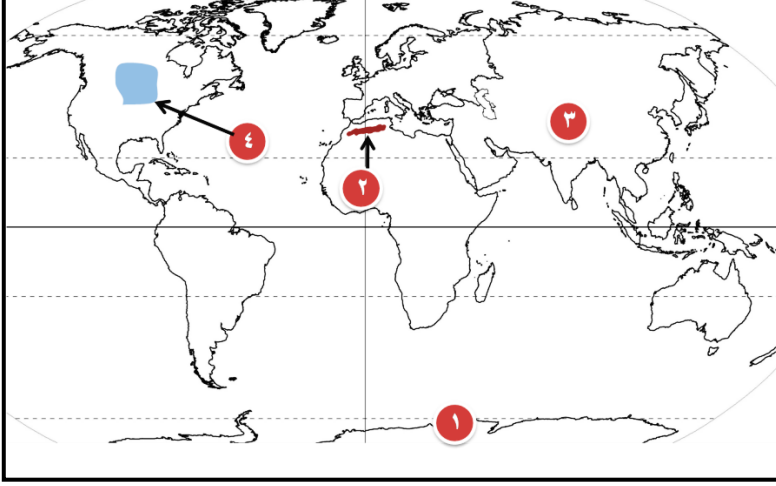
(ب) دلل تاريخيا علي صحة العبارات الاتية :

- (١) لم يحقق تصريح ٢٨ فبراير ١٩٢٢م للمصريين أمانهم الوطنية كاملة.
- (٢) انقسم المجتمع المصري أثناء الحكم العثماني إلي طبقتين .
- (٣) تغير موقف (محمد علي) من الزعامة الشعبية بعد توليه الحكم .

الاختبار الخامس

أولا : الجغرافيا

س ١ : (أ) أمامك خريطة صماء للعالم أكتب مدلول الأرقام الموقعة عليها:



١- القارة

٢- جبال

٣- إقليم المناخ بالهند

٤- حشائش

(ب) ما المقصود بالمفاهيم الآتية؟

١- التعداد السكاني. ٢- قوة العمل.

(ج) بم تفسر ... ؟

١- تضيق السهول الساحلية في غرب أمريكا الجنوبية؟

٢- يقل عدد السكان في شمال قارة آسيا وفي غرب قارة أستراليا ؟

٣- العرب ليسوا من سلالة بشرية واحدة؟

س ٢ : (أ) أذكر المصطلح الجغرافي الذي تدل عليه العبارات الآتية :

١. الدول التي تتكون من جزيرة أو أكثر.

٢. الفرق بين معدلات المواليد والوفيات.

(ب) أنسب الأشجار الآتية إلي الغابات التي تنتمي إليها :

١- الزيتون.

٢- الزان.

(ج) قارن بين : الإقليم المناخي للصحاري المعتدلة ، وإقليم المناخ المعتدل البارد شرق القارات
من حيث : (الموقع والخصائص المناخية).

ثانيا : التاريخ

س ٣ : (أ) أكتب كلمة (صح) أو كلمة (خطأ) أمام ما يناسبها من العبارات الآتية :

١- تمكنت الدولة العثمانية في عهد سليم الأول من إقامة إمبراطورية أسيوية أوربية.

()

٢- تحطم الأسطول المملوكي عام ١٥٠٩م في معركة مرج دابق.

()

٣- واجه أهالي الإسكندرية الحملة الفرنسية بزعامة السيد عمر مكرم.

()

٤- أنشأ (محمد علي) المطبعة الأميرية في بولاق كما أصدر صحيفة الوقائع المصرية. ()

(ب) لمن تنسب الأعمال التاريخية الآتية :

١- استطاع الاستقلال بمصر حتي صار الحاكم الفعلي لها سنة ١٧٦٨م.

٢- أحد الأجانب الذي استعان به (محمد علي) للتدريس في المدارس العليا والترجمة الأجنبية
إلى اللغة العربية.

٣- شرع في إنشاء أول خط حديدي بين القاهرة والإسكندرية عام ١٨٥٢م .

٤- صمد بقواته أمام القوات البريطانية حتي استشهد هو ومعظم رجاله في معركة التل الكبير .

(ج) : ١- ماذا كان يحدث إذا: اعتمد (محمد علي) علي الجنود الألبان في تكوين الجيش
المصري؟

٢- ما رأيك في: سياسة الاقتراض التي اتبعتها الخديوي إسماعيل؟

س ٤ : (أ) " بدأت الحركة الوطنية في مصر نتيجة الأطماع الأجنبية وتغلغل النفوذ الأجنبي في
البلاد " علي ضوء العبارة السابقة أجب عن الأسئلة الآتية:

١. ما هي مظاهر مقاومة الشعب المصري للحملة الفرنسية ؟

٢. وضح دور مصطفى كامل في الكفاح الوطني علي المستوي الخارجي ؟

٣. ما اثر إلغاء مصطفى النحاس لمعاهدة ١٩٣٦م علي المصريين ؟

(ب) ما النتائج المترتبة علي (يكتفي بذكر اثنين) :

١. اهتمام (محمد علي) بالزراعة.

٢. مظاهرة عابدين في سبتمبر ١٨٨١م.

(ج) اثبت بالأدلة التاريخية صحة العبارة الآتية :

- أثارت انتصارات (محمد علي) ضد السلطان العثماني الدول الأوربية ضده .

نموذج الإجابات
الوحدة الأولى : الجغرافية الطبيعية للعالم
الاختبار القبلي

السؤال الأول

الموقع بالنسبة للأماكن الأخرى من بحار ومحيطات أو دول مجاورة
الموقع الفلكي هو الموقع بالنسبة خطوط الطول ودوائر العرض

السؤال الثاني

١. سبع قارات العالم.

٢. (الهادي).

٣. (آسيا).

٤. بوسط أفريقيا تقريبا.

السؤال الثالث بم تفسر.....؟

ندرة السكان بالقارة القطبية الجنوبية بسبب ظروف المناخ القاسية حيث يغطيها الجليد
طول العام باستثناء مناطق قليلة في فصل الصيف

السؤال الرابع أكمل العبارات الآتية بكلمات مناسبة

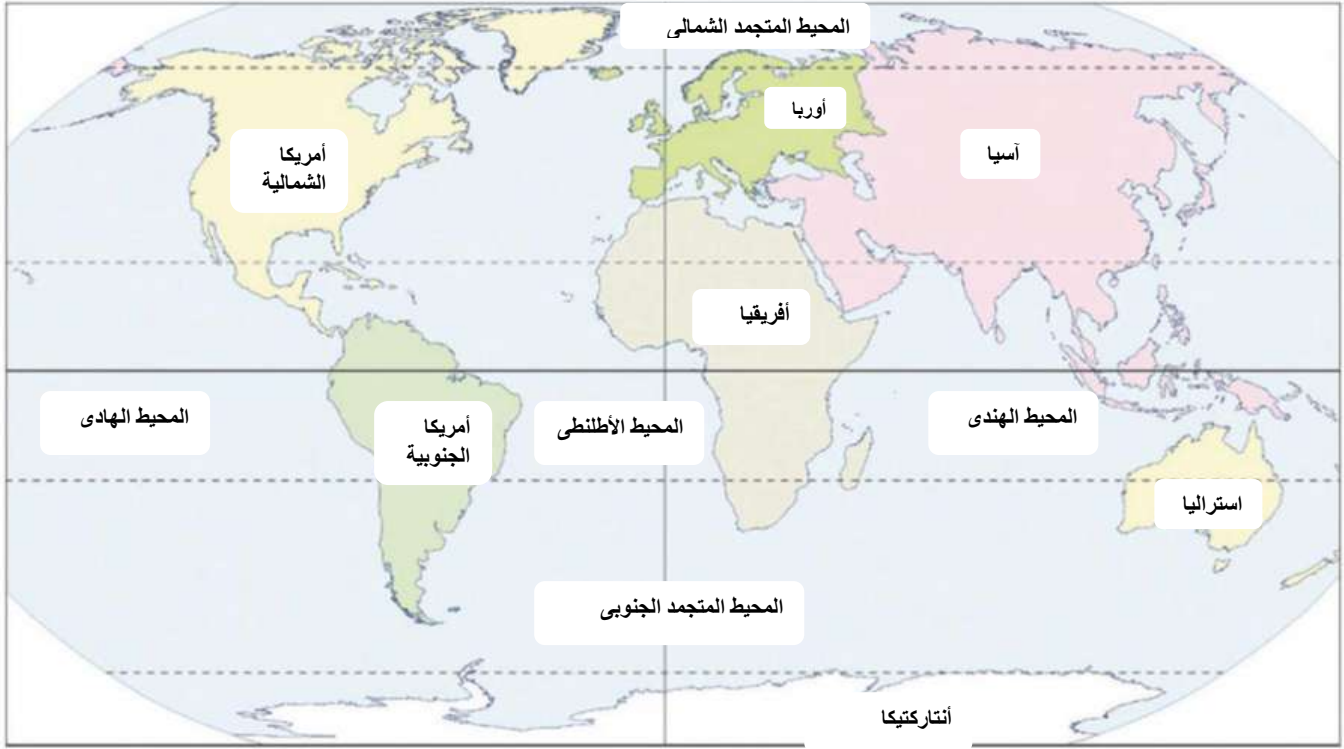
١. تنقسم التضاريس إلى جبال - هضاب - سهول.

٢. قارة آسيا.

٣. قارة استراليا

الوحدة الأولى : الجغرافية الطبيعية للعالم

إجابة السؤال الأول



الترتيب	القارات	المحيطات
الأول	آسيا	المحيط الهادي
الثاني	أفريقيا	المحيط الأطلنطي
الثالث	أمريكا الشمالية	المحيط الهندي
الرابع	أمريكا الجنوبية	المحيط المتجمد الجنوبي
الخامس	القارة القطبية الجنوبية	المحيط المتجمد الشمالي
السادس	أوروبا	
السابع	أستراليا	

إجابة السؤال الثاني

١. ٥١٠ ملايين كم ٢
٢. آسيا
٣. ٢٦ شرقاً و ١٧٠ غرباً
٤. ١٠ جنوباً و ٨١ شمالاً

٥. المحيط الهادى

٦. كندا

٧. شبه الجزيرة العربية و شبه جزيرة الملايو

إجابة السؤال الثالث :-

أوجه المقارنة	آسيا	أفريقيا	أوروبا
المساحة	٤٤,٣	٣٠,٣	١٠,٥
الموقع الجغرافى	يحيط بها المحيط الهادى فى الشرق والمحيط القطبى الشمالى من الشمال والمحيط الهندى من الجنوب ويحدها من الغرب جبال الأورال التى تفصلها عن أوروبا	يحدها البحر المتوسط من الشمال والمحيط الهندى والبحر الأحمر من الشرق والمحيط الأطلنطى من الغرب	تحدها قارة آسيا شرقاً والبحر المتوسط جنوباً والمحيط الأطلنطى غرباً والمحيط القطبى شمالاً.
الموقع الفلكى	تمتد بين دائرتي عرض ١٠° جنوباً و ٨١° شمالاً وبين خطى طول ٢٦° شرقاً و ١٧٠° غرباً	تمتد بين دائرتي عرض ٣٠° ، ٣٤° جنوباً و ٣٠° ، ٣٧° شمالاً وبين خطى طول ١٧° غرباً و ٥١° شرقاً	تمتد بين دائرتي عرض ٣٦° شمالاً و ٧١° شمالاً وبين خطى طول ٢٥° غرباً و ٦٦° شرقاً

إجابة السؤال الرابع:

١. (×) تمتد قارة آسيا نحو ٩٠ عرضية

٢. (√)

٣. (√)

٤. (√)

٥. (×) أكبر قارات العالم مساحة قارة آسيا

إجابة الخامس

١- كثرة الموانئ الطبيعية فى قارة أوروبا بسبب كثرة التعرج فى سواحلها

إجابة السؤال السادس :-

١. آسيا

٢. استراليا

٣. الهادى

٤. أمريكا الجنوبية

٥. الأطلنطى

إجابة السؤال السابع

يجيب عنها الطالب ويتكون البحث من معلومات عن موقع الفلكى والجغرافى وأهم دوائر العرض التى تمر بها وأهم الظاهرات التضاريسية بها والأقاليم المناخية والنباتية ويدعم البحث بالصور والخرائط

إجابة السؤال الثامن: يجب عنه الطالب تحت إشراف المعلم.

إجابة السؤال التاسع: لأصبحت غير مناسبة لإنشاء الموانئ وبالتالي قلت الموانئ على سواحل أوربا.

إجابة السؤال العاشر

١. الدول الجزرية.

٢. قارة أمريكا الجنوبية.

٣. القارة القطبية الجنوبية.

٤. أوروبا.

إجابة السؤال الحادي عشر:

١. كثرة التعاريج فى سواحل أوربا ساعد ذلك على إنشاء الموانئ الطبيعية وسهولة الاتصال بالعالم الخارجى.

٢. وقوع القارة القطبية الجنوبية على القطب الجنوبي أدى إلى إنها أصبحت متجمدة وغير مأهولة بالسكان باستثناء مراكز بحوث ومناطق مقسمة بين عدد من الدول التى لها مصالح بها.

إجابة السؤال الثاني عشر

١. مع (و) آسيا

٢. مع (أ) أوروبا

٣. مع (ج) أمريكا الجنوبية

٤. مع (د) أفريقيا

إجابة السؤال الثالث عشر:

١. مدار السرطان ودائرة الإستواء والدائرة القطبية الشمالية.
٢. جبال الأورال.
٣. الأحمر - باب المندب.
٤. القطبي الشمالي - الهندي - الهادي

إجابة السؤال الرابع عشر:

- ١- قارة آسيا
- ٢- قارة أفريقيا
- ٣- قارة أمريكا الشمالية
- ٤- قارة أمريكا الجنوبية
- ٥- قارة أوروبا
- ٦- قارة استراليا
- ٧- قارة القارة القطبية الجنوبية
- ٨- المحيط الهندي
- ٩- المحيط الأطلنطي
- ١٠- دائرة الاستواء
- ١١- مدار الجدي
- ١٢- مدار السرطان

إجابة السؤال الخامس عشر:

١. تمتد جبال أطلس شمال غرب أفريقيا
٢. يسود قارة أفريقيا المظهر الهضبي
٣. سهل كلنشو في ليبيا من السهول الصحراوية الرملية
٤. تعد جبال روكي أعلى جبال قارة أمريكا الشمالية
٥. تحصر جبال أطلس بينها هضبة الشطوط
٦. تمتد السهول الساحلية في أوروبا باتجاه عام من الغرب للشرق

إجابة السؤال السادس عشر:

فكر وصل كل نهر بالمصب المناسب له

في المحيط الهندي	١. نهر السند
في بحر قزوين	٢. نهر الفولجا
في خليج البنغال	٣. نهر الجانج
في المحيط الأطلنطي	٤. نهر لابلاتا
في المحيط القطبي	٥. نهر أوب

إجابة السؤال السابع عشر:

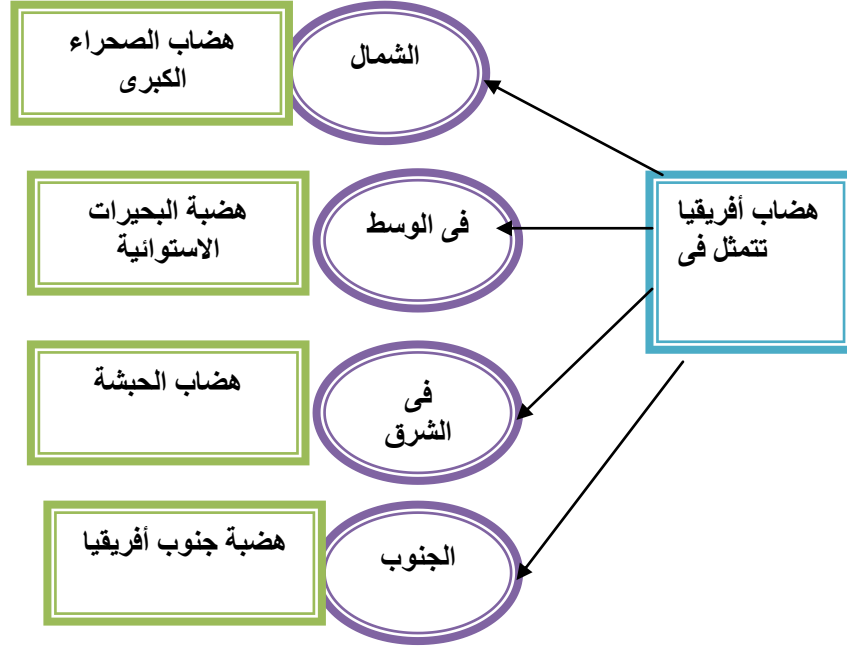
١. أفريقيا
٢. سهول نهر النيل أو حوض الكنغو أو نهر النيجر أو نهر الزمبيزي
٣. هضبة البرازيل
٤. باسم جبال الأنديز
٥. الفولجا

إجابة السؤال الثامن عشر:

قارة استراليا	قارة أفريقيا	أوجه المقارنة
تتسع في الشمال والغرب والجنوب وتضيق في الشرق لاقترب جبال الحاجز البير من المحيط الهادى	تتميز بالضيق لاقترب حافات الجبال والهضاب من الساحل وتتسع عند مصبات الأنهار	السهول الساحلية
هى سهول متسعة وصالحة للزراعة وتوجد بها الكثير من المدن المهمة ومنها سهول نهرا مرى ودارلنج	تتميز بجودتها للزراعة ومنها سهول نهر النيل وسهول حوض الكنغو وسهول نهر النيجر وسهول نهر الزمبيزي	السهول الفيضية
توجد فى الداخل والغرب وهى صحارى رملية تقل بها موارد	تنتشر السهول الصحراوية الرملية فى الصحراء الكبرى	السهول الصحراوية

المياه	مثل سهول كلنشو فى ليبيا وسهول الجزائر وموريتانيا كما توجد سهول صخرية صلبة متماسكة تعرف بالأرصفة الصحراوية	
--------	---	--

إجابة السؤال التاسع عشر :



إجابة السؤال العشرون :

- ١- ضيق السهول الساحلية فى أفريقيا بسبب اقتراب حافات الجبال والهضاب من الساحل.
- ٢- تسمية هضبة التبت بسقف العالم بسبب ارتفاعها عن قمم الجبال فهى أعلى هضبة فى العالم.

إجابة السؤال الواحد والعشرون :

اسم الظاهرة	نوعها (جبل - هضبة - نهر)	القارة التى توجد بها
أطلس	سلاسل جبال	أفريقيا
الشطوط	هضبة	أفريقيا
مرى ودارلنج	نهر	استراليا
الألب	سلاسل جبال	أوربا
القولجا	نهر	أوربا
الأمازون	نهر	أمريكا الجنوبية

التبت	هضبة	آسيا
روكى	سلاسل جبال	أمريكا الشمالية
المسيبى	نهر	أمريكا الشمالية
جيانا	هضبة	أمريكا الجنوبية
الإنديز	سلاسل جبال	أمريكا الجنوبية
الهيماالايا	سلاسل جبال	آسيا

إجابة السؤال الثاني والعشرون :

١. الفولجا
٢. التبت
٣. الأمازون
٤. بتاجونيا
٥. أوروبا
٦. الهند
٧. الأورال

إجابة السؤال الثالث والعشرون

١. (حوض النهر)
٢. (هضبة التبت)

السؤال الرابع والعشرون :

أمريكا الشمالية	قارة أوربا	أوجه المقارنة
تمتد طوليا سواء فى شرق القارة أو غربها	تمتد باتجاه عام من الغرب للشرق	الامتداد
من أمثلتها سلاسل جبال الألبلاش فى الشرق وجبال روكى أعلى جبال القارة	من أمثلتها سلاسل جبال الألب (البرانس - والدينارية)	الأمثلة

إجابة السؤال الخامس والعشرون :

١. جبال الحاجز الكبير
٢. نهر دارلنج

٣. الخليج الاسترالى الكبير

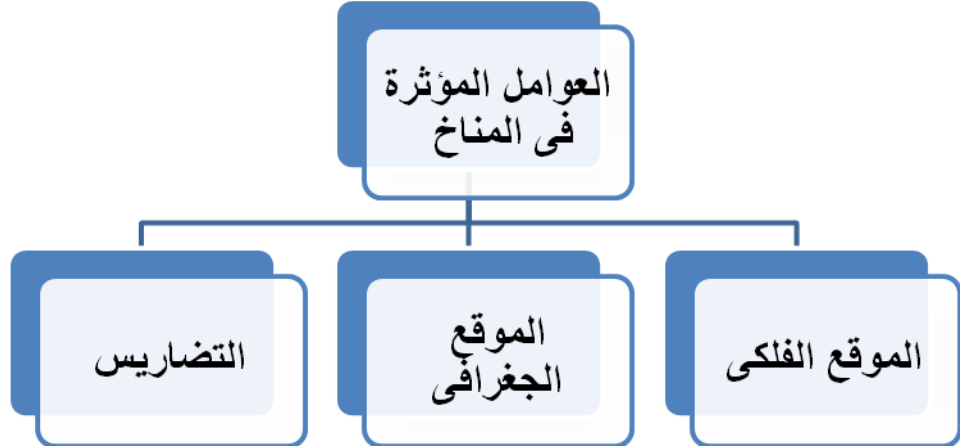
٤. الهضبة الغربية

٥. المحيط الهندي

إجابة السؤال السادس والعشرون :

١. الإقليم المناخي هو منطقة محددة على سطح الأرض لها خصائص مناخية من حيث الحرارة والرياح والمطر وغيرها من عناصر المناخ التي تميزها عن غيرها من المناطق.
٢. حشائش السافانا هي نوع من الحشائش تتميز بالتدرج فى أطوالها حسب كمية المطر وتعتبر حديقة حيوان طبيعية.

إجابة السؤال السابع والعشرون : أكمل الشكل التالي :



إجابة السؤال الثامن والعشرون :

١. تتوع الأقاليم المناخية فى العالم بسبب الموقع الفلكى - الموقع الجغرافى - التضاريس.
٢. وجود الجليد فوق قمم الجبال فى المناطق الاستوائية والمدارية بسبب الارتفاع الشديد لهذه الجبال فكلما ارتفعنا عن مستوى سطح الأرض ١٥٠ مترا انخفضت درجة الحرارة درجة مئوية واحدة.
٣. نمو الغابات الاستوائية فى الإقليم الاستوائي بسبب ارتفاع درجة الحرارة طوال لعام وسقوط الأمطار.

٤. سمي الغابات النفضية بهذا الاسم لأنها تنفض أوراقها في فصل الشتاء بسبب برودة الشتاء.

٥. تنوع الحياة النباتية فوق الجبال طبقا للارتفاع وكمية المطر.

إجابة السؤال التاسع والعشرون:

١. الإستوائى وشبه الإستوائى.

٢. المدارى الحار.

٣. الصندل والتيك وجوز الهند.

٤. ٣٠ ° و ٤٥ ° شمال وجنوب دائرة الإستواء.

٥. الإستبس.

إجابة السؤال الثلاثون :

الإقليم المدارى الحار	إقليم مناخ غرب أوروبا	المناخ المعتدل شرق القارات	إقليم البحر المتوسط	إقليم مناخ التندرا
حشائش السافانا	الغابات النفضية	الغابات المخروطية	الاستبس	الطحالب

السؤال الحادي والثلاثون:

١. التندرا.

٢. مناخ البحر المتوسط.

٣. الغابات النفضية.

٤. داخل القارات.

إجابة السؤال الثاني والثلاثون:

أوجه المقارنة	الإقليم المناخ المدارى الحار	مناخ الصحارى المعتدلة
الموقع	يقع بين دائرتى عرض ١٠ - ١٥ ° شمال وجنوب دائرة الاستواء	يقع فى العروض المعتدلة داخل القارات بين دائرتى عرض ٣٠ ° - ٤٥ ° شمال وجنوب دائرة الاستواء

الخصائص المناخية	يتميز بصيف حار ممطر وشتاء جاف	ويتميز بالجفاف وارتفاع درجة الحرارة خلال شهور الصيف والأمطار والدفء خلال فصل الشتاء
الخصائص النباتية	وتتمو به الغابات المدارية وحشائش السافانا	تتمو به نباتات عشبية تزدهر صيفا وتربى عليها الأغنام والماعز

إجابة السؤال الثالث والثلاثون:

١. (خطأ) يقع حوض الأمازون وهضبة جيانا ضمن الاستوائي وشبه الاستوائي
٢. (صح)
٣. (خطأ) من النباتات التي تنمو فى إقليم المناخ المدارى حشائش السافانا
٤. (صح)
٥. (خطأ) جنوب غرب استراليا يقع ضمن إقليم مناخ البحر المتوسط
٦. (صح)
٧. (خطأ) تعد حشائش الإستبس من مناطق الرعى فى الرئيسة فى العالم

إجابة السؤال الرابع والثلاثون:

جوز الهند	مع	الغابات الموسمية
البندق والمطاط	مع	الغابات الاستوائية
الصنوبر	مع	الغابات المخروطية
الزان	مع	الغابات النفضية
الزيتون	مع	غابات البحر المتوسط

إجابة السؤال الخامس والثلاثون:

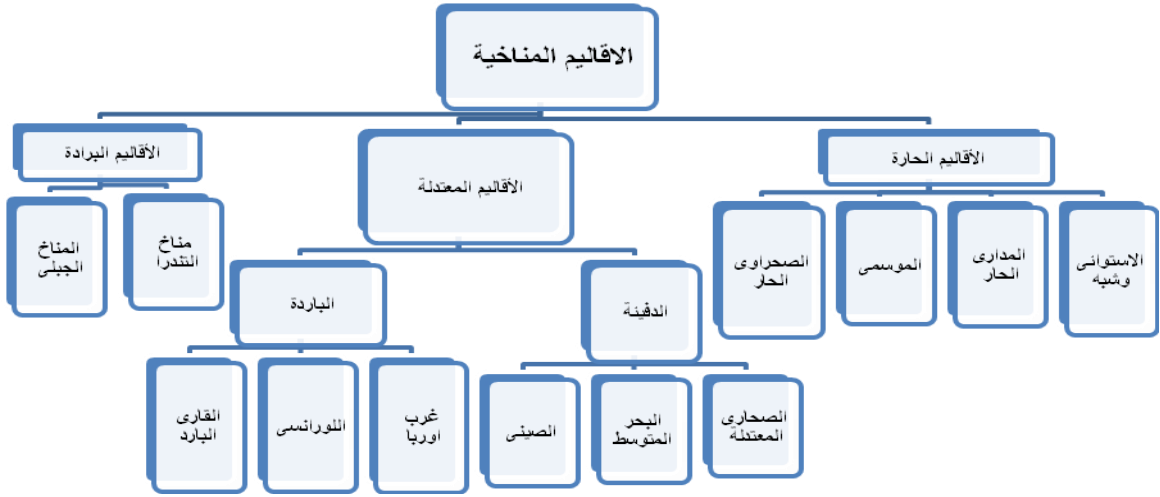
١. إقليم المناخ المدارى الحار.
٢. إقليم الصحارى المعتدلة.
٣. إقليم المناخ المعتدل شرق القارات.
٤. إقليم التندرا.
٥. إقليم البحر المتوسط.

إجابة السؤال السادس والثلاثون:

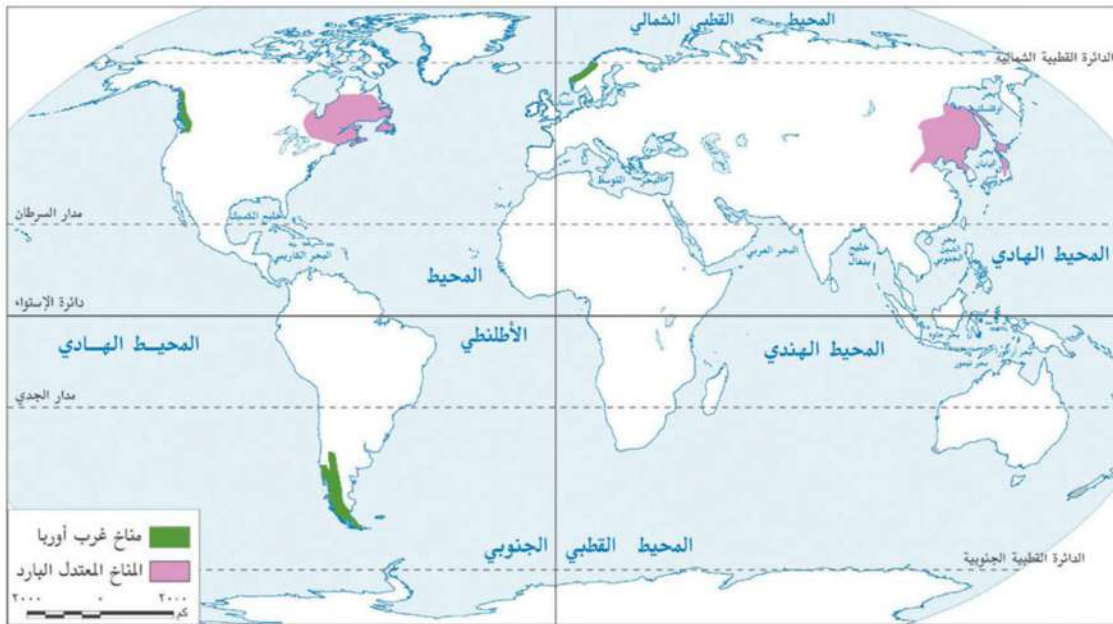
المناخ الصحراوي وشبه الصحراوي	الإستوائي وشبه الإستوائي	المدارى الحار	إقليم الصحارى المعتدلة	إقليم البحر المتوسط	إقليم التندرا	إقليم مناخ غرب أوروبا	الإقليم الصينى
شبه الجزيرة العربية	جزر إندونيسيا	شمال استراليا	وسط آسيا	سواحل الشام	شمال كندا	بريطانيا	جنوب شرق أمريكا الشمالية

إجابة السؤال السابع والثلاثون: يجيب عنه الطالب تحت إشراف المعلم

إجابة السؤال الثامن والثلاثون:



إجابة السؤال التاسع والثلاثون:



أوجه المقارنة	مناخ غرب أوروبا	مناخ المعتدل البارد
الموقع	يقع بين دائرتي عرض ٤٥ ٠ - ٦٠ ٠ غرب القارات شمال إقليم البحر المتوسط	يقع بين دائرتي عرض ٤٥ ٠ - ٦٠ ٠ شرق القارات
الخصائص المناخية	يتميز بالدفء صيفاً والبرودة شتاء وأمطار طوال العام خاصة في فصلي الشتاء والخريف	يتميز بشتاء بارد وصيف معتدل والأمطار طوال العام خاصة في فصل الصيف
الخصائص النباتية	تنمو به الغابات النفضية	تنمو به الغابات المخروطية

إجابة التدريبات العامة على الوحدة الأولى

إجابة السؤال الأول :

١. (×) البرازيل
٢. (×) تقترب قارة أفريقيا من قارة أوربا عند جزيرة صقلية ومضيق جبل طارق
٣. (√)
٤. (×) تنمو الغابات النفضية في مناخ إقليم غرب أوربا
٥. (×) تتدرج حشائش السافانا في الطول كلما ابتعدنا عن دائرة الاستواء

إجابة السؤال الثاني:

١. أفرست.
٢. ٢٩,٣.
٣. باب المنذب.
٤. جزر اليابان والفلبين.
٥. استراليا.
٦. (الطحالب)،
٧. المعتدل شرق القارات (الصينى).

إجابة السؤال الثالث:

١. قارة أنتاركتيكا غير مأهولة بالسكان بسبب أنها قارة متجمدة ولا يظهر منها إلا جزء قليل جدا في فصل الصيف فقط.
٢. ضيق السهول الساحلية بأمريكا الجنوبية في الغرب بسبب اقتراب جبال الإنديز من المحيط الهادي.
٣. تعرف هضبة التبت بسقف العالم نظراً لارتفاعها فهي أعلى هضاب العالم.
٤. تنمو الأشجار الموسمية في شمال قارة استراليا لأنها تقع في نطاق إقليم المناخ الموسمي الذي يتميز بسقوط الأمطار بغزارة في فصل الصيف والمناسبة لنمو الأشجار الموسمية.

إجابة السؤال الرابع :

١. حوض النهر: الأراضي التي يجرى داخلها النهر ورافده أو تتحد مياهه إليها ويحده خط وهمي يعرف بخط تقسيم المياه
٢. الدول الجزرية: هي الدول التي تتكون من جزيرة أو أكثر أو قد تكون جزءا من جزيرة.
٣. الإقليم المناخى: هو منطقة محددة على سطح الأرض لها خصائصها المناخية من حيث الحرارة والمطر والرياح والمطر وغيرها من العناصر التي تميزها عن غيرها من المناطق.

إجابة السؤال الخامس:

١. الحاجز الكبير
٢. الأورال
٣. أمريكا الجنوبية
٤. أمريكا الشمالية
٥. الأسترالي الكبير

إجابة السؤال السادس:

الظاهرة	قارة أفريقيا	قارة أوروبا	قارة أمريكا الشمالية
الجبال	أطلس - البحر الأحمر - دراكنزبرج - كينيا	جبال الألب أو الدينارية	جبال الأبلاش جبال روكى
الهضاب	هضبة البحيرات الاستوائية - هضاب الصحراء الكبرى - هضبة الحبشة	هضبة الميزيتا - هضبة فرنسا الوسطى هضبة	هضبة لبرادور - هضبة المكسيك
الأنهار	نهر النيل - نهر أورانج ولمبوبو	نهر الفولجا - نهر السين والراين - والدانوب	نهر المسيسيبي ونهر نلسن ونهر سانت لورانس

إجابة السؤال السابع:

١. كلما كثرت التعاريج بالسواحل ساعد ذلك على إنشاء الموانئ الطبيعية وسهولة الاتصال بالعالم الخارجى كما فى سواحل قارة أوروبا

إجابة السؤال الثامن:

١. مع (د)

٢. مع (ى)

٣. مع (و)

إجابة السؤال التاسع قارن بين كل من الإقليم مناخ غرب أوروبا ومناخ البحر المتوسط

أوجه المقارنة	مناخ غرب أوروبا	مناخ البحر المتوسط
الموقع	يقع بين دائرتى عرض ٤٥° - ٦٠° غرب القارات شمال إقليم مناخ البحر المتوسط	يقع فى العروض المعتدلة غرب القارات بين دائرتى عرض ٣٠° - ٤٥° شمال وجنوب الاستواء
الخصائص المناخية	يتميز بالدفء صيفا والبرودة شتاءً والأمطار الدائمة طول العام خاصة فى فصلى الشتاء والخريف	يتميز بالجفاف ارتفاع درجة الحرارة خلال الصيف وسقوط الأمطار والدفء خلال الشتاء
الخصائص النباتية	تنمو به الغابات النفضية	ينمو بها غابات البحر المتوسط وتنمو في الجنوب حشائش الاستبس

إجابة السؤال العاشر:

١- البحر المتوسط

٢- جبال أطلس

٣- جبال البحر الأحمر

٤- جزيرة مدغشقر

٥- جبال دراكنزبرج

٦- مدار السرطان

٧- دائرة الإستواء

٨- مدار الجدي

٩- مضيق جبل طارق.

١٠- مضيق باب المنذب .

إجابة اختبار الوحدة الأولى

إجابة السؤال الأول:

- ١- هضبة البرازيل
- ٢- هضبة جيانا
- ٣- نهر الأمازون
- ٤- جبال الإنديز
- ٥- دائرة الاستواء
- ٦- مدار السرطان
- ٧- المحيط الهادى
- ٨- المحيط الأطلنطي

إجابة السؤال الثانى:

١. (إقليم المناخ الجبلي)
٢. (استراليا)
٣. (بحر قزوين)

إجابة السؤال الثالث:

١. هضبة البحيرات الاستوائية وهضبة أثيوبيا وهضبة جنوب أفريقيا.
٢. أمريكا الشمالية وأوروبا.

إجابة السؤال الرابع :

إقليم المناخ المعتدل شرق القارات	إقليم مناخ البحر المتوسط	
		أوجه الشبه
		يمتد بين دائرتى عرض ٣٠ ° - ٤٥ ° شمال وجنوب دائرة الاستواء - ارتفاع درجة الحرارة صيفا
		أوجه الاختلاف
- يقع شرق القارات - يسقط المطر طول العام - تنمو به غابات الإقليم الصينى وأهم أشجارها الصفصاف والبلوط	- يقع غرب القارات - يسقط المطر طوال العام - تنمو به غابات البحر المتوسط وحشائش الاستبس	

إجابة السؤال الخامس:

١. ضيق السهول الساحلية فى شرق استراليا بسبب اقتراب جبال الحاجز الكبير من المحيط الأطلنطي.
٢. تتدرج حشائش السافانا فى الطول بسبب اختلاف كمية المطر فكلما زادت كمية المطر زاد طول حشائش السافانا والعكس صحيح .
٣. يتميز حوض الأمازون بارتفاع درجة الحرارة طول العام وسقوط الأمطار لأنه يقع ضمن مناخ الإقليم الاستوائي.

إجابة السؤال السادس:

١. (المناخ الاستوائي)
٢. (مدغشقر)
٣. (الإستبس)
٤. (أطلس)
٥. (إندونيسيا)

إجابة السؤال السابع:

١. (√)
٢. (×) تقع جبال دراكنزبرج أقصى الجنوب الشرق لقارة أفريقيا
٣. (√)
٤. (×) تنمو حشائش السافانا فى إقليم المناخ المدارى الحار
٥. (×) يعد نهر الفولجا أطول أنهار قارة أوربا

إجابات الوحدة الثانية

ج ١ -١ البلايستوسين. ٢-تتشابه في صفاتها الجسمية

٣-طول القامة - لون البشرة- شكل العين -شكل الأنف -حجم الرأس

٤-البشرة الداكنة -الأنف العريض-الشعر الأجدد الشفاه الغليظة.

ج٢: تترك للطالب تحت إشراف المعلم

ج٣: ١-خطأ ٢-خطأ ٣-صحيحة ٤-خطأ

ج٤: ١-ب ٢-ج ٣-ج ٤-ج ٥-أ

ج٥: تترك للطالب تحت إشراف المعلم

ج٦: ١-د. خصوبة التربة

٢-ج. قسوة المناخ ٣-أ. الهجرة غير الشرعية

ج٧: تترك للطالب تحت إشراف المعلم

ج٨: ١- خصوبة التربة ٢-ب- الخدمات

٣-أ. انخفاض مستوي الدخل ٤-ب. جنوب غرب آسيا

٣-د- سواحل البحر المتوسط.

ج٩: ١ . يقل عدد السكان في منطقة جبال البحر الأحمر بسبب وعورة السطح وندرة المياه .

٢ . ترتفع كثافة السكان في كينيا بسبب اعتدال المناخ.

ج١٠: ١ . يتركز السكان في السهل الأوروبي العظيم بسبب خصوبة التربة .

٢ . تتخفض الكثافة السكانية في شمال أوروبا بسبب البرودة الشديدة .

٣ . يتركز السكان في مناطق غرب أوروبا بسبب الصناعة .

٤ . الكثافة السكانية متوسطة في دول شرق أوروبا بسبب قلة الأمطار والموارد

الاقتصادية مقارنة بدول غرب أوروبا.

ج ١١- أ. الموارد الاقتصادية
٢- ب. الصناعة
٣- أ. الزراعة
٤- أ. الزراعة
٥- ج. قسوة المناخ .

ج ١٢: ١- سهول البمباس ٢ هضبة البرازيل
٣- سهول الأمازون الاستوائية وقمم الإنديز وهضبة بتاجونيا .
٤- البرازيل .

ج ١٣:

١- يتركز سكان استراليا علي السواحل الشرقية في المدن الكبرى مثل سيدني ، والمناطق الصناعية ، وسهول مري ودارلنج في الجنوب الشرقي.
٢- ينخفض التركيز السكاني في استراليا في الداخل والغرب والشمال.

ج ١٤: ١- قارة أفريقيا بمعدل نحو ٣٦ في الألف.

٢- من أسباب ارتفاع معدل المواليد : انتشار الأمية والفقر والاعتماد علي الزراعة البدائية والرعي ، وانتشار العادات والتقاليد السلبية ، والزواج المبكر .

٣- أقل قارات العالم في معدلات المواليد : قارة أوروبا بمعدل نحو ١١ في الألف.

ج ١٥: ١- أكثر قارات العالم في معدل الوفيات : قارة أفريقيا بمعدل نحو ١٢ في الألف .

٢- يرتفع معدل الوفيات بسبب : انخفاض مستوي المعيشة ، وانخفاض الرعاية الصحية ، والتلوث ، والحروب والكوارث.

٣- أقل قارات العالم في معدلات الوفيات هي قارة أمريكا الجنوبية بمعدل نحو ٦ في الألف.

٤- من أسباب انخفاض معدل الوفيات : ارتفاع مستوي المعيشة وارتفاع مستوي الرعاية الصحية .

ج ١٦: تترك للطلاب تحت إشراف المعلم.

ج ١٧: ١- ب مرتفع
٢- ج- معدل الوفيات

٣- ب. ألمانيا
٤- د. الدول المتقدمة .

ج ١٨: ١- استراليا
٢- أفريقيا

- ج ١٩ : ١- غرب أوروبا وأمريكا الشمالية ودول الخليج..
- ٢- تركيا والمكسيك ودول شرق أوروبا والأرجنتين وجنوب أفريقيا .
- ٣- الصين وإيران ومصر والمغرب والبرازيل .
- ٤- النيجر والكونغو .
- ٥- قوة العمل : عدد الأفراد في سن العمل والقادرين علي العمل ويعملون أو يبحثون عن عمل .

إجابات الوحدة الثالثة إجابة الاختبار القبلي

ج ١ :

١. رأس الرجاء الصالح
٢. أفريقيا
٣. رشيد
٤. نابليون بونابرت
٥. الشعب

ج ٢ :

١. (√)
٢. (√)
٣. (×) وعلمية أيضا
٤. (√)

ج ٣ :

- ١- ١٦
- ٢- البرتغاليين
- ٣- الالتزام
- ٤- الشريعة
- ٥- رفاة الطهطاوي

الدرس الأول مصر بين المماليك والعثمانيين

ج ١ :

١. مصر ، الشام ، الحجاز .
٢. الصفوية .
٣. السادس عشر .
٤. ١٥١٧م - الريدانية .
٥. سليم الأول - الوالى والديوان والحامية و إدارة الأقاليم .
٦. جالديران .
٧. طومان باى .
٨. بكوات المماليك .
٩. ٤ قرون .
١٠. السلطان العثمانى .
١١. الزراعة .
١٢. العلوم الشرعية .

ج ٢ :

١. × سليم الأول .
٢. √
٣. × الصفويين
٤. × الريدانية
٥. √
٦. √

ج ٣ :

١. جالديران .
٢. العراق .
٣. العلماء .
٤. محمد أبو الذهب .
٥. جنوب الشام .
٦. الحجاز .

ج ٤ . اذكر عملاً واحداً لشخصيات الآتية

الشخصية	أهم الأعمال
سليم الأول	تمكن من هزيمة الصفويين في موقعة جالديران ودخوله العاصمة تبريز
علي بك الكبير	من شيوخ البلد المماليك ولقب نفسه بسultan مصر واستقل بها عن الدولة العثمانية
علي بك الكبير	تحالف مع الشيخ ظاهر العمر حاكم جنوب الشام
محمد بك أبو الذهب	نائب علي بك الكبير الذي انحاز إلى السلطان العثماني وأزاح علي بك الكبير عن الحكم مصر .
طومان باي	قائد المماليك في معركة الريدانية انهزم من العثمانيين ١٥١٧م
قنصوى الغورى	قائد المماليك في معركة مرج دابق انهزم من العثمانيين ١٥١٦م

ج ٥: ما النتائج المترتبة على

١. استتبسل جنود عكا في الدفاع عن مدينتهم بقيادة احمد باشا الجزائر .
٢. رفض كليبر شروط الاستسلام- هاجم كليبر القوات العثمانية وأعادها متقهرة إلى الشام- استغل المصريون الفرصة وقاموا بثورة القاهرة الثانية.
٣. نجحت القوات الفرنسية في إخماد الثورة دمر الفرنسيون حي بولاق -قام كليبر بفرض الغرامات ومصادرة الأموال- قُتل كليبر في ١٤ يونيو ١٨٠٠م على يد سليمان الحلبي ، احد طلاب الأزهر .
٤. ١- قرر تحويل مصر إلى مستعمرة فرنسية كبرى ٢- وضع خطة إصلاحية في مجالات الزراعة والصناعة والتجارة والصحة والنظام القضائي.
٥. ١- معرفة اللغة المصرية القديمة ٢- التعرف على التاريخ المصري القديم.
٦. أدى ذلك إلى استبسال أهالي عكا وقتل ٤٠٠٠ مقاتل .
٧. عقد معاهدة العريش يناير ١٨٠٠م.

ج ٦: بم تفسر.....؟

- ١- لأنها نجحت في عهد السلطان محمد الفاتح والسلطان بايزيد الثانى فى السيطرة على الأناضول والبلقان.
- ٢- اكتشاف البرتغاليين طريق رأس الرجاء الصالح- اضطراب الأمن - التنافس المستمر بين المماليك- كثرة الفتن والثورات الداخلية .
- ٣- التدهور الاقتصادي - التنافس المستمر بين المماليك- كثرة الفتن والثورات الداخلية.

- ٤- -تأمين حدود الدولة العثمانية من ناحية المماليك - تأكيد الصبغة الدينية للدولة العثمانية بالاستيلاء على أراضي الحجاز - توسيع ممتلكات الدولة العثمانية في الشرق -السيطرة على الطرق البحرية والبرية التي تربط بين الشرق والغرب .
- ٥- -لتأكيد الصبغة الدينية للدولة العثمانية.
- ٦- -التفوق العسكري والعددي للجيش العثماني -اعتمد العثمانيون على أساليب القتال الحديثة والأسلحة المتطورة- انتظام الجيوش العثمانية في تشكيلات منظمة - عدم الاستقرار الداخلي والنزاع على السلطة في الدولة المملوكية - تفكك نظام الحكم المملوكي في مواجهة استقرار وقوة الدولة العثمانية.
- ٧- لان حكم العثمانيون كان جامداً راکداً.
- ٨- لأنهم لجأوا إلى الدين خاصة أن عقلية العصور الوسطى التي كانت سائدة في العالم العربي هي عقلية تعتمد على الحفظ والتلقين والاهتمام بالعلوم الشرعية والفقهية دون العلوم التطبيقية.
- ٩- انعدام الاجتهاد في الدين - اختفت روح الابتكار في العلم والأدب - سيطر على الفكر الجمود والتقليد دون تحكيم العقل.
- ١٠- لم يكن يملك الأرض بل كان يزرعها بحق الانتفاع - كان مُثقل بالضرائب المفروضة على الأراضي- عانى من التلاعب بالموازيين والمكايل- عانى من ظلم الملتزمين في جمع الضرائب.
- ١١- بسبب عدم اهتمام الطبقة الحاكمة بتنظيم الري أو إقامة السدود وحفر الترعة .
- ١٢-التدهور الزراعي -إرسال السلطان سليم الأول الصناع المهرة إلى عاصمة الدولة العثمانية.
- ١٣-تدهور الزراعة والصناعة- افتقاد الأمن -عدم الاهتمام بطرق التجارة البرية ٤- الإغارات المتلاحقة لبدو الصحراء -الاكتشافات الجغرافية وتحطيم الأسطول المصري عام ١٥٠٩ - منح الدولة العثمانية الامتيازات الأجنبية والجمركية للدول الأوروبية .
- ١٤-حيث اقتصر التعليم فيه على العلوم الشرعية.
- ١٥-بسبب العزلة التي فرضها العثمانيون على البلاد.
- ١٦- قصر مدة حكم الوالي - زيادة سلطة الديوان والحامية العسكرية - ضعف الدولة العثمانية أواخر القرن ١٧ .
- ١٧-لان محمد بك أبو الذهب انحاز للسلطان العثماني وأنفق معه ضد على بك الكبير .

ج٧: ماذا يحدث إذا.....؟

- ١- عدم دخول العثمانيين القاهرة - ظلت دول المماليك في مصر - لم تصبح مصر ولاية عثمانية.
- ٢- لم يدخل سليم الأول العاصمة تبريز.
- ٣- ظلت تجارة الشرق في أيدي المماليك - عدم الانهيار الاقتصادي لدولة المماليك - ظلت دولة المماليك قوية عسكرياً.
- ٤- لم تصبح مصر بعيدة عن المؤثرات الحضارية الحديثة في أوربا - عدم فرض العزلة عليها - لم تتسم الحياة الفكرية بالجمود والتخلف.
- ٥- عدم تأكيد الصبغة الدينية للدولة العثمانية .
- ٦- لم يصب العالم العربي بالجدب العلمي .
- ٧-١- نجحت حركة على بك الكبير ٢- استمر حكم على بك الكبير ٣- لم تصبح مصر ولاية عثمانية
- ٨- لما حدث الصدام العسكري بين الدولة العثمانية وكلاً من :الدولة الصفوية في إيران الدولة المملوكية في مصر والشام.ولظلت مصر تحت حكم المماليك.
- ٩- لما انتشر الدجل والشعوذة والخرافات والجهل.
- ١٠- لما حدث انقراض واضمحلال العديد من أنواع الصناعات مثل صناعات بناء السفن والمنسوجات الفاخرة ولما تدهورت الصناعة في مصر ولأستمر الازدهار.

ج٨: دلل على صحة العبارة التالية تاريخياً :-

- ١- هزيمتها من البرتغاليين في موقعة ديو البحرية ١٥٠٩م ثم هزيمتها من العثمانيين في موقعتي مرج دابق ١٥١٦م الريدانية ١٥١٧م.
- ٢- استطاع على بك الكبير التحالف مع ظاهر العمر حاكم جنوب الشام وإخضاع الحجاز لنفوذه.
- ٣- حيث أدت إلى انتهاء دولة المماليك في مصر والشام وأصبحت مصر ولاية عثمانية لمدة أربعة قرون.
- ٤- بسبب اكتشاف طريق رأس الرجاء الصالح وتحكمهم في تجارة الشرق مما أدى للتدهور الاقتصادي لدولة المماليك .
- ٥- حيث تدهورت الزراعة والصناعة والتجارة الداخلية والخارجية بسبب تحول الطريق التجاري بين الشرق والغرب إلى طريق رأس الرجاء الصالح والضرائب المفروضة على مصر من قبل السلطان وإهمال الحكام أمر تنمية الموارد أو صيانتها.

٦- أخضعوا شبه الجزيرة العربية- بسطوا نفوذهم على البحر الأحمر والسواحل العربية المطلة على المحيط الهندي والخليج العربي- قاموا بغزو العراق وضم أراضيه إلى أملاك الدولة العثمانية٤- قاموا بحماية الشواطئ العربية على المحيط الهندي من خطر البرتغالي.

٧- قصر مدة حكم الوالي - زيادة سلطة الديوان والحامية العثمانية.

٨- استمر ٤ قرون - حول مصر إلى ولاية معزولة عن المؤثرات الحضارية الحديثة في أوروبا.

٩-١ اهتزت مكانة الأزهر العلمية وأقتصر التعليم فيه على العلوم الشرعية
٢- تدهورت الحياة الأدبية و لم يعد هناك اهتمام بالعلوم العقلية أو الرياضية أو الطبيعية

٣- انتشر الدجل والشعوذة والخرافات وشاع الجهل

ج٩: لمن تنسب الأعمال الآتية....؟

١- (البرتغاليون)

٢- (الدولة الصفوية)

٣- (جالديران)

٤- (ديو البحرية)

٥- (قنصوة الغورى)

٦- (سليم الأول)

٧- (مرج دابق)

٨- (الريدانية)

٩- (الوالى)

١٠- (القلعة)

١١- (على بك الكبير)

١٢- (ظاهر العمر)

١٣- (محمد أبو الذهب)

ج١٠: رتب الأحداث التالية ترتيباً تنازلياً من القديم للحديث

١- اكتشاف طريق رأس الرجاء الصالح ١٤٩٨م -موقعة ديو البحرية ١٥٠٩م- موقعة جالديران

١٥٠١٤ م - موقعه مرج دابق ١٥١٦م.

٢- موقعة ديو البحرية ١٥٠٩م - موقعة الريدانية ١٥١٧م - حركة على بك الكبير ١٧٦٨م.

الدرس الثاني

الحملة الفرنسية (١٧٩٨م - ١٨٠١م)

ج١:

١. نابليون بونابرت
٢. طولون
٣. الإسكندرية
٤. محمد كريم
٥. مراد بك
٦. الصعيد
٧. عمر مكرم
٨. أحمد باشا الجزار
٩. موقعة أبي قير البحرية
١٠. إنجلترا
١١. شامبليون
١٢. فرنسا
١٣. بوشار

ج٢: ضع علامة (✓) أمام العبارة الصحيحة أو (×) أمام العبارة غير الصحيحة مع التصويب:

١. ✓
٢. ✓
٣. ✓
٤. × الأسلحة التقليدية
٥. ✓
٦. ✓
٧. × فشل الفرنسيون في إخضاع الصعيد
٨. ✓
٩. ✓
١٠. × صعبت مذبحه يافا البشرية على نابليون الاستيلاء على عكا.

ج ٣: اختر الإجابة الصحيحة مما بين الأقواس:-

١. موقع مصر
٢. فك رموز الكتابة المصرية
٣. كليبر
٤. محمد كريم
٥. طولون
٦. القاهرة
٧. معركة أبو قير البحرية
٨. الجامع الأزهر
٩. عكا
١٠. أبو قير البرية
١١. بولاق
١٢. كليبر
١٣. سليمان الحلبي

ج ٤: بم تفسر

- ١- لدراسة أحوال مصر من جميع النواحي - كيفية استغلال موارد مصر.
- ٢- لطبع المنشورات للأهالي .
- ٣- بسبب اعتماد المماليك على الفروسية واعتماد الفرنسيين على الأسلحة الحديثة.
- ٤- إتباع أهالي الصعيد حرب المناوشات والمعارك المتفرقة على طول الوادي (وادي النيل) مما أجهد الفرنسيين.
- ٥- فرض نابليون الضرائب الفادحة وخاصة على التجار- قيام الفرنسيين بتفتيش البيوت واقتحام الدكاكين بحثا عن الأموال- هدم أبواب الحارات والدروب لمطاردة عناصر المقاومة - هدم المباني والآثار والمساجد بحجة تحصين القاهرة .
- ٦- رغبة نابليون فى القضاء على الجيش العثماني قبل وصوله مصر- رغبة نابليون فى السيطرة على موانئ الشام .
- ٧- لان وصلت رسالة لنابليون توضح المتاعب التي تواجهها فرنسا بعد قيام حرب تحالفت فيها أوروبا ضد فرنسا.
- ٨- تناقص أعداد الجيش الفرنسي بسبب المعارك الداخلية والخارجية- أرسلت الدولة العثمانية حملتين من العريش ودمياط- عودة المماليك للمقاومة مرة أخرى - تجدد ثورات

المصريين في الشرقية ووسط وغرب الدلتا .

٩- رفضت الحكومة البريطانية الاتفاق، وطلبت استسلام الجيش الفرنسي.

١٠- استغلال المصريين خروج كليبر لمطاردة الأتراك بالشام - ضيق الزعماء المصريين بالوجود الفرنسي بعد فشل معاهدة العريش-تدهور الأحوال الاقتصادية بسبب فرض الضرائب.

١١- حيث اصطحب نابليون بوناپرت مع الحملة مجموعة كبيرة من العلماء في مختلف المجالات- عمل نابليون على تنظيم أمور الإدارة والحكم في مصر مثل فرنسا بعد الثورة الفرنسية - محاولة شق قناة تربط بين البحرين الأحمر والمتوسط و لم تنجح بسبب خطأ في الحسابات - تأليف كتاب وصف مصر- العثور على حجر رشيد ومعرفة اللغة المصرية القديمة.

١٢- بسبب خطأ في حسابات مستوى مياه البحرين.

١٣- لأنه تناول كل النواحي الاجتماعية والاقتصادية والثقافية والفنون المصرية .

١٤- بهدف تدريب الأعيان والعلماء المصريين على نظام مجالس الشورى من حيث الاستشارة وتلقى الآراء فيما يعود على الأهالي بالنفع.

ج ٥ : أيد صحة العبارات الآتية:

- ١- قاموا يدافعون عن وطنهم بالمال والسلاح والأرواح - بعد خروج الحملة الفرنسية من مصر تمسك المصريون بحقهم في الحرية و تقرير مستقبل بلادهم، واختيار حاكمهم.
- ٢- لأنه تناول كل النواحي الاجتماعية والاقتصادية والثقافية والفنون المصرية القديمة.
- ٣- حيث أصطحب نابليون بوناپرت مع الحملة مجموعة من العلماء في مختلف المجالات - عمل نابليون على تنظيم أمور الإدارة والحكم في مصر مثل فرنسا بعد الثورة الفرنسية .

ج ٦ : أكمل بيانات الجدول التالي:

م	اسم الشخصية	العبرة الدالة علي صاحب الشخصية
١	محمد كريم	تزعّم أهالي الإسكندرية في مواجهة الحملة الفرنسية حيث كان حاكماً لها واعدم رمياً بالرصاص .
٢	مراد بك	فر الي الصعيد بعد هزيمة قوات المماليك في معركة امبابة .
٣	إبراهيم بك	هرب ومعه الوالي العثماني الي الشام بعد هزيمة المماليك في معركة امبابة .

٤	نلسون	قائد الأسطول الإنجليزي الذي دمر الأسطول الفرنسي في موقعة أبي قير البحرية.
٥	نابليون	أرتكب مذبحه بشرية بشعة بإعدامه أفراد حامية أفراد يافا.
٦	كلبير	نائب نابليون الذي قاد الحملة بعد رحيله سرا إلي فرنسا عام ١٧٩٩ م .
٧	عمر مكرم	زعيم ثورة القاهرة الثانية الذي كان مركزها حي بولاق ونقيب الأشراف.
٨	سليمان الحلبي	أحد طلاب الأزهر الشريف وقد أستطاع قتل كلبير في ١٤ يونيه عام ١٨٠٠م.
٩	مينو	تولي قيادة الحملة الفرنسية في مصر بعد مقتل كلبير وكان ينوي الإقامة في مصر وتحويلها الي مستعمرة فرنسية كبري .
١٠	بوشار	ضابط فرنسي من ضابط الحملة الفرنسية أكتشف حجر رشيد عام ١٧٩٩م
١١	احمد باشا الجزار	قائد جنود عكا ضد القوات الفرنسية بمساعدة الإسطول البريطاني

ج٨: ماذا يحدث إذا.....؟

١. لم تفقد فرنسا اتصالها بالحملة الفرنسية - لم يعتمد نابليون على موارد مصر لإعادة بناء الأسطول المحطم.
٢. لم تصل القوات الفرنسية للقاهرة وتحتلها.
٣. لالتقت بالأسطول الإنجليزي ودارت بينهم معركة - لم تتمكن الحملة الفرنسية من الوصول لمصر.
٤. طرد الفرنسيين من القاهرة.
٥. لم يتم دراسة مصر جغرافيا وتاريخيا.
٦. خروج الحملة الفرنسية من مصر.
٧. احتلاله للشام.
٨. لم تنجح الحملة في دخول مصر وحكمها.
٩. لن يتم دراسة أحوال مصر وعمل كتاب وصف مصر واكتشاف حجر رشيد ومشروع ربط البحرينالخ.

ج ٩: ما المقصود بكلاً من؟

١. رفض الشعوب للاحتلال ومظاهره ودفاعه عن البلاد بمختلف الوسائل.
٢. رحيل قوات الاحتلال عن البلد المحتل.

ج ١٠: لمن تنسب الأعمال الآتية.....؟

١. (نابليون بونابرت)
٢. (طولون)
٣. (محمد كريم)
٤. (شيرازيت)
٥. (موقعة أبي قير البحرية)
٦. (نلسون)
٧. (الأزهر الشريف)
٨. (مذبحه يافا البشرية)
٩. (أحمد باشا الجزائر)
١٠. (إنجلترا)
١١. (أبي قير البرية)
١٢. (كليبر)
١٣. (إتفاقية العريش)
١٤. (إنجلترا)
١٥. (عمر مكرم)
١٦. (حي بولاق)
١٧. (سليمان الحلبي)
١٨. (مينو)
١٩. (بوشار)
٢٠. (نابليون)

المقارنة	الحملة الفرنسية على مصر	الحملة الفرنسية على الشام
الأسباب	<ul style="list-style-type: none"> * الاستفادة من موقع مصر الإستراتيجي * تعويض فرنسا عن فقدان مستعمراتها في الهند وكندا * استغلال موارد مصر المادية والبشرية * قطع الطريق بين إنجلترا ومستعمراتها في الهند 	<ul style="list-style-type: none"> * القضاء على الجيش العثماني قبل وصوله مصر * الاستيلاء على موانئ الشام ليحرم الأسطول البريطاني من التزود منها
النتائج	<ul style="list-style-type: none"> * نمو الروح القومية * مشروع توصيل البحرين المتوسط والأحمر بقناة * تأليف كتاب وصف مصر * اكتشاف حجر رشيد * توجيه أنظار الدول الأوروبية لأهمية موقع مصر * أنشأ نابليون الديوان العام ودواوين القاهرة والأقاليم 	<ul style="list-style-type: none"> * الاستيلاء على العريش وغزة و يافا * فشل نابليون في دخول عكا * هزيمة العثمانيين في معركة (أبي قير البرية) * اضطر نابليون إلي العودة لمصر

ج ١٢: رتب الأحداث التالية ترتيبا تنازليا فيما يلي :-

- ١- موقعة أبي قير البحرية أغسطس ١٧٩٨م - الحملة الفرنسية على الشام فبراير ١٧٩٩م - اتفاقية العريش ١٨٠٠م - ثورة القاهرة الثانية مارس - ابريل ١٨٠٠م.
- ٢- موقعة إمبابة يوليو ١٧٩٨م - ثورة القاهرة الأولى أكتوبر ١٧٩٨م - موقعة ابي قير البرية يوليو ١٧٩٩م - رحيل الحملة الفرنسية ١٨ سبتمبر ١٨٠١م.

الدرس الثالث

ثورة الشعب المصري وتولية (محمد على)

ج ١: ضع علامة (✓) أمام العبارة الصحيحة أو (×) أمام العبارة غير الصحيحة مع التصويب:

١. × لتأمين طرق مواصلاتها فى الهند
٢. × فى رشيد
٣. ✓

ج ٢: اختر الإجابة الصحيحة مما بين الأقواس

١. خورشيد.
٢. محمد بك الألفي.
٣. مذبحه القلعة.
٤. رشيد والحماد.
٥. ثورة مارس ١٨٠٤م.
٦. العسكرية.

ج ٣: أكتب ما تشير إليه العبارات الآتية

١. (قوله)
٢. (خورشيد)
٣. (محمد الألفي)
٤. (سالونيك)
٥. (عمر مكرم)
٦. (مذبحه القلعة)

ج ٤: بم تفسر.....؟

١. لأنه بعد خروج الحملة الفرنسية انضم (محمد على) إلى العلماء والمشايخ بمصر وأختلط بالأهالي -تعهد للعلماء ببذل قسارى جهده لرفع المظالم عن الناس -أمر جنوده الألبان باحترام للمصريين.
٢. بسبب الصراعات بين المماليك والعثمانيين وانجلترا ورغبة كل منهم فى الاستئثار بحكم مصر والسيطرة عليها.

٣. لعزل خورشيد وتعيين (محمد على) بدلا منه.
٤. عجزه عن دفع رواتب الجنود المتأخرة - فرض الضرائب على الأهالي.
٥. أنضم إلى العلماء والمشايخ وأختلط بالأهالي الغاضبة - تعهد للعلماء بأن يبذل قسارى جهده لرفع الضرائب عن الناس.
٦. لأن فى هذا اليوم اجتمع زعماء الشعب بدار المحكمة (بيت القاضي) وقرروا عزل الوالى العثمانى (خورشيد باشا) وتعيين (محمد على) بدلا منه.
٧. - لأنها تسعى لتولية محمد بك الألفى لكي تطمئن على مصالحها الاقتصادية .
٨. لكي ينفرد بحكم البلاد - لأنهم يمثلون احد عناصر الفساد في مصر ويقفون إمام تحقيق أهدافه - مصدر للقلق والفوضى.
٩. مقاومة الشعب المصري فى رشيد والحماد -عدم مساعدة المماليك لبريطانيا بسبب وفاة محمد بك الألفى- حصار (محمد على) مدينة الإسكندرية.
١٠. قوة الزعامة الشعبية ودورها فى توليته الحكم -القيود التى فرضتها عليه عند قبول الولاية -رغبة (محمد على) فى أن ينفرد بالحكم دون وصاية أو رقابة شعبية.
١١. ارتفاع مكانة عمر مكرم بين الناس -اخذ منافسوه يدسون له عند (محمد على).
١٢. لأنهم كانوا أحد عناصر الفساد ومصدر القلق والفوضى - ولكي ينفرد بالحكم.

ج ٥: ماذا يحدث إذا؟

١. لم يقم الشعب بثوره ضد خورشيد باشا.
٢. اذا استطاع المماليك الهروب من القلعة فى مارس ١٨١١م لم يتم التخلص من المماليك.
٣. استمر خطر المماليك على حكم (محمد على) لمصر - استمروا كمصدر للقلق والفوضى والفساد.
٤. احتلال إنجلترا لمصر بعد تعيين الألفى واليا على مصر.
٥. لم يتم تثبيت (محمد على) على حكم مصر.
٦. لم ينجح (محمد على) فى الانفراد بحكم البلاد وتحقيق طموحه فى جعلها من مصاف الدول الأوروبية الحديثة.
٧. لم يصبح (محمد على) واليا على مصر.

الدرس الرابع (محمد على) وبناء مصر الحديثة

ج ١: أكمل العبارات الآتية بكلمات مناسبة فيما يلي:-

١. الالتزام .
٢. الاحتكار.
٣. الأسلحة - العزل والنسيج - الورق.
٤. رفاة رافع الطهطاوي وعلى باشا مبارك.
٥. بولاق - الوقائع المصرية.
٦. أسوان
٧. نفارين - اليونان
٨. الشام

ج ٢: ضع علامة (✓) أمام العبارة الصحيحة أو (×) أمام العبارة غير الصحيحة مع التصويب:

١. ✓
٢. × تدخلت الدول الأوروبية فى الصراع
٣. × سبع
٤. ✓
٥. ✓
٦. × السودانين

ج ٣:

١. علماء الأزهر
٢. البدو
٣. رفاة الطهطاوي
٤. الأحمر
٥. شبه الجزيرة العربية
٦. الدول الأوروبية
٧. التجارة

ج ٤: أكتب ما تشير إليه العبارات الآتية

١. (الاحتكار)
٢. (محمد على)
٣. (البدو)
٤. (كلوت بك)
٥. (محمد على)
٦. (الكولونيل سيف)
٧. (حروب الجزيرة العربية)
٨. (الدعوة الوهابية)
٩. (ثوار المورة)
١٠. (نفارين)
١١. (كريت)
١٢. (الخرطوم)

ج ٥: بم تفسر.....؟

١. لأنه أدرك أن نهضة مصر لن تتحقق إلا من خلال بناء دولة قوية تأخذ بأساليب المدنية الحديثة في الغرب .
٢. لتساعده في تحقيق طموحاته في بناء دولة حديثة مثل الدول المتقدمة .
٣. ليضمن الدخول في سوق التجارة الدولية منافسا لغيره من الدول.
٤. لزيادة الإنتاج الزراعي .
٥. لتحويل أراضي الوجه البحري إلى نظام الري الدائم بدلا من ري الحياض.
٦. لتوفير اكبر قدر من الدخل من الإنتاج الزراعي.
٧. لدراسة فنون الصناعة المختلفة وترجمة الكتب الصناعية.
٨. موقع مصر المتميز -وفرة المواد الخام -تأمين طرق التجارة البرية والبحرية - حفر الترع والاهتمام بالموانئ المصرية .
٩. تمهيد الطرق البرية - بناء أسطول في البحرين الأحمر والمتوسط- إصلاح الموانئ وخاصة ميناء الإسكندرية -تطهير البحر الأحمر من القرصنة .
١٠. لأنها أدت لاختفاء قوى كانت بارزة في العهد العثماني وظهرت قوى جديدة.
١١. النهوض بالزراعة والصناعة.

- ١٢ . لحاجته إلى موظفين لسد حاجة المصالح الحكومية -فنيون ومتخصصون فى مختلف الفروع لسد حاجة الجيش والأسطول .
- ١٣ . لتدريب المصريين على النظام الحديث.
- ١٤ . لتخريج ضباط عسكريين.
- ١٥ . لصناعة السفن الحربية والتجارية.
- ١٦ . لتصنيع الأسلحة والمدافع والبارود.
- ١٧ . انتهاء نفوذ المماليك وعلماء الأزهر وتدهور طبقة التجار وظهور طبقة أسرة (محمد على) والأعيان والتجار الأجانب والبدو .
- ١٨ . لان الكولونيل سيف احد ضباط جيش نابليون ويملك خبره ودراية من أوروبا.
- ١٩ . لطبيعتهم المتمردة.
- ٢٠ . للدفاع عن البلاد.
- ٢١ . للقضاء على الدعوة الوهابية التي تنسب إلى محمد بن عبد الوهاب لتهديدهم نفوذ الدولة العثمانية في شبة الجزيرة العربية.
- ٢٢ . للقضاء على ثوار المورة الذين طالبوا بالاستقلال عن الدولة العثمانية .
- ٢٣ . بسبب وقوف القوى الأوروبية بجانب ثوار المورة .
- ٢٤ . لان الدول الأوروبية تفاوضت مع (محمد على) مباشرة لإنهاء الحرب.
- ٢٥ . لأسباب سياسية واقتصادية وعسكرية .
- ٢٦ . تفاوض (محمد على) مع القوى الأوروبية لتأمين انسحاب الجيش المصري من المورة - تصميم " محمد على " على الانفصال والاستقلال بمصر .
- ٢٧ . انتصارات (محمد على) وتهديده للسلطان العثماني -خوفا من ازدياد نفوذ (محمد على) وقوته وما تمثله من خطر على التوازن الدولي.

ج٦: ما النتائج المترتبة على.....؟

- ١ . ساعدته في تحقيق طموحاته الهادفة إلى بناء دولة حديثه مثل الدول المتقدمة.
- ٢ . بدأ الناس ينظرون إليه كرجل عادل يكره الظلم -كسب عطف الشعب وثقة الزعماء- قرر الزعماء اختياره والياً على مصر .
- ٣ . - أدى ذلك إلى ١- طبع الكتب اللازمة للمدارس ٢- طبع الكتب الأدبية والفنية - إصدار صحيفة الوقائع المصرية.
- ٤ . - أثبت المصريون كفاءتهم فى - الانتظام في التدريب ٢- إطاعة الأوامر العسكرية - فى ميادين القتال الخارجية .

٥. أنشأ ترسانة في القلعة لتصنيع الأسلحة والمدافع والبارود - أنشأ القلاع والاستحكامات اللازمة للدفاع عن البلاد في الإسكندرية ورشيد ودمياط.
٦. أدى ذلك إلى إعادة تنظيم الإدارة إلى سبع دواوين وتحديد اختصاصاتها.
٧. أدت إلى سيطرته على الجزيرة العربية .
٨. ١- امتداد النفوذ المصري إلى جنوب السودان ٢- إنشاء العاصمة الخرطوم - اكتشاف منابع النيل والوصول إلى أواسط إفريقيا (في عصر إسماعيل).
٩. وصلت القوات المصرية إلى الشام وأعلى الفرات - امتد النفوذ المصري في بلاد الشام - تدخلت الدول الأوروبية وفرضت معاهدة لندن ١٨٤٠م.

ج٧: ماذا يحدث إذا.....؟

١. استمرت فتوحات (محمد على).
٢. لم ينسحب (محمد على) ويعقد صلح مع الدول الأوروبية.
٣. لم ينافس التجارة الدولية.
٤. لم تتم النهضة التعليمية في مصر.
٥. دخول (محمد على) في منازعات مع الدولة العثمانية والدول الأوروبية.
٦. لم يتم طبع الكتب المدرسية والأدبية والصحف.
٧. لم ينجح في بناء القوة العسكرية في مصر.

ج٨: دلل على صحة العبارات الآتية:

١. حيث قام بـ بإحلال أساليب زراعية حديثة لزيادة الإنتاج الزراعي - الاهتمام بالتعليم الزراعي حيث أنشأ مدرسة الزراعة استقدم خبراء زراعيين من الخارج - تحسين طرق الري فأنشأ العديد من القناطر على النيل أهمها القناطر الخيرية أدخل أنواع جديدة من المحاصيل.
٢. حيث قام بـ: تمهيد الطرق البرية - بناء أسطول في البحر الأحمر والمتوسط - إصلاح الموانئ خاصة الإسكندرية - تطهير البحر الأحمر من القرصنة.
٣. حيث أسس ترسانة في بولاق ثم في الإسكندرية لصناعة السفن الحربية والتجارية كما زود الترسانة البحرية بكافة أنواع الأسلحة - أعد أماكن لتدريب وتعليم البحارة والجنود على الأعمال البحرية.

٤. قام بإقامة المصانع الحكومية وذلك لتوفير الصناعات المطلوبة - جمع الصببية للعمل في مصانع الدولة بأجور رمزية- الاستعانة بالخبرات الأجنبية - إرسال بعثات للخارج لدراسة مختلف فنون الصناعة- ترجمة الكتب الخاصة لفنون الصناعة المختلفة.
٥. حيث اهتم (محمد على) بالتعليم فقام بإنشاء المدارس المختلفة من مدارس ابتدائية وتجهيزية وعالية -إرسال البعثات العلمية إلى أوروبا - الاستعانة بالأساتذة الأجانب - إنشاء المطبعة الأميرية.
٦. أدت على اختفاء قوى اجتماعية مثل انتهاء نفوذ المماليك كهيئة حاكمة - تدهور طبقة التجار واختفاء الشخصيات التجارية الكبيرة - تضاعف نفوذ علماء الأزهر والقيادات الشعبية - ظهور قوى اجتماعية جديدة مثل ظهور أسرة (محمد على) كهيئة حاكمة وبعض العناصر التركية - ظهور طبقة التجار الأجانب - طبقة الأعيان - عمال الصناعة - البدو كقوة اجتماعية.
٧. ضم (محمد على) جزيرة كريت لولاية مصر - علو مكانة مصر دولياً.

ج٩: ما المقصود بكل من ؟.. :

١. الاحتكار: أن تقوم الحكومة ممثلة في (محمد على) بتحديد نوع الغلات التي تزرع ونوع المصنوعات التي تنتج وتحديد أثمان شرائها من المنتجين وأثمان بيعها في السوق.

ج١٠:

حروب الجزيرة العربية	حروب السودان	حروب اليونان	حروب الشام
للقضاء على الدعوة الوهابية لتهديدهم نفوذ الدولة العثمانية	لأسباب سياسية واقتصادية وعسكرية	للقضاء على ثوار المورة الذين طالبوا بالاستقلال عن الدولة العثمانية	تصميم محمد على في الانفصال والاستقلال بمصر
السيطرة على الجزيرة العربية	امتداد النفوذ المصرى إلى جنوب السودان - اكتشاف منابع النيل - إنشاء مدينة الخرطوم الوصول إلى أواسط أفريقيا	ضم جزيرة كريت- علو مكانة مصر دولياً	وصول القوات المصرية إلى الشام وأعلى الفرات امتداد النفوذ المصرى في بلاد الشام

ج ١١:

١. اعتمد (محمد على) على نظام الاحتكار فى الزراعة والصناعة والتجارة لىضمن الدخول فى سوق التجارة الدولية منافساً لغيره من الدول.
٢. طبق (محمد على) نظام الاحتكار فى التجارة عن طريق تسويق الحاصلات الزراعية بعد شرائها وجمعها فى المخازن - البيع للتجار الأجانب فى مصر - البيع فى الخارج لحساب الحكومة المصرية - احتكار تجارة الواردات.
٣. متروك للطالب.

ج ١٢:

- ٤- لم يعتمد (محمد على) على الجنود الألبان فى الجيش لطبيعتهم المتمردة ومحاولتهم قتله عام ١٨١٥م.
- ٥- متروك للطالب.
- ٦- الحروب التى خاضها (محمد على) منقسمة لحروب بناء على طلب السلطان العثماني فى الجزيرة العربية واليونان وحروب تمت بإرادة محمد على فى السودان والشام.

إجابات مراجعه الوحدة الثالثة

ج ١:

- ١- ✓
- ٢- ✓
- ٣- ✓
- ٤- × الأسلحة التقليدية
- ٥- ✓
- ٦- × فشلت القوات الفرنسية إخضاع أهالي الصعيد
- ٧- ✓
- ٨- ✓
- ٩- ✓
- ١٠- × عمر مكرم
- ١١- ✓
- ١٢- ✓
- ١٣- ✓
- ١٤- ✓
- ١٥- × قل نفوذ علماء الأزهر والقيادات الشعبية في عهد (محمد على)
- ١٦- ✓
- ١٧- ✓
- ١٨- ✓
- ١٩- × بولاق
- ٢٠- × دخل (محمد على) حروب اليونان بناء على طلب السلطان العثماني
- ٢١- × حرب الجزيرة العربية

ج ٢:

- ١- المشرق العربي.
- ٢- المماليك - الصفوية
- ٣- سليم الأول - جالديران.
- ٤- رأس الرجاء الصالح - ١٤٩٨م.
- ٥- ديو البحريه - ١٥٠٩م.
- ٦- سليم الأول - قنصوه الغورى - مرج دابق.
- ٧- طولون.

- ٨- العلماء.
- ٩- العلماء - الأرواح والأموال.
- ١٠- نلسون - الفرنسي - أبى قير البحرية.
- ١١- كر وفر (المناوشات).
- ١٢- كليبر.
- ١٣- العثمانيين - العريش.
- ١٤- وصف مصر - حجر رشيد.
- ١٥- بوشار .
- ١٦- الإنجليز - المماليك - العثمانيين.
- ١٧- خورشيد - محمد على.
- ١٨- الاحتكار.
- ١٩- غزل ونسيج - بارود - أسلحه - صابون.
- ٢٠- الإسكندرية.
- ٢١- المماليك.
- ٢٢- نفارين.
- ٢٣- لندن.

ج ٣ :

- ١- اكتشاف طريق رأس الرجاء الصالح.
- ٢- اللجوء لنظام الالتزام - عدم الاهتمام بحفر الترغ وإقامة السدود.
- ٣- استخدامهم للأسلحة التقليدية.
- ٤- ضعف الدولة العثمانية - رغبة المماليك الإنفراد بحكم مصر.
- ٥- خيانة محمد بك أبو الذهب - انحياز أبو الذهب للسلطان العثماني.
- ٦- تدهور الزراعة والصناعة والتجارة - الإغارات المتلاحقة لبدو الصحراء- الاكتشافات الجغرافية - تحطيم الأسطول المصرى.
- ٧- تعويض ما فقدته فرنسا من مستعمرات - تكوين مستعمره فرنسية فى مصر - قطع الاتصال بين إنجلترا ومستعمرتها فى الهند.
- ٨- دراسة أحوال مصر.
- ٩- عدم التخطيط الجيد - استخدام أسلحة تقليدية.
- ١٠- اعتماد نابليون على موارد مصر وفرض ضرائب عالية على المصريين.

- ١١- بسبب مقاومة الأهالي واستخدام تكتيك الكر والفر (المناوشات).
- ١٢- فرض نابليون ضرائب عالية.
- ١٣- بسبب مقاومة الأهالي.
- ١٤- بسبب قيام حرب تحالفت فيها أوروبا ضد فرنسا.
- ١٥- بسبب قتل عدد كبير من الجنود الفرنسيين في المعارك - اشتداد مقاومة المصريين وقيامهم بثورات ضد الوجود الفرنسي - التحالف العثماني الإنجليزي ضد الحملة.
- ١٦- بسبب تدخل إنجلترا ومطالبتها بانسحاب الفرنسيين من مصر كأسرى حرب.
- ١٧- لان الحملة الفرنسية لفتت أنظار العالم وبخاصة أوروبا لأهمية موقع مصر وموارد مصر.
- ١٨- بسبب تدخل إنجلترا وضغطها على السلطان العثماني لعزل (محمد على) وتولية الألفي بك بدلاً منه.
- ١٩- بسبب فرمان السلطان العثماني بتثبيت (محمد على) عام ١٨٠٦م على مصر.
- ٢٠- لينفرد بحكم مصر.
- ٢١- اهتمام (محمد على) بتمهيد الطرق - تأمين المواصلات من غزوات البدو - بناء أسطول تجارى - تطوير ميناء الإسكندرية.
- ٢٢- لتخريج موظفين وإداريين للعمل فى الدواوين.
- ٢٣- لأنها أساس بناء دولة مصر الحديثة.
- ٢٤- للتخلص من الحركة الوهابية.
- ٢٥- للقضاء على ثورة الموره ضد الوجود العثماني فى اليونان.
- ٢٦- خشية من ازدياد نفوذ (محمد على) وقوته وما تمثله من خطر ضد التوازن الدولي.

ج ٤ : ما النتائج المترتبة عن.....؟

- ١- التدهور الاقتصادي لدولة المماليك.
- ٢- سيطرة سليم الأول على تبريز عاصمة الدولة الصفوية.
- ٣- أصبحت مصر ولاية عثمانية.
- ٤- تحول مصر إلى ولاية مزولة عن المؤثرات الحضارية فى أوروبا - أصيبت بالجذب العلمي - اختفت روح الابتكار فى العلم والأدب.
- ٥- تحطم الأسطول المملوكي - هزيمة المماليك.
- ٦- فشل حركة على بك الكبير.

- ٧- دراسة أحوال مصر - كتاب وصف مصر - اكتشاف الكتابة المصرية القديمة بعد اكتشاف حجر رشيد.
- ٨- قطع الاتصال بين فرنسا والحملة الفرنسية في مصر.
- ٩- دخول نابليون الجامع الأزهر بالخيول - إعدام الأهالي والثوار - فرض الغرامات على التجار والعلماء - تحصين القاهرة من قبل القوات الفرنسية.
- ١٠- فشل نابليون في دخول عكا.
- ١١- بقاء الحملة الفرنسية - اشتعال ثورة القاهرة الثانية.
- ١٢- تدمير حى بولاق - فرض الغرامات - مصادرة الأموال.
- ١٣- فك رموز الكتابة المصرية القديمة.
- ١٤- كسب (محمد على) عطف الشعب وثقة زعماءه وبدأ الناس ينظرون له كرجل عادل يكره الظلم.
- ١٥- حملة فريزر على مصر.
- ١٦- التخلص من المماليك - إنفراد (محمد على) بحكم مصر.
- ١٧- طباعة الكتب المدرسية - طباعة الكتب الأدبية والعلمية - طباعة الصحف مثل صحيفة الوقائع المصرية.
- ١٨- امتداد النفوذ المصرى لجنوب السودان - إنشاء العاصمة الخرطوم - اكتشاف منابع النيل.
- ١٩- هزيمة (محمد على) - تحطيم الأسطول المصرى فى موقعه نفارين - عقد (محمد على) اتفاقية لإنهاء الحرب عام ١٨٢٨م.
- ٢٠- تأمين انسحاب الجيش المصرى من المورة - توتر العلاقة بين (محمد على) والسلطان العثمانى.
- ٢١- تحالف السلطان العثمانى مع الدول الأوروبية - عقد معاهدة لندن ١٨٤٠م.

ج ٥ : اكتب ما تشير إليه العبارات التالية :

- ١- (الريدانية)
- ٢- (الحملة الفرنسية)
- ٣- (دمياط)
- ٤- (مذبحة القلعة)
- ٥- (إنجلترا)
- ٦- (فرمان)

ج ٦ : ماذا يحدث إذا؟

- ١- لم يعاني المماليك من تدهور اقتصادي.
- ٢- لم تتحول الشام إلى ولاية عثمانية.
- ٣- لم ينتهي حكم المماليك لمصر ولم تتحول مصر إلى ولاية تابعه للعثمانيين.
- ٤- أفرد المماليك بحكم مصر - انتهى الحكم العثماني لمصر.
- ٥- لم يعاني الفلاح من أعباء السخرة والضرائب العالية والفقر والمرض.
- ٦- لم يتحطم الأسطول الفرنسي - نجحت فرنسا في تكوين مستعمرة فرنسية في مصر وفي السيطرة على البحر المتوسط وفي قطع الطريق بين إنجلترا ومستعمراتها في الهند.
- ٧- نجاح غزو نابليون للشام - احتلال فرنسا للشام.

ج ٧ :

- ١- كان المجتمع المصري أثناء الحكم العثماني منقسم الى طبقتين وهما طبقة الحكام من العثمانيين والأتراك ولها كافة السلطات وطبقة المحكومين وهذه الطبقة تنقسم الى طبقه وسطي وطبقه دنيا.
- ٢- أدرك كليبر بعد رحيل نابليون استحالة بقاء القوات الفرنسية في مصر فقرر التفاوض مع الدولة العثمانية على الخروج بجنوده من مصر على نفقة الدولة العثمانية فيما عرف بمعاهدة العريش.
- ٣- تمثلت النتائج العلمية للحملة الفرنسية على مصر في كتاب وصف مصر - مشروع شق قناة تربط بين البحرين الأحمر والمتوسط - العثور على حجر رشيد .
- ٤- في ١٣ مايو ١٨٠٥م أجمع زعماء الشعب بدار المحكمة وقرروا عزل خورشيد باشا وتعيين (محمد على) وأخذوا عليه العهود والمواثيق ان يسير بالعدل وان لا يبرم امرا إلا بمشورتهم.

ج ٨ : متروك للطالب تحت إشراف المعلم.

- ج ٩ : ١- اكتشاف طريق رأس الرجاء الصالح ١٤٩٨م - موقعة جالديران ١٥١٤م - موقعه مرج دابق ١٥١٦م - موقعة أبي قير البحرية أغسطس ١٧٩٨م - الحملة الفرنسية على الشام فبراير ١٧٩٩م - اتفاقية العريش ١٨٠٠م - ثورة القاهرة الثانية مارس - ابريل ١٨٠٠م.
- ٢- موقعة ديو البحرية ١٥٠٩م - موقعة الريدانية ١٥١٧م - حركة على بك الكبير ١٧٦٨م - مجيئ الحملة الفرنسية ١٧٩٨م - ثورة القاهرة الأولى أكتوبر ١٧٩٨م - موقعة أبي قير البرية يوليو ١٧٩٩م - رحيل الحملة الفرنسية ١٨ سبتمبر ١٨٠١م.

إجابة امتحان على الوحدة الثالثة

ج ١ :

- ١- جنوب الشام.
- ٢- الريدانية.
- ٣- طولون .
- ٤- الاحتكار.

ج ٢ :

- ١- √
- ٢- × الأسلحة التقليدية.
- ٣- √
- ٤- × من اللغة الأوربية إلى العربية.

ج ٣ :

- ١- بسبب اكتشاف طريق رأس الرجاء الصالح - تحطم أسطول المماليك - النزاع على الحكم بين المماليك.
- ٢- خيانة نائبه محمد أبو الذهب وإعلان ولائه للسلطان العثماني.
- ٣- بسبب فرض نابليون الضرائب العالية على المصريين
- ٤- بسبب الضرائب الباهظة

ج ٤ :

- ١- هزيمة المماليك وتحطم الأسطول المملوكي.
- ٢- اكتشاف أسرار الكتابة المصرية القديمة.
- ٣- دخول الفرنسيين الجامع الأزهر بالخيول - تحصين القاهرة - فرض الغرامات .

ج ٥ :

- ١- المماليك
- ٢- مينو
- ٣- بولاق ثم الإسكندرية

ج ٦: متروك للطالب تحت إشراف المعلم.

ج ٧: الاحتكار: أن تقوم الحكومة ممثلة في (محمد على) بتحديد نوع الغلات التي تزرع ونوع المصنوعات التي تنتج وتحديد أثمان شرائها من المنتجين وأثمان بيعها في السوق .

إجابات الوحدة الرابعة
إجابة الاختبار القبلي للوحدة الرابعة

إجابة س ١ :

- ١- إبراهيم .
- ٢- دليسبس - سعيد.
- ٣- التدخل الأجنبي في شئون مصر.
- ٤- سيلان.
- ٥- مصطفى كامل.
- ٦- الاتفاق الودي.
- ٧- سعد زغول - مالطة.

إجابة س ٢ :

- ١- الخديو إسماعيل .
- ٢- محمد فريد.
- ٣- مصطفى النحاس باشا.

إجابة س ٣ :

- ١- مجلس الأمن.
- ٢- سعيد باشا.
- ٣- الآستانة.
- ٤- عصبة الأمم.

الدرس الأول
خلفاء (محمد على) وازدياد النفوذ الأجنبي

إجابة السؤال الأول : أكمل العبارات الآتية :

١- القاهرة والإسكندرية .	٢- اللائحة السعيدية.	٣- دليسبس .	٤- الإبراهيمية .
٥- القبلي .	٦- المحاكم القنصلية.	٧- صندوق الدين .	

إجابة السؤال الثاني : اكتب كلمة صح أو كلمة خطأ :

١- (خطأ) : سعيد باشا	٢- (صح)	٣- (خطأ) : مصانع السكر
٤- (صح)	٥- (صح)	٦- (خطأ) : كانت مجففة لمصر والمصريين

إجابة السؤال الثالث : بم تفسر :

- ١- بسبب :
 - إغلاق المدارس الابتدائية والتجهيزية ولم يبق من المدارس المتخصصة سوي المهندسخانة والطب .
 - ٢- لأنها أعطت الشركة العامة لحفر القناة الآتي :
 - تتنازل الحكومة المصرية مجاناً للشركة عن جميع الأراضي المطلوبة لإنشاء القناة المالحة وترعة المياه العذبة .
 - مد الامتياز ٩٩ سنة تبدأ من افتتاح القناة البحرية للملاحة .
 - يكون أربعة أخماس (٨٠%) العمال من المصريين .
 - تحصل مصر علي ١٥ % من صافي الأرباح مقابل الأراضي والامتيازات الممنوحة للشركة .
 - ٣- لأنه أراد - منع تجارة الرقيق - التوسع في الجنوب - السيطرة على منابع نهر النيل.
 - ٤- بسبب قيام الخديو إسماعيل ب :
 - إقصاء الوزيرين الأجبيين عن الوزارة المختلطة.
 - إصدار مرسوم في ابريل ١٨٧٩ بتسوية الديون طبقاً لما قرره اللائحة الوطنية (اللائحة الأساسية)

إجابة السؤال الرابع : ما النتائج المترتبة على :

- ١- أدى ذلك إلى: - أصبح للفلاح الحق في توريث الأرض الزراعية دون أن يمنحه الملكية القانونية الكاملة (حق الرقبة) وبالتالي اكتفي بحق الانتفاع .
- ٢- أدى ذلك إلى : - ازدياد التدخل الأجنبي في شئون مصر المالية .
- ٣- أدى ذلك إلى : - تدخل القضاة الأجانب في سلطة القضاء التشريعي المصري - انحيازها إلى الأجانب .
- ٤- ترتب على ذلك - تصدع الاستقلال الذي أراده الخديوي إسماعيل .
- ارتباك الحالة المالية للبلاد .
- ازدياد التدخل الأجنبي في شئون مصر

إجابة السؤال الخامس : لمن تنسب الأعمال:

١- عباس باشا الأول .	٢- الخديو إسماعيل .	٣- الخديو توفيق .
٤- سعيد باشا .	٥- دليبيسب	٦- نوبار باشا .

إجابة السؤال السادس : أكتب ما تشير إليه العبارات الآتية :

١- الامتيازات الأجنبية .	٢- المحاكم القنصلية .
٣- المحاكم المختلطة .	٤- صندوق الدين .

إجابة السؤال السابع : ماذا يحدث إذا ؟.....؟

- ١- لم ترتبك الحالة المالية للبلاد ولم يزداد التدخل الأجنبي في شئون مصر المالية .
- ٢- لم تتدخل إنجلترا وفرنسا لدى السلطان لعزل إسماعيل وتولية ابنه توفيق عام ١٨٧٩ م .

إجابة السؤال الثامن : برهن على صحة العبارات :

- ١- حيث - جعل التجنيد مدة الخدمة العسكرية سنة واحدة إجبارية للجميع - فتح باب الترقى أمام الضباط المصريين - اعتنى بالترسانة البحرية وبدأ بإصلاح السفن وتجديد الأسطول .
- ٢- حيث أقام العديد من المشروعات العمرانية الكبيرة ، مثل : إنشاء القصور (عابدين) وإنشاء دار الأوبرا ، وإقامة الجسور والكباري ، ومد أنابيب المياه إلي شوارع كثيرة وأدخل الإنارة بالغاز .
- ٣- حيث شهدت مصر العديد م التطورات الدستورية تمثلت في أسس الخديو إسماعيل مجلس شورى النواب عام ١٨٦٦ وتم تأليف نظام الوزارة المسئولة عام ١٨٧٨ م ووضع أول دستور في مصر عرف باللائحة الأساسية بهدف إقامة حياة دستورية سليمة .

الدرس الثاني
الحركة الوطنية والثورة العربية

إجابة السؤال الأول : أكمل العبارات الآتية:

١- رياض باشا .	٢- محمود سامي البارودي .	٣- عثمان رفقي .	٤- البارودي .	٥- الأستانة .
٦- كفر الدوار .	٧- محمد عبيد .	٨- عبد الله النديم .	٩- سيلان .	١٠- الاحتلال .

إجابة السؤال الثاني : أكتب كلمة (صح) أو كلمة (خطأ) :

	١- (خطأ): رفض الخديو توفيق اللائحة الأساسية لمجلس النواب .	٢- (صح) .	
٣- (خطأ): محمود سامي البارودي .	٤- (صح) .	٥- (صح) .	
٦- (خطأ): المذكرة المشتركة الثانية .	٧- (خطأ) : سمح لهم .	٨- (صح) .	
٩- (صح) .	١٠- (خطأ) : الإنجليزي .	١١- (صح) .	

إجابة السؤال الثالث : أختَر الإجابة الصحيحة :

١- كل ما سبق .	٢- البارودي .	٣- عثمان رفقي .
٤- البارودي .	٥- تركيا .	٦- النمل الكبير .

إجابة السؤال الرابع : أكتب ما تشير إليه العبارات الآتية :

١- احتلال .	٢- سيلان بالهند .
٣- راغب باشا	٤- أحمد عرابي .

إجابة السؤال الخامس : قارن بين :

من حيث النتائج	المذكرة المشتركة الأولى	المذكرة المشتركة الثانية
- استقالة وزارة شريف باشا	- استقالة وزارة البارودي .	
- تعيين وزارة البارودي (وزارة الثورة) .		

إجابة السؤال السادس : بم تفسر؟

١- بسبب

- ازدياد التدخل الأجنبي في شئون مصر .
- المؤثرات الفكرية الغربية التي أدت إلى نمو الوعي القومي والمطالبة بالدستور والحكم النيابي .

- سوء أحوال مصر الاقتصادية في عهد وزارة رياض باشا .

- اضطهاد عثمان رفقي باشا (ناظر الجهادية) للضباط المصريين وعدم ترفيتهم .

٢- عقد مؤتمر الآستانة ١٨٨٢م للنظر في المسألة المصرية.

٣- بسبب : - إصدار السلطان العثماني منشور بإعلان عصيان عرابي مما أدى إلى

إضعاف الروح المعنوية للمقاتلين المصريين .

٤- بسبب :

- عدم تكافؤ القوة العسكرية بين قوات الاحتلال البريطاني والقوات المصرية.

- تواطؤ إدارة شركة قناة السويس الأجنبية (دليسيبس) مع قيادة الجيش البريطاني

وتسهيل دخول الأسطول الحربي البريطاني مياه القناة .

- إصدار السلطان العثماني منشورًا بإعلان عصيان عرابي.

- عدم أدراك قيادة الثورة العرابية لأهمية التعبئة الشعبية لمساندة القوات المصرية في

معاركها .

- الظروف الدولية عام ١٨٨٢م لم تكن في صالح الحركات الوطنية.

إجابة السؤال السابع : ما النتائج المترتبة على؟

١- ترتب على ذلك - استجاب الخديو توفيق على مطالب الجيش فعزل عثمان رفقي وعين

محمود سامي البارودي بدلا من وزيرًا للجهادية .

٢- ترتب على ذلك أن : وافق الخديو توفيق مضطرا على مطالب الأمة والجيش وأسند

الخديو الوزارة لي شريف باشا .

٣- ترتب على ذلك - إضعاف الروح المعنوية للمقاتلين المصريين وكان ذلك سبب في

هزيمتهم بمعركة التل الكبير.

إجابة السؤال الثامن : ماذا يحدث إذا؟

١- لم تضعف الروح المعنوية للجيش ولم يهزم عرابي في معركة التل الكبير.

٢- لم يدخل الجيش البريطاني القاهرة ولم يبدأ الاحتلال البريطاني لمصر.

الدرس الثالث الكفاح الوطني ضد الاحتلال البريطاني

إجابة السؤال الأول : أكمل العبارات الآتية .

١- المعتمد البريطاني .	٢- مجلس شورى القوانين - الجمعية العمومية - الجمعية التشريعية .	٣- مصطفى كامل .	٤- الجلاء والدستور .
٥- الاتفاق الودى .	٦- محمد فريد .	٧- العمال .	٨- الوطني .

إجابة السؤال الثاني : اكتب كلمة (صح) أو كلمة (خطأ) :

١- (صح) .	٢- (خطأ): تخدم مصالحها .	٣- (خطأ): اللواء .
٤- (صح) .	٥- (صح) .	٦- (خطأ): مصطفى كامل .

إجابة السؤال الثالث : إلى من تنسب الأعمال الآتية :

١- اللورد كرومر .	٢- الخديو عباس حلمى الثاني .
٣- محمد فريد .	٤- مصطفى كامل .
	٥- محمد فريد .

إجابة السؤال الرابع : بم تفسر :

- ١- لكي تساعدنا في جلاء الاحتلال البريطاني عن مصر ، ويعرف العالم الأوربي والقوى الدولية خاصة فرنسا بحق مصر في الاستقلال ورفضها الاحتلال البريطاني وسياسته.
- ٢- بسبب عقد الاتفاق الودى بينها وبين إنجلترا والذي نص على انفراد إنجلترا بحكم مصر مقابل انفراد فرنسا بحكم مراكش (المغرب حاليا) .
- ٣- بسبب تحول الخديوي عباس حلمى الثاني عن مساندة وتأييد الحركة الوطنية إلى موالاتة الاحتلال البريطاني .
- ٤- بسبب نجاح محمد فريد بتأييد من الرأي العام في إجبار الحكومة المصرية على دعوة مجلس شورى القوانين والجمعية العمومية لمناقشة طلب شركة قناة السويس في مد الامتياز أربعين عاما أخرى وأدى ذلك غلى رفض الحكومة طلب الشركة .

إجابة السؤال الخامس : أيد بالأدلة التاريخية صحة العبارات الآتية :

١- حيث أصبحت السلطة الفعلية في يد المعتمد البريطاني ممثل سلطة الاحتلال وانحصرت سلطة الخديوي في التصديق على قرارات سلطات الاحتلال .

٢- حيث عملت سلطة الاحتلال على:

- التوسع في زراعة القطن لتوفير المادة الخام اللازمة للمصانع البريطانية .
- محاربة الصناعة المصرية لتسويق منتجاتها في السوق المصرية .
- إيجاد طبقة من كبار الملاك والأعيان ترتبط مصالحها باستمرار بقاء الاحتلال .

إجابة السؤال السادس : ما النتائج المترتبة على :

١- أدى ذلك إلى تخلى فرنسا عن تأييدها ومساعدتها لمصطفى كامل وللحركة الوطنية ،

وانفراد إنجلترا بحكم مصر مقابل انفراد فرنسا بحكم مراكش (المغرب حاليا) .

٢- ترتب على ذلك استقالة اللورد كرومر من منصبه .

الدرس الرابع

مصر من الحماية البريطانية حتى ثورة يوليو ١٩٥٢م

إجابة السؤال الأول : أختَر الإجابة الصحيحة من بين الأقواس :

١- ونجت .	٢- سعد زغلول .
٣- مالطة .	٤- فؤاد .
٥- مجلس الأمن .	

إجابة السؤال الثاني : أكتب كلمة (صح) أو كلمة (خطأ) :

١- (صح) .	٢- (خطأ): مالطة .	٣- (خطأ): صدم أعضاء الوفد وأصابهم بإحباط كبير .
٤- (صح) .	٥- (خطأ): إسماعيل صدقي .	٦- (صح) .
٧- (صح) .	٨- (خطأ): مصطفى النحاس .	٩- (خطأ): حريق القاهرة .

إجابة السؤال الثالث : لمن تنسب الأعمال الآتية :

١- مصطفى النحاس .	٢- الرئيس الأمريكي ولسون .	٣- الملك فاروق .	٤- الملك فؤاد .
٥- زيور باشا .	٦- وزارة عبد الخالق ثروت .	٧- مصطفى النحاس .	٨- مصطفى النحاس .

إجابة السؤال الرابع : أكتب ما تشير إليه العبارات :

١- جزيرة مالطة .	٢- دستور ١٩٣٠م .	٣- عصبة الأمم .
٤- مؤتمر مونترو .	٥- مجلس الأمن .	٦- دستور ١٩٣٠م .

إجابة السؤال الخامس : أيد صحة العبارات الآتية :

- ١- حيث شارك فيها جميع فئات وعناصر الشعب المصري مما يؤكد علي الوحدة الوطنية بين أبناء الأمة المصرية .
- ٢- حيث أعترف كل من الدول الموجودة بالمؤتمر والرئيس الأمريكي ولسن بالحماية البريطانية على مصر .

٣- حيث احتفظت بريطانيا بعدة أمور قيدت استقلال مصر وهى المعروفة (بالتحفظات الأربعة) وهى:

- تأمين المواصلات البريطانية في مصر.
 - الدفاع عن مصر ضد أي اعتداء أو تدخل أجنبي .
 - حماية المصالح الأجنبية والأقليات في مصر .
 - استمرار أوضاع السودان وفقا لاتفاقية الحكم الثنائي عام ١٨٩٩م.
- ٤- حيث نصت المعاهدة على :

- انتهاء احتلال مصر عسكريا .
- انضمام مصر إلي عضوية عصبة الأمم باعتبارها دولة مستقلة .
- إلغاء الامتيازات الأجنبية في مؤتمر مونتر و ١٩٣٧م.
- تقوية الجيش المصري لكي يتمكن من الدفاع عن قناة السويس بمفرده .
- عودة الجيش المصري للسودان.
- حرية مصر في عقد المعاهدات السياسية مع الدول الأجنبية بشرط الا تتعارض مع هذه المعاهدة .

٥- حيث حاصرت قوات الاحتلال البريطاني قصر عابدين وهددت بخلع الملك فاروق لو لم يشكل حكومة برئاسة مصطفى النحاس - رئيس حزب الوفد فقبل الملك ذلك.

إجابة السؤال السادس : ما النتائج المترتبة على :

- ١- أدي ذلك إلى - استقالة وزارة عدلي يكن من الوزارة - رفض رجال السياسة تشكيل حكومة جديدة.
 - ٢- ترتب على ذلك: تقديم المندوب السامي البريطاني اللورد اللنبي إنذاره للحكومة المصرية وطلب عده مطالب منها سحب الجيش المصري من السودان فرفض سعد زغلول ذلك واستقال ، وتم تأليف وزارة جديدة برئاسة زيور باشا - رئيس مجلس الشيوخ .
 - ٣- ترتب على ذلك :
- إطلاق الحرية للشعب للنضال ضد قوات الاحتلال البريطاني في القناة.
 - مهاجمة جماعات الفدائيين للمعسكرات البريطانية.
 - زيادة عدد جنود الشرطة لمساعدة الفدائيين.
 - محاصرة قوات الاحتلال مبنى محافظة الإسماعيلية فوقعت مصادمات بين قوات الاحتلال وعناصر الشرطة المصرية.

إجابة السؤال السابع : بم تفسر :

١- قامت ثورة ١٩١٩م بسبب :

- ازدياد الوعي الوطني لدى المصريين بفضل جهود مصطفى كامل ومحمد فريد وغيرهم .
- الإجراءات العنيفة التي اتخذتها سلطات الاحتلال أثناء الحرب العالمية الأولى ١٩١٤ - ١٩١٨ م .
- ادعاء انجلترا وحلفائها بأنها تحارب من أجل حرية الشعوب واستقلالها .
- إعلان الرئيس الأمريكي ولسن مبدأ حق الشعوب في تقرير مصيرها .
- ٢- لأن دستور ١٩٣٠ م أعطى الملك مزيدا من السلطات وأهدر سلطة الأمة وحقوقها في مواضع كثيرة .
- ٣- لأن الأحزاب كانت أداة للقصر الملكي ولبريطانيا لتحقيق مصالحها دون النظر لمصالح الشعب المصري .
- ٤- بسبب المقاومة الباسلة لرجال الشرطة عندما حاصرت القوات البريطانية مبنى محافظة الإسماعيلية لنزع سلاح جنود الشرطة فرفضوا ووقع الصدام وأستشهد الكثير من المصريين .

إجابة النموذج الأول

إجابة السؤال الأول :

(أ) أختَر الإجابة الصحيحة من بين الأقواس:

١- الإسماعيلية .	٢- كيف .	٣- الأستانة .	٤- الوطني .
------------------	----------	---------------	-------------

(ب) بم تفسر

- ١- بسبب رغبة بريطانيا وفرنسا في تقوية مركز الخديو في مواجهة الحركة الوطنية.
- ٢- بسبب الإنذار الذي أرسله المندوب السامي البريطاني (اللورد اللنبي) للحكومة المصرية برئاسة سعد زغلول بعد مقتل السير لى ستاك وطالبه بعدة مطالب منها سحب الجيش المصري من السودان.

(ج) ماذا يحدث إذا :

- ١- لم يضطر محمد فريد إلى الكفاح ضد الاحتلال والخديوي في وقت واحد .
- ٢- لم ترتبك أحوال مصر المالية ولا ازداد التدخل الأجنبي في شئون مصر.

إجابة السؤال الثاني :

(أ) ضع علامة (√) وعلامة (×) :

١- (√)	٢- (×) صندوق الدين
٣- (√)	٤- (×) الشيخ عبد الله النديم

(ب) ما النتائج المترتبة على :

- ١- أدى ذلك إلى - أصدرت الوزارة اللائحة الأساسية ونصت على :
 - مبدأ مسئولية الوزارة أمام مجلس النواب.
 - حق المجلس في مناقشة الميزانية وإقرارها.
- ٢- أدى ذلك إلى - اتخاذ إنجلترا عدة إجراءات منها :
 - إعلان الأحكام العرفية.
 - إعلان الحماية البريطانية على مصر وإنهاء السيادة العثمانية عليها.

إجابة النموذج الثاني

إجابة السؤال الأول :

(أ) - أكمل العبارات الآتية بما يناسبها :

١-كفر الدوار	٢-الجامعة المصرية	٣-الإشغال .	٤-الامتيازات الأجنبية
--------------	-------------------	-------------	-----------------------

(ب) ما النتائج المترتبة على :

١- ترتب على ذلك :

- زيادة قبضة القناصل الأجانب .
- تنازل المصريين عن حقوقهم لأن أحكامها لا تستأنف إلا في الخارج.

٢- ترتب على ذلك :

- أعلن الملك فؤاد نفسه ملكا على مصر في مارس ١٩٢٢ م .
- أعيدت وزارة الخارجية المصرية .
- شككت وزارة عبد الخالق ثروت باشا لجنة من ثلاثين عضو لإعداد الدستور الذي عرف بدستور ١٩٢٣ م .

(ج) رتب الأحداث:

١- اللائحة السعيدية	٢- المذكرة المشتركة الثانية
٣- اتفاقية الحكم الثنائي للسودان	٤- إلغاء معاهدة ١٩٣٦ م

إجابة السؤال الثاني :

(أ) أيد بالأدلة التاريخية

- ١- حيث :أعاد المراقبة الثنائية ، كما رفض اللائحة الأساسية لمجلس النواب ، وأسند الوزارة إلى رياض باشا.
- ٢- حيث : شارك فيها جميع فئات الشعب المصري من عنصري الأمة (مسلمين وأقباط).

(ب) صوب ما تحته خط :

١- عباس حلمي الثاني	٢- عدلي يكن	٣- مصطفى كامل	٤- محمود سامي البارودي
---------------------	-------------	---------------	------------------------

الإجابات الاختياريات

الاختبار الأول

أولا الجغرافيا

ج ١: (أ) أمامك خريطة أكتب مدلول الأرقام

١- الهندي

٢- الموسمي

٣- الزنجية

٤- روكي

(ب) بم تفسر.....؟

١- لاقترب جبال الحاجز الكبير من ساحل المحيط الهادي.

٢- بسبب ضخامة الموارد الاقتصادية فيها - وجود العديد من المدن الصناعية الكبرى.

٣- لاهتمام الحكومة المصرية بالتعليم.

ج ٢: (أ) ما النتائج المترتبة على.....؟

١- تركز السكان فيها - ارتفاع مستوي معيشة الأفراد فيها - هجرة أبناء الدول النامية إليها.

٢- إنشاء الموانئ الطبيعية - اتساع السهول الساحلية .

(ب) أكتب كلمة (صح) أو (خطأ) أمام العبارات الآتية:

٢- (خطأ)

١- (صح)

٤- (صح)

٣- (خطأ)

٦- (صح)

٥- (خطأ)

ثانيا : التاريخ

ج ٣: (أ) اختر الإجابة الصحيحة مما بين الأقواس

(١) جالديران . (٢) الوزارة المختلطة . (٣) شريف باشا. (٤) المذكرة المشتركة الثانية .

(ب) أيد بالأدلة التاريخية:-

(١) - كانت مزاياه أنه : (خطوة في تقرير ان الأمة مصدر السلطات - وضع نهاية للحكم

المطلق - قرر مبدأ المساواة بين جميع المصريين في الحقوق والواجبات مع احترام

الحرية العامة) .

(٢) حيث : (اهتمت مكانة الأزهر الشريف العلمية لم يعد هناك اهتمام بالعلوم العقلية والرياضية

والطبيعية ولكن هناك اهتمام بالعلوم الشرعية - تدهورت الحياة الأدبية - انتشر الجهل

والدجل والشعوذة والخرافات) .

٣) حيث : (أعاد المراقبة الثنائية - رفض اللائحة الأساسية لمجلس النواب - وضع نفسه تحت حماية إنجلترا وفرنسا بإسناد الوزارة إلي رياض باشا) .

٤) حيث قام بـ : (تمهيد الطرق البرية - بناء أسطول في البحرين الأحمر والمتوسط - تطهير البحر الأحمر من القرصنة - حفر الترع والاهتمام بالموانئ المصرية) .

(ج) قارن بين :

أحوال التعليم في مصر أثناء حكم إسماعيل	أحوال التعليم في مصر تحت الاحتلال البريطاني
<ul style="list-style-type: none">• أعاد فتح ديوان المدارس .• توسع في إنشاء المدارس المختلفة	<ul style="list-style-type: none">• تدهور التعليم بسبب :<ol style="list-style-type: none">١- جعله بمصروفات مرتفعة .٢- تم حصره علي فئة قليلة .٣- الهدف منه تخريج موظفين للعمل في الإدارات والمصالح الحكومية.

ج٤: (أ) :

١- الرفض: حيث : نجح بتأييد من الرأي العام في إجبار الحكومة المصرية علي دعوة مجلس شوري القوانين والجمعية العمومية لمناقشة طلب شركة قناة السويس في مد الامتياز أربعين عاما أخري وادي ذلك إلي رفض الحكومة طلب الشركة .

-٢

• ازدياد نمو الوعي الوطني لدي المصريين بفضل جهود (مصطفى كامل ومحمد فريد وغيرهم) من أجل الاستقلال.

• الإجراءات العنيفة التي اتخذتها بريطانيا تجاه مصر أثناء الحرب العالمية الأولى.

• أدعاء بريطانيا وحلفائها بأنها تحارب من أجل حرية الشعوب واستقلالها.

• إعلان الرئيس الأمريكي ولسن حق تقرير المصير للشعوب .

٣- (إسقاط حكومة رياض باشا المستبدة - تشكيل مجلس نواب علي النسق الأوربي - زيادة عدد الجيش إلي ١٨ ألف جندي) .

(ب)

١- مذبحه يافا البشرية (مارس ١٧٩٩م) .

٢- موقعه نفايرين (١٨٢٧م) .

٣- تأسيس مجلس شوري النواب (١٨٦٦م) .

٤- إنشاء صندوق الدين (١٨٧٦م) .

إجابات الاختبار الثاني

أولاً: الجغرافيا

ج ١: (أ) أمامك خريطة لقارة أفريقيا أكتب مدلول الأرقام الموقعة عليها:

١- أطلس.

٢- موزمبيق.

٣- الاستوائي.

٤- كهاري.

(ب) بم تفسر

١. نظرا لعامل الارتفاع حيث انه كلما ارتفعنا عن مستوي سطح البحر ١٥٠متراً تقل الحرارة ١ درجة مئوية

٢. حيث (الصيف المعتدل الدافئ - الشتاء البارد - المطر طوال العام)

٣. لوجود الموارد الاقتصادية الضخمة - لوجود المدن الكبرى الصناعية العملاقة ، مثل : (شيكاجو - ديترويت).

(ج) أذكر المصطلح الجغرافي لما يأتي:

١- الدولة الجزرية.

٢- المناخ المداري الحار

ج ٢: (أ) من خلال الرسم البياني الذي أمامك أجب عما يأتي:

١- (أمريكا الجنوبية - أمريكا الشمالية - آسيا - أوربا - أفريقيا) .

٢-

• مستوي السكن والتغذية والخدمات الصحية.

• الحروب والكوارث الطبيعية (الجفاف - الزلازل) .

٣- نظرا لارتفاع نسبه كبار السن.

٤- لتوافر الخدمات الصحية - القضاء علي الأمراض - ارتفاع مستوي المعيشة.

(ب) اجب بنفسك.

(ج) ١- * زيادة الموانئ الطبيعية.

• زيادة الثورة السمكية.

• ازدهار التجارة.

٢- ضيق السهول الساحلية الشرقية لآستراليا.

ثانيا : التاريخ

ج ٣ : أختَر الإجابة الصحيحة من بين الأقواس :

- (أ) ١- البرتغاليين . ٢ - محمد كريم . ٣- خورشيد باشا .
٤- بولاق . ٥- سعد زغلول . ٦- سعيد .

(ب) قارن بين :

مزاي تصريح ٢٨ فبراير ١٩٢٢م	مزاي معاهدة ١٩٣٦م
- الاعتراف بمصر دولة مستقلة ذات سيادة .	- إنهاء احتلال مصر عسكريا .
- إنهاء الحماية البريطانية علي مصر .	- إلغاء الامتيازات الأجنبية وفقا لمؤتمر موننترو ١٩٣٧م .
- إلغاء الأحكام العرفية .	- انضمام مصر إلي عصبة الأمم .
	- حرية مصر في عقد المعاهدات السياسية .
	- عودة القوات المصرية للسودان .
	- تقوية الجيش المصري .

ج ٤: (أ) أعد كتابة العبارات الآتية بعد تصحيح ما تحته خط :

- ١- ظاهر العمر . ٢- الخديوي إسماعيل . ٣- مصطفى كامل .
٤- البارودي . ٥- عدلي يكن . ٦- سعيد باشا .

(ب) ما المقصود بما يلي.....؟

- ١- أمر يصدر من جانب السلطان العثماني واجب التنفيذ.
٢- محاكم أنشأها الخديو إسماعيل تهدف إلي الحد من مساوئ المحاكم القنصلية وقضاتها أجنب ومصريين.

(ج) ١ ، ٢ : اجب بنفسك .