



إدارة وسط القاهرة التعليمية
لوجيه الدراسات الاجتماعية

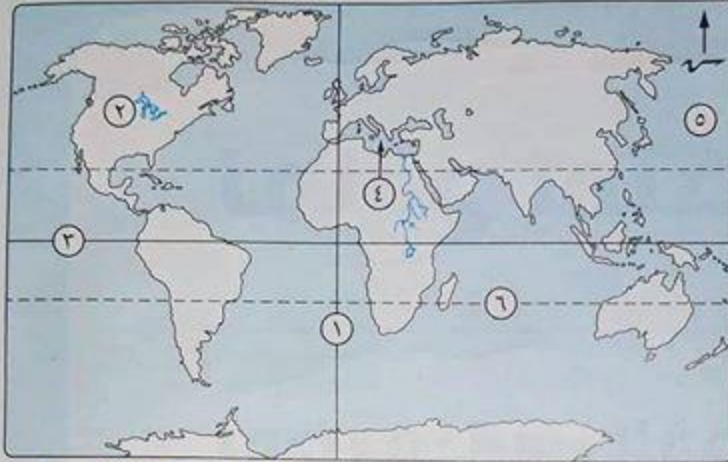
محافظة القاهرة

١

مجاب عنه

أولاً الجغرافيا

أجب عن الأسئلة الآتية:



٣٧ (١) أمامك خريطة للعالم، اكتب

ما تدل عليه الأرقام:

- (١) خط الطول جرينيتش
- (٢) قارة أمريكا الشمالية
- (٣) دائرة الاستواء
- (٤) البحر المتوسط
- (٥) المحيط الهندي
- (٦) مدار الجدي

تفسرني تحديد
المواقع شرقاً
مغرباً
حدود الزمن
وضوء الصيف
تحدد مكانه
الذي أنا عليه
سطح الأرض شمالاً
وجنوباً
تقسم لعالم
إلى مناطق
حرارية

(ب) بم تفسر ... ؟

- (١) حدوث ظاهرة تعاقب فصول السنة الأربعة. دور الهمد منها حول الشمس مع ثبات ميل المحور.
- (٢) يسمى كوكب الأرض بالكوكب المائي. (٢) أهمية خطوط الطول ودوائر العرض.

المسؤول لاولاً نعم صواب

٢ (١) اكتب ما تشير إليه كل عبارة من العبارات الآتية:

- (١) أجسام غازية تظهر على شكل سحابة من الغبار وتنشأ غالبيتها نتيجة انفجار النجوم.
- (٢) أنصاف دوائر تبدأ من القطب الشمالي وتنتهي عند القطب الجنوبي.
- (٣) هزات متتالية تحدث في أجزاء معينة من القشرة الأرضية.
- (٤) مساحة صغيرة من الماء يحيط بها اليابس من جميع الجهات.
- (٥) دوران الأرض حول نفسها (محورها) أمام الشمس من الغرب إلى الشرق مرة كل ٢٤ ساعة.



- (ب) ماذا يحدث إذا: لم تحدث البراكين في العالم؟
لم تنشأ الجبال المرطبة - العزل البركاني
لم تنشأ الرضاب البركانية - الجزر البركانية

٣ (١) اكتب كلمة (صواب) أمام العبارة الصحيحة، وكلمة (خطأ) أمام العبارة غير الصحيحة:

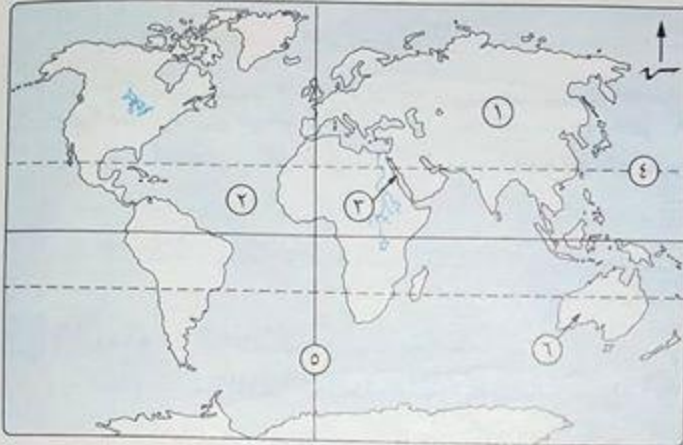
- (١) مرتكوين اليابس والماء بعدة مراحل حتى وصل للشكل الحالي. صواب ()
- (٢) قارة أفريقيا ثاني قارات العالم من حيث المساحة. صواب ()
- (٣) الجبال أرض مرتفعة عما يجاورها وسطحها مستوى أو شبه مستوى خطأ ()
ويزيد ارتفاعها عن ٥٠٠ متراً. الرضبة ()
- (٤) اليابس في نصف الكرة الأرضية الشرقي أقل من نصف الكرة الأرضية الغربي. خطأ ()
- (٥) التعرية الجليدية من العوامل الخارجية التي تشكل سطح الأرض. صواب ()

- (ب) ما النتائج المترتبة على: تعامد الشمس على مدار السرطان في ٢١ يونيو؟
عمل الصيف في نصف الكرة الشمالي بينما عمل الشتاء في نصف الكرة الجنوبي



مجاب عنه

أولاً الجغرافيا : أجب عن الأسئلة الآتية:



(أ) أمامك خريطة صماء للعالم.

اكتب ما تدل عليه الأرقام:

- (١) قارة آسيا
- (٢) المحيط الهندي
- (٣) البحر الأحمر
- (٤) مدار السرطان
- (٥) خط جرينيتش
- (٦) قارة أفريقيا

(ب) اكتب ما تشير إليه كل عبارة من العبارات الآتية:

- (١) تجمعات كبيرة من النجوم مختلفة الأحجام والأشكال والأنواع. **المجرات**
- (٢) مساحة من الماء المالح أصغر من المحيط. **البحر**
- (٣) فتحة في قشرة الأرض تندفع منها وقت الثوران مواد منصهرة وأبخرة وغازات ورماد. **البراكين**

(٢) (أ) اكتب كلمة (صواب) أمام العبارة الصحيحة، وكلمة (خطأ) أمام العبارة غير الصحيحة:

- (١) أكبر الكواكب حجماً عطارد. **خطأ**
- (٢) القطر الاستوائي أصغر من القطر القطبي. **خطأ**
- (٣) البحر الأحمر من البحار المغلقة. **خطأ**
- (٤) لا يتساوى توزيع اليابس والماء على سطح الأرض. **صواب**

(ب) قارن بين: الدورة اليومية، والدورة السنوية لكوكب الأرض، من حيث:

- دورة اليوم: ٢٤ ساعة
دورة السنة: ٣٦٥ يوم
دورة اليوم: دورة الأرض حول نفسها * النتائج *
دورة السنة: دورة الأرض حول الشمس * المفهوم *
دورة كل ٢٤ ساعة

(أ) أكمل ما يأتي بكلمات مناسبة:

- (١) يُسمى كوكب الزهرة بـ **كوكب الأرض**.
- (٢) تتعامد الشمس في فصل الصيف الشمالي على مدار **السرطان**.
- (٣) أصغر قارات العالم **أستراليا**.
- (٤) تقع هضبة الصحراء الكبرى في قارة **أفريقيا**.

(ب) بم تفسر ... ؟

- (١) يسمى كوكب المريخ بالكوكب الأحمر. **عنى كوكب المريخ**
- (٢) أهمية تضاريس سطح الأرض. **التضاريس الكونية والبيئية وكيفية تأثيرها على الإنسان والبيئة**

ثانياً التاريخ

- ٤ (١) صوب ما تحته خط : (١) صنع المصري القديم ملابسه من القطن. الكتان
عصر الدولة ليعرجه لكثرة (٢) أنشأ الملك زوسر سد اللاهون. اصمحات الثالث
ما لم يكن ملكاً من اصحابها (٣) انتشرت عبادة الإله رع في الدولة الحديثة. آمون
شعوه (ب) ما المقصود بكل من ... ؟
(١) عصر بناة الأهرامات.
صبارة ليعرجه ليعرجه اخرى
كل ما أنتجه عمل الريش
سواركا ندماريا اواريا
(٢) حضارة.
(٣) المقايضة.

٥ (١) لمن تنسب الأعمال الآتية ... ؟

- (١) بناء الهرم المدرج. الله زوسر
(٢) بنى قلعتي قمنة وسمنة. الملك خوفو الثالث
(٣) صاحب أقدم إمبراطورية في التاريخ. عمده الثالث
(٤) أقامت مسلتين شاهقتين في معبد الكرنك. الملك حتشبسوت
قنط حيث موتاهم وسبار وصغارهم
(ب) ما النتائج التي ترتبت على ... ؟
من الصحرار حيث ليور الحظان
(١) اعتقاد المصريين القدماء في البعث والخلود. (٢) ازدياد أعباء الحكم على فرعون.
اتحاد فرعون وزيري أله
للعجائز

sama
ghobashy

٦ (١) اختر الإجابة الصحيحة مما بين القوسين :

- (١) بنى المصري القديم مسكنه من في العصر النحاسي.
(الخشب - الحجر - الطوب اللبن - الرخام)
(٢) وحد الملك مينا مصر عام ٣٢٠٠ ق م وبنى مدينة عاصمة للبلاد.
(أون - منف - طيبة - بوتو)
(٣) خلف إخناتون في حكم البلاد
(تحتمس الثالث - حتشبسوت - توت عنخ آمون - سنفرو)
(٤) أقدم الصناعات في مصر القديمة الصناعات
(الخشبية - الجلدية - المعدنية - الحجرية)

(ب) ماذا كان يحدث إذا ... ؟ (١) لم يعرف المصري القديم صناعة المعادن. لا سحر من صناعه ادراية
منه لصياغته - لم يعرف صناعه المعادن
لم يعرف تطور الحيازة
(٢) استمر الهكسوس في حكم مصر
منها الصراية على الهكسوس
الصهر في اجتمعال
رنا صمكتات الهكسوس - تحتمس الثالث



مجاب عنه

أولاً الجغرافيا : أجب عن الأسئلة الآتية :



١ (١) أمامك خريطة للعالم. اكتب ما تدل عليه الأرقام الآتية :

- (١) قارة أمريكا الجنوبية
- (٢) البحر الهندي
- (٣) المحيط الهندي
- (٤) دائرة الاستواء

(ب) اكتب المصطلح الجغرافي لكل عبارة مما يأتي :

- (١) أراض مرتفعة من سطح الأرض تشبه الجبل لكنها أقل ارتفاعاً. المرتفعات
- (٢) أجسام معتمة تدور حول الكواكب وهي أصغر حجماً منها. الكواكب
- (٣) فتحة في قشرة الأرض تندفع منها وقت الثوران مواد منصهرة وأبخرة وغازات ورماد. البراكين
- (٤) أجسام صلبة مختلفة الحجم تحترق جزئياً عند احتكاكها بالغلاف الجوي للأرض. المذنبات

٢ (ج) ما العلاقة بين كل من ... ؟
 (١) النجوم، والسدم. سحب الغبار النجمي
 (٢) زاوية سقوط أشعة الشمس، ودرجات الحرارة. الشمس
 (٣) زاوية سقوط أشعة الشمس، ودرجات الحرارة. الشمس
 (٤) زاوية سقوط أشعة الشمس، ودرجات الحرارة. الشمس

٢ (أ) اختر الإجابة الصحيحة مما بين القوسين :

- (١) أصغر القارات مساحة قارة () (أسيا - أمريكا الشمالية - أوروبا - أستراليا)
- (٢) مجرة سكة التبانة من النوع () (البيضاوي - الحلزوني - الدائري - غير المنتظم)
- (٣) الكوكب الذي يعرف بتوءم الأرض كوكب () (عطارد - المريخ - الزهرة - نبتون)
- (٤) تتساقط أوراق الأشجار في فصل () (الصيف - الشتاء - الربيع - الخريف)
- (٥) كان اليابس في المرحلة الأولى كتلة واحدة تسمى () (بنجايا - جندوانا - لوراسيا - تثنس)

- (٦) من العوامل الخارجية التي تشكل سطح الأرض () (الزلازل - الالتواءات - الانكسارات - الجليد)
- (ب) بم تفسر ... ؟ (١) أهمية خطوط الطول. محدد الزمن
- (٢) أهمية المياه على سطح الأرض. محدد المناخ
- (٣) تسمية كوكب المريخ بالكوكب الأحمر. محدد الموقع

عنى كوكب المريخ بالاحمر
 كوكب المريخ بالاحمر
 كوكب المريخ بالاحمر
 كوكب المريخ بالاحمر

- (1) اكتب كلمة (صواب) أمام العبارة الصحيحة، وكلمة (خطأ) أمام العبارة غير الصحيحة:
- (1) يمثل خط جرينتش خط الطول الرئيسي.
 - (2) تُعرف دورة الأرض حول نفسها (محورها) أمام الشمس بالدورة اليومية.
 - (3) يتميز فصل الربيع بقصر النهار وطول الليل.
 - (4) الكثبان الرملية أحد مظاهر التعرية الهوائية بفعل الرياح.
 - (5) يقع معظم الماء في نصف الكرة الأرضية الشمالي.

صواب ()
خطأ ()
صواب ()
خطأ ()

(ب) ما النتائج المترتبة على ... ؟ (1) احتكاك الشهب بالغلاف الجوي للأرض. *عمره قليلا مكونه من مواد صخرية*

أصبحت الأرض غير كاملة *الرياح*

(ج) ماذا يحدث إذا : كانت جاذبية الأرض مثل القمر؟ *ويقلطه عنها التجميع*

(2) زيادة طول القطر الاستوائي عن القطر القطبي. *مبلغه خمسة خط العرض*

أي مجود للدهان بعد التحميص *عند نزل*

لانا التاريخ

(1) لمن تنسب الأعمال الآتية ... ؟



(1) وحد مصر كلها شمالاً وجنوباً عام ٣٢٠٠ ق.م. *اللده صيا (نارص)*

(2) أول من غير في أسلوب العمارة للمقابر الملكية. *الملاذوسر*

(3) نقل عاصمة البلاد من طيبة إلى أثيث تاوى. (4) قام بطرد الهكسوس خارج مصر. *الحسن*

(5) وطد نفوذ مصر في كل من فلسطين وسوريا بعد ١٦ حملة عسكرية. *تحسن المالک*

(6) أسس الأسرة السادسة والعشرين وطرده الآشوريين من مصر. *السما سلطه للدول*

(ب) دلل تاريخياً على صحة العبارات الآتية : *صياده جبين بلذاع عنه المملد رصده المعتمرم لقطه*

(1) تعددت مهام فرعون في مصر القديمة. *أما طلع الرسير النامس رتا مسدو ساي كجياه لكر عيه*

(2) أقامت الملكة حتشبسوت علاقات تجارية مع الدول المجاورة. *لجلبه البخور ولذاع ولذاع*

(3) يُعد عهد الملك منكاورع أكثر حرية من أبيه وجده. *صيه ناس لقطه سحارو لريديه*

صاحبه جريه لم يعبروا العصر الذهبية

(1) صوب الكلمات التي تحتها خط :

مدرس اون لاين
WWW.MODARSI.COM

(1) صنع المصري القديم ملابس من القطن. *الكت م*

(2) قاد أمراء منف حركة الكفاح ضد الهكسوس. *طيبة*

(3) كان الإله آمون إله الموتى عند قدماء المصريين. *اوزوس*

(4) سُمي عصر الدولة الحديثة بعصر الرخاء الاقتصادي. *المجد الحري*

(5) اكتشفت مقبرة الملك إخناتون عام ١٩٢٢م. *توت عنخ امون*

(6) اكتشف المصري القديم النار في العصر الحجري الحديث. *الحجري كصدم*

(ب) «ظهرت مصر منذ فجر التاريخ كدولة قوية ولها حضارة عظيمة ساعدت على استقرارها». في ضوء هذه العبارة أجب عما يلي :

- (1) لماذا اتخذ فرعون وزيراً له ؟ **لجلب زيارته العلماء والحكماء على خزائنهم**
 (2) ما أهم الأسلحة التي استخدمها الجيش المصري قديماً ؟ **الحربة - الخنجر - السهم**
 (3) ما أهم الصناعات القائمة على نبات البردي ؟ **الورق - الحبال - القوارب**

٦ (١) اكتب ما تشير إليه كل عبارة من العبارات الآتية :

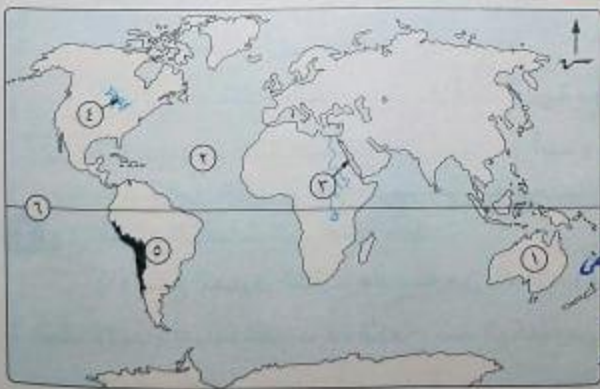
- المعاصرة → (١) مبادلة سلعة بسلعة أخرى. (٢) اتفاق بين دولتين أو أكثر لتنظيم العلاقات بينهم.
 (٣) كل ما أنتجه عقل الإنسان سواء كان مادياً أو أدبياً. **حضارة**
 (٤) عدد من السفن المجهزة لصد المعتدين القادمين من جهة البحر. **خطوط بحرية**
 (٥) يطلق على الدولة القديمة نسبة إلى ما شيده ملوكها من أهرامات ضخمة. **عصر بناة الأهرام**
 (ب) قارن بين : (١) مملكة الشمال، ومملكة الجنوب. من حيث : * الموقع. * الشعار. **الوجه لبحري الوجه لبحري**
 (ج) ما رأيك في : أهمية وظيفة الكاتب في مصر القديمة ؟ **استشار وصاحب رأى**
على اصحابه ما دس
كا بد النا بضم منم بحسب رضى المناصب لعليا من لروله

٤ محافظة القليوبية

إدارة فرع هيئة الخيمة التعليمية
 مديرية التربية والتعليم

مجاب عنه

أجب عن الأسئلة الآتية : أولاً الجغرافيا



- ١ (١) أمامك خريطة للعالم، اكتب مدلول الأرقام الموقعة عليها :
 (١) قارة أستراليا
 (٢) المحيط الهندي
 (٣) البحر الأحمر
 (٤) بحيرات عذبة بحيرات إلفين
 (٥) جبال الأنديز
 (٦) دانة دانة



(ب) ما النتائج المترتبة على ... ؟

- (١) احتكاك الشهب بالغلاف الجوي للأرض. **الطبا سكا كته واضره**
 (٢) توزيع اليابس والماء بالشكل الحالي. **لشي بيا يا لم كرضت للصح**
 (٣) الحركات البطيئة في تشكيل سطح الأرض. **تكون لمارات والهدل الجبلية**

٥ اليونكو! جبهة دوليه سابع لمنظمة الامم ملتحده وهم صئولة عمر
 التربية ولعلمم والتكاتف
 المشاركه كل ما ارتجيه عمل الرشاه سواد كما داريا اواربيا .
 امتحانات المدارس .

٥ (١) صوب ما تحته خط في العبارات الآتية :

- ١) أطلق الملك خفرع على نفسه لقب ابن الإله رع. اوسركاف
 ٢) عُرفت بلاد الصومال قديماً باسم بلاد فينيقيا. ببردونت
 ٣) أقام المصري القديم المقابر لدفن الموتى في العصر الحجري القديم. الحجرى الحديث
 ٤) صنع المصري القديم ملابسه من القطن. الكتام
 ٥) تمكن الملك خوفو من طرد الهكسوس من مصر. اعمس
 ٦) جمع الوزير في يده جميع السلطات الدينية والديوية. المرعون
 (ب) ما المقصود ب... ؟ (١) منظمة اليونسكو. (٢) الحضارة. (٣) الحياة السياسية.

٦ (١) لمن تنسب الأعمال التالية ... ؟

- ١) مؤسس الأسرة الأولى. (٢) عقد معاهدة سلام مع الحيثيين. مسين لسان
 ٢) بنى الهرم المدرج في سقارة. (٤) أرسل بعثة من الفينيقيين للدوران حول أفريقيا. تحاو
 ٥) أعاد إلى عبادة الإله آمون مكاتها كما أعاد عاصمة البلاد إلى طيبة مرة أخرى.
 (ب) أكمل الجدول التالي :

العاصمة	المعبود	الشعار	
بوسو	بعبابه الكورا	سبات البردى	١ مملكة الشمال
نخب	انوى النسر	زهرة اللوتس	٢ مملكة الجنوب

MR
 sama
 ghobashy

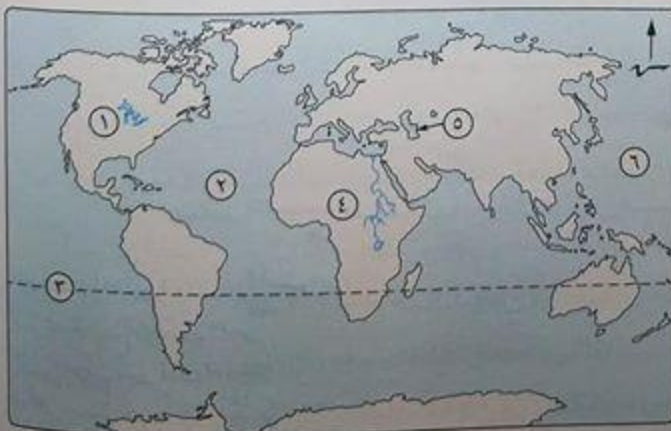


إدارة شين الكوم التعليمية
 لوجيه الدراسات الاجتماعية

٥ محافظة المنوفية

مجاب عنه

أولاً الجغرافيا : أجب عن الأسئلة الآتية :



- ١ (١) أمامك خريطة صماء للعالم،
 اكتب مدلول الأرقام التي عليها:
 (١) قارة أمريكا الشمالية
 (٢) المحيط الأطلسي
 (٣) مدار الجبسي
 (٤) قارة أفريقيا
 (٥) بحر مغلقي هنر وسير
 (٦) المحيط الهندي

أهم كبرى الحجم من النجوم

الارض من النجوم... (ب) ما المقصود بكل من... (ج) قارن بين: الجبال، والهضاب، من حيث: المفهوم، الارتفاع، المساحة... (د) أكمل العبارات الآتية بكلمات مناسبة:



(1) يعرف دوران الأرض حول نفسها (محورها) مرة كل 24 ساعة بالدورة...
 (2) أصغر قارات العالم قارة...
 (3) الكوكب الذي يعرف بتواء الأرض كوكب...
 (4) كان اليابس في المرحلة الأولى كتلة واحدة تسمى...
 (5) أجسام فضائية تبدو في السماء على هيئة سهام ضوئية هي...
 (6) يطول النهار ويقصر الليل في فصل...
 (ب) بم تفسر...
 (1) أهمية خطوط الطول.
 (2) حدوث ظاهرة تعاقب الفصول الأربعة.
 (3) يسمى كوكب المريخ بالكوكب الأحمر. عني كوكب...
 (ج) ما النتائج المترتبة على: الحركات الباطنية البطيئة بالنسبة لسطح الأرض؟
 (د) ما النتائج المترتبة على: الحركات الباطنية البطيئة بالنسبة لسطح الأرض؟

أ) اكتب كلمة (صواب) أمام العبارة الصحيحة، وكلمة (خطأ) أمام العبارة غير الصحيحة:

- () تتساوى دوائر العرض من حيث الاتساع.
- () تدور الكواكب حول الأقمار.
- () يقع معظم الماء في نصف الكرة الجنوبي.
- () الجاذبية على كوكب الأرض أكبر من كوكب المشتري.

ثانياً التاريخ

أ) إلى من تنسب الأعمال الآتية...؟

- (1) شيد معابد الشمس بالجيزة.
- (2) أول من غير في أسلوب العمارة للمقابر الملكية.
- (4) وحد البلاد عام 3200 ق.م.

ب) ما النتائج التي ترتبت على...؟

- (1) زيادة مسئوليات الملك في مصر الفرعونية.
- (2) اعتقاد المصري القديم في البعث والخلود.

٥ (أ) صوب ما تحته خط :

- (١) سمي عصر الدولة الوسطى بعصر المجد الحربي. الحربية
- (٢) قسم المصري القديم السنة الزراعية إلى خمس فصول. شرك
- (٣) شيد أمنحتب الرابع معبدا أبو سمبل. رمسيس الثاني
- (٤) كانت عاصمة مملكة الشمال مدينة نخب. بوتو



(ب) اكتب ما تشير إليه كل عبارة مما يأتي :

- (١) اتفاق بين دولتين أو أكثر لتنظيم العلاقات بينهم. معاهدة الحياة البرية
- (٢) مجموعة المعتقدات والشعائر والطقوس التي يؤديها المصري القديم داخل أو خارج المعابد.
- (ج) دلل على صحة العبارة الآتية : أرسلت رحلتهم تجارهم إلى بلاد بونت لحلب
الريضان والسماع والنخورد وحبور الكور
أقامت الملكة حتشبسوت علاقات تجارية مع الدول المجاورة.

٦ (أ) أكمل العبارات الآتية بكلمات مناسبة :

- (١) استطاع الملك حكيمن طرد الهكسوس من مصر.
 - (٢) سكن المصري القديم الكهوف في العصر الحجري. البصير
 - (٣) شيد قلعتي قمنة وسمنة الملك سنوسرت الثالث
 - (٤) أعاد حفر قناة سيزوستريس الملك ثوس
- (ب) بم تفسر ... ؟ (١) ضعف واضمحلال عصر الرخاء الاقتصادي.
- (٢) أهمية نبات البردي في مصر القديمة. للمصري القديم صنع
منه الورق - الصور - السور - الخيال - الحصر

مديرية التربية والتعليم
لوجيه الدراسات الاجتماعية

محافظة بورسعيد

٦

أولاً الجغرافيا

أجب عن الأسئلة الآتية :



١ (أ) أمامك خريطة العالم

الصماء، اكتب ما تدل
عليه الأرقام الآتية :

- (١) قارة أمريكا الشمالية
- (٢) المحيط الهادئ
- (٣) دائرة عرض الاستوا
- (٤) بحر مغلق مضيق بيرنج

(ب) اختر الإجابة الصحيحة مما بين القوسين :

- (١) أجسام فضائية صلبة مختلفة الحجم تحترق جزئياً
 (٢) الكوكب الذي يعرف بتواء الأرض
 (٣) تنحرف الرياح اتجاهها في نصف الكرة الجنوبي.
 (٤) تقع جبال في قارة أوروبا.

(السدوم - النيازك - النجوم - الكواكب)
 (عطارد - المشتري - الزهرة - المريخ)
 (يسار - يمين - شمال - جنوب)
 (الهيماالايا - الإنديز - البحر الأحمر - الألب)

(١) اكتب كلمة (صواب) أمام العبارة الصحيحة، وكلمة (خطأ) أمام العبارة غير الصحيحة، مع تصويب الخطأ:

- (١) كواكب المجموعة الخارجية للمجموعة الشمسية تتكون معظمها من مواد غازية. (✓)
 (٢) القطر القطبي أطول من القطر الاستوائي. العكس (X)
 (٣) تتعامد الشمس في فصل الربيع الشمالي على مدار السرطان. دائرة السرطان (X)
 (٤) يضم نصف الكرة الشرقي قارة أستراليا، ومعظم قارات آسيا وأفريقيا وأوروبا. (✓)

(ب) ما العلاقة بين كل من ... ؟
 (١) درجة حرارة النجوم، وألوانها.
 (٢) التضاريس، والنشاط البشري للإنسان.

(١) أكمل العبارات الآتية بما يناسبها:

- (١) محور الأرض خط وهمي يميل عن الخط العريض بزاوية مقدارها ٢٣,٥°
 (٢) قدم فيجنر نظريته التي تعرف باسم صيرورة لتفسير نشأة اليابس والمحيطات وغربا
 (٣) يمر مدار الجدي بقارات أستراليا وأفريقيا و أمريكا الجنوبية وعرضا
 (٤) من العوامل الباطنية البطيئة البراكين واللاكتات والزلزلة والبراكين
 (ب) بم تفسر ... ؟ (١) يُعرف كوكب المريخ بالكوكب الأحمر. (٢) أهمية دوائر العرض.

(٢) تعتبر الرياح أهم عوامل تشكيل سطح الأرض في المناطق الصحراوية
 حين تهب الرياح تقلع الرمال تقلع الرمال تقلع الرمال تقلع الرمال تقلع الرمال
 (١) صوب ما تحته خط :

(١) اكتشف المصري القديم النار في العصر الحجري الحديث. الحجرى العرشم

(٢) عاصمة مصر أثناء الوحدة الأولى مدينة منف. اون (هليوبوليس)

(٣) جمع الوزير في يده جميع السلطات الدينية والدنيوية. الفرعون

(ب) ما النتائج التي ترتبت على ... ؟ مكس الكرنة مده اسقاط الاسره الرابعه - كولى اوسكان

(١) ازدياد نفوذ كهنة الإله رع في أواخر الأسرة الرابعة. كبير للزئه على عصر

(٢) غزو الفرس لمصر عام ٥٢٥ ق.م. تصو الى الاسره ٢٦ و مكس المبار و استمر اصن الاسره ٢٠

(٣) اعتقاد المصريين القدماء بفكرة البعث والخلود. تخطيط هذه عنوان و سأى لكتاب



5 (1) لمن تنسب الأعمال الآتية ... ؟

- (1) اهتم باستخراج المعادن مثل النحاس والفيروز من سيناء.
- (2) أعلن نفسه ملكًا على مصر عام ٢٠٠٠ ق.م. ا.م. محتجاً الدول
- (3) عقد معاهدة سلام مع ملك الحيثيين. مصر (4) أعاد حفر قناة سيزوستريس سبحان
- (ب) ما المقصود بكل من ... (1) حضارة.
- (ج) ما رأيك في: دور أياح حنب ؟

الحياة السياسية.
تطام بكلمة دولة في المعنى الحديث
لدولة سنة ولعلاوة سنة كما لم يفرق
المجتمع

6 (1) دلل على صحة كل عبارة مما يأتي :

- (1) تأثر الهكسوس بالحضارة المصرية القديمة. العاكب مصر سنة سنة
- (2) اختلفت اتهامات الملك أمنحتب الرابع عن اتهامات بقية ملوك مصر القديمة.
- (ب) ماذا كان يحدث إذا ... ؟
- (1) كان الملك بيبي الثاني من الملوك الأقوياء سنة سنة لم سنة سنة ولم سنة سنة
- (2) تمكنت شعوب البحر المتوسط من هزيمة رمسيس الثالث.
- (ج) «بعد حفر قناة سيزوستريس أصبحت الطرق الملاحية مفتوحة أمام السفن المصرية لتجوب فيها». في ضوء هذه العبارة :

- (1) وضع أهم الدول التي أقامت معها مصر علاقات تجارية قديمة. سنة سنة
- (2) وضع البضائع التي كانت تجلبها مصر من هذه الدول. سنة سنة
- (3) قارن بين : التجارة الداخلية، والخارجية. سنة سنة

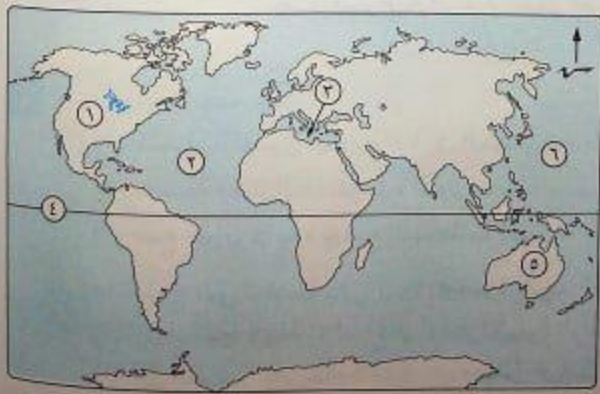
سنة سنة
سنة سنة
سنة سنة
سنة سنة



إدارة أسبوط التعليمية
توجيه الدراسات الاجتماعية

7 محافظة أسبوط

أجب عن الأسئلة الآتية: أولاً الجغرافيا



- (1) أمامك خريطة صماء للعالم، وضع ما تدل عليه الأرقام الآتية :
(1) قارة أمريكا الشمالية
(2) المحيط الهندي
(3) البحر المتوسط
(4) دائرة العرض
(5) قارة آسيا
(6) المحيط الهندي

5 (1) لمن تنسب الأعمال الآتية ... ؟

- (1) أحد أشهر ملوك الأسرة الرابعة وصاحب الهرم الأكبر الذي يُعد من عجائب الدنيا. **خوفو**
- (2) من أشهر ملوك الدولة الوسطى وبنى قلعتي سمنة وقمنة. **سنوسرت الثالث**
- (3) أرسل بعثة من الفينيقيين للدوران حول أفريقيا استمرت ثلاث سنوات. **تحاو**
- (4) إنقاذ معبدى أبى سمبل من مياه السد العالى. **حصير المونكو**
- (ب) ما المقصود بكل من ... ؟ (1) حضارة. (2) معاهدة. **اتفاقيات سيدرو ليليا والكر**
- (ج) ما رأيك في ... ؟ (1) اهتمام المصريين القدماء بالصناعة إلى جانب الزراعة. **كل ما انعمه عمل لوشام ماريا وارنيا / تنظيم لصدقات بيزنم**
- (2) عهد الملك بيبى الثاني أحد ملوك الأسرة السادسة.

6 (أ) دلل بالأمثلة على صحة كل عبارة مما يأتي : **حيما ما بين لخط سحارة لبريديه**

- (1) يُعد عهد الملك منكاورع أكثر حرية من أبيه وجده. **بطل الكرخية**
- (2) أقامت الملكة حتشبسوت علاقات تجارية مع الدول المجاورة. **رسول بيسيد الى بلاد**
- (ب) «تميزت الحضارة المصرية القديمة في كل المجالات سياسياً ودينياً واقتصادياً».
- في ضوء العبارة أجب عما يأتي : **السر - الحنة - العدل - الحكمة - حنوه لولاهم**
- (1) اذكر اثنين من شروط اختيار الوزير في مصر القديمة. **حيث شجعنا حمر على**
- (2) وضح دور الملكة أياح حتب في تاريخ مصر القديمة. **عمر ليليا بعد استعمار**
- (3) متى أنشئ أول جيش نظامي في مصر الفرعونية ؟ **زوميل وارنيا**
- (4) ما اسم الصناعة التي قامت في مصر على رمال الصحراء ؟ **الزجاج**
- (5) ما نتائج اعتقاد المصريين القدماء في البعث والنخود ؟ **كتبت هبوتاهم**
- سنا رخصنا من لصلام**

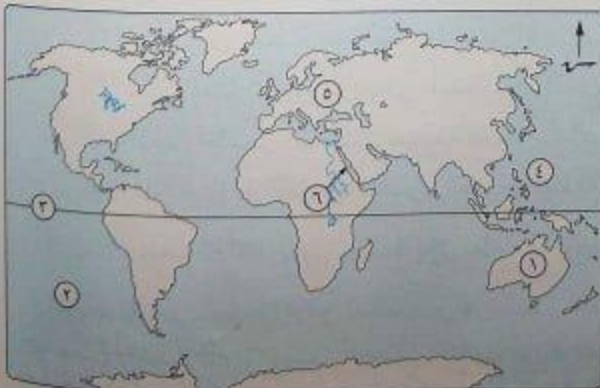


إدارة رأس سدر التعليمية
مديرية التربية والتعليم

8 محافظة جنوب سيناء

اولا الجغرافيا

اجب عن الأسئلة الآتية:



- 1 (1) أمامك خريطة للعالم،
وضح ما تدل عليه الأرقام :
(1) قارة أستراليا
(2) المحيط الهادى
(3) دائرة الاستواء
(4) بحر خارجى لبحر جليدى
(5) قارة أوروبا
(6) البحر الاحمر



أهمية نبات البردي خاصة عليه العديد من الحضارات من لور و مصر
المصريين الجبال - القوارب

امتحانات المدارس

شاه إيران علي المستطه

(4) كان للمصريين السبق في صناعة الأثاث من رمال الصحراء. الرجوع

(5) عصر الاضمحلال الثاني هي الفترة التي أعقبت سقوط الدولة الحديثة. العصر المتأخر

(6) كان البحر الأحمر شريان المواصلات الأول في نقل البضائع داخل مصر. مزر النيل

(2) شهرة الملك توت عنخ آمون.

(ب) لم تفسر...؟ (1) أهمية نبات البردي.

(4) نشأة الأقاليم المستقلة.

(3) قيام الحضارة المصرية القديمة. مزر النيل بلوغه لمرحلة متقدمة
المحور الرئيسي هو الزراعة

5 (1) لمن تنسب الأعمال الآتية ...؟

(1) مؤسس الأسرة الخامسة. اوسركاف
حفره لسانه

(2) انتصر على أمير قادش في معركة مجدو.

(ب) اختر الإجابة الصحيحة مما بين القوسين :

(1) استورد المصري القديم من فينيقيا

(العاج - البخور - الأخشاب - جميع ما سبق)

(2) تنتمي الأسرات (2، 1) إلى

(الدولة الوسطى - العصر العتيق - الدولة القديمة - الدولة الحديثة)

(3) كانت عاصمة الهكسوس في مصر.

(4) نشأ أول جيش نظامي في

(الدولة الوسطى - العصر المتأخر - الدولة الحديثة - الدولة القديمة)



1 (1) «أنعم الله على المصريين منذ فجر التاريخ بالعديد من السمات كان من أهمها أنه

تأريخه لقرنه
الذي أعظمه واللو
الارض ولم
تتم الصدارة
وانتصر بوحدة

(1) اعتقاد المصري القديم في البعث والخلود. سبأ وصالح حين من مصر ووطناهم

(2) ثورة إخناتون الدينية. بتخطيطه حيثما صوراهم

(ب) أكمل العبارات الآتية بكلمات مناسبة :

(1) كان الحكيم يعملون في الإدارات العامة وينظر لهم نظرة احترام وتقدير.

(2) شجعت (ب) زوجها وابنها على حرب الهكسوس.

(3) أنشأ المصريون القدماء (ب) للدفاع عن سواحل مصر وموانئها.

(4) أنشأ أمنمحات الثالث (ب) لتحديد المساحات المنزرعة وتقدير الضرائب.

(ج) ماذا كان يحدث إذا لم يوجد نهر النيل في أرض مصر؟ لم نعم حضارة على أرضها

لم يعرف الزراعة واصبحت التجارة لها عليه خاص

على الطرق البرية فقط