



تجميع أسئلة مختبرين الورقي

يوم الأحد
18/12/2022

شامل جميع أسئلة مختبرين
الورقي يوم الأحد المسائي ..



قناة قدرات ثانوي

تضم جميع اسئلة المختبرين واحداث
التسريبات والتجميعات والاختبارات
اضغط هنا للإنضمام

لا يصح الإعتماد على التجميعات اليومية، تم
تجميعها لأجل التدريب وأخذ فكره عن الأسئلة.

القسم الكمي

تسريبات مختبرين الورقي

ماقيمة ربع جذر ٦٤ ؟



@kodurat3

قناة قدرات ثانوي



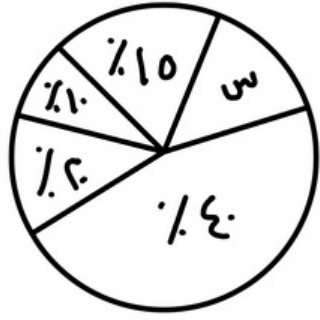
٦ ب

٤ أ

٢ د

٨ ج

تسريبات مختبرين الورقي



ماقيمة س ؟



@kodurat3



قناة قدرات ثانوي

%٢٥

ب

%٤٠

أ

%٣٠

د

%١٥

ج

تسريبات مختبرين الورقي

إذا كان $3^4 3 = 3^3$
فما قيمة 3 ؟



@kodurat3

قناة قدرات ثانوي



ب 0

د 7

أ 4

ج 1

تسريبات مختبرين الورقي

$$| \sqrt{64} - ب | = صفر$$

اوجد قيمة ب ؟



@kodurat3

قناة قدرات ثانوي



ا

ب

-8

ج

-1

د

1

هـ

تسريبات مختبرين الورقي

قاعة تكفي لـ ٨٦ شخص إذا أراد
المدير مع المرشد و ٤ معلمين
تكريم بعض الطلاب شرط ان يأتوا
مع اباؤهم وتكريمهم في هذه
القاعة كم طالب تم تكريمهم ؟



@kodurat3

قناة قدرات ثانوي



ب. ٤.

د. ٥٦

أ. ٢٠

ج. ٤٦

تسريبات مختبرين الورقي

قارن بين:

القيمة الاولى: $\sqrt{0} + \sqrt{0} + \sqrt{0}$

القيمة الثانية: $\sqrt{0}$



@kodurat3

قناة قدرات ثانوي



القيمة الثانية اكبر

ب

القيمة الاولى اكبر

أ

المعطيات غير كافية

د

القيمتان متساويتان

ج

تسريبات مختبرين الورقي

خمسة امثال عدد مطرو منه ١٠ = العدد
مضاف إليه ٢ ، فما هو العدد؟



@kodurat3

قناة قدرات ثانوي



٧ ب

٢ أ

٠ د

٣ ج

تسريبات مختبرين الورقي

$$\sqrt{s+8} = \epsilon$$



@kodurat3

قناة قدرات ثانوي



ا

ب

1

أ

ب

د

٤

ج

تسريبات مختبرين الورقي

إذا كانت النسبة بين اضلاع مثلث
٢:٢:٣ فانه ؟



@kodurat3

قناة قدرات ثانوي



ب قائمة الزاوية

ب

أ متطابق الاضلاع

أ

د متطابق الضلعين

د

ج مختلف الاضلاع

ج

تسريبات مختبرين الورقي

ماقيمة ثلث جذر ٨١ ؟



@kodurat3

قناة قدرات ثانوي



٦ ب

٣ د

٩ أ

٨ ج

تسريبات مختبرين الورقي

قارن بين:
القيمة الاولى: ${}^3_{44}$
القيمة الثانية: ${}^7_{22}$



@kodurat3

قناة قدرات ثانوي



ب القيمة الثانية اكبر
د المعطيات غير كافية

أ القيمة الاولى اكبر
ج القيمتان متساويتان

تسريبات مختبرين الورقي

قارن بين:
القيمة الاولى: مجموع زوايا السداسي
القيمة الثانية: ٧٢٠



@kodurat3

قناة قدرات ثانوي



ب القيمة الثانية اكبر
المعطيات غير كافية

أ القيمة الاولى اكبر
القيمتان متساويتان

تسريبات مختبرين الورقي

$$\sqrt{48} + \sqrt{27} =$$



@kodurat3

قناة قدرات ثانوي



ا- $8\sqrt{2}$

ب

ج- $3\sqrt{2}$

د

د- $7\sqrt{2}$

هـ

هـ- $7\sqrt{3}$

و

تسريبات مختبرين الورقي

إذا انتهى الطالب النصف الاول من الاختبار في ١٢ دقيقة
وكانت تمثل ثلثي النصف الثاني فكم الوقت الذي استغرقه
في النصف الثاني من الاختبار؟



@kodurat3

قناة قدرات ثانوي



٦. ب

٨ أ

٣. د

١٨ ج

تسريبات مختبرين الورقي

إذا كان أحمد أكبر من خالد وسعود أصغر من محمد وخالد أكبر من محمد
قارن بين :
القيمة الأولى: أحمد
القيمة الثانية : سعود



@kodurat3

قناة قدرات ثانوي



ب القيمة الثانية أكبر
د المعطيات غير كافية

أ القيمة الأولى أكبر
ج القيمتان متساويتان

تسريبات مختبرين الورقي

اوجد قيمة $3 * 9 * 27$ ؟



@kodurat3



قناة قدرات ثانوي

أ
ب
ج
د

أ
ب
ج
د

تسريبات مختبرين الورقي

باع رجل خاتم بسعر ١١٠ بخصم ١٠٪ وباع قلم ثمنه ١٧٠ بخصم ٤٠٪. قارن بين :
سعر الخاتم. | سعر القلم



@kodurat3

قناة قدرات ثانوي



ب القيمة الثانية اكبر
د المعطيات غير كافية

أ القيمة الاولى اكبر
ج القيمتان متساويتان

تسريبات مختبرين الورقي

اوجد مجموع
 $1 + 2 + 3 + \dots + 99$



@kodurat3

قناة قدرات ثانوي



ب 00..

ب

٤٩٥٠

أ

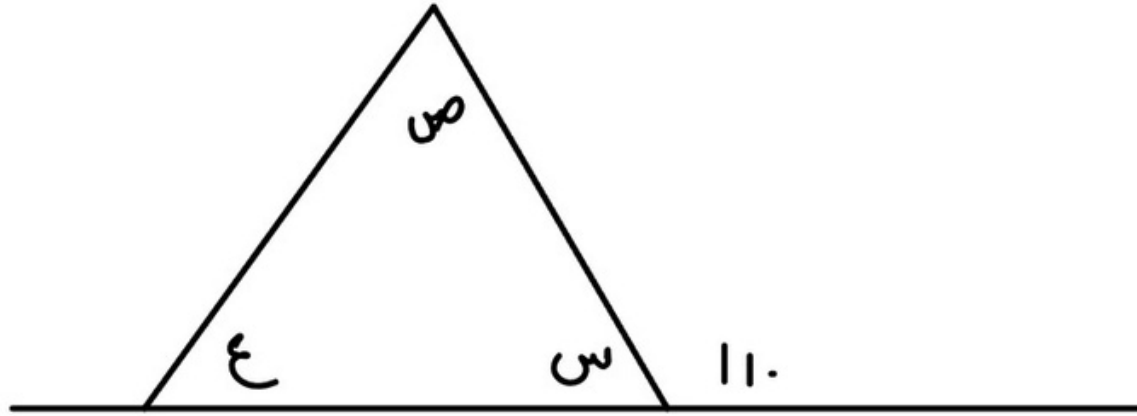
د 0...

د

٤٥٠٠

ج

تسريبات مختبرين الورقي



قارن بين :

$$س + ص + ع \quad | \quad ١١٠$$



@kodurat3



قناة قدرات ثانوي

القيمة الثانية اكبر

ب

القيمة الاولى اكبر

أ

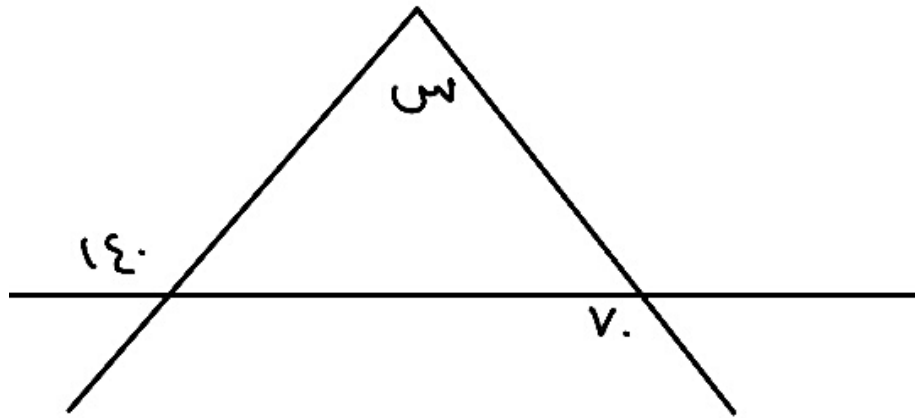
لا يمكن التحديد

د

القيمتان متساويتان

ج

تسريبات مختبرين الورقي



قيمة س ؟



@kodurat3



قناة قدرات ثانوي

١٢٢ ب

٣٠ أ

٨٠ د

١١٠ ج

تسريبات مختبرين الورقي

اذا اقترض شخص سيارة بالتقسيط لمدة 0 شهور ومجموع
مدفعه ٣٠ الف ، فكم سعر السيارة في الشهر؟



@kodurat3

قناة قدرات ثانوي



٣... ب

٦... أ

٤... د

٧... ج

تسريبات مختبرين الورقي

اراد احمد الاشتراك في ناديين مختلفين
اشترك النادي الاول ١٠٠ في الشهر والنادي الثاني اشتراكه ١٠٠٠ في السنة.
قارن بين:
اشترك النادي الاول في السنة. | اشترك النادي الثاني في السنة



@kodurat3



قناة قدرات ثانوي

ب القيمة الثانية اكبر
د المعطيات غير كافية

أ القيمة الاولى اكبر
ج القيمتان متساويتان

تسريبات مختبرين الورقي

قارن بين :
القيمة الاولى: حجم مكعب طول حرفه ٨
القيمة الثانية: حجم اسطوانة طول قطرها ٦ وارتفاعها ٤



@kodurat3



قناة قدرات ثانوي

ب القيمة الثانية اكبر
د المعطيات غير كافية

أ القيمة الاولى اكبر
ج القيمتان متساويتان

تسريبات مختبرين الورقي

باع شخص ١٦ لعبة بثمن ٢٠ لعبة
فكم النسبة المئوية للربح ؟



@kodurat3

قناة قدرات ثانوي



٪٢٥

ب

٪٢٠

أ

٪١٥

د

٪٣٠

ج

تسريبات مختبرين الورقي

شخص ينمو شعره بمعدل ١ سم في الشهر الواحد
فكم سيكون طول شعره بعد ١٠ سنين :



@kodurat3

قناة قدرات ثانوي



ب ١٠٠سم

أ ١٢٠سم

د ٥٠٠سم

ج ١٥٠سم

تسريبات مختبرين الورقي

متوسط خمسة اعداد = ٨
فما اكبر عدد ؟



@kodurat3

قناة قدرات ثانوي



٩

ب

٨

أ

٧

د

١٠

ج

تسريبات مختبرين الورقي

القسم اللفظي

تسريبات مختبرين الورقي

التناظر اللفظي

تسريبات مختبرين الورقي

أسد : زئير



@kodurat3



قناة قدرات ثانوي

ب نعيق : ضفدع

د الثوب : القطن

أ مريض : أنين

ج صرير : ماء

تسريبات مختبرين الورقي

السيف : الحديد



@kodurat3

قناة قدرات ثانوي



الذهب : المنجم

ب

الثوب : القطن

أ

د

ج

تسريبات مختبرين الورقي

أشجار : ماء



@kodurat3



قناة قدرات ثانوي

ب جسم : صحة

د سور : حديقة

أ طائرة : وقود

ج بيت : سقف

تسريبات مختبرين الورقي

رمضان : شوال



@kodurat3



قناة قدرات ثانوي

ب شاب : طفل

ب

أ رجل : امرأة

أ

د الظهر : المغرب

د

ج روضة : ابتدائي

ج

تسريبات مختبرين الورقي

ذهب : معدن



@kodurat3



قناة قدرات ثانوي

ب تين : فاكهة

ب

أ ماء : هواء

أ

د كهف : كوخ

د

ج سعادة : حزن

ج

تسريبات مختبرين الورقي

بذرة : نبتة



@kodurat3



قناة قدرات ثانوي

نطفة : جنين

ب

قاتل : مقتول

أ

قمر : ليل

د

مدح : ثناء

ج

تسريبات مختبرين الورقي

ظلام : ليل



@kodurat3



قناة قدرات ثانوي

ب عطر : وردة

ب

أ برد : شتاء

أ

ج رصاصة : بندقية

ج

د

تسريبات مختبرين الورقي

الكعبة : المطاف



@kodurat3

قناة قدرات ثانوي



البيت : سور

ب

لبس : قماش

أ

ورد : بستان

د

الحجر الأسود : مقام إبراهيم

ج

تسريبات مختبرين الورقي

طرفة : ضحكة



@kodurat3



قناة قدرات ثانوي

ب شارع : رصيف

ب

أ غلظة : نفور

أ

د

ج

تسريبات مختبرين الورقي

خشبة : مسرح



@kodurat3



قناة قدرات ثانوي

ب نص : جملة

ب

أ نافطة : ستارة

أ

د

ج

تسريبات مختبرين الورقي

طفاية حريق : نار



@kodurat3

قناة قدرات ثانوي



ب أسد : غزال

ب

أ علم : جهل

أ

ج هاتف : ملل

ج

د

تسريبات مختبرين الورقي

إكمال الجمل

تسريبات مختبرين الورقي

لا تتأثر بـ السيء الموجه إليك، فإنه يؤدي ولا يؤذي.



@kodurat3

قناة قدرات ثانوي



ب الكلام - ينفعك

د الحديث - ناقله

أ الحث - صاحبه

ج الوصف - قائلة

تسريبات مختبرين الورقي

أحرص على أن تتحرك ولا تبقى فالماء يأسن.



@kodurat3

قناة قدرات ثانوي



ب ضاحكًا - الجاري

ب

أ ساكنًا - الدافئ

أ

د واقفًا - المالح

د

ج جامدًا - الراكد

ج

تسريبات مختبرين الورقي

رجل الجد يعرف بـ كلامه و تحمله.



@kodurat3



قناة قدرات ثانوي

ب كثرة - قلة

د قلة - مدى

أ كثرة - قوة

ج واقفاً - مدى

تسريبات مختبرين الورقي

إن الانسان في هذا العصر ولا في غيره من
العصور إلا بـ



@kodurat3

قناة قدرات ثانوي



يتقدم - العلم

ب

يزدهر - المال

أ

يرتقي - الجهل

د

بتراجع - الثقافة

ج

تسريبات مختبرين الورقي

إذا الحكيم كان لك.



@kodurat3



قناة قدرات ثانوي

ب صاحب - ماله

ب

أ كلمت - حبه

أ

د شاورت - عقله

د

ج أهنت - وده

ج

تسريبات مختبرين الورقي

كن صاحب واضحة تعينك على الاستماع بسعيك وتحمل ما يأتيك بروح الصابر المتفائل.



@kodurat3



قناة قدرات ثانوي

ب صورة - منها

أ رؤية - لأجلها

د

ج

تسريبات مختبرين الورقي

لا يكفي أن تفعل بل أن تصنعه.



@kodurat3

قناة قدرات ثانوي



هدفك - تعلم

ب

خير - تحسن

أ

ما نويت - تجتهد

د

الظن - تعرف

ج

تسريبات مختبرين الورقي

الخطأ السياقي

تسريبات مختبرين الورقي

المسكين يأكل متى يشاء والفقير يأكل متى أستطاع.



@kodurat3

قناة قدرات ثانوي



ب الفقير
د أستطاع

أ المسكين
ج يأكل

تسريبات مختبرين الورقي

الحياة تثبت كالبنءول بين الألم والأمل.



@kodurat3

قناة قدرات ثانوي



أ تثبت

ب

د

ج

تسريبات مختبرين الورقي

الشتاء ربيع المؤمن. صبحه قصير للصوم وليله طويل القيام.



@kodurat3

قناة قدرات ثانوي



ب قصير

د صبحه

أ ليله

ج الشتاء

تسريبات مختبرين الورقي

أحيانًا من المفيد أن تكف عن النظر بشكل عام عند إتخاذ قرار لتركز على الصورة بشكل أكبر.



@kodurat3

قناة قدرات ثانوي



أ	الصورة	ب	عام
ج	قرار	د	النظر

تسريبات مختبرين الورقي

المفردة الشاذة

تسريبات مختبرين الورقي

أي الآتي مختلف؟



@kodurat3

قناة قدرات ثانوي



ب عين نابعة

ب

أ بحر

أ

د نهر جاري

د

ج أرض مرتوية

ج

تسريبات مختبرين الورقي

أي الآتي مختلف؟



@kodurat3



قناة قدرات ثانوي

ب جرجير

ب

أ حنضل

أ

د خيار

د

ج خس

ج

تسريبات مختبرين الورقي

أي الآتي مختلف؟



@kodurat3

قناة قدرات ثانوي



أ	كراهية	ب	قلب
ج	محبة	د	حقد

تسريبات مختبرين الورقي

أي الآتي مختلف؟



@kodurat3



قناة قدرات ثانوي

أ فرنك

ب ين

ج دولار

د دينار

تسريبات مختبرين الورقي

أي الآتي مختلف؟



@kodurat3

قناة قدرات ثانوي



ب عين
د فم

أ يد
ج أذن

تسريبات مختبرين الورقي

أي الآتي مختلف؟



@kodurat3

قناة قدرات ثانوي



ب كف

د ركلة

أ إصبع

ج مرفق

تسريبات مختبرين الورقي

الربط

تسريبات مختبرين الورقي

الربط:
حصان



@kodurat3

قناة قدرات ثانوي



ب بقرة
د جمل

أ زرافة
ج شاه

تسريبات مختبرين الورقي

الربط:
ميزان



@kodurat3

قناة قدرات ثانوي



ب عدل
د شعير

أ طحين
ج قمح

تسريبات مختبرين الورقي

الربط:
حديث



@kodurat3

قناة قدرات ثانوي



ب خاتم

د سكين

أ درهم

ج سوار

تسريبات مختبرين الورقي

القطع

تسريبات مختبرين الورقي

سيتم تنزيل القطع تدريجيًا على قناتنا

[اضغط هنا للذهاب](#)

العالم تشارلز

الناصر صلاح الدين

المد والجزر

السمنة وعلم الفلك

تقدم التقنية

الميكانيكا

تسريبات مختبرين الورقي

فضل الصمت عن
الكلام

السكر والضغط

جورج ايستمان

الحسد

ابن خلدون

الفلك

السمنة

تسريبات مختبرين الورقي



قناة قدرات ثانوي

تضم جميع اسئلة المختبرين واحداث
التسريبات والتجميعات والاختبارات
اضغط هنا للإنضمام

لا يصح الإعتماد على التجميعات اليومية، تم
تجميعها لأجل التدريب وأخذ فكره عن الأسئلة.