

# الأخصياء



## الدراسات الاجتماعية الصف ٤ الابتدائي

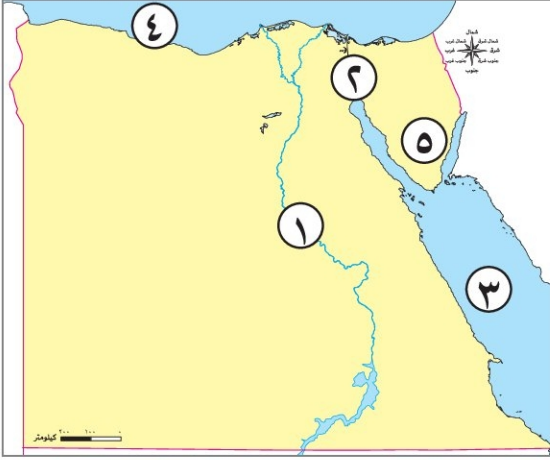
مقترح النماذج الاسترشادية للفصل الدراسي الأول

العام الدراسي 2022-2023



## نموذج (١)

### السؤال الأول



(١) أمامك خريطة صماء لمصر، اكتب مدلول الأرقام عليها:

- ١ يشير رقم (١) على الخريطة إلى نهر.....
  - ٢ يشير رقم (٢) على الخريطة إلى قناة.....
  - ٣ يشير رقم (٣) على الخريطة إلى البحر.....
  - ٤ يشير رقم (٤) على الخريطة إلى البحر.....
  - ٥ يشير رقم (٥) على الخريطة إلى شبه جزيرة.....
- (ب) بم تفسر...؟ أهمية رسم وردة البوصلة على الخريطة.

### السؤال الثاني

(١) اختر الإجابة الصحيحة مما بين الأقواس:

- ١ تقع مصرفي الركن الشمالي الشرقي من قارة..... (إفريقيا - أستراليا - أوروبا - أمريكا الجنوبية)
- ٢ يمكننا تحديد اتجاه الرياح باستخدام.....  
(جورب الرياح - طواحين الهواء - مقياس المطر - الأنيمومتر)
- ٣ يتخذ علم مصر شكل.....  
(مثلث - دائرة - مستطيل - مربع)
- ٤ يدل النسرفي وسط علم مصر على.....  
(الضعف - الثورة - النضال - القوة)

(ب) صنف المصادر الآتية إلى مصادر أولية ومصادر ثانوية في الجدول التالي:

(الأفلام التسجيلية - المقالات - الأبحاث - الأهرامات)

مصادر أولية	مصادر ثانوية
.....	.....
.....	.....

### السؤال الثالث

( ١ ) اكتب كلمة (صواب) أمام العبارة الصحيحة، وكلمة (خطأ) أمام العبارة غير الصحيحة:

- ١ البترول والفحم من مصادر الطاقة التي تحتاج لآلاف السنين لتكوينها. ( )
- ٢ صناعة السجاد والنسيج اليدوي من الحرف المدرجة على قائمة التراث العالمي في منظمة اليونسكو. ( )
- ٣ تعد حملة «١٠٠ مليون صحة» من الخدمات الثقافية التي توفرها الدولة. ( )

(ب) أمامك صورتان: اكتب ما تدل عليه كل منهما، ثم حدد أوجه الشبه والاختلاف بينهما:



(ب)



(١)

١ وجه الشبه: .....

٢ وجه الاختلاف: .....

### السؤال الرابع

( ١ ) أكمل العبارات الآتية بما يناسبها من كلمات:

- ١ تشغل معظم مساحة مصر البيئة .....
- ٢ من أهم مصادر المياه العذبة في مصر .....
- ٣ إسراف المزارعين في استخدام الأسمدة الكيماوية يؤدي إلى تلوث .....
- ٤ أقدم الصناعات اليدوية وتنتشر في العديد من القرى المصرية هي صناعة .....
- ٥ حرفة صيد الأسماك والأنشطة التجارية تنتشر في البيئة .....
- ٦ إنفاق النقود لشراء الحاجات يسمى .....

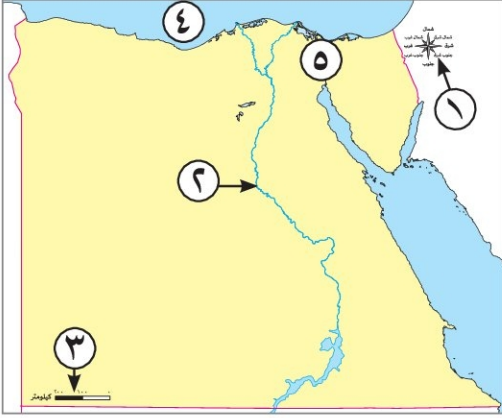
(ب) اكتب نتيجة واحدة ترتب على: الإفراط في استخدام مصادر الطاقة غير المتجددة.



## نموذج (٢)

### السؤال الأول

(١) أمامك خريطة صماء لمصر، اكتب مدلول الأرقام عليها:



- ١ وردة .....
- ٢ نهر .....
- ٣ مقياس .....
- ٤ البحر .....
- ٥ قناة .....

(ب) أجب عن السؤال التالي: اكتب نتيجة واحدة تترتب على حرق قش الأرز.

### السؤال الثاني

(١) أكمل العبارات الآتية بما يناسبها من كلمات:

- ١ رسم توضيحي لسطح الأرض أو جزء منه .....
- ٢ عاصمة مصر هي محافظة .....
- ٣ راية تتخذها المحافظة رمزاً لها .....
- ٤ يمكننا قياس سرعة الرياح بـ .....

(ب) أمامك صورة لشعار محافظة القاهرة، وضح:



١ يتكون شعار محافظة القاهرة من عدة رموز:

(أ) ..... (ب) .....

٢ حدد سبب احتفال كل محافظة بعيد قومي خاص بها.



### السؤال الثالث

( ١ ) صوب ما تحته خط:

- ١ محطة الزعفرانة تولد الكهرباء من الشمس.
- ٢ صناعة الفخار يتم إنتاجها في شوارع الخيامية بالأزهر.
- ٣ تستخدم السيارات التي تعمل بالبنزين لحماية الهواء من التلوث.
- ٤ الجبال والهضاب المغطاة بالمسحوق الأسود توجد في الصحراء البيضاء.
- ٥ بحر الرمال العظيم يوجد في الصحراء الشرقية.

( ب ) أجب عن السؤال التالي: اكتب تفسيراً لأهمية الخريطة للجيش.

### السؤال الرابع

( ١ ) اكتب كلمة ( صواب ) أمام العبارة الصحيحة، وكلمة ( خطأ ) أمام العبارة غير الصحيحة:

- ١ تستخدم الأقمار الصناعية في التقاط الصور الجوية. ( )
- ٢ يجب أن يستمع الصيادون للنشرة الجوية قبل الخروج في رحلات الصيد. ( )
- ٣ يؤدي توليد الكهرباء من الرياح إلى تلوث الهواء. ( )
- ٤ يؤدي انتشار الحرف اليدوية إلى ارتفاع نسبة البطالة. ( )
- ٥ يستخدم مقياس الرسم في تحديد الاتجاهات على الخريطة. ( )
- ٦ يدل النسرا الذي يتوسط العلم على القوة والشجاعة. ( )

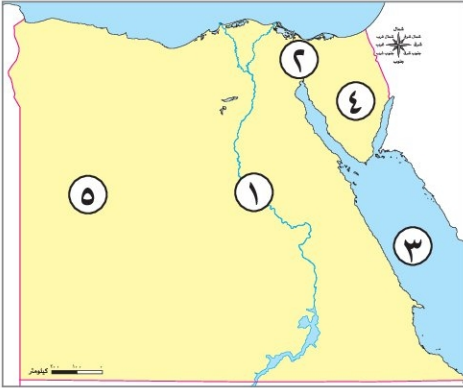
( ب ) حدد اختلافًا واحدًا بين السهل الساحلي والسهل الفيضي:

وجه المقارنة	السهل الساحلي	السهل الفيضي
الاختلاف	.....	.....



## نموذج (٣)

### السؤال الأول



(١) أمامك خريطة صماء لمصر، اكتب مدلول الأرقام عليها:

- ١ يشير رقم (١) على الخريطة إلى نهر.....
- ٢ يشير رقم (٢) على الخريطة إلى قناة.....
- ٣ يشير رقم (٣) على الخريطة إلى البحر.....
- ٤ يشير رقم (٤) على الخريطة إلى شبه جزيرة.....
- ٥ يشير رقم (٥) على الخريطة إلى الصحراء.....

(ب) اكتب دليلاً على صحة العبارة التالية: تتعرض التربة لأخطار متعددة.

### السؤال الثاني

(١) اختر الإجابة الصحيحة مما بين الأقواس:

- ١ «مدينة شرم الشيخ أجمل المدن المصرية» تعبر هذه العبارة عن.....  
(رأى - خيال - حقيقة - واقع)
- ٢ القناة التي تعد شريان التجارة العالمي الذي يربط بين البحرين المتوسط والأحمر بشكل مباشر هي قناة.....  
(بنما - السويس - سيزوستيريس - جونجلي)
- ٣ قامت الدولة ببناء العاصمة الإدارية الجديدة لتخفيف الضغط السكاني عن.....  
(الدقهلية - القاهرة - الإسكندرية - الجيزة)
- ٤ تعتمد الزراعة على المياه الجوفية في منطقة.....  
(وادي النيل - الواحات - الصحراء الشرقية - الدلتا)

(ب) بم تفسر...؟

١ أهمية الخريطة للفلاح.

٢ طرح الدولة مبادرة «حياة كريمة».



### السؤال الثالث

( ١ ) اكتب ما تشير إليه العبارات الآتية:

- ١ راية تتخذها المحافظة رمزاً لها لتعبر عن نشاط سكانها أو جزء من تاريخها. (.....)
  - ٢ أرض شديدة الارتفاع ولها قمة وجوانبها شديدة الانحدار تزيد على ١٠٠٠ م. (.....)
  - ٣ يشير إلى المعلومات الواردة على الخريطة. (.....)
  - ٤ معلومات أو أحداث تم إثبات صحتها والتأكد من دقتها. (.....)
  - ٥ رمز يتخذ كل بلد ليعبر عن تاريخه وتراثه. (.....)
- ( ب ) ما العلاقة بين ...؟ مصروفات العالم القديم.
- .....

### السؤال الرابع

( ١ ) اكتب كلمة ( صواب ) أمام العبارة الصحيحة، وكلمة ( خطأ ) أمام العبارة غير الصحيحة:

- ١ للتأكد من صحة المعلومات الواردة عن الهرم نستخدم المصادر الأولية والثانوية. ( )
- ٢ المحيط الهادى يمثل مساحة شاسعة من الماء المالح قليلة العمق. ( )
- ٣ اتخذ علم مصر شكلاً واحداً على مر التاريخ. ( )
- ٤ يرتبط العيد القومى للمحافظة بحدث تاريخى أو ذكرى مهمة. ( )

( ب ) ما المقصود ب...؟

١ الحاجات.

.....

٢ الطاقة الحفزية.

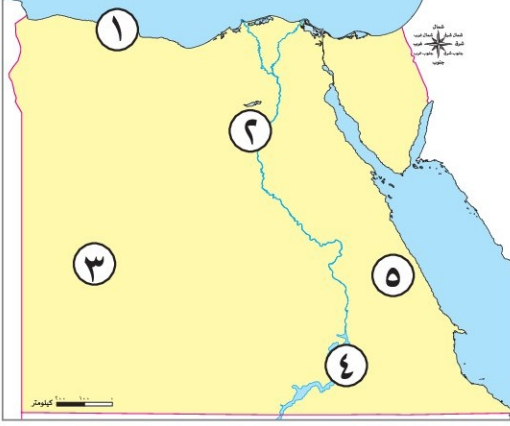
.....



## نموذج (٤)

### السؤال الأول

( ١ ) أمامك خريطة صماء لمصر، اكتب مدلول الأرقام عليها:



١ يشير رقم ( ١ ) على الخريطة إلى البيئة .....

٢ يشير رقم ( ٢ ) على الخريطة إلى البيئة .....

٣ يشير رقم ( ٣ ) على الخريطة إلى الصحراء .....

٤ يشير رقم ( ٤ ) على الخريطة إلى بحيرة صناعية هي بحيرة .....

٥ يشير رقم ( ٥ ) على الخريطة إلى محافظة يوجد بها محطة .....

الزعفرانة .....

( ب ) حدد سبباً واحداً لأهمية مفتاح الخريطة.

### السؤال الثاني

( ١ ) أكمل العبارات الآتية بما يناسبها من كلمات:

١ الحدود التي تفصل المحافظات عن بعضها تسمى حدوداً .....

٢ الترمومتر يستخدم في قياس درجات .....

٣ تشمل الزراعة في مصر وادى النيل و .....

٤ المصدر الرئيسي لمياه الشرب في الواحات .....

٥ حماية المواطنين وتوفير الأمن والاستقرار لهم يعد من الخدمات .....

٦ التحاق الطفل بالمدرسة من حقوقه في .....

( ب ) اكتب اختلافاً واحداً بين الجبل والتل في الجدول التالي:

التل	الجبل	وجه المقارنة
.....	.....	الاختلاف
.....	.....	



### السؤال الثالث

( ١ ) صوب ما تحته خط:

- ١ قامت الدولة بإنشاء مدينة الروبيكي لتشجيع صناعة النسيج.
  - ٢ اتجهت دول العالم إلى استخدام مصادر الطاقة المتجددة مثل الرياح والفحم.
  - ٣ مناجم الذهب تنتشر في الدلتا.
  - ٤ أكثر البحار تلوثًا البحر الأحمر.
  - ٥ يعد البحر المتوسط من أهم مصادر المياه العذبة في مصر.
- (ب) دلل على صحة العبارة الآتية: لنظام تحديد المواقع العالمي GPS أهمية كبيرة.

### السؤال الرابع

( ١ ) اختر الإجابة الصحيحة مما بين الأقواس:

- ١ عند التقاط صورة حقيقية تفصيلية لجزء من سطح الأرض فإننا نستخدم .....  
(الطائرة - القمر الصناعي - الصاروخ - سفينة الفضاء)
- ٢ إذا أردت أن تستخدم مصدرًا أوليًا لإجراء بحث عن قناة السويس فإنك تستخدم .....  
(موسوعة عن القناة - وثائق رسمية عن القناة - مقالًا عن القناة عام ٢٠٠٠ م - كتابًا عن القناة عام ٢٠١٤ م)
- ٣ اللون الذي يدل على نضال الشعب المصرى هو: .....  
(الأبيض - الأحمر - الأسود - الأخضر)
- ٤ يمكننا تحديد اتجاه الرياح باستخدام .....  
(جورب الرياح - طواحين الهواء - مقياس المطر - الانيمومتر)

(ب) أمامك صورة تعبر عن صناعة الخزف، أكمل:

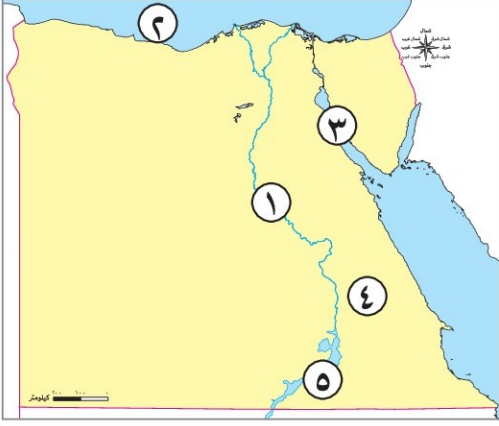
- ١ يتم صناعة هذا المنتج من .....
- ٢ تنتشر هذه الرمال على سواحل البحر .....





## نموذج (هـ)

### السؤال الأول



( ١ ) أمامك خريطة صماء لمصر، اكتب مدلول الأرقام عليها:

- ١ يشير رقم ( ١ ) إلى مورد للمياه العذبة .....
- ٢ يشير رقم ( ٢ ) إلى مورد للمياه المالحة .....
- ٣ يشير رقم ( ٣ ) لمنطقة ينتشر بها البترول .....
- ٤ يشير رقم ( ٤ ) إلى الصحراء .....
- ٥ يشير رقم ( ٥ ) إلى بحيرة .....

(ب) ما العلاقة بين ... المياه الجوفية والزراعة في الصحراء.

### السؤال الثاني

( ١ ) اختر الإجابة الصحيحة مما بين القوسين:

- ١ عند كتابتك لبحث عن أهمية موقع مصر تستخدم المصادر الثانوية مثل: .....
- (المخاطبات الرسمية - البريدات - الوثائق الرسمية - الكتب)
- ٢ تقع مصر في الركن الشمالي الشرقي في قارة .....
- (إفريقيا - أستراليا - أمريكا الجنوبية - أوروبا)
- ٣ اللون الذي يدل على السلام في علم مصر هو: .....
- (الأبيض - الأحمر - الأسود - الأخضر)
- ٤ تخلو مصر من البيئة .....
- (الزراعية - القطبية - الصحراوية - الصحية)

(ب) صنف العبارات التالية إلى رأى وحقيقة في الجدول التالي:

(مدينة الغردقة أنشئت عام ١٩٠٥ م - تبلغ مساحة الغردقة ٤٠ كم - مدينة الغردقة أجمل مدن مصر -

مناخ الغردقة صحراوي جاف)

حقيقة	رأى
.....	.....



### السؤال الثالث

( ١ ) اكتب كلمة (صواب) أمام العبارة الصحيحة، وكلمة (خطأ) أمام العبارة غير الصحيحة:

- ١ يستخدم مقياس الرسم في تحديد الاتجاهات على الخريطة. ( )
  - ٢ تقع محافظة القاهرة ضمن محافظات الوجه البحرى. ( )
  - ٣ يدل اللون الأبيض في علم مصر على السلام. ( )
  - ٤ يلون البحر المتوسط على الخريطة باللون الأخضر. ( )
  - ٥ لكل طفل الحق في الرعاية والتعليم والصحة. ( )
- (ب) بم تفسر...؟ أهمية الصحراء البيضاء للاقتصاد المصرى.

### السؤال الرابع

( ١ ) صوب ما تحته خط:

- ١ ساحل البحر الأحمر يتميز بالاتساع.
- ٢ ما تقوم به الدولة لتلبية احتياجات السكان يطلق عليه سلعة.
- ٣ الموارد المتجددة هي الموارد التي تنفذ باستخدام الإنسان لها.
- ٤ مساعدة أفراد الأسرة في بعض الأعمال تعد من حقوق الطفل.

(ب) وضح:

١ تشير الصورة المقابلة إلى إحدى الصناعات التي تعتمد على مورد طبيعي هو:



٢ استخدامًا آخر لهذا المورد.



إهداء الأستاذ/ أحمد بدير عبد العاطى

# الأشياء



## الدراسات الاجتماعية الصف ٤ الابتدائي

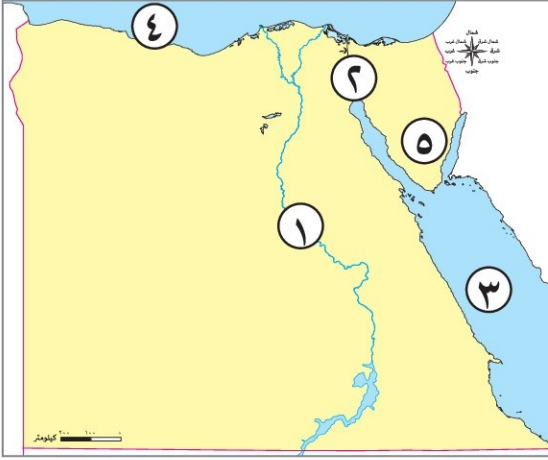
الإجابات النموذجية للنماذج الاسترشادية للفصل الدراسي الأول

العام الدراسي 2022-2023



## إجابة نموذج (١)

### السؤال الأول



(١) أمامك خريطة صماء لمصر، اكتب مدلول الأرقام عليها:

١ يشير رقم (١) على الخريطة إلى نهر النيل.

٢ يشير رقم (٢) على الخريطة إلى قناة السويس.

٣ يشير رقم (٣) على الخريطة إلى البحر الأحمر.

٤ يشير رقم (٤) على الخريطة إلى البحر المتوسط.

٥ يشير رقم (٥) على الخريطة إلى شبه جزيرة سيناء.

(ب) بم تفسر..؟ أهمية رسم وردة البوصلة على الخريطة.

توضح الاتجاهات الأصلية والاتجاهات الفرعية، وتساعدنا في تحديد موقع معين على الخريطة بالنسبة إلى المواقع الأخرى.

### السؤال الثاني

(١) اختر الإجابة الصحيحة مما بين الأقواس:

١ تقع مصرفى الركن الشمالى الشرقى من قارة ..... (إفريقيا - أستراليا - أوروبا - أمريكا الجنوبية)

٢ يمكننا تحديد اتجاه الرياح باستخدام .....

(جورب الرياح - طواحين الهواء - مقياس المطر - الأنيمومتر)

٣ يتخذ علم مصر شكل .....

(مثلث - دائرة - مستطيل - مربع)

٤ يدل النسرفى وسط علم مصر على .....

(الضعف - الثورة - النضال - القوة)

(ب) صنف المصادر الآتية إلى مصادر أولية ومصادر ثانوية فى الجدول التالى:

(الأفلام التسجيلية - المقالات - الأبحاث - الأهرامات)

مصادر أولية	مصادر ثانوية
الأفلام التسجيلية	الأبحاث
الأهرامات	المقالات

### السؤال الثالث

( ١ ) اكتب كلمة (صواب) أمام العبارة الصحيحة، وكلمة (خطأ) أمام العبارة غير الصحيحة:

- ١ البترول والفحم من مصادر الطاقة التي تحتاج لآلاف السنين لتكوينها. (صواب)
- ٢ صناعة السجاد والنسيج اليدوي من الحرف المدرجة على قائمة التراث العالمي في منظمة اليونسكو. (صواب)
- ٣ تعد حملة «١٠٠ مليون صحة» من الخدمات الثقافية التي توفرها الدولة. (خطأ)

(ب) أمامك صورتان: اكتب ما تدل عليه كل منهما، ثم حدد أوجه الشبه والاختلاف بينهما:



(ب) شعار محافظة القاهرة



(١) علم مصر

- ١ وجه الشبه: كلاهما راية.
- ٢ وجه الاختلاف: العلم هو رمز يتخذه كل بلد. الشعار رمز تتخذه المحافظة لها.

### السؤال الرابع

( ١ ) أكمل العبارات الآتية بما يناسبها من كلمات:

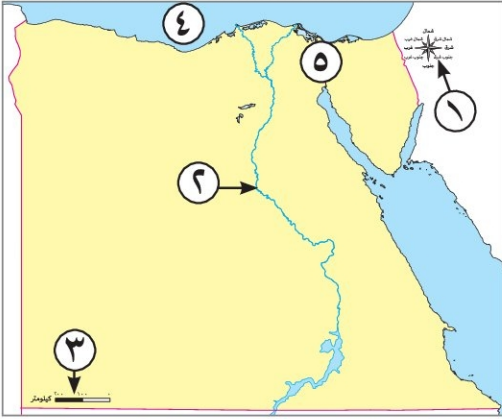
- ١ تشغل معظم مساحة مصر البيئة الصحراوية.
- ٢ من أهم مصادر المياه العذبة في مصر نهر النيل.
- ٣ إسراف المزارعين في استخدام الأسمدة الكيماوية يؤدي إلى تلوث التربة.
- ٤ أقدم الصناعات اليدوية وتنتشر في العديد من القرى المصرية هي صناعة الفخار.
- ٥ حرفة صيد الأسماك والأنشطة التجارية تنتشر في البيئة الساحلية.
- ٦ إنفاق النقود لشراء الحاجات يسمى الاستهلاك.

(ب) اكتب نتيجة واحدة ترتب على: الإفراط في استخدام مصادر الطاقة غير المتجددة.

يعرضها للنفاذ.



## إجابة نموذج (٢)



(١) أمامك خريطة صماء لمصر، اكتب مدلول الأرقام عليها:

- ١ وردة البوصلة.
- ٢ نهر النيل.
- ٣ مقياس الرسم.
- ٤ البحر المتوسط.
- ٥ قناة السويس.

(ب) أجب عن السؤال التالي: اكتب نتيجة واحدة تترتب على حرق قش الأرز.

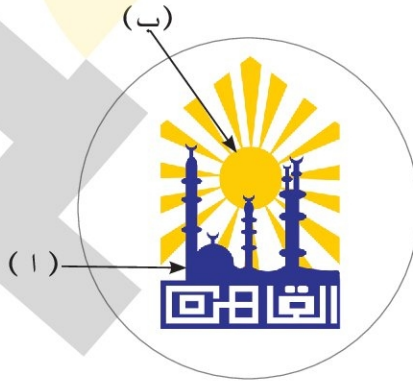
زيادة نسبة تلوث الهواء في البيئة الزراعية والمدن المجاورة، وتكون السحابة السوداء.

### السؤال الثاني

(١) أكمل العبارات الآتية بما يناسبها من كلمات:

- ١ رسم توضيحي لسطح الأرض أو جزء منه الخريطة.
- ٢ عاصمة مصر هي محافظة القاهرة.
- ٣ الشعاراية تتخذها المحافظة رمزاً لها.
- ٤ يمكننا قياس سرعة الرياح بالأنيمومتر.

(ب) أمامك صورة لشعار محافظة القاهرة، وضح:



١ يتكون شعار محافظة القاهرة من عدة رموز:

(أ) الجامع الأزهر الشريف (ب) شمس ساطعة

٢ حدد سبب احتفال كل محافظة بعيد قومي خاص بها.

لأنه يرتبط بحدث تاريخي أو ذكرى مهمة مرت بها المحافظة.



### السؤال الثالث

( ١ ) صوب ما تحته خط:

- ١ محطة الزعفرانة تولد الكهرباء من الشمس. (الرياح)
- ٢ صناعة الفخار يتم إنتاجها في شوارع الخيامية بالأزهر. (الخيامية)
- ٣ تستخدم السيارات التي تعمل بالبنزين لحماية الهواء من التلوث. (بالغاز الطبيعي)
- ٤ الجبال والهضاب المغطاة بالمسحوق الأسود توجد في الصحراء البيضاء. (السوداء)
- ٥ بحر الرمال العظيم يوجد في الصحراء الشرقية. (الغربية)

(ب) أجب عن السؤال التالي: اكتب تفسيراً لأهمية الخريطة للجيش. تستخدم في تحديد المواقع الحربية.

### السؤال الرابع

( ١ ) اكتب كلمة ( صواب ) أمام العبارة الصحيحة، وكلمة ( خطأ ) أمام العبارة غير الصحيحة:

- ١ تستخدم الأقمار الصناعية في التقاط الصور الجوية. (خطأ)
- ٢ يجب أن يستمع الصيادون للنشرة الجوية قبل الخروج في رحلات الصيد. (صواب)
- ٣ يؤدي توليد الكهرباء من الرياح إلى تلوث الهواء. (خطأ)
- ٤ يؤدي انتشار الحرف اليدوية إلى ارتفاع نسبة البطالة. (خطأ)
- ٥ يستخدم مقياس الرسم في تحديد الاتجاهات على الخريطة. (خطأ)
- ٦ يدل النسب الذي يتوسط العلم على القوة والشجاعة. (صواب)

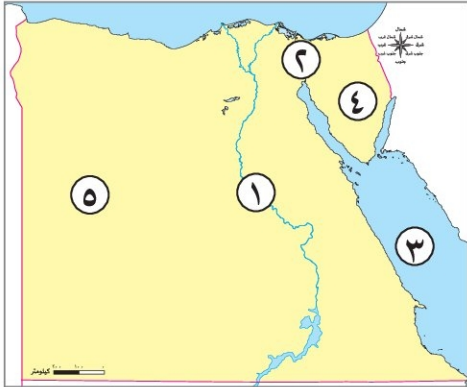
(ب) حدد اختلافًا واحدًا بين السهل الساحلي والسهل الفيضي:

وجه المقارنة	السهل الساحلي	السهل الفيضي
الاختلاف	مساحة من الأرض مستوية تمتد على طول ساحل البحر.	مساحة من الأرض مستوية تتكون من رواسب الأنهار.



## إجابة نموذج (٣)

### السؤال الأول



(١) أمامك خريطة صماء لمصر، اكتب مدلول الأرقام عليها:

- ١ يشير رقم (١) على الخريطة إلى نهر النيل .
- ٢ يشير رقم (٢) على الخريطة إلى قناة السويس .
- ٣ يشير رقم (٣) على الخريطة إلى البحر الأحمر .
- ٤ يشير رقم (٤) على الخريطة إلى شبه جزيرة سيناء .
- ٥ يشير رقم (٥) على الخريطة إلى الصحراء الغربية .

(ب) اكتب دليلاً على صحة العبارة التالية: تتعرض التربة لأخطار متعددة.

- تتعرض لإسراف كثير من المزارعين في استخدام الأسمدة الكيماوية لزيادة خصوبة التربة.
- استخدام المبيدات الحشرية لقتل الآفات الضارة بالمحاصيل الزراعية.

### السؤال الثاني

(١) اختر الإجابة الصحيحة مما بين الأقواس:

- ١ «مدينة شرم الشيخ أجمل المدن المصرية» تعبر هذه العبارة عن .....  
(رأى - خيال - حقيقة - واقع)
- ٢ القناة التي تعد شريان التجارة العالمى الذى يربط بين البحرين المتوسط والأحمر بشكل مباشر هى قناة .....  
(بنما - السويس - سيزوستيريس - جونجلى)
- ٣ قامت الدولة ببناء العاصمة الإدارية الجديدة لتخفيف الضغط السكانى عن .....  
(الدقهلية - القاهرة - الإسكندرية - الجيزة)
- ٤ تعتمد الزراعة على المياه الجوفية فى منطقة .....  
(وادي النيل - الواحات - الصحراء الشرقية - الدلتا)

(ب) بم تفسر...؟

- ١ أهمية الخريطة للفلاح .  
تستخدم فى تحديد ملكية الأرض الزراعية .
- ٢ طرح الدولة مبادرة «حياة كريمة» .  
للتخفيف عن المواطنين فى المجتمعات الأكثر احتياجاً .



### السؤال الثالث

( ١ ) اكتب ما تشير إليه العبارات الآتية:

- ١ راية تتخذها المحافظة رمزاً لها لتعبر عن نشاط سكانها أو جزء من تاريخها. (الشعار)
- ٢ أرض شديدة الارتفاع ولها قمة وجوانبها شديدة الانحدار تزيد على ١٠٠٠ م. (الجبل)
- ٣ يشير إلى المعلومات الواردة على الخريطة. (عنوان الخريطة)
- ٤ معلومات أو أحداث تم إثبات صحتها والتأكد من دقتها. (حقائق)
- ٥ رمز يتخذ كل بلد ليعبر عن تاريخه وتراثه. (العلم)

(ب) ما العلاقة بين ...؟ مصروفات العالم القديم.

تقع مصر في الركن الشمالى الشرقى لقارة إفريقيا؛ وبذلك فهي تقع في قلب العالم القديم.

### السؤال الرابع

( ١ ) اكتب كلمة ( صواب ) أمام العبارة الصحيحة، وكلمة ( خطأ ) أمام العبارة غير الصحيحة:

- ١ للتأكد من صحة المعلومات الواردة عن الهرم نستخدم المصادر الأولية والثانوية. (صواب)
- ٢ المحيط الهادى يمثل مساحة شاسعة من الماء المالح قليلة العمق. (خطأ)
- ٣ اتخذ علم مصر شكلاً واحداً على مر التاريخ. (خطأ)
- ٤ يرتبط العيد القومى للمحافظة بحدث تاريخى أو ذكرى مهمة. (صواب)

(ب) ما المقصود ب...؟

١ الحاجات.

الأشياء التى يجب أن تحصل عليها لتعيش.

٢ الطاقة الحفزية.

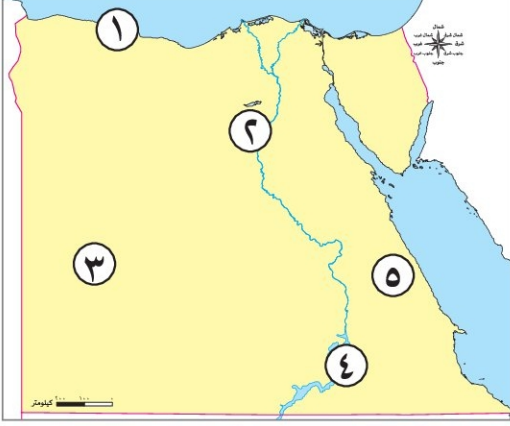
الطاقة التى نستخرجها من باطن الأرض، مثل: البترول، الفحم، الغاز الطبيعى.



## إجابة نموذج (٤)

### السؤال الأول

(١) أمامك خريطة صماء لمصر، اكتب مدلول الأرقام عليها:



- ١ يشير رقم (١) على الخريطة إلى البيئة الساحلية.
- ٢ يشير رقم (٢) على الخريطة إلى البيئة الزراعية.
- ٣ يشير رقم (٣) على الخريطة إلى الصحراء الغربية.
- ٤ يشير رقم (٤) على الخريطة إلى بحيرة صناعية هي بحيرة ناصر.
- ٥ يشير رقم (٥) على الخريطة إلى محافظة يوجد بها محطة الزعفرانة محافظة البحر الأحمر.

(ب) حدد سببًا واحدًا لأهمية مفتاح الخريطة.

يوضح مدلول ومعنى الألوان والرموز الموجودة على الخريطة.

### السؤال الثاني

(١) أكمل العبارات الآتية بما يناسبها من كلمات:

- ١ الحدود التي تفصل المحافظات عن بعضها تسمى حدودًا إدارية.
- ٢ الترمومتر يستخدم في قياس درجات الحرارة.
- ٣ تشمل الزراعة في مصر وادي النيل والدلتا.
- ٤ المصدر الرئيسي لمياه الشرب في الواحات المياه الجوفية.
- ٥ حماية المواطنين وتوفير الأمن والاستقرار لهم يعد من الخدمات الأمنية.
- ٦ التحاق الطفل بالمدرسة من حقوقه في التعليم.

(ب) اكتب اختلافًا واحدًا بين الجبل والتل في الجدول التالي:

وجه المقارنة	الجبل	التل
الاختلاف	أرض شديدة الارتفاع وجوانبها شديدة الانحدار.	أرض مرتفعة قليلاً ويقل ارتفاعها عن ١٠٠٠ متر.



### السؤال الثالث

( ١ ) صوب ما تحته خط:

- ١ قامت الدولة بإنشاء مدينة الروبيكي لتشجيع صناعة النسيج. (الجلود)
- ٢ اتجهت دول العالم إلى استخدام مصادر الطاقة المتجددة مثل الرياح والفحم. (الشمس)
- ٣ مناجم الذهب تنتشر في الدلتا. (الصحراء الشرقية)
- ٤ أكثر البحار تلوثاً البحر الأحمر. (المتوسط)
- ٥ يعد البحر المتوسط من أهم مصادر المياه العذبة في مصر. (نهر النيل)

(ب) دلل على صحة العبارة الآتية: لنظام تحديد المواقع العالمي GPS أهمية كبيرة.

يستخدم في تحديد المحافظات وحدودها - تحديد عنوان وموقع مكان ما - تحديد اتجاهات السير.

### السؤال الرابع

( ١ ) اختر الإجابة الصحيحة مما بين الأقواس:

- ١ عند التقاط صورة حقيقية تفصيلية لجزء من سطح الأرض فإننا نستخدم ..... (الطائرة - القمر الصناعي - الصاروخ - سفينة الفضاء)
- ٢ إذا أردت أن تستخدم مصدرًا أوليًا لإجراء بحث عن قناة السويس فإنك تستخدم ..... (موسوعة عن القناة - وثائق رسمية عن القناة - مقالاً عن القناة عام ٢٠٠٠ م - كتاباً عن القناة عام ٢٠١٤ م)
- ٣ اللون الذي يدل على نضال الشعب المصري هو: ..... (الأبيض - الأحمر - الأسود - الأخضر)
- ٤ يمكننا تحديد اتجاه الرياح باستخدام ..... (جورب الرياح - طواحين الهواء - مقياس المطر - الأنيمومتر)

(ب) أمامك صورة تعبر عن صناعة الخزف، أكمل:

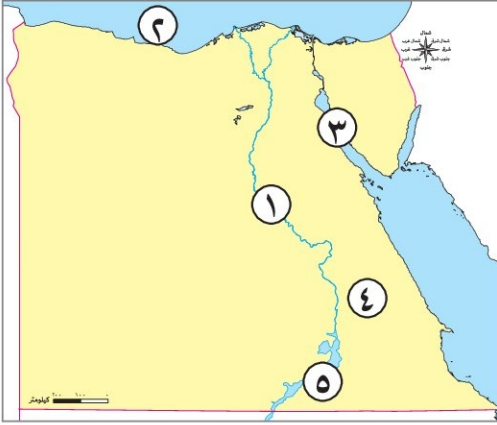
- ١ يتم صناعة هذا المنتج من الرمال السوداء.
- ٢ تنتشر هذه الرمال على سواحل البحر المتوسط.





## إجابة نموذج (٥)

### السؤال الأول



( ١ ) أمامك خريطة صماء لمصر، اكتب مدلول الأرقام عليها:

- ١ يشير رقم ( ١ ) إلى مورد للمياه العذبة نهر النيل.
- ٢ يشير رقم ( ٢ ) إلى مورد للمياه المالحة البحر المتوسط.
- ٣ يشير رقم ( ٣ ) لمنطقة ينتشر بها البترول خليج السويس.
- ٤ يشير رقم ( ٤ ) إلى الصحراء الشرقية.
- ٥ يشير رقم ( ٥ ) إلى بحيرة ناصر.

(ب) ما العلاقة بين ... المياه الجوفية والزراعة في الصحراء.

ساعدت المياه الجوفية في البيئة الصحراوية على قيام الزراعة وتركز السكان حولها.

### السؤال الثاني

( ١ ) اختر الإجابة الصحيحة مما بين القوسين:

- ١ عند كتابتك لبحث عن أهمية موقع مصر تستخدم المصادر الثانوية مثل: .....
- (المخاطبات الرسمية - البرديات - الوثائق الرسمية - الكتب)
- ٢ تقع مصر في الركن الشمالي الشرقى في قارة .....
- (إفريقيا - أستراليا - أمريكا الجنوبية - أوروبا)
- ٣ اللون الذى يدل على السلام فى علم مصر هو: .....
- (الأبيض - الأحمر - الأسود - الأخضر)
- ٤ تخلو مصر من البيئة .....
- (الزراعية - القطبية - الصحراوية - الصحية)

(ب) صنف العبارات التالية إلى رأى وحقيقة فى الجدول التالى:

(مدينة الغردقة أنشئت عام ١٩٠٥ م - تبلغ مساحة الغردقة ٤٠ كم - مدينة الغردقة أجمل مدن مصر -

مناخ الغردقة صحراوى جاف)

حقيقة	رأى
مدينة الغردقة أنشئت عام ١٩٠٥ م تبلغ مساحة الغردقة ٤٠ كم مناخ الغردقة صحراوى جاف	مدينة الغردقة أجمل مدن مصر



### السؤال الثالث

( ١ ) اكتب كلمة (صواب) أمام العبارة الصحيحة، وكلمة (خطأ) أمام العبارة غير الصحيحة:

- ١ يستخدم مقياس الرسم في تحديد الاتجاهات على الخريطة. (خطأ)
  - ٢ تقع محافظة القاهرة ضمن محافظات الوجه البحرى. (صواب)
  - ٣ يدل اللون الأبيض في علم مصر على السلام. (صواب)
  - ٤ يلون البحر المتوسط على الخريطة باللون الأخضر. (خطأ)
  - ٥ لكل طفل الحق في الرعاية والتعليم والصحة. (صواب)
- (ب) بم تفسر...؟ أهمية الصحراء البيضاء للاقتصاد المصرى.  
تجذب السياح لأنها تعتبر متحفاً مفتوحاً لدراسة المظاهر التضاريسية والحفريات والحياة البرية.

### السؤال الرابع

( ١ ) صوب ما تحته خط:

- ١ ساحل البحر الأحمر يتميز بالامتساع. (الضيق)
- ٢ ما تقوم به الدولة لتلبية احتياجات السكان يطلق عليه سلعة. (خدمة)
- ٣ الموارد المتجددة هي الموارد التى تنفذ باستخدام الإنسان لها. (غير المتجددة)
- ٤ مساعدة أفراد الأسرة في بعض الأعمال تعد من حقوق الطفل. (واجبات)

(ب) وضح:

١ تشير الصورة المقابلة إلى إحدى الصناعات التى تعتمد على مورد طبيعى هو:

الرمال البيضاء.

٢ استخداماً آخر لهذا المورد.

صناعة الخلايا الشمسية.

