

1- أوجد حاصل الجمع التالي: $3,444+5,666=$

أ- 10,000 ب- 1,0000 ج- 9,1100 د- 0,9110

.....

2- لدينا ثلاثة صناديق بنفس الحجم يوجد بداخل كل صندوق منها صندوقان منفصلان وفي داخل كل صندوق صغير يوجد ثلاثة صناديق أصغر حجمًا كم يبلغ مجموع الصناديق كلها؟

أ- 18 صندوق ب- 27 صندوق ج- 33 صندوق د- 56 صندوق

.....

3- حمام مائي ساخن درجة حرارته 100 درجة مئوية وضع كما في الشكل الآتي أربعة قضبان أي القضبان يكون أعلى درجة حرارة بعد 10 دقائق

أ-الزجاج ب- الذهب ج- الخشب د- الحديد

.....

4- عدد الأعداد الصحيحة التي تحتوي على الرقم 2 أو 4 أو الرقمين معًا من 1 إلى 30 ؟


أ- 4 ب- 6 ج- 14 د- 23

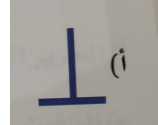
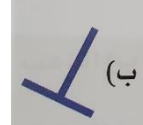

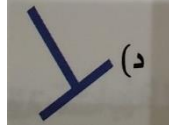

.....

5- العلاقة بين نافذة : غرفة مثل العلاقة بين

أ-كتاب: قلم ب-خضروات : خضار ج- حديقة : منزل د- قدم : ساق

.....

6- العلاقة بين الشكل  والشكل  مثل العلاقة بين



7- إذا كان الحجر خطيبًا بليغًا وإذا كانت النار ساخنة فإن الحجر:

أ- محدث. ب- ينكسر. ج- ينصهر. د- يتجمد


8- طير نسر باتجاه الشمال ثم يعطف باتجاه اليسار ومن ثم يعطف يمينًا ومن ثم يعطف يسارًا واستمر النسر في التحليق ما هو الاتجاه النهائي الذي يحلق به النسر

أ- الشمال ب- الجنوب. ج- الغرب. د- الشرق

9- اختر الكلمة الشاذة من بين الخيارات التالية:

أ- لبنان. ب- سوريا. ج- مصر. د- السعودية

10- كم عدد الزوايا في الشكل الآتي :



أ- 8 ب- 10 ج- 12 د- 13

11- كم ثلثاً في العدد (3)

أ- أربعة أثلاث. ب- ستة أثلاث. ج- تسعة أثلاث. د- عشرة أثلاث.

12- اختر المرادف للكلمة المكتوبة: جلبية

أ- كثرة الضجيج والازعاج. ب- أخذه. ج- أتى به. د- تركه

13- في العام الماضي التحق بنادي رياضي 85 فتى و 52 فتاة وفي العام الحالي زاد عدد المشاركين ليصل إلى 196 منهم 96 فتاة فما مقدار الزيادة في عدد الفتیان؟

أ- 15 ب- 100 ج- 137 د- 44

14- ما لدى كريم ضعف ما لدى فضل، وما لدى فضل نصف ما لدى مازن ، فإن ما لدى كريم..... ما لدى مازن

أ- أكبر من. ب- أصغر من. ج- مساوي. د- غير معروف.

15- ادخرت منال 24 ريالاً وعندما ذهبت مع والدتها إلى السوق اشترت عصيراً ب 3,5 ريالاً
وساندويتش ب 8,25 ريالاً ومناديل جيب صغيرة ب 0,75 هللة ، فكم المتبقي معها؟؟

أ-12,5 ريالاً ب-11,5 ريالاً ج-10,5 ريالاً د-13,5 ريالاً

16- الزمهير تعني:

أ-شدة القلق. ب-شدة البرد ج-شدة الخوف. د-شدة الحر

17-العلاقة بين حياة : موت مثل العلاقة بين :

أ-سفينة : بحر ب-غضب: توتر ج-نهار: ليل د-مفتاح: سيارة

18- أي المواد الآتية أكثر صلادة (مقاومة للخدش)

أ-الحديد ب-الماس ج-الزجاج د-الخشب

19-إذا كان مع خالد في بداية السنة 100 ريال فما مقدار المبلغ الذي معه بعد مرور خمسة أشهر

أ-100 ب-120 ج-125 د-150

20-الرقم الذي يحل محل علامة الاستفهام لإكمال السلسلة : 1- 2- 5- 10- 17

أ-23 ب-25 ج-26 د-30

21- ما هو العدد الشاذ؟ 17، 27، 37، 47، 67؟

أ-27 ب-37 ج-47 د-17

22- أصغر عدد نظرحه من 596 لكي يقبل القسمة على خمسة هو :

أ-صفر. ب-واحد. ج-أربعة. د-تسعة

23-العدد المكون من 30 ألف و30 مئة و30 هو

أ-هو 303030. ب-هو 33430. ج-هو 33030. د-هو 33300

24- ثلث مبلغ حسام يساوي نصف مبلغ جمال فإن مبلغ حسام =

أ-أكبر من مبلغ جمال. ب- أقل من مبلغ جمال. ج-يساوي مبلغ جمال. د-ضعف مبلغ جمال

25- أكمل السلسلة التالية: 1، 2، 5، 11، 12، 15، 21،،

أ-هما 22، 28. ب-هما 26، 30. ج-هما 24، 25. د-هما 22، 25.

26- إذا كان سعر المكالمة الهاتفية لإحدى المدن هو 3 ريالات لكل دقيقة من الدقائق الثلاث الأولى ثم

أربع ريالات لكل دقيقة بعد ذلك فكم تدفع في مكالمة مدتها 9 دقائق ؟

أ-ثمنها 33. ب-ثمنها 21. ج-ثمنها 12. د-ثمنها 36