

صفحة عاشق لغة الضاد.. رضا نصار

# الأصدقاء



معاك الكتاب  
app



لنزل تطبيق  
الأصدقاء

نسخة تجريبية للمدرسين  
هدية  
مجانبة

للمدرسين  
ت.ق.ع.  
ب.ج.ه.د.



صفحة عاشق لغة الضاد  
رضا نصار  
صفحة تعليمية



اختبارات الوحدات + المراجعة النهائية +  
النماذج الاسترشادية + الإجابات النموذجية

إهداء / صفحة عاشق لغة الضاد.. رضا نصار

الصف الخامس الابتدائي  
صفحة عاشق لغة الضاد.. رضا نصار

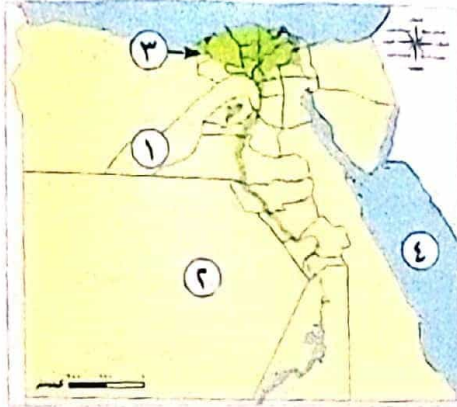
5  
2023

الدراسات الاجتماعية

صفحة عاشق لغة الضاد.. رضا نصار

الفصل  
الدراسي  
الثاني

السؤال الأول: (١) امامك خريطة صماء لمصر، اختب مدلول الأرقام عليها:



- ١- من أكثر مدن مصر سكاناً .....
- ٢- محافظة ذات كثافة سكانية منخفضة .....
- ٣- محافظة جاذبة للسكان .....
- ٤- البحر .....

(ب) فسر بذكر سبب واحد:

- انخفاض عدد الوفيات في مصر في السنوات الأخيرة.

السؤال الثاني: اكمل العبارات الآتية:

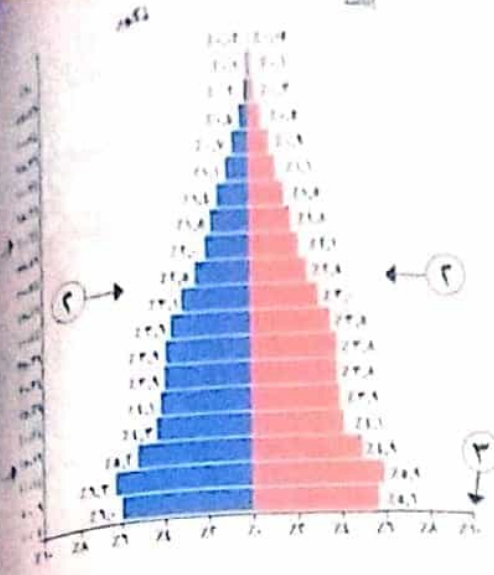
- ١- الهرم السكاني ذو القاعدة العريضة يدل على زيادة معدل .....
- ٢- توفر الدولة وسائل تنظيم الأسرة لمواجهة مشكلة .....
- ٣- كان المجتمع المصري القديم ينقسم إلى ..... طبقات.
- ٤- اتخذ المصريون القدماء معبوداتهم من قوى .....
- ٥- يعيش معظم سكان مصر على ضفاف .....

السؤال الثالث: اختر الإجابة الصحيحة مما بين القوسين:

- ١- تمثل فئة صغار السن في مصر نحو ..... من السكان.  
(النصف - الثلث - الربع - الخمس)
- ٢- صنعت ملابس عامة الشعب في مصر القديمة من .....
- (الصوف - الكتان - القطن - الحرير)
- ٣- دعا الملك ..... إلى عبادة إله واحد.  
(أمنمحات الأول - سنوسرت الثالث - رمسيس الثاني - أمنحتب الرابع)
- ٤- انخفضت نسبة الوفيات في مصر نتيجة الاهتمام بالرعاية .....
- (الاجتماعية - الثقافية - الصحية - السياحية)
- ٥- شملت الطبقة الرابعة في مصر القديمة العاملين بـ .....
- (الوزارة - الزراعة - الجيش - الكتابة)



السؤال الأول: (١) قسّم على إمامك يمثل الهرم السكاني لمصر. ادرسه ثم اجب:



١- يشير رقم (١) إلى التركيب (أكمل)

٢- يشير رقم (٢) على جانبي الهرم إلى التركيب

(النوعى - العمرى) (اختر)

٣- يشير رقم (٣) أسفل الهرم إلى نسب الفئات

العمرية (صح - خطأ)

٢- ما العلاقة بين ٢

- موارد المياه وتركز السكان.

السؤال الثاني: اختر الإجابة الصحيحة مما بين القوسين

١- عملية التحنيط عند قدماء المصريين كانت تستغرق ..... يوماً. (٥٠ - ٦٠ - ٧٠ - ٨٠)

٢- أصدرت الدولة قوانين تجرم عمالة .....

(الشيوخ - الأطفال - المراهقين - الرجال)

٣- ملابس الأغنياء في مصر القديمة كانت تصنع من .....

(الحريز - الجلد - القطن - الصوف)

٤- تحتل مصر المركز ..... إفريقياً من حيث عدد السكان.

(الأول - الثاني - الثالث - الرابع)

٥- الفئة التى تصنف على أنها غير منتجة فى الهرم السكاني المصرى هى .....

( صفار السن - الذكور - متوسطو السن - الشباب )

السؤال الثالث: صوب ما تحته خط

١- ضمت الطبقة الأولى فى المجتمع المصرى القديم الوزير وأسرتة.

٢- الزيادة الطبيعية هى انتقال الأفراد من مكان إلى آخر.

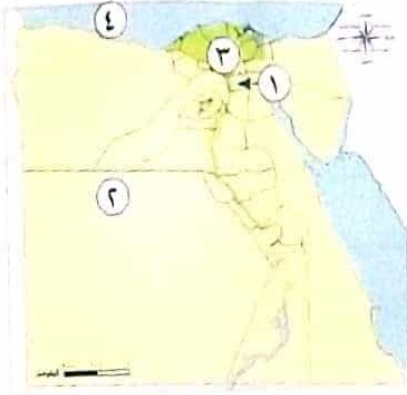
٣- الخلود هو الحياة مرة أخرى بعد الموت.

٤- يتميز الهرم السكاني ذو القاعدة العريضة بانخفاض عدد المواليد.

٥- تظهر المشكلة السكانية عندما يزيد عدد السكان على الأنشطة.



السؤال الأول: ( أ ) أمامك خريطة صماء لمصر، اكتب مدلول الأرقام عليها:



١- يشير رقم (١) إلى أعلى المدن ازدحامًا بالسكان:

٢- يشير رقم (٢) إلى محافظة صحراوية .....

٣- يشير رقم (٣) إلى أكبر المناطق كثافة سكانية

وهي: .....

٤- يشير رقم (٤) إلى البحر .....

(ب) اذكر لتيحة واحدة ل:

- اعتقاد المصريين القدماء في البعث والخلود.

السؤال الثاني: اكتب كلمة (صواب) أمام العبارة الصحيحة، وكلمة (خطأ) أمام العبارة غير الصحيحة:

- ١- كانت تربية الأبناء وتعليمهم القيم الحميدة في مصر القديمة من مسئوليات الأب فقط. ( )
- ٢- تكونت المحكمة التي كان يقف أمامها المتوفى في مصر القديمة من ٤٢ قاضيًا. ( )
- ٣- تحتل مصر المرتبة الثالثة عالميًا من حيث عدد السكان. ( )
- ٤- تمتعت المرأة في مصر القديمة بمكانة عالية. ( )
- ٥- تنظيم الأسرة يساعد على زيادة معدل النمو السكاني. ( )

السؤال الثالث: اختر الإجابة الصحيحة مما بين القوسين:

- ١- صغار الموظفين في مصر القديمة كانوا ينتمون إلى الطبقة .....
- (الأولى - الثانية - الثالثة - الرابعة)
- ٢- من أسباب المشكلة السكانية في مصر تفضيل الذكور على .....
- (الأفراد - الإناث - الشيوخ - الأطفال)
- ٣- كانت الريشة رمزًا للإلهة ..... في مصر القديمة. (ماعت - حورس - أوزوريس - رع)
- ٤- اهتم المصريون القدماء بممارسة الألعاب الرياضية مثل .....
- (الجمباز - الكاراتيه - المصارعة - التنس)
- ٥- الفئة التي تصنف على أنها غير منتجة في الهرم السكاني هي .....
- (صغار السن - المراهقون - متوسطو السن - الشباب)



السؤال الأول: اكتب كلمة تصواب (أمام العبارة الصحيحة) وكلمة (خطأ) أمام العبارة غير الصحيحة

- ١- تساوى عدد السكان مع الموارد المتاحة بسبب المشكلة السكانية.
- ٢- اعتقد المصري القديم في أن المتوفى سيقف أمام محكمة مكونة من ٢٤ قاضيًا.
- ٣- تمتعت المرأة بمكانة عالية في المجتمع المصري القديم.
- ٤- ترتفع الكثافة السكانية في مصر في المناطق الصحراوية.
- ٥- تنظيم الأسرة يساعد على انخفاض النمو السكاني في مصر.

(ب) اكتب المثلث المثلثة على ٢

- هجرة السكان من مكان إلى آخر.

السؤال الثاني: اكتب الإجابة الصحيحة مما بين القوسين

- ١- أكثر محافظات مصر سكانًا محافظة (البحر الأحمر - القاهرة - شمال سيناء - العنينا)
- ٢- قامت الدولة ببذل الكثير من الجهود لحل المشكلة السكانية منها (التشجيع على الإنجاب - التشجيع على الزواج المبكر - تجريم عمالة الأطفال - إهمال الرعاية الصحية)
- ٣- كان رمز الإله أتون عند المصريين القدماء (القمر - البحر - النهر - الشمس)
- ٤- زيادة متوسط عمر الفرد وانخفاض الوفيات في مصر نتيجة الاهتمام بالرعاية (الاجتماعية - الثقافية - الصحية - السياحية)
- ٥- ضمت الطبقة الثانية في مصر القديمة (الملك وأسرتة - حكام الأقاليم - صغار الموظفين - العاملين بالزراعة)

السؤال الثالث: اكتب العبارات التالية

- ١- قلت معدلات الوفيات في مصر بسبب الاهتمام بالرعاية
- ٢- اتخذ الملك أمنحتب الرابع من مدينة ..... عاصمة له.
- ٣- تنقسم الهجرة إلى قسمين هما ..... و .....
- ٤- تقسيم السكان طبقًا لفئات العمر يقصد به التركيب .....
- ٥- استخدم المصري القديم أدوات الزينة مثل ..... و .....

السؤال الأول: (١) اكتب كلمة (صواب) أمام العبارة الصحيحة، وكلمة (خطأ) أمام العبارة غير الصحيحة.

١- بنى المصريون القدماء منازلهم من الطوب اللبن.

٢- غزا الهكسوس مصر في نهاية الدولة القديمة.

٣- استخدمت الكتابة الديموطيقية في تسجيل نواحي الحياة العامة.

٤- البطالمة هم خلفاء الإسكندر الأكبر.

(ب) افسر بذكر سبب واحد:

- حرص العديد من السياح على زيارة معبدى أبو سمبل سنوياً.

السؤال الثاني: اكمل العبارات الآتية:

١- استخدم المصريون القدماء أدوات طبية مثل .....

٢- تميز قصر الملك في مصر قديماً ب .....

٣- زار الإسكندر الأكبر معبد الإله ..... بواحة سيوة.

٤- استطاع الجيش المصرى فى حرب أكتوبر ١٩٧٣م أن يفاجئ العالم بتدمير خط .....

٥- أدخل البطالمة أدوات جديدة فى الزراعة مثل .....

السؤال الثالث: (١) اختر الإجابة الصحيحة مما بين القوسين:

١- من أهم الآثار البطلمية فى مصر معبد ..... (حتشبسوت - آمون - إدفو - الأقصر)

٢- تقابل جوانب الهرم الأكبر مع الاتجاهات الأربعة للبوصله دليل على تقدم المصرى القديم فى علم .....

٣- كانت مدينة ..... فى العصر الرومانى أهم مركز تجارى فى شرق البحر المتوسط. (العمارة - الفلك - النحت - الطب)

٤- هليوبوليس - طيبة - نخب - الإسكندرية

(ب) الصورة التى أمامك تعبر عن أحد الآثار النبطية فى مصر. وضح:



١- اسم هذا الأثر: .....

٢- الهدف من إنشائه .....



السؤال الأول : ( ١ ) اختر الإجابة الصحيحة مما بين القوسين :

- ١- دخلت المسيحية مصر في منتصف القرن ..... الميلادي .  
(الأول - الثاني - الثالث - الرابع)
- ٢- برع المصري القديم في نحت التماثيل من .....  
(الفضة - الطوب - القصدير - الحجر)
- ٣- الأدب الذى يتناول الحياة بعد الموت هو الأدب .....  
(التهديبى - الدينى - القصصى - المديح)
- ٤- أطلق اسم عصر الشهداء على عهد الإمبراطور الرومانى .....  
(نيرون - دقلديانوس - قسطنطين - أغسطس)

(ب) ما العلاقة بين ..؟

- المسلات فى مصر القديمة وحساب الوقت .

السؤال الثانى : اكتب كلمة (صواب) امام العبارة الصحيحة، وكلمة (خطا) امام العبارة غير الصحيحة

- ١- قسم المصرى القديم السنة إلى ٣٦٥ يوماً مقسمة إلى ١٢ شهراً متساوياً . )
- ٢- بنى المصرى القديم معابد للآلهة منها معبد حتشبسوت . )
- ٣- خضعت مصر لإشراف الإمبراطور الرومانى بشكل مباشر . )
- ٤- بنى المصريون القدماء حصن بابليون لحماية حدود مصر الجنوبية . )
- ٥- بنى المصريون القدماء المقابر من الطوب اللبن . )

السؤال الثالث : صوب ما تحته خط :

- ١- زار الإسكندرا الأكبر معبد الإله رع بواحة سيوة .
- ٢- كانت منازل المزارعين تضم مخازن للحبوب .
- ٣- ضعفت دولة البطالمة بعد بطلميوس الأول .
- ٤- يتناول الأدب القصصى الحكم والنصائح التى يوجهها الملك لابنه .
- ٥- تقع مسلة رمسيس الثانى فى معابد الكرنك .



السؤال الأول: أكمل العبارات التالية:

- ١- استخدم الجيش المصري أثناء حرب أكتوبر ١٩٧٣م اللغة ..... كشفرة في الاتصالات اللاسلكية.
- ٢- من أشهر الحكماء في مصر القديمة الحكيم .....
- ٣- دمر المصريون القدماء خط بارليف باستخدام .....
- ٤- تخلص المصريون من الاضطهاد الروماني على يد .....
- ٥- أنشأ المصريون القدماء المسلات لتخليد .....

السؤال الثاني: ( أ ) اكتب كلمة (صواب) أمام العبارة الصحيحة، وكلمة (خطأ) أمام العبارة غير الصحيحة:

- ١- حكم خلفاء الإسكندرا الأكبر مصر حوالي ثلاثة قرون. ( )
  - ٢- صد الملك زوسر هجمات الأعداء وقام بحماية أرض سيناء. ( )
  - ٣- صنع المصري القديم تماثيل من النحاس. ( )
  - ٤- اكتشف المصريون القدماء الكثير من الأمراض والوصفات الطبية. ( )
- ( ب ) اذكر نقحة واحدة لـ هزيمة الملكة كليوباترا السابعة عام ٣١ ق.م.

السؤال الثالث: ( أ ) اختر الإجابة الصحيحة مما بين القوسين:

- ١- بفضل السلام استطاعت مصر التركيز على النمو .....  
(الاقتصادي - السياحي - الثقافي - التعليمي)
- ٢- العنصر الذي ساعد على حفظ الرسوم والنقوش المصرية القديمة حتى الآن هو .....  
( الأيدي العاملة - الموقع الجغرافي - المناخ - نهر النيل )
- ٣- أدخل البطالمة أدوات زراعية جديدة مثل .....  
( الشادوف - الطنبور - الساقية - المحراث )



( ب ) الصورة التي أمامك لمعبد حتشيسوت بالدير البحري، تأملها ثم اجب:

- ١- يعد هذا المعبد من المعابد: .....
- ٢- الهدف منه: .....

السؤال الأول: (أ) كتب كلمة (صواب) أمام العبارة الصحيحة، وكلمة (خطأ) أمام العبارة غير الصحيحة:

- ١- تدهورت الزراعة أثناء حكم البطالمة لمصر. ( )
  - ٢- تعتبر قصة الملاح الغريق من الأدب الديني عند المصريين القدماء. ( )
  - ٣- ضمت منازل العمال في مصر القديمة مخازن للحبوب. ( )
  - ٤- استطاع الرئيس أنور السادات الانتصار على العدو في حرب السادس من أكتوبر ١٩٧٣م. ( )
- (ب) ما النتائج المترتبة على...؟
- كثرة الصراعات بين الحكام في نهاية الدولة الوسطى.

السؤال الثاني: اختر الإجابة الصحيحة مما بين القوسين:

- ١- تعرضت مصر في عصر الدولة القديمة لهجوم بعض القبائل عند حدودها.....  
(الشمالية الشرقية - الشمالية الغربية - الجنوبية الشرقية - الجنوبية الغربية)
- ٢- أول دير تم بناؤه في مصر هو دير الأنبا.....  
(بيشوى - أنطونيوس - سمعان - بخوم)
- ٣- تم تحرير مصر من الهكسوس في نهاية عهد الأسرة.....  
(السادسة عشرة - السابعة عشرة - الثامنة عشرة - التاسعة عشرة)
- ٤- «استطاع المصري القديم تحديد قيمة الضرائب بناء على فيضان النيل» هذه العبارة تدل على  
تقدم المصري القديم في علم.....  
(الطب - الهندسة - الفلك - الحساب)
- ٥- اعتبر الرومان مصر مزرعة لإنتاج.....  
(الذرة - القطن - القمح - الأرز)

السؤال الثالث: لمن تنسب الأعمال الآتية؟

- ١- آخر ملوك دولة البطالمة في مصر. (.....)
- ٢- قام بطرد الهكسوس من مصر. (.....)
- ٣- قام باستكمال بناء مدينة الإسكندرية. (.....)
- ٤- انتصر على الحيثيين في معركة قادش. (.....)
- ٥- سمي عهده بعصر الشهداء. (.....)



## المفردات

( ١ ) اكتب وقارن:

اكتب جملة تشرح فيها الفرق بين كل مفهومين مما يلى، ثم قارن بين جملتك وجملة زميل لك:

١- الزيادة الطبيعية والهجرة.

٢- الهجرة الداخلية والهجرة الخارجية.

٣- التركيب النوعى والتركيب العمرى.

٤- المعابد الجنائزية ومعابد الآلهة.

٥- البعث والخلود.

## أسئلة على الخرائط والصور

(ب) اقرأ وأجب:

حدد على الخريطة:

١- محافظتين تتسمان بالكثافة السكانية المرتفعة.

٢- محافظتين تتسمان بندرة السكان.

٣- فسر سبب تركيز السكان فى الوادى والدلتا.

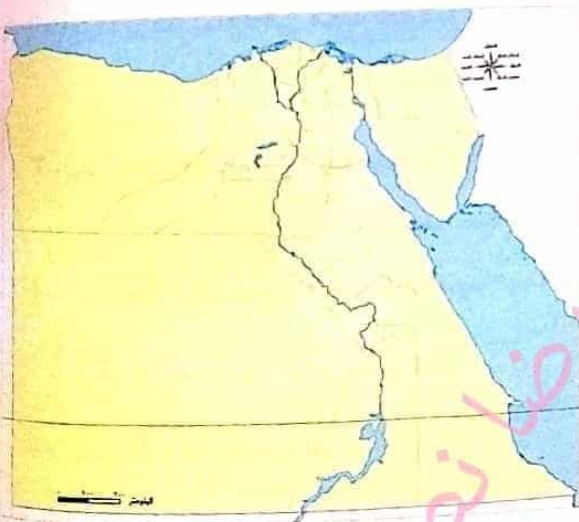
٤- اكتب مقترحاتك لحل مشكلة الزيادة السكانية فى مصر.

## التفكير الناقد

(ج) فكروا جواب:

١- فسر اختلاف توزيع السكان بين محافظات مصر.

٢- ما النتائج المترتبة على مشكلة الزيادة السكانية.



٣- دلى على صحة العبارة التالية: «اختلفت ملابس المصريين القدماء باختلاف طبقاتهم الاجتماعية».

٤- فسر اهتمام المصريين القدماء بتحنيط جثث موتاهم.

٥- دلى على اهتمام البطالمة بالتجارة فى مصر.

٦- قارن بين معركةى مجدو وقادش من حيث (الأطراف والنتائج).

٧- أثبت صحة العبارة التالية: «كان للملكة إياح دور فى طرد الهكسوس من مصر».

٨- اشرح مراحل تطوربناء المقابر عند المصريين القدماء.

٩- وضح العلاقة بين تقدم المصريين فى علم الحساب والزراعة.

١٠- قارن بين مكانة المرأة فى المجتمع المصرى قديماً وحديثاً.

### السؤال الرئيسى

(د) ما خصائص سكان بلادى؟ وكيف اختلفت حياتهم الاجتماعية والدينية مما كانت عليه زمن المصريين القدماء؟

### نشاط

(هـ) اخترأحد المجالات التى برع فيها المصريون القدماء، وأجمع معلومات عنه، ثم صمم مجلة إلكترونية أو ورقية تتضمن أبرز إبداعات المصريين القدماء فى هذا المجال.

السؤال الأول: (١) أختب عبارات الآتية بما يناسبها من كلمات:

- ١- تأثر الفن في عهد المصريين القدماء ببلاد .....
- ٢- وقّع الملك رمسيس الثاني معاهدة سلام مع .....
- ٣- أرسل الملك سنفرو بعثات تجارية إلى شمال السودان وعادت محملة بـ .....
- ٤- تم إنشاء أول بورصة مصرية في محافظة .....

(ب) فسر بذكر بطلب واحد:

- أنشأ المصريون القدماء العديد من القلاع والحصون.

السؤال الثاني: أختب كلمة (صواب) أمام العبارة الصحيحة، وكلمة (خطأ) أمام العبارة غير الصحيحة:

- ١- تأثرت حضارة اليونان والرومان بالطراز المصري في بناء المعابد. ( )
- ٢- أخذ المصريون القدماء العربات الحربية عن الفرس. ( )
- ٣- تقوم البورصة المصرية بتمويل أصحاب المشروعات. ( )
- ٤- قامت مصر باستيراد البخور والعطور في عصر الدولة الحديثة من بلاد الإغريق. ( )
- ٥- تعد المعارض الدولية إحدى وسائل التواصل العلمي والثقافي بين الشعوب. ( )

السؤال الثالث: اختر الإجابة الصحيحة مما بين الأقواس:

- ١- أرسلت الملكة حتشبسوت رحلات تجارية إلى بلاد .....
- (بونت - النوبة - ليبيا - فينقيا)
- ٢- أصبحت بورصتا القاهرة والإسكندرية تحت مسمى واحد هو البورصة .....
- (الفرنسية - الإسبانية - المصرية - الإنجليزية)
- ٣- وقّعت مصر اتفاقية للدفاع المشترك مع دولة .....
- (ليبيا - السودان - السعودية - الكويت)
- ٤- استخدمت مصر الأختام نتيجة لتأثرها بالحضارة في بلاد .....
- (اليونان - فارس - العراق - كوش)
- ٥- حرصت مصر خلال تاريخها الطويل على توطيد علاقتها الاقتصادية بقارة .....
- (آسيا - أستراليا - أوروبا - إفريقيا)



السؤال الأول: (١) اختر الإجابة الصحيحة مما بين الأقواس:

- ١- أرسل رحلة استكشافية حول إفريقيا، الملك .....  
(رمسيس الثانى - نخاو الثانى - ييبى الثانى - سيتى الثانى)
- ٢- الأوراق المالية التى يكون صاحبها شريكاً فى المشروع .....  
(الأسهم - الصادرات - السندات - الواردات)
- ٣- تخرج عدد كبير من طلاب العلم فى العصر البطلمى من جامعة .....  
(القاهرة - الإسكندرية - عين شمس - حلوان)
- ٤- اشترك الملك تحتمس الثالث فى معركة مجدومع .....  
(اليونانيين - الفينيقيين - الليبيين - السودانيين)

(ب) ما العلاقة بين ... ؟

- مصر وحفظ السلام فى إفريقيا.

السؤال الثانى: أكمل العبارات الآتية بما يناسبها من كلمات:

- ١- أحد موظفى السفارات يهتم بعلاقة التعاون لحل المشكلات .....
- ٢- اعتمد الإمبراطور الرومانى ..... التقويم الشمسى العصرى.
- ٣- تساهم البورصة فى ..... الاقتصاد المصرى.
- ٤- تعمل مصر على مشروع للربط بين بحيرة فيكتوريا والبحر .....
- ٥- من أشكال العلاقات السياسية والعسكرية بين مصر ودول العالم عقد .....

السؤال الثالث: صوب ما تحته خط:

- ١- أرسلت الملكة حتشبسوت رحلات تجارية مكونة من أربع سفن كبيرة إلى بلاد بونت.
- ٢- ساندت الدول العربية كلاً من مصر وسوريا فى حرب الاستنزاف.
- ٣- أوراق مالية تثبت أن مالهما قدم قرضاً لصاحب المشروع لمدة محددة هى الأسهم.
- ٤- عمل البطالمة على تصدير المعادن والفيلى إلى البلاد الأخرى.
- ٥- يمثل الملحق الثقافى الحكومة المصرية فى الدول الأخرى.



السؤال الأول: ( أ ) أكمل العبارات الآتية بما يناسبها من كلمات:

- ١- من الخصائص التي يجب أن تتوفر لدى العاملين في مجال العلاقات السياسية .....
  - ٢- كانت شهرة العالم إقليدس قديماً في علم .....
  - ٣- أنشئت في مصر ثاني بورصة في محافظة .....
  - ٤- كانت مركزاً للتجار والرعايا اليونانيين في نهاية عصر الدولة الحديثة، مدينة .....
- (ب) اذكر نقطة واحدة لـ: حضر الملك سنوسرت الثالث قناة سيزوستريس .

السؤال الثاني: اكتب كلمة (صواب) أمام العبارة الصحيحة، وكلمة (خطأ) أمام العبارة غير الصحيحة:

- ١- أرباح الأسهم تكون ثابتة من عام لآخر. ( )
- ٢- أخذت الحضارة العراقية عن مصر شكل الهرم المدرج في بناء المعابد. ( )
- ٣- تعد المؤتمرات العلمية إحدى وسائل التواصل العلمي والثقافي بين شعوب العالم. ( )
- ٤- يهتم المسئول السياسي بالسفارة بماف التعليم والبعثات. ( )
- ٥- تجعل الأسهم صاحبها المالك الوحيد للمشروع. ( )

السؤال الثالث: اختر الإجابة الصحيحة مما بين الأقواس:

- ١- استخدمت مصر الأختام نتيجة لتأثرها بالحضارة في بلاد .....  
(اليونان - فارس - العراق - كوش)
- ٢- يتحمل حجم الخسائر للمشروع أصحاب .....  
(السندات - المشروعات - الأسهم - المنازل)
- ٣- أرسل الكثير من المستلزمات الطبية والأدوية إلى ..... لمواجهة وباء الكوليرا .  
(العراق - فلسطين - لبنان - السودان)
- ٤- وقعت مصر اتفاقية الدفاع المشترك مع دولة .....  
(المغرب - الجزائر - تونس - السودان)
- ٥- تستقبل مصر العديد من الطلاب لدراسة علوم الدين من شرق .....  
(آسيا - أوروبا - أمريكا - أستراليا)



السؤال الأول: (١) اختر الإجابة الصحيحة مما بين الأقواس:

- ١- ازدهرت العلاقات التجارية بين مصر وبلاد الإغريق حيث أقاموا مدينة .....  
(أخيتاتون - أون - بوتو - نقراطيس)
- ٢- يوجد لمصر في كل سفارة مسنول عن ملف التعليم والبعثات وهو الملحق .....  
(العسكري - السياسي - الثقافي - الاقتصادي)
- ٣- أوراق مالية يقدم صاحبها قرضًا لصاحب المشروع محددة بمدة زمنية .....  
(الأسهم - الصادرات - السندات - الواردات)
- ٤- من أشكال التواصل العلمي والثقافي بين الدول .....  
(الصراعات - المعاهدات - الحروب - المؤتمرات)

(ب) ما النتائج المترتبة على ...؟

- توفير البورصة التمويل اللازم لأصحاب المشروعات.

السؤال الثاني: صوب ما تحته خط:

- ١- تعد مصر من ضمن الدول العشر الأولى الأكثر إسهامًا في بعثات الأمم المتحدة للحفاظ على الصحة.
- ٢- استمر المطر في مصر سبع سنوات في عصر المصريين القدماء.
- ٣- اشتهر ببراغته في علم الهندسة العالم مانيتون.
- ٤- سوق منظمة لبيع وشراء الأسهم والسندات هي البنوك.
- ٥- ترحب مصر بالطلاب من شرق أوروبا لدراسة اللغة والفلسفة.

السؤال الثالث: أكمل العبارات الآتية بما يناسبها من كلمات:

- ١- أول من اخترع الساعة لتحديد الوقت هم .....
- ٢- تعمل مصر على التواصل السياسي مع الدول الأخرى من خلال وزارة .....
- ٣- قناة سيزوستريس تم حفرها لربط البحر الأحمر بالمتوسط عن طريق نهر .....
- ٤- تساهم البورصة على ..... الاقتصاد المصري.
- ٥- زاد تأثير مصر ثقافيًا في العالم في العصر البطلمي بعد بناء .....



## المفردات

( ١ ) اكتب وقارن: اكتب جملة تشرح فيها الفرق بين كل مما يلى ، ثم قارن بين جملتك وجملة زميل لك  
١- التقويم الشمسى فى زمن المصريين القدماء والوقت الحالى .

٢- الرحلات التجارية فى عصر الدولة القديمة وعصر الدولة الحديثة .

٣- الأسهم والسندات .

## أسئلة على الخرائط والصور

( ب ) اقرأ وأجب :

الصورة التى أمامك لوزارة مصرية مسئولة عن التواصل السياسى بين  
مصر ودول العالم :

١- اكتب اسم هذه الوزارة .

٢- اشرح دور الوزارة فى تحقيق التواصل السياسى بين مصر ودول العالم .

٣- بالاستعانة بشبكة المعلومات الدولية ( الإنترنت ) اكتب أسماء مراكز أو هيئات تساعد على  
تحقيق التواصل العلمى والثقافى بين مصر ودول العالم .

## التفكير الناقد

( ج ) فكر وأجب :

١- فسر أهمية التواصل السياسى والعسكرى بين الدول .

٢- دلى على صحة العبارة التالية: « تأثرت بلاد العراق القديم بالحضارة المصرية القديمة من  
الناحية الثقافية » .

٣- فسّر استقدام الملك تحتمس الثالث أبناء أمراء البلاد الآسيوية إلى مصر.

٤- دلل على صحة العبارة التالية: «ازدهرت العلاقات التجارية بين مصر وبلاد الإغريق (اليونان) في نهاية الدولة الحديثة».

٥- وضح أهمية وجود وزارة الخارجية في مصر.

٦- فسّر قيام الملك نخاو الثاني برحلته الاستكشافية حول قارة إفريقيا.

٧- اشرح أهمية البورصة في ازدهار الاقتصاد القومي.

٨- ما النتائج المترتبة على التواصل العلمي والثقافي بين الحضارة المصرية والحضارة الرومانية؟

### السؤال الرئيسي

(د) كيف أثر التواصل الحضاري في تطور المجتمعات عبر العصور؟

### نشاط

(د) ارسم خريطة ذهنية توضح أهم العلاقات التجارية بين مصر ودول العالم قديماً.

## مشروع الكتاب المدرسي على الفصل الدراسي الثاني

### ١ موضوع المشروع:

اقرأ الموضوع التالي، واعمل على تنفيذه. سيعطيك المعلم خيارات إضافية.  
الموضوع: صمم مجلة وضح من خلالها علاقة السكان بالتنمية المستدامة، وتأثير الزيادة السكانية على الموارد والتنمية، واعرز بعض مظاهر الحياة الاجتماعية والعلمية والثقافية والاقتصادية لسكان مصر عبر العصور، وكيف نجح سكان مصر في التواصل مع شعوب العالم في كافة المجالات.  
لتنفيذ مشروعك بإمكانك:

- استخدام الخرائط والرسوم البيانية والجداول والصور الخاصة بسكان مصر.
- استخدام بعض الأدوات: أقلام تلوين - لصق - مسدس شمع - أقلام رصاص - حاسوب - صور... إلخ.
- إعادة تدوير بعض الخامات من البيئة: (علب - بلاستيك - كرتون... إلخ).
- إجراء حوار صحفي مع إحدى الشخصيات (يمكن أن يكون: المعلم - أحد الوالدين - أحد الأقارب - مدير المدرسة - شخصية رسمية إذا أمكن) عن أهمية التواصل بين مصر وشعوب العالم.

### ٢ أعضاء فريقك

### ٣ عصف ذهني:

- ما عنوان المجلة؟ وما شكل الغلاف؟

- كيف سيكون شكل المجلة؛ ورقية أم الكترونية؟ وما أقسامها؟

- ما الخطوات التي يجب عليك اتباعها؟

### ٤ جمع معلومات:

من أين ستحصل على معلوماتك؟

مكتبة المدرسة.

شبكة المعلومات الدولية (الإنترنت).

مقابلة مع أفراد أسرتي وزملائي.

ما المعلومات التي يجب أن تعرفها؟

### ٥ مخططنا:

- دون خطوات إنجاز مشروعك.

### ٦ منتجنا النهائي:

- اكتب وصفًا للمنتج النهائي.

### ٧ عرض مشروعنا أمام زملائنا في الفصل:

## ١ أكمل العبارات التالية بالكلمات المناسبة:

- ١- يحدث النمو السكانى فى أى دولة نتيجة للزيادة الطبيعية و.....
- ٢- الرسم البيانى لتوزيع السكان من حيث النوع وفئات العمرىسمى .....
- ٣- يختص النصف الأيمن من الهرم السكانى بإحصاءات .....
- ٤- من أشهر الحصون التى أنشأها المصريون القدماء على حدود مصر الجنوبية حصن .....
- ٥- يؤدى زيادة سكان مصر إلى نقص نصيب الفرد من .....
- ٦- تم توقيع أول معاهدة سلام فى التاريخ فى عهد الملك .....
- ٧- قام الملك نحاو الثانى برحلة لاكتشاف طرق تجارية جديدة حول قارة .....
- ٨- كانت ملابس عامة الشعب تصنع من .....
- ٩- تم بناء منارة الإسكندرية بمصر فى عصر .....
- ١٠- بناء الأهرامات يدل على براعة المصريين القدماء فى علم .....

## ٢ اكتب كلمة (صواب) أمام العبارة الصحيحة، وكلمة (خطأ) أمام العبارة غير الصحيحة:

- ١- يتم توزيع السكان على محافظات مصر بشكل متساوٍ. ( )
- ٢- استمد المصرى القديم أفكاره الخاصة بالفنون والعمارة من البيئة المصرية. ( )
- ٣- يكون لأصحاب السندات حق فى الأرباح وتحمل الخسائر. ( )
- ٤- تتطلب الزيادة السكانية فى مصر توفير مزيد من فرص العمل. ( )
- ٥- أرسل الملك سنفرورحلته التجارية إلى بلاد بونت. ( )
- ٦- تشابهت طبقات المجتمع فى مصر قديماً. ( )
- ٧- أراد الإسكندرا الأكبر أن تكون الإسكندرية عاصمة مصر. ( )
- ٨- من مهام وزارة الخارجية حماية مصالح المواطنين فى الخارج. ( )
- ٩- الهرم السكانى لمصر من النوع ذى القاعدة الضيقة. ( )
- ١٠- استقدم رمسيس الثانى أبناء أمراء آسيا لمصر. ( )

## ٣ ضَع خطأ تحت الإجابة الصحيحة فيما بين القوسين:

- ١- يتركز معظم سكان مصر فى محافظات.....  
(الحدود الصحراوية - الوادى والدلتا - سيناء - قناة السويس)
- ٢- تأتى فى قاعدة الهرم السكانى فئة.....  
(صغار السن - كبار السن - الذين هم فى سن العمل - الشباب)
- ٣- بنى المصريون القدماء منازلهم فى وادى النيل من.....  
(الحجر الجيري - الحجر الرملى - الطوب اللبن - الطوب الأحمر)

- ٤- يترتب على مشكلة الزيادة السكانية في مصر .....
- (زيادة الإنتاج - زيادة الوفيات - زيادة استهلاك الموارد - زيادة فرص العمل)
- ٥- الملك الذي نجح في توحيد جيوش أقاليم مصر وتنظيمها وتسليحها هو الملك .....
- (سنوسرت الثالث - زوسر- تحتمس الثالث - رمسيس الثالث)
- ٦- نقل المصريون القدماء الأختام عن بلاد .....
- (الإغريق - بونت - فينيقيا - العراق القديم)
- ٧- قام الملك نخاو الثاني برحلته الاستكشافية بمساعدة البحارة .....
- (الليبيين - الفينيقيين - النوبيين - العراقيين)
- ٨- من ألعاب التفكير في مصر قديمًا .....
- (التحطيب - السنت - السباحة - المصارعة)
- ٩- أخذ المصريون القدماء العريات الحربية من .....
- (الهكسوس - الحيثيين - الفينيقيين - البطالمة)
- ١٠- يعد مؤتمر المناخ بشرم الشيخ نوفمبر ٢٠٢٢م أحد أشكال التواصل .....
- (الدينى - الاقتصادى - العلمى - السياسى)

٤ اكتب تفسيرًا واحدًا لكل عبارة من العبارات التالية:

- ١- انخفاض معدل المواليد في مصر.
- ٢- اهتمام المصريين القدماء ببناء مقابرهم في الصحراء ومن الحجر.
- ٣- أهمية البورصة للاقتصاد المصرى.
- ٤- مشكلة الزيادة السكانية في مصر.
- ٥- انتصار الملك تحتمس الثالث على أمراء آسيا في معركة مجدو.
- ٦- إرسال الملكة حتشبسوت رحلتها التجارية إلى بلاد بونت.
- ٧- انهيار حكم البطالمة في مصر.
- ٨- أهمية وجود وزارة الخارجية والسفارات في مصر.
- ٩- اهتمام المصريين القدماء بالتحنيط.
- ١٠- أهمية التواصل العلمى والثقافى بين مصر ودول العالم.

٥ اكتب نتيجة واحدة ترتبت على كل مما يلي:

- ١- هجرة السكان إلى محافظات القاهرة والإسكندرية.
- ٢- إنشاء المصريين القدماء المعابد.
- ٣- إصدار البورصة للأسهم والسندات.
- ٤- الزيادة السكانية في مصر.
- ٥- انتشار الفوضى والصراع بين الحكام في نهاية عصر الدولة الوسطى.
- ٦- ازدهار العلاقات التجارية قديمًا بين مصر وبلاد الإغريق.
- ٧- الفتح العربي الإسلامي لمصر عام ٦٤١ م.
- ٨- معركة «مجدو» بقيادة الملك تحتمس الثالث.
- ٩- اعتقاد المصريين في الحساب بعد الموت.
- ١٠- براعة المصريين القدماء في تشريح جثث موتاهم.

٦ اكتب دليلاً واحداً على صحة العبارات التالية:

- ١- اختلاف الكثافة السكانية بين محافظات مصر.
- ٢- تعددت المعابد بتعدد أغراضها عند المصريين القدماء.
- ٣- السندات أقل مخاطرة من الأسهم.
- ٤- اهتمام الدولة المصرية بحل المشكلة السكانية.
- ٥- كان للملكة إياح حتب دور في طرد الهكسوس من مصر.
- ٦- تحرص مصر حالياً على دعم التواصل الاقتصادي مع دول العالم المختلفة.
- ٧- كانت الحياة الأسرية في مصر القديمة قائمة على التعاون والمشاركة.
- ٨- استغلال الرومان لموارد مصر الاقتصادية.
- ٩- وجود علاقات سياسية وعسكرية بين مصر والسودان.
- ١٠- تأثر بلاد العراق القديم بالحضارة المصرية القديمة من الناحية الثقافية.

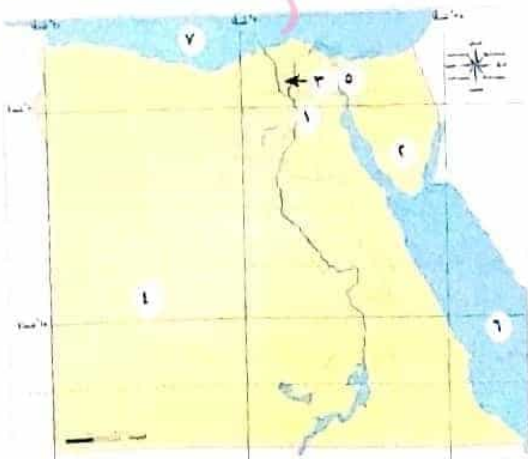
## ٧- أجب عن الأسئلة التالية:

- ١- حدّد جهود الدولة لحل مشكلة الزيادة السكانية.
- ٢- وضح أهمية الهرم السكاني من وجهة نظرك.
- ٣- قارن بين فئات صغار السن وكبار السن في مصر.
- ٤- اشرح مراحل تطور بناء المقابر عند المصريين القدماء.
- ٥- وضح أهمية البورصة في ازدهار الاقتصاد.
- ٦- ما العلاقة بين الزيادة السكانية والبيئة في مصر؟
- ٧- قدم بعض المقترحات للمساهمة في حل المشكلة السكانية في مصر.
- ٨- «حرص ملوك الحضارة المصرية القديمة على إقامة علاقات تجارية مع دول قارات العالم المختلفة». دّل على صحة العبارة السابقة بمثال.
- ٩- ما العلاقة بين ارتفاع المواليد ونوع الهرم السكاني؟
- ١٠- دّل على اهتمام البطالمة بالتجارة في مصر.

## ٨- حدد أوجه التشابه والاختلاف بين كلّ مما يلي:

- ١- الزيادة الطبيعية والهجرة.
- ٢- فئات صغار السن (٠- ١٤ سنة) وفئة من في سن العمل (١٥- ٦٤ سنة).
- ٣- منازل الوزراء ومنازل العمال.
- ٤- الأسهم والسندات.
- ٥- ملامح الحياة الثقافية في عصرى البطالمة والرومان.

## ٩- اكتب مدلول الأرقام على خريطة مصر التالية:



- ١- محافظة جاذبة للسكان
- ٢- محافظة قليلة الكثافة السكانية
- ٣- محافظة ذات كثافة عالية
- ٤- بنى المصريون القدماء مقابرهم في الصحراء
- ٥- قناة
- ٦- البحر
- ٧- البحر

# صفحة عاشق لغة الضاد.. رضا نصار الملحق الداخلي

صفحة عاشق لغة الضاد.. رضا نصار

## محتويات الملحق

- المراجعة النهائية.
- النماذج الاسترشادية على الشهرين الأول والثاني.
- النماذج الاسترشادية النهائية.
- الإجابات النموذجية.

# صفحة عاشق لغة الضاد.. رضا نصار

## أولاً: النماذج الاسترشادية

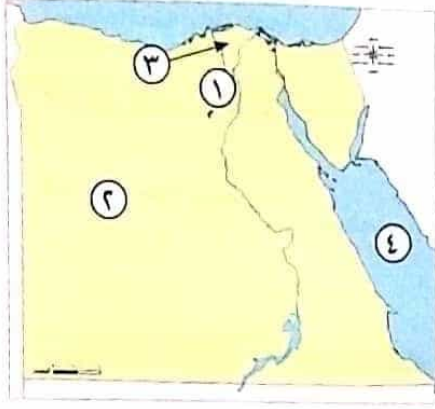
### على الشهر الأول

١٥

مجاب عنه

النموذج الأول

السؤال الأول (١) أمامك خريطة صماء لمصر، اكتب مدلول الأرقام عليها:



- ١- مدينة مزدحمة بالسكان .....
- ٢- محافظة طاردة للسكان .....
- ٣- منطقة ذات كثافة سكانية مرتفعة .....
- ٤- البحر .....

(ب) بهم تفسر: ارتفاع النمو السكاني لمصر.

السؤال الثاني أكمل العبارات الآتية بما يناسبها من كلمات:

- ١- ترتفع الكثافة السكانية في مصر بمدنتي ..... و .....
- ٢- احتفل المصري القديم بكثير من الأعياد منها عيد ..... و عيد .....
- ٣- يوجد نوعان من الهجرة هما ..... و .....
- ٤- يقصد بالتركيب النوعي للسكان تقسيم فئات المجتمع إلى ..... و .....
- ٥- تقوم الحكومة بزيادة الوعي بأهمية تنظيم .....

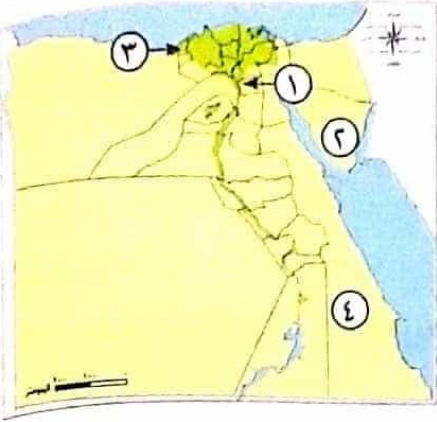
السؤال الثالث اختر الإجابة الصحيحة مما بين الأقواس:

- ١- النسبة بين عدد السكان ومساحة الأرض التي يعيشون عليها تمثل ..... السكان  
( نمو - كثافة - تعداد - طبيعة )
- ٢- الفئة العمرية التي تمثل قمة الهرم السكاني لمصر هي .....  
( صغار السن - كبار السن - الشباب - الأطفال )
- ٣- تأتي مصر على مستوى إفريقيا من حيث عدد السكان في المرتبة .....  
( الأولى - الثانية - الثالثة - الرابعة )
- ٤- كانوا ينتمون إلى الطبقة الثالثة في مصر القديمة .....  
( الوزير - الكهنة - صغار الحرفيين - كبار الحرفيين )
- ٥- أي من العناصر الآتية يعد حلاً مناسباً لمشكلة الزيادة السكانية؟ .....  
( ارتفاع معدل النمو السكاني - تنظيم الأسرة - تفضيل الذكور عن الإناث - إنجاب الكثير من الأطفال )



السؤال الأول

(١) أمامك خريطة صماء لمصر، اكتب مدلول الأرقام عليها:



- ١- أكثر مدن مصر سكاناً .....
- ٢- محافظة يقل فيها تركيز السكان .....
- ٣- من المحافظات الجاذبة للسكان .....
- ٤- الصحراء .....

(ب) ما النتائج المترتبة على: اعتقاد المصريين القدماء في البعث والخلود؟

السؤال الثاني اكتب كلمة (صواب) أمام العبارة الصحيحة، وكلمة (خطأ) أمام العبارة غير الصحيحة:

- ١- قلة عدد السكان عن الموارد المتاحة يسبب المشكلة السكانية. ( )
- ٢- كان لجميع طبقات المجتمع دور هام في نشأة الحضارة المصرية القديمة. ( )
- ٣- يقسم الهرم السكاني إلى نصفين هما ذكور وإناث. ( )
- ٤- يتم الحصول على الإحصاءات السكانية في مصر من الجهاز المركزي للتعبئة العامة والإحصاء. ( )
- ٥- تعد مصر من أقدم الدول في إجراء التعدادات السكانية. ( )

السؤال الثالث صوب ما تحته خط:

- ١- ترشيد استهلاك الموارد يساهم في زيادة المشكلة السكانية.
- ٢- يرمز للإله أتون في مصر الفرعونية إلى القمر.
- ٣- إله الموتى عند المصريين القدماء ويتأأس محكمة الموتى هو الإله رع.
- ٤- صنع المصريون القدماء ملابس عامة الشعب من الحريز.
- ٥- اهتم المصريون القدماء بإقامة الاحتفالات والأعياد مثل عيد الوزير.



السؤال الأول

(١) اكتب كلمة (صواب) أمام العبارة الصحيحة. وكلمة (خطأ) أمام العبارة غير الصحيحة:

- ١- التركيب النوعى هو تقسيم السكان حسب الفئة العمرية. ( )
  - ٢- تعد محافظة الإسكندرية من المحافظات الجاذبة للسكان. ( )
  - ٣- اقتصر دور المرأة فى مصر الفرعونية على أعمال المنزل فقط. ( )
  - ٤- تنظيم الأسرة يساعد على انخفاض النمو السكانى فى مصر. ( )
- (ب) برهن على صحة العبارة التالية: اعتقاد المصريين القدماء فى الحساب بعد الموت.

السؤال الثانى

اختر الإجابة الصحيحة مما بين الأقواس:

- ١- تأتى مصر فى المرتبة ..... إفريقيًا من حيث عدد السكان.  
( الأولى - الثانية - الثالثة - الرابعة )
- ٢- تمثل قاعدة الهرم السكانى فى مصر فئة .....  
( صغار السن - كبار السن - الشباب - متوسطى السن )
- ٣- صنعت ملابس الملك فى مصر الفرعونية من .....  
( الجلد - القطن - الحرير - الصوف )
- ٤- انخفضت نسبة الوفيات فى مصر نتيجة الاهتمام بالرعاية .....  
( الاجتماعية - الثقافية - الصحية - السياحية )
- ٥- الريشة التى توضع على ميزان العدالة لحساب المتوفى تمثل الإلهة .....  
( ماعت - حتحور - إيزيس - نفتيس )

السؤال الثالث

اكتب ما تشير إليه العبارات:

- ١- مدينة شيدها الملك (أمنحتب الرابع) لتكون عاصمة للبلاد. (.....)
- ٢- مشكلة تظهر عندما يتجاوز عدد السكان الموارد والخدمات المتاحة. (.....)
- ٣- فئة عمرية تحتل قمة الهرم السكانى لمصر. (.....)
- ٤- الفرق بين عدد المواليد وعدد الوفيات فى فترة معينة. (.....)
- ٥- النسبة بين عدد السكان ومساحة الأرض التى يعيشون عليها. (.....)



السؤال الأول: أكمل العبارات الآتية بما يناسبها من كلمات:

- ١- أكثر المحافظات الجاذبة للسكان في مصر هي محافظة .....
- ٢- تقسيم السكان حسب النوع يطلق عليه التركيب .....
- ٣- اللعبة التي تقابل لعبة الشطرنج عند القدماء المصريين هي لعبة .....
- ٤- اعتقد المصري القديم أن المتوفى سيقف أمام محكمة يترأسها الإله .....
- ٥- يمثل الوزير وكبار الكهنة في مصر القديمة الطبقة ..... في المجتمع المصري.

السؤال الثاني: اكتب ما تشير إليه العبارات الآتية:

- ١- حفظ جسم المتوفى بعد وفاته عند المصريين القدماء. (.....)
- ٢- رسم بياني لتوزيع السكان من حيث التركيب العمري والتركيب النوعي. (.....)
- ٣- الفئة التي تحتل قاعدة الهرم السكاني لمصر. (.....)
- ٤- الفرق بين عدد المواليد والوفيات في فترة معينة. (.....)
- ٥- إله الحق والعدل عند المصريين القدماء. (.....)

السؤال الثالث (١) صوب ما تحته خط:

- ١- تعد محافظة القاهرة من المحافظات الطاردة للسكان.
- ٢- تقل الكثافة السكانية في مصر في محافظات الوادي والدلتا.
- ٣- فئة صغار السن في مصر تمثل الفئة الأقل في عدد السكان.

(ب) قارن بين الزيادة الطبيعية والهجرة من حيث التعريف في الجدول التالي:

الزيادة الطبيعية	الهجرة
.....	.....
.....	.....

السؤال الأول (١) أكمل العبارات الآتية بما يناسبها من كلمات:

- ١- صنعت ملابس الأغنياء فى مصر الفرعونية من .....
  - ٢- الحياة مرة أخرى بعد الموت هو .....
  - ٣- تصنيف للسكان حسب النشاط الذى يمارسونه هو التركيب .....
  - ٤- أخذت بلاد اليونان من مصر عبادة الإله .....
- (ب) ما المقصود بـ: الكثافة السكانية؟

السؤال الثانى اكتب كلمة (صواب) أمام العبارة الصحيحة، وكلمة (خطأ) أمام العبارة غير الصحيحة:

- ١- انتشرت عبادة الإله آمون فى مملكة كوش قديمًا. ( )
- ٢- تفضيل الذكور على الإناث من العادات الإيجابية لسكان الريف فى مصر. ( )
- ٣- اعتقد المصرى القديم فى أن المتوفى سيقف أمام محكمة مكونة من ٢٤ قاضيًا. ( )
- ٤- كان للمرأة فى مصر الفرعونية الحق فى الميراث والبيع والشراء. ( )
- ٥- يختلف الهرم السكانى من دولة لأخرى. ( )

السؤال الثالث (١) اكتب ما تشير إليه العبارات بما يناسبها من كلمات:

- ١- العيش حياة أبدية لا موت بعدها. (.....)
  - ٢- حفظ جسد المتوفى بعد الموت. (.....)
  - ٣- زيادة عدد السكان خلال فترة زمنية معينة. (.....)
  - ٤- انتقال الأفراد من مكان إلى آخر بين المحافظات. (.....)
- (ب) ما النتائج المترتبة على: مشكلة الزيادة السكانية؟



صفحة عاشق لغة الضاد.. رضا نصار  
ثانياً: النماذج الاسترشادية  
على الشهر الثانی

١٥


المودج الأول مجاب عنه

السؤال الأول أكمل العبارات الآتية:

- ١- تم تحرير مصر من غزو ..... في نهاية عهد الأسرة السابعة عشرة.
- ٢- من أهم الحروب التي خاضتها مصر في القرن العشرين حرب .....
- ٣- استخدم المصري القديم أقلامًا مصنوعة من ..... للكتابة.
- ٤- مبانٍ كان يتم بناؤها قديمًا لحفظ جسد المتوفى .....
- ٥- عبر المصري القديم عن الأحداث السياسية والاجتماعية عن طريق الأدب .....

السؤال الثاني (١) أمامك صور لآثار مصرية قديمة، اكتب تحت كل صورة العصر الذي تنتمي إليه:

منارة الإسكندرية



٣

حصن بابليون



٢

الهرم الأكبر



١

(ب) فليسر - نجاح الهكسوس في غزو مصر.

السؤال الثالث اختر الإجابة الصحيحة مما بين الأقواس:

- ١- كتابة مصرية استخدمها رجال الدين (الكهنة) هي الكتابة .....  
(الهيروغليفية - الهيروغليفية - الديموطيقية - السردية)
- ٢- قام باستكمال بناء مدينة الإسكندرية .....
- (بطلميوس الثالث - بطلميوس الأول - كليوباترا السابعة - كليوباترا الأولى)
- ٣- تحولت مصر بعد هزيمة الملكة كليوباترا السابعة إلى ولاية .....
- (فارسية - رومانية - فرعونية - عربية)
- ٤- منازل طبقة ..... تميزت بالبساطة وتتكون من طابق أو طابقين.
- (الفرعون - الوزراء - العمال - حكام الأقاليم)
- ٥- أحرملوك دولة البطالمة في مصر .....
- (كليوباترا السابعة - بطلميوس الأول - الإسكندر الأكبر - يوليوس قيصر)



## السؤال الأول اكتب كلمة (صواب) أمام العبارة الصحيحة، وكلمة (خطأ) أمام العبارة غير الصحيحة:

- ١- تم إنشاء بانوراما حرب أكتوبر تخليداً لانتصارات الجيش المصرى . ( )
- ٢- قام الرئيس الراحل محمد نجيب بتوقيع اتفاقية السلام بين مصر وإسرائيل . ( )
- ٣- معبد رأس السوداء بالإسكندرية من الآثار البطلمية . ( )
- ٤- مهنة الكاتب كانت من أهم المهن فى الحضارة المصرية القديمة . ( )
- ٥- أشهر المسلات المصرية القديمة مسلة الملكة إياح حتب . ( )

## السؤال الثاني أكمل العبارات الآتية:

- ١- معركة ..... كانت من أشهر المعارك التى خاضها الملك رمسيس الثانى .
- ٢- ظهرت الرهينة فى مصر بالعصر .....
- ٣- الكتابة ..... استخدمها أفراد الشعب فى جميع نواحي الحياة .
- ٤- جوانب الهرم الأكبر تقابل الاتجاهات الأصلية للبوصله ، وذلك دليل على براعة المصرى القديم فى علم .....
- ٥- اهتم الرومان بزراعة ..... وجعل مصر مزرعة لهم .

## السؤال الثالث (١) اختر الإجابة الصحيحة مما بين الأقواس:

- ١- يقع دير الأنبا أنطونيوس بمحافظة .....
- (الوادى الجديد - شمال سيناء - البحر الأحمر - جنوب سيناء)
- ٢- وظيفة كانت تساعد صاحبها فى الوصول إلى مراتب عليا فى مصر القديمة .....
- (الحارس - العامل - الكاتب - الصانع)
- ٣- أشهر التماثيل المصرية القديمة تمثال .....
- (الحرية - النهضة - أبو الهول - طلعت حرب)
- ٤- إمبراطور قام باضطهاد المسيحيين فى مصر وسمى عصره بعصر الشهداء .....
- (قسطنطين - أنطونيوس - دقلديانوس - بطلميوس)

(ب) ما النتائج المترتبة على إقبال المصريين على اعتناق الديانة المسيحية؟



السؤال الأول لمن تنسب الأعمال الآتية...؟

- ١- قاد (١٦) حملة عسكرية لتأمين الحدود المصرية. (.....)
- ٢- بدأ في بناء مدينة الإسكندرية كعاصمة للبلاد. (.....)
- ٣- برعوا في التشريح واستخدموا الأدوات الطبية كالمشروط. (.....)
- ٤- وحد جيوش الأقاليم وصد هجمات القبائل على حدود مصر الشمالية الشرقية. (.....)
- ٥- مؤسس دولة البطالمة في مصر. (.....)

السؤال الثاني أكمل العبارات الآتية:

- ١- وقع الرئيس ..... اتفاقية السلام مع إسرائيل لاستعادة أرض سيناء.
- ٢- أدب ..... نوع من الأدب ارتكز على تمجيد أعمال الفرعون.
- ٣- أحد المعابد الجنائزية التي تقام فيه الصلوات على الملك معبد .....
- ٤- كان المصري القديم يرسم وينقش على .....
- ٥- عمود حجري الغرض منه تخليد ذكرى الملك وتزيين مداخل المعابد .....

السؤال الثالث (١) صوب ماتحته خط:

- ١- استطاع الملك زوسر تحرير مصر من الهكسوس.
  - ٢- قام الرومان ببناء مكتبة الإسكندرية.
  - ٣- استخدم المصري القديم شبكة المثلثات لكي يستطيع الرسم بدقة.
  - ٤- معبد إدفو من الأثار الرومانية في مصر.
- (ب) وضح مظاهر الاضطهاد الروماني للمسيحيين في مصر.



## صفحة عاشق لغة الضاد.. رضا نصار

١٥

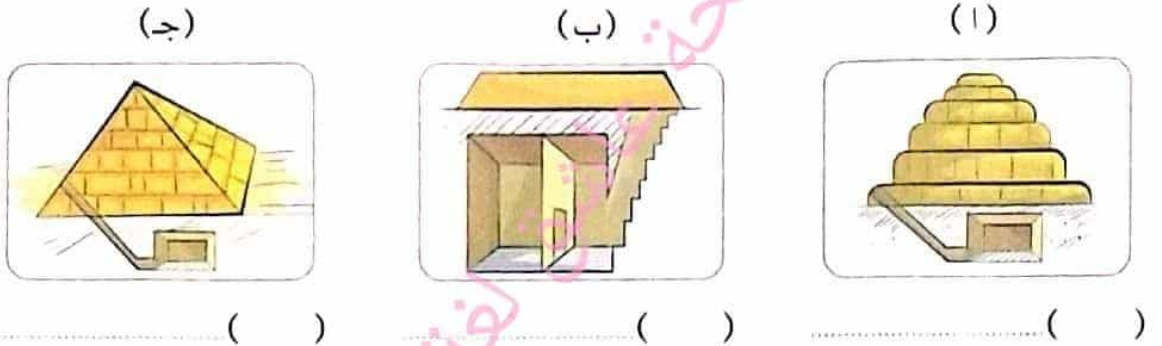
مجاب عنه

النموذج الرابع

**السؤال الأول** اكتب كلمة (صواب) أمام العبارة الصحيحة، وكلمة (خطأ) أمام العبارة غير الصحيحة:

- ١- اهتم الرومان بصناعة ورق البردى والزيت والأدوية. ( )
- ٢- استخدم الجيش المصري اللغة الأمازيغية كشفرة في حرب أكتوبر. ( )
- ٣- ساهم مناخ مصر في محو الرسوم والنقوش الفرعونية. ( )
- ٤- الأدب الديني يتضمن قصصاً حقيقية وخيالية. ( )
- ٥- المعابد الجنائزية تقام بها الطقوس اليومية للآلهة. ( )

**السؤال الثاني** (١) أمامك عدة صور لمراحل تطور المقابر، رتبها واكتب اسم كل مرحلة:



(ب) ما النتائج المترتبة على..؟

- خطة هجوم تحتمس الثالث التي اتبعتها في معركة «مجدو».

**السؤال الثالث** (١) لمن تنسب الأعمال الآتية...؟

- ١- مهنة ساعدت صاحبها للوصول لأعلى المناصب في الدولة المصرية القديمة. (.....)
- ٢- وقع أول اتفاقية سلام بين مصر والحيثيين. (.....)
- ٣- قاموا بالإعلان قبل الحرب عن أسطورة جيشهم الذي لا يقهر. (.....)
- ٤- ملكة انهزمت على أيدي الرومان في معركة أكتيوم البحرية. (.....)

(ب) قارن بين: الأدب القصصي والتهديبى من حيث التعريف وأمثلة لهما:

الأدب التهديبي	الأدب القصص
.....	.....
.....	.....



السؤال الأول: صوب العبارات الآتية:

- ١- قام الهكسوس بغزو مصر في نهاية عصر الدولة القديمة.
- ٢- كان الوزير يعيش في قصور متسعة ومزينة.
- ٣- الكتابة الهيروغليفية كانت تعد الخط الرسمي للدولة.
- ٤- أظهر دقلديانوس احترامه للديانة المصرية وزار معبد الإله آمون.
- ٥- صمم الفراعنة أعمدة المعابد على شكل زهرة الياسمين.

السؤال الثاني: أكمل الجمل الآتية:

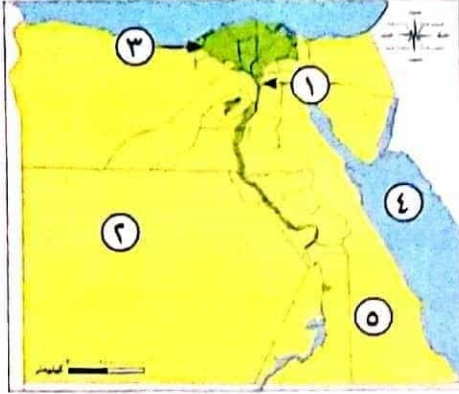
- ١- ملكة شجعت ابنها لكي يحرر البلاد من غزو الهكسوس .....
- ٢- من أشهر المباني العسكرية التي صممها المصري القديم حصن .....
- ٣- استطاع المصري القديم معرفة التقويم .....
- ٤- تولى حكم مصر بعد وفاة الإسكندر الأكبر .....
- ٥- استخدام النباتات في العلاج واكتشاف الأمراض دليل على براعة المصريين القدماء في علم .....

السؤال الثالث: (١) اختر الإجابة الصحيحة:

- ١- وقع الرئيس الراحل ..... اتفاقية السلام بين مصر وإسرائيل.  
(محمد نجيب - محمد أنور السادات - محمد مبارك - محمد علي)
  - ٢- من أشهر المعابد الجنائزية معبد .....  
(الأقصر - إدفو - دندرة - حتشبسوت)
  - ٣- نصوص الأهرام تعد أحد الأمثلة الدالة على أدب .....  
(المديح - الديني - القصصي - التهذيبي)
  - ٤- قاموا ببناء منارة الإسكندرية .....  
(الفرس - الروم - البطالمة - الهكسوس)
- (ب) رتب مراحل بناء الهرم: (نقل الحجارة - إعداد الموقع - توفير مستلزمات ومساكن للعمال - تجهيز المواد الخام - مرحلة التخطيط):

١	
٢	
٣	
٤	
٥	

السؤال الأول (١) أمامك خريطة صماء لمصر، اكتب مدلول الأرقام عليها:



١ - أكثر المدن المصرية ازدحاماً .....

٢ - محافظة يقل فيها تركيز السكان .....

٣ - من المحافظات الجاذبة للسكان .....

٤ - البحر .....

٥ - الصحراء .....

(ب) **بم تفسر** ارتفاع الكثافة السكانية في الريف المصري؟

السؤال الثاني (١) لمن تنسب الأعمال الآتية...؟

(.....)

١ - قام باستكمال بناء مدينة الإسكندرية.

(.....)

٢ - حرر مصر من غزو الهكسوس.

(.....)

٣ - أوراق مالية تجعل صاحبها شريكاً في المشروع.

(.....)

٤ - انتصر على الحيثيين في معركة قادش.

(ب) **قارن بين:** التركيب العمرى والتركيب النوعى من حيث التعريف:

التركيب النوعى

التركيب العمرى

السؤال الثالث (١) اكتب كلمة (صواب) أمام العبارة الصحيحة، وكلمة (خطأ) أمام العبارة غير الصحيحة:

( )

١ - تعمل الدولة المصرية على جذب السكان للسكن في المدن الجديدة.

( )

٢ - يهتم الملحق السياسى بالسفارة بملف التعليم والبعثات.

( )

٣ - بنى المصريون القدماء منازلهم من الطوب اللبن.

( )

٤ - دمر الجيش المصرى خط بارليف فى ٦ ساعات فى حرب أكتوبر ١٩٧٣م.

( )

٥ - تشارك مصر فى المنظمات الاقتصادية مثل الكوميسا.

## صفحة عاشق لغة الضاد.. رضا نصار



(ب) الصورة التي أمامك تعبر عن أحد فنون العمارة في مصر القديمة، ادرسها ثم أجب:

١- يشير هذا الشكل إلى:

.....

٢- الغرض منها:

.....

### السؤال الرابع (١) اختر الإجابة الصحيحة:

- ١- نفذت مصر الكثير من المشروعات التنموية في قارة .....
- (آسيا - أوروبا - أمريكا - إفريقيا)
- ٢- يدفع صاحب المشروع عائداً ..... لأصحاب السندات.
- (مادياً - معنوياً - حسيًا - روحياً)
- ٣- الفئة التي تصنف على أنها غير منتجة وتقع في قمة الهرم السكاني .....
- (صغار السن - كبار السن - متوسطى السن - الشباب)
- ٤- يعد الهرم الأكبر دليلاً على عبقرية المصرى القديم فى مجال .....
- (الزراعة - العمارة - الطب - الصناعة)
- ٥- عرف المصريون القدماء تسجيل رواتب الجنود نتيجة براعتهم فى علم .....
- (الطب - الهندسة - الفلك - الحساب)
- ٦- أول من دعا إلى عبادة إله واحد فى مصر القديمة الملك .....
- (أمنمحات الأول - سنوسرت الثالث - أمنحتب الرابع - ييبى الثانى)

(ب) اكتب نتيجة واحدة لـ:

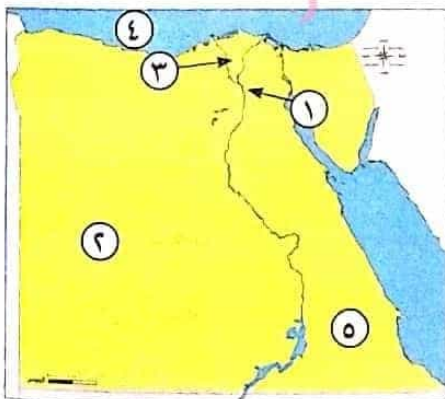
اعتقاد المصريين القدماء فى البعث والخلود.



### النموذج الثانى

مجاب عنه

(١) أمامك خريطة صماء لمصر، اكتب مدلول الأرقام عليها:



- ١- يشير رقم (١) إلى محافظة جاذبة للسكان .....
- ٢- يشير رقم (٢) إلى محافظة نادرة السكان .....
- ٣- يشير رقم (٣) لأحد أكبر المناطق كثافة سكانية .....
- ٤- يشير رقم (٤) إلى البحر .....
- ٥- يشير رقم (٥) إلى الصحراء .....

## صفحة عاشق لغة الضاد.. رضا نصار

(ب) ما العلاقة بين المسلات في مصر القديمة وحساب الوقت؟

**السؤال الثاني** (١) اختر الإجابة الصحيحة مما بين الأقواس:

- ١- يتحمل أصحاب ..... حجم الخسائر الخاصة بالمشروع.  
( الودائع - الأسهم - القروض - السندات )
- ٢- الفئة التي تصنف على أنها غير منتجة وتمثل قاعدة الهرم السكاني هي .....  
( صغار السن - كبار السن - متوسطو السن - الشباب )
- ٣- أى من العناصر الآتية يعد حلاً مناسباً لمشكلة الزيادة السكانية؟ .....  
( ارتفاع معدل النمو السكاني - تنظيم الأسرة - تفضيل الذكور على الإناث - إنجاب الكثير من الأطفال )
- ٤- تعرضت مصرفى عصر الدولة القديمة لهجوم بعض القبائل على حدودها .....  
( الشمالية الشرقية - الجنوبية الغربية - الجنوبية الشرقية - الشمالية الغربية )

(ب) ما النتائج المترتبة على ..؟

١- براعة المصريين القدماء فى تشريح جثث موتاهم.

٢- هزيمة الملكة كليوباترا السابعة معركة أكتيوم عام ٣١ ق.م.

**السؤال الثالث** (١) صوب ما تحته خط:

- ١- أصدرت الدولة المصرية قوانين تسمح بعمل الأطفال قبل إتمام التعليم الأساسى.
- ٢- زار الإسكندرا الأكبر معبد الإله رع بواحة سيوة.
- ٣- منظمة اليونسكو هى اتحاد اقتصادى يضم دول شرق وجنوب إفريقيا.
- ٤- سوق منظمة لشراء الأسهم والسندات هى البنوك.
- ٥- الموظف المسئول عن تمثيل مصرفى سفاراتها المختلفة فى العالم هو الوزير.

(ب) بم تفسر ..؟

- حرص الملك تحتمس الثالث على دراسة أبناء أمراء البلاد الآسيوية فى مصر.

**السؤال الرابع** (١) اكتب كلمة (صواب) أمام العبارة الصحيحة، وكلمة (خطأ) أمام العبارة غير الصحيحة:

- ١- الأشخاص الذين تتراوح أعمارهم من (١٥ - ٦٤ سنة) يمثلون قمة الهرم السكاني فى مصر. ( )
- ٢- تأثر فن الرسم عند المصريين القدماء بالطبيعة المصرية. ( )
- ٣- السنة الكبيسة فى الحسابات الفلكية للرومان كانت تأتى كل خمس سنوات. ( )
- ٤- العنب والزيتون من المحاصيل الزراعية التى أدخلها الرومان إلى مصر. ( )

## صفحة عاشق لغة الضاد.. رضا نصار

(ب) قارن بين: مصر في عصرى البطالمة والرومان من حيث: الزراعة والصناعة.

وجه المقارنة	مصر فى عصر البطالمة	مصر فى عصر الرومان
الزراعة	.....	.....
الصناعة	.....	.....

٣٠

محاب عنه

اللمودج الثالث

السؤال الأول (١) أكمل الجمل الآتية:

- ١- الهرم السكانى يساعدا فى تقدير احتياجات السكان من .....
- ٢- قام الإسكندرا الأكبر بالشروع فى بناء مدينة ..... لتكون عاصمة للبلاد.
- ٣- أكثر المدن المصرية ازدهارًا بالسكان مدينتنا .....
- ٤- وقعت مصر اتفاقية الدفاع المشترك مع دولة .....
- ٥- أشهر معارك رمسيس الثانى ضد الحيثيين معركة .....

(ب) ما النتائج المترتبة على ..؟

- حضر الملك سنوسرت الثالث قناة سيزوستريس.

السؤال الثانى (١) اختر الإجابة الصحيحة مما بين القوسين:

- ١- كان ينتمى ..... إلى الطبقة الرابعة فى مصر الفرعونية.  
(حكام الأقاليم - صغار الموظفين - صغار الحرفيين - قادة الجيش)
- ٢- زيادة متوسط عمر الفرد وانخفاض الوفيات فى مصر نتيجة الاهتمام بالرعاية .....  
(الاجتماعية - الثقافية - الصحية - السياحية)
- ٣- بنى المصرى القديم معابد جنازية منها معبد .....  
(حتشبسوت - الأقصر - الكرنك - إدفو)
- ٤- المكان المسئول عن شراء الأسهم والسندات .....  
( مكاتب مالية - البورصة - البنوك - مكاتب البريد )

(ب) بم تفسر ..؟

١- اهتمام المصرى القديم بالحفاظ على جسم الميت بعد وفاته.

٢- استطاع المصريون القدماء تحديد قيمة الضرائب.

## صفحة عاشق لغة الضاد.. رضا نصار

السؤال الثالث (1) اكتب ما تشير إليه العبارات الآتية:

- ١- إلهة الحق والعدل عند المصريين القدماء. (.....)
- ٢- سجلت على جدران الأهرامات من الداخل لمساعدة الميت في الحياة الأخرى. (.....)
- ٣- متخصصون يقدمون المشورة للمواطنين لشراء وبيع الأسهم في البورصة. (.....)
- ٤- أدب يعكس حياة المصريين القدماء السياسية والاجتماعية. (.....)
- ٥- أوراق مالية تثبت أن مالكها قدم قرضًا لصاحب المشروع لمدة محددة. (.....)

(ب) ما العلاقة بين ...؟

- الأفراد في سن (١٥ - ٦٤ سنة) واقتصاد الدولة.

السؤال الرابع (1) اكتب كلمة (صواب) أمام العبارة الصحيحة، وكلمة (خطأ) أمام العبارة غير الصحيحة:

- ١- أقصى مدة زمنية لامتلاك السندات هي عشر سنوات فأكثر. ( )
- ٢- تعتبر قصة الملاح الغريق من الأدب الديني عند المصريين القدماء. ( )
- ٣- تحتل مصر المرتبة الثالثة إفريقيًا من حيث عدد السكان. ( )
- ٤- استمرت رحلة الملك نخاو الثاني للدوران حول إفريقيا لمدة أربع سنوات. ( )

(ب) ما المقصود بـ ...؟

١- التركيب النوعي:

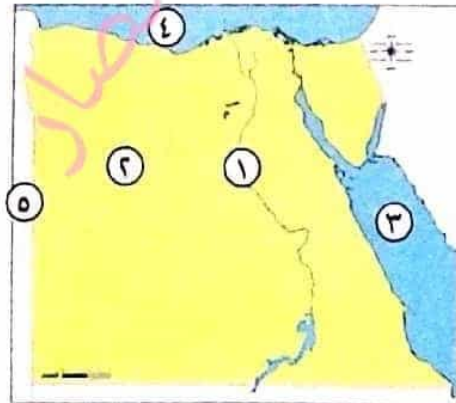
٢- الهجرة:

النموذج الرابع

مجاب عنه

٣٠

السؤال الأول (1) أمامك خريطة صماء لمصر، اكتب مدلول الأرقام عليها:



١- نهر .....

٢- الصحراء .....

٣- البحر .....

٤- البحر .....

٥- دولة .....

## صفحة عاشق لغة الضاد.. رضا نصار

(ب) ماذا يحدث إذا لم ..؟

- يتم حفر قناة سيروسستريس .

### السؤال الثاني ( ١ ) أكمل العبارات الآتية بالكلمات المناسبة:

- ١- تحرص الدول على نشر ثقافتها في الدول الأخرى عن طريق إنشاء .....
- ٢- انتصرت مصر في حرب أكتوبر عام ١٩٧٣م على الجيش .....
- ٣- أكثر المحافظات المصرية جذبًا للسكان .....
- ٤- أرسل الملك سنفر وأسطولًا يضم ٤٠ سفينة إلى .....

(ب) صنف وسائل التواصل الآتية إلى العصور التي تنتمي إليها في الجدول الآتي:

(دراسة أبناء أمراء البلاد الآسيوية في مصر - إرسال البعثات العلمية - إقامة المؤتمرات العلمية - استخدام الأختام)

في العصر الحالي	في عصر المصريين القدماء
.....	.....
.....	.....
.....	.....

### السؤال الثالث ( ١ ) صوب ما تحته خط:

- ١- اشتهر مانيتون ببراعته في علم الهندسة.
  - ٢- ضعفت دولة البطالمة بعد بطلميوس الأول.
  - ٣- استورد الرومان المعادن والفيلة لتسليح الجيش المصري.
  - ٤- الخلود هو الحياة مرة أخرى بعد الموت.
  - ٥- الأسهم أوراق مالية تثبت أن مالكها قدم قرضًا لصاحب المشروع لمدة محددة.
- (ب) حدد: أسباب الزيادة السكانية في مصر.

### السؤال الرابع ( ١ ) اختر الإجابة الصحيحة مما بين الأقواس:

- ١- صنعت ملابس عامة الشعب في مصر الفرعونية من .....
- (الكتان - القطن - الحرير - الصوف)
- ٢- تم دمج كل من بورصة الإسكندرية وبورصة ..... تحت مسمى البورصة المصرية.
- (الشرقية - السويس - القاهرة - الجيزة)

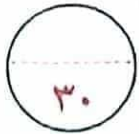
## صفحة عاشق لغة الضاد.. رضا نصار

- ٣- من أهم الآثار البطلمية في مصر معبد .....  
 (حتشيسوت - أمون - إدفو - الأقصر)  
 ٤- تحولت مصر إلى ولاية رومانية بعد هزيمة كليوباترا في معركة ..... البحرية.  
 (أبي قير - أكتيوم - قادش - مجدو)

(ب) الصورة التي أمامك تعبر عن أحد الآثار البطلمية في مصر، وضح:

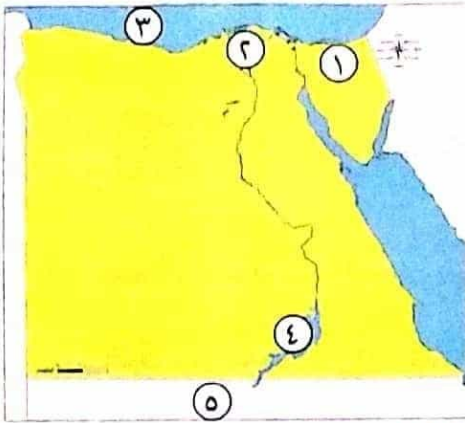


- ١- اسم هذا الأثر: .....
- ٢- الهدف من إنشائه: .....



النموذج الخامس مجاب عنه

السؤال الأول (١) أمامك خريطة صماء لمصر، اكتب مدلول الأرقام عليها:



- ١- يشير الرقم (١) إلى محافظة يقل فيها تركيز السكان .....
- ٢- يشير الرقم (٢) إلى منطقة تزداد بها الكثافة السكانية .....
- ٣- يشير الرقم (٣) إلى البحر .....
- ٤- يشير الرقم (٤) إلى بحيرة .....
- ٥- يشير الرقم (٥) إلى دولة .....

(ب) برهن على صحة العبارة الآتية:

- ابتكر المصريون القدماء العديد من الأشياء التي تساعدهم على حساب الوقت.

السؤال الثاني (١) أكمل العبارات الآتية بالكلمات المناسبة:

- ١- تساهم البورصة في ..... الاقتصاد المصري.
- ٢- اشتهر المصري القديم بنحت التماثيل ومن أشهرها تمثال .....
- ٣- الفئة العمرية التي تحتل قمة الهرم السكاني لمصر هي فئة .....
- ٤- استخدم رجال الدين في مصر الفرعونية الكتابة .....

## صفحة عاشق لغة الضاد.. رضا نصار

(ب) حدد أوجه التشابه والاختلاف بين: قناة سيزوستريس وقناة السويس.

قناة السويس	قناة سيزوستريس	
.....	.....	أوجه الشبه
.....	.....	أوجه الاختلاف

**السؤال الثالث** (١) اكتب كلمة (صواب) أمام العبارة الصحيحة، وكلمة (خطأ) أمام العبارة غير الصحيحة:

- ١- ظهر اختراع الأطراف الصناعية في عصرنا الحالي. ( )
  - ٢- أقامت مصر علاقات تجارية مع الحضارات القديمة في آسيا. ( )
  - ٣- لم تتأثر مصر بالحضارات الأخرى. ( )
  - ٤- تزداد الكثافة السكانية في مصر في محافظات الحدود الصحراوية. ( )
  - ٥- تتساوى قاعدة الهرم السكاني مع قمته في مصر. ( )
- (ب) **بم تفسر**... ارتفاع الكثافة السكانية في الريف المصرى.

**السؤال الرابع** (١) اكتب ما تشير إليه كل عبارة من العبارات التالية:

- ١- أشهر الحصون عند المصريين القدماء على الحدود الجنوبية لمصر. (.....)
- ٢- الفرق بين المواليد والوفيات في فترة معينة. (.....)
- ٣- أدب يتناول الحياة بعد الموت وعقيدة البعث والخلود. (.....)
- ٤- مبانٍ بنيت لتقام فيها طقوس الجنازة للملك في مصر القديمة. (.....)

(ب) رتب الأحداث التاريخية من القديم إلى الحديث:

- ( رحلات نخاو الثانى للدوران حول إفريقيا - إرسال الملك سنفرو بعثات تجارية إلى شمال السودان - إرسال الملكة حتشبسوت رحلتها لبلاد بونت - إدخال مصر محاصيل زراعية جديدة مثل العنب ).

السؤال الأول (١) أمامك خريطة صماء لمصر، اكتب مدلول الأرقام عليها:



- ١- خليج .....
  - ٢- بحيرة .....
  - ٣- من المحافظات التي يهاجر إليها السكان .....
  - ٤- البحر .....
  - ٥- الصحراء .....
- (ب) بم تفسر ... ؟
- ارتفاع النمو السكاني في مصر.

السؤال الثاني (١) لمن تنسب الأعمال الآتية...؟

- ١- أحد الآلهة المصرية القديمة اتخذته مملكة كوش معبوداً رسمياً للدولة. (.....)
  - ٢- قامت بتشجيع ابنها لتحرير مصر من الهكسوس. (.....)
  - ٣- صد هجمات القبائل على الحدود الشمالية الشرقية لمصر في عصر الدولة القديمة. (.....)
  - ٤- وقع أول معاهدة سلام في التاريخ. (.....)
- (ب) فارن بين: معركتي مجدو وقادش من حيث: قائد المعركة ونتائجها.

وجه المقارنة	معركة مجدو	معركة قادش
قائد المعركة	.....	.....
نتائجها	.....	.....

السؤال الثالث (١) اكتب كلمة (صواب) أمام العبارة الصحيحة، وكلمة (خطأ) أمام العبارة غير الصحيحة:

- ١- وحد الملك خفرع جيوش أقاليم مصر وقام بتنظيمها لصد هجمات القبائل. ( )
- ٢- ازدهرت الزراعة أثناء حكم البطالمة لمصر. ( )
- ٣- بنى المصريون القدماء مقابرهم لدفن موتاهم. ( )
- ٤- تنظيم الأسرة يساعد على زيادة معدل النمو السكاني. ( )
- ٥- تربية الأبناء وتعليمهم القيم الحميدة من مسئوليات الأب فقط. ( )

## صفحة عاشق لغة الضاد.. رضا نصار

(ب) دلل على صحة العبارة الآتية: براعة الملك تحتمس الثالث في معركة «مجدو».

### السؤال الرابع (١) اخترا الإجابة الصحيحة مما بين الأقواس:

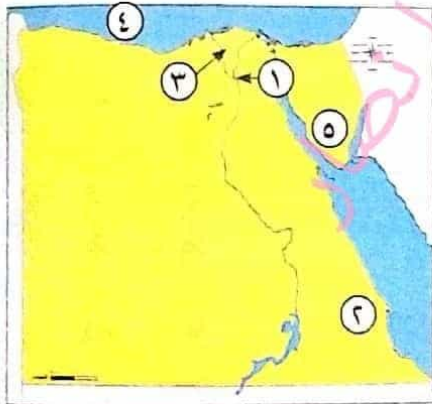
- ١- صغار الموظفين في مصر القديمة كانوا ينتمون إلى الطبقة .....  
(الأولى - الثانية - الثالثة - الرابعة)
  - ٢- أقدم دير تم بناؤه في مصر هو دير الأنبا .....  
(بيشوى - أنطونيوس - سمعان - بخوم)
  - ٣- نتج عن توفير البورصة المصرية التمويل لأصحاب المشروعات زيادة .....  
(الاستثمارات - الصادرات - الواردات - النفقات)
  - ٤- كانت الريشة رمزًا للإلهة ..... في مصر القديمة.  
(ماعت - حورس - أوزوريس - رع)
  - ٥- أحضر الملك سنفر و خشب الأرز الذى يستخدم فى صناعة .....  
(السفن - الورق - العطور - الخلى)
  - ٦- « استطاع المصرى القديم تحديد قيمة الضرائب بناء على فيضان النيل ». هذه العبارة تدل على تقدم المصرى القديم فى علم .....  
(الطب - الهندسة - الفلك - الحساب)
- (ب) اكتب نتيجة واحدة لـ
- نجاح الاتفاقيات بين مصر والسودان.

٣٠

### النموذج السابع

مجاب عنه

### السؤال الأول (١) أمامك خريطة صماء لمصر، اكتب مدلول الأرقام عليها:



- ١- يشير رقم (١) إلى محافظة .....
- ٢- يشير رقم (٢) إلى الصحراء .....
- ٣- يشير رقم (٣) لإحدى أكبر المناطق كثافة سكانية .....
- ٤- يشير رقم (٤) إلى البحر .....
- ٥- يشير رقم (٥) إلى شبه جزيرة .....

(ب) ما العلاقة بين ؟

- المعابد فى بلاد العراق والحضارة المصرية القديمة.

## صفحة عاشق لغة الضاد.. رضا نصار

### السؤال الثاني (١) اختر الإجابة الصحيحة مما بين الأقواس:

- ١- ضمت الطبقة الثانية في مصر القديمة  
( الملك وأسرته - حكام الأقاليم - صغار الموظفين - العاملين بالزراعة )
- ٢- شرع الإسكندر الأكبر في بناء مدينة  
( القاهرة - الإسكندرية - نقرطيس - أون )
- ٣- تعمل مصر على التواصل السياسي مع الدول الأخرى من خلال وزارة  
( الداخلية - الخارجية - الاستثمار - العدل )
- ٤- تعد مصر من ضمن الدول العشر الأولى الأكثر إسهامًا في بعثات الأمم المتحدة لـ  
( حفظ السلام - توصيل الغذاء - حفظ الصحة - تطوير التعليم )

(ب) ما النتائج المترتبة على...؟

- ١- تأثر بلاد اليونان والرومان بالعمارة المصرية.
- ٢- الهجرة الداخلية بين المحافظات المصرية.

### السؤال الثالث (١) صوب ما تحته خط:

- ١- تأتي مصر في المرتبة الثانية إفريقياً من حيث عدد السكان.
- ٢- تساعدنا بيانات الهرم السكاني في تحديد احتياجات السكان في الماضي.
- ٣- ترحب مصر بالطلاب من شرق أوروبا لدراسة اللغة والفلسفة.
- ٤- قلّ التبادل التجاري بين مصر ودول إفريقيا بسبب موقعها الجغرافي.
- ٥- يتناول الأدب القصصي الحكم والنصائح التي يوجهها الملك لابنه.

(ب) بم تفسر...؟

- حرص العديد من السياح على زيارة معبد أبو سمبل سنويًا.

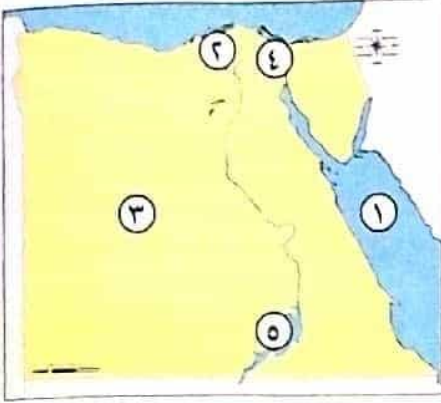
### السؤال الرابع (١) اكتب كلمة (صواب) أمام العبارة الصحيحة، وكلمة (خطأ) أمام العبارة غير الصحيحة:

- ١- كان المصريون يشاركون في حكم بلادهم أثناء حكم البطالمة. ( )
- ٢- غزا الهكسوس مصر في نهاية الدولة الوسطى. ( )
- ٣- البطالمة هم خلفاء الإسكندر الأكبر. ( )
- ٤- قلّ النشاط التجاري بين مصر وجيرانها بعد حفر قناة سيزوستريس. ( )

(ب) ما المقصود بكل من...؟

- ١- المعابد الجنائزية:
- ٢- البورصة:

السؤال الأول (١) أمامك خريطة صماء لمصر، اكتب مدلول الأرقام عليها:



١- البحر .....

٢- منطقة تزداد بها الكثافة السكانية .....

٣- الصحراء .....

٤- قناة .....

٥- بحيرة .....

(ب) بم تفسر -

- ظهور العشوائيات في مصر.

السؤال الثاني (١) اخترا الإجابة الصحيحة مما بين الأقواس:

١- الفئة التي تحتل قاعدة الهرم السكاني المصري تصنف على أنها غير منتجة هي .....

(صغار السن - كبار السن - متوسطو السن - الشباب)

٢- في عصر الدولة القديمة تعرضت مصر لهجوم قبائلي على حدودها .....

(الشمالية الشرقية - الشمالية الغربية - الجنوبية الشرقية - الجنوبية الغربية)

٣- يضم اتحاد الكوميسا دول شرق وجنوب .....

(آسيا - أوروبا - إفريقيا - أستراليا)

٤- دعا أمنحتب الرابع إلى عبادة الإله .....

(ب) دلل على صحة العبارتين التاليتين:

١- ندرة السكان في المحافظات الحدودية الصحراوية.

٢- كانت المرأة في مصر القديمة محل تقدير واحترام.

السؤال الثالث (١) صوب ما تحته خط:

١- الاستهلاك الزائد للموارد يؤثر إيجابياً على البيئة.

٢- تأتي مصر في المرتبة الثانية إفريقياً من حيث عدد السكان.

٣- اشتهر إقليدس ببراعته في علم التاريخ.

٤- سوق منظمة لشراء الأسهم والسندات هي البنوك.

٥- تم تقسيم المجتمع المصري القديم إلى خمس طبقات.

## صفحة عاشق لغة الضاد.. رضا نصار

(ب) ما العلاقة بين...؟

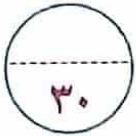
- تحنيط المصريين القدماء لجثث موتاهم ومعتقداتهم الدينية.

**السؤال الرابع** (١) اكتب كلمة (صواب) أمام العبارة الصحيحة، وكلمة (خطأ) أمام العبارة غير الصحيحة:

- ١- يتم عمل تعداد سكاني لتوفير معلومات دقيقة حول السكان. ( )
- ٢- حرص المصري القديم على تربية أولاده وتعليمهم القيم الحميدة. ( )
- ٣- كان لكل إقليم في مصر القديمة معبود خاص بها. ( )
- ٤- انهزم الملك رمسيس الثاني في معركة قادش. ( )
- ٥- من أسباب الزيادة السكانية تنظيم الأسرة. ( )
- ٦- اهتم البطالمة بالنشاط التجاري في بداية حكمهم. ( )

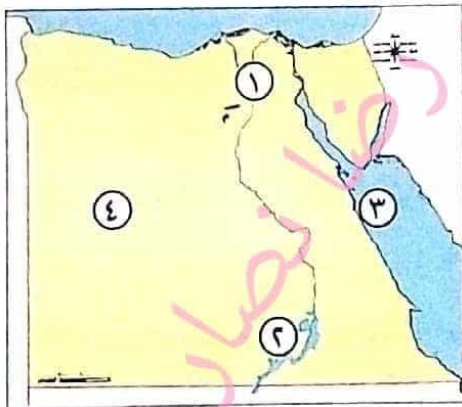
(ب) قارن بين: التركيب العمري والتركيب النوعي من حيث التعريف من خلال الجدول التالي:

وجه المقارنة	التركيب العمري	التركيب النوعي
التعريف	.....	.....



**التمودج التاسع** مجاب عنه

**السؤال الأول** (١) أمامك خريطة صماء لمصر، اكتب مدلول الأرقام عليها:



- ١- يشير رقم (١) إلى محافظة ترتفع فيها الكثافة السكانية .....
- ٢- يشير رقم (٢) إلى بحيرة .....
- ٣- يشير رقم (٣) إلى البحر .....
- ٤- يشير رقم (٤) إلى الصحراء .....

(ب) قارن بين: الزيادة الطبيعية والهجرة من حيث التعريف.

وجه المقارنة	الزيادة الطبيعية	الهجرة
التعريف	.....	.....

## صفحة عاشق لغة الضاد.. رضا نصار

**السؤال الثاني** (1) اكتب كلمة (سواب) أمام العبارة الصحيحة، وكلمة (خطأ) أمام العبارة غير الصحيحة:

- 1- تفضيل الذكور على الإناث دفع الأسر إلى الاستمرار في الإنجاب. ( )
- 2- كان صغار الموظفين في مصر القديمة ينتمون إلى الطبقة الثانية في المجتمع المصري. ( )
- 3- تمسك المصري القديم بالقيم الدينية والإنسانية. ( )
- 4- يمتلك وزراء الخارجية والسفراء بعض المهارات مثل الإقناع وضبط النفس. ( )
- 5- تحررت مصر من غزو الهكسوس على يد الملك سنفرؤ. ( )
- 6- ازدادت الكثافة السكانية في مصر في المحافظات الحدودية. ( )

(ب) بم تدرس؟

- عقدت مصر المعاهدات والاتفاقيات مع الدول الأخرى.

**السؤال الثالث** (1) أكمل العبارات الآتية:

- 1- التركيب النوعي للسكان يقصد به تقسيم فئات المجتمع إلى .....
- 2- كانت مصر في العصر الروماني تعد أكبر مصدر لإنتاج ..... في العالم.
- 3- تأثر الفن عند المصريين القدماء ب.....
- 4- قلة الموارد المتاحة عن عدد السكان تتسبب في ظهور مشكلة .....
- 5- استكمل بناء مدينة الإسكندرية بعد وفاة الإسكندر الأكبر .....

(ب) اكتب نتيجة واحدة ترتبت على:

- حفر قناة سيذوستريس في عصر الدولة الوسطى.

**السؤال الرابع** (1) ضع خطأ تحت الإجابة الصحيحة فيما بين القوسين:

- 1- أحضر الملك سنفرؤ خشب الأرز من ..... (بونت - السودان - ليبيا - فينيقيا)
- 2- أظهر الإسكندر الأكبر احترامه للديانة المصرية القديمة فزار معبد الإله ..... (حورس - أمون - إيزيس - أوزوريس)
- 3- بنى المصريون القدماء منازلهم من ..... (الطوب الأحمر - الطوب اللبن - الحجارة - البوص)
- 4- المكان المسئول عن شراء الأسهم والسندات ..... (المكاتب المالية - البورصة - البنوك - مكاتب البريد)
- 5- عبادة الإله أمون من العبادات المصرية التي انتشرت في الحضارات الأخرى في دولة ..... (تونس - الجزائر - السودان - المغرب)

- عملية التحنيط والبعث والخلود.

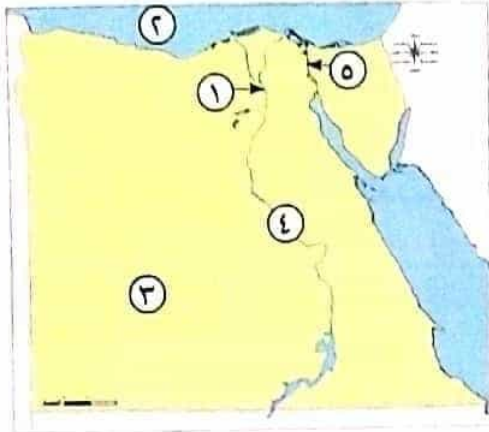
٣٠

مجاب عنه

النموذج العاشر

السؤال الأول

(١) أمامك خريطة صماء لمصر، اكتب مدلول الأرقام عليها:



١- مدينة مزدحمة سكانيًا

٢- البحر

٣- محافظة يقل بها السكان

٤- نهر

٥- قناة

(ب) ما النتائج المترتبة على ...؟

- مشكلة الزيادة السكانية في مصر.

السؤال الثاني

(١) ضع خطًا تحت الإجابة الصحيحة فيما بين القوسين:

- ١- أقدم الدول العربية التي قامت بإجراء تعداد لسكانها .....  
(فرنسا - ألمانيا - مصر - النمسا)
  - ٢- من أشهر معارك الملك تحتمس الثالث .....  
(اليرموك - التل الكبير - مجدو - قادش)
  - ٣- زار الإسكندر معبد آمون الموجود في واحة ..... بمصر.  
(الداخلة - سيوة - الفرافرة - الخارجة)
  - ٤- قامت مصر بتوقيع اتفاقية الدفاع المشترك مع دولة .....  
(المغرب - الجزائر - تونس - السودان)
  - ٥- بنيت الأعمدة في واجهة المعابد في كل من مصر و ..... قديمًا.  
(العراق - بونت - اليونان - مصر)
  - ٦- الإمبراطور الروماني ..... اعتمد على التقويم الشمسي المصري.  
(قسطنطين - يوليوس - هارديان - جستنيان)
- (ب) ماريك في: قيام البطالمة ببناء جامعة ومكتبة الإسكندرية.

## صفحة عاشق لغة الضاد.. رضا نصار

**السؤال الثالث** (١) اكتب كلمة (صواب) أمام العبارة الصحيحة، وكلمة (خطأ) أمام العبارة غير الصحيحة:

- ١- قامت الدولة بوضع قوانين تجرم تشغيل الأطفال قبل إتمام سن التعليم الأساسى. ( )
- ٢- كانت المرأة فى المجتمع المصرى القديم لا تتولى مناصب فى الدولة. ( )
- ٣- مسلة الملكة حتشبسوت توجد فى معبد الكرنك. ( )
- ٤- لم تتأثر مصر القديمة بالحضارات الأخرى. ( )
- ٥- النشاط التجارى زاد بين مصر وجيرانها خاصة بعد حفر قناة سيزوستريس فى عهد الملك سنوسرت الثالث. ( )

(ب) دلى على صحة العبارة الآتية:

- تأثرت بعض الحضارات القديمة بالحضارة المصرية.

**السؤال الرابع** (١) أكمل العبارات الآتية:

- ١- أنشئت أول بورصة مصرية فى محافظة .....
- ٢- كانت تتم محاكمة المتوفى فى مصر الفرعونية أمام محكمة مكونة من ٤٢ قاضيًا يمثلون .....
- ٣- ملابس الأغنياء فى مصر الفرعونية كانت تصنع من ..... أو .....
- ٤- من أشهر المسلات فى مصر القديمة مسلة .....
- ٥- المصرى القديم اعتاد على استخدام أدوات الزينة مثل ..... و .....
- ٦- فسر سيدنا يوسف رؤية ملك مصر بأن مصر ستصاب بالجفاف لمدة ..... سنوات.

(ب) اكتب لتبجة واحدة ترتبت على:

- توفير البورصة المصرية التمويل اللازم لأصحاب المشروعات.

٣٠

النموذج الحادى عشر

مجاب على

**السؤال الأول** (١) أكمل العبارات الآتية:

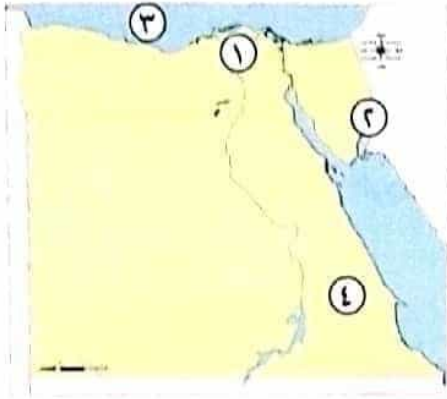
- ١- أشخاص لهم الحق فى أرباح المشروع حسب عدد الأسهم .....
- ٢- تأتي مصر فى المرتبة الـ ١٤ عالمياً من حيث عدد .....
- ٣- أولى خطوات الاستثمار فى البورصة البحث عن ..... مختلفة.
- ٤- استطاع المصريون تدمير خط بارليف باستخدام .....
- ٥- الهرم السكاني ذو القاعدة العريضة يدل على زيادة معدل .....

## صفحة عاشق لغة الضاد.. رضا نصار

(ب) برهن على صحة العبارة الآتية،

- حرصت مصر قديمًا على التواصل الديني مع الدول الأخرى.

**السؤال الثاني** (١) لاحظ الخريطة المقابلة وأجب عن الأسئلة:



١- يشير رقم (١) إلى .....

٢- يشير رقم (٢) إلى .....

٣- يشير رقم (٣) إلى .....

٤- يشير رقم (٤) إلى .....

(ب) ماذا يحدث إذا لم...؟

١- يتوصل المصري القديم للكتابة.

٢- تنهزم كليوباترا في معركة أكتيوم البحرية.

**السؤال الثالث** (١) اكتب كلمة (صواب) أمام العبارة الصحيحة، وكلمة (خطأ) أمام العبارة غير الصحيحة:

١- أظهر الإسكندر الأكبر احترامه للديانة المصرية القديمة فزار معبد الإله «رع».

٢- ترحب مصر بالطلاب من شرق أوروبا لدراسة اللغة والفلسفة.

٣- العلم والعلماء كان لهم دور مهم في بناء الحضارة المصرية قديمًا وحديثًا.

٤- العلماء في العصر الحديث استطاعوا التوصل لحقيقة كيفية بناء الأهرامات.

٥- تفضيل الذكور على الإناث من أسباب مشكلة الزيادة السكانية.

٦- يساعد التعداد السكاني على التخطيط الجيد لمستقبل الدول.

(ب) قارن بين :

- التركيب النوعي والتركيب العمري من حيث التعريف.

التركيب العمري	التركيب النوعي	وجه المقارنة
.....	.....	التعريف
.....	.....	

## صفحة عاشق لغة الضاد.. رضا نصار

السؤال الرابع (١) اكتب ما تشير إليه العبارات الآتية:

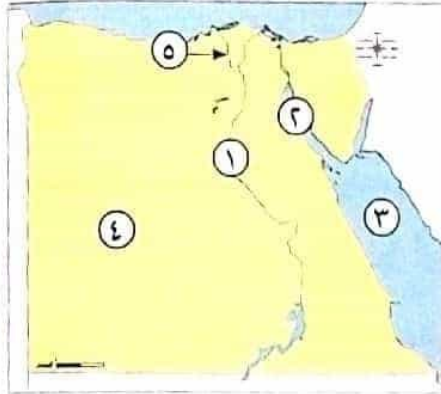
- ١- النسبة بين عدد السكان ومساحة الأرض التي يعيشون عليها. (.....)
  - ٢- سوق منظمة لشراء الأسهم والسندات. (.....)
  - ٣- منظمة اقتصادية تعد السوق المشتركة بين شرق وجنوب إفريقيا. (.....)
  - ٤- الفرق بين المواليد والوفيات في فترة زمنية معينة. (.....)
  - ٥- تعد علامة بارزة في الفن المعماري المصري القديم وهي عبارة عن برج أو عمود. (.....)
- (ب) اذكر اثنين من: - الأثار الرومانية الموجودة في مصر.

- ١- .....
- ٢- .....

٣٠

النموذج الثاني عشر مجاب عنه

السؤال الأول (١) أمامك خريطة صماء لمصر، اكتب مدلول الأرقام عليها:



- ١- يشير رقم (١) إلى وادي .....
- ٢- يشير رقم (٢) إلى خليج .....
- ٣- يشير رقم (٣) إلى البحر .....
- ٤- يشير رقم (٤) إلى الصحراء .....
- ٥- يشير رقم (٥) إلى فرع .....

(ب) قارن بين:

- قناة السويس وقناة سيزوستريس من حيث العصر الذي ينتمي إليه كل منهما.

وجه المقارنة	قناة السويس	قناة سيزوستريس
العصر	.....	.....

السؤال الثاني (١) اكتب ما تشير إليه العبارات الآتية:

- ١- تولى حكم مصر ودعا لعبادة إله واحد وهو «أتون». (.....)
- ٢- مؤسس عصر الدولة الحديثة. (.....)
- ٣- إله الموتى عند المصريين القدماء ويت رأس محكمة الموتى. (.....)
- ٤- قام بحماية أرض سيناء من القبائل التي هجمت على حدود مصر الشمالية الشرقية. (.....)

## صفحة عاشق لغة الضاد.. رضا نصار

- ١٠- سبراً صوراً اطلق على عهده عصر الشهداء. (.....)
- (ب) اكتب نتيجة واحدة ترتبت على: هجرة السكان من محافظة إلى أخرى.

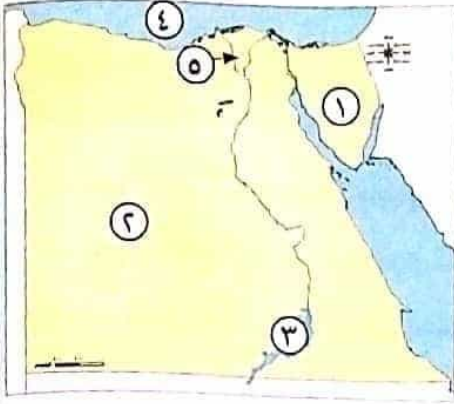
### السؤال الثالث (١) اكتب كلمة (صواب) أمام العبارة الصحيحة، وكلمة (خطأ) أمام العبارة غير الصحيحة:

- ١- كان لمصر دور مهم في دعم الأمن والاستقرار داخل قارة أوروبا. ( )
- ٢- لم يستطع الجيش المصري تدمير خط بارليف المنيع. ( )
- ٣- تم عمل تعداد سكاني في مصر عام ٢٠١٧ م. ( )
- ٤- العالم إقليدس برع في علم الجغرافيا. ( )
- ٥- الفئة المنتجة في الهرم المصري توجد في وسط الهرم. ( )
- (ب) بم تفسر...؟
- أهمية وجود سفارات لدى مصر في معظم بلدان العالم.

### السؤال الرابع (١) ضع خطاً تحت الإجابة الصحيحة فيما بين الأقواس:

- ١- الفئة العمرية التي تمثل ثلث سكان مصر هي فئة .....  
(صغار السن - كبار السن - سن العمل - الشباب)
- ٢- الملكة كليوباترا السابعة هي آخر ملوك .....  
(الرومان - البطالمة - الفراعنة - الإخشيد)
- ٣- يحتفل العالم باليوم العالمي للعلوم من أجل السلام والتنمية في ١٠ ..... من كل عام.  
(يوليو - أكتوبر - ديسمبر - نوفمبر)
- ٤- زيادة متوسط عمر الفرد وانخفاض الوفيات في مصر نتيجة الاهتمام بالرعاية .....  
(الاجتماعية - الثقافية - الصحية - السياحية)
- ٥- ساعد على حفظ رسوم ونقوش المصريين القدماء حتى وقتنا الحالي .....  
(موقع مصر - موارد مصر - مناخ مصر - تضاريس مصر)
- ٦- ازدهرت علاقة مصر التجارية مع بلاد الإغريق في نهاية عصر الدولة .....  
(الوسطى - القديمة - الحديثة - ما قبل الأسرات)
- (ب) اذكر جهود الدولة لحماية فئة صغار السن في مصر.

السؤال الأول (١) أمامك خريطة صماء لمصر، اكتب مدلول الأرقام عليها:



- ١- يشير رقم (١) إلى شبه جزيرة .....
- ٢- يشير رقم (٢) إلى الصحراء .....
- ٣- يشير رقم (٣) إلى بحيرة .....
- ٤- يشير رقم (٤) إلى البحر .....
- ٥- يشير رقم (٥) إلى منطقة مزدحمة بالسكان .....

(ب) ما العلاقة بين ؟

- صاحب المشروع وصاحب السند.

السؤال الثاني (١) اختر الإجابة الصحيحة مما بين الأقواس:

- ١- زيادة السكان بنسبة تفوق الموارد والخدمات المتاحة تسبب المشكلة .....  
(السكانية - العلاجية - السلوكية - الإدارية)
- ٢- كانوا ينتمون إلى الطبقة الرابعة في مصر الفرعونية هم .....  
(حكام الأقاليم - صغار الموظفين - صغار الحرفيين - قادة الجيش)
- ٣- يعد الهرم الأكبر دليلاً على عبقرية المصري القديم في مجال .....  
(الزراعة - العمارة - الطب - الصناعة)
- ٤- كانت ملابس الملك تصنع من الحرير وتطرز بـ .....  
(النحاس - الذهب - الحديد - الخشب)

(ب) بم تفسر ؟

١- وصول المرأة لوظائف الإدارة العليا في الدولة دون تمييز ضدها.

٢- يحرص السياح على زيارة معبد الملك رمسيس الثاني سنوياً.

السؤال الثالث (١) اكتب ما تشير إليه العبارات الآتية:

- ١- أدب يعكس حياة المصريين القدماء السياسية والاجتماعية. (.....)
- ٢- أوراق مالية تثبت أن مالکها قدم قرضاً لصاحب المشروع لمدة محددة. (.....)
- ٣- سجلت على جدران الأهرامات من الداخل لمساعدة الميت في الحياة الأخرى. (.....)
- ٤- الفرق بين المواليد والوفيات في فترة معينة. (.....)
- ٥- انتقال السكان بين المحافظات. (.....)

## صفحة عاشق لغة الضاد.. رضا نصار

(ب) ما النتائج المترتبة على ..؟

- الهجرة الداخلية بين المحافظات المصرية.

**السؤال الرابع** (١) اكتب كلمة (صواب) أمام العبارة الصحيحة، وكلمة (خطأ) أمام العبارة غير الصحيحة:

- ١- تعد محافظة القاهرة من المحافظات الطاردة للسكان. ( )
- ٢- العاملون بحرفة الصناعة يمثلون ربع قوة العمل في مصر. ( )
- ٣- كانت وظيفة الكاتب المصرى القديم تساعد على الوصول للمناصب العليا بالدولة. ( )
- ٤- الأسهم أوراق مالية تثبت أن مالکها قدم قرضاً لصاحب المشروع لمدة محددة. ( )

(ب) ما المقصود بـ...؟

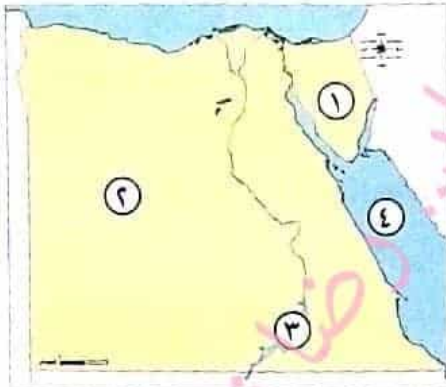
١- الهجرة.

٢- السندات.

**النموذج الرابع عشر** مجاب عنه

٣٠

**السؤال الأول** (١) أمامك خريطة صماء لمصر اكتب مدلول الأرقام عليها:



- ١- يشير رقم (١) إلى شبه جزيرة .....
- ٢- يشير رقم (٢) إلى الصحراء .....
- ٣- يشير رقم (٣) إلى بحيرة .....
- ٤- يشير رقم (٤) إلى البحر .....

(ب) أجب عن السؤالين الآتيين:

١- حدد سببًا واحدًا ل: أهمية البورصة بالنسبة للاقتصاد المصرى.

٢- وضح الفرق بين: الأسهم والسندات.

**السؤال الثاني** (١) أكمل العبارات الآتية بالكلمات المناسبة:

- ١- استخدم المصريون القدماء أدوات طبية شبيهة بما نستخدمه الآن مثل .....
- ٢- الهرم السكاني يساعدنا في تقدير احتياجات السكان من .....

## صفحة عاشق لغة الضاد.. رضا نصار

٣- بنيت المعابد الجنائزية لأغراض .....

٤- أدخل البطالمة إلى مصر محاصيل جديدة مثل .....

(ب) رتب الأحداث التاريخية الآتية من الحديث إلى القديم:

- ازدهار العلاقات التجارية بين مصر وبلاد الإغريق - إرسال الملك سنفروبعثات تجارية إلى ليبيا -  
إرسال الملكة حتشبسوت رحلتها لبلاد بونت - إدخال مصر محاصيل زراعية جديدة مثل العنب.

### السؤال الثالث (١) صوب ما تحته خط:

- ١- أخذ المصريون القدماء عن الحيثيين العريات الحربية.  
٢- الملكة حتشبسوت كانت آخر ملوك دولة البطالمة.  
٣- تقل الكثافة السكانية في مصر في محافظات الوادي والدلتا.  
٤- أعطى الإمبراطور دقلديانوس لشهور السنة أسماء رومانية.  
٥- الخلود هو الحياة مرة أخرى بعد الموت.

(ب) حدد دورا واحدا لكل صواب:

١- المراكز الثقافية.

٢- الرئيس الراحل محمد أنور السادات.

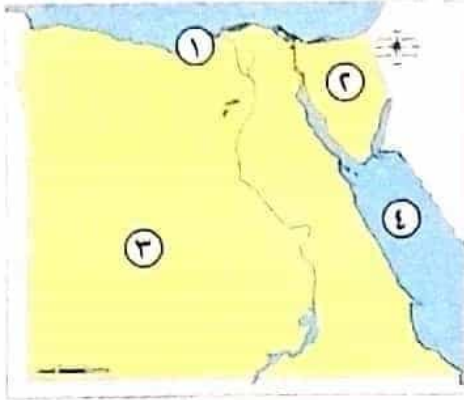
### السؤال الرابع (١) اختر الإجابة الصحيحة مما بين الأقواس:

- ١- صنعت ملابس عامة الشعب في مصر القديمة من .....  
(الصوف - الكتان - القطن - الحرير)  
٢- ترتب على هزيمة البطالمة عام ٣١ ق. م تحول مصر إلى ولاية .....  
(عثمانية - رومانية - فارسية - فرعونية)  
٣- كانت مخازن الحبوب في مصر القديمة توجد في منازل .....  
(الفرعون وأسرتهم - حكام الأقاليم - عمال الزراعة - عمال الصناعة)  
٤- بدأت مصر تنفيذ مشروع الربط الملاحي بين بحيرة فيكتوريا والبحر المتوسط عن طريق نهر .....  
(عطبرة - شبيلي - جوبا - النيل)  
٥- يرجع اختلاف شكل الهرم السكاني من دولة إلى أخرى إلى .....  
(النمو السكاني - التركيب الوصفي - التركيب النسبي - الأنشطة الاقتصادية)  
٦- قام المصريون القدماء ببناء منازلهم باستخدام الطوب .....  
(الأسمنتي - الحراري - اللبن - الزجاجي)

(ب) ما العلاقة بين ؟ البورصة وتشغيل العمالة.

## السؤال الأول

(١) أمامك خريطة صماء لمصر، اكتب مدلول الأرقام عليها:



- ١- يشير رقم (١) إلى محافظة .....
- ٢- يشير رقم (٢) إلى شبه جزيرة .....
- ٣- يشير رقم (٣) إلى الصحراء .....
- ٤- يشير رقم (٤) إلى البحر .....

(ب) ما العلاقة بين ...؟

- ١- البورصة المصرية ومحافظتى القاهرة والإسكندرية.
- ٢- قلب المتوفى ومحكمة الموتى عند المصريين القدماء.

## السؤال الثاني

(١) أكمل العبارات الآتية:

- ١- كان صغار الموظفين فى مصر الفرعونية ينتمون إلى الطبقة .....
  - ٢- اشتهر المصرى القديم بنحت التماثيل ومن أشهرها تمثال .....
  - ٣- يهدف المشروع الملاحى المصرى للربط بين البحر المتوسط وبحيرة .....
  - ٤- أول من اخترع الساعة لتحديد الوقت هم .....
  - ٥- شاركت مصر فى بعثة الأمم المتحدة لحفظ السلام فى .....
- (ب) وضع: تأثير الفن المصرى على الحضارات الأخرى.

## السؤال الثالث

(١) اكتب كلمة (صواب) أمام العبارة الصحيحة، وكلمة (خطأ) أمام العبارة غير الصحيحة:

- ١- قامت الحضارة المصرية القديمة على عدم التعاون بين كل فئات المجتمع. ( )
- ٢- توصل العلماء إلى معرفة كيف تم بناء الهرم الأكبر. ( )
- ٣- استطاعت مصر إقامة علاقات سياسية قوية مع غيرها من الدول عبر العصور. ( )
- ٤- ظهر اختراع الأطراف الصناعية فى عصرنا الحالى. ( )
- ٥- اكتشف المصريون القدماء الكثير من الأمراض والوصفات الطبية. ( )

(ب) بم تفسر ...؟

- تعتبر المراكز الثقافية وسيلة مهمة للتواصل الثقافى بين دول العالم.

## صفحة عاشق لغة الضاد.. رضا نصار

السؤال الرابع (1) لمن تنسب العبارات الآتية...؟

- ١- قام بطرد الهكسوس من مصر. (.....)
- ٢- قام باستكمال مدينة الإسكندرية. (.....)
- ٣- سمي عهده بعصر الشهداء. (.....)
- ٤- انتصر على الحيثيين في معركة قادش. (.....)

(ب) ما المقصود بـ؟

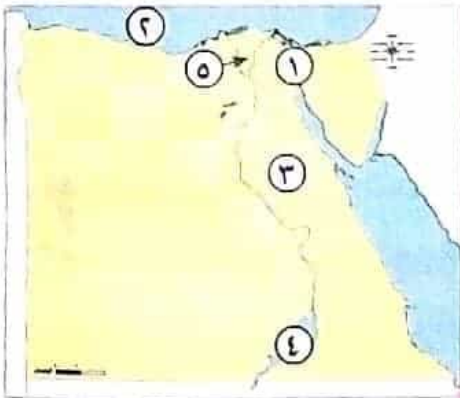
١- الكومبينا.

٢- الأسهم.

التمهيد السادس عشر مجاب عنه

٣٠

السؤال الأول (1) أمامك خريطة صماء لمصر، اكتب مدلول الأرقام عليها:



- ١- يشير رقم (١) إلى قناة.....
- ٢- يشير رقم (٢) إلى البحر.....
- ٣- يشير رقم (٣) إلى الصحراء.....
- ٤- يشير رقم (٤) إلى بحيرة.....
- ٥- يشير رقم (٥) إلى منطقة مزدحمة سكانياً.....

(ب) اذكر نقحة واحدة لـ:

- اعتقاد المصريين القدماء بالبعث والخلود.

السؤال الثاني (1) اكتب كلمة (صواب) أمام العبارة الصحيحة، وكلمة (خطأ) أمام العبارة غير الصحيحة:

- ١- حرص المصري القديم على التمسك بالقيم الأخلاقية وتطبيقها في كل تعاملاته. ( )
- ٢- دمر الجيش المصري خط بارليف في ٦ ساعات. ( )
- ٣- ثاني بورصة أنشئت في مصر في محافظة الإسكندرية. ( )
- ٤- قدمت مصر العديد من المساعدات الغذائية لشعب فلسطين. ( )
- ٥- استطاع الرئيس أنور السادات الانتصار على العدو في حرب السادس من أكتوبر. ( )

## صفحة عاشق لغة الضاد.. رضا نصار

(ب) قارن بين

- معركة قادش وحرب أكتوبر ١٩٧٣م من حيث النتائج والعدو :

وجه المقارنة	معركة قادش	حرب أكتوبر
النتائج	.....	.....
العدو	.....	.....

### السؤال الثالث (١) اختر الإجابة الصحيحة:

- ١- كان حكم بطلميوس الأول لمصر بداية للعصر .....  
(الفرعونى - البطلمى - الرومانى - الأيوبي)
  - ٢- أخذت مصر عن الحضارة العراقية .....  
(الأهرامات المدرجة - أعمدة المعابد - الحيوانات المجنحة - الحبر الأسود)
  - ٣- الفئة التى تصنف على أنها غير منتجة وتوجد فى قاعدة الهرم السكاني المصرى  
هى .....  
(صغار السن - كبار السن - الشيوخ - الشباب)
  - ٤- دعا الملك ..... إلى عبادة إله واحد.  
(أمنمحات الأول - سنوسرت الثالث - رمسيس الثانى - أمنحتب الرابع)
  - ٥- اهتم المصرى القديم بالألعاب الرياضية ومنها ألعاب التفكير مثل .....  
(السباحة - التحطيب - المصارعة - السنت)
- (ب) ما النتائج المترتبة على-؟
- اهتمام الدولة المصرية بكفالة حقوق المرأة.

### السؤال الرابع (١) أكمل العبارات الآتية:

- ١- من أشكال التواصل العلمى بين دول العالم فى العصر الحالى .....
- ٢- أرسلت الملكة حتشبسوت رحلتها التجارية لبلاد .....
- ٣- مارس المصريون القدماء الألعاب الرياضية مثل .....
- ٤- زار الإسكندرا الأكبر معبد الإله ..... بمصر.

(ب) فسر بذكر السبب:

- ١- ضعف الدولة البطلمية .
- ٢- اهتمام المصرى القديم بالحفاظ على جسم الميت بعد وفاته .



# صفحة عاشق لغة الضاد.. رضا نصار

## السؤال الثاني

- ( أ ) ١- الملك أحمس الثالث ٢- الملك رمسيس الثاني ٣- الملك رمسيس  
١- الرئيس الراحل محمد أنور السادات  
( ب ) شععت إليها الملك أحمس على تحرير البلاد من الهكسوس، وذلك بعد مقتل كل من والده (سفن رع) وأخيه (كامس) أثناء كفاحهما ضد الهكسوس

## السؤال الثالث

- ( أ ) ١- صواب ٢- صواب ٣- صواب  
( ب )

وجه المقارنة	معركة قادش	حرب أكتوبر ١٩٧٣م
القائد	الملك رمسيس الثاني	الرئيس الراحل محمد أنور السادات
العدو	الحثيين	إسرائيل
النتائج	توقيع الملك رمسيس الثاني أول معاهدة سلام مع منك الحثيين	هزيمة الجيش الإسرائيلي - تحقيق نصر كبير أهل العدو - تحرير أرض سيناء من الاحتلال الإسرائيلي

## الدرس الثاني: مصر في عصرى البطالمة والرومان

### إجابة تدريب (الدرس الثاني: مصر في عصرى البطالمة والرومان)

- ١- القمح ٢- أمون ٣- الإسكندرية  
٤- ورق البردي - الزيت ٥- بطليموس الأول ٦- الشهباء  
٧- العربى الإسلامى ٨- أكتيوم البحرية  
١- صواب ٢- خطأ ٣- خطأ  
٤- صواب ٥- صواب  
١- الإسكندرية ٢- سيوة ٣- البطلمى  
٤- مطلقاً ٥- البطالمة ٦- مرقس  
١- الثالث ٢- كليوباترا السابعة ٣- الرومان  
٤- أمون ٥- الإسكندرية ٦- الأول  
١- الإسكندر الأكبر ٢- بطليموس الأول ٣- بطليموس الأول  
٤- كليوباترا السابعة ٥- القديس مرقس ٦- الإمبراطور دقلديانوس

- ١- وفاة الإسكندر الأكبر - بناء مدينة الإسكندرية - تولية كليوباترا السابعة الحكم - معركة أكتيوم البحرية  
٢- سيطرة الإسكندر الأكبر على مصر - تحول مصر إلى ولاية رومانية - بناء دير الأنبا أعلونيوس - الفتح العربى الإسلامى لمصر

وجه المقارنة	البطالمة	الرومان
الزراعة	- قاموا بحفر الترع والقنوات - أدخلوا إلى مصر محاصيل زراعية جديدة مثل العنب والبرقوق، والذات - قاموا باستيراد سلالات جديدة من الحيوانات	- قاموا بحفر الترع والقنوات - أدخلوا إلى مصر محاصيل زراعية جديدة مثل العنب والبرقوق، والذات - قاموا باستيراد سلالات جديدة من الحيوانات
الصناعة	ازدهار بعض الصناعات مثل (الزيتون، المنسوجات، الزجاج، العطور)	اهتموا ببعض الصناعات مثل صناعة (ورق البردي، الزيتون، الأدوية، الزجاج)

- ١- القاهرة ٢- روس ٣- أحمس الثالث  
٤- محمد أنور السادات ٥- إسرائيل ٦- رمسيس الثاني  
١- القديسة ٢- أحمس ٣- مجدو  
٤- رمسيس الثاني ٥- قادش ٦- الثالث  
١- الملك رمسيس ٢- الهكسوس ٣- الملكة إيزاب حث  
٤- الملك أحمس ٥- أحمس الثالث ٦- رمسيس الثاني

- ١- بسبب طهه أول معاهدة سلام بينه وبين الحثيين  
٢- تخليفاً لتدبير التنصارات مصر في حرب السادس من أكتوبر عام ١٩٧٣ م  
٣- تأمين حدود مصر  
٤- تحرير أرض سيناء من الاحتلال الإسرائيلي  
١- أدى إلى شرو الهكسوس لمصر في نهاية عصر الدولة الوسطى  
٢- هزيمة الجيش الإسرائيلى - تحقيق نصر كبير أهل العدو - تحرير أرض سيناء من الاحتلال الإسرائيلي  
٣- توقيع الملك رمسيس الثاني أول معاهدة سلام مع منك الحثيين  
٤- التنصارات الملك أحمس الثالث واستسلام أمراء أسيا بقيادة أمير قادش

- ١- للاستيلاء على ثروتها  
٢- شععت إليها الملك أحمس على تحرير البلاد من الهكسوس، وذلك بعد مقتل كل من والده (سفن رع) وأخيه (كامس) أثناء كفاحهما ضد الهكسوس  
١- عشتت مصر العديد من معاهدات السلام مع غيرها من الدول، ومن أشهر هذه المعاهدات  
- المعاهدة التي وقعها الملك رمسيس الثاني مع الحثيين  
٢- استخدام الملك أحمس العربات الخفيفة أثناء حربه ضد الهكسوس  
- قرار الملك أحمس الثالث الهجوم على العدو من خلال طريق غير متوقع  
- استخدام الجيش المصرى أثناء حرب السادس من أكتوبر اللغة النوبية كسفرة في الاتصالات اللاسلكية، واستخدام خراطيم المياه في تدعيم خط بارليف

وجه المقارنة	معركة مجدو	معركة قادش
قائد المعركة	الملك أحمس الثالث	الملك رمسيس الثاني
نتائجها	التصارات الملك أحمس الثالث واستسلام أمراء أسيا بقيادة أمير قادش	توقيع الملك رمسيس الثاني أول معاهدة سلام مع ملك الحثيين

- ١- معركة مجدو ٢- معركة قادش  
٣- حرب السادس من أكتوبر

### إجابة اختبار نفسك (التنصارات بلحاظ غير العصور)

## السؤال الأول

- ١- محمد أنور السادات ٢- بارليف ٣- النوبية  
٤- الحثيين ٥- سيناء

# صفحة عاشق لغة الضاد.. رضا نصار

## السؤال الثاني:

- ١- صواب. ٢- خطأ. ٣- صواب.  
٤- خطأ. ٥- خطأ.  
السؤال الثالث:  
١- أمون. ٢- الوزراء. ٣- الثالث.  
٤- التهذيبي. ٥- حنحسوت.

### إجابة اختبار الأضواء (٣) على الوحدة الثانية



## السؤال الأول:

- ١- التوبة. ٢- آق. ٣- خراطيم المياه.  
٤- الفتح العربي الإسلامي. ٥- ذكرى الملك.

## السؤال الثاني:

- (١) ١- صواب. ٢- صواب. ٣- خطأ. ٤- صواب.  
(ب) تحولت مصر من دولة بظلمة إلى ولاية رومانية عام ٣٠ ق.م.

## السؤال الثالث:

- (١) ١- الاقتصادي. ٢- المناخ. ٣- السابقة.  
(ب) ١- الجنائزية. ٢- يقام به مرقوس جنازة الملك.

### إجابة اختبار الأضواء (٤) على الوحدة الثانية



## السؤال الأول:

- (١) ١- خطأ. ٢- خطأ. ٣- خطأ. ٤- صواب.  
(ب) تعرضت مصر لغزو الهكسوس.

## السؤال الثاني:

- ١- الشمالية الشرقية. ٢- أتلونبوس. ٣- السابعة عشرة.  
٤- الحساب. ٥- القمح.

## السؤال الثالث:

- ١- الملكة كنبواترا السابعة. ٢- الملك أحمدس. ٣- الملك بظلموس الأول.  
٤- الملك رمسيس الثاني. ٥- الإمبراطور دقلديانوس.

### إجابة مراجعة الكتاب المدرسي على المحور الثالث



- (١) ١- الزيادة الطبيعية (الفرق بين عدد المواليد وعدد الوفيات). الهجرة (انتقال الأفراد من مكان إلى آخر).

٢- الهجرة الداخلية: انتقال الأفراد من مكان إلى آخر داخل المحافظات.

الهجرة الخارجية: انتقال الأفراد من مكان إلى آخر بين مصر ودول العالم.

٣- التركيب العمري: تقسيم السكان حسب الفئة العمرية.

التركيب النوعي: تقسيم السكان حسب النوع (ذكور وإناث).

٤- المعابد الجنائزية أنشئت لإقامة مرقوس الجنازة للملك. ومعابد الآلهة أنشئت لإقامة المرقوس اليومية للآلهة.

٥- النعث هو الحياة مرة أخرى بعد الموت.

الخلود هو العيش حياة أبدية لا موت بعدها.

(ب) أجب بنفسك

(ج) ١- بسبب اختلاف توزيع الموارد والخدمات.

٢- زيادة استهلاك الموارد وزيادة النفايات وتلوث البيئة. وإعانة مشروعات التنمية في الدولة.

٣- كانت ملابس الأغنياء من الحرير أو الكتان عالي الجودة. وملابس عامة الشعب من الكتان.

٤- بسبب اعتقادهم الديني في النعث والخلود.

٥- أنشؤا معارة الإسكندرية لإرشاد السفن في البحر - فرضوا رسوقاً على التجارة الخارجية.

## ١

الكتابة الهيروغليفية	الكتابة الهيراطيقية
كانت تعد الخط الرسم للدولة	استخدمها رجال الدس (الكهنة) في الكتابة على ورق البردي وقطع الخشب

## ٢

الأدب التهذيبي	أدب الطويح
يتناول الحكم والنساج التي كان يوجهها الملك لانه (الفرعون)	ركز على تحديد أعمال الملك (الفرعون)

## ٣

الأدب القديم	الأدب القصصي
يتناول الحياة بعد الموت وعقيدة النعث والخلود	يتضمن القصص الحقيقية والخيالية التي تعكس حياة المصريين القدماء السياسية والاجتماعية

### إجابة اختبار نفسك (العلوم والآداب من بلدنا)

## السؤال الأول:

- ١- رمسيس الثاني. ٢- الهيروغليفية. ٣- الحساب. ٤- القصص.

## السؤال الثاني:

- ١- صواب. ٢- صواب. ٣- صواب.  
٤- خطأ. ٥- خطأ.

## السؤال الثالث:

- (١) ١- رجال الدين. ٢- الساعة المائية. ٣- رمسيس الثاني.

(ب) ١- حيث قاموا بحساب الوقت نهاراً عن طريق استخدام المسلات كساعات شمسية لمعرفة الوقت من خلال مراقبة الظل. وقاموا بحساب الوقت أثناء الليل عن طريق استخدام ساعات مائية على شكل مزهرجات.

٢- الأدب الديني يتناول الحياة بعد الموت وعقيدة النعث والخلود.

الأدب القصصي يتضمن القصص الحقيقية والخيالية التي تعكس حياة المصريين القدماء.

الأدب التهذيبي يتناول الحكم والنساج التي كان يوجهها الملك لانه واحد الحكماء لتلاميذه.

أدب الشيخ ركز على تحديد أعمال الملك (الفرعون).

### إجابة اختبار الأضواء (١) على الوحدة الثانية

## السؤال الأول:

- (١) ١- صواب. ٢- خطأ. ٣- صواب. ٤- صواب.

(ب) للمشاركة في الاحتفال بسقوط أشعة الشمس على وجه الملك رمسيس ووجه أمون «رع» لمدة تسعة أيام في العشرين دقيقة مرتين في العام، يوم مولد الملك ويوم تنويحه على العرش.

## السؤال الثاني:

- ١- المشروط. ٢- الضعامة. ٣- أمون.  
٤- بارليف. ٥- الساقية.

## السؤال الثالث:

- (١) ١- إدو. ٢- الملك. ٣- الإسكندرية.  
(ب) ١- معارة الإسكندرية. ٢- لإرشاد السفن في البحر.

### إجابة اختبار الأضواء (٢) على الوحدة الثانية

## السؤال الأول:

- (١) ١- الأول. ٢- البحر. ٣- الديني. ٤- دقلديانوس.  
(ب) قام المصريون القدماء بحساب الوقت نهاراً عن طريق استخدام المسلات كساعات شمسية لمعرفة الوقت من خلال مراقبة الظل.

## صفحة عاشق لغة الضاد.. رضا نصار

-٦-

٢- وكان لمصر علاقات سياسية وعسكرية مع دول العالم عبر تاريخها عن طريق عقد المعاهدات لحماية حدودها، وحفظ الأمن، ونشر السلام، وتحقيق رفاهية الشعوب، وعقد الاتفاقيات لإمداد بعض الدول بالمساعدات العسكرية في حالة الحرب، وتبادل الخبرات الحربية والعسكرية مع الدول الأخرى.

٣- كانت علاقات مصر السياسية والعسكرية قديماً تتمثل في - مشاركة في الحروب ( اشتراك المينيقين مع الملك تحتمس الثالث في معركة محدو).

- معاهدات ( كما وقعت مصر قديماً معاهدات مع غيرها من الدول مثل توقيع الملك رمسيس الثاني معاهدة السلام مع الحيثيين).

- دفاعات حربية ( أنشأ المصريون القداماء العديد من القلاع والحصون في فينقيا لحماية حدود الإمبراطورية المصرية).

٤- هناك علاقات سياسية وعسكرية بين مصر والدول العربية مثل، مساندة الدول العربية لمصر وسوريا في حرب أكتوبر ١٩٧٣ م.

٥- تخرص مصر على دعم جهود السلام والأمن في كافة أنحاء العالم من خلال المشاركة بقوات مؤهلة تأهيلاً عالياً في بعثات حفظ السلام التابعة للأمم المتحدة.

٦- حماية حدودها وحفظ الأمن ونشر السلام وتحقيق رفاهية الشعوب - إمداد بعض الدول بالمساعدات العسكرية في حالة الحرب وتبادل الخبرات الحربية والعسكرية مع الدول الأخرى.

٢- عقد المعاهدات من أجل حماية حدودها وحفظ الأمن ونشر السلام وتحقيق رفاهية الشعوب

- عقد الاتفاقيات من أجل إمداد بعض الدول بالمساعدات العسكرية في حالة الحرب وتبادل الخبرات الحربية والعسكرية مع الدول الأخرى.

٣- لتدعيم الأمن والاستقرار داخل قارتنا الإفريقية

٤- لحماية حدود الإمبراطورية المصرية.

٥- حماية حدودها وحفظ الأمن ونشر السلام وتحقيق رفاهية الشعوب.

٦- ترسيخ الروابط والعلاقات مع جمهورية السودان في كافة المجالات خاصة العسكرية والأمنية وتحقيق الأمن القومي للسودانيين.

٧- تعمق العلاقات بين الدول، وتساعد على التواصل الحضارى مع جميع دول العالم.

٧- قيام مصر بعقد العديد من المعاهدات والاتفاقيات مع دول العالم.

٢- تطوير وتعميق علاقات مصر مع غيرها من الدول

٣- ترسيخ الروابط والعلاقات مع جمهورية السودان في كافة المجالات خاصة العسكرية والأمنية، وتشكيل قوات خاصة مسلحة لديها الخبرة العلمية والميدانية وتحقيق الأمن القومي للسودانيين.

٢- قيام مصر بعقد العديد من المعاهدات والاتفاقيات مع دول العالم.

٢- تطوير وتعميق علاقات مصر مع غيرها من الدول

٣- ترسيخ الروابط والعلاقات مع جمهورية السودان في كافة المجالات خاصة العسكرية والأمنية، وتشكيل قوات خاصة مسلحة لديها الخبرة العلمية والميدانية وتحقيق الأمن القومي للسودانيين.

٣- قيام مصر بعقد العديد من المعاهدات والاتفاقيات مع دول العالم.

وجه المقارنة	معركة مجدو	معركة قادش
الأطراف	المصريون بقيادة الملك تحتمس الثالث ضد أمراء أسيا بقيادة أمير قادش	المصريون بقيادة الملك رمسيس الثاني ضد الحيثيين
نتائجها	انتصار الملك تحتمس الثالث واستسلام أمراء أسيا بقيادة أمير قادش	توقيع الملك رمسيس الثاني أول معاهدة سلام مع ملك الحيثيين.

٧- شجعت ابنتها الملك أحمس على تحرير البلاد من الهكسوس، وذلك بعد مقتل كل من والده ( سقن رع ) وأخيه ( كاهس ) أثناء كفاحهما ضد الهكسوس.

٨- مصطبة واحدة، كانت المقابر تبنى من مصطبة واحد.

ثم تطورت إلى مصاطب، هرم مكون من عدة مصاطب كهرم زوسر.

تم أهرامات كاملة، أهرامات كاملة مثل أهرامات الجيزة التي برع المصريون القداماء في تصميمها وتنفيذها.

٩- نتيجة لتقدم المصريين القداماء في علم الحساب قاموا بحساب مساحة الأراضي الزراعية

١٠- المرأة قديماً تولت المرأة المناصب العليا في الدولة مثل (ملحكة وقاضية ووزيرة وكاتبة وكاهنة) وكان لها الحق في الميراث والبيع والشراء

المرأة حديثاً تولت العديد من المناصب كوزيرة وقاضية، كما تشارك في مجلس النواب ومجلس الشيوخ والعديد من الأحزاب السياسية ومنحها الدستور المصري عام ٢٠١١ م العديد من الحقوق

(د) أحب نفسك في ضوء ما درست عن الحياة الاجتماعية والدينية عند المصريين القداماء

(هـ) أحب في ضوء دراستك للمحالات التي برع فيها المصريون القداماء.

المحور الرابع، الحضارة والتواصل

الوحدة الثالثة، علاقات مصر مع العالم بين الماضي والحاضر

الدرس الأول، التواصل السياسي والعسكري بين مصر والعالم

إجابة تدريب (الدرس الأول، التواصل السياسي والعسكري بين مصر والعالم)

١- خطأ

٢- صواب

٣- صواب

٤- خطأ

٥- صواب

١- مجدو

٢- أسيا

٣- الهكسوس

٤- السودان

٥- الخارجية

٦- الحيثيين

١- الهكسوس

٢- السياسي

٣- سوريا

٤- السفير

١- تعمل على تعمق العلاقات بين الدول، وتساعد على التواصل الحضارى مع جميع دول العالم

٢- يمثل الحكومة المصرية في الدول الأخرى.

٣- يروج للثقافة المصرية، وهو المسئول عن ملف التعليم والبعثات.

٤- مسئول عن الشؤون العسكرية وتبادل الخبرات في مجال التدريب والأسلحة.

٥- يهتم بعلاقات التعاون لحل المشكلات ودعم تحقيق السلام.

١- شاركت مصر في بعثة للأمم المتحدة لحفظ السلام في دول إفريقيا لتدعيم الأمن والاستقرار داخل قارتنا الإفريقية.

# صفحة عاشق لغة الضاد.. رضا نصار

- 1- إنشاء بورصة مصر في محافظة الإسكندرية
- 2- إنشاء بورصة في محافظة القاهرة
- 3- إطلاق مسمى البورصة المصرية على بورصة القاهرة والإسكندرية

وجه المقارنة	الأسمم	الصفقات
التعريف	أوراق مالية تجعل صاحبها شريكاً في المشروع (الشرخصة / المصح) وفق عدد الأسهم التي يشتريها من البورصة	أوراق مالية تثبت أن مالكيها قدم فرصاً لصاحب المشروع لمدة محددة تمتد من سنة إلى عشر سنوات أو أكثر

- 1- لأنه قد يحدث خسائر للمشروع وفي هذه الحالة يتحمل أصحاب الأسهم حجم الخسائر
- 2- توفر البورصة التمويل اللازم لأصحاب المشروعات مما يؤدي إلى ازدهار الاقتصاد المصري

- 3- يقدموا المشورة للأشخاص ويساعدوهم في شراء الأسهم وبيعها في البورصة
- 1- يؤدي إلى زيادة الإنتاج - زيادة الاستثمارات - تشغيل العمالة - ازدهار الاقتصاد المصري

- 2- تحمل أصحاب الأسهم حجم الخسائر
- 3- أصبح يمكننا شراء الأسهم والصفقات المطروحة في البورصة لصالح الشركات أو المصانع
- 1- توفر البورصة التمويل اللازم لأصحاب المشروعات مما يؤدي إلى تشغيل العمالة
- 2- صاحب المشروع يكون مديناً لأصحاب الصفقات

- 3- توفر البورصة التمويل اللازم لأصحاب المشروعات مما يؤدي إلى ازدهار الاقتصاد
- 1- تنوع البورصة المصرية للعوامل الاستثمارية في أي مجال

## إجابة اختبار تفسيك (البورصة المصرية)

### السؤال الأول

- 1- أصحاب الأسهم
- 2- المواطنين
- 3- مادي
- 4- شراء وبيع
- 5- شركات

### السؤال الثاني

- 1 ( أ ) - البورصة
- 2- القاهرة
- 3- الصفقات
- ( ب ) - توفر البورصة التمويل اللازم لأصحاب المشروعات مما يؤدي إلى ازدهار الاقتصاد المصري

### السؤال الثالث

- 1 ( أ ) - الاستثمارات
- 2- الأسهم
- 3- الخسارة
- ( ب ) - الأسهم أوراق مالية تجعل صاحبها شريكاً في المشروع (الشركة / المصح) وفق عدد الأسهم التي يشتريها من البورصة
- الصفقات - أوراق مالية تثبت أن مالكيها قدم فرصاً لصاحب المشروع لمدة محددة

## إجابة اختبار الأخطاء (1) على الوحدة الثالثة

### السؤال الأول

- 1 ( أ ) - العراق القديم
- 2- الحواريون
- 3- الماشية
- 1- الإسكندرية

- ( ب ) - لحماية حدود الإمبراطورية المصرية

### السؤال الثاني

- 1- صواب
- 2- خطأ
- 3- صواب
- 4- خطأ
- 5- صواب

### السؤال الثالث

- 1- بونت
- 2- المصرية
- 3- السودان
- 4- العراق
- 5- إفريقيا

- 1- زده النشاط التجاري بين مصر وبيروتها

- 2- أنشئوا المدينة على الميناء على ساحل البحر الأحمر والمتوسط - صدروا الحاصلات الزراعية والمنتجات المصرية إلى الدول الإفريقية - استوردوا المعادن والحبوب التي استخدموها في تصدير الحبوب المصري
- 3- المساعدة في زيادة تبادل التجاري بين مصر ودول إفريقيا

وجه المقارنة	قناة السويس	قناة السويس القديمة
التوسيع	قناة توصل البحر المتوسط والبحر الأحمر عن طريق بحر النيل	قناة تربط بين البحرين الأحمر والمتوسط
العصر الذي تم حفرها فيه	في عصر الدولة الوسطى	في العصر الحالي ( الحديث )

العلاقات التجارية في عصر الدولة القديمة	العلاقات التجارية في عصر الدولة الوسطى
قام الملك ميمفيس بإرسال بعثات تجارية إلى شمال السودان ولبيا حفنة بالحبوب والقطار والملح و كانت حفنة بالماشية - كما أرسل أسطولاً بحرياً يضم أربعين سفينة إلى قوسيا لإحصار حشيش الأزرق الذي يستخدم في صناعة السفن والاثاث	زده النشاط التجاري بين مصر وبيروتها خاصة بعد حفر قناة السويس قديم في عهد الملك سوسرت الثالث لتوصيل البحر المتوسط والبحر الأحمر عن طريق بحر النيل

## إجابة اختبار تفسيك (العلاقات الاقتصادية بين مصر والعالم)

### السؤال الأول

- 1 ( أ ) - فيكتوريا
- 2- الصينة
- 3- السودان
- ( ب ) - ازدهرت العلاقات التجارية بين مصر وبلد الإغريق ( اليونان ) حيث أقام ملوك الأسرة الـ 26 ( مصرية بطناطيس ) بالقرب من إيناف الصارو في البحيرة حالياً للتجارة والرحابا اليونانيين . وأسست مراكباً مصرية وتجارية

### السؤال الثاني

- 1- صواب
- 2- خطأ
- 3- خطأ
- 4- صواب
- 5- صواب

### السؤال الثالث

- 1- الصين
- 2- السودان
- 3- إفريقيا
- 4- نطراطيس
- 5- حشيشة

## الوحدة الرابعة - الوحدة المصرية

## إجابة اختبار (الوحدة المصرية)

- 1- الاستثمار
- 2- الإسكندرية
- 3- البورصة المصرية
- 4- الأسهم والصفقات
- 5- القاهرة
- 6- يشتريها
- 7- مدي
- 8- سنة - عشر
- 9- صاحب المشروع

- 1- خطأ
- 2- صواب
- 3- صواب
- 4- خطأ
- 5- صواب
- 6- خطأ
- 7- خطأ
- 8- خطأ
- 9- خطأ

- 1- البورصة
- 2- القاهرة
- 3- الأسهم
- 4- الإسكندرية
- 5- الصفقات
- 6- المشروع
- 7- مادي
- 8- الأسهم

- 1- سفارة البورصة
- 2- البورصة
- 3- الأسهم
- 4- البورصة
- 5- أصحاب الأسهم
- 6- الصفقات
- 7- البورصة

### إجابة اختبار الأضواء (2) على الوحدة الثالثة



#### السؤال الأول

- (1) - نخار الثاني ١-  
- الأسهم ٢-  
- الإسكندرية ٣-  
- الفسيفس ٤-  
- شاركت مصر في بعثة للأمم المتحدة لحفظ السلام في دول إفريقيا لدعم الأمن والاستقرار داخل قارتنا الإفريقية

#### السؤال الثاني

- ١- الملحق السياسي ١-  
٢- بوليوس قيصر ٢-  
٣- ازدهار ٣-  
٤- المتوسط ٤-  
٥- المعاهدات ٥-

#### السؤال الثالث

- ١- حمص ١-  
٢- أكتوبر ١٩٧٣م ٢-  
٣- السندات ٣-  
٤- السفير ٤-  
٥- السفير ٥-

### إجابة اختبار الأضواء (3) على الوحدة الثالثة



#### السؤال الأول

- (1) - ضغط النفس ١-  
٢- الهندية ٢-  
٣- القاهرة ٣-  
٤- تقراطيس ٤-

(ب) زيادة النشاط التجاري بين مصر والدول المجاورة

#### السؤال الثاني

- ١- خطأ ١-  
٢- صواب ٢-  
٣- صواب ٣-  
٤- خطأ ٤-  
٥- خطأ ٥-

#### السؤال الثالث

- ١- العراق ١-  
٢- الأسهم ٢-  
٣- لبنان ٣-  
٤- السودان ٤-  
٥- آسيا ٥-

### إجابة اختبار الأضواء (4) على الوحدة الثالثة



#### السؤال الأول

- (1) - تقراطيس ١-  
٢- الثقاق ٢-  
٣- السندات ٣-  
٤- المؤتمرات ٤-

(ب) أدى إلى زيادة الإنتاج والاستثمارات وتشغيل العمالة وازدهار الاقتصاد المصري.

#### السؤال الثاني

- ١- السلام ١-  
٢- الحفاف ٢-  
٣- إقليدس ٣-  
٤- البورصة ٤-  
٥- آسيا ٥-

#### السؤال الثالث

- ١- المصريون القدماء ١-  
٢- الخارجية ٢-  
٣- النيل ٣-  
٤- ازدهار ٤-  
٥- جامعة الإسكندرية ٥-

### إجابة مراجعة الكتاب المدرسي على المحور الرابع



- (1) - اعتمد الإمبراطور الروماني بوليوس قيصر التقييم الشمسي المصري، وأعطى الشهور أسماء رومانية ما زالت تستخدم حتى الوقت الحاضر  
٢- في عصر الدولة القديمة أرسل الملك سنقر بعثات تجارية إلى شمال السودان وليبيا محملة بالحبوب والكتان والعلس، وعادت محملة بالماشية، كما أرسل أسطولاً بحرياً يضم أربعين سفينة إلى فينيقيا لإحصار خشب الأرز الذي يستخدم في صناعة السفن والأثاث  
- في عصر الدولة الحديثة أرسلت الملكة حتشبسوت رحلتها التجارية المكونة من خمس سفن كبيرة إلى بلاد بونت لحلب الأخشاب والخور والعمود والحيوانات النادرة والطيور، كما قام الملك نخاو الثاني برحلته الاستكشافية حول إفريقيا.

- ٣- الأسهم : هي أوراق مالية تجعل صاحبها شريكاً في المشروع (الشركة / المصنع) وفق عدد الأسهم التي يشتريها من البورصة. أما السندات : فهي أوراق مالية تثبت أن مالكيها قدم قرضاً لصاحب المشروع لمدة محددة تمتد من سنة إلى عشر سنوات أو أكثر.  
(ب) ١- وزارة الخارجية.

- ٢- تطوير وتعميق علاقات مصر مع غيرها من الدول وحماية مصالح المواطنين في الخارج.  
٣- أحب في ضوء بحثك على شبكة المعلومات الدولية.  
(ج) ١- حماية الحدود وحفظ الأمن ونشر السلام وتحقيق رفاهية الشعوب.  
٢- أخذت عن الحضارة المصرية شكل الهرم المدرج في بناء المعابد.  
٣- لبشوا على حينها والولاء لها حتى إذا ما عادوا وحكموا بلادهم ظلت علاقاتهم بمصر طيبة.  
٤- ازدهرت العلاقات التجارية بين مصر وبلاد الإغريق (اليونان) : حيث أقام ملوك الأسرة الـ ٢٦ ( مدينة تقراطيس ) بالقرب من إيتاى البارود في البحيرة حالياً للتجار والرعايا اليونانيين.

- ٥- تطوير وتعميق علاقات مصر مع غيرها من الدول وحماية مصالح المواطنين في الخارج.  
٦- لاكتشاف طريق تجاري جديد يمر بأغلب الشواطئ الغربية لإفريقيا.  
٧- توفر التمويل اللازم لأصحاب المشروعات : مما يؤدي إلى ازدهار الاقتصاد المصري.  
٨- تأثرت الحضارة الرومانية ببناء المعابد على الطراز المصري خاصة بناء الأعمدة في واجهة المعابد.  
(د) أحب في ضوء دراستك لدرس التواصل العلمي والثقافي بين مصر والعالم.  
(هـ) أحب بنفسك في ضوء دراستك لأهم العلاقات التجارية بين مصر ودول العالم قديماً.

### إجابة مراجعة الكتاب المدرسي على الفصل الدراسي الثاني



#### السؤال الأول

- ١- الهجرة ١-  
٢- الهرم السكاني ٢-  
٣- الإنثا ٣-  
٤- بوهين ٤-  
٥- الموارد ٥-  
٦- رمسيس الثاني ٦-  
٧- إفريقيا ٧-  
٨- الكتان ٨-  
٩- البطالة ٩-  
١٠- العمارة والفنون ١٠-

#### السؤال الثاني

- ١- خطأ ١-  
٢- صواب ٢-  
٣- خطأ ٣-  
٤- صواب ٤-  
٥- خطأ ٥-  
٦- خطأ ٦-  
٧- صواب ٧-  
٨- صواب ٨-  
٩- خطأ ٩-  
١٠- خطأ ١٠-

#### السؤال الثالث

- ١- الوادي والدلتا ١-  
٢- سفار السن ٢-  
٣- الطوب اللبن ٣-  
٤- زيادة استهلاك الموارد ٤-  
٥- زوسر ٥-  
٦- العراق القديم ٦-  
٧- الفينيقيين ٧-  
٨- السنث ٨-  
٩- الهكسوس ٩-  
١٠- العلمي ١٠-

#### السؤال الرابع

- ١- بسبب رفع الوعي لدى الشباب بتنظيم الأسرة.  
٢- للحفاظ على جسد النوبي.  
٣- توفر البورصة التمويل اللازم لأصحاب المشروعات.  
٤- ارتفاع النمو السكاني لمصر.  
٥- بسبب الهجوم المفاجئ الذي قام به وأدى إلى تفرق صفوف أمراء آسيا وهروبهم.  
٦- لحلب الأخشاب والبخور والعمود والحيوانات النادرة والطيور.

٧- ثورات الشعب المصري ضدهم وضعف الملوك بعد بطلمئوس الثالث وتدخل روما في شئون مصر.

٨- لتطوير وتعميق علاقات مصر مع غيرها من الدول.

٩- لحفظ جسم المتوفى بعد الموت لاعتقادهم في البعث والخلود.

١٠- تطور العلوم ونشر الثقافات المختلفة وتقدم الدول وتعميتها.

السؤال الخامس:

١- ظهور الشؤونيات ٢- لإقامة الصلوات على المتوفى

٣- أصبح يمكننا شراء الأسهم والسندات المعروضة بالبورصة لصالح الشركات أو المصانع

٤- زيادة استهلاك الموارد ٥- غزو الهكسوس مصر

٦- أقام ملوك الأسرة الـ (٢٦) مدينة نقرامطيس (بالقرب من إينسى البارودي في البحيرة حالياً) للتحارب والزعماء اليونانيين

٧- تخلف المصريون من حكم الرومان ٨- انتصار الملك تحتمس الثالث

٩- اهتم المصريون بفكرة ميزان العدالة ١٠- برعوا في عملية التحنيط

السؤال السادس:

١- تزايد الكثافة السكانية في محافظات مثل القاهرة والإسكندرية، وتقل الكثافة السكانية في محافظات الحدود الصحراوية.

٢- لوجود معابد جنازية لإقامة الصلوات على الملك ومعابد الآلهة التي يقام فيها الطقوس اليومية للآلهة

٣- صاحب المشروع يكون مديناً لأصحاب السندات، ويدفع فائدة ثابتة محددة مسبقاً طوال مدة السند سواء حقق المشروع مكاسب أم لا

٤- لقيام الدولة بجهود مثل التوعية بالسكنة السكانية وتوفير وسائل تنظيم الأسرة

٥- شععت ابنها أحسن على تحرير البلاد من الهكسوس

٦- قامت مصر بالمشاركة في العديد من المنظمات الاقتصادية مثل منظمة التجارة العالمية والكوميسا

٧- كانت الأم تشرف على أعمال المنزل والأب يقوم بتوفير احتياجات المنزل

٨- اهتموا بزيادة زراعة القمح لتزويد روما به

٩- أرسلت مصر المستلزمات الطبية والأغذية للشعب السوداني أثناء تعرضه لكارثة السيول عام ٢٠٢٢م

١٠- أخذت عن مصر شكل الهرم المدرج في بناء المعابد

السؤال السابع:

١- بناء مدن جديدة في المحافظات الصحراوية وتوفير الخدمات (الصحية والتعليمية والأمنية...).

٢- أحب نفسك

٣- فئة سفار السن (١١-١٠) تمثل ثلث السكان، وهذه الفئة غير منتجة وتحتاج إلى رعاية. أما فئة كبار السن (٦٥ سنة فأكثر) فتعتمد ٥.١٪ من السكان، وهي فئة غير منتجة وتحتاج إلى رعاية صحية واجتماعية

٤- كانت الشابات يرسن من معسطة واحدة، ثم أصبحت هرمًا مكونًا من عدة معصات كهرم زوسر، ثم أصبحت هرمًا كاملًا

٥- توفير التمويل اللازم لأصحاب المشروعات، مما يؤدي لزيادة الإنتاج وزيادة الاستثمارات وتشغيل العمالة وازدهار الاقتصاد المصري

٦- يعيش معظم سكان مصر على ضفاف نهر النيل، بينما يقل عدد السكان في المحافظات الصحراوية

٧- أحب نفسك

٨- أقامت الملكة حتشسوت رحلات تجارية إلى بلاد بونت لجلب البخور والأخشاب

٩- ارتفاع عدد المواليد يجعل قاعدة الهرم السكاني عريضة

١٠- إنشاء المطلة العديد من الموانئ على سواحل البحرين الأحمر والمتوسط

السؤال الثامن:

١- التشابه: الزيادة الطبيعية والهجرة من أسباب زيادة المشكة السكانية

الاختلاف: الزيادة الطبيعية تحدث بسبب زيادة عدد المواليد عن الوفيات والهجرة نتيجة انتقال الأفراد من مكان لآخر

٢- التشابه: الاثنان من فئات الهرم السكاني لمصر

الاختلاف: سفار السن فئة غير منتجة، و سن العمل فئة منتجة

٣- التشابه: الاثنان أنواع للمنازل عند المصريين القدماء

الاختلاف: منازل الوزراء منازل كبيرة متعددة الحجرات، أما منازل العمال تتكون من طابق أو طابقين

٤- التشابه: كل منهما أوراق مالية يتم تبادلها في البورصة

الاختلاف: الأسهم أوراق مالية تحمل صاحبها شريكًا في المشروع (الشركة/ المصنع) وفق عدد الأسهم التي يشتريها من البورصة

السندات: أوراق مالية تلت أن مالكتها قدم قرضًا لصاحب المشروع لمدة محددة تعدد من سنة إلى عشرين سنوات أو أكثر

٥- التشابه: في عصر البطلمة وعصر الرومان كانت الإسكندرية مركزًا للثقافة

الاختلاف: - في عصر البطلمة، تم بناء مكتبة الإسكندرية وجامعة الإسكندرية وتخرج منها العديد من طلاب العلم

- في عصر الرومان، احتلت الإسكندرية المركز الثاني ثقافيًا بعد روما، وأنشأ الرومان المسارح مثل المسرح الروماني

السؤال التاسع:

١- القاهرة

٢- جنوب سيناء

٣- المنوفية

٤- الغربية

٥- السويس

٦- الأحمر

٧- المتوسط

إجابة اللماذج الاسترشادية على النشر الأول

إجابة النموذج الأول

السؤال الأول:

( أ ) ١- البحيرة

٢- الوادي الجديد

٣- الدلتا

٤- الأحمر

( ب ) بسبب ارتفاع عدد المواليد عن الوفيات، وحدث الهجرة.

السؤال الثاني:

١- القاهرة والبحيرة

٢- الفيضان - الحصاد وشم النسيم

٣- الهجرة الداخلية والهجرة الخارجية ١- ذكور وإناث ٥- الأسرة

السؤال الثالث:

١- كثافة

٢- كبار السن

٣- الثالثة

٤- كبار الحرفيين

٥- تنظيم الأسرة

إجابة النموذج الثاني

السؤال الأول:

( أ ) ١- القاهرة

٢- جنوب سيناء

٣- الإسكندرية

٤- الشرقية

( ب ) أدى ذلك إلى تحنيط جثث الموتى.

السؤال الثاني:

١- خطأ

٢- صواب

٣- صواب

٤- صواب

(ب) بسبب: كثرة الصراعات بين الحكام - انتشار الفوضى في البلاد في نهاية عصر الدولة

الوسطى.

السؤال الثالث:

- ١- الهيراطيقية  
٢- بطلميوس الأول  
٣- رومانية  
٤- العمال  
٥- كليوباترا السابعة

إجابة النموذج الثاني



السؤال الأول:

- ١- صواب  
٢- خطأ  
٣- خطأ  
٤- صواب  
٥- خطأ

السؤال الثاني:

- ١- قادش  
٢- الرومان  
٣- الديموطيقية  
٤- الفلك  
٥- القمح

السؤال الثالث:

- (١) ١- البحر الأحمر  
٢- الكاتب  
٣- أبو الهول  
٤- دقلديانوس

(ب) زيادة الاضطهاد الرومان للمصريين - ترحيب المصريين بالفتح العربي الإسلامي لمصر عام ٦٤١ م، للتخلص من حكم الرومان.

إجابة النموذج الثالث



السؤال الأول:

- ١- تحتمس الثالث  
٢- الإسكندرا الأكبر  
٣- المصريين القدماء  
٤- الملك زوسر  
٥- بطلميوس الأول

السؤال الثاني:

- ١- محمد أنور السادات  
٢- المدخ  
٣- حتشبسوت (الدير البحري)  
٤- جدران المعابد - المقابر - الفخار - الأقمشة - العاج  
٥- المسلة

السؤال الثالث:

- (١) ١- أحمس  
٢- البطالمة  
٣- المربعات  
٤- البطالمة

(ب) قتل الكثير من المسيحيين - حرق كتبهم المقدسة وتدمير كنائسهم.

إجابة النموذج الرابع



السؤال الأول:

- ١- صواب  
٢- خطأ  
٣- خطأ  
٤- خطأ  
٥- خطأ

السؤال الثاني:

(١) (أ) مصطبة واحدة (٢-أ) مصاطب (ج-٣) أهرامات كاملة  
(ب) أدى إلى تفرق صفوف أمراء أسيا بقيادة أمير قادش وهروبهم وانتصار الملك تحتمس الثالث.

السؤال الثالث:

- (١) ١- الكاتب  
٢- رمسيس الثاني  
٣- الإسرائيليون  
٤- كليوباترا السابعة

(ب)

الأدب القصصي	الأدب التهذيبي
يتضمن القصص الحقيقية والخيالية التي تعكس حياة المصريين القدماء السياسية والاجتماعية، مثل: - قصة الملاح الفريق. - قصة سنوحى.	يتناول الحكم والنصائح التي كان يوجهها الملك لابنه أو أحد الحكماء لتلاميذه، مثل: - وصايا الحكيم بتاح حتب. - الحكيم «أني».

السؤال الثالث:

- ١- الحد من / انخفاض  
٢- الشمس  
٣- أوزوريس  
٤- الكنان  
٥- ميلاد الفرعون

إجابة النموذج الثالث



- (١) ١- خطأ  
٢- صواب  
٣- خطأ  
٤- صواب

(ب) اعتقد المصري القديم أن الموت يعرض على محكمة تتكون من ٤٢ قاضيًا يرأسها الإله أوزوريس.

السؤال الثاني:

- ١- الثالثة  
٢- صفار السن  
٣- الحرير  
٤- الصحية  
٥- ماعت

السؤال الثالث:

- ١- مدينة أختاتون  
٢- الزيادة السكانية  
٣- كبار السن  
٤- الزيادة الطبيعية  
٥- الكثافة السكانية

إجابة النموذج الرابع



السؤال الأول:

- ١- القاهرة  
٢- النوع  
٣- السن  
٤- أوزوريس  
٥- الثانية

السؤال الثاني:

- ١- التحنيط  
٢- الهرم السكاني  
٣- صفار السن  
٤- الزيادة الطبيعية  
٥- ماعت

السؤال الثالث:

- (١) ١- الجائبة  
٢- الحدود الصحراوية  
٣- الأكثر

(ب)

الهجرة	الزيادة الطبيعية
الفرق بين عدد المواليد والوفيات في فترة معينة	انتقال الأفراد من مكان إلى آخر

إجابة النموذج الخامس



السؤال الأول:

- (١) ١- الحرير / الكنان عالي الجودة  
٢- البعث  
٣- الاقتصادى  
٤- إيزيس

(ب) النسبة بين عدد السكان ومساحة الأرض التي يعيشون عليها.

السؤال الثاني:

- ١- صواب  
٢- خطأ  
٣- خطأ  
٤- صواب  
٥- صواب

السؤال الثالث:

- (١) ١- الخلود  
٢- التحنيط  
٣- النمو السكاني  
٤- الهجرة الداخلية

(ب) زيادة استهلاك الموارد ونقص نصيب الفرد منها - الضغط على الخدمات - زيادة النفايات وتلوث البيئة - الحاجة إلى مزيد من فرص العمل - إعاقه مشروعات التنمية في الدولة

إجابة النموذج السادس



إجابة النموذج الأول

السؤال الأول:

- ١- الهكسوس  
٢- السادس من أكتوبر  
٣- البوص  
٤- المقابر  
٥- القصصى

السؤال الثاني:

- (١) ١- عصر المصريين القدماء  
٢- العصر الرومانى  
٣- العصر البطلمى

## إجابة النموذج الخامس



### السؤال الأول:

- ١- الوسطى  
٢- الفرعون  
٣- الهيروغليفية  
٤- الإسكندر الأكبر  
٥- اللوتس

### السؤال الثاني:

- ١- إياح حتب  
٢- بوهين  
٣- الشمسى  
٤- بطلعموس الأول  
٥- الطيب

### السؤال الثالث:

- ١ (أ) - محمد أنور السادات  
٢ - حتشبسوت  
٣ - الدينى  
٤ - البطالمة

(ب)

١	مرحلة التخطيط
٢	إعداد الموقع
٣	توفير مستلزمات مساكن للعمال
٤	تجهيز المواد الخام
٥	نقل الحجارة

## إجابة النموذج الاسترشادية النهائية

### إجابة للنموذج الأول



### السؤال الأول:

- ١ (أ) - القاهرة  
٢ - الوادى الجديد  
٣ - الإسكندرية  
٤ - الأحمر  
٥ - الشرقية

(ب) بسبب التواج المكرو وكثرة الإيجاب.

### السؤال الثاني:

- ١ (أ) - بطلعموس الأول  
٢ - أحمس  
٣ - الأنهم  
٤ - رمسيس الثانى

(ب)

التركيبة العمرى	التركيبة النوعى
تقسيم السكان حسب الفئة العمرية	تقسيم السكان حسب النوع (إناث - ذكور)

### السؤال الثالث:

- ١ (أ) - صواب  
٢ - خطأ  
٣ - صواب  
٤ - صواب  
٥ - صواب

(ب) - المسلة  
٢ - تزيين مداخل المعابد - تخليد ذكرى الملك

### السؤال الرابع:

- ١ (أ) - إيفيفيا  
٢ - مادياً  
٣ - كبار السن  
٤ - العمارة  
٥ - الحساب  
٦ - أمنحتب الرابع

(ب) أدى ذلك إلى ظهور فكرة التحنيط.

### إجابة النموذج الثاني



### السؤال الأول:

- ١ (أ) - القاهرة  
٢ - الوادى الجديد  
٣ - الدلتا  
٤ - المتوسط  
٥ - الشرقية

(ب) استخدم المصريون القدماء المسلات كساعات شمسية لمعرفة الوقت من خلال مراقبة الظل.

### السؤال الثاني:

- ١ (أ) - الأنهم  
٢ - صغار السن  
٣ - تنظيم الأسرة  
٤ - الشمالية الشرقية

(ب) أدى إلى معرفتهم بأجهزة جسم الإنسان الداخلية والأمراض التى تصيبها.

٢ - تحولت مصر من دولة بطلمية إلى ولاية رومانية.

### السؤال الثالث:

- ١ (أ) - تجرم  
٢ - أمون  
٣ - الكوميسا  
٤ - البورصة  
٥ - السفير

(ب) لكى يضمن ولاءهم وعلاقتهم الطيبة بمصر.

### السؤال الرابع:

- ١ (أ) - خطأ  
٢ - صواب  
٣ - خطأ  
٤ - صواب

(ب)

وجه المقارنة	البطالمة	الرومان
الزراعة	- قاموا بحفر الترغ والقنوات. - أدخلوا محاصيل زراعية جديدة مثل العنب والزيتون، وآلات زراعية جديدة مثل الساقية. - استيراد سلالات جديدة من الحيوانات.	اعتبر الرومان مصر مزرعة للقمح، لذلك اهتموا بزيادة زراعته لتزويد روما به.
الصناعة	* ازدهار بعض الصناعات مثل (الزيوت، المنسوجات، الزجاج، العطور). - استيراد سلالات جديدة من الحيوانات.	اهتموا ببعض الصناعات مثل صناعة (ورق البردى، الزيوت، الأدوية، الزجاج).

### إجابة النموذج الثالث



### السؤال الأول:

- ١ (أ) - تعليم / صحة / مرافق / فرص عمل  
٢ - الإسكندرية  
٣ - القاهرة والجزيرة  
٤ - جمهورية السودان  
٥ - قاش

(ب) نتج عن ذلك: ربط البحر الأحمر بالبحر المتوسط عن طريق النيل - زيادة النشاط التجاري بين مصر وجيرانها.

### السؤال الثاني:

- ١ (أ) - صغار الحرفيين  
٢ - الصحة  
٣ - حتشبسوت  
٤ - البورصة

(ب) ١ - لاعتمادهم في البعث والخلود.

٢ - مراعاتهم في علم الحساب.

### السؤال الثالث:

- ١ (أ) - هامت  
٢ - نصوص الأهرام  
٣ - سعاصرة البورصة.  
٤ - الأدب القصصى  
٥ - السندات

(ب) تعد فئة منتجة تساهم في زيادة اقتصاد الدولة.

### السؤال الرابع:

- ١ (أ) - صواب  
٢ - خطأ  
٣ - صواب  
٤ - خطأ

(ب) ١ - تقسيم السكان حسب النوع (إناث - ذكور).

٢ - انتقال الأفراد من مكان إلى آخر.

### إجابة النموذج الرابع



### السؤال الأول:

- ١ (أ) - النيل  
٢ - الغربية  
٣ - الأحمر  
٤ - المتوسط  
٥ - ليبيا

(ب) لم يزد النشاط التجارى بين مصر وجيرانها في عصر الدولة الوسطى.

### السؤال الثاني:

- ١ (أ) - المراكز الثقافية  
٢ - الإسرائيلى  
٣ - القاهرة  
٤ - فينيقيا

(ب)

فى عصر المصريين القدماء	فى العصر الحالى
- دراسة أبناء أمراء البلاد الآسيوية فى مصر.	- إرسال البعثات العلمية.
- استخدام الأختام.	- إقامة المؤتمرات العلمية.

## السؤال الثالث:

- ( ١ ) -١ إقليدس  
 -٢ الثالث  
 -٣ البطالمة  
 -٤ البيعت  
 -٥ السندات  
 (ب) بسبب ارتفاع معدل النمو السكاني - تفضيل الذكور على الإناث.

## السؤال الرابع:

- ( ١ ) -١ الكنان  
 -٢ القاهرة  
 -٣ إدفو  
 -٤ أكتيوم  
 (ب) -١ منارة الإسكندرية  
 -٢ إرشاد السفن في البحر

## إجابة النموذج الخامس

## السؤال الأول:

- ( ١ ) -١ شمال سيناء  
 -٢ الدلتا  
 -٣ المتوسط  
 -٤ ناصر  
 (ب) - استخدموا المسلات كساعات شمسية لمعرفة الوقت من خلال مراقبة الظل - استخدموا ساعات مائية على شكل مزديبات.

## السؤال الثاني:

- ( ١ ) -١ ازدهار  
 -٢ أبو الهول / الكتاكيت المصرية  
 -٣ كبار السن  
 -٤ الهيراطيقية  
 (ب)

## قناة سينوسثيريس قناة السويس

أوجه الشبه	توصيل البحر الأحمر بالبحر المتوسط	توصيل البحر الأحمر بالبحر المتوسط
أوجه الاختلاف	عن طريق نهر النيل	بطريقة مباشرة

## السؤال الثالث:

- ( ١ ) -١ خطأ  
 -٢ صواب  
 -٣ خطأ  
 -٤ خطأ  
 (ب) كثرة الإيجاب - الزواج المبكر.

## السؤال الرابع:

- ( ١ ) -١ حسن بوهين  
 -٢ الزيادة الطبيعية  
 -٣ الأدب الديني  
 -٤ معابد جنائزية  
 (ب) -١ إرسال الملك ستروبعات تجارية إلى شمال السودان.  
 -٢ إرسال الملكة حتشبسوت رحلتها لبلاد بونت.  
 -٣ رحلات نخاو الثاني للسودان حول إفريقيا.  
 -٤ إدخال مصر محاصيل زراعية جديدة مثل العنب.

## إجابة النموذج السادس

## السؤال الأول:

- ( ١ ) -١ السويس  
 -٢ ناصر  
 -٣ الإسكندرية  
 -٤ الأحمر  
 -٥ الشرقية  
 (ب) بسبب الزيادة الطبيعية والهجرة

## السؤال الثاني:

- ( ١ ) -١ أمون  
 -٢ إياح حنب  
 -٣ زوسر  
 -٤ رمسيس الثاني  
 (ب)

وجه المقارنة	معركة مجدو	معركة قادش
فائد المعركة	تخمس الثالث	رمسيس الثاني
نتائجها	التصر تخمس الثالث على أمراء آسيا	تهت بتوقيع اتفاقية سلام مع ملك الحيثيين

## السؤال الثالث:

- ( ١ ) -١ خطأ  
 -٢ صواب  
 -٣ صواب  
 -٤ خطأ  
 -٥ خطأ  
 (ب) نعملت براعته في قراره عندما فاجأ العدو بالهجوم عليه من خلال المرور من طريق غير متوقع؛ مما أجبر العدو على الاستسلام بعد أن حاصره تحمست بجيشه.

## السؤال الرابع:

- ( ١ ) -١ الثالثة  
 -٢ أنطونيوس  
 -٣ الاستعمارات  
 -٤ ماعت  
 -٥ السفن  
 -٦ الحساب  
 (ب) ترسيخ الروابط والعلاقات مع جمهورية السودان في كافة المجالات.

## إجابة النموذج السابع

## السؤال الأول:

- ( ١ ) -١ القاهرة  
 -٢ الشرقية  
 -٣ الدلتا  
 -٤ المتوسط  
 -٥ سيناء  
 (ب) أخذت بلاد العراق القديم عن مصر شكل الهرم المدرج في بناء المعابد.

## السؤال الثاني:

- ( ١ ) -١ حكام الأقايم  
 -٢ الإسكندرية  
 -٣ الخارجية  
 -٤ حفظ السلام  
 (ب) -١ تأثرت بالطراز المصري في بناء المعابد وخاصة في بناء الأعمدة بوجهة المعبد.  
 -٢ زيادة الكثافة السكانية في المناطق المستقبلية للسكان - الضغط على الخدمات - ظهور العشوائيات.

## السؤال الثالث:

- ( ١ ) -١ الثالثة  
 -٢ المستقبل  
 -٣ آسيا  
 -٤ زاد  
 -٥ التهنين  
 (ب) لرؤية حدث تعامد أشعة الشمس على وجه الملك رمسيس ووجه أمون «رع» لمدة تصل إلى عشرين دقيقة مرتين في العام؛ يوم مولد الملك ويوم تتويجه على العرش.

## السؤال الرابع:

- ( ١ ) -١ خطأ  
 -٢ صواب  
 -٣ صواب  
 -٤ خطأ  
 (ب) -١ معابد أنشأت لأغراض دينية تقام بها طقوس جنازة الملك.  
 -٢ سوق منظمة لشراء الأسهم والسندات.

## إجابة النموذج الثامن

## السؤال الأول:

- ( ١ ) -١ الأحمر  
 -٢ الدلتا  
 -٣ الغربية  
 -٤ السويس  
 -٥ ناصر  
 (ب) بسبب الهجرة الداخلية.

## السؤال الثاني:

- ( ١ ) -١ صفار السن  
 -٢ الشمالية الشرقية  
 -٣ إفريقيا  
 -٤ أتون  
 (ب) -١ بندر السكان في محافظات الحدود بسبب ندرة المياه العذبة. وعدم استواء السطح. ونقص الخدمات.  
 -٢ حيث تولت المرأة المناصب العليا في الدولة كتوليها منصب القاضى والكاهنة.

## السؤال الثالث:

- ( ١ ) -١ سلباً  
 -٢ الثالثة  
 -٣ مانيتون  
 -٤ اليورصة  
 -٥ أربعة  
 (ب) بسبب معتقداتهم الدينية وإيمانهم بالبعث والخلود لجأ المصريون القدماء لتحنيط جثث الموتى.

## السؤال الرابع:

- ( ١ ) -١ صواب  
٤ - خطأ  
( ٢ ) -٢ صواب  
٥ - خطأ  
٣ - صواب  
٦ - صواب

(ب)

التركيبة العمرى	التركيبة النوعى
تقسيم السكان حسب الفئة العمرية	تقسيم السكان حسب النوع (إناث - ذكور)

## إجابة النموذج التاسع

## السؤال الأول:

- ( ١ ) -١ القاهرة  
٣ - الأحمر  
٢ - ناصر  
٤ - الغربية  
(ب)

الهجرة	الزيادة الطبيعية
انتقال الأفراد من مكان إلى آخر	الفرق بين المواليد والوفيات في فترة معينة

## السؤال الثاني:

- ( ١ ) -١ صواب  
٤ - صواب  
٢ - خطأ  
٥ - خطأ  
٣ - صواب  
٦ - خطأ

(ب) • لحماية حدودها وحفظ الأمن ونشر السلام وتحقيق رفاهية الشعوب.  
• إمداد بعض الدول بالمساعدات العسكرية في حالة الحرب وتبادل الخبرات الحربية والعسكرية مع الدول الأخرى.

## السؤال الثالث:

- ( ١ ) -١ ذكورات  
٤ - الزيادة السكانية  
٢ - الضحك  
٥ - بطلميوس الأول  
٣ - البيئة الطبيعية  
(ب) زيادة النشاط التجارى بين مصر وجيرانها.

## السؤال الرابع:

- ( ١ ) -١ فينيقيا  
٤ - البورصة  
٢ - أمون  
٥ - السودان  
٣ - الطوب اللبن  
(ب) بسبب اعتقاد المصريين القدماء في العث والخلود ظهرت فكرة التحنيط لحفظ جسد المتوفى.

## إجابة النموذج العاشر

## السؤال الأول:

- ( ١ ) -١ الحيرة  
٤ - النيل  
٢ - المتوسط  
٥ - السويس  
٣ - الوادى الجديد  
(ب) زيادة استهلاك الموارد ونقص نصيب الفرد منها - زيادة النفايات وتلوث البيئة - الحاجة إلى المزيد من فرص العمل - إعاقة المشروعات التنموية.

## السؤال الثاني:

- ( ١ ) -١ مصر  
٤ - السودان  
٢ - مجدو  
٥ - اليونان  
٣ - سيوة  
٦ - بوليوس  
(ب) يعد ذلك أحد أهم الأعمال المساهمة بإيجابية في تحقيق التواصل العلمى والثقافى بين مصر ودول العالم قديماً.

## السؤال الثالث:

- ( ١ ) -١ صواب  
٤ - خطأ  
٢ - خطأ  
٥ - صواب  
٣ - صواب  
(ب) حيث أخذت بلاد العراق القديم عن مصر شكل الهرم المدرج في بناء المعابد، وتأثرت اليونان بمصر؛ حيث قامت ببناء المعابد خاصة الأعمدة بواجهة المعبد كما في المعابد المصرية.

## السؤال الرابع:

- ( ١ ) -١ الإسكندرية  
٣ - الحرير أو الكتان عالي الجودة -٤ مسلة خشبستوت  
٥ - كالأساور والقلائد  
٦ - سبع  
(ب) زيادة الإنتاج / زيادة الاستعمار.

## إجابة النموذج الحادى العشر

## السؤال الأول:

- ( ١ ) -١ أصحاب الأسهم  
٤ - خراطيم المياه  
٢ - السكان  
٥ - المواليد  
٣ - شركات  
(ب) حيث أخذ المصريون القدماء عبادة المعبودة عشتار عن حضارة العراق القديم ولا تزال مصر حريصة على التواصل الدبى مع الدول الأخرى من خلال مؤسساتها الدينية المختلفة.

## السؤال الثاني:

- ( ١ ) -١ الدلتا  
٣ - البحر المتوسط  
٢ - خليج العقبة  
٤ - الصحراء الشرقية  
(ب) ١- لما استطلعنا معرفة إنجازات المصريين القدماء ولا علمنا ببراعتهم في العلوم المختلفة.  
٢- لما تحولت مصر إلى ولاية رومانية، وظلت خاضعة لحكم البطالمة.

## السؤال الثالث:

- ( ١ ) -١ خطأ  
٤ - خطأ  
٢ - خطأ  
٥ - صواب  
٣ - صواب  
٦ - صواب  
(ب)

وجه المقارنة	التركيبة النوعى	التركيبة العمرى
التعريف	تقسيم السكان حسب النوع (إناث - ذكور)	تقسيم السكان حسب الفئة العمرية

## السؤال الرابع:

- ( ١ ) -١ الكثافة السكانية  
٤ - الزيادة الطبيعية  
٢ - البورصة  
٥ - المسلة  
٣ - الكوميسا  
١ - معبد رأس السوداء  
٢ - حصن بابليون  
(ب)

## إجابة النموذج الثانى عشر

## السؤال الأول:

- ( ١ ) -١ النيل  
٤ - الغربية  
٢ - السويس  
٥ - رشيد  
٣ - الأحمر  
(ب)

وجه المقارنة	قناة السويس	قناة سيذوستيريس
العصر	العصر الحديث	عصر الدولة الوسطى

## السؤال الثاني:

- ( ١ ) -١ الملك أمنحتب الرابع (إخناتون)  
٣ - أوزوريس  
٤ - زوسر  
٥ - دقلديانوس  
٢ - أمحس  
٥ - القديس مرقس  
(ب) زيادة الكثافة السكانية في المناطق المستقبلية للسكان، والضغط على الخدمات وظهور العشوائيات.

## السؤال الثالث:

- ( ١ ) -١ خطأ  
٤ - خطأ  
٢ - خطأ  
٥ - صواب  
٣ - صواب  
(ب) لتعمق العلاقات بين مصر والدول.

السؤال الثالث

- ( أ ) ١- الهكسوس ٢- كلوبناترا السابعة ٣- الحدود الصحراوية  
١- بوليوس فيسر ٥- البعث  
( ب ) ١- وسيلة للتواصل العلمي والثقافي بين دول العالم من خلال العديد من الأنشطة التي تقدمها، مثل الندوات والمؤتمرات ومعارض الفنون ودورات تعلم اللغة  
٢- قام بقيادة حرب أكتوبر ١٩٧٣م ووقع اتفاقية السلام بين مصر وإسرائيل

السؤال الرابع

- ( أ ) ١- الكنان ٢- رومانية  
٣- حكام الأقاليم ١- النيل  
٥- النمو السكاني ٦- اللبن  
( ب ) توفر البورصة التمويل اللازم لأصحاب المشروعات، مما يؤدي إلى تشغيل العمالة

إجابة النموذج الخامس عشر



السؤال الأول

- ( أ ) ١- الإسكندرية ٢- سيناء  
٣- الغربية ٤- الأحمر  
( ب ) ١- أصبحت بورصتنا القاهرة والإسكندرية تحت مسمى البورصة المصرية.  
٢- وقوف المتوفى أمام محكمة الموت. ويتم أخذ قلبه ووضعه على ميزان لمعرفة إذا كان الشخص صالحاً أم فاسداً.

السؤال الثاني

- ( أ ) ١- الثالثة ٢- أبو الهول / الكاتب ٣- فيكتوريا  
٤- المصريين القدماء ٥- دول إفريقيا  
( ب ) - بلاد العراق القديم أخذت عن مصر شكل الهرم المدرج في بناء المعابد.  
- اليونان تأثرت بالطراز المصري في بناء المعابد.

السؤال الثالث

- ( أ ) ١- خطأ ٢- خطأ ٣- صواب  
٤- خطأ ٥- صواب  
( ب ) لأنه من خلالها تقدم العديد من الأنشطة، مثل الندوات والمؤتمرات ومعارض الفنون ودورات تعلم اللغة

السؤال الرابع

- ( أ ) ١- أحبس ٢- بطلميوس الأول  
٣- دقلديانوس ٤- رمسيس الثاني  
( ب ) ١- منظمه اقتصادية تعد سوفاً مشتركاً بين شرق وجنوب إفريقيا.  
٢- أوراق مالية تجعل لمالكيها شريكاً في المشروع وفق عدد الأسهم التي يشتريها من البورصة

إجابة النموذج السادس عشر



السؤال الأول

- ( أ ) ١- السويس ٢- المتوسط ٣- الشرقية  
٤- ناصر ٥- الدلتا  
( ب ) قاموا بتحيط الموق

السؤال الثاني

- ( أ ) ١- صواب ٢- صواب ٣- خطأ  
٤- صواب ٥- صواب  
( ب )

وجه المقارنة	معركة قادش	حرب أكتوبر
النتائج	انتهت بتوقيع رمسيس الثاني	انتصار الجيش المصري على الجيش
العدو	الحيثيين	إسرائيل

السؤال الرابع

- ( أ ) ١- سفار النس ٢- البطانة ٣- نوفمبر  
٤- السبوية ٥- مناخ مصر ٦- الحديلة  
( ب ) أصدرت الدولة قوانين تحظر تشغيل الأطفال في جميع الأعمال قبل تجاوزهم سن تمام التعليم

إجابة النموذج الثالث عشر



السؤال الأول

- ( أ ) ١- السبوية ٢- الغربية ٣- ناصر  
٤- المتوسط ٥- الدلتا  
( ب ) صاحب المشروع يكون مديراً لصاحب السند، ويدفع له فائدة ثابتة محددة مسبقاً طوال مدة السند

السؤال الثاني

- ( أ ) ١- السكانية ٢- سفار الحرفيين  
٣- العمارة ٤- الذهب  
( ب ) ١- لأن المرأة كانت دائماً محل احترام وتقدير من المجتمع.  
٢- مشاهدة الحدث الفريد حيث تسقط أشعة الشمس على وجه الملك رمسيس ووجه أمون أربع ٥ ساعة تصل إلى عشرين دقيقة مرتين في العام، يوم مولد الملك ويوم تنويحه على العرش

السؤال الثالث

- ( أ ) ١- الأدب القصصي ٢- السندات ٣- عروض الأهرام  
٤- الزيادة الطبيعية ٥- الفجرة  
( ب ) زيادة الكثافة السكانية في المناطق المستقلة للسكان - ظهور العشوائيات والتلوث على الخدمات المتاحة

السؤال الرابع

- ( أ ) ١- خطأ ٢- خطأ ٣- صواب  
٤- خطأ  
( ب ) ١- انتقال الأفراد من مكان إلى آخر  
٢- أوراق مالية تثبت أن مالكيها قدم قرصاً لصاحب المشروع لمدة محددة

إجابة النموذج الرابع عشر



السؤال الأول

- ( أ ) ١- سيناء ٢- الغربية ٣- ناصر  
٤- الأحمر  
( ب ) ١- توفر البورصة التمويل اللازم لأصحاب المشروعات مما يؤدي إلى ازدهار الاقتصاد المصري.  
٢- الأسهم أوراق مالية تجعل لمالكيها شريكاً في المشروع وفق عدد الأسهم التي يشتريها من البورصة / السندات. أوراق مالية تثبت أن مالكيها قدم قرصاً لصاحب المشروع لمدة محددة

السؤال الثاني

- ( أ ) ١- الشريط / اللقاط ٢- تعليم وصحة  
٣- زينية ٤- العنب / الزيتون  
( ب ) ١- إرسال الملك سفرو بعثات تجارية إلى ليبيا  
٢- إرسال الملكة حتشسوت رحلتها لبلاد بونت  
٣- ازدهار العلاقات التجارية بين مصر وبلاد الإغريق  
٤- إدخال مصر محاصيل زراعية جديدة مثل العنب.

السؤال الثالث:

( ١ ) - البطلمي

٤- أمثتتب الرابع

٥- السنن

٢- الءوانان المنءة

٣- صفار السن

( ب ) ءولنننن العءنء من المناسب ءوزنرة وقاضنة؁ ءما ءشارء فن مءلس النواب ومءلس الشنوخ والعءنء من الأءزاب السناسنة.

السؤال الرابع:

( ١ ) - المعارض الءوننة / المراكز الءقافنة / المؤءمران العلمنة

٢- بونن

٣- الءءطنن

٤- آمون

( ب ) ١- بسبب ءوران الشعب المصرن ضءهم- ضءف الملوك بعء بطلمنوس الءانن -

٢- لاءءقاهم فن البءء والءلوء.

## صفءة عاشق لغة الضاء.. رضا نصار



نهضة مصر

الءنء

رقم الإباء: ٢٠٢٣ / ٥١٠٣

أسألءم الءعاء لوالءن ووالءنن..  
اللهم اسءنهما الفرءوس الأعلى مع الأنبناء والمرسلن