



وزارة التربية
الإدارة العامة للتعليم الخاص
التوجيه الفني للرياضيات

الاختبار التقويمي الثاني للصف الرابع

الفصل الدراسي الثاني - للعام الدراسي ٢٠٢٢/ ٢٠٢٣ م

محتوى الاختبار	توزيع درجات الاختبار		درجة الاختبار	مدة الاختبار	موعد الاختبار
الوحدة الثامنة	مقال	موضوعي	٥	لا تتجاوز ١٥ دقيقة من زمن الحصة .	الأسبوع السادس
	٣	٢			

إشراف الموجه الفني : أ. مها العنزي



نموذج اختبار تقويمي (٢)
في مادة الرياضيات للصف الرابع
الفصل الدراسي الثاني للعام الدراسي ٢٠٢٢ / ٢٠٢٣ م



السؤال الأول :

أوجد الناتج

$$\begin{array}{r} 36123 \\ + 14294 \\ \hline \end{array}$$

السؤال الثاني اختر الإجابة الصحيحة بوضع (✓) .

العدد الأقرب إلى الناتج التقديري لـ ١٣٤٠٠ - ٥٣٨١٠	
٤٠٠٠٠٠ ٣٠٠٠٠٠ ٤٠٠٠٠٠ ١٠٠٠٠٠	١
<input type="radio"/> <input type="radio"/> <input type="radio"/> <input type="radio"/>	
حيوانات تعيش في الماء حيوانات تعيش على اليابسة	
من مخطط قن المجاور الذي يوضح تصنيف بعض الحيوانات	
الحيوانات التي تعيش في اليابسة فقط هي	٢
الأخطبوط والسماك السلحفاء والبطريق القطة والأسد والبطريق القطة والأسد	
<input type="radio"/> <input type="radio"/> <input type="radio"/> <input type="radio"/>	

انتهت الأسئلة ،،،،



نموذج إجابة اختبار تقويمي (٢)
في مادة الرياضيات للصف الرابع
الفصل الدراسي الثاني للعام الدراسي ٢٠٢٢ / ٢٠٢٣ م



السؤال الأول :

أوجد الناتج

$$\begin{array}{r} \textcircled{1} \quad \textcircled{1} \\ 36 \quad 123 \\ + 14 \quad 294 \\ \hline 50 \quad 417 \end{array}$$

السؤال الثاني اختر الإجابة الصحيحة بوضع (✓) .

العدد الأقرب إلى الناتج التقديري لـ ١٣٤٠٠ - ٥٣٨١٠	
٤٠٠٠٠٠ ٣٠٠٠٠٠ ٤٠٠٠٠٠ ١٠٠٠٠٠	١
<input type="radio"/> <input type="radio"/> <input checked="" type="radio"/> <input type="radio"/>	
حيوانات تعيش في الماء حيوانات تعيش على اليابسة	
الأخطبوط السلحفاء القطة السمك البطريق الأسد	٢
السلحفاء والبطريق القطة والأسد والسلحفاء والبطريق الأخطبوط والسمك القطة والأسد	
<input type="radio"/> <input checked="" type="radio"/> <input type="radio"/> <input type="radio"/>	

انتهت الأسئلة ،،،،

السؤال الأول :

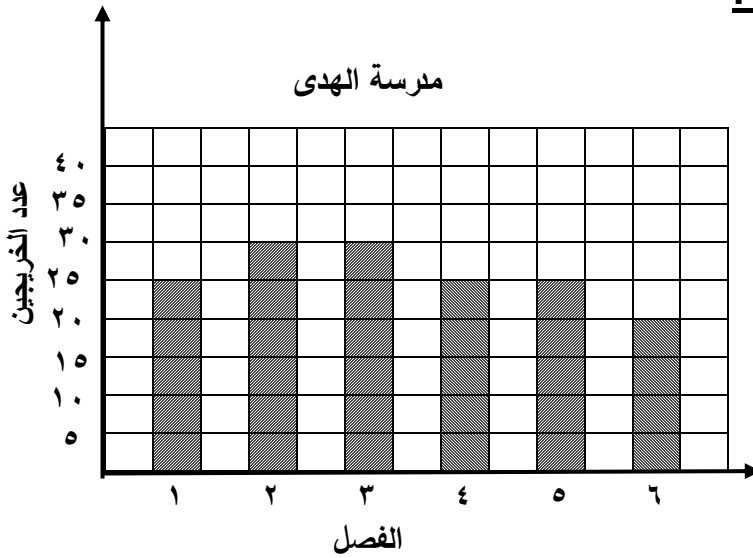
أوجد الناتج

١٥٧ ٦١٠

٣٨ ٣٠٢ -

السؤال الثاني اختر الإجابة الصحيحة بوضع (✓)

يوضح الشكل البياني عدد الخريجين في كل فصل
من فصول الصف الخامس في مدرسة الهدى



١ يبلغ عدد الخريجين في الفصل ٦

٢٥

٢٠

٣٥

٣٠

١

٢ يزيد عدد الخريجين في الفصل ٣ عن عدد الخريجين في الفصل ٤ بـ

٨ خريجين

٦ خريجين

١٠ خريجين

٥ خريجين

٢

السؤال الأول :

أوجد الناتج

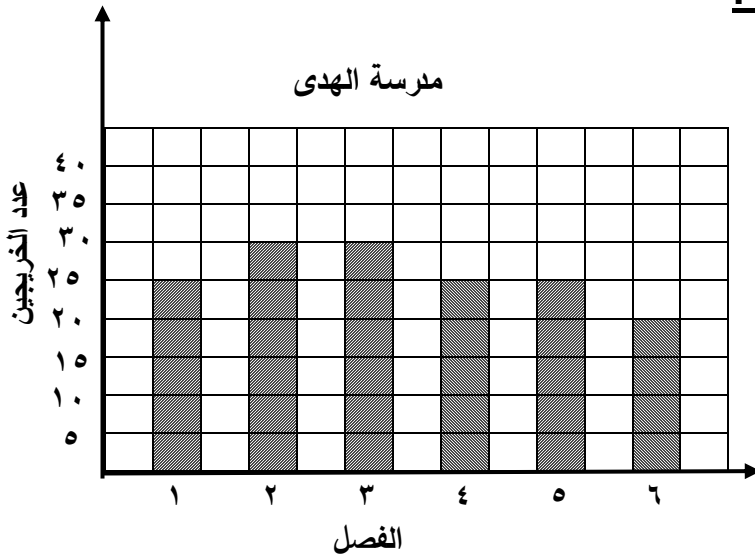
$$\begin{array}{r} 417010 \\ 157678 \\ \hline \end{array}$$

$$38302 -$$

$$119308$$

السؤال الثاني اختر الإجابة الصحيحة بوضع (✓)

يوضح الشكل البياني عدد الخريجين في كل فصل من فصول الصف الخامس في مدرسة الهدى



١ يبلغ عدد الخريجين في الفصل ٦

٢٥



٢٠



٣٥



٣٠



٢ يزيد عدد الخريجين في الفصل ٣ عن عدد الخريجين في الفصل ٤ بـ

٨ خريجين



٦ خريجين



١٠ خريجين



٥ خريجين



انتهت الأسئلة ،،،

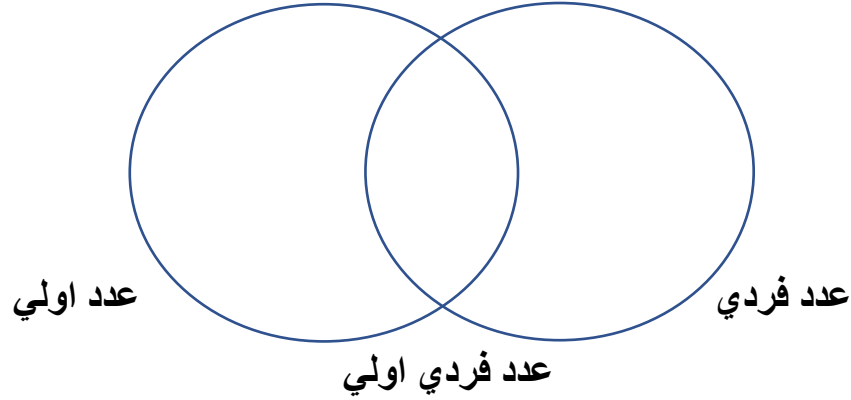


نموذج اختبار تقويمي (٢)
في مادة الرياضيات للصف الرابع
الفصل الدراسي الثاني للعام الدراسي ٢٠٢٢ / ٢٠٢٣ م



السؤال الأول :

اكتب الاعداد ٢، ٩، ١١، ١٣، ١٥، ٢٣ في المكان المناسب في مخطط فن التالي



السؤال الثاني :

ظل إذا كانت العبارة صحيحة، و ظل إذا كانت العبارة خطأ

<input checked="" type="checkbox"/>	<input checked="" type="checkbox"/>	١ ناتج جمع العددين ١٦٩١٥، ٢١١٠٥ يساوي ٣٨٠٢٠
<input checked="" type="checkbox"/>	<input checked="" type="checkbox"/>	٢ ناتج طرح ٦٠٠٠٠٠ من ٧٠٠٠٠٠٠ يساوي ١٠٠٠٠

انتهت الأسئلة ،،،

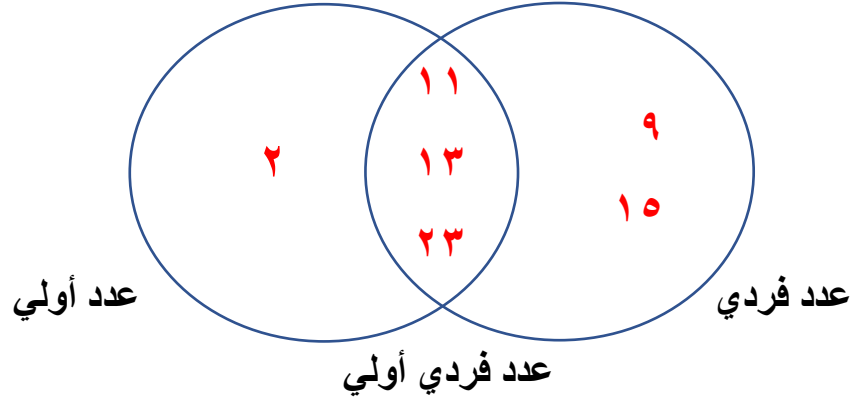


نموذج إجابة اختبار تقويمي (٢)
في مادة الرياضيات للصف الرابع
الفصل الدراسي الثاني للعام الدراسي ٢٠٢٢ / ٢٠٢٣ م



السؤال الأول :

اكتب الاعداد ٢، ٩، ١١، ١٣، ١٥، ٢٣ في المكان المناسب في مخطط فن التالي



السؤال الثاني :

ظلل (✓) إذا كانت العبارة صحيحة، و ظلل (x) إذا كانت العبارة خطأ

<input checked="" type="checkbox"/>	<input checked="" type="checkbox"/>	١ ناتج جمع العددين ١٦٩١٥ ، ٢١١٠٥ يساوي ٣٨٠٢٠
<input checked="" type="checkbox"/>	<input checked="" type="checkbox"/>	٢ ناتج طرح ٦٠٠٠٠٠ من ٧٠٠٠٠٠٠ يساوي ١٠٠٠٠

انتهت الأسئلة ،،،