

بنظام  
OPEN  
BOOK

# بنك الأسئلة والامتحانات التدريبية للمراجعة النهائية

تم التحميل من موقع ملزمة دوت كوم  
للمزيد زوروا: [mlzama.com](http://mlzama.com)

الثانوية العامة  
التحضيرية

2023

هدية مجانية  
لجميع الطلبة



الامتحان®



# نموذج 1

اختر الإجابة الصحيحة من بين (أ)، (ب)، (ج)، (د) فيما يلي :



FIFA WORLD CUP  
Qatar 2022

1 تعبر الصورة المقابلة عن تشعب العلاقات بين دول العالم والتي أصبحت كدولة واحدة، وقد ساهم في ذلك .....

- (أ) الاستشعار من بُعد.
- (ب) نظم المعلومات الجغرافية.
- (ج) نظام تحديد المواقع العالمي.
- (د) وسائل الاتصالات وتكنولوجيا المعلومات.

2 السمة الغالبة على النظام العالمي في النصف الثاني من القرن العشرين الميلادي هي .....

- (أ) كونه ثنائي الأقطاب.
- (ب) قيامه على نزع السلاح.
- (ج) سيادة الصراعات المسلحة العالمية.
- (د) انتشار قيم العولمة.

3 يتضح من خلال تحليل الخريطين التاليين أن معظم دول غرب أفريقيا تم ترسيم حدودها على يد دولة تصنف بأنها .....



أفريقيا حالياً

- (أ) وحدوية - مندمجة - شبه رئاسية.
- (ب) شريطية - وحدوية - برلمانية.
- (ج) فيدرالية - مندمجة - رئاسية.
- (د) برلمانية - كونفدرالية - مجزأة.



أفريقيا قبل الحرب العالمية الأولى

- (أ) وحدوية - مندمجة - شبه رئاسية.
- (ب) شريطية - وحدوية - برلمانية.
- (ج) فيدرالية - مندمجة - رئاسية.
- (د) برلمانية - كونفدرالية - مجزأة.

4 «تفتقد بعض الدول إلى القوة العسكرية التي تعتمد بشكل كامل على العناصر المحلية».

- (أ) البحر المتوسط.
- (ب) البحر الأحمر.
- (ج) الخليج العربي.
- (د) المحيط الأطلنطي.

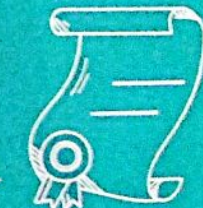
5 تُعد نقطة الضعف الكبرى في بناء القوميات الواحدة وتحقيق الترابط الداخلي للدول .....

- (أ) تعدد اللغات.
- (ب) تعدد الديانات.
- (ج) تنوع العادات.
- (د) انتشار الأمية.

## نماذج كتاب الامتحان

أولاً

مجاب عنها



تثويہ



قم باستخدام QR

في حالة حدوث أي تغييرات في شكل الامتحان



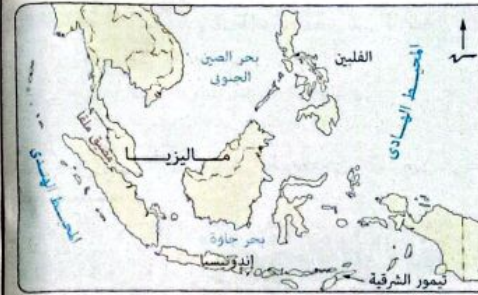
٦ تتركز مناطق القلب ذات الأهمية الدينية في العالم .....

- ① القديم.      ② الحديث.      ③ المتقدم.      ④ النامي.

٧ « بالرغم من كونها دولة حبيسة إلا أنها تتميز بوجود مضايد بحرية بها ». تنطبق هذه العبارة على دولة .....

- ① منغوليا.      ② أوغندا.      ③ أفغانستان.      ④ كازاخستان.

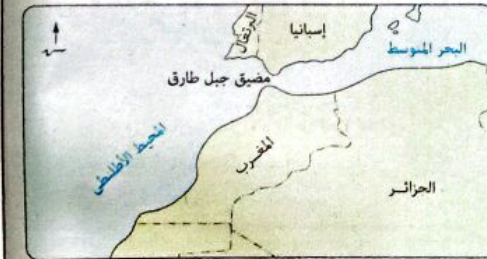
٨ إذا حدثت مشكلة تقسيم مياه بين دولتين متقابلتين إحداها بحرية مجزأة والأخرى برية بحرية مجزأة فإن تلك المشكلة تظهر في المضيق الموضح في الخريطة .....



ب



ا



د



ج

٩ يتصف المسطح المائي الذي اقترن اسمه بظهور مصطلح النظام العالمي الجديد بـ .....

- ① هامشية موقعه.      ② أهميته الاقتصادية.      ③ اتساع مساحته.      ④ أنه عربيًا خالصًا.

١٠ لعب التحكيم الدولي دورًا في حل أحد المشكلات الحدودية السياسية في الوطن العربي في منطقة تقع .....

- ① عند البوابة الغربية للبحر المتوسط.      ② عند المدخل الجنوبي لقناة السويس.      ③ على الساحل الجنوبي لمضيق صقلية.      ④ على الخليج الشرقي للبحر الأحمر.

١١ من خلال تحليلك للخريطة التالية نجد أن أكبر التجمعات العرقية التي تتميز بوجود روابط ثقافية مشتركة يمر بها .....



- ① دائرة الاستواء.      ② مدار الجدى.      ③ الدائرة القطبية الشمالية.      ④ مدار السرطان.

١٢ أى الدول الآتية يغلب على حدودها الصفة البرية ؟ دولة .....

- ① فرنسا.      ② أثيوبيا.      ③ العراق.      ④ السعودية.

١٣ أهم ما يميز المناطق التي كانت تلعب دور الحد السياسى بين الممالك قديمًا عن الحدود السياسية الحالية هو .....

- ① عدم ادعاء أحد ملكيتها.      ② صعوبة التوسع على حسابها.      ③ قيامها بدور الفصل.      ④ قابليتها للنقل والحركة.

الدولة	المساحة (كم <sup>2</sup> )
روسيا	١٧,١٠٠,٠٠٠
كندا	٩,٩٨٥,٠٠٠
الولايات المتحدة الأمريكية	٩,٨٣٤,٠٠٠
الصين	٩,٥٩٧,٠٠٠
البرازيل	٨,٥١٦,٠٠٠
أستراليا	٧,٦٨٨,٠٠٠
الهند	٣,٢٨٧,٠٠٠

فائمة تضم أكبر سبع دول في العالم من حيث المساحة

١٦ نستنتج من تحليل الجدول المقابل أن معظم

- دول العالم ذات المساحة الكبيرة .....
- تتنازل فيها الإدارة المركزية عن بعض صلاحياتها.
  - تتركز في النصف الغربي من الكرة الأرضية.
  - تم اختيار عواصمها لعوامل تاريخية.
  - تتسم بالوحدة والتجانس بين سكانها.

١٧ نتج عن قلة عدد السكان في بعض الدول العربية الآسيوية الغنية بالموارد .....

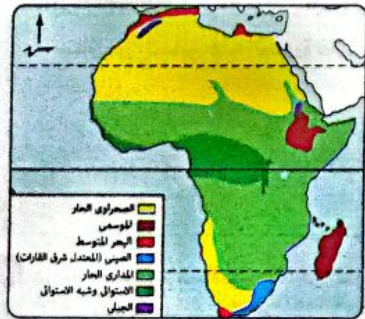
- حدوث نزاعات سياسية داخلية.
- وجود أقليات انفصالية بها.
- عدم التجانس بين سكانها.
- زيادة قوتها الاقتصادية.

١٨ أي من المنظمات الآتية منوط بها أن تسهم في تحسين البنية التحتية لموريتانيا من أجل القضاء على

الظاهرة الموجودة في النص الذي أمامك ؟ .....

تنتج موريتانيا كميات كبيرة من الحديد الخام يصل في بعض السنوات إلى ١٢ مليون طن ويصدر معظم هذا الإنتاج خام إلى الدول الصناعية الكبرى.

- اليونيدو.
- الفاو.
- الإيكواس.
- مركز التجارة الدولي.



الأقاليم المناخية في أفريقيا

١٩ في ضوء تحليلك للخريطة المقابلة نجد أن

- النزاعات السياسية الناتجة عن حركة الرعاة بقارة أفريقيا توجد في دول تقع معظمها في نطاق الإقليم المناخي .....
- الاستوائي وشبه الاستوائي.
  - الصيفي.
  - المداري الحار.
  - الموسمي.

١٤ «عدو الأمس قد يكون صديق اليوم إذا التقت المصالح».

- تطبيق العبارة السابقة في بداية الألفية الثالثة على بعض دول أحد التكتلات الاقتصادية وهو .....
- مجلس التعاون لدول الخليج العربي.
  - اتحاد المغرب العربي.
  - الاتحاد الأوروبي.
  - منطقة التجارة الحرة لأمريكا الشمالية.

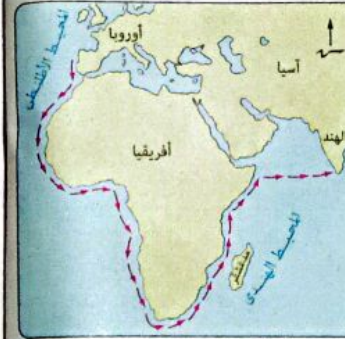
١٥ تمثل مصبات الأنهار أحد أشكال المياه الداخلية والتي ينعدم وجودها في شمال .....

- مصر.
- ليبيا.
- هولندا.
- فرنسا.

١٦ ظهر الأثر السلبي الناتج عن انتهاء الصراع الأيدولوجي العالمي بصورة واضحة على عدة دول منها التي

تقع في .....

- شرق أوروبا.
- غرب أفريقيا.
- جنوب شرق آسيا.
- غرب أوروبا.

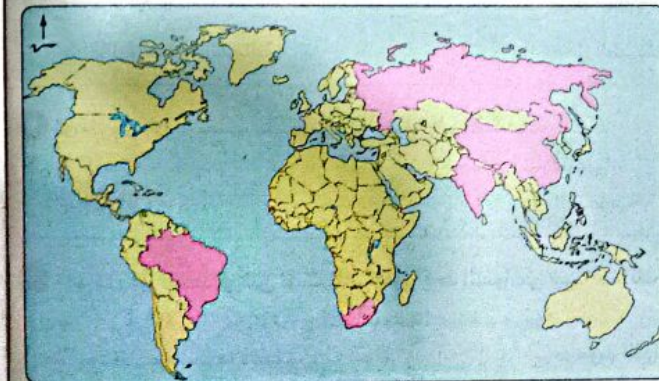


طريق رأس الرجاء الصالح

١٧ ترتب على اكتشاف البرتغاليين الطريق

الموضح بالخريطة المقابلة فقدان مصر في ذلك الوقت أحد مميزات موقعها .....

- المركزي.
- بالنسبة للياس والماء.
- بالنسبة للدول المجاورة.
- الاستراتيجي.



أعضاء مجموعة البريكس BRICS

١٨ أي من الدول التالية يجب

عليها الالتزام بكل ما تقرره المنظمة الموضحة بالخريطة

المقابلة ؟ .....

- ليسوتو.
- كازاخستان.
- باراجواي.
- أوكرانيا.

٢٨ «قد تتشابه الحدود السياسية الطبيعية مع التخوم في الاستاتيكية».

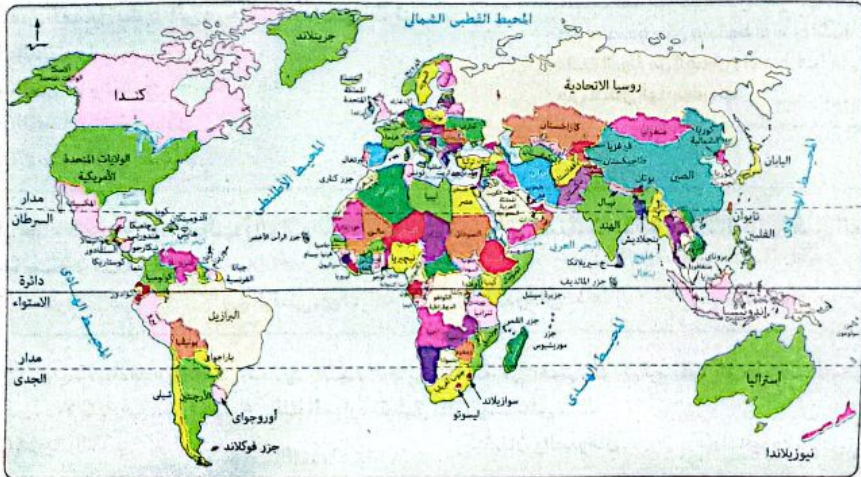
يُصعب تطبيق مضمون العبارة السابقة على معظم امتداد الحد السياسي بين دولتي .....  
 ① فرنسا وألمانيا. ② الأرجنتين وشيلي. ③ فرنسا وإسبانيا. ④ الهند والصين.

٢٩ أي المناطق الآتية كانت الأكثر تضرراً كنتيجة لتهميش دور المرحلة الثانية من مراحل تخطيط الحدود السياسية ؟ .....  
 ① غرب ألمانيا. ② شرق تشاد. ③ شمال إسبانيا. ④ جنوب كندا.

٣٠ توجد الأقلية الأقل انتشاراً في العالم في عدة دول منها دولة .....

① روسيا. ② سوريا. ③ الولايات المتحدة الأمريكية. ④ البوسنة والهرسك.

٣١ بالاستعانة بالخريطة التالية نجد أن أقرب الدول إلى المغرب من حيث طبيعة المسطحات المائية التي تطل عليها .....



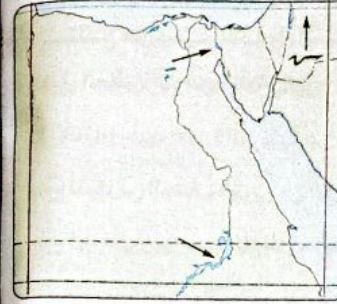
① الصومال. ② جنوب أفريقيا. ③ السعودية. ④ كولومبيا.

٣٢ «هناك حدود نشأت لاعتبارات سياسية وأخرى نتيجة لاعتبارات ديموجرافية».

يمكن تطبيق مضمون العبارة السابقة على الترتيب في الحدود التي نشأت بقارتى .....  
 ① آسيا وأستراليا. ② أوروبا وآسيا. ③ أفريقيا وأوروبا. ④ أستراليا وأفريقيا.

٣٣ اتسع نطاق الدخول في الأحلاف العسكرية نتيجة .....

① الخلاف الأيدولوجي العالمي. ② الثورة الصناعية الأوروبية. ③ التطور العلمي والتكنولوجي. ④ ظهور أزمات في الشرق الأوسط.



٣٤ بالرغم من أهمية المنطقتين المشار إليهما في الخريطة المقابلة كمشروعات قومية إلا أنه في القرن الـ ٢٠م ارتبط بهما .....

① حدوث هجرات قسرية مختلفة في دوافعها. ② خروج لاجئين إلى دول الجوار. ③ حدوث تناقص في أعداد سكان الدولة. ④ تهديد التجانس السكاني.

٣٥ يتضح من خلال تحليل الخريطين التاليين أن أكثر الولايات التالية مواجهة للمشكلات عند تحقيق التنمية الشاملة بها .....



التقسيم الإداري في الولايات المتحدة الأمريكية

① مينوسوتا. ② بوتان.



موقع وتضاريس الولايات المتحدة الأمريكية

① جورجيا. ② أركنساس. ③ بوتان.

٣٦ أول دولة عربية يمر بها مدار السرطان شرقاً تتشابه مع آخر دولة عربية يمر بها غرباً في .....

① اختيارهما للعاصمة على أساس السيادة القومية. ② استقبالهما لهجرات غير شرعية. ③ عدد الدول العربية المجاورة لهما. ④ تبني سياسة تخفيف أثر الصدمات الخارجية.



طريق سكة حديد داخل ممرات جبلية

٣٧ الصورة التي أمامك تعبر عن اهتمام الدولة بوسائل

النقل للتغلب على التطرف المناخي وصعوبة التضاريس، تنطبق هذه الصورة على دولة .....

① البرازيل. ② هولندا. ③ سويسرا. ④ الكونغو.

٣٨ في حالة تقسيم محافظة ما داخل الدولة إلى أكثر من دائرة انتخابية فذلك يرجع بالضرورة إلى .....

① كبر مساحتها. ② كثرة عدد سكانها. ③ ارتفاع نسبة المتعلمين بها. ④ تنوع الأنشطة الاقتصادية بها.

هل تريد أن تصبح إريتريا دولة مستقلة وسيادية؟	
لا	نعم
٠,١٧%	٩٩,٧٩%

استفتاء، لاستقلال إريتريا عن دولة إثيوبيا عام ١٩٩٣م

٤٤ تتج عن الاستفتاء الموضح بالشكل المقابل.....

- ١ زيادة عدد الدول الداخلية الأفريقية.  
٢ قلة عدد الدول المجاورة لدولة السودان.  
٣ زيادة عدد الدول المطلة على البحر الأحمر.  
٤ قلة عدد الدول المجاورة لدولة الصومال.

٤٣ أى من الدول الآتية تتصف بصعوبة الاتصال بالعالم الخارجى ويقع جزء منها فى نصف الكرة الشرقى

- والآخر فى نصف الكرة الغربى؟ دولة.....  
١ تشاد. ٢ النيجر. ٣ مالى. ٤ غانا.

٤٤ يتضح من تحليل النص المقابل أن الدولة الأفريقية التى

تشابه مع دولة سويسرا فى كثرة حدودها البحرية هى.....

تعد سويسرا من الدول القليلة التى تمتد أطوال كثيرة من حدودها فى البحيرات مثل بحيرة كونستانس بين النمسا وسويسرا وألمانيا وبحيرة ليمان بين فرنسا وسويسرا، وبحيرتا ماجيورى ولوغانو بين سويسرا وإيطاليا.

- ١ السودان.  
٢ تنزانيا.  
٣ نيجيريا.  
٤ تشاد.

٤٥ فى حال قبول الأطراف المتنازعة تدخل من قام بدور المساعى الحميدة فى حل المشكلة السياسية بينهم

فإننا ننتقل إلى طريقة أخرى لتسوية النزاعات بشكل سلمى وهو أسلوب.....

- ١ المفاوضات. ٢ الوساطة. ٣ التوفيق. ٤ التحكيم.

٤٦ «تتجه بعض الدول الكبرى للاستحواذ على بتروال الدول النامية». يمكن دراسة ذلك من خلال مجال.....

- ١ النظام العالمى الجديد. ٢ التحليل السياسى للقوة.  
٣ الوحدات السياسية. ٤ المنظمات الدولية.

### ب أسئلة مقالية :

٤٧ حدد : أكثر المنظمات الدولية التى تضررت نتيجة نهاية التوازن الدولى . مع ذكر السبب .

٤٨ من وجهة نظرك صنف : العوامل الديموجرافية التى تؤثر إيجابياً على قوة دول مجلس التعاون لدول الخليج العربى .

٤٩ «كانت دولة ألمانيا سبباً فى ظهور أكثر من حلف عسكرى» دلل على صحة العبارة السابقة .

٥٠ تم توقيع أهم الاتفاقيات والمعاهدات الخاصة بتنظيم حركة الملاحة النهرية الدولية فى نصف الكرة الأرضية

الشرقى . وضع ذلك .

٣٤ إذا أصبحت جبال روكى تمثل حدود سياسية تفصل بين ثلاث دول إحداها تمتد غرب هذه الجبال فإن

- الشكل المتوقع لهذه الدولة الأخيرة هو الشكل .....  
١ الشريطى. ٢ المندمج. ٣ المجزأ. ٤ المندمج ذوبروز.

٣٥ تتعدد العوامل الجغرافية التى يمكن أن تؤدى مستقبلاً إلى حدوث مشكلات سياسية داخل قارة أفريقيا

- ويخرج عنها .....  
١ الصراع على المياه العذبة. ٢ الهجرات غير الرسمية.  
٣ ثورة الاتصالات الحديثة. ٤ المنظمات المالية الدولية.

٣٦ أى من الدول الآتية فى حالة تعرضها لعدوان خارجى سوف يحدث استنزاف لمعظم مواردها؟.....

- ١ الجزائر. ٢ إيطاليا. ٣ السعودية. ٤ النرويج.

٣٧ وفقاً لدراستك لدورة حياة الدولة عند ابن خلدون، فإن

شهدت مصر الفرعونية خلال عصر الدولة الوسطى رنة اقتصادية ولكن بسقوط الأسرة الثانية عشرة عانت الدولة من الضعف والاضطراب مما ساهم فى احتلال الهكسوس لها.

النص المقابل يشير إلى مرحلتين هما على الترتيب.....

- ١ النشأة والشباب.  
٢ الشباب والنضج.  
٣ النضج والاضمحلال.  
٤ الاضمحلال والنشأة.

٣٨ فى حالة ظهور حدود الغالب والمغلوب كنتيجة للأحداث التى اشتعلت بداية العقد الحالى، فمن المتوقع

- أنها ستكون شمال البحر .....  
١ الأسود. ٢ البلطى. ٣ الأدرىاتى. ٤ المتوسط.

٣٩ «بدأت بشائر النظام العالمى الجديد بانتهاى الحرب الأهلية فى بعض الدول ثم ظهر أثر هذا النظام فى بدء

الحروب الأهلية فى دول أخرى». تلك العبارة تنطبق بالترتيب على.....

- ١ كوريا والصين. ٢ الصين وإيران. ٣ لبنان والصومال. ٤ ألمانيا واليابان.

٤٠ يؤكد ما توضحه معطيات الصورة المقابلة على.....

- ١ أهمية التعاون الدولى.  
٢ سيادة النظام العالمى الجديد.  
٣ محدودية العلاقات الدولية.  
٤ انتشار قيم العولمة الاقتصادية.

٤١ أى من وظائف الحد السياسى التالية تعد الأكثر تأثراً فى حالة الوصول إلى أولى خطوات التكتل الاقتصادى؟.....

- ١ وظيفة الفصل بين الدول.  
٢ وظيفة الحماية والأمن.  
٣ الوظيفة الاقتصادية.  
٤ الوظيفة السياسية.

## نموذج 2



اختر الإجابة الصحيحة من بين (أ)، (ب)، (ج)، (د) فيما يلي :

- ١ تحتاج الدولة لكي تتحول إلى أمة إلى عدة أمور يخرج عنها .....  
 (أ) وجود ارتباط ثقافي بين الأفراد.  
 (ب) تحقيق الهدف الخارجي للجيوبوليتيك.  
 (ج) تطبيق أهداف كيلين على المستوى الداخلي.  
 (د) التمتع بالسمات الديموجرافية للدولة الوحيدة.



٢ «تعدد العوامل المؤثرة في العلاقات الدولية». في ضوء العبارة السابقة وتحليلك للخريطة المقابلة فإنه يمكن ترتيب الدول حسب قوة علاقاتها الدولية كالتالي .....

- (أ) تونس - تشاد - المغرب - سوازيلاند.  
 (ب) المغرب - تشاد - سوازيلاند - تونس.  
 (ج) سوازيلاند - تونس - تشاد - المغرب.  
 (د) المغرب - تونس - تشاد - سوازيلاند.

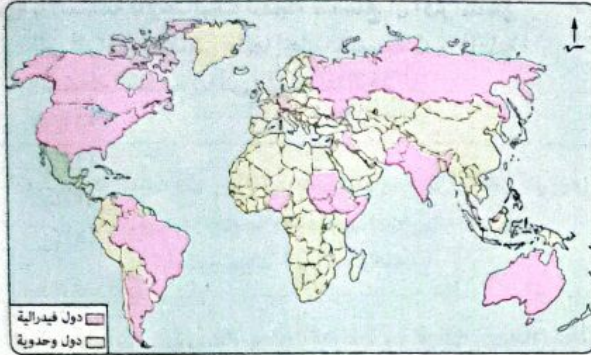
٣ تأثرت العديد من المسطحات المائية بالتغيرات السياسية المشار إليها في النص المقابل ويخرج عنها .....  
 شهدت خريطة العالم السياسية منذ نهاية الألفية الثانية العديد من التغيرات.  
 (أ) خليج عدن.  
 (ب) بحر الشمال.  
 (ج) خليج البنغال.  
 (د) البحر الأسود.

٤ في حالة حدوث خلافات على مناطق حدودية بين دولتين متجاورتين فإن ذلك يرجع إلى التقصير في أحد مراحل رسم الحدود السياسية وهي .....  
 (أ) التعريف والتحديد.  
 (ب) التحديد والتعيين.  
 (ج) التعيين وإدارة الحد.  
 (د) إدارة الحد والتعريف.

٥ يخترق نهر الراين في حوضه الأدنى حدود ألمانيا وهولندا وهو بذلك يشبه نهر .....  
 (أ) بو.  
 (ب) النيل.  
 (ج) السين.  
 (د) الريبوجراند.

٦ تسببت الحروب العالمية بصورتها التقليدية والأيدولوجية التي خاضتها الدول الأوروبية في .....  
 (أ) زيادة عدد أحلافها العسكرية.  
 (ب) استدامة مواردها الاقتصادية.  
 (ج) انتقال مركز الزعامة للولايات المتحدة الأمريكية.  
 (د) استمرار الثنائية القطبية.

## نموذج 2



٧ بالاستعانة بالخريطة المقابلة، أي مما يلي يعد حدًا فاصلاً بين دولة وحدوية وأخرى فيدرالية ؟  
 (أ) جبال الهيمالايا.  
 (ب) مضيق بيرغ.  
 (ج) البحيرات العظمى.  
 (د) مضيق صقلية.

٨ المسطح المائي الذي يفصل بين دولتين تتمتعان بالعضوية الدائمة في مجلس الأمن التابع لهيئة الأمم المتحدة هو .....  
 (أ) بحر المانش.  
 (ب) البحر البلطي.  
 (ج) البحر الأسود.  
 (د) بحر قزوين.

٩ التكتل الاقتصادي الذي يمتلك الوحدة الإثنوغرافية ويفتقد لوجود سوق محلي ضخم هو .....  
 (أ) منطقة التجارة الحرة لأمريكا الشمالية.  
 (ب) الاتحاد الأوروبي.  
 (ج) منتدى التعاون الاقتصادي (الأيك).  
 (د) مجلس التعاون لدول الخليج العربي.

١٠ يتفوق الساحل الشرقي للأمريكتين عن الساحل الغربي من حيث الأهمية الجغرافية بسبب .....  
 (أ) العامل المناخي.  
 (ب) المظهر التضاريسي.  
 (ج) تنوع النبات الطبيعي.  
 (د) طول الساحل.

١١ يمكن دراسة مضمون العبارة المقابلة من خلال أحد مجالات جغرافية الانتخابات وهو .....

- (أ) دراسة التباين المكاني في التصويت.  
 (ب) دراسة السلوك الانتخابي للناخب.  
 (ج) تحليل الآثار البشرية على السلوك الانتخابي.  
 (د) دراسة أثار الانتخابات على تغيير الظروف البشرية.

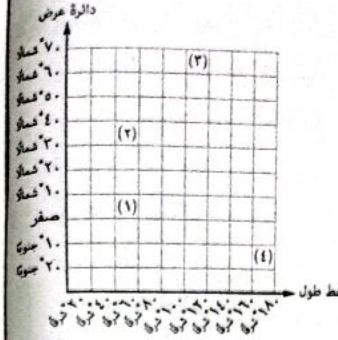
للمحلات الانتخابية دور هام في نجاح المرشحين بالانتخابات حيث تعمل بشكل أساسي على تقديم الخدمات المختلفة لأهل الدائرة مثل الاهتمام بعمل القوافل الطبية.

١٢ ساهم نهر النيل في تحقيق التجانس والتماسك بين الشعب المصري على مر العصور من خلال .....  
 (أ) خصوبة رواسبه.  
 (ب) تأثيره في التجارة الخارجية.  
 (ج) دوره كحد سياسي.  
 (د) امتداد حوضه.

١٣ عندما تكون عاصمة الدولة هي المدينة الأصغر من حيث عدد السكان فإن ذلك يعني أنه من المستبعد أن يكون اختيارها قد تم على أساس .....  
 (أ) العامل التاريخي.  
 (ب) سهولة الوصول.  
 (ج) العمق الجغرافي.  
 (د) السيادة القومية.

١٤ بالاستعانة بالإحداثيات المقابلة نستنتج أن أكثر المناطق التي أثر الموقع الفلكي عليها إيجابيًا بالنسبة لمدى فاعلية الأنشطة البشرية بها هي التي يمثلها الرقم .....

- ١ (١)  
٢ (٢)  
٣ (٣)  
٤ (٤)



١٥ «كانت مدينة برايزاخ تابعة لدولة فرنسا إلا أنها تعرضت لظروف طبيعية جعلتها تابعة الآن لدولة ألمانيا كما هو موضح بالمرئية الفضائية المقابلة». يتضح من تحليل مضمون العبارة السابقة أن المنطقة الحدودية التي تعرضت لأحداث مشابهة تقع في .....

- ١ شمال الولايات المتحدة الأمريكية.  
٢ جنوب الولايات المتحدة الأمريكية.  
٣ غرب دولة الأرجنتين.  
٤ جنوب دولة المكسيك.



١٦ «رغم أنها كانت مركزاً لحلف وارسو إلا أنها أصبحت جزءاً أساسياً من الكتلة الغربية عسكرياً واقتصادياً».

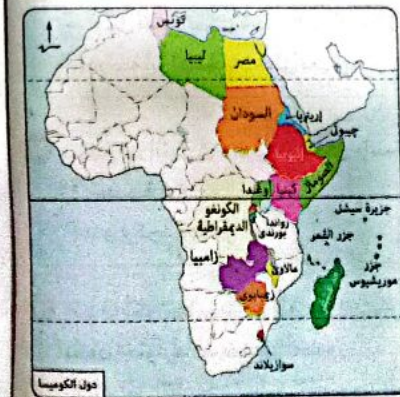
- ١ بولندا.  
٢ النرويج.  
٣ بيلاروسيا.  
٤ ألبانيا.

١٧ بتحليل الخريطة المقابلة نجد أن،

مجموعة دول الكوميسا تخلو من وجود

دولة ذات شكل .....

- ١ بحري مجزأ.  
٢ شريطي.  
٣ مندمج ذو بروز.  
٤ بري مجزأ.



١٨ تتشابه كل من الهند ومصر في .....

- ١ عدد الدول المجاورة.  
٢ تبني سياسة الحياد الإيجابي.  
٣ استخدام الجبال كحدود سياسية.  
٤ النظام السياسي والإداري.

١٩ تلعب بعض الدول العربية حاليًا دورًا مؤثرًا في العلاقات الدولية ويرجع ذلك إلى عدة عوامل أهمها .....

- ١ تميزهم بالتنوع المناخي والنباتي.  
٢ امتلاكهم لمصادر الطاقة الحفرية.  
٣ تقدمهم الاقتصادي والتكنولوجي.  
٤ امتلاكهم للقوة الديموجرافية.

٢٠ تتشابه الحدود الفرنسية البرية في قطاعها الجنوبي الشرقي مع قطاعها الجنوبي الغربي في .....

- ١ تمتعها بقوة الفصل في معظم أجزائها.  
٢ سهولة الاستيطان على جانبيها.  
٣ رسمها على أساس ديني.  
٤ كونها فلكية بحتة.

٢١ أي من المناطق الجغرافية التالية كان من المستبعد أن تكون مناطق تخوم بين الدول قديمًا ؟ .....

- ١ الغابات.  
٢ المستنقعات.  
٣ التلال.  
٤ الأنهار.

٢٢ أي مما يلي يمكن استنتاجه من مفهوم الجغرافيا السياسية ؟ .....

- ١ قوة الدولة تعتمد في الأساس على علاقاتها الدولية.  
٢ وزن الدولة السياسي مرتبط بمقوماتها الجغرافية.  
٣ تتصف العلاقات الخارجية للدولة بالاستاتيكية.  
٤ المقومات الطبيعية هي المعيار الحقيقي لقوة الدولة.

٢٣ يظهر في الخريطة المقابلة تجمع اقتصادي يعرف

باسم (الميركسور) ويتفوق على اتحاد دول المغرب

العربي في .....

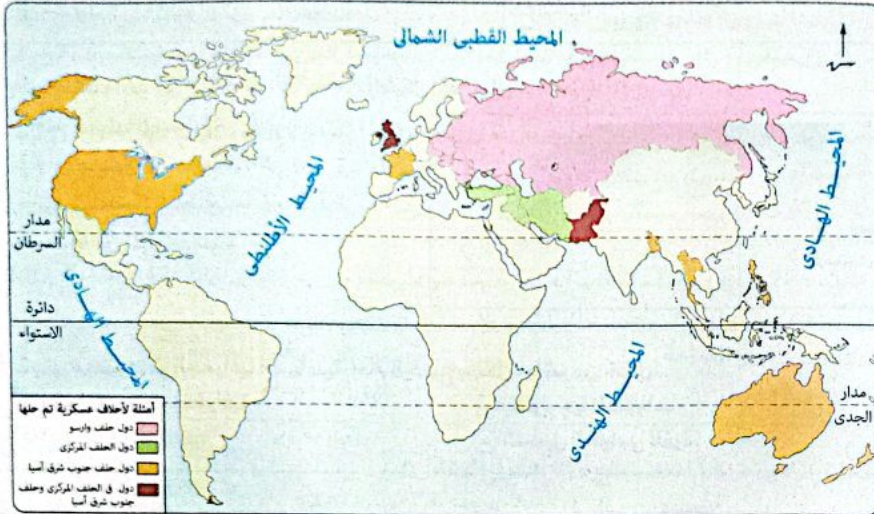
- ١ مركزية الموقع.  
٢ صلابة تكوينه.  
٣ تنوع أقاليمه المناخية.  
٤ خلوه من الدول الحبيسة.



٢٤ كان الاتحاد السوفيتي السابق يضم بداخله قوميات مختلفة وكان ذلك أحد الأسباب التي أدت إلى .....

- ١ ظهور الصراع الأيدولوجي.  
٢ إعلان الرئيس جورباتشوف ميادته.  
٣ تماسك الاتحاد السوفيتي ثقافيًا.  
٤ ظهور النزعات الانفصالية.

٣١ «أُنشئ الحلف المركزي عام ١٩٥٥م». نستنتج من مضمون العبارة السابقة والخريطة التالية أن الهدف الأساسي من إنشاء الحلف المركزي هو .....



- ١ التصدي لحلف شمال الأطلسي.      ٢ مواجهة المد الشيوعي في الشرق الأوسط.
- ٣ ترسيخ أهداف النظام العالمي الجديد.      ٤ مواجهة ظاهرة سباق التسلح في الشرق الأوسط.

٣٢ إذا كانت نسبة تمثيل المرأة في البرلمان محدودة للغاية في إحدى الدول فهذا سيكون دليل على .....

- ١ أنها دولة جاذبة للهجرات.      ٢ أنها إحدى دول العالم النامي.
- ٣ اتساع قاعدة الهرم السكاني للدولة.      ٤ عدم التجانس السكاني بها.

٣٣ تمثل أقدم التجمعات التي تناولت الهدف الموضح بالنص المقابل دراسة منظمة .....

تتعدد أهداف الجغرافيا السياسية ومنها تحليل التجمعات الدولية تحليلًا جغرافيًا.

- ١ عصبة الأمم.
- ٢ الأمم المتحدة.
- ٣ حركة عدم الانحياز.
- ٤ التجارة العالمية.

٣٤ يمكن أن يكون السبب الأساسي لعدم انضمام دولة ليسوتو لمجموعة دول الكوميسا متعلقًا بـ .....

- ١ شكلها.      ٢ مساحتها.      ٣ مواردها.      ٤ سكانها.

٣٥ أي من الدول الآتية نتوقع أن تتأثر سلبًا نتيجة امتلاكها للموارد الأولية ذات الارتباط بالطاقة النووية ؟ .....

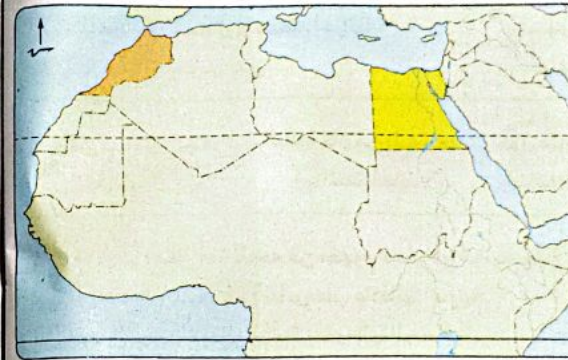
- ١ أستراليا ونيوزيلاندا.      ٢ الكونغو والنيجر.      ٣ ألمانيا وإيطاليا.      ٤ كندا والمكسيك.

٣٥ استطاعت دول الاتحاد الأوروبي تجاوز عقبة عدم توافر المقومات السياسية اللازمة لقيام التكتل الاقتصادي من خلال .....

- ١ تطبيق شروط كوبنهاجن التشريعية.      ٢ تطبيق شروط كوبنهاجن السياسية.
- ٣ رفض دخول الدول التي كانت تنتمي للكتلة الشرقية.      ٤ انضمام معظم دوله إلى حلف شمال الأطلسي.

٣٦ الدولة العربية التي قامت بعدة محاولات لحل المشكلات السياسية المتعلقة بتنظيم حركة القبائل الرعوية .....

- ١ تتعدد واجهاتها البحرية.      ٢ تتميز عاصمتها بسهولة الوصول.
- ٣ تتنوع أقاليمها المناخية.      ٤ يصعب اتصالها بالعالم الخارجي.



٣٧ تتشابه الدولتين

المظللتين بالخريطة

المقابلة في .....

- ١ امتلاكهما لمواقع استراتيجية.
- ٢ شكل الدولة.
- ٣ عدد الدول المجاورة.
- ٤ مساحة الدولة.

٣٨ أي مما يلي يعبر عن أحد الأدوار التي يقوم بها النظام السياسي في صورته المؤسسية ؟ .....

- ١ الاشتراك في تكتل الكوميسا.      ٢ البحث عن مصادر الطاقة.
- ٣ تطوير العملية التعليمية.      ٤ إقامة المستشفيات العامة.

٣٩ بدأت العلاقات الدولية تأخذ شكلًا أكثر شمولية منذ .....

- ١ إحلل الآلات محل الأيدي العاملة.      ٢ ظهور البعثات الدبلوماسية.
- ٣ عقد المعاهدات الدولية.      ٤ قيام الحروب العالمية.



٣٠ أهم ما يميز المسطح المائي الموضح

في المرئية الفضائية المقابلة .....

- ١ كونه بحر عربي خالص.
- ٢ اشتراك دوله في أحلاف عسكرية.
- ٣ ظهور تكتلات اقتصادية على جانبيه.
- ٤ زيادة أهميته بفضل ظهيره الساحلي.

- ٤٣ «يبلغ عدد القادمين من المكسيك إلى الولايات المتحدة الأمريكية سنويًا ما يقرب من نصف مليون حالة هجرة غير نظامية». بتحليل العبارة السابقة يتضح .....
- ١ تقارب المستوى الاقتصادي بين الدولتين. (ب)  
٢ تمتع الحدود الجنوبية للولايات المتحدة بقوة الفصل. (ج)  
٣ وصول منظمة الناقتا لمرحلة السوق المشتركة. (د)  
٤ انتشار الجريمة المنظمة في حدود المكسيك الشمالية.

- ٤٤ أشهر الدول التي ساهمت المراعى الطبيعية بها في زيادة قوتها الاقتصادية هي التي يمر بها .....
- ١ مدار الجدى. (ب)  
٢ مدار السرطان. (ج)  
٣ الدائرة القطبية الشمالية. (د)  
٤ الدائرة القطبية الجنوبية.

- ٤٥ «مثلت قوة في بداية فترة الاستقطاب العالمى نتيجة عوامل ديموجرافية وقوة في نهاية فترة الاستقطاب العالمى نتيجة عوامل اقتصادية». تنطبق تلك العبارة على دولة تتصف بأنها .....
- ١ وحدوية كبيرة المساحة. (ب)  
٢ فيدرالية صغيرة المساحة. (ج)  
٣ وحدوية مجزأة. (د)  
٤ فيدرالية مجزأة.



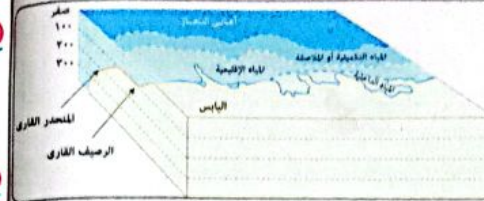
- ٤٦ بتحليل الخريطة المقابلة، نستنتج أن كل الدول المطلة على بحيرى تشاد وتاجانيقا تتشابه في .....
- ١ عدد الدول الحبيسة وعدد الدول البحرية. (ب)  
٢ اشتراكها في كتل اقتصادية واحد. (ج)  
٣ إمكانية الدفاع بالعمق. (د)  
٤ سهولة اتصالها بالعالم الخارجى.

ب أسئلة مقالية :

- ٤٧ وضح كيف : استفادت تونس من شكلها البرى البحرى الجزأ اقتصاديًا.
- ٤٨ حدد تقييمك لمصادقية العبارة التالية :  
تظهر على خريطة الوطن العربى كل أنواع الحدود السياسية.
- ٤٩ يتطابق موقف الأمم المتحدة تجاه كل من مشكلتى سبتة ومليلة، وكشمير وجه نقدًا موضوعيًا للعبارة السابقة.
- ٥٠ اقترح : كيف يمكن حل مشكلة هجرة العقول من الدول النامية إلى الدول الكبرى.

- ٣٦ ديكتاتورية الأقلية لفظ يمكن أن ينطبق على ما حدث في دولة .....
- ١ جنوب أفريقيا. (ب)  
٢ الولايات المتحدة الأمريكية. (ج)  
٣ إسبانيا. (د)  
٤ إندونيسيا.

- ٣٧ يعود اختفاء أحد أنواع المناطق المائية من الشكل المقابل إلى .....



- ١ قلة أهميتها العسكرية. (ب)  
٢ قلة أهميتها الاقتصادية. (ج)  
٣ تبعيتها للمياه الدولية. (د)  
٤ بعدها عن المياه الداخلية.

- ٣٨ تتجلى موضوعات الجغرافيا السياسية أمام الجميع بشكل مباشر من خلال .....
- ١ نظم المعلومات الجغرافية. (ب)  
٢ تكنولوجيا المعلومات. (ج)  
٣ الاستشعار من بعد. (د)  
٤ التحليل السياسى للقوة.

- ٣٩ تعبر الصورة المقابلة عن عدد من المقومات الديموجرافية



- التي تتميز بها مصر ويخرج عنها .....
- ١ الابتعاد عن أفكار بعض الدول النامية. (ب)  
٢ امتلاك أخطر جوانب التنمية البشرية. (ج)  
٣ تماسك الشعب وترابطه. (د)  
٤ التمتع بسمات الأمة.

- ٤٠ إذا كان اهتمام الدولة موجهاً إلى المناطق الداخلية فإننا نتحدث عن .....

- ١ الحدود السياسية. (ب)  
٢ مناطق التخوم. (ج)  
٣ المجال الحيوى للدولة. (د)  
٤ المياه الدولية.

- ٤١ تشير العبارة المقابلة إلى أهمية التعامل الإيجابى مع .....

- ١ الحجم السكانى الكبير. (ب)  
٢ الهجرات غير الشرعية. (ج)  
٣ الأقليات. (د)  
٤ العولمة.
- التنوع الثقافى أحد مصادر الثراء الفكرى للأوطان واحترام هذا التنوع أساس تطوير المجتمعات.

- ٤٢ يُعد الحد من التناقضات الاجتماعية أحد أدوار .....

- ١ النظام الانتخابى. (ب)  
٢ النظام السياسى. (ج)  
٣ الجيوبولتيك. (د)



٧ بالاستعانة بالخريطة المقابلة، حدد أي من الدول التالية تتشابه مع دولة ليسوتو في عدد الدول المجاورة وتختلف عنها في موقعها بالنسبة لليابس والماء .....

- ① جيبوتي.  
② جامبيا.  
③ سوازيلاند.  
④ مدغشقر.

٨ إحدى المشكلات السياسية التي تتعلق بتنظيم حركة الرعاة في الوطن العربي ظهرت في دول لها واجهة بحرية على .....

- ① البحر الأحمر. ② البحر المتوسط. ③ خليج عُمان. ④ الخليج العربي.

دول متقدمة



دول نامية

٩ يعبر مضمون الصورة المقابلة عن أحد مجالات الجغرافيا السياسية وهو .....

- ① الوحدات السياسية.  
② التحليل السياسي للقوة.  
③ النظام العالمي الجديد.  
④ المشكلات السياسية.

١٠ من العوامل التي ساهمت في تحول الحدود السياسية من نص مكتوب إلى واقع ملموس على الطبيعة .....

- ① تحول القوميات إلى دول. ② ظهور الثورة الصناعية الأولى.  
③ انتهاء الحرب العالمية الأولى. ④ تشكيل عصبة الأمم.

١١ تتوقع أي من الدول التالية تستطيع استخدام نظرية الدفاع بالعمق نتيجة مقوماتها المورفولوجية .....

- ① البرازيل. ② هولندا. ③ بلجيكا. ④ المملكة المتحدة.

١٢ «تعد مقياساً لأيدولوجية الصراع السلمى على المناصب السياسية داخل دولة ما».

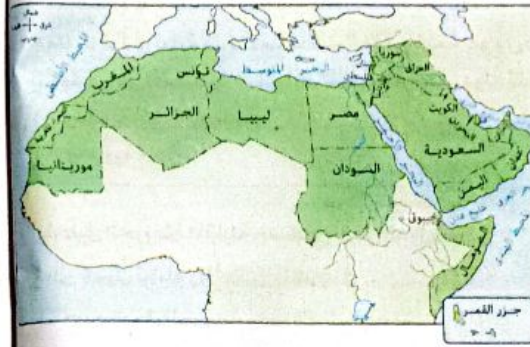
يعبر مضمون العبارة السابقة عن .....

- ① درجة مركزية الحكومة. ② الصورة الاجتماعية للنظام السياسى.  
③ نظام الانتخابات. ④ التقسيمات الإدارية.

## نموذج 3

١ اختر الإجابة الصحيحة من بين ①، ②، ③، ④، ⑤ فيما يلى :

- ١ الدولتان العربيتان الآسيويتان اللتان تتناقض مساحتهما مع طول سواحلهما تمثلان حدوداً شمالية  
① لاتحاد كونفدرالى. ② لاتحاد فيدرالى.  
③ لدول وحدوية مثالية. ④ لدول متنوعة المناخ.



٢ بالاستعانة بالخريطة المقابلة

نستنتج أن الجناح العربى الأفريقى يتشابه مع الجناح العربى الآسيوى فى .....

- ① عدد الدول الجزرية. ② الاستفادة من سياسة التسليح الجماعى.  
③ عدد المواقع الاستراتيجية. ④ الاتصال البرى بين جميع دوله.

٣ «تقوم الصين بإغراق الأسواق العربية بمنتجاتها». فى ضوء العبارة السابقة أى من وظائف الحدود السياسية

- الآتية هى المسئولة عن مواجهة سياسة الإغراق التى تتبعها بعض الدول الكبرى ؟  
① الفصل بين الدول. ② الحماية الاقتصادية.  
③ الحماية والأمن. ④ السياسة والقانونية.

٤ يكاد يكون هناك تطابق بين كل من دعائم الاتحاد الأوروبى و .....

- ① شروط كوبنهاجن التشريعية. ② شروط كوبنهاجن السياسية.  
③ أهداف التكتلات الاقتصادية. ④ أهداف الأحلاف العسكرية.

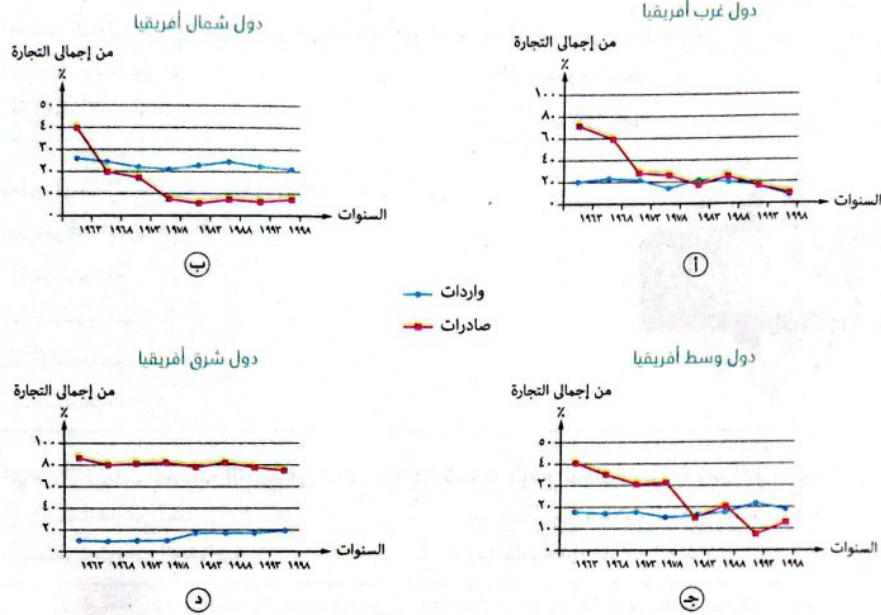
٥ «يعد قلبها السياسى هو الأحدث». ينطبق مضمون العبارة السابقة على دولة .....

- ① اليابان. ② المملكة المتحدة. ③ فرنسا. ④ إيطاليا.

٦ أى من دوائر العرض الرئيسية الآتية تقطع حدود بحيرية ؟

- ① مدار السرطان. ② دائرة الاستواء.  
③ مدار الجدى. ④ الدائرة القطبية الشمالية.

١٦ في ضوء دراستك لعناصر قوة الدولة، أي من الأشكال البيانية التالية يعبر عن أفضل ميزان تجارى يخص التجارة الزراعية للدول الأفريقية فى نهاية الألفية الثانية ؟ .....



١٣ بالاستعانة بالخريطة التالية يظهر أقوى أنواع الحدود الطبيعية التى تقوم بدور الفصل بصورة واضحة فى قارة .....



١٤ تزامنت الفترة التى شهدت بداية الحرب الباردة بين المعسكرين الشرقى والغربى مع بداية ظهور .....

① المنظمات الدولية.

② التحالف العسكرية.

③ التكتلات الاقتصادية.

④ العلاقات الدولية.

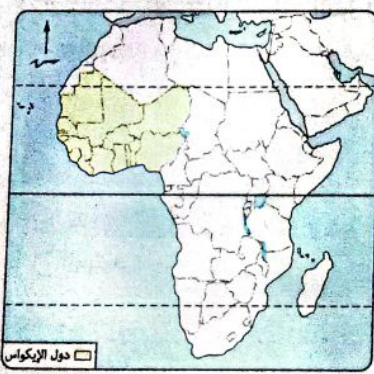
١٧ أى مما يلى يعد أكبر العقبات التى تواجه دول الكوميسا ؟ .....

① قلة الإمكانيات المادية.

② ضعف الأسواق.

③ قلة الأيدي العاملة.

④ تشابه الموارد.



١٥ بالاستعانة بالخريطة المقابلة نستنتج أن الدولة المسئولة عن ظهور دولة مالى كدولة حبيسة هى .....

① بلجيكا.

② ألمانيا.

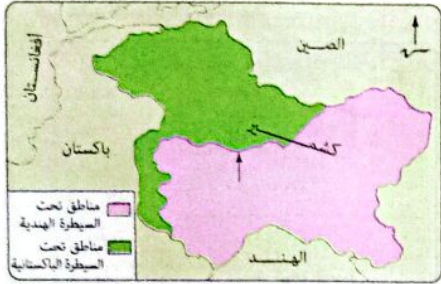
③ فرنسا.

④ بريطانيا.



٢٥ يتضح من خلال متابعة التغييرات التي شهدتها خريطة العالم السياسية في نهاية الألفية الثانية حدوث تناقضًا واضحًا في الأوضاع السياسية بين دولتي .....

- ١ المملكة المتحدة وروسيا.      ٢ ألمانيا واليمن.  
٣ ألمانيا والاتحاد السوفيتي.      ٤ تشيكوسلوفاكيا ويوغوسلافيا.



٢٦ تعبر الحدود المشار إليها في الخريطة

المقابلة عن أحد أفكار العالم .....

- ١ أرسطو.  
٢ ابن خلدون.  
٣ راتزل.  
٤ كيلين.

٢٧ لعبت دولتي اليابان وألمانيا دورًا مشتركًا في .....

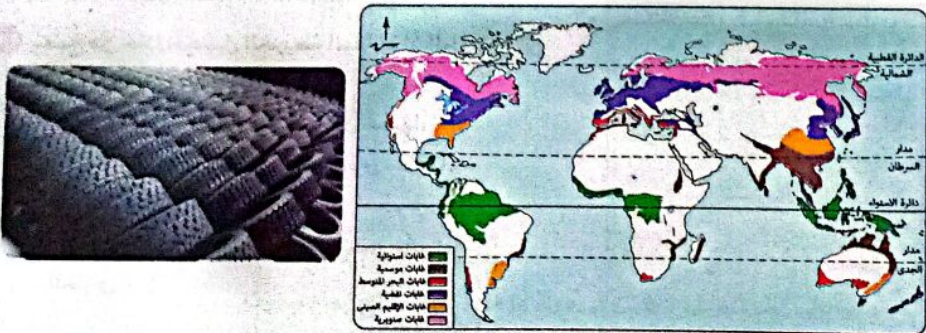
- ١ فشل منظمة دولية وظهور النظام العالمي الجديد.      ٢ ظهور النظام العالمي الجديد وحل حلف وارسو.  
٣ حل حلف وارسو وتكوين كتلات اقتصادية.      ٤ تكوين كتلات اقتصادية وانتهاء الحرب الباردة.

٢٨ قد تظهر مشكلة تقسيم المياه المتقابلة بين دولتين متشابهتين إثنوغرافيًا تشرفان على مضيق .....

- ١ هرمز.      ٢ صقلية.      ٣ جبل طارق.      ٤ باب المندب.

٢٩ بالاستعانة بالخريطة التالية نستنتج أن هناك عدة دول يمكنها صناعة ما تعبر عنه الصورة اعتمادًا على

مواد خام طبيعية محلية ويخرج عنها دولة .....



- ١ البرازيل.      ٢ الكونغو الديمقراطية.      ٣ إندونيسيا.      ٤ روسيا الاتحادية.

١٩ منطقة الالتقاء بين الاقتصاد البري والاقتصاد البحري للدولة تتمثل في .....

- ١ المياه المحايدة.      ٢ الحد البحري.      ٣ المياه الملاصقة.      ٤ خط الساحل.

٢٠ تصنف الدول التي لها حق الفيتو في هيئة الأمم المتحدة إلى قسمين متباينين في .....

- ١ التطور التكنولوجي.      ٢ المستوى التعليمي.  
٣ الفكر الأيدولوجي.      ٤ التطور الصناعي.



٢١ تمثل الهيئة الموضحة بالصورة المقابلة أحد دعائم

عناصر قوة الدولة من الناحية .....

- ١ المورفولوجية.  
٢ الديموجرافية.  
٣ الاقتصادية.  
٤ التنظيمية.

٢٢ أي من التقنيات الحديثة التالية هي المسئولة عن تحديد موقع اللجان داخل الدوائر الانتخابية؟

- ١ الاستشعار من بُعد.      ٢ وسائل الاتصالات السلكية واللاسلكية.  
٣ نظم المعلومات الجغرافية.      ٤ نظام تحديد المواقع العالمية.

٢٣ «العامل الأكثر تأثيرًا في نشأتها هو الصراع الأيدولوجي العالمي». تنطبق العبارة السابقة على .....

- ١ منظمة عصبة الأمم.      ٢ منظمة الأمم المتحدة.  
٣ حركة عدم الانحياز.      ٤ الاتحاد الأوروبي.

٢٤ في حال نجاح الأقلية الموضحة بالخريطة

المقابلة في الاستقلال فإن أكثر الدول التي

ستتأثر سلبًا من الناحية المورفولوجية هي

دولة .....

- ١ العراق.  
٢ تركيا.  
٣ سوريا.  
٤ أرمينيا.





## نموذج 4



1 اختر الإجابة الصحيحة من بين (أ)، (ب)، (ج)، (د) فيما يلي :

1 تتميز الدولة عن الأمة في عدد من الخصائص منها .....

- (أ) البعد التاريخي. (ب) البعد الجغرافي. (ج) العامل الديموجرافي. (د) العامل القانوني.

2 «كون مجلس جامعة الدول العربية في ٣٠ سبتمبر ١٩٧٢م ائتلاف من الجزائر وسوريا والكويت وليبيا ومصر، يقصد

تسوية الخلافات التي كانت قائمة بين شطري اليمن سابقاً حول مناطق الحدود».

يمثل مضمون تلك العبارة إحدى الوسائل السلمية لحل المنازعات الدولية وهو أسلوب .....

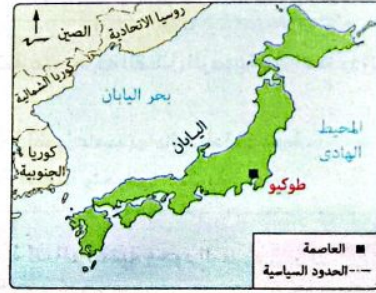
- (أ) المفاوضات. (ب) الوساطة. (ج) التوفيق. (د) التحكيم.

3 أي مما يلي يعد أفضل الطرق لمواجهة المشكلات الاجتماعية المرتبطة بضخامة الحجم السكاني لدولة ما ؟ .....

- (أ) الدخول في تحالفات عسكرية. (ب) الانضمام لمنظمات إقليمية.

- (ج) غرس الروح الوطنية. (د) تشجيع الهجرات الداخلية.

4 يتضح من تحليل معطيات الخريطين التاليتين أن عاصمة الدولتان الموضحتان .....



- (أ) تختلفان في العمق الجغرافي وتتشابهان من حيث التصنيف.

- (ب) تتشابهان في العمق الجغرافي وتختلفان من حيث التصنيف.

- (ج) تتشابهان في العمق الجغرافي والتصنيف.

- (د) تختلفان في العمق الجغرافي والتصنيف.

5 مع تراجع الفكر الجيوبولتيكي في العلاقات الدولية فإن الأفضل للدولة تنموياً هو أن يغلب عليها .....

- (أ) التشابه المناخي. (ب) الطابع الجبلي. (ج) الطابع السهلي. (د) التنوع العرقي.

43 المؤسسة التي تمثل مواطني دول الاتحاد الأوروبي هي .....

- (أ) المجلس الأوروبي. (ب) البرلمان الأوروبي.

- (ج) مجلس الاتحاد الأوروبي. (د) المفوضية الأوروبية.

44 تمثل العبارة المقابلة تجسيداً حقيقياً لأحد أهداف الجغرافيا السياسية وهي .....

- (أ) دراسة الوحدات السياسية.

- (ب) تحديد الأبعاد الجغرافية للصراعات السياسية.

- (ج) التحليل الجغرافي الموضوعي للتجمعات الدولية.

- (د) التعريف بالمشكلات السياسية.

رغم الجهود التي تبذلها منظمة الأمم المتحدة إلا أنه يؤخذ عليها هيمنة الدول الكبرى على قرارات المنظمة.

45 تم توقيع ميثاق الأمم المتحدة وحلف الناتو بدولة .....

- (أ) تفتقد للتنوع المناخي. (ب) منضمة للاتحاد الأوروبي. (ج) شكلها مندمج. (د) نظامها جمهوري.

46 «تم حل النزاع على جزر «حوار» بين قطر والبحرين بشكل سلمى بعد الرجوع إلى محكمة العدل الدولية»

تتشابه طريقة حل النزاع الموضح في العبارة السابقة مع ما حدث في .....

- (أ) جنوب خليج العقبة. (ب) شمال البحر الأسود.

- (ج) جنوب البحر المتوسط. (د) شمال خليج المكسيك.

47 تنتشر الأقلية اللغوية التي حصل بعضها على حقه في استخدام لغته في دول كانت تنتمي معظمها إلى .....

- (أ) الحلف المركزي. (ب) حلف وارسو. (ج) حلف الناتو. (د) حلف جنوب شرق آسيا

48 أقدم المشكلات الحدودية على خريطة العالم السياسية تقع في .....

- (أ) المغرب. (ب) شمال باكستان. (ج) فلسطين. (د) غرب السودان.

49 أي من الدول الآتية تستطيع دولة أذربيجان الاتصال بها بدون عوائق أو تحكم دولة أخرى ؟ .....

- (أ) إيران. (ب) العراق. (ج) أوكرانيا. (د) تركيا.

ب أسئلة مقالية :

47 حدد أوجه الارتباط بين : الحرب العالمية الأولى، وظهور النظام العالمي الجديد.

48 دلل جغرافياً على صحة العبارة التالية :

لعبت مصادر الطاقة في القرن الـ ٢٠ الميلادي دوراً في تحديد اتجاه مسار الحروب تارة وعامل حسم في الحروب تارة أخرى.

49 تتوقع إذا حاولت إيطاليا الانضمام للاتحاد الأوروبي بعد وضع شروط كوينهاجن، هل يتم قبولها ؟ ولماذا ؟

50 ما تقييمك لمصادقية العبارة الآتية : تُعد العاصمة حلقة اتصال بالعالم الخارجي ؟



١٢ أي من الدول الموضحة على الخريطة المقابلة هي الأكثر احتياجاً للحفاظ على علاقاتها الودية مع دول الجوار ؟ .....

١ الدولة رقم ١  
٢ الدولة رقم ٢  
٣ الدولة رقم ٣  
٤ الدولة رقم ٤

١٣ يعود التشابه بين بعض مناطق العالم القديم والعالم الجديد في ممارسة التمييز العرقي من قبل .....

١ الأغلبية.      ٢ المهاجرين.      ٣ أصحاب الأرض.      ٤ الأقلية.



١٤ نستنتج من دراسة حوض نهر الدانوب الموضح في الخريطة المقابلة .....

١ تنوع الأقاليم المناخية على امتداد حوضه.  
٢ تشابه امتداد حوضه مع امتداد حوض نهر السين.  
٣ أهميته في الملاحة الدولية.  
٤ انعدام تأثيره بمعاهدة باريس ١٨٥٦م.

١٥ عندما يشغل الامتداد الفلكي لدولة ما كل الحيز المكاني الممتد بين دائرتي عرض ٦° شمالاً إلى ٨° جنوباً وبين خطي طول ٤° شرقاً حتى ٢٠° شرقاً فإن تلك الدولة تفتقد إلى .....

١ التنوع المناخي.      ٢ حسن الإدارة الداخلية.  
٣ الشكل المنتظم.      ٤ التنوع الجيولوجي.

١٦ أي المشكلات الآتية تساهم الجغرافيا السياسية في تقديم حلول لها ؟ .....


١ اتساع قاعدة الهرم السكاني.      ٢ الزحف العمراني على الأرض الزراعية.  
٣ النزاع في مناطق الممرات الملاحية.      ٤ تخلف وسائل الإنتاج الصناعي.

٦ يتضح من خلال تحليل النص المقابل أن مصرا تملك في تلك الفترة أحد أبعاد قوة الدولة وهي القوة .....

١ المورفولوجية.  
٢ الديموجرافية.  
٣ العسكرية.  
٤ التنظيمية.

٧ عندما تلتقي ثلاثة أنواع من المناطق المائية عند نقطة معينة فإن تلك النقطة تقع عند .....

١ خط الساحل.      ٢ خط تقسيم المياه.  
٣ الحد البحري.      ٤ أعلى البحار.



٩ أكثر الدول العربية تضرراً من النزاعات السياسية المترتبة على حركة القبائل الرعوية عبر الحدود السياسية هي دولة .....

١ يصعب اتصالها بالعالم الخارجي.  
٢ تتميز عاصمتها بالسيادة القومية.  
٣ يقطعها نهر دولي.  
٤ تعدد واجهاتها البحرية.

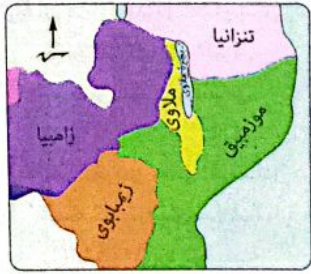
١٠ يتضح عند تطبيق أفكار أرسطو على الخريطة السياسية للعالم أهمية وجود الحدود .....

١ الطبيعية.      ٢ الخفية.  
٣ الحضارية.      ٤ الفلكية.

١١ تنطبق العبارة المقابلة على العديد من التكتلات الاقتصادية ويخرج عنها .....

١ اتحاد المغرب العربي والنافتا.  
٢ الأيبك والاتحاد الأوروبي.  
٣ الاتحاد الأوروبي والكموميسا.  
٤ الكوميسا ومجلس التعاون لدول الخليج العربي.

هناك العديد من التكتلات الاقتصادية التي تمتلك بعض دولها القدرة على تعطيل قرارات مجلس الأمن.

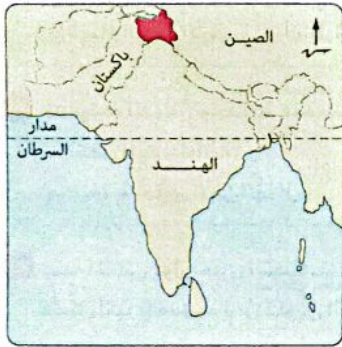


١٣ تستخدم البحيرة التي تظهر في الخريطة المقابلة كحد سياسي بين عدة دول لذلك فهي تشبه بحيرة.....

- ① أونتاريو.  
② متشجن.  
③ ناصر.  
④ فيكتوريا.


١٤ تظهر أهمية دور الجغرافيين في خطوات العملية الانتخابية في المرحلة.....

- ① الأولى. ② الثانية. ③ الثالثة. ④ الرابعة.



١٥ إذا كانت إنجلترا هي المسنولة عن الوضع السياسي في المنطقة الموضحة بالخريطة المقابلة، فأى مما يلي يمكن اعتباره هو المتضرر الأول من ذلك الوضع؟.....

- ① دولة الهند.  
② دولة باكستان.  
③ المنظمات الدولية.  
④ السكان المحليين.



١٦ بدأ ظهور ما تعبر عنه الصورة المقابلة على خريطة العالم السياسية نتيجة.....

- ① انتهاء عنصر التوازن الدولي.  
② تراجع دور المنظمات الدولية.  
③ انقسام ألمانيا إلى دولتين.  
④ اتساع نطاق الأحلاف العسكرية.



١٧ تظهر المرئية الفضائية المقابلة أحد المواقع الاستراتيجية والذي يمكن اعتباره البوابة الجنوبية ل.....

- ① مضيق هرمز.  
② قناة السويس.  
③ بحر العرب.  
④ الخليج العربي.

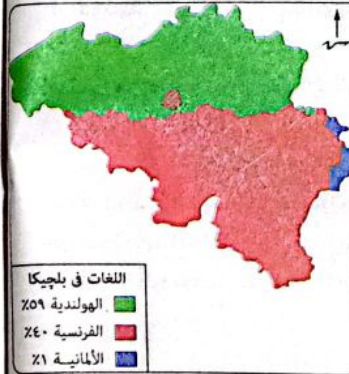


١٧ أى مما يأتي تتوقع أن يكون هو المسنول عن ظهور سكان دولة ما على الشكل الذى تعبر عنه الصورة المقابلة؟.....

- ① الهجرات الوافدة إليها.  
② الهجرات النازحة منها.  
③ رسم حدودها على أساس إثنوغرافى.  
④ انتشار قيم العولمة السلبية بها.

١٨ تتشابه دولة النيجر فى بعض المشكلات المتعلقة بموقعها الجغرافى مع دولتى.....

- ① الجزائر وليبيا.  
② تشاد وبوركينا فاسو.  
③ نيجيريا وبنين.  
④ مالى ونيجيريا.



١٩ يتضح من خلال تحليل الخريطة المقابلة أنها تمثل دولة.....

- ① تمتلك سمات الأمة.  
② تأثرت إثنوغرافياً بدول الجوار.  
③ ذات حدود إثنوغرافية.  
④ تتمتع ببساطة التركيب اللغوى.

٢٠ أى القارات الآتية تستطيع معظم دولها أن تقلل من الآثار السلبية المترتبة على الموقع الفلكى؟.....

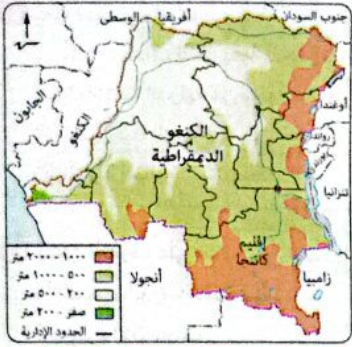
- ① أفريقيا وأوروبا.  
② آسيا وأفريقيا.  
③ أمريكا الجنوبية وآسيا.  
④ أمريكا الشمالية وأوروبا.

٢١ الحدود المنطبقة هي التي فرضت بواسطة الدول الأقوى وذلك ينطبق على معظم حدود دول قارتى.....

- ① أمريكا الشمالية وأوروبا.  
② أفريقيا وأمريكا الجنوبية.  
③ أوروبا وأفريقيا.  
④ أمريكا الجنوبية وأستراليا.

٢٢ تتعدد خصائص النظام العالمى الجديد ومنها.....

- ① تفعيل حق الشعوب في تقرير مصيرها.  
② دعم مبدأ توازن القوى.  
③ الاتجاه نحو التكامل الإقليمى.  
④ الاعتماد على الاستثمارات المحلية.



- ٢٥ من المتوقع أن يكون السبب الغالب لتمسك دولة الكونغو الديمقراطية بإقليم كاتنجا الموضح في الخريطة المقابلة رافضة محاولة انفصاله هو .....
- ① دوره في الاتصال بالعالم الخارجى.  
② دوره في جعل الدولة ذات شكل مثالى.  
③ أهمية ثرواته الطبيعية.  
④ شدة تنوعه المناخى.

- ٢٦ يُعد تفعيل ميثاق الأمم المتحدة الصادر عام ١٩٤٨م بالنسبة للنظام العالمى الجديد أحد .....
- ① النتائج. ② الأهداف. ③ الخصائص. ④ المتغيرات.

- ٢٧ يعود وجه الشبه بين كل من الاتحاد الأوروبى وحلف الناتو في أن كل منهما حالياً .....
- ① يتميز بصلاية التكوين. ② يمثل كيان اقتصادى.  
③ يرتبط بالسيطرة الرأسمالية. ④ يعبر عن التوازن الدولى.

- ٢٨ تعد أحد أهم نقاط الضعف التى تواجه الوزن السياسى لدولة أستراليا .....
- ① صعوبة السيطرة على أجزائها المترامية الأطراف. ② كونها دولة بحرية مجزأة.  
③ بعدها عن بؤرة العلاقات الدولية. ④ قلة الحشائش الطبيعية بها.

- ٢٩ أى من مراحل تخطيط الحد السياسى الآتية يغلب عليها الجانب النظرى ؟ .....
- ① التعريف والتحديد. ② التحديد والتعيين. ③ التعيين وإدارة الحد. ④ إدارة الحد والتعريف.

- ٣٠ تُعد الهجرة الخارجية بالنسبة للدول النامية سلاح ذو حدين يتمثل فى .....
- ① حل مشكلة البطالة ويطء التطور التكنولوجى. ② تحقيق التجانس السكانى وتفرغها من الكفاءات.  
③ توقف عملية التنمية وتقدم المستوى التكنولوجى. ④ زيادة القوة الديموجرافية وتأخر البحث العلمى.

- ٣١ يتضح من تحليل مضمون العبارة المقابلة أنها تمثل .....

① أحد أهداف تأسيس حلف الناتو.  
② فصل من فصول الحرب الباردة.  
③ تطور لاستراتيجيات حلف الناتو.  
④ فترة انتشار الأتحاف العسكرية.

تم إرسال قوات حلف الناتو إلى مقدونيا لمهمة حفظ السلام عام ٢٠٠١م، كما تم تكليف حلف الناتو بمهمة قيادة قوات المساعدة الدولية لإرساء الأمن «إيساف» فى أفغانستان عام ٢٠٠٣م.

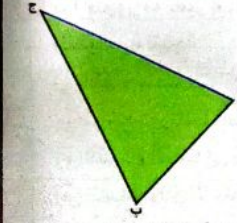
- ٣٢ أى مما يلى يؤثر سلبيًا بشكل أكبر على الدولة البحرية من الناحية الاقتصادية ؟ .....
- ① اختفاء المياه الداخلية. ② انعدام المياه المحيطة.  
③ ضيق الرصيف القارى. ④ تعرج خط الساحل.

- ٣٣ عند تكوين كتل اقتصادى يجمع بين الدولتين اللتين تشغلان جنوب قارة أمريكا الجنوبية فإن أهم المشكلات التى سوف تواجه ذلك التكتل هو .....
- ① تشابه الموارد الطبيعية. ② صعوبة الاتصال الأرضى.  
③ وجود الفوارق التكنولوجية. ④ انعدام التنوع المناخى.

- ٣٤ يُعد من أهم الأحداث التى شهدتها خريطة العالم السياسية فى النصف الأول من القرن العشرين الميلادى .....
- ① ظهور التكتلات الاقتصادية. ② الاستقطاب العالمى.  
③ اتساع الرقعة الأرضية للنزاعات الدولية. ④ تزعم الولايات المتحدة الأمريكية للكتلة الغربية.

- ٣٥ قد تواجه الدولة الوحودية عدة مشكلات يخرج عنها .....
- ① نقص المياه والطاقة. ② قلة فرص العمل.  
③ صعوبة تحقيق الأمن الغذائى. ④ ظهور حركات انفصالية.

- ٣٦ عندما تعانى دول إحدى التكتلات الاقتصادية من عجز شديد فى ميزانها التجارى فينبغى عليها الاهتمام بشكل أكبر بإحدى مراحل تكوين التكتلات الاقتصادية وهى مرحلة .....
- ① التجارة التفضيلية. ② التجارة الحرة. ③ الاتحاد الجمركى. ④ السوق المشتركة.



أ. مضيق هرمز  
ب. مضيق باب المندب  
ج. قناة السويس

- ٣٧ يعبر الشكل المقابل عن منطقة تعانى من عدة مشكلات يخرج عنها .....
- ① انعدام التنوع الجيولوجى.  
② قلة التنوع المناخى.  
③ المشكلات الاقتصادية ذات البعد السياسى.  
④ المشكلات الاجتماعية ذات البعد السياسى.

- ٣٨ يمكن أن نجد تشابه بين عصبة الأمم والأمم المتحدة فى .....
- ① التأثير على السلم الدولى. ② الإمكانات العسكرية.  
③ موقف الدول الكبرى منهما. ④ الظروف السابقة لظهورهما.

## نموذج 5



اختر الإجابة الصحيحة من بين (1)، (ب)، (ج)، (د) فيما يلي :

- 1 يمكن اعتباره القاعدة الأساسية التي نعتمد عليها في تحليل الوحدات السياسية كمجال لدراسة الجغرافيا السياسية.....
- (1) متابعة علاقاتها الخارجية. (ب) تحديد أبعاد التنظيم الداخلي.  
(ج) دراسة الأبعاد الجغرافية. (د) التحليل السياسي للقوة.

بعد تفشى العديد من الأمراض والأوبئة زادت أهمية أحد وظائف الحدود السياسية وأحد مناطق المياه بشكل ملحوظ.

- 2 ينطبق مضمون العبارة المقابلة على.....
- (1) وظيفة الفصل بين الدول والمياه الداخلية. (ب) وظيفة الحماية والأمن والمياه الإقليمية.  
(ج) الوظيفة الاقتصادية والمياه التكميلية. (د) الوظيفة السياسية والمياه الدولية.




- 3 تنتمي منطقة القلب ذات الأهمية الاقتصادية في الدولة التي تظهر بالخريطة المقابلة إلى أحد الأقاليم المناخية وهو.....
- (1) المعتدل شرق القارات. (ب) القاري البارد.  
(ج) البحر المتوسط. (د) الصحاري المعتدل.



- 4 وفقاً لآراء ابن خلدون عن مراحل دورة حياة الدولة فإن الصورة التي أمامك تعبر عن مرحلة.....
- (1) النشأة. (ب) الشباب.  
(ج) النضج. (د) الاضمحلال.

- 5 أي من مراحل تكون التكتلات الاقتصادية التالية يتخلى فيها الحد السياسي بشكل كبير عن وظائفه بين دول التكتل ؟.....
- (1) التجارة الحرة. (ب) الاتحاد الجمركي. (ج) التجارة التفضيلية. (د) الاندماج الاقتصادي.



- 33 يعبر مضمون الصورة المقابلة عن.....
- (1) أحد الأهداف التطبيقية للجغرافيا السياسية. (ب) العلاقات الدولية من وجهة نظر الجيوبولتيك.  
(ج) تطور حياة الدولة عند ابن خلدون. (د) الدولة المثالية عند أرسطو.

- 34 يمكن التعرف على عدد الذين امتنعوا عن الإدلاء بأصواتهم في صناديق الاقتراع في المرحلة التالية ل.....
- (1) تقسيم الدوائر الانتخابية. (ب) الترشح للانتخابات.  
(ج) إجراء الانتخابات. (د) فرز أصوات الناخبين.

- 35 تنطبق العبارة المقابلة على مضيق.....
- (1) دوفر. (ب) صقلية. (ج) بيرغ. (د) هرمز.

- 36 يتفوق تكتل الأييك على حلف الناتو في.....
- (1) عدد المقاعد الدائمة بمجلس الأمن. (ب) عدد الدول الأعضاء.  
(ج) الامتداد الجغرافي. (د) صلابة التكوين.

- 37 «شيد الصينيون سوراً لحمايتهم من هجمات المغول منذ أكثر من ألفي عام». تعبر مضمون تلك العبارة عن.....
- (1) تطور الحد السياسي. (ب) ظاهرة التخوم.  
(ج) استخدام المسح الميداني. (د) تنمية المناطق الهامشية.

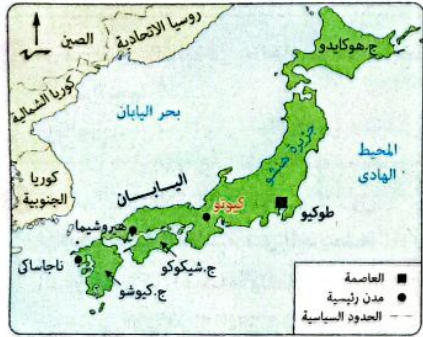
### أسئلة مقالية :

- 38 حلل العبارة جغرافياً : للمساحة الكبيرة للدولة جانب إيجابي وآخر سلبي في حالة تعرضها لخطر خارجي.
- 39 ما العلاقة بين : فشل محاولات جورباتشوف لإعادة البناء الاقتصادي، وشروط كويتهاجن 1992م ؟
- 40 دلل على صحة العبارة : قد تؤثر الثورة التكنولوجية بالسلب على تماسك الدولة داخلياً.
- 41 ما تقييمك لمصادقية العبارة التالية : ينتهي دور جغرافية الانتخابات عقب انتهاء العملية الانتخابية ؟



١٣ ما زالت أكثر القارات استفادة من جهود المنظمة التي يظهر شعارها في الشكل المقابل هي قارة .....  
 ① أفريقيا.  
 ② أمريكا الجنوبية.  
 ③ أمريكا الشمالية.  
 ④ أستراليا.

١٤ حاول الرئيس السوفيتي السابق جورباتشوف أن يرسم صورة لنظام عالمي جديد يتميز بعدد من السمات يخرج عنها .....  
 ① تحرير التجارة العالمية.  
 ② إنهاء الحرب الأيدولوجية.  
 ③ تقليص دور السيادة الوطنية.  
 ④ وقف سباق التسلح.



١٥ تخالف الدولة الموضحة باللون الأخضر في الخريطة المقابلة بعض سمات الدولة الحدودية ويخرج عنها .....  
 ① سهولة الاتصال الأرضي.  
 ② وجود تجانس سكاني.  
 ③ تعدد مراكز القلب.  
 ④ قلة العوائق الطبيعية.

١٦ أي من الدول التالية هي الأقل منعة في مواجهة انتشار الأمراض المعدية داخل أراضيها ؟ .....  
 ① أستراليا.  
 ② كندا.  
 ③ إيطاليا.  
 ④ شيلي.

١٧ تشبه هيئة تسوية المنازعات في مجلس التعاون لدول الخليج العربي إحدى الطرق السلمية لتسوية النزاعات الدولية وهي .....  
 ① التوفيق.  
 ② المساعي الحميدة.  
 ③ الوساطة.  
 ④ التحكيم.

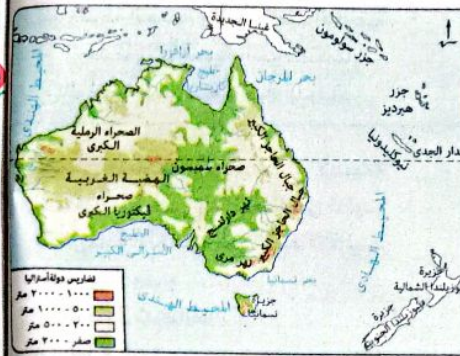
١٨ في حال اندماج دول الجناح العربي الآسيوي في دولة كوندراالية واحدة فإن شكلها سوف يصبح .....  
 ① مندمج.  
 ② شريطي عرضي.  
 ③ برى بحري مجزأ.  
 ④ محتوى.

١٩ أي من مؤسسات الاتحاد الأوروبي التالية ذات ظهير شعبي وكان لها دورًا في التخفيف من الآثار المترتبة على اختلافات النظم السياسية لدول الاتحاد ؟ .....  
 ① المجلس الأوروبي.  
 ② البرلمان الأوروبي.  
 ③ مجلس الاتحاد الأوروبي.  
 ④ المفوضية الأوروبية.

٦ أي من العوامل التالية خرجت عن كونها محور اهتمام الدول العربية عند اختيارها لعواصمها ؟ .....  
 ① السيادة القومية.  
 ② سهولة الوصول.  
 ③ العمق الجغرافي.  
 ④ العامل التاريخي.

٧ وفقًا للعوامل الطبيعية المؤثرة في العلاقات الدولية فإن القارة الأضعف في امتلاكها القدرة على التأثير الدولي هي .....  
 ① أستراليا.  
 ② أفريقيا.  
 ③ أمريكا الجنوبية.  
 ④ آسيا.

٨ أهم ما يقف عائق أمام تحديد المستوى الحقيقي للقوة العسكرية لدولة ما هو قياس .....  
 ① مقدار المعدات العسكرية.  
 ② حجم القوة العسكرية الاحتياطية.  
 ③ حجم الإنفاق العسكري.  
 ④ مدى إخلاص وولاء المقاتلين.



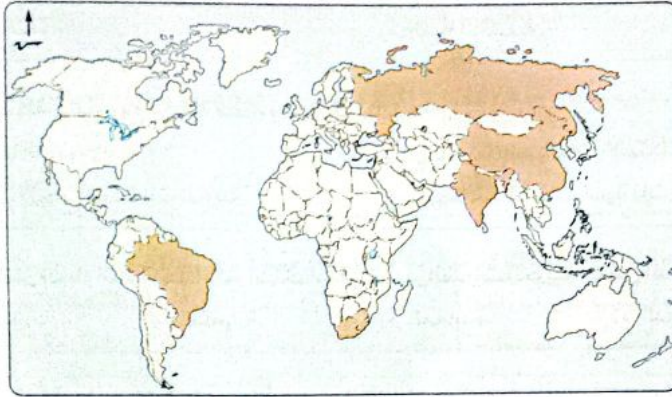
٩ في ضوء دراسة المقومات الطبيعية لقوة الدولة يتضح أن أفضل المناطق تنمويًا في الدولة الموضحة بالخريطة المقابلة تقع في ركنها .....  
 ① الشمالي الشرقي.  
 ② الجنوبي الشرقي.  
 ③ الشمالي الغربي.  
 ④ الجنوبي الغربي.

١٠ نستنتج من تحليل مضمون العبارة المقابلة أنها تنطبق على العديد من الدول يخرج عنها .....  
 ① ألمانيا.  
 ② فرنسا.  
 ③ النمسا.  
 ④ سويسرا.

١١ أي مما يلي تتوقع أن يساهم بشكل رئيسي في تقليل النزاعات السياسية الناتجة عن حركة الرعاة على الحدود ؟ .....  
 ① استخدام التقنيات الحديثة في المراقبة.  
 ② منع عبور قبائل دول الجوار.  
 ③ تحديد مناطق محايدة للرعى.  
 ④ تحويل الأراضي الزراعية لأراضي رعوية.

١٢ أي من التكتلات الاقتصادية التالية تمكنه ظروفه المناخية من إنتاج معظم أنواع المحاصيل الزراعية ؟ .....  
 ① الناftا.  
 ② الأتيك.  
 ③ اتحاد المغرب العربي.  
 ④ مجلس التعاون لدول الخليج العربي.

٢٥ يفقد التكتل الاقتصادي الموضح في الخريطة التالية إلى العديد من مقومات قيام التكتلات الاقتصادية يخرج عنها .....



أعضاء مجموعة دول البريكس BRICS

- ١ المقوم الجغرافي.  ب تشابه دوله ثقافيًا.  ج تشابه دوله في النظام الإداري.  د ضخامة سوقه الداخلي.  ه

٢٦ يرجع السبب الرئيسي لترحيب حلف الناتو بانضمام تركيا إليه .....

- ١ إعادة النظر في استراتيجية الحلف.  ب موقع تركيا الجغرافي.  ج التشابه الإثنوغرافي مع أعضاء الحلف.  د احتياج الحلف لقوة تركيا العسكرية.  ه

٢٧ تتبع جزيرتي صقلية وسردينيا دولة إيطاليا، بينما تتبع جزيرة كورسيكا دولة فرنسا مما تسبب في جعل الدولتين .....

- ١ تتمتعان بالشكل النموذجي.  ب مسيطرتان على البحر التيراني.  ج متنوعتان في ظروفهما المناخية.  د يتمتع جيوشهما بحرية الحركة.  ه



٢٨ أي من الدول الموضحة على الخريطة التالية ستجد صعوبة أكبر في الحصول على احتياجاتها الغذائية من الخارج في حال تعرضها لاعتداءات خارجية ؟ .....

- ١ الدولة رقم ١  ب الدولة رقم ٢  ج الدولة رقم ٣  د الدولة رقم ٤  ه



٢٩ أي مما يلي يعد الركيزة الأساسية التي اعتمدت عليها الدول الموضحة في الخريطة المقابلة لنجاح التنمية بها ؟ .....

- ١ مقوماتها المورفولوجية.  ب تنوعها الجيولوجي.  ج حجمها السكاني الكبير.  د تطورها التكنولوجي.  ه

٣١ أي من الدول التالية في حالة انضمامها لمجلس التعاون لدول الخليج العربي تمنحه زيادة في عدد مواقع الاستراتيجية ؟ .....

- ١ العراق.  ب الأردن.  ج سوريا.  د اليمن.  ه



٣٢ تتعدد المشكلات التي تواجه الدول الإسكندنافية المظللة في الخريطة المقابلة ولكن أهمها ما يتعلق ب.....

- ١ المظهر التضاريسي والهجرات غير القانونية.  ب شكل الدول والمستوى التكنولوجي.  ج الظروف المناخية والمظهر التضاريسي.  د المستوى التكنولوجي والهجرات غير القانونية.  ه

٣٣ يتميز النهر المحلي عن النهر الدولي بعدة صفات منها .....

- ١ تخفيفه للأثار السلبية المرتبطة بموقع الدول الحبيسة.  ب امتداد حوضه في أكثر من كيان سياسي.  ج استخدامه قديمًا كمناطق تخوم.  د انعدام تأثيره على النزاعات الدولية.  ه

٣٤ تتعدد أسباب سقوط الاتحاد السوفيتي وتفككه ولكن يخرج عنها .....

- ١ تدهور الكيان عسكريًا.  ب تعدد النزعات القومية داخله.  ج فشل الفكر الشيوعي اقتصاديًا.  د تفوق الغرب حضاريًا.  ه

٣٦ «تتخطى أهميتها حدود الدولة السياسية لتصبح محط اهتمام العديد من سكان دول العالم».

تنطبق تلك العبارة بشكل أكبر على مناطق القلب .....

- ١ الدينية. ٢ الاقتصادية. ٣ السكانية. ٤ السياسية.

٣٧ قامت سفينة تجارية بعبور إحدى المضائق إلا أنها ظلت بعد عبورها في نفس المسطح المائي وهذا يعني أنها عبرت مضيق .....

- ١ صقلية. ٢ جبل طارق. ٣ باب المندب. ٤ هرمز.

٣٨ أى مما يلي يُعد القاسم المشترك لأنظمة الحكم الديمقراطية ؟ .....

- ١ وجود رئيس منتخب على رأس الدولة. ٢ سيطرة البرلمان على السلطة والتشريع. ٣ عدم تدخل سلطة في اختصاصات الأخرى. ٤ قيام البرلمان بتشكيل الحكومة.

٣٩ تتعدد أهداف الجغرافيا السياسية ويعد أحد أبرز صور تطبيق تلك الأهداف .....

- ١ التحليل المكاني لقوة الدولة. ٢ دراسة سلوك الدولة السياسي. ٣ وضع الحدود الإثنوغرافية في قارة أوروبا. ٤ إنشاء قاعدة بيانات جغرافية.

٤٠ بتحليلك لمضمون العبارة المقابلة نستنتج .....

- ١ امتلاك الدول العربية لسلاح استراتيجي. ٢ كفاءة استغلال الدول العربية لثرواتها. ٣ امتلاك الدول العربية لكل عناصر القوة التنظيمية. ٤ امتلاك العرب لعناصر القوة الاقتصادية.

صدّرت الدول العربية نحو مليار طن من البترول في عام ٢٠١٤م وهو ما يزيد عن ثلثي كمية البترول الداخلة في التجارة الدولية.



٤١ ترتب على المقومات المورفولوجية لدولة تايلاند

التي تظهر في الخريطة المقابلة .....

- ١ قلة النزاع مع الدول المجاورة. ٢ ضخامة مواردها الاقتصادية. ٣ صعوبة الدفاع عنها. ٤ سهولة ضبطها وإدارتها.

٣٩ إذا كان اهتمام الدولة قديماً موجه إلى المناطق الخارجية التي تشكل خطراً عليها فإننا نتحدث عن .....

- ١ الحدود الهندسية. ٢ الحدود النهرية. ٣ مناطق التخوم. ٤ المياه الإقليمية.

٣٥ تتشابه مشكلة كشمير مع مشكلة سبتة ومليلة في .....

- ١ جوانبها الديموجرافية. ٢ ارتباطهما بالسياسات الاستعمارية. ٣ التدخل الإيجابي للمنظمات الدولية. ٤ كونهما مشكلات سياسية ذات بُعد اقتصادي.

٣١ أى من مناطق المياه التالية تُعد الأكثر استخداماً في تطوير القدرات الحربية لبعض الدول ؟ .....

- ١ الإقليمية. ٢ التكميلية. ٣ المحايدة. ٤ الدولية.

٣٢ ظهرت في قارة آسيا بعد انتهاء الحرب الأيدولوجية أقبليات .....

- ١ دينية. ٢ عرقية. ٣ قومية. ٤ لغوية.



منظمة الأمم المتحدة

٣٣ الدول الأعضاء بالمنظمة الموضح شعارها في الشكل المقابل .....

- ١ يختلفون في الحقوق. ٢ أعضاء في كل الأجهزة. ٣ يتشابهون في الوزن السياسي. ٤ يمثلون كل دول العالم.

٣٤ تتشابه معظم الحدود السياسية التي تفصل بين الدول بقارتي أمريكا الجنوبية وأفريقيا في .....

- ١ تأثرها بعوامل التعرية. ٢ معيار الاختيار. ٣ قوة الفصل. ٤ سبب النشأة.



٣٥ تقع مسئولية اختيار رأس النظام في الدولة

الموضحة بالخريطة المقابلة على .....

- ١ الشعب. ٢ أعضاء السلطة التشريعية. ٣ الحكومة. ٤ أعضاء السلطة القضائية.

٤٢ تمثل بحيرة «بودنسى» حدودًا بحيرية بين ثلاث دول أوروبية وهي النمسا وسويسرا وألمانيا وبالتالي فهـ تشبه بحيرة .....  
 (أ) أنتاريو. (ب) فيكتوريا. (ج) متشجن. (د) هورن.

٤٣ نتج عن تحول مصر إلى نظام الرى الدائم بشكل كامل ظهور مشكلة .....  
 (أ) اجتماعية ذات بُعد سياسى. (ب) حدودية سياسية.  
 (ج) خاصة بتقسيم المياه. (د) اقتصادية ذات بُعد سياسى.

٤٤ «لم يعد الدين كما كان قديمًا من الأسباب التى تثار من أجلها النزاعات باستثناء بعض الدول التى لم ترتقى فر أفكارها لمصاف الدول المتقدمة» .  
 يصعب تحقيق مضمون تلك المقولة فى أحد المناطق التى تقع فى .....  
 (أ) شمال أوروبا. (ب) جنوب آسيا. (ج) غرب أستراليا. (د) شمال أفريقيا.

٤٥ العامل المشترك بين كل أنواع الحدود السياسية المعترف بها بين الدول هو ارتباطها ب.....  
 (أ) ظواهر طبيعية. (ب) النواحي الإثنوغرافية.  
 (ج) إبرام الاتفاقيات. (د) تقسيم الاستعمار لمستعمراته.

٤٦ تتميز الأمة عن الدولة الفيدرالية فى .....  
 (أ) المساحة المحددة بحدود قانونية. (ب) قوة التماسك الديموجرافى.  
 (ج) المرجعية الدستورية الثابتة. (د) التمثيل الدبلوماسى الموحد.

### ب أسئلة مقالية :

٤٧ أى من : مراحل تخطيط الحد السياسى هى التى يبدأ فيها تحقيق الوظيفة الأهم للحد السياسى ؟  
 (مبررًا سبب إجابتك).

٤٨ «ظهرت فى إحدى الدول العربية المنتمية لأكثر من اتحاد كوفدرالى اقتصادى مشكلات خاصة برسم الحد البحرى» . دلل على صحة العبارة السابقة.

٤٩ فى نهاية الألفية الثانية ظهر تأثير متناقض على الخريطة السياسية لأوروبا الشرقية والغربية.  
 حدد تقييمك لدى صحة العبارة.

٥٠ أى مما يلى تتوقع أنه أكثر إيجابية بالنسبة لقوة الدولة ... ؟ مع ذكر السبب.  
 (أ) وجود الغابات على أطراف الدولة والسهول فى الداخل.  
 (ب) وجود السهول على أطراف الدولة والغابات فى الداخل.



- ٢٦ ب ٢٧ ا ٢٨ ا ٢٩ ا ٣٠ ج  
٣١ ب ٣٢ ب ٣٣ ا ٣٤ ا ٣٥ ب  
٣٦ ا ٣٧ ج ٣٨ ب ٣٩ ب ٤٠ ا  
٤١ ج ٤٢ ب ٤٣ د ٤٤ ا ٤٥ ا  
٤٦ ا

٤٧ حيث استطاعت تونس بفضل شكلها (وجود الجزر التونسية في البحر المتوسط) إعادة ترسيم الحد البحري بينها وبين ليبيا بحكم محكمة العدل الدولية وبناء على ذلك أصبح لتونس حقوق أساسية في حقول الغاز الطبيعي والبتترول في هذه المنطقة.

٤٨ العبارة غير صادقة : لأن الحدود الإثنوغرافية الدينية واللغوية لا تظهر على خريطة الوطن العربي.

٤٩ يتناقض موقف الأمم المتحدة في المشكلتين حيث اتسم :

- بالسلبية تجاه مشكلة سبته ومليلة فلم تسجل المدينتين على أنهما أراضي تحت الاحتلال وطالب مجلس الأمن من الدولتين تسوية النزاع عن طريق الحوار.
- بالإيجابية في كشمير عندما تدخلت لوقف القتال بين الهند وباكستان على أساس خط وقف إطلاق النار واقترحت إجراء استفتاء محايد تحت إشرافها.

٥٠ يترك للطالب حرية الإجابة في ضوء :

- الاهتمام بالبحث العلمي وتوفير رأس المال والبنية الضرورية اللازمة له.
- استثمار الكفاءات المحلية وتفضيلها على الخبرة الأجنبية في قيادة المشروعات.

## نموذج 3

- ١ ا ٢ ا ٣ ج ٤ ب ٥ ا  
٦ ب ٧ ب ٨ ا ٩ ج ١٠ ب  
١١ ا ١٢ ج ١٣ ا ١٤ ب ١٥ ج  
١٦ د ١٧ ا ١٨ ا ١٩ د ٢٠ ج  
٢١ د ٢٢ ج ٢٣ ج ٢٤ ب ٢٥ ج  
٢٦ ج ٢٧ ا ٢٨ د ٢٩ د ٣٠ د  
٣١ ا ٣٢ ا ٣٣ ب ٣٤ ب ٣٥ ا  
٣٦ ج ٣٧ ب ٣٨ ب ٣٩ د ٤٠ ب  
٤١ ج ٤٢ د ٤٣ ج ٤٤ ا ٤٥ ا  
٤٦ ا

## نموذج 1

- ١ د ٢ ا ٣ ا ٤ ج ٥ ا  
٦ ا ٧ د ٨ ب ٩ ب ١٠ د  
١١ د ١٢ ج ١٣ ا ١٤ ج ١٥ ب  
١٦ ب ١٧ د ١٨ ا ١٩ ا ٢٠ ج  
٢١ ا ٢٢ ج ٢٣ ا ٢٤ ج ٢٥ د  
٢٦ ج ٢٧ ب ٢٨ ا ٢٩ ب ٣٠ ب  
٣١ د ٣٢ ج ٣٣ ا ٣٤ ا ٣٥ ب  
٣٦ ا ٣٧ ج ٣٨ ا ٣٩ ج ٤٠ ا  
٤١ ب ٤٢ ا ٤٣ ج ٤٤ ب ٤٥ ب  
٤٦ ا

٤٧ المنظمة الدولية هي حركة عدم الانحياز حيث تضاعف دورها في العلاقات الدولية نتيجة سقوط الاتحاد السوفيتي وتفكك الحلف العسكري (وارسو) وانتهاء عنصر التوازن الدولي.

٤٨ يترك للطالب حرية الإجابة في ضوء :

- العوامل التي أثرت إيجابياً :
- التمتع بخصائص مشتركة مثل وحدة الدين واللغة والعادات والتقاليد.

٤٩ حيث نشأ حلف شمال الأطلسي نتيجة قيام الاتحاد السوفيتي (السابق) بتشديد حصاره على برلين الغربية عام ١٩٤٨م وأيضاً من أبرز أسباب نشأة حلف وارسو انضمام ألمانيا الغربية لحلف شمال الأطلسي.

٥٠ حيث تم توقيع أهم الاتفاقيات والمعاهدات الخاصة بتنظيم حرية الملاحة في الأنهار الدولية (معاهدة باريس ١٨٥٦م - اتفاقية برشلونة ١٩٢١م) في مدن تقع في نصف الكرة الأرضية الشرقي.

## نموذج 2

- ١ ب ٢ د ٣ ج ٤ ا ٥ ب  
٦ ج ٧ ا ٨ ا ٩ د ١٠ ب  
١١ ج ١٢ ا ١٣ د ١٤ ب ١٥ ب  
١٦ ا ١٧ د ١٨ ب ١٩ ب ٢٠ ا  
٢١ د ٢٢ ب ٢٣ ج ٢٤ د ٢٥ ا

٤٧ لأن من خلالها يتم نقل الأفكار والكتب والصحف غير المرغوب فيها إلى داخل الدولة مما يهدد التماسك القومي لها.

٥٠ العبارة غير صادقة :

حيث تدرس جغرافية الانتخابات أثر الانتخابات على تغيير الظروف البشرية في منطقة ما.

### نموذج 5

- |      |      |      |      |      |
|------|------|------|------|------|
| ١ ج  | ٢ ج  | ٣ ب  | ٤ ب  | ٥ د  |
| ٦ ا  | ٧ ا  | ٨ د  | ٩ ب  | ١٠ د |
| ١١ ج | ١٢ ب | ١٣ ا | ١٤ ج | ١٥ ب |
| ١٦ ج | ١٧ ا | ١٨ ج | ١٩ ب | ٢٠ د |
| ٢١ د | ٢٢ ج | ٢٣ د | ٢٤ ا | ٢٥ د |
| ٢٦ ب | ٢٧ ب | ٢٨ ج | ٢٩ ج | ٣٠ ب |
| ٣١ ج | ٣٢ ج | ٣٣ ا | ٣٤ د | ٣٥ ا |
| ٣٦ ا | ٣٧ ا | ٣٨ ج | ٣٩ ج | ٤٠ ا |
| ٤١ ج | ٤٢ ب | ٤٣ ا | ٤٤ ب | ٤٥ ج |
|      | ٤٦ ب |      |      |      |

٤٧ المرحلة الثالثة (التعيين) حيث يتم تعيين خط الحد على الطبيعة لبدأ دوره في تحقيق الحماية والأمن.

٤٨ حيث عانت تونس (المنظمة إلى اتحاد المغرب العربي والكميسا) من مشكلة عند تحديد الرصيف البحري مع دولة ليبيا المجاورة لها بعد ظهور حقول البترول والغاز الطبيعي في مياه هذا الرصيف كما ظهرت مشكلات خاصة بتقسيم المياه مع دولة إيطاليا المقابلة لها عند مضيق صقلية.

٤٩ العبارة صحيحة :

حيث قلت عدد دول غرب أوروبا بعد اتحاد ألمانيا الشرقية والغربية في دولة واحدة، بينما زاد عدد دول شرق أوروبا بعد تفكك الاتحاد السوفيتي واتحاد يوغسلافيا.

٥٠ الإجابة (أ) :

لأن وجود الغابات على أطراف الدولة يمنحها فوائد حربية كما أن وجود السهول في الداخل يساهم في تنوع الإنتاج الزراعي وتطور العمران والأنشطة الصناعية وجميعها أمور تؤثر إيجابياً على قوة الدولة.

٤٧ تم طرح فكرة نظام عالمي جديد خلال الحرب العالمية الأولى على يد الرئيس الأمريكي ويلسون ووضع أربعة عشر مبدأ للنظام العالمي الجديد.

٤٨ حيث لعب البترول (أحد مصادر الطاقة الحضرية) دوراً في مسار الحروب فاندفعت الجيوش الألمانية نحو القوقاز أملاً في الحصول عليه، كما أن الدول العربية استخدمته أثناء حرب أكتوبر ١٩٧٣ م كسلاح لتحقيق أهداف سياسية (عامل حسم).

٤٩ يترك للطالب حرية الإجابة في ضوء :

لن يتم قبولها كعضو في الاتحاد الأوروبي، وذلك بسبب مخالفتها لأحد شروط كونها جن السياسية وهي احترام حقوق الأقليات حيث منعت الأقلية النمساوية من استخدام لغتها وإلزامها باستخدام اللغة الإيطالية في جميع مجالات الحياة.

٥٠ العبارة صادقة :

حيث إنها مركز للحكم والإدارة وتضم حشدًا للقوى السياسية وتتركز بها في الغالب معظم سفارات الدول الأجنبية.

### نموذج 4

- |      |      |      |      |      |
|------|------|------|------|------|
| ١ د  | ٢ ج  | ٣ ج  | ٤ ا  | ٥ ج  |
| ٦ د  | ٧ ا  | ٨ ب  | ٩ ج  | ١٠ ا |
| ١١ د | ١٢ ج | ١٣ ب | ١٤ ج | ١٥ ا |
| ١٦ ج | ١٧ ا | ١٨ ج | ١٩ ب | ٢٠ د |
| ٢١ ج | ٢٢ ج | ٢٣ د | ٢٤ ا | ٢٥ د |
| ٢٦ ا | ٢٧ ب | ٢٨ ج | ٢٩ ب | ٣٠ ج |
| ٣١ د | ٣٢ ج | ٣٣ ا | ٣٤ د | ٣٥ ج |
| ٣٦ ب | ٣٧ ج | ٣٨ ج | ٣٩ ا | ٤٠ ا |
| ٤١ ج | ٤٢ ب | ٤٣ ج | ٤٤ ج | ٤٥ ج |
|      | ٤٦ ا |      |      |      |

٤٧ حيث تستطيع الدولة كبيرة المساحة أن تتبنى نظرية الدفاع بالعمق (جانب إيجاني) ولكنها تحتاج إلى جهود وإمكانات كبيرة من أجل حمايتها والسيطرة على أجزائها المترامية الأطراف (جانب سلبى).

٤٨ حيث نتج عن فشل محاولات جورباتشوف (إعادة البناء الاقتصادي) تفكك الاتحاد السوفيتي وانهار حلف وارسو فسارعت الدول التي استقلت عنه للانضمام إلى الاتحاد الأوروبي لذلك وضع الاتحاد شروط إضافية للانضمام إليه تمثلت في شروط كونها جن بسبب الفرق الشاسع في المستوى الاقتصادي والسياسي بين دول أوروبا.