

الوحدة الأولى تدريبات الدرس الأول

(1) أكمل العبارات التالية بما يناسبها من بنك الكلمات:

(الزيادة الطبيعية - مصر - العشوائيات - وعورة السطح - الطبيعية - الهجرة - داخلية - الكثافة السكانية - التقدم الطبي)

- 1- أحد العوامل الطبيعية التي أدت إلى عدم تركيز السكان في محافظات الحدود الصحراوية هو **وعورة السطح**
- 2- الفرق بين أعداد المواليد وأعداد الوفيات يسمى **الزيادة الطبيعية**
- 3- ثالث الدول الإفريقية من حيث عدد السكان هي **مصر**.
- 4- يزيد عدد السكان بسبب الزيادة الطبيعية و **الهجرة**
- 5- تسببت هجرة سكان الريف إلى القاهرة في ظهور **العشوائيات**
- 6- انتقال أسرتك من القاهرة للاستقرار في الإسكندرية يعد هجرة **داخلية**
- 7- انخفض عدد الوفيات في مصر بسبب **التقدم الطبي**
- 8- النسبة بين عدد سكان مصر، ومساحتها يسمى **الكثافة السكانية**

(2) اكتب كلمة (صواب) أمام العبارة الصحيحة، وكلمة (خطأ) أمام العبارة غير الصحيحة:

- 1- تنقسم الهجرة إلى هجرة داخلية وهجرة خارجية. (صواب)
- 2- يزداد السكان بشكل طبيعي في حالة زيادة عدد المواليد عن عدد الوفيات. (صواب)
- 3- تعد محافظة القاهرة من المحافظات الطاردة للسكان. (خطأ)
- 4- يتركز معظم سكان مصر في محافظات الحدود الصحراوية. (خطأ)
- 5- تحتل مصر المركز الرابع عشر إفريقيا من حيث عدد السكان. (خطأ)
- 6- الهجرة من مصر إلى ألمانيا تسمى هجرة خارجية. (صواب)
- 7- تظهر العشوائيات نتيجة الهجرة الخارجية. (خطأ)
- 8- تحتل مصر المرتبة الثالثة إفريقيا من حيث عدد السكان. (صواب)
- 9- تضاعف عدد سكان مصر 14 مرة في الفترة بين تعدادي 1882م و 2017م. (صواب)
- 10- انخفض عدد المواليد في مصر بسبب تنظيم الأسرة. (صواب)
- 11- يهاجر بعض الأفراد للبحث عن فرص عمل أفضل. (صواب)
- 12- توافر الخدمات والمواصلات من أسباب زيادة السكان في محافظات الوادي والدلتا. (صواب)
- 13- توافر المياه العذبة أحد أسباب تركيز السكان في محافظات الحدود الصحراوية. (خطأ)
- 14- تعد خصوبة التربة من العوامل البشرية التي تؤثر في توزيع السكان. (خطأ)
- 15- يتساوى توزيع السكان على أرض مصر. (خطأ)

(3) اختر الإجابة الصحيحة مما بين القوسين:

- 1- أحد العوامل الطبيعية التي أدت لزيادة تركيز السكان في الوادي والدلتا.....
(توافر الخدمات - خصوبة التربة - سهولة المواصلات - وعورة السطح)
- 2- إحدى المحافظات الجاذبة للسكان..... (البحر الأحمر - مطروح - الإسكندرية - الوادي الجديد)

- 3- انخفاض عدد المواليد في مصر نتيجة.....
(تنظيم الأسرة - التقدم الطبي - الزواج المبكر - الرعاية الصحية)
- 4- انخفاض عدد الوفيات في مصر نتيجة.....
(زيادة الإنجاب - التقدم الطبي - الزواج المبكر - انتشار الأمراض)
- 5- النسبة بين عدد السكان ومساحة الأرض التي يعيشون عليها تعرف ب.....
(النمو السكاني - الكثافة السكانية - الزيادة السكانية - الندرة السكانية)
- 6- إحدى المحافظات التي تتوافر بها الخدمات وتجذب السكان.....
(الوادي الجديد - جنوب سيناء - المنيا - القاهرة)
- 7- تغير أعداد السكان بسبب الزيادة الطبيعية والهجرة تسمى.....
(التعداد السكاني - الكثافة السكانية - النمو السكاني - الندرة السكانية)
- 8- أحد العوامل البشرية التي أدت لندرة السكان في محافظات الحدود الصحراوية.....
(نقص الخدمات - سهولة المواصلات - وفرة الخدمات - إنشاء الطرق)

(4) صوب ما تحته خط:

- 1- الدولة التي تحتل المرتبة الثالثة إفريقيا من حيث عدد السكان هي أثيوبيا.
- 2- الفرق بين عدد المواليد وعدد الوفيات في فترة معينة يقصد به الكثافة السكانية.
- 3- الحد من ظاهرة الزواج المبكر ساعد على انخفاض عدد الوفيات.
- 4- أدى التقدم الطبي والرعاية الصحية إلى انخفاض عدد المواليد.
- 5- انتقال الفرد من دولة لدولة أخرى يسمى هجرة داخلية.
- 6- يتركز معظم سكان مصر في محافظات الحدود الصحراوية.

مصر
الزيادة الطبيعية
المواليد
الوفيات
خارجية
الوادي والدلتا

(5) فسر ما يلي:

- 1- انخفاض عدد الوفيات في مصر.
بسبب التقدم الطبي والرعاية الصحية.
- 2- انخفاض عدد المواليد في مصر.
بسبب ارتفاع الوعي لدى الشباب بضرورة تنظيم الأسرة - الحد من ظاهرة الزواج المبكر.
- 3- تركز السكان بمحافظات الوادي والدلتا.
بسبب توافر المياه العذبة والتربة الخصبة وإستواء السطح وتوافر الخدمات وسهولة المواصلات.
- 4- هجرة السكان من مكان إلى آخر.
للبحث عن فرص عمل أفضل - للبحث عن فرص للتعليم - لتحسين مستوى المعيشة.
- 5- ندرة السكان في محافظات الحدود الصحراوية.
بسبب ندرة المياه العذبة وعدم استواء السطح ونقص الخدمات وصعوبة الانتقالات.

(6) اكتب نتيجة واحدة ترتبت على ما يلي:

- 1- هجرة السكان من مكان لآخر.
تؤدي هجرة السكان إلى:
- زيادة الكثافة السكانية في المناطق المستقبلية للسكان.
- زيادة الضغط على الخدمات العامة.
- ظهور العشوائيات.

- 2- الفرق بين عدد المواليد وعدد الوفيات في مصر، يؤدي إلى زيادة الطبيعية للسكان وهي أحد أسباب النمو السكاني.
- 3- توافر المياه العذبة والتربة الخصبة في بعض محافظات مصر، يؤدي إلى تركيز السكان في هذه المحافظات.

(7) اكتب دليلًا واحدًا لكل عبارة:

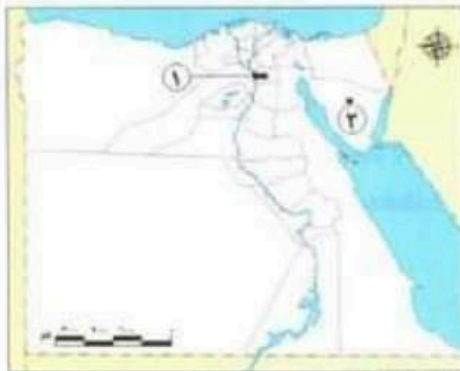
- 1- مصر من أكبر دول العالم سكانًا.
- تحتل مصر المرتبة الثالثة إفريقياً والرابعة عشر عالميًا من حيث عدد السكان.
- 2- للهجرة الداخلية في مصر نتائج سلبية. أجب بنفسك

(8) ما العلاقة بين كل من؟

- 1- النمو السكاني والزيادة الطبيعية.
 - 2- الرعاية الطبية وعدد الوفيات.
 - 3- عدد المواليد وتنظيم الأسرة
- انخفض عدد المواليد في مصر بسبب ارتفاع وعي الشباب بضرورة تنظيم الأسرة.
- يحدث النمو السكاني بسبب الزيادة الطبيعية للسكان.
- انخفض عدد الوفيات في مصر بسبب تحسن الرعاية الطبية.

(9) قارن بين:

- 1- الزيادة الطبيعية – الهجرة من حيث التعريف.
- الزيادة الطبيعية: الفرق بين أعداد المواليد وأعداد الوفيات في فترة معينة.
- الهجرة: انتقال الأفراد من مكان لآخر.
- 2- أسباب انخفاض عدد كل من: المواليد والوفيات.
- أسباب انخفاض عدد المواليد: ارتفاع الوعي بتنظيم الأسرة، والحد من الزواج المبكر.
- أسباب انخفاض عدد الوفيات: التقدم الطبي والرعاية الصحية.
- 3- العوامل الطبيعية المؤثرة في توزيع سكان كل من: محافظات الوادي والدلتا – محافظات الحدود الصحراوية.
- أجب بنفسك.
- 4- الهجرة الداخلية – الهجرة الخارجية.
- الهجرة الداخلية: الانتقال بين المحافظات المختلفة.
- الهجرة الخارجية: الانتقال بين مصر ودول العالم.



(10) لاحظ الخريطة، ثم أجب:

- 1- مدينة يتركز بها السكان هي القاهرة
- 2- محافظة يقل بها تركيز السكان هي جنوب سيناء
- 3- وضح: سبب تركيز السكان في المنطقة رقم (1).
- بسبب وفرة المياه العذبة واستواء السطح – ووفرة الخدمات وسهولة المواصلات.
- 4- حدد: اثنين من العوامل التي أدت إلى ندرة السكان في المنطقة رقم (2) وعورة السطح – نقص الخدمات

- 2- الفرق بين عدد المواليد وعدد الوفيات في مصر، يؤدي إلى زيادة الطبيعية للسكان وهي أحد أسباب النمو السكاني.
- 3- توافر المياه العذبة والتربة الخصبة في بعض محافظات مصر، يؤدي إلى تركيز السكان في هذه المحافظات.

(7) اكتب دليلًا واحدًا لكل عبارة:

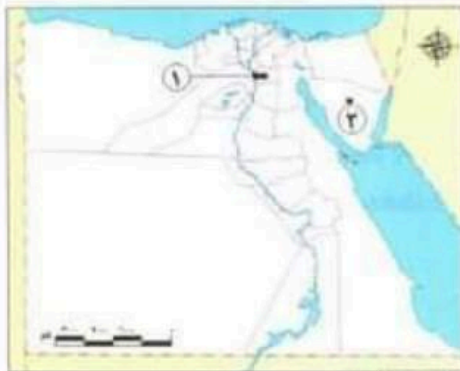
- 1- مصر من أكبر دول العالم سكانًا.
- تحتل مصر المرتبة الثالثة إفريقياً والرابعة عشر عالميًا من حيث عدد السكان.
- 2- للهجرة الداخلية في مصر نتائج سلبية. أجب بنفسك

(8) ما العلاقة بين كل من؟

- 1- النمو السكاني والزيادة الطبيعية.
 - 2- الرعاية الطبية وعدد الوفيات.
 - 3- عدد المواليد وتنظيم الأسرة
- انخفض عدد المواليد في مصر بسبب ارتفاع وعي الشباب بضرورة تنظيم الأسرة.
- يحدث النمو السكاني بسبب الزيادة الطبيعية للسكان.
- انخفض عدد الوفيات في مصر بسبب تحسين الرعاية الطبية.

(9) قارن بين:

- 1- الزيادة الطبيعية – الهجرة من حيث التعريف.
- الزيادة الطبيعية: الفرق بين أعداد المواليد وأعداد الوفيات في فترة معينة.
- الهجرة: انتقال الأفراد من مكان لآخر.
- 2- أسباب انخفاض عدد كل من: المواليد والوفيات.
- أسباب انخفاض عدد المواليد: ارتفاع الوعي بتنظيم الأسرة، والحد من الزواج المبكر.
- أسباب انخفاض عدد الوفيات: التقدم الطبي والرعاية الصحية.
- 3- العوامل الطبيعية المؤثرة في توزيع سكان كل من: محافظات الوادي والدلتا – محافظات الحدود الصحراوية.
- أجب بنفسك.
- 4- الهجرة الداخلية – الهجرة الخارجية.
- الهجرة الداخلية: الانتقال بين المحافظات المختلفة.
- الهجرة الخارجية: الانتقال بين مصر ودول العالم.



(10) لاحظ الخريطة، ثم أجب:

- 1- مدينة يتركز بها السكان هي القاهرة
- 2- محافظة يقل بها تركيز السكان هي جنوب سيناء
- 3- وضح: سبب تركيز السكان في المنطقة رقم (1).
- بسبب وفرة المياه العذبة واستواء السطح – ووفرة الخدمات وسهولة المواصلات.
- 4- حدد: اثنين من العوامل التي أدت إلى ندرة السكان في المنطقة رقم (2) وعورة السطح – نقص الخدمات

تدريبات الدرس الثاني

(1) أكمل العبارات التالية بما يناسبها من بنك الكلمات:

- (العمرى - الذكور - الإناث - الوردى - العريضة - النوعى - كبار السن - الأشخاص فى سن العمل)
- 1- تصنيف السكان إلى ذكور وإناث يعرف باسم التركيب النوعى
 - 2- تصنيف السكان إلى أطفال وكبار سن يسمى التركيب العمرى
 - 3- تتمثل إحصاءات الإناث فى الهرم السكانى باللون الوردى
 - 4- الفئة المنتجة فى مصر هى فئة الأشخاص فى سن العمل
 - 5- تتمثل قمة الهرم السكانى المصرى فى فئة كبار السن
 - 6- الهرم السكانى المصرى يتسم بالقاعدة العريضة
 - 7- يمثل اللون الأزرق فى الهرم السكانى المصرى إحصاءات الذكور

(2) اكتب كلمة (صواب) أمام العبارة الصحيحة، وكلمة (خطأ) أمام العبارة غير الصحيحة:

- 1- الهرم السكانى عبارة عن رسم بيانى يوضح توزيع السكان من حيث النوع والعمر. (صواب)
- 2- نسبة الذكور فى مصر أكبر من نسبة الإناث. (صواب)
- 3- التركيب العمرى عبارة عن تصنيف السكان حسب الفئة العمرية. (صواب)
- 4- يتسم الهرم السكانى بالقاعدة العريضة إذا زاد عدد المواليد. (صواب)
- 5- تلون إحصاءات الإناث فى الهرم السكانى باللون الأزرق. (خطأ)
- 6- تضم الفئات العاملة كلاً من الأطفال وكبار السن. (خطأ)
- 7- يتسم الهرم السكانى لمصر بالقاعدة العريضة. (صواب)
- 8- يساعد الهرم السكانى فى تحديد احتياجات الدولة من تعليم وصحة ومرافق وفرص عمل. (صواب)
- 9- يعد صغار السن أقل نسبة للفئات العمرية فى الهرم السكانى المصرى. (خطأ)
- 10- تعد فئة كبار السن من الفئات المعالة. (صواب)
- 11- يتسم الهرم السكانى بالقاعدة الضيقة إذا انخفض عدد المواليد. (صواب)
- 12- يشير اللون الوردى فى الهرم السكانى إلى إحصاءات الذكور. (خطأ)
- 13- توجد فئة كبار السن أسفل الهرم السكانى المصرى. (خطأ)

(3) اختر الإجابة الصحيحة مما بين القوسين:

- 1- تصنيف السكان إلى أطفال وكبار وشباب يسمى التركيب (النوعى - العمرى - الاقتصادى - اللغوى)
- 2- يظهر الهرم السكانى الذى يتسم بالقاعدة العريضة زيادة أعداد (النوعى - العمرى - الاقتصادى - اللغوى)

(صغار السن - الوفيات - الشباب - كبار السن)

3- كلما انخفض عدد المواليد يتسم الهرم السكاني بالقاعدة

(العريضة - الضيقة - المدببة - الواسعة)

(الوردي - الأزرق - الأخضر - الأصفر)

4- تظهر إحصاءات الذكور على الهرم السكاني باللون

(الضيقة - المدببة - العريضة - الصغيرة)

5- يتسم الهرم السكاني لمصر بالقاعدة

6- تصنيف السكان إلى ذكور وإناث يعرف باسم التركيب

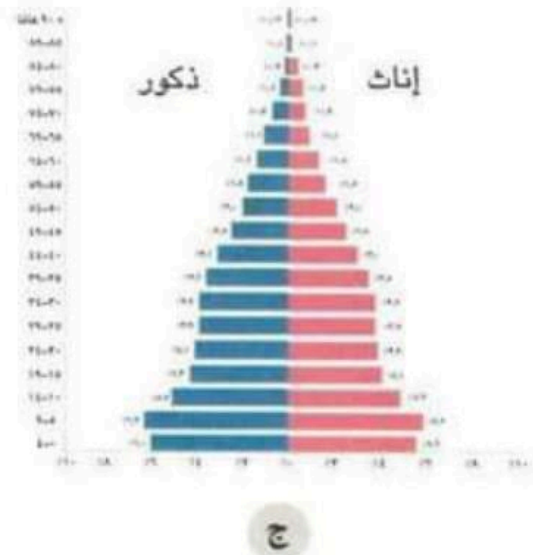

(النوعي - الاقتصادي - اللغوي - العمري)

7- أهم الفئات العمرية لزيادة الإنتاج والعمل

8- تتمثل الفئة العمرية (صفر - 14 سنة) داخل الهرم السكاني المصري في

(قاعدته - وسطه - أطرافه - قمته)

9- الشكل الذي يعبر عن الهرم السكاني لمصر عام 2022م هو (ج)



(4) صوب ما تحته خط:

الهرم السكاني
النوعي
العريضة
سن العمل
الضيقة

1- الرسم البياني الذي يوضح عمر ونوع السكان يسمى رسمًا بيانيًا خطيًا.

2- تصنيف السكان إلى ذكور وإناث يعرف باسم التركيب العمري.

3- الهرم السكاني لمصر يتسم بالقاعدة الضيقة.

4- السكان في عمر (15-64 سنة) يمثلون فئة كبار السن.

5- إذا انخفض عدد المواليد فيتسم الهرم السكاني بالقاعدة العريضة.

(5) فسر ما يلي:

- 1- أهمية الهرم السكاني.

تساعد بيانات الهرم السكاني على تقدير الاحتياجات المختلفة لكل فئة عمرية في الحاضر والمستقبل من تعليم، صحة، مرافق أو خدمات، فرص عمل.
- 2- اختلاف شكل قاعدة الهرم السكاني من دولة لأخرى.

يختلف حسب نمو السكان فهناك:

 - هرم يتسم بالقاعدة العريضة بسبب زيادة عدد المواليد.
 - هرم يتسم بالقاعدة الضيقة بسبب انخفاض عدد المواليد.
- 3- يتوقع زيادة نسبة كبار السن في مصر مستقبلاً.

بسبب تحسن الرعاية الصحية والاجتماعية.
- 4- الهرم السكاني لمصر يتسم بالقاعدة العريضة.

بسبب زيادة عدد المواليد.
- 5- أهمية الفئة العمرية (15-64 سنة) في مصر.

لأنها فئة منتجة وتعمل صغار السن وكبار السن.

(6) أجب عما يلي:

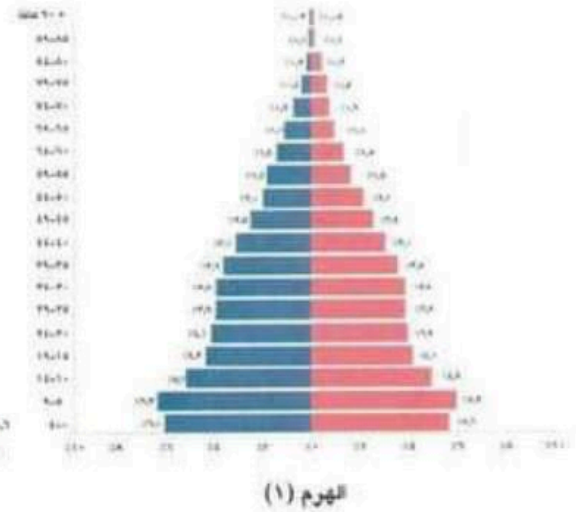
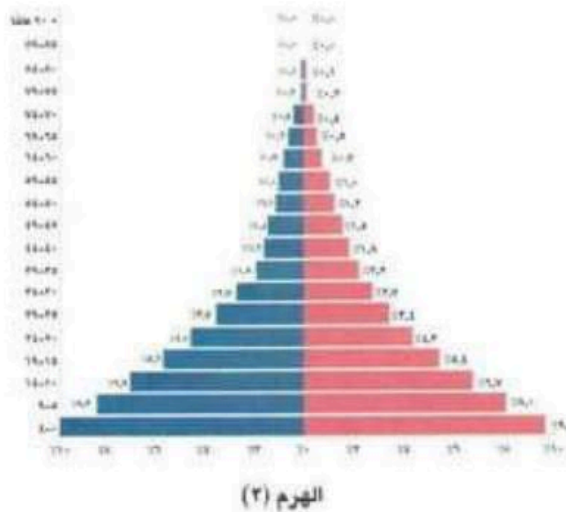
(أ) اكتب نتيجة واحدة ترتبت على ما يلي:

- ارتفاع نسبة صغار السن في مصر.

تؤدي لزيادة الضغط على الفئات المنتجة.

(ب) قارن بين:

- 1- فئة صغار السن وفئة كبار السن في مصر.
- 2- التركيب العمري والتركيب النوعي.
- 3- الأهرامات السكانية التالية من حيث أوجه التشابه والاختلاف.



3- أوجه التشابه : كلاهما هرم سكاني ذو القاعدة العريضة، ويزداد بهما نسبة صغار السن،
أوجه الاختلاف:

- الهرم (1) : يزيد به نسبة كبار السن، والأشخاص في سن العمل.
- الهرم (2) : يقل به نسبة كبار السن والأشخاص في سن العمل.

تدريبات الدرس الثالث

(1) أكمل العبارات التالية بما يناسبها من بنك الكلمات:

- (مشروعات التنمية - الموارد المتاحة - وفيات الأطفال الرضع - الزواج المبكر - تنظيم الأسرة - زيادة الموارد)
- 1- تظهر مشكلة الزيادة السكانية عندما يتجاوز عدد السكان الموارد المتاحة
- 2- أحد أهم أسباب مشكلة الزيادة السكانية الزواج المبكر
- 3- تؤدي مشكلة الزيادة السكانية إلى إعاقة مشروعات التنمية
- 4- يواجه المواطنون مشكلة الزيادة السكانية عن طريق تنظيم الأسرة
- 5- أدي تحسين الرعاية الصحية إلى تراجع وفيات الأطفال الرضع

(2) اكتب كلمة (صواب) أمام العبارة الصحيحة، وكلمة (خطأ) أمام العبارة غير الصحيحة:

1- تظهر مشكلة الزيادة السكانية نتيجة تجاوز عدد السكان للموارد والخدمات المتاحة.

(صواب)

2- إنجاب العديد من الأطفال يؤدي إلى النمو السكاني.

(صواب)

3- يؤدي الزواج المبكر إلى ظهور مشكلة الزيادة السكانية.

(صواب)

4- مشكلة الزيادة السكانية تؤدي لتنمية الدولة.

(خطأ)

5- تفضيل الذكور على الإناث يدفع بعض الأسر إلى الاستمرار في الإنجاب.

(صواب)

6- تؤدي الزيادة السكانية على زيادة نصيب الفرد من الموارد.

(خطأ)

7- تؤثر الزيادة السكانية إيجاباً على الموارد والبيئة.

(خطأ)

8- يزداد إنجاب الأطفال في الحضر عن الريف.

(خطأ)

9- تواجه الدولة مشكلة الزيادة السكانية بتوفير وسائل تنظيم الأسرة.

(صواب)

10- إذا قمت باستهلاك الموارد فإنك تساعد في مواجهة مشكلة الزيادة السكانية.

(خطأ)

11- أصدرت الدولة العديد من القوانين للحد من الزواج المبكر.

(صواب)

12- تؤدي مشكلة الزيادة السكانية إلى ضرورة قيام الدولة بتوفير المزيد من فرص العمل.

(صواب)

13- يزداد متوسط عمر الفرد بسبب تحسين الرعاية الصحية.

(صواب)

14- تؤدي مشكلة الزيادة السكانية إلى تقليل الأعباء على الدولة المصرية.

(خطأ)

(3) اختر الإجابة الصحيحة مما بين القوسين:

- 1- تجاوز عدد السكان للموارد المتاحة يسمى
- (كثافة سكانية - مشكلة الزيادة السكانية - زيادة الهجرة الداخلية - هجرة خارجية)
- 2- إحدى طرق حل مشكلة الزيادة السكانية
- (تنظيم الأسرة - الزواج المبكر - تفضيل الذكور على الإناث - إيقاف مشروعات التنمية)
- 3- أحد أسباب مشكلة الزيادة السكانية
- (تناقص نصيب الفرد من الموارد - ضرورة توفير فرص عمل - إعاقة مشروعات التنمية - تفضيل الذكور على الإناث)
- 4- يؤدي تحسن الرعاية الصحية إلى
- (تقلص فئة صغار السن - ارتفاع عدد الوفيات - تناقص متوسط عمر الفرد - انخفاض عدد وفيات الرضع)
- 5- تقوم الدولة المصرية بجهود لمواجهة مشكلة الزيادة السكانية منها
- (زيادة استهلاك الموارد المتاحة - إعاقة مشروعات التنمية - التوسع في مشروعات التنمية - ترشيد استهلاك الموارد).

(4) صوب ما تحته خط:

- 1- يزداد إنجاب الأطفال خاصة في الحضر. **الريف**
- 2- تناقص نصيب الفرد من الخدمات والموارد سببه أن النمو السكاني منخفض. **مرتفع**

(5) فسر ما يلي:

- 1- تراجع وفيات الأطفال الرضع وزيادة متوسط عمر الفرد.
بسبب تحسن الرعاية الصحية.
- 2- مشكلة الزيادة السكانية تزيد الأعباء على الدولة المصرية.
بسبب زيادة الطلب على فرص العمل والضغط على الخدمات.
- 3- تؤدي مشكلة الزيادة السكانية إلى زيادة التلوث.
لأنه كلما زاد عدد السكان أدى إلى زيادة النفايات وزيادة تلوث البيئة.
- 4- تؤثر مشكلة الزيادة السكانية على نصيب الفرد من المياه.
لأن الزيادة السكانية تؤدي إلى زيادة استهلاك الموارد كالمياه ونقص نصيب الفرد منها.
- 5- التوسع في بناء المدن الجديدة واستصلاح الأراضي.
لإعادة توزيع السكان وتقليل الكثافة السكانية في الوادي والدلتا.

(6) ما النتائج المترتبة على:

- 1- كثرة إنجاب الأطفال خاصة في الريف.
أدى إلى زيادة النمو السكاني في مصر وظهور مشكلة الزيادة السكانية.
- 2- تفضيل الذكور على الإناث.
أدى إلى استمرار بعض الأسر في الإنجاب مما ساعد على ارتفاع النمو السكاني في مصر.
- 3- تحسن الرعاية الصحية.
أدى إلى تراجع معدل وفيات الأطفال الرضع - وزيادة متوسط عمر الفرد.
- 4- مشكلة الزيادة السكانية.

أدى إلى إعاقة مشروعات التنمية - زيادة النفايات وتلوث البيئة - زيادة الطلب على فرص عمل - زيادة استهلاك الموارد والضغط على الخدمات.

(7) ما العلاقة بين الزيادة السكانية فى مصر وكل من؟ :

- 1- فرص العمل. تؤدي الزيادة السكانية إلى زيادة الطلب على فرص العمل.
- 2- تلوث البيئة. أجب بنفسك
- 3- ندرة الموارد. تؤدي الزيادة السكانية إلى زيادة استهلاك الموارد مما يؤدي إلى ندرتها.

(8) قارن بين: دور الدولة ودور المواطنين فى مواجهة مشكلة الزيادة السكانية.

أجب بنفسك

دور المواطنين	دور الدولة

(9) حدد المختلف فى العبارات التالية مع ذكر السبب:

- 1- (أ) الزواج المبكر
(ب) إعاقة مشروعات التنمية
(ج) كثرة إنجاب الأطفال
(د) تفضيل الذكور على الإناث
- إعاقة مشروعات التنمية: تعد من نتائج مشكلة الزيادة السكانية بينما العبارات الأخرى تعبر عن أسباب مشكلة الزيادة السكانية.
- 2- (أ) بناء المدن الجديدة
(ب) التوسع فى مشروعات التنمية.
(ج) توفير وسائل تنظيم الأسرة
(د) ترشيد استهلاك الموارد
- ترشيد استهلاك الموارد: يعد أحد أدوار الفرد لمواجهة مشكلة الزيادة السكانية بينما العبارات الأخرى تعبر عن دور الدولة فى مواجهة مشكلة الزيادة السكانية.

(10) اقترح حلولاً لمشكلة الزيادة السكانية. أجب بنفسك

(11) لاحظ الصورة ثم أجب: أجب بنفسك

- 1- تعبر الصورة عن أحد حلول مشكلة الزيادة السكانية وهي
- 2- ما رأيك فى هذا الحل؟
- 3- هل تنصح السكان بالإلتزام به؟
- 4- ماذا يحدث إذا لم يهتم السكان بالإلتزام به؟



تدريبات الدرس الرابع

(1) أكمل العبارات التالية بما يناسبها من بنك الكلمات:

(شم النسيم - الكتان - الملك وأسرته - العزف - السنة - الشيوخ - الحرير)

- 1- تكونت الطبقة العليا في المجتمع المصري من الملك وأسرته
- 2- أصبحت المرأة تشارك حاليًا في مجلسي النواب والشيوخ
- 3- أحد الأعياد التي كان يحتفل بها المصريون القدماء هو عيد شم النسيم
- 4- أحد ألعاب التفكير عند المصريين القدماء هي لعبة السنة
- 5- صنعت ملابس عامة الشعب في مصر القديمة من الكتان
- 6- تدل الصورة المقابلة على اهتمام المصريين القدماء بـ العزف

(2) اكتب كلمة (صواب) أمام العبارة الصحيحة، وكلمة (خطأ) أمام العبارة غير الصحيحة:

- 1- احتفل المصريون القدماء بعيد الفيضان والحصاد. (صواب)
- 2- صنعت ملابس الملك قديمًا من الحرير والكتان على الجودة. (صواب)
- 3- تشابهت ملابس الملوك مع ملابس عامة الشعب في مصر القديمة. (خطأ)
- 4- تعد العطور من أدوات الزينة عند المصريين القدماء. (صواب)
- 5- اهتم المصريون القدماء بتربية أبنائهم على قيم احترام الآخر وإتقان العمل. (صواب)
- 6- مارس المصريون القدماء رياضة كرة القدم. (خطأ)
- 7- احتفل المصريون القدماء بأعياد خاصة بالملك. (صواب)
- 8- ظهرت رياضة التحطيب في مصر حديثًا. (خطأ)
- 9- اهتم المصريون القدماء بالعزف والغناء. (صواب)
- 10- تكونت الطبقة الثانية في المجتمع المصري القديم من صغار الموظفين. (خطأ)
- 11- يعد أصحاب الحرف الصغيرة من أعلى الطبقات في مصر القديمة. (خطأ)
- 12- اقتصر اهتمام الأبناء في الأسرة المصرية القديمة على اللعب واللهو. (خطأ)
- 13- تولت المرأة حكم البلاد في مصر قديمًا. (صواب)
- 14- اهتم المصريون القدماء بأدوات الزينة فارتدوا الشعر المستعار. (صواب)
- 15- يتشابه دور الأب في مصر القديمة مع دور الأب حاليًا. (صواب)
- 16- للمرأة المصرية دور سلبي في المشاركة بالحياة السياسية قديمًا وحديثًا. (خطأ)
- 17- اهتم المصريون القدماء بارتداء الأساور والقلائد. (صواب)

(3) اختر الإجابة الصحيحة مما بين القوسين:

- 1- صنعت ملابس الملك والأغنياء قديمًا من (القطن - الجلد - الصوف - الحرير)
- 2- تكونت قاعدة هرم طبقات المجتمع المصري القديم من (الفلاحين والرعاة - الملك وأسرته - صغار الموظفين - كبار الكهنة)
- 3- صنعت ملابس عامة الشعب عند المصريين القدماء من (الحرير - الكتان - القطن - الصوف)
- 4- أحد الألعاب الرياضية التي مارسها المصري القديم (السنت - الجمباز - المصارعة - الباليه)
- 5- ارتبطت بعض أعياد المصري القديم بالزراعة منها عيد... (شم النسيم - الفطر - ميلاد الملك - الحصاد)
- 6- أحد أفراد الأسرة ومن مهامه الإشراف على أعمال المنزل (الأب - الأبن - الأبنة - الأم)
- 7- تدل الصورة المقابلة على اهتمام المصريين ب (الرياضة - العزف - الاحتفالات - الزينة)
- 8- المسئول عن رعاية أفراد الأسرة وتوفير الحاجات الأساسية (الأم - الأب - الابن - الأبنة)
- 9- يأتي على قمة هرم طبقات المجتمع المصري قديمًا (الوزير - الكاتب - الملك - الكاهن)

(4) صوب ما تحته خط:

- 1- صنعت ملابس عامة الشعب قديمًا من القطن.
- 2- صنعت ملابس الملك والأغنياء قديمًا من الكتان على الجودة والصوف.
- 3- الإشراف على الأعمال المتعلقة بالمنزل أحد أدوار الأب.
- 4- اهتم المصريون القدماء بألعاب التفكير مثل الصيد.

الكتان
الحرير
الأم
السنت

(5) فسر ما يلي:

- 1- استقرار وتقدم المجتمع المصري القديم.
- بسبب حرص المجتمع المصري على تطبيق العدالة بين أفراد الشعب والتمسك بالقيم الإنسانية والسلوكيات الحميدة.
- 2- أهمية دور الأب في الأسرة المصرية القديمة. أجب بنفسك
- 3- أهمية دور الأم في الأسرة المصرية القديمة. أجب بنفسك
- 4- اختلاف الملابس في مصر القديمة. أجب بنفسك

(6) اكتب نتيجة واحدة ترتبت على ما يلي:

- 1- احترام المصري القديم للحياة الأسرية. أجب بنفسك
- 2- تطبيق المجتمع المصري للعدالة بين أفراد المجتمع. ساعد على استقرار المجتمع المصري وتقدمه.

(7) قارن بين:

- 1- دور المرأة في المجتمع المصري قديمًا وحديثًا. أجب بنفسك
- 2- ألعاب التفكير والألعاب الرياضية عند المصريين القدماء. ألعاب التفكير: لعبة السنت والتي تشبه لعبة الشطرنج حاليًا. الألعاب الرياضية: السباحة - التحطيب - المصارعة.
- 3- ملابس عامة الشعب وملابس الملوك والأغنياء في مصر القدماء. أجب بنفسك

(8) دلل على صحة العبارات التالية:

- 1- تكون المجتمع المصري قديمًا من عدة طبقات.
- 2- اختلفت الملابس في مصر القديمة باختلاف طبقات المجتمع. **أجب بنفسك**
- 3- احتفل المصريون القدماء بالعديد من المناسبات والأعياد.
- احتفلوا بعيد ملاد الملك وتولية العرش- أعياد الفيضان والحصاد - عيد شم النسيم.

(9) أجب عما يلي:

- 1- ما العلاقة بين : طبقات المجتمع - الملابس عند المصريين القدماء. **أجب بنفسك**
- 2- حدد ثلاث من وسائل الترفيه عند المصريين القدماء.
- ألعاب التفكير - الغناء والعزف - الألعاب الرياضية
- 3- وضح مظاهر اهتمام المصريين القدماء بأدوات الزينة.
- اعتاد المصريون القدماء على استخدام الأساور والقلائد العطور، الشعر المستعار.
- 4- حدد الأسباب التي أدت لازدهار الحضارة المصرية القديمة في ضوء ما درست. **أجب بنفسك**

5- أكمل الشكل التالي:

- 1-الملك وأسرته.
- 2- التجار وكبار الحرفيين.



تدريبات الدرس الخامس

(1) أكمل العبارات التالية بما يناسبها من بنك الكلمات:

- (أخيتاتون - المقابر - آتون - أمنحتب الرابع - البعث - الخلود - أوزوريس - التحنيط - الحق والعدل)
- 1- اعتقد المصريون القدماء أن (ماعت) هي إلهة الحق والعدل
 - 2- الدعوة إلى توحيد الآلهة عند المصريين القدماء كانت في عهد الملك أمنحتب الرابع
 - 3- دعا الملك أمنحتب الرابع إلى عبادة الإله آتون
 - 4- شيد الملك أمنحتب الرابع مدينة آخيتاتون
 - 5- تكونت محكمة الموتى من 42 قاضيًا على رأسهم الإله أوزوريس
 - 6- اعتقد المصريون القدماء في البعث والخلود لذلك قاموا ببناء المقابر
 - 7- العودة إلى الحياة بعد الموت تسمى البعث
 - 8- حفظ جسد الإنسان بعد الموت يسمى التحنيط

(2) اكتب كلمة (صواب) أمام العبارة الصحيحة، وكلمة (خطأ) أمام العبارة غير الصحيحة:

- 1- عرف شعب مصر التدين والقيم الحميدة والسلام منذ القدم. (صواب)
- 2- كان يتم وزن القلب في مقابل الريشة بمحكمة الموتى برئاسة الإله آتون. (خطأ)
- 3- اتخذ المصريون القدماء معبوداتهم من الطبيعة. (صواب)
- 4- انتشرت عبادة الإله آتون في عصر الملك أمنمحات الثالث. (خطأ)
- 5- آمن المصري القديم بأنه سيحاسب على أفعاله بعد الموت. (صواب)
- 6- كان لكل أقاليم مصر معبود واحد. (خطأ)
- 7- المعبود الذي تولى رئاسة محكمة الموتى هي الإلهة ماعت. (خطأ)
- 8- اعتقد المصريون القدماء في الحياة الأبدية بعد الموت. (صواب)
- 9- حفظ المصريون القدماء جثث موتاهم عن طريق التحنيط. (صواب)
- 10- اتخذ الملك أمنحتب الرابع القمر رمزًا للإله آتون. (خطأ)
- 11- شيد الملك أمنحتب الرابع مدينة آخيتاتون عاصمة له. (صواب)
- 12- إحدى الخصائص الدينية للمصريين القدماء للاعتقاد في الحساب بعد الموت. (صواب)
- 13- تكونت محكمة الموتى من 42 قاضيًا يمثلون أقاليم مصر. (صواب)
- 14- عرف المصريون القدماء عبادة إله واحد في عهد الملك خوفو. (خطأ)
- 15- تعبر الصورة المقابلة عن اعتقاد المصريين القدماء في الحساب بعد الموت. (صواب)



(3) اختر الإجابة الصحيحة مما بين القوسين:

- 1- المدينة التي اتخذها الملك أمنحتب الرابع لعبادة الإله أتون هي (منف - أخيتاتون - نخب - طيبة)
- 2- تمثل إلهة الحق والعدل عند المصريين القدماء المعبودة..... (أيزيس - ماعت - أتون - آمون)
- 3- تشير الصورة إلى إحدى خصائص الحياة الدينية عند المصريين القدماء وهي (تعدد الآلهة - الحساب بعد الموت - السمو إلى التوحيد - البحث والخلود)
- 4- (العيش حياة أبدية بعد الموت) يشير هذا الاعتقاد عند المصريين القدماء إلى (البعث - الحساب - الخلود - التوحيد)
- 5- (العودة للحياة مرة أخرى بعد الموت) يشير هذا الاعتقاد عند المصريين القدماء إلى (البعث - الحساب - الخلود - التوحيد)
- 6- كان يتولى رئاسة محكمة الموتى عند المصريين القدماء الإله (ماعت - أتون - حورس - أوزوريس)
- 7- تنسب فكرة توحيد الآلهة عند المصريين القدماء إلى الملك (سقن رع - أمنحتب الرابع - سنوسرت الثالث - تحتمس الثالث)
- 8- يوضع قلب المتوفى في كفة ميزان العدالة وفي الكفة الأخرى توضع ريشة تمثل الإلهة..... (أوزوريس - رع - حورس - ماعت)
- 9- حفظ جسد الإنسان المتوفى بعد الموت يسمى (بعثًا - تحنيطًا - خلودًا - توحيدًا)
- 10- اخترع المصريون القدماء التحنيط عندما اعتقدوا في (تعدد الآلهة - البعث والخلود - الحساب بعد الموت - السمو إلى التوحيد)
- 11- تم الرمز إلى الإله أتون ب..... (البقرة - قرص الشمس - ثعبان الكوبرا - الصقر)

(4) صوب ما تحته خط:



- 1- رمز الملك أمنحتب الرابع للإله أتون بقرص القمر.
- 2- شيد الملك أمنحتب الرابع مدينة أخيتاتون لعبادة الإله آمون.
- 3- يقف المصري القديم عند موته في محكمة أمام 42 قاضيًا يترأسهم الإله رع.
- 4- يوضع قلب المتوفى على ميزان العدالة مقابل زهرة اللوتس.
- 5- تدل الصورة المقابلة على إحدى نتائج الاعتقاد في البعث والخلود وهي بناء المقابر.

التحنيط

(5) فسر ما يلي:

- 1- شيد الملك أمنحتب الرابع مدينة أخيتاتون.
- 2- لكي يتخذها عاصمة للبلاد ومركزًا لعبادة الإله أتون.
- 3- حرص المصريون القدماء على تحنيط جثث موتاهم.
- 4- لحفظ جثث الموتى بسبب اعتقادهم في البعث والخلود.
- 5- تمسك المصريون القدماء بالقيم والأخلاق النبيلة.
- 6- ليعم الحب والسلام كل شعوب العالم.
- 7- يبلغ عدد القضاة بمحكمة الموتى 42 قاضيًا.
- 8- بسبب انقسام البلاد قديمًا إلى 42 إقليمًا فكان لكل إقليم معبود خاص به.
- 9- تعدد الآلهة عند المصريين القدماء. أجب بنفسك

(6) ما النتائج المترتبة على؟:

- 1- اعتقاد المصريين القدماء في البعث والخلود. قاموا ببناء المقابر وحفظ جثث الموتى عن طريق التحنيط.
- 2- دعوة الملك أمنحتب الرابع لعبادة الإله أتون. **أجب بنفسك**
- 3- اعتقاد المصريين القدماء في الحساب بعد الموت. **أجب بنفسك**

(7) اكتب دليلاً واحداً لكل عبارة:

- 1- تعدد الخصائص الحياة الدينية عند المصريين القدماء. **الدليل هو: اعتقادهم في تعدد الآلهة، والبعث والخلود، والاعتقاد في الحساب بعد الموت، والسمو إلى التوحيد.**
- 2- إيمان المصريين القدماء بالبعث والخلود. **الدليل هو: بناؤهم للمقابر - حفظ جثث الموتى عن طريق التحنيط.**
- 3- كان لدعوة الملك أخناتون أثرها على الحياة الدينية للمصريين القدماء. **أجب بنفسك**
- 4- اعتقاد المصريين القدماء في الحساب بعد الموت. **أجب بنفسك**

(8) ما العلاقة بين كل من؟

- 1- الطبيعة - الحياة الدينية بمصر القديمة. **اتخذ المصريون القدماء معبوداتهم من الطبيعة مثل النسر.**
- 2- التحنيط - الحياة الدينية عند المصريين القدماء. **اعتقاد المصريين القدماء في البعث والخلود يعد إحدى الخصائص الدينية لديهم. والتي أدت إلى قيامهم بحفظ جثث موتاهم عن طريق التحنيط.**

الوحدة الثانية تدريبات الدرس الأول

(1) أكمل العبارات التالية بما يناسبها من بنك الكلمات:

(الدولة القديمة - الدولة الحديثة - الملك أحمس - الهكسوس - مجدو - تحتمس الثالث - معاهدة السلام - الحيثيين)

- 1- تم توحيد جيوش الأقاليم وتنظيمها وتسليحها في مصر في عصر **الدولة القديمة**
- 2- تعرضت مصر في عصر الضهف الثاني لغزو **الهكسوس**
- 3- بطل التحرير وطارد الهكسوس هو **الملك أحمس**
- 4- نجح الملك أحمس في تأسيس عصر **الدولة الحديثة**
- 5- خاض الملك تحتمس الثالث ست عشرة حملة عسكرية ومن أشهر معاركه معركة **مجدو**
- 6- خاص الملك رمسيس الثاني الكثير من المعارك ضد **الحيثيين**
- 7- الاتفاق الذي تم بين مصر وإسرائيل بعد حرب أكتوبر 1973 م يسمى **معاهدة السلام**

(2) اكتب كلمة (صواب) أمام العبارة الصحيحة، وكلمة (خطأ) أمام العبارة غير الصحيحة:

- 1- نجح الملك خفرع في صد هجمات بعض القبائل على أرض سيناء. **(خطأ)**
- 2- يعد الجيش المصري من أقدم الجيوش في العالم. **(صواب)**
- 3- زادت الصراعات وعمت الفوضى في نهاية عصر الدولة الوسطي قديماً. **(صواب)**
- 4- تعرضت مصر لغزو الهكسوس في عصر الضعف الأول. **(خطأ)**
- 5- نجح الملك تحتمس الثالث في طرد الهكسوس بتشجيع من أمة الملكة إياح حتب. **(خطأ)**
- 6- يعد الملك تحتمس الثالث من أفضل القادة العسكريين في مصر القديمة **(صواب)**
- 7- قاد الملك تحتمس الثالث ست عشرة حملة عسكرية لتأمين حدود مصر. **(صواب)**
- 8- استطاع الملك تحتمس الثالث الانتصار في معركة قادش. **(خطأ)**
- 9- إذا أردت زيارة متحف بانوراما حرب أكتوبر فعليك التوجه لمدينة الإسكندرية. **(خطأ)**
- 10- وقع الملك رمسيس الثاني مع الحيثيين أقدم معاهدة سلام في التاريخ. **(صواب)**
- 11- نجح الجيش المصري أثناء حرب أكتوبر 1973 م في عبور قناة السويس وتدمير خط بارليف. **(صواب)**
- 12- أدت معاهدات السلام إلى انخفاض مستوي معيشة الشعوب. **(خطأ)**
- 13- قتل والد أحمس وأخوه كامس في حربهما ضد الهكسوس. **(صواب)**
- 14- نجح الملك زوسر في حماية أرض سيناء في عصر الدولة الحديثة. **(خطأ)**

(3) اختر الإجابة الصحيحة مما بين القوسين:

- 1- الملك الذي قاد 16 حملة عسكرية لتأمين حدود مصر في عصر الدولة الحديثة
(مينا - **تحتمس الثالث** - زوسر - رمسيس الثاني)
- 2- الملك الذي نجح في توحيد جيوش أقاليم مصر القديمة هو
(**زوسر** - خوفو - سنفرو - منكاورع)
- 3- كان للملكة إياح حتب دور في تحرير مصر من خطر.....
(الحيثيين - **الهكسوس** - الروم - الفينيقيين)
- 4- انتصر الجيش المصري في معركة مجدو على أمراء
(أوروبا - أمريكا الشمالية - **آسيا** - أمريكا الجنوبية)
- 5- عقدت أول معاهدة سلام في التاريخ بين المصريين و.....
(الآشوريين - **الحيثيين** - الفينيقيين - الهكسوس)
- 6- أحد أبرز القادة العسكريين في مصر حديثًا هو
(**محمد أنور السادات** - محمد طلعت حرب - رمسيس الثاني - تحتمس الثالث)
- 7- الملك الذي انتصر على الحيثيين في معركة قادش هو
(**رمسيس الثاني** - أحمس - تحتمس الثالث - سنفرو)
- 8- عقدت معاهدة سلام في العصر الحديث بين مصر و
(فرنسا - **إسرائيل** - روسيا - ألمانيا)

(4) صوب ما تحته خط:

- 1- هجمت بعض القبائل على حدود مصر الشمالية الشرقية في عهد الملك خوفو.
- 2- استطاع الملك أحمس الانتصار على الحيثيين.
- 3- الموقع الحالي لمعركة مجدو في دولة لبنان.
- 4- أهم الحروب التي خاضتها مصر في القرن العشرين هي معركة مجدو.
- 5- الملك الذي عقد معاهدة السلام مع الحيثيين هو تحتمس الثالث.

(5) فسر ما يلي:

- 1- نجاح الملك زوسر في صد هجمات بعض القبائل على حدود مصر الشمالية الشرقية.
لأن الملك زوسر سارع في توحيد جيوش أقاليم مصر وتنظيمها وتسليحها.
- 2- يعد الملك أحمس بطل التحرير.
لأنه استطاع تحرير مصر من غزو الهكسوس.
- 3- خاض الملك تحتمس الثالث كثيرًا من الحملات العسكرية.
لتأمين حدود مصر.
- 4- انتصر الملك تحتمس الثالث في معركة مجدو.
بسبب إبداعاته العسكرية فقد فاجأ العدو بتخطيط غير متوقع حيث دخل مدينة مجدو من أقصر الطرق وأكثرها خطورة وصعوبة.
- 5- خاض الملك رمسيس الثاني كثيرًا من المعارك ضد الحيثيين.
بسبب استيلائهم على مناطق من الإمبراطورية المصرية.
- 6- قيام حرب أكتوبر عام 1973م.
لتحرير أرض سيناء من الاحتلال الإسرائيلي.
- 7- أهمية تحقيق السلام لشعوب العالم.
التركيز على مشروعات التنمية وتحسين حياة الشعوب عن طريق تجنب إنفاق موارد الدول على الحروب.

(3) اختر الإجابة الصحيحة مما بين القوسين:

- 1- الملك الذي قاد 16 حملة عسكرية لتأمين حدود مصر في عصر الدولة الحديثة
(مينا - **تحتمس الثالث** - زوسر - رمسيس الثاني)
- 2- الملك الذي نجح في توحيد جيوش أقاليم مصر القديمة هو
(**زوسر** - خوفو - سنفرو - منكاورع)
- 3- كان للملكة إياح حتب دور في تحرير مصر من خطر.....
(الحيثيين - **الهكسوس** - الروم - الفينيقيين)
- 4- انتصر الجيش المصري في معركة مجدو على أمراء
(أوروبا - أمريكا الشمالية - **آسيا** - أمريكا الجنوبية)
- 5- عقدت أول معاهدة سلام في التاريخ بين المصريين و.....
(الآشوريين - **الحيثيين** - الفينيقيين - الهكسوس)
- 6- أحد أبرز القادة العسكريين في مصر حديثًا هو
(**محمد أنور السادات** - محمد طلعت حرب - رمسيس الثاني - تحتمس الثالث)
- 7- الملك الذي انتصر على الحيثيين في معركة قادش هو
(**رمسيس الثاني** - أحمس - تحتمس الثالث - سنفرو)
- 8- عقدت معاهدة سلام في العصر الحديث بين مصر و
(فرنسا - **إسرائيل** - روسيا - ألمانيا)

(4) صوب ما تحته خط:

- 1- هجمت بعض القبائل على حدود مصر الشمالية الشرقية في عهد الملك خوفو.
- 2- استطاع الملك أحمس الانتصار على الحيثيين.
- 3- الموقع الحالي لمعركة مجدو في دولة لبنان.
- 4- أهم الحروب التي خاضتها مصر في القرن العشرين هي معركة مجدو.
- 5- الملك الذي عقد معاهدة السلام مع الحيثيين هو تحتمس الثالث.

(5) فسر ما يلي:

- 1- نجاح الملك زوسر في صد هجمات بعض القبائل على حدود مصر الشمالية الشرقية.
لأن الملك زوسر سارع في توحيد جيوش أقاليم مصر وتنظيمها وتسليحها.
- 2- يعد الملك أحمس بطل التحرير.
لأنه استطاع تحرير مصر من غزو الهكسوس.
- 3- خاض الملك تحتمس الثالث كثيرًا من الحملات العسكرية.
لتأمين حدود مصر.
- 4- انتصر الملك تحتمس الثالث في معركة مجدو.
بسبب إبداعاته العسكرية فقد فاجأ العدو بتخطيط غير متوقع حيث دخل مدينة مجدو من أقصر الطرق وأكثرها خطورة وصعوبة.
- 5- خاض الملك رمسيس الثاني كثيرًا من المعارك ضد الحيثيين.
بسبب استيلائهم على مناطق من الإمبراطورية المصرية.
- 6- قيام حرب أكتوبر عام 1973م.
لتحرير أرض سيناء من الاحتلال الإسرائيلي.
- 7- أهمية تحقيق السلام لشعوب العالم.
التركيز على مشروعات التنمية وتحسين حياة الشعوب عن طريق تجنب إنفاق موارد الدول على الحروب.

(3) اختر الإجابة الصحيحة مما بين القوسين:

- 1- الملك الذي قاد 16 حملة عسكرية لتأمين حدود مصر في عصر الدولة الحديثة
(مينا - **تحتمس الثالث** - زوسر - رمسيس الثاني)
- 2- الملك الذي نجح في توحيد جيوش أقاليم مصر القديمة هو
(**زوسر** - خوفو - سنفرو - منكاورع)
- 3- كان للملكة إياح حتب دور في تحرير مصر من خطر.....
(الحيثيين - **الهكسوس** - الروم - الفينيقيين)
- 4- انتصر الجيش المصري في معركة مجدو على أمراء
(أوروبا - أمريكا الشمالية - **آسيا** - أمريكا الجنوبية)
- 5- عقدت أول معاهدة سلام في التاريخ بين المصريين و.....
(الآشوريين - **الحيثيين** - الفينيقيين - الهكسوس)
- 6- أحد أبرز القادة العسكريين في مصر حديثًا هو
(**محمد أنور السادات** - محمد طلعت حرب - رمسيس الثاني - تحتمس الثالث)
- 7- الملك الذي انتصر على الحيثيين في معركة قادش هو
(**رمسيس الثاني** - أحمس - تحتمس الثالث - سنفرو)
- 8- عقدت معاهدة سلام في العصر الحديث بين مصر و
(فرنسا - **إسرائيل** - روسيا - ألمانيا)

(4) صوب ما تحته خط:

- 1- هجمت بعض القبائل على حدود مصر الشمالية الشرقية في عهد الملك خوفو.
- 2- استطاع الملك أحمس الانتصار على الحيثيين.
- 3- الموقع الحالي لمعركة مجدو في دولة لبنان.
- 4- أهم الحروب التي خاضتها مصر في القرن العشرين هي معركة مجدو.
- 5- الملك الذي عقد معاهدة السلام مع الحيثيين هو تحتمس الثالث.

(5) فسر ما يلي:

- 1- نجاح الملك زوسر في صد هجمات بعض القبائل على حدود مصر الشمالية الشرقية.
لأن الملك زوسر سارع في توحيد جيوش أقاليم مصر وتنظيمها وتسليحها.
- 2- يعد الملك أحمس بطل التحرير.
لأنه استطاع تحرير مصر من غزو الهكسوس.
- 3- خاض الملك تحتمس الثالث كثيرًا من الحملات العسكرية.
لتأمين حدود مصر.
- 4- انتصر الملك تحتمس الثالث في معركة مجدو.
بسبب إبداعاته العسكرية فقد فاجأ العدو بتخطيط غير متوقع حيث دخل مدينة مجدو من أقصر الطرق وأكثرها خطورة وصعوبة.
- 5- خاض الملك رمسيس الثاني كثيرًا من المعارك ضد الحيثيين.
بسبب استيلائهم على مناطق من الإمبراطورية المصرية.
- 6- قيام حرب أكتوبر عام 1973م.
لتحرير أرض سيناء من الاحتلال الإسرائيلي.
- 7- أهمية تحقيق السلام لشعوب العالم.
التركيز على مشروعات التنمية وتحسين حياة الشعوب عن طريق تجنب إنفاق موارد الدول على الحروب.

(6) ما النتائج المترتبة على:

- 1- انتشار الفوضى والصراعات بين الحكام في عصر الضعف الثاني.
- 2- انتصار الملك أحمس على الهكسوس.
- 3- طرد الهكسوس من مصر وتأسيس الملك أحمس لعصر الدولة الحديثة.
- 4- خطة الملك تحتمس الثالث في معركة مجدو.
- 5- دخول مدينة مجدو.
- 6- تفرق صفوف أمراء آسيا.
- 7- انتصار الجيش المصري في معركة مجدو.
- 8- عقد معاهدة السلام بين الملك رمسيس الثاني وملك الحيثيين.
- 9- أدت المعاهدة إلى تحقيق الأمن والاستقرار للطرفين.
- 10- عقد معاهدة السلام بين مصر وإسرائيل عام 1979م. أجب بنفسك

(7) اكتب عملاً تاريخياً لكل من:

- 1- الملك أحمس.
- 2- طرد الهكسوس من مصر.
- 3- الرئيس الراحل محمد أنور السادات.
- 4- قيادة الجيش المصري في حرب السادس من أكتوبر 1973م.

(8) دلل على صحة العبارات التالية:

- 1- كان الملك زوسر قائداً عسكرياً متميزاً. أجب بنفسك
- 2- لعبت الملكة إياح حتب دوراً مهماً في طرد الهكسوس من مصر. قامت بتشجيع ابنها أحمس على محاربة الهكسوس بعد مقتل والده (سقن رع) وأخيه الأكبر "كامس" في كفاحهما ضد الهكسوس.
- 3- يعد الملك تحتمس الثالث من أفضل القادة العسكريين في التاريخ. أجب بنفسك
- 4- حقق الجيش المصري العديد من الإنجازات العسكرية خلال حرب 6 أكتوبر عام 1973م. عبور القناة وتدمير خط بارليف في 6 ساعات، هزيمة الجيش الإسرائيلي.

(9) أجب عما يلي:

- 1- قارن بين كل من معركة مجدو ومعركة قادش من حيث: أجب بنفسك

وجه المقارنة	معركة مجدو	معركة قادش
القائد المصري		
العدو		
النتائج		

- 2- ما رأيك في موقف الملك رمسيس الثاني مع الحيثيين؟
- 3- ما العلاقة بين: الهكسوس - الملكة إياح حتب؟
- 4- ماذا كان يحدث إذا لم: ينجح الملك أحمس في طرد الهكسوس من مصر؟
- 5- أعط مثالين للإبداعات العسكرية لدي الجيش المصري على مر العصور.

(10) إلى من تنسب الأعمال التاريخية التالية:

الملك أحمس
الملك رمسيس الثاني
الملك تحتمس الثالث
الملكة إياح حتب

- 1- قاد حرب التحرير وطرد الهكسوس من مصر.
- 2- انتصر على الحيثيين وعقد أول معاهدة سلام في التاريخ.
- 3- استطاع هزيمة أمراء أسيا في معركة مجدو.
- 4- شجعت ابنها على طرد الهكسوس من مصر.

تدريبات الدرس الثاني

(1) أكمل العبارات التالية بما يناسبها من بنك الكلمات:

- (منارة الإسكندرية - أكتيوم البحرية - البطالمة - آمون - الزيوت - الفتح العربي الإسلامي - الإسكندرية - كليوباترا السابعة - القمح - الساقية - ملكيًا مطلقًا - دخول المسيحية)
- 1- الدولة التي تأسست في مصر بعد وفاة الإسكندر الأكبر مباشرة هي دولة **البطالمة**
 - 2- أحد الآثار التي تركها البطالمة في مصر **منارة الإسكندرية**
 - 3- شرع الإسكندر الأكبر في التخطيط لبناء مدينة **الإسكندرية**
 - 4- أدخل البطالمة أدوات جديدة في الزراعة منها **الساقية**
 - 5- تقرب الإسكندر الأكبر للمصريين قديمًا عن طريق زيارته لمعبد الإله **آمون**
 - 6- انتصر الرومان على البطالمة عام 31 ق.م في معركة **أكتيوم البحرية**
 - 7- استغل الرومان أرض مصر لزراعة محصول **القمح**
 - 8- تخلص المصريون قديمًا من الحكم الروماني عام 641م بعد **الفتح العربي الإسلامي**
 - 9- كان نظام الحكم البطلمي لمصر **ملكيا مطلقا**
 - 10- ازدهرت بعض الصناعات في عصر البطالمة ومنها صناعة **الزيوت**
 - 11- آخر ملوك البطالمة في مصر هي **كليوباترا السابعة**

(2) اكتب كلمة (صواب) أمام العبارة الصحيحة، وكلمة (خطأ) أمام العبارة غير الصحيحة:

- 1- قاد الحكم البطلمي في مصر على أساس الديمقراطية والحرية للمصريين. **(خطأ)**
- 2- خطط الإسكندر الأكبر لبناء مدينة الإسكندرية. **(صواب)**
- 3- تدخلت روما في شئون مصر الداخلية في عهد الملكة كليوباترا السابعة. **(صواب)**
- 4- انتصرت الملكة كليوباترا السابعة في معركة أكتيوم البحرية عام 31 ق.م. **(خطأ)**
- 5- أدخل البطالمة سلالات جديدة من الحيوانات لمصر. **(صواب)**
- 6- اهتم الرومان بزراعة محصول الأرز في مصر قديمًا. **(خطأ)**
- 7- تعد مكتبة الإسكندرية أحد مظاهر اهتمام الرومان بالثقافة في مصر قديمًا. **(خطأ)**
- 8- أدي ظهور المسيحية إلى زيادة الاضطهاد الروماني للمصريين قديمًا. **(صواب)**
- 9- تقرب الإسكندر الأكبر إلى المصريين فقام بزيارة معبد الكرنك. **(خطأ)**
- 10- يعتبر الملك بطليموس الأول مؤسس دولة البطالمة في مصر قديمًا. **(صواب)**
- 11- أصبحت الإسكندرية أهم مركز تجاري في شرق البحر المتوسط في عصر الرومان. **(صواب)**
- 12- رحب المصريون بالفتح العربي الإسلامي لمصر عام 641م. **(صواب)**

(3) اختر الإجابة الصحيحة مما بين القوسين:

- 1- تنسب منارة الإسكندرية القديمة إلى عصر (البطالمة - الرومان - الفرس - الهكسوس)
- 2- أحد الإنجازات الثقافية للبطالمة في مصر هو بناء جامعة (أون - روما - قرطبة - الإسكندرية)
- 3- تحولت مصر إلى ولاية رومانية عام 30 ق.م بعد معركة (أكتيوم البحرية - مجدو - قادش - عين جالوت)
- 4- مؤسس دولة البطالمة في مصر (الإسكندر الأكبر - بطليموس الثالث - بطليموس الأول - كليوباترا السابعة)
- 5- مدينة مصرية اتخذها البطالمة عاصمة لهم (بلبيس - العريش - الإسكندرية - الفرما)
- 6- بدأ ضعف دولة البطالمة بعد حكم (كليوباترا السابعة - بطليموس الأول - بطليموس الثالث - الإسكندر الأكبر)
- 7- أظهر الإسكندر الأكبر احترامه للديانة المصرية من خلال زيارة معبد الإله (أوزوريس - آمون - رع - ست)
- 8- كانت الإسكندرية المدينة الثانية عالميًا من الناحية الثقافية في عصر (الرومان - البطالمة - الفرس - الهكسوس)
- 9- أدخل البطالمة آلات زراعية جديدة لمصر منها (الفأس - المنجل - الساقية - المذراة)
- 10- أحد أشهر المعابد التي تم تشييدها في فترة الحكم الروماني لمصر هو معبد (كوم أمبو - رأس السوداء - الدير البحري - الإله آمون)

(4) صوب ما تحته خط:

كليوباترا السابعة
القمح
مستبدا
أكتيوم البحرية
بطليموس الأول
الإسكندرية

- 1- آخر ملوك البطالمة في مصر بطليموس الأول.
- 2- استغلت روما أرض مصر قديمًا لزراعة محصول القطن.
- 3- كان نظام الحكم الروماني في مصر نظامًا ديمقراطيًا.
- 4- سقطت دولة البطالمة بعد معركة عين جالوت.
- 5- مؤسس دولة البطالمة في مصر هو بطليموس الثالث.
- 6- كانت عاصمة البطالمة في مصر مدينة السويس.

(5) فسر ما يلي:

- 1- انهيار حكم الرومان في مصر قديمًا.
- 2- بسبب الفتح العربي الإسلامي لمصر عام 641م وقد رحب المصريون بهذا الفتح للتخلص من حكم الرومان.
- 3- زيارة الإسكندر الأكبر لمعبد الإله آمون في واحة سيوة.
- 4- ليظهر احترامه للديانة المصرية لكي يتقبل المصريون حكمه.
- 5- انهيار حكم البطالمة في مصر قديمًا.

بسبب:

- ضعف ملوك البطالمة بعد بطليموس الثالث.
- تدخل روما في شئون مصر الداخلية.
- ثورات الشعب المصري ضد البطالمة.
- هزيمة الملكو كليوباترا السابعة أمام الرومان في معركة أكتيوم البحرية 31 ق.م.

- 4- ترحيب المصريين بالفتح العربي الإسلامي عام 641م.
أجب بنفسك
- 5- تخطيط الإسكندر الأكبر لبناء مدينة الإسكندرية.
حتى يتخذها عاصمة للبلاد.
- 6- إنشاء منارة الإسكندرية.
لإرشاد السفن في البحر.
- 7- رغبة الإسكندر الأكبر في الإستيلاء على مصر.
أجب بنفسك

(6) اكتب نتيجة واحدة ترتبت على ما يلي:

- 1- معركة أكتيوم البحرية عام 31ق.م.
هزيمة البطالمة وتحول مصر لولاية رومانية.
- 2- كثرة ثورات المصريين ضد حكم البطالمة.
ضعف دولة البطالمة
- 3- الفتح العربي الإسلامي لمصر عام 641م.
انتهاء حكم الرومان لمصر.
- 4- ظهور المسيحية في مصر.
أقبل المصريون على اعتناق الدين الجديد، مما أدى لزيادة الاضطهاد الروماني للمصريين.

(7) اكتب دليلًا واحدًا لكل عبارة:

- 1- محاولة الإسكندر الأكبر لكسب تأييد المصريين قديمًا. أجب بنفسك
- 2- استغلت روما الأراضي الزراعية في مصر قديمًا. أجب بنفسك
- 3- رفض المصريين لحكم البطالمة. ثورات المصريين ضد حكم البطالمة.
- 4- اتبع كل من الرومان البطالمة نظام الحكم المطلق. أجب بنفسك

(8) من يكون:

- 1- قائد يوناني سيطر على مصر لتوسيع إمبراطوريته. الإسكندر الأكبر
- 2- مؤسس دولة البطالمة في مصر. بطليموس الأول
- 3- ضعفت دولة البطالمة في مصر بعد وفاته. بطليموس الثالث
- 4- آخر ملوك البطالمة في مصر. كليوباترا السابعة

(9) أجب عما يأتي:

- 1- حدد أوجه التشابه والاختلاف بين نظام الحكم البطلمي – نظام الحكم الروماني في مصر. أجب بنفسك
- 2- قارن بين: الحياة الثقافية بمصر في عصري البطالمة والرومان. أجب بنفسك

(10) رتب الأحداث التاريخية التالية من الأقدم إلى الأحدث:


- بناء مكتبة الإسكندرية – الفتح العربي الإسلامي لمصر – معركة أكتيوم البحرية – دخول الإسكندر الأكبر إلى مصر.
- 1- دخول الإسكندر الأكبر مصر.
- 2- بناء مكتبة الإسكندرية.
- 3- معركة أكتيوم البحرية.

تدريبات الدرس الثالث

(1) أكمل العبارات التالية بما يناسبها من بنك الكلمات:

- (الطوب اللبن - مناخ مصر - هرم زوسر - الجنائزية - هرم خوفو - المنازل - الحجر الجيري - الكرنك - البيئة المصرية - المقابر - حصن بوهين)
- 1- استمد المصري القديم أفكاره في العمارة من البيئة المصرية.
 - 2- استخدم المصري القديم الموارد الطبيعية كالجرانيت و الحجر الجيري
 - 3- استغل المصري القديم أرض وادي النيل في بناء المنازل
 - 4- استغل المصري القديم الأراضي الصحراوية غرب النيل وبني عليها المقابر
 - 5- بني المصري القديم المنازل من الطوب اللبن
 - 6- إحدى المقابر المصرية القديمة وتتكون من عدة مصاطب هرم زوسر
 - 7- أحد أشهر الحصون على الحدود المصرية الجنوبية هو حصن بوهين
 - 8- يعد معبد الملكة حتشبسوت من المعابد الجنائزية
 - 9- ظلت الرسومات المصرية والنقوشات موجودة حتى الآن بسبب مناخ مصر
 - 10- توجد مسلة للملكة حتشبسوت في معابد الكرنك

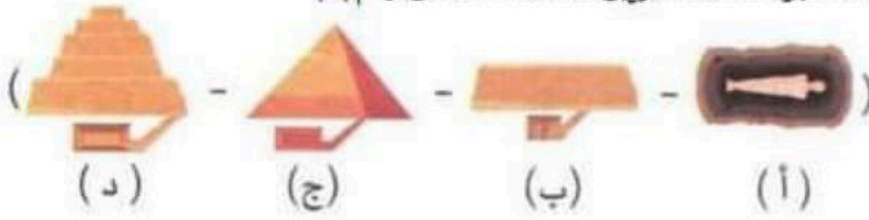
(2) اكتب كلمة (صواب) أمام العبارة الصحيحة، وكلمة (خطأ) أمام العبارة غير الصحيحة:

- 1- اختلفت مساحة المنازل وعدد حجراتها وزخارفها باختلاف طبقات المجتمع. (صواب)
- 2- بني المصري القديم المقابر من الطوب اللبن للحفاظ على جسد المتوفي. (خطأ)
- 3- بدأت المرحلة الأولى لبناء المقابر قديماً من عدة مصاطب. (خطأ)
- 4- استخدم المصريون القدماء أرض الوادي لبناء المقابر بعيداً عن الفيضان. (خطأ)
- 5- يمكننا رؤية الرسومات المصرية الرائعة على جدران معبد كوم أمبو في أسوان. (صواب)
- 6- الهرم الأكبر عبارة عن مقبرة تتكون من عدة مصاطب فوق بعضها. (خطأ)
- 7- شيد المصريون القدماء حصن بوهين لتأمين الحدود الجنوبية لمصر. (صواب)
- 8- أقيمت المعابد الجنائزية لأداء الطقوس اليومية للآلهة ومنها معبد الأقصر. (خطأ)
- 9- تعد مسلة ملكة حتشبسوت في معابد الكرنك من أشهر المسلات المصرية. (صواب)
- 10- إذا كنت وزيراً في مصر القديمة فمنزلك يكون متعدد الحجرات وبه مخزن للحبوب. (صواب)
- 11- تدل الصورة المقابلة على براعة المصريين في فن النحت. (صواب) 

(3) اختر الإجابة الصحيحة مما بين القوسين:

- 1- معبد شيد من أجل إقامة طقوس الجنائزية على الملك هو معبد..... (حتشبسوت - الأقصر - إيزيس - الكرنك)
- 2- أحد المعابد التي كان يقام بها الطقوس اليومية للآلهة هو معبد..... (الدير البحري - الأقصر - أمنحتب الثالث - الرامسيوم)
- 3- أبنية أنشأها المصريون القدماء لحماية البلاد والدفاع عنها هي..... (المعابد - الأهرامات - الحصون - القصور)
- 4- يمكننا رؤية مسلة الملكة حتشبسوت في معابد..... (الكرنك - الأقصر - أبو سمبل - إيزيس)

- 5- أحد الآثار التي تعبر عن براعة المصريين في نحت التماثيل هو.....
 (أبو الهول - معبد إيزيس - اللوحات الجدارية - لوحة نعرمر)
 6- يمثل المرحلة الثانية من تطوير بناء المقابر عند المصريين القدماء الشكل رقم (د)



- 7- بني المصريون القدماء المنازل من (الطوب اللبن - الحجر الجيري - النحاس - الجرانيت)
 8- منزل كبير متعدد الحجرات وبه مخازن للحبوب، هذا الوصف لمنزل
 (الراعي - الفلاح - الوزير - الصانع)
 9- يقع حصن بوهين على الحدود المصرية

(4) صوب ما تحنه خط:

- 1- بني حصن بوهين على حدود مصر الغربية.
 2- يعد معبد الأقصر من المعابد الجنائزية.
 3- بني المصريون القدماء المنازل من الطوب الأحمر.
 الجنوبية
 معابد الآلهة
 اللبن

(5) فسر ما يلي:

- 1- أهمية المباني العسكرية (الحصون) عند المصريين القدماء.
 حماية البلاد والدفاع عنها، تأمين سكن الجنود.
 2- أهمية فن الرسم عند المصريين القدماء.
 كان يعبر المصري القديم بالرسم عن الأحداث السياسية والاجتماعية والعسكرية والدينية وبعض الأنشطة الاقتصادية كالزراعة والتجارة.
 3- خصص المصريون القدماء أرض الصحراء غرب نهر النيل لبناء المقابر.
 لتكون بعيدة عن مخاطر الفيضان.
 4- تسمية المعابد الجنائزية بهذا الاسم.
 لأنها تقام بها طقوس الجنازة على الملك المتوفي.
 5- اختلاف شكل المنازل في مصر قديمًا.
 لاختلاف طبقات المجتمع المصري القديم.
 6- بني المصريون القدماء المقابر من الحجر.
 للحفاظ على جسد المتوفي وتأمينه من اللصوص.
 7- الرسومات والألوان على جدران المعابد ما زالت زاهية.
 ساعد مناخ مصر على حفظ الرسومات والنقوش زاهية حتى وقتنا الحالي.
 8- بناء المصريين القدماء المسلات.
 تزيين مداخل المعابد وتخليد ذكري الملك.

(6) ما النتائج التي ترتبت على ما يلي:

- 1- تشييد المصريين القدماء حصن بوهين.

تأمين الحدود الجنوبية لمصر وتوفير سكن للمجنود.

2- تنوع الموارد الطبيعية في مصر.

اعتمد المصري القديم عليها مثل الطوب اللبن والجرانيت والحجر الجيري في الفن والعمارة

(7) اكتب دليلاً على: أجب بنفسك

1- استدامة النقوش والرسومات القديمة على جدران المعابد حتى الآن.

2- تنوع المعابد عند المصريين القدماء.

3- تميز قصر الملك عن باقي منازل الشعب في مصر قديماً.

4- تطور شكل المقابر عند المصريين القدماء.

(8) قارن بين: أجب بنفسك

1- منازل حكام الأقاليم – قصر الملك

منازل حكام الأقاليم	قصر الملك

2- معابد الآلهة – المعابد الجنائزية، من حيث الغرض منها.

معابد الآلهة	المعابد الجنائزية

(9) أجب عما يلي: أجب بنفسك

1- ما العلاقة بين: مناخ مصر – الرسومات والنقوش في معابد المصريين القدماء؟

2- اذكر اثنين من أشهر التماثيل في مصر قديماً.

3- حدد الغرض من إنشاء المسلات عند المصريين القدماء.

4- اذكر واحدة من أشهر المسلات في مصر قديماً.


5- اشرح مراحل تطور بناء المقابر عند

المصريين القدماء

6- لاحظ الصورة ثم أجب:

- إلى أي نوع من المعابد ينتمي هذا المعبد؟

وما الغرض منه؟



معبد الملكة حتشبسوت

تدريبات الدرس الرابع

(1) أكمل العبارات التالية بما يناسبها من بنك الكلمات:

(أدب النثر - التشریح - النباتات - الكاتب - المستطيل - المشرط - أدب المديح)

- 1- (إذا كنت ماهراً في الكتابة فإن الناس أجمع يفعلون كل ما تقوله) تشير العبارة إلى أهمية وظيفة الكاتب
- 2- ترك لنا المصريين القدماء كتابات متنوعة في الأدب الديني والأدب القصصي والأدب التهذيبي و أدب المديح


- 3- استخدم المصريون القدماء في العلاج بعض الوصفات الطبية المصنوعة من النباتات
- 4- عرف المصريون القدماء الكثير عن أجهزة جسم الإنسان الداخلية نتيجة براعتهم في التشریح
- 5- استخدم المصريون القدماء عدة أدوات طبية مثل الملقاط والمشرط
- 6- عرف المصريون القدماء الأشكال الهندسية مثل المربع والمستطيل

(2) اكتب كلمة (صواب) أمام العبارة الصحيحة، وكلمة (خطأ) أمام العبارة غير الصحيحة:

- 1- ساعدتنا الكتابة على معرفة براعة المصريين القدماء وأفكارهم وثقافتهم. (صواب)
- 2- استخدم المصريون القدماء بعض النباتات في صناعة الوصفات الطبية. (صواب)
- 3- برع المصريون القدماء في كثير من التخصصات الطبية مثل العيون والأسنان. (صواب)
- 4- عرف المصريون القدماء الكثير من الأمراض واستطاعوا علاجها. (خطأ)
- 5- تطور المصريون القدماء في التشریح مكنهم من التخطيط الجيد للمدن. (صواب)
- 6- تختلف جميع الأدوات الطبية التي استخدمها المصريون قديماً وحديثاً. (خطأ)
- 7- عرف المصريون القدماء كثيرًا من مواقع الكواكب والنجوم. (صواب)
- 8- قسم المصريون القدماء السنة إلى 10 شهور. (خطأ)
- 9- قسم المصريون القدماء الشهر إلى 30 يومًا. (صواب)
- 10- أهرامات الجيزة تدل على براعة المصريين القدماء في الطب. (خطأ)
- 11- استطاع المصريون القدماء حفر الترع عندما برعوا في علم الفلك. (خطأ)
- 12- استفاد المصريون القدماء من علم الحساب في وضع التقويم الشمسي. (خطأ)
- 13- قام الكاتب بتسجيل الأحداث اليومية على جدران المعابد والمقابر وورق البردي. (صواب)

(3) اختر الإجابة الصحيحة مما بين القوسين:

- 1- بناء أهرامات الجيزة يدل على براعة المصريين القدماء في علم (الفلك - الطب - الهندسة - التشریح)
- 2- وضع المصريون القدماء للتقويم الشمسي يدل على براعتهم في علم (الفلك - الطب - الهندسة - الحساب)
- 3- استطاع المصريون القدماء تسجيل رواتب الجنود عندما برعوا في علم (الفلك - الطب - الحساب - الهندسة)



4- تدل الصورة المقابلة على براعة المصريين القدماء في

(التشريح - الهندسة - الحساب - الفلك)

5- استخدم المصريون القدماء علم التشريح أثناء قيامهم بعملية

(النحت - التحنيط - البناء - الحفر)

6- عرف المصريون القدماء مواقع كثير من الكواكب والنجوم نتيجة لبراعتهم في علم

(الطب - الفلك - الهندسة - الحساب)

7- استطاع المصريون القدماء تحديد قيمة الضرائب بفضل براعتهم في علم

(الحساب - الطب - الفلك - الهندسة)

(4) صوب ما تحته خط:

- 1- استطاع المصريون القدماء تخطيط المدن عندما برعوا في علم الحساب.
- 2- المسئول عن تسجيل كل نواحي الحياة المصرية القديمة على جدران المعابد هو الطبيب.
- 3- عرف المصريون القدماء أجهزة الجسم الداخلية بسبب براعتهم في علم الفلك.
- 4- استخدم المصريون القدماء أدوات طبية شبيهة بما نستخدمه الآن مثل المشربط والسماكات.
- 5- قسم المصريون القدماء السنة إلى 12 شهرًا متساوية نتيجة براعتهم في علم الحساب.

(5) اكتب تفسيرًا وحدًا:

- 1- أهمية الكتابة عند المصريين القدماء. أجب بنفسك.
- 2- أهمية وظيفة الكاتب عند المصريين القدماء.
- 3- مساعد في وصول صاحب المهنة إلى المناصب العليا في الدولة.
- 3- معرفة المصريين القدماء لكثير من مواقع الكواكب والنجوم.
- بسبب براعة المصريين القدماء في علم الفلك.
- 4- أهمية علم الهندسة عند المصريين القدماء.
- ساعدهم على تخطيط المدن، وحفر الترع، وبناء الأهرامات كما أنهم عرفوا العديد من الأشكال الهندسية مثل المربع والمستطيل.
- 5- أهمية علم الحساب عند المصريين القدماء.
- ساعدهم ذلك على حساب مساحة الأرض الزراعية- تسجيل رواتب الجنود - تحديد قيمة الضرائب بناء على الفيضان.

(6) اكتب نتيجة واحدة ترتبت على ما يلي:

- 1- معرفة المصريين القدماء علم التشريح.
- أدى إلى معرفتهم لأجزاء جسم الإنسان الداخلية ومعرفة العديد من الأمراض.
- 2- تقديم المصريين القدماء في علم الفلك.
- أدى إلى معرفة مواقع الكثير من النجوم والكواكب - وضعوا التقويم الشمسي.
- 3- براعة المصريين القدماء في علم الحساب. أجب بنفسك.

(7) ما العلاقة بين:

- 1- تقدم المصريين القدماء في علم الطب - التحنيط.
- براعتهم في علم الطب ساعدهم على تشرح جثث موتاهم وتجهيزها لعملية التحنيط.
- 2- علم الهندسة - بناء الأهرامات.
- برع المصريون القدماء في علم الهندسة وقد ساعدهم ذلك على بناء الأهرامات.
- 3- علم الحساب - الزراعة عند المصريين القدماء.
- براعة المصريين القدماء في علم الحساب ساعدهم على حساب مساحة الأرض الزراعية وتحديد قيمة الضرائب.


(8) اكتب دليلاً واحداً لكل عبارة:

- 1- مهنة الكاتب كانت من أهم الوظائف قديماً. أجب بنفسك
- 2- براعة المصريين القدماء في الطب.
- عرفوا الكثير من التخصصات الطبية ومنها: العيون والأسنان والجراحة.
- اكتشفوا الكثير من الأمراض واخترعوا الوصفات لعلاجها.
- استخدموا النباتات في العلاج وسجلوا ذلك على ورق البردي.
- استخدموا أدوات طبية شبيهة بما نستخدمه الآن مثل المشرب والملقاط.
- برعوا في علم التشریح (يكتفي بدليل واحد)
- 3- تقدم المصريين القدماء في علم الفلك. أجب بنفسك
- 4- ساعد علم الهندسة المصريين القدماء في تحقيق إنجازات مهمة. أجب بنفسك
- 5- تعددت استخدامات المصريين القدماء لعلم الحساب. أجب بنفسك
- 6- تعددت أنواع الأدب عند المصريين القدماء. أجب بنفسك

(9) قارن بين: أجب بنفسك

علم الحساب وعلم الهندسة من حيث الأهمية

علم الهندسة	علم الحساب



(10) لاحظ الصور التالية ثم أجب:

1- تدل الصورة (1) على براعة المصريين القدماء في علم الفلك

2- تدل الصورة (2) على براعة المصريين القدماء في علم الهندسة

3- تشير الصورة (3) إلى براعة المصريين القدماء في التحنيط

(7) ما العلاقة بين:

- 1- تقدم المصريين القدماء في علم الطب - التحنيط.
- براعتهم في علم الطب ساعدهم على تشرح جثث موتاهم وتجهيزها لعملية التحنيط.
- 2- علم الهندسة - بناء الأهرامات.
- برع المصريون القدماء في علم الهندسة وقد ساعدهم ذلك على بناء الأهرامات.
- 3- علم الحساب - الزراعة عند المصريين القدماء.
- براعة المصريين القدماء في علم الحساب ساعدهم على حساب مساحة الأرض الزراعية وتحديد قيمة الضرائب.


(8) اكتب دليلاً واحداً لكل عبارة:

- 1- مهنة الكاتب كانت من أهم الوظائف قديماً. أجب بنفسك
- 2- براعة المصريين القدماء في الطب.
- عرفوا الكثير من التخصصات الطبية ومنها: العيون والأسنان والجراحة.
- اكتشفوا الكثير من الأمراض واخترعوا الوصفات لعلاجها.
- استخدموا النباتات في العلاج وسجلوا ذلك على ورق البردي.
- استخدموا أدوات طبية شبيهة بما نستخدمه الآن مثل المشرب والملقاط.
- برعوا في علم التشریح (يكتفي بدليل واحد)
- 3- تقدم المصريين القدماء في علم الفلك. أجب بنفسك
- 4- ساعد علم الهندسة المصريين القدماء في تحقيق إنجازات مهمة. أجب بنفسك
- 5- تعددت استخدامات المصريين القدماء لعلم الحساب. أجب بنفسك
- 6- تعددت أنواع الأدب عند المصريين القدماء. أجب بنفسك

(9) قارن بين: أجب بنفسك

علم الحساب وعلم الهندسة من حيث الأهمية

علم الهندسة	علم الحساب



(10) لاحظ الصور التالية ثم أجب:

1- تدل الصورة (1) على براعة المصريين القدماء في علم الفلك

2- تدل الصورة (2) على براعة المصريين القدماء في علم الهندسة

3- تشير الصورة (3) إلى براعة المصريين القدماء في التحنيط

الوحدة الثالثة تدريبات الدرس الأول

(1) أكمل العبارات التالية بما يناسبها من بنك الكلمات:

- (السفارات - الهكسوس - أكتوبر عام 1973م - الشمالية الشرقية - للدفاع المشترك - مجدو - فينيقيا - الخارجية - معاهدة سلام)
- 1- وقعت مصر مع جمهورية السودان اتفاقيات للدفاع المشترك
 - 2- عقد الملك رمسيس الثاني مع الحيثيين أول معاهدة سلام
 - 3- قامت الدول العربية بمساندة مصر وسوريا في حرب أكتوبر عام 1973م
 - 4- اشترك الفينيقيون مع الملك تحتمس الثالث في معركة مجدو
 - 5- الهيئات المسئولة عن تعميق العلاقات بين الدول هي السفارات
 - 6- حماية مصالح المواطنين وتطوير علاقات مصر في الخارج من مهام وزارة الخارجية
 - 7- نقل المصريون القدماء العربات الحربية عن الهكسوس
 - 8- عمل الملك تحتمس الثالث على تأمين حدود مصر الشمالية الشرقية

(2) اكتب كلمة (صواب) أمام العبارة الصحيحة، وكلمة (خطأ) أمام العبارة غير الصحيحة:

- 1- ساندت الدول العربية مصر ولبنان في حرب أكتوبر 1973م. (خطأ)
- 2- وزارة الداخلية هي المسئولة عن تطوير وتعميق علاقات مصر مع الدول الأخرى. (خطأ)
- 3- وقع الملك مينا معاهدة السلام مع الحيثيين. (خطأ)
- 4- وقعت جمهورية السودان مع مصر اتفاقيات للدفاع العسكري المشترك بينهما. (صواب)
- 5- يوجد في كل دولة سفارات للدول الأخرى. (صواب)
- 6- أنشأ المصريون القدماء القلاع والحصون لتأمين حدود الإمبراطورية المصرية. (صواب)
- 7- تقوم مصر بإجراء تدريبات عسكرية مشتركة مع العديد من الدول. (صواب)
- 8- استعان الملك تحتمس الثالث بالحيثيين أثناء معركة مجدو. (خطأ)
- 9- استخدم المصريون القدماء العربات الحربية التي أخذوها عن الرومان. (خطأ)
- 10- اشتركت مصر مع الأمم المتحدة في بعثات حفظ السلام في بعض الدول الأفريقية. (صواب)
- 11- استطاعت مصر تعميق علاقاتها السياسية مع دول العالم على مر العصور. (صواب)
- 12- تقوم مصر بعقد المعاهدات والاتفاقيات مع الدول الأخرى لحماية حدودها وحفظ الأمن (صواب)

(3) اختر الإجابة الصحيحة مما بين القوسين:

- 1- وقعت مصر اتفاقيات للدفاع المشترك مع جمهورية (العراق - فلسطين - موريتانيا - السودان)
- 2- نقل المصريون القدماء العربات الحربية عن (الهكسوس - الفينيقيين - الليبيين - الحيثيين)
- 3- اشترك الفينيقيون مع الملك تحتمس الثالث في معركة (قادش - مجدو - حطين - أكتيوم)
- 4- حماية مصالح المواطنين في الخارج مسئولية وزارة (الخارجية - الإعلام - الداخلية - الدفاع)
- 5- وقع الملك رمسيس الثاني معاهدة السلام مع (الفرس - الحيثيين - الفينيقيين - الروم)
- 6- عمل الملك تحتمس الثالث على مواجهة الأخطار التي تهدد مصر من جهة (الفرس - الحيثيين - الفينيقيين - الروم)

(الجنوب - الشمال الشرقي - الغرب - الجنوب الشرقي)

7- أنشأ المصريون القدماء العديد من القلاع والحصون في

(فينيقيا - روما - بلاد اليونان القديمة - بلاد العراق القديم)

(4) صوب ما تحته خط:

- 1- وقعت مصر اتفاقيات للدفاع المشترك مع جمهورية الصومال. **السودان**
- 2- ساندت الدول العربية أثناء حرب أكتوبر 1973م كلاً من مصر وليبيا. **سوريا**
- 3- اشترك الفينيقيون مع الملك تحتمس الثالث في معركة قادش. **مجدو**
- 4- وقع الملك رمسيس الثاني معاهدة سلام مع الفينيقيين. **الحيثيين**
- 5- حماية مصالح المصريين في الخارج من مهام وزارة السياحة. **الخارجية**
- 6- عرف المصريون القدماء العربات الحربية من الفينيقيين. **الهكسوس**

(5) فسر ما يلي:

- 1- تقوم مصر بعقد المعاهدات والاتفاقيات مع الدول الأخرى. لحماية حدودها وحفظ الأمن ونشر الإسلام وتحقيق رفاهية الشعوب.
- 2- أهمية وزارة الخارجية المصرية. لتطوير وتعميق علاقات مصر مع الدول الأخرى وحماية مصالح المواطنين في الخارج.
- 3- أنشأ المصريون القدماء القلاع والحصون في بلاد فينيقيا. لتأمين حدود الإمبراطورية المصرية.
- 4- أهمية وجود سفارات بداخل الدول. لتعميق العلاقات بين الدول.
- 5- اهتمام مصر بإقامة علاقات تواصل سياسي وعسكري مع الدول الإفريقية. لدعم الأمن والاستقرار داخل قارتنا الإفريقية.

(6) ما النتائج المترتبة على كل مما يلي:

- 1- اشترك الفينيقيين مع الملك تحتمس الثالث في معركة مجدو. تحقيق انتصار الجيش المصري في المعركة وتأمين حدود مصر الشمالية الشرقية وتدعيم النفوذ المصري في آسيا.
- 2- وجود وزارة الخارجية في مصر. أدى إلى تطوير وتعميق علاقات مصر مع الدول الأخرى، العمل على حماية مصالح المواطنين في الخارج.
- 3- التواصل السياسي والعسكري بين مصر وجمهورية السودان. أجب بنفسك
- 4- غزو الهكسوس لمصر بالنسبة للنظم العسكرية. أخذ عنهم المصريون القدماء العربات الحربية.

(7) اكتب دليلاً واحداً لكل عبارة:

- 1- مساندة الدول العربية لبعضها البعض وقت الأزمات والحروب. قيام الدول العربية بمساندة مصر وسوريا في حرب أكتوبر 1973م
- 2- التواصل السياسي والعسكري بين مصر وجمهورية السودان. توقيع مصر اتفاقيات الدفاع المشترك بينها وبين جمهورية السودان.
- 3- التواصل السياسي والعسكري بين مصر ودول قارة إفريقيا.

مشاركة مصر في بعثات الأمم المتحدة لحفظ السلام في بعض الدول الإفريقية.

(8) قارن بين: أجب بنفسك

- نماذج التواصل العسكري والسياسي لمصر (قديمًا وحديثًا)

(9) صنف العبارات الآتية وفقا لعلاقات التواصل السياسي والعسكري قديمًا وحديثًا:

(استخدام العربات الحربية – إجراء تدريبات عسكرية مشتركة مع العديد من الدول – مساندة الدول العربية لمصر وسوريا في حرب أكتوبر 1973م – توقيع معاهدة السلام بين الملك رمسيس الثاني والحيثيين- مساعدة الفينيقيين للملك تحتمس الثالث في معركة مجدو.

حديثًا	قديمًا
مساندة الدول العربية لمصر وسوريا في حرب أكتوبر 1973م- إجراء تدريبات عسكرية مشتركة مع العديد من الدول	استخدام العربات الحديثة – مساعدة الفينيقيين للملك تحتمس الثالث في معركة مجدو- توقيع معاهدة السلام بين الملك رمسيس الثاني والحيثيين.

(10) لاحظ الصورة ثم أجب: أجب بنفسك

كيف أثرت الوزارة الموجودة في الصورة في التواصل بين مصر والدول الأخرى.



مبنى وزارة الخارجية

تدريبات الدرس الثاني

(1) أكمل العبارات التالية بما يناسبها من بنك الكلمات:

(التاريخ - الإسكندرية - بلاد العراق القديم - الأطراف الصناعية - أعمدة المعابد - الطب - تحتمس الثالث)

- 1- اختراع مصري قديم مازال العالم يستخدمه حتى الآن **الأطراف الصناعية**
- 2- أخذت مصر استخدام الأختام من **بلاد العراق القديم**
- 3- تأثرت بلاد اليونان والرومان بالطراز المعماري المصري القديم وخاصة في بناء **أعمدة المعابد**
- 4- أشهر علماء جامعة الإسكندرية قديمًا إقليدس في الهندسة ومانيتون في **التاريخ**
- 5- زاد التواصل العلمي والثقافي بين مصر ودول العالم قديمًا بعد بناء مكتبة وجامعة **الإسكندرية**
- 6- الملك الذي استقدم أبناء أمراء آسيا للدراسة في مصر هو **تحتمس الثالث**

(2) اكتب كلمة (صواب) أمام العبارة الصحيحة، وكلمة (خطأ) أمام العبارة غير الصحيحة:

- 1- اخترع الفينيقيون الحبر الأسود. (خطأ)
- 2- تأثرت بلاد العراق القديم بشكل هرم زوسر المدرج في بناء المعابد. (صواب)
- 3- أخذ المصريون القدماء رسم الحيوانات المجنحة عن الرومان. (خطأ)
- 4- اعتمد الرومان التقويم الشمسي وأضافوا السنة الكبيسة. (صواب)
- 5- تعد المعارض الدولية أحد أشكال التواصل العلمي والثقافي بين الدول. (صواب)
- 6- استقدم الملك تحتمس الثالث أبناء الأمراء الآسيويين للدراسة في مصر. (صواب)
- 7- يعد إقليدس من أشهر علماء جامعة القاهرة في الهندسة قديمًا. (خطأ)
- 8- اخترع المصريون القدماء الساعة لتحديد الوقت. (صواب)
- 9- ما زال العالم حتى الآن يستخدم الأطراف الصناعية. (صواب)
- 10- أخذ المصريون القدماء استخدام الأختام من اليونانيين. (خطأ)

(3) اختر الإجابة الصحيحة مما بين القوسين:

- 1- بنيت مكتبة الإسكندرية في عصر (البطالمة - الرومان - الهكسوس - الفرس)
- 2- تأثرت بلاد العراق القديم بالحضارة المصرية القديمة فأخذت عنها شكل (المعابد - الهرم المدرج - المقابر - الطيور المجنحة)
- 3- أحد العلوم التي يفد طلاب إفريقيا ودول شرق آسيا لدراستها في مصر (الطب - الهندسة - الرياضيات - الفلسفة)
- 4- نقل المصريون القدماء استخدام الأختام عن بلاد (اليونان القديم - الرومان - الفرس - العراق القديم)
- 5- أسماء شهور السنة الميلادية تعود في الأصل إلى (الفيثيقيين - الرومان - الفرس - البطالمة)

(4) صوب ما تحته خط:

- 1- زاد التواصل العلمي والثقافي بين مصر ودول العالم قديمًا بعد بناء مكتبة وجامعة القاهرة. الإسكندرية

تدريبات الدرس الثاني

(1) أكمل العبارات التالية بما يناسبها من بنك الكلمات:

(التاريخ - الإسكندرية - بلاد العراق القديم - الأطراف الصناعية - أعمدة المعابد - الطب - تحتمس الثالث)

- 1- اختراع مصري قديم مازال العالم يستخدمه حتى الآن **الأطراف الصناعية**
- 2- أخذت مصر استخدام الأختام من **بلاد العراق القديم**
- 3- تأثرت بلاد اليونان والرومان بالطراز المعماري المصري القديم وخاصة في بناء **أعمدة المعابد**
- 4- أشهر علماء جامعة الإسكندرية قديمًا إقليدس في الهندسة ومانيتون في **التاريخ**
- 5- زاد التواصل العلمي والثقافي بين مصر ودول العالم قديمًا بعد بناء مكتبة وجامعة **الإسكندرية**
- 6- الملك الذي استقدم أبناء أمراء آسيا للدراسة في مصر هو **تحتمس الثالث**

(2) اكتب كلمة (صواب) أمام العبارة الصحيحة، وكلمة (خطأ) أمام العبارة غير الصحيحة:

- 1- اخترع الفينيقيون الحبر الأسود. (خطأ)
- 2- تأثرت بلاد العراق القديم بشكل هرم زوسر المدرج في بناء المعابد. (صواب)
- 3- أخذ المصريون القدماء رسم الحيوانات المجنحة عن الرومان. (خطأ)
- 4- اعتمد الرومان التقويم الشمسي وأضافوا السنة الكبيسة. (صواب)
- 5- تعد المعارض الدولية أحد أشكال التواصل العلمي والثقافي بين الدول. (صواب)
- 6- استقدم الملك تحتمس الثالث أبناء الأمراء الآسيويين للدراسة في مصر. (صواب)
- 7- يعد إقليدس من أشهر علماء جامعة القاهرة في الهندسة قديمًا. (خطأ)
- 8- اخترع المصريون القدماء الساعة لتحديد الوقت. (صواب)
- 9- ما زال العالم حتى الآن يستخدم الأطراف الصناعية. (صواب)
- 10- أخذ المصريون القدماء استخدام الأختام من اليونانيين. (خطأ)

(3) اختر الإجابة الصحيحة مما بين القوسين:

- 1- بنيت مكتبة الإسكندرية في عصر (البطالمة - الرومان - الهكسوس - الفرس)
- 2- تأثرت بلاد العراق القديم بالحضارة المصرية القديمة فأخذت عنها شكل (المعابد - الهرم المدرج - المقابر - الطيور المجنحة)
- 3- أحد العلوم التي يفد طلاب إفريقيا ودول شرق آسيا لدراستها في مصر (الطب - الهندسة - الرياضيات - الفلسفة)
- 4- نقل المصريون القدماء استخدام الأختام عن بلاد (اليونان القديم - الرومان - الفرس - العراق القديم)
- 5- أسماء شهور السنة الميلادية تعود في الأصل إلى (الفيثيقيين - الرومان - الفرس - البطالمة)

(4) صوب ما تحته خط:

- 1- زاد التواصل العلمي والثقافي بين مصر ودول العالم قديمًا بعد بناء مكتبة وجامعة القاهرة. الإسكندرية

- 2- ترجع أسماء شهور السنة إلى أصل يوناني.
 - 3- أخذت مصر الأختام عن بلاد الإغريق (اليونان).
 - 4- الملك الذي استقدم أبناء أمراء البلاد الأسيوية ليتعلموا في مصر هو **رمسيس الثاني**.
 - 5- أخذ اليونانيون عن مصر بناء **المعابد المدرجة**.
- روماني
العراق القديم
تحتمس الثالث
أعمدة المعابد

(5) فسر ما يلي:

- 1- وفود طلاب العلم إلى مصر قديمًا.
 - 2- أهمية العلم حيث برع المصريون القدماء في العلوم المختلفة مثل (الفلك، الطب، الهندسة، العمارة، الفنون)
 - 3- أهمية التواصل العلمي والثقافي بين مصر والعالم.
 - 4- ساعد التواصل العلمي والثقافي على تطور العلم وتقدم الدول وتنميتها.
 - 5- أهمية البعثات العلمية والمناهج الدراسية.
- تساعد الطلاب على:
الاطلاع على كل ما هو جديد في مجال دراستهم.
تعرف ثقافات الشعوب الأخرى.

(6) أكتب نتيجة واحدة ترتبت على ما يلي:

- 1- تأثر اليونانيون والرومان بالعمارة المصرية القديمة.
- 2- حيث ظهر ذلك في بناء الأعمدة بواجهة معابدهم فنجد تشابه أعمدة معبد البارثينون في أثينا مع أعمدة معابد الكرنك في مصر.
- 3- تأثر المصريين القدماء بحضارة بلاد العراق القديم.
- 4- أدى ذلك إلى رسم الحيوانات الأسطورية المجنحة واستخدام الأختام.
- 5- إنشاء البطالمة لمكتبة وجامعة الإسكندرية.
- 6- ساعد على تحقيق التواصل العلمي والثقافي بين مصر ودول العالم القديم وخاصة بلاد اليونان.

(7) دلل على صحة العبارات الآتية:

- 1- كان لإنشاء مكتبة الإسكندرية أثر كبير في مصر قديمًا. **أجب بنفسك**
- 2- اتصلت الحضارة المصرية القديمة بحضارة بلاد العراق القديم. **أجب بنفسك**
- 3- كانت الحضارة المصرية القديمة منارة لكل دول العالم القديم. **أجب بنفسك**
- 4- يعود التقويم الذي استخدمه العالم حاليًا إلى التقويم الشمسي للمصري القديم.
- 5- تأثر الرومان بالحضارة المصرية فأخذ الإمبراطور الروماني يوليوس قيصر التقويم الشمسي المصري وأضاف إليه:
- أسماء رومانية لشهور السنة.
- السنة الكبيسة (366 يومًا) كل أربع سنوات.
- 6- برع المصريون القدماء في تقديم العديد من الاختراعات للعالم.
- 7- حيث اخترعوا الكثير من الأدوات التي استخدمها العالم حتى الآن مثل (الأطراف الصناعية - الحبر الأسود- الساعة)
- 8- وضح كيف تأثرت الحضارة المصرية وحضارة بلاد العراق القديم ببعضهما البعض. **أجب بنفسك**
- 9- حدد اثنين من أشكال التواصل العلمي والثقافي بين مصر ودول العالم حديثًا. **أجب بنفسك**

تدريبات الدرس الثالث

(1) أكمل العبارات التالية بما يناسبها من بنك الكلمات:

(لبنان - الفيلة - البطالمة - الفينيقيين - حتشبسوت - القديمة - الأثاث - سيزوستريس - الكوميسا - الأسرة 26)

- 1- استعان الملك نخاو الثاني في رحلته الإستكشافية حول إفريقيا بالبحارة **الفينيقيين**
- 2- أرسلت مصر أسطولاً بحرياً لجلب أخشاب الأرز من **فينيقيا** في عصر الدولة **القديمة**
- 3- ازدهرت التجارة قديماً بين مصر وبلاد الإغريق في عهد **الأسرة 26**
- 4- أمر الملك سنوسرت الثالث بحفر قناة **سيزوستريس**
- 5- قام البطالمة باستيرادها واستخدامها في تسليح الجيش المصري **الفيلة**
- 6- تم إنشاء العديد من الموانئ على سواحل البحرين الأحمر والمتوسط أثناء حكم **البطالمة**
- 7- استخدم خشب الأرز في صناعة السفن و**الأثاث**
- 8- شاركت مصر في العديد من المنظمات الاقتصادية منها **الكوميسا**
- 9- أشهر الرحلات التجارية في عصر الدولة الحديثة كان في عهد الملكة **حتشبسوت**

(2) اكتب كلمة (صواب) أمام العبارة الصحيحة، وكلمة (خطأ) أمام العبارة غير الصحيحة:

- 1- أقام ملوك الأسرة 26 مدينة نقرطيس للتجار البطالمة. (خطأ)
- 2- أرسل الملك سنفرو أسطولاً بحرياً إلى فينيقيا لجلب أخشاب الأرز. (صواب)
- 3- قام الملك نخاو الثاني والبحارة الفينيقيون برحلة بحرية حول إفريقيا. (صواب)
- 4- تم حفر قناة سيزوستريس في عصر الدولة الحديثة. (خطأ)
- 5- استورد البطالمة المعادن والفيلة لتسليح الجيش المصري. (صواب)
- 6- ضعفت العلاقات التجارية بين مصر وجيرانها بعد حفر قناة سيزوستريس. (خطأ)
- 7- أرسلت الملكة حتشبسوت رحلة تجارية لفينيقيا لجلب العطور. (خطأ)
- 8- أنشأ البطالمة العديد من الموانئ البحرية في مصر. (صواب)
- 9- شاركت مصر في منظمة التجارة العالمية. (صواب)
- 10- انتشرت صناعة الخزف في مدينة نقرطيس. (صواب)

(3) اختر الإجابة الصحيحة مما بين القوسين:

- 1- ملك مصري أرسل بعثة استكشافية حول إفريقيا
(نخاو الثاني - رمسيس الثاني - تحتمس الثالث - سنوسرت الثالث)
- 2- زاد النشاط التجاري المصري بعد حفر قناة سيزوستريس في
(العصر المتأخر - عصر الدولة القديمة - عصر البطالمة - عصر الدولة الوسطي)
- 3- أحضر الملك سنفرو من فينيقيا
(عسل النحل - الكتان - خشب الأرز - الزيتون)
- 4- أرسل الملك سنفرز بعثات تجارية محملة بالعسل والكتان إلى بلاد النوبة و.....
(اليونان - ليبيا - بلاد بونت - العراق القديم)
- 5- الملك الذي أرسل أسطولاً بحرياً من أربعين سفينة إله فينيقيا هو
(نخاو الثاني - رمسيس الثاني - تحتمس الثالث - سنوسرت الثالث)

- (خوفو - سنوسرت الثالث - تحتمس الثالث - سنفرو)
- 6- استوردت الملكة حتشبسوت البخور والعاج والعمود من بلاد
- (بونت - النوبة - فينقيا - ليبيا)
- 7- حفر قناة سيزوستريس في عصر الملك (سنفرو - تحتمس الثالث - زوسر - سنوسرت الثالث)
- 8- أقام ملوك الأسرة 26 مدينة للتجار والرعايا اليونانيين هي
- (الإسكندرية - نقراتيس - بطليمس - طيبة)
- 9- اشتركت مصر في العديد من المنظمات الاقتصادية الخاصة بقارة إفريقيا منها
- (الاتحاد الأوروبي - الكوميسا - التعاون الخليجي - الأوبك)

(4) صوب ما تحته خط:

- 1- تميزت مدينة نقراتيس بانتشار صناعة الأثاث.
- 2- أرسلت مصر أسطولاً بحرياً لجلب أخشاب الأرز من فينقيا في عصر الملك خفرع.
- 3- تم حفر قناة سيزوستريس في عصر الدولة القديمة.
- 4- أرسلت ملكة حتشبسوت رحلتها التجارية لجلب الأخشاب والبخور من فينقيا.
- 5- أرسل الملك نخاو الثاني رحلة استكشافية حول إفريقيا بمساعدة البحارة الأوروبيين.
- 6- استورد البطالمة المعادن لتسليح الجيش الروماني.
- 7- ازدهرت التجارة المصرية في عصر الدولة الوسطي بعد حفر قناة السويس.

الخزف
سنفرو
الوسطي
بونت
الفينيقيين
المصري
سيزوستريس

(5) فسر ما يلي:

- 1- اهتمام مصر بالانضمام إلى المنظمات الاقتصادية.
- 2- الاستفادة من التجارب الناجحة في تطوير الأنشطة الاقتصادية وزيادة الإنتاج.
- 3- استيراد البطالمة المعادن والفيلة أثناء حكمهم لمصر.
- 4- تسليح الجيش المصري.
- 5- اهتمام البطالمة بإنشاء موانئ على سواحل البحرين الأحمر والمتوسط.
- 6- اهتمامهم بزيادة النشاط التجاري بين مصر ودول العالم.
- 7- إرسال الملكة حتشبسوت رحلتها التجارية إلى بلاد بونت.
- 8- لجلب العلاج والأخشاب والبخور والعمود والحيوانات النادرة والطيور.
- 9- أرسل الملك سنفرو أسطولاً بحرياً مكوناً من 40 سفينة إلى فينقيا.
- 10- لإحضار خشب الأرز الذي يستخدم في صناعة السفن والآثاث.
- 11- أهمية مشروع (الربط الملاحي بين بحيرة فيكتوريا والبحر المتوسط عن طريق نهر النيل).
- 12- لتوصيل البضائع الإفريقية عبر نهر النيل إلى البحر المتوسط ومنها للدول الأوروبية.
- 13- للمساهمة في زيادة التبادل التجاري بين مصر ودول إفريقيا.
- 14- زيادة النشاط التجاري بين مصر وجيرانها في عصر الدولة الوسطي.
- 15- بسبب حفر قناة سيزوستريس في عهد الملك سنوسرت الثالث.
- 16- إنشاء ملوك الأسرة 26 مدينة نقراتيس.
- 17- أنشئت للتجار والرعايا اليونانيين في مصر لما بينهم وبين مصر من علاقات تجارية مزدهرة

(6) اكتب نتيجة واحدة ترتبت على ما يلي:

- 1- انضمام مصر إلى المنظمات الاقتصادية.

- أدى إلى دعم التواصل الاقتصادي مع دول العالم في العصر الحديث.
- 2- اهتمام البطالمة في بداية حكمهم لمصر بالتجارة.
- أدى إلى إنشاء عديد من الموانئ على سواحل البحرين الأحمر والمتوسط.
- 3- إرسال الملك سنفرو أسطولاً بحرياً إلى فينيقيا.
- أدى إلى دخول أخشاب الأرز مصر واستخدامها في صناعة السفن والأثاث.
- 4- إرسال الملكة حتشبسوت رحلة تجارية إلى بلاد بونت.
- أجب بنفسك
- 5- حفر قناة سيزوستريس في عهد الملك سنوسرت الثالث.
- أدى إلى زيادة النشاط التجاري بين مصر وجيرانها.
- 6- بناء مدينة نقرطيس.
- أصبحت مركزاً تجارياً وصناعياً حيث انتشرت بها صناعة الخزف

(7) قارن بين: أجب بنفسك

- الرحلة التجارية التي أرسلها كل من الملك سنفرو - الملكة حتشبسوت من حيث:
- وجهة الرحلة
 - البضائع المستوردة

(8) اكتب دليلاً واحداً لكل عبارة:

- 1-ازدهرت العلاقات التجارية بين مصر وجيرانها في عصر الدولة الحديثة.
- 2- اهتمام البطالمة في بداية حكمهم لمصر بزيادة النشاط التجاري.
- 3- اهتمام مصر بدعم التواصل الاقتصادي مع دول العالم في العصر الحديث.
- 4- حرصت مصر خلال تاريخها على توطيد علاقاتها الاقتصادية بقارة إفريقيا.
- 5- ازدهار العلاقات التجارية مع بلاد الإغريق في العصر المتأخر.
- 6- اهتمام ملوك الدولة الوسطي بالتجارة.