

الصف: الرابع ()

الاسم :



س ١ / أجب عن الأسئلة التالية :

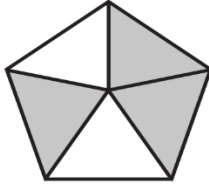
١- كم ستكون الساعة بعد ٣٠ دقيقة ؟

س ٢ / بدأ ثامر رحلة لاداء العمرة في الوقت المحدد أدناه.. وبعد الانتهاء من مناسك عمره بقي بالمسجد الحرام يكمل باقي عباداته حتى الوقت الموضح أمامك .. (أحسب الزمن الذي قضاه داخل المسجد الحرام).

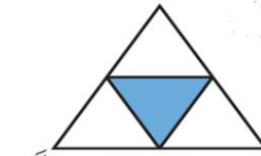


الزمن المنقضي =

س ٣ / اكتب الكسر الذي يمثل الجزء المطلوب تحت كل شكل ممايلي:



الجزء المظلل



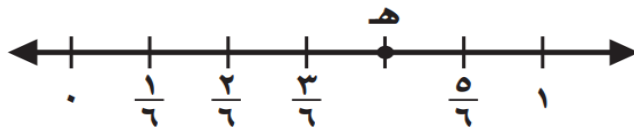
الجزء غير المظلل



الجزء المظلل

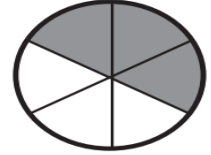
س ٤ / مثل الكسر التالي بالرسم $\frac{4}{7}$

س ٥ / ما الكسر الذي يمثل النقطة (هـ) على خط الأعداد المرسوم أدناه؟



س١٦ سمّ كسرًا أكبر من $\frac{2}{7}$.

س١٧ اكتب الكسر الذي يُمثّل الجزء المُظلل في كُلِّ ممّا يلي، ثمّ أوجد كسرًا مكافئًا له.



س١٨ قارن بين الكسور مستعملًا (< أو > أو =):

$$\frac{2}{3} \bigcirc \frac{2}{5}$$

$$\frac{2}{5} \bigcirc \frac{1}{5}$$

معلم المادة /

انتهت الأسئلة بالتوفيق للجميع