

سلسلة صلاح الدين

في

الدراسات الاجتماعية

المراجعة النهائية

٢٠٢٢ م

للسهادة الإعدادية

إعداد

جيب

أ/ صبرى حسان

٠١١١٢٧٣٨٧٨٥ - ٠١٠٠١٢٦٨٦١٨

أولاً : الجغرافيا

الوحدة الأولى

السؤال الأول :- بم تفسر

- (١) أهمية النشاط الزراعي في العالم ؟
- ١- مصدر لغذاء السكان ٢- مصدر للمواد الخام مثل القطن ٣- يرتبط بها نشاط تربية الحيوانات
- (٢) تتطلب الزراعة الكثيفة أيدي عاملة وفيرة ؟
- لأنها تتم من خلال عدة عمليات زراعية مثل حرث الارض وبذر البذور
- (٣) يصعب استخدام الآلات الحديثة في الزراعة الكثيفة ؟
- بسبب ضيق مساحة الاراضي الزراعية
- (٤) يزرع قصب السكر في المناطق المدارية الحارة في معظم القارات عدا أوروبا ؟
- لأنه يحتاج لدرجة حرارة مرتفعة . لعدم توافر الظروف المناخية المناسبة في أوروبا
- (٥) قلة عدد العاملين بالرعي البدائي في شبه الجزيرة العربية أوفي وسط آسيا ؟
- بسبب توطين البدو وتدفق البترول وانتشار التعليم وتغير نشاطهم بالصناعة والتعدين
- (٦) تعتبر أستراليا أولى الدول في إنتاج الصوف ؟
- بسبب وجود أغنام المارينو ذات الصوف الغزير
- (٧) زيادة معدل الاستهلاك العالمي للحوم ؟
- بسبب ارتفاع مستوى معيشة السكان
- (٨) رغم أن الهند تمتلك ٢٠٠ مليون رأس من الأبقار إلا أن أنتاجها من اللحوم قليل ؟
- بسبب إنتشار الهندوس الذين يعبدون الأبقار ويحرمون ذبحها
- (٩) تعد الولايات المتحدة الأمريكية أكبر الدول المصنعة للألومنيوم ؟
- بسبب توافر مقومات صناعة الألومنيوم وهي الكهرباء العالية والخبرة الفنية واليوكسيت
- (١٠) أهمية البترول ؟
- لأنه يرتبط بالتنمية الاقتصادية والاجتماعية والعلاقات السياسية ويشتق منه البنزين والسولار
- (١١) أسعار البترول في زيادة مستمره ؟
- بسبب زيادة الطلب عليه وتعدد استخداماته
- (١٢) توسع العالم في استخدام الغاز الطبيعي كبديل لمصادر الطاقة الأخرى ؟
- لنظافة استخدامه ورخص أسعاره وسهولة نقله

السؤال الثاني :- أكمل العبارات الاتية

- (١) الزراعة البدائية هي زراعة يقوم بها عدد قليل من السكان في منطقة صغيرة و معزولة .
- (٢) تمارس الزراعة الكثيفة لتوفير الاحتياجات الغذائية اللازمة للسكان المحليين دون وجود فائض
- (٣) من أهم المحاصيل في الزراعة الواسعة القمح و القطن
- (٤) يعتبر القمح المحصول الرئيسي لمعظم شعوب العالم .
- (٥) تستهلك أمريكا الشمالية الذرة كعلف للماشية
- (٦) يعد محصول قصب السكر المحصول الأول لإنتاج السكر .

- (٧) أكبر الدول المنتجة للسكر البرازيل
- (٨) يحتاج الشاي في الزراعة إلى تربة خصبة خفيفة و مناخ حار و هواء رطب و مطر غزير
- (٩) يرتبط النشاط الرعوي بمناطق الحشائش في العالم .
- (١٠) يوجد الرعي البدائي في دول وسط آسيا حيث الصحاري الحارة
- (١١) ينتشر الرعي التجاري في نطاق الحشائش في أمريكا الجنوبية في دولة الأرجنتين
- (١٢) تعد الأبقار المصدر الرئيسي لإنتاج اللحوم و الألبان .
- (١٣) تعد دولة الولايات المتحدة الأمريكية أكبر الدول في العالم في إنتاج الدواجن .
- (١٤) من العوامل التي تساعد علي صيد و تربية الأسماك ضحالة المياه الساحلية و إتقاء التيارات البحرية الباردة والدافئة و توافر الخبرات الفنية و توافر الموانئ لرسو السفن
- (١٥) من مناطق الصيد في العالم سواحل شمال غرب أوروبا و سواحل قارة أمريكا الشمالية
- (١٦) أولي دول العالم إنتاجاً للأسماك هي الصين بينما أهم الدول المصدرة الصين والنرويج و تايلاند
- (١٧) من العمليات التي تسبق عملية التعدين البحث والكشف و إعداد المناجم
- (١٨) من الدول المنتجة للحديد الصين و أستراليا
- (١٩) من الدول المصدرة للحديد موريتانا و البرازيل
- (٢٠) من الدول المستوردة للحديد اليابان و بريطانيا
- (٢١) من مقومات صناعة الألومنيوم الكهرباء العالية والخبرة الفنية ووجود خام البوكسيت
- (٢٢) تنتج قارة أوروبا ثلث الإنتاج العالمي للغاز الطبيعي .
- (٢٣) من الدول العربية المنتجة للغاز الطبيعي الجزائر و السعودية و قطر و مصر
- (٢٤) من أنواع الكهرباء الكهرباء الحرارية والكهرباء المائية والكهرباء النووية
- (٢٥) تختلف الصناعات في الدول حسب نوعيتها (خفيفة-ثقيلة) و مدى تركزها و جودتها
- (٢٦) من الدول النامية التي ارتفعت بمستوي شعوبها الصين و جنوب أفريقيا و مصر
- (٢٧) من المقومات الطبيعية للصناعة المواد الخام و مصادر الطاقة و الموقع المتميز
- (٢٨) من المقومات البشرية للصناعة الأيدى العاملة و التطور العلمي و الأسواق و رأس المال
- (٢٩) من المراكز الصناعية الرئيسية في العالم إقليم غرب ووسط أوروبا و شمال شرق الولايات المتحدة
- (٣٠) يعمل الإتحاد الأوروبي علي حماية و تدعيم الصناعة في إقليم غرب أوروبا .
- (٣١) من المراكز الصناعية في إقليم غرب أوروبا بريطانيا وفرنسا و ألمانيا
- (٣٢) يعد إقليم شمال شرق الولايات المتحدة أكبر الإقليم الصناعية في العالم الجديد .
- (٣٣) من الصناعات في إقليم شمال شرق الولايات المتحدة الصناعي الصناعات الهندسية و صناعة الإلكترونيات و صناعة السيارات
- (٣٤) من المراكز الصناعية في إقليم روسيا وأوكرانيا منطقة الأورال و منطقة موسكو
- (٣٥) من المناطق الصناعية في شرق آسيا جزيرة هونشو اليابانية و جمهورية كوريا والصين
- (٣٦) من المراكز الصناعية الحديثة في العالم كندا والمكسيك في أمريكا الشمالية و ماليزيا و سنغافورة و أندونيسيا و تايلاند في جنوب شرق آسيا .
- (٣٧) تعد البرازيل و الأرجنتين و شيلي من المراكز الصناعية الحديثة في أمريكا الجنوبية

سلسلة صلاح الدين طريقك إلي التفوق

السؤال الثالث :- اختر مما بين القوسين الإجابة الصحيحة

- ١- تنتشر الزراعة البسيطة في
- (المناطق الحارة و المعتدلة - المناطق الحارة و هوامش المناطق الاستوائية)
- ٢- من المحاصيل التي تزرع في الزراعة الكثيفة..... (القمح - اليام - الموز)
- ٣- من أهم الدول المنتجة للسكر (الهند - السنغال - كوريا)
- ٤- ينتشر الرعي التجاري في أمريكا الشمالية في مناطق (السافانا - البراري - التندرا)
- ٥- تعد دولة ثاني دول العالم إنتاجاً للألبان (الولايات المتحدة - روسيا - الصين - ألمانيا)
- ٦- تسهم دول بنصيب كبير في سوق البترول و الغاز الطبيعي يصل إلي ٤٧ % من التجارة الدولية . (الخليج العربي - أوروبا - أفريقيا)
- ٧- أدت الوحدة الاقتصادية الأوروبية إلي (عزل أوروبا عن العالم - التكامل في الجوانب الاقتصادية - تأخر أوروبا)
- ٨- تعد من المراكز الصناعية في إقليم غرب ووسط أوروبا (بريطانيا - فرنسا - ألمانيا - جميع ما سبق)
- ٩- دعمت هيئة الاقتصاد في إقليم غرب ووسط أوروبا الصناعي (الاتحاد الأفريقي - الاتحاد الأوروبي - الاتحاد السوفيتي)
- ١٠- جزيرة هنشو و جمهورية كوريا من المناطق الصناعية في (غرب أوروبا - شمال شرق الولايات المتحدة - شرق آسيا)
- ١١- يتمثل في شكل مناطق متباعدة هو إقليم (روسيا و أوكرانيا - شمال شرق الولايات المتحدة - شرق آسيا)
- ١٢- تتركز في دول الخليج العربي الصناعات (الخفيفة - الاستهلاكية - البترولية)

السؤال الرابع :- ضع علامة (✓) أو علامة (x) أمام العبارات الآتية مع التصويب

- (✓) من أهم المحاصيل في الزراعة البدائية الذرة و اليام و الكسافا
- (✓) تنتشر الزراعة العلمية في جنوب شرق آسيا
- (✓) من حيوانات الرعي في التندرا حيوان الرنة
- (x) تكفي الألبان حاجة مصر من الغذاء
- (✓) توافر الموانئ لرسو السفن الصيد يساعد علي تطور حرفة الصيد
- (x) من العوامل الطبيعية لتطوير الصيد توافر الخبرات الفنية والعلمية في صناعة المراكب وأدوات الصيد
- (x) تعد لحوم الحيوانات المنتج الثاني لغذاء الإنسان
- (✓) ضحالة المياه الساحلية و توافر الموانئ من العوامل الطبيعية للصيد
- (✓) من أهم الدول المصدرة للأسماك الصين و النرويج وتايلاند
- (✓) من أهم الدول المنتجة للألومنيوم الولايات المتحدة الأمريكية
- (✓) كان الفحم هو المصدر الرئيسي للثورة الصناعية في أواخر القرن الـ ١٨
- (✓) يتم توليد الكهرباء النووية من المحطات النووية السلمية
- (x) تنتج الطاقة الكهربائية من طاقة الأمواج في الدول النامية

السؤال الخامس :- ما المقصود بالعبارات الآتية

- ١- زراعة الأرض بشكل مكثف أكثر من مرة في العام الواحد بأكثر من محصول (الزراعة الكثيفة)

- ٢- زراعة تنتشر في المناطق المعتدلة و الحارة
- ٣- زراعة تتم في مزارع واسعة تهدف إلي الإنتاج الضخم
- ٤- يستخرج من عصارة أشجار أستوائية
- ٥- رعي تمارسه جماعات سكانيه في المناطق الواسعة
- ٦- رعي يمارس في مناطق الحشائش و يعتمد علي الأساليب العلمية الحديثة و التخصص في حيوان المرعي (الرعي التجاري)
- ٧- دولة شهيرة بإنتاج الصوف الجيد لتوافر أغنام المارينو الشهيرة بغزاره الصوف (أستراليا)
- ٨- عملية استخراج المعادن و مصادر الطاقة من باطن الأرض (التعدين)
- ٩- معدن يدخل في صناعة الأسلاك و الأدوات الكهربائية (النحاس)
- ١٠- تكون من نباتات كانت موجودة منذ ملايين السنين في باطن الأرض انطمرت تحت الصخور و تحولت إلي مادة كربونية سوداء (الفحم)
- ١١- دولة تحتل المركز الاول في الإنتاج العالمي للفحم (الصين)
- ١٢- نشأ بسبب تحلل كائنات عضوية تعيش في البحار و غطتها رواسب الطين (البتترول)
- ١٣- يوجد في باطن الارض داخل مسام الصخور وقد توجد بشكل منفصل او مصاحب لوجود البترول و عادة ما تلوه لطفه وزنه (الغاز الطبيعي)
- ١٤- كهرباء يتم توليدها عن طريق تدفق المياه من الشلالات أو السدود (الكهرومائية)
- ١٥- نوع من أنواع الكهرباء ينتج من محطات تدار بالفحم أو البترول أو الغاز الطبيعي (الكهرباء الحرارية)

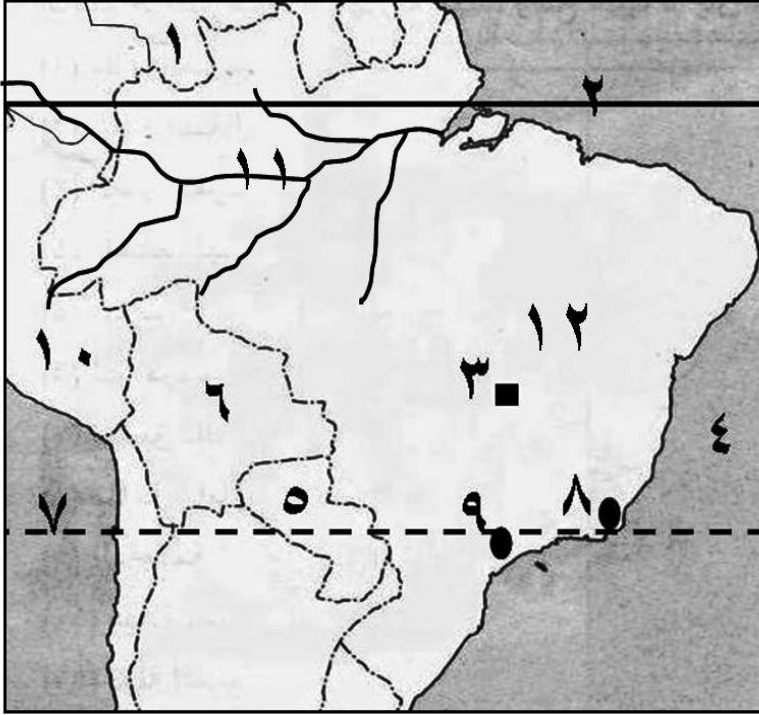
السؤال السادس:- ما النتائج المترتبة علي

- ١) ضيق المساحات المزروعة في الزراعة الكثيفة ؟
- أدى إلى عدم إمكانية استخدام الآلات الحديثة
- ٢) تقدم وسائل الصيد و صناعة حفظ و تعليب الأسماك في اليابان ؟
- أدى إلى ضخامة إنتاج الأسماك في اليابان
- ٣) الوحدة الاقتصادية الأوروبية ؟
- أدى إلى التكامل في الجوانب الاقتصادية والصناعية و حمايتها جمركياً

سلسلة صلاح الدين طريقك إلي التفوق

الوحدة الثانية

السؤال الأول : (١) أمامك خريطة البرازيل وضح مدلول الأرقام التي عليها

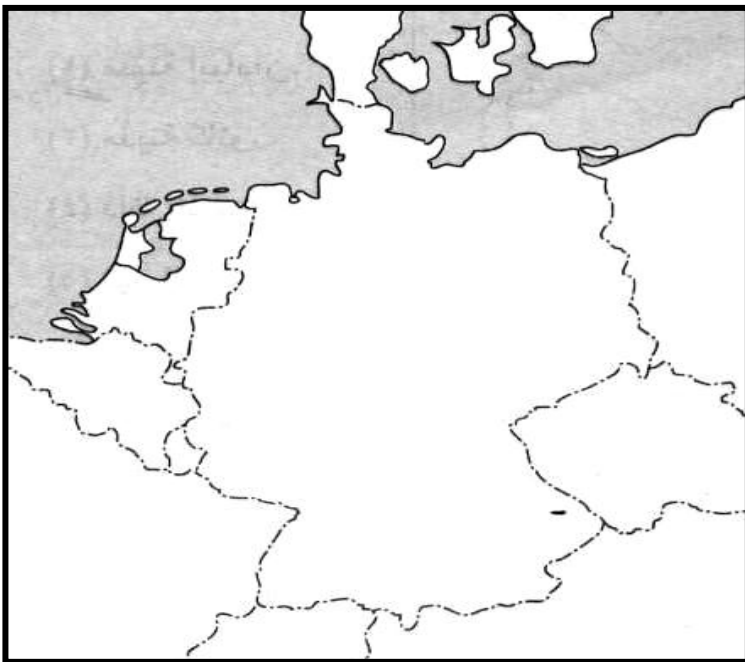


- (١) دولة
- (٢) دائرة عرض
- (٣) مدينة
- (٤) المحيط
- (٥) دولة
- (٦) دولة
- (٧) دائرة عرض
- (٨) مدينة
- (٩) مدينة
- (١٠) دولة
- (١١) نهر
- (١٢) هضبة
- (١٣) المحيط
- (١٤) البحر
- (١٥) دولة

(١٦) دولة

سلسلة صلاح الدين طريقك إلي التفوق

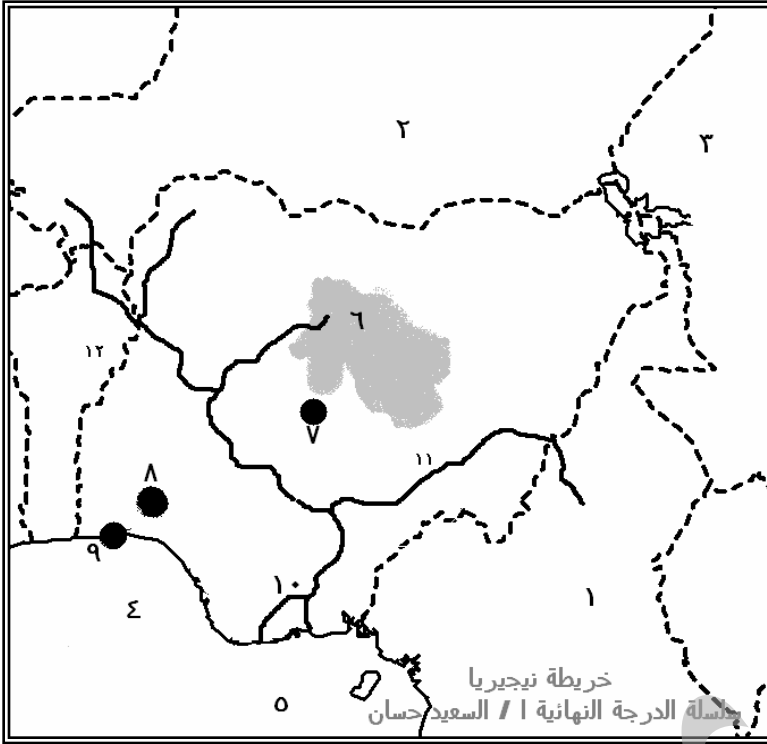
(٢) أمامك خريطة المانيا وضح مدلول الأرقام التي عليها (هامة جداً)



- (١) البحر
- (٢) دولة
- (٣) البحر
- (٤) دولة
- (٥) دولة
- (٦) دولة
- (٧) دولة
- (٨) دولة
- (٩) دولة
- (١٠) دولة
- (١١) دولة
- (١٢) مدينة
- (١٣) مدينة
- (١٤) مدينة
- (١٥) نهر
- (١٦) نهر

(١٦) نهر (١٧) نهر (١٨) جبال (١٩) السهل

(٣) أمامك خريطة لنيجيريا وضح مدلول الأرقام التي عليها



- (١) دولة الكاميرون
- (٢) دولة النيجر
- (٣) دولة تشاد
- (٤) خليج غينيا
- (٥) المحيط الأطلسي
- (٦) هضبة جوس
- (٧) مدينة أبوجا
- (٨) مدينة إيبادان
- (٩) مدينة لاجوس
- (١٠) دلتا نهر النيجر
- (١١) نهر النيجر
- (١٢) دولة بنين

سؤال الخريطة مضمون ووضح مدلول الأرقام التي عليها
سلسلة صلاح الدين طريقك إلي التفوق

السؤال الثاني:- أكمل العبارات الآتية

- (١) يسود المظهر الهضبي سطح البرازيل .
- (٢) يسود المناخ المعتدل أقصى جنوب شرق البرازيل .
- (٣) الهنود الحمر هم السكان الأصليين في البرازيل .
- (٤) تتركز الصناعة في البرازيل في أقصى الجنوب الشرقي .
- (٥) تستورد مصر من البرازيل البن و اللحوم و الدخان و السكر .
- (٦) استقلت نيجيريا عن بريطانيا و تضم ١٢ ولاية .
- (٧) تقع هضبة جوس وسط السهول الشمالية في نيجيريا .
- (٨) تزداد التلال ارتفاعا في نيجيريا في الشمال الغربي .
- (٩) يقع معظم نيجيريا ضمن المناخ المداري الحار أما الأجزاء الجنوبية فتقع ضمن المناخ الإستوائي .
- (١٠) تنمو حشائش السافانا في شمال نيجيريا .
- (١١) تغطي الغابات الإستوائية و المدارية الجزء الجنوبي من نيجيريا .
- (١٢) تعد نيجيريا أكبر الدول الإفريقية من حيث عدد السكان .
- (١٣) يعتمد الاقتصاد في نيجيريا علي الزراعة .
- (١٤) يعد الإقليم الغربي أهم مناطق نيجيريا في الزراعة .
- (١٥) تغطي الغابات في نيجيريا نحو ثلث المساحة .
- (١٦) من أهم الصناعات في نيجيريا الغزل و النسيج و تكرير البترول و الصناعات الكيماوية .
- (١٧) تعد مدينة لاجوس العاصمة القديمة بينما أبوجا العاصمة الحديثة لنيجيريا .

- (١٨) تقع ألمانيا في غرب قارة أوروبا .
 (١٩) تعد المرتفعات الوسطى من أهم مناطق جذب السياح في ألمانيا .
 (٢٠) تغطي المرتفعات الوسطى بألمانيا بالغابات الصنوبرية
 (٢١) تصب أنهار إلب و فيزر و الراين في بحر الشمال بألمانيا .
 (٢٢) يسود ألمانيا مناخ غرب أوروبا
 (٢٣) تغطي الغابات ثلث مساحة ألمانيا و تغطي الغابات ثلث نيجيريا .
 (٢٤) من أهم الغابات في نيجيريا الإستوائية والمدارية
 (٢٥) تعد الصناعة العمود الفقري للاقتصاد الألماني .
 (٢٦) من أهم الصناعات في ألمانيا الحديد والصلب و السيارات و السفن و المنسوجات
 (٢٧) تصدر ألمانيا إلي مصر السيارات و الآلات
 (٢٨) تمول ألمانيا لمحطات توليد الكهرباء من الرياح . في مصر .

السؤال الثالث:- ضع علامة (✓) أو علامة (x) أمام العبارات الآتية مع التصويب

- (✓) (١) تعد نيجيريا أولي الدول الإفريقية إنتاجاً للمطاط
 (✓) (٢) يزرع الأرز في نيجيريا في دلتا نهر النيجر
 (x) (٣) تقع نيجيريا في شرق قارة أوربا
 (x) (٤) تعتمد نيجيريا في الزراعة علي نهر النيل في الزراعة
 (✓) (٥) يسقط المطر علي معظم نيجيريا في فصل الصيف
 (✓) (٦) يقل السكان في نيجيريا في دلتا نهر النيجر
 (x) (٧) تعد نيجيريا رابع الدول الإفريقية في إنتاج الأرز
 (✓) (٨) أكثر من نصف أراضي نيجيريا صالحة للزراعة
 (✓) (٩) تصدر نيجيريا إلي مصر الحبوب الزيتية
 (✓) (١٠) تصدر مصر إلي نيجيريا الأسمدة والمعدات الثقيلة و الأسلاك النحاسية
 (✓) (١١) تنمو حشائش السافانا فوق هضبة البرازيل
 (✓) (١٢) يتركز السكان في الساحل الجنوبي الشرقي من البرازيل
 (✓) (١٣) يعمل بالزراعة في البرازيل ربع القوي العاملة
 (✓) (١٤) الرعي من الحرف المهمة في الاقتصاد البرازيلي
 (✓) (١٥) تصب انهار إلب و فيزر و الراين في بحر الشمال
 (x) (١٦) تقع ألمانيا غرب قارة أفريقيا و بلغ مساحتها ٣٥٧ الف كم^٢
 (✓) (١٧) يمثل الألمان الأغلبية العظمي من سكان ألمانيا بنسبة ٩١ %
 (✓) (١٨) تتوافر مقومات الصناعة الحديثة في ألمانيا
 (✓) (١٩) توسعت ألمانيا في الصناعة خاصة بعد الحرب العالمية الأولى
 (x) (٢٠) توجد الجامعة الألمانية في الإسكندرية
 (✓) (٢١) يوجد في مصر معهد الآثار الألماني

السؤال الرابع:- ما المقصود بالعبارات الآتية

- | | |
|--------------------------|---|
| (القصدير) | (١) معدن يستخرج من هضبة جوس في نيجيريا |
| (الفحم) | (٢) معدن يستخرج من المنطقة الشرقية من نيجيريا |
| (البترول) | (٣) وصل إنتاج نيجيريا منه حوالي ٣ % من الإنتاج العالمي و يستخرج من الساحل في الجنوب الشرقي |
| (أبوجا) | (٤) العاصمة السياسية لنيجيريا و هي مدينة داخلية |
| (إبيدان) | (٥) مدينة تعتبر مركزا للتجارة و التعليم في نيجيريا |
| (لاجوس) | (٦) أكبر المدن النيجيرية من حيث السكان |
| (لاجوس) | (٧) تعتبر العاصمة الاقتصادية لنيجيريا |
| (برازيليا) | (٨) العاصمة الحالية للبرازيل |
| (السهل الألماني الشمالي) | (٩) يعد من أكبر الأقاليم التضاريسية في ألمانيا |
| (المرتفعات الوسطى) | (١٠) عبارة عن هضاب متقطعة تفصل بينهما سهول خصبة و تغطي بالغابات الصنوبرية و تكثر بها التلال و الينابيع في ألمانيا |
| (الزراعة) | (١١) نشاط يعمل به حوالي ٣ % من سكان ألمانيا |
| (برلين) | (١٢) العاصمة السياسية لألمانيا |
| (ميونخ) | (١٣) مدينة ألمانية يوجد بها مقر شركات السيارات العالمية |
| (ميونخ) | (١٤) ثالث أكبر مدن ألمانيا في عدد السكان |

السؤال الخامس:- بم تفسر

- (١) يتركز السكان في نيجيريا في الغرب والسهول الشمالية و هضبة جوس ؟
- بسبب وجود الاراضى الزراعية والمراعى ومناطق التعدين
- (٢) يقل السكان في دلتا نهر النيجر في نيجيريا ؟
- بسبب وجود الغابات الكثيفة والظروف المناخية القاسية
- (٣) يعد اقتصاد نيجيريا اقتصادا نامياً ؟
- لأنه يعتمد فى المقام الأول على الزراعة
- (٤) توجد في نيجيريا أعداد كبيرة من الأبقار و الإغنام و الماعز ؟
- بسبب وجود مراعى حشائش السافانا
- (٥) تنتج نيجيريا كميات كبيرة من الأسماك ؟
- بسبب طول سواحلها على خليج غينيا ووجود أنهار وبحيرات فى الداخل
- (٦) نقل العاصمة من ريودي جانيرو إلى برازيليا ؟
- لتعمير هضبة البرازيل وإعادة توزيع السكان نحو الداخل
- (٧) يتركز السكان في نيجيريا في الغرب والسهول الشمالية و هضبة جوس ؟
- بسبب وجود الاراضى الزراعية والمراعى ومناطق التعدين
- (٨) يقل السكان في دلتا نهر النيجر في نيجيريا ؟
- بسبب وجود الغابات الكثيفة والظروف المناخية القاسية
- (٩) يعد اقتصاد نيجيريا اقتصادا نامياً ؟
- لأنه يعتمد فى المقام الأول على الزراعة
- (١٠) انكماش مساحة الغابات في ألمانيا في الوقت الحالي ؟
- بسبب إحلال الزراعة محلها والتوسع العمرانى

- (١١) تعد المرتفعات الوسطي مناطق جذب للسياح؟
- لأنها تكثر بها التلال وينابيع المياه
- (١٢) يتركز سكان ألمانيا في المدن الصناعية الكبرى؟
- لوجود فرص العمل في الشركات والمصانع العالمية
- (١٣) توسعت ألمانيا في الصناعة بعد الحرب العالمية الثانية؟
- بسبب توافر مقومات الصناعة وتدفق الإستثمارات وتوافر المراكز العلمية

سلسلة صلاح الدين طريقك إلي التفوق

ثانياً : التاريخ

الوحدة الثالثة

السؤال الأول:- أكمل العبارات الآتية

- ١- من أهم أهداف تنظيم الضباط الأحرار القضاء على الفساد و العمل على تحرير وإستقلال مصر
- ٢- من مظاهر سوء الأحوال الاجتماعية إنتشار الإقطاع
- ٣- من مطالب ثورة ٢٣ يوليو ١٩٥٢ م تنازل الملك عن العرش لابنه الصغير أحمد فؤاد الثاني و مغادرة الملك للبلاد قبل الساعة السادسة من مساء يوم ٢٦ يوليو ١٩٥٢ م
- ٤- من أهداف الثورة القضاء على الإستعمار و القضاء على الإقطاع و القضاء على الإحتكار و إقامة عدالة إجتماعية و إقامة حياة ديمقراطية سليمة و إقامة جيش وطنى قوى
- ٥- تم إلغاء الملكية و إعلان الجمهورية في ١٨ يونية ١٩٥٣ م .
- ٦- وقعت اتفاقية الجلاء بين مصر و بريطانيا و نصت علي رحيل الاستعمار في خلال ٢٠ شهر
- ٧- قامت الثورة بـ تخصير البنوك و شركات التأمين .
- ٨- قامت أول وحدة عربية بين مصر و سوريا عام ١٩٥٨ م .
- ٩- شاركت مصر في مؤتمر باندونج باندونيسيا ١٩٥٥ م .
- ١٠- كسرت مصر احتكار السلاح العالمي بعقد صفقة الأسلحة الشرقية
- ١١- التقت الأهداف الاستعمارية للحركة الصهيونية و بريطانيا و بدأ الاستيلاء علي فلسطين .
- ١٢- من الإجراءات التي اتخذتها بريطانيا لتنفيذ وعد بلفور السماح بهجرة أعداد كبيرة من اليهود و السماح بانتقال ملكية الارض من العرب لليهود
- ١٣- وافقت الأمم المتحدة علي تقسيم فلسطين ١٩٤٧ م .
- ١٤- من المذابح التي ارتكبها اليهود في حق الفلسطينيين مذبحة دير ياسين
- ١٥- لم تستطع فرنسا و انجلترا من التقدم نحو الاسماعيلية بسبب شدة المقاومة المصرية
- ١٧- فشل العدوان الثلاثي علي مصر بسبب تنديد الامم المتحدة بالعدوان و تهديد الاتحاد السوفيتي و وقوف الشعوب العربية بجانب مصر
- ١٦- تم وضع قوات طوارئ دولية بين مصر و إسرائيل منذ عام ١٩٥٧ م .
- ١٧- من نصوص قرار ٢٤٢ لمجلس الأمن إنهاء حالة الحرب بين مصر وإسرائيل و حرية الملاحة في الممرات الدولية و إنشاء مناطق منزوعة السلاح
- ١٨- من الإجراءات التي اتخذتها مصر علي المستوي الداخلي للاستعداد لحرب أكتوبر رفع الرقابة علي الصحف و إصدار دستور جديد للبلاد
- ٢١- من الإجراءات التي اتخذتها مصر علي المستوي العربي للاستعداد للحرب تصفية الخلافات وتوحيد الصف العربي و الاستفادة من كل الموارد والامكانيات العربية المتاحة
- ٢٢- تم تدمير خط بارليف في حرب أكتوبر علي الجبهة المصرية .
- ٢٣- من الدول العربية التي قدمت مساعدات عسكرية أثناء الحرب العراق و الجزائر و السودان
- ٢٤- من الدول العربية التي قدمت مساعدات مالية أثناء الحرب السعودية و الإمارات و الجزائر
- ٢٥- أصدر وزراء النفط العربي قرار بحظر الصادرات البترولية إلي الولايات المتحدة
- ٢٦- أصدر مجلس الأمن قرار رقم ٣٣٨ بوقف اطلاق النار بداية من ٢٢ أكتوبر ١٩٧٣ م.

- ٢٧- حصل المشير أحمد إسماعيل علي وسام نجمة سيناء .
- ٢٨- انتهت نظرية الأمن الإسرائيلي بعد انهيار خط بارليف
- ٢٩- ساهمت التكنولوجيا المتطورة لوسائل الاتصال في اندلاع ثورة ٢٥ يناير ٢٠١١م.
- ٣٠- من الأسباب الداخلية التي أدت إلي قيام ثورة ٢٥ يناير تدهور الأوضاع الاقتصادية و سوء الأوضاع الاجتماعية وتدهور الأحوال الصحية والخدمية والتعليمية
- ٣١- عانى المصريين من الظلم طوال حكم مبارك بسبب قانون الطوارئ
- ٣٢- أطاحت ثورة ٢٥ يناير ٢٠١١م بالرئيس محمد حسني مبارك
- ٣٣- شكل المجتمع المصري بكل فئاته ما عرف بـ اللجان الشعبية لمواجهة أعمال السرقة و النهب
- ٣٤- إستمرت المتظاهرون في مصر في ثورتهم أثناء ثورة ٢٥ يناير لمدة ١٨ يوماً .
- ٣٥- أكدت الأحداث المتتالية بعد الثورة أن الجيش هو الضامن الأقوي للثورة
- ٣٦- تخلي مبارك عن الحكم في ١١ فبراير ٢٠١١م
- ٣٧- بادر الرئيس محمد أنور السادات بزيارة إسرائيل عام ١٩٧٧م
- ٣٨- دعا الرئيس الأمريكي كارتر كلا من الرئيس السادات و بيجين رئيس وزراء إسرائيل لعقد اجتماعات في كامب ديفيد بالولايات المتحدة .
- ٣٩- من أهم نصوص معاهدة السلام انسحاب إسرائيل الكامل من سيناء وإنهاء حالة الحرب بين مصر و إسرائيل و إحترام كل طرف لسيادة واستقلال الطرف الآخر
- ٤٠- تم انسحاب إسرائيل الكامل من سيناء في ١٩٨٢م ما عدا منطقة طابا
- ٤١- عادت طابا لمصر في ١٩٨٩م
- ٤٢- شاركت مصر في مؤتمر مدريد عام ١٩٩١ م .
- ٤٣- دعا مؤتمر مدريد إلي حل النزاع العربي الإسرائيلي على أساس مبدأ الأرض مقابل السلام.
- ٤٤- من مزايا تحقيق السلام بين العرب و إسرائيل الاستقرار الداخلي للبلاد العربية و دفع العجلة التمنية الاقتصادية والاجتماعية و تشجيع رؤوس الأموال العربية والأجنبية للاستثمار في مصر و الدول العربية

السؤال الثاني:- ما المقصود بالعبارات الآتية

- ١- تنظيم تكون من ضباط الجيش المصري تزعمه جمال عبد الناصر (تنظيم الضباط الاحرار)
- ٢- بني عام ١٩٧١م و حمي مصر من خطر الفيضان (السد العالي)
- ٣- قانون نص علي تحديد الملكية الزراعية للفرد (قانون الاصلاح الزراعي)
- ٤- حركة ساهمت مصر في تشكيلها عام ١٩٥٥م (حركة عدم الانحياز)
- ٥- وعد نص علي تعهد بريطانيا ببذل مساعيها لإنشاء وطن قومي لليهود في فلسطين (وعد بلفور)
- ٦- نظام وضعته عصبة الأمم بعد أنتهاء الحرب العالمية الأولى (الانتداب)
- ٧- مؤتمر أعطي حق الانتداب البريطاني علي فلسطين عام ١٩٢٠م (سان ريمو)
- ٨- أصبحت منطقة دولية في فلسطين بعد التقسيم (القدس)
- ٩- خليج اغلقته مصر احكاما للحصار الاقتصادي علي اسرائيل (خليج العقبة)
- ١٠- معركة كبدت فيها القوات المصرية القوات الاسرائيلية خسائر فادحة و أجبرتها علي الانسحاب من مدينة بور فؤاد (رأس العش)
- ١١- نجحت الصواريخ البحرية المصرية في تدميرها (إيلات)
- ١٢- وزير خارجية الولايات المتحدة التي تقدم بمبادرة لوقف إطلاق النار (روجرز)
- ١٣- يعد أعلي الأوسمة العسكرية (وسام نجمة سيناء)
- ١٤- شارك في حرب ١٩٤٨ و العدوان الثلاثي ١٩٥٦م و استشهد في حرب الاستنزاف (عبد المنعم رياض)

المراجعة العامة للصف الثالث الإعدادي سلسلت صلاح الدين

- ١٥- أظهرت حرب أكتوبر أهميته كسلاح استراتيجي (البترو)
١٦- معاهدة تمت بين مصر و إسرائيل برعاية أمريكية (معاهدة السلام)
١٧- اتفاقية وقعت برعاية أمريكية في سبتمبر ١٩٩٣م (اتفاقية أوسلو)
١٨- مدينة اسبانية عقد بها مؤتمر للسلام عام ١٩٩١م (مدريد)
١٩- مدينة نرويجية حدثت بها مفاوضات سرية بين إسرائيل و منظمة التحرير الفلسطينية (أوسلو)
٢٠- طريقة اقتصادية طبقت في مصر دون ضوابط علمية أدت لظهور طبقة جديدة تمكنت من تحقيق ثروة طائلة دون مشقة (سياسة الانفتاح الاقتصادي)
٢١- قانون استمر العمل به منذ تولي مبارك الحكم (قانون الطوارئ)
٢٢- تشكيلات تكونت من المجتمع المصري لحماية المنشآت أثناء ثورة ٢٥ يناير (اللجان الشعبية)
٢٣- تحويل ملكية الشركات من الملكية الخاصة إلى الملكية العامة (تأميم)
٢٤- تحويل ملكية الشركات من الملكية العامة إلى الملكية الخاصة (الخصخصة)
٢٥- أصبحت البنوك وشركات التأمين شركات مصرية (تمصير)

السؤال الثالث :- ما النتائج المترتبة على

- ١- توقيع مصر لمعاهدة ١٩٣٦م ؟
١- أصبحت مصر ميدان للحرب العالمية الثانية
٢- ثورة ٢٣ يوليو ١٩٥٢ في المجال السياسي ؟
١- إلغاء دستور ١٩٢٣م ٢- حل الأحزاب السياسية ٣- إلغاء الملكية وإعلان الجمهورية
٣- حرب فلسطين ١٩٤٨م ؟
١- إحتلال إسرائيل كل فلسطين ماعدا قطاع غزة (إدارة مصرية) والضفة الغربية (الأردن) والقدس قسمت بين العرب واليهود
٤- وقوف مصر بجانب سوريا بإرسالها قوات لشبة جزيرة سيناء ؟
أدى إلى (العدوان الإسرائيلي) عدوان ٥ يونيو على مصر ١٩٦٧م
٥- عدوان ٥ يونيو ١٩٦٧م ؟
١- إحتلال إسرائيل لسيناء بالكامل من مصر ٢- إحتلال إسرائيل للضفة الغربية من الأردن
٣- إحتلال إسرائيل لقطاع غزة والقدس من فلسطين ٤- إحتلال إسرائيل لهضبة الجولان من سوريا
٦- بناء حائط الصواريخ علي الضفة الغربية لقناة السويس ؟
تجنب الطائرات الإسرائيلية الأقتراب من منطقة قناة السويس أثناء حرب أكتوبر
٧- قيام المدفعية المصرية بإطلاق النيران علي طول القناة ؟
١- إقامة معابر علي طول قناة السويس ٢- تدمير خط بارليف ٣- إنتشار القوات المصرية شرق القناة
٨- العمليات العسكرية السورية في حرب أكتوبر ١٩٧٣م ؟
١- وصول القوات السورية لعمق ٢٠ كم داخل هضبة الجولان
٢- خسرت إسرائيل عدد كبير من الجنود والطائرات
٩- حرب أكتوبر ١٩٧٣م ؟
١- تحطم أسطورة الجيش الإسرائيلي الذي لا يقهر ٢- إنتهاء نظرية الأمن الإسرائيلي
٣- إنهاء حالة اللاحرب واللاسلم ٤- أظهرت أهمية إستخدام النفط العربي
١٠- مؤتمر كامب ديفيد سبتمبر ١٩٧٨م ؟
وضع إطار إتفاق للسلام بين مصر وإسرائيل
١١- مؤتمر مدريد للسلام ؟
الإتفاق على حل النزاع العربي الإسرائيلي على أساس الأرض مقابل السلام

- ١٣- زيارة الرئيس السادات لإسرائيل في سبتمبر ١٩٧٧ م ؟
- لحل النزاع العربي الإسرائيلي سلمياً ولتحقيق السلام العادل لكل شعوب المنطقة
- ١٤- أهمية توقيع اتفاقية أوسلو للسلام ١٩٩٣ م ؟
- لأنه تم الإتفاق على إقامة حكومة ذاتية فلسطينية وإقامة مجلس تشريعي منتخب للشعب الفلسطيني
- ١٥- انسحاب اسرائيل من سيناء ما عدا منطقة طابا ؟ بسبب
- أهمية موقع طابا الإستراتيجي على خليج العقبة وللخلاف على تعيين مكان بعض علامات الحدود
- ١٦- تدهور الأوضاع الاقتصادية في مصر قبل ثورة ٢٥ يناير ٢٠١١ م ؟ بسبب
- تطبيق سياسة الإنفتاح الإقتصادي دون ضوابط علمية والتطبيق غير السليم لسياسة الخصخصة
- ١٧- فساد الحياة السياسية قبل ثورة ٢٥ يناير ٢٠١١ م ؟
- بسبب إستمرار العمل بقانون الطوارئ ومشروع التوريث
- ١٨- يعتبر يوم ١١ فبراير ٢٠١١ م يوماً تاريخيا في حياة الشعب المصري ؟
- بسبب تخلي الرئيس مبارك عن رئاسة الجمهورية
- ١٩- قيام الشعب بثورة ٣٠ يونية ٢٠١٣ ؟ بسبب
- ١- إستمرار تدهور الاحوال الاقتصادية ٢- لإستكمال مطالب ثورة ٢٥ يناير ٢٠١١ م

السؤال الخامس :- من صاحب الأعمال التالية

- (١) أجبرت الملك فاروق علي تعيين مصطفى النحاس رئيساً للحكومة (بريطانيا)
- (٢) أذاع البيان الأول لثورة ٢٣ يوليو ١٩٥٢ م (محمد انور السادات)
- (٣) عين رئيساً للجمهورية حتي ١٤ نوفمبر ١٩٥٤ م (اللواء محمد نجيب)
- (٤) أصدر الدستور الدائم لمصر ١٩٧١ م (محمد انور السادات)
- (٥) أقامت جسراً جويًا لتقديم المساعدات العسكرية لإسرائيل (الولايات المتحدة)
- (٦) تولي القيادة العامة الاتحادية للقوات المصرية و السورية في حرب أكتوبر ١٩٧٣ م (أحمد إسماعيل)
- (٧) قاد خطة الخداع لصرف أنظار إسرائيل عن التجهيزات للحرب (المشير أحمد إسماعيل)
- (٨) شارك في وضع خطة العبور و تحطيم خط بارليف (الفريق سعد الدين الشاذلي)
- (٩) تم تكريمه في الذكرى الـ ٣٩ لحرب أكتوبر بمنح اسمه قلادة النيل العظمي (سعد الدين الشاذلي)
- (١٠) شغل منصب رئيس هيئة عمليات القوات المسلحة ١٩٧٢ م (الفريق محمد عبد الغنى الجمسى)
- (١١) أصبح رئيساً لأركان حرب القوات المسلحة عام ١٩٧٣ م (الفريق محمد عبد الغنى الجمسى)
- (١٢) سحبت قواتها من فلسطين في ١٤ مايو ١٩٤٨ م (بريطانيا)
- (١٣) تدخل بعد عدوان ٥ يونيه و اصدر قرار رقم ٢٤٢ (مجلس الامن)
- (١٤) قال : إن ما أخذ بالقوة لا يسترد الا بالقوة (جمال عبد الناصر)
- (١٥) نادي بالسلام العادل لكل شعوب المنطقة (محمد انور السادات)
- (١٦) هيئة أصدرت حكمها لصالح مصر في سبتمبر ١٩٨٨ م (محكمة العدل الدولية)

السؤال السادس:- ضع علامة (√) أو علامة (x) أمام العبارات الآتية مع التصويب

١. تم إنشاء مصانع الحديد والصلب في أسوان و مصانع الأسمدة في حلوان (x)
٢. أعطت الثورة حق مجانية التعليم و تحديد ساعات العمل و منح المرأة حق الترشح لمجلس الأمة (√)
٣. من الدول التي ساندتها مصر لحصولها علي إستقلالها كينيا (√)
٤. قامت ثورة ١٩٣٦ في فلسطين بقيادة مفتي القدس (√)
٥. أعلن اليهود قيام دولة اسرائيل في ١٥ مايو ١٩٤٨م (√)
٦. طلبت مصر من قوات الطوارئ الدولية الانسحاب من بعض النقاط عام ١٩٦٧م (√)
٧. كانت القوات المصرية في سيناء أثناء حرب ٥ يونيه دون غطاء جوي (√)
٨. أعطي الرئيس محمد أنور السادات إشارة بدء حرب أكتوبر ١٩٧٣م (√)
٩. تحطمت أعداد كبيرة من الطائرات العسكرية الاسرائيلية في أكتوبر (√)
١٠. من المساعدات العربية خفض إنتاج البترول في حرب أكتوبر (√)
١١. أنهت حرب أكتوبر حالة اللا حرب واللا سلم (√)
١٢. اغتيل السادات في السادس من أكتوبر ١٩٨١ (√)
١٣. نصت معاهدة السلام علي حرية واحترام الملاحة في الممرات الدولية (√)
١٤. نصت معاهدة السلام علي البدء بمفاوضات لإنشاء حكم ذاتي للفلسطينيين (√)
١٥. حدثت مفاوضات علنية بين إسرائيل و منظمة التحرير الفلسطينية في مدينة أوسلو عاصمة النرويج (x)
١٦. تعد ثورة ٢٥ يناير من الثورات الفريدة في العصر الحديث (√)
١٧. كان للفيس بوك دور كبير في ثورة ٢٥ يناير ٢٠١١م (√)
١٨. أدي تطبيق الخصخصة إلي خروج العاملين بنظام التقاعد المبكر (√)
١٩. تدهورت الأحوال الاجتماعية للمصريين في أواخر حكم مبارك (√)
٢٠. خلي مجلس الشعب ٢٠١٠م من أي معارضة تذكر بعد تزوير الانتخابات (√)
٢١. تدخلت القوات المسلحة لمنع انزلاق مصر في نفق مظلم من الصراع و الاقتتال بين أبناء شعب مصر (√)

سلسلة صلاح الدين طريقك إلي التفوق

الوحدة الرابعة

س ١: أكمل العبارات التالية بما يناسبها :

- ١- أنشأ الخديوى اسماعيل مجلس شورى النواب عام ١٨٦٦م
- ٢- أصدر الرئيس السادات الدستور الدائم لمصر عام ١٩٧١م
- ٣- نص أول دستور فى عهد ثورة يوليو على أن السلطة التشريعية تكون فى يد مجلس منتخب هو مجلس الأمة
- ٤- تتمثل السلطة التشريعية فى مصر طبقاً لدستور ٢٠١٤م فى مجلس هو مجلس النواب
- ٥- ظهرت مجلة الريحانة أول مجلة نسائية مصرية على يد جميلة حافظ
- ٦- التحقت المرأة بـ الجامعة المصرية عام ١٩٢٨م
- ٧- كانت السيدة هدى شعراوى فى رئاسة لجنة الوفد المركزية للسيدات
- ١٢- كان لمصر دور رائد مع الهند ويوغوسلافيا سابقاً عام ١٩٥٥م فى تشكيل حركة عدم الانحياز

س ٢: اختر الإجابة الصحيحة من بين الأقواس :

- ١- أول دستور فى مصر تضمن حرية تكوين الأحزاب السياسية وانشاء البرلمان صدر عام (١٩٢٣م - ١٩٣٠م - ١٩٥٦م - ١٩٧١م)
- ٢- وجدت فى مصر مجالس استشارية فى النصف الأول من القرن (١٧ - ١٨ - ١٩ - ٢٠)

س ٣: ضع علامة (√) أو (×) امام العبارات التالية مع تصويب الخطأ :

- ١- يعتبر عام ١٨٦٦م بداية الحياة النيابية فى مصر (√)
- ٢- صدر الدستور الدائم لمصر فى عهد جمال عبدالناصر (×)
- ٣- أنشأ محمد على مجلس المشورة عام ١٩٢٧م (×)
- ٤- ساهمت المرأة فى تاسيس الصحف النسائية التى تتبنى القضايا النسائية (√)
- ٥- تهانى الجبالى أول وزيرة للشئون الإجتماعية فى مصر (×)

س ٤: اكتب ما تشير إليه كل عبارة من العبارات الآتية :

- ١- المجالس النيابية التى تتولى السلطة التشريعية فى الدولة (البرلمان)
- ٢- يتولى سلطة التشريع وإقرار الموازنه العامة للدولة (البرلمان)
- ٣- أول مجلة نسائية مصرية عام ١٩٠٧م (الريحانة)

س ٥: بم تفسر :

- ١- كانت الحياة النيابية صورية فى عهد محمد محمد على ؟
لأنه أنشأ عدة مجالس إستشارية لا سلطة لها
- ٢- صدور الدستور الدائم عام ١٩٧١م ؟
ليؤكد على سيادة القانون وإستقلال القضاء وإقرار مبادئ التعددية الحزبية
- ٣- أهمية الإدارة المحلية ؟
لأنها تتولى الأشراف على الشؤون الصحية والتعليمية والخدمات والمرافق فى المحافظة
- ٤- تلعب منظمات المجتمع المدنى دوراً هاماً فى العملية السياسية ؟
لأنها تعتبر مكمل للعمل الحكومى مثل توفير مناخ يحقق الوحدة الوطنية

س ٦: ما النتائج المترتبة على كلا من :

- ١- الصراعات الحزبية فى مصر بعد ثورة ١٩١٩م ؟
أدى إلى ضعف الأحزاب وعدم الإستقرار السياسى

س ٧: ما المقصود بكلام من :

- ١- الحياة النيابية أن يقوم الشعب بانتخاب ممثلين عنه لإدارة شئون الحكم وسن القوانين ومراقبة اعمال الحكومة
- ٢- الدستور الوثيقة الرسمية التى تحدد نظام الحكم فى الدولة
- ٣- البرلمان المجالس النيابية التى تتولى السلطة التشريعية فى الدولة
- ٤- عد الانحياز عدم الانضمام لى من الكتلتين الشرقية أو الغربية

أهم التواريخ والأحداث

م	التاريخ	الحدث
١	١٨٦٦م	أنشأ الخديو إسماعيل مجلس شورى النواب
٢	١٨٧٣م	أنشأ الخديو إسماعيل اول مدرسة لتعليم البنات
٣	١٩٠٧م	صدرت اول مجلة نسائية على يد جميلة حافظ
٤	١٩١٧م	أصدرت إنجلترا وعد بلفور
٥	١٩٢٠م	مؤتمر سان ريمو - تشكلت لجنة الوفد المركزية للسيدات
٦	١٩٢٨م	إلتحقت المرأة المصرية بالجامعة المصرية
٧	١٩٣٦م	معاهدة ١٩٣٦ فى مصر - ثورة ١٩٣٦ فى فلسطين
٨	١٩٤٢م	محاصر بريطانيا لقصر عابدين بالدبابات وإرغامه على تعيين مصطفى النحاس
٩	١٩٤٥م	وضع ميثاق جامعة الدول العربية - إنشاء الأمم المتحدة
١٠	١٩٤٧م	إعلان الامم المتحدة قرار تقسيم فلسطين
١١	١٩٤٨م	إعلان اليهود قيام دولة إسرائيل فى فلسطين - وقيام حرب فلسطين
١٢	١٩٥٢م	قيام ثورة ٢٣ يوليو
١٣	١٩٥٣م	إلغاء النظام الملكى وإعلان النظام الجمهورى
١٤	١٩٥٤م	عقد الرئيس جمال عبد الناصر إتفاقية الجلاء مع بريطانيا
١٥	١٩٥٥م	عقدت مصر صفقة الأسلحة الشرقية مع الإتحاد السوفيتى - مؤتمر بانونج
١٦	١٩٥٦م	العدوان الثلاثى على مصر (إنجلترا - فرنسا - إسرائيل)
١٧	١٩٥٧م	وضع قوات طوارئ دولية على الحدود بين مصر وإسرائيل
١٨	١٩٥٨م	الوحدة العربية بين مصر وسوريا
١٩	١٩٦٤م	إستضافة مصر لأول قمة إفريقية على أرضها

٢٠	١٩٦٧م	مصر تطلب من قوات الطوارئ الدولية الإنسحاب من بعض المواقع - العدوان الإسرائيلي على مصر (النكسة)
٢١	١٩٦٩م	مؤتمر القمة الإسلامية فى الرباط بالمغرب
٢٢	١٩٦٩ - ١٩٧٠م	حرب الإستنزاف
٢٣	١٩٧١م	الرئيس السادات يصدر الدستور الدائم لمصر
٢٤	١٩٧٣م	حرب أكتوبر المجيدة
٢٥	١٩٧٧م	مبادرة السلام للرئيس السادات بزيارة إسرائيل
٢٦	١٩٧٨م	مؤتمر كامب ديفيد للسلام
٢٧	١٩٧٩م	معاهدة السلام بين مصر و غسرايل بمشاركة الولايات المتحدة الأمريكية
٢٨	١٩٨٢م	إستعادة مصر لسيناء ماعدا مدينة طابا
٢٩	١٩٨٨م	أصدرت محكمة العدل الدولية حكمها التاريخى بحق مصر فى منطقة طابا
٣٠	١٩٨٩م	عودة طابا لمصر
٣١	١٩٩١م	مؤتمر مدريد للسلام
٣٢	١٩٩٣م	إتفاقية أوسلو
٣٣	٢٠١١م	قيام ثورة ٢٥ يناير ٢٠١١م
٣٤	٢٠١٣م	قيام ثورة ٣٠ يونيو ٢٠١٣م
٣٥	٢٠١٤م	دستور جديد لمصر وإجراء إنتخابات رئاسية فاز فيها المرشح عبد الفتاح السيسى

خالص تُمْنِيَّاتِي بِالنَّجَاحِ وَالتَّوْفِيقِ

أ. صبرى حسان