

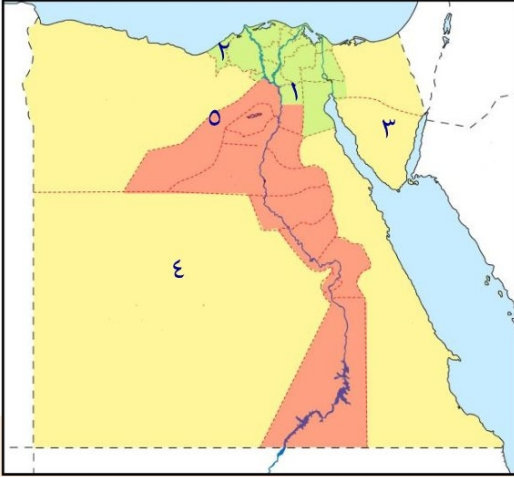
(الدراسات الاجتماعية)

الوحدة الأولى

الدرس الأول نمو السكان وتوزيعهم في بلدنا

١ السؤال الأول

(أ) - أمامك خريطة لمصر اكتب مدلول الأرقام المشار إليها



١- محافظة جاذبة للسكان

٢- محافظة جاذبة للسكان

٣- محافظة نادرة السكان

٤- محافظة نادرة السكان

٥- مدينة مزدحمة جدا بالسكان

(ب) ما العلاقة بين

(١) التقدم الطبي وعدد الوفيات

(٢) عدد المواليد وتنظيم الأسرة

(٣) العشوائيات والهجرة

2 السؤال الثاني

اكتب كلمة (صواب) امام العبارات الصحيحة وكلمة (خطأ) أمام العبارات غير الصحيحة

- () (١) تعد مصر من أقدم الدول التي أجرت التعدادات السكانية
- () (٢) يزداد السكان بشكل طبيعي في حالة زيادة عدد المواليد عن عدد الوفيات
- () (٣) يتساوى توزيع السكان على أرض مصر
- () (٤) تعد محافظة القاهرة والإسكندرية من المحافظات الطاردة للسكان
- () (٥) يتركز معظم السكان في مصر في محافظات الحدود الصحراوية
- () (٦) تضاعف عدد السكان ١٤ مرة في الفترة بين ١٨٨٢ و ٢٠١٧

- () (٧) انخفاض عدد المواليد في مصر بسبب تنظيم الأسرة
- () (٨) تحتل مصر المرتبة الخامسة إفريقيا من حيث عدد السكان
- () (٩) تحتل مصر المرتبة الثالثة عالميا من حيث عدد السكان
- () (١٠) تنقسم الهجرة إلى هجرة داخلية وهجرة خارجية
- () (١١) الهجرة من مصر إلى ألمانيا تسمى هجرة داخلية
- () (١٢) يهاجر بعض الأفراد للبحث عن فرصة عمل أفضل
- () (١٣) تظهر العشوائيات نتيجة الهجرة الخارجية
- () (١٤) توافر المياه العذبة وخصوبة التربة من العوامل البشرية في توزيع السكان
- () (١٥) توافر المياه العذبة أحد أسباب تركيز السكان في محافظات الحدود الصحراوية
- () (١٦) تسعى الدولة المصرية لإعادة توزيع السكان بين المحافظات

(ب) - اكتب ما تشير إليه العبارات التالية

- ١- زيادة عدد السكان خلال فترة زمنية معينة
- ٢- الفرق بين عدد المواليد والوفيات في فترة زمنية معينة
- ٣- انتقال الأفراد من مكان إلى آخر
- ٤- انتقال السكان بين المحافظات
- ٥- انتقال السكان بين مصر ودول العالم
- ٦- النسبة بين عدد السكان ومساحة الأرض التي يعيشون عليها

3 السؤال الثالث

(أ) - ضع خطأً تحت الإجابة الصحيحة مما بين القوسين

- (١) تضاعف عدد سكان مصر في الفترة من ١٨٨٢ لعام ٢٠١٧ مرة
(٨ - ١١ - ١٤ - ٢٠)
- (٢) انخفض عدد المواليد في مصر بسبب
(تنظيم الأسرة - التقدم الطبي - الزواج المبكر - الرعاية الصحية)

(٣) انخفض عدد الوفيات في مصر نتيجة

(زيادة الإنجاب - التقدم الطبي - الزواج المبكر - انتشار الأمراض)

(٤) إحدى العوامل الطبيعية التي أدت لزيادة السكان في الوادي والدلتا

(توافر الخدمات - خصوبة التربة - سهولة المواصلات - وعوة السطح)

(٥) تغير أعداد السكان بسبب الزيادة الطبيعية والهجرة يسمى

(التعداد السكاني - الكثافة السكانية - النمو السكاني - الندرة السكانية)

(٦) الفرق بين عدد المواليد وأعداد الوفيات يسمى

(الزيادة الطبيعية - النمو السكاني - التعداد السكاني - الكثافة السكانية)

(٧) إحدى المحافظات الجاذبة للسكان

(مطروح - الوادي الجديد - القاهرة - شمال سيناء)

(٨) النسبة بين عدد السكان ومساحة الأرض التي يعيشون عليها تسمى

(نمو السكان - كثافة سكانية - زيادة طبيعية - هجرة داخلية)

(ب) اكتب تفسيرا واحد

١- هجرة السكان من مكان إلى آخر

٢- انخفاض عدد المواليد في مصر في السنوات الأخيرة

٣- انخفاض عدد الوفيات في مصر

٤- ظهور العشوائيات في مصر

٥- تركيز السكان بمحافظات الوادي والدلتا

٦- ندرة السكان في محافظات الحدود الصحراوية

(ج) - اكتب نتيجة واحدة ترتبت على ما يلي :-

(١) هجرة السكان من مكان لآخر

(٢) تقدم الرعاية الطبية في مصر

(٣) الهجرة الداخلية بين المحافظات المصرية

(د) - أكمل العبارات التالية

- ١- أكثر المدن ازدحاما بالسكان هما مدينتا و
- ٢- تنقسم الهجرة إلى قسمين هما و
- ٣- تزداد الكثافة السكانية في محافظات و
- ٤- من المحافظات الجاذبة للسكان محافظة و محافظة
- ٥- تتمثل الزيادة الطبيعية للسكان في الفرق بين عدد و

اكتب مقترحا لحل

مشكلة الكثافة السكانية في محافظات الوادي والدلتا

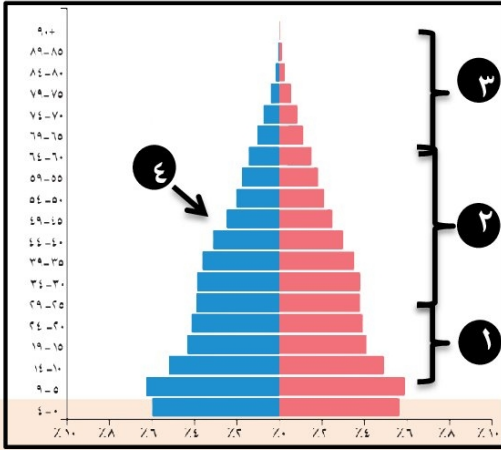
(الدراسات الاجتماعية)

الوحدة الأولى

الدرس الثاني الهرم السكاني لمصر

السؤال الأول

(أ) - أمامك صورة لهرم السكاني المصري وفقا لتقديرات عام ٢٠٢٢ وضح ما يلي



١- الفئة المنتجة في مصر تمثل رقم

٢- يشير رقم (١) على الهرم السكاني لفئة

٣- يوضح اللون الوردي في الهرم السكاني إحصائيات

٤- يشير رقم (٤) على الهرم السكاني لإحصائيات

٥- الهرم السكاني لمصر يتسم بالقاعدة

(ب) ما العلاقة بين

(١) عدد المواليد وقاعدة الهرم السكاني

(٢) الأفراد في سن (١٥- ٦٤ سنة) واقتصاد الدولة

السؤال الثاني

اكتب كلمة (صواب) امام العبارات الصحيحة وكلمة (خطأ) امام العبارات غير الصحيحة

١. الهرم السكاني عبارة عن رسم بياني يوضح توزيع السكان من حيث النوع والعمر ()

٢. تزداد نسبة الإناث عن نسبة الذكور في مصر ()

٣. التركيب النوعي عبارة عن تصنيف السكان حسب الفئة العمرية ()

٤. يشير اللون الوردي في الهرم السكاني إلى إحصائيات الذكور ()

٥. الفئة المنتجة في الهرم السكاني المصري توجد في قمة الهرم ()

٦. الفئة التي تعول كبار السن وصغار السن هي فئة سن العمل ()

٧. يحتل كبار السن قمة الهرم السكاني ()
٨. يتسم الهرم السكاني بالقاعدة العريضة إذا انخفض عدد المواليد ()
٩. يتسم الهرم السكاني لمصر بالقاعدة العريضة ()
١٠. تساعدنا بيانات الهرم السكاني في تحديد احتياجات السكان ()
١١. اصدرت الدولة قوانين بحظر عمالة الأطفال ()
١٢. يمثل العاملون بحرفة الصناعة ربع قوة العمل في مصر ()
١٣. يساعد التعداد السكاني على التخطيط الجيد لمستقبل الدول ()

(ب) - اكتب ما تشير إليه العبارات التالية

- (١) عبارة عن رسم بياني يوضح توزيع السكان من حيث النوع والعمر.....
- (٢) تصنيف السكان على حسب النوع (ذكور - وإناث)
- (٣) تصنيف السكان على حسب الفئة العمرية
- (٤) تصنيف السكان على حسب النشاط الاقتصادي
- (٥) الفئة العمرية التي تحتل قمة الهرم المصري
- (٦) الفئة العمرية التي تحتل قاعدة الهرم المصري

3 السؤال الثالث

(أ) - اختر الاجابة الصحيحة مما بين القوسين

- (١) يطلق على تصنيف السكان إلى ذكور وإناث اسم التركيب
(النوعي - العمري - الاقتصادي - اللغوي)
- (٢) تظهر احصائيات الذكور على الهرم السكاني باللون
(الوردي - الأزرق - الأخضر - الأصفر)
- (٣) تصنيف السكان إلى كبار وأطفال وشباب يسمى التركيب
(النوعي - العمري - الاقتصادي - اللغوي)
- (٤) يحتل قاعدة الهرم السكاني المصري فئة
(كبار السن - صغار السن - الشباب - سن العمل)

- (٥) الفئة العمرية التي تحتل قمة الهرم السكاني لمصر هي فئة
- (كبار السن - صغار السن - الأطفال - الشباب)
- (٦) الفئة العمرية الأكثر عددا في الهرم السكاني لمصر تحتل الهرم
- (قاعدة - قمة - منتصف - أعلى)
- (٧) أهم الفئات العمرية لزيادة الإنتاج والعمل
- (. : ٤ - ٩:٥ - ١٥ : ٦٤ - ٦٥ فأكثر)
- (٨) تمثل فئة صغار السن في مصر نحو من السكان
- (النصف - الثلث - الربع - الخمس)
- (٩) اتساع قاعدة الهرم السكاني في مصر يدل على ارتفاع معدل
- (الوفيات - المواليد - البطالة - الأمية)
- (١٠) يتسم الهرم السكاني المصري بالقاعدة
- (الضيقة - المدببة - العريضة - الصغيرة)
- (١١) كلما انخفض عدد المواليد يتسم الهرم السكاني بالقاعدة
- (العريضة - الضيقة - المدببة - الواسعة)
- (١٢) أهم الأنشطة الاقتصادية التي يمارسها السكان في مصر هي
- (الزراعة - الصناعة - التجارة - السياحة)

(ب) اكتب تفسيرا واحد

١. أهمية دراسة الهرم السكاني ؟

٢. اتساع قاعدة الهرم السكاني لمصر

٣. اختلاف شكل الهرم السكاني من دولة لأخرى

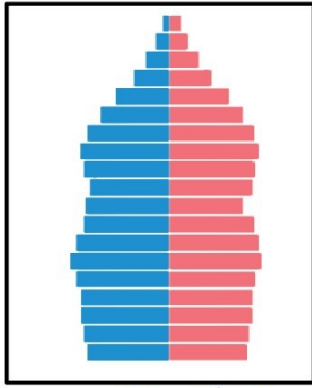
٤. يتوقع زيادة عدد كبار السن في مصر مستقبلا

٥. أهمية الفئة العمرية (١٥-٦٤ سنة) في مصر

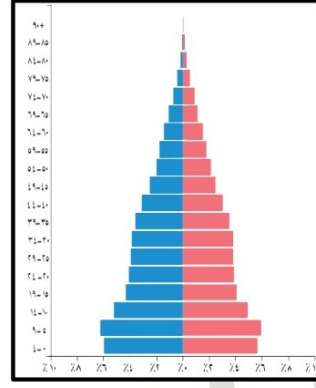
(ج) - اكتب نتيجة واحدة ترتبت على ما يلي :-

١. زيادة عدد المواليد بالنسبة لشكل الهرم السكاني المصري

أمامك صورتين للهرم السكاني أيهما يعبر عن الهرم السكاني لمصر الشكل (١ - ٢)



الشكل (٢)



الشكل (١)

١- إلى أي أنواع الأهرامات السكانية ينتمي الهرم (٢) ؟

.....

٢- اذكر تأثير كل هرم سكاني من الهرمين على برامج التنمية في الدولة ؟

.....

.....


(الدراسات الاجتماعية)

الوحدة الأولى

الدرس الثالث مشكلة الزيادة السكانية في بلدنا

السؤال الأول

(أ) - أمامك صورة تعبر عن تأثير الزيادة السكانية على مشروعات التنمية في الدولة



١- أذكر أسباب مشكلة الزيادة السكانية ؟

٢- تأثر الزيادة السكانية على مشروعات التنمية

(إيجاباً - سلبياً)

٣- اكتب مقترحا لحد من مشكلة الزيادة السكانية؟

(ب) ما العلاقة بين

١- الزيادة السكانية وتلوث البيئة

٢- الزيادة السكانية وندرة الموارد

السؤال الثاني

اكتب كلمة (صواب) امام العبارات الصحيحة وكلمة (خطأ) امام العبارات غير الصحيحة

- () ١) تظهر مشكلة الزيادة السكانية نتيجة تجاوز عدد السكان للموارد والخدمات
- () ٢) تساوى عدد السكان مع الموارد المتاحة يسبب المشكلة السكانية
- () ٣) يزداد متوسط عمر الفرد بسبب تحسن الرعاية الصحية
- () ٤) تراجع معدل الوفيات بسبب تحسن الرعاية الصحية
- () ٥) يؤدي الزواج المبكر إلى ظهور مشكلة الزيادة السكانية
- () ٦) مشكلة الزيادة السكانية تؤدي إلى تنمية الدولة

- () (٧) تؤثر الزيادة السكانية إيجاباً على الموارد والبيئة
- () (٨) الزيادة السكانية تؤدي إلى الضغط على الخدمات
- () (٩) تؤدي مشكلة الزيادة السكانية إلى تقليل الأعباء على الدولة المصرية
- () (١٠) أصدرت الدولة العديد من القوانين للحد من الزواج المبكر
- () (١١) يزداد إنجاب الأطفال في الحضر عن الريف
- () (١٢) تؤدي الزيادة السكانية إلى زيادة نصيب الفرد من الموارد
- () (١٣) تفضيل الذكور على الإناث يدفع بعض الأسر إلى الاستمرار في الإنجاب
- () (١٤) تنظيم الأسرة يساعد على انخفاض النمو السكاني في مصر

(ب) - صوب ما تحته خط فيما يلي

- (١) يزداد انجاب الأطفال خاصة في **الحضر**
- (٢) مشكلة الزيادة السكانية تعمل على **إقامة** مشروعات التنمية
- (٣) نتيجة لتحسن الرعاية الصحية **زاد** معدل وفيات الأطفال الرضع
- (٤) الاستهلاك الزائد للموارد يؤثر **إيجابياً** على البيئة

3 السؤال الثالث

(أ) - اختر الإجابة الصحيحة مما بين القوسين

- (١) تجاوز عدد السكان للموارد المتاحة يسمى
- (كثافة سكانية - مشكلة الزيادة السكانية - هجرة داخلية - هجرة خارجية)
- (٢) تظهر المشكلة السكانية عندما يزيد عدد السكان على
- (الأفراد - الأنشطة - الموارد - التجارة)
- (٣) زيادة متوسط عمر الفرد وتراجع عدد الوفيات نتيجة الاهتمام بالرعاية
- (الاجتماعية - الثقافية - الصحية - السياحية)
- (٤) أي من العناصر التالية يعد حلاً مناسباً لمشكلة الزيادة السكانية
- (الزواج المبكر - كثرة الانجاب - تنظيم الأسرة - تفضيل الذكور على الإناث)
- (٥) أصدرت الدولة قوانين تجرم عمالة
- (الشيوخ - الأطفال - المراهقين - الرجال)

(ب) اكتب تفسيراً واحداً

(١) تراجع وفيات الأطفال الرضع وزيادة متوسط عمر الفرد؟

(٢) التوسع في بناء المدن الجديدة واستصلاح الصحراء؟

(٣) مشكلة الزيادة السكانية تزيد الأعباء على الدولة المصرية ؟

(ج) - اكتب نتيجة واحدة ترتبت على ما يلي :-

(١) تحسن الرعاية الصحية

(٢) مشكلة الزيادة السكانية

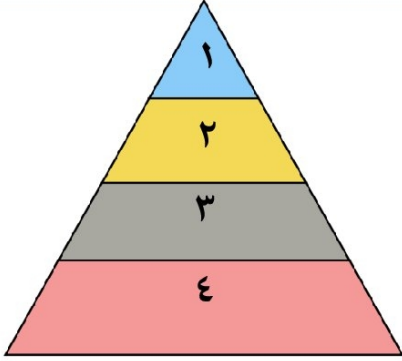
(الدراسات الاجتماعية)

الوحدة الأولى

الدرس الرابع الحياة الاجتماعية في بلدنا

السؤال الأول

(أ) - أمامك شكل يمثل طبقات المجتمع المصري القديم بالاستعانة به أجب عما يأتي:-



(١) يأتي على قمة هرم طبقات المجتمع المصري قديما ؟

(الوزير - الكاتب - الملك - الكاهن)

(٢) يشترك الحرفيين في الطبقتين و.....

(٣) الوزير وكبار الكهنة كانوا ينتمون إلى الطبقة

(الأولى - الثانية - الثالثة - الرابعة)

(٤) تكونت قاعدة هرم طبقات المجتمع المصري القديم من

(الفلاحين والرعاة - الملك وأسرته - صغار الموظفين - كبار الكهنة)

(ب) برهن على صحة العبارات التالية

(١) اختلفت ملابس المصريين القدماء باختلاف طبقاتهم الاجتماعية

.....

(٢) احتفل المصريون القدماء بالعديد من المناسبات والأعياد

.....

السؤال الثاني

اكتب كلمة (صواب) امام العبارات الصحيحة وكلمة (خطأ) امام العبارات غير الصحيحة

(١) كان لكل طبقة دور مهم في بناء الحضارة المصرية القديمة ()

(٢) كان الوزير وكبار الكهنة في مصر الفرعونية ينتمون إلى الطبقة الثالثة في المجتمع ()

(٣) تكونت الطبقة الثانية في المجتمع المصري القديم من صغار الموظفين ()

(٤) صنعت ملابس الملك قديما من الحرير والكتان على الجودة ()

(٥) تشابهت ملابس الملوك مع ملابس عامة الشعب في مصر القديمة ()

(٦) لعبت الأسرة دور مهم في نشأة الحضارة المصرية القديمة ()

- () (٧) حرص المصري القديم على تربية أولاده وتعليمهم القيم الحميدة
- () (٨) يتشابه دور الأب في مصر القديمة مع دور الأب حالياً
- () (٩) اقتصر اهتمام الأبناء في الأسرة المصرية القديمة على اللعب واللهو
- () (١٠) احتفل المصريون القدماء بعيد الفيضان والحصاد
- () (١١) اهتم المصريون القدماء بأدوات الزينة
- () (١٢) تعد العطور من أدوات الزينة عند المصريين القدماء
- () (١٣) اهتم المصريون القدماء بأدوات الزينة فارتدوا الشعر المستعار
- () (١٤) اهتم المصريون القدماء بارتداء الأساور والقلائد
- () (١٥) تولت المرأة حكم البلاد في مصر قديماً
- () (١٦) احتفل المصريون القدماء بأعياد خاصة بالملك

(ب) - صوب ما تحته خط فيما يلي

- (١) صنعت ملابس عامة الشعب من **القطن**
- (٢) صنعت ملابس الملك والأغنياء قديماً من الكتان على الجودة و **الصوف**
- (٣) اهتم المصريون القدماء بألعاب التفكير مثل لعبة **السباحة**
- (٤) الإشراف على الأعمال المتعلقة بالمنزل أحد أدوار **الأب**

3 السؤال الثالث

- (أ) - اختر الإجابة الصحيحة مما بين القوسين
- (١) من ألعاب التفكير في مصر قديماً
- (التحطيب - السنن - السباحة - المصارعة)
- (٢) صنعت ملابس الملك والأغنياء قديماً من
- (الحرير - الصوف - القطن - الجلود)
- (٣) صنعت ملابس عامة الشعب في مصر الفرعونية من
- (الكتان - القطن - الحرير - الصوف)

- (٤) كانت ملابس الملك تصنع من الحرير وتطرز ب.....
(النحاس - الذهب - الحديد - الخشب)
- (٥) المسئول عن رعاية أفراد الأسرة وتوفير الحاجات الأساسية
(الأم - الأب - الأبن - الأبنه)
- (٦) أحد أفراد الأسرة ومن مهامه الإشراف على أعمال المنزل
(الأم - الأب - الأبن - الأبنه)
- (٧) ارتبط بعد أعياد المصري القديم بالزراعة منها عيد
(شم النسيم - الفطر - ميلاد الملك - الحصاد)
- (٨) أحد الألعاب الرياضية التي مارسها المصري القديم
(السنه - الجمباز - المصارعة - الباليه)

(ب) اكتب تفسيراً واحداً

(٤) اختلاف الملابس في مصر القديمة؟

(٥) استقرار وتقدم المجتمع المصري القديم؟

(٦) أهمية دور الأم في الأسرة المصرية القديمة؟

(٧) أهمية دور الأب في الأسرة المصرية القديمة؟

(الدراسات الاجتماعية)

الوحدة الأولى

الدرس الخامس الحياة الدينية في بلدنا

١ السؤال الأول

(أ) - أكمل العبارات التالية بكلمات مناسبة من بنك الكلمات:-

(آتون - كوش - أختاتون - البعث - الخلود - عشتار - التحنيط - أوزوريس - ماعت)

١. شيد الملك أمنحتب الرابع مدينة
٢. حفظ جسد الإنسان بعد الموت يسمى
٣. إلهة الحق والعدل في مصر القديمة هي الإلهة
٤. دعا الملك أمنحتب الرابع إلى عبادة إله واحدة وهو الإله
٥. انتشرت عبادة الإله آمون في مملكة
٦. أخذ المصريون القدماء من حضارة العراق القديم عبادة المعبودة
٧. حياة أبدية لا موت بعدها تسمى

(ب) ما العلاقة بين

(١) الطبيعة والحياة الدينية عند المصريين القدماء

(٢) البعث والخلود وعملية التحنيط

2 السؤال الثاني

اكتب كلمة (صواب) امام العبارات الصحيحة وكلمة (خطأ) امام العبارات غير الصحيحة

- (١) اتخذ المصريون القدماء معبوداتهم من الطبيعة ()
- (٢) اتخذت مملكة الشمال معبودا مختلفا عن معبود مملكة الجنوب ()
- (٣) عرف شعب مصر التدين والقيم الحميدة والسلام منذ القدم ()
- (٤) تكونت محكمة الموتى من ٤٢ قاضيا يمثلون أقاليم مصر ()

- () (٥) اتخذ الملك أمنحتب الرابع القمر رمزا للإله آتون
- () (٦) المعبود الذي تولى رئاسة محكمة الموتى هي الإلهة ماعت
- () (٧) آمن المصري القديم بأنه سيحاسب على أفعاله بعد الموت
- () (٨) كان لكل أقاليم مصر معبود واحد
- () (٩) انتشرت عبادة الإله آتون في عصر الملك أمنمحات الثالث
- () (١٠) عرف المصريون القدماء عبادة إله واحد في عهد الملك خوفو
- () (١١) اهتم المصريون القدماء ببناء المقابر نتيجة اعتقادهم في البعث والخلود
- () (١٢) تأثرت حضارة العراق وفينيقيا بفكرة البعث والخلود عند المصريين القدماء
- () (١٣) انتشرت عبادة بعض الآلهة المصرية القديمة بين شعوب الحضارات الأخرى

(ب) - صوب ما تحته خط فيما يلي

- (١) رمز الملك أمنحتب الرابع للإله آتون بقرص **القمر**
- (٢) دعا الملك **أمنمحات الأول** إلى عبادة إله واحد
- (٣) انتشرت عبادة الإله المصري **رع** في مملكة كوش بالسودان
- (٤) كان يلف المتوفى في مصر القديمة أثناء التحنيط بلفائف من **القطن**
- (٥) يوضع في ميزان العدالة في محكمة الموتى بمصر القديمة ريشة **الإلهة أيزيس**
- (٦) **الخلود** هو الحياة مرة أخرى بعد الموت

3 السؤال الثالث

(أ) - اختر الإجابة الصحيحة مما بين القوسين

- (١) يتولى رئاسة محكمة الموتى الإله
- (رع - حورس - أوزوريس - حتحور)
- (٢) تم الرمز إلى الإله آتون بـ
- (البقرة - قرص الشمس - ثعبان الكوبرا - الصقر)
- (٣) اخترع المصريون القدماء التحنيط عندما اعتقدوا في

(تعدد الآلهة - البعث والخلود - الحساب بعد الموت - السمو إلى التوحيد)

(٤) أحد الآلهة المصرية انتشرت عبادتها في الحضارة اليونانية والرومانية

(عشتار - إيزيس - ماعت - آمون)

(٥) المدينة التي اتخذها الملك أمنحتب الرابع لعبادة الإله أتون هي

(منف - أخيتاتون - نخب - طيبة)

(٦) (العيش حياة أبدية بعد الموت) تشير هذه العبارة إلى

(البعث - التحنيط - الخلود - التوحيد)

(٧) تمثل إلهة الحق والعدل عند المصريين القدماء المعبودة

(أيزيس - ماعت - أتون - آمون)

(٨) تنسب فكرة توحيد الآلهة عند المصريين القدماء إلى الملك

(سقنن رع - سنوسرت الثالث - أمنحتب الرابع - تحتمس الثالث)

(ب) اكتب تفسيراً واحداً

(١) شيد الملك أمنحتب الرابع مدينة أخيتاتون؟

(٢) حرص المصريون القدماء على تحنيط جثث موتاهم؟

(٣) تعدد الآلهة عند المصريون القدماء؟

(ج) - اكتب نتيجة واحدة ترتبت على ما يلي :-

(١) اعتقاد المصريين القدماء في البعث والخلود

(٢) اعتقاد المصريين القدماء في الحساب بعد الموت

الوحدة الثانية

الدرس الأول انتصارات بلدنا عبر العصور

١ السؤال الأول

اكتب كلمة (صواب) امام العبارات الصحيحة وكلمة (خطأ) امام العبارات غير الصحيحة

- () (١) تعرضت مصر للعديد من الهجمات على مصر العصور للاستيلاء على ثرواتها
- () (٢) يعد الجيش المصري من أقدم الجيوش في العالم
- () (٣) نجح الملك خفرع في صد هجمات بعض القبائل على أرض سيناء
- () (٤) نجح الملك زوسر في حماية أرض سيناء في عصر الدولة الحديثة
- () (٥) تعرضت مصر لغزو الهكسوس في عصر الضعف الأول
- () (٦) تم تحرير مصر من غزو الهكسوس على يد الملك تحتمس الثالث
- () (٧) قُتل والد أحمس وأخوه كامس في حربهما ضد الهكسوس
- () (٨) شجعت الملكة إياح حتب أحمس على محاربة الهكسوس وتحرير مصر
- () (٩) يعد الملك تحتمس الثالث من أفضل القادة العسكريين في مصر القديمة
- () (١٠) قاد الملك تحتمس الثالث ١٦ حملة عسكرية لتأمين حدود مصر
- () (١١) استطاع الملك تحتمس الثالث الانتصار في معركة قادش
- () (١٢) وقع الملك رمسيس الثاني مع الحيثيين أقدم معاهدة سلام في التاريخ
- () (١٣) دمر الجيش المصري خط برليف في ٦ ساعات
- () (١٤) أدت معاهدات السلام إلى انخفاض مستوى معيشة الشعوب
- () (١٥) إذا أردت زيادة متحف بانوراما حرب أكتوبر فعليك التوجه لمدينة الإسكندرية

(ب) - صوب ما تحته خط فيما يلي

- (١) استطاع الملك أحمس الانتصار على **الحيثيين**
- (٢) في عصر الدولة القديمة تم توحيد صفوف الجيش المصري على يد الملك **خفرع**
- (٣) أهم الحروب التي خاضتها مصر في القرن العشرين هي **معركة مجدو**
- (٤) الموقع الحالي لمدينة مجدو في دولة **لبنان**
- (٥) الملك الذي عقد معاهدة سلام مع الحيثيين هو **تحتمس الثالث**
- (٦) تم إنشاء متحف بانوراما حرب أكتوبر في **مدينة مطروح**
- (٧) قاد **الملك منكاورع** ١٦ حملة عسكرية لتأمين حدود مصر
- (٨) قاد الرئيس **جمال عبد الناصر** حرب السادس من أكتوبر ١٩٧٣م
- (٩) وقع الرئيس محمد أنور السادات اتفاقية السلام مع **إنجلترا**

2 السؤال الثاني

(أ) - اختر الإجابة الصحيحة مما بين القوسين

- (١) في عصر الدولة تعرضت مصر لهجوم على حدودها الشمالية الشرقية
(الحديثة - الوسطي - القديمة - المعاصرة)
- (٢) الملك الذي نجح في توحيد جيوش أقاليم مصر القديمة هو
(زوسر - خوفو - سنفرو - منكاورع)
- (٣) مؤسس الدولة الحديثة وطارد الهكسوس هو الملك
(خوفو - كامس - سقن رع - أحمس)
- (٤) كان للمكلة إياح حتب دور في تحرير مصر من خطر
(الحيثيين - الهكسوس - الروم - الفينيقيين)
- (٥) أشهر معارك الملك تحتمس الثالث معركة
(مجدو - قادش - التل الكبير - اليرموك)
- (٦) انتصر الجيش المصري في معركة مجدو على أمراء
(أوروبا - أمريكا الشمالية - آسيا - أمريكا الجنوبية)
- (٧) الملك الذي نجح في عقد أقدم معاهدة سلام في التاريخ هو
(رمسيس الثاني - أمنحتب الرابع - تحتمس الثالث - رمسيس الثالث)

- (٨) الملك الذي أنتصر على الحيثيين في معركة قادش هو
- (سقنن رع - رمسيس الثاني - أمنحتب الرابع - تحتمس الثالث)
- (٩) أهم الحروب التي خاضتها مصر في القرن العشرين هي حرب
- (مجدو - قادش - أكتوبر - حطين)
- (١٠) عقدت أول معاهدة سلام في التاريخ بين المصريين و
- (الآشوريين - الحيثيين - الفينيقيين - الهكسوس)
- (١١) عقدت معاهدة سلام في العصر الحديث بين مصر و
- (فرنسا - إسرائيل - روسيا - ألمانيا)

3 السؤال الثالث

(ب) اكتب تفسيراً واحداً

(١) نجح الملك زوسر في صد هجمات بعض القبائل ؟

(٢) خاض الملك تحتمس الثالث ١٦ حملة عسكرية ؟

(٣) خاض الملك رمسيس الثاني كثيراً من المعارك ضد الحيثيين ؟

(٤) انتصار الملك تحتمس الثالث على أمراء آسيا في معركة مجدو

(٥) يعد الملك رمسيس الثاني أول من دعا للسلام في التاريخ

(٦) قيام مصر بحرب أكتوبر ١٩٧٣م

(ج) - اكتب نتيجة واحدة ترتبت على ما يلي :-

(٧) معركة مجدو بقيادة الملك تحتمس الثالث

(٨) انتصار مصر في حرب السادس من أكتوبر

اكتب دليلا واحدا على

كان للملكة إياح حتب دور في طرد الهكسوس من مصر

قارن بين معركة مجدو ومعركة قادش وحرب أكتوبر من حيث القائد والعدو

معركة مجدو	معركة قادش	حرب أكتوبر	
			القائد المصري
			العدو

الوحدة الثانية

الدرس الثاني مصر فى عصرى البطالمة والرومان

١ السؤال الأول

اكتب كلمة (صواب) امام العبارات الصحيحة وكلمة (خطأ) امام العبارات غير الصحيحة

- () (١) تقرب الإسكندر الأكبر إلى المصريين فقام بزيارة معبد الكرنك
- () (٢) يعتبر الملك بطلميوس الأول مؤسس دولة البطالمة في مصر
- () (٣) قام الحكم البطلمى في مصر على أساس الديمقراطية والحرية للمصريين
- () (٤) خطط الإسكندر الأكبر لبناء مدينة الإسكندرية
- () (٥) كان المصريون يشاركون في حكم بلادهم أثناء حكم البطالمة
- () (٦) أدى ظهور المسيحية إلى زيادة الاضطهاد الروماني للمصريين قديما
- () (٧) تدخلت روما في شئون مصر الداخلية في عهد كليوباترا السابعة
- () (٨) انتصرت الملكة كليوباترا السابعة في معركة أكتيوم البحرية عام ٣١ ق.م
- () (٩) تعد مكتبة الإسكندرية أحد مظاهر اهتمام الرومان بالثقافة في مصر قديما
- () (١٠) أنشأ البطالمة منارة الإسكندرية لإرشاد السفن
- () (١١) أصبحت الإسكندرية أهم مركز تجاري في شرق البحر المتوسط في عهد الرومان
- () (١٢) رحب المصريون بالفتح العربي الإسلامي لمصر عام ٦٤١ م

(ب) - صوب ما تحته خط فيما يلي

- (١) استغلت روما أرض مصر لزراعة محصول **القطن**
- (٢) آخر ملوك البطالمة في مصر هي الملكة **حتشبسوت**
- (٣) مؤسس دولة البطالمة في مصر هو **بطلميوس الثالث**
- (٤) دخلت المسيحية مصر في منتصف القرن **الثاني** الميلادي
- (٥) أطلق على عصر الإمبراطور **يوليوس قيصر** عصر الشهداء

2 السؤال الثاني

(أ) - اختر الاجابة الصحيحة مما بين القوسين

- (١) أظهر الإسكندر الأكبر احترامه للديانة المصرية من خلال زيارة معبد الآلهة
(أوزوريس - آمون - رع - ست)
- (٢) زار الإسكندر الأكبر معبد آمون الموجود في واحة
(الداخلة - سيوة - الفرافرة - الخارجة)
- (٣) مؤسس دولة البطالمة في مصر
(الإسكندر الأكبر - بطلميوس الأول - بطلميوس الثالث - كليوباترا السابعة)
- (٤) كان حكم بطلميوس الأول لمصر بداية للعصر
(الفرعوني - البطلمي - الروماني - الأيوبي)
- (٥) استكمل بطلميوس الأول بناء مدينة
(القاهرة - الإسكندرية - الجيزة - الفيوم)
- (٦) مدينة مصرية اتخذها البطالمة عاصمة لهم
(بليس - العريش - الإسكندرية - الفرما)
- (٧) أدخل البطالمة آلات زراعية جديدة لمصر منها
(الفأس - المنجل - الساقية - المذراة)
- (٨) بدأ ضعف دولة البطالمة بعد حكم
(كليوباترا السابعة - بطلميوس الأول - بطلميوس الثالث - الإسكندر الأكبر)
- (٩) الملكة كليوباترا السابعة هي آخر ملوك
(الرومان - البطالمة - الفراعنة - الفرس)
- (١٠) كان البطالمة يحكمون مصر حكمًا
(برلمانيا - مطلقًا - قبليًا - انتخابيًا)
- (١١) تنسب منارة الإسكندرية القديمة إلى عصر
(البطالمة - الرومان - الفرس - الهكسوس)
- (١٢) أحد أهم الإنجازات الثقافية للبطالمة في مصر هو بناء جامعة
(أون - روما - قرطبة - الإسكندرية)

- (١٣) تحولت مصر إلى ولاية رومانية عام ٣٠٠ ق.م بعد معركة
 (مجدو - قادش - أكتيوم البحرية - عين جالوت)
- (١٤) أحد أشهر المعابد التي تم تشييدها في فترة الحكم الروماني لمصر هو معبد
 (كوم أمبو - رأس السوداء - الدير البحري - الإله آمون)
- (١٥) دخلت المسيحية مصر على يد القديس
 (يوليوس - بولس - مرقس - أنطونيوس)
- (١٦) أول دير تم بناؤه في مصر هو دير الأنبا
 (بيشوي - أنطونيوس - سمعان - بخوم)

3 السؤال الثالث

(ب) اكتب تفسيرا واحد

١. زيارة الإسكندر الأكبر لمعبد الإله آمون في واحة سيوة ؟

٢. إنشاء منارة الإسكندرية ؟

٣. رغبة الإسكندر في الاستيلاء على مصر ؟

٤. ضعف وانهايار حكم البطالمة لمصر قديما

٥. تخطيط الإسكندر الأكبر لبناء مدينة الإسكندرية

٦. تسمية عصر الإمبراطور دقلديانوس بعصر الشهداء

٧. ترحيب المصريين بالفتح العربي الإسلامي عام ٦٤١م

(ج) - اكتب نتيجة واحدة ترتبت على ما يلي :-

١. معركة أكتيوم البحرية عام ٣١ ق.م

٢. الفتح العربي الإسلامي لمصر عام ٦٤١ م

اكتب دليلاً واحداً على

محاولة الإسكندر الأكبر كسب تأييد المصريين قديماً

قارن بين الآثار الباقية من عصري البطالمة والرومان متسعينا بهذه
الكلمات

(المسرح الروماني - معبد رأس السوداء - منارة الإسكندرية - معبد كوم أمبو)

آثار البطالمة	آثار الرومان

الوحدة الثانية

الدرس الثالث العمارة والفنون فى بلدنا

١ السؤال الأول

اكتب كلمة (صواب) امام العبارات الصحيحة وكلمة (خطأ) امام العبارات غير الصحيحة

- () (١) برع المصريون القدماء في جميع الفنون المعمارية والهندسية
- () (٢) توصل العلماء إلى معرفة كيف تم بناء الهرم الأكبر
- () (٣) بنى المصري القديم المقابر من الطوب اللبن للحفاظ على جسد المتوفى
- () (٤) شيد المصريون حصن بوهين لتأمين حدود مصر الجنوبية
- () (٥) استخدم المصريون القدماء أرض الوادي لبناء المقابر بعيدا عن الفيضان
- () (٦) تعد مسلة حتشبسوت في معابد الكرنك من أشهر المسلات المصرية
- () (٧) بنى المصري القديم معابد الآلهة ومنها معبد حتشبسوت
- () (٨) اختلفت مساحة المنازل وعدد الحجرات وزخارفها باختلاف طبقات المجتمع
- () (٩) بدأت المرحلة الأولى لبناء المقابر قديما من عدة مصاطب

(ب) - صوب ما تحته خط فيما يلي

- ١- بنى حصن بوهين على حدود مصر الغربية
- ٢- يعد معبد الأقصر من المعابد الجنائزية
- ٣- بنى المصريون القدماء منازلهم من الطوب الأحمر
- ٤- المقابر هي مباني أنشأها المصريون لحماية البلاد وتأمين سكن للجنود

2 السؤال الثاني

(أ) - اختر الاجابة الصحيحة مما بين القوسين

- (١) بنى المصريون القدماء منازلهم من
(الطوب الأحمر - الطوب اللبن - الحجارة - البوص)
- (٢) بنى المصري القديم لأغراض دينية
(الحصون - المعابد - الأهرامات - القصور)

- (٣) الطبقة التي تميزت منازلهم بالبساطة وتكونت من طابق أو طابقين طبقة.....
(الوزراء - كبار الكهنة - حكام الأقاليم - العمال)
- (٤) منزل كبير متعدد الحجرات وبه مخازن للحبوب هذا الوصف لمنزل
(الراعي - الفلاح - الوزير - الصانع)
- (٥) يقع حصن بوهين على الحدود المصرية
(شمالا - شرقا - جنوبا - غربا)
- (٦) معبد شيد من أجل إقامة طقوس الجنازة على الملك هو معبد
(حتشبسوت - الأقصر - إيزيس - الكرنك)
- (٧) أحد المعابد التي كان يقام بها الطقوس اليومية للآلهة هو معبد
(الدير البحري - الأقصر - أمنحتب الثالث - الرامسيوم)
- (٨) أحد الآثار التي تدل تعبر عن براعة المصريين في نحت التماثيل هو
(أبو الهول - معبد إيزيس - اللوحات الجدارية - لوحة نعرمر)
- (٩) ساعد على حفظ رسوم ونقوش المصريين القدماء حتى وقتنا الحالي
(موارد مصر - مناخ مصر - موقع مصر - تضاريس مصر)
- (١٠) يدل بناء الأهرامات على براعة المصري القديم على علم
(الكيمياء - التاريخ - الأحياء - الفلك)
- (١١) يعد الهرم الأكبر دليلا على عبقرية المصري القديم في مجال
(الزراعة - الطب - الصناعة - العمارة)

3 السؤال الثالث

(١) اكتب تفسيرا واحدا

(١) اختلاف شكل المنازل في مصر قديما ؟

(٢) أهمية المباني العسكرية (الحصون) عند المصريين القدماء ؟

(٣) أهمية فن الرسم عند المصريين القدماء ؟

(٤) تسمية المعابد الجنائزية بهذا الاسم ؟

(٥) خصص المصريون القدماء أرض الصحراء غرب نهر النيل لبناء المقابر

(٦) بنى المصريون القدماء المقابر من الحجر

(٧) الرسومات والألوان على جدران المعابد ما زالت زاهية

(٨) بناء المصريين القدماء للمسلات

قارن بين المعابد الجنائزية ومعابد الآلهة من حيث الغرض منها

معابد الآلهة	المعابد الجنائزية

الوحدة الثالثة

الدرس الأول التواصل السياسي والعسكري بين مصر والعالم

١ السؤال الأول

اكتب كلمة (صواب) امام العبارات الصحيحة وكلمة (خطأ) امام العبارات غير الصحيحة

- () (١) وقع الملك مينا معاهدة سلام مع الحيثيين
- () (٢) أنشأ المصريون القدماء القلاع والحصون لتأمين حدود الإمبراطورية المصرية
- () (٣) استعان الملك تحتمس الثالث بالحيثيين أثناء معركة مجدو
- () (٤) استخدم المصريون القدماء العربات الحربية التي أخذوها عن الرومان
- () (٥) سعت مصر لتأمين حدودها الشمالية الغربية بعد معركة مجدو
- () (٦) ساندت الدول العربية مصر ولبنان في حرب أكتوبر ١٩٧٣م
- () (٧) وقعت جمهورية السودان مع مصر اتفاقيات للدفاع العسكري المشترك بينهما
- () (٨) يهتم المحلق السياسي بالسفارة بملف التعليم والبعثات
- () (٩) وزارة الخارجية هي المسئولة عن تطوير وتعميق علاقات مصر بالدول الأخرى
- () (١٠) يوجد في كل دولة سفارات للدول الأخرى
- () (١١) استطاعت مصر تعميق علاقاتها السياسية مع دول العالم على مر العصور
- () (١٢) يتمتع وزراء الخارجية والسفراء ببعض المهارات مثل الإقناع وضبط النفس
- () (١٣) تقوم مصر بتدريبات عسكرية مشتركة مع العديد من الدول
- () (١٤) استخدمت مصر السفارات قديماً لتحقيق التواصل السياسي مع دول العالم

(ب) - صوب ما تحته خط فيما يلي

(١) وقعت مصر اتفاقيات للدفاع المشترك مع جمهورية الصومال

(٢) عرف المصريون القدماء العربات الحربية من الفينيقيين

- (٣) اشترك الفينيقيون مع الملك تحتمس الثالث في معركة **قادش**
- (٤) الموظف المسئول عن تمثيل مصر في سفاراتها المختلفة في العالم هو **الوزير**
- (٥) ساندت الدول العربية أثناء حرب أكتوبر ١٩٧٣ م كلا من مصر و**ليبيا**
- (٦) حماية مصالح المواطنين في الخارج من مهام وزارة **السياحة**

2 السؤال الثاني

(أ) - اختر الاجابة الصحيحة مما بين القوسين

- (١) أنشأ المصريون القدماء العديد من القلاع والحصون في
(فينيقيا - روما - بلاد اليونان القديمة - بلاد العراق القديم)
- (٢) نقل المصريون القدماء العربات الحربية عن
(الفينيقيين - الليبيين - الهكسوس - الحيثيين)
- (٣) وقعت مصر اتفاقيات للدفاع المشترك مع جمهورية
(العراق - فلسطين - موريتانيا - السودان)
- (٤) اشترك الفينيقيون مع الملك تحتمس الثالث في معركة
(قادش - مجدو - حطين - أكتيوم)
- (٥) حماية مصالح المواطنين في الخارج مسئولية وزارة
(الخارجية - الإعلام - السياحة - الداخلية)
- (٦) تعمل مصر على التواصل السياسي مع الدول الأخرى من خلال وزارة
(الداخلية - الخارجية - الاستثمار - العدل)
- (٧) وقع الملك رمسيس الثاني معاهدة سلام مع
(الفرس - الحيثيين - الفينيقيين - الروم)
- (٨) عمل الملك تحتمس الثالث على مواجهة الأخطار التي تهدد مصر من جهة
(الجنوب - الشمال الشرقي - الغرب - الجنوب الغربي)
- (٩) تهتم مصر بدعم الأمن والاستقرار داخل قارة
(أوروبا - أستراليا - أفريقيا - أمريكا الجنوبية)

- (١٠) ساندت الدول العربية أثناء حرب أكتوبر ١٩٧٣م كلا من مصر و
 (العراق - سوريا - فلسطين - ليبيا)
 (١١) يوجد لمصر في كل سفارة مسئول عن ملف التعليم والبعثات هو الملحق
 (العسكري - السياسي - الثقافي - الاقتصادي)

3 السؤال الثالث

(١) اكتب تفسيرا واحد

(١) أنشأ المصريون القدماء القلاع والحصون في بلاد فينيقيا ؟

(٢) تقوم مصر بعقد المعاهدات والاتفاقيات مع الدول الأخرى ؟

(٣) أهمية وزارة الخارجية المصرية ؟

(٤) أهمية وجود سفارات بداخل الدول ؟

ما النتائج المترتبة على

غزو الهكسوس لمصر بالنسبة للنظم العسكرية

الوحدة الثالثة

الدرس الثاني التواصل العلمي والثقافي بين مصر والعالم

١ السؤال الأول

اكتب كلمة (صواب) امام العبارات الصحيحة وكلمة (خطأ) امام العبارات غير الصحيحة

- () (١) التواصل العلمي بين الدول يساعد على تأخرها
- () (٢) تعد البعثات العلمية والمنح الدراسية إحدى وسائل التواصل العلمي والثقافي بين الدول
- () (٣) أخذ المصريون القدماء الأختام من اليونانيين
- () (٤) اخترع المصريون القدماء الساعة لتحديد الوقت
- () (٥) اخترع الفينيقيون الحبر الأسود
- () (٦) أخذ المصريون القدماء رسم الحيوانات المجنحة عن الرومان
- () (٧) استقدم الملك تحتمس الثالث أبناء الأمراء الآسيويين للدراسة في مصر
- () (٨) تأثرت بلاد العراق القديم بشكل الهرم المدرج في بناء المعابد
- () (٩) يعد إقليدس من أشهر علماء جامعة القاهرة في الهندسة قديما
- () (١٠) تأثرت المعابد اليونانية والرومانية بالطراز المعماري للمعابد الفينيقية
- () (١١) أضاف الإمبراطور الروماني يوليوس قيصر أسماء شهور السنة
- () (١٢) ظهرت براعة المصريين القدماء في علم الطب والعمارة
- () (١٣) السنة الكبيسة في الحسابات الفلكية للرومان تأتي كل أربع سنوات

(ب) - صوب ما تحته خط فيما يلي

- ١-ترجع أسماء شهور السنة إلى أصل **يوناني**
- ٢-الملك الذي استقدم أبناء أمراء البلاد الآسيوية ليتعلموا في مصر هو **رمسيس الثاني**
- ٣-أخذت مصر الأختام عن بلاد **الإغريق (اليونان)**

- ٤- اشتهر **مانيون** ببراعته في علم الهندسة
- ٥- أعطى الإمبراطور **دقلد يانوس** لشهور السنة أسماء رومانية
- ٦- ترحب مصر بالطلاب من شرق **أوروبا** لدراسة اللغة والفلسفة

2 السؤال الثاني

(أ) - اختر الاجابة الصحيحة مما بين القوسين

- (١) الحضارات التي تأثرت بالفنون المصرية القديمة
- (العراق واليونان - اليونان والصين - العراق والصين - اليونان وبيرو)
- (٢) تساعد الطلاب على الاطلاع على كل ما هو جديد في مجال دراستهم
- (المعاهدات - الصراعات - الحروب - المنح الدراسية)
- (٣) بنيت مكتبة الإسكندرية في عصر
- (الرومان - البطالمة - الهكسوس - الفرس)
- (٤) أحد العلوم التي يفد طلاب إفريقيا ودول شرق آسيا لدراستها في مصر
- (الطب - الهندسة - الرياضيات - الفلسفة)
- (٥) نقل المصريون القدماء استخدام الأختام عن بلاد
- (اليونان القديم - الرومان - فارس - العراق القديم)
- (٦) أخذت مصر من بلاد العراق القديم رسم
- (المسلات - الحيوانات المجنحة - المعابد - الهرم المدرج)
- (٧) تأثرت بلاد العراق القديم بالحضارة المصرية القديمة فأخذت عنها شكل
- (المعابد - الهرم المدرج - المقابر - الطيور المجنحة)
- (٨) اعتمد الإمبراطور الروماني على التقويم الشمسي المصري
- (قسطنطين - يوليوس قيصر - هادريان - أنطونيوس)
- (٩) أسماء شهور السنة الميلادية تعود في الأصل إلى
- (الفينيقين - الرومان - الفرس - البطالمة)
- (١٠) يرجع التقويم الشمسي إلى أصل
- (يوناني - فينيقي - روماني - مصري)

- (١١) من اشهر مؤرخي العصر البطلمي بجامعة الإسكندرية قديما
- (أحمد زويل - إقليدس - مانيتون - الخوارزمي)
- (١٢) وقع الملك رمسيس الثاني معاهدة سلام مع
- (الفرس - الحيثيين - الفينيقيين - الروم)
- (١٣) أحضر الملك أبناء أمراء البلاد الآسيوية للدراسة في مصر
- (أمنمحات الأول رمسيس الثاني - تحتمس الثالث - أحمس الأول)

3 السؤال الثالث

(١) اكتب تفسيراً واحداً

(١) أهمية التواصل العلمي بين مصر ودول العالم ؟

(٢) أهمية البعثات العملية والمنح الدراسية ؟

(٣) حرص الملك تحتمس الثالث على دراسة أبناء أمراء البلاد الآسيوية في مصر ؟

(٤) مجيء الكثير من طلاب العلم إلى مصر في عهد المصريين القدماء ؟

الوحدة الثالثة

الدرس الثالث التواصل الاقتصادي بين مصر والعالم

١ السؤال الأول

اكتب كلمة (صواب) امام العبارات الصحيحة وكلمة (خطأ) امام العبارات غير الصحيحة

- () (١) أرسل الملك سنفرو أسطولا بحريا إلى فينيقيا لجب خشب الأرز
- () (٢) تم حفر قناة سيزوستريس في عصر الدولة الحديثة
- () (٣) ضعفت العلاقات التجارية بين مصر وجيرانها بعد حفر قناة سيزوستريس
- () (٤) أرسلت الملكة حتشبسوت رحلة تجارية لفينيقيا لجب العطور
- () (٥) استورد البطالمة المعادن والفيلة لتسليح الجيش المصري
- () (٦) أنشأ البطالمة العديد من الموانئ البحرية في مصر
- () (٧) أهمل البطالمة النشاط التجاري في بداية حكمهم
- () (٨) أقام ملوك الأسرة ٢٦ مدينة نقراتيس للتجار البطالمة
- () (٩) انتشرت صناعة الخزف في مدينة نقراتيس
- () (١٠) أقامت مصر علاقات تجارية مع الحضارات القديمة في آسيا
- () (١١) بدأت مصر بمشروع يربط بين بحيرة فكتوريا والبحر الأحمر
- () (١٢) أرسل الملك نخاو الثاني رحلة استكشافية من البحارة اليونانيون حول إفريقيا
- () (١٣) قامت مصر بإرسال المساعدات الطبية للصين وإيطاليا في وقت انتشار فيروس كورونا
- () (١٤) قدمت مصر العديد من المساعدات الغذائية لشعب فلسطين
- () (١٥) منظمة التجارة العالمية من المنظمات الاقتصادية التي تشترك فيها مصر

(ب) - صوب ما تحته خط فيما يلي

١. تم حفر قناة سيزوستريس في عصر الدولة القديمة

٢. أرسلت الملكة حتشبسوت رحلتها التجارية لجب الأخشاب والبخور من بلاد فينيقيا

٣. أرسل الملك نخاو الثاني رحلة استكشافية حول إفريقيا بمساعدة البحارة **الأوروبيين**
٤. أرسلت مصر أسطولا بحريا لجب أخشاب الأرز من فينيقيا في عصر الملك **خفرع**
٥. استورد **الرومان** المعادن والفيلة لتسليح الجيش المصري
٦. تميزت مدينة نقرطيس بانتشار صناعة **الأثاث**
٧. في عام ٢٠٢٢م أرسلت مصر إلى لبنان المساعدات الطبية لمواجهة وباء **كورونا**

2 السؤال الثاني

(أ) - اختر الاجابة الصحيحة مما بين القوسين

١. في عام ٢٠٢٢م أرسلت مصر المستلزمات الطبية للشعب لتعرضه لكارثة السيول
(العراقي - الليبي - السوداني - الأردني)
٢. أقام ملوك الأسرة ٢٦ مدينة للتجار والرعايا اليونانيين هي
(الإسكندرية - نقرطيس - طيبة - منف)
٣. حفرت قناة سيزوستريس في عصر الملك
(سنfro - تحتمس الثالث - وزسر - سنوسرت الثالث)
٤. استوردت الملكة حتشبسوت البخور والعاج من بلاد
(بونت - النوبة - فينيقيا - ليبيا)
٥. ملك مصري أرسل بعثة استكشافية حول إفريقيا
(رمسيس الثاني - تحتمس الثالث - نخاو الثاني - سنوسرت الثالث)
٦. زاد النشاط التجاري المصري بعد حفر قناة سيزوستريس في
(العصر المتأخر - عصر الدولة القديمة - عصر الدولة الوسطى - عصر البطالمة)
٧. أحضر الملك سنfro من فينيقيا
(عسل النحل - الكتان - خشب الأرز - الزيتون)
٨. أحضر الملك سنfro خشب الأرز الذي يستخدم في صناعة
(الورق - السفن - العطور - الحلي)
٩. اشتركت مصر في العديد من المنظمات الاقتصادية بقارة أفريقيا منها
(الاتحاد الأوروبي - الكوميسا - التعاون الخليجي - الأوبك)
١٠. اتحاد اقتصادي يضم دول شرق وجنوب إفريقيا هو
(اليونيسكو - الفاو - الكوميسا - اليونسيف)

3 السؤال الثالث

(١) اكتب تفسيراً واحداً

(١) أرسل الملك سنفرو أسطولاً بحرياً مكوناً من ٤ سفينة إلى فينيقيا ؟

(٢) إرسال الملكة حتشبسوت رحلاتها التجارية إلى بلاد بونت ؟

(٣) استيراد البطالمة المعادن والفيلة أثناء حكمهم لمصر ؟

(٤) زيادة النشاط التجاري لمصر مع جيرانها في عصر الدولة الوسطى ؟

(٥) قام الملك نخاو الثاني بإرسال رحلة استكشافية حول أفريقيا

(٦) اهتمام مصر بالانضمام إلى المنظمات الاقتصادية

(٧) أهمية مشروع الربط الملاحي بين بحيرة فكتوريا والبحر المتوسط عن طريق نهر النيل

اكتب نتيجة واحدة ترتبت على

(٨) حفر قناة سيزوستريس في عهد الملك سنوسرت الثالث

قارن بين الرحلة التجارية التي أرسلها كل من الملك سنفرو والملكة حتشبسوت

الملكة حتشبسوت	الملك سنفرو	الرحلة التجارية
		وجهة الرحلة
		البضائع المستوردة