



وزارة التربية  
الإدارة العامة لمنطقة الأحمدى التعليمية



# نموذج إجابة امتحان الفترة الدراسية الثانية

تم التحميل من شبكة ياكويت التعليمية



Telegram:  
ykuwait\_net\_home

مادة: الاجتماعيات

الصف: السابع

العام الدراسي ٢٠٢٢ - ٢٠٢٣

أجب عن جميع الأسئلة

السؤال الأول : ( موضوعي ) يتكون من ( أ - ب - ج ) : ( لكل نقطة درجة = ١٥ درجة )

( أ ) أكمل العبارات التالية بما يناسبها مما درست :

- ١- القارة التي يتوزع بها ٧٠ % من سكان الوطن العربي اسمها الأفريقية ص ٩٩
- ٢- أقل دولة في الوطن العربي من حيث عدد السكان اسمها جزر القمر ص ١٠٠
- ٣- تبلغ نسبة المساحة المزروعة في الوطن العربي حوالي ٥٦ % ص ١١٦
- ٤- يقصد بالغاز المصاحب للنفط الخام أو يوجد منفرداً الغاز الطبيعي ص ١٢٥
- ٥- العام الذي أنشئ فيه الصندوق الكويتي للتنمية الاقتصادية العربية ١٩٦١ م ص ١٧٩
- ٦- الشعار المقابل يمثل منظمة خليجية تسمى مجلس التعاون لدول الخليج العربية ص ١٨١



( ب ) صحح ما تحته خط في العبارات التالية بكتابة الإجابة الصحيحة ما بين الأقواس :

- ١- تشكل نسبة القطاع الزراعي من الاقتصاد العربي حوالي ٣٠ % . ( ٥٠ % ) ص ١١٠
- ٢- تنفرد اليمن بزراعة محصول القطن . ( البن ) ص ١١٤
- ٣- الدولة العربية الأولى في إنتاج الأسماك هي المغرب . ( مصر ) ص ١٢٣
- ٤- يبلغ عدد الدول المؤسسة لجامعة الدول العربية ٥ دول . ( ٦ دول ) ص ١٧٨
- ٥- أنشئ صندوق أبوظبي للتنمية في عام ١٩٧٤ م . ( ١٩٧١ م ) ص ١٧٩

( ج ) اكتب المفاهيم أو المصطلحات الدالة على العبارات التالية :

المفهوم	العبرة
الغلات النقدية	الغلات التي تدخل في الصناعة وتزرع بغرض التجارة والحصول على نقد. ص ١١٣
التجارة البينية	التبادل التجاري بين الدول العربية . ص ١٥٢
التصحّر	زحف رمال الصحراء على المناطق الجافة وشبه الجافة . ص ١٦٢
التنمية	التطور والتطوير وهي عملية تتطلب التخطيط والمشاركة من الجميع . ص ١٧٢

السؤال الثاني : ( موضوعي ) يتكون من ( أ - ب - ج ) : ( لكل نقطة درجة = ١٥ درجة )

( أ ) ضع خطأ تحت الخيار الصحيح من بين الخيارات التي تلي كل عبارة :

١- الدائرة البيانية  تمثل نسبة :

أ- احتياط النفط الخام ب- إنتاج النفط الخام ج- احتياط الغاز الطبيعي د- إنتاج الغاز الطبيعي ص ١٢٧

٢- المدينة العربية التي تأسست فيها منظمة الأوبك :

أ- أبو ظبي ب- الرياض ج- بغداد د- الكويت ص ١٣٤

٣- عملية تركيب وجمع المواد المصنعة على اختلاف مصادرها كي نحصل على سلع متنوعة :

أ- الصناعات التجميعية ب- الصناعات الحرفية ج- الصناعات التحويلية د- الصناعات التعدينية ص ١٤٣

٤- الأسواق التي تحتل المكانة الأولى بالنسبة لتجارة الصادرات العربية :

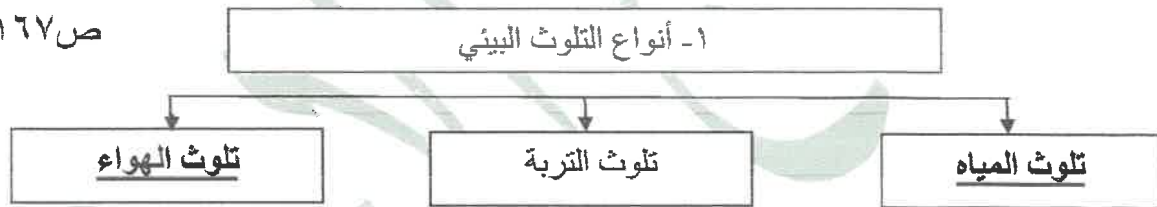
أ- اليابان ب- العربية ج- الأوروبية د- الأمريكية ص ١٥١

٥- استضافت الكويت المؤتمر الدولي الأول لماتحي سوريا في عهد الشيخ :

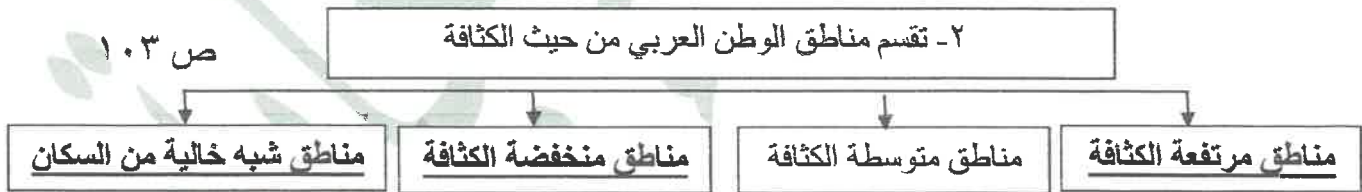
أ- عبدالله السالم الصباح ب- صباح السالم الصباح ج- جابر الأحمد الصباح د- صباح الأحمد الصباح ص ١٨٨

( ب ) أكمل المخططات السهمية التالية :

ص ١٦٧



ص ١٠٣



( ج ) صنف الصناعات التالية حسب مكانها المناسب في الجدول التالي :

( الصناعات الغذائية - الفحم - المنسوجات - المعادن - الخشب والورق )

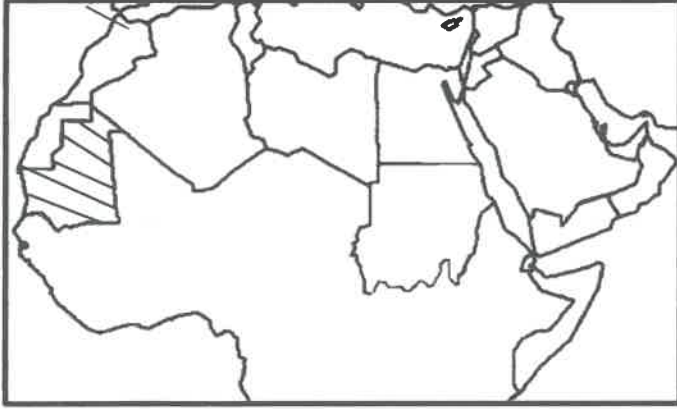
الصناعات التحويلية	الصناعات الاستخراجية
- المنسوجات	- الفحم
- الخشب والورق	- المعادن
- الصناعات الغذائية	
ص ١٤٢	ص ١٤١



( لكل نقطة درجة = ١٥ درجة )

**السؤال الثالث : ( مقال ) يتكون من ( أ - ب - ج ) :**

**( أ ) لاحظ خريطة الوطن العربي الصماء ثم أجب عن الأسئلة التالية :**



- ١- ظلل على الخريطة الدولة العربية الأولى في إنتاج الحديد ص ١٣٣
- ٢- اذكر نسبة إنتاج الوطن العربي من معدن الفوسفات بالنسبة للعالم .  
- ٢٥% ص ١٣٢
- ٣- حول نسبة إنتاج الوطن العربي من معدن الفوسفات بالنسبة للعالم إلى دائرة بيانية



**(ب) فرق بين كل مما يلي من حيث التعريف :**

الموارد البشرية ص ١٠٩	الموارد الطبيعية ص ١٠٩
- ترتبط بالسكان من حيث أعدادهم وتوزيعهم ومناسبة أعدادهم لمساحة الأرض التي يستغلونها.	- الثروات التي منحها الله لإقليم من دون أن يكون للإنسان أي دور في وجودها مثل الثروات المعدنية والغابات والمراعي والموارد المائية وموقع الإقليم .
الطاقة ص ١٢٥	النفط ص ١٢٥
- قوى محركة للآلات وعنصر مهم للتقدم والتطور الاقتصادي في جميع المجالات .	- بقايا عضوية على هيئة نباتات وحيوانات دقيقة ترسبت في عصور قديمة وانطمرت تحت رواسب سمكية وتحولت بالضغط والحرارة إلى صورتها الحالية .
أوباك ص ١٣٥	أوبك ص ١٣٤
- منظمة الأقطار العربية المصدرة للنفط.	- منظمة عالمية تعتمد على صادراتها النفطية اعتماداً كبيراً لتحقيق مدخولها . أو (منظمة الدول المصدرة للنفط)

**(ج) علل لما يلي :**

- ١- تحتل الأغنام العربية مكاناً مهماً ضمن الثروة الرعوية. ( يكتفى بثلاث نقاط ) ص ١١٨
  - الأكثر انتشاراً في المراعي العربية .
  - لأهمية منتجاتها بالنسبة للسكان .
  - أكثر الحيوانات المستأنسة والملائمة لمراعي الوطن العربي وذلك لتحملها الجفاف والانتقال .
  - لأنها مصدر أساسي من مصادر الثروة القومية.

ص ١٧٥

- ٢- تواجه التنمية البشرية في الوطن العربي عدة مشكلات . ( يكتفى بثلاث نقاط )
  - ضعف الاستفادة من القدرات البشرية في المنطقة العربية
  - نقص ومحدودية مشاركة المرأة في المنظمات السياسية .
  - الاختلاف الكبير في مستويات المعيشة بين دولة وأخرى وفي داخل الدولة الواحدة .



السؤال الرابع: ( مقال ) يتكون من ( أ - ب - ج ) :

( لكل نقطة درجة = ١٥ درجة )

ص ١٤٧

( أ ) أقرأ الفقرة التالية ثم أجب عما يليها من أسئلة :

" يعتمد التبادل التجاري ودرجة نشاطه على مدى توافر وسهولة سبل النقل ووسائله الثلاث وهي طرق النقل البرية وطرق النقل المائية النهرية والبحرية لما يتمتع فيه الوطن العربي من سواحل ومنافذ بحرية طويلة ساعدت على إنشاء العديد من الموانئ التجارية والنقطية ، وأيضاً طرق النقل الجوي " .

١- ضع عنواناً مناسباً للفقرة السابقة . التبادل التجاري بين الدول العربية أو كل ما يراه المصحح مناسباً .

٢- عرف ما تحته خط : طرق النقل المائي بواسطة الأنهار وطرق النقل المائي الخارجي في البحار والمحيطات . ص ١٤٩

ص ١٥٠

٣- علل / إنشاء العديد من الموانئ التجارية والنقطية في الوطن العربي .

- يتمتع الوطن العربي بسواحل ومنافذ بحرية طويلة .

ص ١٤٨

٤- اذكر أمثلة لطرق النقل البرية في الوطن العربي . ( يكتفى بنقطتين )

- السكك الحديدية (القطارات) - السيارات - الشاحنات

(ب) قارن بين كل من حسب المطلوب منك في الجدول التالي :

أوجه المقارنة	إنتاج النفط الخام	إنتاج الغاز الطبيعي
نسبة الجناح الآسيوي	٨٨% ص ١٢٨	٦٦,٥% ص ١٢٨
الدولة العربية الأولى في الإنتاج	السعودية ص ١٢٩	قطر ص ١٢٩

(ج) اكتب فيما يلي مما درست :

ص ١٣٩

( يكتفى بنقطتين )

- المهارة والخبرة

١- مقومات الصناعة البشرية في الوطن العربي .

- الأيدي العاملة

- وسائل النقل

- رؤوس الأموال

- السوق

ص ١٤٥

( يكتفى بنقطتين )

٢- أهداف الصناعات البتروكيماوية .

- تنوع مصادر الدخل للدولة المنتجة - تطوير الصناعات البتروكيماوية إلى تقنيات متخصصة وعالية

- توفير المواد الأولية للصناعات التحويلية لتأمين حاجات القطاعات الاستهلاكية ( خاصة مجال البناء ) .

ص ١٦٢

٣- أسباب التصحر .

- طبيعية

- بشرية

( انتهت الإجابة )

