

١- إذا أريدت أوسعنا توقيع اتفاقيات بشأن تنظيم حركة الترحال فهاذا ذلك يكون مع تولد _____

- Ⓐ جميعها خارج الإيكواس
- Ⓑ جميعها خارج الكوميسا
- Ⓒ جميعها تنتمي للإيكواس
- Ⓓ جميعها تنتمي للكوميسا

٢- خروج المملكة المتحدة رسمياً من الاتحاد الأوروبي يتطلب منها.....

- Ⓐ إعادة تخطيط الحد السياسي
- Ⓑ القيام بعملية المسح الميداني للحد
- Ⓒ تفعيل المرحلة الرابعة للحد السياسي
- Ⓓ تغيير مسار الحد السياسي لها

٣- الحد السياسي يحدد للدولة سيادتها على الموارد الأرضية السطحية والباطنية والبحرية.....

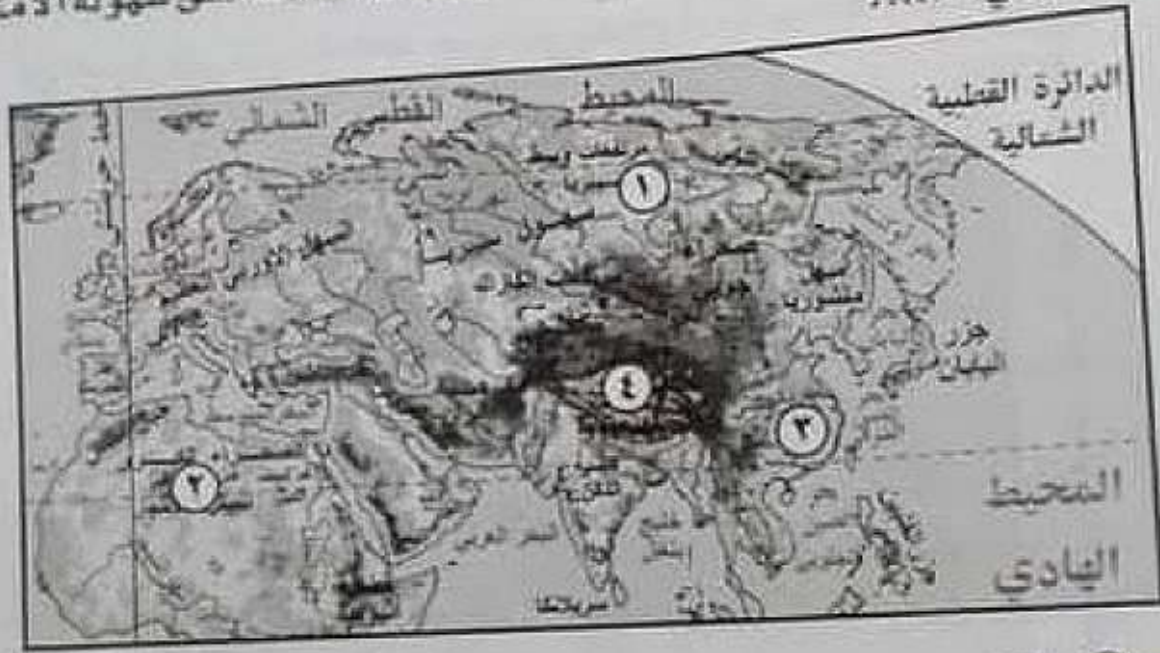
في ضوء هذه العبارة أجب،
تنطبق هذه العبارة كاملة على العديد من الدول يخرج عنها.....

- Ⓐ كندا
- Ⓑ المغرب
- Ⓒ بارجواي
- Ⓓ سوريا



٤ -

بدراسة الخريطة المقابلة .. أي المناطق التالية تساعد على سهولة الامتزاج الثقافي



- أ. (١)
- ب. (٢)
- ج. (٣)
- د. (٤)


القاهرة
CAIRO . EG

٥ - الموقع الاستراتيجي الذي لعب التحكيم الدولي دوراً في حل بعض النزاعات الاقتصادية بالقرب منه هو

- أ. مضيق جبل طارق.
- ب. مضيق هرمز.
- ج. مضيق صقلية.
- د. قناة السويس.

41331900

41331900

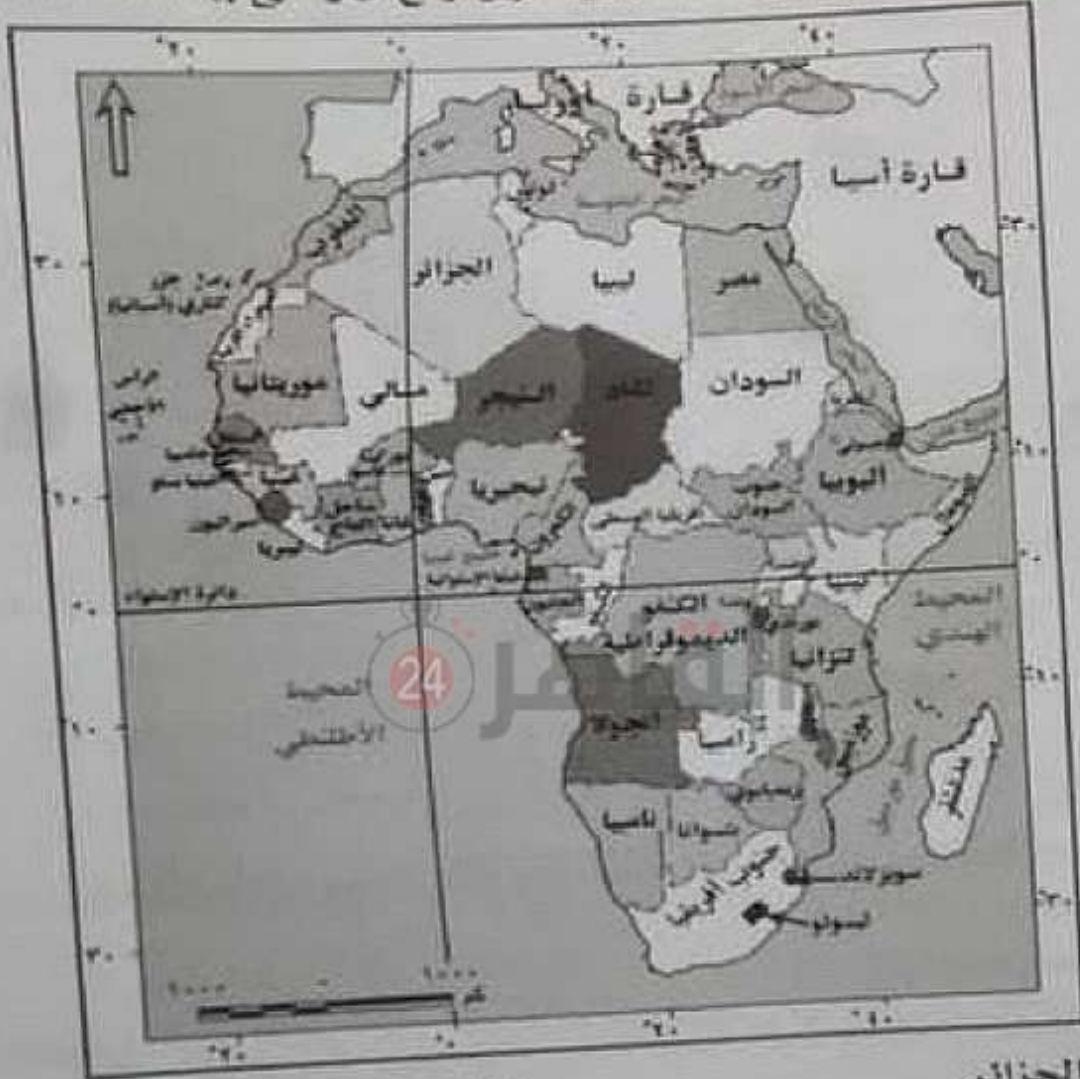




6-

بدراسة الخريطة التي أمامك استنتج:

أي الدول التي يمر بها خط جرينتش يتوقع أن يتنوع بها النشاط التعديني.



- ب) توجو.
- د) غانا.

- أ) الجزائر.
- ج) بوركينا فاسو.

7-

شهدت بعض المناطق في القرن الماضي ممارسة بعض الأقليات للديكتاتورية وهو ما ظهر في

- أ) إيطاليا.
- ب) الولايات المتحدة الأمريكية.
- ج) جنوب أفريقيا.
- د) العراق.

41331900

www.egyptianexam.com



٨-

(أرسطو، ابن خلدون، والتر، كينغ) كانت لهم إسهامات في علم الجغرافيا السياسية، وقد اطلقوا جميعاً في دراسة الوحدات السياسية.

- ب) تشبيه المولة بالكائن الحي
- ج) دراسة النظام العالمي الجديد
- د) الدراسة الاستاتيكية للوحدات السياسية

٩-

عندما عرّضت فكرة حضر قناة السويس على (محمد علي) رفضها قائلًا: «لا أريد بسطوراً جديداً في مصر» في ضوء هذه العبارة،

رفض (محمد علي) لمشروع قناة السويس بعبارة عن

- ١) التحليل السياسي للقوة
- ٢) النظام العالمي الجديد
- ٣) دراسة الوحدات السياسية.
- ٤) دراسة الأمن المالي.

١٠-

عند مقارنة الساحل الجنوبي للبحر المتوسط والساحل الشرقي للمحيط الهادي نلاحظ

- ١) التشابه في عدد التكتلات الاقتصادية المشرفة عليهما.
- ٢) الاختلاف في عدد التكتلات الاقتصادية المشرفة عليهما.
- ٣) التطابق في أشكال الدول المشرفة عليهما.
- ٤) التشابه في عدد الأحلاف العسكرية المشرفة عليهما.



41331900

١١- دولة تستطيع الدفاع عن نفسها دون استنزاف مواردها

- ① البرازيل
② اليونان
③ السويد
④ الصين

١٢- أهم المقومات الجغرافية لتحقيق التجانس السكاني لأي دولة هي العوامل

- ① الإثنوغرافية والعسكرية.
② الإثنوغرافية والتضاريس.
③ الإثنوغرافية والسياسية.
④ الإثنوغرافية والاقتصادية.

24

العاقر

١٣-

دولة استطاعت أن تحقق التواصل الحضاري مع دول العالم قديماً، تبعد عاصمتها عن حدها الشمالي ٣٥٦ كم، وحدها الجنوبي ٢٥٠ كم، وحدها الشرقي ١٠١ كم، وتبعد عن الحد السياسي البحري للدولة بمسافة ١٢ ميلاً بحرياً.

في ضوء هذه العبارة استنتج،

تفتقد عاصمة هذه الدولة

- ① سهولة الوصول.
② الحماية والدفاع.
③ الاتصال بالعالم الخارجي.
④ مركز السلطة والقوة.



١٤-

أحد المتغيرات التي أدت إلى إعلان النظام العالمي الجديد هو نهضة بعض المناطق اقتصادياً والتي تقع في

- أ) جنوب شرق أستراليا.
- ب) جنوب شرق أمريكا الشمالية.
- ج) جنوب شرق آسيا.
- د) جنوب شرق أفريقيا.

١٥-

مجلس الأمن التابع للأمم المتحدة له سلطة قانونية على الدول الأعضاء. في ضوء هذه العبارة استنتج، يمثل مجلس الأمن

- أ) سلطة مركزية في اتحاد فيدرالي.
- ب) سلطة مركزية في اتحاد كونفدرالي.
- ج) سلطة محلية في اتحاد فيدرالي.
- د) سلطة محلية في اتحاد كونفدرالي.

١٦-

تتعدد المشكلات السياسية والاقتصادية في العالم، في ضوء ما درسته استنتج، التكتل الاقتصادي الذي تعاني بعض دوله من تلك المشكلات هو

- أ) الناftا.
- ب) الأبيك.
- ج) اتحاد المغرب العربي.
- د) مجلس التعاون لدول الخليج العربي.

41331800

الجمهورية العربية السعودية - المملكة العربية السعودية

الجمهورية العربية السعودية - المملكة العربية السعودية



١٧- هناك علاقة تأثير وتأثر بين مساحة المراعي والأراضي الزراعية في غرب أفريقيا.

في ضوء هذه العبارة استنتج:

العامل الذي أثر إيجابياً على زيادة مساحة الأراضي الزراعية هو.....

- Ⓐ تحصيل الرسوم من الرعاة.
- Ⓑ التركيب النوعي للسكان.
- Ⓒ رسم الحدود السياسية في مناطق السافانا.
- Ⓓ النمو السكاني في إقليم السافانا.

41331900



١٨- ظهر أثر القوة العسكرية في العلاقات الدولية في.....


- Ⓐ غرب البحر الأسود.
- Ⓑ جنوب البحر الأسود.
- Ⓒ شمال البحر الأسود.
- Ⓓ شرق البحر الأسود.



Sudan Ministry of Education

Sudan Ministry of Education





41331900

٢١- من خلال دراستك لمفهوم الجغرافيا السياسية استنتج،

الهدف النهائي من دراسة المقومات الطبيعية والبشرية للولايات المتحدة الأمريكية التعرف على

- Ⓐ نشاطها الاقتصادي.
- Ⓑ نشاطها البشري.
- Ⓒ تنظيمها الداخلي.
- Ⓓ قوتها السياسية.

٢٢- يتمثل النظام السياسي في صورته الاجتماعية في

- Ⓐ المؤسسات التعليمية.
- Ⓑ النظام البرلماني.
- Ⓒ المؤسسات القضائية.
- Ⓓ العلاقات الخارجية.



41331900

٢٣- يجري نهر النيجر في غرب أفريقيا، ويتجه جنوباً ليصب في خليج غينيا، في ضوء هذه العبارة استنتج،

يقع الحوض الأدنى لنهر النيجر في إحدى دول مجموعة الايكواس وهي

- Ⓐ غينيا.
- Ⓑ نيجيريا.
- Ⓒ النيجر.
- Ⓓ مالي.



٣٥- تعد المنطقة المشار إليها



- Ⓐ ظاهرة ذات مساحة.
- Ⓑ ظاهرة طبيعية.
- Ⓒ غنية بالموارد.
- Ⓓ قابلة للنقل.

٣٦- ارتبطت الحدود الطبيعية بظواهرات مرتبطة باليابس كما هو الحال بين دولتي

- Ⓐ تنزانيا وأوغندا.
- Ⓑ المكسيك والولايات المتحدة الأمريكية.
- Ⓒ فرنسا وأسبانيا.
- Ⓓ فرنسا وألمانيا.

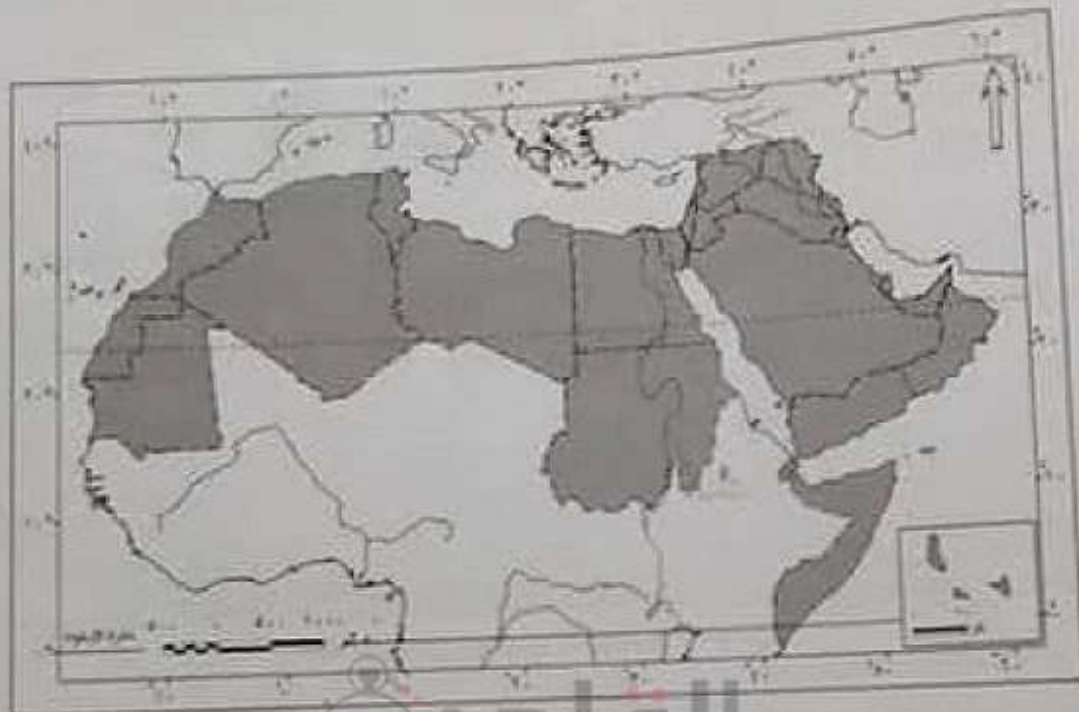
41331900

010203040506070809101112131415161718192021222324252627282930313233343536373839404142434445464748495051525354555657585960616263646566676869707172737475767778798081828384858687888990919293949596979899100





٣٩- تصور أن الجناح العربي الأفريقي أصبح دولة فإنه يكون أقرب إلى الشكل



24

أ) البري البحري المجزأ.

ب) المستطيل العرضي.

ج) المندمج ذو البروز.

د) البري المجزأ.

٤٠- يرجع اهتمام دول الخليج العربي بإنشاء الاتحاد الجمركي إلى

أ) زيادة صادراتها من السلع المختلفة.

ب) زيادة وارداتها من السلع المختلفة.

ج) كون الميزان التجاري في صالحهم.

د) اهتمامهم بالصناعات البترولية ومشتقاتها.



٤١-

دولة ظهرت بين الحربين العالميتين على خريطة العالم السياسية



العالم قبل الحرب العالمية الأولى



العالم عام ٢٠١٥

ب) منغوليا.

د) فنلندا.

ا) أوزبكستان.

ج) جورجيا.

41331900

Classmate Day
Classmate Day

Classmate Day





٤٢- كان لحركة السكان أثرها في نشأة الحدود هي

- ١) شمال وجنوب أستراليا.
 ٢) شرق وغرب أنجولا.
 ٣) شمال وجنوب الولايات المتحدة.
 ٤) شرق وغرب إيطاليا.

٤٣- يميز الأمة عن الدولة

- ١) العامل الجغرافي.
 ٢) العامل السياسي.
 ٣) العامل الزمني.
 ٤) العامل البشري.



٤٤- أي حدود أفغانستان تتوقع أن تقل بها النزاعات؟



24

- ١) الجنوبية - الغربية.
- ٢) الشرقية - الجنوبية.
- ٣) الغربية - الشمالية.
- ٤) الشمالية - الشرقية.

٤٥- العملية الانتخابية لها جوانب جغرافية عديدة، منها: تقسيم الدولة إلى دوائر، ومعرفة عدد سكانها وخصائصهم، واستخدامات الأرض بها. في ضوء هذه العبارة استنتج،

تعتمد الدراسة السابقة على إحدى التقنيات الحديثة، وهي

- ١) نظم المعلومات الجغرافية.
- ٢) الاستشعار عن بُعد.
- ٣) نظام تحديد المواقع العالمية.
- ٤) تكنولوجيا المعلومات.

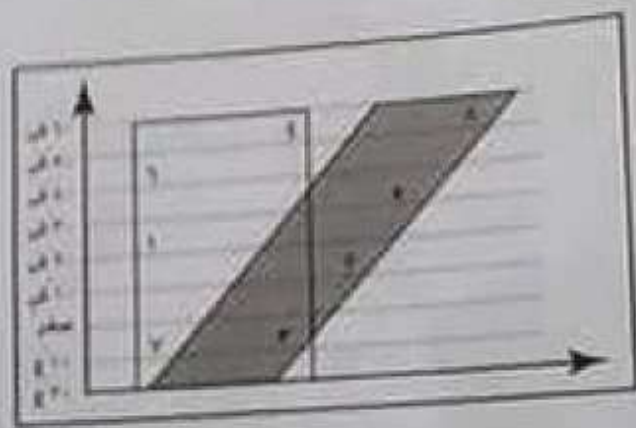
41331900





46-

بدراسة الشكل المقابل استنتج أي المناطق تتوقع أن تتشابه في النشاط الاقتصادي الرعوي مع دولتي أستراليا والأرجنتين.....؟



- أ) 2.1
- ب) 6.5
- ج) 4.3
- د) 8.7

47-

تحركت سفينة من ميناء بورسعيد على البحر المتوسط متجهة نحو ميناء سفاجا على البحر الأحمر فإنها بذلك تمر بمناطق مائية متعددة هي.....

- أ) إقليمية - تكميلية
- ب) داخلية - محايدة
- ج) دولية - تكميلية
- د) داخلية - إقليمية

48-

دولة شهدت حروباً مسلحة ومع ذلك لم تشهد ظهور لاجئين هي.....

- أ) أوكرانيا
- ب) مصر
- ج) البوسنة والهرسك
- د) فلسطين

41351600

الجغرافيا

الجمهورية العربية السورية
مديرية التربية والتعليم
دمشق

- ٤٩ -

من خلال الخريطة المقابلة وضح:
بعد تقسام السودان لدولتين زاد عدد الدول المجاورة لدولة



- ١) كينيا.
٢) أوغندا.
٣) أفريقيا الوسطى.
٤) الكونغو الديمقراطية.

41331900

Dedicated to the Ministry of Education

Dedicated to the Ministry of Education



٥٠- أي الموارد التالية تشهد صراعاً بين الدول.....؟

- أ) الوقود الحيوي.
- ب) الوقود الحضري.
- ج) الكتلة الحيوية.
- د) الطاقة الكهرومائية.

