

الموضوع : موقع بلادي

الناتج التعليمي : يتعرف الموقع الجغرافي لدولة الإمارات الامارات

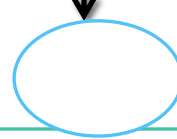

10

الاسم : الصف الرابع الشعبة

الفوارس

حدد موقع دولة الإمارات الجغرافي بالنسبة للمناطق الآتية :

اقصى شرق شبه الجزيرة العربية - جنوب غرب آسيا - شرق الوطن العربي



على الخريطة الصماء حدد ما يلي :

الخليج العربي - سلطنة عمان - المملكة العربية السعودية - بحر عمان - الإمارات .



رؤية المدرسة إعداد طالب قادر على الابتكار ومواكبة التقدم التكنولوجي ملتزم بفضائل الاخلاق محب
لوطنه في ظل قيادة ابوية واعية ومعلم متميز ومشاركة مجتمعية
رسالة المدرسة تقديم تعليم عالي الجودة عالمي المستوى إسلامي التوجه وطني السمات في بيئة تعليمية
وتربوية جاذبة و قادر على الإبداع والمنافسة لجيل يصنع المستقبل

المعلم عمر حسن إبراهيم عطاالله

الموضوع : موقع بلادي

الناتج التعليمي : يتعرف الموقع الجغرافي لدولة الإمارات الامارات


10

الاسم : الصف الرابع الشعبة

الهمم

حدد موقع دولة الإمارات الجغرافي بالنسبة للمناطق الآتية :

اقصى شرق شبه الجزيرة العربية - جنوب غرب آسيا - شرق الوطن العربي



على الخريطة الصماء حدد ما يلي :

الخليج العربي - سلطنة عمان - المملكة العربية السعودية - بحر عمان



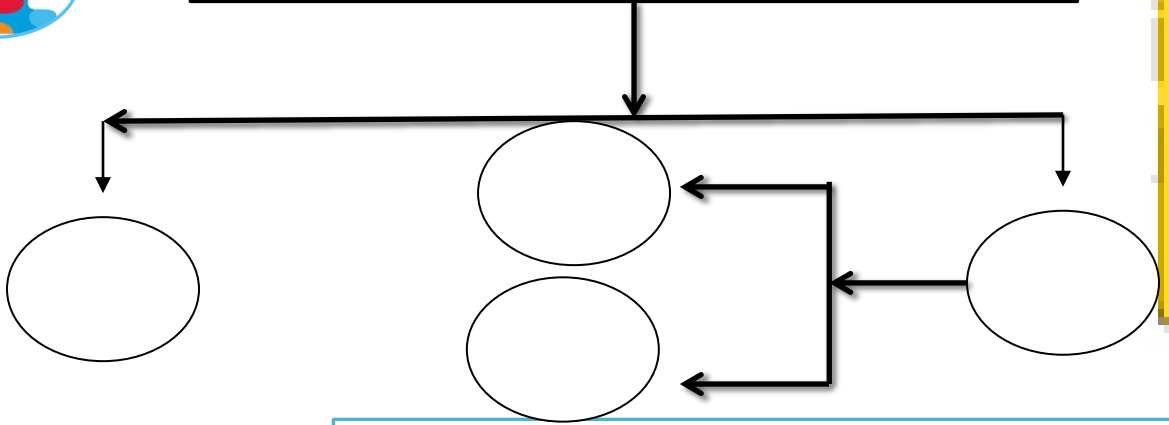
رؤية المدرسة إعداد طالب قادر على الابتكار ومواكبة التقدم التكنولوجي ملتزم بفضائل الاخلاق محب
لوطنه في ظل قيادة ابوية واعية ومعلم متميز ومشاركة مجتمعية
رسالة المدرسة تقديم تعليم عالي الجودة عالمي المستوى إسلامي التوجه وطني السمات في بيئة تعليمية
وتربوية جاذبة و قادر على الإبداع والمنافسة لجيل يصنع المستقبل
المعلم عمر حسن إبراهيم عطاالله

الموضوع : المظاهر الطبيعية

10

الاسم : الصف الرابع الشعبة A

تنقسم السهول إلى نوعين مختلفين، اذكرهما؟



اذكرا لأهمية الاقتصادية للسهول؟

.....
.....
.....
.....

الناخ التعليمي : يتعرف المظاهر الطبيعية لدولة الامارات

رؤية المدرسة إعداد طالب قادر على الابتكار ومواكبة التقدم التكنولوجي ملتزم بفضائل الاخلاق محب لوطنه في ظل قيادة ابوية واعية ومعلم متميز ومشاركة مجتمعية رسالة المدرسة تقديم تعليم عالي الجودة عالمي المستوى إسلامي التوجه وطني السمات في بيئة تعليمية وتربوية جاذبة و قادر على الإبداع والمنافسة لجيل يصنع المستقبل المعلم عمر حسن إبراهيم عطاالله

الموضوع : المظاهر الطبيعية


10

الاسم : الصف الرابع الشعبة

الناج التعليمي : يتعرف المظاهر الطبيعية لدولة الامارات

تنقسم السهول إلى نوعين مختلفين، اكتب الجواب الصحيح تحت الصورة ؟ السهول الساحلية - السهول الداخلية

3



صل بين المعلومة والصورة حول الأهمية الاقتصادية للسهول



التجارة

الزراعة

الصيد البري

الصيد البحري

رؤية المدرسة إعداد طالب قادر على الابتكار ومواكبة التقدم التكنولوجي ملتزم بفضائل الاخلاق محب لوطنه في ظل قيادة ابوية واعية ومعلم متميز ومشاركة مجتمعية

رسالة المدرسة تقديم تعليم عالي الجودة عالمي المستوى إسلامي التوجه وطني السمات في بيئة تعليمية وتربوية جاذبة و قادر على الإبداع والمنافسة لحيل يصنع المستقبل

