


# جمعة السور العشرية وطرحها



# سؤال اليوم



ما مجموع 2.5 و 3.8 ؟

- 5.3 (أ)
- 6.3 (ب)
- 6.4 (ج)
- 9.5 (د)




# مراجعة سريعة

اشترت معها علبة شوكولاتة بمناسبة نجاحها ، فاذا وزعت على صديقاتها  
 ٣٤ قطعة ، وأعطت أختها ٤ قطع ، وأكلت هي قطعته ،  
 وبقي في العلبة ١ قطع ، فلم قطعة كانت في العلبة ؟



# أهداف الدرس

جمعة وطرح السور العشرية ضمنه أجزاء الألف



# نشأه

عفاف

هل تستطيع شراء شطيرة جبن، وعصير برتقال، وكعك بـ ١٠ اريال  
كيف تتحقق من ذلك؟



# نشأط



ما ثمة شظيرة لحم وعصير برتقال ؟

ما ثمة ٣ قطع كوكي ؟

كم يزيد ثمة شظيرة الدجاج على شظيرة الجبنة ؟

اذا دفعت ثمة شظيرة الجبنة وعصير الفراولة ١٠ ريال ، كم يعيد اليك البائع ؟



# استعد



التكريز

التقديم

التدريس

التدريب

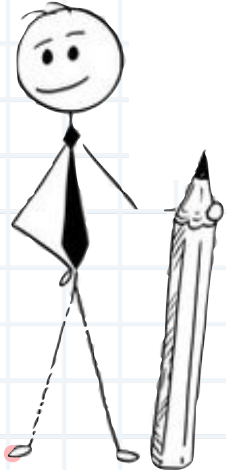
التقويم

الواجب



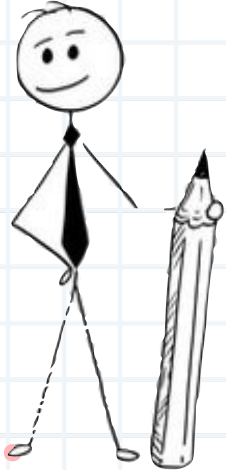
يبلغ المتوسطُ العالميُّ لاستهلاكِ الفردِ من المياهِ حواليَّ ١٤٩,٧ لترًا يوميًّا؛ بينما يزيدُ في المملكةِ العربيةِ السعوديةِ على ذلك بمقدارِ ٢, ١٣٦ لترًا يوميًّا.

ما متوسطُ استهلاكِ الفردِ للمياهِ في المملكةِ العربيةِ السعوديةِ؟



## جمعة الـسور العشرية ▶

مياه: ارجع إلى المُعطياتِ أعلاه، وأوجدِ ناتجَ  $٧, ١٤٩, ٢ + ١٣٦,$



التكرير

التقويم

التدريس

التدريب

التقويم

الواجب



اجمعه

$$٨,٤٦ + ٢٥$$

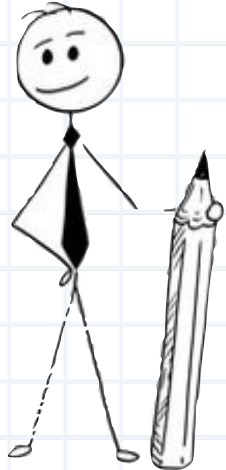


$$٦,٣٢$$



$$\underline{١,٤٦} +$$

$$١,٦٤ + ٣,٠٠٨$$

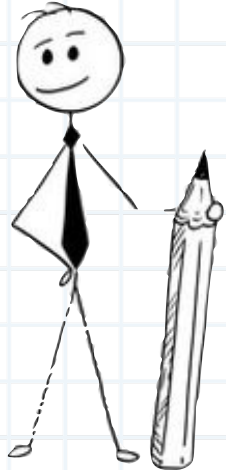




اشرّح كيفَ تكونُ إضافةُ الأصفارِ مفيدةً  
في جمعِ الكسورِ العشريّةِ.

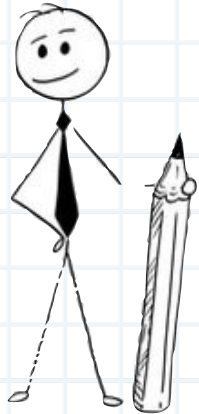
تحدّث

١٢



$$11,9 + 35,08 \quad 13$$

$$1,22 + 5,603 \quad 16$$



التكرير

التقديم

التدريس

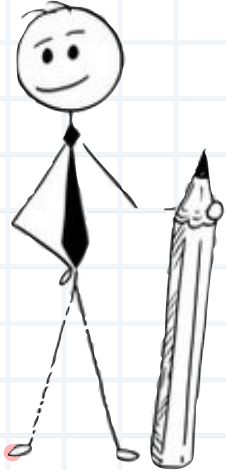
التدريب

التقويم

الواجب

# إضافة أصفار عن يمين العدد العشري

أوجد ٦،١٩ - ٤،٣١



التركيز

التقديم

التدريس

التدريب

التقويم

الواجب

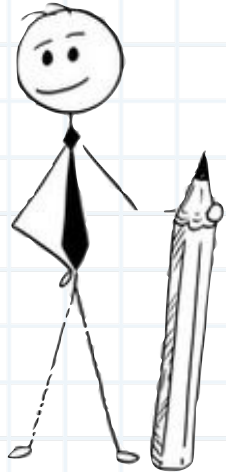


المرح

$$1,2 - 6,75$$

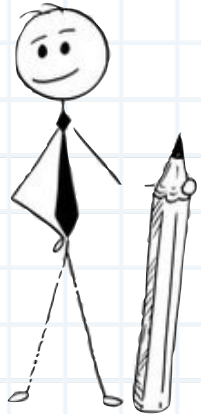
$$\begin{array}{r} 0,19 \\ - 0,03 \\ \hline \end{array}$$

$$0,15 - 8,9$$



$$2,075 - 9,14 \quad 15$$

١٩ عند فاطمة ٤,٦ م قماشًا، إذا استعملت منها ٨,٢ م لخياطة ثوب لابنتها. فكم يبقى من القماش؟



٢٤ **مَسْأَلَةٌ مَفْتُوحَةٌ:** اكتب زوجين مختلفين من الكسور العشرية، بحيث يكون مجموع كل منهما ٦٩، ٨، وأن يتضمَّن الجمع في أحدهما إعادة التجميع.



٢٦ **اكتب** مسألة من واقع الحياة يمكن حلها بجمع العددين ٣٤,٩٩ و ٥,٧٩ أو طرحهما. وصف ما يعنيه الحل.



التّركيز

التّقديم

التّدرّيس

التّدرّيب

التّقيّم

الواجب

الواجب

فخور باهتمامك بواجباتك

