

الصف
الرابع
الابتدائي
٢٠٢٤

بنك اسئلة

التميز

أ / محمود سعيد



بنك اسئلة المتميز

الدراسات الاجتماعية

علي مقررات أكتوبر

اعداد

د / اسلام عطية أ / محي الدين سمير

نسخة
مجانية

ملحق الإجابات
بالداخل



El.Motamez.School

يمكنكم الحصول على المذكرات والاختبارات من خلال مسح رمز ال QR Code
أو من خلال صفحة "التميز - أ / محمود سعيد".
يرجى مراعاة حقوق صاحب المحتوى عند النشر.



بنك أسئلة الترميز علي مقررات شهر أكتوبر

تشمل أسئلة الوزارة واختبارات المحافظات

اختر الاجابة الصحيحة مما بين القوسين

السؤال الأول

- ١ لمعرفة مدلول الألوان والرموز الموجودة علي الخريطة فإننا ننظر إلي.....
 - أ عنوان الخريطة
 - ب مقياس الرسم
 - ج مفتاح الخريطة
 - د وردة البوصلة
- ٢ راية تتخذها المحافظة رمزاً لها.....
 - أ الشعار
 - ب العلم
 - ج العيد
 - د المهرجان
- ٣ تستخدم الأقمار الصناعية لالتقاط الصور.....
 - أ الجوية
 - ب الفوتوغرافية
 - ج الفضائية
 - د المرسومة
- ٤ تشير الشمس في شعار محافظة القاهرة إلي.....
 - أ موقعها المتميز
 - ب الجامع الأزهر منارة الإسلام في العالم
 - ج اعتدال مناخ القاهرة
 - د نور الإسلام يشرق على مصر
- ٥ أي من العناصر التالية للخريطة يمكن أن يستخدم عند رسم محافظة الأقصر في ورقة صغيرة.....
 - أ العنوان
 - ب مقياس الرسم
 - ج وردة البوصلة
 - د المفتاح
- ٦ يرفع علم مصر وشعار المحافظة فوق المباني الحكومية عند الاحتفال ب.....
 - أ العيد القومي للمحافظة
 - ب الأعياد الدينية
 - ج ذكرى بناء المحافظة
 - د ذكرى تعيين المحافظ
- ٧ محافظة تمثل نقطة التقاء الوجهين القبلي والبحري هي.....
 - أ الجيزة
 - ب الأقصر
 - ج المنوفية
 - د القاهرة
- ٨ لون في علم مصر يدل على السلام هو.....
 - أ الأبيض
 - ب الأحمر
 - ج الأسود
 - د الأخضر
- ٩ يمكن معرفة المسافة الحقيقية بين مدينتين بواسطة.....
 - أ وردة البوصلة
 - ب مفتاح الخريطة
 - ج مقياس الرسم
 - د عنوان الخريطة
- ١٠ يتخذ علم مصر شكل.....
 - أ دائرة
 - ب مثلث
 - ج مستطيل
 - د مربع
- ١١ تساعد الخريطة..... عندما يقود السفن في البحر
 - أ الطيار
 - ب السائح
 - ج القبطان
 - د التلميذ



- ١٢ اختيار محافظة القاهرة عاصمة بسبب.....
 أ مساحتها ب موقعها المتميز
 ج كثرة موانئها د ازدهارها صناعياً
- ١٣ الاتجاه الذى يقع بين الجنوب والشرق.....
 أ الشمال ب الجنوب الشرقى
 ج الشمال الشرقى د الجنوب الغربى
- ١٤ يتكون العالم من.....قارات
 أ عشر ب خمس
 ج سبع د ست
- ١٥ الكتب والموسوعات من المصادر.....
 أ الأولية ب الثنائية
 ج التمهيدية د الثانوية
- ١٦ إحدى محافظات الحدود هي.....
 أ مطروح ب السويس
 ج البحيرة د المنوفية
- ١٧ الأفلام التسجيلية تعتبر من المصادر.....
 أ الأولية ب الثنائية
 ج التمهيدية د الثانوية
- ١٨ عدد المحيطات في العالم.....محيطات
 أ سبع ب خمس
 ج ست د أربع
- ١٩ إذا أردت أن تستخدم مصدراً أولاً لإجراء بحث عن قناة السويس فإنك تستخدم :
 أ موسوعة عن القناة ب وثائق رسمية عن القناة
 ج مقال عن القناة عام ٢٠٠٠ م د كتاب عن القناة عام ٢٠١٤ م
- ٢٠ الموقع بالنسبة لليابس والماء يسمى.....
 أ خريطة ب موقع جغرافي
 ج صورة د حدود
- ٢١ تعتبر من المصادر الثانوية.....
 أ نقوش معبد أبو سمبل ب لوحة نارمر
 ج بردية ايبريس د الكتب
- ٢٢ القناة التي تعد شريان التجارة العالمي الذى يربط بين البحرين الأحمر والمتوسط بشكل مباشر هي قناة.....
 أ بنما ب السويس
 ج سيزوستريس د جونجلي
- ٢٣ تم حفر قناة السويس بسواعد..... عام ١٨٦٩ م.
 أ السودانيين ب المصريين
 ج الفرنسيين د الإنجليز
- ٢٤ إذا أردت كتابة بحث عن أهمية موقع مصر الجغرافي فإنك تستعين بأحد مؤلفات.....
 أ طه حسين ب محمد يونس
 ج سيد درويش د جمال حمدان
- ٢٥ حفرت قناة السويس بسواعد مصرية تحت إشراف مهندسين.....
 أ السودانيين ب المصريين
 ج الفرنسيين د الإنجليز



- ٣٦ تعد من المصادر الثانوية
- ٣٧ البريدات المصرية القديمة تعد من المصادر.....
- ٣٨ النقوش والرسوم على توابيت الملوك الفرعونية تعد من المصادر.....
- ٣٩ أوروبا مساحة شاسعة من اليابس تضم عدة دول فهي بذلك تكون.....
- ٣٠ الحقائق تتسم بالدقة والموضوعية وغالبا تكون.....
- ٣١ " مساحة واسعة من اليابس تضم عدد من الدول " تنطبق هذه العبارة على.....
- ٣٢ قام الملك..... بحفر قناة سيزوستريس منذ القدم
- ٣٣ سنوسرت الرابع تلتقى قارتا..... في مصر.
- ٣٤ هي معلومات تأكدنا من دقتها وصحتها بالبحث أو بالتجربة
- ٣٥ ساعد نهر النيل على ربط مصر بدول
- ٣٦ عدد المحافظات في شبه جزيرة سيناء هو.....
- ٣٧ إذا أردت زيارة معظم الوزارات فعليك التوجه إلى محافظة.....
- ٣٨ تعتبر قارة..... من قارات العالم الجديد
- ٣٩ إذا أردت زيارة أكبر محافظات مصر مساحة فعليك التوجه إلى محافظة.....
- ١ أ ف ب ج د
- ٢ أ ف ب ج د
- ٣ أ ف ب ج د
- ٤ أ ف ب ج د
- ٥ أ ف ب ج د
- ٦ أ ف ب ج د
- ٧ أ ف ب ج د
- ٨ أ ف ب ج د
- ٩ أ ف ب ج د
- ١٠ أ ف ب ج د
- ١١ أ ف ب ج د
- ١٢ أ ف ب ج د
- ١٣ أ ف ب ج د
- ١٤ أ ف ب ج د
- ١٥ أ ف ب ج د
- ١٦ أ ف ب ج د
- ١٧ أ ف ب ج د
- ١٨ أ ف ب ج د
- ١٩ أ ف ب ج د
- ٢٠ أ ف ب ج د
- ٢١ أ ف ب ج د
- ٢٢ أ ف ب ج د
- ٢٣ أ ف ب ج د
- ٢٤ أ ف ب ج د
- ٢٥ أ ف ب ج د
- ٢٦ أ ف ب ج د
- ٢٧ أ ف ب ج د
- ٢٨ أ ف ب ج د
- ٢٩ أ ف ب ج د
- ٣٠ أ ف ب ج د
- ٣١ أ ف ب ج د
- ٣٢ أ ف ب ج د
- ٣٣ أ ف ب ج د
- ٣٤ أ ف ب ج د
- ٣٥ أ ف ب ج د
- ٣٦ أ ف ب ج د
- ٣٧ أ ف ب ج د
- ٣٨ أ ف ب ج د
- ٣٩ أ ف ب ج د
- ٤٠ أ ف ب ج د



- ٤٠ " بلغ عدد سكان مصر ٩٤ مليون نسمة عام ٢٠١٧ " تعبر هذه العبارة عن :
 أ رأي ب خيال ج حقيقة د وجهة نظر
- ٤١ محافظة السويس تجاور القاهرة من جهة
 أ الشمال ب الشرق ج الجنوب د الغرب
- ٤٢ اللون الأزرق على الخريطة يشير إلى
 أ الجبال ب التلال ج الهضاب د البحار
- ٤٣ تعد مدينة عاصمة مصر.
 أ الإسكندرية ب الجيزة ج القاهرة د حلوان
- ٤٤ الاتجاه الذي يقع بين الشرق والشمال
 أ الشمال الغربي ب الجنوب الشرقي ج الشمال الشرقي د الجنوب الغربي
- ٤٥ يتكون علم مصر من
 أ خمسة ألوان ب ثلاثة ألوان ج أربعة ألوان د ستة ألوان
- ٤٦ قامت الدولة بإنشاء عاصمة إدارية جديدة لتخفيف الضغط السكاني عن
 أ الدقهلية ب السويس ج الإسكندرية د القاهرة
- ٤٧ يدل النسر في وسط العلم على
 أ الثورة ب الضعف ج اليأس د القوة
- ٤٨ يستخدم الخريطة في مذاكرة وفهم دروسه
 أ الفلاح ب التلميذ ج الجيش د القبطان
- ٤٩ لون في علم مصر يدل على ما تعرضت له مصر من ظلم في فترات الاستعمار هو
 أ الأبيض ب الأحمر ج الأسود د الأخضر
- ٥٠ كل ما يلي من عناصر الخريطة ما عدا
 أ مفتاح الخريطة ب الصور ج مقياس الرسم د شبكة الإحداثيات
- ٥١ قام بوضع حجر الأساس لمدينة القاهرة عام ٩٦٩م القائد
 أ صلاح الدين الأيوبي ب سيف الدين قطز ج جوهر الصقلي د محمد علي
- ٥٢ اللون الذي يدل على نضال الشعب المصري هو
 أ الأبيض ب الأحمر ج الأسود د الأخضر
- ٥٣ يضم شعار محافظة القاهرة رمز من رموزها وهو
 أ جامع عمرو بن العاص ب الجامع الأزهر الشريف ج جامعة القاهرة د قلعة صلاح الدين



- ٥٤ يستخدم الخريطة للوصول الى الأماكن الاثرية
 الفلاح (أ) الجندي (ب) السائح (ج) الطالب (د)
- ٥٥ تحتفل مدينة القاهرة بعيدها القومي في ذكرى.....
 بناء مدينة القاهرة (أ) بناء الجامع الأزهر (ب) بناء قناة السويس (ج) جلاء الإنجليز (د)
- ٥٦ اذا علمت أن المسافة بين القاهرة وبورسعيد ٢ سم علي الخريطة التي رسمت بمقياس رقم ١ سم : ١٠٠ كم فمن المتوقع أن تكون المسافة بينهما في الحقيقة تساوي
 ٢ كم (أ) ٢٠٠ كم (ب) ٢ م (ج) ٢٠٠ م (د)
- ٥٧ توجد الكنيسة المعلقة في محافظة.....
 القاهرة (أ) الإسكندرية (ب) السويس (ج) سوهاج (د)
- ٥٨ عند رسم خرائط للعاصمة الإدارية الجديدة فنستعين ب....
 الصور الفوتوغرافية (أ) الصور الفضائية (ب) الصور الجوية (ج) الخرائط الذهنية (د)
- ٥٩ " يتم التقاط الصور الفضائية بواسطة الأقمار الصناعية " تعبر هذه العبارة عن :
 رأي (أ) خيال (ب) حقيقة (ج) وجهة نظر (د)
- ٦٠ " مدينة شرم الشيخ أجمل المدن المصرية " تعبر هذه العبارة عن :
 رأي (أ) حقيقة (ب) مقترح (ج) خيال (د)
- ٦١ المصادر الثانوية متوافرة بكثرة مثل.....
 الأبحاث (أ) البرديات (ب) النقوش (ج) الخطابات الرسمية (د)
- ٦٢ تمر السفن في الاتجاهيين دون انتظار في قناة.....
 سيزوستريس (أ) بنما (ب) السويس القديمة (ج) السويس الجديدة (د)
- ٦٣ الكتابات الهيروغليفية على جدران المعابد الفرعونية تعتبر من المصادر.....
 الثانوية (أ) الأولية (ب) التقليدية (ج) الأراء (د)
- ٦٤ تقع مصر في الركن الشمالي الشرقي لقارة.....
 أستراليا (أ) أمريكا الجنوبية (ب) أفريقيا (ج) أوروبا (د)
- ٦٥ " مساحة شاسعة من المياه المالحة ذات أعماق كبيرة " تنطبق هذه العبارة على.....
 المحيط الهادى (أ) نهر النيل (ب) بحيرة قارون (ج) البحر المتوسط (د)
- ٦٦ إحدى قارات العالم القديم ولا تقع بها مصر.....
 إفريقيا (أ) أستراليا (ب) أنتاركتيكا (ج) أوروبا (د)
- ٦٧ يشمل الماء في العالم.....
 المحيطات (أ) البحار (ب) الأنهار (ج) كل ما سبق (د)



- ٦٨ " مساحة من اليابس تضم مجموعة من المراكز أو الأحياء " تنطبق هذه العبارة على
- ٦٩ محافظة شمال سيناء والوادي الجديد تتشابهان في أنهما محافظات
- ٧٠ الجهة التي تقع بين الجنوب والغرب هي
- ١ الف القارة ب المحافظة ج البحيرة د الجزيرة
- ١ الف عاصمة ب حدود ج وجه بحري د وجه قبلي
- ١ الف الشمال ب الجنوب الشرقي ج الجنوب الغربي د الغرب

ضع علامة صح أو علامة خطأ أمام العبارات التالية

السؤال الثاني

- ١ يستخدم مفتاح الخريطة لتحديد المسافات علي الخريطة .
- ٢ من مظاهر احتفال المحافظة بعيدها القومي تزيين وتجميل الشوارع والميادين
- ٣ علم الدولة هو رمز لتاريخها وتراثها
- ٤ يعبر شعار محافظة القاهرة عن جزء من تاريخها
- ٥ عاش المصريون على ضفاف نهر النيل وقاموا بأعمال الزراعة .
- ٦ يرتبط العيد القومي للمحافظة بحدث تاريخي أو ذكرى مهمة
- ٧ يستفيد قبطان السفينة من إحداثيات الخريطة في تحديد المواقع في البحر
- ٨ تعتبر محافظة الغربية من محافظات الحدود الصحراوية
- ٩ الخط الأزرق على خريطة مصر يشير إلى البحر الأحمر.
- ١٠ يدل اللون الأسود في علم مصر على الظلم الذي تعرضت له مصر في فترات الاستعمار
- ١١ الصور هي عبارة عن رسم توضيحي لسطح الأرض أو جزء منه.
- ١٢ يدل اللون الأحمر في علم مصر على السلام
- ١٣ تتميز الحقيقة بالدقة والموضوعية .
- ١٤ تعد مدينة القاهرة نقطة التقاء الوجه البحري بالوجه القبلي.
- ١٥ تقع مصر في قارة أفريقيا ، تعبر هذه العبارة عن وجهة نظر
- ١٦ احترام علم بلدنا واجب وطني
- ١٧ المصادر الثانوية أكثر دقة من المصادر الأولية .
- ١٨ تعتبر محافظة البحر الأحمر من محافظات الحدود الصحراوية
- ١٩ للتأكد من صحة المعلومات الواردة عن الهرم نستخدم المصادر الأولية والثانوية
- ٢٠ تشترك عاصمة بلدنا مصر في حدودها الجنوبية مع محافظة الجيزة
- ٢١ عند التأكد من صحة المعلومات فإننا نجد إما مصادر أولية أو مصادر ثانوية.
- ٢٢ أدى حفر قناة السويس الجديدة إلى زيادة زمن مرور السفينة بالقناة .
- ٢٣ تم افتتاح قناة السويس للملاحة في عام ١٨٦٩ في حفل أسطوري .



- () المحيط الأطلنطي يمثل مساحة شاسعة من الماء المالح قليلة العمق
- () اذا اردت الذهاب في رحلة الي ساحل البحر الأحمر فعليك الاتجاه الي غرب مصر
- () يحيط اليابس بمصر من جهة الشمال وجهة الشرق.
- () يشمل اليابس كل قارات العالم.
- () تعتبر فكرة حفر قناة تصل بين البحرين الأحمر والمتوسط فكرة حديثة فقط .
- () تمر السفن في الاتجاهين بقناة السويس بعد حفر قناة السويس الجديدة .
- () يقع البحر المتوسط شمال مصر
- () كانت مصر معبراً للتجارة الدولية بين الشرق والغرب.
- () المؤلفات التي تم كتابتها حديثاً عن قناة السويس تعد من المصادر الأولية .
- () اذا اردت الذهاب الي العاصمة الإدارية الجديدة فإن (gps) يساعدك في تحديد اتجاهاتك .
- () يظهر مدلول الرموز والألوان على الخريطة في مقياس الرسم.
- () محافظة الوادي الجديد أكبر محافظات مصر من حيث المساحة .
- () يبلغ ارتفاع برج القاهرة ١٨٧ متر هذه العبارة تعبر عن حقيقة .
- () تعتبر محافظة البحيرة من محافظات الوجه القبلي.
- () ساعد نهر النيل قديماً علي زيادة التجارة بين مصر ودول وسط افريقيا .
- () عدد محافظات مصر ٢٥ محافظة.
- () اذا اردت رسم خريطة تفصيلية لجزء من مصر فإنك تعتمد علي الصور الجوية .
- () من سلوكيات احترام العلم رفعه عالياً وعدم ملامسته للأرض .
- () تستخدم الأقمار الصناعية في التقاط الصور الجوية .
- () يدل اللون الأحمر في علم مصر على مرحلة النضال ودماء الشهداء
- () اذا اردت معرفة موقع مدينة القاهرة علي الخريطة فإنك تنظر الي مقياس الرسم
- () يوجد بالدستور المصري مادة قانونية تؤكد على أهمية احترام العلم المصري
- () نستخدم طائرات الشحن في التقاط الصور الفضائية .
- () إذا ذهبنا إلى مطار القاهرة الدولي فستجد علم مصر فوق المطار وعلى الطائرات
- () تحتفل القاهرة بعيدها القومي بمناسبة وضع حجر الأساس لبناء مدينة القاهرة
- () تحتفل جميع محافظات مصر بعيد قومي واحد
- () يحرص المحافظ على افتتاح المشروعات الجديدة في العيد القومي للمحافظة
- () تستخدم الأقمار الصناعية لالتقاط الصور الجوية لسطح الأرض
- () لكل محافظة شعار يعبر عن نشاط سكانها أو جزء من تاريخها
- () اللون الأبيض في علم مصر يدل على الثلج والسلام.
- () يفصل بين محافظات مصر حدود طبيعية.
- () تقع مصر في شمال شرق قارة آسيا
- () النقوش على جدران المعابد والوثائق الرسمية من المصادر الأولية

- ٢٤
- ٢٥
- ٢٦
- ٢٧
- ٢٨
- ٢٩
- ٣٠
- ٣١
- ٣٢
- ٣٣
- ٣٤
- ٣٥
- ٣٦
- ٣٧
- ٣٨
- ٣٩
- ٤٠
- ٤١
- ٤٢
- ٤٣
- ٤٤
- ٤٥
- ٤٦
- ٤٧
- ٤٨
- ٤٩
- ٥٠
- ٥١
- ٥٢
- ٥٣
- ٥٤
- ٥٥
- ٥٦



- () مشروع حي الاسمرات هو احدي مشروعات تطوير الاسكندرية
- () يدل النسر الذي يتوسط العلم على القوة والشجاعة
- () بسبب اتساع مصر تم تقسيمها إلى ولايات.
- () لوحة الملك نارمر أحد المصادر الثانوية .
- () المخاطبات الرسمية والنقوش علي جدران المعابد من المصادر الأولية .
- () الكتب والموسوعات والمقالات من المصادر الأولية .
- () تصل قناة سيزوستريس بين البحر الأحمر والمتوسط عن طريق نهر الفرات.
- () مصر نقطة التقاء قارتي إفريقيا وأوروبا

٥٧
٥٨
٥٩
٦٠
٦١
٦٢
٦٣
٦٤

أكمل العبارات التالية بالاجابات المناسبة

السؤال الثالث

- ١ الصور توضح لنا سطح الأرض من أعلي بواسطة الأقمار الصناعية .
- ٢ يتشابه الجامع الأزهر الذي ينشر الإسلام في العالم كله مع التي تنشر الأشعة في العالم كله.
- ٣ هي رسم توضيحي لسطح الأرض أو جزء منه باستخدام مجموعة من الرموز والألوان ومقياس رسم محدد .
- ٤ قام القائد الفاطمي جوهر الصقلي بوضع حجر الأساس لبناء مدينة عام ٩٦٩ م.
- ٥ الدوائر السوداء الصغيرة في خريطة مصر تشير إلى المصرية
- ٦ يرفع العلم المصري على وسائل النقل الدولية مثل.....
- ٧ اتجاه الجنوب الشرقي واتجاه الجنوب الغربي من الاتجاهات.....
- ٨ يعاقب من يهين المصري بالقانون في المادة ٢٢٣ من الدستور المصري
- ٩ الكتب والمقالات والأبحاث تعتبر من المصادر
- ١٠ تعتبر محافظة سوهاج إحدى محافظات
- ١١ مخطط أصلي لتصميم قناة السويس القديمة يعد من المصادر.....
- ١٢ يحد القاهرة من الشمال محافظتا و.....
- ١٣ تمثال أبو الهول هو أجمل تمثال فرعوني تعتبر هذه العبارة.....
- ١٤ بعد حفر قناة السويس الجديدة تم تقليل زمن عبور السفن من ساعة إلى ساعة.
- ١٥ أصغر محافظات مصر من حيث المساحة هي محافظة.....
- ١٦ يحيط الماء بمصر من جهتي و
- ١٧ يتكون العالم من قارات و محيطات.
- ١٨ تتمتع مصر بموقع متميز لوقوعها في قلب قارات العالم القديم تعد هذه العبارة.....
- ١٩ اللون الذي يدل على السلام في علم مصر هو.....
- ٢٠ النقوش علي القطع الاثرية والأفلام التسجيلية من المصادر
- ٢١ طائر النسر الموجود على علم مصر لونه أصفر.....ومأخوذ من نسر القائد.....

١
٢
٣
٤
٥
٦
٧
٨
٩
١٠
١١
١٢
١٣
١٤
١٥
١٦
١٧
١٨
١٩
٢٠
٢١



- ٢٢ في خريطة مصر يدل الخط الأزرق على
- ٢٣ عندما يريد الفلاح معرفة أملاكه من الأراضي الزراعية فإنه يستخدم.....
- ٢٤ تم افتتاح قناة السويس الجديدة عام ٢٠١٥ ، العبارة السابقة تعبر عن
- ٢٥ توضح لنا الاتجاهات الاصلية والاتجاهات الفرعية .
- ٢٦ يوضح مدلول ومعني الألوان والرموز الموجودة علي الخريطة .
- ٢٧ يشير إلى المعلومات والبيانات الواردة على الخريطة
- ٢٨ الذي قام بتلحين النشيد الوطني لمصر بلادي بلادي هو.....
- ٢٩ الغردقة أجمل مدن مصر ، العبارة السابقة تعبر عن
- ٣٠ كتاب تم تأليفه عام ٢٠١٥ عن قناة السويس الجديدة يعد من المصادر.....
- ٣١ المصادر التي تسجل الأحداث بعد مرور زمن طويل من وقوع الحدث هي مصادر.....
- ٣٢ كتب الشاعر..... كلمات النشيد الوطني المصري بلادي بلادي .
- ٣٣ تفصل بين محافظات مصر حدود
- ٣٤ تقع محافظة الجيزة في اتجاهي الجنوب و من محافظة القاهرة.

اكتب ما تشير اليه العبارات التالية

السؤال الرابع

- ١ كل ما تم نقشه أو تدوينه سواء من قبل اشخاص عاصروا الحدث أو شاركوا فيه ويرتبط بزمن وقوع الحدث .
- ٢ محافظة تعد نقطة التقاء الوجه البحري بالوجه القبلي.
- ٣ عالم مصري في الجغرافيا تحدثت عن أهمية موقع مصر.
- ٤ نظام يتم من خلاله تحديد موقع أي مكان.
- ٥ طريق قديم للتجارة كان يدور حول قارة إفريقيا.
- ٦ أهم شريان ملاحى عالمى يربط بين البحر الأحمر والبحر المتوسط.
- ٧ مدينة تحد محافظة القاهرة من جهة الشرق.
- ٨ دولة تعد حلقة الاتصال بين دول الوطن العربى الآسيوية والإفريقية منذ القدم.
- ٩ مساحة من الأرض تضم مجموعة من المراكز والأحياء.
- ١٠ ممر ملاحى عالمى يربط بين البحرين الأحمر والمتوسط .
- ١١ عاصمة جمهورية مصر العربية.
- ١٢ معلومات ثبت صحتها ودقتها .
- ١٣ كل ما تم تدوينه بعد مرور زمن طويل منذ وقوع الحدث .
- ١٤ يعبر عن شعور أو تفكير شخص ما تجاه حدث معين وقد تكون صحيحة أو خطأ.
- ١٥ يطلق على آسيا وإفريقيا وأوروبا.
- ١٦ مساحة واسعة من اليابس تضم عدداً من الدول داخلها.



- () ١٧ حدود تفصل بين محافظات مصر.
- () ١٨ مدينة أنشأتها الدولة لتخفيف تكديس الخدمات في مدينة القاهرة.
- () ١٩ راية تتخذها المحافظة رمزا لها لتعبر عن نشاط سكانها
- () ٢٠ رسم توضيحي لسطح الأرض أو جزء منه باستخدام مجموعة من الرموز والألوان ومقياس رسم محدد.
- () ٢١ تتخذ شكلاً رأسياً لتحديد الموقع شرق أو غرب خط الطول الرئيسي (جرينتش)

ضع دائرة حول الكلمة التي لا تنتمي الي المجموعة

السؤال الخامس

- ١ آسيا - أفريقيا - أمريكا الشمالية - أوروبا
- ٢ أمريكا الشمالية - أمريكا الجنوبية - أفريقيا - أستراليا
- ٣ النقوش - البرديات - الأبحاث - الوثائق الرسمية
- ٤ الأبحاث - الكتب - المقالات - الأفلام التسجيلية
- ٥ المحيط الهادي - المحيط الهندي - نهر النيل - المحيط الأطلنطي
- ٦ القاهرة - السويس - الغربية - أسوان
- ٧ البحيرة - شمال سيناء - جنوب سيناء - الوادي الجديد
- ٨ الجيزة - الدقهلية - أسيوط - المنيا
- ٩ مقياس الرسم - وردة البوصلة - شبكة الإحداثيات - الصور
- ١٠ احترام العلم - تمزيق العلم - الرسم على العلم - الكتابة على العلم
- ١١ النشيد الوطني - سيد درويش - جمال حمدان - محمد يونس القاضي
- ١٢ الجامع الأزهر - كلمة القاهرة - ترس ذهبي - شمس ساطعة

بم تفسر

السؤال السادس

- ١ أهمية مفتاح الخريطة ؟
.....
- ٢ حدد سبب احتفال كل محافظة بعيد قومي خاص بها ؟
.....
- ٣ الصور الجوية تساعد في رسم خرائط أكثر دقة وتفصيلاً من الصور الفضائية ؟
.....
- ٤ أهمية وجود النشيد الوطني لمصر ؟
.....
- ٥ وجود اختلاف بين الحقيقة والرأي .
.....



٦ حدد سبباً واحداً لأهمية وجود علم لكل دولة ؟

.....

٧ ضرورة احترام علم مصر؟

.....

٨ اكتب تفسيراً واحداً لوجود اللون الأحمر في علم مصر بمعظم مراحل تطوره ؟

.....

٩ مصر دولة بحرية ؟

.....

١٠ اكتب تفسيراً لأهمية الخريطة للفلاح ؟

.....

١١ اكتب تفسيراً واحداً لتقسيم بعض الدول إلى محافظات ؟

.....

١٢ أهمية نظام تحديد المواقع العالمي ؟

.....

١٣ حدد سبباً واحداً لإنشاء الدولة للعاصمة الإدارية الجديدة ؟

.....

١٤ أهمية عنوان الخريطة .

.....

١٥ تقسيم مصر إلى عدد من المحافظات؟

.....

١٦ (ساعد نهر النيل على ازدهار الاقتصاد المصري منذ القدم) ؟

.....

١٧ اكتب تفسيراً واحداً لوجود النسر في وسط علم مصر ؟

.....

١٨ ضرورة الاعتماد علي المصادر الأولية بدرجة أكبر من المصادر الثانوية .

.....

١٩ اكتب تفسيراً واحداً لوجود اللون الأبيض في علم مصر ؟

.....

٢٠ أهمية قناة السويس .

.....

٢١ أهمية المادة رقم ٢٢٣ من الدستور المصري بالنسبة للعلم المصري ؟

.....



أهمية رسم وردة البوصلة علي الخريطة

٢٢

.....

اكتب سبب رسم الشمس في شعار محافظة القاهرة ؟

٢٣

.....

أهمية الخريطة للجيش

٢٤

.....

اكتب سبب احتفال القاهرة بعيدها القومي يوم ٦ يوليو من كل عام ؟

٢٥

.....

حدد سبب اتخاذ كل محافظة شعار خاص بها ؟

٢٦

.....

حدد سبباً واحداً لاستمرار القاهرة عاصمة مصر لفترات طويلة على مر التاريخ ؟

٢٧

.....

ماذا يحدث اذا

السؤال السابع

١ تم رسم خريطة بدون مقياس رسم.

١

.....

٢ لم نجد وردة البوصلة على الخريطة.

٢

.....

٣ لم يجرى نهر النيل على أرض مصر ؟

٣

.....

٤ لم تكن مساحة مصر واسعة ؟

٤

.....

٥ ظل طريق رأس الرجاء الصالح الوحيد للتجارة بين الشرق والغرب ؟

٥

.....

٦ لم يكن للقاهرة موقع جغرافي متميز ؟

٦

.....

٧ رسمت الخريطة بدون مفتاح الخريطة.

٧

.....



اجب عن الاسئلة الآتية

السؤال الثامن

١ في أي القارات تقع مصر؟ وفي أي الجهات تقع مصر من القارة؟

.....

٢ اكتب مظهرين من مظاهر احتفال محافظتك بعيدها القومي؟

.....

٣ ما العلاقة بين الأقمار الصناعية ونظام تحديد المواقع العالمي؟

.....

٤ في رأيك ما أهمية نظام تحديد المواقع العالمي GPS؟

.....

٥ وجود نهر النيل في مصر؟

.....

٦ ما المقصود بمحافظات الوجه البحري؟ مع الأمثلة؟

.....

٧ ما المقصود بمحافظات الوجه القبلي؟ مع الأمثلة؟

.....

٨ ما النتائج المترتبة علي - حفر قناة السويس الجديدة؟

.....

٩ اكتب ثلاث أماكن ترى علم مصر يرفرف بها؟

.....

١٠ ما العلاقة بين المحافظة والمراكز والأحياء؟

.....

١١ اكتب اختلافًا واحدًا بين المصدر الأولي والمصدر الثانوي؟

.....

١٢ حدد الفرق بين الشعار والعلم؟

.....

١٣ دلل على صحة العبارة التالية " مصر دولة بحرية "؟

.....

١٤ دلل على اهتمام الدولة بتطوير محافظة القاهرة؟

.....

١٥ ما العلاقة بين نهر النيل - دول وسط إفريقيا؟

.....

١٦ ساعد نهر النيل على ازدهار الاقتصاد المصري منذ القدم؟

.....

١٧ ما النتائج المترتبة علي - حفر قناة السويس؟

.....

١٨ ما العلاقة بين جوهر الصقلي والقاهرة؟

.....



٣



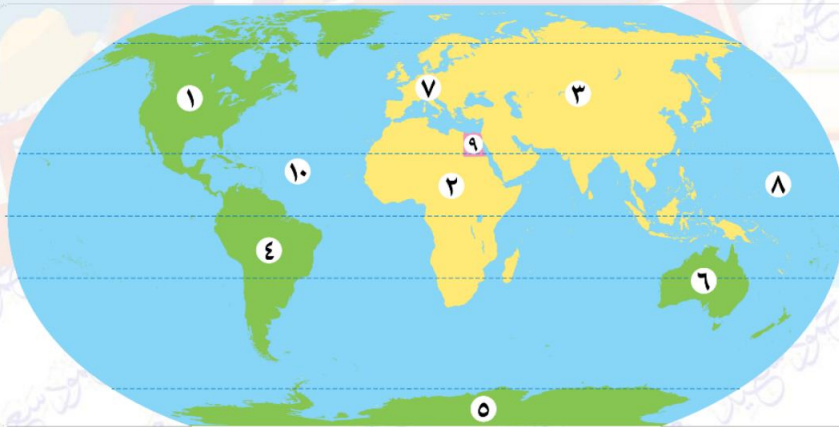
- ١ أمامك خريطة لمصر ينقصها عنصر واحد هو
(عنوان الخريطة - مفتاح الخريطة - مقياس الرسم - وردة البوصلة)
- ٢ الخريطة التي أمامك تعبر عن.....
(الصورة الجوية - الصورة الفضائية - رسم توضيحي لجزء من سطح الأرض - شبكة الإحداثيات)

٤



- ١ محافظة السويس تجاور محافظة القاهرة من جهة (الجنوب - الشرق - الغرب - الشمال)
- ٢ يجاور القاهرة من الجنوب والغرب محافظة.....
(السويس - الجيزة - القليوبية - الإسماعيلية)
- ٣ المحافظة التي تطل على البحر المتوسط.....
(البحر الأحمر - الوادي الجديد - جنوب سيناء - بورسعيد)
- ٤ عدد المحافظات الصحراوية.....
(أربعة - خمسة - ستة - سبعة)
- ٥ من محافظات الحدود تقع في الصحراء الغربية وشمالها البحر المتوسط .
(شمال سيناء - مطروح - الوادي الجديد)

٥



- ١ قارة أمريكا الشمالية.....
- ٢ قارة إفريقيا.....
- ٣ قارة آسيا.....
- ٤ قارة أمريكا الجنوبية.....
- ٥ قارة أنتاركتيكا.....
- ٦ قارة أستراليا.....
- ٧ قارة أوروبا.....
- ٨ المحيط الهادي.....
- ٩ دولة مصر.....
- ١٠ المحيط ... الأطلنطي.....

بِسْمِ اللَّهِ الرَّحْمَنِ الرَّحِيمِ " إِنَّ الدِّينَ أَمْنٌ وَعَمَلُوا الصَّالِحَاتِ إِنَّا لَا نُضِيعُ أَجْرَ مَنْ أَحْسَنَ عَمَلًا " صدق الله العظيم



الصف
الرابع
الابتدائي
٢٠٢٤

بنك اسئلة

التميز

أ / محمود سعيد

الاجابات النموذجية لبنك الاسئلة الدراسات الاجتماعية

علي مقررات أكتوبر

اعداد

د / اسلام عطية أ / محي الدين سمير



El.Motamez.School

يمكنكم الحصول على المذكرات والاختبارات من خلال مسح رمز ال QR Code
أو من خلال صفحة "التميز - أ / محمود سعيد".
© يرجى مراعاة حقوق صاحب المحتوى عند النشر.



بنك أسئلة الترميز علي مقررات شهر أكتوبر

تشمل أسئلة الوزارة واختبارات المحافظات

اختر الاجابة الصحيحة مما بين القوسين

السؤال الأول

- ١ لمعرفة مدلول الألوان والرموز الموجودة علي الخريطة فإننا ننظر إلي.....
 - أ عنوان الخريطة
 - ب مقياس الرسم
 - ج مفتاح الخريطة
 - د وردة البوصلة
- ٢ راية تتخذها المحافظة رمزاً لها.....
 - أ الشعار
 - ب العلم
 - ج العيد
 - د المهرجان
- ٣ تستخدم الأقمار الصناعية لالتقاط الصور.....
 - أ الجوية
 - ب الفوتوغرافية
 - ج الفضائية
 - د المرسومة
- ٤ تشير الشمس في شعار محافظة القاهرة إلي.....
 - أ موقعها المتميز
 - ب الجامع الأزهر منارة الإسلام في العالم
 - ج اعتدال مناخ القاهرة
 - د نور الإسلام يشرق على مصر
- ٥ أي من العناصر التالية للخريطة يمكن أن يستخدم عند رسم محافظة الأقصر في ورقة صغيرة.....
 - أ العنوان
 - ب مقياس الرسم
 - ج وردة البوصلة
 - د المفتاح
- ٦ يرفع علم مصر وشعار المحافظة فوق المباني الحكومية عند الاحتفال ب.....
 - أ العيد القومي للمحافظة
 - ب الأعياد الدينية
 - ج ذكرى بناء المحافظة
 - د ذكرى تعيين المحافظ
- ٧ محافظة تمثل نقطة التقاء الوجهين القبلي والبحري هي.....
 - أ الجيزة
 - ب الأقصر
 - ج المنوفية
 - د القاهرة
- ٨ لون في علم مصر يدل على السلام هو.....
 - أ الأبيض
 - ب الأحمر
 - ج الأسود
 - د الأخضر
- ٩ يمكن معرفة المسافة الحقيقية بين مدينتين بواسطة.....
 - أ وردة البوصلة
 - ب مفتاح الخريطة
 - ج مقياس الرسم
 - د عنوان الخريطة
- ١٠ يتخذ علم مصر شكل.....
 - أ دائرة
 - ب مثلث
 - ج مستطيل
 - د مربع
- ١١ تساعد الخريطة..... عندما يقود السفن في البحر
 - أ الطيار
 - ب السائح
 - ج القبطان
 - د التلميذ



- ١٢ اختيار محافظة القاهرة عاصمة بسبب.....
 أ مساحتها **ب** موقعها المتميز
 ج كثرة موانئها **د** ازدهارها صناعياً
- ١٣ الاتجاه الذي يقع بين الجنوب والشرق.....
 أ الشمال **ب** الجنوب الشرقي
 ج الشمال الشرقي **د** الجنوب الغربي
- ١٤ يتكون العالم من.....قارات
 أ عشر **ب** خمس
 ج سبعة **د** ست
- ١٥ الكتب والموسوعات من المصادر.....
 أ الأولية **ب** الثنائية
 ج التمهيدية **د** الثانوية
- ١٦ إحدى محافظات الحدود هي.....
 أ مطروح **ب** السويس
 ج البحيرة **د** المنوفية
- ١٧ الأفلام التسجيلية تعتبر من المصادر.....
 أ الأولية **ب** الثنائية
 ج التمهيدية **د** الثانوية
- ١٨ عدد المحيطات في العالم.....محيطات
 أ سبع **ب** خمس
 ج ست **د** أربع
- ١٩ إذا أردت أن تستخدم مصدراً أولاً لإجراء بحث عن قناة السويس فإنك تستخدم :
 أ موسوعة عن القناة **ب** وثائق رسمية عن القناة
 ج مقال عن القناة عام ٢٠٠٠ م **د** كتاب عن القناة عام ٢٠١٤ م
- ٢٠ الموقع بالنسبة لليابس والماء يسمى.....
 أ خريطة **ب** موقع جغرافي
 ج صورة **د** حدود
- ٢١ تعتبر من المصادر الثانوية.....
 أ نقوش معبد أبو سمبل **ب** لوحة نارمر
 ج بردية ايبريس **د** الكتب
- ٢٢ القناة التي تعد شريان التجارة العالمي الذي يربط بين البحرين الأحمر والمتوسط بشكل مباشر هي قناة.....
 أ بنما **ب** السويس
 ج سيزوستريس **د** جونجلي
- ٢٣ تم حفر قناة السويس بسواعد..... عام ١٨٦٩ م.
 أ السودانيين **ب** المصريين
 ج الفرنسيين **د** الإنجليز
- ٢٤ إذا أردت كتابة بحث عن أهمية موقع مصر الجغرافي فإنك تستعين بأحد مؤلفات.....
 أ طه حسين **ب** محمد يونس
 ج سيد درويش **د** جمال حمدان
- ٢٥ حفرت قناة السويس بسواعد مصرية تحت إشراف مهندسين.....
 أ السودانيين **ب** المصريين
 ج الفرنسيين **د** الإنجليز



- ٣٦ تعد من المصادر الثانوية
- ٣٧ البريدات المصرية القديمة تعد من المصادر.....
- ٣٨ النقوش والرسوم على توابيت الملوك الفرعونية تعد من المصادر.....
- ٣٩ أوروبا مساحة شاسعة من اليابس تضم عدة دول فهي بذلك تكون.....
- ٣٠ الحقائق تتسم بالدقة والموضوعية وغالبا تكون.....
- ٣١ " مساحة واسعة من اليابس تضم عدد من الدول " تنطبق هذه العبارة على.....
- ٣٢ قام الملك..... بحفر قناة سيزوستريس منذ القدم
- ٣٣ سنوسرت الرابع تلتقى قارتا..... في مصر.
- ٣٤ أوروبا وآسيا آسيا وإفريقيا أستراليا وإفريقيا أوروبا وإفريقيا
- هي معلومات تأكدنا من دقتها وصحتها بالبحث أو بالتجربة
- ٣٥ الأراء وجهات النظر الحقائق التعليقات
- ساعد نهر النيل على ربط مصر بدول
- ٣٦ شمال إفريقيا وسط إفريقيا غرب أوروبا شمال أمريكا
- عدد المحافظات في شبه جزيرة سيناء هو.....
- ٣٧ ثلاثه أربعة اثنان خمسة
- إذا أردت زيارة معظم الوزارات فعليك التوجه إلى محافظة.....
- ٣٨ القاهرة جنوب سيناء الوادي الجديد المنيا
- تعتبر قارة..... من قارات العالم الجديد
- ٣٩ أوروبا أمريكا الشمالية إفريقيا آسيا
- إذا أردت زيارة أكبر محافظات مصر مساحة فعليك التوجه إلى محافظة.....
- ٤٠ الغربية الوادي الجديد المنوفية دمياط



- ٤٠ " بلغ عدد سكان مصر ٩٤ مليون نسمة عام ٢٠١٧ " تعبر هذه العبارة عن :
 أ رأي ب خيال ج حقيقة د وجهة نظر
- ٤١ محافظة السويس تجاور القاهرة من جهة
 أ الشمال ب الشرق ج الجنوب د الغرب
- ٤٢ اللون الأزرق على الخريطة يشير إلى.....
 أ الجبال ب التلال ج الهضاب د البحار
- ٤٣ تعد مدينة عاصمة مصر.
 أ الإسكندرية ب الجيزة ج القاهرة د حلوان
- ٤٤ الاتجاه الذي يقع بين الشرق والشمال.....
 أ الشمال الغربي ب الجنوب الشرقي ج الشمال الشرقي د الجنوب الغربي
- ٤٥ يتكون علم مصر من.....
 أ خمسة ألوان ب ثلاثة ألوان ج أربعة ألوان د ستة ألوان
- ٤٦ قامت الدولة بإنشاء عاصمة إدارية جديدة لتخفيف الضغط السكاني عن.....
 أ الدقهلية ب السويس ج الإسكندرية د القاهرة
- ٤٧ يدل النسر في وسط العلم على.....
 أ الثورة ب الضعف ج اليأس د القوة
- ٤٨ يستخدم..... الخريطة في مذاكرة وفهم دروسه
 أ الفلاح ب التلميذ ج الجيش د القبطان
- ٤٩ لون في علم مصر يدل على ما تعرضت له مصر من ظلم في فترات الاستعمار هو.....
 أ الأبيض ب الأحمر ج الأسود د الأخضر
- ٥٠ كل ما يلي من عناصر الخريطة ما عدا.....
 أ مفتاح الخريطة ب الصور ج مقياس الرسم د شبكة الإحداثيات
- ٥١ قام بوضع حجر الأساس لمدينة القاهرة عام ٩٦٩م القائد.....
 أ صلاح الدين الأيوبي ب سيف الدين قطز ج جوهري الصقلي د محمد علي
- ٥٢ اللون الذي يدل على نضال الشعب المصري هو.....
 أ الأبيض ب الأحمر ج الأسود د الأخضر
- ٥٣ يضم شعار محافظة القاهرة رمز من رموزها وهو.....
 أ جامع عمرو بن العاص ب الجامع الأزهر الشريف ج جامعة القاهرة د قلعة صلاح الدين



- ٥٤ يستخدم الخريطة للوصول الى الأماكن الاثرية
 الفلاح (أ) الجندي (ب) السائح (ج) الطالب (د)
- ٥٥ تحتفل مدينة القاهرة بعيدها القومي في ذكرى.....
 بناء مدينة القاهرة (أ) بناء الجامع الأزهر (ب) بناء قناة السويس (ج) جلاء الإنجليز (د)
- ٥٦ اذا علمت أن المسافة بين القاهرة وبورسعيد ٢ سم علي الخريطة التي رسمت بمقياس رقم ١ سم : ١٠٠ كم فمن المتوقع أن تكون المسافة بينهما في الحقيقة تساوي
 ٢ كم (أ) ٢٠٠ كم (ب) ٢ م (ج) ٢٠٠ م (د)
- ٥٧ توجد الكنيسة المعلقة في محافظة
 القاهرة (أ) الإسكندرية (ب) السويس (ج) سوهاج (د)
- ٥٨ عند رسم خرائط للعاصمة الإدارية الجديدة فنستعين ب....
 الصور الفوتوغرافية (أ) الصور الفضائية (ب) الصور الجوية (ج) الخرائط الذهنية (د)
- ٥٩ " يتم التقاط الصور الفضائية بواسطة الأقمار الصناعية " تعبر هذه العبارة عن :
 رأي (أ) خيال (ب) حقيقة (ج) وجهة نظر (د)
- ٦٠ " مدينة شرم الشيخ أجمل المدن المصرية " تعبر هذه العبارة عن :
 رأي (أ) حقيقة (ب) مقترح (ج) خيال (د)
- ٦١ المصادر الثانوية متوافرة بكثرة مثل.....
 الأبحاث (أ) البرديات (ب) النقوش (ج) الخطابات الرسمية (د)
- ٦٢ تمر السفن في الاتجاهيين دون انتظار في قناة.....
 سيزوستريس (أ) بنما (ب) السويس القديمة (ج) السويس الجديدة (د)
- ٦٣ الكتابات الهيروغليفية على جدران المعابد الفرعونية تعتبر من المصادر.....
 الثانوية (أ) الأولية (ب) التقليدية (ج) الأراء (د)
- ٦٤ تقع مصر في الركن الشمالي الشرقي لقارة.....
 أستراليا (أ) أمريكا الجنوبية (ب) أفريقيا (ج) أوروبا (د)
- ٦٥ " مساحة شاسعة من المياه المالحة ذات أعماق كبيرة " تنطبق هذه العبارة على.....
 المحيط الهادي (أ) نهر النيل (ب) بحيرة قارون (ج) البحر المتوسط (د)
- ٦٦ إحدى قارات العالم القديم ولا تقع بها مصر.....
 إفريقيا (أ) أستراليا (ب) أنتاركتيكا (ج) أوروبا (د)
- ٦٧ يشمل الماء في العالم
 المحيطات (أ) البحار (ب) الأنهار (ج) كل ما سبق (د)



- ٦٨ " مساحة من اليابس تضم مجموعة من المراكز أو الأحياء " تنطبق هذه العبارة على
- أ القارة ب المحافظة ج البحيرة د الجزيرة
- ٦٩ محافظة شمال سيناء والوادي الجديد تتشابهان في أنهما محافظات
- أ عاصمة ب حدود ج وجه بحري د وجه قبلي
- ٧٠ الجهة التي تقع بين الجنوب والغرب هي
- أ الشمال الشرقي ب الجنوب الشرقي ج الجنوب الغربي د الغرب

ضع علامة صح أو علامة خطأ أمام العبارات التالية

السؤال الثاني

- ١ يستخدم مفتاح الخريطة لتحديد المسافات علي الخريطة .
- ٢ من مظاهر احتفال المحافظة بعيدها القومي تزيين وتجميل الشوارع والميادين
- ٣ علم الدولة هو رمز لتاريخها وتراثها
- ٤ يعبر شعار محافظة القاهرة عن جزء من تاريخها
- ٥ عاش المصريون على ضفاف نهر النيل وقاموا بأعمال الزراعة .
- ٦ يرتبط العيد القومي للمحافظة بحدث تاريخي أو ذكرى مهمة
- ٧ يستفيد قبطان السفينة من إحداثيات الخريطة في تحديد المواقع في البحر
- ٨ تعتبر محافظة الغربية من محافظات الحدود الصحراوية
- ٩ الخط الأزرق على خريطة مصر يشير إلى البحر الأحمر.
- ١٠ يدل اللون الأسود في علم مصر على الظلم الذي تعرضت له مصر في فترات الاستعمار
- ١١ الصور هي عبارة عن رسم توضيحي لسطح الأرض أو جزء منه.
- ١٢ يدل اللون الأحمر في علم مصر على السلام
- ١٣ تتميز الحقيقة بالدقة والموضوعية .
- ١٤ تعد مدينة القاهرة نقطة التقاء الوجه البحري بالوجه القبلي.
- ١٥ تقع مصر في قارة أفريقيا ، تعبر هذه العبارة عن وجهة نظر
- ١٦ احترام علم بلدنا واجب وطني
- ١٧ المصادر الثانوية أكثر دقة من المصادر الأولية .
- ١٨ تعتبر محافظة البحر الأحمر من محافظات الحدود الصحراوية
- ١٩ للتأكد من صحة المعلومات الواردة عن الهرم نستخدم المصادر الأولية والثانوية
- ٢٠ تشترك عاصمة بلدنا مصر في حدودها الجنوبية مع محافظة الجيزة
- ٢١ عند التأكد من صحة المعلومات فإننا نجد إما مصادر أولية أو مصادر ثانوية.
- ٢٢ أدى حفر قناة السويس الجديدة إلى زيادة زمن مرور السفينة بالقناة .



- تم افتتاح قناة السويس للملاحة في عام ١٨٦٩ في حفل أسطوري .
- المحيط الأطلنطي يمثل مساحة شاسعة من الماء المالح قليلة العمق
- إذا اردت الذهاب في رحلة الى ساحل البحر الأحمر فعليك الاتجاه الى غرب مصر
- يحيط اليابس بمصر من جهة الشمال وجهة الشرق.
- يشمل اليابس كل قارات العالم.
- تعتبر فكرة حفر قناة تصل بين البحرين الأحمر والمتوسط فكرة حديثة فقط .
- تمر السفن في الاتجاهين بقناة السويس بعد حفر قناة السويس الجديدة .
- يقع البحر المتوسط شمال مصر
- كانت مصر معبراً للتجارة الدولية بين الشرق والغرب.
- المؤلفات التي تم كتابتها حديثاً عن قناة السويس تعد من المصادر الأولية .
- إذا اردت الذهاب الى العاصمة الإدارية الجديدة فإن (gps) يساعدك في تحديد اتجاهاتك .
- يظهر مدلول الرموز والألوان على الخريطة في مقياس الرسم .
- محافظة الوادي الجديد أكبر محافظات مصر من حيث المساحة .
- يبلغ ارتفاع برج القاهرة ١٨٧ متر هذه العبارة تعبر عن حقيقة .
- تعتبر محافظة البحيرة من محافظات الوجه القبلي.
- ساعد نهر النيل قديماً علي زيادة التجارة بين مصر ودول وسط افريقيا .
- عدد محافظات مصر ٢٥ محافظة.
- إذا اردت رسم خريطة تفصيلية لجزء من مصر فإنك تعتمد علي الصور الجوية .
- من سلوكيات احترام العلم رفعه عالياً وعدم ملامسته للأرض .
- تستخدم الأقمار الصناعية في التقاط الصور الجوية .
- يدل اللون الأحمر في علم مصر على مرحلة النضال ودماء الشهداء
- إذا اردت معرفة موقع مدينة القاهرة علي الخريطة فإنك تنظر الي مقياس الرسم
- يوجد بالدستور المصري مادة قانونية تؤكد على أهمية احترام العلم المصري
- نستخدم طائرات الشحن في التقاط الصور الفضائية .
- إذا ذهبت إلى مطار القاهرة الدولي فستجد علم مصر فوق المطار وعلى الطائرات
- تحتفل القاهرة بعيدها القومي بمناسبة وضع حجر الأساس لبناء مدينة القاهرة
- تحتفل جميع محافظات مصر بعيد قومي واحد
- يحرص المحافظ على افتتاح المشروعات الجديدة في العيد القومي للمحافظة
- تستخدم الأقمار الصناعية لالتقاط الصور الجوية لسطح الأرض
- لكل محافظة شعار يعبر عن نشاط سكانها أو جزء من تاريخها
- اللون الأبيض في علم مصر يدل على الثلج والسلام.

٣٣

٣٤

٣٥

٣٦

٣٧

٣٨

٣٩

٤٠

٤١

٤٢

٤٣

٤٤

٤٥

٤٦

٤٧

٤٨

٤٩

٥٠

٥١

٥٢

٥٣

٥٤

٥٥

٥٦

٥٧

٥٨

٥٩

٥٠

٥١

٥٢

٥٣





- يفصل بين محافظات مصر حدود طبيعية.
- تقع مصر في شمال شرق قارة آسيا
- النقوش على جدران المعابد والوثائق الرسمية من المصادر الأولية
- مشروع حي الاسمرات هو احدي مشروعات تطوير الاسكندرية
- يدل النسر الذى يتوسط العلم على القوة والشجاعة
- بسبب اتساع مصر تم تقسيمها إلى ولايات.
- لوحة الملك نارمر أحد المصادر الثانوية .
- المخاطبات الرسمية والنقوش على جدران المعابد من المصادر الأولية .
- الكتب والموسوعات والمقالات من المصادر الأولية .
- تصل قناة سيزوستريس بين البحر الأحمر والمتوسط عن طريق نهر الفرات.
- مصر نقطة التقاء قارتي إفريقيا وأوروبا

0٤
00
0٦
0٧
0٨
0٩
٦٠
٦١
٦٢
٦٣
٦٤

أكمل العبارات التالية بالاجابات المناسبة

السؤال الثالث

- ١ الصور....الفضائية.... توضح لنا سطح الأرض من أعلي بواسطة الأقمار الصناعية .
- ٢ يتشابه الجامع الأزهر الذى ينشر الإسلام في العالم كله مع....الشمس....التى تنشر الأشعة في العالم كله.
- ٣.....الخريطة.... هي رسم توضيحي لسطح الأرض أو جزء منه باستخدام مجموعة من الرموز والألوان ومقياس رسم محدد .
- ٤ قام القائد الفاطمي جوهر الصقلي بوضع حجرالأساس لبناء مدينة...القاهرة.... عام ٩٦٩م.
- ٥ الدوائر السوداء الصغيرة في خريطة مصر تشير إلى...المدن...المصرية
- ٦ يرفع العلم المصري على وسائل النقل الدولية مثل.....الطائرات
- ٧ اتجاه الجنوب الشرقي واتجاه الجنوب الغربي من الاتجاهات...الفرعية....
- ٨ يعاقب من يهين...العلم.... المصري بالقانون في المادة ٢٢٣ من الدستورالمصري
- ٩ الكتب والمقالات والأبحاث تعتبر من المصادر.....الثانوية.....
- ١٠ تعتبر محافظة سوهاج إحدى محافظاتالوجه القبلي.....
- ١١ مخطط أصلى لتصميم قناة السويس القديمة يعد من المصادر.....الأولية.....
- ١٢ يحد القاهرة من الشمال محافظتاالقليوبية.....و.....الشرقية.....
- ١٣ تمثال أبو الهول هو أجمل تثال فرعونى تعتبر هذه العبارة.....رأى.....
- ١٤ بعد حفر قناة السويس الجديدة تم تقليل زمن عبور السفن من ٢٠ ساعة إلى ١١ ساعة.
- ١٥ أصغر محافظات مصر من حيث المساحة هي محافظة.....دمياط.....
- ١٦ يحيط الماء بمصر من جهتي الشرق و . الشمال
- ١٧ يتكون العالم من سبع قارات و خمس محيطات.
- ١٨ تتمتع مصر بموقع متميز لوقوعها في قلب قارات العالم القديم تعد هذه العبارة.....حقيقة.....

١
٢
٣
٤
٥
٦
٧
٨
٩
١٠
١١
١٢
١٣
١٤
١٥
١٦
١٧
١٨



- ١٩ اللون الذي يدل على السلام في علم مصر هو.....**اللون الأبيض**.....
- ٢٠ النقوش علي القطع الاثرية والأفلام التسجيلية من المصادر **الأولية**
- ٢١ طائر النسر الموجود على علم مصر لونه أصفر... **ذهبي** ...ومأخوذ من نسر القائد... **صلاح الدين**.
- ٢٢ في خريطة مصر يدل الخط الأزرق على... **نهر النيل**.....
- ٢٣ عندما يريد الفلاح معرفة أملاكه من الأراضي الزراعية فإنه يستخدم...**الخريطة**...
- ٢٤ تم افتتاح قناة السويس الجديدة عام ٢٠١٥ ، العبارة السابقة تعبر عن ... **حقيقة**
- ٢٥ **وردة البوصلة**... توضح لنا الاتجاهات الاصلية والاتجاهات الفرعية .
- ٢٦ **مفتاح الخريطة**..... يوضح مدلول ومعنى الألوان والرموز الموجودة علي الخريطة .
- ٢٧ يشير **عنوان الخريطة**.....إلى المعلومات والبيانات الواردة على الخريطة
- ٢٨ الذي قام بتلحين النشيد الوطني لمصر بلادي بلادي هو.....**سيد درويش**.....
- ٢٩ الغردقة أجمل مدن مصر ، العبارة السابقة تعبر عن**رأي**.....
- ٣٠ كتاب تم تأليفه عام ٢٠١٥ عن قناة السويس الجديدة يعد من المصادر.....**الأولية**.....
- ٣١ المصادر التي تسجل الأحداث بعد مرور زمن طويل من وقوع الحدث هي مصادر...**ثانوية**.....
- ٣٢ كتب الشاعر..... **محمد يونس القاضي**كلمات النشيد الوطنى المصري بلادي بلادي
- ٣٣ تفصل بين محافظات مصر حدود**إدارية**.....
- ٣٤ تقع محافظة الجيزة في اتجاهي الجنوب و**الغرب**.....من محافظة القاهرة.

اكتب ما تشير اليه العبارات التالية

السؤال الرابع

- ١ كل ما تم نقشه أو تدوينه سواء من قبل اشخاص عاصروا الحدث أو شاركوا فيه ويرتبط بزمن وقوع الحدث .
- ٢ محافظة تعد نقطة التقاء الوجه البحري بالوجه القبلي.
- ٣ عالم مصري في الجغرافيا تحدثت عن أهمية موقع مصر.
- ٤ نظام يتم من خلاله تحديد موقع أي مكان.
- ٥ طريق قديم للتجارة كان يدور حول قارة إفريقيا.
- ٦ أهم شريان ملاحى عالمي يربط بين البحر الأحمر والبحر المتوسط.
- ٧ مدينة تحد محافظة القاهرة من جهة الشرق.
- ٨ دولة تعد حلقة الاتصال بين دول الوطن العربي الآسيوية والإفريقية منذ القدم.
- ٩ مساحة من الأرض تضم مجموعة من المراكز والأحياء.
- ١٠ ممر ملاحى عالمي يربط بين البحرين الأحمر والمتوسط .
- ١١ عاصمة جمهورية مصر العربية.
- ١٢ معلومات ثبت صحتها ودقتها .
- ١٣ كل ما تم تدوينه بعد مرور زمن طويل منذ وقوع الحدث .

المصادر الأولية

القاهرة

جمال حمدان

نظام تحديد المواقع العالمي

طريق رأس الرجاء الصالح

قناة السويس

السويس

مصر

محافظة

قناة السويس

القاهرة

الحقيقة

المصادر الثانوية



- الرأي** يعبر عن شعور أو تفكير شخص ما تجاه حدث معين وقد تكون صحيحة أو خطأ. ١٤
- قارات العالم القديم** يطلق على آسيا وإفريقيا وأوروبا. ١٥
- القارة** مساحة واسعة من اليابس تضم عدداً من الدول داخلها. ١٦
- حدود إدارية** حدود تفصل بين محافظات مصر. ١٧
- العاصمة الإدارية الجديدة** مدينة أنشأتها الدولة لتخفيف تكديس الخدمات في مدينة القاهرة. ١٨
- الشعار** راية تتخذها المحافظة رمزا لها لتعبر عن نشاط سكانها ١٩
- الخريطة** رسم توضيحي لسطح الأرض أو جزء منه باستخدام مجموعة من الرموز والألوان ٢٠
- خطوط الطول** وتتخذ شكلاً رأسياً لتحديد الموقع شرق أو غرب خط الطول الرئيسي (جرينتش) ٢١

ضع دائرة حول الكلمة التي لا تنتمي الي المجموعة

السؤال الخامس

- ١ آسيا - أفريقيا - أمريكا الشمالية - أوروبا
- ٢ أمريكا الشمالية - أمريكا الجنوبية - أفريقيا - أستراليا
- ٣ النقوش - البرديات - الأبحاث - الوثائق الرسمية
- ٤ الأبحاث - الكتب - المقالات - الأفلام التسجيلية
- ٥ المحيط الهادي - المحيط الهندي - نهر النيل - المحيط الأطلسي
- ٦ القاهرة - السويس - الغربية - أسوان
- ٧ البحيرة - شمال سيناء - جنوب سيناء - الوادي الجديد
- ٨ الجيزة - الدقهلية - أسيوط - المنيا
- ٩ مقياس الرسم - وردة البوصلة - شبكة الإحداثيات - الصور
- ١٠ احترام العلم - تمزيق العلم - الرسم على العلم - الكتابة على العلم
- ١١ النشيد الوطني - سيد درويش - جمال حمدان - محمد يونس القاضي
- ١٢ الجامع الأزهر - كلمة القاهرة - ترس ذهبي - شمس ساطعة

بم تفسر

السؤال السادس

- ١ أهمية مفتاح الخريطة ؟
- ٢ يوضح مدلول ومعني الألوان والرموز الموجودة علي الخريطة حدد سبب احتفال كل محافظة بعيد قومي خاص بها ؟
- ٣ لأنه يرتبط بحدث تاريخي أو ذكرى مهمة للمحافظة الصور الجوية تساعد في رسم خرائط أكثر دقة وتفصيلاً من الصور الفضائية ؟
- لأن التصوير الجوي يعطينا صورة حقيقية لسطح الأرض ومعالمها مما يساعد في رسم خرائط أكثر دقة.



- ٤ أهمية وجود النشيد الوطني لمصر ؟
لأن النشيد الوطني يعد رمز من رموز الدولة ويعبر عنها
وجود اختلاف بين الحقيقة والرأي .
- ٥ لان الحقائق تم الثبوت والتأكد من صحتها بينما الأراء تعبر عن وجهات نظر شخصية قد تكون صحيحة أو خطأ .
- ٦ حدد سبباً واحداً لأهمية وجود علم لكل دولة ؟
لأنه رمز للدولة وتاريخها وتراثها
ضرورة احترام علم مصر؟
- ٧ لأنه رمز للدولة وإهانتته تعتبر إهانة للدولة
اكتب تفسيراً واحداً لوجود اللون الأحمر في علم مصر بمعظم مراحل تطوره ؟
يعبر عن النضال ودماء الشهداء من أجل الحرية
مصر دولة بحرية ؟
- ٨ لأنها تطل على البحر المتوسط من جهة الشمال والبحر الأحمر من جهة الشرق
اكتب تفسيراً لأهمية الخريطة للفلاح ؟
يستخدمها لتحديد ملكية الأرض الزراعية
اكتب تفسيراً واحداً لتقسيم بعض الدول إلى محافظات ؟
بسبب اتساع مساحة الدول
أهمية نظام تحديد المواقع العالمي ؟
يساعد في تحديد المواقع والأماكن - يحدد اتجاهات السير
حدد سبباً واحداً لإنشاء الدولة للعاصمة الإدارية الجديدة ؟
لتقليل الضغط السكاني بالعاصمة الحالية
أهمية عنوان الخريطة .
يساعدنا في معرفة المعلومات الواردة علي الخريطة .
- ٩ تقسيم مصر إلى عدد من المحافظات؟
بسبب اتساع مساحة مصر .
(ساعد نهر النيل على ازدهار الاقتصاد المصري منذ القدم) ؟
لان المصريين عاشوا على ضفافه وعملوا بالزراعة ، كما استخدموا النيل كطريق للتجارة بين شمال وجنوب مصر
اكتب تفسيراً واحداً لوجود النسر في وسط علم مصر ؟
لانه يعبر عن قوة مصر وعراقه حضارتها
ضرورة الاعتماد علي المصادر الأولية بدرجة أكبر من المصادر الثانوية .
لأن المصادر الأولية تتميز بأنها أكثر دقة ومعاصرة للأحداث .
اكتب تفسيراً واحداً لوجود اللون الأبيض في علم مصر ؟
للتعبير عن السلام



- ٢٠ أهمية قناة السويس .
- لأنها أهم ممر ملاحى يربط بين البحرين الأحمر والمتوسط واحتلت مصر بفضلها دور هاماً في التجارة الدولية
- ٢١ أهمية المادة رقم ٢٢٢ من الدستور المصرى بالنسبة للعلم المصرى ؟
- لأنها تنص على احترام العلم المصرى وعدم اهانتة حيث يعاقب بالقانون من يهين العلم المصرى
- ٢٢ أهمية رسم وردة البوصلة على الخريطة
- تساعدنا في تحديد موقع معين على الخريطة بالنسبة الى المواقع الأخرى .
- ٢٣ اكتب سبب رسم الشمس في شعار محافظة القاهرة ؟
- للتعبير عن أن الجامع الازهر هو منارة الإسلام في العالم أجمع
- ٢٤ أهمية الخريطة للجيش
- يستخدمها الجيش في تحديد المواقع الحربية .
- ٢٥ اكتب سبب احتفال القاهرة بعيدها القومي يوم ٦ يوليو من كل عام ؟
- لأنه يوافق يوم وضع القائد جواهر الصقلى حجر الأساس لبناء مدينة القاهرة
- ٢٦ حدد سبب اتخاذ كل محافظة شعار خاص بها ؟
- للتعبير عن نشاط سكانها أو جزء من تاريخها
- ٢٧ حدد سبباً واحداً لاستمرار القاهرة عاصمة مصر لفترات طويلة على مر التاريخ ؟
- بسبب موقعها المتميز وأنها نقطة التقاء محافظات الوجه البحرى بالوجه القبلى

ماذا يحدث اذا

السؤال السابع

- ١ تم رسم خريطة بدون مقياس رسم.
- لن نستطيع معرفة النسبة بين المسافة على الخريطة وما يقابلها على الطبيعة.
- ٢ لم نجد وردة البوصلة على الخريطة.
- لن نستطيع تحديد الاتجاهات الأصلية والفرعية على الخريطة.
- ٣ لم يجرى نهر النيل على أرض مصر ؟
- عدم قيام الزراعة - عدم قيام الحضارة المصرية - عدم ازدهار الاقتصاد المصرى قديماً
- ٤ لم تكن مساحة مصر واسعة ؟
- لم يتم تقسيم مصر إلى محافظات.
- ٥ ظل طريق رأس الرجاء الصالح الوحيد للتجارة بين الشرق والغرب ؟
- كان سيتم إهدار الكثير من الوقت والجهد والمال ولم تزدهر مصر اقتصادياً
- ٦ لم يكن للقاهرة موقع جغرافى متميز ؟
- لم تكن عاصمة لمصر لفترات طويلة على مر التاريخ.
- ٧ رسمت الخريطة بدون مفتاح الخريطة.
- لن نستطيع معرفة معنى الرموز والألوان الموجودة على الخريطة.

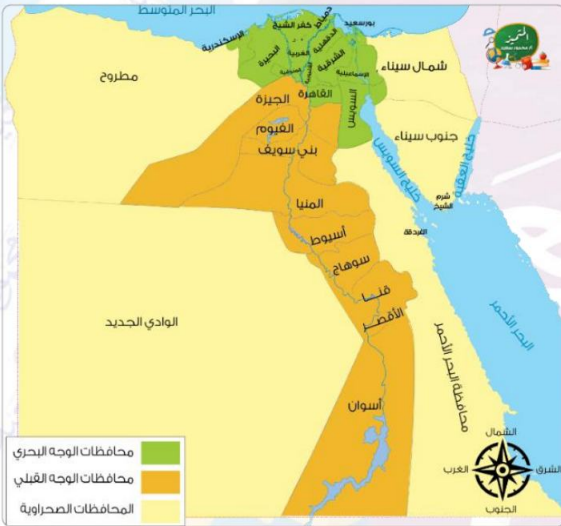


السؤال الثامن

اجب عن الاسئلة الآتية

- ١ في أي القارات تقع مصر ؟ وفي أي الجهات تقع مصر من القارة ؟
في قارة إفريقيا ، الركن الشمالي الشرقي لإفريقيا.
- ٢ اكتب مظهرين من مظاهر احتفال محافظتك بعيدها القومي ؟
تزيين وتجميل شوارع وميادين المحافظة ، إقامة المهرجانات والاحتفالات والمسابقات ، رفع علم مصر وشعار المحافظة فوق المباني الحكومية
- ٣ ما العلاقة بين الأقمار الصناعية ونظام تحديد المواقع العالمي . ؟
يعمل نظام تحديد المواقع العالمي الـ "GPS" " من خلال الأقمار الصناعية.
- ٤ في رأيك ما أهمية نظام تحديد المواقع العالمي GPS ؟
يساعد على : تحديد المواقع والأماكن ، تحديد عنوان مكان ما ، معرفة الحدود بين المحافظات ، تحديد اتجاهات السير
- ٥ وجود نهر النيل في مصر ؟
ترتب على ذلك : قيام الزراعة - قيام الحضارة المصرية - ازدهار الاقتصاد المصري.
- ٦ ما المقصود بمحافظات الوجه البحري ؟ مع الأمثلة ؟
هي المحافظات التي تقع في شمال مصر مثل القاهرة والإسكندرية
- ٧ ما المقصود بمحافظات الوجه القبلي ؟ مع الأمثلة ؟
هي المحافظات التي تقع في جنوب مصر وتسمى أيضاً بمحافظات الوادي مثل الأقصر وأسوان.
- ٨ ما النتائج المترتبة علي - حفر قناة السويس الجديدة ؟
ساعدت على : - تقليل زمن مرور الرحلة في القناة ، استيعاب سفن أكبر حجماً وحمولة ، السماح بمرور السفن في الاتجاهين
- ٩ اكتب ثلاث أماكن ترى علم مصر يرفرف بها ؟
المواقع السياحية ، الوزارات ، المؤسسات الحكومية
- ١٠ ما العلاقة بين المحافظة والمراكز والأحياء ؟
تضم المحافظة مجموعة من المراكز والأحياء
- ١١ اكتب اختلافاً واحداً بين المصدر الأول والمصدر الثانوي ؟
المصدر الأول معاصر للأحداث والمصدر الثانوي كتب بعد مرور زمن طويل من وقوع الحدث.
- ١٢ حدد الفرق بين الشعار والعلم ؟
الشعار : هو راية تتخذها المحافظة رمزاً لها ليعبر عن نشاط سكانها أو جزء من تاريخها
- ١٣ العلم : هو رمز يتخذه كل بلد ليعبر عن تاريخه وتراثه ولكل جزء فيه معنى خاص به
دلل على صحة العبارة التالية " مصر دولة بحرية " ؟
حيث أنه يحدها البحر المتوسط من الشمال والبحر الأحمر من الشرق
- ١٤ دلل على اهتمام الدولة بتطوير محافظة القاهرة ؟
حيث تقوم بالعديد من المشروعات مثل :
حي الأسمرات ، تطوير حي السيدة زينب ، محور روض الفرج، بناء عاصمة جديدة لمصر لتخفيف الضغط عن القاهرة
- ١٥ ما العلاقة بين نهر النيل - دول وسط إفريقيا ؟
استخدم نهر النيل في التجارة بين مصر ودول وسط إفريقيا.





٣

أمامك خريطة لمصر ينقصها عنصر واحد هو
(**عنوان الخريطة** - مفتاح الخريطة - مقياس الرسم - وردة البوصلة)
الخريطة التي أمامك تعبر عن.....
(الصورة الجوية - الصورة الفضائية - **رسم توضيحي** لجزء من سطح الأرض - شبكة الإحداثيات)

١

٢

٤

محافظة السويس تجاور محافظة القاهرة من جهة (الجنوب - **الشرق** - الغرب - الشمال)
يجاور القاهرة من الجنوب والغرب محافظة.....
(السويس - **الجيزة** - القليوبية - الإسماعيلية)
المحافظة التي تطل على البحر المتوسط.....
(البحر الأحمر - الوادي الجديد - جنوب سيناء - **بورسعيد**)
عدد المحافظات الصحراوية.....
(أربعة - **خمسة** - ستة - سبعة)
من محافظات الحدود تقع في الصحراء الغربية وشمالها البحر المتوسط .
(شمال سيناء - **مطروح** - الوادي الجديد)

١

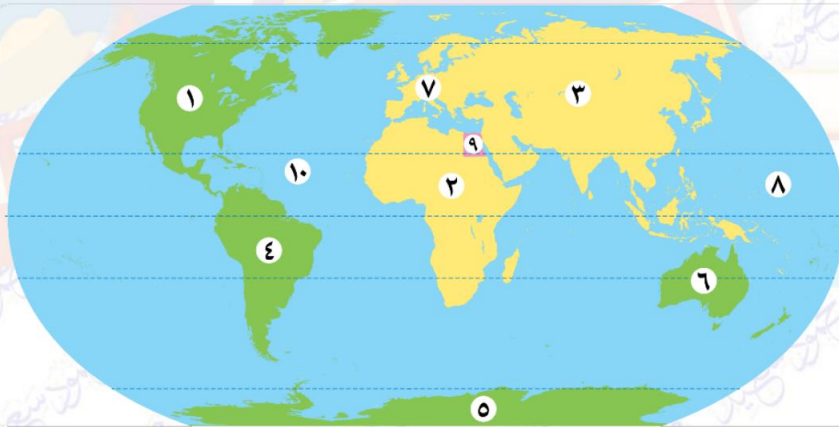
٢

٣

٤

٥

٥



قارة **أستراليا**

قارة **أوروبا**

المحيط **الهادي**

دولة **مصر**

المحيط ... **الأطلنطي**

قارة **أمريكا الشمالية**

قارة **إفريقيا**

قارة **آسيا**

قارة **أمريكا الجنوبية**

قارة **أنتاركتيكا**

٦

٧

٨

٩

١٠

١

٢

٣

٤

٥

بِسْمِ اللَّهِ الرَّحْمَنِ الرَّحِيمِ " إِنَّ الدِّينَ أَمْنٌ وَعَمَلُوا الصَّالِحَاتِ إِنَّا لَا نُضِيعُ أَجْرَ مَنْ أَحْسَنَ عَمَلًا " صدق الله العظيم

