



سلسلة المراجعة والامتحانات

# هنساعدك

في الدراسات الاجتماعية

بوكليت الوحدة الأولى  
للصف الرابع الإبتدائي



إعداد

أ/ أماني السيد حسونة

باحثة ماجستير في التاريخ الإسلامي

01030111626

أطفال غزة

سنة الساعات والموت

عربية

أكتوبر ٢٠٢٣



## 1 - اختر الإجابة الصحيحة مما بين القوسين :

- 1 - أي من عناصر الخريطة التالية تستخدم عند رسم الصحراء الغربية على ورقة صغيرة ..... ( عنوان الخريطة - مفتاح الخريطة - وردة البوصلة - مقياس الرسم )
- 2 - إذا كنت من سكان مدينة الأقصر وأردت السفر إلى مدينة القاهرة فإنك ستتجه ناحية ..... ( الشمال - الشرق - الجنوب - الغرب )
- 3 - لو كنت من سكان محافظة القاهرة وأردت القيام برحلة لزيارة المعالم الأثرية في محافظة أسوان فإنك ستتجه ناحية ..... ( الشمال - الجنوب - الشرق - الغرب )
- 4 - دائرة العرض الرئيسية هي ..... ( جرينتش - الاستواء - الجدي - السرطان )
- 5 - عندما نريد رسم خرائط تفصيلية لسطح الأرض فإننا نستعين بصور تُلتقط بواسطة ..... ( الطائرات - الصواريخ - سفن الفضاء - الأقمار الصناعية )
- 6 - لو أردت معرفة المسافة الحقيقية بين أي مدينتين على الخريطة فإننا نستعين ب ..... ( مقياس الرسم - مفتاح الخريطة - عنوان الخريطة - وردة البوصلة )
- 7 - لمعرفة موقع مدينة العريش بالنسبة لموقع مدينة بورسعيد على الخريطة فإننا نستعين ب ..... ( مفتاح الخريطة - عنوان الخريطة - مقياس الرسم - وردة البوصلة )
- 8 - يساعدني ..... على فهم مدلول الرموز والألوان على الخريطة. ( مفتاح الخريطة - عنوان الخريطة - مقياس الرسم - وردة البوصلة )
- 9 - لو أردت معرفة المعلومات الواردة على الخريطة فسوف أستعين ب ..... ( مفتاح الخريطة - مقياس الرسم - وردة البوصلة - عنوان الخريطة )
- 10 - مدينة الإسكندرية أجمل المدن المصرية "تعبّر العبارة السابقة عن ..... ( رأي - خيال - حقيقة - اقتراح )
- 11 - بلغ عدد سكان مصر عام ٢٠١٧م حوالي ٩٤ مليون نسمة " تعبّر العبارة السابقة أن ..... ( رأي - حقيقة - خيال - كذبة )
- 12 - عند كتابتي لبحث عن قناة السويس وأهميتها فسوف أستعين بمصدر ثانوي وهو ..... ( الأفلام التسجيلية - البرديات - الوثائق الرسمية - الكتب )
- 13 - ..... هي معلومات تم التأكد من صحتها. ( الحقائق - المعتقدات - الآراء - القوانين )
- 14 - بنى رمسيس الثاني معبد الرمسسيوم هذه العبارة تعبّر عن ..... ( معتقد - رأي - خيال - حقيقة )
- 15 - مدينة أسوان أجمل المدن المصرية "هذه العبارة تعبّر عن ..... ( مقترح - رأي - حقيقة - خيال )
- 16 - أي مما يلي يعتبر مصدراً ثانوياً للمعلومات ..... ( البرديات - المخاطبات - النقوش - الأبحاث )
- 17 - حفرّت قناة السويس بأيدي ..... ( الإنجليز - الفرنسيين - المصريين - الإيطاليين )



- 1 8 - كل مما يلي يعتبر مصدراً ثانوياً ماعداً..... (الكتب - المراجع - الموسوعات - النقوش)
- 1 9 - حفرت قناة سيزوستريس في عهد الملك.....
- (خوفو - سنوسرت الثالث - منكاورع - رمسيس الثاني)
- 2 0 - يحد البحر الأحمر مصر من جهة..... (الجنوب - الشرق - الغرب - الشمال)
- 2 1 - يحيط الماء بمصر من جهتي.....
- (الشمال والغرب - الجنوب والغرب - الشمال والشرق - الشرق والجنوب)
- 2 2 - لو طلب منك معلمك كتابة بحث عن أهمية موقع مصر الجغرافي فإنك ستستعين بأحد مؤلفات..... (طه حسين - نجيب محفوظ - سيد درويش - جمال حمدان)
- 2 3 - آسيا هي مساحة شاسعة من اليابس تضم عدداً من الدول لذلك فهي..... (محافظة - دولة - محيط - قارة)
- 2 4 - (مساحة شاسعة من الماء المالح ذات اعماق كبيرة) هذه العبارة تنطبق على..... (البحر المتوسط - البحر الأحمر - بحيرة قارون - المحيط الأطلسي)
- 2 5 - يتكون العالم من..... محيطات (٥ - ٦ - ٤ - ٣)
- 2 6 - تعتبر قارة..... من قارات العالم الجديد (آسيا - أوروبا - أستراليا - إفريقيا)
- 2 7 - تمتد مصر في قارتنا هما..... و.....
- (آسيا وأوروبا - آسيا وإفريقيا - إفريقيا وأوروبا - أستراليا وإفريقيا)
- 2 8 - تعتبر قناة..... شريان التجارة العالمية وتربط بين البحرين الأحمر والمتوسط بشكل مباشر. (سيزوستريس - بنما - السويس - هيوستن)
- 2 9 - تقع مصر في الركن..... من قارة إفريقيا.
- (الشمالي الشرقي - الشمالي الغربي - الجنوبي الغربي - الجنوبي الشرقي)
- 3 0 - بعد عام ٢٠١٥م قل زمن الإبحار في القناة ليصبح حوالي..... ساعات. (١١ - ٩ - ١٠ - ٢٠)
- 3 1 - يفصل المحيط..... بين أربع قارات.
- (الهندي - القطبي الشمالي - القطبي الجنوبي - الأطلسي)
- 3 2 - تقترب مصر من قارة..... (أمريكا الشمالية - أمريكا الجنوبية - أستراليا - أوروبا)
- 3 3 - يحد اليابس مصر من جهتي..... و..... (الشمال والشرق - الشمال والغرب - الجنوب والغرب - الجنوب والشرق)
- 3 4 - من قارات العالم القديم ولا تقع بها مصر..... (إفريقيا - آسيا - أوروبا - أستراليا)
- 3 5 - محافظتي من محافظات..... (الوجه البحري - الوجه القبلي - الحدود)
- 3 6 - قامت الدولة ببناء عاصمة إدارية جديدة لتخفيف الضغط السكاني عن..... (القاهرة - الإسكندرية - الجيزة - الدقهلية)
- 3 7 - عندما تريد التوجه إلى معظم الوزارات فعليك التوجه إلى محافظة..... (المنيا - جنوب سيناء - الوادي الجديد - القاهرة)
- 3 8 - تعتبر..... نقطة التقاء بين الوجهين القبلي والبحري.



( الجيزة - كفر الشيخ - الإسكندرية - القاهرة )

3 9 - مساحة من اليابس تضم مجموعة من المراكز أو الأحياء ، هذه العبارة تنطبق على

( آسيا - الأطلنطي - أوروبا - كفر الشيخ )

4 0 - حد محافظة القاهرة من جهة الشرق محافظة

( البحر الأحمر - السويس - أسوان - الجيزة )

4 1 - يمكننا تحديد موقع مكان ما عن طريق .... (الصحف - الراديو - الإذاعة - Gps)

4 2 - يعتمد نظام Gps في تحديد المواقع على استخدام

( الطائرات النفاثة - الهليكوبتر - صواريخ الفضاء - الأقمار الصناعية )

4 3 - تضم شبه جزيرة سيناء..... محافظه ( ٣ - ٢ - ٤ - ٥ )

4 4 - اللون الذي يدل على نضال الشعب المصري هو....

( الأحمر - الأبيض - الأسود - الأصفر )

4 5 - علم مصر على شكل ..... ( مربع - مثلث - دائرة - مستطيل )

4 6 - يتكون علم مصر من ..... ألوان ( ثلاثة - أربعة - خمسة - سبعة )

4 7 - يدل النسرفي وسط علم مصر على ..... ( اليأس - الثورة - الضعف - القوة )

4 8 - نشيد مصر الحالي هو ....

( اسلمي يامصر - أنا المصري - مصر التي في خاطري - بلادي بلادي )

4 9 - تحتفل عاصمة جمهورية مصر العربية بعيدها القومي في ذكرى ....

( بناء القاهرة - بناء جامع عمرو بن العاص - حفر قناة السويس - بناء الجامع الأزهر )

5 0 - الجامع الموجود على شعار محافظة القاهرة هو .....

( جامع الظاهر ببيبرس - عمرو بن العاص - الجامع الأزهر - جامع السيدة زينب )

5 1 - ترمز الشمس الساطعة على شعار محافظة القاهرة إلى أهمية.....

( موقع القاهرة - تاريخ القاهرة - الجامع الأزهر - جامعة الأزهر )

5 2 - قام القائد..... بوضع حجر الأساس لبناء مدينة القاهرة

( صلاح الدين الأيوبي - بيببرس - قطز - جوهر الصقلي )

5 3 - الشعار الذي يمثل شعار محافظة القاهرة....



2 - اكتب كلمة ( صواب ) أمام العبارة الصحيحة وكلمة ( خطأ )

أمام العبارة غير الصحيحة مما يلي :

- 1 - إذا أردت الحصول على صور لمواقع أكبر على سطح الأرض فإننا نستعين بالطائرات ( )
- 2 - تستخدم الصور الجوية في رسم خرائط أكثر دقة وتفصيلاً ( )
- 3 - يستفيد قبطان السفينة وقائد الطائرة من شبكة الاحداثيات في تحديد المواقع ( )
- 4 - يستخدم مفتاح الخريطة لتحديد الاتجاهات على الخريطة ( )



- 5- هناك أوجه شبه بين الصو الجوية والفضائية ( )
- 6- الكتب والموسوعات من المصادر الأولية ( )
- 7- عند استعانة باحث بلوحة الملك نارمر فهو بذلك يعتمد على مصدراً أولياً ( )
- 8- يعتبر كتاب عبد الرحمن الجبرتي من المصادر الأولية للحملة الفرنسية لأنه كتب وقت وجود الحملة الفرنسية في مصر ( )
- 9- تقع مصر في الركن الشمالي الشرقي من قارة أفريقيا تعبر هذه العبارة عن رأي ( )
- 10- النقوش على جدران المعابد والوثائق الرسمية من المصادر الأولية ( )
- 11- يمكنني الاعتماد على اي معلومة دون التأكد من دقتها وصحتها ( )
- 12- المصادر الأولية أكثر دقة من المصادر الثانوية ( )
- 13- زادت أهمية مصر التجارية بعد حفر قناة السويس الجديدة عام ٢٠١٥م ( )
- 14- بعد حفر قناة السويس الجديدة أصبحت السفن تمر في الاتجاهين ( )
- 15- تقع مصر في الركن الشمالي من قارة آسيا ( )
- 16- نتج عن حفر قناة السويس الجديدة زيادة زمن مرور السفن بالقناة ( )
- 17- يقع البحر المتوسط شمال مصر ( )
- 18- كان الملك سنوسرت الثالث اول من فكر في ربط البحر الأحمر بالبحر المتوسط ( )
- 19- المحيط الهادي يمثل مساحة شاسعة من الماء المالح قليل العمق ( )
- 20- يتكون العالم من يابس متمثل في القارات ، وماء متمثل في المحيطات ( )
- 21- تعتبر قارة أمريكا الشمالية من قارات العالم القديم ( )
- 22- يدل اللون الابيض في علم مصر على السلام ( )
- 23- يجب رفع علم بلدي عالياً وعدم ملامسته للأرض ( )
- 24- احترام علم بلدي هو واجب وطني ( )
- 25- تحتفل محافظتي بعيدها القومي يوم ٤ نوفمبر من كل عام ( )
- 26- يعبر شعار محافظة القاهرة عن جزء من تاريخها ( )
- 27- تحتفل جميع المحافظات في مصر بعيد قومي واحد ( )
- 28- تحتفل محافظة القاهرة بعيدها القومي في ذكرى وضع حجر الأساس لبناء مدينة القاهرة. ( )
- 29- تقع محافظة القاهرة ضمن محافظات الوجه البحري ( )
- 30- ( )
- 31- تبلغ محافظات الوجه القبلي نحو تسع محافظات ( )
- 32- تشترك محافظة القاهرة في حدودها الجنوبية مع محافظة الجيزة ( )
- 33- تفصل الحدود السياسية بين محافظات مصر ( )
- 34- تم انشاء محور روض الفرج لربط مناطق شرق القاهرة بغربها دون المرور بقلب القاهرة ( )
- 35- يبلغ عدد محافظات مصر ٢٨ محافظة ( )

### 3- أكمل العبارات التالية بكلمات مناسبة من عندك :

- 1- يعبر الشكل التالي  عن أحد عناصر الخريطة وهو.....
- 2- يعبر الشكل التالي  عن أحد عناصر الخريطة وهو..
- 3- يستخدم الجيش الخريطة في.....



- 4- من أدوات تحديد المواقع ..... و.....
- 5- تظهر الاتجاهات الأصلية والفرعية على.....
- 6- دائرة العرض الرئيسية هي.....
- 7- بردية تورين من البرديات الطبية لذلك فهي تعتبر مصدراً.....
- 8- كل ما تم تدوينه بعد مرور عدة سنوات على وقوع الحدث يسمى.....
- 9- يمكنني تقييم المعلومات الواردة في أي نص عن طريق معرفة ..... ومعرفة.....
- 10- تقع مكتبة الإسكندرية في مدينة الإسكندرية تعبر تلك العبارة عن.....
- 11- ربطت قناة سيزوستريس البحرين الأحمر بالمتوسط عبر.....
- 12- أشرف المهندسون.....على حفر قناة السويس.
- 13- ..... هو تعبير عما يشعر أو يفكر فيه شخص ما تجاه موضوع معين.
- 14- تعتبر المقالات والكتب والأبحاث من المصادر.....
- 15- احتلت مصر مركزاً رئيسياً في التجارة الدولية بعد حفر.....
- 16- من مميزات المصادر الثانوية سهولة.....
- 17- زادت أهمية موقع مصر بعد حفر.....
- 18- سمحت ..... بعبور السفن التجارية في الاتجاهين.
- 19- استخدم القدماء المصريين..... كطريق تجاري بين شمال مصر وجنوبها .
- 20- تقع مصر وسط قارات العالم.....
- 21- لو نظرت إلى خريطة مصر سنجد البحر .....جهة الشمال ، بينما سنجد البحر ..... جهة الشرق .
- 22- تقع دولة.....جنوب مصر ، ودولة..... جهة الغرب .
- 23- تعتبر ..... البلد الوحيد الذي تلتقي فيه إفريقيا وآسيا وتقترب من أوروبا.
- 24- اعتبر طريق..... من الطرق التجارية القديمة وكان يدور حول قارة إفريقيا.
- 25- بسبب اتساع مساحة مصر تم تقسيمها إلى.....
- 26- يفصل بين محافظات الدولة حدود تسمى بالحدود.....
- 27- ..... هي مساحة من الأرض تضم مجموعة من المراكز أو الأحياء.
- 28- تعتبر محافظة..... هي أكبر المحافظات المصرية بينما محافظة ..... أصغرها.
- 29- محافظات..... هي التي تشترك حدودها مع دول أخرى مجاورة لمصر.
- 30- يبلغ عدد محافظات الحدود..... محافظات.
- 31- من محافظات الحدود ..... و..... و.....
- 32- تعتبر محافظة..... عاصمة جمهورية مصر العربية.
- 33- تضم محافظة القاهرة العديد من المعالم الأثرية مثل..... و..... و.....
- 34- حرصت الدولة على تطوير القاهرة فقامت بمشروع..... ومشروع.....
- 35- يدل اللون الأبيض في علم مصر على.....



- 3 6 - قام ..... بكتابة النشيد الوطني المصري بينما قام ..... بتلحينه.
- 3 7 - يتوسط علم مصر نسر لونه..... مأخوذ من نسر ..... ويرمز ل.....
- 3 8 - لكل بلد..... يرمز لتاريخها وتراثها.
- 3 9 - يدل اللون..... على على مرحلة النضال ودماء الشهداء من أجل الحرية.
- 4 0 - جُذ علم الدولة مرفوعاً في جميع أنحاء البلاد مثل..... و..... و.....
- 4 1 - أكدت المادة رقم ..... من الدستور المصري أن إهانة العلم المصري جريمة يعاقب عليها القانون.
- 4 2 - تحتفل محافظتك بعيدها القومي في تاريخ ..... وهو ذكرى..... (حسب محافظتك)
- 4 3 - يتكون شعار محافظتك من ..... (حسب محافظتك)
- 4 4 - من مظاهر الاحتفال بالعيد القومي للمحافظة..... و.....
- 4 5 - يرتبط العيد القومي للمحافظة ب..... أو..... مرت بها المحافظة
- 4 6 - تحتفل محافظة..... بعيدها القومي يوم 1 يوليو من كل عام.
- 4 7 - هو راية تتخذها المحافظة رمزاً لها لتعبر عن نشاط سكانها أو جزء من تاريخها .

#### 4 - بهم تفسر / الأفكار السبب :

- 1 - أهمية الخريطة في حياتنا .
- 2 - أهمية وردة البوصلة على الخريطة.
- 3 - لا يمكن رسم خريطة بدون مفتاح للخريطة.
- 4 - أهمية الصور الجوية .
- 5 - أهمية مقياس الرسم.
- 6 - أهمية الخريطة للفلاح.
- 7 - أهمية الخرائط للسائح.
- 8 - يستخدم الجيش الخرائط.
- 9 - ضرورة الاعتماد على الحقائق في اتخاذ القرارات.
- 1 0 - أهمية قناة السويس.
- 1 1 - المصادر الأولية أكثر دقة من المصادر الثانوية.
- 1 2 - المصادر الثانوية بعض المميزات.
- 1 3 - أهمية قناة السويس الجديدة.
- 1 4 - أهمية موقع مصر الجغرافي.
- 1 5 - ساعد نهر النيل على زيادة أهمية موقع مصر
- 1 6 - ضرورة احترام علم بلدي.



- 1 7 - وجود اللون الاحمر على علم كينيا.
- 1 8 - أهمية شخصية محمد يونس القاضي ، وسيد درويش في التاريخ المصري.
- 1 9 - وجود النسر وسط علم مصر.
- 2 0 - احتفال محافظة القاهرة بعيدها القومي يوم ١ يوليو من كل عام.
- 2 1 - اتخاذ كل محافظة شعاراً لها .
- 2 2 - انشاء الحكومة المصرية للعاصمة الإدارية الجديدة.
- 2 3 - تقسيم مصر إلى عدد من المحافظات.
- 2 4 - اختيار القاهرة عاصمة البلاد لفترات طويلة على مر العصور.
- 2 5 - تسمية محافظات الحدود بهذا الاسم .
- 2 6 - احتفال كل محافظة بعيدها القومي.
- 2 7 - وجود الشمس الساطعة على شعار محافظة القاهرة.

## 5- ما النتائج المترتبة على :

- 1 - حفر قناة السويس الجديدة.
  - 2 - امتداد نهر النيل داخل الأراضي المصرية.
  - 3 - حفر قناة السويس.
  - 4 - موقع مدينة القاهرة المتميز .
  - 5 - إصدار المادة رقم ٢٢٣ من الدستور المصري لعام ٢٠١٤م
- 6- **ضع خطأ تحت الكلمة التي لا تنتمي للمجموعة ، مع ذكر السبب:**

- 1 - النقوش - البرديات - الوثائق الرسمية - الأبحاث العلمية
- 2 - المقالات - النقوش - الكتب - الموسوعات
- 3 - المخاطبات - الصور - الأبحاث - الأفلام التسجيلية
- 4 - مقياس الرسم - شبكة الإنترنت - وردة البوصلة - مفتاح الخريطة
- 5 - شمال - جنوب - شرق - جنوب شرق
- 6 - شمال شرق - شمال غرب - جنوب شرق - غرب
- 7 - آسيا - إفريقيا - أمريكا الشمالية - أوروبا .
- 8 - إفريقيا - أستراليا - أمريكا الجنوبية - الأطلنطي .
- 9 - الأطلنطي - الهندي - النيل - الهادي .
- 1 0 - جنوب سيناء - شمال سيناء - مرسى مطروح - أسوان .
- 1 1 - دمياط - القاهرة - الدقهلية - المنيا .
- 1 2 - الجيزة - الفيوم - بني سويف - كفر الشيخ .



## 7- دليل على صحة العبارات التالية:

- 1- تعتبر مصر دولة بحرية
- 2- اختلف خط سير التجارة العالمية قديماً عن حديثاً.
- 3- حرص الدولة على تطوير القاهرة.
- 4- حرص الدولة على تقليل الضغط السكاني في محافظة القاهرة.
- 5- تتميز محافظة القاهرة ببعض المميزات عن باقي المحافظات.

## 8- ما العلاقة بين :

- 1- نهر النيل ودول وسط إفريقيا.
- 2- قناة السويس وموقع مصر الجغرافي.
- 3- زمن مرور السفن وقناة السويس الجديدة
- 4- مصر والدول العربية في قارتي آسيا وإفريقيا.
- 5- ما العلاقة بين القائد جوهر الصقلي والعيد القومي لمحافظة القاهرة.

## 9- صوب ما نتهه خط :

- 1- تربط قناة السويس بين البحرين الأحمر و الميت
- 2- البحر الأحمر شرق مصر يعتبر تلك العبارة عن رأي
- 3- تعتبر الموسوعات والأبحاث من المصادر الأولية
- 4- الصور الجوية يتم التقاطها بواسطة الأقمار الصناعية
- 5- يقصد بوردة البوصلة دليل الرموز والألوان ومدلولاتها على الخريطة.

## 10- ماذا سيحدث لو :


- 1- رسمت الخريطة بدون عنوان
- 2- لم تكن هناك أقمار صناعية.
- 3- خلت الخريطة من مفتاح الخريطة.
- 4- رسمت الخريطة بدون مقياس للرسم.

## 11- اذكر أوجه الشبه والاختلاف بين :

- 1- الصور الجوية والصور الفضائية.
- 2- المصادر الأولية والمصادر الثانوية



## 2-1 - حمل من العمود (أ) ما يناسبه من العمود (ب) :



1- تستخدم في تحديد الاتجاهات



2- يقوم بتصغير المسافات الحقيقية ارسمها على الخرائط



3- يساعد على معرفة مدلول الرموز والألوان



4- تساعد على التقاط صور لمواقع اكبر على سطح الأرض

(ب)

(أ)

رأس الرجاء الصالح

1- من قارات العالم القديم.

الهادي

2- طريق بحري يدور حول قارة إفريقيا.

أوروبا

3- مساحة من الماء المالح ذات أعماق كبيرة.

## 3-1 - أجب عما يلي

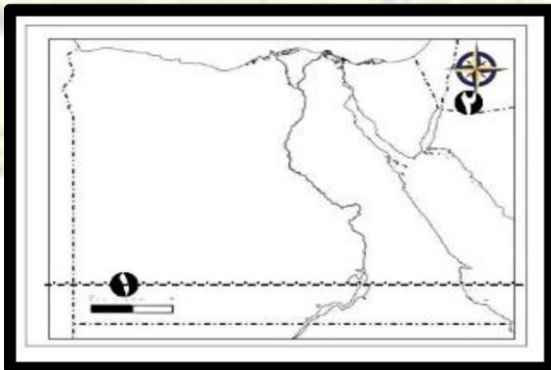
1- وضح أهم السلوكيات التي توضح مظاهر احترامنا لعلم بلدنا.

2- وضح أين يمكنك رؤية العلم المصري.

3- قارن بين الحقيقة والرأي من حيث التعريف مع ذكر مثال لكل منهما.

4- وضح أهم مظاهر احتفال محافظتك بعيدها القومي

## 4-1 - أهلك خريطة صماء لمصر وضح مدلول الأرقام عليها :



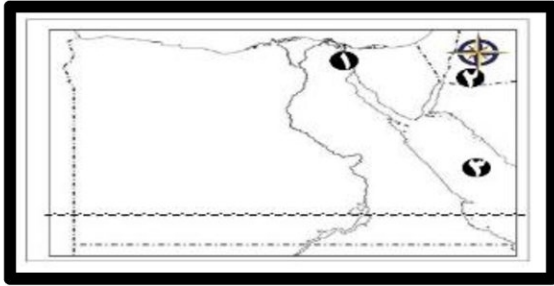
1- يشير رقم (1) لأحد عناصر الخريطة وهو....

2- يشير رقم (2) لأحد عناصر الخريطة وهو....

3- من عناصر الخريطة المفقودة.....

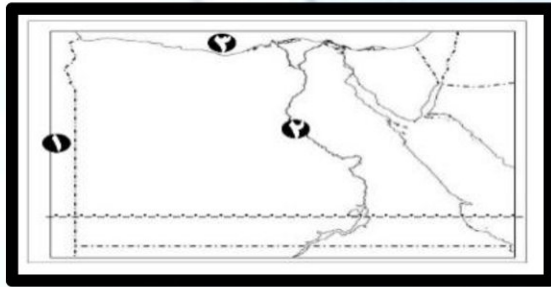


## 15 - أهايك خريطة صحراء مصر ووضح مدلول الأرقام عليها:



- 1 - يشير الرقم (1) إلى أهم ممر ملاحى فى العالم.....
- 2 - يشير الرقم (2) إلى أحد عناصر الخريطة.....
- 3 - يشير الرقم (3) إلى البحر.....

## 16 - أهايك خريطة صحراء مصر ووضح مدلول الأرقام عليها:



- 1 - يشير الرقم (1) إلى دولة.....
- 2 - يشير الرقم (2) إلى نهر.....
- 3 - يشير الرقم (3) إلى البحر.....

## 17 - أهايك خريطة صحراء مصر ووضح مدلول الأرقام عليها:



- 1 - عاصمة جمهورية مصر العربية.....
- 2 - أكبر المحافظات المصرية.....
- 3 - إحدى محافظات الحدود.....
- 4 - إحدى محافظات الوجه القبلى.....

## 18 - أهايك صورة لعلم مصر حدد مدلول الأرقام عليها:



- 1 - يشير اللون رقم (1) إلى.....
- 2 - يشير الرقم (2) إلى طائر..... وهو رمز.....
- 3 - يشير اللون رقم (3) إلى.....
- 4 - يشير اللون رقم (4) إلى.....



سلسلة المراجعة والامتحانات

# هنساعدك

في الدراسات الاجتماعية

حل بوكليت الوحدة الأولى  
للصف الرابع الإبتدائي



إعداد

أ/ أماني السيد حسونة

باحثة ماجستير في التاريخ الإسلامي

01030111626

أطفال غزة

سنة الساءة والموت

اكتوبر ٢٠٢٣



## 1 - اختر الإجابة الصحيحة مما بين القوسين :

- 1 - أي من عناصر الخريطة التالية تستخدم عند رسم الصحراء الغربية على ورقة صغيرة ..... ( عنوان الخريطة - مفتاح الخريطة - وردة البوصلة - مقياس الرسم )
- 2 - إذا كنت من سكان مدينة الأقصر وأردت السفر إلى مدينة القاهرة فإنك ستتجه ناحية ..... ( الشمال - الشرق - الجنوب - الغرب )
- 3 - لو كنت من سكان محافظة القاهرة و اردت القيام برحلة لزيارة المعالم الأثرية في محافظة أسوان فإنك ستتجه ناحية..... ( الجنوب - الشرق - الغرب - الشمال )
- 4 - دائرة العرض الرئيسية هي ..... ( جرينتش - الاستواء - الجدي - السرطان )
- 5 - عندما نريد رسم خرائط تفصيلية لسطح الأرض فإننا نستعين بـ صور تلتقط بواسطة..... ( الطائرات - الصواريخ - سفن الفضاء - الأقمار الصناعية )
- 6 - لو أردت معرفة المسافة الحقيقية بين أي مدينتين على الخريطة فإننا نستعين بـ..... ( مقياس الرسم - مفتاح الخريطة - عنوان الخريطة - وردة البوصلة )
- 7 - لمعرفة موقع مدينة العريش بالنسبة لموقع مدينة بورسعيد على الخريطة فإننا نستعين بـ ..... ( مفتاح الخريطة - عنوان الخريطة - مقياس الرسم - وردة البوصلة )
- 8 - يساعديني ..... على فهم مدلول الرموز والألوان على الخريطة. ( مفتاح الخريطة - عنوان الخريطة - مقياس الرسم - وردة البوصلة )
- 9 - لو أردت معرفة المعلومات الواردة على الخريطة فسوف أستعين بـ..... ( مفتاح الخريطة - مقياس الرسم - وردة البوصلة - عنوان الخريطة )
- 10 - مدينة الإسكندرية أجمل المدن المصرية " تعبر العبارة السابقة عن..... ( رأي - خيال - حقيقة - اقتراح )
- 11 - بلغ عدد سكان مصر عام ٢٠١٧م حوالي ٩٤ مليون نسمة " تعبر العبارة السابقة أن ..... ( حقيقة - خيال - كذبة )



- 1 2 - عند كتابتي لبحث عن قناة السويس وأهميتها فسوف أستعين بمصدر ثانوي وهو ..... (الأفلام التسجيلية - البرديات - الوثائق الرسمية - الكتب)
- 1 3 - ..... هي معلومات تم التأكد من صحتها. ( الحقائق - المعتقدات - الآراء - القوانين )
- 1 4 - بنى رمسيس الثاني معبد الرمسسيوم هذه العبارة تعبر عن ..... ( معتقد - رأي - خيال - حقيقة )
- 1 5 - مدينة أسوان أجمل المدن المصرية "هذه العبارة تعبر عن ..... (مقترح - رأي - حقيقة - خيال )
- 1 6 - أي مما يلي يعتبر مصدراً ثانوياً للمعلومات ..... ( البرديات - المخاطبات - النقوش - الأبحاث )
- 1 7 - حفرت قناة السويس بأيدي ..... (الإجليز - الفرنسيين - المصريين - الإيطاليين )
- 1 8 - كل مما يلي يعتبر مصدراً ثانوياً ماعدا ..... (الكتب - المراجع - الموسوعات - النقوش)
- 1 9 - حفرت قناة سيزوستريس في عهد الملك ..... ( خوفو - سنوسرت الثالث - منكاورع - رمسيس الثاني )
- 2 0 - يحد البحر الأحمر مصر من جهة ..... (الجنوب - الشرق - الغرب - الشمال)
- 2 1 - يحيط الماء بمصر من جهتي ..... ( الشمال والغرب - الجنوب والغرب - الشرق والجنوب )
- 2 2 - لو طلب منك معلمك كتابة بحث عن أهمية موقع مصر الجغرافي فإنك ستستعين بأحد مؤلفات ..... ( طه حسين - نجيب محفوظ - سيد درويش - جمال حمدان )
- 2 3 - آسيا هي مساحة شاسعة من اليابس تضم عدداً من الدول لذلك فهي ..... ( محافظة - دولة - محيط - قارة )
- 2 4 - (مساحة شاسعة من الماء المالح ذات اعماق كبيرة ) هذه العبارة تنطبق على ..... ( البحر المتوسط - البحر الأحمر - بحيرة قارون - المحيط الأطلنطي )
- 2 5 - يتكون العالم من ..... محيطات ( ٥ - ٦ - ٤ - ٣ )
- 2 6 - تعتبر قارة ... من قارات العالم الجديد ( آسيا - أوروبا - أستراليا - إفريقيا)



- 7 2- تمتد مصر في قارتين هما ..... و..... ( آسيا وأوروبا - آسيا وإفريقيا - إفريقيا وأوروبا - أوروبا وأستراليا )
- 8 2- تعتبر قناة ..... شريان التجارة العالمية وتربط بين البحرين الأحمر والمتوسط بشكل مباشر . ( سيزوستريس - بنما - السويس - هيوستن )
- 9 2- تقع مصر في الركن..... من قارة إفريقيا. ( الشمالي الشرقي - الشمالي الغربي - الجنوبي الغربي - الجنوبي الشرقي )
- 0 3- بعد عام ٢٠١٥م قل زمن الإبحار في القناة حوالي ..... ساعات . ( ١١ - ٩ - ١٠ - ٢٠ )
- 1 3- يفصل المحيط ..... بين أربع قارات . ( الهندي - القطبي الشمالي - القطبي الجنوبي - الأطلنطي )
- 2 3- تقترب مصر من قارة ..... ( أمريكا الشمالية - أمريكا الجنوبية - أستراليا - أوروبا )
- 3 3- يحد اليابس مصر من جهتي ..... و..... ( الشمال والشرق - الشمال والغرب - الجنوب والغرب - الجنوب والشرق )
- 4 3- من قارات العالم القديم ولا تقع بها مصر ..... ( إفريقيا - آسيا - أوروبا - أستراليا )
- 5 3- محافظتي من محافظات حسب محافظتك. ( الوجه البحري - الوجه القبلي - الحدود )
- 6 3- قامت الدولة ببناء عاصمة إدارية جديدة لتخفيف الضغط السكاني عن ..... ( القاهرة - الإسكندرية - الجيزة - الدقهلية )
- 7 3- عندما تريد التوجه إلى معظم الوزارات فعليك التوجه إلى محافظة..... ( المنيا - جنوب سيناء - الوادي الجديد - القاهرة )
- 8 3- تعتبر..... نقطة التقاء بين الوجهين القبلي والبحري. ( الجيزة - كفر الشيخ - الإسكندرية - القاهرة )
- 9 3- مساحة من اليابس تضم مجموعة من المراكز أو الأحياء ، هذه العبارة تنطبق على ( آسيا - الأطلنطي - أوروبا - كفر الشيخ )
- 0 4- يحد محافظة القاهرة من جهة الشرق محافظة ( البحر الأحمر - السويس - أسوان - الجيزة )



- 1 4- يمكننا تحديد موقع مكان ما عن طريق .... ( الصحف - الراديو - الإذاعة - (Gps
- 2 4- يعتمد نظام Gps في تحديد المواقع على استخدام ( الطائرات النفاثة - الهليكوبتر - صواريخ الفضاء - الأقمار الصناعية )
- 3 4- تضم شبه جزيرة سيناء..... محافظه ( ٣ - ٢ - ٤ - ٥ )
- 4 4- اللون الذي يدل على نضال الشعب المصري هو.... ( الأحمر - الأبيض - الأسود - الأصفر )
- 5 4- علم مصر على شكل ..... ( مربع - مثلث - دائرة - مستطيل )
- 6 4- يتكون علم مصر من ..... ألوان ( ثلاثة - أربعة - خمسة - سبعة )
- 7 4- يدل النسر في وسط علم مصر على ..... ( اليأس - الثورة - الضعف - القوة )
- 8 4- نشيد مصر الحالي هو .... ( اسلمي يامصر - أنا المصري - مصر التي في خاطري - بلادي بلادي )
- 9 4- تحتفل عاصمة جمهورية مصر العربية بعيدها القومي في ذكرى .... ( بناء القاهرة - بناء جامع عمرو بن العاص - حفر قناة السويس - بناء الجامع الأزهر )
- 0 5- الجامع الموجود على شعار محافظة القاهرة هو ..... ( جامع الظاهر بيبرس - عمرو بن العاص - الجامع الأزهر - جامع السيدة زينب )
- 1 5- ترمز الشمس الساطعة على شعار محافظة القاهرة إلى أهمية..... ( موقع القاهرة - تاريخ القاهرة - الجامع الأزهر - جامعة الأزهر )
- 2 5- قام القائد..... بوضع حجر الأساس لبناء مدينة القاهرة ( صلاح الدين الأيوبي - بيبرس - قطز - جوهر الصقلي )
- 3 5- الشعار الذي يمثل شعار محافظة القاهرة.... ( رسومات لبعض شعارات المحافظات )



## 2- أكتب كلمة ( صواب ) أمام العبارة الصحيحة وكلمة ( خطأ ) أمام العبارة غير الصحيحة مما يلي :

- 1- إذا أردت الحصول على صور لمواقع اكبر على سطح الأرض فإننا نستعين بالطائرات
- 2- تستخدم الصور الجوية في رسم خرائط أكثر دقة وتفصيلاً
- 3- يستفيد قبطان السفينة وقائد الطائرة من شبكة الاحداثيات في تحديد المواقع
- 4- يستخدم مفتاح الخريطة لتحديد الاتجاهات على الخريطة
- 5- هناك أوجه شبه بين الصور الجوية والفضائية
- 6- الكتب والموسوعات من المصادر الأولية
- 7- عند استعانة باحث بلوحة الملك نارمر فهو بذلك يعتمد على مصدراً أولياً
- 8- يعتبر كتاب عبد الرحمن الجبرتي من المصادر الأولية للحملة الفرنسية لانه كتب وقت وجود الحملة الفرنسية في مصر
- 9- تقع مصر في الركن الشمالي الشرقي من قارة أفريقيا تعبر هذه العبارة عن رأي
- 10- النقوش على جدران المعابد والوثائق الرسمية من المصادر الأولية
- 11- يمكنني الاعتماد على اي معلومة دون التأكد من دقتها وصحتها
- 12- المصادر الأولية أكثر دقة من المصادر الثانوية
- 13- زادت أهمية مصر التجارية بعد حفر قناة السويس الجديدة عام ٢٠١٥م
- 14- بعد حفر قناة السويس الجديدة أصبحت السفن تمر في الاتجاهين
- 15- تقع مصر في الركن الشمالي من قارة آسيا
- 16- نتج عن حفر قناة السويس الجديدة زيادة زمن مرور السفن بالقناة
- 17- يقع البحر المتوسط شمال مصر
- 18- كان الملك سنوسرت الثالث اول من فكر في ربط البحر الأحمر بالبحر المتوسط
- 19- المحيط الهادي يمثل مساحة شاسعة من الماء المالح قليل العمق
- 20- يتكون العالم من يابس متمثل في القارات ، وماء متمثل في المحيطات



- 1 2 - تعتبر قارة أمريكا الشمالية من قارات العالم القديم
- 2 2 - يدل اللون الابيض في علم مصر على السلام
- 2 3 - يجب رفع علم بلدي عالياً وعدم ملامسته للأرض
- 2 4 - احترام علم بلدي هو واجب وطني
- 2 5 - تحتفل محافظتي بعيدها القومي يوم ٤ نوفمبر من كل عام
- 2 6 - يعبر شعار محافظة القاهرة عن جزء من تاريخها
- 2 7 - تحتفل جميع المحافظات في مصر بعيد قومي واحد
- 2 8 - تحتفل محافظة القاهرة بعيدها القومي في ذكرى وضع حجر الأساس لبناء مدينة القاهرة.
- 2 9 - تقع محافظة القاهرة ضمن محافظات الوجه البحري
- 3 0 - تبلغ محافظات الوجه القبلي نحو تسع محافظات
- 3 1 - تشترك محافظة القاهرة في حدودها الجنوبية مع محافظة الجيزة
- 3 2 - تفصل الحدود السياسية بين محافظات مصر
- 3 3 - تم انشاء محور روض الفرج لربط مناطق شرق القاهرة بغربها دون المرور بقلب القاهرة
- 3 4 - يبلغ عدد محافظات مصر ٢٨ محافظة

### 3 - أكمل العبارات التالية بكلمات مناسبة من عندك :

- 1 - يعبر الشكل التالي (  ) عن أحد عناصر الخريطة وهو وردة البوصلة
- 2 - يعبر الشكل التالي (  ) عن أحد عناصر الخريطة وهو مقياس الرسم

### الرسم

- 3 - يستخدم الجيش الخريطة في الوصول للمواقع الحربية
- 4 - من أدوات تحديد المواقع الصور والخرائط
- 5 - تظهر الاتجاهات الأصلية والفرعية على وردة البوصلة
- 6 - دائرة العرض الرئيسية هي دائرة الاستواء
- 7 - بردية تورين من البرديات الطبية لذلك فهي تعتبر مصدراً اولياً
- 8 - كل ما تم تدوينه بعد مرور عدة سنوات على وقوع الحدث يسمى مصدراً

### ثانياً



- 9 - يمكنني تقييم المعلومات الواردة في أي نص عن طريق معرفة اسم المؤلف ومعرفة مكانته العلمية
- 10 - تقع مكتبة الإسكندرية في مدينة الإسكندرية تعبر تلك العبارة عن حقيقة
- 11 - ربطت قناة سيزوستريس البحرين الأحمر بالمتوسط عبر نهر النيل
- 12 - أشرف المهندسون الفرنسيون على حفر قناة السويس.
- 13 - الرأي هو تعبير عما يشعر أو يفكر فيه شخص ما تجاه موضوع معين.
- 14 - تعتبر المقالات والكتب والابحاث من المصادر الأولية
- 15 - احتلت مصر مركزاً رئيسياً في التجارة الدولية بعد حفر قناة السويس
- 16 - من مميزات المصادر الثانوية سهولة الحصول عليها
- 17 - زادت أهمية موقع مصر بعد حفر قناة السويس
- 18 - سمحت قناة السويس الجديدة بعبور السفن التجارية في الاتجاهين.
- 19 - استخدم القدماء المصريين نهر النيل كطريق تجاري بين شمال مصر وجنوبها
- 20 - تقع مصر وسط قارات العالم القديم
- 21 - لو نظرت إلى خريطة مصر سنجد البحر المتوسط جهة الشمال . بينما سنجد البحر الأحمر جهة الشرق .
- 22 - تقع دولة السودان جنوب مصر . ودولة ليبيا جهة الغرب .
- 23 - تعتبر مصر البلد الوحيد الذي تلتقي فيه إفريقيا وآسيا وتقترب من أوروبا.
- 24 - اعتبر طريق رأس الرجاء الصالح من الطرق التجارية القديمة وكان يدور حول قارة إفريقيا.
- 25 - بسبب اتساع مساحة مصر تم تقسيمها إلى محافظات
- 26 - يفصل بين محافظات الدولة حدود تسمى بالحدود الإدارية
- 27 - المحافظة هي مساحة من الأرض تضم مجموعة من المراكز أو الأحياء.
- 28 - تعتبر محافظة الوادي الجديد هي اكبر المحافظات المصرية بينما محافظة دمياط أصغرها.
- 29 - محافظات الحدود الصحراوية هي التي تشترك حدودها مع دول اخرى مجاورة لمصر.
- 30 - يبلغ عدد محافظات الحدود خمس محافظات.



- 1 3- من محافظات الحدود شمال سيناء ، جنوب سيناء ، البحر الأحمر
- 2 3- تعتبر محافظة القاهرة عاصمة جمهورية مصر العربية.
- 3 3- تضم محافظة القاهرة العديد من المعالم الأثرية مثل جامع عمرو بن العاص ، الكنيسة المعلقة ، قلعة صلاح الدين
- 4 3- حرصت الدولة على تطوير القاهرة فقامت بمشروع روضة السيدة زينب ومشروع حي الأسمرات
- 5 3- يدل اللون الأبيض في علم مصر على السلام
- 6 3- قام محمد يونس القاضي بكتابة النشيد الوطني المصري بينما قام سيد درويش بتلحينه.
- 7 3- يتوسط علم مصر نسر لونه أصفر ذهبي مأخوذ من نسر صلاح الدين ويرمز لقوة مصر وعظمتها.
- 8 3- لكل بلد علم يرمز لتاريخها وتراثها.
- 9 3- يدل اللون الأحمر على مرحلة النضال ودماء الشهداء من أجل الحرية.
- 0 4- نجد علم الدولة مرفوعاً في جميع أنحاء البلاد مثل الوزارات الحكومية ، ال
- 1 4- أكدت المادة رقم ٢٢٣ من الدستور المصري أن إهانة العلم المصري جريمة يعاقب عليها القانون.
- 2 4- تحتفل محافظتك بعيدها القومي في تاريخ (حسب محافظتك) وهو ذكرى (حسب محافظتك)
- 3 4- يتكون شعار محافظتك من (حسب محافظتك)
- 4 4- من مظاهر الاحتفال بالعيد القومي للمحافظة تزيين الشوارع والبيادين ، إقامة الاحتفالات والمهرجانات
- 5 4- يرتبط العيد القومي للمحافظة ب حدث تاريخي او ذكرى مرت بها المحافظة
- 6 4- تحتفل محافظة القاهرة بعيدها القومي يوم ٦ يوليو من كل عام.
- 7 4- الشعار هو راية تتخذها المحافظة رمزاً لها لتعبر عن نشاط سكانها أو جزء من تاريخها .

4 - بهم تفسر / اذكر السبب :

1 - أهمية الخريطة في حياتنا .



- حيث يستخدمها العديد من الأشخاص مثل الجيش والسائح والفلاح الذي يستخدمها لتحديد ملكية أرضه الزراعية.
- 2 - أهمية وردة البوصلة على الخريطة.
- تساعد على تحديد الاتجاهات الأصلية والفرعية ، وتحديد موقع مكان بالنسبة للأماكن الأخرى على الخريطة
- 3 - لا يمكن رسم خريطة بدون مفتاح للخريطة.
- لأن مفتاح الخريطة يساعدنا على فهم مدلول الرموز والألوان الموجودة على الخريطة.
- 4 - أهمية الصور الجوية .
- لأنها تعطينا صورة حقيقية لسطح الأرض تساعدنا على رسم خرائط أكثر دقة وتفصيلاً
- 5 - أهمية مقياس الرسم.
- يساعد على معرفة النسبة بين المسافة على الخريطة وما يقابلها على الطبيعة
- 6 - أهمية الخريطة للفلاح.
- يستخدمها لتحديد ملكية أرضه الزراعية.
- 7 - أهمية الخرائط للسائح.
- يستخدمها للوصول للأماكن السياحية.
- 8 - يستخدم الجيش الخرائط.
- للوصول للمواقع الحربية.
- 9 - ضرورة الاعتماد على الحقائق في اتخاذ القرارات.
- لأن الحقائق معلومات تم التأكد من صحتها ودقتها ونادراً ما تكون خطأ
- 10 - أهمية قناة السويس.
- ساعدت على تقليل مدة الرحلة بين أوروبا وآسيا ، قللت الوقت والجهد والمال.
- 11 - المصادر الأولية أكثر دقة من المصادر الثانوية.
- لأنها كتبت أو نقشت وقت وقوع الحدث
- 12 - للمصادر الثانوية بعض المميزات.
- متوفرة ويسهل الحصول عليها.
- 13 - أهمية قناة السويس الجديدة.



- ساعدت على عبور السفن في القناة في الاتجاهين ، وعبور سفن أكبر حجماً وحمولة ، وتقليل زمن عبور السفن في القناة من ٢٠ إلى ١١ ساعة.
- 1 4 - أهمية موقع مصر الجغرافي.
- لأنها تقع في ملتقى ثلاث قارات آسيا وأفريقيا وأوروبا ، وتطل على بحرين الأحمر والمتوسط.
- 1 5 - ساعد نهر النيل على زيادة أهمية موقع مصر
- لأنه ساعدها على التواصل مع دول وسط افريقيا
- 1 6 - ضرورة احترام علم بلدي.
- لأنه رمز من رموز الدولة.
- 1 7 - وجود اللون الاحمر على علم كينيا.
- ليدل على التضحية ودماء الشهداء
- 1 8 - أهمية شخصية محمد يونس القاضي ، وسيد درويش في التاريخ المصري.
- محمد يونس القاضي هو الذي كتب كلمات النشيد بينما سيد درويش هو الذي لحنه.
- 1 9 - وجود النسر وسط علم مصر.
- ليدل على قوة مصر وعظمتها .
- 2 0 - احتفال محافظة القاهرة بعيدها القومي يوم ١ يولبو من كل عام.
- لأن هذا هو اليوم الذي وضع فيه جوهر الصقلي حجر الأساس لمدينة القاهرة.
- 2 1 - اتخذ كل محافظة شعاراً لها .
- ليرمز إلى تاريخها ونشاط سكانها
- 2 2 - انشاء الحكومة المصرية للعاصمة الإدارية الجديدة.
- لتخفيف الازدحام والضغط السكاني عن محافظة القاهرة.
- 2 3 - تقسيم مصر إلى عدد من المحافظات.
- بسبب اتساع مساحتها .
- 2 4 - اختيار القاهرة عاصمة البلاد لفترات طويلة على مر العصور.
- بسبب موقعها المتميز لأنها نقطة التقاء بين محافظات الوجه البحري الوجه القبلي.
- 2 5 - تسمية محافظات الحدود بهذا الاسم .
- لأنها تقع على حدود مصر مع الدول المجاورة.



6 2- احتفال كل محافظة بعيدها القومي.

• للاحتفال بحدث تاريخي أو ذكرى مهمة مرت بها المحافظة

7 2- وجود الشمس الساطعة على شعار محافظة القاهرة.

• لتدل على أن الأزهر الشريف هو منارة الإسلام في العالم كله

5- **ما النتائج المترتبة على :**

1- حفر قناة السويس الجديدة.

• أدى ذلك إلى عبور سفن أكبر حجماً وحمولة وعبور السفن في الاتجاهين

2- امتداد نهر النيل داخل الأراضي المصرية.

• قامت الزراعة على ضفافه ، واستخدمه المصريون كحلقة اتصال بين شمال مصر وجنوبها

3- حفر قناة السويس.

• تقليل زمن الرحلة بين أوروبا وآسيا ، وتوفير الوقت والجهد والمال

4- موقع مدينة القاهرة المتميز .

• اتخاذها عاصمة لمصر على مر العصور

5- إصدار المادة رقم ٢٢٣ من الدستور المصري لعام ٢٠١٤م

• أصبحت إهانة العلم المصري جريمة يعاقب عليها القانون

6- **ضع خطاً تحت الكلمة التي لا تنتمي للمجموعة ، مع ذكر السبب :**

1- النقوش - البرديات - الوثائق الرسمية - الأبحاث العلمية (لأنها مصدر

ثانوي)

2- المقالات - النقوش - الكتب - الموسوعات (لأنها مصدر أولي)

3- المخاطبات - الصور - الأبحاث - الأفلام التسجيلية (لأنها مصدر ثانوي)

4- مقياس الرسم - شبكة الإنترنت - وردة البوصلة - مفتاح الخريطة ( لأن

شبكة الإنترنت ليست من عناصر الخريطة

5- شمال - جنوب - شرق - جنوب شرق ( لأنها من الاتجاهات الفرعية)

6- شمال شرق - شمال غرب - جنوب شرق - غرب ( لأنها من الاتجاهات

الأصلية)

7- آسيا - إفريقيا - أمريكا الشمالية - أوروبا . (لأنها من قارات العالم الجديد)

8- إفريقيا - أستراليا - أمريكا الجنوبية - الأطلنطي . (لأنه محيط والباقي

قارات



- 9 - الأطلنطي - الهندي - النيل - الهادي . (لأن النيل نهر والباقي محيطات)
- 10 - جنوب سيناء - شمال سيناء - مرسى مطروح - أسوان . لأن أسوان من محافظات الوجه القبلي بينما باقي المحافظات من محافظات الحدود.
- 11 - دمياط - القاهرة - الدقهلية - المنيا . (لأن المنيا من محافظات الوجه القبلي وباقي المحافظات من محافظات الوجه البحري)
- 12 - الجيزة - الفيوم - بني سويف - كفر الشيخ . (لأن كفر الشيخ من محافظات الوجه البحري بينما باقي المحافظات من محافظات الوجه القبلي)

### 7 - دلي على صحة العبارات التالية:

- 1 - تعتبر مصر دولة بحرية
- لأنها تطل من جهة الشمال على البحر المتوسط ومن جهة الشرق على البحر الأحمر
  - 2 - اختلف خط سير التجارة العالمية قديماً عن حديثاً.
  - قديماً كان يمر عبر طريق رأس الرجاء الصالح الذي يدور
  - 3 - حرص الدولة على تطوير القاهرة.
  - حيث قامت بالعديد من المشروعات مثل حي الأسمرات وروضة السيدة زينب ومحور روض الفرج.
  - 4 - حرص الدولة على تقليل الضغط السكاني في محافظة القاهرة.
  - قامت بإنشاء العاصمة الإدارية الجديدة.
  - 5 - تتميز محافظة القاهرة ببعض المميزات عن باقي المحافظات.
  - حيث توجد بها العديد من الأماكن الهامة مثل الكنيسة المعلقة ، جامع عمرو بن العاص ، قلعة صلاح الدين الأيوبي



## 8 - ما العلاقة بين :

- 1 - نهر النيل ودول وسط إفريقيا.
- حيث استخدم نهر النيل للربط بين مصر ودول وسط قارة أفريقيا.
- 2 - قناة السويس وموقع مصر الجغرافي.
- حيث ساعدت قناة السويس على أن يصبح لمصر موقعا جغرافيا متميزا
- 3 - زمن مرور السفن وقناة السويس الجديدة
- حيث أدى حفر قناة السويس الجديدة إلى تقليل زمن مرور السفن في القناة من ٢٠ إلى ١١ ساعة فقط.
- 4 - مصر والدول العربية في قارتي آسيا وإفريقيا.
- حيث أن مصر تعتبر حلقة اتصال بين الدول العربية في قارة آسيا والدول العربية في قارة أفريقيا.
- 5 - ما العلاقة بين القائد جواهر الصقلي والعيد القومي لمحافظة القاهرة.
- حيث تحتفل محافظة القاهرة بعيدها القومي في اليوم الذي وضع فيه جواهر الصقلي حجر الأساس لمدينة القاهرة.

## 9 - صوب هاتمه خط :

- 1 - تربط قناة السويس بين البحرين الأحمر والميت الأحمر
- 2 - البحر الأحمر شرق مصر يعتبر تلك العبارة عن رأي. حقيقية
- 3 - تعتبر الموسوعات والأبحاث من المصادر الأولية النقوش والصور
- 4 - الصور الجوية يتم التقاطها بواسطة الأقمار الصناعية. الفضائية
- 5 - مقياس الرسم
- 6 - يقصد بوردة البوصلة دليل الرموز والألوان ومدلولاتها على الخريطة.

مفتاح الخريطة

## 10 - ماذا سيحدث لو :

- 1 - رسمت الخريطة بدون عنوان
- لما عرفنا الموضوع الذي تحتويه الخريطة
- 2 - لم تكن هناك أقمار صناعية.
- لما استطعنا التقاط الصور الفضائية التي تعطينا صور لمساحات كبيرة على سطح الأرض



3- خلت الخريطة من مفتاح الخريطة.

• لما استطعنا فهم دليل الرموز والألوان الموجودة على الخريطة

4- رسمت الخريطة بدون مقياس للرسم.

• لما استطعنا رسم المساحات الكبيرة على ورقة صغيرة، ولما عرفنا النسبة بين

بين المسافة على الخريطة وما يقابلها على الطبيعة .

1 1- اذكر أوجه الشبه والاختلاف بين :

1- الصور الجوية والصور الفضائية.

• وجه الشبه : كلاهما يستخدمان في تحديد المواقع

• وجه الاختلاف : الصور الجوية تعطينا صوراً حقيقية لسطح الأرض وبالتالي

تساعد على رسم خرائط أكثر دقة وتفصيلاً

الصور الفضائية: تعطينا صوراً أكبر على سطح الأرض.

2- المصادر الأولية والمصادر الثانوية

• وجه الشبه : نحصل منهما على المعلومات التاريخية

• وجه الاختلاف : المصادر الأولية أكثر دقة لأنها كتبت وقت وقوع الحدث ، ولكن

من الصعب الحصول عليها ، أما المصادر الثانوية فهي أقل دقة لأنها كتبت


بعد عدة سنوات ولكن من السهل الحصول عليها.

2 1- حصل من العمود (أ) ما يناسبه من العمود (ب) :



1- تستخدم في تحديد الاتجاهات

2- يقوم بتصغير المسافات الحقيقية لرسمها على الخرائط



3- يساعد على معرفة مدلول الرموز والألوان



4- تساعد على التقاط صور لمواقع أكبر على سطح الأرض



(ب)

(أ)

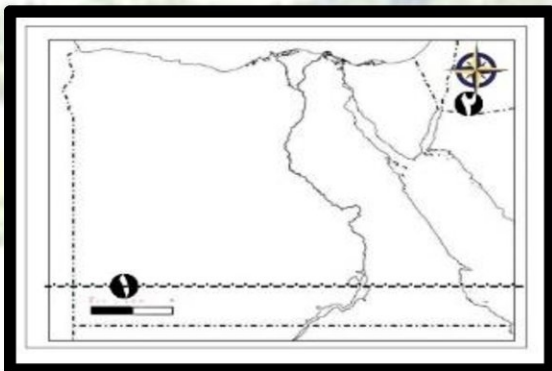


- 1- من قارات العالم القديم. رأس الرجاء الصالح (٢)
- 2- طريق بحري يدور حول قارة إفريقيا. الهادي (٣)
- 3- مساحة من الماء المالح ذات أعماق كبيرة. أوروبا (١)

### 3 1- أجب عما يلي

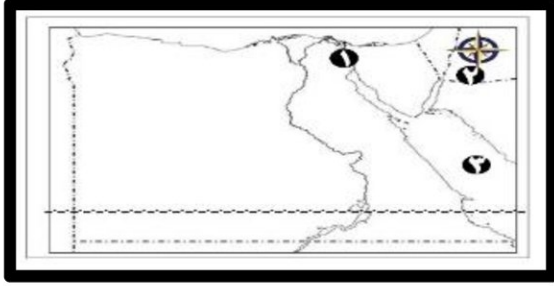
- 1- وضح أهم السلوكيات التي توضح مظاهر احترامنا لعلم بلدنا.
  - الوقوف باحترام أثناء حية العلم ، لا نمزقه ولا نخرقه ولا ندعه يلمس الأرض ، لا نبلمه بالماء ولا نكتب أو نرسم عليه
- 2- وضح أين يمكنك رؤية العلم المصري.
  - فوق المؤسسات الحكومية ، الوزارات والهيئات ، وسائل النقل ، الأماكن السياحية.
- 3- قارن بين الحقيقة والرأي من حيث التعريف مع ذكر مثال لكل منهما.
  - الحقائق: هي معلومات تم التأكد من صحتها ودقتها عن طريق الأبحاث والتجارب ونادراً ما تكون خطأ ، مثل الشمس تشرق من الشرق
  - الرأي : هي تعبير عنا يشعر أو يفكر فيه شخص ما تجاه موضوع معين ، مثل الغردقة اجمل مدينة في العالم
- 4- وضح أهم مظاهر احتفال محافظتك بعيدها القومي
  - إقامة الاحتفالات والمهرجانات ، افتتاح المشروعات الجديدة ، تزيين الشوارع واليادين

### 4 1- أمامك خريطة صحراء مصر وضح مدلول الأرقام عليها :



- 1- يشير رقم (١) لأحد عناصر الخريطة وهو مقياس الرسم
- 2- يشير رقم (٢) لأحد عناصر الخريطة وهو وردة البوصلة
- 3- من عناصر الخريطة المفقودة مفتاح الخريطة

### 5 1- أمامك خريطة صحراء مصر وضح مدلول الأرقام عليها :



1 - يشير الرقم (١) إلى أهم ممر ملاحى في العالم

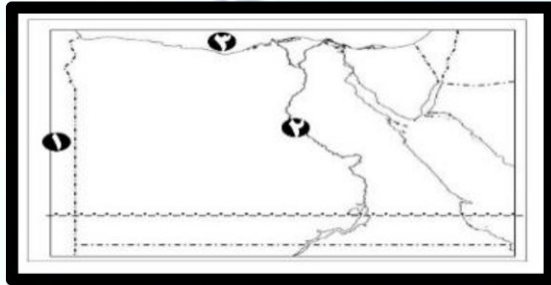
قناة السويس

2 - يشير الرقم (٢) إلى أحد عناصر الخريطة

وردة البوصلة

3 - يشير الرقم (٣) إلى البحر الأحمر

## 6- 1 - أهايك خريطة صحراء مصر ووضح مدلول الأرقام عليها :



1 - يشير الرقم (١) إلى دولة ليبيا

2 - يشير الرقم (٢) إلى نهر النيل

3 - يشير الرقم (٣) إلى البحر المتوسط

## 7- 1 - أهايك خريطة صحراء مصر ووضح مدلول الأرقام عليها :



1 - عاصمة جمهورية مصر العربية القاهرة

2 - أكبر المحافظات المصرية الوادى الجديد

3 - إحدى محافظات الحدود مرسى مطروح

4 - إحدى محافظات الوجه القبلي أسوان

## 8- 1 - أهايك صورة لعلم مصر حدد مدلول الأرقام عليها :



1 - يشير اللون رقم (١) إلى دماء الشهداء

2 - يشير الرقم (٢) إلى طائرالنسر وهو رمزالقوة

3 - يشير اللون رقم (٣) الى الظلام فى فترة الاستعمار

4 - يشير اللون رقم (٤) إلى السلام