

مراجعة أكتوبر

صف خامس



هدايا الأستاد / أحمد دبير عبد العاطي



بنك المجتهد

في جميع المواد لكل طالب مجتهد

الدراسات الاجتماعية

تحذير هام

جميع ملفات بنك المجتهد في جميع المواد متاحة مجاناً لأولياء الأمور

ليس لنا أي موزعين مسموح فقط لأصحاب المكتبات التربح من سعر الورق والطباعة وليس من بيع

المادة العلمية

إعداد أ / أحمد طبري



01020034332



/Social Studies for free

لو عاوز باقي المواد تقدر توصل لها من خلال جروبنا على

فيسبوك فقط استخدم برنامج QR Code





السؤال الأول ضع علامة (✓) أو (X)

- () (١) يمر مدار السرطان بشمال مصر
- () (٢) كانت مدينة بوتو عاصمة مملكة الجنوب
- () (٣) نجحت مملكة الجنوب في توحيد البلاد عام ٤٢٤٢ ق. م
- () (٤) يمتد بحر الرمال العظيم على الحدود المصرية الليبية
- () (٥) منبع نهر النيل بحيرة فيكتوريا
- () (٦) تنتشر الأودية الجافة في الصحراء الغربية
- () (٧) شهر أكتوبر من شهور الخريف
- () (٨) تتكون الثلوج على قمة جبل سانت كاترين شتاءً
- () (٩) تمتلك مصر ثروة نباتية وحيوانية ذات قيمة اقتصادية عالمية
- () (١٠) توجد محمية نبق في محافظة شمال سيناء
- () (١١) يكثر وجود الثعالب في الوادي والدلتا
- () (١٢) الصحاري المصرية فقيرة في نباتاتها الطبيعية
- () (١٣) من الطبيعي تتساقط الثلوج في مدينة القاهرة شتاءً
- () (١٤) من العوامل الطبيعية المؤثرة في التغيرات المناخية ازالة الغابات
- () (١٥) معظم العوامل المؤثرة في التغيرات المناخية تؤدي الي زيادة انبعاثات غاز الاكسجين
- () (١٦) لا يوجد فرق بين التنوع المناخي والتغيرات المناخية
- () (١٧) تؤثر التغيرات المناخية على الانسان فتؤدي الي ظهور بعض الامراض
- () (١٨) الملك مينا مؤسس أول أسرة حاكمة في تاريخ مصر
- () (١٩) لوحة نعرمر محفورة بدقة عالية
- () (٢٠) تنقسم مظاهر السطح في مصر الي ٤ اقسام تضاريسية
- () (٢١) نهر النيل ثاني أطول نهر في العالم
- () (٢٢) مناخ مصر أدي الي تدهور الزراعة وتدمير الاثار
- () (٢٣) استقر المصريون القدماء حول وادي النيل منذ البداية
- () (٢٤) مصر هي ملتقى قارات العالم القديم
- () (٢٥) لموقع مصر المتميز إثر واضح على اتصالها بالعالم الخارجي



- () ٢٦ يقع مدار الجدي جنوب دائرة الاستواء عند درجة ٢٣,٥ جنوباً
- () ٢٧ تطل مصر على البحر المتوسط شرقاً
- () ٢٨ كان شعار مملكة الشمال هو نبات البردي
- () ٢٩ كان لكل الأقاليم نفس الحاكم والمعبود
- () ٣٠ اتخذ الملك مينا مدينة طيبة عاصمة للبلاد
- () ٣١ أهمل الملك تحتمس الثالث الجيش
- () ٣٢ انهزم الملك تحتمس الثالث في معركة مجدو
- () ٣٣ من القاب الملك مينا ملك الأرضين
- () ٣٤ تؤثر التغيرات المناخية على الأرض الزراعية فتؤدي الي زيادة الانتاج الزراعي
- () ٣٥ بسبب التغيرات المناخية في مصر أصبح فصل الشتاء شديد البرودة
- () ٣٦ استضافت مصر مؤتمر الأمم المتحدة للتغير المناخي عام ٢٠٢٢ في شرم الشيخ
- () ٣٧ لم تؤثر التغيرات المناخية في مصر على فصل الصيف
- () ٣٨ في الساحل الشمالي علي البحر المتوسط تنمو النباتات التي تصلح لرعي الحيوانات
- () ٣٩ الملك أمنحتب الأول من ملوك الدولة القديمة
- () ٤٠ تحمل بردية ايبيرس وصفات طبية باستخدام النبات الطبيعي
- () ٤١ لا يوجد تنوع في النبات الطبيعي في مصر
- () ٤٢ دائرة العرض الرئيسية هي خط جرينتش
- () ٤٣ دوائر العرض تحدد الموقع شمالاً وجنوباً
- () ٤٤ فرق التوقيت بين كل خط طول واخر ٤ دقائق
- () ٤٥ نهر النيل من العوامل البشرية المُساعدة لقيام الحضارة المصرية القديمة
- () ٤٦ الموقع الجغرافي لمصر من العوامل الطبيعية التي ساعدت على قيام الحضارة
- () ٤٧ تبلغ مساحة الصحاري نحو ٩٦٪ من مساحة مصر
- () ٤٨ يتميز سطح جنوب سيناء بالاستواء
- () ٤٩ يضم حوض لنيل ٥ دول فقط
- () ٥٠ توجد هضبة مارمريكا شمال الصحراء الشرقية
- () ٥١ تربط قناة السويس بين البحر المتوسط والبحر العربي
- () ٥٢ تكونت الدلتا من رواسب فيضيه
- () ٥٣ الليل اطول من النهار في فصل الشتاء



السؤال الثاني اكمـ ل

- ١ (مرت الوحدة بين مملكة الشمال و الجنوب ب مرحلة
- ٢ (لون تاج مملكة الشمال بينما الجنوب
- ٣ (يعتدل المناخ فوق القمم المرتفعة مثل قمم جنوب سيناء في فصل
- ٤ (يحدث فصل الربيع عند تعامد اشعة الشمس علي مدار
- ٥ (لكل دولة موقع و موقع
- ٦ (..... هي انصاف دوائر رأسية تصل بين القطبين
- ٧ (تضم القرية الفرعونية نموذجا من مقبرة
- ٨ (معبود مملكة الشمال بينما الجنوب
- ٩ (اكبر الأقسام التضاريسية في مصر هي
- ١٠ (الموقع الفلكي هو الموقع بالنسبة ل ,
- ١١ (من الحيوانات البرية المهدة بخطر الانقراض , ,
- ١٢ (زادت أهمية موقع مصر بعد حفر
- ١٣ (يقع شمال مصر , جنوب مصر
- ١٤ (يساعدنا في معرفة أحوال المناخ
- ١٥ (ينتج عن التعرية المائية تكون السهول ,
- ١٦ (..... اختفاء صنف او نوع من الحيوانات او النباتات بشكل كامل من الطبيعة
- ١٧ (..... يقسم الأرض الي قسمين متساوين احدهما في الشرق و الاخر في الغرب
- ١٨ (اكبر دوائر العرض
- ١٩ (اصغر الوحدات التضاريسية في مصر هي
- ٢٠ (يمر مدار في جنوب مصر
- ٢١ (يقع مدار عند ٢٣,٥ جنوبا





- ٢٢ (تساقط في فصل الشتاء علي جبل سانت كاترين يساعد في تنشيط
- ٢٣ (كانت الوحدة الاولي عام
- ٢٤ (يساعدنا في تحديد فرق التوقيت
- ٢٥ (يتميز منخفض الفيوم عن باقي المنخفضات الصحراوية ب
- ٢٦ (نشأت الأقاليم من تجمع مع
- ٢٧ (خط الطول الرئيسي هو خط
- ٢٨ (تغطي قمة جبل بالجليد في فصل الشتاء
- ٢٩ (عناصر المناخ هي , ,
- ٣٠ (تقع مصر في اتجاه بالنسبة لدائرة الاستواء
- ٣١ (تؤدي التغيرات المناخية الي إصابة الانسان بالأمراض مثل
- ٣٢ (تسقط السيول علي جبال البحر الأحمر و جنوب سيناء في فصل
- ٣٣ (من الحيوانات البرية في البيئة الصحراوية هي
- ٣٤ (من العوامل المؤثرة في تنوع المناخ ,
- ٣٥ (تشرق الشمس أولا علي المناطق الواقعة خط جرينتش
- ٣٦ (من الاخطار التي تهدد الحياة البرية في مصر , ,
- ٣٧ (تحتاج الكرة الأرضية الي ساعة لتكمل دورة حول نفسها
- ٣٨ (تبدو الدلتا علي شكل
- ٣٩ (الصحراء الشرقية غنية ب , ,
- ٤٠ (فرق التوقيت بين كل خط طول و الاخر دقيقة
- ٤١ (تقع معظم مساحة مصر ضمن إقليم مناخ و الأطراف الشمالية ضمن
- ٤٢ (للمحميات الطبيعية أهمية و و
- ٤٣ (الموقع الجغرافي هو الوقع بالنسبة ل ,
- ٤٤ (تقع القرية الفرعونية في الوجه





- ٤٥ (من مدن الإقليم الصحراوي الحار و البحر المتوسط)
- ٤٦ (اصبح لمصر جيش قوي يدافع عنها بعد توحيد لمصر)
- ٤٧ (من الأنشطة البشرية التي ساعدت علي تغير المناخ ,)
- ٤٨ (تقع هضبة في شمال غرب الصحراء الغربية)
- ٤٩ (خطوط الطول هي دوائر)
- ٥٠ (اهتمت الدولة بأنشاء لحماية الحياة البرية من الاخطار)
- ٥١ (يقع مدار السرطان في اتجاه بالنسبة للكرة الأرضية بينما بالنسبة لمصر)
- ٥١ (يشغل الإقليم معظم مساحة مصر بينما يوجد الإقليم في شمالها)
- ٥٢ (كان المصري يعيش قديما فوق و سكن)
- ٥٣ (تضم دلتا النيل اكثر من في المية من الأراضي الزراعية في مصر)
- ٥٤ (ساعد علي قيام التجارة وسهولة تواصل مصر مع غيرها من الدول)
- ٥٥ (منخفض بالصحراء الغربية غير مأهول بالسكان)
- ٥٦ (كان المصري دائم بحثا عن الغذاء)
- ٥٧ (تأسست اول امبراطورية في التاريخ علي يد)
- ٥٨ (بني المصري القديم مساكنة من الطوب)
- ٥٩ (تدور الأرض حول نفسها من الي)
- ٦٠ (نزل المصري من فوق الهضاب عندما حل)
- ٦١ (ظهرت البيوت الصغيرة ثم ثم ثم)
- ٦٢ (المحطة الاولي للطيور المهاجرة و أوروبا و اسيا قادمة لأفريقيا هي)
- ٦٣ (كان لكل إقليم و و)
- ٦٤ (هي الاختلافات و التحولات في الأحوال المناخية)
- ٦٥ (تضم مملكة الجنوب أقاليم الوجه)
- ٦٦ (يقطع هضبة التيه في وسط سيناء وادي و يصب في البحر)





- ٦٧ (عاصمة الشمال هي بينما عاصمة الجنوب
- ٦٨ (اصبح المناخ في فصل الشتاء اكثر عن السابق
- ٦٩ (تقع هضبة في جنوب الصحراء الغربية
- ٧٠ (يمر نهر النيل في دولة
- ٧١ (تقع بوتو بالقرب من بمحافظة كفر الشيخ
- ٧٢ (من اهم الاودية الجافة في الصحراء الشرقية
- ٧٣ (تنمو في محمية الزرانيق بسيناء أشجار المعمرة
- ٧٤ (تقع نخب شمال في محافظة اسوان
- ٧٥ (يصب نهر النيل في
- ٧٦ (التغيرات المناخية تؤدي الي غرق الشواطئ لمصر
- ٧٧ (كان شعار مملكة الشمال بينما شعار مملكة الجنوب
- ٧٨ (..... تنوع الحياة النباتية و الحيوانية علي كوكب الأرض .
- ٨٩ (التغير المناخي يؤدي الي المياه العذبة
- ٨٠ (كانت عاصمة مصر في الوحدة الاولي
- ٨١ (مملكة الشمال تقع في الوجه
- ٨٢ (اهتم الملك تحتمس الثالث بالجوانب و
- ٨٣ (تقع محمية في جنوب سيناء و محمية جبل علبة تقع في محافظة
- ٨٤ (استطاع حاكم مدينة السيطرة علي البلاد و تحقيق الوحدة الثانية
- ٨٥ (حدث توسع عمراني في مدن , بعد خفر قناة السويس
- ٨٦ (يمتد بحر الرمال العظيم علي الحدود المصرية
- ٨٧ (لبس الملك التاج المزدوج بعد الوحدة الثانية
- ٨٨ (ترجع بردية ايبيرس و هيرست الي عصر الملك
- ٨٩ (مدينة اون هي حاليا





- ٩٠ (استضافت مصر مؤتمر التغير المناخي في)
- ٩١ (بدأ العصر بعد توحيد الملك مينا لمصر)
- ٩٢ (من النباتات الطبيعية التي استخدمها المصري القديم ,)
- ٩٣ (سمي عصر الدولة القديمة بعصر)
- ٩٤ (نشاط عوامل , ادي الي تكون المنخفضات)
- ٩٥ (تهب رياح الخماسين علي مصر في فصل)
- ٩٦ (من مميزات عصور الضعف)
- ٩٧ (عصر تميز بالمشاريع في كافة المجالات)
- ٩٨ (كان ل دور في حفظ الاثار و تنوع المحاصيل الزراعية)
- ٩٩ (العصر الذي تميز بتوسع مساحة مصر علي حساب جيرانها هو)
- ١٠٠ (من العوامل الطبيعية لقيام الحضارة المصرية القديمة و)
- ١٠١ (تؤدي التغيرات المناخية لزيادة انبعاث غاز)
- ١٠٢ (استخدم المصري في بناء المعابد و الاهرامات)
- ١٠٣ (عصر عانت فيه البلاد من التفكك و الاحتلال هو)
- ١٠٤ (تستخدم النباتات الطبيعية في صناعة ,)
- ١٠٥ (خطوط الطول هي خطوط رأسية تصل بين ,)
- ١٠٦ (لون تاج مملكة الجنوب هو)
- ١٠٧ (يكون الليل أطول من النهار في فصل)
- ١٠٨ (من العوامل البشرية لقيام الحضارة المصرية القديمة و)
- ١٠٩ (حافظ علي الحفاظ الاثار و تنوع المحاصيل)
- ١١٠ (من الإجراءات التي اتخذتها مصر لمواجهة التغير المناخي ,)
- ١١١ (من اشهر معارك تحتمس الثالث معركة)
- ١١٢ (ضمت الإمبراطورية المصرية و)





١١٣ (من الأدلة علي اخلاقيات الجيش المصري ما قاله القائد و كتبه علي مقبرته الواقعة في

١١٤ (ينبع نهر النيل من بحيرة في افريقيا

١١٥ (من اشهر الخريف ,

١١٦ (من العوامل الطبيعية للتغيرات المناخية

١١٦ (تقع القرية الفرعونية في

١١٧ (من النباتات الطبيعية في الوادي و الدلتا , و الساحل الشمالي

١١٨ (تعتبر متحف مفتوح لدراسة الحياة الفرعونية

١١٩ (استقر المصري القديم عندما نزل الي

١٢٠ (دوائر العرض تتميز بأنها الحجم

١٢١ (من العوامل المؤثرة في تنوع النبات الطبيعي , ,

١٢٢ (يحدث الاعتدال الربيعي و الخريفي عند تعامد اشعة الشمس علي

١٢٣ (تمر دائرة ف جنوب مصر

١٢٤ (من روافد نهر النيل في اثيوبيا هي , ,



(١) أهمية النباتات الطبيعية ؟

(٢) تساوي عدد ساعات الليل والنهار في فصل الربيع ؟

(٣) تعاقب فصول السنة الاربعة ؟

(٤) أهمية الأودية الجافة ؟

(٥) أهمية دوائر العرض ؟

(٦) أهمية قناة السويس لمصر ؟

(٧) تكون جبال البحر الاحمر ؟

(٨) ارتفاع درجات الحرارة في الاجزاء الجنوبية من مصر خاصة في الصيف ؟

(٩) قيام الدولة بإنشاء المحميات الطبيعية ؟

(١٠) فقر الصحاري المصرية بالنباتات الطبيعية ؟

(١١) أهمية خطوط الطول ؟

(١٢) لموقع مصر الجغرافي أهمية كبيرة ؟

(١٣) انتشار المنخفضات في الصحراء الغربية ؟

(١٤) اعتدال درجات الحرارة في مدينة الاسكندرية ؟

(١٥) تنوع النبات الطبيعي في مصر ؟





١٦) نزول المصري القديم من فوق الهضاب الي وادي النيل ؟

١٧) تسمية عصر الدولة الحديثة بعصر المجد الحربي ؟

١٨) تميز منخفض الفيوم عن باقي المنخفضات في الصحراء الغربية ؟

١٩) نشاط حركة السياحة في منطقة جبل سانت كاترين ؟

٢٠) الصحاري المصرية فقيرة في نباتاتها الطبيعية ؟

٢١) نمو أشجار التين والزيتون على الساحل الشمالي للبحر المتوسط ؟

٢٢) تآكل الشواطئ الشمالية لمصر وغرق أجزاء من السواحل ؟

٢٣) تكوين الملك مينا لجيش قوي ؟

٢٤) انشاء الملك مينا قلعة (من - نفر) ؟

٢٥) تسمية عصر الدولة القديمة بعصر بناء الأهرامات ؟



السؤال الرابع اجب عن الأسئلة الآتية

١ (ماذا كان يحدث اذا لم يقم العلماء برسم خطوط الطول و دوائر العرض ؟

٢ (ما النتائج المترتبة علي موقع مصر الفلكي ؟

٣ (ما النتائج المترتبة علي انتشار الجفاف فوق الهضاب ؟

٤ (ما النتائج المترتبة علي فشل الوحدة الاولي ؟

٥ (ماذا يحدث اذا كان مناخ مصر ممطر طوال العام (اثرة علي الاثار المصرية) ؟

٦ (دلل علي تعدد عوامل قيام الحضارة المصرية طبيعيا و بشريا ؟

٧ (وضح اقسام سطح مصر ؟

٨ (ماذا كان يحدث اذا لم يتصل منخفض الفيوم بترعة بحر يوسف ؟

٩ (ما النتائج المترتبة علي التعرية المائية و الهوائية في الصحراء الغربية ؟

١٠ (ما النتائج المترتبة علي الحركات الانكسارية في الصحراء الشرقية ؟

١١ (فسر سبب قيام هيئة قناة السويس بأعمال صيانة لمجري القناة بشكل مستمر ؟

١٢ (دلل علي تعدد العوامل المؤثرة في المناخ ؟



١٣) ما النتائج المترتبة علي سقوط الثلوج علي جبل سانت كاترين شتاء؟

١٤) وضع ملامح المناخ في الإقليم الصحراوي الحار ما بين الصيف و الشتاء؟

١٥) وضع الأثر الناتج علي تعامل الشمس علي مدار الجدي؟

١٦) ما النتائج المترتبة علي هبوب رياح الخماسين؟

١٧) دلل البعد عن المناطق الساحلية يؤثر بشكل سلبي علي المناخ؟

١٨) دلل اهتم المصريين القدماء بتدوين وصفاتهم الطيبة؟

١٩) ما النتائج المترتبة علي انتشار الجفاف في الصحاري المصرية؟

٢٠) ما النتائج المترتبة علي وفرة المياه العذبة و التربة الخصبة علي جانبي نهر النيل؟

٢١) ما النتائج المترتبة علي سقوط الامطار علي سواحل البحر المتوسط؟

٢٢) ما النتائج المترتبة علي تعرض الحياة البريه في مصر للعديد من الاخطار؟

٢٣) ماذا يحدث اذا لم يتوقف سكان العالم عن التوسع في حرق الوقود الاحفوري و عدم البحث عن بدائل نظيفة؟

٢٤) دلل تؤثر التغيرات المناخية علي صحة الانسان؟

٢٥) دلل اتخذت مصر عدة طرق إجراءات لمواجهة تأثير التغير المناخي؟



٢٦ (اعتاد ملوك مصر قديما علي تسجيل انتصاراتهم دلي ؟

٢٧ (دلي علي اهتمام الملك تحتمس الثالث بالعديد من الجوانب ؟

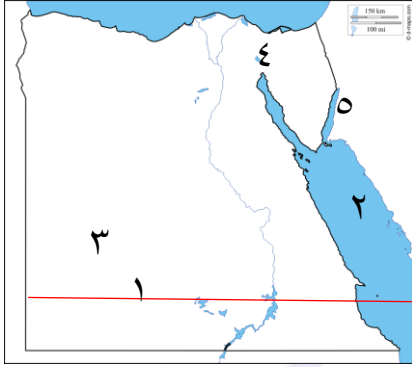


أحمد صبري

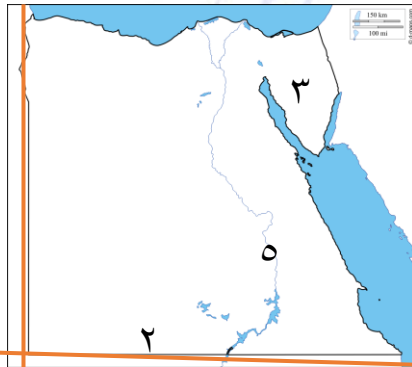




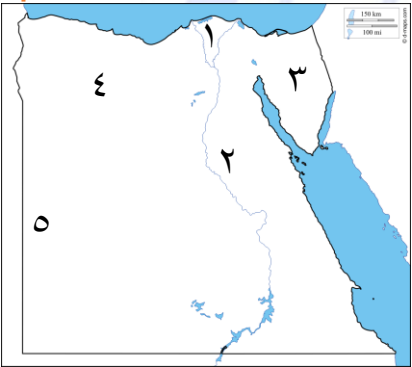
السؤال الخامس الخرائط



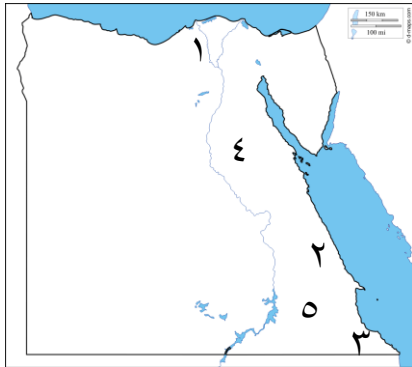
- ١ (دائرة عرض
- ٢ (البحر
- ٣ (محافظة
- ٤ (قناة
- ٥ (خليج



- ١ (دولة
- ٢ (دائرة عرض شمالا
- ٣ (هضبة
- ٤ (خط طول شرقا
- ٥ (مدينة عاصمة مملكة الجنوب



- ١ (مدينة عاصمة مملكة الشمال
- ٢ (منطقة زراعية هي
- ٣ (اصغر قسم صحراوي في مصر
- ٤ (منخفض
- ٥ (كثبان رملية



- ١ (فرع
- ٢ (منطقة إقليم مناخ
- ٣ (محمية
- ٤ (هضبة
- ٥ (وادي



السؤال الأول ضع علامة (√) او (X)

- (1) يمر مدار السرطان بشمال مصر (خطأ) جنوب مصر
- (2) كانت مدينة بوتو عاصمة مملكة الجنوب (خطأ) الشمال
- (3) نجحت مملكة الجنوب في توحيد البلاد عام ٤٢٤٢ ق. م (خطأ) الشمال
- (4) يمتد بحر الرمال العظيم على الحدود المصرية الليبية (صح)
- (5) منبع نهر النيل بحيرة فيكتوريا (صح)
- (6) تنتشر الأودية الجافة في الصحراء الغربية (خطأ) الشرقية و سيناء
- (7) شهر أكتوبر من شهور الخريف (صح)
- (8) تتكون الثلوج على قمة جبل سانت كاترين شتاءً (صح)
- (9) تمتلك مصر ثروة نباتية وحيوانية ذات قيمة اقتصادية عالمية (صح)
- (10) توجد محمية نبق في محافظة شمال سيناء (خطأ) جنوب سيناء
- (11) يكثر وجود الثعالب في الوادي والدلتا (خطأ) ينذر
- (12) الصحاري المصرية فقيرة في نباتاتها الطبيعية (صح)
- (13) من الطبيعي تتساقط الثلوج في مدينة القاهرة شتاءً (خطأ) هذا امر يشير الي تغير المناخ
- (14) من العوامل الطبيعية المؤثرة في التغيرات المناخية ازالة الغابات (خطأ) البشرية
- (15) معظم العوامل المؤثرة في التغيرات المناخية تؤدي الي زيادة انبعاثات غاز الاكسجين (خطأ)
- (16) لا يوجد فرق بين التنوع المناخي والتغيرات المناخية (خطأ)
- (17) تؤثر التغيرات المناخية على الانسان فتؤدي الي ظهور بعض الامراض (صح)
- (18) الملك مينا مؤسس أول أسرة حاكمة في تاريخ مصر (صح)
- (19) لوحة نعرمر محفورة بدقة عالية (صح)
- (20) تنقسم مظاهر السطح في مصر الي ٤ اقسام تضاريسية (صح)
- (21) نهر النيل ثاني أطول نهر في العالم (خطأ) أطول انهار العالم
- (22) مناخ مصر أدى الي تدهور الزراعة وتدمير الآثار (خطأ)
- (23) استقر المصريون القدماء حول وادي النيل منذ البداية (خطأ) عاش فوق الهضاب
- (24) مصر هي ملتقى قارات العالم القديم (صح)
- (25) لموقع مصر المتميز إثر واضح على اتصالها بالعالم الخارجي (صح)





- (٢٦) يقع مدار الجدي جنوب دائرة الاستواء عند درجة ٢٣,٥ جنوباً (صح)
- (٢٧) تطل مصر علي البحر المتوسط شرقاً (صح)
- (٢٨) كان شعار مملكة الشمال هو نبات البردي (صح)
- (٢٩) كان لكل الأقاليم نفس الحاكم والمعبود (خطأ)
- (٣٠) اتخذ الملك مينا مدينة **طيبة** عاصمة للبلاد (خطأ) من نفر
- (٣١) أهمل الملك تحتمس الثالث الجيش (خطأ)
- (٣٢) انهزم الملك تحتمس الثالث في معركة مجدو (خطأ)
- (٣٣) من القاب الملك مينا ملك الأرضين (صح)
- (٣٤) تؤثر التغيرات المناخية على الارض الزراعية فتؤدي الي زيادة الانتاج الزراعي (خطأ)
- (٣٥) بسبب التغيرات المناخية في مصر أصبح فصل الشتاء شديد البرودة (صح)
- (٣٦) استضافت مصر مؤتمر الأمم المتحدة للتغير المناخي عام ٢٠٢٢ في شرم الشيخ (صح)
- (٣٧) لم تؤثر التغيرات المناخية في مصر على فصل الصيف (خطأ)
- (٣٨) في الساحل الشمالي علي البحر المتوسط تنمو النباتات التي تصلح لرعي الحيوانات (صح)
- (٣٩) الملك أمنحتب الأول من ملوك الدولة **القديمة** (خطأ) **الحديثة**
- (٤٠) تحمل بردية ايبرس وصفات طبية باستخدام النبات الطبيعي (صح)
- (٤١) لا يوجد تنوع في النبات الطبيعي في مصر (خطأ)
- (٤٢) دائرة العرض الرئيسية هي خط **جرينتش** (خطأ) **دائرة الاستواء**
- (٤٣) دوائر العرض تحدد الموقع شمالاً وجنوباً (صح)
- (٤٤) فرق التوقيت بين كل خط طول واخر ٤ دقائق (صح)
- (٤٥) نهر النيل من العوامل **البشرية** المساعدة لقيام الحضارة المصرية القديمة (خطأ) **الطبيعية**
- (٤٦) الموقع الجغرافي لمصر من العوامل الطبيعية التي ساعدت على قيام الحضارة (صح)
- (٤٧) تبلغ مساحة الصحاري نحو ٩٦٪ من مساحة مصر (صح)
- (٤٨) يتميز سطح جنوب سيناء بالاستواء (خطأ)
- (٤٩) يضم حوض لنيل ٥ دول فقط (خطأ) ١١ دولة
- (٥٠) توجد هضبة مارمريكا شمال الصحراء **الشرقية** (خطأ) **الغربية**
- (٥١) تربط قناة السويس بين البحر المتوسط والبحر **العربي** (خطأ) **الأحمر**
- (٥٢) تكونت الدلتا من رواسب فيضيه (صح)
- (٥٣) الليل اطول من النهار في فصل الشتاء (صح)



- (٥٤) الاقليم الصحراوي الحار شديد الحرارة شتاءً وخاصة في الليل (خطأ)
- (٥٥) تقع معظم الاراضي المصرية في اقليم البحر المتوسط (خطأ) الصحراوي الحار
- (٥٦) يتركز النبات الطبيعي في مصر في الصحاري المصرية فقط (خطأ)
- (٥٧) موت الشعاب المرجانية بسبب التغيرات المناخية يؤثر سلبا على السياحة في مصر (صح)
- (٥٨) قامت الدولة بالعديد من الاجراءات لمواجهة تأثير التغيرات المناخية (صح)
- (٥٩) تحتوي لوحة نعرمر على انتصارات الملك مينا (صح)
- (٦٠) استطاع الملك تحتمس الثالث ان يسيطر على الشام (صح)
- (٦١) تقع مدينة من – نفر في محافظة الإسكندرية (خطأ) الجيزة
- (٦٢) من العوامل البشرية المؤثرة في التغيرات المناخية زيادة الانشطة الصناعية (صح)
- (٦٣) لا يوجد اي تأثير للتغيرات المناخية على الماء (خطأ)
- (٦٤) مدينة طيبة هي الأقصر حاليا (صح)
- (٦٥) من الأشجار التي تنمو على شواطئ الترع والمصارف شجرة الكافور (صح)
- (٦٦) يدور كوكب الأرض حول نفسه دورة كل ٢٤ ساعة (صح)
- (٦٧) رياح الخماسين تؤدي الي تلف المحاصيل الزراعية (صح)
- (٦٨) تقع مصر في قارة اسيا (خطأ) افريقيا
- (٦٩) تبلغ مساحة مصر حوالي مليون كيلو متر مربع (صح)
- (٧٠) خطوط الطول خطوط وهمية (صح)
- (٧١) النباتات الطبيعية هي التي يقوم الانسان بزراعتها (خطأ) تنمو تلقائيا
- (٧٢) استخدم المصريون القدماء النباتات الطبيعية في الطب والعلاج وصناعة العطور (صح)
- (٧٣) تؤثر التغيرات المناخية على النبات الطبيعي والكائنات الحية وتعرضهم لخطر الانقراض (صح)
- (٧٤) الملك تحتمس الثالث من ملوك الأسرة ١٨ في الدولة الحديثة (صح)
- (٧٥) تقع معظم الاراضي المصرية في الاقليم الصحراوي الحار (صح)
- (٧٦) تصغر دوائر العرض بالاتجاه شمالا او جنوبا (صح)
- (٧٧) تطل مصر من جهة الجنوب علي البحر المتوسط (خطأ) الشمال
- (٧٨) تم نقش مراسم تتويج الملك تحتمس الثالث علي جدران معبد أبو سمبل (خطأ) الكرنك
- (٧٩) يتميز اقليم البحر المتوسط بسقوط الامطار صيفاً (خطأ) شتاء
- (٨٠) تتميز مدينة الاسكندرية بدرجات الحرارة المرتفعة (خطأ) المعتدلة



٢٢) تساقط الثلوج في فصل الشتاء علي جبل سانت كاترين يساعد في تنشيط السياحة

٢٣) كانت الوحدة الأولى عام ٤٢٤٢ ق. م

٢٤) يساعدنا خطوط الطول في تحديد فرق التوقيت

٢٥) يتميز منخفض الفيوم عن باقي المنخفضات الصحراوية ب اتصاله بنهر النيل عن طريق ترعة بحر يوسف

٢٦) نشأت الأقاليم من تجمع القرى و المدن

٢٧) خط الطول الرئيسي هو خط جرينتش

٢٨) تغطي قمة جبل سانت كاترين بالجليد في فصل الشتاء

٢٩) عناصر المناخ هي الحرارة , الرياح , الامطار

٣٠) تقع مصر في اتجاه الشمال بالنسبة لدائرة الاستواء

٣١) تؤدي التغيرات المناخية الي إصابة الانسان بالأمراض مثل الملاريا

٣٢) تسقط السيول علي جبال البحر الأحمر و جنوب سيناء في فصل الخريف

٣٣) من الحيوانات البرية في البيئة الصحراوية هي الجمال و اليربوع و الزواحف و الغزال

٣٤) من العوامل المؤثرة في تنوع المناخ مظاهر السطح , الموقع الفلكي

٣٥) تشرق الشمس أولاً علي المناطق الواقعة شرق خط جرينتش

٣٦) من الاخطار التي تهدد الحياة البرية في مصر ندرة المياه , تغير المناخ , الصيد الجائر للحيوانات

٣٧) تحتاج الكرة الأرضية الي ٢٤ ساعة لتكمل دورة حول نفسها

٣٨) تبدو الدلتا علي شكل مثلث

٣٩) الصحراء الشرقية غنية ب الذهب , البترول , الغاز الطبيعي

٤٠) فرق التوقيت بين كل خط طول و الاخر ٤ دقيقة

٤١) تقع معظم مساحة مصر ضمن إقليم مناخ الصحراوي الحار و الأطراف الشمالية ضمن البحر المتوسط

٤٢) للمحميات الطبيعية أهمية ثقافية , علمية , سياحية , جمالية

٤٣) الموقع الجغرافي هو الوقع بالنسبة ل خطوط الطول و دوائر العرض

٤٤) تقع القرية الفرعونية في الوجه القبلي



- ٤٥ (من مدن الإقليم الصحراوي الحار اسوان و البحر المتوسط بورسعيد
- ٤٦ (اصبح لمصر جيش قوي يدافع عنها بعد توحيد الملك مينا لمصر لمصر
- ٤٧ (من الأنشطة البشرية التي ساعدت علي تغير المناخ حرق الوقود الحفري , الأنشطة الصناعية
- ٤٨ (تقع هضبة مارمريكا في شمال غرب الصحراء الغربية
- ٤٩ (خطوط الطول هي انصاف دوائر
- ٥٠ (اهتمت الدولة بأثناء المحميات الطبيعية لحماية الحياة البرية من الاخطار
- ٥١ (يقع مدار السرطان في اتجاه الشمال بالنسبة للكرة الأرضية بينما الجنوب بالنسبة لمصر
- ٥١ (يشغل الإقليم الصحراوي الحار معظم مساحة مصر بينما يوجد الإقليم البحر المتوسط في شمالها
- ٥٢ (كان المصري يعيش قديما فوق الهضاب و سكن الكهوف
- ٥٣ (تضم دلتا النيل اكثر من ٥٠ % من الأراضي الزراعية في مصر
- ٥٤ (ساعد موقعها الجغرافي علي قيام التجارة وسهولة تواصل مصر مع غيرها من الدول
- ٥٥ (منخفض القطارة بالصحراء الغربية غير مأهول بالسكان
- ٥٦ (كان المصري دائم التنقل و الترحال بحثا عن الغذاء
- ٥٧ (تأسست اول امبراطورية في التاريخ علي يد الملك تحتمس الثالث
- ٥٨ (بني المصري القديم مساكنة من الطوب اللبن
- ٥٩ (تدور الأرض حول نفسها من الغرب الي الشرق
- ٦٠ (نزل المصري من فوق الهضاب عندما حل الجفاف
- ٦١ (ظهرت البيوت الصغيرة ثم القرى ثم المدن ثم الأقاليم المستقلة
- ٦٢ (المحطة الاولي للطيور المهاجرة و أوروبا و اسيا قادمة لأفريقيا هي محمية الزرانيق
- ٦٣ (كان لكل إقليم حاكم , عاصمة , معبود , جيش يحميه
- ٦٤ (التغيرات المناخية هي الاختلافات و التحولات في الأحوال المناخية
- ٦٥ (تضم مملكة الجنوب أقاليم الوجه القبلي
- ٦٦ (يقطع هضبة التيه في وسط سيناء وادي العريش و يصب في البحر المتوسط



- ٦٧ (عاصمة الشمال هي بوتو بينما عاصمة الجنوب نخب)
- ٦٨ (اصبح المناخ في فصل الشتاء اكثر برود عن السابق)
- ٦٩ (تقع هضبة الجلف الكبير في جنوب الصحراء الغربية)
- ٧٠ (يمر نهر النيل في ١١ دولة)
- ٧١ (تقع بوتو بالقري من دسوق بمحافظة كفر الشيخ)
- ٧٢ (من اهم الاودية الجافة في الصحراء الشرقية وادي العلاقي)
- ٧٣ (تنمو في محمية الزرانيق بسيناء أشجار الشيخ المعمرة)
- ٧٤ (تقع نخب شمال ادفو في محافظة اسوان)
- ٧٥ (يصب نهر النيل في البحر المتوسط)
- ٧٦ (التغيرات المناخية تؤدي الي غرق الشواطئ الشمالية لمصر)
- ٧٧ (كان شعار مملكة الشمال نبات البردي بينما شعار مملكة الجنوب زهرة اللوتس)
- ٧٨ (التنوع البيولوجي تنوع الحياة النباتية و الحيوانية علي كوكب الأرض .)
- ٨٩ (التغير المناخي يؤدي الي نقص المياه العذبة)
- ٨٠ (كانت عاصمة مصر في الوحدة الاولي اون هليوبليس (عين شمس حاليا))
- ٨١ (مملكة الشمال تقع في الوجه البحري)
- ٨٢ (اهتم الملك تحتمس الثالث بالجوانب العسكرية و العمرانية)
- ٨٣ (تقع محمية نبق في جنوب سيناء و محمية جبل علبة تقع في محافظة البحر الأحمر)
- ٨٤ (استطاع حاكم مدينة طبية السيطرة علي البلاد و تحقيق الوحدة الثانية)
- ٨٥ (حدث توسع عمراني في مدن بورسعيد , الإسماعيلية , السويس بعد خفر قناة السويس)
- ٨٦ (يمتد بحر الرمال العظيم علي الحدود المصرية الليبية)
- ٨٧ (لبس الملك مينا التاج المزدوج بعد الوحدة الثانية)
- ٨٨ (ترجع بردية ايبرس و هيرست الي عصر الملك امنحتب الاول)
- ٨٩ (مدينة اون هي عين شمس حاليا)



٩٠ (استضافت مصر مؤتمر التغير المناخي في شرم الشيخ

٩١ (بدأ العصر العتيق بعد توحيد الملك مينا لمصر

٩٢ (من النباتات الطبيعية التي استخدمها المصري القديم الزعفران , الخروع

٩٣ (سمي عصر الدولة القديمة بعصر بناة الاهرامات

٩٤ (نشاط عوامل التعرية المائة , الهوائية ادي الي تكون المنخفضات

٩٥ (تهب رياح الخماسين علي مصر في فصل الربيع

٩٦ (من مميزات عصور الضعف عدم الاستقرار في الدولة

٩٧ (عصر الدولة الوسطي تميز بالمشاريع في كافة المجالات

٩٨ (كان ل المناخ دور في حفظ الاثار و تنوع المحاصيل الزراعية

٩٩ (العصر الذي تميز بتوسع مساحة مصر علي حساب جرانها هو الدولة الحديثة

١٠٠ (من العوامل الطبيعية لقيام الحضارة المصرية القديمة نهر النيل , الموقع الجغرافي

١٠١ (تؤدي التغيرات المناخية لزيادة انبعاث غاز ثاني أكسيد الكربون

١٠٢ (استخدم المصري الأحجار في بناء المعابد و الاهرامات

١٠٣ (عصر عانت فيه البلاد من التفكك و الاحتلال هو المتأخر

١٠٤ (تستخدم النباتات الطبيعية في صناعة الادوية , العطور

١٠٥ (خطوط الطول هي خطوط رأسية تصل بين القطب الشمال , القطب الجنوبي

١٠٦ (لون تاج مملكة الجنوب هو الابيض

١٠٧ (يكون الليل أطول من النهار في فصل الشتاء

١٠٨ (من العوامل البشرية لقيام الحضارة المصرية القديمة الجيش , الحكومة المركزية

١٠٩ (حافظ المناخ علي الحفاظ علي الاثار المصرية و تنوع المناخ

١١٠ (من الإجراءات التي اتخذتها مصر لمواجهة التغير المناخي سن القوانين للحد من الأثر السلبي للأنشطة

البشرية , إعادة تدوير مياه الصرف

١١١ (من اشهر معارك تحتمس الثالث معركة مجدو

١١٢ (ضمت الإمبراطورية المصرية الشام و بلاد النوبة



١١٣) من الأدلة علي اخلاقيات الجيش المصري ما قاله القائد وني و كتبه علي مقبرته الواقعة في ابيدوس

١١٤) ينبع نهر النيل من بحيرة فيكتوريا في وسط افريقيا

١١٥) من اشهر الخريف سبتمبر , أكتوبر , نوفمبر

١١٦) من العوامل الطبيعية للتغيرات المناخية الانفجارات البركانية

١١٦) تقع القرية الفرعونية في الجيزة

١١٧) من النباتات الطبيعية في الوادي و الدلتا نبات الحلفا و الكافور و الساحل الشمالي التين , الزيتون , اللوز

١١٨) تعتبر القرية الفرعونية متحف مفتوح لدراسة الحياة الفرعونية

١١٩) استقر المصري القديم عندما نزل الي الوادي

١٢٠) دوائر العرض تتميز بأنها مختلفة الحجم الحجم

١٢١) من العوامل المؤثرة في تنوع النبات الطبيعي تنوع المناخ , مدى وفرة موارد المياه , تنوع البيئات المصرية

١٢٢) يحدث الاعتدال الربيعي و الخريفي عند تعامد اشعة الشمس علي دائرة الاستواء

١٢٣) تمر دائرة السرطان ف جنوب مصر

١٢٤) من روافد نهر النيل في اثيوبيا هي السواط , النيل الزرق , عطبرة





(١) أهمية النباتات الطبيعية؟

تستخدم كغذاء للحيوانات البرية و يستخدمها البدو كغذاء لحيواناتهم — تستخدم في صناعة الادوية و العطور و مستحضرات التجميل - تساعد علي جذب السياح

(٢) تساوي عدد ساعات الليل والنهار في فصل الربيع؟

بسبب تعامد اشعة الشمس علي دائرة الاستواء

(٣) تعاقب فصول السنة الأربعة؟

بسبب دوران الأرض حول الشمس مرة كل ٣٦٥ وربع يوم

(٤) أهمية الأودية الجافة؟

يمكن استخدامها في انشاء الطرق و أيضا يمكن استخدامها كمجري لمياه السيول

(٥) أهمية دوائر العرض؟

تساعدنا في التعرف علي الموقع شمالا و جنوبا و أيضا تساعد في التعرف علي الأقاليم المناخية

(٦) أهمية قناة السويس لمصر؟

ساعدت علي حدوث توسع عمراني علي جانبيها في مدن مثل السويس و الإسمايلية و بورسعيد و أيضا سهولة قيام التجارة

(٧) تكون جبال البحر الاحمر؟

بسبب حدوث الحركات الانكسارية التي اصابته الصخور الصلبة في الصحراء الشرقية

(٨) ارتفاع درجات الحرارة في الاجزاء الجنوبية من مصر خاصة في الصيف؟

لوقوعها ضمن الإقليم الصحراوي و قربها من مدار السرطان و بعدها عن المسطحات المائية

(٩) قيام الدولة بإنشاء المحميات الطبيعية؟

لحفاظ علي التنوع البيولوجي و حماية الحيوانات البرية و النبات الطبيعية من الانقراض

(١٠) فقر الصحاري المصرية بالنباتات الطبيعية؟

بسبب ارتفاع درجة الحرارة و ندرة موارد المياه

(١١) أهمية خطوط الطول؟

تساعدنا في التعرف علي الموقع شرقا و غربا و أيضا تحديد فرق التوقيت

(١٢) لموقع مصر الجغرافي أهمية كبيرة؟

لأنه ساعد علي سهولة التواصل مع دول العالم تجاريا و حضاريا علي مر التاريخ خصوصا بعد افتتاح قناة السويس

(١٣) انتشار المنخفضات في الصحراء الغربية؟

بسبب نشاط عوامل التعرية المائية و الهوائية



١٤) اعتدال درجات الحرارة في مدينة الاسكندرية ؟

بسبب القرب من المسطحات المائية وحيث يلطف نسيم البحر درجة الحرارة و وقوعها ضمن إقليم البحر المتوسط

١٥) تنوع النبات الطبيعي في مصر ؟

بسبب تنوع البيئات و مدى وفرة موارد المياه و تنوع المناخ بين الصيف و الشتاء .

١٦) نزول المصري القديم من فوق الهضاب الي وادي النيل ؟

بسبب انتشار الجفاف فوق الهضاب

١٧) تسمية عصر الدولة الحديثة بعصر المجد الحربي ؟

بسبب اهتمام ملوكة بالقوة العسكرية و التوسعات خارج حدود الدولة و تكوين اقدم امبراطورية في التاريخ

١٨) تميز منخفض الفيوم عن باقي المنخفضات في الصحراء الغربية ؟

لاتصاله بنهر النيل عن طريق ترعة بحر يوسف

١٩) نشاط حركة السياحة في منطقة جبل سانت كاترين ؟

بسبب تكون الجليد علي قمته شتاء

٢٠) الصحاري المصرية فقيرة في نباتاتها الطبيعية ؟

بسبب ندرة موارد المياه و ارتفاع درجة الحرارة

٢١) نمو أشجار التين والزيتون على الساحل الشمالي للبحر المتوسط ؟

لسقوط مياه الامطار الشتوية

٢٢) تآكل الشواطئ الشمالية لمصر و غرق أجزاء من السواحل ؟

بسبب حدوث التغير المناخي حيث تؤدي الي ارتفاع منسوب سطح البحر و اغراق الشواطئ الشمالية

٢٣) تكوين الملك مينا لجيش قوي ؟

للدفاع عن البلاد و حمايتها

٢٤) انشاء الملك مينا قلعة (من - نفر) ؟

لتكون عاصمة لمصر

٢٥) تسمية عصر الدولة القديمة بعصر بناء الأهرامات ؟

لكثرة ما بناه ملوك هذا العصر من اهرامات ضخمة



السؤال الرابع اجب عن الأسئلة الآتية

- ١ (ماذا كان يحدث اذا لم يقيم العلماء برسم خطوط الطول و دوائر العرض ؟
اذا لم يتم رسم دوائر العرض : — لم نتعرف على الموقع شمالا و جنوبا و لم نتمكن من معرفة الأقاليم المناخية من حيث الحرارة و الرياح و الامطار .
اذا لم يتم رسم خطوط الطول : — لم نتمكن من التعرف على الموقع شرقا او غربا و لم نتمكن من معرفة فرق التوقيت .
- ٢ (ما النتائج المترتبة علي موقع مصر الفلكي ؟
ادي الي وقوع معظم الأراضي المصرية ضمن الإقليم الصحراوي ما عدا الأطراف الشمالية ضمن الإقليم المعتدل (البحر المتوسط)
- ٣ (ما النتائج المترتبة علي انتشار الجفاف فوق الهضاب ؟
نزل المصري القديم الي وادي نهر النيل .
- ٤ (ما النتائج المترتبة علي فشل الوحدة الاولى ؟
عادت البلاد مرة اخري مملكتين متحاربتين .
- ٥ (ماذا يحدث اذا كان مناخ مصر ممطر طوال العام (اثرة علي الاثار المصرية) ؟
لفقدنا جزء كبير من الاثار المصرية .
- ٦ (دلت علي تعدد عوامل قيام الحضارة المصرية طبيعيا و بشريا ؟
العوامل الطبيعية : — نهر النيل و الموقع و المناخ و الثروات المعدنية و الصخور
العوامل البشرية : — الجيش و الوحدة بين المصريين و الحكومة المركزية و كفاح المصري القديم
- ٧ (وضح اقسام سطح مصر ؟
ينقسم سطح مصر الي اربع اقسام تضاريسية و هي كالاتي
القسم الأول (الوادي و الدلتا و منخفض الفيوم) القسم الثاني (الصحراء الغربية)
القسم الثالث (الصحراء الشرقية) القسم الرابع (شبة جزيرة سيناء)
- ٨ (ماذا كان يحدث اذا لم يتصل منخفض الفيوم بترعة بحر يوسف ؟
لم تكن تربته طينية خصبة و لم يتم الاعتماد علي مياه نهر النيل لري اراضيه .
- ٩ (ما النتائج المترتبة علي التعرية المائية و الهوائية في الصحراء الغربية ؟
ادي ذلك الي تكون المنخفضات في الصحراء الغربية .
- ١٠ (ما النتائج المترتبة علي الحركات الانكسارية في الصحراء الشرقية ؟



ادي الي تكون البحر الأحمر و علي جانبيه الجبال مثل جبال البحر الأحمر .

(١١) فسر سبب قيام هيئة قناة السويس بأعمال صيانة لمجري القناة بشكل مستمر ؟

بسبب عوامل التعرية المائية النشطة علي مدار العام .

(١٢) دلل علي تعدد العوامل المؤثرة في المناخ ؟

حيث تتنوع العوامل مثل القرب او البعد عن المسطحات المائية و مظاهر السطح و الموقع الفلكي

(١٣) ما النتائج المترتبة علي سقوط الثلوج علي جبل سانت كاترين شتاء ؟

ادي الي جذب السياح و تنشيط حركة السياحة

(١٤) وضح ملامح المناخ في الإقليم الصحراوي الحار ما بين الصيف و الشتاء ؟

في فصل الصيف ترتفع درجة الحرارة بشكل كبير خصوصا اثناء النهار

و في الشتاء تنخفض الحرارة خصوصا في الليل .

(١٥) وضح الأثر الناتج علي تعاملد الشمس علي مدار الجدي ؟

يؤدي الي ارتفاع البرودة شمال الكرة الأرضية و حدوث فصل الشتاء .

(١٦) ما النتائج المترتبة علي هبوب رياح الخماسين ؟

الاضرار بصحة الانسان و ظهور امراض الجهاز التنفسي و تدمير النباتات

(١٧) دلل البعد عن المناطق الساحلية يؤثر بشكل سلبي علي المناخ ؟

حيث نجد ارتفاع درجات الحرارة و البرودة بشكل عالي في المناطق الداخلية مثل ما يحدث في

مدينة المنيا تصل فيها البرودة الي ما تحت الصفر المئوي .

(١٨) دلل اهتم المصريين القدماء بتدوين وصفاتهم الطبية ؟

حيث سجلو وصفاتهم الطبية علي بعض البرديات مثل بردية هيريسست و ايبيرس التي تعود لعهد

الملك امنحتب الأول احد ملوك الدولة الحديثة .

(١٩) ما النتائج المترتبة علي انتشار الجفاف في الصحاري المصرية ؟

ندرة النبات الطبيعي و نمو فقط النباتات التي تتحمل الحرارة و الجفاف مثل الصبار و التين

الشوكي و النخيل .

(٢٠) ما النتائج المترتبة علي وفرة المياه العذبة و التربة الخصبة علي جانبي نهر النيل ؟

ادي الي نمو النباتات الطبيعية مثل الحلفا و الأشجار مثل الكافور و الجميز و النباتات المائية مثل

البوص .

(٢١) ما النتائج المترتبة علي سقوط الامطار علي سواحل البحر المتوسط ؟

ادي الي نمو بعض النباتات مثل النباتات الحولية التي تربي عليها الحيوانات البرية و نمو أشجار

الزيتون و التين و اللوز .



٢٢ (ما النتائج المترتبة علي تعرض الحياة البريه في مصر للعديد من الاخطار ؟

قامت الحكومة المصرية بأنشاء العديد من المحميات الطبيعية .

٢٣ (ماذا يحدث اذا لم نتوقف عن التوسع في حرق الوقود الاحفوري وعدم البحث عن بدائل نظيفة ؟

سيؤدي الي حدوث تغير مناخي و بالتالي فقدان التنوع البيولوجي و غرق الشواطئ المصرية و ظهور الامراض مثل الملاريا و انكماش مساحة الأرض الزراعية و فقدان المياه العذبة موت الشعاب المرجانية .

٢٤ (دلل تؤثر التغيرات المناخية علي صحة الانسان ؟

حيث تؤدي الي ظهور العديد من الامراض مثل مرض الملاريا

٢٥ (دلل اتخذت مصر عدة طرق لإجراءات لمواجهة تأثير التغير المناخي ؟

حيث قامت بسن القوانين التي تحد من التأثير السلبي للأنشطة البشرية علي البيئة , التوسع في استخدام وسائل النقل المستدام و مصادر الطاقة النظيفة , تخزين مياه السيول و تطوير البنية التحتية , إعادة تدوير مياه الصرف و تحلية مياه البحر , نشر الوعي بخطورة التغير المناخي علي الفرد و المجتمع

٢٦ (اعتاد ملوك مصر قديما علي تسجيل انتصاراتهم دلل ؟

حيث سجل الملك مينا انتصاراته علي لوحة نعرمر

٢٧ (دلل علي اهتمام الملك تحتمس الثالث بالعديد من الجوانب ؟

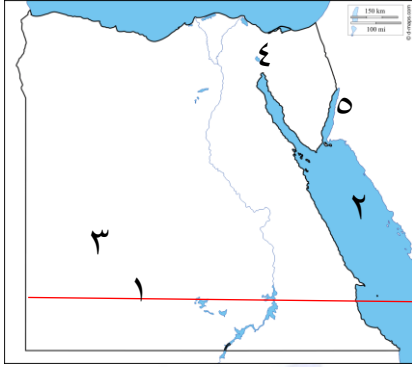
حيث اهتم بالجانب العسكري : — ف اهتم بالجيش و تدريبية و زودة بالفرسان و العربات الحربية و بني القلاع و الحصون و اهتم بتوسيع حدود الدولة المصرية و أسس اقدم امبراطوريه في التاريخ حيث سيطر علي بلاد الشام بعد معركة مجدو

و اهتم بالجانب العمراني : — حيث بني الكثير من المعابد و المسلات الضخمة

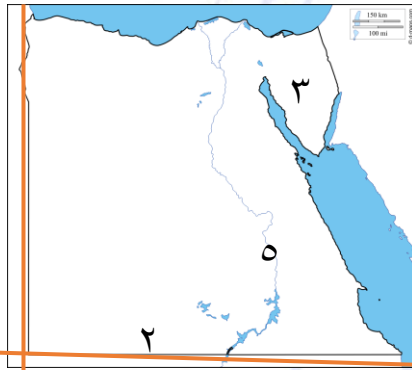




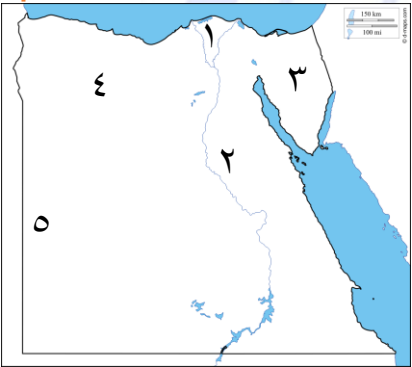
السؤال الخامس الخرائط



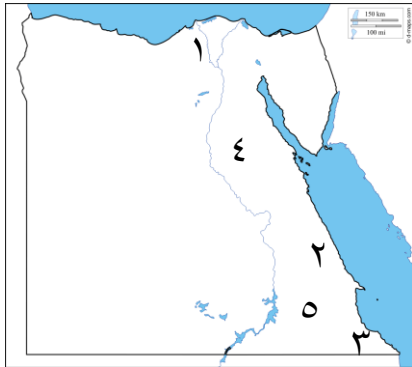
- ١ (دائرة عرض مدار السرطان)
- ٢ (البحر الاحمر)
- ٣ (محافظة الوادي الجديد)
- ٤ (قناة السويس)
- ٥ (خليج العقبة)



- ١ (دولة السودان)
- ٢ (دائرة عرض ٢٢ شمالا)
- ٣ (هضبة التيه)
- ٤ (خط طول ٢٥ شرقا)
- ٥ (مدينة نخب عاصمة مملكة الجنوب)



- ١ (مدينة بوتو عاصمة مملكة الشمال)
- ٢ (منطقة زراعية هي الوادي)
- ٣ (اصغر قسم صحراوي في مصر سيناء)
- ٤ (منخفض القطارة)
- ٥ (كثبان رملية بحر الرمال العظيم)



- ١ (فرع رشيد)
- ٢ (منطقة إقليم مناخ صحراوي)
- ٣ (محمية جبل علبة)
- ٤ (هضبة المعازة)
- ٥ (وادي العلاقي)

