

20  
24

سلسلة

# المتفوق

في الدراسات الاجتماعية

اعداد /

مستر حاتم عاطف

6

الصف السادس الابتدائي  
الفصل الدراسي الاول

المراجعة النهائية

اكونت المتفوق  
على فيسبوك



قناة المتفوق  
على يوتيوب



جروب المتفوق  
على تيليجرام



بنك أسئلة على المنهج



أمامك خريطة للوطن العربي اكتب مدلول الارقام

السؤال الأول



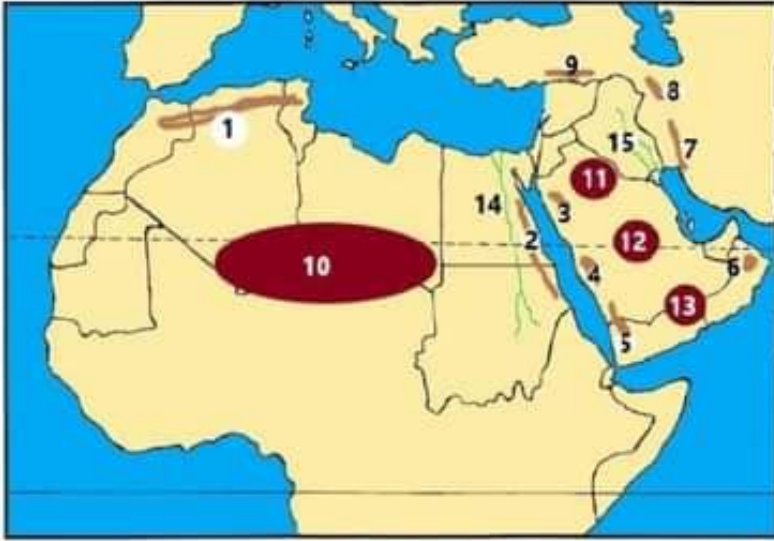
1. البحر.....
2. البحر.....
3. البحر.....
4. خليج.....
5. خليج.....
6. الخليج.....
7. المحيط.....
8. المحيط.....
9. جبال.....
10. جبال.....

أمامك خريطة لمضايق للوطن العربي



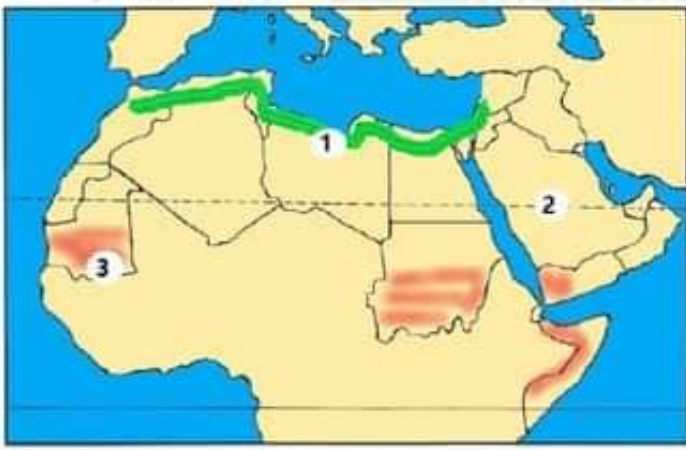
1. مضيق.....
2. مضيق.....
3. مضيق.....
4. قناة.....
5. أكبر دولة عربية.....
6. أصغر دولة عربية.....

أمامك خريطة لتضاريس للوطن العربي



1. جبال.....
2. جبال.....
3. جبال.....
4. جبال.....
5. جبال.....
6. جبال.....
7. جبال.....
8. جبال.....
9. جبال.....
10. هضبة.....
11. هضبة.....
12. هضبة.....
13. هضبة.....
14. نهر.....
15. نهري.....و.....

خريطة للإقاليم المناخية للوطن العربي



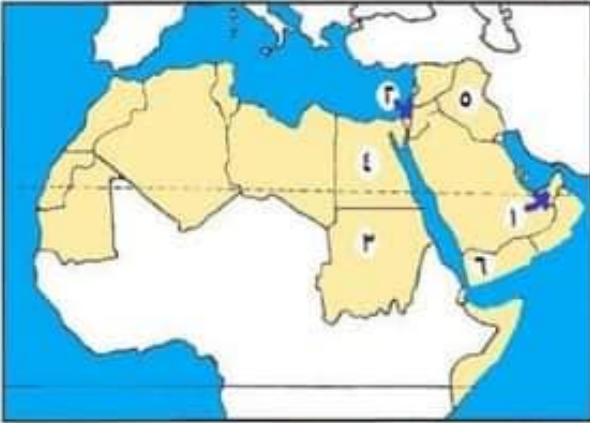
1. إقليم مناخي.....
2. إقليم مناخي.....
3. إقليم مناخي.....

لاحظ الخريطة ثم أجب



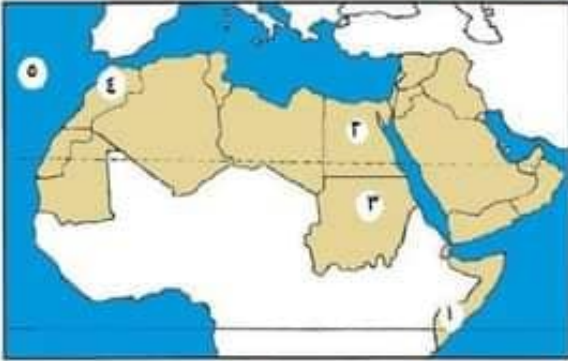
١. الدولة التي تعرضت لأكبر موجة جفاف .....
٢. دولة أعلنت بناء مدينة نيوم الخضراء .....
٣. أطلقت مبادرة لزراعة ١٠٠ مليون شجرة .....

لاحظ الخريطة ثم أجب



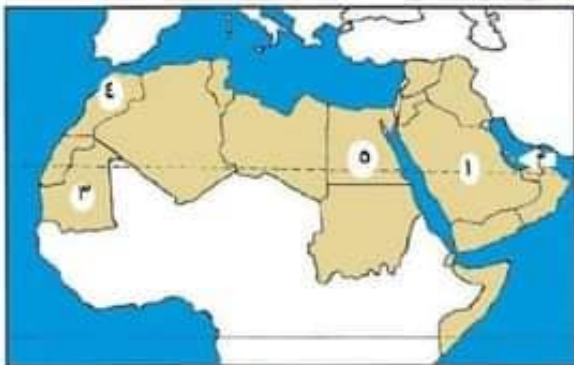
١. دولة يتم فيها زراعة الواحات اعتمادا على المياه الجوفية .....
٢. دولة يزرع بها العنب .....
٣. دولة تتركز بها زراعة الكتان .....
٤. دولة تنتج التمور .....
٥. دولة تقوم فيها زراعة الموز .....
٦. دولة تتركز بها زراعة البن .....

لاحظ الخريطة ثم أجب



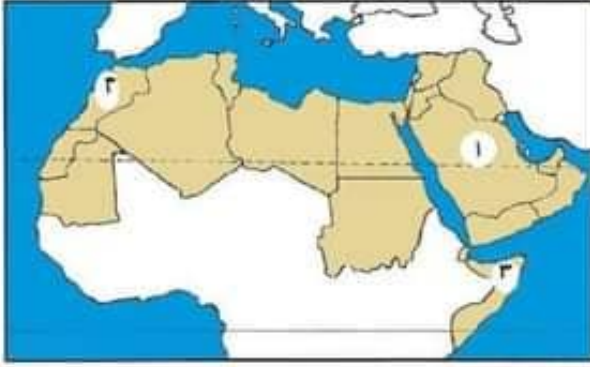
١. أولى الدول في تربية الإبل .....
٢. أولى الدول في تربية الجاموس .....
٣. أولى الدول في تربية الأبقار .....
٤. أولى الدول في صيد الأسماك من المصايد .....
٥. سواحل تطل عليها دول المغرب .....

لاحظ الخريطة ثم أجب



١. أولى الدول إنتاجا للبترول .....
٢. أولى الدول إنتاجا للغاز الطبيعي .....
٣. أولى الدول العربية إنتاجا للحديد .....
٤. أولى الدول المنتجة للفوسفات .....
٥. أولى الدول في صناعة الحديد والصلب .....

لاحظ الخريطة ثم أجب



1. دولة منضمة لمجلس التعاون لدول الخليج العربي .  
.....
2. دولة مشتركة في اتفاقية أغادير واتحاد دول المغرب العربي.....
3. دولة غير منضمة إلى أى اتحاد.....

السؤال الثاني أهم المفاهيم والمصطلحات

قبائل متفرقة، وكان لكل قبيلة شيخ يحكمها.

الذين هاجروا من مكة إلى المدينة.

سكان المدينة الذين نصروا الرسول (ﷺ) في دعوته.

قبائل عربية رفضت دفع الزكاة بعد وفاة الرسول (ﷺ)، وادعى بعضهم النبوة.

نشأت نتيجة حركات باطنية (التوانية) تعرضت لها الأرض مثل جبال أطلس  
نشأت نتيجة حدوث انكسار (حركات انكسارية في قشرة الأرض مثل جبال البحر الأحمر.

حركة مياه البحار والمحيطات.

منطقة جغرافية من سطح الأرض تتسم بخصائص مناخية تميزها عن غيرها.

نقص كمية الأمطار في بعض السنوات بما لا يسمح بالزراعة أو نمو الحشائش.

تدهور الأرض وتناقص قدرتها على الإنتاج.

مزارع الزراعة الخضراوات بدون تربة.

تحويل المواد الخام لمنتجات صالحة للاستخدام.

استخراج المعادن ومصادر الطاقة.

تشمل زيارة المواقع الأثرية والتراثية مثل الأقصر في مصر.

- تتضمن زيارة الشواطئ كما في مصر ولبنان والرحلات النيلية في أسوان بمصر.
- تتمثل في زيارة الأماكن المقدسة كالكعبة المشرفة في السعودية.
- تتمثل في زيارة بعض الأماكن بهدف الاستشفاء والعلاج كالعيون الكبريتية بسيوة.
- تتمثل في حضور المؤتمرات والمعارض الدولية، كما في مصر وقطر وغيرها.
- تتضمن سياحة السفاري وزيارة المحميات الطبيعية والمناطق الصحراوية.
- حضور المسابقات الرياضية المختلفة مثل كأس العالم لكرة القدم بقطر ٢٠٢٢م.
- زيارة أضخم المراكز التجارية وأحدثها، كما في الإمارات والكويت والبحرين.
- الصادرات والواردات من السلع والخدمات بين الدول العربية.
- الصادرات والواردات بين دول الوطن العربي وباقي دول العالم.
- تبادل السلع والخدمات باستخدام شبكة المعطومات الدولية (الإنترنت).

## السؤال الثالث

### أكمل العبارات الآتية

في الدراسات الاجتماعية

١. يقع الوطن العربي وسط قارات العالم ... ..
٢. تمتد أراضي الوطن العربي في قارتي .....
٣. يحد الوطن العربي من الجنوب .....
٤. توجد النسبة الكبرى من مساحة الوطن العربي في قارة .....
٥. أكبر الدول العربية من حيث المساحة دولة .....
٦. يتحكم الوطن العربي في ممرات مائية مهمة منها قناة .....
٧. يحد الوطن العربي من جهة الشرق خليج ..... والخليج .....
٨. يطل الوطن العربي على المحيط ..... والمحيط .....
٩. أشهر قبائل العرب قبل الإسلام قبيلة .....
١٠. قام أهل مكة برحلة الصيف إلى .....
١١. نظام الحكم السائد في شبه الجزيرة العربية قبل الإسلام النظام .....

1. ولد الرسول ﷺ في شهر.....
2. عمل الرسول وهو في بيت عمه بحرفة.....
3. من العادات السنية عند العرب قبل الإسلام.....و.....
4. كانت أول هجرة للمسلمين إلى.....
5. كان الرسول متزوجاً من السيدة..... أثناء بداية نزول الوحي.
6. نزل جبريل اليه على الرسول في غار.....
7. دعا الرسول أهل يثرب إلى الإسلام في موسم.....
8. أمر الرسول ﷺ أصحابه بالهجرة إلى.....
9. اتفقت قريش في دار..... على قتل الرسول.
10. هاجر الرسول إلى يثرب وأخى بين..... و.....
11. تحولت دعوة الإسلام إلى مرحلة العالمية بعد صلح.....
12. الذي أشار على النبي ﷺ بحفر خندق حول المدينة هو.....
13. انتصر المسلمون على قريش عام ٢ هـ في غزوة.....
14. أحد أسس بناء الدولة وكان مقراً للحكم.....
15. جهز الرسول ﷺ قبل وفاته جيشاً بقيادة أسامة بن زيد إلى.....
16. أوصى الخليفة أبو بكر الصديق ال..... بتولى الخلافة من بعده.
17. اتخذ الخليفة عمر بن الخطاب من هجرة الرسول إلى المدينة بداية التقويم.....
18. أنشأ الخليفة عمر بن الخطاب عدداً من الدواوين مثل ديوان..... وديوان.....
19. امتدت الفتوحات الإسلامية في عهد الخليفة عمر بن الخطاب له في بلاد..... وبلاد.....
20. تولى خلافة المسلمين بعد استشهاد عمر بن الخطاب الخليفة.....
21. خصص يوماً للنظر في مظالم الناس الخليفة.....
22. يقع وطننا العربي بين خطي طول..... شرقاً و..... غرباً، وبين دائرتي عرض..... جنوباً و..... شمالاً،
23. تمر دائرة..... في جنوب الوطن العربي
24. ترتفع درجات الحرارة في المناطق..... بالوطن العربي وتتنخفض كلما اتجهنا.....

36. يسود المناخ ..... في معظم أجزاء الوطن العربي، بينما يسود المناخ ..... في الأجزاء الشمالية.
37. يقترب الوطن العربي من قارة .....
38. تهب رياح شديدة ..... من أوروبا وآسيا شتاءً، ورياح حارة من جنوب ..... صيفاً
39. المناطق ..... القريبة من المسطحات المائية فتكون أكثر اعتدالاً من المناطق الداخلية
40. المسطحات المائية تلطف درجة الحرارة وتقلل المدى الحراري ..... و .....
41. كلما ارتفعنا ..... متراً فوق مستوى سطح البحر انخفضت درجة الحرارة درجة واحدة
42. تتراكم الثلوج فوق جبال ..... بالوطن العربي
43. حيث تسقط الأمطار بغزارة على منحدرات الجبال المواجهة ..... المحملة ببخار الماء
44. تسقط الأمطار على الأطراف الجنوبية للصومال وأقصى جنوب السودان في فصل .....
45. الإقليم الذي يشغل معظم مساحة الوطن العربي هو الإقليم .....
46. أكبر الأقاليم المناخية مساحة هو الإقليم ..... وأقلها مساحة هو الإقليم .....
47. أشجار الزيتون والصنوبر من أهم أشجار الإقليم .....
48. قد تسقط الأمطار على هينة ..... في بعض المناطق بالقليم الصحراوي الحار
49. تنتشر بالأقاليم الصحراوي الحار بعض النباتات التي لها القدرة على تحمل الجفاف
- والحرارة مثل نبات .....
50. تعيش بالأقاليم الصحراوي الحار حيوانات مثل ..... والزواحف
51. يقع الإقليم ..... في جنوب الوطن العربي
52. بهدف الحفاظ على الحياة البرية بما تتضمنه من نباتات طبيعية وحيوانات برية
53. ومن أشهر هذه المحميات محمية ..... في لبنان، ومحمية ..... في الأردن،
- ومحمية ..... في مصر.
54. وتتعرض المحميات إلى تهديدات بشرية منها .....
55. اتخذت معظم الدول العربية إجراءات للحفاظ على هذه المحميات مثل ..... ضماناً لحمايتها.
56. عقد مؤتمر المناخ للأمم المتحدة (COP 27) عام ٢٠٢٢م في دولة .....
57. تزداد معدلات استهلاك المياه العذبة في الوطن العربي بسبب النمو المتزايد في أعداد .....

- ٣٥ يتعرض الوطن العربي لمشكلة التصحر بسبب زحف .....
- ٣٦ تؤدي المشكلات البيئية في العديد من مناطق الوطن العربي إلى تدمير .....
- ٣٧ إنشاء المدن الذكية بالوطن العربي يقلل من انبعاث .....
- ٣٨ انطلقت مبادرة زراعة ٥٠ مليون شجرة في دولة .....
- ٣٩ موارد المياه العذبة بالوطن العربي من المقومات .....
- ٤٠ تشتهر واحة العين وواحة ليوا وواحة سيوة بزراعة أنواع مميزة من .....
- ٤١ تتركز زراعة البن في .....
- ٤٢ الزراعة توفر المواد الخام اللازمة ل .....
- ٤٣ تنتشر زراعة الموز والتين في كل من .....
- ٤٤ لنقل المنتجات الزراعية إلى مناطق الاستهلاك يلزم وجود .....
- ٤٥ المنظمة العالمية المسنولة عن الأغذية والزراعة .....
- ٤٦ يتركز إنتاج القطن والكتان في دولتي .....
- ٤٧ أكبر الدول العربية في تربية الجاموس دولة .....
- ٤٨ تعد دولة السودان أولى الدول العربية في تربية كل من .....
- ٤٩ توفر الثروة الحيوانية للصناعة المواد الخام مثل .....
- ٥٠ تهتم الدول العربية بتربية الدواجن مثل .....
- ٥١ تساهم الثروة السمكية في وطننا العربي في سد العجز من .....
- ٥٢ تعتمد دولة المغرب في إنتاج الأسماك على البحر .....
- ٥٣ المواد الخام من المقومات اللازمة لقيام .....
- ٥٤ يستخدم في صناعة الحلى ويدخل في علاج بعض الأمراض .....
- ٥٥ يستخدم في الصناعات الثقيلة والمنشآت .....
- ٥٦ صناعة يتم من خلالها تحويل المواد الخام إلى منتجات يقصد بذلك الصناعة .....
- ٥٧ تهتم الدول العربية في مجال التعدين والصناعة .....
- ٥٨ التنمية الصناعية المستدامة أدرجت ضمن أهداف .....
- ٥٩ من مقومات السياحة في الوطن العربي .....

٥٣. يقع الوطن العربي وسط قارات العالم.....
٥٤. يتمتع الوطن العربي بمناخ معتدل في فصل.....
٥٥. يوجد بالوطن العربي أنواع متعددة من السياحة منها السياحة..... والسياحة.....
٥٦. من مواقع السياحة الثقافية في الوطن العربي ..... في سوريا.
٥٧. من الأماكن المقدسة في الوطن العربي . ..... في مصر
٥٨. من القطاعات ذات الصلة بالسياحة في الوطن العربي .....
٥٩. يجتمع خبراء السياحة على مستوى الوطن العربي يوم ٢٥ فبراير الاحتفال ... ..
٦٠. أشهر المراكز التجارية الإسلامية قديما .. و..... و..... و.....
٦١. تسهم التجارة في الوطن العربي في توفير.....
٦٢. الميزان التجارى هو الفرق بين قيمة..... و .....
٦٣. تنقسم التجارة العربية إلى نوعين: تجارة..... وتجارة.....
٦٤. الصادرات والواردات بين الدول العربية يقصد بها التجارة.....
٦٥. من أسباب ضعف التجارة البينية العربية التشابه بين .....
٦٦. تستحوذ كل من الإمارات والسعودية وعمان على نحو ٩٠% من صادرات دولة.....
٦٧. التبادل التجارى عن طريق الإنترنت يعد تجارة .....
٦٨. لتنمية التجارة البينية العربية تقوم الدول بإنشاء..... وإقامة.....

### السؤال الرابع اكتب كلمة (صواب) أو (خطأ)

١. تحرص مصر على مر العصور على إقامة علاقات صداقة وتعاون مع جيرانها من الدول العربية الأخرى ( )
٢. يتمتع الوطن العربي بموقع جغرافي متميز ( )
٣. يطل الوطن العربي على أربعة مضائق مائية. ( )
٤. يحد الوطن العربي من جهة الشرق المحيط الأطلنطي. ( )
٥. قامت على أرض الوطن العربي العديد من الحضارات، منها: حضارة بلاد العراق القديم. ( )
٦. يتحكم الوطن العربي في أهم الطرق التجارية العالمية. ( )
٧. ساد النظام الملكي في شبه الجزيرة العربية قبل الإسلام. ( )

١. كانت مكة تقوم برحلة واحدة في الشتاء إلى اليمن فقط. ( )
٢. كانت حرفة الزراعة إحدى الحرف السائدة في شبه الجزيرة العربية. ( )
٣. ولد الرسول ﷺ في عام الحزن. ( )
٤. عمل الرسول ﷺ بحرفة الزراعة. ( )
٥. عرف الرسول و بالصدق والأمانة. ( )
٦. ولد الرسول يتيماً ( )
٧. الشجاعة والكرم من صفات العرب الحسنة. ( )
٨. استمرت المرحلة الأولى من الدعوة أربع سنوات. ( )
٩. نزل جبريل نه برسالة الإسلام على الرسول ﷺ في سن الأربعين. ( )
١٠. رحبت قريش بالدعوة إلى الإسلام. ( )
١١. نزل جبريل عنه على الرسول ﷺ في غار ثور. ( )
١٢. هجرة المسلمين الأولى كانت إلى يثرب. ( )
١٣. عند الجهر بالدعوة قامت قريش بحصار ومقاطعة المسلمين. ( )
١٤. استجاب لدعوة الرسول ﷺ وفود من يثرب. ( )
١٥. أمر الرسول ﷺ أصحابه بالهجرة إلى الطائف. ( )
١٦. اتفقت قريش على قتل الرسول ومنعه من الهجرة. ( )
١٧. اقتصر دور المسجد في عهد الرسول ﷺ على العبادة فقط. ( )
١٨. وضع الرسول ﷺ بعد الهجرة إلى المدينة مبادئ التعايش مع الآخر. ( )
١٩. نصت صحيفة المدينة على حرية العقيدة لغير المسلمين.
٢٠. أطلق الرسول على الطائف اسم «المدينة». ( )
٢١. كانت غزوة أحد سبباً في دخول الكثير من العرب في الإسلام. ( )
٢٢. خرج الرسول الأداء فريضة الحج في العام العاشر من الهجرة. ( )
٢٣. اجتمعت قريش في دار الحكمة لمنع الرسول ﷺ من الهجرة. ( )
٢٤. عقد المسلمون صلح الحديبية مع قريش في عام ٥ هـ ( )

١٢. انتصر المسلمون على قريش في غزوة الخندق ٣ هـ ( )
١٣. ظهر نظام الخلافة عند المسلمين بعد وفاة الرسول . ( )
١٤. كانت فترة خلافة أبي بكر الصديق أطول فترات الخلافة في عهد الخلفاء الراشدين ( )
١٥. جعل الرسول ﷺ أثناء مرضه عمر بن الخطاب إماما للمسلمين في الصلاة. ( )
١٦. نجحت الجيوش الإسلامية في عهد أبي بكر في محاربة المرتدين وعادوا إلى الإسلام. ( )
١٧. تم اختيار عمر بن الخطاب كخليفة للمسلمين بناء على رأى فردى. ( )
١٨. استكمل الخليفة عمر بن الخطاب الفتوحات الإسلامية التي بدأت في عهد الخليفة أبي بكر الصديق . ( )
١٩. قام عثمان بن عفان بتوسيع مسجد النبي واشترى بئر رومة وجعله وقفا للمسلمين. ( )
٢٠. نقل الخليفة على بن أبي طالب لمقر الخلافة الإسلامية إلى الكوفة. ( )
٢١. عين الخليفة عثمان بن عفان شرطة الحراسة بيت المال. ( )
٢٢. انتهى عصر الخلفاء الراشدين باستشهاد الخليفة عثمان بن عفان .. ( )
٢٣. التعرية المائية والهوائية من العوامل التي تؤثر على تشكيل سطح الوطن العربي. ( )
٢٤. تعد جبال أطلس التوانية. ( )
٢٥. من الجبال الانكسارية الوطن العرب جبال كردستان . ( )
٢٦. تمتد هضبة نجد في ليبيا. ( )
٢٧. من الواحات الوطن العربي واحة الكفرة بليبيا. ( )
٢٨. سهول البحر الأحمر من السهول الصالحة للزراعة. ( )
٢٩. تعد سهول نهرا دجلة والفرات في العراق من السهول الفيضية. ( )
٣٠. يمر مدار السرطان في جنوبالوطن العربي ( )
٣١. يقع وطننا العربي بين خطي طول ٦٠ شرقا و ١٧ غربا ( )
٣٢. يسود المناخ الحار في معظم أجزاء الوطن العربي، بينما يسود المناخ المعتدل في الأجزاء الشمالية. ( )
٣٣. ترتفع درجات الحرارة في المناطق الجنوبية وتنخفض كلما اتجهنا شمال الوطن العربي . ( )
٣٤. المسطحات المائية تلطف درجة الحرارة وتقلل المدى الحراري اليومي والسنوي ( )
٣٥. المناطق الساحلية القريبة من المسطحات المائية فتكون أكثر اعتدالا من المناطق الداخلية ( )

٥٥. كلما ارتفعنا ١٥٠ مترا فوق مستوى سطح البحر انخفضت درجة الحرارة درجة واحدة.
٥٦. تسقط الأمطار بغزارة على منحدرات الجبال المواجهة للرياح المحملة ببخار الماء ( )
٥٧. تعرف الجهات البعيدة عن المسطحات المائية بالمناطق الساحلية. ( )
٥٨. من الدول التي تنتمي أجزاء منها لمناخ البحر المتوسط دولة لبنان. ( )
٥٩. تنمو حشائش السافانا في إقليم البحر المتوسط. ( )
٦٠. تزدهر حشائش الإستبس في فصل الصيف. ( )
٦١. تنمو أشجار الزيتون في إقليم البحر المتوسط. ( )
٦٢. يشغل إقليم مناخ البحر المتوسط معظم مساحة وطننا العربي. ( )
٦٣. من الحيوانات التي تعيش في الإقليم الصحراوي ثعلب الصحراء والزرزواحف. ( )
٦٤. يتميز الإقليم المناخي المداري بسقوط الأمطار في فصل الشتاء. ( )
٦٥. تنتمي منطقة جنوب غرب شبه الجزيرة العربية لمناخ الإقليم الصحراوي. ( )
٦٦. إقام دول الوطن العربي العديد من المحميات الطبيعية بهدف الحفاظ على الحياة البرية ( )
٦٧. تتعرض المحميات إلى تهديدات بشرية منها الرعي الجائر ( )
٦٨. اتخذت معظم الدول العربية إجراءات للحفاظ على هذه المحميات مثل سن القوانين ضمانا لحمايتها. ( )
٦٩. الجفاف هو نقص كمية الأمطار ليومين. ( )
٧٠. يؤثر التغير المناخي على درجة الحرارة وكمية المطر. ( )
٧١. أنشئت المدن الذكية بهدف تقليل انبعاثات الغازات الدفينة. ( )
٧٢. تعرضت دولة المغرب لأكبر موجة جفاف سببت نقصا في الغذاء. ( )
٧٣. التوسع المستمر في الزراعة يؤدي إلى ندرة المياه العذبة. ( )
٧٤. يحدث التصحر في الوطن العربي بسبب استخدام طرق الري الحديثة. ( )
٧٥. يساهم القطع العشوائي للأشجار في حل مشكلة التصحر. ( )
٧٦. استخدام الأسمدة الكيماوية والمبيدات الحشرية يقلل من مشكلة التصحر. ( )
٧٧. المشكلات البيئية في الوطن العربي تهدد صحة وحياة المواطنين. ( )
٧٨. يساهم استخدام مصادر الطاقة النظيفة في حل المشكلات البيئية في الوطن العربي. ( )

٩. تتنوع مصادر المياه العذبة في الوطن العربي. ( )
١٠. تقام الزراعة في الأجزاء الجنوبية بالوطن العربي اعتمادا على الأمطار. ( )
١١. الأنهار من مصادر المياه العذبة التي ساعدت على قيام الزراعة. ( )
١٢. يتميز الوطن العربي بالطلب المتزايد على المنتجات الزراعية في الأسواق المحلية والعالمية. ( )
١٣. القمح والقطن من المحاصيل السكرية بالوطن العربي. ( )
١٤. مصر تحتل المركز الثاني في إنتاج التمور. ( )
١٥. قامت مصر باستخدام نظام الري بالرش ( )
١٦. مخلفات الأسماك تستخدم كسماد طبيعي. ( )
١٧. المنظمة المسنولة عن الأغذية والزراعة هي اليونسكو. ( )
١٨. تتنوع الثروة الحيوانية في وطننا العربي. ( )
١٩. تستخدم بعض الحيوانات في وطننا العربي في أعمال الحقل والنقل. ( )
٢٠. تعد السعودية أولى الدول العربية في تربية الإبل ( )
٢١. ترتبط الصناعة في وطننا العربي بالثروة الحيوانية. ( )
٢٢. إنتاج اللحوم الحمراء يكفي استهلاك السكان في وطننا العربي ( )
٢٣. تساهم الثروة السمكية في سد العجز من البروتين الحيواني ( )
٢٤. يفتقر الوطن العربي للمقومات اللازمة للصناعة. ( )
٢٥. تحتل مصر المرتبة الأولى في إنتاج الحديد. ( )
٢٦. تسهم الصناعة بنحو نصف الدخل القومي للوطن العربي. ( )
٢٧. يتوسع الوطن العربي في إنتاج الطاقة المتجددة مثل الطاقة الكهرومائية. ( )
٢٨. يخلو الوطن العربي من المشكلات في مجال التعدين والصناعة. ( )
٢٩. قامت بعض الدول العربية بإنتاج غاز الهيدروجين الأخضر وطاقة الرياح. ( )
٣٠. اتجهت الدول العربية إلى إنشاء المدن الصناعية الذكية. ( )
٣١. تحتفل بعض الدول بعيد العمال في الأول من مايو كل عام. ( )
٣٢. يتمتع الوطن العربي بكافة مقومات السياحة. ( )

١. يأتي السياح إلى وطننا العربي للاستمتاع بأنواع متعددة من السياحة. ( )
٢. توجد السياحة العلاجية في الوطن العربي في دولتي العراق واليمن. ( )
٣. تهتم الدول العربية بالسياحة الرياضية مثل كأس الأمم الإفريقية عام ٢٠٢١م في الجزائر. ( )
٤. تنتشر سياحة التسوق في المراكز التجارية في الإمارات والكويت والمغرب. ( )
٥. يعد النشاط السياحي من أهم الأنشطة الاقتصادية في الوطن العربي. ( )
٦. يتميز الوطن العربي بوجود كوادر بشرية مؤهلة للنشاط السياحي. ( )
٧. تبذل الدول العربية جهوداً لتحقيق السياحة المستدامة. ( )
٨. بدأ انتشار التجارة في شبه الجزيرة العربية بعد ظهور الإسلام. ( )
٩. من المراكز التجارية الإسلامية قديماً القاهرة. ( )
١٠. أسهمت التجارة في نشر الإسلام في أرجاء العالم. ( )
١١. تسهم التجارة في تعزيز العلاقات بين الدول. ( )
١٢. من مساوئ التجارة العربية انتشار البطالة. ( )
١٣. إذا زادت الصادرات عن الواردات يكون الميزان التجاري في حالة عجز. ( )
١٤. من أسباب ضعف التجارة البينية العربية وجود حواجز جمركية. ( )
١٥. يعد التبادل التجاري بين دولتي الإمارات والبحرين تجارة دولية. ( )
١٦. تنوع الصادرات العربية من أسباب ضعف التجارة البينية. ( )
١٧. من الواردات العربية المحاصيل الزراعية. ( )

## السؤال الخامس أقر الإجابة الصحيحة مما بين القوسين

١. توجد النسبة الكبرى من مساحة الوطن العربي في قارة .....

- أ. آسيا      ب. إفريقيا      ج. أوروبا      د. أستراليا

٢. يقع البحر المتوسط بالنسبة للوطن العربي جهة .....

- أ. الشمال      ب. الجنوب      ج. الشرق      د. الغرب

١٠. يحدها الوطن العربي غربا المحيط.....

١. الهندي      ٢. الأطلنطي      ٣. الهادي      ٤. القطبي

١١. يشغل الوطن العربي مساحة ١٣ مليون كيلو متر مربع ويضم عدد..... دولة

١. 22      ٢. 33      ٣. 44      ٤. 12

١٢. يبلغ عدد الممرات المائية التي يتحكم فيها الوطن العربي..... ممرات

١. ثلاثة      ٢. أربعة      ٣. خمسة      ٤. ستة

١٣. يمر في جنوب الوطن العربي المحيط.....

١. الهادي      ٢. الأطلنطي      ٣. الهندي      ٤. القطبي

١٤. يوجد بالوطن العربي أماكن مقدسة مثل الجامع الأزهر الذي يوجد في دولة.....

١. مصر      ٢. فلسطين      ٣. السعودية      ٤. الجزائر

١٥. أصغر الدول العربية من حيث المساحة هي دولة.....

١. المغرب      ٢. الجزائر      ٣. البحرين      ٤. العراق

١٦. تطل دولتنا السعودية ومصر على البحر.....

١. الأحمر      ٢. المتوسط      ٣. الميت      ٤. الأسود

١٧. ولد الرسول ﷺ في مدينة.....

١. يثرب      ٢. الطائف      ٣. مكة      ٤. ثقيف

١٨. رحلة أهل مكة في فصل الشتاء كانت إلى.....

١. اليمن      ٢. الشام      ٣. يثرب      ٤. مصر

١٩. من الصفات الحسنة عند العرب قبل الإسلام.....

١. وأد البنات      ٢. شرب الخمر      ٣. الوفاء بالعهد      ٤. الأخذ بالثأر

٢٠. إحدى الحرف التي كانت سائدة في شبه الجزيرة العربية قبل الإسلام.....

١. الزراعة      ٢. السياحة      ٣. الصناعة      ٤. الرعي

٢١. عمل الرسول بحرفة..... عندما كان في بيت عمه أبي طالب

١. الرعي      ٢. التجارة      ٣. الزراعة      ٤. الصناعة

٢٢. ولد الرسول بمكة في الثاني عشر من شهر.....

١. ربيع الأول      ٢. ربيع الآخر      ٣. رمضان      ٤. شوال

٢٣. إحدى مراحل الدعوة واستمرت ثلاث سنوات هي الدعوة.....

١. السرية      ٢. الجهرية      ٣. البناء      ٤. الفتح

17. نزل جبريل على الرسول في إحدى ليالي شهر .....

- ا. رجب      ب. شعبان      ج. رمضان      د. شوال

18. كانت هجرة المسلمين الثانية إلى مدينة .....

- ا. الحبشة      ب. يثرب      ج. الطائف      د. حنين

19. كانت هجرة المسلمين الاولى إلى .....

- ا. الحبشة      ب. يثرب      ج. الطائف      د. حنين

20. اشتد إيذاء قريش للرسول أمر أصحابه بالهجرة إلى .....

- ا. الطائف      ب. يثرب      ج. تبوك      د. مكة

21. انتصر المسلمون رغم قلة عددهم على قريش في غزوة .....

- ا. بدر      ب. أحد      ج. الخندق      د. تبوك

22. أشار على النبي ﷺ بحفر خندق حول المدينة .....

- ا. أبو بكر الصديق      ب. عمر بن الخطاب      ج. سلمان الفارسي      د. علي بن أبي طالب

23. اتفق النبي مع قريش في صلح الحديبية على إيقاف الحرب لمدة ... سنوات.

- ا. سبع      ب. ثماني      ج. تسع      د. عشر

24. غزوة انتصر فيها المسلمون على قريش دون قتال .....

- ا. بدر      ب. أحد      ج. الخندق      د. تبوك

25. تحول نصر المسلمين إلى هزيمة في غزوة .....

- ا. بدر      ب. أحد      ج. الخندق      د. تبوك

26. منعت قريش الرسول وأصحابه في العام السادس الهجري من دخول .....

- ا. يثرب      ب. الطائف      ج. مكة      د. حنين

27. ارتدت بعض القبائل عن الإسلام في عهد الخليفة .....

- ا. أبي بكر الصديق      ب. عمر بن الخطاب      ج. عثمان بن عفان      د. علي بن أبي طالب

28. امتدت الفتوحات الإسلامية في عهد الخليفة عمر بن الخطاب إلى .....

- ا. اليمن وعمان      ب. مصر وليبيا      ج. مصر والشام      د. اليمن ومصر

29. اشترك الخليفة عثمان بن عفان في العديد من الغزوات ما عدا غزوة .....

- ا. بدر      ب. أحد      ج. الخندق      د. تبوك

30. بنى مسجد عمرو بن العاص في مصر في عهد الخليفة .....

- ا. أبي بكر الصديق      ب. عمر بن الخطاب      ج. عثمان بن عفان      د. علي بن أبي طالب

31. آخر الخلفاء الراشدين هو الخليفة .....

- ا. ابو بكر الصديق      ب. عمر بن الخطاب      ج. عثمان بن عفان      د. علي بن أبي طالب

32. أعلى نقطة في الوطن العربي في جبل .....

- ا. توبقال      ب. زاجروس      ج. عمان      د. طوروس

٣٣. أدنى نقطة في الوطن العربي والعالم وهي البحر ..... في الأردن

- ا. المتوسط      ب. الأحمر      ج. الميت      د. العربي

٣٤. تكونت الجبال بالوطن العربي نتيجة .....

- ا. الحركات الانكسارية و الالتوائية      ب. الثورات البركانية      ج. التعرية الهوائية      د. التعرية المانية

٣٥. من العوامل الباطنية التي تؤثر في تشكيل سطح الوطن العربي .....

- ا. الحركات الالتوائية      ب. التعرية الهوائية      ج. التعرية المانية      د. التعرية الجليدية

٣٦. من الجبال الالتوائية في الوطن العربي جبال.....

- ا. البحر الأحمر      ب. الشام      ج. كردستان      د. عسير

٣٧. من الجبال الانكسارية في العربي جبال.....

- ا. عسير      ب. كردستان      ج. زاغروس      د. أطلس

٣٨. تعرف جبال البحر الأحمر في شبة الجزيرة العربية باسم .....

- ا. عمان      ب. جبال الحجاز وعسير      ج. جبال أطلس      د. جبال زاغروس

٣٩. تقع هضبة حضرموت في ..... شبه الجزيرة العربية.

- ا. شمال      ب. جنوب      ج. شرق      د. وسط

٤٠. يعد وادي..... من أشهر الأودية الجافة في السعودية .

- ا. النيل      ب. الفرات      ج. العلاقي      د. الجريز

٤١. من العوامل الباطنية التي تؤثر في تشكيل سطح الأرض.....

- ا. التعرية المانية      ب. التعرية الهوائية      ج. الحركات الانكسارية      د. التعرية الساحلية

٤٢. من آثار التعرية الهوائية.....

- ا. السهول الفيضية      ب. الأودية الجافة      ج. السهول الساحلية      د. الكثبان الرملية

٤٣. من الجبال الالتوائية في وطننا العربي جبال.....

- ا. البحر الأحمر      ب. كردستان      ج. عسير      د. اليمن

٤٤. تعرف جبال البحر الأحمر باسمها في دولتي مصر و.....

- ا. جمهورية السودان      ب. ليبيا      ج. السعودية      د. اليمن

٤٥. تقع هضبة حضرموت في..... شبه الجزيرة العربية.

- ا. شمال      ب. جنوب      ج. شرق      د. وسط

٤٦. من أمثلة الواحات في الوطن العربي واحة..... بمصر

- ا. سيوة      ب. الشام      ج. صالح      د. الكفرة

٤٧. تكونت الاودية الجافة نتيجة .....

ا. التعرية المائية ب. التعرية الهوائية ج. الحركات الانكسارية د. التعرية الساحلية

٤٨. تنتمي الأجزاء الشمالية لدولة ..... إلى مناخ البحر المتوسط.

ا. الجزائر ب. السودان ج. موريتانيا د. الصومال

٤٩. تسقط الأمطار على إقليم البحر المتوسط في فصل .....

ا. الشتاء ب. الصيف ج. الخريف د. الربيع

٥٠. تزدهر حشائش الإستبس في فصل .....

ا. الصيف ب. الشتاء ج. الخريف د. الربيع

٥١. من أشجار إقليم البحر المتوسط شجر .....

ا. الزيتون ب. السنط ج. الشربين د. الصبار

٥٢. يشغل إقليم المناخ ..... معظم مساحة الوطن العربي.

ا. البحر المتوسط ب. الصحراوي ج. المداري د. الاستوائي

٥٣. جنوب غرب شبه الجزيرة العربية ينتمي إلى إقليم المناخ .....

ا. الصحراوي ب. المداري ج. الاستوائي د. البحر المتوسط

٥٤. تنتمي الأجزاء الشمالية لدولة ..... إلى مناخ البحر المتوسط

ا. المغرب ب. السودان ج. موريتانيا د. الصومال

٥٥. تنمو حشائش الاستبس في إقليم مناخ .....

ا. الصحراوي ب. الاستوائي ج. المداري د. البحر المتوسط

٥٦. تنمو حشائش السافانا في إقليم .....

ا. البحر المتوسط ب. الصحراوي ج. الاستوائي د. المداري

٥٧. يعد الصنوبر من أهم أشجار إقليم .....

ا. المدارية ب. الاستوائية ج. الموسمية د. البحر المتوسط

٥٨. يمكن تقسيم الوطن العربي إلى ..... أقاليم مناخية .

ا. أربعة ب. سنة ج. خمسة د. ثلاثة

٥٩. من أهم الحيوانات في الإقليم الصحراوي .....

ا. الماعز ب. الأغنام ج. الإبل د. ثعلب الصحراء

٦. تعيش الحيوانات في حشائش السافانا مثل .....

- ا. الأغنام      ب. الماعز      ج. الابل      د. الأسود

٦.١. يعاني نحو ثلثي مساحة الوطن العربي من مشكلة.....

- ا. الجفاف      ب. التصحر      ج. ندرة المياه العذبة      د. قلة المراعي الطبيعية

٦.٢. أكثر الدول العربية التي تعرضت لخطر الجفاف دولة.....

- ا. الصومال      ب. المغرب      ج. العراق      د. البحرين

٦.٣. تدهور الأرض وتناقص قدرتها على الإنتاج، تشير العبارة لتعريف.....

- ا. الجفاف      ب. الفيضان      ج. التصحر      د. السيول

٦.٤. إحدى الدول العربية التي أطلقت مبادرة لزيادة المساحات الخضراء.....

- ا. اليمن      ب. سوريا      ج. لبنان      د. مصر

٦.٥. أعلن عن إنشاء مدينة نيوم الخضراء بدولة .....

- ا. المغرب      ب. مصر      ج. السعودية      د. الجزائر

٦.٦. واحة مصرية تم تصنيفها كأحد مواقع التراث الزراعي العالمي هي .....

- ا. الخارجة      ب. الداخلة      ج. سيوة      د. الفرافرة

٦.٧. تعتمد الزراعة في الصحاري العربية على مياه .....

- ا. البحار      ب. المحيطات      ج. الأنهار      د. الآبار والعيون

٦.٨. تعتمد الزراعة في الأجزاء الشمالية من الوطن العربي على مياه .....

- ا. الأنهار      ب. التحلية      ج. الأمطار      د. الجوفية

٦.٩. من المقومات الطبيعية التي ساعدت على قيام الزراعة .....

- ا. الأيدي العاملة      ب. وسائل النقل      ج. السوق      د. المناخ

٧. يتركز إنتاج الألياف في الوطن العربي في دولة .....

- ا. السعودية      ب. المغرب      ج. ليبيا      د. مصر

٧.١. تحتفل الدول العربية يوم ٢٧ سبتمبر بيوم .....

- ا. السياحة      ب. الزراعة      ج. الصناعة      د. التجارة

٧.٢. تشغل المراعي الطبيعية في الوطن العربي نحو.....مساحته

- ا. ربع      ب. خمس      ج. ثلث      د. ثمن

٧٣. تعد مصر.....الدول العربية في تربية الجاموس

- ا. أولى      ب. ثانية      ج. ثالثة      د. رابعة

٧٤. أولى الدول العربية في تربية الأبقار هي دولة .....

- ا. مصر      ب. الجزائر      ج. السودان      د. المغرب

٧٥. أولى الدول العربية في تربية الدواجن هي دولة .....

- ا. السعودية      ب. الجزائر      ج. المغرب      د. مصر

٧٦. تعد المغرب أولى الدول العربية في إنتاج الأسماك : لأنها تطل على .....

- ا. البحر الأحمر      ب. البحر الأسود      ج. المحيط الأطلنطي      د. المحيط الهندي

٧٧. أقامت مصر مشروع المليون رأس ماشية في محافظة.....

- ا. القاهرة      ب. الشرقية      ج. الغربية      د. البحيرة

٧٨. يستخدم في صناعة المبيدات الحشرية.....

- ا. الحديد      ب. المنجنيز      ج. الفحم      د. الفوسفات

٧٩. دولة عربية تحتل المرتبة الأولى في إنتاج الحديد.....

- ا. اليمن      ب. ليبيا      ج. موريتانيا      د. مصر

٨٠. تحتل مصر المركز الثاني عربياً في إنتاج معدن .....

- ا. الألومنيوم      ب. الذهب      ج. الحديد      د. الفوسفات

٨١. ينتج الوطن العربي من البترول أكثر من .....الإنتاج العالمي.

- ا. نصف      ب. ثلث      ج. ربع      د. عشر

٨٢. تأتي قطر في المركز الأول عالمياً في إنتاج.....

- ا. البترول      ب. الغاز الطبيعي      ج. الحديد      د. الفوسفات

٨٣. مصر تعد الدولة الأولى عربياً في صناعة.....

- ا. الحديد والصلب      ب. البلاستيك      ج. السيارات      د. الطائرات

٨٤. يقوم السياح بزيارة المواقع الأثرية في القيروان بدولة .....

- ا. مصر      ب. العراق      ج. سوريا      د. تونس

٨٥. يهدف السياح إلى زيارة بعض الأماكن للعلاج والاستشفاء مثل زيارة ..... في دولة الأردن

- ا. عيون موسى      ب. عين ماعين      ج. عيون موسى      د. بحيرة عسل

٨٦. يعد حضور السياح كأس العالم لكرة القدم في قطر عام ٢٠٢٢ م سياحة .....

- ا. ثقافية      ب. ترفيهية      ج. رياضية      د. بينية

٥٧. تعتمد سياحة التسوق على زيارة أضخم المراكز التجارية وأحدثها كما في دولة .....

- ا. اليمن      ب. العراق      ج. الإمارات      د. ليبيا

٥٨. تقوم السياحة البيئية على زيارة المناطق .....

- ا. الزراعية      ب. الساحلية      ج. الصحراوية      د. النهرية

٥٩. حضور السياح لكأس الأمم الإفريقية لكرة اليد عام ٢٠٢٢ م يعد سياحة .....

- ا. ثقافية      ب. ترفيهية      ج. بنية      د. رياضية

٦٠. مدينة مصرية استطاعت تطبيق المعايير الدولية للسياحة المستدامة هي .....

- ا. الفردقة      ب. شرم الشيخ      ج. مرسى علم      د. مرسى مطروح

٦١. حصلت دولة الأردن عام ٢٠٢٠ م في مجال تحقيق السياحة المستدامة المرتبة .....

- ا. الأولى      ب. الثانية      ج. الثالثة      د. الرابعة

٦٢. دولة عربية توجد بها المدينة البيئية الأولى في العالم هي .....

- ا. العراق      ب. الكويت      ج. المغرب      د. الإمارات

٦٣. تم اختيارها كعاصمة للسياحة العربية عام ٢٠٢٣ م، مدينة .....

- ا. دبي      ب. الإسكندرية      ج. الدوحة      د. بغداد

٦٤. توفر التجارة العربية العملات .....

- ا. العربية      ب. الأجنبية      ج. المحلية      د. الإقليمية

٦٥. تسهم التجارة في تحسين .....

- ا. الميزان التجاري      ب. السلع الأجنبية      ج. الخدمات المحلية      د. الصناعة العربية

٦٦. وجود حواجز جمركية بين الدول العربية يعد من أسباب .....

- ا. تنمية      ب. ازدهار      ج. قوة      د. ضعف

٦٧. أى من الدول التالية تشترك في منطقة التجارة الحرة العربية ؟

- ا. جيبوتي      ب. الصومال      ج. السودان      د. موريتانيا

٦٨. أى من التجمعات العربية التالية انضمت لليبيا إليها ؟

- ا. اتحاد دول المغرب العربي      ب. مجلس التعاون لدول الخليج

- ج. دول الاتحاد الأوروبي      د. دول اتحاد الكوميسا

٦٩. تتمثل أعلى نسبة صادرات عربية من .....

- ا. الوقود      ب. المصنوعات      ج. السيارات      د. المياه

٧٠. يعد اختراق خصوصية العميل وسرقة البيانات في التجارة الإلكترونية من .....

- ا. إيجابياتها      ب. سلبياتها      ج. أهميتها      د. أسبابها

## السؤال السادس صوب ما تحته خط

1. يحد الوطن العربي من جهة الشمال جبال زاجروس.
2. يمتد الوطن العربي في قارتي آسيا وأوروبا.
3. قامت على أرض الوطن العربي العديد من الحضارات القديمة، ومنها الحضارة الرومانية.
4. الموقع الوطن العربي أهمية دينية لوجود العديد من الممرات المائية.
5. يطل الوطن العربي من جهة الشرق على خليج عدين.
6. أكبر دول الوطن العربي من حيث المساحة هي دولة ليبيا.
7. كان نظام الحكم السائد في شبه الجزيرة العربية النظام الملكى.
8. كانت رحلة قريش شتاء إلى الشام.
9. الأخذ بالثأر من العادات الحسنة عند العرب قبل الإسلام.
10. ولد الرسول ﷺ في يثرب.
11. نزلت رسالة الإسلام على الرسول ﷺ في غار ثور.
12. أمر الرسول ﷺ بالهجرة إلى يثرب، لأن بها ملكا لا يظلم عنده أحد.
13. استمرت الدعوة الجهرية إلى الإسلام ثلاث سنوات.
14. استجاب إلى دعوة الرسول ﷺ وفود من ثقيف.
15. كانت أول مرحلتين للدعوة إلى الإسلام في يثرب.
16. أول من آمن برسول الله (ص) وشارك في جميع فتوحاته هو عمر بن الخطاب.
17. قبائل عربية خرجت عن الإسلام ورفضت دفع الزكاة الخوارج.
18. من أعمال أبي بكر الصديق رضي الله عنه انشاء الدواوين.
19. ادعى النبوة بعد وفاة الرسول (ص) عبدالرحمن بن ملجم.
20. استشهد عدد كبير من حفظة القرآن الكريم في حروب العراق.
21. من أعمال عمر بن الخطاب رضي الله عنه انشاء الاسطول.
22. كتابة القرآن الكريم في مصحف واحد من أهم أعمال الخليفة أبي بكر الصديق.
23. من أعمال الخليفة عثمان بن عفان التقويم الهجري.
24. نقل على بن ابي طالب رضي الله عنه الخلافة من المدينة الى بغداد.
25. ينتج عن التعرية الهوائية أشكال تضاريسية مثل الأودية الجافة.
26. جبال أطلس من الجبال الانكسارية في الوطن العربي.
27. تمتد هضبة أفريقيا الشمالية من المحيط الأطلنطي غربا حتى البحر المتوسط شرقا.
28. تقع هضبة نجد جنوب شبه الجزيرة العربية.

٣٠٠ من الواحات في الجزائر واحة سيوة.

١. أكبر الأقاليم المناخية بالوطن العرق مساحة الإقليم المداري.
٢. يعد السنط أهم أشجار الإقليم البحر المتوسط.
٣. من الحيوانات التي تعيش في حشائش السافانا بالوطن العربي الأغنام والماعز.
٤. نقص كمية الأمطار بما لا يسمح بالزراعة ونمو الحشائش، تشير العبارة إلى التصحّر.
٥. سببت موجة الجفاف حدوث مجاعة لأكثر من مليون شخص في دولة تونس.
٦. تتناقص قدرة الأرض على الإنتاج بسبب استخدام طرق الري الحديثة.
٧. تعمل الدول العربية على حل مشكلات البيئة بإقامة مساكن مستقرة السياح.
٨. يمكن حل المشكلات البيئية عن طريق زيادة المناطق السكنية.
٩. واحة العين توجد بدولة السعودية.
١٠. الآبار والعيون من مصادر المياه المالحة التي تساهم في قيام الزراعة.
١١. الأيدي العاملة المدربة من المقومات الطبيعية لقيام الزراعة.
١٢. تتركز زراعة البن في دولة الهند في الوطن العر.
١٣. تحتل السودان المرتبة الأولى عربيا في إنتاج الحديد.
١٤. يدخل الفوسفات في صناعة الطائرات.
١٥. تعد دولة المغرب الأولى عربيا في إنتاج الذهب.
١٦. السعودية تحتل المركز الأول في إنتاج الفوسفات على مستوى العالم.
١٧. الصناعة التحويلية تعنى استخراج المعادن ومصادر الطاقة.
١٨. تحتل المركز الأول في صناعة الحديد والصلب في الوطن العربي دولة اليمن.
١٩. تأثرت البيئة إيجابيا بالصناعة.

## السؤال السابع اكتب ما تشتر اية كل عبارة

١. الموقع بالنسبة لليابس والماء.
٢. تولى رعاية الرسول ﷺ بعد وفاة جده عبد المطلب.
٣. زوجة الرسول ﷺ أثناء بداية نزول الوحي.
٤. نزل على الرسول ﷺ برسالة الإسلام.
٥. ملك الحبشة الذي هاجر إليه المسلمون في بداية الدعوة.
٦. مكان اتفقت فيه قريش على قتل الرسول ومنعه من الهجرة.
٧. الدستور الأول لحقوق الإنسان في المدينة.
٨. اسم أطلق على يثرب بعد هجرة النبي إليها.
٩. صلح ثم بين المسلمين وقريش عام ٦ هـ.

١. شكل من أشكال الحكم اتبعه المسلمون بعد وفاة الرسول يقوم على اختيار من يتولى أمورهم.
١١. تقويم بدأ بهجرة الرسول ﷺ من مكة إلى المدينة ..
١٢. نظام أنشأه الخليفة عمر بن الخطاب لإدارة بيت المال والجند.
١٣. نظام أنشئ في عهد الخليفة علي بن أبي طالب بهدف الحفاظ على أمن وسلامة المواطنين.
١٤. حركات باطنية إلى تكوين سلاسل جبلية مرتفعة مثل جبال أطلس.
١٥. أرض تقام فيها الزراعة اعتمادا على المياه الجوفية ويعيش فيها بعض السكان.
١٦. أودية كانت بها المياه قديما جفت.
١٧. سهول كونتها الأنهار طريق ترسيب المواد العالقة بمياهها .
١٨. إقليم مناخي يمتد على الأطراف الشمالية للوطن العربي.
١٩. حشائش تنمو في إقليم مناخ البحر المتوسط وتربي عليها الأغنام والماعز.
٢٠. إقليم مناخي يشغل معظم مساحة الوطن العربي .

٢١. إقليم مناخي يتميز بارتفاع درجات الحرارة وسقوط الأمطار صيفا، واعتدال درجات الحرارة وسيادة الجفاف شتاء

٢٢. مشكلة تحدث نتيجة لزيادة استهلاك المياه
٢٣. نقص كمية الأمطار في بعض السنوات بما لا يسمح بالزراعة أو نمو الحشائش.
٢٤. تدهور الأراضي وتناقص قدرتها على الإنتاج.
٢٥. دولة عربية تعرضت لأكبر موجة جفاف.
٢٦. أحد المقومات البشرية اللازمة لإقامة المشروعات الزراعية وشراء الآلات الزراعية.
٢٧. مورد مائي يوجد بالصحراء وتقوم عليه الزراعة.
٢٨. توجد حول مجارى الأنهار وهى من المقومات الطبيعية لقيام الزراعة.
٢٩. أحد المقومات البشرية تستخدم في نقل المنتجات الزراعية إلى مناطق الاستهلاك.
٣٠. دولة عربية يتركز بها زراعة البن
٣١. نشاط اقتصادى بلغ نسبة العاملين فيه %١٥ من جملة سكان الوطن العربي.
٣٢. زراعة لا تعتمد على وجود تربة، وتستهلك كمية مياه أقل من الزراعة المعتمدة على التربة.
٣٣. ينتج منه الوطن العربي %٣ من جملة الإنتاج العالمي، ويدخل في صناعة الحلوى.
٣٤. دولة عربية تحتل المركز الأول عربيا في إنتاج الذهب
٣٥. معدن يستخدم فى كثير من الصناعات الثقيلة والمنشآت والكبرى.
٣٦. وصل إنتاج الوطن العربي منه نحو ربع الإنتاج العالمي.
٣٧. مصدر للطاقة بلغ إنتاج الوطن العربي منه نحو %١٧ من الإنتاج العالمي.
٣٨. تعد أولى الدول العربية فى إنتاج البترول.
٣٩. نشاط اقتصادى يعمل فيه نحو %٢٢ من إجمالى القوة العاملة فى الوطن العربي.

٤. زيارة المواقع الأثرية والتراثية.
- ٤.١. زيارة الشواطئ والرحلات النيلية.
- ٤.٢. زيارة الأماكن المقدسة.
- ٤.٣. زيارة بعض الأماكن بهدف الاستشفاء والعلاج.
- ٤.٤. المدينة البنينة الأولى في العالم.
- ٤.٥. مدينة مصرية استطاعت تطبيق المعايير الدولية للسياحة المستدامة.
- ٤.٦. دولة عربية حصلت المرتبة الأولى في المنطقة لتحقيق السياحة المستدامة.
- ٤.٧. مدينة عربية تم اختيارها كأول عاصمة للسياحة العربية عام ٢٠١٠م.
- ٤.٨. يقصد بها الصادرات والواردات من السلع والخدمات بين الدول العربية.
- ٤.٩. يقصد بها الصادرات والواردات بين دول الوطن العربي وباقي دول العالم.
٥. تبادل السلع والخدمات باستخدام الإنترنت.
- ٥.١. بين قيمة الصادرات والواردات خلال عام.

### السؤال السابع لمن تنسب الاعمال الآتية

١. قائد جيش المسلمين في عهد أبي بكر الصديق الله المحاربة الروم.
٢. أمره الخليفة أبو بكر الصديق الله يجمع القرآن.
٣. ادعى النبوة بعد وفاة الرسول.
٤. وضع التقويم الهجرى وفتح بلاد العراق وبلاد فارس والشام ومصر.
٥. اشترك في العديد من الغزوات ما عدا غزوة بدر.
٦. قائد جيش المسلمين في عهد أبي بكر الصديق الله المحاربة الروم.
٧. أمره الخليفة أبو بكر الصديق الله يجمع القرآن.
٨. ادعى النبوة بعد وفاة الرسول.
٩. قام بكتابة القرآن في مصحف واحد وتوزيعه على كل البلاد الإسلامية.
١٠. أمر بإنشاء أول أسطول بحرى في الإسلام.
١١. أول من قام بتنظيم الشرطة في الدولة الإسلامية.

### السؤال الثامن فسر العبارات الآتية

١. يمتلك الوطن العربي عوامل وحدته.
٢. يمتاز الوطن العربي بأهميته الدينية.

3. تسمية عام الفيل بهذا الاسم.

4. عمل النبي (ﷺ) في رعي الأغنام.

5. بدأت الدعوة الإسلامية سرا.

6. محاربة قريش للدعوة الإسلامية في بدايتها.

7. أمر النبي (ﷺ) أصحابه بالهجرة إلى الحبشة.

8. أخى الرسول (ﷺ) بين المهاجرين والأنصار.

9. هجرة النبي (ﷺ) إلى يثرب.

10. قيام الرسول (ﷺ) ببناء المسجد.

11. اختيار المسلمين لأبي بكر الصديق الخلافة النبي (ﷺ).

12. أمر عثمان بن عفان بإنشاء أول أسطول بحري.

13. قيام علي بن أبي طالب بنقل مقر الخلافة إلى الكوفة.

14. أهمية الواحات في وطننا العربي.

15. نشأة التجمعات الرملية في صحاري الوطن العربي.

16. أهمية الأودية الجافة بالوطن العربي.

17. تكون السهول الفيضية في الوطن العربي.

18. مناخ مدينة الإسكندرية أكثر اعتدالا من مناخ مدينة الرياض.

19. يقل تأثير المسطحات المائية على المناخ في الوطن العربي بشكل عام.

٣٠. تنخفض درجات الحرارة وتتكون الثلوج فوق الجبال.

٣١. يؤثر اتجاه المرتفعات على كمية الأمطار.

٣٢. تتنوع الأقاليم المناخية في الوطن العربي.

٣٣. إنشاء الدول العربية للمحميات الطبيعية.

٣٤. يعانى الوطن العربي من ندرة المياه العذبة.

٣٥. حدوث التصحر.

٣٦. إنشاء المدن الذكية.

٣٧. أهمية رأس المال ووسائل النقل في قيام الزراعة.

٣٨. أهمية الزراعة في الوطن العربي.

٣٩. مصر أولى الدول العربية تربية للجاموس.

٤٠. اهتمام الدول العربية بتربية الدواجن.

٤١. الثروة الحيوانية لها أهمية كبيرة في الوطن العربي.

٤٢. أهمية إنتاج الذهب في الوطن العربي.

٤٣. الحديد له أهمية كبيرة في وطننا العربي.

٤٤. خام الفوسفات له أهمية اقتصادية كبيرة في الوطن العربي.

٤٥. الصناعة من أهم الأنشطة الاقتصادية في الوطن العربي.

٤٦. أهمية السياحة كمنشأ اقتصادي في الوطن العربي.

٣٧. أهمية التجارة للوطن العربي.

٣٨. ضعف التجارة البينية بين الدول العربية.

٣٩. تتعدد فوائد التجارة الإلكترونية.

## السؤال التاسع ما النتائج المترتبة علي

١. الأهمية الاقتصادية لوطننا العربي

٢. انتشار الإسلام في شبه الجزيرة العربية.

٣. غزوة بدر عام ٢ هـ.

٤. غزوة أحد ٣ هـ.

٥. استجابة النبي (ﷺ) لرأى سلمان الفارسي بحفر خندق حول المدينة.

٦. نجاح الرسول (ﷺ) في عقد صلح الحديبية عام ٦ هـ.

٧. نقض قريش لصلح الحديبية.

٨. استشهاد عدد كبير من حفظة القرآن الكريم في حروب المرتدين.

٩. الموقع الفلكي للوطن العربي بالنسبة للمناخ.

1. حلول فصل الصيف على الوطن العربي.

10. تعامد الشمس على مدار الجدي بالنسبة للوطن العربي

11. تنوع الأقاليم المناخية في الوطن العربي

12. معاناة الصومال من أكبر موجة جفاف

13. المشكلات البيئية في الوطن العربي

14. شهرة واحة العين بدولة الإمارات العربية المتحدة بزراعة أنواع مميزة من النخيل

15. تنوع المناخ في الوطن العربي

16. وجود عجز في البروتين الحيواني بالوطن العربي

## السؤال الثالث دال علي صحة العبارات

1. يتحكم الوطن العربي في معرات مائية مهمة عالميا

2. خط الرسول (ﷺ) للهجرة بشكل جيد

3. الهضاب هي أكثر أشكال السطح انتشارا في وطننا العربي

4. يؤثر المناخ على الطيران

١. تنوع مشكلات الصناعة والتعدين في الوطن العربي.

٢. تنوع الصادرات العربية خارج حدود الدول العربية.

## السؤال الحادي عشر

### أجب عما يلي

١. اكتب الظواهر الطبيعية المحيطة بالوطن العربي

٢. قارن بين الصفات الحسنة والعادات السيئة للعرب قبل الإسلام.

٣. أحوال شبه الجزيرة العربية قبل ظهور الإسلام السياسية والاقتصادية والثقافية.

٤. حدد مراحل الدعوة الإسلامية

٥. أسس بناء الدولة الإسلامية.

٦. ما العلاقة بين صلح الحديبية - فتح مكة ؟

٧. سجل أهم أعمال عمر بن الخطاب

٨. قارن بين خصائص سهول البحر الأحمر وسهول البحر المتوسط.

٩. قارن بين إقليم مناخ البحر المتوسط وإقليم المناخ الصحراوي الحار من حيث الموقع والخصائص المناخية.

1. ما الفرق بين التيارات البحرية الدفينة والتيارات البحرية الباردة؟

11. حدد: العوامل المؤثرة على مناخ الوطن العربي.

12. حدد اثنين من جهود الدول العربية لحل المشكلات البيئية.

13. حدد ثلاثة من أشهر المحميات الطبيعية في الوطن العربي.

14. ما أبرز الحيوانات البرية والنباتات الطبيعية التي تنمو في إقليم المناخ المداري داخل الوطن العربي؟

15. وضح بمثال جهود إحدى الدول العربية لحماية البيئة.

16. قارن بين المقومات الطبيعية والمقومات البشرية لقيام الزراعة.

17. مقومات قيام الصناعة.

18. ما العلاقة بين مصر وإنتاج المحاصيل الزراعية في الوطن العربي؟

19. حدد: اثنين من مواقع التراث الزراعي العالمي داخل الوطن العربي.

20. حدد اثنين من مشكلات الثروة السمكية في الوطن العربي.

21. الدولة الأولى عربيا في كل من: تربية الأبقار - تربية الإبل - تربية الدواجن - إنتاج المزارع السمكية).

22. الدولة الأولى عربيا في كل من (استخراج الحديد - استخراج الذهب - استخراج الغاز الطبيعي).

33. وضح جهود الدول العربية لتنمية الثروة السمكية.

34. ما أهم مقومات السياحة في الوطن العربي؟

# الاستفوق

في الدراسات الاجتماعية

اعداد /  
مستر حاتم عاطف

20  
24



سلسلة

# المتفوق

في الدراسات الاجتماعية

اعداد /

مستر حاتم عاطف



6

الصف السادس الابتدائي  
الفصل الدراسي الاول

اكونت المتفوق  
على فيسبوك



قناة المتفوق  
على يوتيوب



جروب المتفوق  
على تيليجرام



المراجعة النهائية



بنك أسئلة على المنهج



السؤال الأول أمامك خريطة للوطن العربي مدلول الأرقام



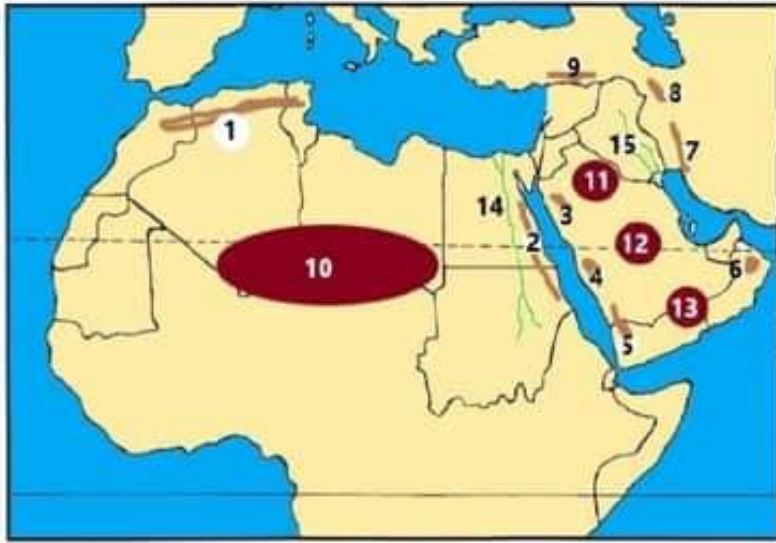
1. البحر المتوسط
2. البحر الاحمر
3. البحر العربي
4. خليج عدن
5. خليج عمان
6. الخليج العربي
7. المحيط الهندي
8. المحيط الاطلنطي
9. جبال زاغروس
10. جبال طوروس

أمامك خريطة لمضايق الوطن العربي



1. مضيق هرمز
2. مضيق باب المندب
3. مضيق جبل طارق
4. قناة السويس
5. أكبر دولة عربية الجزائر
6. أصغر دولة عربية البحرين

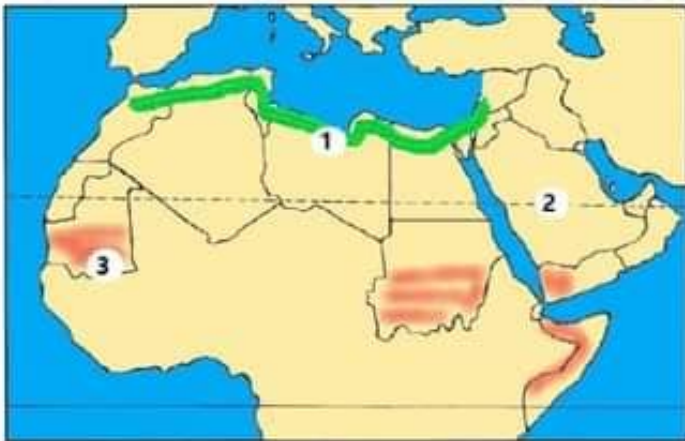
أمامك خريطة لتضاريس للوطن العربي



1. جبال أطلس
2. جبال البحر الاحمر
3. جبال الحجاز
4. جبال عسير
6. جبال مرتفعات اليمن
6. جبال عمان
7. جبال زاغروس
8. جبال كردستان
9. جبال طوروس

1. هضبة أفريقيا الشمالية
11. هضبة بادية الشام
12. هضبة نجد
13. هضبة حضر موت
14. نهر النيل
15. نهري دجلة و الفرات

أمامك خريطة للاقاليم المناخية للوطن العربي



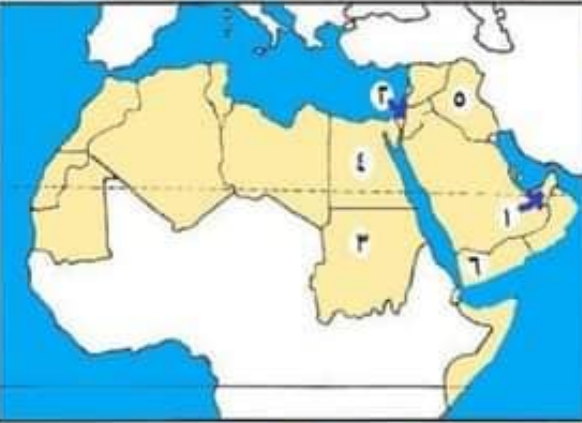
1. إقليم مناخي البحر المتوسط
2. إقليم مناخي الصحراوي
3. إقليم مناخي المداري

لاحظ الخريطة ثم أجب



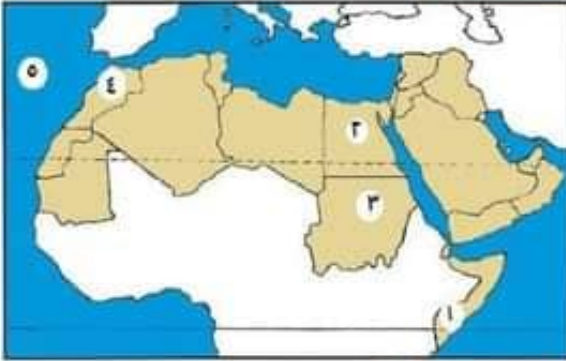
١. الدولة التي تعرضت لأكبر موجة جفاف الصومال
٢. دولة أعلنت بناء مدينة نيوم الخضراء السعودية
٣. أطلقت مبادرة لزراعة ١٠٠ مليون شجرة مصر

لاحظ الخريطة ثم أجب



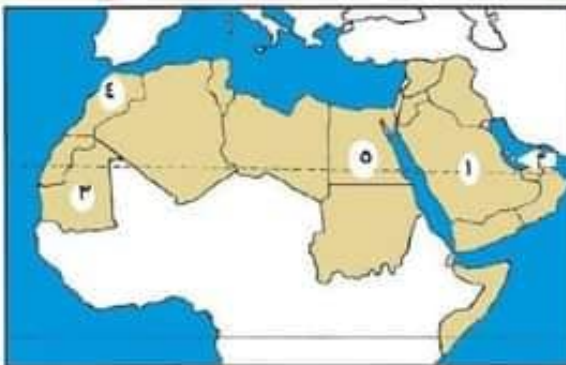
١. دولة يتم فيها زراعة الواحات اعتمادا على المياه الجوفية الامارات
٢. دولة يزرع بها العنب فلسطين
٣. دولة تتركز بها زراعة الكتان السودان
٤. دولة تنتج التمور مصر
٥. دولة تقوم فيها زراعة الموز العراق
٦. دولة تتركز بها زراعة البن اليمن

لاحظ الخريطة ثم أجب



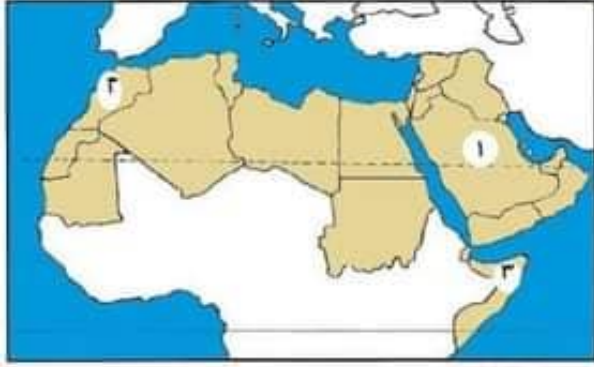
١. أولى الدول في تربية الإبل الصومال
٢. أولى الدول في تربية الجاموس مصر
٣. أولى الدول في تربية الأبقار السودان
٤. أولى الدول في صيد الأسماك من المصايد المغرب
٥. سواحل تطل عليها دول المغرب المحيط الاطلنطي

لاحظ الخريطة ثم أجب



١. أولى الدول إنتاجا للبترول السعودية
٢. أولى الدول إنتاجا للغاز الطبيعي قطر
٣. أولى الدول العربية إنتاجا للحديد موريتانيا
٤. أولى الدول المنتجة للفوسفات المغرب
٥. أولى الدول في صناعة الحديد والصلب مصر

## لاحظ الخريطة ثم أجب



1. دولة منضمة لمجلس التعاون لدول الخليج العربي السعودية
2. دولة مشتركة في اتفاقية أغادير واتحاد دول المغرب العربي  
المغرب
3. دولة غير منضمة إلى أى اتحاد الصومال

## السؤال الثاني أهم المفاهيم والمصطلحات

|                     |   |
|---------------------|---|
| النظام القبلي       | قبائل متفرقة، وكان لكل قبيلة شيخ يحكمها.                                    |
| المهاجرون           | الذين هاجروا من مكة إلى المدينة.  |
| الأنصار             | سكان المدينة الذين نصروا الرسول (ﷺ) في دعوته.                               |
| المرتدون            | قبائل عربية رفضت دفع الزكاة بعد وفاة الرسول (ﷺ)، وادعى بعضهم النبوة.        |
| الجبال الالتوائية   | نشأت نتيجة حركات باطنية (التوائية) تعرضت لها الأرض مثل جبال أطلس            |
| الجبال الانكسارية   | نشأت نتيجة حدوث انكسار (حركات انكسارية في قشرة الأرض مثل جبال البحر الأحمر. |
| التيارات البحرية    | حركة مياه البحار والمحيطات.   |
| الإقليم المناخي     | منطقة جغرافية من سطح الأرض تتسم بخصائص مناخية تميزها عن غيرها.              |
| الجفاف              | نقص كمية الأمطار في بعض السنوات بما لا يسمح بالزراعة أو نمو الحشائش.        |
| التصحّر             | تدهور الأرض وتناقص قدرتها على الإنتاج.                                      |
| الزراعة المائية     | مزارع الزراعة الخضراوات بدون تربة.  |
| الصناعات التحويلية  | تحويل المواد الخام لمنتجات صالحة للاستخدام.                                 |
| الصناعة الاستخراجية | استخراج المعادن ومصادر الطاقة.  |
| السياحة الثقافية    | تشمل زيارة المواقع الأثرية والتراثية مثل الأقصر في مصر.                     |

|                             |  |
|-----------------------------|--|
| السياحة الترفيهية           | تتضمن زيارة الشواطئ كما في مصر ولبنان والرحلات النيلية في أسوان بمصر.      |
| السياحة الدينية             | تتمثل في زيارة الأماكن المقدسة كالكعبة المشرفة في السعودية.                |
| السياحة العلاجية            | تتمثل في زيارة بعض الأماكن بهدف الاستشفاء والعلاج كالعيون الكبريتية بسيوة. |
| سياحة المؤتمرات والمعارض    | تتمثل في حضور المؤتمرات والمعارض الدولية، كما في مصر وقطر وغيرها.          |
| السياحة البيئية             | تتضمن سياحة السفاري وزيارة المحميات الطبيعية والمناطق الصحراوية.           |
| السياحة الرياضية            | حضور المسابقات الرياضية المختلفة مثل كأس العالم لكرة القدم بقطر ٢٠٢٢م.     |
| سياحة التسوق                | زيارة أضخم المراكز التجارية وأحدثها، كما في الإمارات والكويت والبحرين.     |
| التجارة البينية             | الصادرات والواردات من السلع والخدمات بين الدول العربية.                    |
| التجارة الخارجية (الدولية). | الصادرات والواردات بين دول الوطن العربي وباقي دول العالم.                  |
| التجارة الإلكترونية         | تبادل السلع والخدمات باستخدام شبكة المعلومات الدولية (الإنترنت).           |

## أكمل العبارات الآتية

## السؤال الثالث

١. يقع الوطن العربي وسط قارات العالم القديم.
٢. تمتد أراضي الوطن العربي في قارتي آسيا وأوروبا.
٣. يحد الوطن العربي من الجنوب المحيط الهندي والبحر العربي والصحراء الكبرى.
٤. توجد النسبة الكبرى من مساحة الوطن العربي في قارة أفريقيا.
٥. أكبر الدول العربية من حيث المساحة دولة الجزائر.
٦. يتحكم الوطن العربي في ممرات مانية مهمة منها قناة السويس.
٧. يحد الوطن العربي من جهة الشرق خليج عمان والخليج العربي.
٨. يطل الوطن العربي على المحيط الهندي والمحيط الأطلسي.
٩. أشهر قبائل العرب قبل الإسلام قبيلة قريش.
١٠. قام أهل مكة برحلة الصيف إلى بلاد الشام.
١١. نظام الحكم السائد في شبه الجزيرة العربية قبل الإسلام النظام القبلي.
١٢. ولد الرسول ﷺ في شهر ربيع الأول.
١٣. عمل الرسول وهو في بيت عمه بحرفة رعي الأغنام.

14. من العادات السينة عند العرب قبل الإسلام شرب الخمر و لعب الميسر
15. كانت أول هجرة للمسلمين إلى الحبشة
16. كان الرسول متزوجاً من السيدة خديجة أثناء بداية نزول الوحي.
17. نزل جبريل اليه على الرسول في غار حراء
18. دعا الرسول أهل يثرب إلى الإسلام في موسم الحج
19. أمر الرسول ﷺ أصحابه بالهجرة إلى يثرب
20. اتفقت قريش في دار الندوة على قتل الرسول.
21. هاجر الرسول إلى يثرب وأخى بين المهاجرين والانصار
22. تحولت دعوة الإسلام إلى مرحلة العالمية بعد صلح الحديبية
23. الذي أشار على النبي ﷺ بحفر خندق حول المدينة هو سلمان الفارسي
24. انتصر المسلمون على قريش عام ٢ هـ في غزوة بدر
25. أحد أسس بناء الدولة وكان مقراً للحكم المسجد
26. جهز الرسول ﷺ قبل وفاته جيشاً بقيادة أسامة بن زيد إلى الشام
27. أوصى الخليفة أبو بكر الصديق لعمر بن الخطاب بتولي الخلافة من بعده.
28. اتخذ الخليفة عمر بن الخطاب من هجرة الرسول إلى المدينة بداية التقويم الهجري
29. أنشأ الخليفة عمر بن الخطاب عدداً من الدواوين مثل ديوان الجند وديوان بيت المال
30. امتدت الفتوحات الإسلامية في عهد الخليفة عمر بن الخطاب له في بلاد الشام وبلاد العراق
31. تولى خلافة المسلمين بعد استشهاد عمر بن الخطاب الخليفة عثمان بن عفان
32. خصص يوماً للنظر في مظالم الناس الخليفة علي بن ابي طالب
33. يقع وطننا العربي بين خطي طول 60 شرقاً و 17 غرباً، وبين دائرتي عرض 2 جنوباً و 37.5 شمالاً،
34. تمر دائرة الاستواء في جنوب الوطن العربي
35. ترتفع درجات الحرارة في المناطق الجنوبية بالوطن العربي وتنخفض كلما اتجهنا شمالاً.
36. يسود المناخ الحار في معظم أجزاء الوطن العربي، بينما يسود المناخ المعتدل في الأجزاء الشمالية.
37. يقترب الوطن العربي من قارة أوروبا
38. تهب رياح شديدة البرودة من أوروبا وآسيا شتاءً، ورياح حارة من جنوب آسيا صيفاً
39. المناطق الساحلية القريبة من المسطحات المائية فتكون أكثر اعتدالاً من المناطق الداخلية
40. المسطحات المائية تلطف درجة الحرارة وتقلل المدى الحراري اليومي والسنوي
41. كلما ارتفعنا 150 متراً فوق مستوى سطح البحر انخفضت درجة الحرارة درجة واحدة
42. تتراكم الثلوج فوق جبال لبنان بالوطن العربي
43. تسقط الأمطار بغزارة على منحدرات الجبال المواجهة للرياح المحملة ببخار الماء

- ٤٤ تسقط الأمطار على الأطراف الجنوبية للصومال وأقصى جنوب السودان في فصل الصيف.
- ٤٥ الإقليم الذي يشغل معظم مساحة الوطن العربي هو الإقليم الصحراوي.
- ٤٦ أكبر الأقاليم المناخية مساحة هو الإقليم الصحراوي وأقلها مساحة هو الإقليم البحر المتوسط.
- ٤٧ أشجار الزيتون والصنوبر من أهم أشجار الإقليم البحر المتوسط.
- ٤٨ قد تسقط الأمطار على هيئة سيول في بعض المناطق بالإقليم الصحراوي الحار.
- ٤٩ تنتشر بالإقليم الصحراوي الحار بعض النباتات التي لها القدرة على تحمل الجفاف والحرارة مثل نبات الصبار.
- ٥٠ تعيش بالإقليم الصحراوي الحار حيوانات مثل ثعلب الصحراء والزواحف.
- ٥١ يقع الإقليم المداري في جنوب الوطن العربي.
- ٥٢ المحميات بهدف الحفاظ على الحياة البرية بما تتضمنه من نباتات طبيعية وحيوانات برية.
- ٥٣ ومن أشهر هذه المحميات محمية ارز الشوف في لبنان، ومحمية ضانا في الأردن، ومحمية جبل علبه في مصر.
- ٥٤ وتعرض المحميات إلى تهديدات بشرية منها الرعي الجائر.
- ٥٥ اتخذت معظم الدول العربية إجراءات للحفاظ على هذه المحميات مثل سن القوانين ضمانا لحمايتها.
- ٥٦ عقد مؤتمر المناخ للأمم المتحدة 27 (COP) عام ٢٠٢٢م في دولة مصر.
- ٥٧ تزداد معدلات استهلاك المياه العذبة في الوطن العربي بسبب النمو المتزايد في أعداد السكان.
- ٥٨ يتعرض الوطن العربي لمشكلة التصحر بسبب زحف الكثبان الرملية.
- ٥٩ تؤدي المشكلات البيئية في العديد من مناطق الوطن العربي إلى تدمير الحياة النباتية.
- ٦٠ إنشاء المدن الذكية بالوطن العربي يقلل من انبعاث الغازات الدفينة.
- ٦١ انطلقت مبادرة زراعة ٤٥٠ مليون شجرة في دولة السعودية.
- ٦٢ موارد المياه العذبة بالوطن العربي من المقومات الطبيعية.
- ٦٣ تشتهر واحة العين وواحة ليوا وواحة سيوة بزراعة أنواع مميزة من النخيل.
- ٦٤ تتركز زراعة البن في اليمن.
- ٦٥ الزراعة توفر المواد الخام اللازمة للصناعة.
- ٦٦ تنتشر زراعة الموز والتين في كل من مصر والعراق وفلسطين.
- ٦٧ لنقل المنتجات الزراعية إلى مناطق الاستهلاك يلزم وجود وسائل النقل.
- ٦٨ المنظمة العالمية المسنولة عن الأغذية والزراعة الفاو.
- ٦٩ يتركز إنتاج القطن والكتان في دولتي مصر والسودان.
- ٧٠ أكبر الدول العربية في تربية الجاموس دولة مصر.
- ٧١ تعد دولة السودان أولى الدول العربية في تربية كل من الابقار والاعنام.
- ٧٢ توفر الثروة الحيوانية للصناعة المواد الخام مثل اللحوم والالبان.

٧٣. تهتم الدول العربية بتربية الدواجن مثل الدجاج والبط.
٧٤. تساهم الثروة السمكية في وطننا العربي في سد العجز من البروتين الحيواني.
٧٥. تعتمد دولة المغرب في إنتاج الأسماك على البحر المتوسط والمحيط الاطلنطي.
٧٦. المواد الخام من المقومات اللازمة لقيام الصناعة.
٧٧. يستخدم في صناعة الحلوى ويدخل في علاج بعض الأمراض الذهب.
٧٨. يستخدم في الصناعات الثقيلة والمنشآت الحديد.
٧٩. صناعة يتم من خلالها تحويل المواد الخام إلى منتجات يقصد بذلك الصناعة التحويلية.
٨٠. تهتم الدول العربية في مجال التعدين والصناعة بالتعليم والبحث العلمي.
٨١. التنمية الصناعية المستدامة أدرجت ضمن أهداف التنمية المستدامة.
٨٢. من مقومات السياحة في الوطن العربي تنوع المناطق السياحية والتراثية.
٨٣. يقع الوطن العربي وسط قارات العالم القديم.
٨٤. يتمتع الوطن العربي بمناخ معتدل في فصل الشتاء.
٨٥. يوجد بالوطن العربي أنواع متعددة من السياحة منها السياحة الثقافية والسياحة العلاجية.
٨٦. من مواقع السياحة الثقافية في الوطن العربي تدمر في سوريا.
٨٧. من الأماكن المقدسة في الوطن العربي دير سانت كاترين في مصر.
٨٨. من القطاعات ذات الصلة بالسياحة في الوطن العربي شركات الطيران.
٨٩. يجتمع خبراء السياحة على مستوى الوطن العربي يوم ٢٥ فبراير الاحتفال بيوم.
٩٠. أشهر المراكز التجارية الإسلامية قديماً جدة وصنعاء والبصرة والإسكندرية.
٩١. تسهم التجارة في الوطن العربي في توفير العملات الأجنبية.
٩٢. الميزان التجاري هو الفرق بين قيمة الصادرات والواردات.
٩٣. تنقسم التجارة العربية إلى نوعين: تجارة داخلية وتجارة دولية.
٩٤. الصادرات والواردات بين الدول العربية يقصد بها التجارة البيئية.
٩٥. من أسباب ضعف التجارة البيئية العربية التشابه بين السلع والخدمات.
٩٦. تستحوذ كل من الإمارات والسعودية وعمان على نحو ٩٠% من صادرات دولة البحرين.
٩٧. التبادل التجاري عن طريق الإنترنت يعد تجارة إلكترونية.
٩٨. لتنمية التجارة البيئية العربية تقوم الدول بإنشاء العديد من التجمعات العربية وإقامة المعارض الدائمة.

أو السنوية

أكتب كلمة (هواب) أو (خطأ)

السؤال الرابع

١. تحرص مصر على مر العصور على إقامة علاقات صداقة وتعاون مع جيرانها من الدول العربية الأخرى (صح)
٢. يتمتع الوطن العربي بموقع جغرافي متميز (صح)

3. يطل الوطن العربي على أربعة مضائق مائية. ( صح )
4. يحد الوطن العربي من جهة الشرق المحيط الأطلنطي. ( خطأ )
5. قامت على أرض الوطن العربي العديد من الحضارات، منها: حضارة بلاد العراق القديم. (صح)
6. يتحكم الوطن العربي في أهم الطرق التجارية العالمية. ( صح )
7. ساد النظام الملكي في شبه الجزيرة العربية قبل الإسلام. ( خطأ )
8. كانت مكة تقوم برحلة واحدة في الشتاء إلى اليمن فقط. ( خطأ )
9. كانت حرفة الزراعة إحدى الحرف السائدة في شبه الجزيرة العربية. ( صح )

1. ولد الرسول ﷺ في عام الحزن. (خطأ)

1.1. عمل الرسول ﷺ بحرفة الزراعة. ( خطأ )

1.2. عرف الرسول و بالصدق والأمانة. ( صح )

1.3. ولد الرسول يتيما ( صح )

1.4. الشجاعة والكرم من صفات العرب الحسنة. ( صح )

1.5. استمرت المرحلة الأولى من الدعوة أربع سنوات. ( خطأ )

1.6. نزل جبريل نه برسالة الإسلام على الرسول ﷺ في سن الأربعين. ( صح )

1.7. رحبت قريش بالدعوة إلى الإسلام. ( خطأ )

1.8. نزل جبريل على الرسول ﷺ في غار ثور ( خطأ )

1.9. هجرة المسلمين الأولى كانت إلى يثرب. ( خطأ )

2. عند الجهر بالدعوة قامت قريش بحصار ومقاطعة المسلمين. ( صح )

2.1. استجاب لدعوة الرسول ﷺ وفود من يثرب. ( صح )

2.2. أمر الرسول ﷺ أصحابه بالهجرة إلى الطائف. ( خطأ )

2.3. اتفقت قريش على قتل الرسول ومنعه من الهجرة. ( صح )

2.4. اقتصر دور المسجد في عهد الرسول ﷺ على العبادة فقط. ( خطأ )

2.5. وضع الرسول ﷺ بعد الهجرة إلى المدينة مبادئ التعايش مع الآخر. ( صح )

2.6. نصت صحيفة المدينة على حرية العقيدة لغير المسلمين. (صح)

أطلق الرسول على الطائف اسم «المدينة». ( خطأ )

كانت غزوة أحد سبباً في دخول الكثير من العرب في الإسلام. ( خطأ )

خرج الرسول الأداء فريضة الحج في العام العاشر من الهجرة. ( )

اجتمعت قريش في دار الحكمة لمنع الرسول ﷺ من الهجرة. ( خطأ )

عقد المسلمون صلح الحديبية مع قريش في عام ٥ هـ. ( خطأ )

انتصر المسلمون على قريش في غزوة الخندق ٣ هـ. ( خطأ )

ظهر نظام الخلافة عند المسلمين بعد وفاة الرسول. ( صح )

كانت فترة خلافة أبي بكر الصديق أطول فترات الخلافة في عهد الخلفاء الراشدين ( خطأ )

جعل الرسول ﷺ أثناء مرضه عمر بن الخطاب إماماً للمسلمين في الصلاة. ( خطأ )

نجحت الجيوش الإسلامية في عهد أبي بكر في محاربة المرتدين وعادوا إلى الإسلام. ( صح )

تم اختيار عمر بن الخطاب كخليفة للمسلمين بناء على رأى فردي. ( خطأ )

استكمل الخليفة عمر بن الخطاب الفتوحات الإسلامية التي بدأت في عهد الخليفة أبي بكر الصديق (صح)

قام عثمان بن عفان بتوسيع مسجد النبي واشترى بئر رومة وجعله وقفاً للمسلمين. ( صح )

نقل الخليفة علي بن أبي طالب لمقر الخلافة الإسلامية إلى الكوفة. ( صح )

عين الخليفة عثمان بن عفان شرطة الحراسة بيت المال. ( خطأ )

انتهى عصر الخلفاء الراشدين باستشهاد الخليفة عثمان بن عفان .. ( خطأ )

التعرية المانية والهوانية من العوامل التي تؤثر على تشكيل سطح الوطن العربي. ( صح )

تعد جبال أطلس التوانية. ( صح )

من الجبال الانكسارية الوطن العرب جبال كردستان. ( خطأ )

تمتد هضبة نجد في ليبيا. ( خطأ )

من الواحات الوطن العربي واحة الكفرة بليبيا. ( صح )

سهول البحر الأحمر من السهول الصالحة للزراعة. ( خطأ )

تعد سهول نهرا دجلة والفرات في العراق من السهول الفيضية. ( صح )

يمر مدار السرطان في جنوب الوطن العربي (خطأ)

٥١. يقع وطننا العربي بين خطي طول ٦٠ شرقا و ١٧ غربا (صح)
٥٢. يسود المناخ الحار في معظم أجزاء الوطن العربي، بينما يسود المناخ المعتدل في الأجزاء الشمالية. (صح)
٥٣. ترتفع درجات الحرارة في المناطق الجنوبية وتنخفض كلما اتجهنا شمال الوطن العربي. (صح)
٥٤. المسطحات المائية تلطف درجة الحرارة وتقلل المدى الحراري اليومي والسنوي (صح)
٥٥. المناطق الساحلية القريبة من المسطحات المائية فتكون أكثر اعتدالا من المناطق الداخلية (صح)
٥٦. كلما ارتفعنا ١٥٠ مترا فوق مستوى سطح البحر انخفضت درجة الحرارة درجة واحدة (صح)
٥٧. تسقط الأمطار بغزارة على منحدرات الجبال المواجهة للرياح المحملة ببخار الماء (صح)
٥٨. تعرف الجهات البعيدة عن المسطحات المائية بالمناطق الساحلية. (خطأ)
٥٩. من الدول التي تنتمي أجزاء منها لمناخ البحر المتوسط دولة لبنان. (صح)
٦٠. تنمو حشائش السافانا في إقليم مناخ البحر المتوسط. (خطأ)
٦١. تزدهر حشائش الإستبس في فصل الصيف. (خطأ)
٦٢. تنمو أشجار الزيتون في إقليم البحر المتوسط. (صح)
٦٣. يشغل إقليم مناخ البحر المتوسط معظم مساحة وطننا العربي. (خطأ)
٦٤. من الحيوانات التي تعيش في الإقليم الصحراوي ثعلب الصحراء والزرواحف. (صح)
٦٥. يتميز الإقليم المناخي المداري بسقوط الأمطار في فصل الشتاء. (خطأ)
٦٦. تنتمي منطقة جنوب غرب شبه الجزيرة العربية لمناخ الإقليم الصحراوي. (خطأ)
٦٧. إقام دول الوطن العربي العديد من المحميات الطبيعية بهدف الحفاظ على الحياة البرية (صح)
٦٨. تتعرض المحميات إلى تهديدات بشرية منها الرعي الجائر (صح)
٦٩. اتخذت معظم الدول العربية إجراءات للحفاظ على هذه المحميات مثل سن القوانين ضمانا لحمايتها. (صح)
٧٠. الجفاف هو نقص كمية الأمطار ليومين. (خطأ)
٧١. يؤثر التغير المناخي على درجة الحرارة وكمية المطر. (صح)
٧٢. أنشئت المدن الذكية بهدف تقليل انبعاثات الغازات الدفينة. (صح)
٧٣. تعرضت دولة المغرب لأكبر موجة جفاف سببت نقصا في الغذاء. (خطأ)
٧٤. التوسع المستمر في الزراعة يؤدي إلى ندرة المياه العذبة. (صح)

- 75 يحدث التصحر في الوطن العربي بسبب استخدام طرق الري الحديثة (خطأ).
- 76 يساهم القطع العشوائي للأشجار في حل مشكلة التصحر. (خطأ)
- 77 استخدام الأسمدة الكيماوية والمبيدات الحشرية يقلل من مشكلة التصحر (خطأ).
- 78 المشكلات البيئية في الوطن العربي تهدد صحة وحياة المواطنين (صح).
- 79 يساهم استخدام مصادر الطاقة النظيفة في حل المشكلات البيئية في الوطن العربي (صح)
- 80 تتنوع مصادر المياه العذبة في الوطن العربي. (صواب)
- 81 تقام الزراعة في الأجزاء الجنوبية بالوطن العربي اعتمادا على الأمطار. ( صواب)
- 82 الأنهار من مصادر المياه العذبة التي ساعدت على قيام الزراعة. (صواب)
- 83 يتميز الوطن العربي بالطلب المتزايد على المنتجات الزراعية في الأسواق المحلية والعالمية. (صواب)
- 84 القمح والقطن من المحاصيل السكرية بالوطن العربي. (خطأ)
- 85 مصر تحتل المركز الثاني في إنتاج التمور. (خطأ)
- 86 قامت مصر باستخدام نظام الري بالرش (صواب)
- 87 مخلفات الأسماك تستخدم كسماد طبيعي. (صواب)
- 88 المنظمة المسنولة عن الأغذية والزراعة هي اليونسكو. (خطأ)
- 89 تتنوع الثروة الحيوانية في وطننا العربي. (صواب)
- 90 تستخدم بعض الحيوانات في وطننا العربي في أعمال الحقل والنقل. ( صواب)
- 91 تعد السعودية أولى الدول العربية في تربية الإبل (خطأ)
- 92 ترتبط الصناعة في وطننا العربي بالثروة الحيوانية. (صواب)
- 93 إنتاج اللحوم الحمراء يكفي استهلاك السكان في وطننا العربي (خطأ)
- 94 تساهم الثروة السمكية في سد العجز من البروتين الحيواني (صواب)
- 95 يفتقر الوطن العربي للمقومات اللازمة للصناعة. (خطأ)
- 96 تحتل مصر المرتبة الأولى في إنتاج الحديد. (خطأ)
- 97 تساهم الصناعة بنحو نصف الدخل القومي للوطن العربي. (خطأ)
- 98 يتوسع الوطن العربي في إنتاج الطاقة المتجددة مثل الطاقة الكهرومائية. (صواب)

٥٥. يخلو الوطن العربي من المشكلات في مجال التعدين والصناعة. ( خطأ )
١. قامت بعض الدول العربية بإنتاج غاز الهيدروجين الأخضر وطاقة الرياح. ( صواب )
- ١ ١. اتجهت الدول العربية إلى إنشاء المدن الصناعية الذكية. ( صواب )
- ١ ٢. تحتفل بعض الدول بعيد العمال في الأول من مايو كل عام. ( صواب )
- ١ ٣. يتمتع الوطن العربي بكافة مقومات السياحة. ( صواب )
- ١ ٤. يأتي السياح إلى وطننا العربي للاستمتاع بأنواع متعددة من السياحة. ( صواب )
- ١ ٥. توجد السياحة العلاجية في الوطن العربي في دولتي العراق واليمن. ( خطأ )
- ١ ٦. تهتم الدول العربية بالسياحة الرياضية مثل كأس الأمم الإفريقية عام 2022م في الجزائر ( خطأ )
- ١ ٧. تنتشر سياحة التسوق في المراكز التجارية في الإمارات والكويت والمغرب ( خطأ )
- ١ ٨. يعد النشاط السياحي من أهم الأنشطة الاقتصادية في الوطن العربي. ( صواب )
- ١ ٩. يتميز الوطن العربي بوجود كوادر بشرية مؤهلة للنشاط السياحي. ( صواب )
- ١ ١٠. تبذل الدول العربية جهوداً لتحقيق السياحة المستدامة. ( صواب )
- ١ ١١. بدأ انتشار التجارة في شبه الجزيرة العربية بعد ظهور الإسلام. ( خطأ )
- ١ ١٢. من المراكز التجارية الإسلامية قديماً القاهرة ( خطأ )
- ١ ١٣. أسهمت التجارة في نشر الإسلام في أرجاء العالم. ( صواب )
- ١ ١٤. تسهم التجارة في تعزيز العلاقات بين الدول. ( صواب )
- ١ ١٥. من مساوئ التجارة العربية انتشار البطالة. ( خطأ )
- ١ ١٦. إذا زادت الصادرات عن الواردات يكون الميزان التجاري في حالة عجز. ( خطأ )
- ١ ١٧. من أسباب ضعف التجارة البينية العربية وجود حواجز جمركية. ( صواب )
- ١ ١٨. يعد التبادل التجاري بين دولتي الإمارات والبحرين تجارة دولية. ( خطأ )
- ١ ١٩. تنوع الصادرات العربية من أسباب ضعف التجارة البينية. ( خطأ )
- ١ ٢٠. من الواردات العربية المحاصيل الزراعية. ( صواب )

## السؤال الخامس أكثر الإجابة الصحيحة مما بين القوسين

١. توجد النسبة الكبرى من مساحة الوطن العربي في قارة .....

- ا. آسيا      ب. إفريقيا      ج. أوروبا      د. أستراليا

٢. يقع البحر المتوسط بالنسبة للوطن العربي جهة .....

- ا. الشمال      ب. الجنوب      ج. الشرق      د. الغرب

٣. يحدها الوطن العربي غربا المحيط .....

- ا. الهندي      ب. الأطلسي      ج. الهادي      د. القطبي

٤. يشغل الوطن العربي مساحة ١٣ مليون كيلو متر مربع ويضم عدد..... دولة.

- ا. 22      ب. 33      ج. 44      د. 12

٥. يبلغ عدد الممرات المائية التي يتحكم فيها الوطن العربي..... ممرات

- ا. ثلاثة      ب. أربعة      ج. خمسة      د. ستة

٦. يمر في جنوب الوطن العربي المحيط .....

- ا. الهادي      ب. الأطلسي      ج. الهندي      د. القطبي

٧. يوجد بالوطن العربي أماكن مقدسة مثل الجامع الأزهر الذي يوجد في دولة.....

- ا. مصر      ب. فلسطين      ج. السعودية      د. الجزائر

٨. أصغر الدول العربية من حيث المساحة هي دولة.....

- ا. المغرب      ب. الجزائر      ج. البحرين      د. العراق

٩. تطل دولتنا السعودية ومصر على البحر.....

- ا. الأحمر      ب. المتوسط      ج. الميت      د. الأسود

١٠. ولد الرسول ﷺ في مدينة.....

- ا. يثرب      ب. الطائف      ج. مكة      د. ثقيف

١١. رحلة أهل مكة في فصل الشتاء كانت إلى.....

- ا. اليمن      ب. الشام      ج. يثرب      د. مصر

١٢. من الصفات الحسنة عند العرب قبل الإسلام .....

١. وأد البنات      ب. شرب الخمر      ج. الوفاء بالعهد      د. الأخذ بالنار
١٣. إحدى الحرف التي كانت سائدة في شبه الجزيرة العربية قبل الإسلام .....
١٤. عمل الرسول بحرفة .....
١٥. ولد الرسول بمكة في الثاني عشر من شهر .....
١٦. إحدى مراحل الدعوة واستمرت ثلاث سنوات هي الدعوة .....
١٧. نزل جبريل على الرسول في إحدى ليالي شهر .....
١٨. كانت هجرة المسلمين الثانية إلى مدينة .....
١٩. كانت هجرة المسلمين الأولى إلى .....
٢٠. اشتد إيذاء قريش للرسول أمر أصحابه بالهجرة إلى .....
٢١. انتصر المسلمون رغم قلة عددهم على قريش في غزوة .....
٢٢. أشار على النبي ﷺ بحفر خندق حول المدينة .....
٢٣. أبو بكر الصديق      ب. عمر بن الخطاب      ج. سلمان الفارسي      د. علي بن أبي طالب
٢٤. اتفق النبي مع قريش في صلح الحديبية على إيقاف الحرب لمدة .. سنوات.
٢٥. غزوة انتصر فيها المسلمون على قريش دون قتال .....
٢٦. تحول نصر المسلمين إلى هزيمة في غزوة .....
٢٧. منعت قريش الرسول وأصحابه في العام السادس الهجري من دخول .....
٢٨. ارتدت بعض القبائل عن الإسلام في عهد الخليفة .....
٢٩. امتدت الفتوحات الإسلامية في عهد الخليفة عمر بن الخطاب إلى .....
٣٠. اشترك الخليفة عثمان بن عفان في العديد من الغزوات ما عدا غزوة .....

١. أ. بدر ب. أحد ج. الخندق د. تبوك

٢. بني مسجد عمرو بن العاص في مصر في عهد الخليفة.....

١. أبي بكر الصديق ب. عمر بن الخطاب ج. عثمان بن عفان د. علي بن أبي طالب

٣. آخر الخلفاء الراشدين هو الخليفة.....

١. أبو بكر الصديق ب. عمر بن الخطاب ج. عثمان بن عفان د. علي بن أبي طالب

٤. أعلى نقطة في الوطن العربي في جبل..... في المغرب

١. توبقال ب. زاجروس ج. عمان د. طوروس

٥. أدنى نقطة في الوطن العربي والعالم وهي البحر..... في الأردن

١. المتوسط ب. الأحمر ج. الميت د. العربي

٦. تكونت الجبال بالوطن العربي نتيجة.....

١. الحركات الانكسارية و الالتوائية ب. الثورات البركانية ج. التعرية الهوائية د. التعرية المائية

٧. من العوامل الباطنية التي تؤثر في تشكيل سطح الوطن العربي.....

١. الحركات الالتوائية ب. التعرية الهوائية ج. التعرية المائية د. التعرية الجليدية

٨. من الجبال الالتوائية في الوطن العربي جبال.....

١. البحر الأحمر ب. الشام ج.  كردستان د. عسير

٩. من الجبال الانكسارية في العربي جبال.....

١. عسير ب. كردستان ج. زاجروس د. أطلس

١٠. تعرف جبال البحر الأحمر في شبه الجزيرة العربية باسم.....

١. عمان ب. جبال الحجاز وعسير ج. جبال أطلس د. جبال زاجروس

١١. تقع هضبة حضرموت في..... شبه الجزيرة العربية.

١. شمال ب. جنوب ج. شرق د. وسط

١٢. يعد وادي..... من أشهر الأودية الجافة في السعودية.

١. النيل ب. الفرات ج. العلاقي د. الجرير

١٣. من العوامل الباطنية التي تؤثر في تشكيل سطح الأرض.....

١. التعرية المائية ب. التعرية الهوائية ج. الحركات الانكسارية د. التعرية الساحلية

١٤. من آثار التعرية الهوائية.....

١. السهول الفيضية ب. الأودية الجافة ج. السهول الساحلية د. الكثبان الرملية

١٥. من الجبال الالتوائية في وطننا العربي جبال.....

١. البحر الأحمر ب.  كردستان ج. عسير د. اليمن

١٤٤. تعرف جبال البحر الأحمر باسمها في دولتي مصر و.....

- أ. جمهورية السودان      ب. ليبيا      ج. السعودية      د. اليمن

١٤٥. تقع هضبة حضرموت في..... شبه الجزيرة العربية.

- أ. شمال      ب. جنوب      ج. شرق      د. وسط

١٤٦. من أمثلة الواحات في الوطن العربي واحة..... بمصر

- أ. سيوة      ب. الشام      ج. صالح      د. الكفرة

١٤٧. تكونت الودية الجافة نتيجة.....

- أ. التعرية المائية      ب. التعرية الهوائية      ج. الحركات الانكسارية      د. التعرية الساحلية

١٤٨. تنتمي الأجزاء الشمالية لدولة..... إلى مناخ البحر المتوسط.

- أ. الجزائر      ب. السودان      ج. موريتانيا      د. الصومال

١٤٩. تسقط الأمطار على إقليم البحر المتوسط في فصل.....

- أ. الشتاء      ب. الصيف      ج. الخريف      د. الربيع

١٥٠. تزدهر حشائش الإستبس في فصل.....

- أ. الصيف      ب. الشتاء      ج. الخريف      د. الربيع

١٥١. من أشجار إقليم البحر المتوسط شجر.....

- أ. الزيتون      ب. السنط      ج. الشربين      د. الصبار

١٥٢. يشغل إقليم المناخ..... معظم مساحة الوطن العربي.

- أ. البحر المتوسط      ب. الصحراوي      ج. المداري      د. الاستوائي

١٥٣. جنوب غرب شبه الجزيرة العربية ينتمي إلى إقليم المناخ.....

- أ. الصحراوي      ب. المداري      ج. الاستوائي      د. البحر المتوسط

١٥٤. تنتمي الأجزاء الشمالية لدولة..... إلى مناخ البحر المتوسط

- أ. المغرب      ب. السودان      ج. موريتانيا      د. الصومال

١٥٥. تنمو حشائش الاستبس في إقليم مناخ.....

- أ. الصحراوي      ب. الاستوائي      ج. المداري      د. البحر المتوسط

١٥٦. تنمو حشائش السافانا في إقليم.....

١. البحر المتوسط      ب. الصحراوي      ج. الاستوائي      د. المداري

٢. يعد الصنوبر من أهم أشجار إقليم.....

٣. ا. المدارية      ب. الاستوائية الاختيار 2      ج. الموسمية      د. البحر المتوسط

٤. يمكن تقسيم الوطن العربي إلى.....أقاليم مناخية .

٥. ا. أربعة      ب. سنة      ج. خمسة      د. ثلاثة

٦. من أهم الحيوانات في الإقليم الصحراوي.....

٧. ا. الماعز      ب. الأغنام      ج. الابل      د. ثعلب الصحراء

٨. تعيش الحيوانات في حشائش السافانا مثل.....

٩. ا. الأغنام      ب. الماعز      ج. الابل      د. الأسود

١٠. يعاني نحو ثلثي مساحة الوطن العربي من مشكلة.....

١١. ا. الجفاف      ب. التصحر      ج. ندرة المياه العذبة      د. قلة المراعي الطبيعية

١٢. أكثر الدول العربية التي تعرضت لخطر الجفاف دولة.....

١٣. ا. الصومال      ب. المغرب      ج. العراق      د. البحرين

١٤. تدهور الأرض وتناقص قدرتها على الإنتاج، تشير العبارة لتعريف.....

١٥. ا. الجفاف      ب. الفيضان      ج. التصحر      د. السيول

١٦. إحدى الدول العربية التي أطلقت مبادرة لزيادة المساحات الخضراء.....

١٧. ا. اليمن      ب. سوريا      ج. لبنان      د. مصر

١٨. أعلن عن إنشاء مدينة نيوم الخضراء بدولة.....

١٩. ا. المغرب      ب. مصر      ج. السعودية      د. الجزائر

٢٠. واحة مصرية تم تصنيفها كأحد مواقع التراث الزراعي العالمي هي.....

٢١. ا. الخارجة      ب. الداخلة      ج. سيوة      د. الفرافرة

٢٢. تعتمد الزراعة في الصحاري العربية على مياه.....

٢٣. ا. البحار      ب. المحيطات      ج. الأنهار      د. الآبار والعيون

٢٤. تعتمد الزراعة في الأجزاء الشمالية من الوطن العربي على مياه.....

١. الأتھار      ب. التحلية      ج. الأمطار      د. الجوفية

١٠١. من المقومات الطبيعية التي ساعدت على قيام الزراعة .....

١. الأيدي العاملة      ب. وسائل النقل      ج. السوق      د. المناخ

١٠٢. يتركز إنتاج الألياف في الوطن العربي في دولة .....

١. السعودية      ب. المغرب      ج. ليبيا      د. مصر

١٠٣. تحتفل الدول العربية يوم ٢٧ سبتمبر بيوم .....

١. السياحة      ب. الزراعة      ج. الصناعة      د. التجارة

١٠٤. تشغل المراعي الطبيعية في الوطن العربي نحو.....مساحته

١. ربع      ب. خمس      ج. ثلث      د. ثمن

١٠٥. تعد مصر.....الدول العربية في تربية الجاموس

١. أولى      ب. ثانية      ج. ثالثة      د. رابعة

١٠٦. أولى الدول العربية في تربية الأبقار هي دولة .....

١. مصر      ب. الجزائر      ج. السودان      د. المغرب

١٠٧. أولى الدول العربية في تربية الدواجن هي دولة .....

١. السعودية      ب. الجزائر      ج. المغرب      د. مصر

١٠٨. تعد المغرب أولى الدول العربية في إنتاج الأسماك : لأنها تطل على .....

١. البحر الأحمر      ب. البحر الأسود      ج. المحيط الأطلنطي      د. المحيط الهندي

١٠٩. أقامت مصر مشروع المليون رأس ماشية في محافظة.....

١. القاهرة      ب. الشرقية      ج. الغربية      د. البحيرة

١١٠. يستخدم في صناعة المبيدات الحشرية.....

١. الحديد      ب. المنجنيز      ج. الفحم      د. الفوسفات

١١١. دولة عربية تحتل المرتبة الأولى في إنتاج الحديد.....

١. اليمن      ب. ليبيا      ج. موريتانيا      د. مصر

١١٢. تحتل مصر المركز الثاني عربياً في إنتاج معدن .....

١. الألومنيوم      ب. الذهب      ج. الحديد      د. الفوسفات

١١٣. ينتج الوطن العربي من البترول أكثر من .....الإنتاج العالمي.

١. نصف      ب. ثلث      ج. ربع      د. عشر

١١٤. تأتي قطر في المركز الأول عالمياً في إنتاج.....

ع. الفوسفات

ج. الحديد

ب. الغاز الطبيعي

ا. البترول

١٠٣. مصر تعد الدولة الأولى عربيا في صناعة.....

ع. الطائرات

ج. السيارات

ب. البلاستيك

ا. الحديد والصلب

١٠٤. يقوم السياح بزيارة المواقع الأثرية في القيروان بدولة.....

ع. تونس

ج. سوريا

ب. العراق

ا. مصر

١٠٥. يهدف السياح إلى زيارة بعض الأماكن للعلاج والاستشفاء مثل زيارة ..... في دولة الأردن

ع. بحيرة عسل

ج. عيون موسى

ب. عين ماعين

ا. عيون موسى

١٠٦. يعد حضور السياح كأس العالم لكرة القدم في قطر عام ٢٠٢٢م سياحة ..

ع. بينية

ج. رياضية

ب. ترفيهية

ا. ثقافية

١٠٧. تعتمد سياحة التسوق على زيارة أضخم المراكز التجارية وأحدثها كما في دولة.....

ع. ليبيا

ج. الإمارات

ب. العراق

ا. اليمن

١٠٨. تقوم السياحة البينية على زيارة المناطق ..

ع. النهرية

ج. الصحراوية

ب. الساحلية

ا. الزراعية

١٠٩. حضور السياح لكأس الأمم الإفريقية لكرة اليد عام ٢٠٢٢م يعد سياحة ..

ع. رياضية

ج. بينية

ب. ترفيهية

ا. ثقافية

١١٠. مدينة مصرية استطاعت تطبيق المعايير الدولية للسياحة المستدامة هي.....

ع. مرسى مطروح

ج. مرسى علم

ب. شرم الشيخ

ا. الغردقة

١١١. حصلت دولة الأردن عام ٢٠٢٠م في مجال تحقيق السياحة المستدامة المرتبة.....

ع. الرابعة

ج. الثالثة

ب. الثانية

ا. الأولى

١١٢. دولة عربية توجد بها المدينة البينية الأولى في العالم هي.....

ع. الإمارات

ج. المغرب

ب. الكويت

ا. العراق

١١٣. تم اختيارها كعاصمة للسياحة العربية عام ٢٠٢٣م، مدينة ..

ع. بغداد

ج. الدوحة

ب. الإسكندرية

ا. دبي

١١٤. توفر التجارة العربية العملات.....

ع. الإقليمية

ج. المحلية

ب. الأجنبية

ا. العربية

١١٥. تسهم التجارة في تحسين.....

ع. الصناعة العربية

ج. الخدمات المحلية

ب. السلع الأجنبية

ا. الميزان التجاري

١١٦. وجود حواجز جمركية بين الدول العربية يعد من أسباب.....التجارة البينية العربية.

ع. ضعف

ج. قوة

ب. ازدهار

ا. تنمية

١١٧. أي من الدول التالية تشترك في منطقة التجارة الحرة العربية؟

ع. موريتانيا

ج. السودان

ب. الصومال

ا. جيبوتي

١١٨. أي من التجمعات العربية التالية انضمت ليبيا إليها؟

١. اتحاد دول المغرب العربي  
ب. مجلس التعاون لدول الخليج  
ج. دول الاتحاد الأوربي  
د. دول الاتحاد الكوميسا

٢. تتمثل أعلى نسبة صادرات عربية من .....

١. الوقود  
ب. المصنوعات  
ج. السيارات  
د. المياه

٣. يعد اختراق خصوصية العميل وسرقة البيانات في التجارة الإلكترونية من .....

١. إيجابياتها  
ب. سلبياتها  
ج. أهميتها  
د. أسبابها

## السؤال السادس

### طوب ما تحقه خط

١. يحد الوطن العربي من جهة الشمال جبال زاغروس (طوروس)

٢. يمتد الوطن العربي في قارتي آسيا وأوروبا. (أفريقيا)

٣. قامت على أرض الوطن العربي العديد من الحضارات القديمة، ومنها الحضارة الرومانية. (المصرية القديمة)

(القديمة)

٤. الموقع الوطن العربي أهمية دينية لوجود العديد من الممرات المائية. (اقتصادية)

٥. يطل الوطن العربي من جهة الشرق على خليج عدن. (عمان)

٦. أكبر دول الوطن العربي من حيث المساحة هي دولة ليبيا. (الجزائر)

٧. كان نظام الحكم السائد في شبه الجزيرة العربية النظام الملكي. (القبلي)

٨. كانت رحلة قريش الشتاء إلى الشام. (اليمن)

٩. الأخذ بالنثار من العادات الحسنة عند العرب قبل الإسلام. (السينة)

١٠. ولد الرسول ﷺ في يثرب. (مكة)

١١. نزلت رسالة الإسلام على الرسول ﷺ في غار ثور (غار حراء)

١٢. أمر الرسول ﷺ بالهجرة إلى يثرب، لأن بها ملكا لا يظلم عنده أحد. (الحبشة)

١٣. استمرت الدعوة الجهرية إلى الإسلام ثلاث سنوات. (السرية)

١٤. استجاب إلى دعوة الرسول ﷺ وفود من ثقيف (يثرب)

١٥. كانت أول مرحلتين للدعوة إلى الإسلام في يثرب. (مكة)

١٦. اول من امن برسول الله (ص) وشارك في جميع فتوحاته هو عمر بن الخطاب (ابوبكر الصديق)

١٧. قبائل عربية خرجت عن الاسلام ورفضت دفع الزكاة الخوارج (المرتدين)

١٨. من اعمال ابي بكر الصديق رضي الله عنه انشاء الدواوين (عمر بن الخطاب)

١٩. ادعي النبوة بعد وفاة الرسول (ص) عبدالرحمن بن ملجم (مسيلمة الكذاب)

٢٠. استشهد عدد كبير من حفظة القرآن الكريم في حروب العراق (المرتدين)

21. من أعمال عمر بن الخطاب رضي الله عنه انشاء الاسطول ( عثمان بن عفان )
22. كتابة القرآن الكريم في مصحف واحد من اهم اعمال الخليفة أبي بكر الصديق ( عثمان بن عفان )
23. من اعمال الخليفة عثمان بن عفان التقويم الهجري ( انشاء الاسطول البحري )
24. نقل علي بن ابي طالب رضي الله عنه الخلافة من المدينة الى بغداد ( الكوفة )
25. ينتج عن التعرية الهوائية أشكال تضاريسية مثل الأودية الجافة. ( الكثبان الرملية )
26. جبال أطلس من الجبال الانكسارية في الوطن العربي. ( الالتوائية )
27. تمتد هضبة أفريقيا الشمالية من المحيط الأطلنطي غربا حتى البحر المتوسط شرقا. ( البحر الأحمر )
28. تقع هضبة نجد جنوب شبه الجزيرة العربية. ( حضر موت )
29. من الواحات في الجزائر واحة سيوة. ( عين صالح )
30. أكبر الأقاليم المناخية بالوطن العرق مساحة الإقليم المداري. ( الصحراوي )
31. يعد البلوط القليني أهم أشجار الإقليم البحر المتوسط ( الزيتون )
32. من الحيوانات التي تعيش في حشائش السافانا بالوطن العربي الأغنام والماعز. ( الاستبس )
33. نقص كمية الأمطار بما لا يسمح بالزراعة ونمو الحشائش، تشير العبارة إلى التصحّر ( الجفاف )
34. سببت موجة الجفاف حدوث مجاعة لأكثر من مليون شخص في دولة تونس. ( الصومال )
35. تتناقص قدرة الأرض على الإنتاج بسبب استخدام طرق الري الحديثة. ( التقليدية )
36. تعمل الدول العربية على حل مشكلات البيئة بإقامة مساكن مستقرة السياح. ( للرعاة )
37. يمكن حل المشكلات البيئية عن طريق زيادة المناطق السكنية. ( المساحات الخضراء )
38. واحة العين توجد بدولة السعودية. ( الامارات )
39. الآبار والعيون من مصادر المياه المالحة التي تساهم في قيام الزراعة. ( العذبة )
40. الأيدي العاملة المدربة من المقومات الطبيعية لقيام الزراعة. ( البشرية )
41. تتركز زراعة البن في دولة الهند في الوطن العربي. ( اليمن )
42. تحتل السودان المرتبة الأولى عربيا في إنتاج الحديد. ( موريتانيا )
43. يدخل الفوسفات في صناعة الطائرات. ( الأسمدة والمبيدات )
44. تعد دولة المغرب الأولى عربيا في إنتاج الذهب. ( الفوسفات )
45. السعودية تحتل المركز الأول في إنتاج الفوسفات على مستوى العالم. ( البتترول )
46. الصناعة التحويلية تعنى استخراج المعادن ومصادر الطاقة. ( الاستخراجية )
47. تحتل المركز الأول في صناعة الحديد والصلب في الوطن العربي دولة اليمن. ( مصر )
48. تأثرت البيئة إيجابيا بالصناعة. ( سلبيا )

## السؤال السابع أكتب ما تنتير الية كل عبارة

1. الموقع بالنسبة لليابس والماء. (الموقع الجغرافي)
  2. تولى رعاية الرسول ﷺ بعد وفاة جده عبد المطلب. (عمه أبو طالب)
  3. زوجة الرسول ﷺ أثناء بداية نزول الوحي. (خديجة بنت خويلد)
  4. نزل على الرسول ﷺ برسالة الإسلام. (سيدنا جبريل)
  5. ملك الحبشة الذي هاجر إليه المسلمون في بداية الدعوة. (النجاشي)
  6. مكان اتفقت فيه قريش على قتل الرسول ومنعه من الهجرة. (دار الندوة)
  7. الدستور الأول لحقوق الإنسان في المدينة. (صحيفة المدينة)
  8. اسم أطلق على يثرب بعد هجرة النبي إليها. (المدينة)
  9. صلح ثم بين المسلمين وقريش عام 6 هـ. (صلح الحديبية)
1. شكل من أشكال الحكم اتبعه المسلمون بعد وفاة الرسول يقوم على اختيار من يتولى أمور المسلمين.
- (الخلافة)
11. تقويم بدأ بهجرة الرسول ﷺ من مكة إلى المدينة. (التقويم الهجري)
  12. نظام أنشأه الخليفة عمر بن الخطاب لإدارة بيت المال والجند. (الدواوين)
  13. نظام أنشئ في عهد الخليفة علي بن أبي طالب بهدف الحفاظ على أمن وسلامة المواطنين. (الشرطة)
  14. حركات باطنية إلى تكوين سلاسل جبلية مرتفعة مثل جبال أطلس. (حركات التوانية)
  15. أرض تقام فيها الزراعة اعتمادا على المياه الجوفية ويعيش فيها بعض السكان. (الواحات)
  16. أودية كانت بها المياه قديما جفت. (أودية جافة)
  17. سهول كونتها الأنهار طريق ترسيب المواد العالقة بمياهها. (سهول فيضية)
  18. إقليم مناخي يمتد على الأطراف الشمالية للوطن العربي. (إقليم البحر المتوسط)
  19. حشائش تنمو في إقليم مناخ البحر المتوسط وترى عليها الأغنام والماعز. (الاستبس)
  2. إقليم مناخي يشغل معظم مساحة الوطن العربي. (الصحراوي)
  21. إقليم مناخي يتميز بارتفاع درجات الحرارة وسقوط الأمطار صيفا، واعتدال درجات الحرارة وسيادة الجفاف شتاء. (المداري)
  22. مشكلة تحدث نتيجة لزيادة استهلاك المياه. (نقص المياه العذبة)
  23. نقص كمية الأمطار في بعض السنوات بما لا يسمح بالزراعة أو نمو الحشائش. (الجفاف)
  24. تدهور الأراضي وتناقص قدرتها على الإنتاج. (التصحّر)
  25. دولة عربية تعرضت لأكبر موجة جفاف. (الصومال)
  26. أحد المعوقات البشرية اللازمة لإقامة المشروعات الزراعية وشراء الآلات الزراعية. (رأس المال)
  27. مورد مائي يوجد بالصحراء وتقوم عليه الزراعة. (المياه الجوفية)

28. توجد حول مجارى الأنهار وهى من المقومات الطبيعية لقيام الزراعة. (تربة خصبة)
29. أحد المقومات البشرية تستخدم فى نقل المنتجات الزراعية إلى مناطق الاستهلاك. (وسائل النقل)
30. دولة عربية يتركز بها زراعة البن. (اليمن)
31. نشاط اقتصادى بلغ نسبة العاملين فيه %١٥ من جملة سكان الوطن العربى. (الزراعة)
32. زراعة لا تعتمد على وجود تربة، وتستهلك كمية مياه أقل من الزراعة المعتمدة على التربة. (الزراعة المائية)
33. ينتج منه الوطن العربى %٣ من جملة الإنتاج العالمى، ويدخل فى صناعة الحلى. (الذهب)
34. دولة عربية تحتل المركز الأول عربيا فى إنتاج الذهب. (السودان)
35. معدن يستخدم فى كثير من الصناعات الثقيلة والمنشآت والكبارى. (الحديد)
36. وصل إنتاج الوطن العربى منه نحو ربع الإنتاج العالمى. (البتترول)
37. مصدر للطاقة بلغ إنتاج الوطن العربى منه نحو %١٧ من الإنتاج العالمى. (الغاز الطبيعى)
38. تعد أولى الدول العربية فى إنتاج البترول. (السعودية)
39. نشاط اقتصادى يعمل فيه نحو %٢٢ من إجمالى القوة العاملة فى الوطن العربى. (الصناعة)
40. زيارة المواقع الأثرية والتراثية. (سياحة ثقافية)
41. زيارة الشواطىء والرحلات النيلية. (سياحة ترفيهية)
42. زيارة الأماكن المقدسة. (سياحة دينية)
43. زيارة بعض الأماكن بهدف الاستشفاء والعلاج. (سياحة علاجية)
44. المدينة البنينة الأولى فى العالم. (مصدر)
45. مدينة مصرية استطاعت تطبيق المعايير الدولية للسياحة المستدامة. (شرم الشيخ)
46. دولة عربية حصدت المرتبة الأولى فى المنطقة لتحقيق السياحة المستدامة. (الأردن)
47. مدينة عربية تم اختيارها كأول عاصمة للسياحة العربية عام ٢٠١٠م. (الإسكندرية)
48. يقصد بها الصادرات والواردات من السلع والخدمات بين الدول العربية. (تجارة بينية)
49. يقصد بها الصادرات والواردات بين دول الوطن العربى وباقي دول العالم. (تجارة دولية)
50. تبادل السلع والخدمات باستخدام الإنترنت. (تجارة إلكترونية)
51. الفرق بين قيمة الصادرات والواردات خلال عام. (الميزان التجارى)

## السؤال السابع لمن تنسب الاعمال الآتية

1. قائد جيش المسلمين فى عهد أبى بكر الصديق الله المحاربة الروم. (أسامة بن زيد)
2. أمره الخليفة أبو بكر الصديق الله يجمع القرآن. (زيد بن ثابت)
3. ادعى النبوة بعد وفاة الرسول. (مسيلمة الكذاب)
4. وضع التقويم الهجرى وفتح بلاد العراق وبلاد فارس والشام ومصر. (عمر بن الخطاب)

6. اشترك في العديد من الغزوات ما عدا غزوة بدر (عثمان بن عفان)
7. قائد جيش المسلمين في عهد أبي بكر الصديق الله المحاربة الروم (أسامة بن زيد)
8. أمره الخليفة أبو بكر الصديق الله يجمع القرآن. (زيد بن ثابت)
9. ادعى النبوة بعد وفاة الرسول. (مسيلمة الكذاب)
10. قام بكتابة القرآن في مصحف واحد وتوزيعه على كل البلاد الإسلامية. (عثمان بن عفان)
11. أمر بإنشاء أول أسطول بحري في الإسلام. (عثمان بن عفان)
12. أول من قام بتنظيم الشرطة في الدولة الإسلامية. (علي بن أبي طالب)

## فسر العبارات الآتية

## السؤال الثامن

1. يمتلك الوطن العربي عوامل وحدته.

- لأن دول الوطن العربي يجمعها تاريخ ولغة وثقافات مشتركة.

2. يمتاز الوطن العربي بأهميته الدينية.

- بسبب وجود العديد من الأماكن المقدسة مثل الكعبة المشرفة وكنيسة القيامة، ومراكز دينية مهمة مثل الأزهر الشريف.

3. تسمية عام الفيل بهذا الاسم.

- لمحاولة أبرهة الحبشي هدم الكعبة لكن الله حفظها.

4. عمل النبي (ﷺ) في رعي الأغنام.

- حتى لا يكون عبنا على عمه.

5. بدأت الدعوة الإسلامية سرا.

- لتجنب أذى قريش.

6. محاربة قريش للدعوة الإسلامية في بدايتها.

- خوفا على مكانتها بين القبائل.

7. أمر النبي (ﷺ) أصحابه بالهجرة إلى الحبشة.

- لأن بها ملكا لا يظلم عنده أحد يلقب بالنجاشي.

8. أخی الرسول (ﷺ) بين المهاجرين والأنصار.

- بهدف إقامة مجتمع تسوده المحبة والتعاون والإيثار.

9. هجرة النبي (ﷺ) إلى يثرب.

- بسبب شدة إيذاء قريش له ولأصحابه.

10. قيام الرسول (ﷺ) ببناء المسجد.

- ليكون مقرا للحكم وإدارة شؤون الدولة الداخلية والخارجية.

11. اختيار المسلمين لأبي بكر الصديق الخلافة النبي (ﷺ)

- لأنه أول من أسلم من الرجال - اشترك مع النبي (ﷺ) في جميع غزواته - اختاره النبي (ﷺ) للإمامة المسلمين في الصلاة أثناء مرضه.

12. أمر عثمان بن عفان بإنشاء أول أسطول بحري

• بهدف تأمين سواحل مصر والشام من هجمات الروم.

100. **قيام علي بن أبي طالب بنقل مقر الخلافة إلى الكوفة.**

• لتسهيل الانتقال بين أرجاء الدولة الإسلامية خاصة بعد اتساعها.

101. **أهمية الواحات في وطننا العربي.**

• تقوم فيها الزراعة اعتمادا على المياه الجوفية، ويعيش فيها بعض السكان

102. **نشأة التجمعات الرملية في صحاري الوطن العربي**

• تكونت بفعل التعرية الهوائية.

103. **أهمية الأودية الجافة بالوطن العربي.**

• حيث تستخدم كطرق المواصلات، ونحصل منها على المياه الجوفية

104. **تكون السهول الفيضية في الوطن العربي.**

• بسبب ترسب المواد العالقة بمياه الأنهار.

105. **مناخ مدينة الإسكندرية أكثر اعتدالا من مناخ مدينة الرياض.**

• لأن الإسكندرية قريبة من المسطحات المائية والتي تعمل على تلطيف درجة الحرارة، وتقليل المدة

الحراري اليومي والسنوي، وزيادة فرص سقوط الأمطار، ولوقوع كل منهما في إقليم مناخ مختلف

106. **يقل تأثير المسطحات المائية على المناخ في الوطن العربي بشكل عام.**

• بسبب ضيق مساحة المسطحات المائية وعدم توغل تأثيرها إلى الداخل لوجود الصحاري والمرتفعات

القريبة من الساحل.

3. **تنخفض درجات الحرارة وتتكون الثلوج فوق الجبال.**

• أنه كلما ارتفعنا ١٥٠ مترا فوق مستوى سطح البحر انخفضت درجة الحرارة درجة مئوية واحدة.

51. **يؤثر اتجاه المرتفعات على كمية الأمطار.**

• لأن الأمطار تسقط بغزارة على منحدرات الجبال المواجهة للرياح المحملة ببخار الماء، وتقل أو تتعدم

الأمطار على الجهات الداخلية للمرتفعات.

52. **تتنوع الأقاليم المناخية في الوطن العربي.**

• نتيجة امتداده في نحو ٤٠ دائرة عرض وبمساحة تزيد عن ١٣ مليون كم.

53. **إنشاء الدول العربية للمحميات الطبيعية.**

• للحفاظ على الحياة البرية وتنشيط السياحة وتحقيق التوازن البيئي والحد من التلوث تحقيقا للتنمية

المستدامة بسبب تدهور الموارد النباتية وانقراض أنواع عديدة.

54. **يعاني الوطن العربي من ندرة المياه العذبة.**

• بسبب النمو المتزايد للسكان والتوسع المستمر في الزراعة.

55. **حدوث التصحر**

• بسبب استخدام طرق ري تقليدية - الإفراط في استخدام الأسمدة الكيماوية والمبيدات الحشرية - زحف

الكتبان الرملية - تناقص مخزون المياه الجوفية - التوسع العمراني - الرعي الجائر للحيوانات - إزالة

الغابات.

٣٥. **انشاء المدن الذكية .**
  - لتقليل انبعاثات الغازات الدفينة.
٣٦. **أهمية رأس المال ووسائل النقل في قيام الزراعة.**
  - يساعد رأس المال على شراء الآلات الزراعية والبذور والأسمدة، بينما تساعد وسائل النقل على نقل ما تحتاجه الزراعة من مواد مختلفة ونقل المنتجات الزراعية إلى مناطق الاستهلاك.
٣٧. **أهمية الزراعة في الوطن العربي.**
  - توفر الغذاء للسكان والحيوانات - توفر فرص عمل للسكان - توفر المواد الخام الزراعية - مصدر للدخل القومي للدول العربية
٣٨. **مصر أولى الدول العربية تربية للجاموس .**
  - لوجود البيئة الزراعية الفيضية المناسبة لتربيته.
٣٩. **اهتمام الدول العربية بتربية الدواجن.**
  - لأن إنتاج اللحوم الحمراء لا يكفي حاجة السكان.
٤٠. **الثروة الحيوانية لها أهمية كبيرة في الوطن العربي.**
  - توفر البروتين الحيواني للسكان - توفر الموارد الخام الحيوانية كالجلود واللحوم - تستخدم بعض الحيوانات في أعمال الحقل والنقل بالريف.
٤١. **أهمية إنتاج الذهب في الوطن العربي.**
  - يستخدم في صناعة الحلى وتدخّل ذراته في علاج بعض الأمراض.
٤٢. **الحديد له أهمية كبيرة في وطننا العربي.**
  - يدخل في الصناعات الثقيلة والمنشآت والكباري.
٤٣. **خام الفوسفات له أهمية اقتصادية كبيرة في الوطن العربي.**
  - يدخل في صناعة الأسمدة والمبيدات، والوطن العربي ينتج نحو ربع الإنتاج العالمي منه.
٤٤. **الصناعة من أهم الأنشطة الاقتصادية في الوطن العربي.**
  - تسهم بثلث الدخل القومي للوطن العربي وتوفر فرص عمل.
٤٥. **أهمية السياحة كمنشأ اقتصادي في الوطن العربي.**
  - يساعد على التبادل الثقافي ويوفر العملات الأجنبية وفرص عمل في السياحة والقطاعات ذات الصلة.
٤٦. **أهمية التجارة للوطن العربي.**
  - تسهم في تعزيز العلاقات بين الدول وتلبية حاجات السكان من السلع والخدمات والنقد الأجنبي وتوفير لهم فرص عمل، وتعمل على ضبط الميزان التجاري للدولة.
٤٧. **ضعف التجارة البينية بين الدول العربية.**
  - يرجع إلى التشابه الكبير بين السلع والخدمات التي تنتجها الدول العربية وعدم تنوع الصادرات بين الدول العربية وضعف التكنولوجيا، ووجود حواجز جمركية بين الدول العربية.
٤٨. **تتعدد فوائد التجارة الإلكترونية.**
  - حيث تساعد في خفض الأسعار - تتيح إمكانية الشراء على نطاق أوسع للشركات والأفراد.

## السؤال التاسع ما النتائج المترتبة علي

### 1. الأهمية الاقتصادية لوطننا العربي

- طمع الكثير من الدول للسيطرة على ثرواته على مر العصور.

### 2. انتشار الإسلام في شبه الجزيرة العربية.

- أدى إلى تغيير حياة سكان شبه الجزيرة العربية نحو الأفضل.

### 3. غزوة بدر عام ٢ هـ.

- انتصر فيها المسلمون رغم قلة عددهم على قريش.

### 4. غزوة أحد ٣ هـ.

- تحول نصر المسلمين إلى هزيمة.

### 5. استجابة النبي (ﷺ) لرأي سلمان الفارسي بحفر خندق حول المدينة.

- جعل من المستحيل على جيش العدو مهاجمة المسلمين رغم حصارهم لفترة طويلة.

### 6. نجاح الرسول (ﷺ) في عقد صلح الحديبية عام ٦ هـ.

- بداية مرحلة عالمية الدعوة حيث أرسل الرسول (ﷺ) الرسائل إلى الملوك والحكام يدعوهم

### 7. نقض قريش لصلح الحديبية.

- فتح الرسول (ﷺ) مكة وطاف بالكعبة بعد أن حطم الأصنام وعفا عن أهلها

### 8. استشهاد عدد كبير من حفظة القرآن الكريم في حروب المرتدين.

- أمر أبو بكر الصديق زيد بن ثابت بجمع القرآن الكريم.

### 9. الموقع الفلكي للوطن العربي بالنسبة للمناخ.

- ارتفاع درجات الحرارة في المناطق الجنوبية من الوطن العربي وانخفاضها كلما اتجهنا شمالاً. ويسود المناخ الحار معظم أجزاء الوطن العربي والمناخ المعتدل في الأجزاء الشمالية منه.

### 10. حلول فصل الصيف على الوطن العربي.

- ارتفاع درجات الحرارة بشكل عام، ويسود الجفاف فيما عدا مرتفعات اليمن وعسير ومعظم أنحاء الصومال وجنوب موريتانيا والتي تسقط عليها أمطار موسمية.

### 11. تعامد الشمس على مدار الجدي بالنسبة للوطن العربي

- حلول فصل الشتاء على الوطن العربي. - تنوع الأقاليم المناخية في الوطن العربي.

١٥. تنوع الأقاليم المناخية في الوطن العربي

- تنوع النباتات الطبيعية والحيوانات البرية.

١٦. معاناة الصومال من أكبر موجة جفاف

- أدى لنقص الغذاء و حدوث مجاعة لأكثر من مليون شخص.

١٧. المشكلات البيئية في الوطن العربي

- تؤدي إلى تهديد صحة المواطن العربي وحياته - إعاقة تنفيذ الخطط التنموية - تدمير الحياة النباتية والحيوانية.

١٨. شهرة واحة العين بدولة الإمارات العربية المتحدة بزراعة أنواع مميزة من النخيل

- أعلنتها منظمة الأغذية والزراعة للأمم المتحدة «الفاو» موقعا للتراث الزراعي العالمي.

١٩. تنوع المناخ في الوطن العربي

- أدى إلى تنوع المحاصيل الزراعية.

٢٠. وجود عجز في البروتين الحيواني بالوطن العربي

- اهتمام الدول العربية بالثروة السمكية.

السؤال الثالث دليل علي صحة العبارات

١. يتحكم الوطن العربي في ممرات مائية مهمة عالميا

- حيث يتحكم في ممرات مائية مهمة وهي قناة السويس، مضيق جبل طارق مضيق باب المندب، مضيق هرمز.

٢. خطط الرسول (ﷺ) للهجرة بشكل جيد

- هاجر في سرية تامة في الليل وسلك مع صديقه أبي بكر الصديق وسلكا طريقا غير معروفة وصولا إلى يثرب.

٣. الهضاب هي أكثر أشكال السطح انتشارا في وطننا العربي

- توجد في الجناح الإفريقي هضبة إفريقيا الشمالية والتي تعد أكبر الظواهر التضاريسية مساحة، كما يوجد في الجناح الآسيوي هضاب بادية الشام - نجد - حضرموت).

٤. يؤثر المناخ على الطيران

- يؤدي سوء الأحوال الجوية أحيانا إلى تأجيل أو إلغاء الرحلات الجوية.

٤. تنوع مشكلات الصناعة والتعدين في الوطن العربي.

- وجود مشكلات مثل استيراد الآلات والمعدات من الخارج
- بعد مناطق الإنتاج عن مناطق الاستهلاك .
- الاعتماد على الصناعات الاستخراجية
- نفاذ بعض مصادر الطاقة غير المتجددة في المستقبل.

٥. تنوع الصادرات العربية خارج حدود الدول العربية.

- يصدر الوطن العربي للدول الخارجية الوقود والمعادن والمنتجات الصناعية ثم السلع الزراعية.

السؤال الحادي عشر أجب عما يلي

١. اكتب الظواهر الطبيعية المحيطة بالوطن العربي

- جبال كردستان وزاجروس والخليج العربي وخليج عمان (شرقا) - البحر المتوسط وجبال طوروس (شمالا) - الصحراء الكبرى وبحر العرب والمحيط الهندي (جنوبا) - المحيط الأطلنطي (غربا).

٢. قارن بين الصفات الحسنة والعادات السيئة للعرب قبل الإسلام.

- الصفات الحسنة الشجاعة - الكرم - الوفاء بالعهود.
- العادات السيئة وأد البنات - الأخذ بالثأر - شرب الخمر.

٣. أحوال شبه الجزيرة العربية قبل ظهور الإسلام السياسية والاقتصادية والثقافية.

- سياسيا: كان نظام الحكم السائد هو النظام القبلي.
- اقتصاديا كان الرعي هو الحرفة الرئيسية وعملوا بالتجارة رحلة الشتاء لليمن والصيف للشام).
- ثقافيا: عُرف عن العرب حبهم للشعر والبلاغة.

٤. حدد مراحل الدعوة الإسلامية

- مرت الدعوة الإسلامية بأربع مراحل وهي:
- (قبل الهجرة في مكة) المرحلة الأولى الدعوة السرية - المرحلة الثانية الدعوة الجهرية.
- (بعد الهجرة في المدينة) المرحلة الثالثة بناء الدولة وصد أذى المشركين - المرحلة الرابعة الفتح والدعوة العالمية للإسلام.

٥. أسس بناء الدولة الإسلامية.

- بناء المسجد - المؤاخاة بين المهاجرين والأنصار - وضع صحيفة المدينة.

**6. ما العلاقة بين صلح الحديبية - فتح مكة ؟**

- ترتب على صلح الحديبية عقد هدنة بين المسلمين وقريش لمدة عشر سنوات، ولكن قریش نقضت هذه الهدنة حيث اعتدى ( حلفاؤها ) على قبيلة خزاعة حليفة الرسول (ﷺ) فجهز الرسول (ﷺ) جيشًا كبيرًا لفتح مكة.

**7. سجل أهم أعمال عمر بن الخطاب**

وضع التقويم الهجري - استكمل الفتوحات الإسلامية - أنشأ الدواوين ومنها ديوان الجند.

**8. قارن بين خصائص سهول البحر الأحمر وسهول البحر المتوسط.**

- **سهول البحر الأحمر:** غنية بمصادر الطاقة والثروات المعدنية - تربتها فقيرة أو ملحية - قليلة السكان وتظهر في سواحلها الشعاب المرجانية التي تعوق قيام المواني
- **سهول البحر المتوسط:** أمطارها شتوية - كثيرة السكان - سهولة الانتقال عليها ع

**9. قارن بين إقليم مناخ البحر المتوسط وإقليم المناخ الصحراوي الحار من حيث الموقع والخصائص المناخية.**

**المناخية.**

- **إقليم مناخ البحر المتوسط:** يقع في أطراف الوطن العربي الشمالية ما بين دائرتي عرض ٣٠ : ٣٠ شمالاً، وصيفه حار جاف بينما شتأؤه دافئ معطر.
- **إقليم المناخ الصحراوي الحار:** يشغل معظم مساحة الوطن العربي حيث يمتد ما بين دائرتي عرض ١٥ : ٣٠ شمالاً وصيفه شديد الحرارة أما شتأؤه فمعتدل نهاراً وشديد البرودة ليلاً حيث قد تصل درجات الحرارة لما دون الصفر المنوي وأمطاره نادرة وقد تسقط على هيئة سيول

**1. ما الفرق بين التيارات البحرية الدفينة والتيارات البحرية الباردة؟**

- تؤدي التيارات الدفينة لارتفاع درجة حرارة السواحل التي تمر بها، بينما تؤدي التيارات الباردة لانخفاض درجة حرارة السواحل التي تمر بها.

**11. حدد: العوامل المؤثرة على مناخ الوطن العربي.**

- الموقع الفلكي - القرب أو البعد من المسطحات المائية - مظاهر السطح - التيارات البحرية.

**12. حدد اثنين من جهود الدول العربية لحل المشكلات البيئية.**

- زيادة المساحات الخضراء - استخدام مصادر الطاقة النظيفة.

**13. حدد ثلاثة من أشهر المحميات الطبيعية في الوطن العربي.**

- محمية أرز الشوف في لبنان - محمية ضانا في الأردن - محمية جبل علبة في مصر.

**14. ما أبرز الحيوانات البرية والنباتات الطبيعية التي تنمو في إقليم المناخ المداري داخل الوطن العربي؟**

- الحيوانات البرية الأسود والزراف
- النباتات الطبيعية: حشائش السافانا.

15. وضع بمثال جهود إحدى الدول العربية لحماية البيئة.

- أطلقت مصر مبادرة زراعة ١٠٠ مليون شجرة مثمرة.

16. قارن بين المقومات الطبيعية والمقومات البشرية لقيام الزراعة.

- المقومات الطبيعية تنوع موارد المياه العذبة - التربة الخصبة - تنوع المناخ.
- المقومات البشرية الأيدي العاملة المدربة - رأس المال - وسائل النقل - السوق.

17. مقومات قيام الصناعة.

- المقومات الطبيعية المواد الخام - مصادر الطاقة.
- المقومات البشرية توفر الأيدي العاملة - شبكات النقل والمواصلات - رأس المال - الأسواق.

18. ما العلاقة بين مصر وإنتاج المحاصيل الزراعية في الوطن العربي؟

- تصدر مصر الوطن العربي في إنتاج محاصيل الحبوب الغذائية، والمحاصيل السكرية والتمور.
- كما يتركز بها مع السودان إنتاج محاصيل الألياف.

19. حدد اثنين من مواقع التراث الزراعي العالمي داخل الوطن العربي.

- واحة ليوا في الإمارات العربية المتحدة - واحة سيوة في مصر.

20. حدد اثنين من مشكلات الثروة السمكية في الوطن العربي.

- التغير المناخي - تلوث المياه.

21. الدولة الأولى عربيا في كل من: تربية الأبقار - تربية الإبل - تربية الدواجن - إنتاج المزارع

(السمكية).

- الأبقار: السودان - الإبل: الصومال - الدواجن المغرب. إنتاج المزارع السمكية مصر.

22. الدولة الأولى عربيا في كل من (استخراج الحديد - استخراج الذهب - استخراج الغاز الطبيعي).

- استخراج الحديد موريتانيا. استخراج الذهب: السودان. استخراج الغاز الطبيعي: قطر.

23. وضع جهود الدول العربية لتنمية الثروة السمكية.

- تقوم الدول العربية بتوفير وسائل ومعدات صيد حديثة وتدريب الصيادين على استخدامها.
- تفعيل القوانين الخاصة بالصيد والتوسع في الاستزراع السمكي.

24. (د) ما أهم مقومات السياحة في الوطن العربي؟

- الموقع الجغرافي الفريد وسط قارات العالم القديم
- تنوع المناطق السياحية والتراثية
- المناخ المعتدل
- تطور الفنادق والقرى السياحية
- توافر شبكة مواصلات متميزة.