

المهام الأدائية

الصف السادس

الفصل الدراسي الأول

الدراسات الاجتماعية

2023

# الدراسات الاجتماعية

## المهمة الأولى (الوطن العربي)

أمامك مجموعة من الدول صنّفها حسب الجدول التالي:

- ليبيا - العراق - السودان - سوريا - تونس

- لبنان - مصر - الأردن - الجزائر - فلسطين

الجناح الآسيوي	الجناح الأفريقي
(1) .....	(1) .....
(2) .....	(2) .....
(3) .....	(3) .....
(4) .....	(4) .....
(5) .....	(5) .....

**أجب:**

- (1) كم عدد الدول العربية؟  
..... -
- (2) ما مساحة الوطن العربي؟  
..... -
- (3) ما أكبر دولة عربية في المساحة؟  
..... -

الاسم: .....

الصف: .....

## المهمة الثانية

أمامك خريطة للوطن العربي، لون الدول حسب المطلوب



- (1) لون أكبر دولة عربية من حيث المساحة باللون **الأحمر**.
- (2) لون أكبر دولة عربية في إنتاج البن باللون **الأزرق**.
- (3) لون أكبر دولة عربية في تربية الإبل باللون **الأصفر**.
- (4) لون أكبر دولة عربية في إنتاج البترول باللون **البنّي**.
- (5) لون أكبر دولة عربية في صناعة الحديد والصلب باللون **الأخضر**.

الاسم:

.....

الصف:

.....

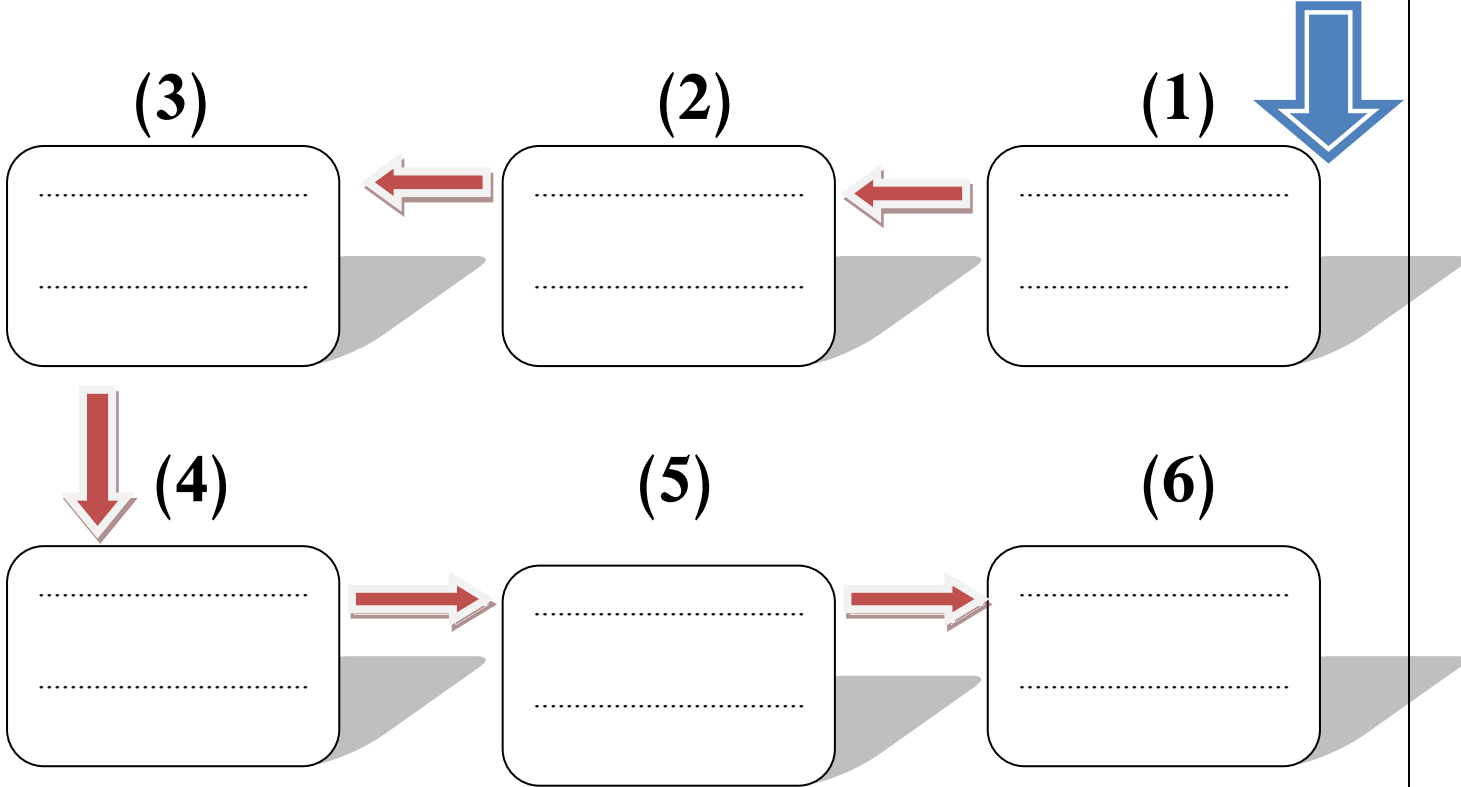
# الدراسات الاجتماعية

## المهمة الثالثة (التاريخ الإسلامي)

قام الرسول بعدة غزوات (معارك)، كان هدف هذه الغزوات هو حماية الدين والدفاع عن المسلمين...

ضع الأحداث التاريخية الآتية في خطها الزمني المناسب من الأقدم إلى الأحدث.

- صلح الحديبية
- وفاة الرسول ﷺ
- غزوة بدر
- فتح مكة
- غزوة أحد
- غزوة الخندق



الاسم: .....

الصف: .....

# الدراسات الاجتماعية

## المهمة الرابعة (الخلفاء الراشدون)

أمامك مجموعة من الأعمال التي قام بها الخلفاء الراشدون،  
انسب كل عمل لصاحبه في الجدول:

- وضع التقويم الهجري.
- إنشاء أول أسطول.
- نقل مقر الخلافة إلى الكوفة.
- محاربة المرتدين.
- جمع القرآن في مصحف واحد.
- تنظيم الشرطة للحراسة.
- إرسال جيش أسامة بن زيد.
- إنشاء الدواوين.

أبو بكر الصديق	عمر بن الخطاب
(1) .....	(1) .....
(2) .....	(2) .....
عثمان بن عفان	علي بن أبي طالب
(1) .....	(1) .....
(2) .....	(2) .....

الاسم: .....

الصف: .....

# الدراسات الاجتماعية

## المهمة الخامسة (صورة وسؤال)

انظر إلى الصور وأكمل بالمطلوب:



..... اسم الظاهرة: - اسم المشكلة: .....

..... سبب تكوينها: - سبب المشكلة: .....



..... اسم الحيوان : - اسم المسجد : .....

..... مكان وجوده: - الدولة الأولى في تربيته: .....

..... الاسم:

..... الصف:

المهام الأدائية

الصف السادس

الفصل الدراسي الأول

الدراسات الاجتماعية

2023



مذكرات جاهزة

mozkratgahza.com

# الدراسات الاجتماعية

## المهمة الأولى (الوطن العربي)

أمامك مجموعة من الدول صنفها حسب الجدول التالي:

- ليبيا - العراق - السودان - سوريا - تونس

- لبنان - مصر - الأردن - الجزائر - فلسطين

الجناح الآسيوي	الجناح الأفريقي
(1) <u>العراق</u>	(1) <u>ليبيا</u>
(2) <u>سوريا</u>	(2) <u>السودان</u>
(3) <u>لبنان</u>	(3) <u>تونس</u>
(4) <u>الأردن</u>	(4) <u>مصر</u>
(5) <u>فلسطين</u>	(5) <u>الجزائر</u>

أجب:

(1) كم عدد الدول العربية؟

- 22 دولة

(2) ما مساحة الوطن العربي؟

- 13 مليون كم<sup>2</sup>

(3) ما أكبر دولة عربية في المساحة؟

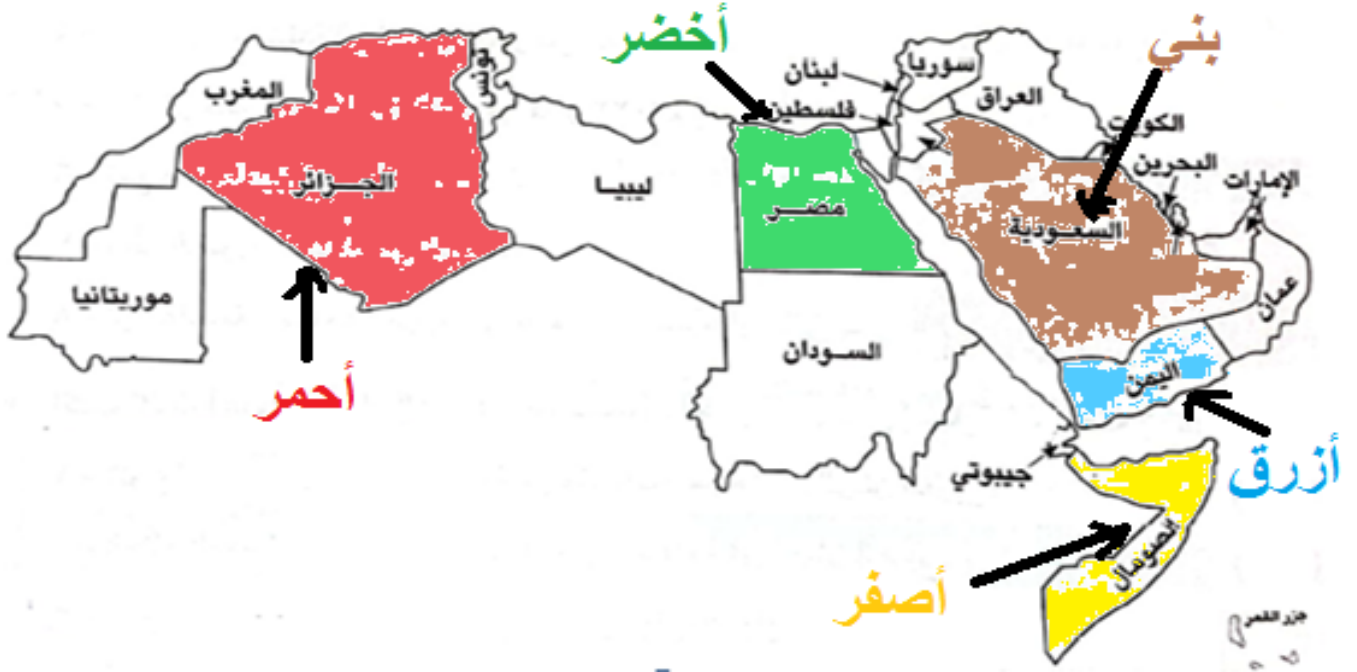
- الجزائر

الاسم:

الصف:

## المهمة الثانية (خريطة)

أمامك خريطة للوطن العربي، لون الدول حسب المطلوب



- (1) لون أكبر دولة عربية من حيث المساحة باللون **الأحمر**.
- (2) لون أكبر دولة عربية في إنتاج البن باللون **الأزرق**.
- (3) لون أكبر دولة عربية في تربية الإبل باللون **الأصفر**.
- (4) لون أكبر دولة عربية في إنتاج البترول باللون **البني**.
- (5) لون أكبر دولة عربية في صناعة الحديد والصلب باللون **الأخضر**.

الاسم:

.....

الصف:

.....

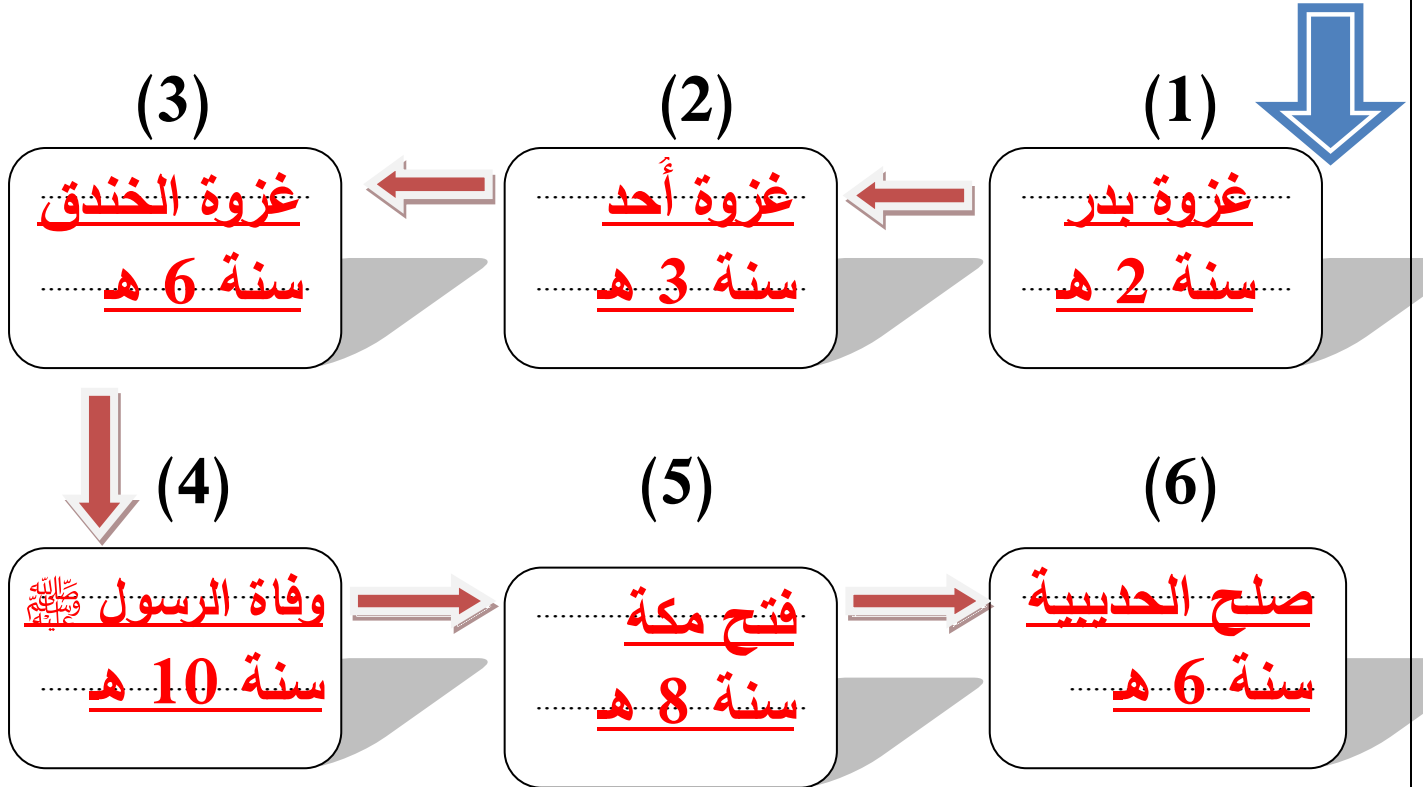
# الدراسات الاجتماعية

## المهمة الثالثة (التاريخ الإسلامي)

قام الرسول بعدة غزوات (معارك)، كان هدف هذه الغزوات هو حماية الدين والدفاع عن المسلمين...

ضع الأحداث التاريخية الآتية في خطها الزمني المناسب من الأقدم إلى الأحدث.

- صلح الحديبية
- وفاة الرسول ﷺ
- غزوة بدر
- فتح مكة
- غزوة أحد
- غزوة الخندق



الاسم: .....

الصف: .....

# الدراسات الاجتماعية

## المهمة الرابعة (الخلفاء الراشدون)

أمامك مجموعة من الأعمال التي قام بها الخلفاء الراشدون،  
انسب كل عمل لصاحبه في الجدول:

- وضع التقويم الهجري.
- إنشاء أول أسطول.
- نقل مقر الخلافة إلى الكوفة.
- محاربة المرتدين.
- جمع القرآن في مصحف واحد.
- تنظيم الشرطة للحراسة.
- إرسال جيش أسامة بن زيد.
- إنشاء الدواوين.

أبو بكر الصديق	عمر بن الخطاب
(1) <u>محاربة المرتدين</u>	(1) <u>وضع التقويم الهجري</u>
(2) <u>إرسال جيش أسامة بن زيد</u>	(2) <u>إنشاء الدواوين</u>
عثمان بن عفان	علي بن أبي طالب
(1) <u>إنشاء أول أسطول</u>	(1) <u>نقل مقر الخلافة إلى الكوفة</u>
(2) <u>جمع القرآن في مصحف</u>	(2) <u>تنظيم الشرطة للحراسة</u>

الاسم: .....

الصف: .....

# الدراسات الاجتماعية

## المهمة الخامسة (صورة وسؤال)

انظر إلى الصور وأكمل بالمطلوب:



- ..... اسم الظاهرة: الكثبان الرملية - اسم المشكلة: الجفاف  
..... سبب تكوينها: التعرية الهوائية - سبب المشكلة: قلة الأمطار



- ..... اسم المسجد: عمرو بن العاص - اسم الحيوان: الجاموس  
..... مكان وجوده: مصر - الدولة الأولى في تربيته: مصر

..... الاسم:
..... الصف: