

توعرب

منتدى تو عرب التعليمي

www.arabia2.com/vb

موقع توعرب التعليمي

www.arabia2.com/vb

نماذج امتحان الصف الثاني الأساسي الفصل الأول ٢٠١٩-٢٠٢٠ م

امتحان العربية لغتي (أقرأ وأفهم وأكتب كلماتي) الصف الثاني

الأساسي الفصل الأول

١- أحوط الإجابة الصحيحة : ٤ درجات

- تحدّث نصُّ هل تعلم ؟ عن (الرياح - الأمطار - الزلازل)

- المكان الأحلى والأفضل لدى الأطفال هو (الفضاء- الشارع-البيت)

- أبو بكر الرازي كيميائي و (ممثلٌ - طيبٌ - عالمٌ) معروفٌ

- عندما تستشعر الحيوانات حدوث الزلازل تتصرف بـ (هدوءٍ - غرابة -

قوة)

٢- أذكر أضداد الكلمات : ٤ درجات

نورٌ × ظلام ، خيالٌ × حقيقة

غريبة × مألوفة ، يخرج × يدخل

٣- أذكر جمع الكلمات : ٤ درجات

متحف : متاحف ، المعلمة : المعلمات

وسيلة : وسائل ، تلميذ : تلاميذ

٤- أدخل / إلى / على كلمة الباحة وأضع في آخرها الحركة المناسبة

١ درجة

الباحةُ ← إلى الباحةِ

٥- أضع الحركة المناسبة على آخر الكلمات التي تحتها خط : ٦

درجات

شاهدَ الزوارُ النَّوْلَ - رتبَ زيادُ الغرفةَ - يحبُّ الطفلُ الفضاءَ
لم نذهبَ إلى البحرِ - لا أعبرُ الشَّارِعَ مسرِعاً - قدمتُ المدرسةُ الجائزةَ
للمتفوقِ

٦- اختار علامة التقييم وأضعها في □ (. ، ؟ : !) ٧ درجات

زرتُ المتحفَ مع رفاقي □ ، واستمتعتنا بآثاره الخالدة □ .
سألتُ معلّمي □ : في أيِّ زمنٍ عاشتِ الديناصوراتُ □ ؟
فأجابني □ : لقد عاشت منذ آلاف السنين □ .
ما أروعَ متحفَ دمشقَ التربويِّ □ !

٧- أرتب الكلمات التالية لأحصل على جملٍ مفيدةٍ : ٤ درجات

مهْدُ - أرضنا - الحياة . أرضنا مهْدُ الحياة
لَوْحَةٌ - القاعة - في - جميلةٌ في القاعةِ لَوْحَةٌ جميلةٌ

٨- أصل اسم الإشارة مع الجملة المناسبة : ٣ درجات

هذا ← تلميذةٌ مجتهدةٌ
هذه ← جنودٌ شجعانٌ
هؤلاء ← متحفٌ قديمٌ

٩- أضع \checkmark أو \times أمام الجمل : ٤ درجات

- نحقق الرجاء بعزمنا وجدنا \checkmark

- بني المستشفى فوق القمم \checkmark

- يسافر الأطفال في الحقيقة إلى الفضاء \times

- أجهزة رصد الزلازل تكشف وقوعها قبل ساعات \times

١٠- أكتب ما يمليه عليّ المعلم بخط جميل ٣ درجات

قالت المعلمة : هل تعلمون أنّ هناك من تنبأ بالزلازل قبل ساعاتٍ من حدوثه ؟

انتهت الأسئلة

مع تمنياتي لكم بالتوفيق والنجاح

امتحان العلوم الصف الثاني الأساسي الفصل الأول ٤٠ درجة

١- أختار الإجابة الصحيحة وأضعها في دائرة : ٨ درجات

- جزء من النبات يمتص الماء والأملاح من التربة

(الجذر - الساق - الأوراق)

- نأكل جذر نبات (الصنوبر - الفجل - الخس)

- وحدة قياس الكتلة (الكيلوغرام - المتر - الدقيقة)

- من الأوراق الإبرية (البقدونس - البطيخ - الصنوبر)

٢- ضع إشارة \checkmark أو \times أمام ما يناسبه من العبارات : ١٤ درجة

- الخس أوراق تؤكل . \checkmark

- كتلة كتابي العلوم أكبر من كتلة جميع كتي المدرسية . \times

- أفضل مادة لصنع حوض السمك هي الخشب . \times

- أصابع الكف الخمسة تشبه الورقة الكفية . \checkmark

- وظيفة الساق نقل الماء إلى الأوراق . \checkmark

- نصنع الطاولة من المطاط . \times

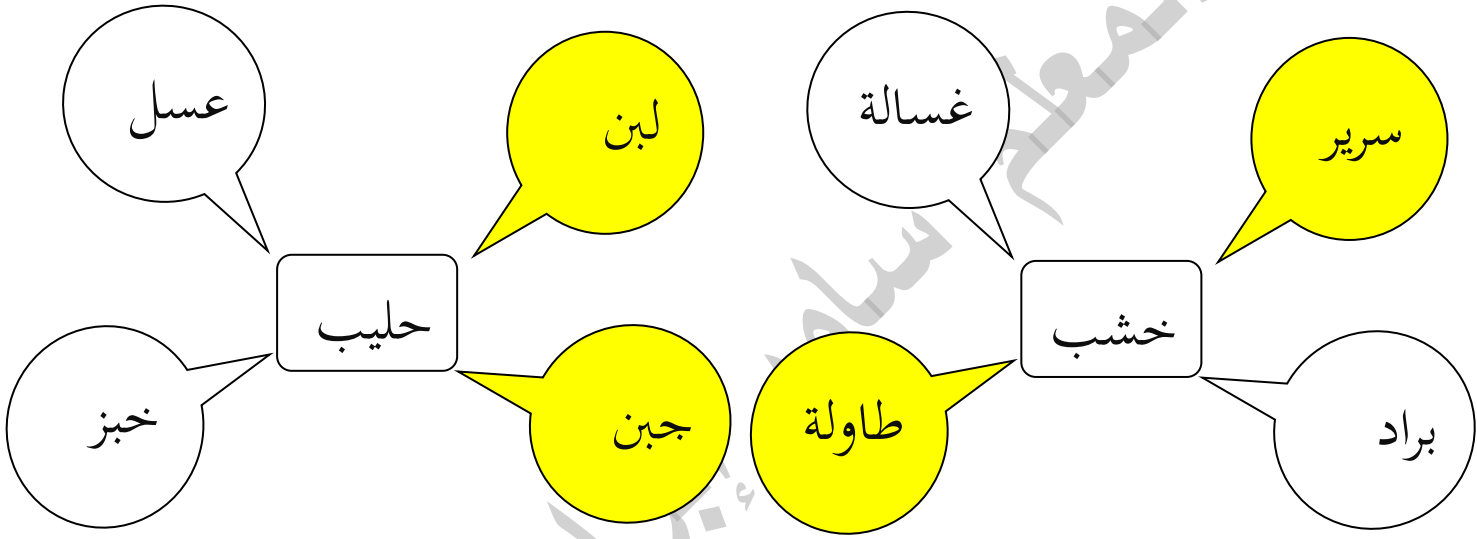
- ساق شجرة السرو منتصبه . \checkmark

٣- أصنّف الأوراق التالية في الجدول : ١٠ درجات

الصنوبر - الذرة - التفاح - التين - البصل

بيضويّة	إبريّة	كفيّة	شريطية
التفاح	الصنوبر	التين	الذرة - البصل

٤- ألوّن المادة التي يمكن صنعها من المواد : ٤ درجات



٥- أقرّن بين كتل الأجسام بكلمة : تساوي أو لا تساوي ٤ درجات



تساوي / لا تساوي



تساوي / لا تساوي



انتهت الأسئلة

مع تمنياتي لكم بالتوفيق والنجاح

امتحان الرياضيات الصف الثاني الأساسي الفصل الأول ٤٠ درجة

١- أحوط الإجابة الصحيحة : (١٠ درجات)

- عدد أصغر من العدد ٧٦٢ هو (٦٧٢ ، ٧٧٢ ، ٧٦٣)

- أنا عدد من ثلاث منازل مئاتي ٨ وعشراتي أصغر من مئاتي ب(٤)

وآحادي ٠ فمن أنا ؟ (٨٤٠ - ٤٠٨ - ٨٠٤)

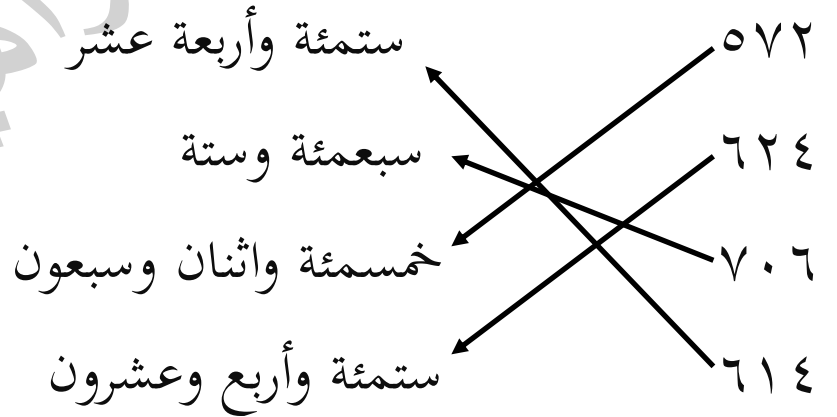
- بالعدد ٧٠٠ يوجد (٧ عشرات - ٧٠ عشرة - ٧٠ مئات)

- $٥٠٠ + ٤٠ + ١$ هي الصيغة التفصيلية للعدد

(٥٤١ ، ٥٤٠ ، ٥١٤)

- $٤٠ + ٣٠ =$ (٧٠ - ٧٠٠ - ٧ مئات)

٢- أصل كل عدد مع اسمه : (٨ درجات)



نماذج امتحان الصف الثاني الأساسي الفصل الأول ٢٠١٩-٢٠٢٠ م

٣- أرتب الأعداد التالية من الأصغر إلى الأكبر : (٨ درجات)

٨٥٣ ، ٨٠٧ ، ٨٣٥ ، ٨٨

٨٥٣

٨٣٥

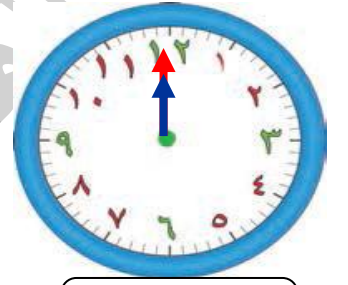
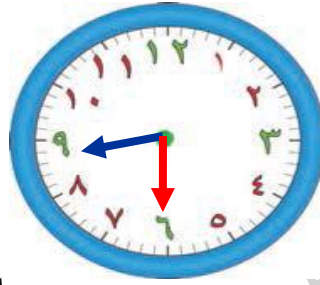
٨٠٧

٨٨

العدد الأكبر

العدد الأصغر

٤- أكتب الوقت الذي تشير إليه الساعة وأحسب المدة (٦ درجات)



المدة : ٨ ساعات ونصف

٨:٣٠

١٢:٠٠

٥- أوجد ناتج ما يلي :

٥ ٠ ٠	٦ ٥ ٢	٥ ٧ ٢
٢ ١ ١ -	٢ ٤ ٨ +	٤ ١ ٣ -
٢ ٨ ٩	٩ ٠ ٠	١ ٥ ٩

٦- مع محمد ٥٧٢ ليرة يريد شراء لعبة ثمنها ٧٢٥ ليرة . هل

يستطيع ذلك ؟ كم ينقصه لشراء اللعبة ؟

الحل : $٥٧٢ - ٧٢٥ = ١٥٣$ ليرة

انتهت الأسئلة

مع تمنياتي لكم بالتوفيق والنجاح

امتحان التربية الدينية الاسلامية الصف الثاني الأساسي الفصل الأول ٤٠ درجة

١- أكمل الحديث : (٨ درجات) ص ٥٤

جَاءَ رَجُلٌ إِلَى رَسُولِ اللَّهِ ﷺ فَقَالَ: مَنْ أَحَقُّ النَّاسِ بِحُسْنِ صُحْبِِي؟
قَالَ: **أُمَّكَ** ، فَقَالَ: ثُمَّ مَنْ؟ قَالَ: **أُمَّكَ** ، قَالَ: ثُمَّ مَنْ؟ قَالَ: **أُمَّكَ** ،
قَالَ: ثُمَّ مَنْ؟ قَالَ: **أَبُوكَ** .

٢- ألون الدائرة التي تدلُّ على الجواب الصحيح : (٢٠ درجة)

- حُسْنُ الصُّحْبَةِ تعني ص ٥٦

○ كثرة العتاب ○ المعاملة الحسنة ○ حب العمل

- من الصفات التي أحبُّ أن أتحملي بها: ص ٤٢

○ الكذب ○ الإساءة ○ الأمانة

- كان النبي ﷺ يتحملُ المصاعب ؛ لذلك تحلَّى ب: ص ٤٣

○ الصبر ○ الصدق ○ الإحسان

- أتكلَّمُ مع الآخرين ب: ص ٤٤

○ ألفاظٌ حسنة ○ تأفف ○ ألفاظٌ سيئة

- ألتزم قولَ الحقيقةِ دوماً فأنا إنسانٌ :

○ كاذبٌ ○ صادقٌ ○ صبورٌ

٣- أضع $\sqrt{\quad}$ أو \times أمام العبارات : (١٢ درجة)

- أعتمدُ على نفسي فلا أرتبُ غرفتي (\times) ص ٤٤

- أعبدُ الله وحده ($\sqrt{\quad}$)

- كل الرسول صلى الله عليه وسلم محباً للعمل ($\sqrt{\quad}$)

- عمل رسول الله صلى الله عليه وسلم في بداية حياته بالتجارة (\times)

- حملتني أمي تسعة أسابيع (\times) ص ٥٧

- من المناسبات التي ترتبط بظهور القمر إعلان عيد الفطر ($\sqrt{\quad}$)

انتهت الأسئلة

مع تمنياتي لكم بالتوفيق والنجاح

امتحان الدراسات الاجتماعية الصف الثاني الأساسي الفصل الأول

السؤال الأول : أحوط الإجابة الصحيحة :

- من آداب الحوار (رفع الصوت - الإصغاء - المقاطعة أثناء الحديث)
- لا أتفق مع رفيقي بالرأي لكنني (أحترم رأيه - لا أتكلم معه - أقاطعه أثناء الحديث)
- تسلق الأشجار سلوك (صحيح - غير صحيح - خطر)
- المنشار أداة خطيرة تسبب (الحروق - الجروح - التسمم)
- من المواد السائلة شديدة الخطورة (الغاز - التمر - الكماشة)

السؤال الثاني : ضع \surd أو \times أمام السلوكيات التالية :

- عندما أحمل المفك أركض مسرعاً لأساعد أبي ()
- أوجه الطرف الحاد للأدوات الخطرة كالكماشة نحو الأسفل ()
- وجدتُ في الطريق مقلمة فلم ألمسها لأنها قد تكون متفجرة ()
- اللعب في الشارع ممتع وليس فيه أخطار ()
- العصير المصنع يحقق فائدة للجسم أكثر من الفاكهة الطبيعية ()

السؤال الثالث : أصل كل مادة مع الخطر التي يمكن أن تسببه :

- | | |
|------------------|---------|
| - الحرائق | التمر |
| - الحروق الجلدية | المازوت |
| - التسمم | المثقب |
| - الجروح | الكلور |

انتهت الأسئلة

مع تمنياتي لكم بالتوفيق والنجاح

نماذج امتحان الصف الثاني الأساسي الفصل الأول ٢٠١٩-٢٠٢٠ م

امتحان الرياضيات الصف الثاني الأساسي الفصل الأول

السؤال الأول : أملأ الفراغات :

٤ عشرات + ٥ عشرات = ٧ عشرات

٧ آحاد و ١ عشرات و ٣ مئات = ٣١٧

ستمئة وخمسة عشر ٦١٥

سبعمئة وأربعون ٧٤٠

السؤال الثاني : أوجد ناتج ما يلي :

$$\dots\dots\dots = 243 + 318, \dots\dots\dots = 125 - 406$$

$$\dots\dots\dots = 138 + 462, \dots\dots\dots = 127 - 215$$

السؤال الثالث : رتب الأعداد التالية تنازلياً :

٢٤٠ ، ٨٤٢ ، ٥٠٤ ، ٥٤١

..... ٦ ٦ ٦ ٦

السؤال الثالث : اكتب الصيغة التفصيلية واسم العدد :

$$\dots\dots\dots = 527 + \dots\dots\dots + \dots\dots\dots \text{ اسم العدد } \dots\dots\dots$$

السؤال الخامس : أصل مدرستي الساعة ٧:٣٠ صباحاً وأغادرها الساعة

١٢:٣٠ ما الوقت الذي أقضيه في مدرستي ؟

انتهت الأسئلة

مع تمنياتي لكم بالتوفيق والنجاح

امتحان العربية لغتي الصف الثاني الأساسي الفصل الأول

السؤال الأول : أختارُ الإجابةَ الصَّحيحةَ ممَّا بينَ القوسينِ في كلِّ ممَّا يأتي:

- المكانُ الأَحلى في الأُنشودةِ هوَ (البيت - الجوّ - الشَّمس)
- أرادَ الأَطفالُ الطَّيرانَ في أحلامِهِم إلى (الجبالِ - السَّماءِ - الأشجار)
- فَتَحْتُ القفصَ (العصفور - للعصفور)
- انتَبَهَ التِّلْمِيذُ (للدرسِ - الدَّرس)
- قَدِّمْتُ مَدْرَسَتَنَا جائزَةً (للمتفوّقِ - المتفوّق)

السؤال الثاني : أختارُ ممَّا بينَ القوسينِ علامةَ التّريقِ المُناسبةَ للجملِ الآتية:

(: - ؟)

- أَحَبُّ وَطَنِي كَثِيراً ()
- هَلْ تُسَاعِدُ أُمَّكَ فِي المَنْزِلِ ()
- مَنْ يُنظِّمُ السَّيْرَ فِي الشَّارِعِ ()

السؤال الثالث : أصلُ كلِّ كلمةٍ من السطرِ الأولِ بما يَتِمُّ معنى الجملةِ من

السَّطْرِ الثاني:

نرسمُ	نسمعُ	نصنعُ	نرفعُ	نكتبُ
قصةً	زورقاً	الدَّرسَ	لوحةً	علماً

السؤال الرابع : أرَتبُ الكَلِماتِ الآتيةَ لأَحصُلَ على جُملةٍ مُفيدَةٍ:

لَوْحَةٌ - في - جميلةٌ - القاعَةَ
.....

نماذج امتحان الصف الثاني الأساسي الفصل الأول ٢٠١٩-٢٠٢٠ م

السؤال الخامس : أضع الحركة المناسبة فوق الحرف المُلَوَّن:

- يَفْتَحُ المتحفُ الأبوابَ للزَّائرين.

- زَيَّنَتِ اللُّوحاتُ جُدْرانَ المتحفِ.

- حَنَطَ الخَبِيرُ الزَّرَافَةَ.

السؤال السادس : أرتب الجمل الآتية لأكون فقرةً، مُراعياً علامات التّقييم:

فيها معلوماتٌ عن المركبة الفضائية

وصورٌ للشمس والقمر

قرأت قصةً عن الفضاء

السؤال السابع : أكتب ما يُملئُه عليّ المُعلِّمُ:

ماذا تعرفُ عن مَرَكَبَةِ الفِضَاءِ؟

السؤال الثامن : أكتب الجملة الآتية بخطّ الرُّقعة مُراعياً المَسَافَةَ بين

الكَلِمَاتِ:

هل للنُّجوم بريقٌ لامعٌ

انتهت الأسئلة

مع تمنياتي لكم بالتوفيق والنجاح

امتحان العلوم الصف الثاني الأساسي الفصل الأول

السؤال الأول : أحوط الإجابة الصحيحة : / ١٢ درجة /

- قسم من النبات موجود تحت التربة (جذر - ساق - أوراق)
- ينقل (الجذر - الساق - الأوراق) الماء إلى أقسام النبات
- تحتاج الأوراق إلى ((الهواء - الضوء - التربة) والماء لتصنع الغذاء للنبات
- من طرق العناية بالنباتات (التسميد - القطع - الحرق)
- من الأشياء المصنوعة من مادة واحدة (قلم الرصاص - الطاولة - عصير البرتقال)

- كتل الأجسام المختلفة (متساوية - غير متساوية - صغيرة)

السؤال الثاني : أضع صح أو خطأ أمام العبارات التالية : / ١٦ درجة /

- ساق شجرة السرو منتصبه ()
- جذر نبات البطاطا وتدي ()
- كتلة كتاب العلوم أصغر من كتلة كتي جميعها ()
- استخدم الميزان ذو الكفتين لقياس كتلة جسم ما ()
- وحدة قياس الكتلة هي المتر ()
- تشترك جميع النباتات على اختلاف أشكالها بأجزاء معينة ()
- لا تتغير كتلة التفاحة عندما نقسمها فقط ()
- تتغير كتلة قلم الطباشير عندما نحولها إلى مسحوق ()

السؤال الثالث : أصل : / ٨ درجات /

- أفضل مادة لصناعة حوض السمك المطاط
- المادة الأساسية المستخدمة لصناعة الخبز الزجاج
- المادة الأساسية المستخدمة لصناعة دولاب السيارة القمح
- تثبت המחاة بوساطة قطعة مصنوعة من المعدن

السؤال الرابع : اكتب اسم ورقة مناسب للشكل المرسوم : / ٤ درجات /



انتهت الأسئلة

مع تمنياتي لكم بالتوفيق والنجاح

امتحان العربية لغتي الصف الثاني الأساسي الفصل الأول

السؤال الأول : أحوِّط الإجابة الصحيحة : / ٨ درجات /

- هناك كائناتٌ حيةٌ كالأسمك تستشعر وقوع الزلزال قبلَ (ساعاتٍ - أيامٍ - دقائق)

- أنا الشاهد على حضارة الأجداد ، بين جدرانني ما تركوه من انجازاتٍ متنوعة أنا (الفضاء - المتحف - البيت)

- في نص (رحلة إلى الفضاء) ليس هناك مثيلٌ لـ (الفضاء - الأرض - البيت)

- أكد الكاتب في قصة (جرة الحديد وجرة الفخار) على أهميّة : (

آداب الحوار - التسامح مع الآخرين - الحفاظ على الفخار القديم)

السؤال الثاني : ضع صح (√) أو خطأ (x) أمام العبارات التالية : /
١٢ درجة /

- أبو بكر الرّازي هو كيميائيٌّ معروفٌ ()

- جمع كلمة خريطة هو خرائط ()

- ضدُّ كلمة الأوّل هو الآخر ()

- معنى كلمة ترويتها كلُّ ارجاء المتحف هو تحكيها ()

- مفرد كلمة دقيقة هو دقائق ()

- تلفظ التاء المربوطة هاءً في الجملة : في حيناً حديقةً جميلة .

السؤال الثالث : أختار علامات الترقيم المناسبة (. ، : ؟ !) وضعها في المربعات : / ٧ درجات /

- قصة رائعة ترويها كلُّ ارجاء المتحف () إنَّه متحفُ دمشقَ التربويُّ ()

- سألتُ معلمي () كم قسماً للمتحف () أجبني () ثلاثة أقسام ()

- ما أعظمَ متحفَ دمشقَ التربويُّ

السؤال الرابع : أرتب الكلمات التالية لأحصل على جملٍ مفيدةٍ : / ٤ درجات /

- التلاميذُ - هتفَ - أحبكِ - سورية

.....

- موسوعةٌ - لديّ - مفيدةٌ - الزلازل - عن

.....

السؤال الخامس : أضع الحركة المناسبة على الكلمات التي تحتها خط
: / ٤ درجات /

- لا أعبتُ بالأشياءِ الغريبةِ .

- جففتِ الطفلة أوراقَ الأشجارِ

- زارَ التلاميذُ المتحفَ

- راقب الطفلُ النجومَ

السؤال السادس : أكتب بخط الرقعة مراعيًا الكلمات وموضع الحرف
من السطر : / درجتان /

هذه أرضي جذوري فيها لن ابتعدَ

السؤال السابع : أكتب ما يمليه عليّ المعلم : / ٣ درجات /

انتهت الأسئلة

مع تمنياتي لكم بالتوفيق والنجاح

امتحان التربية الدينية الاسلامية الصف الثاني الأساسي الفصل الأول

السؤال الأول : أملأ السورة الكريمة بالكلمات : / ١٠ درجات /

(وَالضُّحَى ، رَبُّكَ ، سَجَى ، فَتَرَضَى ، وَلِلْآخِرَةِ)

وَالضُّحَى { ١ } وَاللَّيْلِ إِذَا سَجَى { ٢ } مَا وَدَّعَكَ رَبُّكَ وَمَا قَلَى { ٣ } وَلِلْآخِرَةِ

خَيْرٌ لَّكَ مِنَ الْأُولَى { ٤ } وَلَسَوْفَ يُعْطِيكَ رَبُّكَ فَتَرْضَى { ٥ }

السؤال الثاني : أكمل الحديث : / ٤ درجات /

قال رسول الله ﷺ : ((أنا وكافل اليتيم في الجنة))

السؤال الثالث : أصل بين الكلمة وضدها: / ٦ درجات /

الكلمة : الليلُ الآخرة يُعْطِيكَ

ضدّها : الأولى يَمْنَعُكَ النَّهَارُ

السؤال الرابع : دل على المعنى الصحيح : / ٨ درجات /

كفالة اليتيم هي : رعايته ، الإساءة إليه ، الإحسان إليه

العائل هو : الغني ، القوي ، الفقير

الضحى هو : أوّل النهار ، وسط النهار ، آخر النهار

اسم والد النبي هو : عبد المطلب ، عبد الله ، أبو طالب

السؤال الخامس : ضع إشارة (✓) جانب العبارة الصحيحة وإشارة ()

(X) جانب العبارة الغلط : / ٨ درجات /

- يقسمُ اللّهُ تعالى بالضّحى وبالليل تأكيداً على حبه للنبيِّ محمّدٍ ﷺ ()
- يكونُ الإحسانُ إلى اليتيم مادياً بالكلمة الطيّبة. ()
- إذا وجدتُ شيئاً أعطيه لصاحبه. ()
- اليتيم هو الصغير الذي مات أبوه ()
- تحلى النبي بالصبر فقد كان يتحمل المصاعب ()

السؤال السادس : رتب بالأرقام الآيات حسب ورودها في سورة الضحى

/ ٤ درجات /

- ((وَأَمَّا بِنِعْمَةِ رَبِّكَ فَحَدِّثْ))
- ((وَأَمَّا السَّائِلَ فَلَا تَنْهَرْ))

انتهت الأسئلة

مع تمنياتي لكم بالتوفيق والنجاح

امتحان التربية الدينية الاسلامية الصف الثاني الأساسي الفصل الأول

السؤال الأول : أكمل ما يلي :

وَالضُّحَى وَاللَّيْلِ إِذَا مَا وَدَّعَكَ رَبُّكَ وَلَلْآخِرَةُ

لَكَ مِنْ وَلَسَوْفَ رَبُّكَ صدق الله العظيم

السؤال الثاني : أصل بين الكلمة وضدها:

الكلمة : الليلُ الأخره يُعطيك

ضدها : الأولى يمنعك النهار

السؤال الثالث : اختر الإجابة الصحيحة :

كفالة اليتيم هي: رعايته ، الإساءة إليه ، الإحسان إليه

العائل: الغني ، القوي ، الفقير

الضحى: أول النهار ، وسط النهار ، آخر النهار

السؤال الرابع : أملأ الفراغات الآتية بالكلمات المناسبة:

أمه - أبوه - ست - الصعب

نشأ النبي محمد صلى الله عليه وسلم يتيماً، فقد تُوفي قبل أن

يُولد، وتُوفيت وعمره سنوات، فصبرَ وتحملَ

السؤال الخامس : ضع إشارة (✓) جانب العبارة الصحيحة وإشارة (×) جانب العبارة الغلط :

- يقسمُ اللُّ تعالى بالضَّحَى وباللَّيْلِ تأكيداً على حُبِّه للنَّبِيِّ مُحَمَّدٍ ﷺ ()

- يكونُ الإحسانُ إلى اليتيمِ مادياً بالكلمة الطَّيِّبة. ()

- إذا وجدتُ شيئاً أعطيه لصاحبه. ()

انتهت الأسئلة

مع تمنياتي لكم بالتوفيق والنجاح