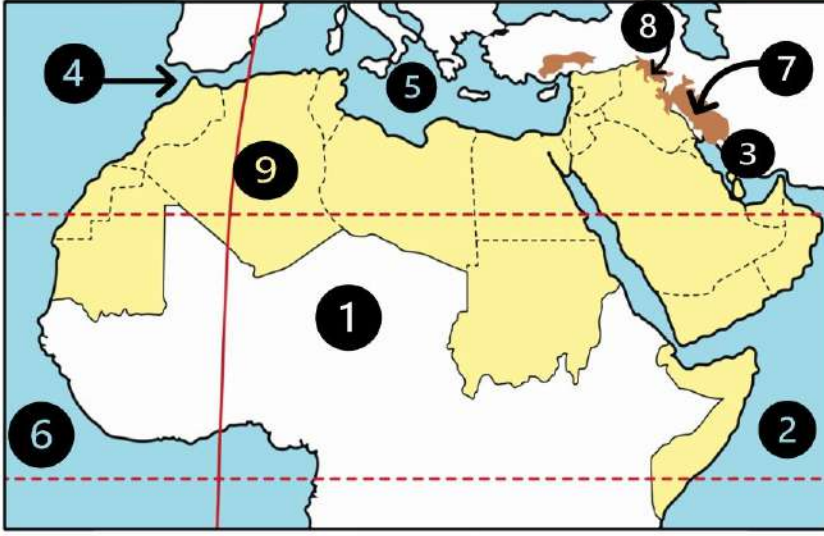


الدرس (١) الموقع الجغرافي لوطننا العربي

السؤال الأول لاحظ الخريطة ثم أجب



- ① يشير رقم (١) للصحراء
- ② يشير رقم (٢) للمحيط
- ③ يشير رقم (٣) للخليج
- ④ يشير رقم (٤) لمضيق
- ⑤ يشير رقم (٥) البحر
- ⑥ يشير رقم (٦) للمحيط
- ⑦ جبل
- ⑧ جبل
- ⑨ دولة

السؤال الثاني أكمل العبارات التالية بكلمات مناسبة

- ① يقع الوطن العربي وسط قارات العالم
- ② تمتد أراضي الوطن العربي في قارتي و
- ③ يحد الوطن العربي من الشمال البحر وجبال
- ④ يحد الوطن العربي من الشرق خليج والخليج
- ⑤ يحد الوطن العربي من الشرق جبال وجبال
- ⑥ توجد النسبة الأكبر من مساحة الوطن العربي في قارة
- ⑦ أكبر الدول العربية من حيث المساحة دولة
- ⑧ تقع أكبر الدولة العربية مساحة في قارة
- ⑨ أصغر الدول العربية من حيث المساحة دولة
- ⑩ تقع أصغر الدولة العربية مساحة في قارة
- ⑪ يطل الوطن العربي على المحيط والمحيط
- ⑫ يطل الوطن العربي من ناحية الغرب على
- ⑬ تقع كنيسة القيامة في دولة
- ⑭ البحر الذي يفصل بين جناحي الوطن العربي الإفريقي والآسيوي هو
- ⑮ وطننا الحبيب مصر يقع في الجناح
- ⑯ دولة سوريا تعد من دول الجناح

السؤال الثالث / اكتب كلمة (صواب) أمام العبارة الصحيحة وكلمة (خطأ) أمام العبارة غير الصحيحة

- ① يتمتع الوطن العربي بموقع جغرافي متميز ()
- ② يمتد الوطن العربي وسط قارات العالم الجديد ()
- ③ يمتد الوطن العربي في قارتي آسيا وإفريقيا ()
- ④ يقع بحر العرب والصحراء الكبرى جنوب الوطن العربي ()
- ⑤ يحد الوطن العربي من جهة الشرق جبال طوروس ()
- ⑥ يطل الوطن العربي من جهة الشمال على المحيط الأطلسي ()
- ⑦ تقع دولة جزر القمر في المحيط الهندي ()
- ⑧ دول الجناح العربي الآسيوي أكثر عددا من دول الجناح العربي الإفريقي ()
- ⑨ تشغل دول الجناح الآسيوي مساحة أكبر من دول الجناح الإفريقي ()
- ⑩ تشترك دول الوطن العربي في التاريخ واللغة والثقافة ()
- ⑪ أكبر الدول العربية مساحة هي السودان ()
- ⑫ الصومال من دول الجناح الإفريقي ()
- ⑬ يشرف وطننا العربي على ثلاثة محيطات مهمة ()
- ⑭ يصل مضيق جبل طارق بين البحر المتوسط والمحيط الأطلسي ()
- ⑮ الوطن العربي يعد موطناً للديانات السماوية ()
- ⑯ الأزهر الشريف في مصر من المراكز الدينية المهمة في الوطن العربي ()
- ⑰ قامت على أرض الوطن العربي العديد من الحضارات مثل الحضارة المصرية القديمة. ()

السؤال الرابع / اختر الاجابة الصحيحة مما بين القوسين

- ① توجد الكعبة المشرفة في دولة
(سوريا - السعودية - الصومال - ليبيا)
- ② إذا أردت السفر لأكبر دول الوطن العربي فسوف تتجه إلى
(المغرب - مصر - البحرين - الجزائر)

- ③ إذا أردت السفر لأصغر دولة الوطن العربي مساحة فسوف تتجه إلى.....
(المغرب - مصر - البحرين - الجزائر)
- ④ توجد النسبة الأكبر من مساحة الوطن العربي في قارة.....
(آسيا - إفريقيا - أوروبا - أستراليا)
- ⑤ يقع البحر المتوسط بالنسبة للوطن العربي جهة.....
(الشمال - الجنوب - الشرق - الغرب)
- ⑥ جبال تحدد الوطن العربي من جهة الشمال.....
(زاجروس - كردستان - أطلس - طوروس)
- ⑦ يحد الوطن العربي من الغرب المحيط.....
(الهندي - الأطلنطي - الهادي - القطبي)
- ⑧ يحد الوطن العربي من جهة الجنوب.....
(الصحراء الكبرى - جبال طوروس - المحيط الهادي - الخليج العربي)
- ⑨ يشغل مساحة الوطن العربي ١٣ مليون كيلومتر مربع ويضم عدد..... دولة
(٢٢ - ٢٣ - ٢٤ - ٢٥)
- ⑩ يوجد بالوطن العربي أماكن مقدسة مثل الجامع الأزهر الذي يوجد في دولة.....
(مصر - فلسطين - السعودية - الجزائر)
- ⑪ تطل دولتا السعودية ومصر على البحر.....
(الأحمر - المتوسط - الميت - الأسود)
- ⑫ تقع دولة جزر القمر في.....
(المحيط الهادي - المحيط الأطلنطي - البحر المتوسط - المحيط الهندي)

السؤال الخامس / أجب عما يأتي؟

- ① بم تفسر // الأهمية الاقتصادية لموقع الوطن العربي؟
- ② بم تفسر // تحكم الوطن العربي في أهم طرق التجارة العالمية؟
-
-

- ③ بم تفسر // للوطن العربي مكانة دينية عظيمة
-

④ بم تفسر // للوطن العربي أهمية حضارية كبيرة؟

⑤ بم تفسر // وجود تراث ثقافي مشترك بين دول الوطن العربي؟

⑥ ما النتائج المترتبة على // الموقع الجغرافي للوطن العربي؟

⑦ ما النتائج المترتبة على // تحكم الوطن العربي في أهم طرق التجارة العالمية؟

⑧ دلل على صحة العبارة التالية // يشرف الوطن العربي على العديد من المسطحات المائية

⑨ دلل على صحة العبارة التالية // قامت العديد من الحضارات على أرض الوطن العربي

⑩ حدد اثنين // من المضائق التي يطل عليها الوطن العربي

⑪ حدد // بعض الخصائص التي تشترك فيها الدول العربية

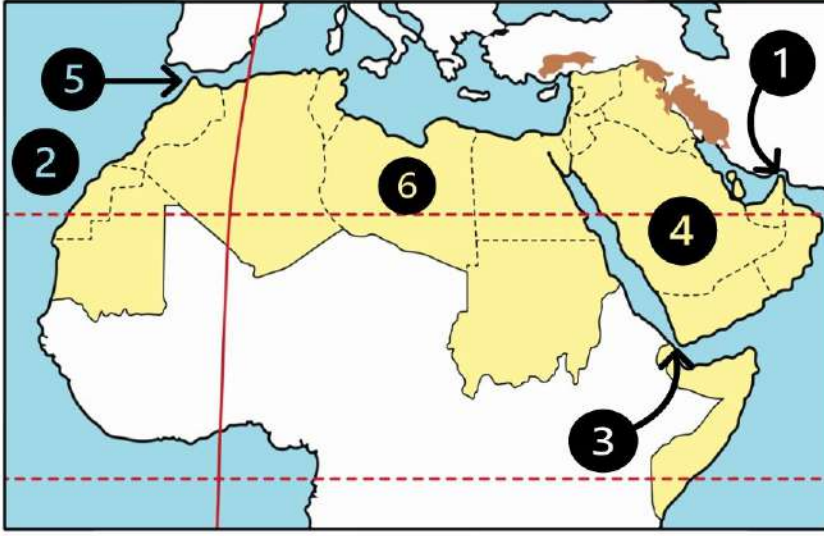
⑫ **صنف الدولة الآتية داخل الجدول**

(مصر - الصومال - السعودية - الأردن - الجزائر - الإمارات - جزر القمر - اليمن - جيبوتي - عمان - سوريا)

دول الجناح الآسيوي	دول الجناح الإفريقي

الدرس (2) قصة ظهور الإسلام

السؤال الأول / لاحظ الخريطة ثم أجب



- ① مضيق
- ② المحيط
- ③ مضيق
- ④ دولة
- ⑤ مضيق
- ⑥ دولة

السؤال الثاني / أكمل العبارات التالية بكلمات مناسبة

- ① نظام الحكم السائد في شبه الجزيرة العربية قبل ظهور الإسلام
- ② أشهر قبائل العرب قبل الإسلام قبيلة
- ③ قام أهل مكة برحلة الصيف إلى ورحلة الشتاء إلى
- ④ ولد الرسول (ﷺ) في شهر
- ⑤ ولد النبي (ﷺ) عام ٥٧٠ م في مدينة
- ⑥ عمل الرسول (ﷺ) وهو في بيت عمه بحرفة
- ⑦ عمل الرسول (ﷺ) بحرفتي الرعي و
- ⑧ لقب الرسول (ﷺ) ب
- ⑨ الغار الذي كان يتعبد فيه الرسول (ﷺ) هو غار
- ⑩ نزلت رسالة الإسلام على النبي (ﷺ) هو في سن
- ⑪ بدأ الرسول (ﷺ) في دعوة المقربين منه وكان منهم صديقة
- ⑫ ظلت الدعوة إلى الإسلام سرية لمدة
- ⑬ هاجر المسلمون أول مرة إلى
- ⑭ كانت المرحلة الثانية من نشر الدعوة الإسلامية مرحلة الدعوة
- ⑮ بدأت المرحلتين الأولى والثانية من الدعوة إلى الإسلام في مدينة

السؤال الثالث / اكتب كلمة (صواب) أمام العبارة الصحيحة وكلمة (خطأ) أمام العبارة غير الصحيحة

- ① ساد النظام الملكي في شبه الجزيرة العربية قبل الإسلام ()
- ② كانت مكة تقوم برحلة واحدة في الشتاء إلى اليمن فقط ()
- ③ كانت حرفة الزراعة هي الحرفة السائدة في شبه الجزيرة العربية ()
- ④ ولد سيدنا محمد (ﷺ) في يثرب ()
- ⑤ ولد النبي (ﷺ) في عام الفيل ()
- ⑥ الشجاعة والكرم من صفات العرب الحسنة ()
- ⑦ وأد البنات وشرب الخمر من الصفات الحسنة عند العرب قبل الإسلام ()
- ⑧ تزوج الرسول (ﷺ) من السيدة خديجة بنت خويلد ()
- ⑨ نزل جبريل برسالة الإسلام على الرسول (ﷺ) في سن الثلاثين ()
- ⑩ رحبت قريش بدعوة الرسول (ﷺ) إلى الإسلام ()
- ⑪ كانت الدعوة الإسلامية سريه لفترة تجنباً لأذى قريش ()
- ⑫ كان علي بن أبي طالب من أوائل الذين استجابوا لدعوة الرسول (ﷺ) ()
- ⑬ استمرت المرحلة الأولى من الدعوة أربع سنوات ()
- ⑭ واجه الرسول (ﷺ) أذى قريش بالأساليب السلمية ()
- ⑮ كانت هجرة المسلمين الأولى إلى يثرب ()
- ⑯ قام الرسول (ﷺ) بدعوة القبائل العربية للإسلام خلال موسم الحج ()
- ⑰ استجاب لدعوة الرسول (ﷺ) وفود من يثرب . ()

السؤال الرابع / اختر الاجابة الصحيحة مما بين القوسين

- ① كانت الحرفة السائدة في شبه الجزيرة العربية قبل الإسلام هي
(التجارة - الصناعة - الزراعة - الرعي)
- ② ساد في شبه الجزيرة العربية قبل الإسلام النظام
(الجمهوري - القبلي - الملكي - الحزبي)
- ③ ولد الرسول (ﷺ) في مدينة
(يثرب - الطائف - مكة - ثقيف)

- ④ ولد الرسول (ﷺ) بمكة في الثاني عشر من شهر
(رجب - ربيع الأول - رمضان - شوال)
- ⑤ رحلة أهل مكة في فصل الشتاء كانت إلى
- (اليمن - اشام - يثرب - مصر)
- ⑥ كان تجار مكة يتجهون في فصل الصيف إلى
- (الشام - الحبشة - اليمن - الهند)
- ⑦ من الصفات الحسنة عند العرب قبل الإسلام
- (وأد البنات - شرب الخمر - الوفاء بالعهد - الأخذ بالثأر)
- ⑧ انتقل الرسول (ﷺ) للعيش في بيت عمه وهو في سن
- (السابعة - الثامنة - التاسعة - العاشرة)
- ⑨ عمل الرسول (ﷺ) بحرفة عندما كان في بيت عمه أبي طالب
(الرعى - التجارة - الزراعة - الصناعة)
- ⑩ نزل جبريل (ﷺ) على الرسول في غار حراء في إحدى ليالي شهر
- (رجب - شعبان - رمضان - شوال)
- ⑪ بدأت قريش في مواجهتها للرسول (ﷺ) بـ
- (الحصار - إيذاء المسلمين - القتال - التفاوض)
- ⑫ كانت الهجرة الأولى للمسلمين إلى
- (الحبشة - يثرب - الطائف - حنين)
- ⑬ لجأ الرسول (ﷺ) إلى نشر دعوته في موسم الحج واستجابت وفود أهل
- (الطائف - مكة - يثرب - الحبشة)
- ⑭ كانت هجرة المسلمين الثانية إلى مدينة
- (الحبشة - يثرب - الطائف - حنين)

السؤال الخامس / أجب عما يأتي؟

- ① بم تفسر // كان النظام القبلي هو النظام السائد في شبه الجزيرة العربية قبل الإسلام؟
- ② بم تفسر // شهرة مكلة تجاريا؟
- ③ بم تفسر // سمى العام الذي ولد فيه الرسول (ﷺ) بعام الفيل
- ④ بم تفسر // بدأ الرسول (ﷺ) بالدعوة إلى الإسلام سرا؟
- ⑤ بم تفسر // رفض قريش للدعوة الإسلامية؟
- ⑥ بم تفسر // هجرة المسلمين إلى الحبشة؟
- ⑦ ما النتائج المترتبة على // انتشار الإسلام في شبه الجزيرة العربية؟
- ⑧ ما النتائج المترتبة على // قيام الرسول (ﷺ) بدعوة القبائل العربية للإسلام في موسم الحج؟
- ⑨ دلل على صحة العبارة التالية // تعددت أساليب قريش في محاربة الدعوة الإسلامية
- ⑩ قارن بين // الصفات الحسنة والعادات السيئة للعرب قبل الإسلام

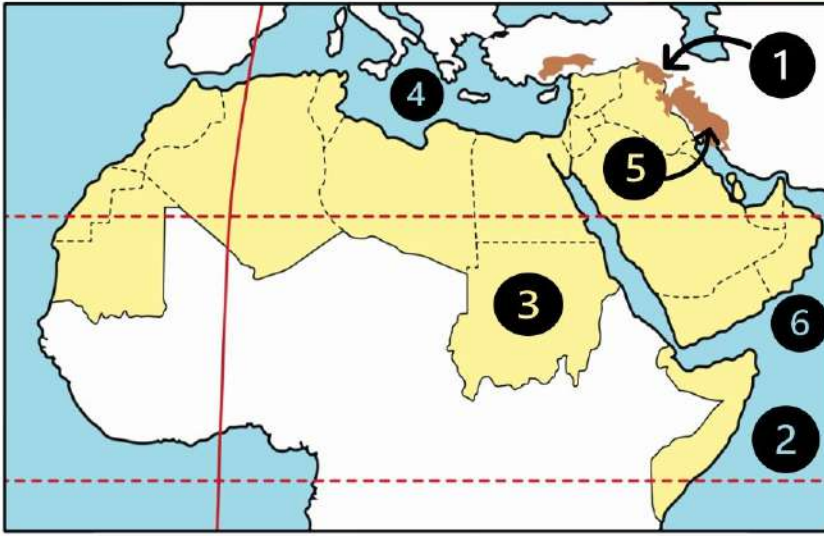
الصفات الحسنة	العادات السيئة

⑪ من يكون ؟

- عم الرسول (ﷺ) وقام برعايته بعد وفاة جده عبدالمطلب
- زوجة الرسول (ﷺ) في بداية نزول الوحي
- نزل على الرسول (ﷺ) برسالة الإسلام
- صديق الرسول (ﷺ) وأول من أسلم من الرجال
- ملك الحبشة الذي هاجر إليه المسلمون في بداية الدعوة

الدرس (3) هجرة الرسول (ﷺ) وتأسيس الدولة الإسلامية

السؤال الأول لاحظ الخريطة ثم أجب



- ① جبال
- ② المحيط
- ③ دولة
- ④ البحر
- ⑤ جبال
- ⑥ بحر

السؤال الثاني أكمل العبارات التالية بكلمات مناسبة

- ① دعا الرسول (ﷺ) أهل يثرب إلى الإسلام في موسم
- ② الصحابي الذي رافق الرسول (ﷺ) في الهجرة هو
- ③ أهل يثرب الذين بايعوا النبي (ﷺ) على نصرته وحمايته فهاجر إليهم هم
- ④ الذين هاجروا من مكة إلى المدينة يطق عليهم اسم
- ⑤ أول عمل قام به الرسول (ﷺ) في المدينة بناء
- ⑥ خاضها الرسول (ﷺ) وأصحابه لحماية الدين الإسلامي والدفاع عن أنفسهم
- ⑦ انتصر المسلمون على قريش عام ٢ هـ في غزوة
- ⑧ خالف الرماة أوامر الرسول (ﷺ) في غزوة
- ⑨ أشار على النبي (ﷺ) بحفر خندق حول المدينة
- ⑩ حاصرت قريش وحلفائها المدينة أثناء غزوة
- ⑪ نص صلح الحديبية على هدنة بين قريش والمسلمين لمدة
- ⑫ تحولت دعوة الإسلام إلى مرحلة العالمية بعد صلح
- ⑬ اعتداء قريش على قبيلة خزاعة كان سبب في فتح

السؤال الثالث اكتب كلمة (صواب) أمام العبارة الصحيحة وكلمة (خطأ) أمام العبارة غير الصحيحة

- ① أمر الرسول (ﷺ) أصحابه بالهجرة إلى الطائف ()
- ② رحبت قريش بهجرة المسلمين إلى يثرب ()
- ③ اجتمع زعماء قريش في دار الأرقم بن أبي الأرقم وتأمروا على قتل الرسول (ﷺ) . ()
- ④ التخطيط الجيد أدى إلى نجاح هجرة الرسول (ﷺ) من مكة ليثرب ()
- ⑤ هاجر النبي (ﷺ) من مكة إلى المدينة مع صديقة أبي بكر الصديق ()
- ⑥ اقتصر دور المسجد في الإسلام على العبادة فقط ()
- ⑦ وضع الرسول (ﷺ) صحيفة المدينة لتنظيم العلاقة بين سكان المدينة ()
- ⑧ وضع الرسول (ﷺ) بعد الهجرة إلى المدينة مبادئ التعايش مع الآخر ()
- ⑨ نصت صحيفة المدينة على حرية العقيدة لغير المسلمين ()
- ⑩ استقبل أهل يثرب الرسول (ﷺ) والمهاجرين بالترحاب ()
- ⑪ هُزم المسلمون في غزوة أحد بسبب قلة عددهم ()
- ⑫ نتعلم من غزوة أحد ضرورة الالتزام بأوامر القائد أثناء الحرب ()
- ⑬ نجحت قريش وحلفائها في الانتصار على المسلمين في غزوة الخندق ٥هـ ()
- ⑭ قدم الرسول (ﷺ) مثلاً عظيماً في التسامح يوم فتح مكة ()
- ⑮ يعد من آداب الحرب في الإسلام عدم قتل النساء والأطفال والشيوخ ()
- ⑯ أطلق الرسول (ﷺ) على يثرب اسم ((المدينة)) ()
- ⑰ حرص النبي (ﷺ) على حماية الناس وممتلكاتهم أثناء الحرب ()
- ⑱ جهز النبي (ﷺ) جيشاً وخرج سرا لفتح مكة في العام العاشر من الهجرة ()
- ⑲ عقد المسلمون صلح الحديبية مع قريش في عام ٥ هـ ()
- ⑳ خرج الرسول (ﷺ) لأداء فريضة الحج في العام العاشر من الهجرة ()
- ㉑ توفي الرسول (ﷺ) عام ١١ هـ ()

السؤال الرابع اختر الاجابة الصحيحة مما بين القوسين

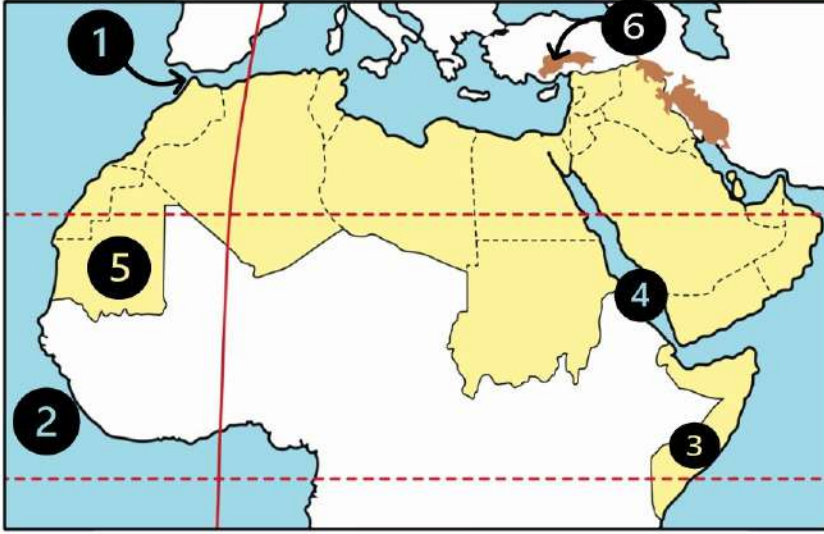
- ① أول أركان بناء الدولة الإسلامية في المدينة هو
(بناء المسجد - وضع صحيفة المدينة - مواجهة المعتدين - المؤاخاة بين المسلمين)
- ② أولى غزوات المسلمين ضد قريش هي غزوة
(الخندق - حنين - خيبر - بدر)
- ③ انتصر المسلمون رغم قلة عددهم على قريش في غزوة
(أحد - خيبر - مؤته - بدر)
- ④ تحول نصر المسلمين إلى هزيمة في غزوة
(بدر - أحد - الخندق - تبوك)
- ⑤ الصحابي الذي أشار على النبي (ﷺ) بحفر خندق حول المدينة هو
(سلمان الفارسي - أبو بكر الصديق - عمر بن الخطاب - علي بن أبي طالب)
- ⑥ غزوة انتصر فيها المسلمون على قريش دون قتال
(بدر - أحد - الخندق - تبوك)
- ⑦ منعت قريش الرسول (ﷺ) وأصحابه في العام السادس الهجري من دخول
(يثرب - الطائف - مكة - حنين)
- ⑧ منعت قريش الرسول (ﷺ) من أداء فريضة العمرة وذلك قبل
(غزوة بدر - غزوة أحد - غزوة الخندق - صلح الحديبية)
- ⑨ اتفق النبي (ﷺ) مع قريش في صلح الحديبية على إيقاف الحرب لمدة سنوات
(سبع - ثماني - تسع - عشر)
- ⑩ ترتب على صلح الحديبية
(ضعف قوة المسلمين - زيادة قوة اليهود - نشر الإسلام عالميا - رفض قريش للدعوة)
- ⑪ عفا الرسول (ﷺ) عن المشركين بعد
(فتح مكة - غزوة الخندق - غزوة بدر - صلح الحديبية)

السؤال الخامس أجب عما يأتي؟

- ① بم تفسر // أمر الرسول (ﷺ) أصحابه بالهجرة إلى يثرب ؟
- ② بم تفسر // دبرت قريش مؤامرة لمنع هجرة الرسول (ﷺ)؟
- ③ بم تفسر // نجاح خطة الرسول (ﷺ) إلى يثرب؟
- ④ بم تفسر // أهمية بناء المسجد في الدولة الإسلامية؟
- ⑤ بم تفسر // مؤاخاة الرسول (ﷺ) بين المهاجرين والأنصار؟
- ⑥ بم تفسر // أهمية صحيفة المدينة؟
- ⑦ بم تفسر // هزيمة المسلمين في غزوة أحد؟
- ⑧ بم تفسر // أهمية صلح الحديبية للمسلمين؟
- ⑨ بم تفسر // خرج الرسول (ﷺ) بجيش كبير لفتح مكة ٨ هـ ؟
- ⑩ ما النتائج المترتبة على // مبايعة وفود أهل يثرب للرسول (ﷺ) في موسم الحج؟
- ⑪ ما النتائج المترتبة على // مخالفة الرماة أوامر الرسول (ﷺ) في غزوة أحد ؟
- ⑫ من قائل العبارة // ((اذهبوا فأنتم الطلقاء)) ومتى ؟ وتدل على ماذا؟
- ⑬ اكتب اثنين من // آداب الحرب في الإسلام التي أوصى بها الرسول (ﷺ)
- ⑭ أذكر // عوامل نجاح هجرة الرسول (ﷺ) من مكة إلى المدينة ؟

الدرس (4) لمحات من حياة الخلفاء الراشدين

السؤال الأول لاحظ الخريطة ثم أجب



- ① مضيق
- ② المحيط
- ③ دولة
- ④ البحر
- ⑤ دولة
- ⑥ جبال

السؤال الثاني أكمل العبارات التالية بكلمات مناسبة

- ① أرسل أبو بكر الصديق (رضي الله عنه) جيشاً لمحاربة الروم في بداية خلافته بقيادة
- ② أرسل الخليفة أبو بكر الصديق (رضي الله عنه) جيش أسامة بن زيد للشام الذي جهزه
- ③ المرتدون هم القبائل التي رفضت دفع
- ④ استشهد كثير من حفظة القرآن الكريم في حروب
- ⑤ أوصى أبو بكر الصديق (رضي الله عنه) بالخلافة من بعده للصحابي
- ⑥ تولى خلافة المسلمين بعد أبي بكر الصديق (رضي الله عنه) الخليفة
- ⑦ يبدأ التقويم الهجري من هجرة الرسول (صلى الله عليه وسلم) من مكة إلى
- ⑧ تم فتح مصر وبلاد العراق في عهد الخليفة
- ⑨ أنشأ عمر بن الخطاب (رضي الله عنه) الدواوين ومنها ديوان بيت المال وديوان
- ⑩ تولى خلافة المسلمين بعد استشهاد عمر بن الخطاب (رضي الله عنه) الخليفة
- ⑪ اشترك عثمان بن عفان في تجهيز الجيش الذي أرسله الرسول (صلى الله عليه وسلم) لغزوة
- ⑫ خصص يوماً للنظر في مظالم الناس الخليفة
- ⑬ انتهى عصر الخلفاء الراشدين باستشهاد

السؤال الثالث اكتب كلمة (صواب) أمام العبارة الصحيحة وكلمة (خطأ) أمام العبارة غير الصحيحة

- 1) اتبع المسلمون نظام التوريث في اختيار الخلفاء الراشدين ()
- 2) ظهر نظام الخلافة عند المسلمين بعد وفاة الرسول (ﷺ) ()
- 3) جعل الرسول (ﷺ) أثناء مرضه عمر بن الخطاب إماماً للمسلمين في الصلاة ()
- 4) شارك أبو بكر الصديق (رضي الله عنه) في جميع غزوات الرسول (ﷺ) ()
- 5) أول عمل قام به أبو بكر الصديق (رضي الله عنه) بعد توليه الخلافة هو جمع القرآن الكريم ()
- 6) أمر أبو بكر الصديق (رضي الله عنه) زيد بن ثابت بجمع القرآن الكريم ()
- 7) نجحت الجيوش الإسلامية في عهد أبي بكر الصديق (رضي الله عنه) في محاربة المرتدين ()
- 8) المرتدين هم قبائل رفضت دفع الزكاة ومنهم من ادعى النبوة ()
- 9) كان إرسال الجيوش خارج شبه الجزيرة العربية بهدف تأمين حدود الدولة الإسلامية ()
- 10) تم اختيار عمر بن الخطاب (رضي الله عنه) كخليفة للمسلمين بناء على رأى فردي ()
- 11) أنشأ الخليفة عمر بن الخطاب (رضي الله عنه) ديوان الجند ()
- 12) بدأ التقويم الهجري بهجرة المسلمين إلى الحبشة ()
- 13) استكمل عمر بن الخطاب (رضي الله عنه) الفتوحات الإسلامية التي بدأت في عهد أبو بكر الصديق ()
- 14) أمر عثمان بن عفان (رضي الله عنه) بإنشاء أول أسطول بحري في الإسلام ()
- 15) قام عثمان بن عفان بتوسيع مسجد النبي (ﷺ) واشترى بئر رومة للمسلمين ()
- 16) أراد عثمان بن عفان (رضي الله عنه) توحيد قراءة القرآن الكريم ()
- 17) قام الخليفة علي بن أبي طالب (رضي الله عنه) بنقل مقر الخلافة إلى الكوفة ()
- 18) تم تنظيم الشرطة في عهد الخليفة عثمان بن عفان (رضي الله عنه) ()
- 19) عين الخليفة عثمان بن عفان (رضي الله عنه) شرطة لحراسة بيت المال ()

السؤال الرابع اختر الاجابة الصحيحة مما بين القوسين

- 1 أول من أسلم من الرجال هو
(أبو بكر الصديق - عمر بن الخطاب - عثمان بن عفان - علي بن أبي طالب)

- 2 أول الخلفاء الراشدين هو الخليفة
- (أبو بكر الصديق - عمر بن الخطاب - عثمان بن عفان - علي بن أبي طالب)
- 3 ارتدت بعض القبائل عن الإسلام في عهد الخليفة
- (أبو بكر الصديق - عمر بن الخطاب - عثمان بن عفان - علي بن أبي طالب)
- 4 أول من أرسل الجيوش الإسلامية خارج شبه الجزيرة العربية لنشر الإسلام هو
- (أبو بكر الصديق - عمر بن الخطاب - عثمان بن عفان - علي بن أبي طالب)
- 5 أي مما يلي يعد من أعمال الخليفة أبي بكر الصديق (رضي الله عنه)
- (إنشاء الدواوين - محاربة المرتدين - تعيين صاحب الشرطة - إنشاء أسطول بحري)
- 6 جمع القرآن الكريم في عهد الخليفة أبي بكر الصديق على يد الصحابي
- (عمرو بن العاص - خالد بن الوليد - زيد بن ثابت - أسامة بن زيد)
- 7 أوصى أبو بكر الصديق (رضي الله عنه) بالخلافة من بعده إلى
- (معاوية بن أبي سفيان - عمر بن الخطاب - عثمان بن عفان - علي بن أبي طالب)
- 8 تم إنشاء الدواوين في عهد الخليفة
- (أبو بكر الصديق - عمر بن الخطاب - عثمان بن عفان - علي بن أبي طالب)
- 9 تم فتح مصر في عهد الخليفة
- (أبو بكر الصديق - عمر بن الخطاب - عثمان بن عفان - علي بن أبي طالب)
- 10 أول الخلفاء الراشدين الذي بدأ الفتوحات الإسلامية في قارة إفريقيا هو
- (أبو بكر الصديق - عمر بن الخطاب - عثمان بن عفان - علي بن أبي طالب)
- 11 بنى مسجد عمرو بن العاص في مصر في عهد الخليفة
- (أبو بكر الصديق - عمر بن الخطاب - عثمان بن عفان - علي بن أبي طالب)
- 12 اشترك عثمان بن عفان (رضي الله عنه) في العديد من الغزوات ما عدا غزوة
- (بدر - أحد - الخندق - تبوك)

- 13 أمر الخليفة عثمان بن عفان (رضي الله عنه) بـ
(إنشاء الدواوين - وضع التقويم الهجري - كتابة القرآن في مصحف واحد - محاربة المرتدين)
- 14 أنشئ أول أسطول بحري إسلامي في عهد الخليفة
(أبو بكر الصديق - عمر بن الخطاب - عثمان بن عفان - علي بن أبي طالب)
- 15 تم نشاء أول أسطول بحري لتأمين سواحل مصر والشام من هجمات
(الروم - قريش - المغول - الفرس)
- 16 نقل الخليفة علي بن أبي طالب (رضي الله عنه) مقر الخلافة إلى
(القدس - الكوفة - مكة - المدينة)
- 17 قام الخليفة علي بن أبي طالب (رضي الله عنه) بنقل مقر الخلافة من المدينة إلى
(اليمن - مصر - الشام - العراق)
- 18 آخر الخلفاء الراشدين هو الخليفة
(عمر بن الخطاب - علي بن أبي طالب - أبو بكر الصديق - عثمان بن عفان)
- 19 الخليفة الذي أمر بتعيين شرطة لحراسة بيت المال هو
(أبو بكر الصديق - عمر بن الخطاب - عثمان بن عفان - علي بن أبي طالب)

السؤال الخامس أجب عما يأتي؟

- ① بم تفسر // اختيار أبي بكر الصديق (رضي الله عنه) أول خليفة للمسلمين؟
.....
- ② بم تفسر // إرسال جيش أسامة بن زيد إلى الشام؟
.....
- ③ بم تفسر // إرسال الجيوش الإسلامية خارج شبه الجزيرة العربية؟
.....
- ④ بم تفسر // اشترك عثمان بن عفان (رضي الله عنه) في جميع الغزوات ما عدا غزوة بدر؟
.....
- ⑤ بم تفسر // قيام الخليفة عثمان بن عفان (رضي الله عنه) بكتابة القرآن في مصحف واحد؟
.....
- ⑥ بم تفسر // إنشاء الخليفة عثمان بن عفان (رضي الله عنه) أسطولا بحريا إسلاميا؟
.....

⑦ بم تفسر // قيام علي بن أبي طالب بنقل مقر الخلافة من المدينة إلى الكوفة بالعراق ؟

⑧ بم تفسر // قيام علي بن أبي طالب (رضي الله عنه) بتنظيم الشرطة ؟

⑨ ما النتائج المترتبة على // ارتداد بعض القبائل عن الإسلام بعد وفاة الرسول (صلى الله عليه وسلم)؟

⑩ ما النتائج المترتبة على // استشهاد عدد كبير من حفظة القرآن الكريم في حرب المرتدين ؟

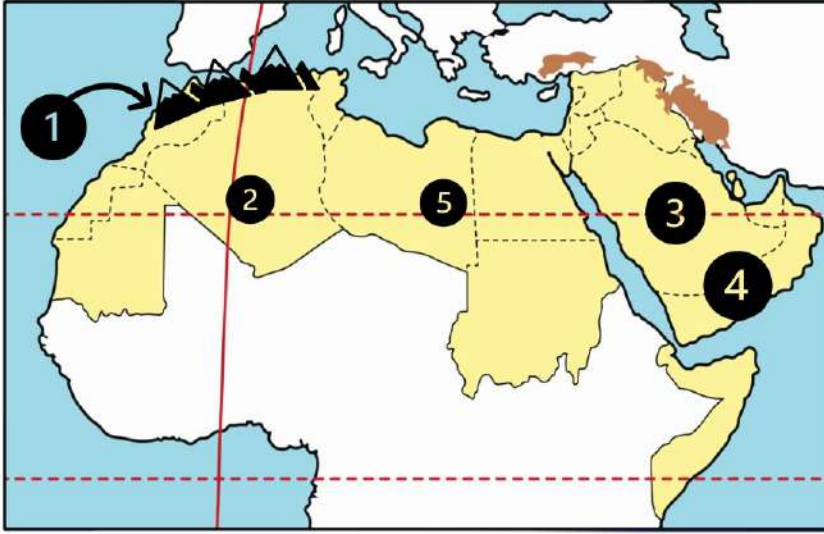
⑪ ما النتائج المترتبة على // اتساع أرجاء الدولة الإسلامية في عهد الخليفة علي بن أبي طالب ؟

مستر اعطاني زكي شحتو

الدرس (1) مظاهر سطح وطننا العربي

الوحدة الثانية

السؤال الأول لاحظ الخريطة ثم أجب



- ① جبال
- ② واحة
- ③ هضبة
- ④ هضبة
- ⑤ واحة

السؤال الثاني أكمل العبارات التالية بكلمات مناسبة

- ① أعلى قمة جبلية في الوطن العربي هي قمة جبل
- ② أدنى نقطة في الوطن العربي هي في الأردن
- ③ يوجد في وطننا العربي نوعان من جبال وجبال
- ④ تقع واحة عين صالح في دولة
- ⑤ يقع وادي الجرير في دولة
- ⑥ تكونت جبال أطلس نتيجة الحركات
- ⑦ مرتفعات اليمن تكونت نتيجة
- ⑧ تقع هضبة حضر موت في الجناح
- ⑨ يصعب إقامة مواني على ساحل البحر الأحمر لوجود
- ⑩ أكبر الظواهر التضاريسية مساحة في الوطن العربي هي
- ⑪ أكثر مظاهر السطح انتشارا في الوطن العربي هي
- ⑫ تعتبر جبال عسير من أمثلة الجبال
- ⑬ يمتد بحر الرمال العظيم بين مصر و

- 14) تكونت السهول الفيضية نتيجة
- 15) تكونت الأودية الجافة في الوطن العربي نتيجة
- 16) تقع سهول دجلة والفرات في قارة
- 17) تعد سهول دجلة والفرات من السهول
- 18) تكونت التجمعات الرملية بفعل
- 19) تقوم الزراعة بوحدة صالح اعتمادا على
- 20) تتميز السهول الساحلية المطلة على البحر المتوسط بأماطارها في فصل

السؤال الثالث / اكتب كلمة (صواب) أمام العبارة الصحيحة وكلمة (خطأ) أمام العبارة غير الصحيحة

- 1) توجد جبال أطلس في الجناح الآسيوي للوطن العربي ()
- 2) بحر الرمال العظيم يقع بين دولتي مصر والسودان ()
- 3) تقع سلاسل جبال الحجاز وعسير في شبه جزيرة سيناء ()
- 4) تقع جبال الحجاز في الجناح الإفريقي من الوطن العربي ()
- 5) هضبة حضر موت إحدى هضاب الجناح الآسيوي ()
- 6) تقع هضبة بادية الشام في وسط شبه الجزيرة العربية ()
- 7) تكونت جبال أطلس نتيجة انكسار في القشرة الأرضية ()
- 8) جبال عُمان أحد أنواع الجبال الالتوائية في الوطن العربي ()
- 9) تستخرج الثروات المعدنية ومصادر الطاقة من سهول البحر الأحمر ()
- 10) أدنى نقطة في سطح الوطن العربي هي بحر قزوين ()
- 11) تتميز سهول المحيط الأطلنطي بقلة السكان وسهولة التنقل ()
- 12) تتميز سهول البحر المتوسط بأنها كثيرة السكان ()
- 13) تقوم الزراعة في الواحات اعتمادا على المياه الجوفية ()
- 14) ساعد تنوع مظاهر السطح على تنوع الأنشطة الاقتصادية ()

السؤال الرابع اختر الاجابة الصحيحة مما بين القوسين

- ① تقع بحيرة عسل في دولة
- (الصومال - السودان - جيبوتي - مصر)
- ② يقصد السياح واحة سيوة في دولة للعلاج
- (الصومال - مصر - السودان - جيبوتي)
- ③ من الأودية التي تكونت بفعل التعرية المائية وادي الجريير في
- (مصر - ليبيا - تونس - السعودية)
- ④ أكثر أشكال السطح انتشارا في الوطن العربي هي
- (الجبال - الهضاب - السهول الفيضية - السهول الساحلية)
- ⑤ تعوق الشعاب المرجانية إقامة الموانئ على ساحل في الوطن العربي
- (البحر المتوسط - الخليج العربي - البحر الأحمر - المحيط الأطلنطي)
- ⑥ توجد في دولتي مصر والسودان جبال
- (كردستان - زاجروس - عسير - البحر الأحمر)
- ⑦ تمتد هضبة إفريقيا الشمالية من جبال البحر الأحمر إلى المحيط
- (الهادي - الهندي - الأطلنطي - القطبي)
- ⑧ أحد الجبال الالتوائية في الوطن العربي هي جبال
- (الشام - الحجاز - أطلس - عسير)
- ⑨ جبال نشأت نتيجة انكسار في القشرة الأرضية
- (كردستان - زاجروس - عمان - عسير)
- ⑩ إحدي هضاب الجناح العربي الآسيوي
- (الشطوط - الصحراء الكبرى - المعازة - بادية الشام)
- ⑪ (تكونت نتيجة ترسب المواد العالقة في مياه الأنهار) تشير هذه العبارة إلى
- (السهول الساحلية - الجبال - الهضاب - السهول الفيضية)

- 12) السهول الساحلية التي تتميز بتساقط الأمطار في فصل الشتاء هي سهول
(البحر المتوسط - البحر الأحمر - الخليج العربي - بحر العرب)
- 13) (تستخدم كطريق للمواصلات في الصحاري) تنطبق العبارة على
(السهول الفيضية - السهول الساحلية - الأودية الجافة - الجبال الإنكسارية)
- 14) تعتمد الزراعة في الواحات على
(المياه الجوفية - البحار - الأنهار - الأمطار الشتوية)
- 15) السهول التي تتميز بتربتها الفقيرة أو الملحية تقع على
(البحر المتوسط - المحيط الأطلسي - نهر النيل - الخليج العربي)

السؤال الخامس / أجب عما يأتي؟

1) بم تفسر // نشأة جبال البحر الأحمر ؟

2) بم تفسر // نشأة جبال أطلس ؟

3) بم تفسر // أهمية الأودية الجافة؟

4) بم تفسر // قلة الموانئ على البحر الأحمر؟

5) بم تفسر // يعيش بعض السكان في الواحات ؟

6) بم تفسر // تكون السهول الفيضية في الوطن العربي ؟

7) ما النتائج المترتبة على // تنوع مظاهر سطح الوطن العربي ؟

8) ما النتائج المترتبة على // وجود الشعاب المرجانية على ساحل البحر الأحمر ؟

9) حدد أوجه التشابه والاختلاف بين // جبال البحر الأحمر وجبال أطلس

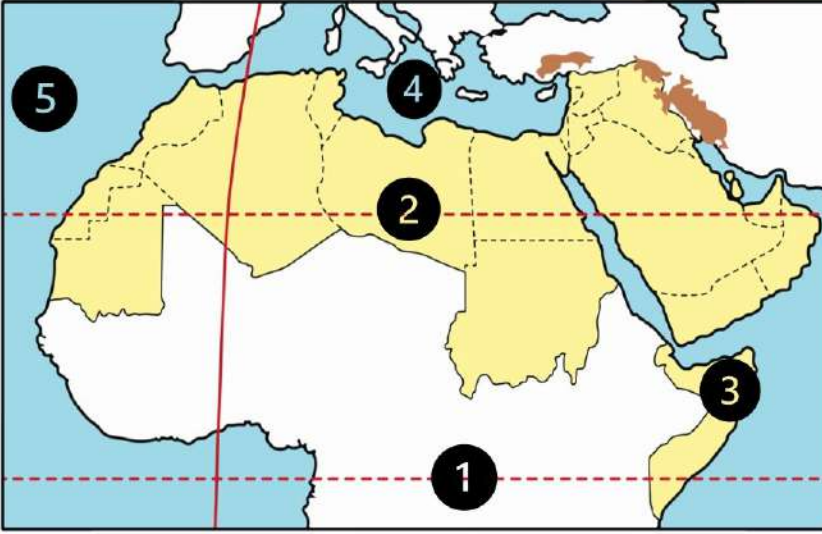
جبال أطلس	جبال البحر الأحمر	
		التشابه
		الاختلاف

الوحدة الثانية

الدرس (2) العوامل المؤثرة في مناخ وطننا العربي

السؤال الأول

لاحظ الخريطة ثم أجب



① دائرة

② مدار

③ دولة تسقط عليها

أمطار موسمية

④ البحر

⑤ المحيط

السؤال الثاني

أكمل العبارات التالية بكلمات مناسبة

① يسود المناخ معظم أجزاء الوطن العربي

② يسود المناخ المعتدل الأجزاء من الوطن العربي

③ تسقط الأمطار بغزارة على منحدرات الجبال المواجهة للرياح لأنها محملة بـ

④ الرياح الباردة تهب على الوطن العربي من أوروبا و

⑤ يهب على الوطن العربي صيفا رياح حارة قادمة من جنوب

⑥ تمر دائرة الاستواء الوطن العربي

⑦ الأمطار التي تسقط صيفا على معظم أنحاء الصومال تسمى

⑧ حركة مياه البحار والمحيطات تسمى

السؤال الثالث

اكتب كلمة (صواب) أمام العبارة الصحيحة وكلمة (خطأ) أمام العبارة غير الصحيحة

① يؤثر الموقع الفلكي للوطن العربي على مناخه ()

② تمر دائرة الاستواء في شمال الوطن العربي ()

③ ترتفع درجات الحرارة كلما اتجهنا جنوب الوطن العربي ()

④ المناطق الداخلية من الوطن العربي تكون أكثر اعتدالا من المناطق الساحلية ()

⑤ تؤثر المسطحات المائية على مناخ الوطن العربي ()

- ⑥ تؤثر المسطحات المائية على المدى الحراري اليومي والسنوي ()
- ⑦ تسقط الأمطار على مرتفعات اليمن شتاء ()
- ⑧ تسقط الأمطار صيفا على الأطراف الشمالية للوطن العربي ()
- ⑨ يتعرض الوطن العربي إلى رياح حارة صيفا قادمة من أوروبا ()
- ⑩ يؤدي سوء الأحوال المناخية إلى تأجيل أو إلغاء الرحلات الجوية ()
- ⑪ لا يتم مراعاة الظروف المناخية عند اختيار المواقع لبناء المطارات ()

السؤال الرابع اختر الإجابة الصحيحة مما بين القوسين

- ① يمر بأراضي الوطن العربي جنوبا
(الدائرة القطبية الشمالية - مدار السرطان - دائرة الاستواء - خط جرينتش)
- ② يقل سقوط الأمطار في الوطن العربي على
(الجبال - السهول - الأودية - الصحراء)
- ③ المناطق القريبة من المسطحات المائية يكون مناخها
(شديد الحرارة والجفاف - أكثر اعتدالا ومطرا - أقل اعتدالا ومطرا - شديد البرودة والجفاف)
- ④ يتميز مناخ الوطن العربي بالحرارة الشديدة في فصل
(الشتاء - الربيع - الصيف - الخريف)
- ⑤ تهب على الوطن العربي شتاء رياح شديدة البرودة قادمة من
(قارة إفريقيا - المحيط الهندي - قارة أوروبا - المحيط الهادي)
- ⑥ مناخ مدينة الإسكندرية معتدل أكثر من مناخ مدينة الرياض بسبب تأثير
(اتجاه المرتفعات - المسطحات المائية - التيارات البحرية - خط جرينتش)
- ⑦ الارتفاع لمسافة ١٥٠ متر فوق مستوي سطح البحر يؤدي إلى انخفاض درجة الحرارة بقدر
(درجة واحدة - درجتين - ثلاث درجات - أربع درجات)
- ⑧ تسقط أمطار موسمية صيفية على دولة
(لبنان - سوريا - اليمن - تونس)

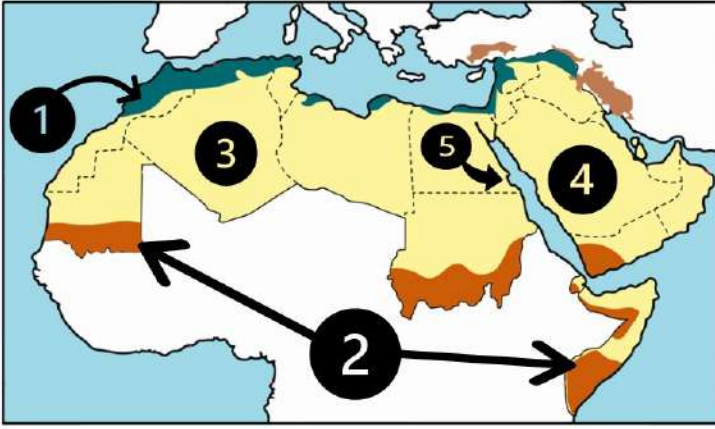
- ⑨ يحل فصل الشتاء على الوطن العربي عندما تتعامد الشمس على
(مدار السرطان - مدار الجدي - الدائرة القطبية - دائرة الاستواء)
- ⑩ يحل فصل الصيف على الوطن العربي عندما تتعامد الشمس على
(مدار السرطان - مدار الجدي - الدائرة القطبية - دائرة الاستواء)

السؤال الخامس / أجب عما يأتي؟

- ① ما النتائج المترتبة على // الموقع الفلكي للوطن العربي ؟
.....
- ② بم تفسر // ارتفاع درجة الحرارة في المناطق الجنوبية للوطن العربي ؟
.....
- ③ بم تفسر // انخفاض درجة الحرارة في الأجزاء الشمالية من الوطن العربي ؟
.....
- ④ بم تفسر // المناطق الساحلية أكثر اعتدالا من المناطق الداخلية (القارية) بالوطن العربي؟
.....
- ⑤ بم تفسر // انخفاض درجة الحرارة شتاء في المناطق الداخلية (القارية) ؟
.....
- ⑥ بم تفسر // ارتفاع درجة الحرارة صيفا في المناطق الداخلية (القارية) ؟
.....
- ⑦ بم تفسر // مناخ مدينة الإسكندرية أكثر اعتدالا من مناخ مدينة الرياض ؟
.....
- ⑧ بم تفسر // يقل تأثير المسطحات المائية في الوطن العربي ؟
.....
- ⑨ بم تفسر // انخفاض درجة الحرارة في المناطق المرتفعة بالوطن العربي؟
.....
- ⑩ دلل // يؤثر المناخ على الأنشطة البشرية مثل الطيران
.....

الوحدة الثانية
الدرس (3) الأقاليم المناخية والنباتية في وطننا العربي

السؤال الأول / لاحظ الخريطة ثم أجب



- ① إقليم مناخ
- ② إقليم المناخ
- ③ إقليم المناخ
- ④ دولة
- ⑤ إحدى المحميات المصرية

السؤال الثاني / أكمل العبارات التالية بكلمات مناسبة

- ① يسود الوطن العربي أقاليم مناخية
- ② يتميز إقليم البحر المتوسط بتساقط الأمطار في فصل
- ③ تربي الأغنام والماعز في إقليم مناخ
- ④ يسود معظم الوطن العربي إقليم المناخ
- ⑤ ينتشر في إقليم البحر المتوسط أشجار و.....
- ⑥ تنمو بالإقليم المداري في الوطن العربي حشائش
- ⑦ تسقط الأمطار صيفا في الإقليم المناخي
- ⑧ ينمو نبات الصبار في الإقليم
- ⑨ تقع محمية ضانا في دولة
- ⑩ تقع محمية أرز الشوف بدولة

السؤال الثالث / اكتب كلمة (صواب) أمام العبارة الصحيحة وكلمة (خطأ) أمام العبارة غير الصحيحة

- ① تعيش الأسود في إقليم مناخ البحر المتوسط ()
- ② تقع محمية ضانا في الكويت ()
- ③ تنوع الأقاليم المناخية في الوطن العربي أدى إلى تنوع النبات الطبيعي ()
- ④ تربي الماعز والأغنام في الإقليم المداري ()

- ⑤ يشغل معظم مساحة الوطن العربي الإقليم الصحراوي ()
- ⑥ تنمو حشائش السافانا في إقليم البحر المتوسط ()
- ⑦ تنمو حشائش السافانا في الإقليم المداري بالوطن العربي ()
- ⑧ يقل المدي الحراري في معظم الصحاري الكبرى بالوطن العربي ()
- ⑨ تساعد المحميات الطبيعية في الحفاظ على الحياة البرية بالوطن العربي ()
- ⑩ يحتفل العالم يوم ٣ مارس من كل عام باليوم العالمي للحياة البرية ()

السؤال الرابع / اختر الإجابة الصحيحة مما بين القوسين

- ① تسقط أمطار إقليم البحر المتوسط في فصل
(الشتاء - الخريف - الربيع - الصيف)
- ② تسقط أمطار الإقليم المداري في فصل
(الشتاء - الخريف - الربيع - الصيف)
- ③ يمتد الإقليم المداري في الوطن العربي
(شمال - جنوب - شرق - غرب)
- ④ يمتد إقليم البحر المتوسط في الوطن العربي
(شمال - جنوب - شرق - غرب)
- ⑤ محمية جبل علبه من أشهر المحميات في الوطن العربي والتي تقع بدولة
(الصومال - مصر - السودان - جيبوتي)
- ⑥ إحدى الدول العربية التي تقع أجزاءها الشمالية في إقليم مناخ البحر المتوسط
(موريتانيا - ليبيا - السودان - اليمن)
- ⑦ حشائش الإستبس تنمو في إقليم مناخي
(البحر المتوسط - الصحراوي - المداري - الموسمي)
- ⑧ تنمو أشجار الأرز في إقليم مناخ
(الاستوائي - الصحراوي الحار - البحر المتوسط - المداري)

- ⑨ تنتشر النباتات التي لها قدرة على تحمل الجفاف في الإقليم المناخي
(المداري - الصحراوي الحار - المتوسط - الموسمي)
- ⑩ تقع دولة فلسطين ولبنان ضمن الإقليم المناخي
(الاستوائي - الصحراوي الحار - البحر المتوسط - المداري)
- ⑪ دولة عربية تقع بالكامل داخل الإقليم الصحراوي الحار هي
(الجزائر - الكويت - السودان - لبنان)
- ⑫ يعيش الزراف والأسود بالإقليم
(الصحراوي - البحر المتوسط - المداري - الموسمي)
- ⑬ إقليم مناخي يشمل النطاق الساحلي من الصومال وتندر به الأمطار هو الإقليم
(المداري - الصحراوي - البحر المتوسط - الموسمي)
- ⑭ يتسم مناخ الجزء الجنوبي الغربي من شبه الجزيرة العربية بأنه
(شتاء بارد ممطر - صيف حار جاف - شتاء معتدل جاف - ممطر طوال العام)

السؤال الخامس / أجب عما يأتي؟

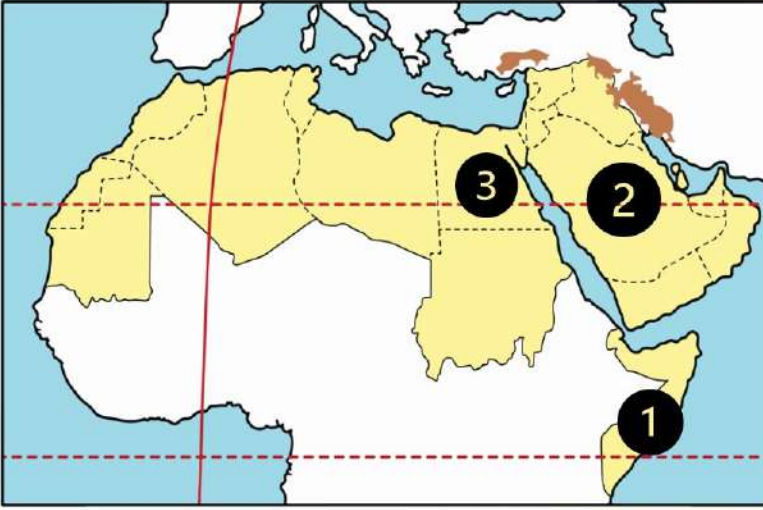
- ① بم تفسر // تنوع الأقاليم المناخية في وطننا العربي ؟
.....
- ② بم تفسر // أهمية حشائش الإستبس بالنسبة للثروة الحيوانية ؟
.....
- ③ بم تفسر // إنشاء الدول العربية المحميات الطبيعية ؟
.....
- ④ بم تفسر // الأهمية الاقتصادية للمحميات الطبيعية ؟
.....
- ⑤ بم تفسر // سقوط الأمطار صيفا على جنوب غرب شبه الجزيرة العربية ؟
.....
- ⑥ ما النتائج المترتبة على // تنوع الأقاليم المناخية للوطن العربي؟
.....

الوحدة الثانية

الدرس (4) المشكلات البيئية في وطننا العربي

السؤال الأول

لاحظ الخريطة ثم أجب



- ① دولة تعرضت لأكبر موجة جفاف
- ② دولة أعلنت بناء مدينة نيوم الخضراء
- ③ دولة أطلقت مبادرة لزراعة ١٠٠ مليون شجرة مثمرة هي

السؤال الثاني

أكمل العبارات التالية بكلمات مناسبة

- ① عقد مؤتمر المناخ للأمم المتحدة عام ٢٠٢٢ في دولة بمدينة
- ② ظهرت مشكلات بيئية نتيجة التغير المناخي وهي و..... و.....
- ③ إنشاء المدن الذكية بالوطن العربي يقلل من انبعاث
- ④ انطلقت مبادرة زراعة ٤٥٠ مليون شجرة في دولة
- ⑤ تزداد معدلات استهلاك المياه العذبة بالوطن العربي بسبب النمو المتزايد في أعداد
- ⑥ تؤدي المشكلات البيئية في الوطن العربي إلى تدمير
- ⑦ أعلن عن إنشاء مدينة نيوم الخضراء عام ٢٠٢٢ في دولة

السؤال الثالث

اكتب كلمة (صواب) أمام العبارة الصحيحة وكلمة (خطأ) أمام العبارة غير الصحيحة

- ① التغير المناخي من المشكلات البيئية في وطننا العربي ()
- ② الجفاف هو نقص كمية المطر ليومين ()
- ③ يؤثر التغير المناخي على درجة الحرارة وكمية المطر ()
- ④ تعرضت دولة المغرب لأكبر موجة جفاف سببت نقصاً في الغذاء ()
- ⑤ التوسع المستمر في الزراعة يؤدي إلى ندرة المياه العذبة ()
- ⑥ المشكلات البيئية في الوطن العربي تهدد صحة وحياة المواطنين ()

- ⑦ يحدث التصحر في الوطن العربي بسبب استخدام طرق الري الحديثة ()
- ⑧ أنشئت المدن الذكية بهدف تقليل انبعاثات الغازات الدفيئة ()
- ⑨ تهتم الدول العربية باستخدام مصادر الطاقة النظيفة ()
- ⑩ تعاني معظم الدول العربية من ندرة المياه المالحة ()
- ⑪ تحتفل الدول العربية باليوم العربي للبيئة في ١٤ أكتوبر من كل عام ()

السؤال الرابع اختر الاجابة الصحيحة مما بين القوسين

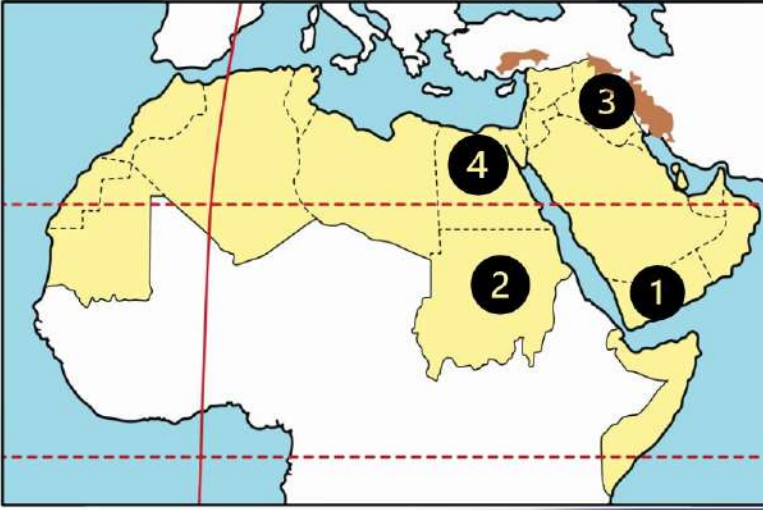
- ① دولة تعاني من أكبر موجة جفاف في وطننا العربي هي
(الصومال - السودان - جيبوتي - مصر)
- ② يعاني نحو مساحة الوطن العربي من مشكلة التصحر
(ثلث - ثلثي - ربع - نصف)
- ③ أعلن عن إنشاء مدينة نيوم الخضراء بدولة
(مصر - ليبيا - تونس - السعودية)
- ④ إحدى الدول العربية التي أطلقت مبادرة لزيادة المساحات الخضراء
(اليمن - سوريا - لبنان - مصر)
- ⑤ تدهور الأرض وتناقص قدرتها على الإنتاج تشير هذه العبارة لتعريف
(الجفاف - الفيضان - التصحر - السيول)
- ⑥ يحدث التصحر بسبب
(زيادة مساحات الغابات - كثرة الأمطار والسيول - زحف الكثبان الرملية - إنشاء المدن الذكية)
- ⑦ مشروع صناعة الأخشاب من مخلفات النخيل يوجد في مصر بمحافظة
(البحر الأحمر - الوادي الجديد - شمال سيناء - جنوب سيناء)
- ⑧ جائزة عاصمة المدن العربية لعام ٢٠٢٢م حصلت عليها مدينة
(رأس محمد - رأس غارب - الخارجة - الداخلة)

السؤال الخامس / أجب عما يأتي؟

- 1 بم تفسر // مشاركة الدول العربية في مؤتمر المناخ للأمم المتحدة ٢٠٢٢ م ؟
.....
- 2 بم تفسر // زيادة معدل استهلاك المياه العذبة في الوطن العربي ؟
.....
- 3 بم تفسر // حدوث مشكلة التصحر ؟
.....
- 4 بم تفسر // إنشاء المدن الذكية ؟
.....
- 5 ما النتائج المترتبة على // تعرض الصومال لأكبر موجة جفاف بالوطن العربي ؟
.....
- 6 ما النتائج المترتبة على // الرعي الجائر للحيوانات في الوطن العربي ؟
.....
- 7 ما النتائج المترتبة على // زحف الكثبان الرملية وتناقص المياه الجوفية في وطننا العربي ؟
.....
- 8 ما النتائج المترتبة على // وجود العديد من المشكلات البيئية في الوطن العربي ؟
.....

دكي شحتو

الدرس (1) الزراعة في وطننا العربي

الوحدة
الثالثةالسؤال الأول
لاحظ الخريطة ثم أجب

- ① دولة تتركز بها زراعة البن
- ② دولة تتركز بها زراعة القطن والكتان
- ③ دولة منتجة للموايح هي
- ④ أولى الدول العربية المنتجة لمحاصيل الحبوب الغذائية

السؤال الثاني
أكمل العبارات التالية بكلمات مناسبة

- 1 تنقسم مقومات الزراعة إلى مقومات طبيعية ومقومات
- 2 الزراعة توفر المواد الخام اللازمة لـ
- 3 تحتل مصر المركز في إنتاج التمور في الوطن العربي
- 4 تقوم الزراعة في الأجزاء الشمالية من الوطن العربي على
- 5 تتعرض الزراعة في الوطن العربي لمشكلة تذبذب كمية
- 6 تتركز زراعة البن في
- 7 تنوع المناخ في الوطن العربي أدى إلى تنوع
- 8 القمح والأرز من محاصيل
- 9 القطن والكتان من محاصيل
- 10 يتركز إنتاج القطن والكتان في دولتي و
- 11 إحدى مناطق التراث العالمي للزراعة في مصر وهي واحة
- 12 تشتهر واحة العين وواحة سيوة وواحة ليوا بزراعة أنواع مميزة من

السؤال الثالث
اكتب كلمة (صواب) أمام العبارة الصحيحة وكلمة (خطأ) أمام العبارة غير الصحيحة

- ① تتنوع مصادر المياه العذبة في الوطن العربي ()
- ② المنظمة المسؤولة عن الأغذية والزراعة هي اليونسكو ()

- ③ منظمة اليونسكو هي المسؤولة عن إعلان مناطق التراث العالمي للزراعة ()
- ④ قصب السكر من محاصيل الحبوب الغذائية ()
- ⑤ توجد التربة الخصبة على جانبي الأنهار ()
- ⑥ يحصل سكان الواحات على المياه العذبة من الأنهار ()
- ⑦ تساعد الزراعة في توفير فرص عمل لسكان الوطن العربي ()
- ⑧ وسائل النقل من العوامل الطبيعية لقيام الزراعة ()
- ⑨ رأس المال مهم لشراء البذور والأسمدة ()
- ⑩ يتزايد الطلب على المنتجات الزراعية العربية في الأسواق العالمية والمحلية ()
- ⑪ قامت الدول العربية باستحداث أنواع جديدة من البذور للتكيف مع تغير المناخ ()

السؤال الرابع اختر الاجابة الصحيحة مما بين القوسين

- ① أولى الدولة العربية في انتاج التمور
(مصر - العراق - السعودية - البحرين)
- ② واحة مصرية تم تصنيفها كأحد مواقع التراث الزراعي العالمي هي
(الخارجة - الداخلة - سيوة - الفرافرة)
- ③ دولة تقوم فيها الزراعة على مياه الأنهار
(ليبيا - قطر - الكويت - السودان)
- ④ تعتمد الزراعة في الأجزاء الشمالية من الوطن العربي على مياه
(الأنهار - التحلية - الأمطار - الجوفية)
- ⑤ تقوم الزراعة في الوطن العربي على المياه الجوفية في المناطق
(الشمالية - الصحراوية - الفيضية - الجبلية)
- ⑥ من المقومات الطبيعية لقيام الزراعة
(الأيدي العاملة - وسائل النقل - السوق - المناخ)
- ⑦ أي مما يلي يعد من المقومات البشرية لقيام الزراعة
(المياه العذبة - الأيدي العاملة - التربة الخصبة - تنوع المناخ)

- ⑧ يتركز إنتاج الألياف في الوطن العربي في دولة
(السعودية - المغرب - ليبيا - مصر)
- ⑨ أحد محاصيل الحبوب الغذائية
(العنب - البن - الزيتون - الذرة)
- ⑩ دولة منتجة للمواالح
(اليمن - قطر - فلسطين - الصومال)
- ⑪ تحتفل الدول العربية يوم ٢٧ سبتمبر بيوم العربي
(السياحة - الزراعة - الصناعة - التجارة)

السؤال الخامس / أجب عما يأتي؟

① بم تفسر // أهمية الزراعة في الوطن العربي ؟

② بم تفسر // قيام الزراعة في الواحات ؟

③ بم تفسر // قيام الزراعة في الأجزاء الشمالية للوطن العربي ؟

④ بم تفسر // تنوع المحاصيل الزراعية في الوطن العربي ؟

⑤ بم تفسر // أهمية رأس المال للنشاط الزراعي ؟

⑥ بم تفسر // أهمية وسائل النقل في الزراعة ؟

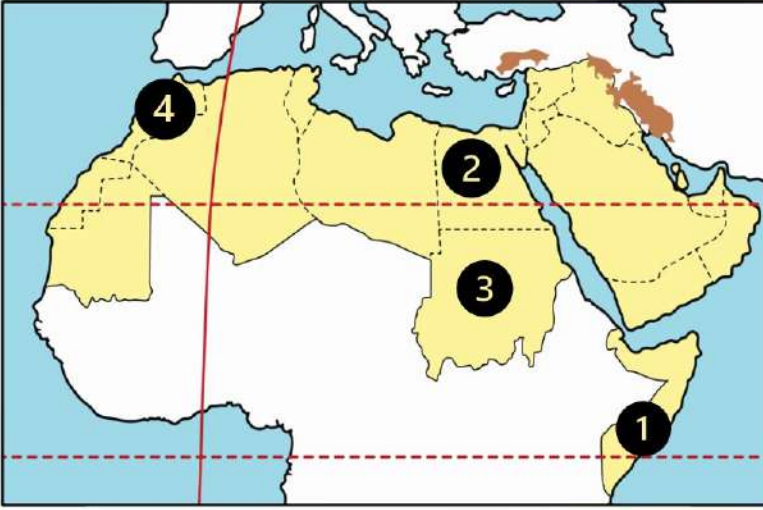
⑦ بم تفسر // اتجاه بعض الدول العربية لاستخدام نظام الري بالرش ؟

⑧ ما النتائج المترتبة على // تنوع المناخ بالوطن العربي ؟

الوحدة
الثالثة

الدرس (2) الثروة الحيوانية والسمكية فى وطننا العربى

السؤال الأول لاحظ الخريطة ثم أجب



- ① أولى الدول في تربية الإبل
- ② أولى الدول في تربية الجاموس
- ③ أولى الدول في تربية الأبقار
- ④ أولى الدول في صيد الأسماك من
المصايد

السؤال الثانى أكمل العبارات التالية بكلمات مناسبة

- ① أولى الدول العربية في تربية الجاموس
- ② أولى الدول العربية في تربية الأبل
- ③ أكبر الدول العربية في تربية الأغنام
- ④ توفر لنا الأبقار والجاموس البروتين
- ⑤ تساهم الثروة السمكية في وطننا العربي في سد العجز من
- ⑥ تستخدم بعض الحيوانات بالريف في النقل وأعمال
- ⑦ مصر أكبر الدول العربية في إنتاج الأسماك من
- ⑧ تنمى الدول العربية الثروة السمكية عن طريق التوسع في مشروعات
- ⑨ تعتمد دولة المغرب في إنتاج الأسماك على البحر و المحيط

السؤال الثالث اكتب كلمة (صواب) أمام العبارة الصحيحة وكلمة (خطأ) أمام العبارة غير الصحيحة

- ① تتنوع الثروة الحيوانية في وطننا العربي ()
- ② تنتشر تربية الجاموس فى المناطق الصحراوية بمصر ()
- ③ تستخدم بعض الحيوانات في وطننا العربي في أعمال الحقل والنقل ()
- ④ تكفي اللحوم الحمراء حاجة السكان في الوطن العربي ()

- ⑤ يؤدي التغير المناخي إلى تناقص أعداد الحيوانات بالوطن العربي ()
- ⑥ ترتبط الصناعة في وطننا العربي بالثروة الحيوانية ()
- ⑦ تساهم الثروة السمكية في سد العجز من البروتين الحيواني ()
- ⑧ تهتم الدول العربية بتربية الدواجن لسد العجز من اللحوم الحمراء ()
- ⑨ الصيد الجائر من المشكلات التي تواجه الثروة السمكية في الوطن العربي ()
- ⑩ أنشأت الدولة مزعة للإنتاج الحيواني غرب الإسكندرية ()
- ⑪ تقوم الدول العربية بتدريب الصيادين على أساليب الصيد الحديثة ()

السؤال الرابع اختر الاجابة الصحيحة مما بين القوسين

- ① المغرب أولى الدول العربية في تربية
(الجاموس - الأغنام - الإبل - الدواجن)
- ② تشغل المراعي الطبيعية في الوطن العربي نحو مساحته
(ربع - خمس - ثلث - ثمن)
- ③ أولى الدول العربية في تربية الماعز هي
(الصومال - المغرب - السودان - السعودية)
- ④ أولى الدول العربية في تربية الأبقار هي
(الصومال - المغرب - السودان - السعودية)
- ⑤ أكبر الدول العربية إنتاجاً للأسماك من المزارع السمكية
(المغرب - مصر - الجزائر - موريتانيا)
- ⑥ تعد مصر أولى الدول العربية في تربية الجاموس بسبب توافر
(المراعي الطبيعية - المناخ الحار - السهول الفيضية - السهول الساحلية)
- ⑦ أقامت مصر مشروع المليون رأس ماشية في محافظة
(القاهرة - الشرقية - الغربية - البحيرة)
- ⑧ أي من المواد الخام التالية توفرها الثروة الحيوانية
(القطن - الجلود - الفوسفات - البترول)

السؤال الخامس / أجب عما يأتي؟

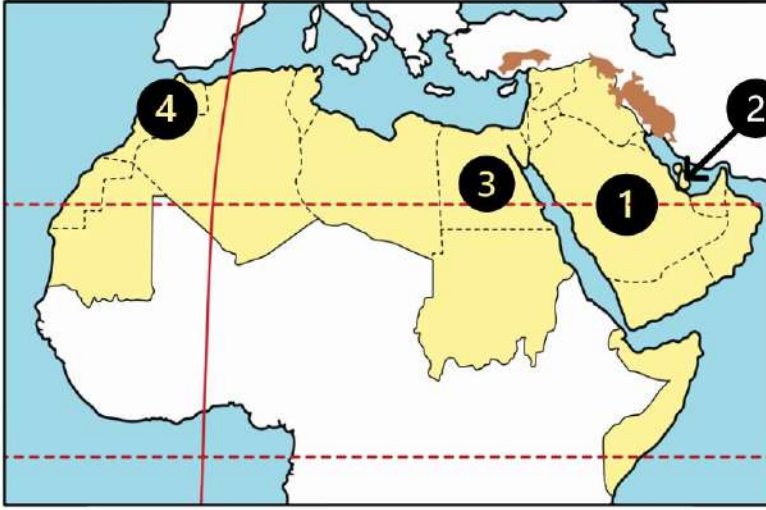
- ① بم تفسر // أهمية الثروة الحيوانية في وطننا العربي ؟
.....
- ② بم تفسر // تركز تربية الجاموس في مصر؟
.....
- ③ بم تفسر // تهتم الدول العربية بتربية الدواجن ؟
.....
- ④ بم تفسر // اهتمام الدول العربية بالثروة السمكية ؟
.....
- ⑤ بم تفسر // تعد المغرب أولى الدول العربية إنتاجا للأسماك من المصايد ؟
.....
- ⑥ ما العلاقة بين // التغيرات المناخية والثروة الحيوانية ؟
.....
- ⑦ ما العلاقة بين // التغيرات المناخية والثروة السمكية ؟
.....
- ⑧ أذكر اثنين من // المشكلات التي تواجه الثروة السمكية في وطننا العربي ؟
.....
.....
- ⑨ أذكر اثنين من // المشكلات التي تواجه الثروة الحيوانية في وطننا العربي ؟
.....
.....

شحتو

الدرس (3) التعدين والصناعة في وطننا العربي

الوحدة
الثالثة

السؤال الأول / لاحظ الخريطة ثم أجب



- ① أولى الدول في المنتجة للبتروول
- ② أولى الدول المنتجة للغاز الطبيعي
- ③ أولى الدول في صناعة الحديد والصلب
- ④ أولى الدول العربية المنتجة للفوسفات

السؤال الثاني / أكمل العبارات التالية بكلمات مناسبة

- ① نشاط اقتصادي يسهم بثالث الدخل القومي للوطن العربي
- ② قطر تعد الدول الأولى عربيا في إنتاج
- ③ أكبر الدول العربية انتاجا للأسمنت هي
- ④ أولى الدول العربية في إنتاج الذهب
- ⑤ المواد الخام من المقومات اللازمة لقيام
- ⑥ معدن تستخدم ذراته في علاج بعض الأمراض
- ⑦ تنقسم الصناعة إلى صناعة استخراجية و
- ⑧ (تحويل المواد الخام إلى منتجات صالحة للاستخدام) تشير هذه العبارة إلى الصناعة
- ⑨ يدخل الحديد في الصناعات الثقيلة والمنشآت و

السؤال الثالث / اكتب كلمة (صواب) أمام العبارة الصحيحة وكلمة (خطأ) أمام العبارة غير الصحيحة

- ① يفتقر الوطن العربي للمقومات اللازمة للصناعة ()
- ② تعد السودان ثاني الدول العربية إنتاجا للذهب ()
- ③ تحتل مصر المرتبة الأولى في إنتاج الحديد ()
- ④ يستخدم خام الفوسفات في صناعة الأسمدة والمبيدات ()

- ⑤ تسهم الصناعة بنحو نصف الدخل القومي للوطن العربي ()
- ⑥ تعد الطاقة الشمسية وطاقة الرياح والبتروك من مصادر الطاقة النظيفة ()
- ⑦ اتجهت الدول العربية إلى إنشاء المدن الصناعية الذكية ()
- ⑧ غاز الهيدروجين الأخضر من مصادر الطاقة المتجددة ()
- ⑨ تعمل مصر على التوسع في الصناعة الخضراء ()
- ⑩ تكرير البترول يعد من الصناعات التحويلية ()
- ⑪ يعتمد الوطن العربي على الصناعات التحويلية ()
- ⑫ تحتفل بعض الدول بعيد العمال في الأول من مايو كل عام ()

السؤال الرابع اختر الاجابة الصحيحة مما بين القوسين

- ① ينتج الوطن العربي حوالي ربع الإنتاج العالمي من
(الهيدروجين الأخضر - الفحم - الغاز الطبيعي - البترول)
- ② تصنع المبيدات والأسمدة من
(الفضة - الفوسفات - الحديد - النحاس)
- ③ دولة عربية تحتل المرتبة الأولى في إنتاج الحديد
(الصومال - المغرب - السودان - موريتانيا)
- ④ ينتج الوطن العربي من البترول أكثر من الإنتاج العالمي
(نصف - ثلث - ربع - عشر)
- ⑤ يدخل الحديد في صناعة
(أسلاك التليفون - المبيدات الحشرية - مواد الطلاء - الكباري والمنشآت)
- ⑥ إحدى المقومات الطبيعية لقيام الصناعة
(الأيدي العاملة - مصادر الطاقة - شبكات النقل - رأس المال)
- ⑦ مصر تعد الدولة الأولى عربيا في صناعة
(الحديد والصلب - البلاستيك - السيارات - الطائرات)
- ⑧ تحتل مصر المركز الثاني عربيا في إنتاج معدن
(الألومنيوم - الذهب - الحديد - الفوسفات)

السؤال الخامس / أجب عما يأتي؟

① بم تفسر // أهمية الصناعة في الوطن العربي؟

② بم تفسر // الأهمية الاقتصادية للذهب؟

③ بم تفسر // الأهمية الاقتصادية لخام الفوسفات؟

④ بم تفسر // الأهمية الاقتصادية للحديد؟

⑤ بم تفسر // اتجهت الدول العربية إلى الصناعة الخضراء؟

⑥ أذكر اثنين من // المقومات التي تعتمد عليها الصناعة؟

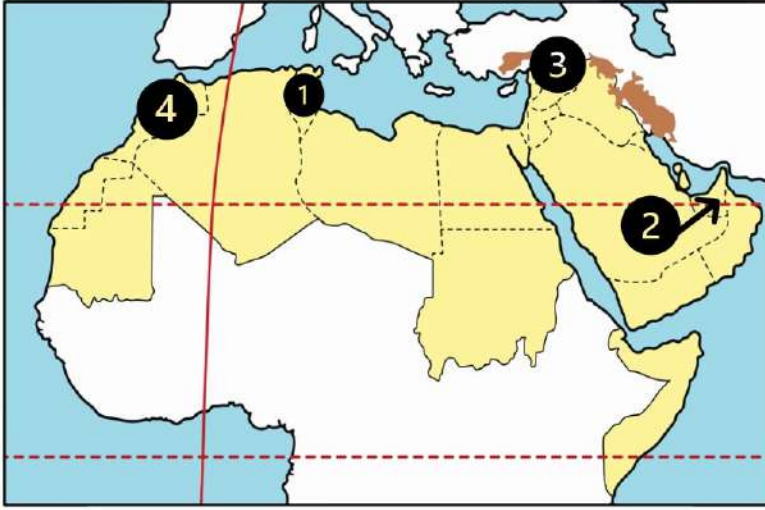
⑦ أذكر اثنين من // المشكلات التي يعاني منها الوطن العربي في مجالي التعدين والصناعة؟

مستر/عطا زكى شحتو

الدرس (4) السياحة في وطننا العربي

الوحدة
الثالثة

السؤال الأول / لاحظ الخريطة ثم أجب



- ① دولة بها سياحة ثقافية هي
- ② دولة تشتهر بسياحة التسوق
- ③ دولة تقع بها آثار مدينة تدمر
- ④ دولة عربية بها سياحة ترفيهية هي

السؤال الثاني / أكمل العبارات التالية بكلمات مناسبة

- ① يقع الوطن العربي وسط قارات العالم
- ② يتمتع الوطن العربي بمناخ معتدل في فصل
- ③ زيارة عيون موسى بمصر أحد أشكال السياحة
- ④ إحدى مناطق السياحة الثقافية مدينة بابل في
- ⑤ أول عاصمة للسياحة العربية هي مدينة
- ⑥ من مواقع السياحة الثقافية في الوطن العربي في سوريا
- ⑦ تقع عين معين في دولة
- ⑧ حضور كأس العالم لكرة القدم في قطر ٢٠٢٢ يعد سياحة
- ⑨ قيامك برحلة نيلية في أسوان تعتبر سياحة

السؤال الثالث / اكتب كلمة (صواب) أمام العبارة الصحيحة وكلمة (خطأ) أمام العبارة غير الصحيحة

- ① يتمتع الوطن العربي بكافة مقومات السياحة ()
- ② تنوع المناطق السياحية والتراثية من مقومات السياحة في الوطن العربي ()
- ③ يعاني الوطن العربي من قلة جودة شبكة النقل والمواصلات ()
- ④ زيارتك لآثار مدينة تدمر بسوريا من السياحة الثقافية ()

- ⑤ الذهاب لمعرض القاهرة الدولي للكتاب يعد سياحة ترفيهية ()
- ⑥ تسهم السياحة في زيادة نسبة البطالة في الوطن العربي ()
- ⑦ زيارة المراكز التجارية في دبي تعد سياحة تسوق ()
- ⑧ تبذل الدول العربية جهوداً لتحقيق السياحة المستدامة ()
- ⑨ تتضمن السياحة البيئية زيارة بعض الأماكن للعلاج والاستشفاء ()
- ⑩ زيارة المسجد الحرام تعد سياحة دينية ()
- ⑪ زيارة دير سانت كاترين في فلسطين تعد سياحة دينية ()
- ⑫ زيارتك لشواطئ المغرب تعد من السياحة الترفيهية ()

السؤال الرابع اختر الاجابة الصحيحة مما بين القوسين

- ① زيارة الشواطئ في مصر ولبنان تعد سياحة
(ثقافية - ترفيهية - بيئية - دينية)
- ② مدينة مصرية تم اختيارها أول عاصمة للسياحة العربية
(الإسكندرية - شرم الشيخ - الغردقة - مرسى مطروح)
- ③ من أمثلة السياحة الرياضية حضور كأس العالم لكرة القدم ٢٠٢٢ في دولة
(مصر - تونس - قطر - موريتانيا)
- ④ أحد أماكن السياحة الدينية في فلسطين
(دير سانت كاترين - كنيسة القيامة - الكعبة المشرفة - الجامع الأزهر الشريف)
- ⑤ يقوم السائح بزيارة المواقع الأثرية في القيروان بدولة
(مصر - العراق - سوريا - تونس)
- ⑥ تقوم السياحة البيئية على زيارة المناطق
(الزراعية - الساحلية - الصحراوية - النهرية)
- ⑦ دولة عربية توجد بها المدينة البيئية الأولى في العالم هي
(العراق - الكويت - المغرب - الإمارات)
- ⑧ حصلت دولة الأردن عام ٢٠٢٠ في مجال تحقيق السياحة المستدامة المركز
(الأولى - الثانية - الثالثة - الرابعة)

- ⑨ زيارة مصر لمشاهدة كأس الأمم الأفريقية لكرة اليد تعد سياحة.....
(علاجية - ترفيهية - ثقافية - رياضية)
- ⑩ يهدف السائح إلى زيارة بعض الأماكن للعلاج والاستشفاء مثل زيارة..... في دولة الأردن
(عيون موسى - عين ماعين - واحة سيوة - بحيرة عسل)
- ⑪ تستطيع زيارة مسار العائلة المقدسة في.....
(مصر - تونس - المغرب - الأردن)

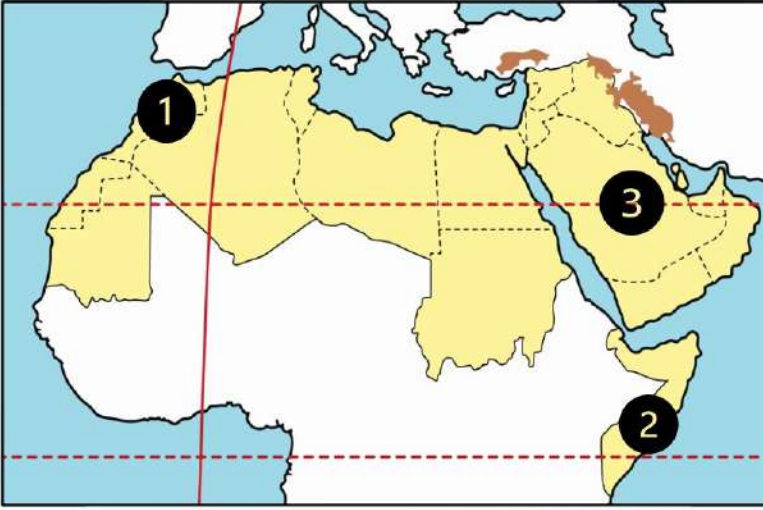
السؤال الخامس / أجب عما يأتي؟

- ① بم تفسر // الأهمية الاقتصادية للسياحة في الوطن العربي ؟
.....
- ② بم تفسر // تحرض الدول العربية على دعم السياحة المستدامة ؟
.....
- ③ بم تفسر // تعد مدينة (مصدر) بدولة الإمارات المدينة البيئية الأولى في العالم ؟
.....
- ④ بم تفسر // قيام السياحة العلاجية في مصر ؟
.....
- ⑤ بم تفسر // تتعد مزارات السياحة الدينية في وطننا العربي ؟
.....
- ⑥ بم تفسر // ازدهار السياحة في الوطن العربي ؟
.....
- ⑦ ما النتائج المترتبة على // وجود عيون المياح الكبرى في الوطن العربي ؟
.....
- ⑧ ما النتائج المترتبة على // وجود المحميات الطبيعية والمناطق الصحراوية في الوطن العربي
.....

الدرس (5) التجارة في وطننا العربي

الوحدة
الثالثة

السؤال الأول / لاحظ الخريطة ثم أجب



- ① دولة مشتركة في اتفاقية اغاير واتحاد دول المغرب العربي
- ② دولة غير منضمة إلى أي اتحاد تجاري
- ③ دولة منضمة لمجلس التعاون لدول الخليج العربي

السؤال الثاني / أكمل العبارات التالية بكلمات مناسبة

- ① الميزان التجاري هو الفرق بين قيمة و
- ② ساهمت التجارة في عصر الدولة الإسلامية على نشر الإسلام و
- ③ تنقسم التجارة العربية إلى نوعين تجارة و تجارة
- ④ اتسم التجار المسلمون ب
- ⑤ من أسباب ضعف التجارة البينية العربية التشابه بين و
- ⑥ الصادرات والواردات بين الدول العربية يقصد بها التجارة
- ⑦ تستحوذ كل من الإمارات والسعودية وعمان على ٩٠٪ صادرات دولة
- ⑧ أولي صادرات الوطن العربي
- ⑨ ظهرت التجارة الإلكترونية نتيجة

السؤال الثالث / اكتب كلمة (صواب) أمام العبارة الصحيحة وكلمة (خطأ) أمام العبارة غير الصحيحة

- ① بدأت التجارة في شبه الجزيرة العربية بعد ظهور الإسلام ()
- ② اتسم التجار المسلمون بالأخلاق الحميدة ()
- ③ من المراكز التجارية الإسلامية قديماً القاهرة ()
- ④ التجارة بين مصر والأردن تعد تجارة خارجية ()

- ⑤ تسهم التجارة في تعزيز العلاقات بين الدول ()
- ⑥ إذا زادت الصادرات عن الواردات يكون الميزان التجاري في حالة عجز ()
- ⑦ يسعى الوطن العربي إلى زيادة منصات التجارة الإلكترونية ()
- ⑧ من أسباب ضعف التجارة البينية العربية وجود حواجز جمركية ()

السؤال الرابع اختر الاجابة الصحيحة مما بين القوسين

- ① أولى صادرات الوطن العربي
(المنتجات الصناعية - الوقود والمعادن - السلع الزراعية - المعدات الطبية)
- ② ثاني واردات الوطن العربي
(المعدات الثقيلة - المنتجات الصناعية - المنتجات اليدوية - السلع الزراعية)
- ③ توفر التجارة العربية العملات
(العربية - الأجنبية - المحلية - الإقليمية)
- ④ تسهم التجارة في تحسين
(الميزان التجاري - السلع الأجنبية - الخدمات المحلية - الصناعة العربية)
- ⑤ تبادل السلع والخدمات باستخدام الإنترنت يسمى
(مقايضة - تجارة إلكترونية - تجارة خارجية - تجارة بينية)
- ⑥ ثالث صادرات الوطن العربي
(المنتجات الصناعية - السلع الزراعية - الوقود - المعادن)
- ⑦ أي من الدول التالية تشترك في منطقة التجارة الحرة العربية
(جيبوتي - الصومال - السودان - موريتانيا)
- ⑧ يعد اختراق خصوصية العميل وسرقة البيانات في التجارة الإلكترونية من
(إيجابياتها - سلبياتها - أهميتها - أسبابها)
- ⑨ يوجد مقر المنظمة العربية للسياحة في دولة
(الإمارات - سلطنة عمان - المملكة العربية السعودية - جزر القمر)
- ⑩ أي من الدول الآتية يوجد بها مقر المنظمة العربية للتنمية الزراعية
(مصر - ليبيا - الجزائر - السودان)

السؤال الخامس / أجب عما يأتي؟

① بم تفسر // أهمية التجارة في الوطن العربي ؟

② بم تفسر // أهمية التجارة في الدولة الإسلامية ؟

③ بم تفسر // ظهور التجارة الإلكترونية ؟

④ بم تفسر // أهمية التجارة الإلكترونية ؟

⑤ بم تفسر // ضعف التجارة البينية العربية ؟

⑥ ما النتائج المترتبة على // التشابه الكبير بين السلع والخدمات التي تنتجها الدول العربية ؟

⑦ ما النتائج المترتبة على // وجود حواجز جمركية بين الدول العربية ؟

مستر/عطا زكى شحتو