

الدرجة/20

اختبار تكويني 1

مادة الدراسات الاجتماعية والتربية الوطنية الصف الثاني

الاسم :

الدرجة/4

مادة الدراسات الاجتماعية والتربية الوطنية

السؤال الأول : صل بين الكلمة المفهوم المناسب لها :



مياه التي توجد فوق سطح الأرض

1- تحلية مياه البحر .



هي تحويل المياه المالحة إلى مياه عذبة صالحة

2- المياه السطحية .



يعني استخدام الموارد المتاحة الاستخدام الأمثل

3- المياه الجوفية .

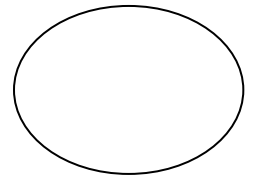
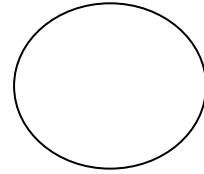




المياه المخزونة في طبقات الأرض

4- ترشيد الاستهلاك .

السؤال الثاني : لون السلوك الصحيح باللون الأخضر والسلوك الخاطئ باللون الأحمر .

الدرجة/4



الدرجة :...../6

السؤال الثالث : اكتب أشكال الطاقة .(حرارية - ضوئية - حركية)



طاقة حر.....




طاقة حرا.....




طاقة ضو.....

الدرجة :...../2

السؤال الرابع : حوط من مصادر الطاقة المتجددة .



من مصادر الطاقة الغير متجددة



الدرجة :...../4

ضع إشارة (✓) أمام الإجابة الصحيحة و إشارة (X) أمام الإجابة الخاطئ .

- 1- تقع مدينة مصدر في إمارة دبي . ()
- 2- من أسباب نقص المياه زيادة عدد السكان ()
- 3- تسقط الأمطار في دولة الإمارات العربية المتحدة في فصل الشتاء ()
- 4- يوجد الفحم والنفط بكميات كثيره في الطبيعية ()

Al Dhabianiah KG & Cycle 1
Abu Dhabi



مدرسة الظبيانية للتعليم الأساسي
حلقة أولى ورياض الأطفال