

صفحة وجروب عاشق لغة الضاد
مستر-رضا نصار



الدراسات الاجتماعية
للفف السادس الابتدائي

مراجعة فبراير للوحدة الأولى

ملفصات
مفاهيم
أسئلة

صفحة وجروب عاشق لغة الضاد
مستر-رضا نصار



صفحة وجروب عاشق لغة الضاد مستر-رضا نصار

برعاية معالي وزير التربية والتعليم والتعليم الفني

أ.د رضا حجازي

الوحدة الأولى

سكان وطننا العربي وتراثهم الثقافي

فريق الإعداد

معلم أول الدراسات الاجتماعية

أ/ داليا صالح محمد صالح

موجه الدراسات الاجتماعية

د/ محمد أحمد صالح

موجه أول الدراسات الاجتماعية

أ/ سعيدة سعد إبراهيم

مراجعة

خبير مكتب مستشار الدراسات الاجتماعية

د/ وليد سيد سالم

خبير مكتب مستشار الدراسات الاجتماعية

أ/ جيهان حلمي

تحت إشراف

مستشار مادة الدراسات الاجتماعية

أشرف عبد المنعم سيد

مدير الإدارة المركزية لتطوير المناهج

أ.د/ أكرم حسن

صفحة وجروب عاشق لغة الضاد مستر-رضا نصار

الدرس الأول

نمو و توزيع السكان في وطننا العربي

المقصود بـ: النمو السكاني :

هو زياده في عدد السكان في فتره زمنية معينه

بم تفسر: تحتفل مصر باليوم العالمي السكاني في 11 من يوليو ؟
لتركيز الاهتمام علي اهميه قضايا السكان وعلاقتها بالبيئة و التنمية

• **تعداد سكان مصر حاليا 106 مليون نسمة**



عدد سكان الوطن العربي

- **تعداد سكان الوطن العربي عام 2000 :** كان 278.5 مليون نسمة
- **تعداد سكان الوطن العربي عام 2023 :** أصبح 474 مليون نسمة أي 5.9 % من اجمالي سكان العالم
- يأتي الوطن العربي في **المركز الرابع عالميا بعد:** (الهند و الصين و اوروبا)

اذن الترتيب العالمي للسكان هو :

- 1- الهند
 - 2- الصين
 - 3- أوروبا
 - 4- الوطن العربي
- ملحوظة:** من المتوقع أن يصل عدد السكان بالوطن العربي عام 2030 إلى 534 مليون نسمة

أسباب ارتفاع معدل النمو السكاني في الوطن العربي

1. ارتفاع معدل المواليد (نسبه المواليد الي اجمالي السكان في عام معين)
2. انخفاض معدل الوفيات (نسبه الوفيات الي اجمالي السكان في عام معين)
3. زياده الهجرة الدولية خاصة الي دول الخليج

بم تفسر : انخفاض معدل الوفيات في وطننا العربي ؟

1. تحسين المستوي الصحي
2. تحسين المستوي المعيشي
3. تحسين جوده الحياه في الدول العربية

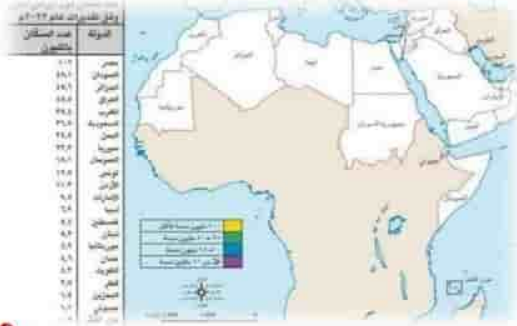
معدل النمو السكاني في الوطن العربي (١٩٦١م - ٢٠٢٢م)



ملحوظة:

يتركز **61%** من اجمالي سكان الوطن العربي في **الجنح الافريقي** و **39%** بالجنح **الاسيوي**

ترتيب عدد السكان بالدول العربية



أول الدول العربية سكانا

- **مصر** الأكثر عربيا بعدد السكان بها **ربع** سكان الوطن العربي
- **تليها** كلا من : السودان و الجزائر و العراق
- مصر الدولة الوحيدة أكثر من **100 مليون نسمة**
- **أقل الدول العربية سكانا**
- جزر القمر أقل الدول العربية في عدد السكان

توزيع سكان الوطن العربي

مناطق تركيز سكاني في الوطن العربي

▪ السهول الفيضية

- سهول وادي النيل و الدلتا في مصر
- سهول دجلة و الفرات في العراق

▪ السهول الساحلية

- بلاد الشام و شمال أفريقيا
- **بم تفسر : تركيز السكان في المناطق الساحلية ؟**
- 1. اعتدال المناخ
- 2. توافر المياه العذبة

▪ المناطق المرتفعة

- مثل مرتفعات لبنان ذات المناخ المعتدل

▪ مناطق الأنشطة الاقتصادية

- المناطق الصناعية و التعدينية

مناطق يقل "يندر" بها عدد السكان بالوطن العربي

▪ المناطق الصحراوية :

- أ- الصحراء الكبرى في أفريقيا
- ب- صحراء الربع الخالي بالجناب الأسيوي

ملحوظة:

يختلف النمو السكاني من دولة لأخرى وفقا لـ:

- 1- عدد سكان كل دولة
- 2- المساحة الكلية للدولة

المشكلة السكانية

هي العلاقة غير المتوازنة بين عدد السكان والموارد المتاحة

دول تعاني من قلة السكان وزيادة الموارد

- السعودية و قطر و البحرين و الامارات
- مما يدفعها لاستقبال الوافدين من اصحاب الخبرة و المهارة لاستثمار مواردها

دول تعاني من مشكلة الزيادة السكانية ومحدودية الموارد

- مصر و الاردن و سوريا
- مما يدفعها لوضع برامج تنموية

دليل : تسعى الدول العربية لارتقاء الأسرة العربية ؟

1. توفير مقومات الحياة الكريمة للأسرة من غذاء و تعليم وصحة وامن ورفاهية
2. ومواجهه مخاطر الام والطفل مثل الحمل و الولادة
3. ومواجهه مخاطر الشباب مثل الأمية و البطالة

المؤتمر العالمي للصحة والسكان والتنمية :



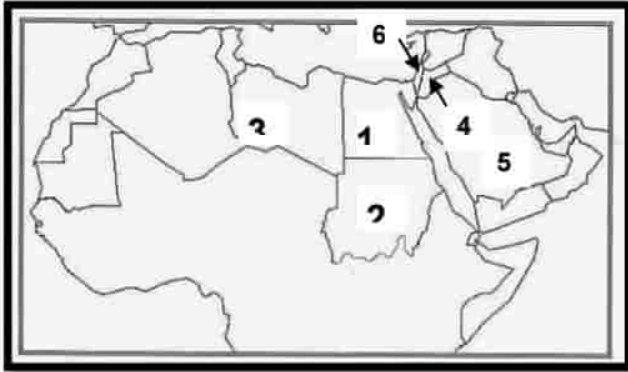
انطلقت فعاليات المؤتمر العالمي للصحة والسكان والتنمية في سبتمبر 2023 بالعاصمة الإدارية الجديدة بمشاركة اكثر من 8000 شخص حول العالم

وكان شعاره (سكان اصحاء من اجل تنميه مستدامه)

ما النتائج المترتبة علي : الزيادة السكانية و قلة الموارد ؟

1. تقلل من فرص النمو الاقتصادي
2. تؤثر علي استقرار الدولة
3. عدم توفير منظومه تعليميه وصحيه جيده

اختر نفسك



س 1 : أمامك خريطة للوطن العربي وضع عليها

مدلول الأرقام الآتية:

1. دولة تحتل المركز الأول سكانا في الوطن العربي.....
2. دولة يرتفع بها عدد السكان.....
3. صحراء يندر بها السكان.....
4. دولة تعاني من محدودية الموارد.....
5. دولة تعاني نقصا سكانيا.....
6. دولة يتركز سكانها في المناطق المرتفعة.....

س 2 : أكمل العبارات الآتية مما بين القوسين:

1. زيادة عدد السكان في فترة زمنية معينة يسمى
2. يحتل الوطن العربي المرتبة عالميا من حيث عدد السكان.
3. ارتفاع معدلات المواليد وانخفاض معدلات الوفيات بسبب
4. تحتل دولة المرتبة الأولى عربيا من حيث عدد السكان.
5. يتركز السكان في السهول الفيضية في سهول نهري دجلة والفرات في دولة.....
6. يتركز السكان في السهول الساحلية في بلاد الشام بسبب.....
7. لحل المشكلة في السعودية وقطر يجب استقبال أعداد كبيرة من..... لاستثمار مواردها.
8. تنخفض الكثافة السكانية في المناطق.....
9. يتركز السكان في المناطق المرتفعة مثل مرتفعات.....

س 3 : ضع علامة (√) أمام العبارة الصحيحة، وعلامة (X) أمام العبارة غير الصحيحة

1. يحتفل سكان وطننا العربي باليوم العالمي للسكان في 11 يوليو من كل عام ()
2. زيادة عدد السكان في فترة زمنية معينة يعد ذلك مشكلة سكانية ()
3. يأتي الوطن العربي في المرتبة الثالثة بعد الهند والصين من حيث عدد السكان ()
4. يعتبر معدل النمو السكاني في الوطن العربي معدلا منخفضا على المستوى العالمي ()
5. تنخفض الكثافة السكانية في وادي النيل والدلتا في مصر. ()
6. تعاني دولة قطر نقصا سكانيا وزيادة في الموارد. ()
7. تتركز هجرة السكان في الوطن العربي إلى دول المغرب العربي. ()
8. نتيجة تحسن مستوى المعيشة في الدول العربية انخفض معدل الوفيات. ()
9. يفضل سكان وطننا العربي الإقامة في المناطق السهلية الخصبة. ()
10. يقل السكان في المناطق المرتفعة ذات المناخ الحار. ()
11. يندر سكان الوطن العربي في صحراء الربع الخالي في الجناح الآسيوي. ()
12. تعاني مصر نقصا سكانيا وزيادة في الموارد الاقتصادية. ()

س 4 : اختر الإجابة الصحيحة مما بين القوسين :

1. يرجع ارتفاع معدلات النمو السكاني في الوطن العربي إلى
(انخفاض معدل المواليد - ارتفاع معدل الوفيات - الهجرة الدولية - انخفاض مستوى المعيشة)
2. يرتبط توطن السكان في مصر بـ.....
(المرتفعات - السهول الفيضية - التضاريس - سقوط الأمطار)
3. تعد دولة من الدول التي تعاني قلة في الموارد الاقتصادية.....
(قطر - الإمارات - البحرين - سوريا)

4. دول الخليج العربي كقطر والسعودية لديها
(موارد محدودة - زيادة سكانية - وفرة العمالة - زيادة الموارد)
5. يفضل سكان سكنى الجبال لاعتدال مناخها
(المغرب - لبنان - العراق - مصر)
6. عالميا من حيث عدد السكان يحتل الوطن العربي المرتبة.....
(الأولى - الثانية - الثالثة - الرابعة)
7. يرتفع معدل المواليد وينخفض معدل الوفيات نتيجة.....
(الهجرة الدولية - محدودية الموارد - تحسين المستوى الصحي - توافر فرص العمل)
8. من دولة لأخرى وفق عدد السكان ومساحة الأرض.....
(يختلف النمو السكاني - المشكلة السكانية - الكثافة السكانية - الزيادة السكانية)
9. تحتل مصر المرتبة الأولى عربيا حيث يوجد بها نحو.....سكان الوطن العربي.
(ثلث - ربع - خمس - سدس)

س 5 : اكتب ما تشير إليه العبارات الآتية:

1. صحراء يندر بها السكان في الجناح الآسيوي. (.....)
2. زيادة عدد السكان عن الموارد المتاحة. (.....)
3. عدد السكان بالنسبة لمساحة الأرض التي يعيشون عليها. (.....)
4. سهول فيضية في الجناح الإفريقي يتركز بها السكان. (.....)

س 6 : بم تفسر ...؟

1. ارتفاع معدل النمو السكاني في الوطن العربي.

2. ارتفاع معدلات المواليد في وطننا العربي.

3. اختلاف الكثافة السكانية من دولة إلى أخرى.

4. يفضل سكان لبنان سكنى المرتفعات.

5. تركز السكان في بلاد الشام وشمال إفريقيا.

6. تركز السكان في سهول نهر النيل والدلتا في مصر.

س 7 : ما النتائج المترتبة على ...؟

1. تحسين المستوى الصحي في وطننا العربي.

وجود الصحاري في وطننا العربي بالنسبة للسكان.

تزايد عدد السكان بدرجة لا تتناسب مع الموارد الاقتصادية المتاحة.

الدرس الثاني خصائص سكان وطننا العربي

المقصود بـ: الهرم السكاني :

توزيع السكان من حيث التركيب النوعي "ذكور - إناث" و التركيب العمري "الفئات العمرية" **بم تفسر : الهرم السكاني لمصر و الوطن العربي ذو القاعدة العريضة ؟**
بسبب زيادة عدد المواليد " صغار السن "

التركيب النوعي لسكان الوطن العربي

- بلغت نسبة الذكور 51.6%
- نسبة الإناث 48.4%

بم تفسر : تزيد نسبة الذكور في بعض الدول العربية عن الإناث و خاصة في سن العمل؟
بسبب هجرة الذكور بحثاً عن العمل كما في السعودية و قطر و الإمارات.

الهرم السكاني للوطن العربي

ينقسم الهرم السكاني بالوطن العربي لـ 3 فئات عمرية رئيسية هي :

❖ **فئة صغار السن من (0-14 سنة) :**

1- تمثل نسبة 32.5% من سكان الوطن

العربي

2- فئة غير منتجة تحتاج إلى رعاية صحية و تعليمية

❖ **الفئة العاملة من (15-64 سنة) :**

1- تمثل نسبة 63% من إجمالي سكان الوطن

العربي.

2- وهي تعول "يعتمد عليها" صغار السن و كبار السن

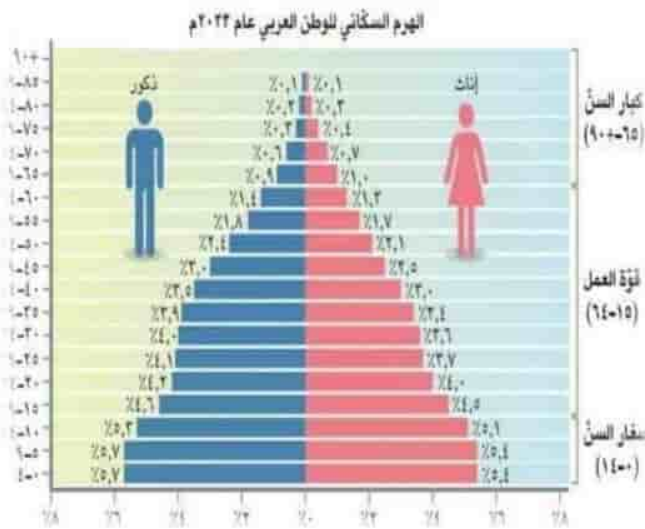
❖ **فئة كبار السن من (65 سنة فأكثر) :**

1- توجد في قمة الهرم السكاني

2- تمثل نسبة 4.5% من السكان وهم يحتاجون إلى رعاية

بم تفسر : ترتفع نسبة الإعاقة في الوطن العربي ؟

لأن من يحتاجون إلى رعاية من أطفال و كبار السن تصل نسبتهم إلى 59.5% من السكان



أنماط السكان في الوطن العربي

❖ أولاً : سكان الحضر:

تصل نسبة سكان الحضر ثلثي عدد السكان وهي نسبة مرتفعة عالمياً

• أسباب ارتفاع نسبة سكان الحضر بالوطن العربي :

بسبب ارتفاع الهجرة من الريف إلى المدن

• نتائج ارتفاع نسبة سكان الحضر بالوطن العربي :

1- الاهتمام بالتنمية الشاملة و ببناء مدن جديدة

2- تطوير البنى التحتية الحضرية

دلل على صحة العبارة : توجد دول عربية حضرية بالكامل (ليس بها ريف) ؟

مثل: قطر و الكويت و البحرين

العلاقة بين الهجرة للمدن والخدمات العامة

1. تؤثر الهجرة في الضغط على النقل و المستشفيات و المدارس و الاسكان

2. تؤدي لارتفاع مستوى التلوث و ارتفاع معدلات البطالة

3. تؤدي لانتشار العشوائيات التي تفتقر للبنية التحتية من " الطرق و المياه النظيفة و الكهرباء "



ما النتائج المترتبة على : هجرة سكان شرق آسيا و أفريقيا لدول الخليج العربي ؟

أدى لزيادة عدد الذكور في س العمل

الخصائص التعليمية لسكان الوطن العربي


• تهتم الدول العربية بإتاحة "توفير" التعليم للذكور و الإناث

• تسعى الدول العربية إلى زيادة الإنفاق على التعليم.

• وصلت نسبة الأطفال المقيدون في التعليم الابتدائي 90%

ماعدًا

"الصومال - السودان - جيبوتي - سوريا "



بم تفسر: انخفاض نسبة التعليم بكلا من الصومال - السودان - جيبوتي - سوريا ؟

بسبب الفقر و الحروب

الرعاية الصحية في الوطن العربي:

نتج عن التقدم العلمي و توفر الخدمات الصحية بالوطن العربي :



- 1- انخفاض وفيات الأطفال
- 2- تحسن صحة المرأة العربية
- 3- ارتفاع متوسط عمر المواطن العربي من 64 سنة إلى 72 سنة.

ملحوظة :

- سجلت قطر أعلى متوسط عمر متوقع وهو 80 سنة
- سجلت الصومال أقل متوسط عمر متوقع وهو 57 سنة

س: ما النتائج المترتبة على : يؤثر المستوى الصحي للسكان على اقتصاد الدول ؟
تحرص الدول العربية على رفع مستوى الخدمات الطبية و رعاية الأطفال و الامهات
دلل على صحة العبارة : تعاني بعض الدول العربية من ارتفاع معدلات الوفيات ؟
هناك 6 دول عربية تعاني من ارتفاع الوفيات و هي :

" الصومال – موريتانيا – جزر القمر – جيبوتي – اليمن – السودان "

مشكلات السكان في الوطن العربي

1- البطالة :

• معدل البطالة 11% عام 2021م

• سجلت كل من :

" جيبوتي – فلسطين – الأردن – الصومال "

أعلى معدلات في البطالة



2- الأمية :

س: بم تفسر : وجود مشكلة الأمية في الوطن العربي ؟ سبب

1- عدم قيد كل الأطفال في التعليم الابتدائي

2- التسرب من التعليم



ملحوظة :

• وصلت نسبة الأمية بالوطن العربي إلى 25% عام 2020م

• تزيد نسبة الأمية في موريتانيا و جزر القمر إلى 40%

اختر نفسك

س1 : أكمل العبارات الآتية :

- 1- فئة توجد على قمة الهرم السكاني هي
- 2- ترتفع نسبة الأعالمة بالوطن العربي بسبب
- 3- تصل نسبة الحضرة في الريف إلى عدد سكان الوطن العربي
- 4- سجلت دولة أعلى عمر متوقع و هو 80 سنة
- 5- من الدول مرتفعة البطالة و و
- 6- تنخفض نسبة التعليم في بعض الدول بسبب
- 7- من الدول غير الحضارية بالكامل و و

س2 : ضع علامة (✓) أو (x) أمام العبارات الآتية :

- 1- تقوم الدول العربية ببناء مدن جديدة ()
- 2- سجلت الصومال أعلى متوسط عمر متوقع و هو 57 سنة ()
- 3- توجد أعلى نسبة من الأمية في كلا من جزر القمر و الصومال ()
- 4- الفئة العاملة هي الفئة تعول الفئات الأخرى ()
- 5- ظهرت مشكلة البطالة بسبب التسرب من التعليم ()

س3 : بم تفسر :

- 1- الهرم السكاني لمصر و الوطن العربي ذو قاعدة عريضة ؟

- 2- تزيد نسبة الذكور في بعض الدول العربية عن الإناث و بخاصة في سن العمل؟

- 3- ترتفع نسبة الإعالة في الوطن العربي ؟

- 4- ارتفاع نسبة سكان الحضرة بالوطن العربي

- 5- وجود مشكلة الأمية في الوطن العربي؟

س4 : دلل على صحة العبارة :

- 1- توجد دول عربية حضرية بالكامل (ليس بها ريف)

2- تعاني بعض الدول العربية من ارتفاع معدلات الوفيات

س5 : اختار الاجابة الصحيحة مما بين القوسين

1. تصل نسبة سكان الحضر عدد سكان الوطن العربي
(ربع - ثلث - ثلثي - نصف)
2. سجلت دولة أعلى متوسط عمر متوقع في الدول العربية
(قطر - موريتانيا - الصومال - مصر)

س5 : صوب ما تحته خط :

- 1- توجد فنة صغار السن على قمة الهرم السكاني
- 2- تصل نسبة سكان الحضر إلى ربع سكان الوطن العربي
- 3- تصل نسبة الأمية في كلا من جزر القمر و جيبوتي لـ 40 %

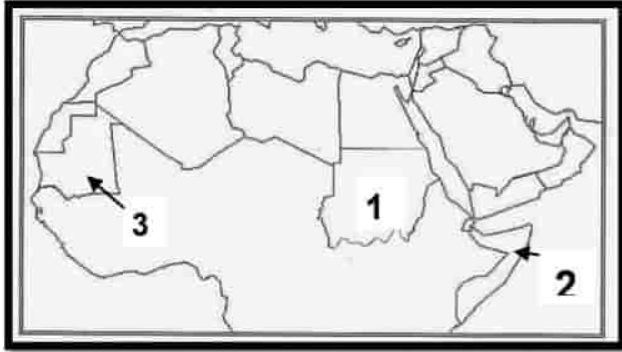
س 6 : ما المقصود بـ :

الهرم السكاني :

س 7 : أمامك خريطة للوطن العربي وضع عليها مدلول

الأرقام الآتية:

- 1- دولة تعاني من ارتفاع الوفيات
- 2- دولة تعاني من مشكلة البطالة
- 3- دولة تعاني من مشكلة الأمية



الدرس الثالث

الحياة الاجتماعية في عصر الدولة الإسلامية

• الحياة الاجتماعية قبل ظهور الإسلام :

قبل ظهور الإسلام تفشى الظلم وضياع الحقوق وانتشر النزاع حتى جاء الإسلام

• الحياة الاجتماعية بعد ظهور الإسلام

- 1- أسس الإسلام مجتمعاً يقوم على العديد من القيم مثل :
التعاون والعدل والمساواة والأخاء والصدق والوفاء بالعهود واحترام الجار ومحاربة الفساد وتقدير العمل واحترام العلم والعلماء
- 2- يدعو الدين الإسلامي للتسامح والرحمة ونهى عن قتل النساء والأطفال وأوصى المسلمين بأصحاب الديانات الأخرى ومراعاة حقوقهم والاحسان إليهم والنهي عن إيذائهم

الإسلام وحرية الاعتقاد

دل على صحة العبارة : وضع الإسلام حرية الاعتقاد والتعبير؟ والدليل على هذا

1- عندما فتح عمر بن الخطاب بيت المقدس عام 15هـ : أعطى أهلها الأمان لأنفسهم وأموالهم وكنائسهم

2- عندما فتح خالد بن الوليد بلاد الشام : عقد مع أهلها صلح أكد فيها على عدم هدم كنائسهم كل هذا القيم كانت سبب في ازدهار وتقدم المجتمع الإسلامي

طبقات المجتمع في الدولة الإسلامية

تقدم المجتمع يعتمد على طبقات المجتمع ولا يمكن لطبقة العيش بدون الأخرى

• الطبقة العليا :

1. تضم الخلفاء والأمراء والوزراء وقادة الجند
2. يمثل الخليفة رأس الهرم هذه الطبقة

• الطبقة الخاصة :

تضم العلماء والتجار وكبار الأدباء

• الطبقة الوسطى :

أصحاب الأملاك ورؤساء الحرف وكبار العمال

• الطبقة العامة

تضم باقي أبناء المجتمع من صغار العمال والتجار والمزارعين

المرأة قبل ظهور الإسلام

- 1- قبل ظهور الإسلام لم يكن للمرأة في الجزيرة العربية أي حقوق كالميراث والتملك
- 2- وانتشرت في الجزيرة العربية عادة وأد البنات

مكانة المرأة بعد ظهور الاسلام

دليل على صحة العبارة الاتية : كرم الاسلام المرأة ؟

- 1- اعطاها حق الميراث والتملك وادارة اموالها
- 2- الاشراف على موارها الاقتصادية
- 3- اوصى الاسلام التعامل برحمة و المودة مع المرأة
- 4- ساوى بين الرجل والمرأة في الحقوق و الواجبات

كان للمرأة دور كبير في نشر الاسلام

عملت المرأة المسلمة في مجالات مختلفة مثل :
(الزراعة - الصناعة - التجارة - الطب - الفقه)

أمثلة لأشهر النساء المسلمين في المجالات المختلفة

❖ ربيعة الاسلامية

عملت في التمريض وتقديم الرعاية الطبية للجرحى في الغزوات

❖ الشفاء العدوية وسمراء الاسدية

تولت كل منها الاشراف على الاسواق ومراقبة التجار والعمل على معاقبة المخالفين في عهد الخليفة عمر بن الخطاب

دور المرأة حديثا

➤ منظمة المرأة العربية

هي منظمة تابعة لجامعة الدول العربية

تعمل على :

1. نشر الوعي بقضايا المرأة
 2. تعزيز التعاون العربي المشترك في مجال تحسين الوعي لقضايا المرأة
- شهد العصر الحديث اهتماما كبيرا بحقوق المرأة مثل : حقها في التعليم والثقافة
- ظهرت عالمات وباحثات بمختلف المجالات وحققت انجازات بالمستوى العالمي وتولين مناصب قيادية

نماذج نسائية رائدة في التاريخ الإسلامي

(1) خديجة بنت خويلد

- زوجة الرسول
- اول من اسلمت من النساء
- كانت تتميز بالذكاء و الحكمة
- ساهمت بأموالها و آرائها في نشر الاسلام ومساندة الرسول

(2) أسماء بنت ابى بكر

- ساهمت في نجاح خطة هجرة الرسول من مكة الى المدينة فقد كانت تحمل الطعام والشراب للرسول و ابى بكر ليلا وسط الصعوبات

اليوم العربي للتراث الثقافي العربي



تحتفل جامعة الدول العربية يوم 27 فبراير من كل عام باليوم العربي للتراث الثقافي العربي

بم تفسر : الاحتفال باليوم العربي للتراث الثقافي العربي ؟

- 1- للتوعية بأهمية التراث الثقافي العربي و دورة في بناء الحضارة
 - 2- لتحقيق التواصل بين الأجيال و التشجيع على الابداع لتحقيق تنمية مستدامة
- كان شعار الاحتفال عام 2023 " **التراث الشعبي في الوطن العربي** "

منظمة الألكسو

هي المنظمة العربية للتربية و الثقافية و العلوم تختار كل عام مدينة عربية لتكون عاصمة الثقافة العربية



من المدن التي فازت بهذا اللقب

عام 2017 م	عام 2009 م	عام 1996 م
مدينة الأقصر	مدينة القدس	مدينة القاهرة
		

اختبر نفسك

السؤال الاول : اكتب كلمة (صواب) او كلمة (خطأ) امام كل عبارة

1. قبل ظهور الاسلام تفشى الظلم وضياع الحقوق ()
2. انقسم المجتمع الى خمس طبقات ()
3. ارسى الاسلام حرية الاعتقاد والتعبير ()
4. علمت ربيعة الاسلامية في الاشراف على الاسواق ()
5. حصلت مدينة القدس على عاصمة الثقافة العربية عام 2009 م ()

السؤال الثاني : اجب عما يلي

1- اكتب نتيجة واحدة: ظهور الاسلام (بالنسبة للمرأة)

2- اكتب دليلا على : ان الاسلام يحترم حرية الاعتقاد والتعبير

3- اكتب دليلا : التراث الثقافي له اهمية اقتصادية كبيرة

4- دلل على صحة العبارة الاتية : كرم الاسلام المرأة ؟

5- اكتب عملا واحد من : اعمال منظمة المرأة العربية

السؤال الثالث : اكمل الجمل الاتية بالكلمات المناسبة

- 1- ينتمي العلماء الى الطبقة
- 2- علمت ربيعة الاسلامية في
- 3- انتشرت عبادة في شبة الجزيرة العربية قبل الاسلام
- 4- حصلت مدينة عاصمة الثقافة العربية عام 2017 م
- 5- تولت كل و الاشراف على الاسواق ومراقبة التجار والعمل على معاقبة المخالفين في عهد

السؤال الرابع : لمن تنسب الأعمال :

- 1- زوجة الرسول و أول من أسلمت من النساء
- 2- كانت تحمل الطعام والشراب للرسول و ابي بكر ليلا وسط الصعوبات
- 3- عملت في التمريض وتقديم الرعاية الطبية للجرحى في الغزوات

السؤال الخامس : أختار الإجابة الصحيحة :

1. عملت المرأة المسلمة في
(الزراعة – الصناعة – التجارة – كل ما سبق)
2. ضمت الطبقة العليا في العصر الإسلامي
(التجار – العلماء – الأدباء – العمال)
3. ينتمي العلماء و التجار للطبقة
(العليا – الوسطى – الخاصة – العامة)
4. عملت في التمريض و رعاية الطبية للجرحى في الغزوات
(سمراء الأسيديّة – الشفاء العدويّة – روفيدة الأسمليّة – أسماء بنت أبي بكر)

اختر نفسك على الوحدة الأولى

س 1 : أكمل العبارات الآتية مما بين القوسين:

1. زيادة عدد السكان في فترة زمنية معينة يسمى
2. يحتل الوطن العربي المرتبة عالميا من حيث عدد السكان.
3. ارتفاع معدلات المواليد وانخفاض معدلات الوفيات بسبب
4. تحتل دولة المرتبة الأولى عربيا من حيث عدد السكان.
5. يتركز السكان في السهول الفيضية في سهول نهري دجلة والفرات في دولة
6. يتركز السكان في السهول الساحلية في بلاد الشام بسبب
7. لحل المشكلة السكانية بالسعودية وقطر يجب استقبال أعداد كبيرة من..... لاستثمار مواردها.
8. تنخفض الكثافة السكانية في المناطق.....
9. يتركز السكان في المناطق المرتفعة مثل مرتفعات.....
10. فنة توجد على قمة الهرم السكاني هي
11. ترتفع نسبة الأعاله بالوطن العربي بسبب
12. تصل نسبة الحضر في الريف إلى عدد سكان الوطن العربي
13. سجلت دولة أعلى عمر متوقع و هو 80 سنة
14. من الدول مرتفعة البطالة و و
15. تنخفض نسبة التعليم في بعض الدول بسبب
16. من الدول غير الحضارية بالكامل و و
17. ينتمي العلماء الى الطبقة
18. عملت رفايدة الاسلامية في
19. انتشرت عبادة في شبة الجزيرة العربية قبل الاسلام
20. حصلت مدينة عاصمة الثقافة العربية عام 2017 م
21. تولت كل و الاشراف على الاسواق ومراقبة التجار والعمل على معاقبة المخالفين في عهد

س 2 : ضع علامة (√) أمام العبارة الصحيحة، وعلامة (X) أمام العبارة غير الصحيحة

1. يحتفل سكان وطننا العربي باليوم العالمي للسكان في 11 يوليو من كل عام ()
2. زيادة عدد السكان في فترة زمنية معينة يعد ذلك مشكلة سكانية ()
3. يأتي الوطن العربي في المرتبة الثالثة بعد الهند والصين من حيث عدد السكان ()
4. يعتبر معدل النمو السكاني في الوطن العربي معدلا منخفضا على المستوى العالمي ()
5. تنخفض الكثافة السكانية في وادي النيل والدلتا في مصر. ()
6. تعاني دولة قطر نقضا سكانيا وزيادة في الموارد. ()
7. تتركز هجرة السكان في الوطن العربي إلى دول المغرب العربي. ()
8. نتيجة تحسن مستوى المعيشة في الدول العربية انخفض معدل الوفيات. ()
9. يفضل سكان وطننا العربي الإقامة في المناطق السهلية الخصبة. ()
10. يقل السكان في المناطق المرتفعة ذات المناخ الحار. ()
11. يندر سكان الوطن العربي في صحراء الربع الخالي في الجناح الآسيوي. ()
12. تعاني مصر نقضا سكانيا وزيادة في الموارد الاقتصادية. ()
13. تقوم الدول العربية ببناء مدن جديدة ()
14. سجلت الصومال أعلى متوسط عمر متوقع و هو 57 سنة ()
15. توجد أعلى نسبة من الأمية في كلا من جزر القمر و الصومال ()

16. الفئة العاملة هي الفئة تعمل الفئات الأخرى ()
 17. ظهرت مشكلة البطالة بسبب التسرب ()
 18. قبل ظهور الاسلام تفتش الظلم وضياع الحقوق ()
 19. انقسم المجتمع الى خمس طبقات ()
 20. ارسى الاسلام حرية الاعتقاد والتعبير ()
 21. عملت رفاة الاسلامى فى الاشراف على الاسواق ()
 22. حصلت مدينة القدس على عاصمة الثقافة العربية عام 2009 م ()

س 3 : اختر الإجابة الصحيحة مما بين القوسين :

1. يرجع ارتفاع معدلات النمو السكاني في الوطن العربي إلى
 (انخفاض معدل المواليد - ارتفاع معدل الوفيات - الهجرة الدولية - انخفاض مستوى المعيشة)
 2. يرتبط توطن السكان في مصر ب.....
 (المرتفعات - السهول الفيضية - التضاريس - سقوط الأمطار)
 3. تعد دولة من الدول التي تعاني قلة في الموارد الاقتصادية.....
 (قطر - الإمارات - البحرين - سوريا)
 4. دول الخليج العربي كقطر والسعودية لديها
 (موارد محدودة - زيادة سكانية - وفرة العمالة - زيادة الموارد)
 5. يفضل سكان سكنى الجبال لاعتدال مناخها
 (المغرب - لبنان - العراق - مصر)
 6. عالميا من حيث عدد السكان يحتل الوطن العربي المرتبة.....
 (الأولى - الثانية - الثالثة - الرابعة)
 7. يرتفع معدل المواليد وينخفض معدل الوفيات نتيجة.....
 (الهجرة الدولية - محدودية الموارد - تحسين المستوى الصحي - توافر فرص العمل)
 8. يختلف من دولة لأخرى وفق عدد السكان ومساحة الأرض
 (النمو السكاني - المشكلة السكانية - العجز السكاني - الزيادة السكانية)
 9. تحتل مصر المرتبة الأولى عربيا حيث يوجد بها نحوسكان الوطن العربي.
 (ثلث - ربع - خمس - سدس)
 10. نصل نسبة سكان الحضر عدد سكان الوطن العربي
 (ربع - ثلث - ثلثي - نصف)
 11. سجلت دولة أعلى متوسط عمر متوقع في الدول العربية
 (قطر - موريتانيا - الصومال - مصر)
 12. عملت المرأة المسلمة في
 (الزراعة - الصناعة - التجارة - كل ما سبق)
 13. ضمت الطبقة العليا في العصر الاسلامي
 (التجار - العلماء - الادباء - العمال)
 14. ينتمي العلماء و التجار للطبقة.....
 (العليا - الوسطى - الخاصة - العامة)
 15. عملت في التمريض و رعاية الطبية للجرحى في الغزوات
 (سمراء الأسدية - الشفاء العدوية - روفيدة الأسلمية - أسماء بنت أبي بكر)

س 4 : بم تفسر...؟

1. ارتفاع معدل النمو السكاني في الوطن العربي.

2. ارتفاع معدلات المواليد في وطننا العربي.

3. اختلاف الكثافة السكانية من دولة إلى أخرى.

4. يفضل سكان لبنان سكنى المرتفعات.

5. تركيز السكان في بلاد الشام وشمال إفريقيا.

6. تركيز السكان في سهول نهر النيل والدلتا في مصر.

6- الهرم السكاني لمصر و الوطن العربي ذو القاعدة العريضة ؟

7- تزيد نسبة الذكور في بعض الدول العربية عن الإناث و بخاصة في سن العمل؟

8- ترتفع نسبة الإعالة في الوطن العربي ؟

9- ارتفاع نسبة سكان الحضر بالوطن العربي

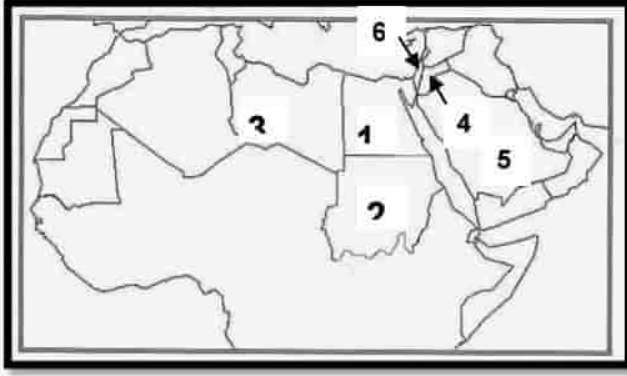
10- وجود مشكلة الأمية في الوطن العربي؟

س 5 : ما النتائج المترتبة على...؟

1. تحسين المستوى الصحي في وطننا العربي.

وجود الصحاري في وطننا العربي بالنسبة للسكان.

تزايد عدد السكان بدرجة لا تتناسب مع الموارد الاقتصادية المتاحة.



س 6 : (1) أمامك خريطة للوطن العربي وضع عليها
مدلول الأرقام الآتية:

1. دولة تحتل المركز الأول سكانا في الوطن العربي.....
2. دولة يرتفع بها عدد السكان.....
3. صحراء يندر بها السكان.....
4. دولة تعاني من محدودية الموارد.....
5. دولة تعاني نقصا سكانيا.....
6. دولة يتركز سكانها في المناطق المرتفعة.....

(2) أمامك خريطة للوطن العربي وضع عليها مدلول
الأرقام الآتية:

- 1- دولة تعاني من ارتفاع الوفيات.....
- 2- دولة تعاني من مشكلة البطالة.....
- 3- دولة تعاني من مشكلة الأمية.....

