

اختبار الفصل ٩

الاسم: ..... الفصل / .....

التقدير : ٦ سم  
الفعلي : ٥ سم




١. قدر الى اقرب سنتيمتر ثم قس الطول الحقيقي بالمسطرة ؟

٤- قدر مساحة الشكل التالي

٢. ما طول ضلع المربع التالي

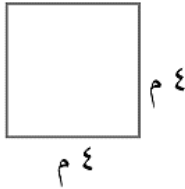
٨ وحدات مربعة



٢ سم

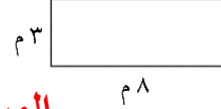


المحيط : ١٦ م  
المساحة ١٦ م مربع



٥- أوجد محيط ومساحة كل من المستطيل والمربع فيما يأتي: (الدرسان ٩-٢، ٩-٣)

المحيط: ٢٢ م  
المساحة ٢٤ م مربع



٦. ضع علامة (✓) أو خطأ (X) امام العبارات التالية

- أ- إذا كان حجم المكعب ٢٧ وحدة مكعبة ، فإن طول حرفه هو ٣ وحدات ؟ (✓)  
ب- تقدر كتلة كتاب الرياضيات بجرام واحد تقريباً (X)

٧. اختر التقدير الأنسب لما يلي :-



اختر الإجابة الصحيحة

٨- مشعل وعمر وبدر لاعبون في فريق كرة القدم في المدرسة ، وأرقام قمصانهم ٣ و ٧ و ١٣ . إذا كان رقم قميص عمر يساوي عد احرف اسمه ، ورقم قميص مشعل مكون من رقمين ، فما رقم قميص بدر ؟


أ (7) ب ١٣ ج ٣ د ٢٠

٩- ما طول الفترة الزمنية من الساعة ٤:١٥ مساء وحتى الساعة ٥:٣٠ مساء

أ ساعة واحدة (ب) ساعة و ١٥ دقيقة ج ساعة و ٣٠ دقيقة د ساعة و ٤٥ دقيقة

١٠-

أوجد حجم كل من الجسمين الآتيين:



$20 \times 4 = 80$  مكعب

$8 \times 4 = 32$  مكعب

