

اختبار الفصل ٩

الاسم: الفصل /.....


١. قدر الى اقرب سنتيمتر ثم قس الطول الحقيقي بالمسطرة ؟



٢. ما طول ضلع المربع التالي

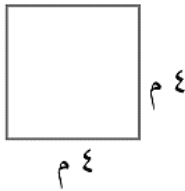



٤- قدر مساحة الشكل التالي



٥-

أوجد محيط ومساحة كل من المستطيل والمربع فيما يأتي: (الدرسان ٩-٢، ٩-٣)



٦. ضع علامة (✓) أو خطأ (X) امام العبارات التالية

- أ- إذا كان حجم المكعب ٢٧ وحدة مكعبة ، فإن طول حرفه هو ٣ وحدات ؟ ()
 ب- تقدر كتلة كتاب الرياضيات بجرام واحد تقريباً ()

٧. اختر التقدير الأنسب لما يلي :-



اختر الإجابة الصحيحة

- ٨- مشعل وعمر وبدر لاعبون في فريق كرة القدم في المدرسة ، وأرقام قمصانهم ٣ و ٧ و ١٣ . إذا كان رقم قميص عمر يساوي عد احرف اسمه ، ورقم قميص مشعل مكون من رقمين ، فما رقم قميص بدر ؟

أ

ب

ج

د

١٣

٢٠

٩- ما طول الفترة الزمنية من الساعة ٤:١٥ مساء وحتى الساعة ٥:٣٠ مساء

أ

ب

ج

د

ساعة واحدة

ساعة و ١٥ دقيقة

ساعة و ٤٥ دقيقة

١٠-

أوجد حجم كل من الجسمين الآتيين:

