

# قطر الندى

اختبارات شهر مارس 2023 / 2024



5

الصف الخامس الابتدائي  
الفصل الدراسي الثاني

اللفة  
العربية

## الاختبار الأول

مجاب عنه

١٥

٣

السؤال الأول : ( القراءة المحررة من المحتوى ) اقرأ الفقرة التالية ، ثم أجب :

( الظلم والتعدي على حقوق وممتلكات الآخرين من الأخلاق الدنيئة التي تدل على الجشع والطمع ، وينبغي على كل إنسان حر شريف أن يبتعد عن ذلك ، ويكبح جماح كل من تسول له نفسه أن يظلم غيره ، ويقف بجوار المظلوم حتى يرد إليه حقه من الظالم ، كما ينبغي على من وقع عليه الظلم ألا ييأس ويستسلم ويترك حقه بل عليه أن يبحث عن حقه بكل وسيلة متاحة أمامه ويلجأ إلى الشرطة والقضاء وكل ذي سلطة على الظالم حتى يسترد حقه كاملاً ، كما أن عليه أيضاً أن يعلم أنه صاحب حق ، وصاحب الحق الله ناصره ، فليستعن بالله ولا يقنط . )

(أ) استخرج من الفقرة :

١- معنى ( يُوقف ويُخضع ) : ..... ٢- مضاد ( عبد ) : .....

(ب) أكمل ما يلي :

١- ينبغي على ..... أن يستعين بالله ولا يقنط .

٢- من الأخلاق الدنيئة التي تتحدث عنها الفقرة ..... و .....

(ج) إذا وجدت إنساناً مظلوماً. ماذا ينبغي عليك أن تفعل كما فهمت من الفقرة السابقة ؟

٣

السؤال الثاني : ( النص الشعري المحرر من المحتوى ) اقرأ ، ثم أجب :

فَاسْعُوا بَنِي مِصْرَ تَنَلْ      مِنْ دَهْرِنَا مَجْدَ الْأَوَّلِ  
وَالْحَظُّ يُدْنِيهِ الْعَمَلُ      وَيَذُودُهُ عَنَّا الْكَسَلُ

(أ) تخير الصواب مما بين القوسين :

١- مضاد ( يدنيه ) : ..... ( يقربه - يبعده - يتركه )

٢- معنى ( اسعوا ) : ..... ( اجتهدوا - تقدموا - اسمعوا )

(ب) أكمل ما يلي :

١- ينال المرء ما يتمنى ب .....

٢- ( فاسعوا بني مصر ) أسلوب .....

(ج) استخرج من البيتين :

- كلمتين لهما نفس النهاية : .....



السؤال الثالث : ( القواعد النحوية والإملائية ) :

- أكمل بما هو مطلوب بين القوسين :

( جمع تكسير، واضبطه )

( أ ) في ..... معلومات كثيرة.

( مضاف إليه )

( ب ) ألوان ..... جميلة.

( كلمة بها همزة متوسطة على واو )

( ج ) أحب ..... منظر الغروب.

( علامة ترقيم مناسبة )

( د ) استمع إلى نصيحة كبار السن



السؤال الرابع : ( التعبير الكتابي ) :

اقرأ القصة القصيرة الآتية ، ثم غير أحداثها بعد استبدال جملة (ولكن الغراب تذكر نصيحة أمه ولم يصدق كلام الثعلب) بالجملة الملونة.

خرج الثعلب ذات يوم باحثاً عن طعام ، لكنه لم يجد طعاماً ، رأى الثعلب المكار غراباً يقف فوق الشجرة وفي فمه قطعة لحم ، فأراد أن يحتال عليه ؛ ليأخذ منه قطعة اللحم ، فنادى عليه قائلاً : أيها الغراب الجميل ما أجمل صوتك حين تغني ! صدق الغراب المسكين كلام الثعلب ولم يأخذ بنصيحة أمه التي حذرته من مكر الثعلب ، ففتح فمه ؛ ليغني ، فسقطت قطعة اللحم من فمه ، فأخذها الثعلب ، وفر هارباً .



السؤال الخامس : ( الخط ) اكتب ما يلي بخط النسخ مرة ، وبخط الرقعة مرة أخرى :

بالإصرار والعزيمة نصل إلى النجاح .

بالإصرار والعزيمة نصل إلى النجاح .

## الاختبار الثاني

مجاب عنه

١٥

٣

السؤال الأول : ( القراءة المحررة من المحتوى ) اقرأ الفقرة التالية ، ثم أجب :

( الإضرار بالبيئة والتعدي على الممتلكات العامة والخاصة إضرار بالمجتمع كله ، لذلك وضعت الدول العديد من الضوابط وذلك للحفاظ على الوحدة والنظام الاجتماعي وراحة الإنسان ومنفعته ، ولذلك ينبغي على كل مواطن مراعاة القوانين وعدم التعدي على ممتلكات غيره أو على البيئة من حوله بإفسادها أو استغلال مواردها استغلالاً سيئاً ، كما أن عليه مراعاة حقوق الأجيال القادمة في هذه الموارد، وينبغي على الدولة أيضاً أن تضرب بيد من حديد كل إنسان مفسد في الأرض خاصة في الوقت الراهن لمواجهة التداعيات الناتجة عن التلوث. )

(أ) اختر الإجابة الصحيحة مما بين القوسين :

- ١- معنى (التداعيات) : ..... ( الزوائد - العواقب - التحديات )  
 ٢- مضاد (الراهن) : ..... ( السابق - الماضي - هما معاً )

(ب) ضع علامة (✓) أو علامة (×) أمام ما يلي :

- ١- ينبغي على كل مواطن أن يضرب بيد من حديد كل إنسان مفسد في الأرض. ( )  
 ٢- يتضرر المجتمع كله في حالة الإضرار بالممتلكات العامة والخاصة. ( )

(ج) لم وضعت الدول الضوابط ؟

السؤال الثاني : ( النص الشعري المحرر من المحتوى ) اقرأ ، ثم أجب :

لَيْسَ الْجَمَالُ بِأَنْوَابٍ تُرَيَّنَا      إِنَّ الْجَمَالَ جَمَالُ الْعَقْلِ وَالْأَدَبِ  
 لَيْسَ الْيَتِيمُ الَّذِي قَدَّمَ وَالِدُهُ      إِنَّ الْيَتِيمَ يَتِيمُ الْعِلْمِ وَالْأَدَبِ

(أ) تخير الصواب مما بين القوسين :

- ١- معنى (تزيننا) : ..... ( تجميلنا - تقدمنا - تعلق بنا )  
 ٢- مضاد (العلم) : ..... ( الحماسة - السفاهة - الجهل )

(ب) أكمل ما يلي :

- ١- جمال الإنسان يكون ب..... و.....  
 ٢- لا يرى الشاعر اليتيم في فقد..... وإنما في فقد العلم والأدب.

(ج) استخرج من البيتين ( أسلوب توكيد ) :



السؤال الثالث : ( القواعد النحوية والإملائية ) :

- صوب الأخطاء النحوية والإملائية في الجمل الآتية :

( أ ) فاجأت صديقي بقصتان جديدتين .

( ب ) تقدر مصر النابغون من أبنائها .

( ج ) تَنَخَّرت (هدى) عن الموعد .

( د ) ما لذ طعم الموز .



السؤال الرابع : ( التعبير الكتابي ) :

اكتب إعلاناً عن رحلة مدرسية إلى المتحف الإسلامي بالقاهرة للصف الخامس الابتدائي وسيتم

نشره على حائط الإعلانات بالمدرسة بعدد كلمات يتراوح بين (٥٠ و ١٠٠) كلمة .

مراعياً عناصر الإعلان وهي : (الموضوع ، الزمان ، المكان ، المعلن ، الفئة المستهدفة ، العبارات التحفيزية) اختيار المفردات ، التنوع في تركيب الجمل ، مع إملاء وخط سليمين .



السؤال الخامس : ( الخط ) اكتب ما يلي بخط التسخ مرة ، وبخط الرقعة مرة أخرى :

حافظ على نظافة البيئة .

حافظ على نظافة البيئة .

## الاختبار الثالث

مجاب عنه

١٥

٣

السؤال الأول : ( القراءة المحررة من المحتوى ) اقرأ الفقرة التالية ، ثم أجب :

(من أهم عوامل النجاح حسن إدارة الإنسان لوقته ، فالوقت هو حياة الإنسان ، وإذا تمكن الإنسان من إدارة وقته بشكل جيد استطاع تحقيق أهدافه في الحياة وتبقى له متسع من الوقت لممارسة هواياته والاستمتاع بالحياة ، والوقت بهذه النظرة أثمن ما في الوجود ، لذلك على الإنسان إذا أراد أن يكون ناجحاً أن يحدد أولوياته ويستغل أوقات فراغه في أمور مفيدة تساعد على الوصول لأهدافه ، وقد أثبتت الدراسات أن الذين يحافظون على أوقاتهم بدون إفراط أو تفريط يصلون إلى ما يتمنونه من النجاح والتميز.)

( أ ) تخير الصواب مما بين القوسين :

- ١- معنى ( أثمن ) : ..... ( أكبر - أغلى - أقبح )  
 ٢- مفرد ( الدراسات ) : ..... ( الدرس - المدرسة - الدراسة )

( ب ) أكمل ما يلي :

- ١- الوقت ..... الإنسان ، وهو من أهم عوامل .....  
 ٢- على الإنسان إذا أراد أن يكون ناجحاً أن يستغل أوقات فراغه في .....  
 ( ج ) ما نتيجة إدارة الإنسان لوقته بشكل جيد ؟

٣

السؤال الثاني : ( النص الشعري المحرر من المحتوى ) اقرأ ، ثم أجب :

إِذَا الْعِلْمُ لَمْ تَعْمَلْ بِهِ كَانَ حُجَّةً      عَلَيْكَ وَلَمْ تُعْذَرْ بِمَا أَنْتَ حَامِلٌ  
 فَإِنْ كُنْتَ قَدْ أَبْصَرْتَ هَذَا فَإِنَّمَا      يَصْدُقُ قَوْلَ الْمَرْءِ مَا هُوَ فَاعِلٌ

( أ ) تخير الصواب مما بين القوسين :

- ١- معنى ( المرء ) : ..... ( الجاهل - الإنسان - العالم )  
 ٢- مضاد ( يصدق ) : ..... ( يبين - يكذب - يؤكد )

( ب ) أكمل : - أقوال الإنسان ليس لها قيمة إذا لم يصدقها .....

( ج ) استخرج من البيتين :

- ١- أسلوب توكيد : .....  
 ٢- كلمتين لهما نفس النهاية : ..... و .....



السؤال الثالث : ( القواعد النحوية والإملائية )

- تخير الصواب مما بين القوسين :

( أ ) كتبت المقال في **صفحتين**. الكلمة الملونة علامة جرّها ..... ( الكسرة - الياء - الواو )

( ب ) مياه **البحر** مالحة. الكلمة الملونة ..... ( مبتدأ - خبر - مضاف إليه )

( ج ) شاهدت ..... المسجد الشاهقة. ( مؤذنة - مؤذنة - مؤذنة )

( د ) حضر المسؤولون ..... ( المؤتمر - المؤتمر - المؤتمر )



السؤال الرابع : ( التعبير الكتابي ) :

هذه الصورة هي صفحة من صفحات قصة قصيرة عن بنت اسمها (آمنة) تصنع إكسسوارات وتبيعها في النادي للبنات.. اكتب القصة مرة ، ثم اكتبها مرة أخرى مع تغيير حدث بها فتغير نهايتها.



مع مراعاة عناصرها (المكان ، الزمان ، الشخصيات ، المقدمة ، الحبكة ، الخاتمة ، اختيار عنوان جذاب) فيما لا يقل عن (٣٠ : ٥٠) كلمة :



السؤال الخامس : ( الفظ ) اكتب ما يلي بخط النسخ مرة ، وبخط الرقعة مرة أخرى :

الحرية لها ضوابط وليست مطلقة .

الحرية لها ضوابط وليست مطلقة .

## الإجابات النموذجية

### إجابة الاختبار الثاني ص ٤، ٥

ص ٤ : السؤال الأول :

(أ) ١- العواقب . ٢- هما معًا .

(ب) ١- (x) . ٢- (✓) .

(ج) للحفاظ على الوحدة والنظام الاجتماعي وراحة الإنسان ومنفعته .

السؤال الثاني :

(أ) ١- تجملنا . ٢- الجهل .

(ب) ١- جمال العقل والأدب . ٢- الوالد .

(ج) إن اليتيم يتيم العلم والأدب .

ص ٥ : السؤال الثالث :

(أ) بقصتين . (ب) النابغين .

(ج) تأخرت . (د) ألد - ! .

السؤال الرابع :

تعلم مدرسة المستقبل الابتدائية أنها ستقوم يوم الخميس الموافق ٣ من مايو برحلة إلى المتحف الإسلامي بالقاهرة لتلاميذ الصف الخامس الابتدائي ، وعلى راغبى الاشتراك بالرحلة تسجيل أسمائهم بمكتب شؤون الطلاب ودفع قيمة الاشتراك بالرحلة (خمسين جنيهًا) والحضور يوم الخميس المقبل ؛ حيث سيكون الانطلاق على متن الحافلة في الساعة السابعة صباحًا من أمام باب المدرسة ، فهيا نزر أكبر متحف إسلامي بالعالم حيث يضم مجموعات متنوعة من الفنون الإسلامية من مختلف البلاد ك(الهند والصين وإيران) مرورًا بفنون الجزيرة العربية والشام ومصر وشمال إفريقيا وأندلس .

مع تحيات إدارة مدرسة المستقبل الابتدائية

### إجابة الاختبار الأول ص ٢، ٣

ص ٢ : السؤال الأول :

(أ) ١- يكبح جماح . ٢- حر .

(ب) ١- صاحب الحق .

٢- الظلم والتعدي على حقوق وممتلكات الآخرين .

(ج) ينبغي أن أقف بجواره حتى يُرد إليه حقه من الظالم .

السؤال الثاني :

(أ) ١- يبعده . ٢- اجتهدوا .

(ب) ١- العمل . ٢- أمر .

(ج) العمل - الكسل .

ص ٣ : السؤال الثالث :

(أ) الكتب .

(ب) الزهور .

(ج) رؤية .

(د) .

السؤال الرابع :

خرج الثعلب ذات يوم باحثًا عن طعام ، لكنه لم يجد طعامًا ، رأى الثعلب المكار غرابًا يقف فوق الشجرة وفي فمه قطعة لحم ، فأراد أن يحتال عليه ؛ ليأخذ منه قطعة اللحم ، فنادى عليه قائلاً : أيها الغراب الجميل ما أجمل صوتك حين تغني ! ولكن الغراب تذكر نصيحة أمه ، ولم يصدق كلام الثعلب ، وأخذ قطعة اللحم ، وهرب بها بسرعة ، وذهب إلى أمه ، وحكى لها ما حدث مع الثعلب ، ففرحت بسماع الغراب لنصيحتها ، وجلسا معًا يتلذذان بقطعة اللحم .

السؤال الخامس :

يكتب التلميذ مراعيًا قواعد الكتابة الصحيحة ،

وجمال الخط ، والمسافات بين الكلمات .

## الإجابات النموذجية

### السؤال الخامس :

يكتب التلميذ مراعيًا قواعد الكتابة الصحيحة وجمال الخط والمسافات بين الكلمات.

### إجابة الاختبار الثالث ص 6 ، ٧

#### ص 6 : السؤال الأول :

(أ) ١- أعلى . ٢- الدراسة.

(ب) ١- حياة - النجاح.

٢- أمور مفيدة تساعد على الوصول لأهدافه.

(ج) يستطيع تحقيق أهدافه في الحياة ، ويتبقى له

متسع من الوقت لممارسة هواياته والاستمتاع بالحياة.

#### السؤال الثاني :

(أ) ١- الإنسان . ٢- يكذب.

(ب) الفعل.

(ج) ١- وإنما يصدق قول المرء ما هو فاعل .

٢- حامل - فاعل .

#### ص ٧ : السؤال الثالث :

(أ) الياء . (ب) مضاف إليه .

(ج) مئذنة . (د) المؤتمر .

#### السؤال الرابع :

#### القصة الأولى : ( طموح آمنة ) .

في يوم من الأيام قالت (آمنة) لوالدتها : لقد صنعت العديد من الإكسسوارات ولست في حاجة إليها وأريد بيعها . قالت لها أمها : فكري يا (آمنة) كيف يمكنك بيعها ، قالت (آمنة) : أنا أفكر في أخذها

معي إلى النادي وعرضها على صديقاتي ومن ترغب في شراء أي شيء منها سأعطيها إياها بمبلغ زهيد ، أخذت (آمنة) الإكسسوارات ، وقامت ببيعها كلها لصديقاتها فقد أعجبتهن كثيرًا ، وشجعنها على صناعة العديد منها ، كما اقترحت عليها إحدى صديقاتها أن تستأجر محلًا لبيعها به ، وبالفعل قامت (آمنة) باستئجار محل ، وذاع صيتها وريحت أموالاً كثيرة .

#### القصة الثانية : ( طموح آمنة ) .


في يوم من الأيام قالت (آمنة) لوالدتها : لقد صنعت العديد من الإكسسوارات ولست في حاجة إليها وأريد بيعها . قالت لها أمها : فكري يا (آمنة) كيف يمكنك بيعها ، قالت (آمنة) ولكنني يا أمي ليس لدي نقود لاستئجار محل لبيع هذه الإكسسوارات قالت لها أمها : ما رأيك أن تعرضيها من خلال أحد مواقع تسويق المنتجات عبر الإنترنت ، وبالفعل قامت (آمنة) بعرض الإكسسوارات على الإنترنت فأعجبت بها صديقاتها ، وذاع صيتها وطلبت العديد من الفتيات منها أن تعلمهن كيفية صناعة هذه الإكسسوارات مقابل أجر مالي ، وريحت (آمنة) أموالاً كثيرة .

#### السؤال الخامس :

يكتب التلميذ مراعيًا قواعد الكتابة الصحيحة وجمال الخط والمسافات بين الكلمات .

# قطر الندى

اختبارات شهر مارس 2023 / 2024



# 5

الصف الخامس الابتدائي  
الفصل الدراسي الثاني

## التربية الدينية الإسلامية

## الاجتبار الأول

مجاب عنه

١٥



السؤال الأول : ( أ ) اختر الإجابة الصحيحة مما بين القوسين :

- ( أ ) زكاة الفطر ..... ذنوب الصائمين في شهر رمضان. ( تزيد - تضاعف - تكفر )
- ( ب ) من الأعذار المبيحة للفطر ..... ( عدم الرغبة في الصوم - السفر - المذاكرة )
- ( ج ) كل ما في البيئة ..... لخدمة الإنسان. ( مسخر - معارض - محب )
- ( د ) يكون الإنسان ..... عندما يدير وقته وفقاً لأولويات اليوم. ( حكيمًا - رحيماً - أمينًا )
- ( هـ ) لن يحدث أمر للإنسان إلا بـ ..... ( مساعدة الناس - إذن الله - عمله واجتهاده )



السؤال الثاني : ( أ ) صل كل عبارة بما يناسبها :

- ١- نستعين بالله ( ﷻ ) ب - لا يرضي الرحمن ، ويستوجب العقاب .
- ٢- الله - تعالى - لا يأمرنا إلا - منذ قديم الزمان .
- ٣- شرع الله الصوم - الدعاء وطلب العون والتوفيق منه .
- ٤- التعدي على الحيوان - بما ينفعنا .

( ب ) على من يجب الصوم ؟



السؤال الثالث : ( أ ) ضع علامة ( ✓ ) أو علامة ( ✗ ) أمام العبارات الآتية :

- ١- النون والميم المشددتان تأتيان في وسط الكلمة فقط . ( )
- ٢- عبد الله بن عباس ( رضى الله عنه ) هو عم النبي ( ﷺ ) . ( )
- ٣- نهى النبي ( ﷺ ) عن إهلاك الزرع ولو في وقت الحرب . ( )
- ٤- لكل شيء خلقه الله ( ﷻ ) دور في الحياة . ( )

( ب ) متى يخرج المسلم زكاة الفطر ؟

## الاختبار الثاني

مجاب عنه

١٥

السؤال الأول : أكمل العبارات التالية بما يناسبها :

(أ) السخرية من الآخرين تقلل من ..... الصوم.

(ب) السفر لمسافة لا تقل عن ..... من الأعدار المبيحة للفطر.

(ج) بعث الله (تعالى) رسولنا محمدًا (ﷺ) ..... للعالمين.

(د) النون والميم المشددتان يجب غنهما بمقدار .....

(هـ) عوقبت امرأة لأنها سجنّت هرة حتى .....

السؤال الثاني : (أ) ضع علامة (✓) أو علامة (×) أمام العبارات الآتية :

١- قطع الأشجار والنباتات بلا هدف يؤدي إلى هلاك الإنسان .

٢- لا يجب على المسلم قضاء ما فاته من صيام شهر رمضان.

٣- من سنن الصوم (النية).

٤- القياء عمدًا من مفسدات الصوم.

(ب) اذكر مصرفين لزكاة الفطر مع تعريفهما .

السؤال الثالث : (أ) صل كل عبارة بما يناسبها :

١- سخر الله ما في السماء والأرض - وربّه وأتقن نظامه .

٢- نهى النبي (ﷺ) عن الإسراف في الماء - يهين لنا الخير دائمًا .

٣- أبدع الله (تعالى) الكون - لينتفع به الإنسان .

٤- الله - سبحانه وتعالى - ولو كان للوضوء .

(ب) اذكر ثلاثة من الأعدار المبيحة للفطر في رمضان.

## الإجابات النموذجية

### إجابة الاختبار الثاني ص ٣

#### السؤال الأول :

- (أ) ثواب .  
(ب) ٨٣,٥ كيلومتر .  
(ج) رحمة .  
(د) حركتين  
(هـ) ماتت .

#### السؤال الثاني :

- (أ) ١- (✓) .  
٢- (×) .  
٣- (×) .  
٤- (✓) .

(ب) الفقير : هو من لا يملك ما يسد حاجاته الأساسية .

المسكين : هو من لديه ما لا يكفيه من المال .

#### السؤال الثالث :

- (أ) ١- لينتفع به الإنسان .  
٢- ولو كان للوضوء .  
٣- ورتبه وأتقن نظامه .  
٤- يهيئ لنا الخير دائماً .

(ب) ١- المرض إذا كان الصوم سيؤدي إلى تأخر

الشفاء أو لشدة المرض أو الهلاك .

٢- السفر لمسافة لا تقل عن ٨٣,٥ كيلومتر .

٣- العجز عن الصوم لضعف وكبر السن .

### إجابة الاختبار الأول ص ٢

#### السؤال الأول :

- (أ) تكفر .  
(ب) السفر .  
(ج) مسخر .  
(د) حكيمًا .  
(هـ) إذن الله .

#### السؤال الثاني :

- (أ) ١- الدعاء وطلب العون والتوفيق منه .  
٢- بما ينفعنا .  
٣- منذ قديم الزمان .  
٤- لا يرضي الرحمن ، ويستوجب العقاب .

(ب) يجب الصوم على المسلم العاقل البالغ القادر .

#### السؤال الثالث :

- (أ) ١- (×) .  
٢- (×) .  
٣- (✓) .  
٤- (✓) .

(ب) يجوز دفعها بداية من أول يوم في رمضان حتى

قبل صلاة عيد الفطر .

# قطر الندى

نماذج اختبارات شهر مارس



5

الصف الخامس الابتدائي  
الفصل الدراسي الثاني

الرياضيات

## الاختبار الأول

مجاب عنه

1 اختر الإجابة الصحيحة :

غير ذلك	=	<	>	$\frac{3}{5}$ ..... $\frac{3}{5} \times \frac{5}{3}$	1
$\frac{6}{8}$	$\frac{2}{4}$	$\frac{2}{3}$	$\frac{3}{9}$	$\frac{8}{9} \times \frac{6}{8} =$ .....	2
$\frac{43}{5}$	$\frac{13}{5}$	$\frac{23}{5}$	$\frac{8}{3}$	$4\frac{3}{5} =$ .....	3
4	32	$\frac{1}{8}$	8	..... = b فإن $\frac{1}{2} \div b = \frac{1}{16}$	4
3	$\frac{1}{9}$	9	11	$7\frac{1}{3} \times 1\frac{3}{11} = \frac{1}{3} +$ .....	5
$9\frac{1}{13}$	$9\frac{1}{40}$	$6\frac{2}{13}$	10	$3\frac{1}{5} \times 3\frac{1}{8} =$ .....	6
$\frac{1}{5}$	$\frac{1}{3}$	3	15	..... $\div 5 = \frac{1}{15}$	7

2 أكمل ما يأتي :

$\frac{8}{10} \times 2\frac{1}{2} =$ .....	2	$1\frac{1}{4} =$ .....	1
$\frac{1}{2} \div 7 =$ .....	4	$2\frac{1}{5} \times \frac{1}{2} =$ .....	3
$\frac{1}{3} \times$ ..... = 2	6	$6 \div \frac{1}{3} =$ .....	5
.....		$2 \div \frac{1}{4} =$ .....	7
.....		إذا كان $\frac{1}{8} \div h = \frac{1}{24}$ ، فإن قيمة h =	8

3 اختر الإجابة الصحيحة :

غير ذلك	تظل ثابتة	تزداد	تقل	1 عند ضرب الكسر $\frac{6}{11}$ في نصف، فإن قيمة الكسر .....
				2 اشترت (إيمان) 6 كجم من الطماطم، واستخدمت $\frac{1}{2}$ كجم لإعداد وجبة الغداء، فإن ما تبقى = ..... كجم.
$6\frac{1}{2}$	$5\frac{1}{2}$	3	12	3 ..... $\times$ ..... = $(2 \times 3) + (2 \times \frac{1}{2}) + (\frac{1}{3} \times 3) + (\frac{1}{3} \times \frac{1}{2})$
$(2\frac{1}{3} \times 2)$	$(2\frac{1}{3} \times 3\frac{1}{2})$	$(2\frac{1}{2} \times 3\frac{1}{3})$	$(6 \times 2\frac{1}{2})$	4 مع (دعاء) 5 علب من اللبن سعة الواحدة $\frac{1}{4}$ لتر، فإن عدد اللترات لدى (دعاء) = ..... لتر.
$4\frac{1}{4}$	$1\frac{1}{4}$	$4\frac{1}{2}$	20	

طبقاً لآخر مواصفات الورقة الامتحانية

5 اشترى ( زين )  $\frac{1}{4}$  كجم من التوابل وقسمهم على 3 أطباق بالتساوى ،

فإن عدد الكيلوجرامات في كل طبق = ..... كجم .

12	4	$\frac{1}{12}$	$\frac{3}{4}$
----	---	----------------	---------------

6 يستغرق كمبيوتر  $\frac{1}{200}$  من الثانية لحل مسألة رياضية ، فإن عدد المسائل التي يمكن أن يحلها الكمبيوتر في 120 ثانية = .....

$120 \times \frac{1}{200}$	$120 \div 200$	$120 \div \frac{1}{200}$	$\frac{1}{200} \div 120$
----------------------------	----------------	--------------------------	--------------------------

7 يستغرق (مالك)  $\frac{1}{2}$  ساعة لرسم 5 أشكال متطابقة ملونة ، كم يستغرق (مالك) من الوقت لانتهاء من شكل واحد فقط = ..... ساعة .

$5 \div 2$	$5 \times \frac{1}{2}$	$5 \div \frac{1}{2}$	$\frac{1}{2} \div 5$
------------	------------------------	----------------------	----------------------

4 أجب عما يأتي :

1 استخدم خط الأعداد والنماذج في إيجاد ناتج ضرب :

$2 \times 1\frac{1}{2}$  (1)       $\frac{1}{9} \times \frac{3}{4}$  (2)       $\frac{5}{16} \times \frac{4}{11}$  (3)

2 يستغرق ( معاذ )  $\frac{3}{4}$  ساعة للوصول إلى النادي ويستغرق 5 أضعاف هذا الوقت في تمرين كرة السلة ،

فما الكسر المعبر عن الوقت الذي يقضيه ( معاذ ) في التمرين ؟

3 اشترى ( آدم ) شريط لاصق وقسمه إلى 4 أجزاء متساوية واستخدم جزء واحد منهم .

اكتب الكسر المعبر عما استخدمه و الكسر المعبر عما تبقى معه .

4 لدى ( داليا )  $\frac{1}{2}$  كيلوجرام من التين ، أكلت هي وأختها  $\frac{1}{2}$  الكمية التي لديها .

فما الكسر المعبر عما أكلته ( داليا ) وأختها .

## الاختبار الثاني

مجاب عنه

1 اختر الإجابة الصحيحة :

غير ذلك	=	>	<	$\frac{2}{5} \times \frac{3}{5}$ .....	$\frac{2}{5}$ 1		
$\frac{4}{6}$	$\frac{25}{6}$	$\frac{1}{24}$	$\frac{24}{6}$	$4\frac{1}{6} \times \frac{1}{7} = \dots \times \frac{1}{7}$	2		
$2\frac{1}{2}$	$1\frac{1}{3}$	$1\frac{1}{2}$	$\frac{2}{3}$	$3 \div 2 = \dots$	3		
$\frac{3}{4}$	3	$\frac{1}{4}$	4	إذا كان $\frac{1}{3} \div 4 = \frac{1}{12}$ ، فإن $\frac{1}{3} \times \dots = \frac{1}{12}$	4		
غير ذلك	=	>	<	$\frac{2}{7}$ .....	$\frac{2}{7} \times \frac{1}{10}$ 5		
$\frac{5}{12}$	3	$\frac{2}{48}$	$3\frac{2}{6}$	$3\frac{2}{6} \times \frac{1}{8} = \dots$	6		
7 قسمت (مريم) 5 ساعات في مذاكرة 4 مواد دراسية بالتساوي . ما عدد ساعات مذاكرة كل مادة ؟							
ساعة $1\frac{1}{4}$		ساعة $1\frac{1}{3}$		ساعة $\frac{1}{12}$		ساعة $\frac{3}{4}$	


2 أكمل ما يأتي :

..... = k ، $\frac{1}{2} \times k = \frac{1}{8}$ 2	$9 \div 4 = \dots$	1
..... = B ، $7 \div B = 49$		3
4 إذا كان المثلث يحتوي على زاوية منفرجة فإنه يسمى مثلث .....		
5 إذا كان أطوال أضلاع مثلث 7 سم ، 7 سم ، 5 سم فإنه يسمى مثلثاً .....		
6 شكل رباعي فيه ضلعان متجاوران متساويان في الطول و 4 زوايا قائمة هو .....		
7 إذا كان $r = 6$ ، $3 \div r = \dots$ ، فإن قيمة r تساوي .....		
8 الزاوية ..... أكبر من $90^\circ$ ، وأقل من $180^\circ$ .....		

3 اختر الإجابة الصحيحة :

صفر	3	2	1	يحتوي أي مثلث على ..... زوايا حادة على الأقل .	1
المحيط	الارتفاع	الطول	العرض	مساحة المستطيل = الطول × .....	2
$\frac{9}{27}$	$\frac{60}{66}$	$\frac{5}{44}$	$\frac{4}{55}$	$\frac{5}{16} \times \frac{4}{11} = \dots$	3

طبقاً لآخر مواصفات الورقة الامتحانية

4 مستقيمان 

متوازيان	متعامدان	متقاطعان	غير ذلك
----------	----------	----------	---------

5 فيه زاويتان حادتان وزاويتان منفرجتان .....

المربع	المعين	المستطيل	المثلث
--------	--------	----------	--------

6 عدد الزوايا القائمة في المثلث القائم الزاوية = .....

زاوية واحدة	زاويتين	3 زوايا	4 زوايا
-------------	---------	---------	---------

7 الفئة الفرعية التي تجمع بين المربع والمعين هي .....

أضلاع متعامدة	4 زوايا قائمة	أضلاع متوازية	جميع ما سبق
---------------	---------------	---------------	-------------

4 أجب عما يأتي :

1 اشترت (أسماء) 8 كجم من العنب وتريد وضعها بالتساوي في 16 كيس .

ما كمية العنب التي يجب أن تضعها (أسماء) في كل كيس ؟

.....

2 يمتلك (محمد) حديقة مستطيلة الشكل طولها  $5\frac{1}{6}$  متر، وعرضها  $3\frac{2}{7}$  متر أوجد مساحة الحديقة ؟

.....

3 تستغرق آلة طباعة  $\frac{1}{500}$  من الساعة لطباعة ورقة .

فما عدد الورق الذي يمكن طباعته خلال 20 ساعة ؟

.....

4 يمثل عدد الموظفين الإناث  $\frac{5}{8}$  من طاقم العمل في الشركة موزعين بالتساوي على 3 أقسام ،

ما هو الكسر الذي يمثل عدد الموظفين في كل قسم ؟

.....

## الاختبار الثالث

مجاب عنه


1 اخترا الإجابة الصحيحة :

1 ناتج ضرب  $2\frac{1}{3} \times 1\frac{1}{6}$  هو .....  $\frac{13}{6}$   $\frac{40}{18}$   $\frac{7}{18}$   $\frac{49}{18}$

2 الكسر الغير فعلى  $\frac{21}{5}$  يكافئ العدد الكسرى .....  $6\frac{1}{5}$   $5\frac{1}{5}$   $4\frac{1}{5}$   $6\frac{1}{6}$

3 اشترى (وائل)  $\frac{1}{4}$  كجم من الملح وقسمهم على 3 أطباق بالتساوى ،

فإن عدد الكيلوجرامات فى كل طبق = ..... كجم .  $\frac{1}{8}$  4  $\frac{1}{12}$   $\frac{3}{4}$

4 الشكل  يمثل مستقيمين ..... شعاع متوازيان متعامدان غيرذلك

5 شكل رباعى فيه ضلعان فقط متوازيان هو ..... المربع المعين شبه منحرف مستطيل

6 .....  $2\frac{1}{4} \times 3 = 2\frac{1}{4} + 2\frac{1}{4} +$   $2\frac{1}{4}$   $6\frac{1}{4}$   $\frac{1}{4}$  2

7 .....  $7\frac{1}{3} \times 1\frac{3}{11} = \frac{1}{3} +$   $\frac{1}{9}$  9 11  $\frac{1}{7}$

2 أكمل ما يأتى :

1  $\frac{1}{8} \div \dots = 5$   $\frac{2}{3} = \frac{4}{\dots} = \frac{6}{\dots} = \frac{\dots}{12}$  2

3 إذا كان  $\frac{1}{3} \div B = \frac{1}{14}$  فإن  $B =$  .....

4  $27 \div 5 =$  ..... ( فى صورة عدد كسرى )

5 يتشارك 8 أصدقاء فى 4 فطائر بالتساوى ،

فإن عدد الفطائر التى سيحصل عليها كل صديق = ..... فطيرة .

6 مثلث قياس زواياه هى  $A$  ،  $A$  ،  $O$  يكون نوعه .....

7 لى (عبير) 6 كجم من البرتقال تريد تقسيمهم على أكياس سعة الكيس الواحد  $\frac{1}{2}$  كجم ،

فإن عدد الأكياس = ..... كيس .

8 تستخدم (نيرمين) 5 أمتار من القماش لتفصيل فستانين متماثلين ،

فإن مقدار القماش المستخدم لكل فستان هو ..... متر .

3 اخترا الإجابة الصحيحة :

غير ذلك	=	>	<	1 ناتج ضرب : $\frac{2}{3} \times \frac{3}{2}$ .....
$12\frac{1}{4}$	$20\frac{1}{2}$	$\frac{10}{4}$	$10\frac{1}{2}$	2 $5\frac{1}{4} \times 2$ .....
$3\frac{2}{24}$	$3\frac{2}{24}$	3	$\frac{64}{27}$	3 $1\frac{1}{8} \times 2\frac{2}{3}$ .....
5	$\frac{1}{8}$	4	$\frac{1}{7}$	4 ناتج ضرب $3\frac{1}{5} \times 3\frac{1}{8}$ هو 6 + .....
				5 لديه 4 زوايا قوائم .....

شبه المنحرف	متوازي الأضلاع	المعين	المربع
	$4 \div \frac{1}{7} =$ .....		
$7 \times \frac{1}{4}$	$4 \times 7$	$\frac{1}{4} \times \frac{1}{7}$	$4 \times \frac{1}{7}$
	يسمى مضلع .		

الكرة	المستطيل	المكعب	الدائرة
-------	----------	--------	---------

4 أجب عما ياتي :

- 1 لدى (ماهر) 6 لترات من العصير، يريد أن يشربها بكميات متساوية خلال 10 أيام .  
كم لتر يشربها (ماهر) من العصير يومياً ؟
- 2 يقضى (رامي)  $6\frac{1}{2}$  ساعة في اليوم الدراسي بمدرسته ، فما عدد الساعات التي يقضيها (رامي) في المدرسة خلال 10 أيام ؟
- 3 (1) استخدم الأعداد التالية [ 8 ، 5 ، 32 ] لكتابة مسائل يكون الناتج فيها :  
1- كسراً اعتيادياً .  
2- عدد كسرى .  
3- عدد صحيح .
- 4 (2) اشترى (كريم) 6 أقلام ودفعت مبلغ 27 جنيهاً ، احسب ثمن القلم الواحد .
- 4 لدى (عادل) قطعة أرض قسمها إلى 5 أجزاء بالتساوي ، وزرع بالجزء الأول 3 أنواع مختلفة من الزهور ، وزرع في باقي الأجزاء 4 أنواع مختلفة من الفاكهة .  
اكتب الكسور المعبّرة عن كل نوع من الزهور وكل نوع من الفاكهة .

## الإجابات النموذجية

### إجابة الاختبار الأول

9	5	8	4	$\frac{23}{5}$	3	$\frac{2}{3}$	2	<	1	1
						$\frac{1}{3}$	7		10	6
18	5	$\frac{1}{14}$	4	$\frac{11}{10}$	3	2	2	$\frac{5}{4}$	1	2
				3	8	8	7	6	6	
$\frac{1}{12}$	5	$\frac{1}{4}$	4	$(2\frac{1}{3} \times 3\frac{1}{2})$	3	$5\frac{1}{2}$	2	ثقل	1	3
						$\frac{1}{2} \div 5$	7	$120 \div \frac{1}{200}$	6	
				$\frac{5}{44}$	(3)	$\frac{1}{12}$	(2)	3	(1)	1
				$\frac{1}{4}$	4	$\frac{3}{4}, \frac{1}{4}$	3	3	$\frac{3}{4}$	2

### إجابة الاختبار الثاني

>	5	$\frac{1}{4}$	4	$1\frac{1}{2}$	3	$\frac{25}{6}$	2	<	1	1
						$1\frac{1}{4}$	7	$\frac{5}{12}$	6	
متساوى الساقين	5	منفرج الزاوية	4	$\frac{1}{7}$	3	$\frac{1}{4}$	2	$2\frac{1}{4}$	1	2
				المنفرجة	8	$\frac{1}{2}$	7	مستطيل	6	
المعين	5	متوازيان	4	$\frac{5}{44}$	3	العرض	2	2	1	3
						أضلاع متوازية	7	زاوية واحدة	6	
		$\frac{5}{24}$	4	10,000 ورقة	3	$16\frac{41}{42}$	2	$\frac{1}{2}$ كجم	1	4

### إجابة الاختبار الثالث

شبه منحرف	5	متعامدان	4	$\frac{1}{12}$	3	$4\frac{1}{5}$	2	$\frac{49}{18}$	1	1
						9	7	$2\frac{1}{4}$	6	
$\frac{1}{2}$	5	$5\frac{2}{5}$	4	$4\frac{2}{3} = \frac{14}{3}$	3	6، 9، 8	2	$\frac{1}{40}$	1	2
				2.5	8	12	7	منفرج الزاوية	6	
المربع	5	4	4	3	3	$10\frac{1}{2}$	2	<	1	3
						المستطيل	7	$4 \times 7$	6	
		$4\frac{1}{2}$ جنيهاً.	(2)	أجب بنفسك	(1)	65 ساعة	2	0.6 لتر	1	4
								$\frac{16}{5}, \frac{3}{5}$	4	

# KATR ELNADA



## March Test Models



SECOND TERM  
**ENGLISH**

**5**<sup>th</sup>  
PRIMARY  
**CONNECT**

# Test 1

## 1 Choose the correct answer from a, b, c, or d. (5M)

- 1- He loves drinking sweet Egyptian mint .....
- a) coffee                      b) milk                      c) tea                      d) juice
- 2- A ..... eats bamboo. It's black and white.
- a) lion                      b) tiger                      c) cat                      d) panda
- 3- She uses the ..... to go upstairs.
- a) floor                      b) elevator                      c) button                      d) trash
- 4- Gabi looks lost. He didn't ..... the road.
- a) buy                      b) want                      c) recognize                      d) reply
- 5- The dugong's nickname is the sea .....
- a) lion                      b) cow                      c) fish                      d) dog

## 2 Read and complete the text with words in the box. (4M)

(swim - fish - special - fly - cold)

Yesterday, I had a wonderful day out with my friends. We went to the wildlife park. I saw penguins. They were in a ..... place inside. It was ....., like a fridge. We fed them some .....! I love penguins. They can ..... well and they look so cool!

## 3 Put the words in the correct order to make sentences. (3M)

- 1- I'm - on - project - doing - bats - a .  
.....
- 2- place - is - Alexandria - visit - to - an - exciting .  
.....
- 3- you - speak - Can - English ?  
.....

## 4 Write the correct form of the words (s) between brackets. (2M)

- 1- I ..... ride a bike when I was eight. (can)
- 2- ..... waste your time, please. (Doesn't)

## 5 Punctuate the following. (1M)

amr is the best reader

.....

# Test 2

## 1 Choose the correct answer from a, b, c, or d. (5M)

- 1- A ..... has a shell on its back. It doesn't have legs or arms.  
a) bat                      b) kangaroo                      c) snail                      d) fox
- 2- He plays football well, he is a good .....  
a) footballer                      b) farmer                      c) traveler                      d) teacher
- 3- Ibis could ..... high above the land and tell Gabi the way.  
a) fly                      b) run                      c) jump                      d) walk
- 4- We always meet in the park. It's our .....  
a) field                      b) meeting point                      c) fable                      d) trunk
- 5- You can visit amazing tourist ..... in Egypt.  
a) attracts                      b) attracted                      c) attraction                      d) attract

## 2 Read and complete the text with words in the box. (4M)

( waterpark - picnics - perfect - do - trees )

In our perfect town, there's a ..... that is always open. There is a big park with lots of ..... so we can go for family ..... in the shade. This is our ..... town!

## 3 Put the words in the correct order to make sentences. (3M)

1- your - What - is - favorite - unusual - animal ?

.....

2- at - cuisine - serve - We - local - our - restaurant .

.....

3- He - decided - go - to - sleep - to .

.....

## 4 Write the correct form of the words (s) between brackets. (2M)

1- ..... the window, please. (opens)

2- He can't ..... German. (speaking)

## 5 Punctuate the following. (1M)

was she interested in history

.....

# Test 1

## 1 Choose the correct answer from a, b, c, or d. (5M)

- 1- He loves drinking sweet Egyptian mint .....
- a) coffee                      b) milk                      c) tea                      d) juice
- 2- A ..... eats bamboo. It's black and white.
- a) lion                              b) tiger                      c) cat                      d) panda
- 3- She uses the ..... to go upstairs.
- a) floor                              b) elevator                      c) button                      d) trash
- 4- Gabi looks lost. He didn't ..... the road.
- a) buy                              b) want                      c) recognize                      d) reply
- 5- The dugong's nickname is the sea .....
- a) lion                              b) cow                      c) fish                      d) dog

## 2 Read and complete the text with words in the box. (4M)

(swim - fish - special - fly - cold)

Yesterday, I had a wonderful day out with my friends. We went to the wildlife park. I saw penguins. They were in a **special** place inside. It was **cold**, like a fridge. We fed them some **fish**! I love penguins. They can **swim** well and they look so cool!

## 3 Put the words in the correct order to make sentences. (3M)

- 1- **I'm doing a project on bats.**
- 2- **Alexandria is an exciting place to visit.**
- 3- **Can you speak English?**

## 4 Write the correct form of the words (s) between brackets. (2M)

- 1- I **could** ride a bike when I was eight. (can)
- 2- **Don't** waste your time, please. (Doesn't)

## 5 Punctuate the following. (1M)

Amr is the best reader.

# Test 2

**1 Choose the correct answer from a, b, c, or d. (5M)**

- 1- A ..... has a shell on its back. It doesn't have legs or arms.  
a) bat                      b) kangaroo                      c) snail                      d) fox
- 2- He plays football well, he is a good .....  
a) footballer                      b) farmer                      c) traveler                      d) teacher
- 3- Ibis could ..... high above the land and tell Gabi the way.  
a) fly                      b) run                      c) jump                      d) walk
- 4- We always meet in the park. It's our .....  
a) field                      b) meeting point                      c) fable                      d) trunk
- 5- You can visit amazing tourist ..... in Egypt.  
a) attracts                      b) attracted                      c) attraction                      d) attract

**2 Read and complete the text with words in the box. (4M)**  
**( waterpark - picnics - perfect - do - trees )**

In our perfect town, there's a **waterpark** that is always open. There is a big park with lots of **trees** so we can go for family **picnics** in the shade. This is our **perfect** town!

**3 Put the words in the correct order to make sentences. (3M)**

- 1- **What is your favorite unusual animal?**
- 2- **We serve local cuisine at our restaurant.**
- 3- **He decided to go to sleep.**

**4 Write the correct form of the words (s) between brackets. (2M)**

- 1- **Open** the window, please. (opens)
- 2- He can't **speak** German. (speaking)

**5 Punctuate the following. (1M)**

Was she interested in history?

# قطر الندى

## نماذج اختبارات شهر مارس



5

الصف الخامس الابتدائي  
الفصل الدراسي الأول

العلوم



3 درجات

السؤال الأول: (أ) اختر الإجابة الصحيحة مما بين القوسين :

- 1- تتكون النجوم من ..... ساخنة.
- (سوائل - غازات - صخور - أحجام)
- 2- يدور القمر حول الأرض بسبب تأثير .....
- (الجاذبية - التنافر - المغناطيسية - الكهرباء)
- 3- ..... الجاذبية الأجسام نحو مركز الأرض.
- (تطرد - تدفع - تسحب - تثبت)

درجتان

(ب) اذكر :

- 1- طرق الحفاظ على المياه العذبة.
- 2- العوامل المؤثرة فى الاستدامة.

3 درجات

السؤال الثانى: (أ) ضع علامة (✓) أمام العبارة الصحيحة أو علامة (x) أمام العبارة الخطأ :

- 1- قوى الجاذبية تنشأ بين سطحى جسمين متلامسين.
- ( )
- 2- من أضرار الصيد الجائر للأسماك زيادة فرص الصيد.
- ( )
- 3- يمكن استخدام الساعة الشمسية فى أول الليل.
- ( )

درجتان

(ب) قارن بين :

- 1- قوى الجاذبية بينك أنت وزميلك وبين الشمس والأرض من حيث : (المقدار).
- 2- الفيضان والجفاف من حيث : (المفهوم فقط).

3 درجات

السؤال الثالث: (أ) اكتب المفهوم العلمى الدال على كل عبارة من العبارات الآتية:

- 1- هي مسطحات مائية عذبة تغذى مسطح مائى كبير.
- (.....)
- 2- الحد من إمكانية الوصول إلى الموارد أو استخدامها.
- (.....)
- 3- المسار الدائرى الثابت لجسم أثناء دورانه حول جسم آخر.
- (.....)

درجتان

(ب) أمامك صورة ادرسها جيداً ثم أجب :



1- ما هي نوع القوى فى الصورة المقابلة ؟

- 2- قد تكون هذه القوى ..... أو .....



3 درجات

السؤال الأول: (أ) أكمل العبارات الآتية بما يناسبها من كلمات :

- 1- من أمثلة استنزاف الموارد الطبيعية .....
- 2- قوة مقاومة الهواء ..... من سرعة الأجسام المتحركة.
- 3- تسحب الجاذبية الأجسام نحو ..... الأرض.

درجتان

(ب) قارن بين :

- 1- قوى الاحتكاك وقوى المغناطيسية من حيث : (المفهوم فقط).
- 2- قوى السحب وقوى الدفع من حيث : (الأمثلة فقط).

3 درجات

السؤال الثاني: (أ) صوب ما تحته خط في العبارات الآتية :

- 1- ينجذب الخشب للمغناطيس .
- 2- تُسرع المظلات من سرعة هبوط هواة القفز.
- 3- تتكون المجموعة الشمسية من الشمس و خمس كواكب تدور حولها.

درجتان

(ب) اذكر :

- 1- طرق حماية الموارد الطبيعية.
- 2- مثال على استخدام الموارد بطريقة مستدامة.

3 درجات

السؤال الثالث: (أ) اكتب المفهوم العلمي الدال على كل عبارة من العبارات الآتية:

- 1- جهاز يزيل الشوائب من الماء.
- 2- فصل الأملاح الذائبة في الماء.
- 3- أداة توقيت نهاري كانت تستخدم قديماً.

درجتان

(ب) صل الكلمات من العمود (أ) بما يناسبها من العمود (ب) :

العمود (أ)	العمود (ب)
1- جاذبية الشمس.	1- أكبر من جاذبية القمر.
2- جاذبية الأرض.	2- تجعل الكواكب تدور حولها.



3 درجات

السؤال الأول: (أ) اختر الإجابة الصحيحة مما بين القوسين :

1- تدور الأرض فى مدار ..... حول الشمس .

(بيضاوى - حلزوني - دائرى - جميع ما سبق)

2- تغير الجاذبية من ..... سقوط الأجسام . (قوة - سرعة - زاوية - حركة)

3- تعمل قوى ..... الشمس على دوران الكواكب حولها .

(سحب - دفع - مقاومة - سحب ودفع)

درجتان

(ب) ماذا يحدث عند ؟

1- تجمع المياه فى مناطق منخفضة .

2- زيادة معدل سقوط الأمطار .

3 درجات

السؤال الثانى: (أ) ضع علامة (✓) أمام العبارة الصحيحة أو علامة (×) أمام العبارة الخطأ :

( )

1- بناء السدود من طرق الحفاظ على المياه العذبة .

( )

2- الروافد هي مسطحات مائية مالحة تغذى مسطحات كبيرة .

( )

3- قوى الاحتكاك تنشأ بين جسمين متلامسين .

درجتان

(ب) قارن بين :

1- المقطر الشمسى ومرشح المياه من حيث : (الوظيفة) .

2- الشمس والفحم من حيث : (نوع الطاقة) .

3 درجات

السؤال الثالث: (أ) أكمل العبارات الآتية بما يناسبها من كلمات :

1- تغير قوة مقاومة الهواء أحد أمثلة قوى .....

2- ..... مسؤولة عن استقرار الصخور والمسطحات المائية على سطح الأرض .

3- من أضرار استنزاف ..... يؤدى إلى نفاد المياه الجوفية وجفاف الآبار .

درجتان

(ب) ادرس الشكل المقابل، ثم أجب :

1- ما نوع القوى فى الشكل المقابل ؟

2- ماذا يحدث إذا انعدمت هذه القوى ؟





3 درجات

السؤال الأول: (أ) اختر الإجابة الصحيحة مما بين القوسين :

1- بناء ..... من طرق الحفاظ على الماء العذب.

(الكبارى - السدود - الجسور - المباني)

2- يصنع ..... من منتجات النفط. (الورق - الملابس - البلاستيك - الفحم)

3- تمثل المياه المالحة % ..... من مساحة الماء على الأرض. (66.5 - 96.5 - 85.5 - 70.5)

درجتان

(ب) اذكر:

1- تركيب الساعة الشمسية.

2- العوامل المؤثرة فى قوة الجاذبية.

3 درجات

السؤال الثانى: (أ) صوب ما تحته خط فى العبارات الآتية:

1- تدور الكواكب فى مدارات متحركة حول الشمس.

2- يحدث الجفاف نتيجة لزيادة معدل سقوط الأمطار.

3- يُصنع الورق من الجلود.

درجتان

(ب) قارن بين:

1- الاستدامة وحماية الموارد من حيث: (المفهوم فقط).

2- البحيرة والبحر من حيث: (المفهوم فقط).

3 درجات

السؤال الثالث: (أ) اكتب المفهوم العلمى الدال على كل عبارة من العبارات الآتية:

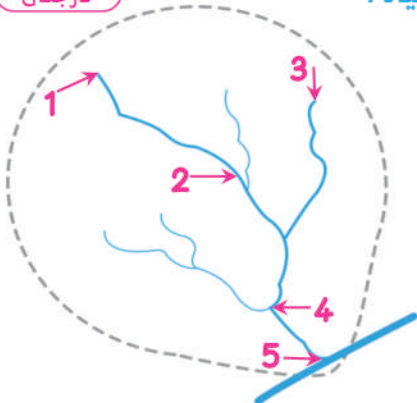
1- قوى التجاذب بين جسيمين.

2- قوة تنشأ بين الجسم المتحرك والهواء.

3- عملية إزالة الأملاح الذائبة فى الماء.

درجتان

(ب) أكمل المخطط التالى الذى يمثل مستجمعات المياه:



- رقم (.....) يمثل المصب.

رقم (.....) يمثل المنبع.

رقم (.....) يمثل المحيط.

رقم (.....) يمثل مجرى النهر.

رقم (.....) يمثل روافد النهر.



3 درجات

السؤال الأول: (أ) أكمل العبارات الآتية بما يناسبها من كلمات :

- 1- إقامة المحميات الطبيعية من طرق حماية .....
- 2- من العوامل المؤثرة فى الاستدامة .....
- 3- ..... هي أداة توقيت استخدمت قديمًا منذ آلاف السنين.

درجتان

(ب) ماذا يحدث عند ؟

- 1- نقص معدل سقوط الأمطار بشدة.
- 2- وجود جسم معتم فى مسار الضوء.

3 درجات

السؤال الثانى: (أ) ضع علامة (✓) أمام العبارة الصحيحة أو علامة (×) أمام العبارة الخطأ :

- 1- ضوء النجوم يمكن أن يكون ظل للأجسام. ( )
- 2- يمكننا رؤية قوى الجاذبية. ( )
- 3- تعتبر الرياح مصدر الطاقة الرئيسية على الأرض. ( )

درجتان

(ب) قارن بين :

- 1- قوى سحب المغناطيس وقوى دفع المغناطيس من حيث : (النوع فقط).
- 2- المقطر الشمسى ومرشح الماء من حيث : (الوظيفة فقط).

3 درجات

السؤال الثالث: (أ) اكتب المفهوم العلمى الدال على كل عبارة من العبارات الآتية:

- 1- هي قوة السحب أو الدفع التى تؤثر على الأجسام. ( )
- 2- المسار الدائرى الثابت لجسم أثناء دورانه حول جسم آخر. ( )
- 3- هي روافد الأنهار وتندفق إلى أنهار أكبر حجمًا. ( )

درجتان

(ب) صل الكلمات من العمود (أ) بما يناسبها من العمود (ب) :

العمود (أ)	العمود (ب)
1- حماية الموارد.	1- تعنى عدم الاسراف فى استخدام الموارد.
2- الاستدامة.	2- تعنى الحد من استخدام الموارد لعدم استنزافها.

### إجابة الاختبار الأول

- 1 (أ) 1- غازات. 2- الجاذبية. 3- تسحب.
- (ب) 1- بناء السدود - الحفاظ على مستجمعات المياه.  
2- الزيادة السكانية - التلوث البيئي - التوزيع الغير متكافى للموارد - الافراط فى استهلاك الموارد.
- 2 (أ) 1- (x). 2- (x). 3- (x).
- (ب) 1- قوى الجاذبية بينك أنت وزميلك: صغيرة جدًا تكاد تكون منعدمة.  
قوى الجاذبية بين الشمس والقمر: كبيرة جدًا.
- 2- الفيضان: هو كوارث طبيعية تحدث عندما يكون معدل سقوط الأمطار أكثر مما يمكن أن يحتويه النهر أو المجرى المائى.  
الجفاف: هو كارثة طبيعية تحدث عندما يقل مقدار سقوط الأمطار بشدة مما يؤدي إلى انخفاض مستوى مياه النهر والمجرى المائى حتى يجف فى النهاية.
- 3 (أ) 1- الروافد. 2- حماية الموارد. 3- المدار.
- (ب) 1- القوى المغناطيسية.  
2- تجاذب أو تنافر.

### إجابة الاختبار الثانى

- 1 (أ) 1- الصيد الجائر للأسماك. 2- تقلل. 3- مركز.
- (ب) 1- قوى الاحتكاك: هي قوة تنشأ بين سطحى جسمين متلامسين وتؤدي إلى ابطاء الحركة أو توقفها.  
قوى المغناطيسية: هي قوة التجاذب أو التنافر بين جسمين أو مغناطيسين.
- 2- قوى السحب: قوى الجاذبية الأرضية.  
قوى الدفع: قوى مقاومة الهواء.
- 2 (أ) 1- الحديد. 2- تقلل. 3- ثمانية.
- (ب) 1- طرق حماية الموارد الطبيعية: إقامة المحميات الطبيعية - الاستدامة.  
2- مثال لاستخدام الموارد بطريقة مستدامة: تربية الأبقار فى مساحة محدودة خاصة بها ومنع تواجدها فى المنطقة التى يكون فيها نمو العشب ببطئ حتى يتاح فرصة لنمو العشب ويصبح مستدام.
- 3 (أ) 1- مرشح المياه. 2- المقطر الشمسى. 3- الساعة الشمسية.
- (ب) 1- (2).  
2- (1).

### إجابة الاختبار الثالث

- 1 (أ) 1- بياضى. 2- سرعة. 3- سحب.
- (ب) 1- تتكون المستجمعات المائية. 2- يحدث الفيضانات.
- 2 (أ) 1- (✓). 2- (x). 3- (✓).
- (ب) 1- المقطر الشمسى: يقوم بعملية تقطير الماء.  
مرشح المياه: يزيل الشوائب من الماء.
- 2- الشمس: مصدر الضوء الرئيسى على الأرض (طاقة متجددة).  
الفحم: (طاقة غير متجددة).
- 3 (أ) 1- الاحتكاك. 2- الجاذبية الأرضية. 3- الموارد الطبيعية.
- (ب) 1- قوى الجاذبية. 2- لن تدور الكواكب حول الشمس.

### إجابة الاختبار الرابع

- 1 (أ) 1- السدود. 2- البلاستيك. 3- 96.5.
- (ب) 1- تركيب الساعة الشمسية : عصا مستقيمة - نقاط وخطوط تتحرك في وسطها العصا المستقيمة. 2- العوامل المؤثرة في قوة الجاذبية : كتلة الأجسام - المسافة بين الأجسام.
- 2 (أ) 1- ثابتة. 2- الفيضان. 3- الخشب.
- (ب) 1- الاستدامة : هي عدم الاسراف في استخدام الموارد الطبيعية أو الحاق الضرر بها مما يؤثر سلباً في توافرها في المستقبل. حماية الموارد : هي الحد من إمكانية الوصول إلى الموارد او استخدامها لمنع استنزافها. 2- البحيرة : هي مسطح مائي محاط باليابسة من جميع الجهات به مياه عذبة وأحياناً ما تكون مالحة. البحر : هو تجمع مائي كبير من المياه المالحة ولكن بشكل أصغر من المحيط.
- 3 (أ) 1- قوى السحب. 2- قوى مقاومة الهواء. 3- تحلية مياه البحر.
- (ب) 1- (4) - (1) - (5) - (2) - (3).

### إجابة الاختبار الخامس

- 1 (أ) 1- الموارد الطبيعية. 2- الزيادة السكانية. 3- الساعة الشمسية.
- (ب) 1- يحدث الجفاف. 2- يتكون الظل.
- 2 (أ) 1- (x). 2- (x).
- (ب) 1- قوى سحب المغناطيس : قوى تجاذب. قوى دفع المغناطيس : قوى تنافر. 2- المقطر الشمسي : يقوم بعملية تقطير المياه. مرشح المياه : يزيل الشوائب من الماء.
- 3 (أ) 1- الحركة. 2- المدار. 3- جداول الأنهار.
- (ب) 1- (2).

# قطر الندي

اختبارات شهر مارس ٢٠٢٣ - ٢٠٢٤



# 5

الفصل الدراسي الثاني

## الدراسات الاجتماعية

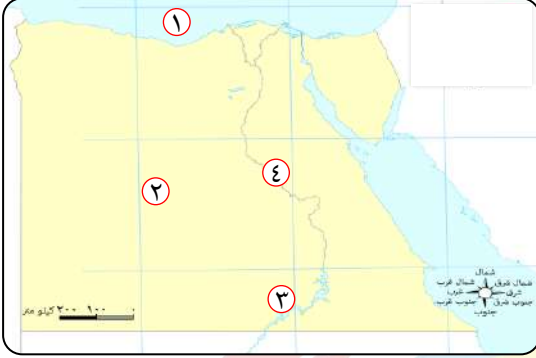
١

## الاختبار الأول



مجان عنه

١ (أ) أمامك خريطة صماء لمصر اكتب مدلول الأرقام عليها:



- ١- البحر.....  
 ٢- بنى المصريون القدماء مقابرهم  
 في الصحراء.....  
 ٣- بحيرة.....  
 ٤- نهر.....

(ب) دلل على صحة العبارة التالية:

- اهتمام البطالمة بالزراعة.

٢ (أ) اكتب كلمة (صواب) أمام العبارة الصحيحة وكلمة (خطأ) أمام العبارة غير الصحيحة:

- ١- تدخلت روما في شئون مصر الداخلية في عهد الملكة كليوباترا السابعة. ( )  
 ٢- أنشأ البطالمة منارة الإسكندرية لإرشاد السفن ليلاً. ( )  
 ٣- منازل العمال قديماً كانت تحتوى على مخازن للحبوب. ( )

(ب) رتب الأحداث التاريخية التالية من الأقدم إلى الأحدث :

- ( معركة أكتيوم البحرية - دخول الإسكندر الأكبر إلى مصر - تأسيس مدينة الإسكندرية -  
 الفتح العربي الإسلامي لمصر - اضطهاد دقلديانوس للمسيحيين )

٣ (أ) اختر الإجابة الصحيحة مما بين القوسين :

- ١- يقع حصن بوهين على الحدود ..... لمصر. ( الشمالية - الجنوبية - الشرقية - الغربية )  
 ٢- بنى المصريون القدماء المنازل من .....  
 ( الطوب اللبن - الحجر الجيري - النحاس - الطوب الأحمر )  
 ٣- احتلت مدينة ..... المركز الثاني ثقافياً بعد روما.  
 ( اليونان - الإسكندرية - بورسعيد - أثينا )

(ب) وضع :

..... أسباب انهيار حكم البطالمة في مصر.

٤ (أ) أكمل العبارات التالية بكلمات مناسبة :

١- انتهى الاضطهاد الروماني للمسيحيين في مصر بالفتح ..... عام ٦٤١ م.

٢- كانت عاصمة مصر مدينة ..... في عصر البطالمة.

٣- أدخل البطالمة إلى مصر أدوات ري جديدة مثل .....

(ب) اكتب دليلاً واحداً على :

- براعة المصري القديم في علم الفلك.

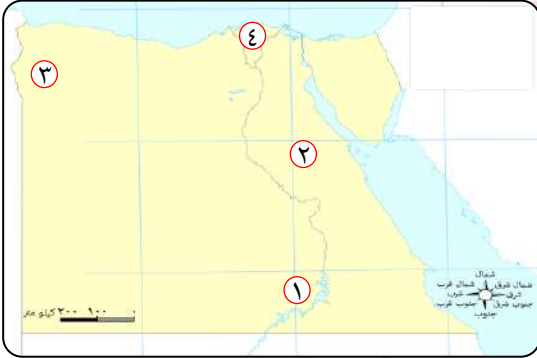
٢

## الاختبار الثاني



مجان عنه

١ (أ) أمامك خريطة لمصر حدد ما تدل عليه الأرقام:



١- بحيرة .....

٢- الصحراء .....

٣- واحة .....

٤- منطقة تزداد بها الكثافة السكانية .....

(ب) قارن بين :

- المعابد الجنائزية - معابد الآلهة من حيث التعريف مع ذكر مثال.

وجه المقارنة	المعابد الجنائزية	معابد الآلهة
التعريف	.....	.....
مثال	.....	.....

٢ (أ) اكتب كلمة (صح) أمام العبارة الصحيحة وكلمة (خطأ) أمام العبارة غير الصحيحة:

- ١- عرف المصريون القدماء الأشكال الهندسية وبرعوا في علم الحساب. ( )
- ٢- قسم المصريون القدماء السنة إلى ١٢ شهراً متساوياً. ( )
- ٣- استغل الرومان مصر لزراعة محصول الأرز بكميات كبيرة. ( )

(ب) صنف الكلمات التالية في مكانها المناسب بالجدول:

- متعدد الحجرات.
- تتكون من طابق واحد أو طابقين.
- بسيطة.
- بها مخازن للحبوب.
- متسعة.
- تمتاز بجمال الزينة والزخرفة.

منزل الملك	منازل الوزراء وكبار الكهنة	منازل العمال
.....	.....	.....
.....	.....	.....

٣ (أ) أكمل العبارات التالية بكلمات مناسبة:

- ١- من الأدوات الطبية التي اخترعها المصريون القدماء .....
- ٢- أسس البطالمة في مصر مكتبة .....
- ٣- آخر ملوك دولة البطالمة في مصر .....

(ب) أمامك صورة لأحد التماثيل المصرية أجب عما يأتي:



- ١- اكتب ما تدل عليه صورة التمثال .....
- ٢- ما أهمية مهنة صاحب التمثال؟ .....
- ٣- ما التقدير الذي كان يحصل عليه صاحب هذه المهنة في المجتمع المصري قديماً؟ .....

٤ (أ) اكتب ما تشير إليه العبارات التالية:

- ١- قبائل رعوية أتت إلى مصر من آسيا في أثناء ضعف الدولة الوسطى. (.....)
- ٢- مباني تم تصميمها لحماية البلاد والدفاع عنها وتأمين السكن للجنود. (.....)

(ب) اذكر اثنين من:

- ١- الآثار الرومانية في مصر، واثنين من آثار البطالمة في مصر.

.....

.....



١ (أ) أكمل العبارات الآتية بكلمات مناسبة:

- ١- تحولت مصر إلى ولاية ..... بعد معركة أكتيوم البحرية.
- ٢- كانت مدينة ..... في مصر هي المركز الثاني ثقافياً بعد روما.
- ٣- يعد معبد رأس السوداء من الآثار ..... في مصر ويوجد في مدينة .....

(ب) دلل على صحة العبارة التالية:

- اختلفت منازل المصريين القدماء باختلاف طبقاتهم الاجتماعية.

٢ (أ) اكتب كلمة (صح) أمام العبارة الصحيحة وكلمة (خطأ) أمام العبارة غير الصحيحة:

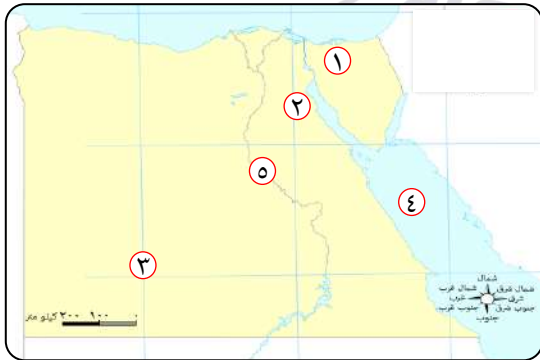
- ١- اعتبر الرومان مصر مزرعة للقمح فاهتموا بزراعته. ( )
- ٢- يعد معبد إدفو من أهم المعابد التي أقامها الرومان في مصر. ( )

(ب) الصورة التي أمامك تعبر عن أحد الآثار في مصر. انظر ثم أجب:



- ١- ما اسم هذا الأثر؟ .....
- ٢- في أي عصر بني هذا الأثر؟ .....
- ٣- ما الهدف من إنشائه؟ .....

٣ (أ) أمامك خريطة صماء لمصر وضح ما تدل عليه الأرقام عليها:



- ١- شبه جزيرة .....
- ٢- خليج .....
- ٣- محافظة قليلة السكان .....
- ٤- البحر .....
- ٥- نهر .....

(ب) وضح العلاقة بين :

- تقدم المصريين القدماء في علم الحساب والزراعة .

٤ (أ) صل العبارات من العمود (أ) بالعبارات المناسبة لها في العمود (ب):

العمود (ب)	العمود (أ)
- علم الفلك .	١- استكمل بناء مدينة الإسكندرية واتخذها عاصمة للبلاد .
- ورق البردى .	٢- علم يهتم بدراسة ومعرفة مواقع النجوم والكواكب .
- بطليموس الأول .	٣- سجل المصريون القدماء ما وصلوا إليه من علم عليه .

(ب) وضح:

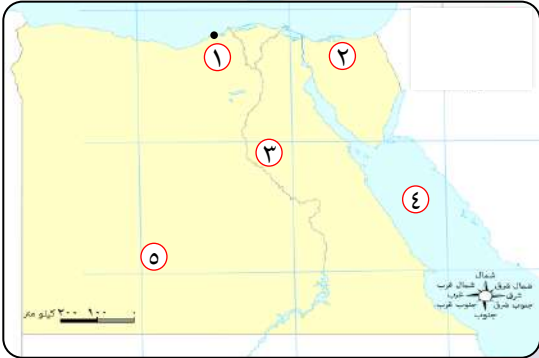
- كيفية اهتمام البطالمة بالتجارة في مصر.

٤

## الاختبار الرابع

مجاب عنه

١ (أ) أمامك خريطة صماء لمصر وضح ما تدل عليه الأرقام التالية:



١- مدينة .....

٢- محافظة يقل بها السكان .....

٣- وادى .....

٤- البحر .....

٥- الصحراء .....

(ب) اكتب تفسيراً واحداً على :

- أهمية اختراع الكتابة الهيروغليفية .

٢ (أ) أكمل العبارات التالية بكلمات مناسبة :

- ١- بنى المصريون القدماء منازلهم من .....
- ٢- قام الإسكندر الأكبر بزيارة معبد ..... دليلاً على احترام الديانة المصرية القديمة.
- ٣- آخر ملوك البطالمة في مصر .....

(ب) قارن بين :

- إنجازات المصريين القدماء في مجال الهندسة وإنجازات المصريين في مجال الفلك.

٣ (أ) اكتب كلمة (صح) أمام العبارة الصحيحة وكلمة (خطأ) أمام العبارة غير الصحيحة :

- ١- بنى المصري القديم المقابر من الحجر حفاظاً على جسد المتوفى. ( )
- ٢- تعددت أنواع الأدب عند المصريين القدماء. ( )
- ٣- رحب المصريون بالفتح الإسلامي لمصر للتخلص من الرومان. ( )

(ب) ما النتائج المترتبة على؟

- براعة المصريين القدماء في تشريح جثث موتاهم.

٤ (أ) اكتب ما تشير إليه العبارات الآتية :

- ١- قائد يوناني حكم مصر هو وخلفاؤه حوالي ثلاثة قرون. (.....)
- ٢- مهنة من أهم المهن قديماً تساعد صاحبها في الوصول للمناصب العليا. (.....)
- ٣- برج أو عمود من الحجر له أربعة جوانب تنتهي بشكل هرمي. (.....)
- ٤- امبراطور روماني عرف عصره بعصر الشهداء. (.....)

(ب) رتب الأحداث التاريخية التالية من الأقدم إلى الأحدث :

- ( تحول مصر إلى ولاية رومانية - سيطرة الإسكندر الأكبر على مصر - بناء مدينة الإسكندرية - تولية الملكة كليوباترا السابعة الحكم - الفتح الإسلامي لمصر )

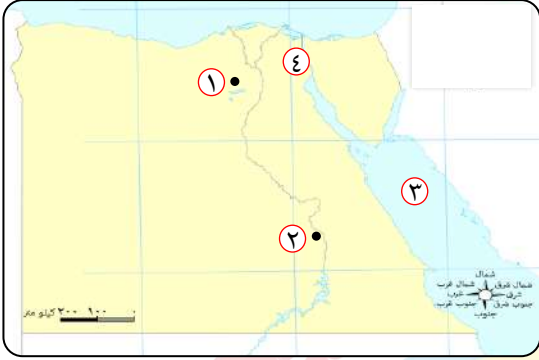


## الاختبار الخامس



مجاب عنه

١ (أ) أمامك خريطة صماء لمصر وضح ما تدل عليه الأرقام:



- ١- محافظة بها الأهرامات الثلاثة .....
- ٢- محافظة بها أحد معابد الآلهة .....
- ٣- البحر .....
- ٤- قناة .....

(ب) قارن بين:

- عصري البطالمة والرومان في مصر، من حيث: نظام الحكم - مظاهر الحياة الاقتصادية.

عصر الرومان	عصر البطالمة	وجه المقارنة
.....	.....	نظام الحكم
.....	.....	مظاهر الحياة الاقتصادية

٢ (أ) اكتب كلمة (صح) أمام العبارة الصحيحة وكلمة (خطأ) أمام العبارة غير الصحيحة:

- ١- ازدهرت الأنشطة الاقتصادية في مصر أثناء الحكم البطلمي. ( )
- ٢- زار الإسكندر الأكبر معبد الإله آتون بواحة سيوة. ( )
- ٣- اكتشف المصريون القدماء الكثير من الوصفات الطبية والأمراض. ( )

(ب) انظر إلى الصورة المقابلة ثم أجب:

- ١- يشير الشكل المقابل إلى أحد فنون العمارة في مصر القديمة وهي .....
- ٢- الغرض من إنشائها .....



٣ (أ) أكمل العبارات الآتية بكلمات مناسبة:

- ١- أسست مكتبة الإسكندرية في عصر دولة .....
- ٢- أنشأت الدولة بانوراما حرب أكتوبر في مدينة .....
- ٣- أهم مركز تجارى شرق البحر المتوسط في العصر الروماني مدينة .....

(ب) اقرأ الفقرة التالية ثم أجب:

"عرف المصريون القدماء أنواعًا مختلفة من الأدب سجلوا به العديد من الأمور الحياتية



والإبداعية في حياتهم"

- اذكر بعض الأنواع المختلفة للأدب المصري القديم.

٤ (أ) اختر الإجابة الصحيحة مما بين القوسين:

- ١- استطاع المصريون القدماء تحديد قيمة الضرائب بفضل براعتهم في علم .....  
( الحساب - الطب - الفلك - الهندسة )
- ٢- كان منزل ..... كبير متعدد الحجرات وبه مخازن للحبوب.  
( الفلاح - الراعي - الوزير - الصانع )

(ب) ما النتائج المترتبة على؟

- معركة أكتيوم البحرية.

١

## إجابة الاختبار الأول



١ (أ) أمامك خريطة صماء لمصر اكتب مدلول الأرقام عليها:

- ١- المتوسط. ٢- الغربية. ٣- ناصر. ٤- النيل.

(ب) دلل على صحة العبارة التالية :

- اهتم البطالمة بالزراعة ، حيث :

- ١- قاموا بحفر الترع والقنوات.  
٢- أدخلوا إلى مصر محاصيل زراعية جديدة مثل العنب والزيتون.  
٣- استخدموا آلات زراعية جديدة ، مثل : الساقية.

٢ (أ) اكتب كلمة (صح) أمام العبارة الصحيحة وكلمة (خطأ) أمام العبارة غير الصحيحة:

- ١- (صح). ٢- (صح). ٣- (خطأ).

(ب) رتب الأحداث التاريخية التالية من الأقدم إلى الأحدث :

- ( دخول الإسكندر الأكبر إلى مصر - تأسيس مدينة الإسكندرية - معركة أكتيوم البحرية - اضهاد دقلديانوس للمسيحيين - الفتح العربي الإسلامي لمصر).

٣ (أ) اختر الإجابة الصحيحة مما بين القوسين :

- ١- الجنوبية. ٢- الطوب اللبن. ٣- الإسكندرية.

(ب) وضح :

- بسبب ضعف الملوك بعد بطلميوس الثالث وتدخل روما في شئون مصر وخاصة في عهد الملكة كليوباترا السابعة.

٤ (أ) أكمل العبارات التالية بكلمات مناسبة:

- ١- العربي الإسلامي. ٢- الإسكندرية. ٣- الساقية.

(ب) اكتب دليلاً واحداً على :

- ١- عرف المصريون القدماء التقويم الشمسي وقسموا السنة إلى ٣٦٥ يوماً مقسمة إلى ١٢ شهراً متساوياً.

- ٢- استخدموا المسلات لتحديد الوقت نهاراً، والساعات المائية لتحديد الوقت بدقة ليلاً.



## إجابة الاختبار الثاني



١ (أ) أمامك خريطة صماء لمصر اكتب مدلول الأرقام عليها :

- ١- ناصر. ٢- الشرقية. ٣- سيوة. ٤- الدلتا.

(ب) قارن بين :

وجه المقارنة	المعابد الجنائزية	معابد الآلهة
التعريف	هي المعابد التي كان يقام بها طقوس الجنائز على الملك.	هي المعابد التي كان يقام بها الطقوس اليومية للآلهة.
مثال	معبد حتشبسوت (الدير البحري).	معبد الأقصر.

٢ (أ) اكتب كلمة (صح) أمام العبارة الصحيحة وكلمة (خطأ) أمام العبارة غير الصحيحة :

- ١- (صح). ٢- (صح). ٣- (خطأ).

(ب) صنف الكلمات التالية في مكانها المناسب بالجدول :

منازل العمال	منازل الوزراء وكبار الكهنة	منزل الملك
- بسيطة. - تتكون من طابق واحد أو طابقين	- متعدد الحجرات. - بها مخازن للحبوب.	- متسعة. - تمتاز بجمال الزينة والزخرفة.

٣ (أ) أكمل العبارات التالية بكلمات مناسبة :

- ١- المشروط. ٢- الإسكندرية. ٣- الملكة كليوباترا السابعة.

(ب) أمامك صورة لأحد التماثيل المصرية أجب عما يأتي :

- ١- تماثيل الكاتب المصري.  
٢- تعد من أهم المهن في مصر القديمة.  
٣- تساعد صاحبها للوصول للمناصب العليا.

٤ (أ) اكتب ما تشير إليه العبارات التالية :

- ١- الهكسوس. ٢- الحصون.

(ب) اذكر اثنين من :

- آثار الرومان ( حصن بابليون ومعبد رأس السوداء ).  
- آثار البطالمة ( معبد إدفو - منارة الإسكندرية ).



١ (أ) أكمل العبارات الآتية بكلمات مناسبة :

- ١- رومانية. ٢- الإسكندرية. ٣- الرومانية - الإسكندرية.

(ب) دلل على صحة العبارة التالية:

- حيث تميزت **منازل العمال** بالبساطة وتكونت من طابق واحد أو طابقين ، أما **منازل الوزراء** و**حكام الأقاليم** تميزت بأنها كبيرة ومتعددة الحجرات وفيها مخازن للحبوب ، أما **الملك** فكان يعيش في القصر الذي يمتاز باتساعه وجمال زينته وزخارفه .

٢ (أ) اكتب كلمة (صح) أمام العبارة الصحيحة وكلمة (خطأ) أمام العبارة غير الصحيحة:

- ١- (صح). ٢- (خطأ).

(ب) الصورة التي أمامك تعبر عن أحد الآثار في مصر. انظر ثم أجب :

- ١- منارة الإسكندرية. ٢- عصر البطالمة. ٣- إرشاد السفن ليلاً في البحر.

٣ (أ) أمامك خريطة صماء لمصر وضح ما تدل عليه الأرقام عليها:

- ١- سيناء. ٢- السويس. ٣- الوادي الجديد.

- ٤- الأحمر. ٥- النيل.

(ب) وضح العلاقة بين :

- حيث برع المصريون القدماء في علم الحساب وعرفوا الجمع والطرح والضرب والقسمة واستفادوا من ذلك في حساب مساحة الأراضي الزراعية ، وتحديد قيمة الضرائب بناءً على فيضان النيل مما ساهم في ازدهار وتقدم الزراعة .

٤ (أ) صل العبارات من العمود (أ) بالعبارات المناسبة لها في العمود (ب):

- ١- بطلميوس الأول. ٢- علم الفلك. ٣- ورق البردى.

(ب) وضح:

- اهتم البطالمة بالزراعة والصناعة مما ساعد على تقدم التجارة حيث :

- ١- أنشأ البطالمة **منارة الإسكندرية** لإرشاد السفن في البحر ليلاً.

- ٢- **فرضوا رسوماً** على التجارة الخارجية.



١ (أ) أمامك خريطة صماء لمصر وضح ما تدل عليه الأرقام التالية:

- ١- الإسكندرية . ٢- شمال سيناء . ٣- النيل .  
٤- الأحمر . ٥- الغربية .

(ب) اكتب تفسيراً واحداً على:

- استطاع المصريون القدماء تسجيل أخبارهم وأحداثهم على جدران المعابد والمقابر المصرية القديمة .

٢ (أ) أكمل العبارات التالية بكلمات مناسبة:

- ١- الطوب اللبن . ٢- الإله آمون . ٣- الملكة كليوباترا السابعة .

(ب) قارن بين :

إنجازات المصريين في الهندسة	إنجازات المصريين في الفلك
١- تخطيط المدن .	١- عرفوا مواقع النجوم والكواكب .
٢- حفر الترع وبناء الأهرامات .	٢- عرفوا التقويم الشمسي وقسموا السنة إلى ٣٦٥ يوماً مقسمة إلى ١٢ شهراً متساوياً .
٣- عرفوا الأشكال الهندسية ، مثل : المربع والمستطيل .	٣- استخدموا المسلات في تحديد الوقت ، والساعات المائية ليلاً .

٣ (أ) اكتب كلمة (صح) أمام العبارة الصحيحة وكلمة (خطأ) أمام العبارة غير الصحيحة:

- ١- (صح) . ٢- (صح) . ٣- (صح) .

(ب) ما النتائج المترتبة على؟

- أدى إلى براعة المصريين القدماء في التحنيط وساعدهم ذلك على معرفة أجهزة جسم الإنسان الداخلية والأمراض التي تصيبه .

٤ (أ) اكتب ما تشير إليه العبارات الآتية:

- ١- الإسكندر الأكبر . ٢- مهنة الكاتب . ٣- المسلة . ٤- الإمبراطور دقلديانوس .

(ب) رتب الأحداث التاريخية التالية من الأقدم إلى الأحدث :

(سيطرة الإسكندر الأكبر على مصر - بناء مدينة الإسكندرية - تولية الملكة كليوباترا السابعة الحكم - تحول مصر إلى ولاية رومانية - الفتح الإسلامي لمصر) .



## إجابة الاختبار الخامس



١ (أ) أمامك خريطة صماء لمصر وضح ما تدل عليه الأرقام:

- ١- الجيزة. ٢- الأقصر. ٣- الأحمر. ٤- السويس.

(ب) قارن بين:

عصر الرومان	عصر البطالمة	وجه المقارنة
خضعت مصر لإشراف الامبراطور الروماني الذي يتحكم في كافة شئون مصر.	ملكياً مطلقاً	نظام الحكم
- اعتبر الرومان مصر مزرعة للقمح، لذلك اهتموا بزراعته لتزويد روما به. - اهتموا ببعض الصناعات، مثل: ورق البردى والزيوت - الأدوية والزجاج. - اهتموا بالتجارة، حيث أصبحت الإسكندرية أهم مركز تجارى في شرق البحر المتوسط.	- اهتم البطالمة بالزراعة، فقاموا بحفر الترع والقنوات وأدخلوا محاصيل زراعية جديدة وآلات، مثل: الساقية. - اهتم البطالمة بالصناعة، ازدهرت بعض الصناعات، مثل: الزيوت - المنسوجات - الزجاج والعطور. - اهتموا بالتجارة، أنشأوا منارة الإسكندرية - فرضوا رسوماً على التجارة الخارجية.	مظاهر الحياة الاقتصادية

٢ (أ) اكتب كلمة (صواب) أمام العبارة الصحيحة وكلمة (خطأ) أمام العبارة غير الصحيحة:

- ١- (صح). ٢- (خطأ). ٣- (صح).

(ب) انظر إلى الصورة المقابلة ثم أجب:

- ١- فن النحت. ٢- تزيين مداخل المعابد وتخليدًا لذكرى الملك.

٣ (أ) أكمل العبارات الآتية بكلمات مناسبة:

- ١- البطالمة. ٢- القاهرة. ٣- الإسكندرية.

(ب) اقرأ الفقرة التالية ثم أجب:

- الأدب الديني - الأدب القصصي - الأدب التهذيبي.

٤ (أ) اختر الإجابة الصحيحة مما بين القوسين:

- ١- الحساب. ٢- الوزير.

(ب) ما النتائج المترتبة على؟

- هزيمة الملكة كليوباترا السابعة على يد الرومان وتحول مصر إلى ولاية رومانية عام ٣٠ ق.م.

# قطر الندى

نماذج اختبارات شهر مارس 2023 / 2024



# 5

الصف الخامس الابتدائي  
الفصل الدراسي الثاني

تكنولوجيا  
المعلومات  
والاتصالات

## الاختبار الأول

15

مجاب عنه

السؤال الأول : ضع علامة ( ✓ ) أو علامة ( × ) :

- ( ) (1) توفر الخرائط الرقمية عبر الإنترنت اتجاهات غير دقيقة للأماكن المطلوب زيارتها .
- ( ) (2) محادثات الفيديو وبرامج التليفزيون المباشرة من أدوات الاتصال الغير متزامن .
- ( ) (3) المعلومات الوصفية للموقع تعطيك فرصة لقراءة المزيد عن الموقع قبل النقر على رابط الموقع الإلكتروني .
- ( ) (4) من السهل حدوث سوء تفاهم عند التواصل مع الأشخاص عبر الإنترنت لأن الرسالة قد تكون غير واضحة .
- ( ) (5) مساعدة الآخرين من عناصر المواطنة الرقمية الصالحة .
- ( ) (6) إعادة تشغيل جهاز الكمبيوتر ليس له أهمية عند تنزيل تحديثات في نظام التشغيل .
- ( ) (7) توزيع الأدوار على القائمين بالمشروع يتم بناءً على نقاط القوة لكل فرد .
- ( ) (8) الأدوات الرقمية لا يمكن الاستفادة منها في إنجاز المشروع .

السؤال الثاني : اختر الإجابة الصحيحة من بين الإجابات المعطاة :

- (1) مكتبة الإسكندرية وبنك المعرفة المصري تتضمن معلومات .....
- |            |          |              |
|------------|----------|--------------|
| غير موثوقة | غير آمنة | آمنة وموثوقة |
|------------|----------|--------------|
- (2) يجب استخدام ..... مناسبة ذات صلة بموضوع البحث لكي تظهر النتائج التي ترغب بها .
- |       |               |            |
|-------|---------------|------------|
| مواقع | كلمات مفتاحية | كلمات مرور |
|-------|---------------|------------|
- (3) رسائل البريد الإلكتروني من أمثلة الاتصال .....
- |         |              |          |
|---------|--------------|----------|
| المباشر | الغير متزامن | المتزامن |
|---------|--------------|----------|
- (4) عند توقف شاشة الهاتف المحمول عن العمل اضغط على زر الطاقة مدة .....
- |         |          |         |
|---------|----------|---------|
| 1 دقيقة | 30 ثانية | 10 ثوان |
|---------|----------|---------|
- (5) أجهزة الكمبيوتر تفهم البيانات من خلال إشارات .....
- |       |          |           |
|-------|----------|-----------|
| ضوئية | كهربائية | مغناطيسية |
|-------|----------|-----------|
- (6) يستخدم برنامج ..... لإنشاء وتعديل الصور الخاصة بالمشروع .
- |      |            |       |
|------|------------|-------|
| Word | PowerPoint | Paint |
|------|------------|-------|
- (7) من العناصر الضرورية لإنجاز المشروع الرقمي .....
- |        |      |       |
|--------|------|-------|
| كلاهما | النص | الصور |
|--------|------|-------|

## الاختبار الثاني

15

مجاب عنه

السؤال الأول : اختر الإجابة الصحيحة من بين الإجابات المعطاة :

(1) يستخدم ..... لإرسال الرسائل والمرفقات عبر الإنترنت .

العمل الجماعي	البريد الإلكتروني	النظام المدرسي
---------------	-------------------	----------------

(2) يستخدم برنامج ..... لتحرير مستندات المشروع .

Word	PowerPoint	Paint
------	------------	-------

(3) لضمان عملية تثبيت وتحديث آمنة لبرامج الكمبيوتر استخدم برامج .....

منسوخة	أصلية	مقلدة
--------	-------	-------

(4) التواصل ..... يكون خلال الوقت الفعلي بين الأشخاص ويتلقون المعلومات في الوقت نفسه .

المتزامن	الغير متزامن	النصي
----------	--------------	-------

(5) يعتبر Google و Bing من أمثلة .....

الخرائط الرقمية	محركات البحث	المنصات التعليمية
-----------------	--------------	-------------------

السؤال الثاني : ضع علامة ( ✓ ) أو علامة ( × ) :

(1) تحديد المنتج النهائي للمشروع هي آخر عملية في تنفيذ المشروع . ( )

(2) تستخدم محركات البحث للبحث عن المعلومات عبر الإنترنت . ( )

(3) لتثبيت برنامج أو تطبيق بأمان على أجهزة أندرويد ابحث عن البرنامج أو التطبيق داخل

Google Play Store ( )

(4) Google Maps من أمثلة الخرائط الرقمية عبر الإنترنت . ( )

(5) مقاطع الفيديو المسجلة من أمثلة الاتصال المتزامن . ( )

السؤال الثالث : صل من العمود ( أ ) ما يناسبه من العمود ( ب ) :

العمود ( ب )		العمود ( أ )	
بنك المعرفة المصري	أ	تساعد الأجهزة على العمل بكفاءة أكثر .	(1)
Ctrl + Alt + Del	ب	يستخدم للحصول على رد مباشر أو سريع .	(2)
الاتصال المتزامن	ج	يحتوى على معلومات موثوقة .	(3)
تحديث البرمجيات	د	تعطيك فرصة لقراءة المزيد عن الموقع قبل الدخول إليه .	(4)
المعلومات الوصفية للموقع	هـ	أزرار يتم الضغط عليهم معاً في حالة توقف شاشة الكمبيوتر عن العمل .	(5)

الإجابات النموذجية

إجابة نماذج اختبارات شهر مارس الاختبار الثاني

السؤال الأول :

(1) البريد الإلكتروني

(2) Word

(3) أصلية

(4) المتزامن

(5) محركات البحث

السؤال الثاني :

(1) x

(2) ✓

(3) ✓

(4) ✓

(5) x

السؤال الثالث :

(1) د

(2) ج

(3) أ

(4) هـ

(5) ب.

إجابة نماذج اختبارات شهر مارس الاختبار الأول

السؤال الأول :

(1) x

(2) x

(3) ✓

(4) ✓

(5) ✓

(6) x

(7) ✓

(8) x

السؤال الثاني :

(1) آمنة وموثوقة

(2) كلمات مفتاحية

(3) الغير متزامن

(4) 30 ثانية

(5) كهربائية

(6) Paint

(7) كلاهما