

س ١ / ضع دائرة حول افضل تقدير لمايلي :

\* مسافة  
بين مدينتين

\* طول ملعقة

\* طول بذرة

\* طول الباب

م - سم - ملم | م - سم - ملم | م - سم - ملم | م - سم - ملم

س ٢ / احسب مايلي :



المساحة =



المحيط =

س ٣ / ضع دائرة حول افضل تقدير للسعة لمايلي :



٢٥٠ مل - ٢٥٠ ل



١ مل - ١ ل



٥ مل - ٥ ل



٢٠٠ مل - ٢٠٠ ل

س ٤ / قارن مايلي باستخدام إحدى الاشارات التالية : ( = ، < ، > )


٩٠٠٠ جم ○ ٦ كجم

٩٧٥ جم ○ ١ كجم

٢٥٠٠ جم ○ ٣ كجم

٤٠٠٠ جم ○ ٤ كجم

س ٥ / ضع دائرة حول افضل تقدير للحجم فيما مايلي :



٤٥ جم - ٤٥ كجم



٢٥٠ جم - ٢٥٠ كجم



٤ جم - ٤ كجم



١٥٠ جم - ٥ كجم

س ٧ / احسب الزمن المنقضي فيمايلي :

٤:٠٠

البدء



البدء

١١:٠٠

النهاية

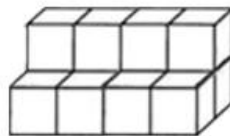


النهاية

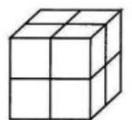
الزمن المنقضى .....

الزمن المنقضى .....

س ٦ / أوجد حجم مايلي :



وحدة مكعبة .....



وحدة مكعبة .....