

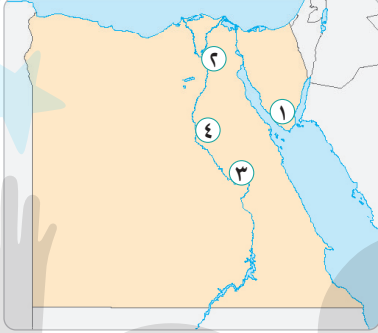
نماذج اختبارات نهائية على الفصل الدراسي الثاني

الاختبار الأول

٣٠

السؤال الأول: (أ) أمامك خريطة صماء لمصر ، وضع مدلول الأرقام التي عليها :

٧



- ١ - محافظة يقل بها عدد السكان
 - ٢ - أكبر محافظات مصر من حيث عدد السكان
 - ٣ - محافظة بها متحف السيرة الهلالية
 - ٤ - أعلى محافظات مصر في نسبة الأمية
- (ب) اكتب ما تشير إليه كل عبارة فيما يلي :

- (.....)
- (.....)
- (.....)
- (.....)

- ١ - السلطة المسئولة عن سن القوانين في مصر .
- ٢ - إحدى مبادرات الدولة لتنمية الريف .
- ٣ - محمية طبيعية توجد في محافظة القاهرة .
- ٤ - منظمة الأمم المتحدة للتربية والعلوم والثقافة .

(ج) بم تفسر ... ؟

- أهمية السفن في عصر قدماء المصريين .

السؤال الثاني: (أ) اكتب كلمة (صح) أمام العبارة الصحيحة وكلمة (خطأ) أمام العبارة الخطأ:

٨

- ١ - ربط أول خط سكة حديدي في مصر بين القاهرة والإسكندرية عام ١٨٥٦ م . ()
- ٢ - يعيش البدو في المناطق الريفية . ()
- ٣ - من آثار النوبة معبد الأقصر ومعبد الكرنك . ()
- ٤ - أنشئ متحف السكك الحديدية في الإسكندرية عام ١٩٣٢ م . ()

(ب) ما العلاقة بين ... ؟

- ١ - السياحة والدخل القومي في مصر .

- ٢ - منظمة اليونسكو ودولة اليمن .

السؤال الثالث : (أ) اختر الإجابة الصحيحة من بين الإجابات الآتية :

١ - عاصمة مصر هي :

- أ القاهرة ب الإسكندرية ج الجيزة د السويس

٢ - توجد محمية جنوب سيناء .

- أ وادي الريان ب وادي الحيتان ج رأس محمد د الغابة المتحجرة

٣ - من أهم الموانئ المصرية على البحر المتوسط ميناء :

- أ الغردقة ب سفاجا ج الإسكندرية د شرم الشيخ

(ب) من هو ... ؟

١ - يقوم بتعيين المحافظ .

٢ - أرسل رحلات تجارية إلى بلاد فينيقيا لجلب أخشاب الأرز .

٣ - دخلت السيارات لأول مرة إلى مصر في عهده .

(ج) ما النتائج المترتبة على ... ؟

• هجرة أهل الريف إلى المدن .

(.....)

(.....)

(.....)

.....
.....

السؤال الرابع : (أ) أكمل العبارات الآتية بكلمات مناسبة :

١ - دخلت العربات الحربية مع غزو لمصر .

٢ - يقع دير سانت كاترين في محافظة

٣ - يساهم التراث المصري في توفير للشباب .

٤ - من مدن القناة و

(ب) ماذا يحدث إذا ... ؟

١ - تم إنشاء العديد من المدارس في الريف .

.....
.....

٢ - لم تحدث الثورة الصناعية .

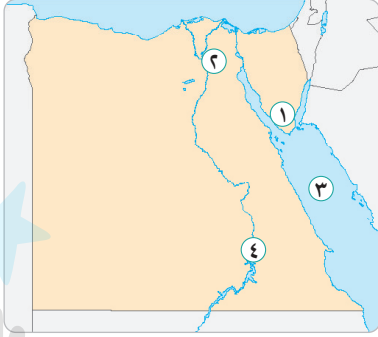
.....
.....

الاختبار الثاني

٣٠

السؤال الأول: (أ) أمامك خريطة صماء لمصر ، وضع مدلول الأرقام التي عليها :

٧



١ - محافظة بها محمية رأس محمد

٢ - محافظة بها محمية الغابة المتحجرة

٣ - البحر

٤ - محافظة بها متحف النوبة

(ب) صوب ما تحته خط :

١ - أكبر محافظات مصر من حيث عدد السكان هي محافظة الإسكندرية . (.....)

٢ - يعيش سكان الريف في الصحاري . (.....)

٣ - توجد واحة سيوة في محافظة كفر الشيخ . (.....)

٤ - أول جامعة في التاريخ هي جامعة القاهرة . (.....)

(ج) اذكر أهمية ... :

● منظمة اليونسكو .

السؤال الثاني: (أ) اختر الإجابة الصحيحة من بين الإجابات الآتية :

٨

١ - من أمثلة التراث الثقافي :

أ الأهرامات ب نهر النيل ج واحة سيوة د محمية رأس محمد

٢ - تقع محمية وادي الحيتان في محافظة :

أ القاهرة ب السويس ج الفيوم د أسوان

٣ - معبد إيزيس من آثار :

أ الإسكندرية ب الغردقة ج النوبة د جنوب سيناء

٤ - زيارة مناطق العيون الكبرى من أنواع السياحة :

أ الترفيهية ب الرياضية ج العلاجية د الثقافية

(ب) قارن بين :

١ - مسؤوليات المحافظ ومسؤوليات رئيس الجمهورية . (يكتفى باثنتين)

٢ - المجلس المحلي ومجلس النواب .

.....
٧

السؤال الثالث : (أ) اكتب ما تشير إليه كل عبارة فيما يلي :

- ١ - عدم قدرة الفرد على القراءة والكتابة . (.....)
- ٢ - نوع من أنواع السياحة يتم في الصحاري المصرية . (.....)
- ٣ - أرخص وسائل النقل . (.....)
- ٤ - مشروع يهدف إلى ربط العين السخنة بمدينة العلمين الجديدة . (.....)
- ٥ - استخدام وسائل نقل صديقة للبيئة وتعمل بطاقة نظيفة . (.....)

(ب) ما النتائج المترتبة على ... ؟

- ١ - تنوع أنماط السكان في مصر .

- ٢ - انتشار الأمية في المجتمع .

.....
٨

السؤال الرابع : (أ) في أي المحافظات يوجد ما يلي ؟

- ١ - متحف السيرة الهلالية . (.....)
- ٢ - مسجد أحمد بن طولون . (.....)
- ٣ - معبد الكرنك . (.....)
- ٤ - متحف السكة الحديد . (.....)

(ب) « الالتزام بقواعد وآداب المرور يحافظ على أرواح الناس » .. في ضوء العبارة السابقة ،

وضح ما يلي :

- ١ - أسباب وضع كاميرات على الطرق .

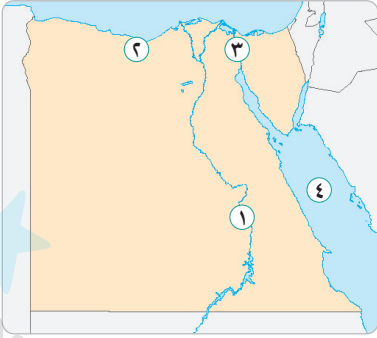
- ٢ - الآداب التي يجب اتباعها عند استخدام وسائل النقل .

الاختبار الثالث

٣٠

٨

السؤال الأول : (أ) أمامك خريطة صماء لمصر ، وضع مدلول الأرقام التي عليها :



- ١ - محافظة بها معبد الكرنك
- ٢ - محافظة حضرية
- ٣ - قناة
- ٤ - البحر

(ب) في أي المحافظات توجد المحميات الطبيعية الآتية ... ؟

- ١ - محمية رأس محمد . (.....)
- ٢ - محمية الغابة المتحجرة . (.....)
- ٣ - محمية وادي الريان . (.....)
- ٤ - محمية وادي الحيتان . (.....)

(ج) بم تفسر ... ؟

- ١ - قيام الدولة بإطلاق مبادرة حياة كريمة .

- ٢ - أهمية الالتزام بقواعد وآداب المرور .

السؤال الثاني : (أ) أكمل العبارات الآتية بكلمات مناسبة :

٧

- ١ - مصر أول دولة عربية وإفريقية في إنشاء كوسيلة نقل .
- ٢ - أنشأت منظمة متحف النوبة في أسوان عام ١٩٩٧ م .
- ٣ - محافظة هي أكبر المحافظات المصرية من حيث عدد السكان .
- ٤ - يقوم بتعيين المحافظ .
- ٥ - شركة مصر للطيران إحدى المؤسسات التي أنشأها

(ب) ما النتائج المترتبة على ... ؟

- تطور وسائل النقل عبر العصور .

السؤال الثالث: (أ) من يكون ... ؟

- ١ - قام بأول محاولة للطيران . (.....)
- ٢ - أرسلت بعثات تجارية لبلاد بونت . (.....)
- ٣ - دخلت في عهده أول سيارة إلى مصر . (.....)
- ٤ - الشخص المسئول عن إدارة شؤون المحافظة ويمثل السلطة التنفيذية فيها . (.....)

(ب) صوب ما تحته خط :

- ١ - يقع دير سانت كاترين في محافظة الوادي الجديد . (.....)
- ٢ - تقع مدينة شرم الشيخ على ساحل البحر المتوسط . (.....)
- ٣ - النقل الجوي هو أرخص أنواع النقل . (.....)

(ج) ما العلاقة بين ... ؟

- فن التحطيب ومعبد الكرنك .

السؤال الرابع: (أ) اكتب ما تشير إليه كل عبارة فيما يلي :

- ١ - أقل محافظات مصر من حيث عدد السكان . (.....)
- ٢ - عملية حصر شامل للسكان لتحديد الخدمات التي يحتاجون إليها . (.....)
- ٣ - أول جامعة في التاريخ . (.....)
- ٤ - عدم قدرة الإنسان على القراءة والكتابة . (.....)
- ٥ - من المدن القديمة التي قامت منظمة اليونسكو بترميمها في اليمن . (.....)

(ب) قارن بين :

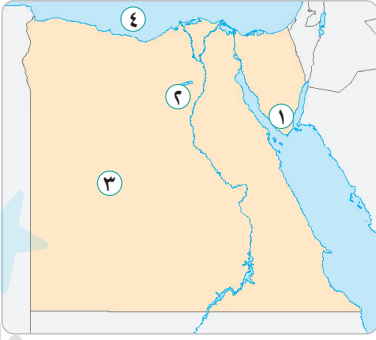
- عيوب ومميزات النقل الجوي .

الاختبار الرابع

٣٠

٨

السؤال الأول: (أ) أمامك خريطة صماء لمصر ، وضع مدلول الأرقام التي عليها :



- ١ - دير يوجد في جنوب سيناء
- ٢ - محافظة بها محمية وادي الريان
- ٣ - الصحراء
- ٤ - البحر

(ب) حدد نوع السياحة عند زيارة المناطق الآتية :

- ١ - مدينة شرم الشيخ .
 - ٢ - أهرامات الجيزة .
 - ٣ - العيون الكبرى والرمال الساخنة .
 - ٤ - معرض القاهرة الدولي للكتاب .
- (ج) اذكر ... :

• أهمية السياحة للاقتصاد المصري .

السؤال الثاني: (أ) اكتب كلمة (صح) أمام العبارة الصحيحة وكلمة (خطأ) أمام العبارة الخطأ :

- ١ - تقوم مصر بعمل تعداد سكاني مرة كل خمس سنوات .
- ٢ - يوجد متحف السيرة الهلالية في محافظة سوهاج .
- ٣ - تنتشر الشعاب المرجانية في البحر الأحمر .
- ٤ - محمية الغابة المتحجرة من التراث الثقافي .

(ب) اكتب ما تشير إليه كل عبارة فيما يلي :

- ١ - مبادرة أطلقتها الدولة لتنمية الريف .
- ٢ - عدم قدرة الفرد على القراءة والكتابة .

(ج) ما العلاقة بين ... ؟

• الثورة الصناعية والسيارات .

السؤال الثالث: (أ) اختر الإجابة الصحيحة من بين الإجابات الآتية :

- ١ - أول خط سكة حديدي في مصر كان يربط بين مدينتي القاهرة و :
 - أ الإسكندرية
 - ب الإسماعيلية
 - ج أسوان
 - د بورسعيد
 - ٢ - كانت رحلات الملكة حتشبسوت إلى بلاد..... لجلب البخور والأخشاب .
 - أ العراق
 - ب بونت
 - ج قبرص
 - د اليونان
 - ٣ - محافظة..... هي أقل محافظات مصر في نسبة الأمية .
 - أ القاهرة
 - ب السويس
 - ج البحر الأحمر
 - د المنيا
 - ٤ - يسمى عيد حصاد التمور والزيتون في واحة سيوة ب :
 - أ يوم الفيضان
 - ب عيد السياحة
 - ج عيد الحب
 - د عيد الربيع
- (ب) ما النتائج المترتبة على ... ؟
- ١ - بناء السد العالي بالنسبة لآثار النوبة .
 - ٢ - هجرة أهل الريف للمدن .

السؤال الرابع: (أ) أي السلوكيات الآتية صحيح وأيها خطأ ... ؟

- ١ - عدم تجاوز السرعة المحددة أثناء قيادة السيارة . ()
 - ٢ - تناول الطعام والشراب أثناء قيادة السيارة . ()
 - ٣ - لمس القطع الأثرية والالتصاق بها . ()
 - ٤ - الكتابة على الآثار وأخذ قطعة منها . ()
 - ٥ - حسن معاملة السياح وتقديم المساعدة لهم . ()
- (ب) ما مقترحاتك ل ... ؟
- ١ - خفض معدلات تلوث الهواء بالنسبة لوسائل النقل .

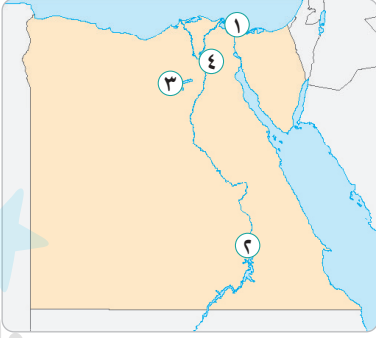
- ٢ - كيفية الاستفادة من شبكات الطرق والكباري في حركة التنمية .

الاختبار الخامس

٣٠

٨

السؤال الأول : (أ) أمامك خريطة صماء لمصر ، وضع مدلول الأرقام التي عليها :



- ١ - إحدى مدن القناة.....
- ٢ - محافظة بها متحف النوبة.....
- ٣ - محافظة بها محمية وادي الحيتان.....
- ٤ - عاصمة مصر.....

(ب) أكمل العبارات الآتية باختيار الكلمة المناسبة

مما بين القوسين :

(القاهرة - قنا - جنوب سيناء - المنيا)

- ١ - محافظة هي أقل محافظات مصر من حيث عدد السكان .
- ٢ - محافظة هي أكبر محافظات مصر من حيث عدد السكان .
- ٣ - أعلى نسبة أمية توجد في محافظة
- ٤ - يوجد متحف السيرة الهلالية في محافظة

(ج) قارن بين :

- مهام رئيس الجمهورية ومهام المحافظ .

٧

السؤال الثاني : (أ) اذكر عملًا واحدًا لكل من :

- ١ - الملكة حتشبسوت .
- ٢ - الملك سنفرو .
- ٣ - الملك خوفو .

(ب) صوب ما تحته خط :

- ١ - دخلت أول سيارة لمصر في عهد محمد علي .
- ٢ - تنتشر الشعاب المرجانية في البحر المتوسط .
- ٣ - توجد محمية الصحراء البيضاء في الصحراء الشرقية .

(ج) بم تفسر ... ؟

- أهمية وسائل النقل .

السؤال الثالث : (أ) اكتب ما تشير إليه كل عبارة فيما يلي :

- ١ - منظمة الأمم المتحدة للتربية والعلوم والثقافة . (.....)
- ٢ - محمية طبيعية توجد بالقاهرة . (.....)
- ٣ - المجلس المسئول عن سن القوانين في مصر . (.....)
- ٤ - عدم قدرة الفرد على القراءة والكتابة . (.....)

(ب) ما العلاقة بين ... ؟

- ١ - العشوائيات والهجرة من الريف للمدن .

- ٢ - مظاهر السطح وعدد السكان في محافظة جنوب سيناء .

السؤال الرابع : (أ) في أي المناطق بمصر تتم الفنون الآتية ... ؟

- ١ - إنشاد الأغاني المرتبطة بألة السمسمية . (.....)
- ٢ - إنشاد السيرة الهلالية . (.....)
- ٣ - الاحتفال بيوم حصاد التمور والزيتون . (.....)

(ب) حدد مسئولية واحدة لكل من :

- ١ - الحكومة .
- ٢ - المجلس المحلي .

(ج) اذكر جهود الدولة في :

- تنمية الريف .

الإجابات الاسترشادية

إجابات الاختبار الأول

السؤال الأول :

- (أ) ١ - جنوب سيناء ٢ - القاهرة ٣ - قنا ٤ - المنيا
 (ب) ١ - مجلس النواب (السلطة التشريعية) ٢ - مبادرة حياة كريمة ٣ - محمية الغابة المتحجرة
 (ج) لأنها كانت تستخدم في نقل الركاب والاحتفالات والتجارة .

السؤال الثاني :

- (أ) ١ - صح ٢ - خطأ ٣ - خطأ ٤ - خطأ
 (ب) ١ - تساهم السياحة بـ ١٢٪ من إجمالي الدخل القومي لمصر .
 ٢ - قامت منظمة اليونسكو بترميم مدينة صنعاء القديمة في اليمن .

السؤال الثالث :

- (أ) ١ - i ٢ - ج ٣ - ج
 (ب) ١ - رئيس الجمهورية ٢ - الملك سنفرو ٣ - الخديوي توفيق
 (ج) • ازدحام المدن . • ظهور العشوائيات .

السؤال الرابع :

- (أ) ١ - الهكسوس ٢ - جنوب سيناء
 ٣ - فرص عمل ٤ - السويس / بورسعيد
 (ب) أجب بنفسك .

إجابات الاختبار الثاني

السؤال الأول :

- (أ) ١ - جنوب سيناء ٢ - القاهرة ٣ - الأحمر ٤ - أسوان
 (ب) ١ - القاهرة ٢ - القرى ٣ - مرسى مطروح ٤ - أون
 (ج) أجب بنفسك .

السؤال الثاني :

- (أ) ١ - i ٢ - ج ٣ - ج ٤ - ج
 (ب) ١ -

مسئوليات رئيس الجمهورية	مسئوليات المحافظ	- ١
• مسئول عن أمن الوطن . • رعاية مصالح الشعب .	• حفظ الأمن والنظام بالمحافظة . • توفير فرص العمل لأبناء المحافظة .	
مجلس النواب	المجلس المحلي	- ٢
• سن القوانين .	• مساعدة المحافظ في إدارة شؤون المحافظة .	

السؤال الثالث :

- (أ) ١ - الأمية ٢ - سياحة السفاري ٣ - النقل المائي
 ٤ - مشروع القطار السريع ٥ - النقل المستدام

- (ب) ١ - يساعد على التكامل بين السكان وتبادل المنتجات وتحقيق التنمية في جميع المجالات .
٢ - انتشار الجهل والخرافات بين الناس وانتشار البطالة والفقير .

السؤال الرابع :

- (أ) ١ - محافظة قنا
٢ - محافظة القاهرة
٣ - محافظة الأقصر
٤ - محافظة القاهرة
(ب) أجب بنفسك .

إجابات الاختبار الثالث

السؤال الأول :

- (أ) ١ - الأقصر
٢ - الإسكندرية
٣ - السويس
٤ - الأحمر
(ب) ١ - محافظة جنوب سيناء
٢ - محافظة القاهرة
٣ - محافظة الفيوم
٤ - محافظة الفيوم
(ج) ١ - لتنمية الريف .
٢ - للحفاظ على الأرواح .

السؤال الثاني :

- (أ) ١ - مترو الأنفاق
٢ - اليونسكو
٣ - القاهرة
٤ - رئيس الجمهورية
٥ - بنك مصر
(ب) أجب بنفسك .

السؤال الثالث :

- (أ) ١ - عباس بن فرناس
٢ - الملكة حتشبسوت
٣ - الخديوي توفيق
٤ - المحافظ
(ب) ١ - جنوب سيناء
٢ - البحر الأحمر
٣ - المائي
(ج) أجب بنفسك .

السؤال الرابع :

- (أ) ١ - محافظة جنوب سيناء
٢ - التعدادات السكانية
٣ - جامعة أون
٤ - الأمية
٥ - مدينة صنعاء القديمة
(ب) أجب بنفسك .

إجابات الاختبار الرابع

السؤال الأول :

- (أ) ١ - دير سانت كاترين
٢ - محافظة الفيوم
٣ - الغربية
٤ - المتوسط
(ب) ١ - ترفيهية
٢ - ثقافية
٣ - علاجية
(ج) • توفر فرص عمل للشباب .
• تسهم بـ ١٢٪ من الدخل القومي .
• المصدر الأول للعملات الأجنبية .

السؤال الثاني :

- (أ) ١ - خطأ
٢ - خطأ
٣ - صح
٤ - خطأ
(ب) ١ - مبادرة حياة كريمة
٢ - الأمية
(ج) طورت الثورة الصناعية صناعة السيارات ونتج عنها اختراع الماكينات .

السؤال الثالث :

- (أ) ١ - الإسكندرية ٢ - بونت
٣ - البحر الأحمر ٤ - عيد السياحة
(ب) ١ - حتى لا تتعرض للغرق تم نقلها إلى مكان آخر بمساعدة منظمة اليونسكو .
٢ - ازدحام المدن . • ظهور العشوائيات .

السؤال الرابع :

- (أ) ١ - أوافق ٢ - لا أوافق ٣ - لا أوافق
٤ - لا أوافق ٥ - أوافق
(ب) أجب بنفسك .

إجابات الاختبار الخامس

السؤال الأول :

- (أ) ١ - بورسعيد ٢ - أسوان ٣ - الفيوم ٤ - القاهرة
(ب) ١ - جنوب سيناء ٢ - القاهرة ٣ - المنيا ٤ - قنا
(ج) أجب بنفسك .

السؤال الثاني :

- (أ) ١ - أرسلت بعثات تجارية لبلاد بونت .
٢ - أرسل بعثات تجارية لبلاد فينيقيا .
٣ - أرسل بعثات إلى سيناء للحصول على الفيروز والنحاس .
(ب) ١ - الخديوي توفيق ٢ - البحر الأحمر ٣ - الصحراء الغربية
(ج) أجب بنفسك .

السؤال الثالث :

- (أ) ١ - منظمة اليونسكو ٢ - محمية الغابة المتحجرة
٣ - مجلس النواب ٤ - الأمية
(ب) ١ - تظهر العشوائيات نتيجة الهجرة من الريف للمدن .
٢ - عدم استواء مظاهر السطح في محافظة جنوب سيناء جعلها أقل محافظات مصر سكاناً .

السؤال الرابع :

- (أ) ١ - مدن القناة ٢ - الصعيد (الوجه القبلي)
٣ - واحة سيوة
(ب) ١ - تعاون رئيس الجمهورية في إدارة شؤون البلاد .
٢ - يساعد المحافظ في إدارة شؤون المحافظة .
(ج) أجب بنفسك .