

ورقة تدريبات: قياس وتقدير الزوايا ورسمها

التاريخ / / ١٤٤ هـ

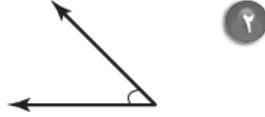
الصف : السادس

الاسم :

قدّر قياس كلٍّ من الزوايا الآتية، ثمَّ أوجد قياسها:



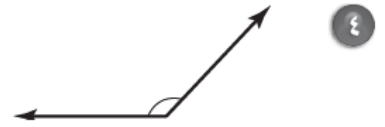
١



٢



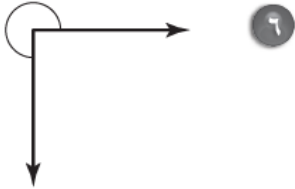
٣



٤



٥



٦

استعمل المنقلة والمسطرة لرسم الزوايا التي لها القياسات الآتية:

٩ ٧٨°

٨ ١٠٠°

٧ ٥٥°