

الأخصاء



تاريخ

الصف 1 الثانوى

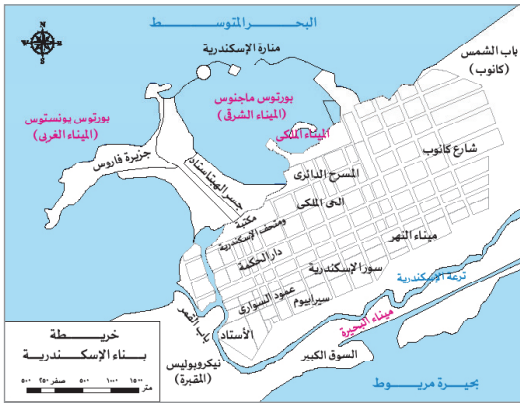
مقترح النماذج الاسترشادية للفصل الدراسى الثانى

العام الدراسى

2024 - 2023م

نموذج (١)

(أ) اختر الإجابة الصحيحة من بين (أ)، (ب)، (ج)، (د) فيما يلي:



١ تظهر الخريطة المقابلة الموقع الذي اختاره الإسكندر الأكبر

لبناء الإسكندرية. من خلال تلك الخريطة حدد: أى من المدن الفينيقية أقرب في التشابه مع الجزيرة المقابلة لمدينة الإسكندرية من حيث الموقع؟

- (أ) صور (ب) كريت
(ج) صيدا (د) جبيل

٢ استدل من خلال دراستك: أى من ملوك بلاد العراق القديم تميزت سياسته المعمارية بالتناقض

- (أ) نبوخذ نصر الثاني (ب) سنحاريب
(ج) سرجون الأول (د) سرجون الثاني

٣ في ضوء العبارة المقابلة حدد: أى من العلوم التالية يساهم في معرفة أسرار الكون؟

- (أ) الهندسة والتاريخ (ب) الأدب والجغرافيا
(ج) الأحياء والرياضيات (د) الفيزياء والفلك

درست أن فلاسفة اليونان استخدموا العقل فى تحليل المشكلات؛ لمعرفة أسرار الكون.

٤ (الأختام الأسطوانية الأربعة - جزرة - الوركاء - جمدة نصر). المفاهيم السابقة تدل على أى من الخصائص الحضارية الآتية؟

- (أ) الأصالة (ب) التدين (ج) التواصل (د) التقدم

٥ ترتب على إعطاء روما الفرصة لقرطاجة فى ممارسة نشاطها التجارى

(أ) سيطرة النبلاء على الشؤون الاقتصادية

(ب) الاهتمام ببناء السفن التجارية على حساب السفن العسكرية

(ج) زيادة الصراعات السياسية بين القادة

(د) استفادة روما من خبرات الفينيقيين التجارية

٦ «يمكن تكوين دولة مترامية الأطراف مؤلفة من سيادة سياسية وعسكرية على قاعدة سكانية تختلف من حيث المنظومة الثقافية والعرق للطبقة الحاكمة». استطاع العراقيون القدماء تطبيق هذه العبارة فى عهد

(أ) حمورابى (ب) سرجون الأول

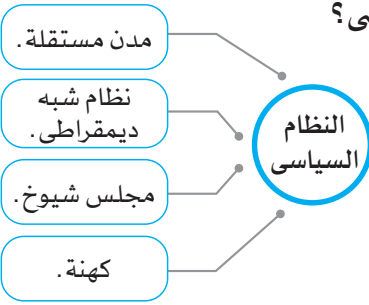
(ج) نبوخذ نصر الثاني (د) سرجون الخامس

٧ فى ضوء دراستك تجد أن الفينيقيين طبقوا المفهوم المقابل من خلال استخدام عوامل

(أ) ثقافية (ب) دينية

(ج) اجتماعية (د) فنية

التسويق هو مجموعة من عمليات البيع والشراء تقوم من خلالها باكتشاف رغبات العملاء وتطوير المنتج.



٨ استنتج من الشكل المقابل: أى من الحضارات القديمة يمثلها ذلك النظام السياسي؟

- (أ) الحضارة الفرعونية
 (ب) الحضارة العمورية
 (ج) الحضارة الفينيقية
 (د) الحضارة العراقية

٩ في ضوء المفهوم المقابل لـ «وول ديورانت» عن الحضارة حدد: أى من المدن الفينيقية ساعدها تقدمها المعماري على تحقيق ذلك المفهوم؟

- (أ) صيدا
 (ب) صور
 (ج) قرطاج
 (د) بعلبك

يرى «ول ديورانت» أن الحضارة نظام اجتماعي يعين الفرد على زيادة إنتاجه الثقافي وتكون بدايتها إذا ما أمن الإنسان من الخوف وتحررت في نفسه دوافع التطوع وعوامل الإبداع والإنشاء.

١٠ من خلال دراستك حدد: أى من المفاهيم التالية جعل الديمقراطية في أئينا غير مكتملة؟

(أ) العنصرية (ب) الوحدة (ج) التنوع (د) التنمر

١١ كان هدف ملوك المصريين القدماء من السيطرة على الدول المجاورة هو

- (أ) استنزاف موارد هذه الدول
 (ب) تنشيط التجارة الداخلية
 (ج) حماية الأمن القومي المصري
 (د) توسيع مناطق النفوذ المصري

١٢ العلاقة بين معيار اختيار أغسطس لشخص يحكم مصر من ذوى الثقة، ومعيار اختيار الوزير في بداية الأمر في مصر الفرعونية فترة العصر القديم علاقة

- (أ) تكامل (ب) تشابه (ج) تضاد (د) تنافر

١٣ الإصلاح الاجتماعي وإعطاء الفرصة للفرد لممارسة الحريات يؤدي للارتقاء بالفرد). تتفق هذه المقولة مع أعمال

- (أ) إينوس (ب) بركليس (ج) سرجون الثاني (د) الإسكندر

(ب) أجب عن الأسئلة الآتية:

١ « في حالة وصول بلاد العراق القديم إلى مرحلة النضج السياسي منذ نشأتها». في اعتقادك، كيف كانت ستسير الأمور؟

.....

٢ قال سولون: (من الصعب على من يقوم بأعمال عظيمة أن يرضى الجميع). هل تتفق أم تختلف مع هذه المقولة؟ أيد رأيك بالأدلة.

.....

٣ ما تقييمك لمصادقية هذه العبارة؟ «حافظ خلفاء الإسكندر الأكبر على اتحاد الإمبراطورية الإغريقية».

.....

(أ) اختر الإجابة الصحيحة من بين (أ)، (ب)، (ج)، (د) فيما يلي:

- ١ أصدر الملك البابلي حمورابي قوانين امتازت بالقوة والصلابة وحرص فيها على
- (أ) اقتباسها من الثقافات الأجنبية (ب) تقليد الحضارة الفرعونية
(ج) صبغها بالصبغة الدينية (د) إظهار قوته العسكرية

- ٢ إحدى محافظات مصر الحالية كانت معبراً للتواصل الحضارى والاقتصادى مع الحضارة الإغريقية وهذه المحافظة تقع في مصر ناحية
- (أ) الغرب (ب) الشرق
(ج) الجنوب (د) الشمال

- ٣ من خلال قراءة النص الذى أمامك نجد أن الرومان طبقوا ذلك المفهوم من أجل

التعداد السكاني
هو عدد كل الأفراد الموجودين على
قيد الحياة داخل حدود بلد معين
فى لحظة وتاريخ معين.

- (أ) توفير فرص عمل للمصريين
(ب) تقديم دعم اقتصادى للمصريين
(ج) الاستفادة من ذلك فى حل المشكلة السكانية
(د) الحصول على أكبر قدر من الاستفادة من جهد المصريين

- ٤ «نشطت الرحلات التجارية بين بلاد العراق القديم والحضارة المصرية القديمة»، ومن ثم عبر ذلك عن مفهوم
- (أ) الأصالة (ب) الاستمرارية
(ج) التواصل الحضارى (د) التبادل الاجتماعى

- ٥ كان الفن المصرى هو القاعدة التى بنى عليها الفنان الإغريقى فنه). فى ضوء هذه العبارة ظهرت أثر الإغريقى بالفن المصرى فى بناء
- (أ) المسارح (ب) المعابد (ج) الملاعب (د) المقابر

- ٦ «بلاد العراق القديم هى الأرض الخصبة الواقعة بين نهري دجلة والفرات، وتتألف من سهل منبسط فى الجنوب يرتفع تدريجياً نحو الشمال». من خلال العبارة السابقة يتضح أن حركة الملاحة النهرية فى بلاد العراق القديم تتجه من
- (أ) الشمال للجنوب (ب) الجنوب للشمال
(ج) الشرق للغرب (د) الغرب للشرق

- ٧ من خلال دراستك تتوقع أنه كان من الممكن استمرار الإمبراطورية الأشورية لمدة أطول إذا
- (أ) نشرت العدل بين الشعوب التى حكمتها (ب) زادت قوتها العسكرية
(ج) استنزفت موارد البلاد التى حكمتها (د) دخلت فى صراعات خارجية

- ٨ أى من مهام عناصر الحكم فى إسبرطة تتشابه مع مهام مجلس النواب فى وقتنا الحالى؟
- (أ) الملكان (ب) مجلس الشيوخ
(ج) الجمعية الشعبية (د) الرقباء الشعبيون

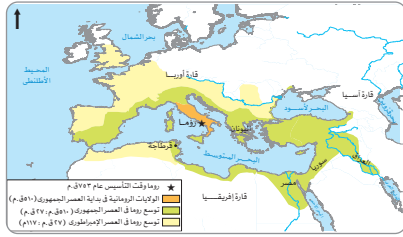
٩ نستنبط من دراستنا للحضارة الهيلينستية أن الهدف الأساسي للإسكندر الأكبر من توطيد الإغريق في مصر هو إرساء مفهوم

- (أ) التصارع الحضارى
(ب) التناحر الحضارى
(ج) التخريب الحضارى
(د) المزج الحضارى

١٠ العلاقة بين انتشار اللغة اللاتينية وتوسعات روما الحربية علاقة

- (أ) عكسية
(ب) طردية
(ج) دينية
(د) مرنة

١١ استعن بالخريطة التى أمامك ثم أكمل : اكتمل تكوين الإمبراطورية الرومانية بعد سيطرة روما على البحر المتوسط من جهة



- (أ) الشرق
(ب) الغرب
(ج) الجنوب
(د) الشمال

١٢ اتجه بطليموس الثانى للتوسع فى شبه الجزيرة العربية والبحر الأحمر وإفريقيا لتحقيق أهداف

- (أ) فكرية وثقافية وتربوية
(ب) اقتصادية واجتماعية ودينية
(ج) اجتماعية وعلمية ودينية
(د) مالية وحربية وسياسية

١٣ من خلال دراستك للهرم الاجتماعى فى ظل الحكم الرومانى لمصر، حدد: أى من الأعمال التالية كان يمتنها أفراد الطبقة الرابعة؟ المهنة

- (أ) القضائية
(ب) التربوية
(ج) المالية
(د) الدينية

(ب) أجب عن الأسئلة الآتية:

١ دلل تاريخياً على صحة العبارة الآتية: شهدت مدينة جبيل علاقات وثيقة مع مصر.

.....
.....

٢ اتسمت العلاقة بين الحضارة المصرية القديمة وحضارة بلاد الرافدين فى الملكية الزراعية بالاختلاف. حدد مدى مصداقية العبارة السابقة.

.....
.....

٣ استنتج الآثار الناتجة عن: النزعة العسكرية التى سيطرت على حكم بلاد العراق زمن الملك سرجون الثانى ونبوخذ نصر الثانى من الناحية الاجتماعية.

.....
.....

(أ) اختر الإجابة الصحيحة من بين (أ)، (ب)، (ج)، (د) فيما يلي:



١ إذا افترضنا أننا عثرنا على تمثال يشبه التمثال الموجود في الصورة المقابلة في تلك المدينة المشار إليها في الخريطة، فذلك يدل على

- (ب) الأصالة الحضارية
(د) التقدم الحضارى

- (أ) التعصب الحضارى
(ج) التواصل الحضارى

٢ ما ورد في نص استرابون الذى أمامك يعبر عن مصطلح.....

- (أ) التنافر الحضارى
(ب) التفاعل الحضارى
(ج) الصراع الحضارى
(د) التأخر الحضارى

ذكر المؤرخ استرابون الذى زار مصر فى أوائل العصر الرومانى أن صانعى الزجاج بالإسكندرية كانت لديهم أسرار خاصة بهذه الصناعة.

٣ يعد الملك حمورابى أكثر ملوك العراق تشابهاً فى سياسته مع الملك

- (أ) رمسيس الثانى
(ب) حور محب
(ج) سرجون الثانى
(د) أسرحدون

٤ حرص الأباطرة الرومان على جعل مصر مخزناً للقمح للإمبراطورية الرومانية بسبب أنها

- (أ) المستوطنة الوحيدة فى الشرق للرومان
(ب) مصدر هام للغذاء الرومانى
(ج) مصدر هام للتسليح العسكرى
(د) بداية انطلاق الرومان فى الشرق

٥ هناك علاقة بين اتسام الفلسفة بالطابع العلمى فى التفكير و.....

- (أ) أرسطو
(ب) سقراط
(ج) أفلاطون
(د) أفلوطين

٦ تأثر البطالمة بالحياة الدينية المصرية القديمة واعتنقوها وأقاموا لها المعابد، وقد دل على هذه العبارة المعبد الذى

- شيدته البطالمة لعبادة الإلهة إيزيس فى مصر ناحية
- (أ) الشمال
(ب) الغرب
(ج) الجنوب
(د) الشرق

٧ من خلال النص التاريخى الذى أمامك نستنتج أن الإسكندرية لم يكن فيها حالة من

هادريان يتحدث عن مدينة الإسكندرية
تحدث الإمبراطور هادريان عن مدينة الإسكندرية قائلاً: إنها مدينة غنية تتمتع بالثراء والرخاء، لا يوجد بها عاطل عن العمل.

- (أ) البطالة
(ب) العزلة
(ج) العنصرية
(د) التعصب

٨ أى من العناصر الآتية يعد عنصرًا مختلفًا عن باقى العناصر؟

- (أ) كريت
(ب) روما
(ج) إسبرطة
(د) أثينا

٩ «أحياناً يتفوق الابن على الأب». هذه المقولة تبدو واضحة في أى من المدن الآتية

- (أ) صور
(ب) جبيل
(ج) قرطاج
(د) أوغاريت

١٠ «القوة ليست وسيلة للحكم» . . مقولة ثبت صدقها بعد دراسة أى من الدول الآتية ؟

- (أ) الأكادية
(ب) البابلية
(ج) الأشورية
(د) الكلداني

١١ رغم أن قرطاج سقطت في يد الرومان في القرن الثاني قبل الميلاد فإنها استعادت مكانتها الاقتصادية في

- (أ) العصر الملكي
(ب) العصر الجمهورى
(ج) العصر الإمبراطورى
(د) عصر انقسام روما

١٢ العلاقة بين نظام التربية في إسبرطة ونمط الحياة في الدولة الأشورية علاقة

- (أ) تشابه
(ب) اختلاف
(ج) طردية
(د) عكسية

١٣ هناك علاقة بين إنشاء حدائق بابل المعلقة التي هي إحدى عجائب الدنيا السبع والملك

- (أ) سرجون الأول
(ب) سرجون الثانى
(ج) نبوخذ نصر الثانى
(د) كورش

(ب) أجب عن الأسئلة الآتية:

١ «كانت حرب البيلوبونيز بداية حقبة سياسية مختلفة في تاريخ الإغريق». دلل على صحة العبارة.

.....
.....

٢ كان للزقورات أدوار متعددة في الحضارة العراقية القديمة». في ضوء العبارة السابقة حدد الدور الثقافى والاقتصادى لتلك المعابد.

.....
.....

٣ «لم تقتصر الحضارة الإغريقية على فكر فلسفى واحد، وتعددت الأفكار والمنهجية الفلسفية لتلك الحضارة». دلل تاريخياً على صحة العبارة السابقة.

.....
.....

(أ) اختر الإجابة الصحيحة من بين (أ)، (ب)، (ج)، (د) فيما يلي:

١ كانت الديمقراطية في روما في عصرها الجمهوري شكلية بسبب

- (أ) حرمان الطبقة الأولى من ممارسة الانتخاب
(ب) طريقة تصويت الطبقة الثالثة في الانتخابات
(ج) تزوير السلطات لنتائج الانتخابات
(د) منع الطبقة الثانية من الترشح للانتخابات

٢ حالة حدوث نقص إحدى السلع الغذائية في مصر البطلمية والحاجة إلى الاستيراد من الخارج، أى من المنشآت

الموجودة في الصور المقابلة تتوقع أن تسهل حل الأزمة؟



- (أ) ٤ (ب) ٢ (ج) ١ (د) ٣

٣ زاد عدد سكان الطبقة الدنيا في بلاد العراق القديم بسبب

- (أ) العلاقات التجارية مع الدول الأخرى (ب) نظام ملكية الأرض
(ج) السياسة العسكرية لممك العراق (د) التواصل الحضاري مع الدول المجاورة

٤ من خلال دراستك، نستنتج أن حمورابي هدف من إصداره لقوانينه تحقيق ما يُعرف بـ

- (أ) الرخاء الاقتصادي (ب) الأمن الفكري
(ج) الأمن المجتمعي (د) القوة الناعمة

٥ كان مقر الحكومة المركزية في مصر في عهد الرومان يقع على

- (أ) ساحل البحر الأحمر (ب) ساحل البحر المتوسط
(ج) الحدود الغربية المصرية (د) الحدود الجنوبية المصرية

٦ أى المدن الفينيقية الآتية تتمثل بيئتها في شكل شبه جزيرة؟

- (أ) أوغاريت (ب) صور
(ج) جبيل (د) صيدا

٧ «أحد حكام البطالمة كان يعد قارئاً جيداً للتاريخ، وكان يؤكد أن أمن مصر القومي يبدأ من إفريقيا». فى رأيك: أى من

ملوك البطالمة يتصف بذلك؟ بطلميوس

- (أ) الأول (ب) الثانى
(ج) الثالث (د) الرابع

- ٨ مثلت قرطاجة الامتداد الفينيقي في
- (١) آسيا (ب) إفريقيا (ج) شمال أوروبا (د) جنوب أوروبا
- ٩ استُنْبِط من دراسة فن النحت عند العراقيين القدماء، اتصافه ب.....
- (١) الواقعية (ب) الخيال (ج) التحليل (د) الموضوعية
- ١٠ تعرضت مصر في عهد أحد ملوك البطالمة إلى أزمة اقتصادية طبيعية وهو.....
- (١) بطلميوس الأول (ب) بطلميوس الثاني (ج) بطلميوس الثالث (د) بطلميوس الرابع
- ١١ كان العامل الأساسي في ظهور إسبرطة كقوة عسكرية في اليونان تبنى مفهوم.....
- (١) الانشقاق (ب) الوحدة (ج) الضعف (د) التفرقة
- ١٢ القاسم المشترك بين الإسكندر الأكبر و بطلميوس الأول في التقرب إلى المصريين هو الجانب.....
- (١) السياسي (ب) الاقتصادي (ج) العسكري (د) الديني
- ١٣ كان سبباً في تحطم مبدأ الإسكندر بأن العالم وطن واحد.....
- (١) مؤتمر بابل (ب) الصراع بين روما وقرطاجة (ج) استيلاء الرومان على بلاد العراق (د) الصراع بين البطالمة والسلوقيين

(ب) أجب عن الأسئلة الآتية:

١ حرص ملوك المدن الفينيقية على الأمان والاستقرار السياسي له مميزات وعيوب. ما مدى صدق هذه العبارة؟

.....

.....

٢ لعبت المرأة دوراً بارزاً أثناء حكم البطالمة في مصر. دلل على ذلك بمثال مما درست.

.....

.....

٣ بم تفسر: احتلال اليهود لمكانة اجتماعية أعلى من المصريين خلال الحكم الروماني لمصر؟

.....

.....

(أ) اختر الإجابة الصحيحة من بين (أ)، (ب)، (ج)، (د) فيما يلي:

قصة الطوفان
في يوم غضبت الآلهة على البشر لكثرة ما
يرتكبون من ذنوب فقررت القضاء عليهم
بتسليط طوفان عظيم.

١ درست سابقاً مصدر دراسة الحضارات. في ضوء ذلك نستدل من

خلال قراءة النص المقابل أنه من المصادر.....

(أ) الأولية

(ب) الثانوية

(ج) البارزة

(د) الغائرة

٢ سعى الإسكندر الأكبر إلى تحقيق مبدأ العالم وطن واحد من خلال.....

(أ) فرض الهيمنة العسكرية

(ب) التواصل الحضارى والثقافى

(ج) تبادل البعثات مع الدول

(د) رفع شعار السلام أساس واحد

٣ من خلال الصورة المقابلة: في أى من المجالات التالية يظهر تأثير الحضارة العراقية

بالحضارة المصرية؟

(أ) الدينى

(ب) الفنى

(ج) الزراعى

(د) الاقصادى

٤ من خلال المقارنة بين الحياة الاقتصادية في كل من الحضارة الإغريقية وحضارة

الفينيقيين نستنتج أنها تشابهت في مجال

(أ) الزراعة

(ب) الصناعة

(ج) الصيد

(د) الرعى

٥ أهم المصادر الأولية التي تحدثت عن التواصل الحضارى بين مصر وفينيقيا

(أ) صلاية نعرمر

(ب) حجر بالرمو

(ج) معبد إدفو

(د) قصة الإله «بعل»

٦ ظهرت تأثير الحضارة العراقية بالحضارة المصرية في مجال الفن واضحاً في

(أ) رأس نفرتيتى

(ب) تمثال رمسيس الثانى

(ج) معابد فيلة

(د) تمثال أبو الهول

٧ من خلال تحليل الرسم البيانى المقابل حدد: أى من العائلات في إسبرطة يتم اختيار الملكين منهما؟

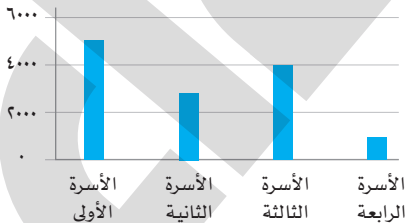
(أ) الأسرتان الثانية والثالثة

(ب) الأسرتان الأولى والثانية

(ج) الأسرتان الأولى والثالثة

(د) الأسرتان الرابعة والثانية

عدد أفراد أكبر عائلات مدينة إسبرطة



٨ أكثر مدينة فينيقية عبرت عن مدى التواصل الاجتماعى بين مصر وفينيقيا هي

(أ) صور

(ب) جبيل

(ج) صيدا

(د) أوغاريت

٩ بتحليل النظام السياسي في إسبرطة يمكن أن نستنتج أن نظام الحكم كان

(أ) جمهورية شعبية

(ب) ملكية مقيدة

(ج) ملكية مطلقة

(د) إمبراطورية دينية

١٠ «حصلت اللاعبة المصرية «فريال أشرف» على ميدالية ذهبية بأولمبياد طوكيو ٢٠٢٠م». في ضوء العبارة السابقة

فإن الأصل التاريخي لتلك الألعاب هو أصل

(أ) إغريقي

(ب) مصري

(ج) عراقي

(د) فينيقي

١١ للتعرف على المهارات العسكرية والبطولية للشعب اليوناني، فإنه يمكن الاعتماد على كتابات

(أ) هوميروس

(ب) أرخيلوخس

(ج) سقراط

(د) أبو قراط

١٢ استغل كل منهما السلطة التشريعية في تحقيق الاستقرار والإصلاح السياسي

(أ) بركليس وسرجون

(ب) سولون وحمورابي

(ج) الإسكندر الأكبر وسنحاريب

(د) فيليب المقدوني ونيوخذ نصر الثاني

١٣ عندما تولى محمد على باشا حكم مصر جعل من الجيش أهم اهتماماته ومن الاحتكار قاعدة نهضته الاقتصادية وهو

بذلك يشبه سياسة حكام

(أ) إسبرطة في الجيش والبطالة في الاقتصاد (ب) مقدونيا في الجيش وبابل في الاقتصاد

(ج) فينيقيا في الاقتصاد وقرطاجة في الجيش (د) أثينا في الجيش وإسبرطة في الاقتصاد

(ب) أجب عن الأسئلة الآتية:

١ «بعد سيطرة روما على سوريا ومصر أصبحت روما سيدة العالم بلا منازع فكان الذي يحكم روما قنصلاً رومانياً سابقاً،

ولكن الوضع في مصر كان غير متماثل» دلل تاريخياً على صحة العبارة السابقة» .

.....
.....

٢ «سعى كل من مصر والعراق للوجود العسكري في بلاد فينيقيا». في ضوء العبارة حدد دوافع تحرك جيش مصر

والعراق نحو فينيقيا .

.....
.....

٣ «يعتبر المصريون من أوئل الشعوب التي طبقت العصيان المدني» دلل تاريخياً على صحة العبارة السابقة.

.....
.....

الأخصاء



تاريخ

الصف 1 الثانوى

الإجابات النموذجية للنماذج الاسترشادية للفصل

الدراسى الثانى العام الدراسى

2024 - 2023م

إجابة نموذج (١)

(١)

- ١ (ج) ٢ (ب) ٣ (د) ٤ (ج)
٥ (د) ٦ (ج) ٧ (١) ٨ (ج)
٩ (ب) ١٠ (١) ١١ (ج) ١٢ (ب)
١٣ (ب)

(ب)

- ١ لحدثت وحدة بين الدويلات السومرية في دولة واحدة، ولم تسقط هذه الدويلات نتيجة الحروب التي حدثت بينها وأدت إلى ضعفها وتفرقتها.
٢ يجيب الطالب في ضوء الاتفاق مع هذه المقولة لأن التشريعات التي وضعها سولون كانت خطوة هامة في تاريخ التطور السياسي لأثينا، ولكن التشريعات لم ترض الطبقة الأرستقراطية.
٣ العبارة غير صادقة، بدليل أن خلفاء الإسكندر الأكبر قاموا بتقسيم الإمبراطورية بعد وفاته فيما عرف بمؤتمر بابل عام ٣٢٣ ق.م.

إجابة نموذج (٢)

(١)

- ١ (ج) ٢ (د) ٣ (د) ٤ (ج)
٥ (ب) ٦ (١) ٧ (١) ٨ (ج)
٩ (د) ١٠ (ب) ١١ (١) ١٢ (د)
١٣ (ج)

(ب)

- ١ حيث عثر فيها على كثير من التماثيل المصرية القديمة وأحجار عليها أسماء فراعنة مصريين، وعثر فيها أيضاً على أقدم أبجدية في الوطن العربي.
٢ العبارة صادقة؛ حيث كانت ملكية الأرض في العراق القديم للأفراد بخلاف الوضع في مصر القديمة؛ حيث كان الفرعون صاحب الملكية العامة للأرض.

٣ الآثار الناتجة عن تلك النزعة هي زيادة الطبقة الدنيا في بلاد العراق القديمة نتيجة زيادة عدد الأسرى بسبب كثرة الحروب التي خاضها هؤلاء الملوك؛ مما أحدث خللاً في التوازن الاجتماعي لبلاد العراق القديم.

إجابة نموذج (٣)

(١)

- ١ (ج) ٢ (ب) ٣ (ب) ٤ (ب)
٥ (ج) ٦ (ج) ٧ (١) ٨ (ب)
٩ (ج) ١٠ (ج) ١١ (ج) ١٢ (١)
١٣ (ج)

(ب)

١ مثلت حرب البيلوبونيز بداية حقبة سياسية مختلفة في تاريخ الإغريق؛ حيث أدت هذه الحرب بين أثينا وإسبرطة عام ٤٤١ ق.م إلى ضعف المدن اليونانية، إلى أن تمكن فيليب الثاني المقدوني من فرض حكمه بالقوة على بلاد اليونان كلها، وحاول إقناعهم بتوحيد الصف تحت رايته لمواجهة الفرس.

٢ الدور الثقافي تمثل في اتخاذ أهل العراق القديم من الزاقورات مكاناً لتعليم الأفراد. أما الدور الاقتصادي فتمثل في أنه مكان لوضع السجلات والعقود.

٣ العبارة صادقة، حيث إن:
• فلسفة سقراط كانت تقوم على إعمال العقل في كل شيء.
• فلسفة أفلاطون تنسم بالطابع العلمي في التفكير.
• فلسفة أرسطو تعتمد على التفكير التاريخي والأحياء.

إجابة نموذج (٤)

(١)

- ١ (ب) ٢ (ب) ٣ (ج) ٤ (ج)
٥ (ب) ٦ (د) ٧ (ب) ٨ (ب)
٩ (ب) ١٠ (ج) ١١ (ب) ١٢ (د)
١٣ (١)

(ب)

١ العبارة صحيحة؛ بدليل أن النظام السياسي في الإمبراطورية الرومانية كان يقضى بأن يحكم الولايات قنصل سابق، ولكن نظرًا لأهمية مصر الاقتصادية والجغرافية قرر الرومان أن يكون حاكم مصر «أغسطس» يتبعه مباشرة ويتلقى الأوامر منه، وأن يكون من طبقة الفرسان الموالية له ذات الكفاءة الإدارية والمالية والخبرة العسكرية، وحظر على أى شخص من أعضاء السناتو دخول مصر إلا بإذن من الإمبراطور مباشرة.

٢ دوافع الجيش المصرى: تمثلت فى أنها كانت دوافع أمنية وكان الهدف منها الحماية، والمحافظة على الأمن القومى لمصر. دوافع الجيش العراقى: تمثلت فى التوسع وقيام إمبراطورية كبيرة على حساب فينيقيا، كما فعل الملك نبوخذ نصر الثانى.

٣ العبارة صحيحة؛ حيث ضرب المصريون أروع صور لمقاومة المحتل الرومانى والتى تمثلت فى هجرة القرى وترك الحقول والإهمال الزراعى كوسيلة سلمية لمحاربة الرومان، واستمر ذلك الوضع حتى جاء الفتح الإسلامى.

(ب)

١ العبارة صادقة؛ لأن ذلك له تأثير إيجابى تمثل فى صرف جهودهم للاهتمام بالتجارة، وله تأثير سلبى تمثل فى فشلهم فى تكوين وحدة سياسية واحدة تضم كل المدن الفينيقية.

٢ حيث لعبت كليوباترا السابعة دورًا سياسيًا فى الدولة البطلمية فى مصر، فقد تولت العرش مع أخيها بطليموس الثالث عشر، وبعدما غرق أثناء حرب الإسكندرية. أجلسها يوليوس قيصر بجوار أخيها الأصغر بطليموس الرابع عشر، ولكن سرعان ما تخلصت منه لتجلس ابنها من يوليوس قيصر معها على العرش ليكون ملكًا على مصر، إلى جانب أنها كانت تخطط لتصبح ملكة على روما، وتحالفت مع ماركوس أنطونيوس فى معركة أكتيوم البحرية عام ٣١ ق.م.

٣ لاستغلال الرومان لرؤس أموالهم والاستفادة منهم لتنشيط التجارة والأعمال المصرفية.

إجابة نموذج (٥)

(١)

- | | | | |
|--------|--------|--------|--------|
| ١ (ب) | ٢ (١) | ٣ (ب) | ٤ (ب) |
| ٥ (ب) | ٦ (د) | ٧ (ج) | ٨ (ب) |
| ٩ (ج) | ١٠ (١) | ١١ (١) | ١٢ (ب) |
| ١٣ (١) | | | |