

الأستاذ 



جغرافيا

الصف 1 الثانوي

مقترح النماذج الاسترشادية للفصل الدراسي الثاني

العام الدراسي

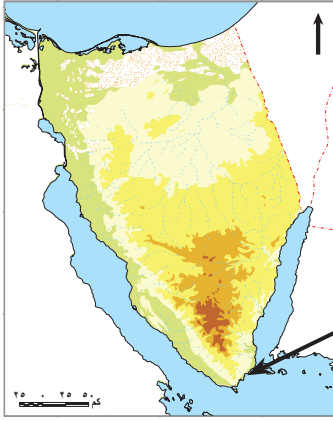
2023 - 2024م

نموذج (١)

(أ) اختر الإجابة الصحيحة من بين (أ)، (ب)، (ج)، (د) فيما يلي:

١ تُعد طرق النقل والمواصلات العامل الأول المسئول عن جذب السكان إلى مدينة

- (أ) سوهاج. (ب) بورفؤاد. (ج) الباويطى. (د) سيوة.



٢ يُعد من الأنشطة الاقتصادية التي تتميز بها المدينة المشار إليها بخريطة مصر

المقابلة

- (أ) الزراعة.
(ب) الصناعة.
(ج) التعدين.
(د) السياحة.

٣ يشتهر محصول الشعير بتحمل الجفاف وملوحة التربة). يمكن الاستفادة من ظروف زراعته بتخصيص مساحات

لزراعته في محافظة

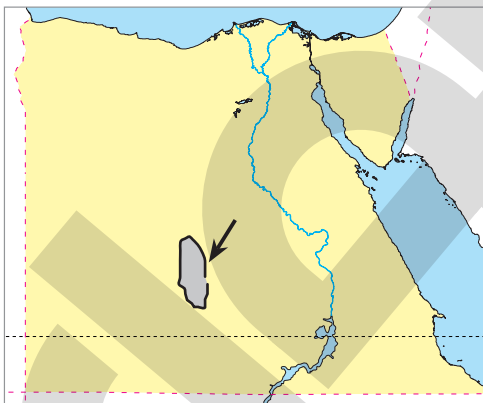
- (أ) شمال سيناء (ب) المنوفية (ج) الغربية (د) القاهرة

٤ الهجرة الداخلية بمصر تؤدي إلى

- (أ) ظهور العشوائيات بجنوب الدلتا.
(ب) ارتفاع نسبة الذكور إلى الإناث بشمال الدلتا.
(ج) نقص العمالة في شمال وادي النيل.
(د) زيادة أعداد العمالة في جنوب وادي النيل.

٥ تنتشر طبقات الفحم بمصر في محافظة

- (أ) جنوب سيناء. (ب) شمال سيناء. (ج) الإسماعيلية. (د) مطروح.



٦ إذا علمت أن المنطقة المشار إليها في الخريطة تكونت صخورها في

الزمن الجيولوجي الثاني، فمن المتوقع أن نجد في هذا المكان

خام

- (أ) الفوسفات.
(ب) الرخام.
(ج) الذهب.
(د) المنجنيز.

٧ إذا تحسن الميزان التجاري لدولة ما، فهذا بالضرورة يدل على ارتفاع

- (أ) العمالة الوافدة. (ب) الواردات الخارجية. (ج) العمالة الأجنبية. (د) الصادرات المحلية.

٨ ترتبط المشكلة السكانية بمشكلة تلوث البيئة التي نتجت عن

- (أ) ارتفاع معدلات البطالة. (ب) انتشار العشوائيات. (ج) انتشار الأمية. (د) ارتفاع نسبة الأطفال.

٩ زراعة قطعة من الأرض الزراعية ثلاث مرات في السنة تعبر عن مفهوم

- (أ) المساحة الزراعية .
(ب) المساحة المحصولية .
(ج) التركيب المحصولي .
(د) الدورة المحصولية .

١٠ تم اختيار مدينة قنا عام ١٩٦٩ م لإنشاء أكبر مجمع لصناعة الألومنيوم في الوطن العربي؛ لقربها من مصدر طاقة رئيسي

هو

- (أ) حقل بترول بلاعيم
(ب) خط أنابيب شقير
(ج) قناطر نجع حمادى
(د) محطة السد العالى

١١ نتجت المشكلة السكانية في مصر عن اضطراب العلاقة بين

- (أ) المساحة والموارد .
(ب) عدد السكان والموارد .
(ج) عدد السكان والمساحة .
(د) معدلات المواليد والوفيات .

١٢ يرجع السبب الذى جعل من سيناء وساحل البحر الأحمر منطقتين سياحيتين رئيسيتين في مصر

- (أ) كثرة الشواطئ الصخرية .
(ب) وجود أكثر من بيئة طبيعية .
(ج) وجود سياحة تاريخية .
(د) اقتراب سيناء من الدول العربية .

١٣ إذا تم ضبط استهلاك الموارد الاقتصادية المتاحة لتناسب مع الزيادة السكانية، فسيتم حل أحد أبعاد المشكلة

السكانية وهو البعد

- (أ) الأول
(ب) الثانى
(ج) الثالث
(د) الرابع

(ب) أجب عن الأسئلة الآتية:

١ ما العلاقة بين توزيع السكان والرواسب الفيضية في الدلتا؟

.....
.....
.....

٢ دلل على صحة العبارة الآتية جغرافياً: أثرت السياسة الاقتصادية التي اتبعتها بعض الدول على الصناعة المصرية.

.....
.....
.....

٣ دلل على صحة العبارة الآتية: تؤثر بعض الأنشطة الصناعية سلباً على الإنتاج الزراعى في مصر.

.....
.....
.....

نموذج (٢)

(أ) اختر الإجابة الصحيحة من بين (أ)، (ب)، (ج)، (د) فيما يلي:

١ أبرز المشكلات التي تواجه محافظة أسيوط

- (أ) الازدحام والعشوائيات. (ب) البطالة المقنعة.
(ج) زيادة الهجرة الوافدة. (د) نقص العمالة الزراعية.

٢ من مواطن الجذب للسياحة البيئية بساحل خليج العقبة مدينة

- (أ) الطور. (ب) العريش.
(ج) ينبع. (د) نويبع.

٣ يدل الهرم السكاني لمصر على أن معظم سكانها من

- (أ) الأطفال. (ب) الشباب. (ج) الحضر. (د) كبار السن.

٤ ساهم التوزيع الحالي للسكان بمصر في

- (أ) تراجع معدلات التلوث. (ب) زيادة معدلات التنمية.
(ج) قصور البنية التحتية. (د) خفض معدلات الإعالة.

٥ في ثمانينيات القرن العشرين عادت عملية التعدين مرة أخرى بشبه جزيرة سيناء لاستخراج

- (أ) الكروم. (ب) الرصاص.
(ج) الفحم. (د) الزنك.

٦ أبرز الصعوبات التي تواجهها منظمة جامعة الدول العربية عند السعي لإقامة سوق عربية مشتركة هي:

- (أ) الاتفاقات العربية الثنائية (ب) الهيمنة الاقتصادية الغربية
(ج) قصور الموارد البترولية (د) قلة الأيدي العاملة

٧ يرجع جذب محافظات القناة للسكان إلى

- (أ) ارتفاع الأجور. (ب) ندرة الخدمات.
(ج) سيادة النشاط الزراعي. (د) البعد عن مركز الإدارة والحكم.

٨ تسهم الجهود الدبلوماسية للدولة في تنمية الاقتصاد المصري من خلال

- (أ) التعاون مع دول حوض النيل (ب) تحديث بيانات الدراسات الاقتصادية
(ج) استخدام نظم المعلومات الجغرافية (د) دعم البحث العلمي

٩ أفضل إجراء للوصول بالميزان التجاري المصري إلى حالة فائض يتمثل في

- (أ) النهوض بالتجارة الداخلية. (ب) التوسع في الواردات.
(ج) تقليص الصادرات. (د) التوسع الصناعي.

١٠ أكثر محافظات مصر مساهمة في تحقيق الأمن الغذائي لها توجد في

- (١) شرق الدلتا.
(ب) غرب الدلتا.
(ج) جنوب الوادى.
(د) شمال الوادى.

١١ تكاد تختفى التكوينات البترولية في جهات مصر

- (١) الغربية.
(ب) الشمالية.
(ج) الوسطى.
(د) الجنوبية.

١٢ أكثر العوامل تأثيراً إيجابياً في تركيز السكان بمحافظتى الغربية وبنى سويف

- (١) جودة التربة.
(ب) اعتدال المناخ.
(ج) طرق النقل.
(د) النشاط التعدينى.

١٣ يُعد أقرب المعالم الأثرية التالية للحدود المصرية الأردنية

- (١) قلعة قايتباى
(ب) قلعة صلاح الدين
(ج) آثار تونا الجبل
(د) مقابر المزوقة

(ب) أجب عن الأسئلة الآتية:

١ استنتج الأسباب التى أدت إلى انخفاض عائدات النشاط الزراعى بمصر.

.....
.....
.....

٢ ما العلاقة بين المناخ وتوزيع السكان؟

.....
.....
.....

٣ دلل على صحة العبارة التالية جغرافياً: أثرت السياسة الاقتصادية التى اتبعتها بعض الدول على الصناعة المصرية.

.....
.....
.....

(أ) اختر الإجابة الصحيحة من بين (أ)، (ب)، (ج)، (د) فيما يلي:

- ١ المخزون الاستراتيجي الأكبر من خام الفوسفات بمصر يوجد في
 - (أ) شمال الدلتا.
 - (ب) الصحراء الشرقية.
 - (ج) الصحراء الغربية.
 - (د) شبه جزيرة سيناء.
- ٢ المنفذ البحري لنقل وتداول البترول المصرى للخارج ميناء
 - (أ) كفر الزيات.
 - (ب) سيدى بشر.
 - (ج) أبو قير.
 - (د) سيدى كير.
- ٣ ينتج عن عدم ملاحقة النمو الاقتصادي للزيادة السكانية
 - (أ) انتشار الأمية.
 - (ب) انتشار البطالة.
 - (ج) سوء توزيع السكان.
 - (د) تراجع معدلات التضخم.
- ٤ للبحث عن فرص معيشية أفضل يفضل سكان أسوان الهجرة صوب
 - (أ) الشرق.
 - (ب) الغرب.
 - (ج) الشمال.
 - (د) الجنوب.
- ٥ أكثر العوامل تأثيراً في معدل النمو السكاني
 - (أ) التركيب النوعي.
 - (ب) عدد المواليد.
 - (ج) التركيب الاقتصادي.
 - (د) توزيع المواليد.
- ٦ أبرز العوامل التي تؤدي لانخفاض إنتاجية الفدان على أطراف الدلتا
 - (أ) قلة المصارف الزراعية.
 - (ب) نقص العمالة الزراعية.
 - (ج) اتباع نظام الري الحوضي.
 - (د) افتقار تربتها للمواد العضوية.
- ٧ زيادة الجمارك على الواردات من الصناعات الأجنبية إجراء لمواجهة
 - (أ) خطر التضخم وانخفاض الأجور.
 - (ب) نقص بعض مستلزمات الصناعات الخارجية.
 - (ج) الاعتماد على الآلات القديمة.
 - (د) سياسة الإغراق التي تمارسها بعض الدول.
- ٨ يتركز استخراج ملح الطعام بمحافظة الفيوم في الجهات
 - (أ) الشمالية الغربية.
 - (ب) الشرقية.
 - (ج) الشمالية الشرقية.
 - (د) الجنوبية.
- ٩ اتساع قمة الهرم السكاني للدولة (س) يدل على
 - (أ) ارتفاع القدرة الإنتاجية.
 - (ب) زيادة قوة العمل.
 - (ج) ارتفاع معدلات الرعاية الصحية.
 - (د) تحقيق التنمية الاقتصادية.

١٠ أى المحافظات التالية يتأثر الجذب السياحى بها بالتنوع الاجتماعى والتراث الطبيعى؟

(١) قنا. (ب) القاهرة.

(ج) مطروح. (د) أسيوط.

١١ النصب الأكبر من التجارة الدولية المصرية يتم من خلال النقل

(١) البحرى (ب) البرى (ج) الجوى (د) النهرى

١٢ تختفى حركة النقل النهرى بين مدن محافظة

(١) أسيوط (ب) البحيرة (ج) الوادى الجديد (د) بنى سويف

١٣ قامت الدولة بصيانة قناطر نوح حمادى مما يؤثر بالإيجاب على مائة ترعة

(١) بحريوسف (ب) النوبارية

(ج) الجرجاوية (د) الإسماعيلية

(ب) أجب عن الأسئلة الآتية:

١ ماذا يحدث إذا: دخلت الأساليب العلمية والتكنولوجية فى عملية التعدين؟

.....
.....
.....

٢ دلل على صحة العبارة: تتشابه الهجرة التى حدثت فى جنوب وادى النيل مع الهجرات بإقليم قناة السويس بمنتصف

القرن العشرين شكلاً وتختلف من حيث المسببات .

.....
.....
.....

٣ اقترح سبباً لزيادة الاستفادة من الأراضى الخصبة فى مصر.

.....
.....
.....

(أ) اختر الإجابة الصحيحة من بين (١)، (ب)، (ج)، (د) فيما يلي:

١ أدى الاهتمام بمد خطوط النقل والمواصلات في مدينة القنطرة إلى

- (١) انتشار العشوائيات. (ب) زيادة التنوع السياحي.
(ج) إعادة توزيع السكان. (د) كثافة النشاط الزراعي.

٢ تعتمد محافظة البحيرة في الزراعة على المياه التي تصل إليها من ترعة

- (١) الإبراهيمية. (ب) النوبارية. (ج) الجرجاوية. (د) أصفون.

٣ أكثر العوامل تأثيراً في توزيع سكان الدلتا

- (١) الحرارة. (ب) الرياح.
(ج) الأمطار. (د) التربة.

٤ من المتوقع أن يسهم المشروع الموضح بالصورة



المقابلة في

- (١) تحقيق الأمن الغذائي.
(ب) عجز الميزان التجاري.
(ج) جذب الاستثمار الخارجي.
(د) نقص اللحوم والدواجن.

٥ السبب الرئيسي لزيادة العبء والضغط على الخدمات في مدينة القاهرة

- (١) الهجرة الداخلية. (ب) الهجرة الخارجية.
(ج) نجاح خطط التنمية. (د) ارتفاع معدل المواليد.

٦ نتيجة للهجرة الداخلية تنخفض نسبة الذكور عن الإناث بمحافظة

- (١) المنوفية. (ب) الجيزة. (ج) البحر الأحمر. (د) جنوب سيناء.

٧ من المناطق السياحية المهمة والموجودة في الصحراء الغربية

- (١) معبد الأقصر. (ب) محمية الغابة المتحجرة.
(ج) مقابر المزوقة. (د) دير سانت كاترين.

٨ أى الموارد المائية التالية تعتمد عليه الزراعة بشكل أساسى في محافظة الوادى الجديد؟

- (١) المياه المعالجة. (ب) الأمطار.
(ج) نهر النيل. (د) المياه الجوفية.

٩ تنتج منطقة وادى النطرون الخام الرئيسى لصناعة

- (١) ملح الطعام. (ب) الزجاج.
(ج) الصلب. (د) المنسوجات.

١٠ أقرب مصانع الأسمدة لحقول السباعية والمحاميد هو مصنع

(أ) أسيوط .

(ب) أبوزعبل .

(ج) كفرالدوار .

(د) بورفؤاد .

١١ يتركز إنتاج الذهب بمصر في محافظة

(أ) المنوفية .

(ب) البحر الأحمر .

(ج) الوادى الجديد .

(د) مطروح .

١٢ يرتبط وجود المراكز العمرانية في محافظة البحر الأحمر بـ

(أ) الزراعة والرعى .

(ب) النقل والزراعة .

(ج) التعدين والسياحة .

(د) الصيد والتجارة .

١٣ تشير دراسة الوضع القائم للميزان التجارى المصرى إلى

(أ) صعوبة تحقيق الأمن الغذائى

(ب) تقدم الصناعة المصرية

(ج) زيادة حركة التجارة الخارجية

(د) ضعف العلاقات المصرية الأوربية

(ب) أجب عن الأسئلة الآتية:

١ ما العلاقة بين الزيادة السكانية والمحاصيل النقدية ؟

.....
.....
.....

٢ أيد بالأدلة: تعد محافظة الوادى الجديد من مناطق الجذب السياحى .

.....
.....
.....

٣ يرتبط البعد الأول من أبعاد المشكلة السكانية بتحقيق الأمن الغذائى لمصر، إلى أى مدى تتفق مع صحة العبارة السابقة

مع التعليل ؟

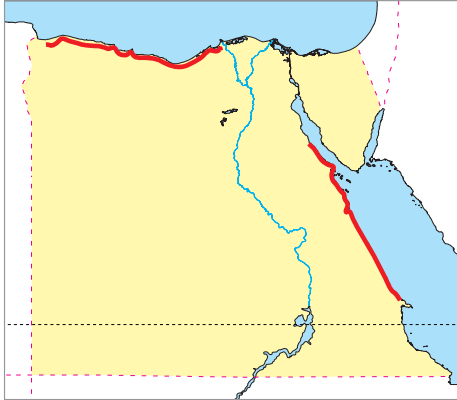
.....
.....
.....

نموذج (هـ)

(أ) اختر الإجابة الصحيحة من بين (أ)، (ب)، (ج)، (د) فيما يلي:

١ تتضح الأهمية التنموية لدعم خطط التنمية السياحية بمصر في

- (أ) تطوير البنية التحتية
(ب) التعريف بالتراث المصرى
(ج) نشر الثقافة السياحية
(د) المشاركة في المعارض العالمية.



٢ من الخريطة التي أمامك تعد المنطقة المظللة ذات تركيز سكاني يرجع إلى

- ازدهار النشاط
- (أ) الصناعى .
(ب) الزراعى .
(ج) السياحى .
(د) التعدينى .

٣ تتعدد أبعاد المشكلة السكانية، ومنها

- (أ) زيادة معدلات الإنتاج الزراعى .
(ب) غياب التشريعات الرادعة للإدمان .
(ج) انخفاض عدد الملتحقين بالتعليم الفنى .
(د) زيادة نسبة الأمية .

٤ أقصرتيارات الهجرة الداخلية في مصريتضح في تيار الهجرة من

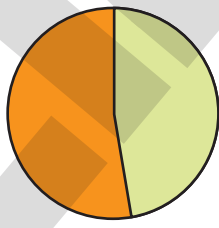
- (أ) قننا إلى البحر الأحمر .
(ب) قننا إلى أسوان .
(ج) أسوان إلى الإسكندرية .
(د) أسيوط إلى الإسماعيلية .

٥ السبب الرئيسى لرواج النشاط السياحى بالوجه القبلى هو

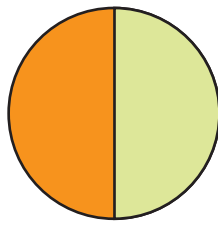
- (أ) الموقع .
(ب) التراث الحضارى .
(ج) المناخ .
(د) التنوع الاجتماعى .

٦ أى الرسوم البيانية التالية الأقرب في التعبير عن مساهمة الزراعة في جملة الناتج القومى المحلى

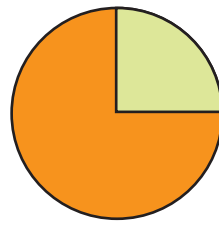
لمصر؟



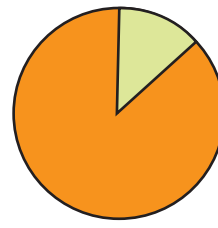
(د)



(ج)



(ب)



(أ)

٧ أى البحيرات التالية تقع ضمن شريان الملاحة الرئيسى بين البحرين الأحمر والمتوسط؟

- (أ) التمساح .
(ب) قارون .
(ج) مريوط .
(د) المنزلة .

٨ تؤثر قلة المواد العضوية بالتربة على تنوع المحاصيل الزراعية في محافظة

(أ) بنى سويف . (ب) الغربية .

(ج) المنوفية . (د) الوادى الجديد .

٩ المشكلة السكانية في مصر لها علاقة بمشكلة تدهور الخدمات التي نتجت عن

(أ) سوء توزيع السكان . (ب) ارتفاع نسبة صغار السن .

(ج) ارتفاع معدلات البطالة . (د) عدم التوازن بين عدد السكان والموارد .

١٠ الوسيلة الرئيسية لنقل المحاصيل الزراعية إلى الأسواق

(أ) السكك الحديدية (ب) النقل الجوي

(ج) النقل البحري (د) الطرق البرية

١١ توجد أهم حقول الغاز الطبيعي بمصر في جهة

(أ) الشمال . (ب) الجنوب .

(ج) الجنوب الشرقى . (د) الجنوب الغربى .

١٢ يظهر دور مؤسسات المجتمع المدني في حل مشكلة

(أ) العشوائيات . (ب) الأمية .

(ج) التكدس السكاني . (د) الزحف العمراني

١٣ مشروع الري الرئيسى لتغذية المياه بترعة النوبارية هو

(أ) قناطرزفتى . (ب) القناطر الخيرية . (ج) السد العالى . (د) خزان أسوان .

(ب) أجب عن الأسئلة الآتية :

١ ما العلاقة بين ...؟ السياسات الحكومية والمجال الزراعى في مصر؟

.....
.....
.....

٢ فسر: فقر التربة في الواحات المصرية .

.....
.....
.....

٣ ماذا يحدث إذا: زاد اهتمام الدولة بتطوير التعليم خاصة الفنى؟

.....
.....
.....

الأخضر



جغرافيا

الصف 1 الثانوى

الإجابات النموذجية للنماذج الاسترشادية للفصل

الدراسى الثانى العام الدراسى

2024 - 2023م

إجابة نموذج (١)

(١)

- ١ (ب) ٢ (د) ٣ (١) ٤ (١)
٥ (ب) ٦ (١) ٧ (د) ٨ (ب)
٩ (ب) ١٠ (د) ١١ (ب) ١٢ (ب)
١٣ (١)

(ب)

- ١ - يتركز السكان في أماكن التربة الخصبة ووجود الرواسب الفيضية بوادي النيل والدلتا ومنخفض الفيوم .
- ويقل تركيزهم في الأماكن التي لا تترسب فيها الرواسب الفيضية مثل الصحراء الشرقية والغربية وشبه جزيرة سيناء.

- ٢ حيث تتأثر مصر والدول النامية بسياسة الإغراق التي تتبعها بعض الدول الصناعية الكبرى في العالم حيث تندثر الصناعات المحلية وتخسر أمام الصناعات الأجنبية القادمة من الخارج.

- ٣ حيث تعتمد صناعة الطوب الأحمر على تجريف التربة الزراعية مما يعوق تحقيق التنمية الزراعية في مصر؛ ولذلك أصدرت الدولة قوانين تمنع ذلك.

إجابة نموذج (٢)

(١)

- ١ (د) ٢ (د) ٣ (ب) ٤ (ج)
٥ (ج) ٦ (ب) ٧ (١) ٨ (١)
٩ (د) ١٠ (ب) ١١ (د) ١٢ (١)
١٣ (ب)

(ب)

- ١ انخفضت عائدات مصر من النشاط الزراعي لأسباب عدة، منها:
- زيادة السكان مما أضر على المساحات المزروعة من المحاصيل النقدية وحل محلها الحبوب الغذائية.
- التغيرات المناخية التي تؤثر بالسلب على إنتاجية بعض المحاصيل.

- ٢ يتركز السكان في المناطق ذات المناخ المعتدل ، ويقل تركيزهم في المناطق ذات المناخ المتطرف سواء البارد أو المناخ الحار.

- ٣ حيث تمارس بعض الدول مثل الصين سياسة الإغراق فتقوم بإغراق السوق المصرية بالمنتجات خاصة مع عدم قدرة الصناعة المصرية على المنافسة من حيث السعر والجودة؛ مما يؤثر بالسلب على الصناعة في مصر.

إجابة نموذج (٣)

(١)

- ١ (ج) ٢ (د) ٣ (ب) ٤ (ج)
٥ (ب) ٦ (د) ٧ (د) ٨ (١)
٩ (ج) ١٠ (ج) ١١ (١) ١٢ (ج)
١٣ (ج)

(ب)

- ١ سيزيد الإنتاج من المعادن ومصادر الطاقة، وبالتالي ستزيد الدولة من دخلها من المعادن ومصادر الطاقة خاصة إذا تم استغلالها في الصناعة ولم تصدر كمادة خام.

- ٢ حيث إن كل الهجرات تعد من أشكال الهجرات القسرية، لكن يختلف سبب كل منها: فالهجرات بجانب الوادي حدثت لأسباب قومية (بناء السد العالي) أما الهجرات في إقليم القناة فحدثت بسبب العدوان الإسرائيلي على سيناء.

- ٣ يجيب الطالب بمقترحات لزيادة استغلال الأراضي الخصبة والتي منها:

- استخدام سلالات جديدة من الحبوب الزراعية.
- التوسع في استخدام الآلات والميكنة الزراعية.
- الاهتمام بأحوال الفلاحين.

إجابة نموذج (٤)

(١)

- ١ (ج) ٢ (ب) ٣ (د) ٤ (١)
٥ (١) ٦ (١) ٧ (ج) ٨ (د)
٩ (ب) ١٠ (١) ١١ (ب) ١٢ (ج)
١٣ (١)

(ب)

- ١ أدت الزيادة السكانية في مصر إلى إحلال زراعة الحبوب الغذائية محل المحاصيل النقدية (القطن) مما أدى إلى تراجع إنتاج القطن في مصر بالسنوات الأخيرة .

(ب)

- ١ تساهم السياسات الحكومية فى مساعدة الفلاحين والمزارعين عن طريق تنظيم الضرائب ودعم المزارعين من خلال الجمعيات الزراعية ومتابعة مشروعات الري والصرف الكبرى، وكذلك تحديد المساحات المطلوب زراعتها بالمحاصيل الاستراتيجية كقصب السكر والقمح.
- ٢ لأنها تربة رملية خفيفة تتسرب عبرها المياه بسرعة وتفتقر للمواد العضوية .
- ٣ يتوقع فى حالة اهتمام الدولة بتطوير التعليم الفنى :-
 - تناقص معدلات البطالة والإعالة .
 - القضاء على الفقر والإدمان .
 - زيادة الإنتاج الصناعى وتنوعه .
 - تقليل الواردات الخارجية وارتفاع معدلات التنمية .

- ٢ حيث يوجد العديد من مناطق الجذب السياحى مثل:
 - العديد من العيون الكبريتية والمعدنية الحارة فى عدد كبير من الواحات .
 - معبد هيبيس بالخارجة .
 - مقابر شندى ومقابر المزوقة بالداخلة .
- ٣ العبارة صحيحة ، حيث يتمحور البعد الأول للمشكلة السكانية حول العلاقة غير المتوازنة بين الموارد الطبيعية المتاحة وحجم الزيادة السكانية، مما يشير إلى الزيادة المطردة فى حاجة السكان من الغذاء دون أن يقابلها زيادة فى الموارد أو التنمية الاقتصادية مما يهدد الأمن الغذائى المصرى .

إجابة نموذج (هـ)

(١)

- | | | | |
|---------|---------|----------|---------|
| ١ (١) | ٢ (ج) | ٣ (د) | ٤ (١) |
| ٥ (ب) | ٦ (١) | ٧ (١) | ٨ (د) |
| ٩ (١) | ١٠ (د) | ١١ (١) | ١٢ (ب) |
| ١٣ (ب) | | | |