



موقع اجاباتكم

[www.ajabatkum.com](http://www.ajabatkum.com)

للمزيد اضغط على التلجرام هنا 



@aikhtibart

الصف: ثالث ابتدائي  
اليوم:  
التاريخ: / / ١٤٤٤ هـ  
الزمن: ساعة ونصف فقط



المملكة العربية السعودية  
وزارة التعليم  
إدارة تعليم منطقة تبوك

## اختبار نهاية الفصل الدراسي الثالث ( الدور الأول )

مادة **العلوم** للصف الثالث ابتدائي

للعام الدراسي ١٤٤٤ هـ

رقم الجلوس : .....

اسم الطالبة : .....

رقم السؤال	الدرجة رقما	الدرجة كتابة	المصححة	المراجعة	المدققة
السؤال الأول					
السؤال الثاني					
السؤال الثالث					

درجة الاختبار النهائية:  فقط لا غير من ٤٠ درجة







النجاح ليس إنجازاً بقدر ما هو قدرة مستمرة على الإنجاز





السؤال الأول: اختاري الإجابة الصحيحة في كلا مما يلي:

١٠





١- الأداة التي تستخدم لقياس الكتلة هي:

أ		ب		ج		د	
---	---	---	---	---	---	---	---


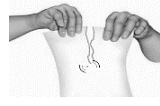


٢- تمثل جسيمات المادة الغازية:

أ		ب		ج		د	
---	---	---	---	---	---	---	---



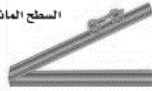

٣- الأداة المستخدمة لفصل مخلوط من الأرز والدقيق هي:

أ		ب		ج		د	
---	---	---	--	---	---	---	---





٤- أي التغيرات التالية تغير كيميائي:

أ		ب		ج		د	
---	---	---	--	---	---	---	---





٥- الآلة البسيطة التي تدخل في صناعة المصعد الكهربائي هي:

أ		ب		ج		د	
---	---	---	--	---	---	---	---

٦- يمثل تحول الطاقة الكهربائية إلى صوتية:

أ		ب		ج		د	
---	---	---	--	---	---	---	---

٧- أي أصوات الحيوانات التالية حاد؟

أ		ب		ج		د	
---	---	---	--	---	---	---	---

٨- ماذا يحدث إذا سقط الضوء على مرآة؟

أ	ينعكس	ب	ينكسر	ج	يمتص	د	ينتشت
---	-------	---	-------	---	------	---	-------

٩- يعد ورق الالمونيوم:

أ	جسم شفاف	ب	جسم غير شفاف	ج	جسم شبه شفاف	د	ظل
---	----------	---	--------------	---	--------------	---	----

١٠- تصدر الأصوات عن الشيء عندما:

أ	يتأرجح	ب	ينقلب	ج	يهتز	د	ينتثني
---	--------	---	-------	---	------	---	--------

السؤال الثاني:

أ- ضعي المصطلحات التالية في مكانها المناسب:

(الاجسام الشفافة - الشغل - المحلول - التغير الكيميائي - المادة - السائل)

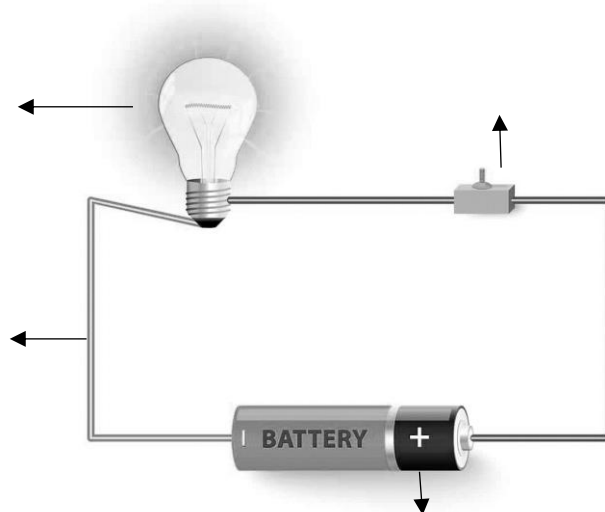
- ١- (.....) كل شي له كتلة ويشغل حيزاً.
- ٢- (.....) اجسام تسمح بنفاذ معظم الضوء من خلالها في خطوط مستقيمة.
- ٣- (.....) تغير ينتج عنه مواد جديدة.
- ٤- (.....) القوة المبذولة لتحريك جسم ما مسافة معينة.
- ٥- (.....) نوع من أنواع المخاليط تمتزج فيه المواد امتزاج تام.
- ٦- (.....) مادة لها حجم ثابت وشكل غير ثابت.

ب- ضعي علامة ( ✓ ) او ( ✗ ) امام العبارات التالية:

١	العناصر هي وحدة بناء المادة.
٢	تصنع اسلاك الكهرباء من النحاس لأنها جيدة التوصيل.
٣	المادة التي تنتشر هي المادة الصلبة.
٤	التغير الفيزيائي تغير يحدث في شكل المادة دون ان ينتج مادة جديدة.
٥	الاجسام الشفافة لا تسمح بنفاذ الضوء من خلالها.
٦	المادة الصلبة لها شكل وحجم ثابت.
٧	يقاس حجم السوائل باستخدام المخبر المدرج.
٨	الصوت والضوء من اشكال الطاقة.
٩	يعرف المسار المغلق الذي تسلكه الكهرباء بالدائرة الكهربائية
١٠	ينتقل الصوت في الفضاء.

ج- ضعي البيانات التالية في اماكنها الصحيحة:

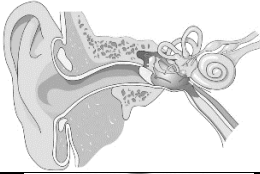







( مصباح - مفتاح كهربائي - اسلاك - بطارية )



السؤال الثالث:

رقمي العمود الاخر بما يناسبه في العمود الأول:

١٠

	
	
	
	
	
	
	
الكيلوجرام	
	
اللمتر	

١	يحول الطاقة الكهربائية الى حركية
٢	عضو السمع في الانسان
٣	البرغي
٤	يبذل شغلاً
٥	انكسار الضوء
٦	وحدة قياس الحجم
٧	العجلة والمحور
٨	لا يبذل شغلاً
٩	وحدة قياس الكتلة
١٠	مادة غازية

انتهت الاسئلة  
دعواتي لكن بالتوفيق والنجاح  
العلمة: أمل الزهراني

الصف: ثالث ابتدائي  
اليوم:  
التاريخ: / / ١٤٤٤ هـ  
الزمن: ساعة ونصف فقط



المملكة العربية السعودية  
وزارة التعليم  
إدارة تعليم منطقة تبوك

## نموذج اجابة

اختبار نهاية الفصل الدراسي الثالث ( الدور الأول)

مادة العلوم للصف الثالث ابتدائي

للعام الدراسي ١٤٤٤ هـ

رقم الجلوس : .....

اسم الطالبة : .....

رقم السؤال	الدرجة رقما	الدرجة كتابة	المصححة	المراجعة	المدققة
السؤال الأول					
السؤال الثاني					
السؤال الثالث					

درجة الاختبار النهائية:  فقط لا غير من ٤٠ درجة



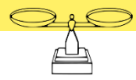



النجاح ليس إنجازاً بقدر ما هو قدرة مستمرة على الإنجاز





السؤال الأول: اختاري الإجابة الصحيحة في كلا مما يلي:

١٠





١- الأداة التي تستخدم لقياس الكتلة هي:

أ		ب		ج		د	
---	---	---	---	---	---	---	---





٢- تمثل جسيمات المادة الغازية:

أ		ب		ج		د	
---	---	---	---	---	---	---	---



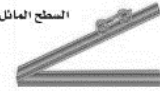

٣- الأداة المستخدمة لفصل مخلوط من الأرز والدقيق هي:

أ		ب		ج		د	
---	---	---	--	---	---	---	---





٤- أي التغيرات التالية تغير كيميائي:

أ		ب		ج		د	
---	---	---	--	---	---	---	---





٥- الآلة البسيطة التي تدخل في صناعة المصعد الكهربائي هي:

أ		ب		ج		د	
---	---	---	--	---	---	---	---

٦- يمثل تحول الطاقة الكهربائية إلى صوتية:

أ		ب		ج		د	
---	---	---	--	---	---	---	---

٧- أي أصوات الحيوانات التالية حاد؟

أ		ب		ج		د	
---	---	---	--	---	---	---	---

٨- ماذا يحدث إذا سقط الضوء على مرآة؟

أ	<b>ينعكس</b>	ب	ينكسر	ج	يمتص	د	ينتشت
---	--------------	---	-------	---	------	---	-------

٩- يعد ورق الالمونيوم:

أ	جسم شفاف	ب	<b>جسم غير شفاف</b>	ج	جسم شبه شفاف	د	ظل
---	----------	---	---------------------	---	--------------	---	----

١٠- تصدر الأصوات عن الشيء عندما:

أ	يتأرجح	ب	ينقلب	ج	<b>يهتز</b>	د	ينتثي
---	--------	---	-------	---	-------------	---	-------

السؤال الثاني:

أ- ضعي المصطلحات التالية في مكانها المناسب:

(الاجسام الشفافة - الشغل - المحلول - التغير الكيميائي - المادة - السائل)

١- ( **المادة** ) كل شي له كتلة ويشغل حيزاً.

٢- ( **الاجسام الشفافة** ) اجسام تسمح بنفاذ معظم الضوء من خلالها في خطوط مستقيمة.

٣- ( **التغير الكيميائي** ) تغير ينتج عنه مواد جديدة.

٤- ( **الشغل** ) القوة المبذولة لتحريك جسم ما مسافة معينة.

٥- ( **المحلول** ) نوع من أنواع المخاليط تمتزج فيه المواد امتزاج تام.

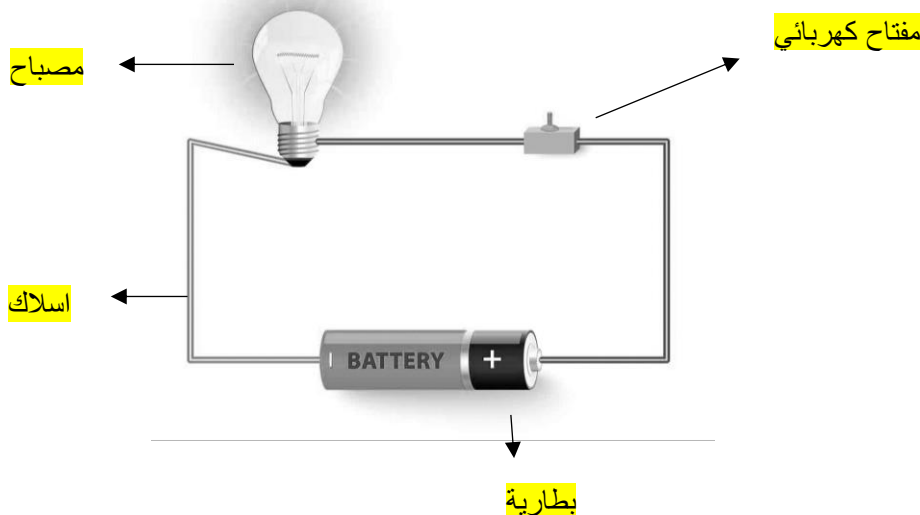
٦- ( **السائل** ) مادة لها حجم ثابت وشكل غير ثابت.

ب- ضعي علامة ( ✓ ) او ( ✗ ) امام العبارات التالية:

✓	العناصر هي وحدة بناء المادة.	١
✓	تصنع اسلاك الكهرباء من النحاس لأنها جيدة التوصيل.	٢
✗	المادة التي تنتشر هي المادة الصلبة.	٣
✓	التغير الفيزيائي تغير يحدث في شكل المادة دون ان ينتج مادة جديدة.	٤
✗	الاجسام الشفافة لا تسمح بنفاذ الضوء من خلالها.	٥
✗	المادة الصلبة لها شكل وحجم ثابت.	٦
✓	يقاس حجم السوائل باستخدام المخبر المدرج.	٧
✓	الصوت والضوء من اشكال الطاقة.	٨
✓	يعرف المسار المغلق الذي تسلكه الكهرباء بالدائرة الكهربائية	٩
✗	ينتقل الصوت في الفضاء.	١٠

ج- ضعي البيانات التالية في اماكنها الصحيحة:

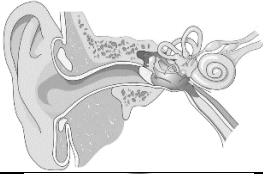






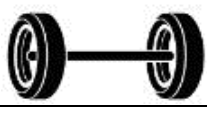
( مصباح - مفتاح كهربائي - اسلاك - بطارية )



السؤال الثالث:

رقمي العمود الاخر بما يناسبه في العمود الأول:

١٠

	٢
	١٠
	٨
	١
	٣
	٥
	٤
الكيلوجرام	٩
	٧
اللمتر	٦

١	يحول الطاقة الكهربائية الى حركية
٢	عضو السمع في الانسان
٣	البرغي
٤	يبذل شغلاً
٥	انكسار الضوء
٦	وحدة قياس الحجم
٧	العجلة والمحور
٨	لا يبذل شغلاً
٩	وحدة قياس الكتلة
١٠	مادة غازية

انتهت الاسئلة  
دعواتي لكن بالتوفيق والنجاح  
العلمة: أمل الزهراني

المجموع الكلي		المملكة العربية السعودية وزارة التعليم الإدارة العامة للتعليم بمنطقة .....
		مدرسة /
٤٠		
<b>اختبار مادة العلوم ( الدور الأول ) الفصل الدراسي الثالث للعام الدراسي - ١٤٤٤ هـ</b>		

المادة	العلوم		الصف	الثالث
اليوم	التاريخ		زمن الاجابة	ساعة ونصف
اسم الطالبة				
رقم الجلوس	( )			

اسم السؤال	الدرجة المستحقة		اسم المصحح / ة	اسم المراجع / ة	اسم المدقق / ة
	الدرجة رقماً	الدرجة كتابة			
السؤال الأول					
السؤال الثاني					
السؤال الثالث					
السؤال الرابع					
المجموع					



## لسؤال الأول :-

١٥

( نختار الاجابة الصحيحة فيما يلي :-

١- أي شيء له كتلة وحجم .	٢- عضو السمع في الانسان .
أ- المادة	أ- العين
ب - التغير الفيزيائي	ب - الأذن
ج - الخاصية	ج - القلب
٣- ينتج عن اهتزاز الأجسام .	٤- نستخدم لفصل الحديد عن المواد الاخرى .
أ- الصوت	أ- غربال
ب - القوى	ب - مغناطيس
ج - المادة	ج - تبخير
٥- خليط مكون من مادتين مختلفتين أو أكثر .	٦- عجلة يلف حولها سلك قوي .
أ- مخلوط	أ- الرافعة
ب - محلول	ب - سطح مائل
ج - ماء	ج - البكرة
٧- ينتشر الضوء في خطوط .	٨- مادة لها شكل ثابت وحجم ثابت .
أ- مستقيمة	أ- صلبة
ب - متعرجة	ب - سائلة
ج - منكسرة	ج - غازية
٩- إذا سقط الضوء على مرآه فإنه .	١٠- وحدة بناء المادة .
أ- ينعكس	أ- العنصر
ب - ينكسر	ب - الخاصية
ج - ينحرف	ج - المحلول
١١- أي المواد التالية ينتقل فيها الصوت ببطء .	١٢- يحول الطاقة الكهربائية الى صوتية
أ- الماء	أ- الجرس
ب - الصخر	ب - الثلجة
ج - الهواء	ج - المروحة

( ب ) نحدد حسب الصور وحدات القياس المعيارية التالية ( اللتر \_ الكيلو جرام \_ المتر )



يتبع

## سؤال الثاني :-

١٠

( ما المصطلح العلمي المناسب للعبارات التالية :-

( الكتلة - الشغل - الالة البسيطة - الضوء - الدائرة الكهربائية )

- ١- ( ..... ) مقدار ما يحتويه الجسم من مادة .
- ٢- ( ..... ) أداة تستخدم لانجاز الاعمال بسهولة .
- ٢- ( ..... ) شكل من أشكال الطاقة نحس به بالعين .
- ٤- ( ..... ) القوة المبذولة لتحريك جسم ما مسافة معينة .
- ٥- ( ..... ) مسار يسمح بمرور التيار الكهربائي من خلاله .

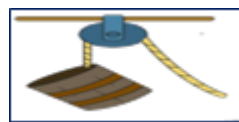
( ب ) نصنف التغيرات التالية الى ( تغير كيميائي . تغير فيزيائي ) بوضع أشاره ( ✓ )

التغير	تغير كيميائي	تغير فيزيائي
احتراق الخشب		
تسوس الاسنان		
طبخ الطعام		
تقطيع الورق		
تجمد الماء		

## سؤال الثالث :-

١٠

( نكتب تحت كل صورة اسم الالة البسيطة ( الرافعة \* البرغي \* عجلة ومحور \* البكرة )



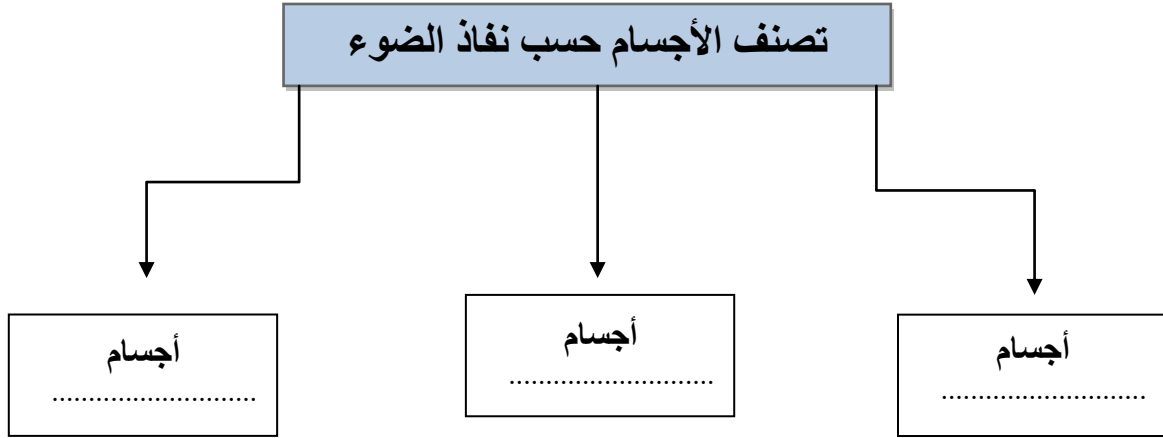
نضع علامة ( ✓ ) أمام العبارات الصحيحة وعلامة ( x ) أمام العبارات الخاطئة :

.....	١- من طرق فصل المخلوط الغريبال
.....	٢- البرق من الأمثلة على الكهرباء الساكنة
.....	٣- يعد ورق الالمنيوم مثال على جسم غير شفاف
.....	٤- انكسار الضوء هو انحرافه عن مساره
.....	٥- من دلائل حدوث التغير الكيميائي تكون الغاز
.....	٦- تذوب حبيبات السكر في الماء بسرعة اذا تم تبريد المحلول

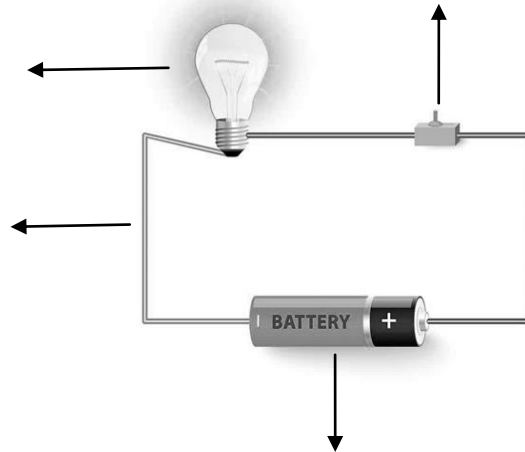
لسؤال الرابع :-

ج ) نكمل الخريطة التالية :-

٥



ب ) نضع البيانات التالية في مكانها الصحيح ( مصباح \* أسلاك \* بطارية \* مفتاح كهربائي )



انتهت الأسئلة \*\* بالتوفيق



سكره الشمري

المجموع الكلي		المملكة العربية السعودية وزارة التعليم الإدارة العامة للتعليم بمنطقة .....
		مدرسة /
٤٠		
<b>اختبار مادة العلوم ( الدور الأول ) الفصل الدراسي الثالث للعام الدراسي - ١٤٤٤ هـ</b>		

### نموذج الإجابة

المادة	العلوم	الصف	الثالث
اليوم	التاريخ	زمن الاجابة	ساعة ونصف
اسم الطالبة			
رقم الجلوس	( )		

رقم السؤال	الدرجة المستحقة		اسم المصحح / اسم المدقق / اسم المراجع / اسم المدقق /	اسم المراجع / اسم المدقق /
	الدرجة رقماً	الدرجة كتابة		
السؤال الأول				
السؤال الثاني				
السؤال الثالث				
السؤال الرابع				
المجموع				



## لسؤال الأول :-

١٥

( نختار الاجابة الصحيحة فيما يلي :-

١- أي شيء له كتلة وحجم .	٢- عضو السمع في الانسان .
أ- المادة	أ- العين
ب - التغير الفيزيائي	ب - الاذن
ج - الخاصية	ج - القلب
٣- ينتج عن اهتزاز الأجسام .	٤- نستخدم لفصل الحديد عن المواد الاخرى .
أ- الصوت	أ- غربال
ب - القوى	ب - مغناطيس
ج - المادة	ج - تبخير
٥- خليط مكون من مادتين مختلفتين أو أكثر .	٦- عجلة يلف حولها سلك قوي .
أ- مخلوط	أ- الرافعة
ب - محلول	ب - سطح مائل
ج - ماء	ج - البكرة
٧- ينتشر الضوء في خطوط .	٨- مادة لها شكل ثابت وحجم ثابت .
أ- مستقيمة	أ- صلبة
ب - متعرجة	ب - سائلة
ج - منكسرة	ج - غازية
٩- إذا سقط الضوء على مرآه فإنه .	١٠- وحدة بناء المادة .
أ- ينعكس	أ- العنصر
ب - ينكسر	ب - الخاصية
ج - ينحرف	ج - المحلول
١١- أي المواد التالية ينتقل فيها الصوت ببطء .	١٢- يحول الطاقة الكهربائية الى صوتية
أ- الماء	أ- الجرس
ب - الصخر	ب - الثلجة
ج - الهواء	ج - المروحة

( ب ) نحدد حسب الصور وحدات القياس المعيارية التالية ( اللتر \_ الكيلو جرام \_ المتر )



الكيلو جرام



المتر



اللتر

يتبع

## سؤال الثاني :-

١٠

( ما المصطلح العلمي المناسب للعبارات التالية :-  
( الكتلة - الشغل - الالة البسيطة - الضوء - الدائرة الكهربائية )

- ١- ( الكتلة ) مقدار ما يحتويه الجسم من مادة .
- ٢- ( الالة البسيطة ) أداة تستخدم لانجاز الاعمال بسهولة .
- ٢- ( الضوء ) شكل من أشكال الطاقة نحس به بالعين .
- ٤- ( الشغل ) القوة المبذولة لتحريك جسم ما مسافة معينة .
- ٥- ( الدائرة ) مسار يسمح بمرور التيار الكهربائي من خلاله .

( ب ) نصنف التغيرات التالية الى ( تغير كيميائي . تغير فيزيائي ) بوضع أشاره ( ✓ )

تغير فيزيائي	تغير كيميائي	التغير
	✓	احتراق الخشب
	✓	تسوس الاسنان
	✓	طبخ الطعام
✓		تقطيع الورق
✓		تجمد الماء

## سؤال الثالث :-

١٠

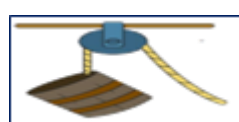
( نكتب تحت كل صورة اسم الالة البسيطة ( الرافعة \* البرغي \* عجلة ومحور \* البكرة )




الرافعة



عجلة ومحور



البكرة



البرغي

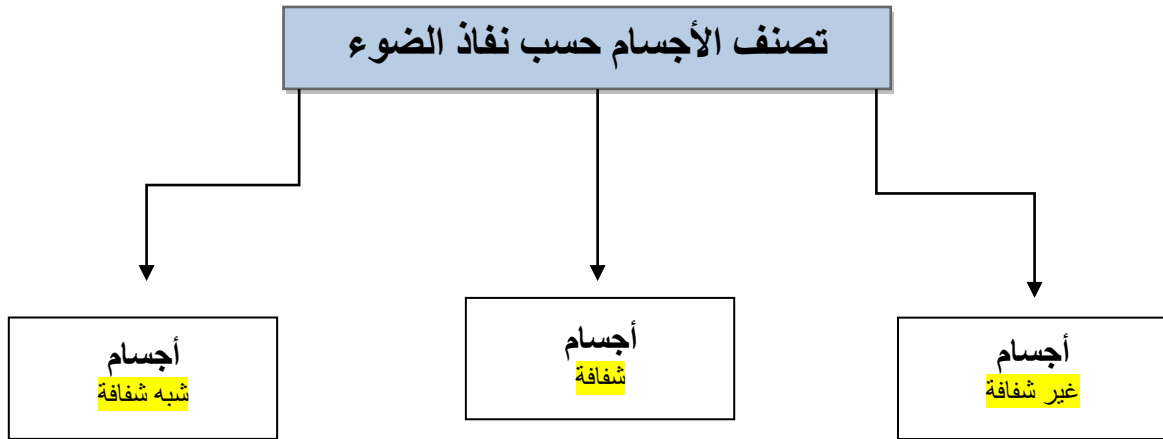
نضع علامة ( ✓ ) أمام العبارات الصحيحة وعلامة ( × ) أمام العبارات الخاطئة :

✓	١- من طرق فصل المخلوط الغربال
✓	٢- البرق من الأمثلة على الكهرباء الساكنة
✓	٣- يعد ورق الالمنيوم مثال على جسم غير شفاف
✓	٤- انكسار الضوء هو انحرافه عن مساره
✓	٥- من دلائل حدوث التغير الكيماي تكون الغاز
×	٦- تذوب حبيبات السكر في الماء بسرعة اذا تم تبريد المحلول

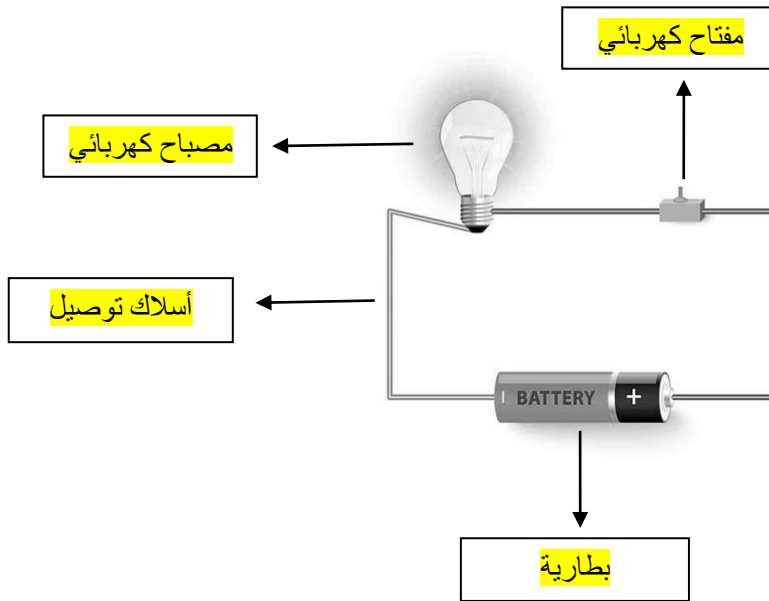
## لسؤال الرابع :-

ج ) نكمل الخريطة التالية :-

٥



ب ) نضع البيانات التالية في مكانها الصحيح ( مصباح \* أسلاك \* بطارية \* مفتاح كهربائي )



تم حل النموذج من الأستاذ ( البدر )

انتهت الأسئلة \*\* بالتوفيق



سكـره الشمـري