

الاسم : .....

الصف : .....

التاريخ : .....

50 درجة

السؤال الأول : اختر الإجابة الصحيحة .

1 تجف الملابس عند وضعها في الطقس المشمس بسبب عملية :



أ. التجمد      ب. التبخر      ج. الانصهار

2 انصهار الحديد يعتبر :



أ. تغير فيزيائي      ب. تغير كيميائي      ج. خليط

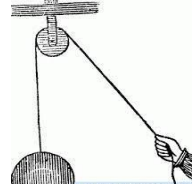
3 أي من الآلات التالية آلة مركبة :



ج.



ب.




أ.

4 تُقاس درجة الحرارة بـ :



ج.



ب.



أ.

5 ما نوع القوة في هذه الصورة ؟



ج. احتكاك

ب. جاذبية

أ. مغناطيسية

تابع السؤال الأول : اختر الإجابة الصحيحة .

	<p>6 لاحظ الصورة ، ما نوع الحركة ؟ أ. ذهابًا وإيابًا    ب. خط مستقيم    ج. حركة دائرية</p>
	<p>7 يتم فصل الفلزات عن بقية المواد ب : أ.     ب.     ج. </p>
	<p>8 نضج الفاكهة يعتبر : أ. تغير فيزيائي    ب. تغير كيميائي</p>
	<p>9 أي صورة تمثل الماء وهو في الحالة الصلبة ؟ أ.     ب.     ج. </p>
	<p>10 آلة بسيطة تستخدم لتقطيع الموز : أ.     ب.     ج. </p>

أ . اختر نوع القوة لكل صورة من الصور التالية .



شد

دفع



شد


دفع



شد

دفع

ب. صل بين نوع القوة و الصورة المناسبة لها .



الجاذبية



الاحتكاك



المغناطيسية

ج. لاحظ الصورة ثم أجب .

1. نسمي هذه الأداة : ( ميزان - ثرمومتر - مخبار ) .

2. تقيس هذه الأداة : ( درجة الحرارة - الكتلة - الوزن ) .

3. ما درجة الحرارة التي تشير إليها الأداة بالسيليزية ؟



4. درجة غليان الماء تكون عند : ( 0 - 50 - 100 ) C°

انتهت الأسئلة