

# بكلوريات وجامعات سوريا

وجامعات سوريا • بكلوريات وجامعات سوريا



القناة الرئيسية : [t.me/baca11111](https://t.me/baca11111)

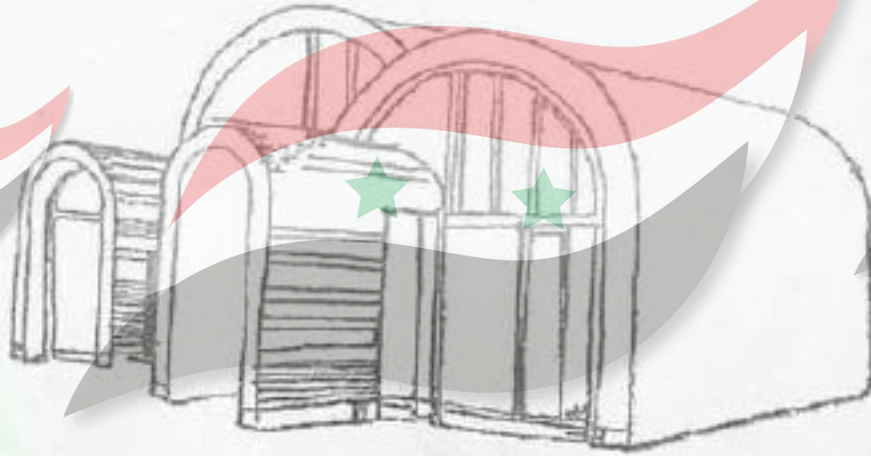
بوت ملفات العلمي : [t.me/baca11bot](https://t.me/baca11bot)

بوت ملفات الأدبي : [t.me/baca1bot](https://t.me/baca1bot)

امتحان القبول في كليات الهندسة المعمارية  
اختبار الرسم

السؤال الأول: ارسم الشكل الموضوع أمامك بالطريقة التي تراها مناسبة ( 20 ) درجة

السؤال الثاني: تمثل لوحة مشروع تصميم منزل ببني مؤلف من عدد من القبوات مختلفة الأحجام. المطلوب إعادة رسم المنزل واستكماله بالأبواب والنوافذ وتظليله، ووضع حديقته محيط ببني تسوده الأشجار والنباتات والمياه.



السؤال الثالث: لا بد أن مدينتك تحتفظ بصورة لشرفة منزل أجدتك وأنت تسير في الشوارع، ومما تثار إعجابك أحواض الزهور المعلقة على الشرفة. رسم الشرفة لإيها معتمداً على ذاكرتك.

.....

.....

.....

العام الدراسي 2019 - 2020

المدة: 4 ساعات

الجمهورية العربية السورية

وزارة التعليم العالي


## امتحان القبول في كليات الهندسة المعمارية

**السؤال الأول:** (35 درجة)

أرسم طاولة الرسم (الرسم) التي تجلس عليها وأظهرها بالطريقة والمقياس المناسبين.

**السؤال الثاني:** (35 درجة)

أعد رسم الصورة التي أمامك وذلك بتكبيرها وإظهارها وفق ما تراه مناسباً وبأسلوبك الخاص، مع ضرورة إظهار تأثير الظل والظل على الأسطح بواسطة التهشير وتدرجات اللون (الرمادي) مستخدماً قلم الرصاص، مع إمكانية إضافة بعض العناصر كالأشجار والنباتات.



**السؤال الثالث:** (30 درجة)

أرسم وأظهر بالقلم الرصاص حوض نباتات حجري أو بيتوني أو حشي حفظ في ذلك مكان موجود في أحد مداحل الأبنية أو على الأرصفة.

**ملاحظة:**

- تقسم اللوحة إلى ثلاثة أقسام وسم كل سؤال في قسمه.
- ممنوع وضع أي علامة فارقة على لوحة الرسم تحت طائلة إلغاء الامتحان.

التفت الأستاذة

مع التمنيات بالنجاح والتوفيق

امتحان القبول في كليات الهندسة المعمارية  
اختيار الرسم

السؤال الأول:

(٢٠ درجة)

ارسم الشكل الموضوع أمامك بالطريقة التي تراها مناسبة.

السؤال الثاني:

(٢٠ درجة)

اقل الشكل المرسوم في الورقة بعد تكبيره بالمقياس المناسب واستكماله بالظلال والبهانات ..



السؤال الثالث:

اختر أحد السؤالين الآتيين:

١- ارسم من ذاكرتك بوابة لأحد المباني

٢- ارسم من ذاكرتك مدرستك التي نلت منها شهادتك الثانوية مقترضا أنك في باحتها

\*\*\*\*\*

Handwritten signatures and marks at the bottom of the page.

## امتحان النول في تكنيات الهندسة المعمارية

### السؤال الأول

(35 درجة)

أرسم الشكل الموضوع أمامك بالطريقة التي تراها مناسبة مع ضرورة إظهار تأثير الظل والنور وفقاً لموقعك.

### السؤال الثاني

(35 درجة)

أعد رسم الصورة التي أمامك وذلك بتكديسها وإظهارها بالأسلوب المعماري المناسب، مع ضرورة إظهار تأثير الظل والنور على الأسطح والخطوط الهندسية والدرجات اللونية (الزمانية) مستخدماً قلم الرصاص، مع إمكانية إضافة بعض العناصر الطبيعية كالأشجار والنباتات، وأيضاً مواد بناء وسبائك وغيرها وذلك.



### السؤال الثالث

(30 درجة)

أنت جالس في حديقة أطفال وترافق أعمامك المختلفة من أراجيح - أدوات ترحل - أدوات تسلق - منهل ماء - مقعد جلوس الأهل الخ.... أرسم أحد هذه العناصر من ذاكرتك.

### ملاحظة:

- تقسم اللوحة إلى ثلاثة أقسام ويتم رسم كل سؤال في قسمه.
- يمنع وضع أي علامة فارقة على لوحة الرسم تحت طائلة إلغاء الامتحان.

انتهت الأسئلة

مع التحيات بالنجاح والتوفيق

العام الدراسي 2009 - 2010  
المدة: 4 ساعات

الجمهورية العربية السورية  
وزارة التعليم العالي  
=====

امتحان القبول في كليات الهندسة المعمارية

اختبار الرسم

السؤال الأول: ارسم لشكل الموضوع أمامك بالطريقة التي تراها مناسبة. (20) درجة

السؤال الثاني: ارسم هذه الوحة، بعد تكبيرها وإكمالها بالتفاصيل والأبواب وتظليلها (20) درجة وإخراج المحيط بالأشجار والنباتات والأشخاص بالطريقة التي تراها مناسبة.



السؤال الثالث: ارسم بطريقة الكروكي (منظور باليد الحرة)، مبنى أو جزءاً من مبنى لفت (20) درجة نظرك، وترك الطباعة في ذاكرتك.

.....  
.....  
.....

## امتحان القبول في كليات الهندسة المعمارية

السؤال الأول: (35 درجة)

أرسم الشكل الموضوع أمامك بالطريقة التي تراها مناسبة مع ضرورة إظهار تأثير الظل والنور وفقاً لموقعك.

السؤال الثاني: (35 درجة)

أعد رسم الصورة التي أمامك وذلك بتكبيرها وإظهارها وفق ما تراه مناسباً وبأسلوبك الخاص مع ضرورة إظهار تأثير الظل والنور على الأسطح بواسطة النهشير وتدرجات اللون (الرمادي) مستخدماً قلبها الخاص، مع إضافة بعض العناصر الطبيعية كالأشجار والبيانات وغير ذلك.



السؤال الثالث: (30 درجة)

أرسم بالاعتماد على الأركان باب لدخول بنائك أو لدخول منزلك.

ملاحظة:

- تقسم اللوحة إلى ثلاثة أقسام ويتم رسم كل سؤال في قسمه.
- يمنع وضع أي علامة فارقة على لوحة الرسم تحت طائلة إلغاء الامتحان.

انتهت الأسئلة

مع التمنيات بالنجاح والتوفيق


امتحان القبول في كليات الهندسة المعمارية

السؤال الأول: (35 درجة)

أرسم الشكل الموضوع أمامك بالطريقة التي تراها مناسبة.

السؤال الثاني: (35 درجة)

أعد رسم الصورة التي أمامك وذلك بتكبيرها وإظهارها وفق ما تراه مناسباً وبأسلوبك الخاص.




## امتحان القبول في كليات الهندسة المعمارية

### السؤال الأول: (٣٥ درجة)

أرسم ثلاث من أدوات الرسم التي بحوزتك (أقلام، مبراة، مسطرة، مثلث، ممحاة، ...) بالتشكيل الذي تراه مناسباً مع الظلال والإظهار اللازم بالقلم الرصاص.

### السؤال الثاني: (٣٥ درجة)

أعد رسم الصورة التي أمامك وذلك بتكبيرها وإظهارها وفق ما تراه مناسباً وبأسلوبك الخاص، مع ضرورة إظهار تأثير الظل والنور على الأسطح بواسطة التهشير وتدرجات اللون (الرمادي) مستخدماً قلم الرصاص، مع إمكانية إضافة بعض العناصر كالأشجار والنباتات.



### السؤال الثالث:

(٣٠ درجة)

أرسم وأظهر بالقلم الرصاص عمود إنارة حفظ في ذاكرتك موجود في أحد شوارع أو حدائق بلدتك أو مدينتك، بالطريقة والمقياس المناسبين.

### ملاحظة:

- تقسم اللوحة إلى ثلاثة أقسام ويتم رسم كل سؤال في قسمه.
- يمنع وضع أي علامة فارقة على لوحة الرسم تحت طائلة إلغاء الامتحان.

انتهت الأسئلة

مع التمنيات بالنجاح والتوفيق

العام الدراسي ٢٠٢١ - ٢٠٢٢  
المدة: ٤ ساعات

الجمهورية العربية السورية  
وزارة التعليم العالي

## امتحان القبول في كليات الهندسة المعمارية

(٣٥ درجة)


### السؤال الأول

أرسم الكرسي الذي تجلس عليه محمداً من كل ما تحيط به أو فوقه مع الظلال والإطارات اللازم من طريق التظليل بالتقلم الترماسي، وبالتوضعية التي تراها مناسبة.

(٣٥ درجة)

### السؤال الثاني

أعد رسم الصحن التي أمامك وذلك بتكبيرها وإظهارها وفق ما تراها مناسباً وبأسلوبك الخاص مع ضرورة إظهار تأثير الظل والظلور على الأسطح بواسطة التهشير والتدرجات اللون (الرمادي) مستخدماً قلم الترماسي مع إمكانية إضافة بعض العناصر كالأشجار والنباتات.



### السؤال الثالث

لا بد أن ذاكرتك تحتفظ بصورة كشك لبيع الجراد والحللات، أرسم هذا الكشك بشكل ثلاثي الأبعاد وبالطريقة التي تراها مناسبة.

### ملاحظة:

- تقسم النوبة إلى ثلاثة أقسام ويتم رسم كل سؤال في قسمه.
- يمنع وضع أي علامة فارقة على لوحة الرسم تحت طائلة إلغاء الامتحان.

تمت الأسئلة

مع التحيات بالنجاح والتوفيق