

الاختبار التشخيصي للعام الدراسي 2024 - 2025 م مادة الرياضيات / الصف الثاني

الإسم : الصف الثاني /

حوظ رمز الإجابة الصحيحة ..



1- ما عدد النمور ؟

A 7

B 6

C 8



2- يفكر حمد في عدد فيه 9 عشرات و 5 آحاد . ما هو العدد ؟

A 95

B 59

C 14

3- اكتب العدد

مائة وستة عشر

A 110

B 116

C 106

4- حدد جملة الجمع العددية المطابقة .




A $2+3=5$

B $5-2=3$

C $1+4=5$

5- حدد جملة الطرح العددية المطابقة .



A $6 - 3 = 3$

B $8 - 3 = 5$

C $7 - 3 = 4$

6- اجمع .

15
+ 4

A 19

B 18

C 11

7- اطرح .

14
- 3

A 17

B 10

C 11

8- اجمع .

$3 + 7 + 4 = \dots\dots$

A 13

B 14

C 10

9- اجمع .

$30 + 20 = \dots\dots\dots$

A 50

B 40

C 10

10 - اطرح .

$$70 - 10 = \dots\dots\dots$$

A 80

B 60

C 70

11 - قارن .




73 ○ 81

A <

B >

C =

12 - كم شخصا إجمالاً شاركوا في استطلاع الرأي ؟ .

الفاكهة المفضلة	
الفاكهة	علامات الاحصاء
 برتقال	
 موز	
 كرز	


A 19


B 17


C 20

13 - ما النشاط الذي حصل على 5 أصوات ؟ .

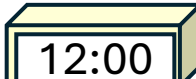
النشاط المفضل									
 كرة القدم									
 نط الحبل									
 التجديف									


A  التجديف


B  نط الحبل

C  كرة القدم

14 - أي ساعة تظهر الساعة 12 و 30 دقيقة ؟

A 

B 

C 

15 - كم شخصا اختار الجمعة والسبت ؟ .

اليوم المفضل في الاسبوع							
الجمعة	1	1	1	0	0	0	
السبت	1	1	1	1	0	0	
الأحد	1	1	0	0	0	0	
	0	1	2	3	4	5	6

A 7

B 8

C 5

16 - ما الوقت الموضح ؟


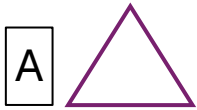


A 2:00

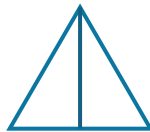
B 12:00

C 3:00

17 - ما الشكل الذي له 3 اضلاع و 3 رؤوس ؟ .



18 - كم عدد الأجزاء المتساوية في الشكل ؟ .




A 4

B 2

C 3

19 - ما اسم الشكل ؟

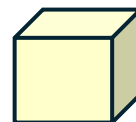


A مكعب

B مخروط

C اسطوانة

20 - ما اسم الشكل ؟



A منشور

B مكعب

C اسطوانة