

الأضواء



الرياضيات



الصف 1 الابتدائي


نماذج الأضواء لشهر أكتوبر

2025م

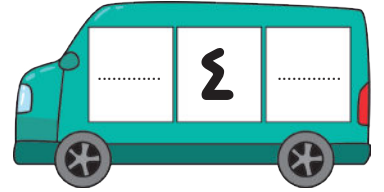
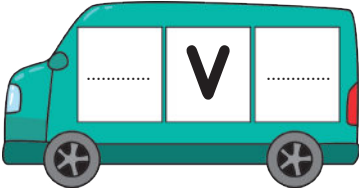
١ عُد، واكتب العدد بكل مجموعة:







٢ اكتب العدد السابق مباشرة والعدد التالي مباشرة لكل من الأعداد الآتية كما بالمثال:









٣ قارن باستخدام (< أو > أو =):

$15 \bigcirc 12$

$6 \bigcirc 9$

$13 \bigcirc 10$

١ عُد واكتب العدد ثم قارن باستخدام (< أو > أو =):

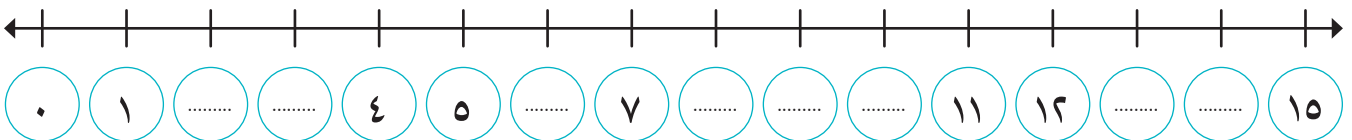
٢ أكمل ما يأتي:

• العدد ٨ يقل ١ عن العدد


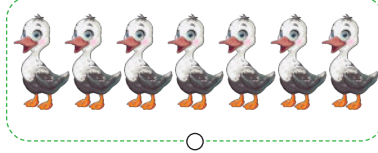

• العدد التالي مباشرة للعدد ١١ هو

• العدد ٦ يزيد ١ عن العدد

٣ أكمل الأعداد بالترتيب على خط الأعداد:



١ عُد العناصر في كل مجموعة، ثم صل بالعدد الصحيح:



٧

١٠

٦

٢ حوِّط حول الكلمة المناسبة:

١٣ (أكبر من / أقل من) ١٤

١٢ (أكبر من / أقل من) ٨

٩ (أكبر من / أقل من) ١٥

٣ ارسم • حسب العدد المُعطى:

١٠

٩

٧

الأخضر



الرياضيات



الصف 1 الابتدائي

إجابة نماذج الأضواء لشهر أكتوبر

2025م

١ نموذج


١ عُد، واكتب العدد بكل مجموعة:



٤





٥



٢

٢ اكتب العدد السابق مباشرة والعدد التالي مباشرة لكل من الأعداد الآتية كما بالمثال:





٣ قارن باستخدام (< أو > أو =):



$$١٥ > ١٢$$



$$٦ < ٩$$

$$١٣ > ١٠$$

١ عُد واكتب العدد ثم قارن باستخدام (< أو > أو =):

	٤	<	٦	
---	---	---	---	---

	٧	>	٥	
---	---	---	---	---

	٦	=	٦	
--	---	---	---	--

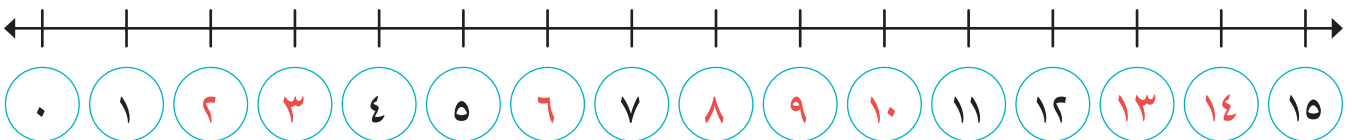
٢ أكمل ما يأتي:

• العدد ٨ يقل ١ عن العدد ٩




• العدد التالي مباشرة للعدد ١١ هو ١٢

• العدد ٦ يزيد ١ عن العدد ٥

٣ أكمل الأعداد بالترتيب على خط الأعداد:



١ عُد العناصر في كل مجموعة، ثم صل بالعدد الصحيح:



٧

١٠

٦

٢ حوِّط حول الكلمة المناسبة:

١٣ (أكبر من / أقل من) ١٤

١٢ (أكبر من / أقل من) ٨

٩ (أكبر من / أقل من) ١٥

٣ ارسم • حسب العدد المُعطى:

