

# سلاح التلميز

منذ عام ١٩٦٠



## الرياضيات

2024-2025

الصف الثالث الابتدائي  
الفصل الدراسي الأول  
نماذج استرشادية - شهر أكتوبر

3

(٣ درجات)

اختر الإجابة الصحيحة من بين الإجابات المعطاة:

- ١ القيمة المكانية للرقم ٩ في العدد ١٢٠ ٩٤ هي .....
- أ ألاف      ب عشرات الألوف      ج مئات      د عشرات
- ٢ ٥ م = ..... سم
- أ ٥٠      ب ٥٠٠      ج ٥٠٠٠      د ٥
- ٣ قاعدة النمط: ٤، ٨، ١٢، ١٦ هي .....
- أ ٣ +      ب ٣ -      ج ٤ -      د ٤ +

(٣ درجات)


أكمل ما يلي:



- ٤ .....  $\times 3 = 3 + 3 + 3 + 3 + 3$
- ٥ طول القلم المقابل = ..... مم
- ٦ ٢٥٣ ألفاً + ٣ مئآت + ١ آحاد = .....

(٤ درجات)

أجب عما يلي:



التمثيل البياني المقابل يوضح الفاكهة المفضلة

لبعض التلاميذ. لاحظ، ثم أكمل:

- أ الفاكهة الأقل تفضيلاً هي .....
- ب إجمالي عدد التلاميذ الذين يفضلون المانجو والتفاح يساوي ..... تلميذ.

٨ إذا بدأ أحمد التمرين الساعة ٢:٠٠ مساءً، واستمر لمدة ٤٥ دقيقة، فمتى انتهى التمرين؟



١ اختر الإجابة الصحيحة من بين الإجابات المعطاة:

(٣ درجات)

- ١ العلامات التكرارية ||| ||| تمثل العدد .....  
 أ ٨ ب ٥ ج ٧ د ٦
- ٢ قيمة الرقم ٠ في العدد ٤٠١٢٣٥ هي .....  
 أ ١٠٠ ب ١٠٠٠ ج ٠ د ١٠٠٠٠
- ٣ ..... = ٧ × ٤  
 أ ٣٦ ب ٤٢ ج ٣٢ د ٢٨

٢ أكمل ما يلي:

(٣ درجات)

- ٤ .....  
 (بنفس النمط)
- ٥ الوحدة المناسبة لقياس طول الكتاب المدرسي هي .....
- ٦ الأعداد: ١، ٢، ٥، ١٠ هي عوامل العدد .....

٣ أجب عما يلي:

(٤ درجات)

- ٧ البيانات التالية توضح عدد ساعات المذاكرة يوميًا لبعض التلاميذ.  
 أنشئ تمثيلًا بيانيًا بالنقاط، ثم أجب:

٤ ٣ ٥ ٥ ٦ ٣ ٢ ٢ ٣ ٤ ٥ ٣

- أ ما عدد التلاميذ الذين يقضون ٣ ساعات في المذاكرة؟  
 .....


- ب كم يقل عدد التلاميذ الذين يقضون ٦ ساعات  
 في المذاكرة عن الذين يقضون ٥ ساعات؟  
 .....

٨ لاحظ المصفوفة التالية، ثم أكمل:



= X

- عدد الصفوف = .....
- عدد الأعمدة = .....
- اسم المصفوفة: ..... في
- العدد الكلي لعناصر المصفوفة = .....



(٣ درجات)

اختر الإجابة الصحيحة من بين الإجابات المعطاة:

١ العدد ..... من عوامل العدد ٩

د ٤

ج ٣

ب ٥

أ ٢

٢ ٩ ٧٦٢ □ ١٩ ٥٦٢

د غير ذلك

ج =

ب >

أ <



٣ الوقت الذي تشير إليه الساعة المقابلة هو .....

د 05:50

ج 06:55

ب 06:10

أ 06:50

(٣ درجات)

أكمل ما يلي:

٤  $7 \times 6 = \dots \times 6$

٥ ١٦٠ مم = ..... سم

٦ أصغر عدد مكون من ٦ أرقام هو .....

(٤ درجات)

أجب عما يلي:

٧ يجري محمد ٤ كيلومتر يوميًا. ما عدد الكيلومترات التي يقطعها محمد خلال ٩ أيام؟

.....

.....

٨ رتب تصاعديًا: ٤٠٨٠٠ ، ثلاثة آلاف ، ٤٨ ألفًا وستة ، ٨ مئات

الترتيب: .....



(٣ درجات)

١ اختر الإجابة الصحيحة من بين الإجابات المعطاة:

١ ٥٠ ألفًا = ..... مائة

د ٥٠٠٠٠

ج ٥٠٠

ب ٥٠٠٠

ا ٥٠

٢ العدد التالي في النمط: ٤، ٩، ٧، ١٢ هو.....

د ٩

ج ١٧

ب ١٤

ا ١٠

٣  $\cdot \times ٨$    $\cdot + ٨$

د غير ذلك

ج =

ب >

ا <

(٣ درجات)

٣ أكمل ما يلي:

٤ أصغر عدد يمكن تكوينه من الأرقام التالية: ٥، ١، ٠، ٢، ٩ هو.....

٥ ٢٠٠ سم = ..... م

٦ مسألة الضرب التي تُعبر عن: ٣ مجموعات كل مجموعة بها ٥ = ..... × ..... = .....

(٤ درجات)

٣ أجب عما يلي:

٧ اكتب مضاعفات العدد ٢ الأكبر من ٢٠ والأصغر من ٤٠

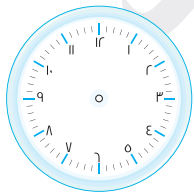
.....

.....

٨ ارسم عقارب الساعة لتُعبّر عن الوقت ، ثم أجب:

استغرقت ليلى ١٥ دقيقة لتتناول وجبتها ، فإذا انتهت من تناولها الساعة ١٥ : ٨ ،

فمتى بدأت بتناول الوجبة؟



.....

.....





# سلاح التلميز

منذ عام ١٩٦٠



## الرياضيات

2024-2025

الصف الثالث الابتدائي  
الفصل الدراسي الأول

إجابات نماذج استرشادية - شهر أكتوبر

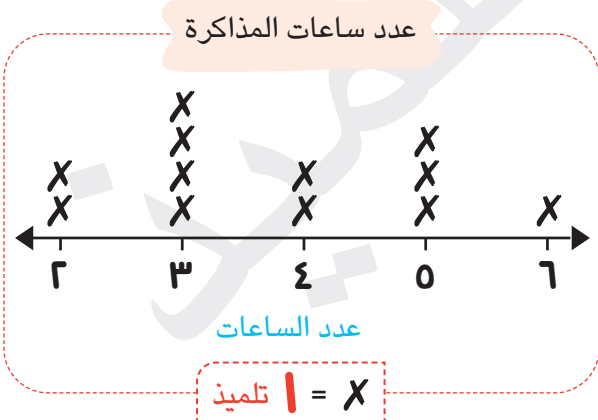
3

## إجابة نموذج (١)

- ١ عشرات الألوف
- ٢ ٥٠٠
- ٣ ٥
- ٤ ٢٤
- ٥ الفراولة
- ٦ ٣٠١ ٢٥٣
- ٧ ٣ + ٤
- ٨ انتهى التمرين الساعة ٢:٤٥ مساءً.

## إجابة نموذج (٢)

- ١ ٨
- ٢ ٠
- ٣ ١٠
- ٤ السننيمتر
- ٥ ٢٨
- ٦ ٤ تلاميذ
- ٧ ٢ تلميذ



٨ عدد الصفوف = ٢

عدد الأعمدة = ٤

اسم المصفوفة: ٢ في ٤

العدد الكلي لعناصر المصفوفة = ٤ + ٤ = ٨ أو ٢ + ٢ + ٢ + ٢ = ٨



## إجابة نموذج (٣)

١

٣ ١

05:50 ٣

< ٢

٢

٧ ٤

١٠٠ ... ٦

١٦ ٥

٣

٧ عدد الكيلومترات التي يقطعها محمد =  $9 \times 4 = 36$  كم

٨ الترتيب: ٨ مئات ، ثلاثة آلاف ، ٨٠٠ ، ٤٠ ، ٤٨ ألفاً وستة

## إجابة نموذج (٤)

١

٥٠٠ ١

< ٣

١٠ ٢

٢

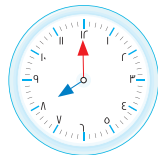
١٠٢٥٩ ٤

$10 = 0 \times 3$  ٦

٢ ٥

٣

٧ المضاعفات هي: ٢٢ ، ٢٤ ، ٢٦ ، ٢٨ ، ٣٠ ، ٣٢ ، ٣٤ ، ٣٦ ، ٣٨



٨ بدأت ليلي في تناول وجبتها الساعة ٨:٠٠



## إجابة نموذج (٥)

١

١) ٢٤٠٠٥٦

٢) ١٣

٣) ٩

٢

٤) ١ + ٤٠ + ٢٠٠ + ٥٠٠٠ + ٣٠٠٠٠

٦) ٨

٥) ١، ٢، ٧، ١٤

٣

٧) إجمالي ما دفعه محمود =  $٨ \times ٦ = ٤٨$  جنيهاً.

٨) الترتيب: ١٤٢٤١، ١٥٤٢١، ١٥٢١٤، ١٥٤٢١، ٥٤٢١

