

المملكة العربية السعودية
وزارة التعليم

موقع منهجي
mnhaji.com

أوراق عمل

الدراسات الاجتماعية

الصف الاول متوسط

الفصل الدراسي الاول

مدير المدرسة	المشرف التربوي	معلم المادة



موقع منهجي
mnhaji.com



ورق عمل

الصف / أول متوسط
الوحدة /

الدراسات الاجتماعية

المادة /
التاريخ /
الاسم /


المجموعة الشمسية

الدرس:

الأولى

الوحدة:

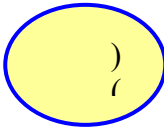
سجل أسماء الكواكب حسب بعدها عن الشمس في الشكل الآتي:



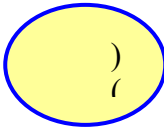
ما مكونات المجموعة الشمسية؟

.....
.....

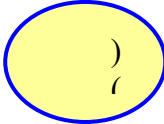
أضع علامة (صح) أمام العبارة الصحيحة وعلامة (×) أمام العبارة الخاطئة :



تقع المجموعة الشمسية في مجرة العقرب



يبلغ عدد كواكب المجموعة الشمسية 8 كواكب



يعتبر كوكب المشتري أكبر الكواكب حجماً





ورق عمل

المادة /
التاريخ /
الاسم /

الدراسات الاجتماعية


شكل الأرض

الدرس:

الاولى

الوحدة:

أضع علامة (صح) أمام العبارة الصحيحة وعلامة (×) أمام العبارة الخاطئة :



شكل الأرض كامل الاستدارة



أبعاد الأرض متساوية



يمتد محور الأرض القطبي من الشمال إلى الجنوب



القطر الاستوائي خط وهمي مستقيم يصل بين أبعد نقطتين على خط الاستواء

ما تعريف القطر القطبي؟

.....
.....

دون على الشكل ما يأتي:

- محور الأرض القطبي.
- محور الأرض الاستوائي.





ورق عمل

الصف / أول متوسط
الحصة /

المادة / الدراسات الاجتماعية
التاريخ /
الاسم /

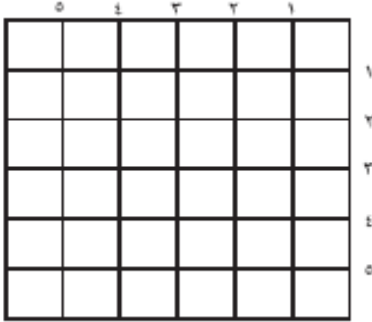
خطوط الطول ودوائر العرض

الدرس:

الأولى

الوحدة:

ضع دائرة على الشكل الآتي عند التقاء:



1. خط الطول ذي الرقم (2) بخط العرض ذي الرقعة (4).
2. خط الطول ذي الرقم (5) بخط العرض ذي الرقعة (5).
3. خط الطول ذي الرقم (3) بخط العرض ذي الرقعة (5).

عرف خطوط الطول؟

.....
.....

قارن بين خطوط الطول ودوائر العرض، وفق الجدول الآتي:

دوائر العرض	خطوط الطول	وجه المقارنة الشكل
		التساوي في الطول
		الخط الرئيس





ورق عمل

الصف / أول متوسط
الحصة /

الدراسات الاجتماعية

المادة /
التاريخ /
الاسم /

حركات الأرض

الدرس:

الأولى

الوحدة:

.....
.....
.....
.....


لماذا لا نشعر
بحركة الأرض

اربط بين القائمة (أ) والقائمة (ب) بوضع الرقم المناسب:

(ب)	(أ)
سببها	الظاهرة
<input type="checkbox"/> ميل محور الأرض. <input type="checkbox"/> دوران الأرض حول محورها. <input type="checkbox"/> دوران الأرض حول الشمس. <input type="checkbox"/> ثبات ميل محور الأرض.	١- الفصول المناخية الأربعة ٢- تعاقب الليل والنهار

اذكر أهم حركات الأرض؟

.....
.....
.....
.....
.....





ورق عمل

المادة /
التاريخ /
الاسم /

الدراسات الاجتماعية


الوحدة:

الاولى

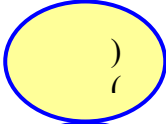
الدرس:

سطح الأرض

أضع علامة (صح) أمام العبارة الصحيحة وعلامة (×) أمام العبارة الخاطئة :



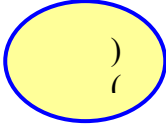
تشغل اليابسة 29 % من مساحة الأرض



تعد قارة أفريقيا هي أصغر قارات العالم



المحيط هو مسطح مائي مالح ضيق وعميق



أكبر المحيطات هو المحيط الهادئ

اذكر أسماء
بعض
المحيطات؟

.....
.....
.....

.....
.....
.....

.....
.....
.....

.....
.....
.....





ورق عمل

الصف / أول متوسط
الحصّة /

المادة / الدراسات الاجتماعية

التاريخ /
الاسم /

الوحدة: الحضارات القديمة

الدرس:

الثانية

أبرز شعوب
حضارة بلاد
الرافدين

أبرز شعوب
حضارة بلاد
الرافدين

.....
.....
.....

.....
.....
.....

.....
.....
.....

.....
.....
.....

اذكر أبرز ثلاث حضارات قديمة قبل الإسلام؟

.....
.....
.....

.....
.....
.....

.....
.....
.....



ما أبرز عاملين لقيام الحضارات؟

.....
.....





ورق عمل

الصف / أول متوسط
الوحدة /

المادة / الدراسات الاجتماعية
التاريخ /
الاسم /

الحضارة الإسلامية

الدرس:

الثانية

الوحدة:

اذكر بعض القيم الأخلاقية التي اتبعها المسلمون مع أعدائهم وفي معاركهم؟

اذكر بعض عناصر النظام الإدارة في الحضارة الإسلامية؟

ما الصفات التي يجب توافرها في الوالي؟





ورق عمل

الصف / أول متوسط
الحصة /

المادة / الدراسات الاجتماعية

التاريخ /
الاسم /

العلوم والمعارف في الحضارة الإسلامية

الدرس:

الثانية

الوحدة:

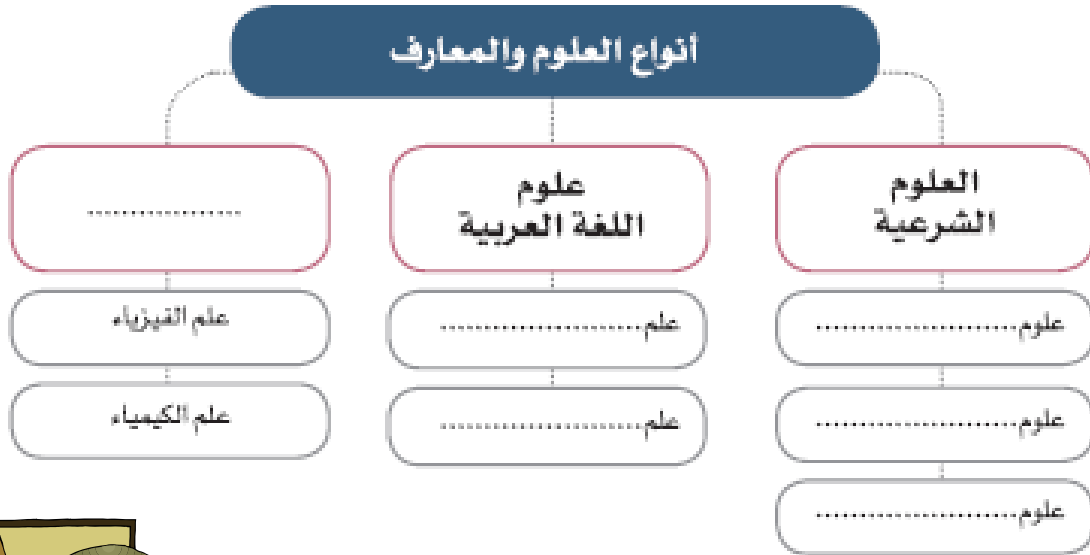
ما هي العلوم الشرعية؟

.....
.....

على ماذا تشتمل العلوم الطبيعية؟

.....
.....

أكمل الفراغات في الشكل الاتي بالعبارات المناسبة؟





ورق عمل

الصف / أول متوسط
الحصة /

المادة / الدراسات الاجتماعية

التاريخ /
الاسم /

الوحدة: العماره والفنون في الحضارة الإسلامية

الدرس:


الثانية

الوحدة:

ما هي مميزات الفنون الإسلامية؟

.....
.....

اين تقع هذه المساجد؟



اذكر ثلاث مدن أنشئت في عصر الدولة العباسية:

.....

.....

.....





ورق عمل

المادة /
التاريخ /
الاسم /

الدراسات الاجتماعية

الصف / أول متوسط
الحصة /

الوحدة:

الدرس:

الثانية

الجوانب الاقتصادية في الحضارة الإسلامية

اذكر الجوانب الاقتصادية في الحضارة الإسلامية؟

.....
.....
.....

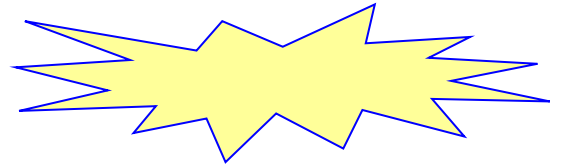
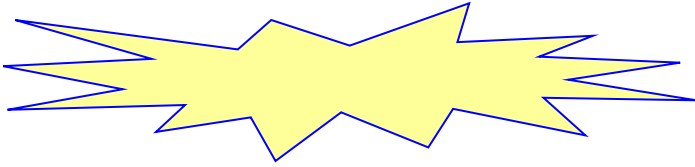
.....
.....
.....

.....
.....
.....

ما أهم مظاهر عناية المسلمين بالزراعة؟


.....
.....

ما أبرز الصناعات الإسلامية؟



اذكر أهمية التجار المسلمين في نشر الإسلام؟

.....





ورق عمل

المادة /
التاريخ /
الاسم /

الدراسات الاجتماعية

الصف / أول متوسط
الحصة /

المادة /
التاريخ /
الاسم /


مفهوم التخطيط وأهدافه

الدرس:

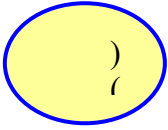
الثالثة

الوحدة:


أضع علامة (صح) أمام العبارة الصحيحة وعلامة (×) أمام العبارة الخاطئة :



التخطيط لا يساعدنا على النجاح



تنظيم الوقت مهم للتخطيط



الناجحون في الحياة لا يخططون

املاً الفراغات في الخطة اليومية:

اليوم: الأحد	الوقت
أتناول وجبة الغداء مع أسرتي.	٣:٠٠ مساءً
صلاة العصر (حسب توقيت المكان).	٣:٣٠ مساءً
أذاكر مقرر الرياضيات.	٤:٠٠ مساءً
.....	٤:٣٠ مساءً
.....	٥:٠٠ مساءً
أحلّ واجب العلوم.	٥:٣٠ مساءً
.....	٦:٠٠ مساءً
صلاة المغرب (حسب توقيت المكان).	٦:٣٠ مساءً
.....	٧:٠٠ مساءً
.....	٧:٣٠ مساءً
.....	٨:٠٠ مساءً
.....	٨:٣٠ مساءً
.....	٩:٠٠ مساءً
أذهب إلى غرفتي لأنام.	٩:٣٠ مساءً





ورق عمل

المادة /
التاريخ /
الاسم /

الدراسات الاجتماعية

الصف / أول متوسط
الحصة /


تنظيم الوقت

الدرس:

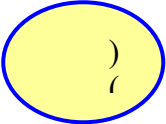
الثالثة

الوحدة:


أضع علامة (صح) أمام العبارة الصحيحة وعلامة (×) أمام العبارة الخاطئة:



الجدية في التزام التخطيط للدراسة لا علاقة لها بالنتيجة.



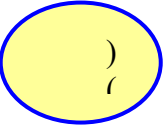
من خطوات تنظيم الوقت تصميم جدول للأعمال اليومية.



أخذ وقت للراحة يسهم في تجديد النشاط.



لا أعتني بالتخطيط فهو لا يخدم طموحي.



البدء بالأعمال غير المهمة يعد من الأولويات



اذكر أهمية
تنظيم الوقت

.....
.....
.....

.....
.....
.....

.....
.....
.....

.....
.....
.....

