



الاختبار التكويني الثاني في مادة الرياضيات الصف الثاني 2024 - 2025 م

الاسم : الصف الثاني /

السؤال الأول : حو ط الإجابة الصحيحة

1 - 45 , , 35 , 30 . العدد الناقص هو

A 36

B 40

C 25






2 - أي مما يلي لا يعتبر مثالا على طريقة العد التجاوزي ؟

A 10 , 12 , 16 , 20

B 50 , 60 , 70 , 80

C 20 , 25 , 30 , 35

3 - أي جملة تعبر عن المجموعات المتساوية التالية :



A 4 مجموعات تتكون
من 3

B 2 مجموعات تتكون
من 5

C 5 مجموعات تتكون
من 2

4 - حو ط جملة الجمع المتكرر .

A $4 + 4 + 4$

B $9 + 3 + 9$

C 5 , 10 , 15 , 20

5 - العدد 17 هل هو عدد زوجي ام فردي .

A عددي

B فردي

C زوجي

السؤال الثاني : اكتب العدد الناقص ووضح النمط ..

42 , 44 , 46 ,

عد بالتجاوز بمقدار

10 ,, 30 , 40

عد بالتجاوز بمقدار

السؤال الثالث : اكتب الجملة العديده واوجد الناتج ..

اذا كانت هناك 3 مزهريات تحتوي كل منها على 5 زهور . فكم إجمالي الزهور
الموجودة ؟

.....

**السؤال الرابع : قدم وصفا للمجموعات . واكتب الجملة الجمع المتكرر واوجد
الناتج.**



..... مجموعات تتكون من نملة إجمالا

..... + + + =

السؤال الخامس : ظلل كل شبكة لتوضيح المصفوفة ثم اكتب جملة الجمع ..

وضح 4 صفوف يتكون كل منها من 3 مربعات .

.....