

6

مراجعة شهر

توفير

في

الدراسات الاجتماعية



الاسئلة

إعداد

أ / محمد عبد الصبور

01129903122

اقوى مراجعة على منهج شهر نوفمبر

مستّر: محمد عبد الصبور

السؤال الاول : اختر الاجابة الصحيحة مما بين الاقواس

- ١- احدى الدول العربية التي تقع اجزاؤها الشمالية في إقليم مناخ البحر المتوسط
(موريتانيا - السودان - ليبيا - اليمن)
- ٢- يعيش الزراف والأسود بالاقليم (الاستوائى - المدارى - الصحراوى - البحر المتوسط)
- ٣- تقع محمية أرز الشوف في دولة (مصر - سوريا - لبنان - العراق)
- ٤- دولة عربية تقع بالكامل داخل الإقليم الصحراوي الحار هي
(الجزائر - الكويت - السودان - لبنان)
- ٥- يمتد الإقليم المدارى في الوطن العربي . (شمال - جنوب - شرق - غرب)
- ٦- يتميز إقليم البحر المتوسط بسقوط الأمطار في فصل (الشتاء - الصيف - الربيع - الخريف)
- ٧- حشائش الاستبس تنمو ضمن الإقليم المناخي
(البحر المتوسط - المدارى - الموسمي - الصحراوى)
- ٨- يعد مناخ الجزء الجنوبي الغربي من شبه الجزيرة العربية ضمن
(البحر المتوسط - المدارى - الموسمي - الصحراوى)
- ٩- تنتشر النباتات التي لها قدرة على تحمل الجفاف في الإقليم المناخي
(البحر المتوسط - المدارى - الموسمي - الصحراوى)
- ١٠- تسقط أمطار الإقليم المدارى في فصل (الشتاء - الصيف - الربيع - الخريف)
- ١١- يقع إقليم البحر المتوسط في الوطن العربي . (شمال - جنوب - شرق - غرب)
- ١٢- من النباتات التي تنمو في إقليم الصحراوى الحار (الزيتون - الأرز - الصبار - الصنوبر)
- ١٣- إقليم مناخي يتسم فصل الصيف بشدة الحرارة وتصل الى ٥٠ درجة مئوية
(البحر المتوسط - الصحراوى - المدارى - الموسمي)
- ١٤- يعاني ثلثي مساحة الوطن العربي من مشكلة
(الجفاف - التصحر - الأمية - ندرة المياه العذبة)
- ١٥- دولة تعاني من أكبر موجة جفاف في وطننا العربي هي
(الصومال - السودان - مصر - الجزائر)
- ١٦- احدى الدول العربية اطلقت مبادرة لزيادة المساحات الخضراء
(مصر - سوريا - لبنان - اليمن)
- ١٧- اطلقت دولة بإنشاء مدينة نيوم الخضراء لزيادة المساحات الخضراء .
(السودان - السعودية - العراق - البحرين)
- ١٨- شاركت الدول العربية في مؤتمر المناخ cop 27 الذى عقد في دولة
(مصر - سوريا - الجزائر - الصومال)
- ١٩- التغير المناخي يؤدي الى بعض المشكلات منها (الجفاف - التصحر - ندرة المياه - جميع ما سبق)

- ٢٠- تتعرض كثير من الدول العربية للجفاف منها (الكويت - الصومال - قطر - الامارات)
- ٢١- من أسباب ندرة المياه العذبة التوسع المستمر في
(الزراعة - الصناعة - التعدين - التجارة)
- ٢٢- كل ذلك من المشكلات البيئية ما عدا (الجفاف - التصحر - الأمية - ندرة المياه)
- ٢٣- حدثت مجاعة لدولة الصومال لكثر من شخص . (مائة - الف - مليون - مليار)
- ٢٤- مشكلة ظهرت نتيجة تزايد معدلات استهلاك المياه .
(الجفاف - التصحر - الأمية - ندرة المياه)
- ٢٥- من أسباب التصحر (التوسع العمراني - زحف الرمال - الرعي الجائر - كل ما سبق)
- ٢٦- كان هو اول من اسلم من الرجال .
- مستّر: محمد عبد (أبو بكر الصديق - عمر بن الخطاب - عثمان بن عفان - علي بن ابي طالب)
- ٢٧- تزوج النبي محمد "ص" من ابنة ابي بكر الصديق وهي السيدة
(خديجة - حفصة - عائشة - زينب)
- ٢٨- ولد عمر بن الخطاب بعد عام الفيل بـ سنة . (١١ - ١٣ - ١٥ - ١٨)
- ٢٩- من الرياضات التي اتقنها عمر بن الخطاب (المصارعة - ركوب الخيل - الاثنين معاً)
- ٣٠- أحد مواقع التراث الزراعي العالمي في مصر هي واحة (سيوة - الفرافرة - العين - الكفرة)
- ٣١- تحتفل الدول العربية يوم ٢٧ سبتمبر بيوم العربي .
(السياحة - الزراعة - الصناعة - التجارة)
- ٣٢- أحد المحاصيل السكرية (القصب - الأرز - القطن - الزيتون)
- ٣٣- يتركز انتاج الالياف في الوطن العربي في دولة (السعودية - المغرب - ليبيا - مصر)
- ٣٤- تقوم الزراعة في الوطن العربي على المياه الجوفية في المناطق
(الشمالية - الفيضية - الجبلية - الصحراوية)
- ٣٥- تعتمد الزراعة في الصحارى العربية على مياه
(البحار - المحيطات - الأنهار - الابار والعيون)
- ٣٦- أولى الدول العربية إنتاجاً للتمور (المغرب - مصر - الجزائر - السعودية)
- ٣٧- من المقومات الطبيعية التي ساعدت على قيام الزراعة
(الايدي العاملة - وسائل النقل - السوق - المناخ)
- ٣٨- أحد محاصيل الحبوب الغذائية (الذرة - القطن - الكتان - التين)
- ٣٩- يتركز انتاج محاصيل الالياف في الوطن العربي داخل دولتي مستّر: محمد عبد الصبور
(الجزائر وليبيا - السودان ومصر - مصر وليبيا - الجزائر وتونس)
- ٤٠- أحد المقومات الطبيعية للزراعة (رأس المال - وسائل النقل - التربة الخصبة - السوق)
- ٤١- تتنوع المحاصيل الزراعية في الوطن العربي نتيجة تنوع
(التربة - الايدي العاملة - الأسواق - المناخ)
- ٤٢- أحد محاصيل الحبوب الغذائية (العنب - البن - الزيتون - الذرة)

السؤال الثاني : اكمل العبارات التالية بكلمات مناسبة

- ١- يعنى منطقة جغرافية من سطح الأرض تتسم بخصائص مناخية تميزها عن غيرها
- ٢- يتميز إقليم البحر المتوسط بتساقط الأمطار في فصل **مستّر: محمد عبد الصبور**
- ٣- يسود الوطن العربي أقاليم مناخية كبرى .
- ٤- تربي الماعز والاعنام في إقليم مناخ
- ٥- الإقليم الصحراوي الحار يتميز بمناخ معتدل نهاراً في فصل
- ٦- تقع محمية ضانا في دولة
- ٧- عقد مؤتمر المناخ cop 27 في مصر في مدينة
- ٨- تزداد معدلات استهلاك المياه العذبة في الوطن العربي بسبب النمو المتزايد في اعداد
- ٩- يتعرض الوطن العربي لمشكلة التصحر بسبب زحف
- ١٠- تقع معظم مساحة الوطن العربي في الاقليم
- ١١- اطلقت السعودية مبادرة لزيادة المساحات الخضراء عن طريق مدينة
- ١٢- اسلم على يدي ابي بكر الصديق عدد من كبار الصحابة منهم و
- ١٣- من صفات عمر بن الخطاب و **مستّر: محمد عبد الصبور**
- ١٤- موارد المياه العذبة بالوطن العربي من المقومات
- ١٥- تقع واحتى العين وليوا في دولة
- ١٦- تتركز زراعة البن في دولة بينما تتركز زراعة القمح في دولة
- ١٧- تتعرض الزراعة في الوطن العربي لمشكلة تذبذب كمية
- ١٨- لنقل المنتجات الزراعية الى مناطق الاستهلاك يلزم وجود
- ١٩- تعتمد الزراعة في اليمن وجنوب موريتانيا على مياه
- ٢٠- تنتشر زراعة الموز والتين في كل من و
- ٢١- تنتشر في إقليم البحر المتوسط اشجار **مستّر: محمد عبد الصبور**
- ٢٢- محمية جبل علبة من اشهر محميات الوطن العربي التي تقع بدولة
- ٢٣- تتعرض الحياة البرية لمخاطر عديدة بسبب
- ٢٤- الايدي العاملة المدربة بالوطن العربي من المقومات
- ٢٥- تحتفل الدول العربية بيوم ٢٧ سبتمبر بيوم العربي .

السؤال الثالث : اكتب كلمة (صواب) امام العبارة الصحيحة وكلمة (خطأ) امام العبارة غير الصحيحة

- ١- تنوع الأقاليم المناخية في الوطن العربي أدى الى تنوع النبات الطبيعي . ()
- ٢- يشغل معظم مساحة الوطن العربي الإقليم المدارى . ()
- ٣- يمتد إقليم الصحراوي الحار بين دائرتى عرض ١٥ و ٣٠ شمالاً . ()
- ٤- تنمو حشائش السافانا في إقليم البحر المتوسط . ()
- ٥- تقع مدينة أسوان في إقليم البحر المتوسط . ()

- ٦- تربي الماعز والأغنام في الإقليم المدارى . ()
- ٧- يحتفل العالم يوم ٣ مارس من كل عام باليوم العالمي للحياة البرية . ()
- ٨- تسقط أمطار الإقليم المدارى في فصل الصيف . ()
- ٩- يوجد إقليم البحر المتوسط في مصر وليبيا والجزائر والمغرب . ()
- ١٠- من أشهر المحميات الطبيعية محمية جبل علبة في العراق . ()
- ١١- تعد المحميات الطبيعية وسيلة لتنشيط السياحة وجذب السياح . ()
- ١٢- من أهم الحيوانات التي تربي في السافانا الأسود والزراف . ()
- ١٣- الجفاف هو نقص كمية الأمطار لبعض الأيام . ()
- ١٤- يتميز الوطن العربي بسقوط كميات أمطار كبيرة تسمح بزراعات واسعة . ()
- ١٥- مجلس الوزراء العرب المسئول عن شئون البيئة . ()
- ١٦- أنشئت المدن الذكية بهدف تقليل انبعاثات الغازات الدفينة . ()
- ١٧- تهتم دول الوطن العربي باستخدام مصادر الطاقة النظيفة . ()
- ١٨- تناقص مخزون المياه الجوفية يؤدي الى حدوث ندرة المياه العذبة . ()
- ١٩- من أهمية المحميات الطبيعية تحقيق التوازن البيئي وتنشيط السياحة . ()
- ٢٠- يساهم القطع العشوائي للأشجار في حل مشكلة التصحر . ()
- ٢١- المشكلات البيئية في الوطن العربي تهدد صحة وحياة المواطنين . ()
- ٢٢- يعد البحث عن مصادر جديدة للمياه العذبة احد الطرق لحل المشكلات البيئية . ()
- ٢٣- أطلقت مصر مبادرة لزراعة ١٠٠ مليون شجرة مثمرة . ()
- ٢٤- صحب عثمان بن عفان الرسول "ص" في الهجرة من مكة الى يثرب . ()
- ٢٥- تولى عمر بن الخطاب الخلافة بعد ابي بكر الصديق . ()
- ٢٦- تتنوع مصادر المياه العذبة في الوطن العربي . ()
- ٢٧- يمتلك الوطن العربي ثروة من الايدي العاملة المدربة في الزراعة . ()
- ٢٨- مصر تحتل المركز الثاني في انتاج التمور . ()
- ٢٩- المنظمة المسنولة عن الأغذية والزراعة هي اليونسكو . ()
- ٣٠- من جهود الدول العربية لتحقيق التنمية الزراعية استخدام الأسمدة العضوية . ()
- ٣١- رأس المال مهم لشراء البذور والاسمدة . ()
- ٣٢- يحصل سكان الواحات في مصر والامارات على المياه العذبة من الأنهار . ()
- ٣٣- القمح والقطن من المحاصيل السكرية بالوطن العربي . ()
- ٣٤- من أهم الأنهار بالوطن العربي نهر النيل في مصر والسودان . ()
- ٣٥- الوطن العربي يحتفل بيوم ٢٧ سبتمبر اليوم العربي للزراعة كل عام . ()
- ٣٦- تقام الزراعة في الأجزاء الجنوبية من الوطن العربي اعتماداً على الامطار . ()
- ٣٧- تتركز زراعة محصول البن بالوطن العربي في دولة السعودية . ()

السؤال الرابع : صوب ما تحته خط

- ١- سببت موجة الجفاف حدوث مجاعة لأكثر من مليون شخص في تونس .
- ٢- يوجد بالوطن العربي خمسة أقاليم مناخية كبرى .
- ٣- ينتشر في الإقليم المداري نباتات مثل أشجار الأرز والزيتون والصنوبر .
- ٣- تقع محمية جبل علبة في الوطن العربي بدولة ليبيا .
- ٤- تنمو حشائش السافانا بالاقليم الصحراوي بالوطن العربي .
- ٥- يمتد الوطن العربي في نحو ٦٠ دائرة عرضية .
- ٦- تعاني ليبيا من اكبر موجة جفاف .
- ٧- يمتد الإقليم الصحراوي في شمال الوطن العربي .
- ٨- يمكن حل المشكلات البيئية عن طريق زيادة المناطق السكنية .
- ٩- تتناقص قدرة الأرض على الإنتاج بسبب استخدام طرق الري الحديثة .
- ١٠- يحدث التصحّر بسبب نقص كمية الامطار في بعض السنوات .
- ١١- من المشروعات التي انجزها أبو بكر الصديق انشاء الدواوين .
- ١٢- هاجر عمر بن الخطاب علانية من الطائف دون خوف من اذى قريش .
- ١٣- تتركز زراعة البن في دولة الهند في الوطن العربي .
- ١٤- الايدي العاملة المدربة من المقومات الطبيعية لقيام الزراعة .
- ١٥- الابار والعيون من مصادر المياه المالحة التي تساهم في قيام الزراعة .
- ١٦- واحة العين توجد بدولة السعودية .
- ١٧- يصنف الكتان من المحاصيل السكرية .
- ١٨- توجد التربة الخصبة على جانبي الخلجان .
- ١٩- أولى الدول العربية إنتاجاً للقمح هي السودان .
- ٢٠- تشجع الدول العربية على استخدام الاسمدة الكيماوية .
- ٢١- من المقومات الطبيعية للزراعة هي الايدي العاملة .
- ٢٢- تستخدم وسائل النقل في شراء الالات والبذور والاسمدة .
- ٢٣- من الحبوب الغذائية في الوطن العربي قصب السكر .

السؤال الخامس : اكتب ما تشير اليه كل عبارة

- ١- منطقة جغرافية من سطح الأرض تتسم بخصائص مناخية .
- ٢- إقليم مناخي يقع في الأطراف الشمالية من الوطن العربي .
- ٣- إقليم مناخي يشمل المناطق من الخليج العربي حتى موريتانيا غرباً .
- ٤- إقليم مناخي تنمو فيه حشائش السافانا وتعيش فيه الأسود والزراف .
- ٥- مشكلة تحدث نتيجة لزيادة استهلاك المياه .
- ٦- نقص كمية الأمطار في بعض السنوات بما لا يسمح بالزراعة .
- ٧- تدهور الاراضى وتناقص قدرتها على الإنتاج .

٨- دولة عربية تعرضت لأكبر موجة للجفاف .

٩- بلد ولد فيها أبو بكر الصديق بعد عام الفيل بسنتين ونصف فيها .

١٠- إحدى الرياضات التي برع فيها عمر بن الخطاب .

مستّر: محمد عبد الصبور

السؤال السادس : أجب عن الأسئلة التالية

١- بم تفسر : تنوع الأقاليم المناخية في وطننا العربي .

٢- ما النتائج المترتبة على : امتداد إقليم المناخ الصحراوي الحار بين ١٥ و ٣٠ شمالاً .

٣- قارن بين : إقليم البحر المتوسط والإقليم المداري من حيث الحشائش .

مستّر: محمد عبد الصبور

٤- ما المقصود بـ : الإقليم المناخي .

مستّر: محمد عبد الصبور

٥- دل على صحة العبارة : للمحميات الطبيعية أهمية كبيرة .

٦- بم تفسر : حدوث الجفاف في بعض الدول العربية .

٧- ما النتائج المترتبة على : الرعي الجائر للحيوانات في الوطن العربي .

٨- ما العلاقة بين : السكان ومشكلة ندرة المياه العذبة .

مستّر: محمد عبد الصبور

٩- ما العلاقة بين : التصحر والغابات

١٠- ما العلاقة بين : الزراعة والجفاف .

١١- ما النتائج المترتبة على : تعاني الصومال من أكبر موجة جفاف .

مستّر: محمد عبد الصبور

١٢- دل على صحة العبارة : تتعدد المشكلات البيئية في الوطن العربي .

١٣- دل على صحة العبارة : تولى أبو بكر الصديق الخلافة وظهر قدرة فائقة في إدارة شئون الدولة .

مستّر: محمد عبد الصبور

١٤- ما النتائج المترتبة على : تزايد معدلات استهلاك المياه العذبة في الوطن العربي .

مستّر: محمد عبد الصبور

١٥- فسر : يعاني الوطن العربي من مشكلة التصحر .

١٦- اذكر : اعمال عمر بن الخطاب التي عادت بالنفع على الامة الإسلامية .

١٧- ما المقصود بـ : الجفاف .

١٨- بم تفسر : قيام الزراعة في الواحات .

مستّر: محمد عبد الصبور

١٩- ما النتائج المترتبة على : توافر العديد من مقومات الزراعة في الوطن العربي .

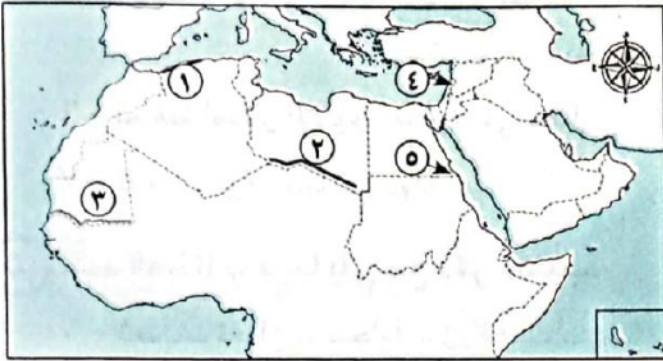
٢٠- دلل على صحة العبارات : تتعدد موارد المياه العذبة في الوطن العربي .

مستّر: محمد عبد الصبور

٢١- ماذا يحدث اذا : لم توجد انهار بالوطن العربي .

٢٢- بم تفسر : للزراعة أهمية لسكان الوطن العربي .

السؤال السابع : لاحظ الخريطة المقابلة واكتب مدلول الارقام عليها



مستّر: محمد عبد

١- إقليم مناخ

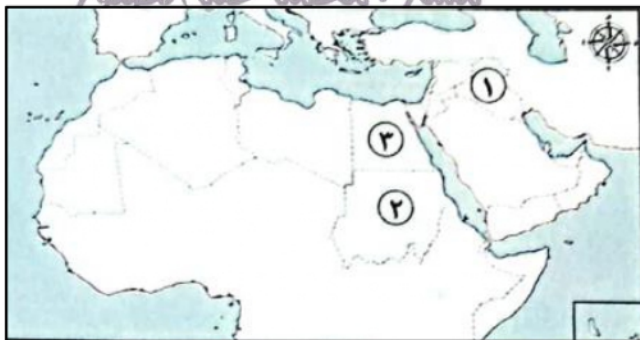
٢- إقليم مناخ

٣- إقليم مناخ

٤- دولة تقع فيها محمية أرز الشوف

٥- احدي المحميات المصرية

السؤال السابع : لاحظ الخريطة المقابلة واكتب مدلول الارقام عليها



مستّر: محمد عبد الصبور

١- دولة منتجة للموايح هي

٢- صوب : تعتمد الزراعة بشكل أساسي في الدولة

رقم ٢ على مياه الامطار

٣- يشير رقم (٣) إلى أولى الدول المنتجة لمحاصيل

الحبوب الغذائية وهي

6

مراجعة شهر

نوفمبر

في

الدراسات الاجتماعية



الاجابات

إعداد

أ / محمد عبد الصبور

01129903122

اقوى مراجعة على منهج شهر نوفمبر

مستّر: محمد عبد الصبور

السؤال الاول : اختر الاجابة الصحيحة مما بين الاقواس

- ١- احدى الدول العربية التي تقع أجزاءها الشمالية في إقليم مناخ البحر المتوسط
(موريتانيا - السودان - ليبيا - اليمن)
- ٢- يعيش الزراف والأسود بالاقليم (الاستوائى - المدارى - الصحراوى - البحر المتوسط)
- ٣- تقع محمية أرز الشوف في دولة (مصر - سوريا - لبنان - العراق)
- ٤- دولة عربية تقع بالكامل داخل الإقليم الصحراوي الحار هي
(الجزائر - الكويت - السودان - لبنان)
- ٥- يمتد الإقليم المدارى في الوطن العربي . (شمال - جنوب - شرق - غرب)
- ٦- يتميز إقليم البحر المتوسط بسقوط الأمطار في فصل (الشتاء - الصيف - الربيع - الخريف)
- ٧- حشائش الاستبس تنمو ضمن الإقليم المناخي
(البحر المتوسط - المدارى - الموسمي - الصحراوى)
- ٨- يعد مناخ الجزء الجنوبي الغربي من شبه الجزيرة العربية ضمن
(البحر المتوسط - المدارى - الموسمي - الصحراوى)
- ٩- تنتشر النباتات التي لها قدرة على تحمل الجفاف في الإقليم المناخي
(البحر المتوسط - المدارى - الموسمي - الصحراوى)
- ١٠- تسقط أمطار الإقليم المدارى في فصل (الشتاء - الصيف - الربيع - الخريف)
- ١١- يقع إقليم البحر المتوسط في الوطن العربي . (شمال - جنوب - شرق - غرب)
- ١٢- من النباتات التي تنمو في إقليم الصحراوى الحار (الزيتون - الأرز - الصبار - الصنوبر)
- ١٣- إقليم مناخي يتسم فصل الصيف بشدة الحرارة وتصل الى ٥٠ درجة مئوية
(البحر المتوسط - الصحراوى - المدارى - الموسمي)
- ١٤- يعاني ثلثي مساحة الوطن العربي من مشكلة
(الجفاف - التصحر - الأمية - ندرة المياه العذبة)
- ١٥- دولة تعاني من أكبر موجة جفاف في وطننا العربي هي
(الصومال - السودان - مصر - الجزائر)
- ١٦- احدى الدول العربية اطلقت مبادرة لزيادة المساحات الخضراء
(مصر - سوريا - لبنان - اليمن)
- ١٧- اطلقت دولة بإنشاء مدينة نيوم الخضراء لزيادة المساحات الخضراء .
(السودان - السعودية - العراق - البحرين)
- ١٨- شاركت الدول العربية في مؤتمر المناخ cop 27 الذى عقد في دولة
(مصر - سوريا - الجزائر - الصومال)
- ١٩- التغير المناخي يؤدي الى بعض المشكلات منها (الجفاف - التصحر - ندرة المياه - جميع ما سبق)

- ٢٠- تتعرض كثير من الدول العربية للجفاف منها (الكويت - الصومال - قطر - الامارات)
- ٢١- من أسباب ندرة المياه العذبة التوسع المستمر في
(الزراعة - الصناعة - التعدين - التجارة)
- ٢٢- كل ذلك من المشكلات البيئية ما عدا (الجفاف - التصحر - الأمية - ندرة المياه)
- ٢٣- حدثت مجاعة لدولة الصومال لاكثر من شخص . (مائة - الف - مليون - مليار)
- ٢٤- مشكلة ظهرت نتيجة تزايد معدلات استهلاك المياه .
(الجفاف - التصحر - الأمية - ندرة المياه)
- ٢٥- من أسباب التصحر (التوسع العمراني - زحف الرمال - الرعي الجائر - كل ما سبق)
- ٢٦- كان هو اول من اسلم من الرجال .
- مستّر: محمد عبد (أبو بكر الصديق - عمر بن الخطاب - عثمان بن عفان - علي بن ابي طالب)
- ٢٧- تزوج النبي محمد "ص" من ابنة ابي بكر الصديق وهي السيدة
(خديجة - حفصة - عائشة - زينب)
- ٢٨- ولد عمر بن الخطاب بعد عام الفيل بـ سنة . (١١ - ١٣ - ١٥ - ١٨)
- ٢٩- من الرياضات التي اتقنها عمر بن الخطاب (المصارعة - ركوب الخيل - الاثنين معاً)
- ٣٠- أحد مواقع التراث الزراعي العالمي في مصر هي واحة (سيوة - الفرافرة - العين - الكفرة)
- ٣١- تحتفل الدول العربية يوم ٢٧ سبتمبر بيوم العربي .
(السياحة - الزراعة - الصناعة - التجارة)
- ٣٢- أحد المحاصيل السكرية (القصب - الأرز - القطن - الزيتون)
- ٣٣- يتركز انتاج الالياف في الوطن العربي في دولة (السعودية - المغرب - ليبيا - مصر)
- ٣٤- تقوم الزراعة في الوطن العربي على المياه الجوفية في المناطق
(الشمالية - الفيضية - الجبلية - الصحراوية)
- ٣٥- تعتمد الزراعة في الصحارى العربية على مياه
(البحار - المحيطات - الأنهار - الابار والعيون)
- ٣٦- أولى الدول العربية إنتاجاً للتمور (المغرب - مصر - الجزائر - السعودية)
- ٣٧- من المقومات الطبيعية التي ساعدت على قيام الزراعة
(الايدي العاملة - وسائل النقل - السوق - المناخ)
- ٣٨- أحد محاصيل الحبوب الغذائية (الذرة - القطن - الكتان - التين)
- ٣٩- يتركز انتاج محاصيل الالياف في الوطن العربي داخل دولتي مستّر: محمد عبد الصبور
(الجزائر وليبيا - السودان ومصر - مصر وليبيا - الجزائر وتونس)
- ٤٠- أحد المقومات الطبيعية للزراعة (رأس المال - وسائل النقل - التربة الخصبة - السوق)
- ٤١- تتنوع المحاصيل الزراعية في الوطن العربي نتيجة تنوع
(التربة - الايدي العاملة - الأسواق - المناخ)
- ٤٢- أحد محاصيل الحبوب الغذائية (العنب - البن - الزيتون - الذرة)

السؤال الثاني : اكمل العبارات التالية بكلمات مناسبة

- ١- الإقليم المناخي يعنى منطقة جغرافية من سطح الأرض تتسم بخصائص مناخية تميزها عن غيرها
- ٢- يتميز إقليم البحر المتوسط بتساقط الأمطار في فصل الشتاء .
- ٣- يسود الوطن العربي ثلاثة أقاليم مناخية كبرى .
- ٤- تربي الماعز والاعنام في إقليم مناخ البحر المتوسط .
- ٥- الإقليم الصحراوي الحار يتميز بمناخ معتدل نهائياً في فصل الشتاء .
- ٦- تقع محمية ضانا في دولة الأردن .
- ٧- عقد مؤتمر المناخ cop 27 في مصر في مدينة شرم الشيخ .
- ٨- تزداد معدلات استهلاك المياه العذبة في الوطن العربي بسبب النمو المتزايد في اعداد السكان .
- ٩- يتعرض الوطن العربي لمشكلة التصحر بسبب زحف الكثبان الرملية .
- ١٠- تقع معظم مساحة الوطن العربي في الاقليم الصحراوي الحار .
- ١١- اطلقت السعودية مبادرة لزيادة المساحات الخضراء عن طريق مدينة نيوم الخضراء .
- ١٢- اسلم على يدي ابي بكر الصديق عدد من كبار الصحابة منهم عثمان بن عفان و الزبير بن العوام .
- ١٣- من صفات عمر بن الخطاب الرحمة والحكمة و الشدة في الحق .
- ١٤- موارد المياه العذبة بالوطن العربي من المقومات الطبيعية .
- ١٥- تقع واحتى العين وليوا في دولة الامارات .
- ١٦- تتركز زراعة البن في دولة اليمن بينما تتركز زراعة القمح في دولة مصر .
- ١٧- تتعرض الزراعة في الوطن العربي لمشكلة تذبذب كمية الامطار .
- ١٨- لنقل المنتجات الزراعية الى مناطق الاستهلاك يلزم وجود وسائل النقل .
- ١٩- تعتمد الزراعة في اليمن وجنوب موريتانيا على مياه الامطار .
- ٢٠- تنتشر زراعة الموز والتين في كل من مصر والعراق وفلسطين .
- ٢١- تنتشر في إقليم البحر المتوسط اشجار الأرز والصنوبر لصبور
- ٢٢- محمية جبل علبة من اشهر محميات الوطن العربي التي تقع بدولة مصر .
- ٢٣- تتعرض الحياة البرية لمخاطر عديدة بسبب تدهور النباتات الطبيعية .
- ٢٤- الايدي العاملة المدربة بالوطن العربي من المقومات البشرية .
- ٢٥- تحتفل الدول العربية بيوم ٢٧ سبتمبر بيوم الزراعة العربي .

السؤال الثالث : اكتب كلمة (صواب) امام العبارة الصحيحة وكلمة (خطأ) امام العبارة غير الصحيحة

- ١- تنوع الأقاليم المناخية في الوطن العربي أدى الى تنوع النبات الطبيعي . (صواب)
- ٢- يشغل معظم مساحة الوطن العربي الإقليم المدارى . (خطأ)
- ٣- يمتد إقليم الصحراوي الحار بين دائرتى عرض ١٥ و ٣٠ شمالاً . (صواب)
- ٤- تنمو حشائش السافانا في إقليم البحر المتوسط . (خطأ)
- ٥- تقع مدينة أسوان في إقليم البحر المتوسط . (خطأ)

- ٦- تربي الماعز والأغنام في الإقليم المدارى . (خطأ)
- ٧- يحتفل العالم يوم ٣ مارس من كل عام باليوم العالمي للحياة البرية . (صواب)
- ٨- تسقط أمطار الإقليم المدارى في فصل الصيف . (صواب)
- ٩- يوجد إقليم البحر المتوسط في مصر وليبيا والجزائر والمغرب . (صواب)
- ١٠- من أشهر المحميات الطبيعية محمية جبل علبه في العراق . (خطأ)
- ١١- تعد المحميات الطبيعية وسيلة لتنشيط السياحة وجذب السياح . (صواب)
- ١٢- من أهم الحيوانات التي تربي في السافانا الأسود والزراف . (صواب)
- ١٣- الجفاف هو نقص كمية الأمطار لبعض الأيام . (خطأ)
- ١٤- يتميز الوطن العربي بسقوط كميات أمطار كبيرة تسمح بزراعات واسعة . (خطأ)
- ١٥- مجلس الوزراء العرب المسئول عن شئون البيئة . (صواب)
- ١٦- أنشئت المدن الذكية بهدف تقليل انبعاثات الغازات الدفينة . (صواب)
- ١٧- تهتم دول الوطن العربي باستخدام مصادر الطاقة النظيفة . (صواب)
- ١٨- تناقص مخزون المياه الجوفية يؤدي الى حدوث ندرة المياه العذبة . (خطأ)
- ١٩- من أهمية المحميات الطبيعية تحقيق التوازن البيئي وتنشيط السياحة . (صواب)
- ٢٠- يساهم القطع العشوائي للأشجار في حل مشكلة التصحر . (خطأ)
- ٢١- المشكلات البيئية في الوطن العربي تهدد صحة وحياة المواطنين . (صواب)
- ٢٢- يعد البحث عن مصادر جديدة للمياه العذبة احد الطرق لحل المشكلات البيئية . (صواب)
- ٢٣- أطلقت سوريا مبادرة لزراعة ١٠٠ مليون شجرة مثمرة . (خطأ)
- ٢٤- صحب عثمان بن عفان الرسول "ص" في الهجرة من مكة الى يثرب . (خطأ)
- ٢٥- تولى عمر بن الخطاب الخلافة بعد ابي بكر الصديق . (صواب)
- ٢٦- تتنوع مصادر المياه العذبة في الوطن العربي . (صواب)
- ٢٧- يمتلك الوطن العربي ثروة من الايدي العاملة المدربة في الزراعة . (صواب)
- ٢٨- مصر تحتل المركز الثاني في انتاج التمور . (خطأ)
- ٢٩- المنظمة المسنولة عن الأغذية والزراعة هي اليونسكو . (خطأ)
- ٣٠- من جهود الدول العربية لتحقيق التنمية الزراعية استخدام الأسمدة العضوية . (صواب)
- ٣١- رأس المال مهم لشراء البذور والاسمدة . (صواب)
- ٣٢- يحصل سكان الواحات في مصر والامارات على المياه العذبة من الأنهار . (خطأ)
- ٣٣- القمح والقطن من المحاصيل السكرية بالوطن العربي . (خطأ)
- ٣٤- من أهم الأنهار بالوطن العربي نهر النيل في مصر والسودان . (صواب)
- ٣٥- الوطن العربي يحتفل بيوم ٢٧ سبتمبر اليوم العربي للزراعة كل عام . (صواب)
- ٣٦- تقام الزراعة في الأجزاء الجنوبية من الوطن العربي اعتماداً على الامطار . (صواب)
- ٣٧- تتركز زراعة محصول البن بالوطن العربي في دولة السعودية . (خطأ)

السؤال الرابع : صوب ما تحته خط

- ١- سببت موجة الجفاف حدوث مجاعة لأكثر من مليون شخص في تونس .
- ٢- يوجد بالوطن العربي خمسة أقاليم مناخية كبرى .
- ٣- ينتشر في الإقليم المدارى نباتات مثل أشجار الأرز والزيتون والصنوبر .
- ٣- تقع محمية جبل علبة في الوطن العربي بدولة ليبيا .
- ٤- تنمو حشائش السافانا بالاقليم الصحراوي بالوطن العربي .
- ٥- يمتد الوطن العربي في نحو ٦٠ دائرة عرضية .
- ٦- تعاني ليبيا من اكبر موجة جفاف .
- ٧- يمتد الإقليم الصحراوي في شمال الوطن العربي .
- ٨- يمكن حل المشكلات البيئية عن طريق زيادة المناطق السكنية .
- ٩- تتناقص قدرة الأرض على الإنتاج بسبب استخدام طرق الري الحديثة .
- ١٠- يحدث التصحّر بسبب نقص كمية الامطار في بعض السنوات .
- ١١- من المشروعات التي انجزها أبو بكر الصديق انشاء الدواوين .
- ١٢- هاجر عمر بن الخطاب علانية من الطائف دون خوف من اذى قريش .
- ١٣- تتركز زراعة البن في دولة الهند في الوطن العربي .
- ١٤- الايدي العاملة المدربة من المقومات الطبيعية لقيام الزراعة .
- ١٥- الابار والعيون من مصادر المياه المالحة التي تساهم في قيام الزراعة .
- ١٦- واحة العين توجد بدولة السعودية .
- ١٧- يصنف الكتان من المحاصيل السكرية .
- ١٨- توجد التربة الخصبة على جانبي الخلجان .
- ١٩- أولى الدول العربية إنتاجاً القمح هي السودان .
- ٢٠- تشجع الدول العربية على استخدام الاسمدة الكيماوية .
- ٢١- من المقومات الطبيعية للزراعة هي وسائل النقل .
- ٢٢- تستخدم وسائل النقل في شراء الآلات والبذور والاسمدة .
- ٢٣- من الحبوب الغذائية في الوطن العربي قصب السكر .

السؤال الخامس : اكتب ما تشير اليه كل عبارة

- ١- منطقة جغرافية من سطح الأرض تتسم بخصائص مناخية .
- ٢- إقليم مناخي يقع في الأطراف الشمالية من الوطن العربي .
- ٣- إقليم مناخي يشمل المناطق من الخليج العربي حتى موريتانيا غرباً .
- ٤- إقليم مناخي تنمو فيه حشائش السافانا وتعيش فيه الأسود والزرراف .
- ٥- مشكلة تحدث نتيجة لزيادة استهلاك المياه .
- ٦- نقص كمية الأمطار في بعض السنوات بما لا يسمح بالزراعة .
- ٧- تدهور الاراضى وتناقص قدرتها على الإنتاج .

الصومال

مكة

مستّر المصارعة وركوب الخيل

٨- دولة عربية تعرضت لأكبر موجة للجفاف .

٩- بلد ولد فيها أبى بكر الصديق بعد عام الفيل بسنتين ونصف فيها .

١٠- إحدى الرياضات التي برع فيها عمر بن الخطاب .

السؤال السادس : أجب عن الأسئلة التالية١- بم تفسر : تنوع الأقاليم المناخية في وطننا العربى .لان الوطن العربى نحو ٤٠ دائرة عرض ومساحة تزيد على ١٣ مليون كم^٢ .٢- ما النتائج المترتبة على : امتداد إقليم المناخ الصحراوى الحار بين ١٥ و ٣٠ شمالاً .

أدى الى ندرة الامطار طوال السنة وقد تسقط على هيئة سيول - يتسم الصيف بشدة الحرارة قد تصل الى اكثر من ٥٠ درجة مئوية - يتسم الشتاء معتدل نهاراً وشديد البرودة ليلاً وقد تصل الى الصفر المئوى في بعض المناطق .

٣- قارن بين : إقليم البحر المتوسط والاقليم المدارى من حيث الحشائش .

مقارنة	إقليم البحر المتوسط	الإقليم المدارى
الحشائش	توجد حشائش الاستبس التي تربي عليها الماعز والاعنام .	توجد حشائش السافانا وتعيش فيه حيوانات مثل الزراف والاسود .

٤- ما المقصود بـ : الإقليم المناخى .

منطقة جغرافية من سطح الأرض تتسم بخصائص مناخية تميزها عن غيرها .

٥- دل على صحة العبارة : للمحميات الطبيعية أهمية كبيرة .

الحفاظ على الحياة البرية - تنشيط السياحة - تحقيق التوازن البيئى والحد من التلوث .

٦- بم تفسر : حدوث الجفاف فى بعض الدول العربىة .

بسبب نقص كمية الامطار فى بعض السنوات بما لا يسمح بالزراعة او نمو الحشائش .

٧- ما النتائج المترتبة على : الرعى الجائر للحيوانات فى الوطن العربى . أدى ذلك حدوث التصحر .٨- ما العلاقة بين : السكان ومشكلة ندرة المياه العذبة .

تحدث مشكلة ندرة المياه العذبة بسبب تزايد النمو السكانى

٩- ما العلاقة بين : التصحر والغابات . تحدث مشكلة التصحر بسبب إزالة الغابات .١٠- ما العلاقة بين : الزراعة والجفاف .

يحدث الجفاف بسبب نقص كمية الامطار فى بعض السنوات بما لا يسمح بالزراعة .

١١- ما النتائج المترتبة على : تعانى الصومال من أكبر موجة جفاف . مستّر : محمد عبد الصبور

أدى الى نقص الغذاء وحوادث مجاعة لأكثر من مليون شخص .

١٢- دل على صحة العبارة : تتعدد المشكلات البيئية فى الوطن العربى .

حيث توجد بعض المشكلات مثل الجفاف - ندرة المياه العذبة - التصحر .

١٣- دل على صحة العبارة : تولى أبو بكر الصديق الخلافة واطهر قدرة فائقة فى إدارة شئون الدولة .

لان الدولة تعرضت فى ذلك الوقت لانقسام خطير بسبب ظهور المرتدين فأعاد للدولة وحدتها .

١٤- ما النتائج المترتبة على : تزايد معدلات استهلاك المياه العذبة في الوطن العربي .
أدى ذلك الى ندرة المياه العذبة .

١٥- فسر : يعاني الوطن العربي من مشكلة التصحر . بسبب طرق الري التقليدية وزحف الكثبان الرملية
١٦- اذكر : اعمال عمر بن الخطاب التي عادت بالنفع على الامة الإسلامية .

انشاء الدواوين في الدولة الإسلامية - أشار عمر بن الخطاب على أبو بكر الصديق بجمع القران الكريم .
١٧- ما المقصود بـ : الجفاف .

نقص كمية الامطار في بعض السنوات بما لا يسمح بالزراعة او نمو الحشائش .

١٨- بم تفسر : قيام الزراعة في الواحات . بسبب وجود المياه الجوفية عن طريق الابار والعيون .

١٩- ما النتائج المترتبة على : توافر العديد من مقومات الزراعة في الوطن العربي .
ساعدت المقومات الطبيعية والبشرية على قيام الزراعة عليها .

٢٠- دلل على صحة العبارات : تتعدد موارد المياه العذبة في الوطن العربي . حيث تتمثل في

- الأنهار : نهر النيل في مصر والسودان ونهري دجلة والفرات في العراق .

- المياه الجوفية : في الواحات في الصحارى العربية مثل واحة سيوة في مصر وواحة ليوا في الامارات

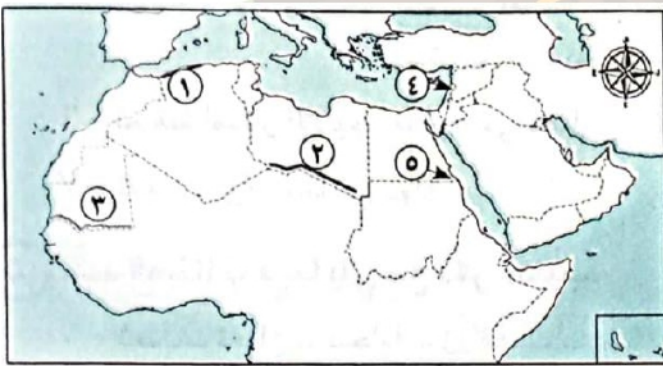
- مياه الامطار : تقوم عليها الزراعة مثل الأجزاء الشمالية في وطننا العربي واليمن وجنوب وموريتانيا

٢١- ماذا يحدث اذا : لم توجد انهار بالوطن العربي . لم تقوم زراعة في مصر والسودان والعراق .

٢٢- بم تفسر : للزراعة أهمية لسكان الوطن العربي .

حيث توفر المنتجات الغذائية للسكان وكذلك الحيوانات - توفر فرص عمل للسكان - توفر المواد الخام الزراعية اللازمة للصناعة - مصدر اساسي للدخل القومي .

السؤال السابع : لاحظ الخريطة المقابلة واكتب مدلول الارقام عليها



١- إقليم مناخ البحر المتوسط .

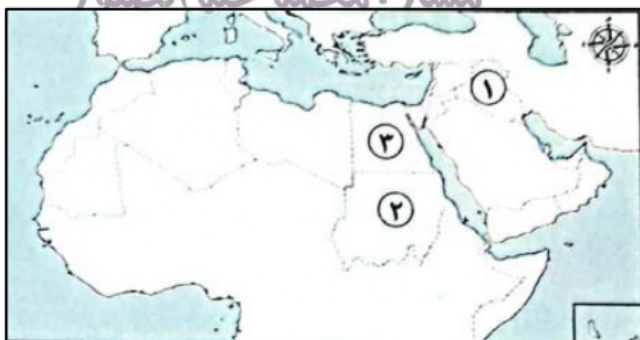
٢- إقليم مناخ الصحراوي الحار .

٣- إقليم مناخ المدارى .

٤- دولة تقع فيها محمية أرز الشوف لبنان .

٥- احدي المحميات المصرية جبل علبة .

السؤال السابع : لاحظ الخريطة المقابلة واكتب مدلول الارقام عليها



١- دولة منتجة للموايح هي العراق .

٢- صوب : تعتمد الزراعة بشكل أساسي في الدولة

رقم ٢ على مياه الامطار نهر النيل .

٣- يشير رقم (٣) إلى أولى الدول المنتجة لمحاصيل

الحبوب الغذائية وهي مصر .