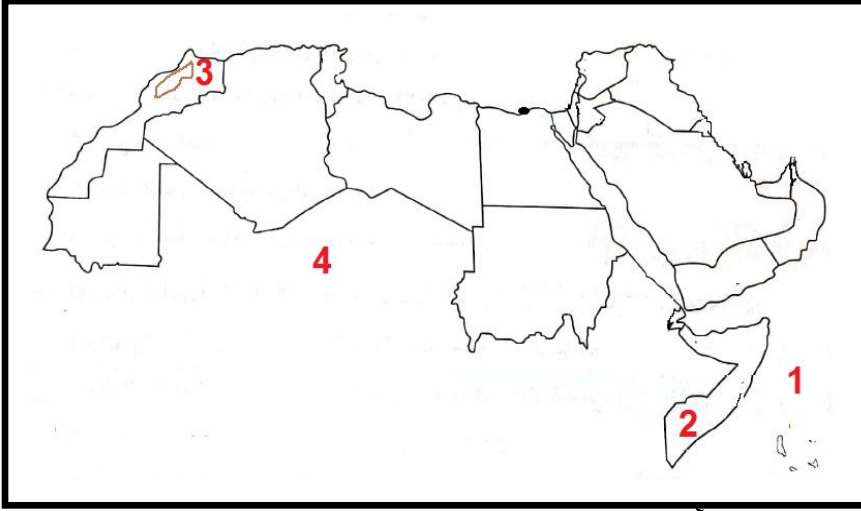


امتحانات شهر نوفمبر - الفصل الدراسي الأول (6)

الامتحان (1)

السؤال الأول: (أ) أمامك خريطة صماء للوطن العربي، اكتب مدلول كل رقم:



- (1) المحيط
- (2) أكثر الدول العربية تعرضاً للجفاف
- (3) جبل إتناي يوجد في المغرب جبل
- (4) الصحراء

(ب) اكتب سببا واحدا: تكون جبال البحر الأحمر.

السؤال الثاني: (أ) اختر الإجابة الصحيحة:

- (1) من الجبال الالتوائية في الوطن العربي جبل (أطلس - اليمن - عسير)
 - (2) الرعي الجائر للحيوانات من أسباب (الجفاف - التصحر - التنمية)
 - (3) المسطحات المائية درجة الحرارة. (تزيد - تلتف - ترفع)
 - (4) نقص كمية الأمطار في بعض السنوات هو (التصحر - الجفاف - التلوث)
- (ب) اكتب نتيجة واحدة: تعامد الشمس على مدار السرطان في الوطن العربي.

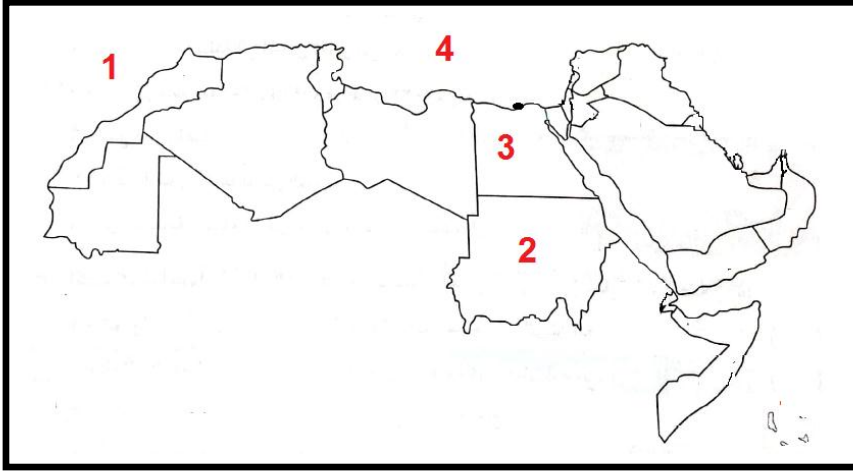
السؤال الثالث: (أ) اكتب كلمة (صواب) أو كلمة (خطأ) أمام كل عبارة:

- (1) زيادة المساحات الخضراء تُسهم في حل مشكلة التغير المناخي. (.....)
 - (2) يمتد بحر الرمال العظيم بين دولتي مصر والسودان. (.....)
 - (3) لا يُؤثر الجفاف على النشاط الزراعي ونمو الحشائش. (.....)
 - (4) تسعى الدول العربية إلى التقليل من انبعاثات الغازات الدفيئة. (.....)
- (ب) اكتب دليلاً على: أهمية الأودية الجافة.

امتحانات شهر نوفمبر - الفصل الدراسي الأول (6)

الامتحان (2)

السؤال الأول: (أ) أمامك خريطة صماء للوطن العربي، اكتب مدلول كل رقم:



- (1) المحيط
- (2) دولة يقع الجزء الجنوبي منها في الإقليم المداري
- (3) دولة عربية يوجد بها واحة سيوة
- (4) البحر

(ب) اكتب سببا واحدا: ضعف تأثير المسطحات المائية في الوطن العربي بشكل عام.

السؤال الثاني: (أ) اختر الإجابة الصحيحة:

- (1) الإقليم المداري يقع في الوطن العربي. (شمال - جنوب - شرق)
 - (2) أكثر الدول العربية تعرضاً لخطر الجفاف (مصر - تونس - الصومال)
 - (3) تعاني الدول العربية من المياه العذبة. (ندرة - وفرة - كثرة)
 - (4) توجد سهول دجلة والفرات في دولة (السودان - العراق - الجزائر)
- (ب) اكتب نتيجة واحدة: كثرة الأمطار على سواحل البحر المتوسط.

السؤال الثالث: (أ) اكتب كلمة (صواب) أو كلمة (خطأ) أمام كل عبارة:

- (1) تكون بحر الرمال العظيم بين مصر وليبيا بسبب التعرية المائية. (.....)
- (2) يتميز إقليم البحر المتوسط في الشتاء بأنه دافئ ممطر. (.....)
- (3) ينتشر نبات الصبار والنخيل في الإقليم الصحراوي. (.....)
- (4) يحل فصل الصيف عندما تتعامد الشمس على مدار السرطان. (.....)

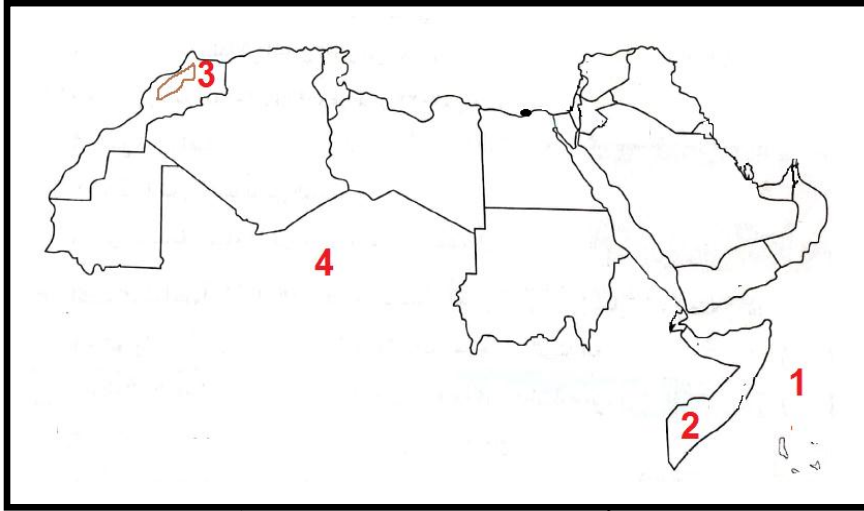
(ب) اكتب ما تدل عليه العبارة:

- منطقة جغرافية على الأرض تتسم بخصائص مناخية مميزة. (.....)

امتحانات شهر نوفمبر - الفصل الدراسي الأول (6)

الامتحان (3)

السؤال الأول: (أ) أمامك خريطة صماء للوطن العربي، اكتب مدلول كل رقم:



- (1) المحيط
- (2) أكثر الدول العربية تعرضاً للجفاف
- (3) جبل إلتوائي يوجد في المغرب جبل
- (4) الصحراء

(ب) اكتب سببا واحدا: ارتفاع الحرارة بشكل عام في الوطن العربي صيفا.

السؤال الثاني: (أ) اختر الإجابة الصحيحة:

- (1) تكون بحر الرمال بسبب التعرية.....(المائية- الهوائية - المائية والهوائية)
- (2) تمر دائرة الاستواءالوطن العربي. (شمال - جنوب - شرق)
- (3) الرعي الجائر للحيوانات من أسباب.....(الجفاف - التصحر -التنمية)
- (4) في الإقليم المداري تسقط الأمطار في فصل..... (الشتاء - الصيف - الربيع)

(ب) اكتب نتيجة واحدة: مرور دائرة الاستواء جنوب الوطن العربي.

السؤال الثالث: (أ) اكتب كلمة (صواب) أو كلمة (خطأ) أمام كل عبارة:

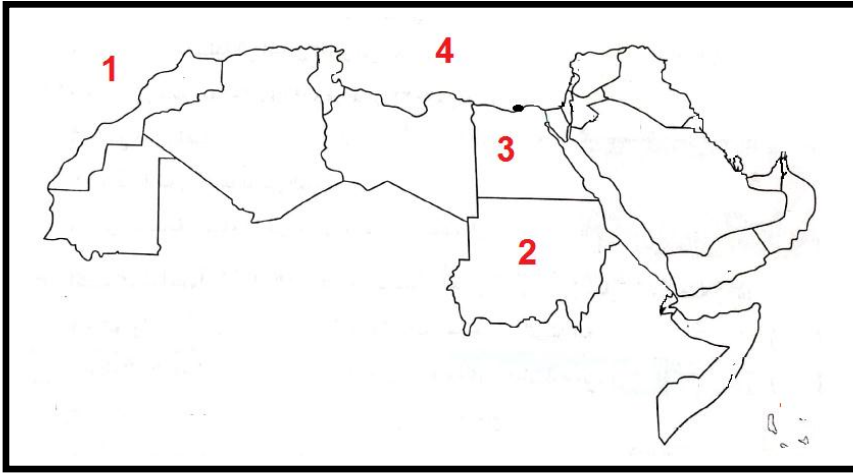
- (1) يتسم مناخ مدينة الإسكندرية بسمات إقليم البحر المتوسط. (.....)
- (2) الرعي الجائر للحيوانات يؤدي إلى تناقص الأراضي الزراعية. (.....)
- (3) جبال أطلس من الجبال الإلتوائية في الوطن العربي. (.....)
- (4) يسود معظم الوطن العربي إقليم المناخ المداري. (.....)

(ب) اذكر سببا واحدا: قيام الزراعة في الواحات.

امتحانات شهر نوفمبر - الفصل الدراسي الأول (6)

الامتحان (4)

السؤال الأول: (أ) أمامك خريطة صماء للوطن العربي، اكتب مدلول كل رقم:



- (1) المحيط
- (2) دولة يقع الجزء الجنوبي منها في الإقليم المداري
- (3) دولة عربية يوجد بها واحة سيوة
- (4) البحر

(ب) اكتب سببا واحدا: قلة الموانئ على البحر الأحمر.

السؤال الثاني: (أ) اختر الإجابة الصحيحة:

- (1) في الإقليم المداري تسقط الأمطار في فصل (الشتاء - الصيف - الربيع)
 - (2) توجد واحة عين صالح في دولة (مصر - الجزائر - السعودية)
 - (3) نقص كمية الأمطار في بعض السنوات هو (التصحّر - الجفاف - التلوّث)
 - (4) يحل الشتاء في الوطن العربي بتعامد الشمس على مدار (الجدى - السرطان - الاستواء)
- (ب) ما العلاقة بين: التصحر وإزالة الغابات.

السؤال الثالث: (أ) اكتب كلمة (صواب) أو كلمة (خطأ) أمام كل عبارة:

- (1) وجود الشعاب المرجانية في البحر الأحمر يعيق إنشاء الموانئ. (.....)
- (2) الكثبان الرملية تجمعات رملية تكونت بفعل التعرية المائية. (.....)
- (3) يسود المناخ الحار معظم دول الوطن العربي. (.....)
- (4) تتميز سهول البحر المتوسط بكثرة الأمطار الشتوية. (.....)

(ب) اكتب دليلاً على

- منطقة جغرافية على الأرض تتسم بخصائص مناخية مميزة. (.....)

