



موقع سوريا التعليمية

قناة التيلجرام

<https://t.me/syriaST>

نماذج امتحان الصف الأول الأساسي الفصل الأول ٢٠١٩-٢٠٢٠ م

امتحان العربية لغتي (أقرأ وأفهم وأكتب حروفي) الصف الأول

الأساسي الفصل الأول ٤٠ درجة

أقرأ وأفهم :

١- رتب الكلمات الآتية : (درجتان)

الألحان - سنعزف - الحلوة

٣

١

٢

٢- اختار المعنى الصحيح لعبارة ما أحلى ! (درجتان)

ما أغلى !

ما أجمل !

ما أكبر !

٣- أصل بين كل جملتين من الجمل الآتية : (درجتان)

أشعر بالبهجة

- أهوى قراءة

الكتب والقصص

- زرت المكتبة

كنوز ثمين

- كلما زرت المكتبة

مفوجدتها هادئة ومرتب

- على رفوفها

٤- أضع إشارة ✓ بجانب الإجابة الصحيحة فيما يأتي : (درجتان)

تعلّم التلميذ في أنشودة الحساب : الطرح ، الجمع ، القسمة

٥- أحوط بدائرة الكلمة التي لا تنتمي للموسيقا : (درجتان)

(درجتان)

يغني - يعزف - (يسافر) - يرقص

أكتب حروفي :

١- أحلل الكلمات الآتية إلى حروف : (٤ درجات)

نَسَمَات

ن	س	م	ا	ت
---	---	---	---	---

 ، وَجْه

و	ج	ه
---	---	---

زُهْر

ز	ه	و	ر
---	---	---	---

 ، غَرِيب

غ	ر	ي	ب
---	---	---	---

٢- أرتب من الحروف الآتية كلمات : (٤ درجات)

تاسع

ت	ا	س	ع
---	---	---	---

 ساحر

س	ا	ح	ر
---	---	---	---

شفاف

ش	ف	ا	ف
---	---	---	---

 زقزق

ز	ق	ز	ق
---	---	---	---

٣- أركب من كل مقطعين كلمة : (درجتان)

ها

ه	ا
---	---

 در

ب	د
---	---

 هادر

ب	ل
---	---

 بلبل

٤- أحلل كل كلمة إلى مقطعين : (درجتان)

نادي

ن	ا
---	---

 دي

م	ر
---	---

 مرمي

م	ي
---	---

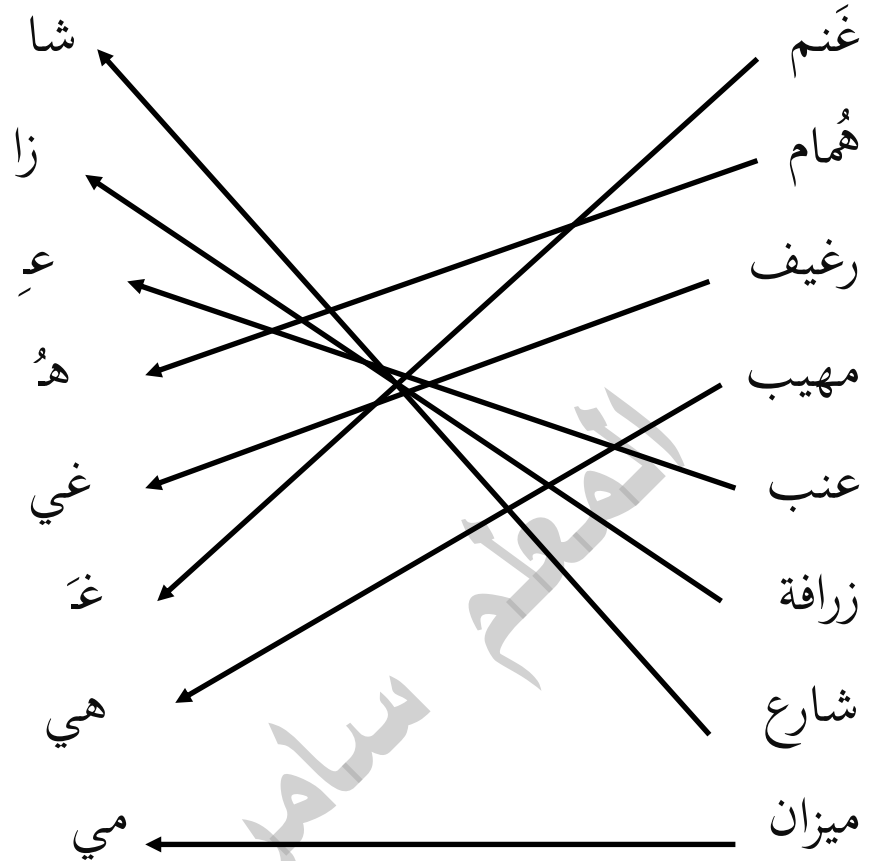
٥- أحوط الحرف الساكن في الكلمات : (درجتان)

نَمَل ، حَبَل ، رَمَل ، بَنْت

٦- أكتب أشكال حرف الهاء المناسب لكل كلمة : (درجتان)

وجوه ، سهم ، فواكه ، وجه

٧- أصل كل كلمة بالمد المناسب : (٤ درجات)



٨- أحوط حرف الغين في الكلمات الآتية : (درجتان)

فارغ - غريب - تغريد - صمغ

٩- أكتب أشكال حرف الكاف : (درجتان)

ك ك ك ك

١٠- أكتب المد المقابل لكل من المدود : (٤ درجات)

نُ
نو
زِ
زي
رِ
ري
عَ
عا

نماذج امتحان الصف الأول الأساسي الفصل الأول ٢٠١٩-٢٠٢٠ م

١١- أكتب كلمة تبدأ بحرف الهاء (هـ) وكلمة تنتهي بحرف النون

(درجتان)

هُمام ، هدى ، هادي ، سنان ، عدنان ،

انتهت الأسئلة

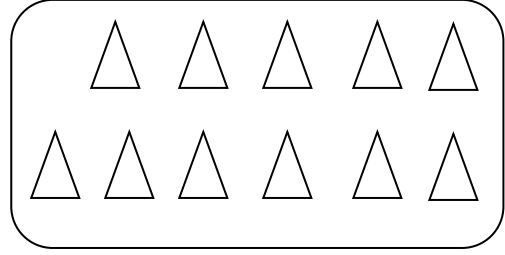
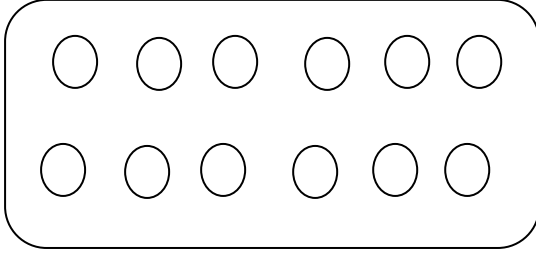
مع تمنياتي لكم بالتوفيق والنجاح

المعلم
سامر إبراهيم جنوب

نماذج امتحان الصف الأول الأساسي الفصل الأول ٢٠١٩-٢٠٢٠ م

امتحان الرياضيات الصف الأول الأساسي الفصل الأول ٤٠ درجة


١- اختر العدد المناسب : (٤ درجات)



١٢ - ١١ - ١٠

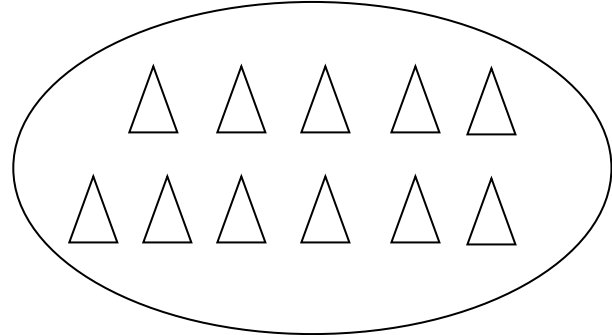

١٢ - ١١ - ١٠

٢- احصر المجموعة الأكبر عدداً : (٤ درجات)



١٢

٨



٩

١١



٣- جد ناتج ما يلي : (٤ درجات)

$$\boxed{10} = 2 + 8, \quad \boxed{0} = 4 - 4$$

$$\boxed{11} = 5 + 6, \quad \boxed{3} = 0 + 3$$

٤- اشطب لتجد ناتج الطرح : (٤ درجات)

$$\boxed{2} = 3 - 5$$

$$\boxed{0} = 8 - 8$$



٥- أكتب العبارة التبادلية لعبارات الجمع الآتية : (٤ درجات)

$$\boxed{8} = 3 + 5 \quad \boxed{8} = 5 + 3$$

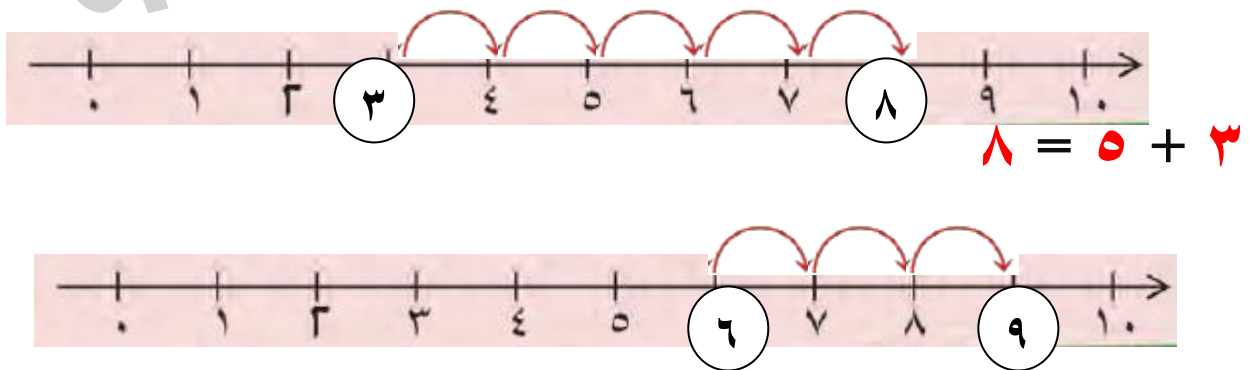
$$\boxed{10} = 7 + 3 \quad \boxed{10} = 3 + 7$$

٦- أكتب العدد المناسب في الفراغ : (٤ درجات)

$$0 = \boxed{0} + 0 \quad 2 = \boxed{1} + 1$$

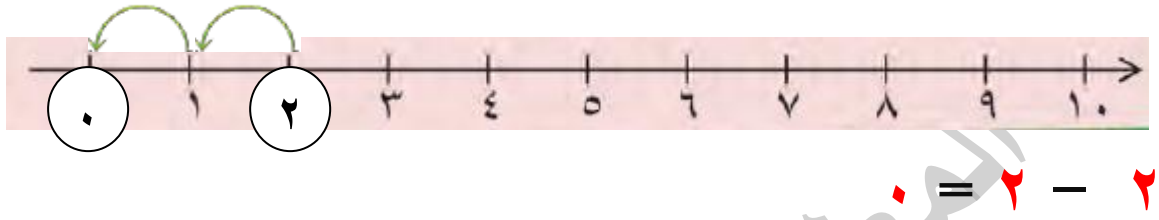
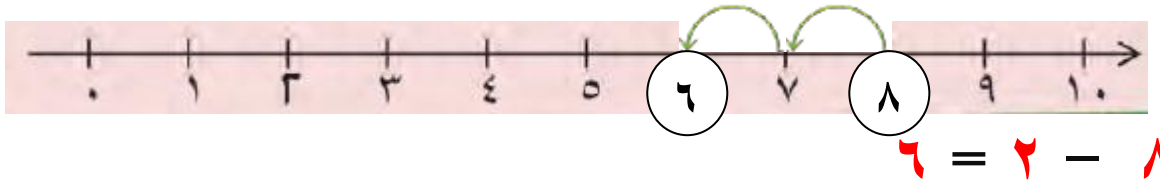
$$\boxed{6} = 3 + 3 \quad 10 = 5 + \boxed{5}$$

٧- استعمل مستقيم الأعداد وأكتب عبارة الجمع : (٤ درجات)



$$9 = 3 + 6$$

٨- اطرح مستعملاً مستقيم الأعداد : (٤ درجات)



٩- في غرفة الرياضة ٩ كرات أخرج التلاميذ ٣ كرات ، كم كرة بقي في غرفة الرياضة ؟ (٤ درجات)

$$6 = 9 - 3 \text{ كرات}$$

١٠- اختار الشكل الهندسي المناسب : (٤ درجات)

مستطيل	مربع	دائرة	
مثلث	دائرة	مربع	
دائرة	مثلث	مستطيل	
دائرة	مربع	مثلث	

انتهت الأسئلة

مع تمنياتي لكم بالتوفيق والنجاح

نماذج امتحان الصف الأول الأساسي الفصل الأول ٢٠١٩-٢٠٢٠ م

امتحان العلوم شفهي الصف الأول الأساسي الفصل الأول

١- أضع إشارة \surd أو إشارة \times إلى جانب كل من العبارات : (١٥ درجة)

- تتشابه صغار الحيوانات جميعها مع والديها ()
- يتحرك الصاروخ بسرعة أكثر من سرعة الطائرة ()
- أدفع صديقي أثناء الصعود إلى الحافلة ()
- أقسام الجسم لدى الناس نفسها ()
- ٢- سمي لي بعض الأجهزة الكهربائية ؟ (١٠ درجات)
- ٣- أحوط الإجابة الصحيحة : (١٥ درجة)
- يعطينا النحل (البيض - العسل - اللحم)
- لطيف وجميل من صوفه يلبس الناس الثياب من هو (الخروف - البقرة - الدجاج)
- يجذب الأجسام الحديدية (المغناطيس - علبة معدنية - الورق)

انتهت الأسئلة

مع تمنياتي لكم بالتوفيق والنجاح

امتحان الدراسات الاجتماعية شفهي الصف الأول الأساسي الفصل
الأول

- ١- عرف عن نفسك ؟ (١٠ درجات)
- ٢- أجب بصح أو خطأ فيما يأتي : (١٠ درجات)
 - من آداب الحوار أقاطع معلمي وهو يشرح الدرس (خطأ)
 - أعبّر الشارع ولا أنتبه للسيارات (خطأ)
 - أعب في الملعب بعيداً عن الطريق والسيارات (صح)
 - آخذ لقاحاتي كلها لأنها تحميني من الأمراض (صح)
- ٣- ما هي الطريقة الآمنة التي أعبر بها الشارع ؟ (٥ درجات)
- ٤- ما شعورك عندما تأخذ اللقاح ؟ (٥ درجات)
- ٥- رتب أفراد أسرتك من الأصغر إلى الأكبر ؟ (١٠ درجات)

انتهت الأسئلة

مع تمنياتي لكم بالتوفيق والنجاح

امتحان التربية الدينية الاسلامية شفهي الصف الأول الأساسي الفصل

الأول

١ - عدد بعض نعم الله تعالى التي أنعمها الله سبحانه وتعالى عليك ؟

(١٠ درجات)

٢ - أجب بصح أو خطأ :

(١٠ درجات)

- أغسلُ يدي قبل الطَّعام (صح)

- أرمي بقايا الطعام على الأرض (خطأ)

- أتناول الطعام وأنا أَلعب (خطأ)

- أقول عندما أبدأ بالطعام بسم الله (صح)

٣ - أختار الإجابة الصحيحة :

(١٥ درجة)

- اليوم الذي ولد فيه النبي محمد ﷺ : الثلاثاء - الأربعاء - الأثنين

- الشهر الذي ولد فيه النبي ﷺ : ربيع الأول - تشرين الثاني

- العام الذي ولد فيه الرسول ﷺ : عام الجمل - عام الفيل

- والد الرسول ﷺ هو : عبدُ المطلب - عبدُ الله

- جد الرسول ﷺ هو : عبدُ المطلب - عبدُ الله

٤ - ماذا تعني بسم الله ؟

(٥ درجات)

انتهت الأسئلة

مع تمنياتي لكم بالتوفيق والنجاح